











17b	<p><u>Pracovní list</u></p> <p>Téma: Výroba automobilů</p> <p>Aktivita:</p> <p style="text-align: center;">Poznáváme výrobu aut ŠKODA AUTO a.s., Mladá Boleslav</p>		<p>Časová náročnost: 30 - 45 minut</p>
	<p>Úvod:</p>	<p>K práci využijte internetové domény závodu ŠKODA AUTO, a.s. Mladá Boleslav http://www.skoda-auto.cz/company/cze/profil/contacts/pages/contacts.aspx http://www.skoda-auto.cz/company/cze/production/productionabroad/pages/productionabroad.aspx</p>	
<p>Postup a návod k praktickým činnostem:</p>	<ol style="list-style-type: none"> 1. Na Internetové doméně zjistěte, kde jsou v rámci světa lokalizovány výrobní závody ŠKODA AUTO a.s. a další instituce. 2. Pomocí legendy v pracovním listu vystřihejte jednotlivé typy vozidel z produkce ŠKODA AUTO a.s. a nalepte je na tvrdší podklad. 3. Do obrysové mapy světa si libovolným způsobem označte státy, ve kterých má firma ŠKODA AUTO a.s., Mladá Boleslav své montážní závody a vyrábí v nich různé typy automobilů Škoda (státy můžete barevně odlišit). 4. Typy vozidel získané vystřížením z legendy pracovního listu postupně zanepte do obrysové mapy. 5. Diskutujte nad lokalizací výrobních závodů a pomocí atlasu světa určete města, kde se výrobní závody nacházejí. Najděte min. 3 lokalizační faktory u každé montážní linky na světě. Zamyslete se, jaký mají význam pro výrobu. Využijte přiložené tabulky a ohodnoťte lokalizační faktory podle Vašeho subjektivního názoru na kladné a záporné znaménky +/- (pro každou montážní linku použijte samostatnou tabulku). 6. Na Internetové doméně zjistěte, kde jsou v rámci České republiky lokalizovány výrobní závody ŠKODA AUTO a.s. a další instituce. 7. Stejným způsobem (viz body 2 – 4) označte do mapy České republiky montážní závody a další instituce, které s výrobou aut souvisejí. Dle nabídky v legendě si vyberte příslušný typ vozidla a umístěte jej do konkrétního kraje a sídla v ČR. 8. Výsledkem je společná diskuze nad lokalizací závodu do konkrétního kraje/sídla. 		
<p>Legenda:</p>		<p>Škoda Octavia</p>	
		<p>Škoda Octavia Combi</p>	

		<p>Škoda Octavia Tour</p>	
		<p>Škoda Superb</p>	
		<p>Škoda Superb Combi</p>	
		<p>Škoda Yeti</p>	
		<p>Škoda Fabia</p>	
		<p>Škoda Fabia Combi</p>	
		<p>Škoda Roomster</p>	
		<p>Škoda Praktik</p>	

Tabulka:	<table border="1"> <thead> <tr> <th data-bbox="422 190 1054 264">Lokalizační faktor</th> <th data-bbox="1054 190 1406 264">Vliv na výrobu</th> </tr> </thead> <tbody> <tr> <td data-bbox="422 264 1054 315">Dopravní dostupnost</td> <td data-bbox="1054 264 1406 315"></td> </tr> <tr> <td data-bbox="422 315 1054 367">Ekonomika země</td> <td data-bbox="1054 315 1406 367"></td> </tr> <tr> <td data-bbox="422 367 1054 418">Pracovní síla</td> <td data-bbox="1054 367 1406 418"></td> </tr> <tr> <td data-bbox="422 418 1054 470">.....</td> <td data-bbox="1054 418 1406 470"></td> </tr> <tr> <td data-bbox="422 470 1054 521">.....</td> <td data-bbox="1054 470 1406 521"></td> </tr> </tbody> </table>	Lokalizační faktor	Vliv na výrobu	Dopravní dostupnost		Ekonomika země		Pracovní síla		
Lokalizační faktor	Vliv na výrobu												
Dopravní dostupnost													
Ekonomika země													
Pracovní síla													
.....													
.....													
Přílohy:	Externí příloha 1 – obrysová mapa												