

Aplikace integrace

PRŮMĚRNÁ FUNKČNÍ HODNOTA $f(x)$ na intervalu $[a, b]$:

$$f_{avg} = \frac{1}{b-a} \int_a^b f(x) dx$$

Příklad 1. Určete průměrnou hodnotu funkce $f(x) = x^2 - 5x + 6 \cos(\pi x)$ na intervalu $[-1, 5/2]$

$$\begin{aligned} f_{avg} &= \frac{1}{\frac{5}{2} - (-1)} \int_{-1}^{\frac{5}{2}} x^2 - 5x + 6 \cos(\pi x) \\ &= \frac{2}{7} \left[\frac{1}{3} x^3 - \frac{5}{2} x^2 + \frac{6}{\pi} \sin(\pi x) \right]_{-1}^{\frac{5}{2}} \\ &= \frac{12}{7\pi} - \frac{13}{6} \end{aligned}$$

Příklad 2. Určete průměrnou hodnotu funkce $f(x) = \sin(2x)e^{1-\cos(2x)}$ na intervalu $[-\pi, \pi]$
sub: $u = 1 - \cos(2x)$

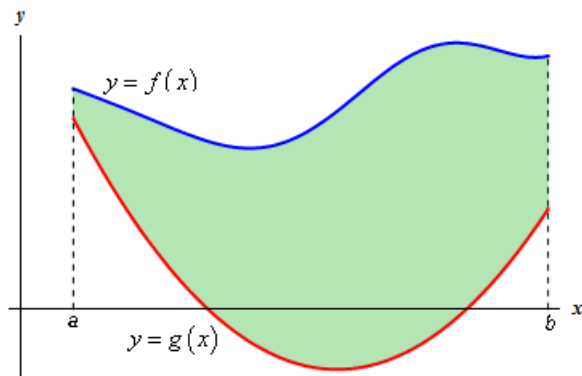
$$\begin{aligned} f_{avg} &= \frac{1}{\pi - (-\pi)} \int_{-\pi}^{\pi} \sin(2x)e^{1-\cos(2x)} \\ &= \frac{1}{4\pi} \left[e^{1-\cos(2x)} \right]_{-\pi}^{\pi} \\ &= 0 \end{aligned}$$

(Vykreslete si graf a je zřejmé, že je to 0)

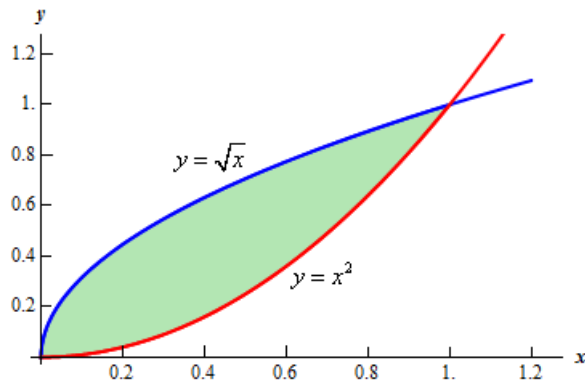
PLOCHA MEZI DVĚMA KŘIVKAMI

Máme-li 2 funkce, pro které $f(x) \geq g(x)$ na intervalu $[a, b]$, pak obsah plochy mezi křivkami je "integrál horní minus integrál spodní":

$$S = \int_a^b f(x) - g(x) dx$$

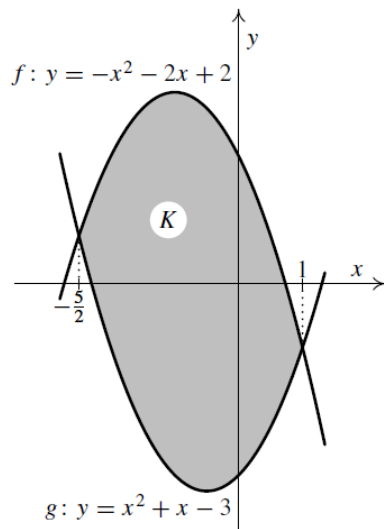


Příklad 3. Určete plochu mezi křivkami $y = x^2$ a $y = \sqrt{x}$.
 Načrtneme obrázek a určíme interval, na kterém budeme hledat rozdíl integrálů:



$$\int_0^1 \sqrt{x} - x^2 dx = 1/3$$

Příklad 4. Určete plochu mezi křivkami $y = x^2 + x - 3$ a $y = -x^2 - 2x + 2$.



$$\int_{-5/2}^1 [(x^2 + x - 3) - (-x^2 - 2x + 2)] dx = \frac{343}{24}$$

Příklad 5. Vypočtete obsah kruhu K o poloměru r .

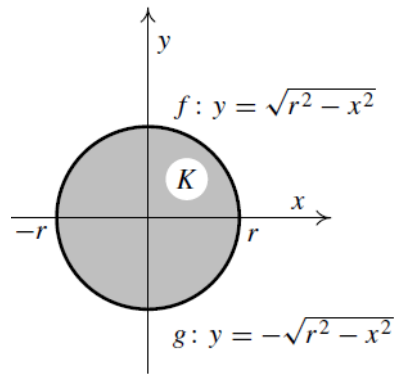
Kružnici umístíme do počátku (nemá to na obsah vliv). Rovnice kužnice v počátku: $x^2 + y^2 = r^2$, odtud

$$y = \pm\sqrt{r^2 - x^2}$$

Ozn. $f(x) = \sqrt{r^2 - x^2}$, $g(x) = -\sqrt{r^2 - x^2}$, $x \in [-r, r]$. Obsah kruhu:

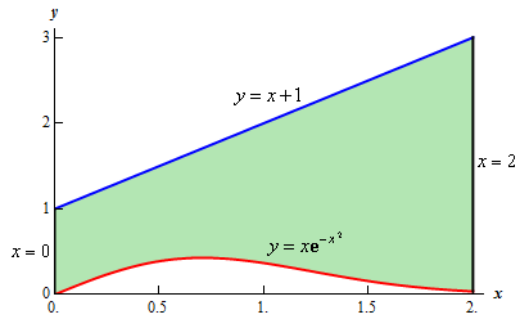
$$\int_{-r}^r [\sqrt{r^2 - x^2} - (-\sqrt{r^2 - x^2})] dx = 2 \int_{-r}^r [\sqrt{r^2 - x^2}] dx = \pi r^2$$

(po substituci $x = r \sin t$, $dx = r \cos t dt$, $-r \rightsquigarrow -\frac{\pi}{2}$, $r \rightsquigarrow \frac{\pi}{2}$)



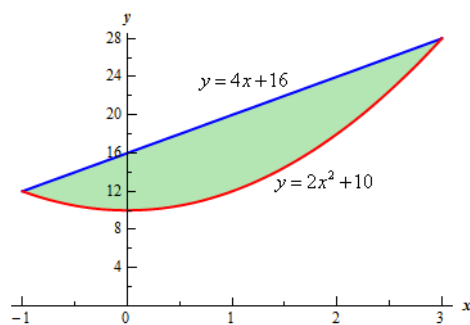
Příklad 6. Určete plochu mezi křivkami $y = xe^{-x^2}$, $y = x + 1$, $x = 2$ a $x = 0$.

$$\int_0^2 x + 1 - xe^{-x^2} dx = \frac{7}{2} + \frac{e^{-4}}{2}$$



Příklad 7. Určete plochu mezi křivkami $y = 2x^2 + 10$ a $y = 4x + 16$.

$$\int_{-1}^3 4x + 16 - (2x^2 + 10) dx = \frac{64}{3}$$



DÉLKA GRAFU

$$l = \int_a^b \sqrt{1 + (f'(x))^2} dx$$

pokud má f na $[a, b]$ spojitou derivaci.

Příklad 8. Určete délku grafu funkce $f(x) = \ln x$ na intervalu $[\sqrt{3}, \sqrt{15}]$
 $f'(x) = \frac{1}{x}$

$$\begin{aligned} l &= \int_{\sqrt{3}}^{\sqrt{15}} \sqrt{1 + \frac{1}{x^2}} dx = \int_{\sqrt{3}}^{\sqrt{15}} \frac{\sqrt{x^2 + 1}}{x} dx = \int_{\sqrt{3}}^{\sqrt{15}} \frac{\sqrt{x^2 + 1}}{x^2} x dx \\ &= |x^2 + 1 = t^2, dx = \frac{t}{x} dt, \sqrt{3} \rightsquigarrow 2, \sqrt{15} \rightsquigarrow 4| \\ &= \int_2^4 \frac{t}{t^2 - 1} dt \end{aligned}$$

čitatel vydělíme jmenovatelem a dostaneme

$$\frac{t}{t^2 - 1} = 1 + \frac{1}{t^2 - 1}$$

rozložíme na parciální zlomky a celkem máme

$$\begin{aligned} l &= \int_2^4 \frac{t}{t^2 - 1} dt = \int_2^4 \left(1 + \frac{1/2}{t - 1} - \frac{1/2}{t + 1}\right) dx \\ &= 2 + \ln 3 - \frac{1}{2} \ln 5 \end{aligned}$$

OBJEM A POVRCH ROTAČNÍHO TĚLESA

$f(x)$ je spojitá, nezáporná na intervalu $[a, b]$. Pak **objem tělesa**, které vznikne rotací funkce kolem osy x je

$$V = \pi \int_a^b f^2(x) dx$$

$f(x)$ je nezáporná na intervalu $[a, b]$ a má zde spojitou derivaci. Pak **povrch tělesa**, které vznikne rotací funkce kolem osy x je

$$S = 2\pi \int_a^b f(x) \sqrt{1 + [f'(x)]^2} dx$$

- povrch se obtížněji počítá, protože často neumíme integrovat výrazy s odmocninou

Příklad 9. Vypočítejte objem tělesa, které vznikne rotací kolem osy x plochy omezené grafy funkcí $f(x) = 4$ a $g(x) = x^2$.

Grafy funkcí se protínají v bodech $2, -2$, proto bude interval $[-2, 2]$. Hledaný objem je rozdílem objemů zadaných funkcí:

$$V = V_1 - V_2 = \pi \int_{-2}^2 4^2 dx - \pi \int_{-2}^2 x^4 dx = \frac{256\pi}{5}$$

Zkouškové příklady:

Příklad 10. Určete průměrnou hodnotu funkce $x \ln^2 x$ na intervalech $[1, e]$, $[0, 1]$ a $[0, e]$.

Výsledek: $[1, e] : \frac{e+1}{4}$, $[0, 1] : \frac{1}{4}$, $[0, e] : \frac{e}{4}$

Příklad 11. Pomocí vhodného určitého integrálu určete:

(a) Objem zmrzliny, která se vejde do kuželovitého kornoutu (tak, aby nic nepřesahovalo ven) o výšce $h = 12\text{cm}$ a poloměru "podstavy" $r = 3\text{cm}$.

(b) Kolik stojí materiál na jeden kornout, jestliže jeho jednotková cena je 2hal/cm^2 ?

Řešení:

(a) objem rotačního tělesa vzniklého rotací přímky $f(x) = \frac{x}{4}$ na intervalu $[0, 12]$.

$$\pi \int_0^{12} \left(\frac{x}{4}\right)^2 dx = 36\pi\text{cm}^2$$

(b) Povrch stejného tělesa:

$$2\pi \int_0^{12} \frac{x}{4} \sqrt{1 + (1/4)^2} = 9\sqrt{17}\pi$$

Materiál na jeden kornout stojí $2 * 9\sqrt{17}\pi\text{hal}$.

Příklad 12. Pomocí vhodného určitého integrálu určete vnější plochu obří parabolické antény pro dálkový přenos signálu, která má hloubku 3m a jejíž

horní hrana má rovnici $y = 2px$

Řešení:

$$\begin{aligned} S &= 2\pi \int_0^3 2\sqrt{x} \sqrt{1 + \frac{1}{x}} dx = 4\pi \int_0^3 \sqrt{x} \frac{\sqrt{x+1}}{\sqrt{x}} dx = 4\pi \int_0^3 (x+1)^{1/2} \\ &= 4\pi \left[\frac{(x+1)^{3/2}}{3/2} \right]_0^3 = \frac{56\pi}{3} m^2 \end{aligned}$$

Příklad 13. Určete délku řetězovky

$$f(x) = \cosh x = \frac{e^x + e^{-x}}{2} \text{ pro } x \in [-1, 1]$$

Řešení:

$$\int_{-1}^1 \sqrt{1 + \frac{(e^x - e^{-x})^2}{4}} dx = \text{roznasobit} = \frac{1}{2} \int_{-1}^1 \sqrt{e^{2x} + 2 + e^{-2x}} dx = \frac{1}{2} \int_{-1}^1 \sqrt{(e^x + e^{-x})^2} dx = e - \frac{1}{e}$$