

# 1 Princip indukce

1. Dokažte, že pro každé přirozené číslo  $n$  platí:

$$\sum_{i=1}^n i^3 = \frac{n^2(n+1)^2}{4}.$$

2. Dokažte, že pro každé přirozené číslo  $n$  platí:

$$\sum_{i=1}^n \frac{i(i+5)}{(i+2)(i+3)} = \frac{n(n+1)}{n+3}.$$

3. Dokažte, že pro každé přirozené číslo  $n \geq 2$  platí:

$$\sum_{i=2}^n \frac{1}{i^2} \geq \frac{7}{12} - \frac{1}{n+1}.$$

4. Dokažte, že pro každé přirozené číslo  $n \geq 6$  platí  $2^n > (n+1)^2$ .

5. Nechť  $r$  je reálné číslo takové, že  $r + \frac{1}{r}$  je celé číslo. Dokažte, že pak pro každé přirozené číslo  $n$  je  $r^n + \frac{1}{r^n}$  rovněž celé číslo.

6. Dokažte, že součet vnitřních úhlů v (konvexním)  $n$ -úhelníku je roven  $\pi \cdot (n-2)$ .

7. V konvexním  $n$ -úhelníku jsou sestrojeny některé úhlopříčky přitom žádné dvě se neprotínají ve vnitřním bodě  $n$ -úhelníka. Dokažte, že z některých dvou (nesousedních) vrcholů  $n$ -úhelníka nevychází žádná ze sestrojovaných úhlopříček. (Zde  $n \geq 3$ , resp.  $n \geq 4$  v případě tvrzení o nesousedních vrcholech.)

8. Nechť reálné číslo  $\gamma$  a celé číslo  $l$  jsou taková, že  $l \cos \gamma$  je celé číslo. Dokažte, že potom pro každé přirozené číslo  $n$  je také  $l^n \cos n\gamma$  celé číslo.

*Návod:* Použijte známý goniometrický vzorec

$$\cos \alpha + \cos \beta = 2 \cos \frac{\alpha+\beta}{2} \cos \frac{\alpha-\beta}{2}$$

pro  $\alpha = n\gamma$  a  $\beta = (n-2)\gamma$

9. Máme obdélníkovou tabulku čokolády s  $m \times n$  dílky. Chceme ji rozlámat na jednotlivé dílky, a to tak, že vždy jeden obdélník rozložíme na dva obdélníky menší. Kolik obdélníků musíme rozlomit nejméně a kolik nejvíce?

*Návod:* Vždy  $m \cdot n - 1$ .

# 2 Logika a přirozená čísla

1. Ověřte, že následující formule jsou ekvivalentní:

$$\begin{aligned} \text{(a)} \quad & A \vee B \\ & \neg A \rightarrow B \end{aligned}$$

- (b)  $A \wedge B$   
 $\neg(A \rightarrow \neg B)$
- (c)  $A \leftrightarrow B$   
 $(A \rightarrow B) \wedge (B \rightarrow A)$
- (d)  $\neg(p \wedge \neg q) \wedge (\neg q \wedge \neg r)$   
 $\neg p \wedge \neg q \wedge \neg r$

2. Nalezněte výrokovou formuli v proměnných  $A, B, C$  s následující tabulkou pravdivostních hodnot

$A$	$B$	$C$	
1	1	1	1
1	1	0	0
1	0	1	0
1	0	0	0
0	1	1	0
0	1	0	1
0	0	1	0
0	0	0	0

3. Rozhodněte, zda jsou následující formule pravdivé v  $\mathbb{R}, \mathbb{C}, \mathbb{Z}, \mathbb{N}$ .

- (a)  $(\forall x)(\forall y)(x < y \rightarrow (\exists z)(x < z < y))$
- (b)  $(\forall x)(\forall y)(\exists z)(x + z = y)$
- (c)  $(\exists z)(\forall x)(z \leq x)$
- (d)  $(\forall x)(\forall y)(\exists z)(z|x \wedge z|y \wedge (\forall u)((u|x \wedge u|y) \rightarrow u|z))$
- (e)  $(\exists x)(\forall y)(y + x = x + y = y)$

4. Znegujte formule z předešlého příkladu a upravte je do tvaru, ve kterém se bude negace vyskytovat jen u atomických formulí.

5. Popište následující vlastnosti formulí a diskutujte jejich pravdivost v číselném oboru  $\mathbb{N}$ .

- (a) každé číslo je dělitelné prvočíslem;
- (b) existuje nejmenší společný násobek libovolné dvojice čísel.

6. Je možné zaměnit v libovolné formuli predikátové logiky obecný a existenční kvantifikátor? Diskutujte obě implikace. Konkrétně mějme formuli predikátové logiky se dvěma volnými proměnnými  $f(x, y)$ . Platí  $(\forall x) (\exists y) f(x, y) \leftrightarrow (\exists y) (\forall x) f(x, z)$ ? Jako příklad formule  $f(x, y)$  uvažujte  $x \leq y$ .

7. Pro každé  $a \in \mathbb{Z}, b \in \mathbb{N}$  existují jednoznačně určená  $q, r \in \mathbb{Z}, 0 \leq r < b$  taková, že platí  $a = bq + r$ . Dokažte.

### 3 Množinová algebra a kartézské součiny množin

1. Určete, která z těchto tvrzení jsou pravdivá:

- (a)  $\{\emptyset\} \neq \emptyset$
- (b)  $\{\emptyset\} \in \{\emptyset, \{\emptyset\}\}$
- (c)  $\{\{\emptyset\}, \emptyset\} \neq \{\emptyset, \{\emptyset\}\}$
- (d)  $\{\emptyset, \emptyset\} = \{\emptyset\}$
- (e)  $\{\emptyset\} \notin \{\emptyset, \{\{\emptyset\}\}\}$
- (f)  $\{\{\emptyset\}\} \in \{\{\emptyset\}\}$
- (g)  $\{\{\emptyset\}\} \in \{\{\emptyset\}, \{\{\emptyset\}\}\}$
- (h)  $\{\{\emptyset\}\} \in \{\emptyset, \{\emptyset, \{\emptyset\}\}\}$

2. Nechť  $A, B, C$  jsou množiny. Určete, kolik prvků má daná množina. (Pozor, odpovědi se mohou lišit v závislosti na množinách  $A, B, C$ .)

- (a)  $\{\{\{\emptyset, \emptyset\}\}, \emptyset, \{\{\emptyset\}, \{\emptyset\}\}, \{\{\emptyset\}\}, \{\{\emptyset\}, \{\emptyset, \emptyset\}\}\}$
- (b)  $\{A, B, C\}$
- (c)  $\{A, \{B, C\}\}$
- (d)  $\{A, \{B\}, \emptyset\}$

3. Dokažte, že pro libovolné množiny  $A, B, C$  platí:

- (a)  $A \cap B = A - (A - B)$
- (b)  $A \cup B = (A - B) \cup (B - A) \cup (A \cap B)$
- (c)  $A - (B \cap C) = (A - B) \cup (A - C)$
- (d)  $A \div (B \div C) = (A \div B) \div C$
- (e)  $A \cap B \subseteq C \iff A \cap (B - C) = \emptyset$
- (f)  $A \subseteq C \implies (A \subseteq B \iff (C - B) \subseteq (C - A))$

4. Rozhodněte, zda pro libovolné množiny  $A, B, C$  platí:

- (a)  $A \cap (B - C) = (A \cap B) - C$
- (b)  $A \cup (B - C) = (A \cup B) - C$
- (c)  $A \cap C \subseteq B \implies ((A \cap B) \cup C = A \cap (B \cup C) \iff (A \cap B) \cup C = B \cap (A \cup C))$

5. Určete, čemu se rovná:

- (a)  $\bigcap \emptyset$
- (b)  $\bigcup \emptyset$
- (c)  $\bigcup \{\emptyset\}$

(d)  $\bigcap \mathcal{P}(A)$

(e)  $\bigcup \mathcal{P}(A)$

6. Necht  $I, J$  jsou neprázdné indexové množiny a necht  $A, B_i$  pro  $i \in I$  a  $C_j$  pro  $j \in J$  jsou množiny. Dokažte, že platí:

(a)  $A \cap \bigcup_{i \in I} B_i = \bigcup_{i \in I} (A \cap B_i)$

(b)  $A \cup \bigcap_{i \in I} B_i = \bigcap_{i \in I} (A \cup B_i)$

(c)  $A - \bigcap_{i \in I} B_i = \bigcup_{i \in I} (A - B_i)$

(d)  $\bigcup_{\substack{i \in I \\ j \in J}} (B_i \div C_j) = \bigcup_{\substack{i \in I \\ j \in J}} (B_i \cup C_j) - \bigcap_{\substack{i \in I \\ j \in J}} (B_i \cap C_j)$

7. Necht  $I$  je neprázdna indexová množina a necht  $A, B_i$  pro  $i \in I$  jsou množiny. Rozhodněte, který z následujících vztahů je pravdivý:

(a)  $\bigcap_{i \in I} (A \div B_i) \subseteq A \div \bigcap_{i \in I} B_i$

(b)  $A \div \bigcap_{i \in I} B_i \subseteq \bigcap_{i \in I} (A \div B_i)$

8. Určete, pro které množiny  $A$  platí:

(a)  $A - \{\emptyset\} = A \cap \{\emptyset, \{\emptyset\}, \{\{\emptyset\}\}\}$

(b)  $A \cup \bigcup A = \{\emptyset, \{\emptyset\}\}$

(c)  $\bigcup A = \{\emptyset, \{\emptyset\}\}$

(d)  $\bigcup A = \bigcap A$

(e)  $\bigcup A = (\bigcap A) \cup \{\emptyset\}$

9. Necht  $I$  značí množinu všech prvočísel. Pro každé prvočíslo  $p \in P$  označme  $A_p = \{x \in \mathbb{N} \mid (p \mid x)\}$ . Dokažte, že pak platí:

(a)  $\bigcup_{p \in I} A_p = \mathbb{N} - \{1\}$

(b)  $\bigcap_{p \in I} A_p = \emptyset$

(c) je-li  $J \neq \emptyset$  libovolná konečná množina prvočísel, pak  $\bigcap_{p \in J} A_p \neq \emptyset$ .

10. Necht  $A, B, C, I$  a  $A_i$  pro  $i \in I$  jsou množiny. Dokažte, že platí:

(a)  $A \times (B \cup C) = (A \times B) \cup (A \times C)$

(b)  $(A - B) \times C = (A \times C) - (B \times C)$

(c)  $A \times \bigcup_{i \in I} A_i = \bigcup_{i \in I} (A \times A_i)$

(d)  $A \cap B = \emptyset \implies (A \times B) \cap (B \times A) = \emptyset$

11. Určete, pro které množiny  $A, B$  a pro které systémy množin  $A_i, i \in I$ , platí:

(a)  $\mathcal{P}(A - B) \subseteq \mathcal{P}(A) - \mathcal{P}(B)$

(b)  $\mathcal{P}(A - B) \supseteq \mathcal{P}(A) - \mathcal{P}(B)$

(c)  $\bigcap_{i \in I} \mathcal{P}(A_i) = \mathcal{P}(\bigcap_{i \in I} A_i)$

(d)  $\bigcup_{i \in I} \mathcal{P}(A_i) = \mathcal{P}(\bigcup_{i \in I} A_i)$

## 4 Zobrazení

- Najděte všechna zobrazení množiny  $A = \{1, 2, 3\}$  do množiny  $B = \{i, a\}$ . Najděte všechna zobrazení množiny  $B$  do množiny  $A$ . Které z nich jsou bijekce, injekce a surjekce?
- Určete kolik je zobrazení z konečné  $a$ -prvkové množiny  $A$  do konečné  $b$ -prvkové množiny  $B$ . Rozhodněte, zda je některé z nich injekce, surjekce, resp. bijekce.
- Pro které konečné množiny  $A$ 
  - existuje injektivní zobrazení  $\{0, 1\}^A \rightarrow A \times A$ ,
  - existuje surjektivní zobrazení  $A \times A \rightarrow A^A$ ?
- Nechť  $A, B$  jsou neprázdné množiny. Udejte podmínku, která
  - je nutná a není dostatečná,
  - je dostatečná a není nutná,pro to, aby zobrazení  $f : A \rightarrow B$  bylo surjektivní.
- Rozhodněte zda následující předpisy určují zobrazení? V kladném případě zjistěte, zda je zobrazení injektivní, příp. surjektivní.
  - $f : \mathbb{Z} \rightarrow ]0, 1[, f(x) = |x|$ ,
  - $f : \mathbb{Z} \rightarrow \{0, 1, 2\}, f(x) = \begin{cases} 0 & \text{pro } x = 0 \\ 1 & \text{pro } x > 1 \\ 2 & \text{pro } x < 2 \end{cases}$
  - $f : \mathbb{Z} \rightarrow \{0, 1, 2\}, f(x) = \text{zbytek po dělení } x : 3$ ,
  - $f : \mathbb{Z} \rightarrow \mathbb{Z}, f(x) = 3x$ ,
  - $f : \mathbb{Z} \rightarrow \mathbb{N}, f(x) = (x - 1)^2 + 1$ ,
  - $f : \mathbb{N} \rightarrow \mathbb{Z}, f(x) = \begin{cases} y & \text{pokud } (y - 1)^2 + 1 = x \\ 0 & \text{jinak} \end{cases}$
  - $f : \mathbb{Z} \times \mathbb{Z} \rightarrow \mathcal{P}(\mathbb{Z}), f((x, y)) = \{x, y\}$ ,
  - $f : \mathcal{P}(\mathbb{Z}) \rightarrow \mathbb{N}_0, f(X) = \text{počet prvků } X$ ,
  - $f : \mathcal{P}(\mathbb{N}) \rightarrow \mathbb{N}, f(X) = \min X$ .

Upravte zadání předchozích příkladů tak, aby se odpověď změnila; např. změňte výchozí množinu tak, aby zobrazení bylo prosté, cílovou množinu nebo předpis tak, aby bylo surjektivní a pod.

- Najděte  $a, b \in \mathbb{Z}$  tak, aby zobrazení  $f : \mathbb{Z} \rightarrow \mathbb{Z}$  definované předpisem  $f(x) = \lfloor \frac{ax+b}{2} \rfloor$  bylo injektivní nebo surjektivní. Závorky  $\lfloor \rfloor$  značí celou část.
- Pro bijektivní zobrazení  $f, g : \mathbb{R} \rightarrow \mathbb{R}$ , zadané vztahy  $f(x) = x - 2$  a  $g(x) = 2x + 3$ , najděte předpis pro  $f \circ g, f^{-1}, g^{-1}, f \circ g^{-1}$  a pod. Jak se řešení liší, pokud množinu  $\mathbb{R}$  nahradíme množinou  $\mathbb{Z}$ .

8. Dokažte, že následující zobrazení jsou bijektivní.

(a)  $f : \mathbb{N} \times \mathbb{N} \rightarrow \mathbb{N}$ ,  $f(x, y) = 2^{x-1}(2y - 1)$ ,

(b)  $f : ]a, b[ \rightarrow \mathbb{R}^+$ ,  $f(x) = \frac{x-a}{b-x}$ .

Dejte předpis inverzních zobrazení.

9. Dokažte, že následující zobrazení  $f, g$  jsou vzájemně inverzní zobrazení (a tudíž bijekce).

$$f : \mathbb{N} \rightarrow \mathbb{Z}, f(x) = (-1)^x \lfloor \frac{x}{2} \rfloor,$$

$$g : \mathbb{Z} \rightarrow \mathbb{N}, g(y) = 2|y - \frac{1}{4}| + \frac{1}{2}$$

10. Pro disjunktní množiny  $A$  a  $B$  dokažte, že zobrazení  $f : \mathcal{P}(A \cup B) \rightarrow \mathcal{P}(A) \times \mathcal{P}(B)$  definované předpisem  $f(X) = (X \cap A, X \cap B)$  je bijekce. Najděte zobrazení inverzní.

11. Dokažte, že pro libovolnou množinu  $A$  je zobrazení  $f : \mathcal{P}(A) \rightarrow \{0, 1\}^A$ , které podmnožině  $B \subseteq A$  přiřazuje charakteristickou funkci, bijektivní.

12. Přepište zobrazení z příkladu 10 po ztotožnění  $\mathcal{P}(A) \cong \{0, 1\}^A$  a zobecněte výsledek tak, abyste dokázali  $C^{A \cup B} \cong C^A \times C^B$  pro libovolné množiny  $A, B, C$ , kde  $A \cap B = \emptyset$ .

13. Nechť  $f : A \rightarrow A$  je zobrazení takové, že existuje  $n \in \mathbb{N}$  s vlastností  $f^n = \text{id}_A$ . Dokažte, že  $f$  je bijekce.

14. Pro zobrazení  $f : A \rightarrow B$  a  $g : B \rightarrow C$  zjistěte, zda platí následující ekvivalence. Až zjistíte, že implikace obecně  $\longleftarrow$  neplatí, pozměňte levou stranu tak, aby platila.

(a)  $f$  a  $g$  jsou injektivní  $\iff g \circ f$  je injektivní,

(b)  $f$  a  $g$  jsou surjektivní  $\iff g \circ f$  je surjektivní.

15. Nechť  $A \neq \emptyset$ . Dokažte, že pro jakékoliv zobrazení  $f : A \rightarrow B$  platí

(a)  $f$  je injektivní  $\iff$  existuje zobrazení  $g : B \rightarrow A$  tak, že  $g \circ f = \text{id}_A$ ,

(b)  $f$  je surjektivní  $\iff$  existuje zobrazení  $h : B \rightarrow A$  tak, že  $f \circ h = \text{id}_B$ .

16. Nechť  $A$  je množina a  $f : A \rightarrow A$  je zobrazení, které není identické. Dejte příklad zobrazení  $g, h : A \rightarrow A$  tak, aby platilo

(a)  $f \circ g = g \circ f$ ,

(b)  $f \circ h \neq h \circ f$ .

17. Každé zobrazení  $f : A \rightarrow B$  idukuje pro libovolné  $C$  zobrazení  $F : A^C \rightarrow B^C$  definované vztahem  $F(\phi) = f \circ \phi$ . Dokažte, že  $f$  není bijektivní nebo  $F$  je bijektivní.

## 5 Relace na množině, ekvivalence a rozklady množin

1. Na množině  $\{0, 1\}$  nalezněte všechny relace (resp. uveďte jejich počet), které jsou:

- (a) reflexivní
- (b) symetrické
- (c) tranzitivní
- (d) relace ekvivalence
- (e) symetrické a tranzitivní
- (f) symetrické a antisymetrické

Totéž v případě jednoprvkové a prázdné množiny.

2. Na množině  $\{1, 2, 3\}$  nalezněte všechny relace ekvivalence.

3. Buď  $A = \{1, 2, 3\}$ . Nalezněte:

(Relace i zobrazení zadávejte výčtem prvků z množiny  $A \times A$ .)

- (a) zobrazení  $f, g : A \rightarrow A$  taková, že  $f \circ g \neq g \circ f$ ;
- (b) injektivní zobrazení  $f : A \rightarrow A$ , které není reflexivní relací;
- (c) reflexivní relaci  $R$  na množině  $A$ , která není zobrazením;
- (d) zobrazení  $f : A \rightarrow A$ , které je symetrickou relací a pro něž  $f \circ f \neq f$ ;
- (e) dvojici relací  $R \subseteq S$  na množině  $A$  takových, že  $R \neq S$ ,  $R$  je zobrazení a  $S$  je tranzitivní relace.

4. Buď  $s : \mathbb{N} \rightarrow \mathbb{N}$  zobrazení dané předpisem  $s(n) = n + 1$ , tj.  $s = \{(n, n + 1) \mid n \in \mathbb{N}\}$ . Dále definujme relaci  $R_<$  na množině  $\mathbb{N}$  takto  $R_< = \{(a, b) \in \mathbb{N} \times \mathbb{N} \mid a < b\}$ .

Nalezněte: (Relace i zobrazení zadávejte vhodným předpisem (tj. množinově), nikoli obrázkem.)

- (a) symetrickou relaci  $R$  na množině  $\mathbb{N}$  takovou, že  $R \subseteq R_<$ ;
- (b) tranzitivní relaci  $R$  na množině  $\mathbb{N}$  takovou, že  $s \subseteq R$ ;
- (c) relaci  $R$  na množině  $\mathbb{N}$  takovou, že  $R_< \subseteq R$  a zároveň  $R \circ R \neq R$ ;
- (d) zobrazení  $f : \mathbb{N} \rightarrow \mathbb{N}$  takové, že  $f \circ s \neq s \circ f$ ;
- (e) relaci  $R$  na množině  $\mathbb{N}$ , která není zobrazením, ale  $R \circ R$  zobrazením je.

5. Je dána relace  $\rho$  na množině  $\mathbb{N}$ . Rozhodněte zda  $\rho$  je reflexivní, resp. symetrická, resp. antisymetrická, resp. tranzitivní relace, je-li pro  $x, y \in \mathbb{N}$ :

- (a)  $x\rho y \iff x \cdot y$  je liché číslo
- (b)  $x\rho y \iff x, y$  jsou nesoudělná
- (c)  $x\rho y \iff y = x \vee y = 2x \vee y = 3x$
- (d)  $x\rho y \iff |x - y| = 3 \vee x = y$

6. Je dána relace  $\rho$  na množině  $\mathbb{Z}$ . Rozhodněte zda  $\rho$  je reflexivní, resp. symetrická, resp. antisymetrická, resp. tranzitivní relace, je-li pro  $x, y \in \mathbb{Z}$ :

- (a)  $x\rho y \iff x \neq y$
- (b)  $x\rho y \iff x$  sudé,  $y$  liché
- (c)  $x\rho y \iff x^2 = y$
- (d)  $x\rho y \iff |x| < y$
- (e)  $x\rho y \iff x \cdot y \leq 0$
- (f)  $x\rho y \iff 3|(x + 2y)$
- (g)  $x\rho y \iff |x| \leq |y|$

7. Je dána relace  $\rho$  na množině  $\mathcal{P}(A)$ , kde  $A$  je neprázdná konečná množina. Rozhodněte zda  $\rho$  je reflexivní, resp. symetrická, resp. antisymetrická, resp. tranzitivní relace, je-li pro  $X, Y \in \mathcal{P}(A)$ :

- (a)  $X\rho Y \iff X \cup Y = A$
- (b)  $X\rho Y \iff X = \emptyset \vee X = A$
- (c)  $X\rho Y \iff X \cap Y \neq \emptyset$
- (d)  $X\rho Y \iff$  množiny  $X, Y$  mají stejný počet prvků

(Návod: uvědomte si, že v některých případech může vyšetřovaná vlastnost záviset na počtu prvků množiny  $A$ .)

8. Na množině  $M = \{1, 2, 3, \dots, 18, 19, 20\}$  definujeme relaci  $\rho$  takto:  $x\rho y \iff$  čísla  $x, y$  mají stejný součet cifer. Dokažte, že  $\rho$  je relací ekvivalence na  $M$  a sestrojte rozklad  $M \setminus \rho$  (tj. rozklad množiny  $M$  příslušný ekvivalenci  $\rho$ ).

9. Na množině  $M$  je definována relace  $\rho$ . Rozhodněte, zda  $\rho$  je relací ekvivalence na  $M$ , je-li

- (a)  $M = \mathbb{Z}; \rho = \{(x, y) \in \mathbb{Z} \times \mathbb{Z} \mid y = x \text{ nebo } y = x + 1\}$
- (b)  $M = \mathbb{R}; \rho = \{(x, y) \in \mathbb{R} \times \mathbb{R} \mid x - y \in \mathbb{Z}\}$
- (c)  $M = \mathbb{R}; \rho = \{(x, y) \in \mathbb{R} \times \mathbb{R} \mid |x - y| \leq 1\}$
- (d)  $M = \mathcal{P}(\mathbb{N}); \rho = \{(A, B) \in \mathcal{P}(\mathbb{N}) \times \mathcal{P}(\mathbb{N}) \mid (A - B) \text{ je konečná množina}\}$
- (e)  $M = \mathcal{P}(\mathbb{N}); \rho = \{(A, B) \in \mathcal{P}(\mathbb{N}) \times \mathcal{P}(\mathbb{N}) \mid (A \div B) \text{ je konečná množina}\}$  kde  $A \div B$  je symetrický rozdíl, tj.  $A \div B = (A - B) \cup (B - A)$

10. Na množině  $\mathbb{Z}$  je definována relace  $\rho$ . Dokažte, že  $\rho$  je ekvivalencí na  $\mathbb{Z}$  a popište rozklad  $\mathbb{Z} \setminus \rho$ . Přitom pro  $x, y \in \mathbb{Z}$  je:

- (a)  $x\rho y \iff \exists k \in \mathbb{Z} : y = x + 4k$
- (b)  $x\rho y \iff x^2 \equiv y^2 \pmod{7}$
- (c)  $x\rho y \iff x^2 + 2x = y^2 + 2y$
- (d)  $x\rho y \iff 2|(x^2 - y^2)$



11. Na množině  $\mathbb{Z} - \{0\}$  je relace  $\rho$  definována vztahem  $x\rho y \Leftrightarrow x \cdot y > 0$ . Dokažte, že  $\rho$  je ekvivalencí na  $\mathbb{Z} - \{0\}$  a popište rozklad  $(\mathbb{Z} - \{0\}) \setminus \rho$ .

12. Na množině  $\mathbb{R} \times \mathbb{R}$  je definována relace  $\rho$ . Dokažte, že  $\rho$  je ekvivalencí na  $\mathbb{R} \times \mathbb{R}$  a načrtněte, jak vypadá rozklad  $\mathbb{R} \times \mathbb{R} \setminus \rho$  (zde  $\mathbb{R} \times \mathbb{R}$  chápeme jako množinu všech bodů v rovině). Přitom pro  $(x, y), (u, v) \in \mathbb{R} \times \mathbb{R}$  je:

(a)  $(x, y)\rho(u, v) \Leftrightarrow x - u = 0$

(b)  $(x, y)\rho(u, v) \Leftrightarrow y - v = 2(x - u)$

(c)  $(x, y)\rho(u, v) \Leftrightarrow (x - u)(x + u) = (v - y)(v + y)$

(d)  $(x, y)\rho(u, v) \Leftrightarrow x^2 + y^2 + x + y = u^2 + v^2 + u + v$

13. Nalezněte jádra následujících zobrazení:

(a)  $f : \mathbb{R} \rightarrow \mathbb{Z} \quad f(x) = \lfloor x \rfloor$

(b)  $f : \mathbb{R} \rightarrow \mathbb{R}, \quad f(x) = |x|$

(c)  $f : \mathbb{Z} \rightarrow \mathbb{Z}, \quad f(x)$  je zbytek po dělení čísla  $x$  číslem  $n$

(d)  $f : \mathbb{Z} \rightarrow \mathbb{Z}, \quad f(x) = \lfloor \frac{x}{n} \rfloor$

Popište příslušný rozklad.

14. Nechť  $R, S$  jsou relace na množině  $A$ . Dokažte, že pokud  $R, S$  jsou symetrické relace, pak  $R \cap S$  je také symetrická relace.

15. Nechť  $R, S$  jsou relace na množině  $A$ . Rozhodněte, zda platí:

(a)  $R, S$  reflexivní  $\implies R \circ S$  reflexivní;

(b)  $R, S$  symetrické  $\implies R \circ S$  symetrická;

(c)  $R, S$  tranzitivní  $\implies R \circ S$  tranzitivní;

16. Dokažte, že pro libovolné relace  $R, R_1, R_2 \subseteq A \times B, S \subseteq B \times C$  a  $T \subseteq C \times D$  platí:

(a)  $(R^{-1})^{-1} = R$

(b)  $T \circ (S \circ R) = (T \circ S) \circ R$

(c)  $(S \circ R)^{-1} = R^{-1} \circ S^{-1}$

(d)  $S \circ (R_1 \cup R_2) = (S \circ R_1) \cup (S \circ R_2)$

(e)  $S \circ (R_1 \cap R_2) \subseteq (S \circ R_1) \cap (S \circ R_2)$

(f)  $(R_1 \cup R_2)^{-1} = R_1^{-1} \cup R_2^{-1}$

(g)  $(R_1 \cap R_2)^{-1} = R_1^{-1} \cap R_2^{-1}$

(h)  $S \circ R_1 - S \circ R_2 \subseteq S \circ (R_1 - R_2)$

Dokažte, že v (e) a (h) obecně neplatí rovnost. Zformulujte a dokažte vztahy (d) — (g) pro libovolná sjednocení resp. průniky.

17. Udejte příklad relace na množině  $\mathbb{N}$ , která je:

- (a) symetrická, tranzitivní, ale není reflexivní
- (b) symetrická a současně antisymetrická
- (c) není symetrická ani antisymetrická
- (d) symetrická a není antisymetrická
- (e) antisymetrická a není symetrická
- (f) reflexivní, tranzitivní, ale není symetrická ani antisymetrická
- (g) tranzitivní, reflexivní a symetrická, ale není ekvivalencí

Hledejte co možná nejmenší (vzhledem k inkluzi) relace.

18. Nechtě  $A$  a  $B$  jsou množiny. Charakterizujte zobrazení  $f : A \rightarrow B$ , pro která platí:

- (a)  $J_f = id_A$
- (b)  $f(A) = B$

19. Je sjednocení (resp. průnik) reflexivních (resp. symetrických, resp. tranzitivních) relací reflexivní (resp. symetrická, resp. tranzitivní) relace? (Použijte i „množinové“ definice daných vlastností; např. relace  $S$  je tranzitivní, pokud  $S \circ S \subseteq S$ .)

20. Nechtě  $\alpha \subseteq A \times A$  je libovolná relace na množině  $A$ . Rozhodněte, zda existuje nejmenší (vzhledem k inkluzi) relace mezi všemi relacemi  $\beta \subseteq A \times A$ ,  $\alpha \subseteq \beta$  které jsou:

- (a) reflexivní
- (b) symetrické
- (c) tranzitivní
- (d) reflexivní a symetrické
- (e) reflexivní a tranzitivní
- (f) symetrické a tranzitivní
- (g) relace ekvivalence
- (h) antisymetrická

Podobně rozhodněte, zda existuje největší (vzhledem k inkluzi) relace mezi všemi relacemi s danou vlastností, které jsou obsženy v relaci  $\alpha$ .

21. Relaci  $R \subseteq A \times A$  nazýváme *dichotomickou*, pokud  $R \cup R^{-1} = A \times A$ . Rozhodněte, zda je každá dichotomická relace reflexivní.

Nechtě množina  $A$  má  $n$  prvků. Kolik je na množině  $A$  relací, které jsou:

- (a) dichotomické
- (b) symetrické a dichotomické

Rozhodněte (dokažte nebo najděte protipříklad), zda platí následující tvrzení: Jsou-li  $R_1, R_2, \dots, R_n$  reflexivní relace ( $n \geq 1$ ), z nichž alespoň jedna je dichotomická, pak je relace  $R_n \circ R_{n-1} \circ \dots \circ R_1$  dichotomická. Platí opačná implikace?

22. Relaci  $R$  na množině  $A$  nazýváme 3-tranzitivní, jestliže

$$\forall a, b, c, d \in A : ((a, b) \in R \wedge (b, c) \in R \wedge (c, d) \in R) \Rightarrow (a, d) \in R.$$

Rozhodněte, zda platí následující tvrzení (tzn. tvrzení dokažte nebo nalezněte protipříklad):

- (a) Každá 3-tranzitivní relace je tranzitivní.
- (b) Každá tranzitivní relace je 3-tranzitivní.

Pokuste se diskutovat obecně vztah  $n$ -tranzitivity a  $m$ -tranzitivity.

## 6 Uspořádané množiny

1. Rozhodněte, zda jsou následující relace uspořádání, resp. lineární uspořádání na  $\mathbb{N}$ . V případě kladné odpovědi naznačte hasseovský diagram uspořádané množiny  $(\mathbb{N}, \preceq)$ .

- (a)  $x \preceq y \iff x = y$
- (b)  $x \preceq y \iff x \leq y$
- (c)  $x \preceq y \iff x < y$
- (d)  $x \preceq y \iff y = 4 \vee y = x$
- (e)  $x \preceq y \iff$  počet cifer čísla  $x$  je menší nebo roven počtu cifer čísla  $y$
- (f)  $x \preceq y \iff x \not\equiv y \pmod{5}$
- (g)  $x \preceq y \iff (x = y) \vee (2 \nmid x \wedge 2 \mid y) \vee (2 \mid x + y \wedge x < y)$

2. Nechť  $A$  je libovolná množina. Dokažte, že  $(\mathcal{P}(A), \subseteq)$  je uspořádaná množina. Sestrojte Hasseovy diagramy v případě:

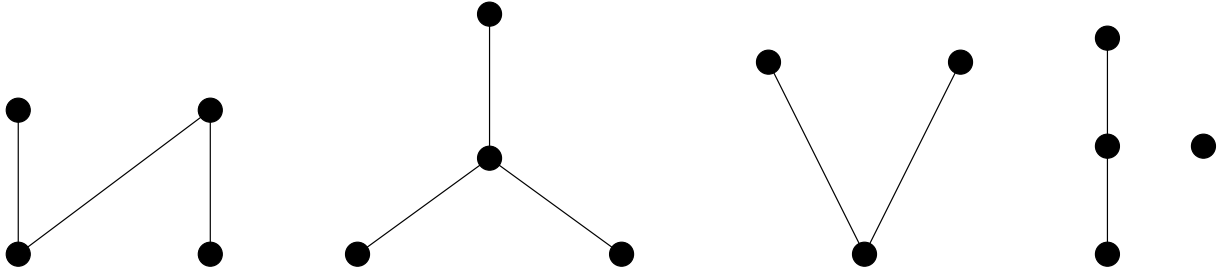
- (a)  $A = \emptyset$
- (b)  $A = \{a\}$
- (c)  $A = \{a, b\}$
- (d)  $A = \{a, b, c\}$ .

3. Popište maximální a minimální prvky, resp. největší a nejmenší prvek množiny  $M$  s uspořádáním  $\rho$ .

- (a)  $M = \{a, b, c\}, \rho = \{(a, a), (b, b), (c, c)\}$
- (b)  $M = \{a, b, c\}, \rho = \{(a, a), (b, b), (c, c), (a, b), (b, c), (a, c)\}$
- (c)  $M = \{a, b, c, d\}, \rho = \{(a, a), (b, b), (c, c), (d, d), (a, b), (a, c)\}$

(d)  $M = \mathcal{P}(\{a, b\}), \rho = \subseteq$

4. Popište maximální a minimální prvky, respektive největší a nejmenší prvek množiny, která má tento hasseovský diagram:



5. Nakreslete hasseovské diagramy všech uspořádání na

- (a) dvojprvkové množině
- (b) trojprvkové množině.

6. Na množině  $M = \{1, 2, 3, 4, 5, 6, 7\}$  definujme relaci  $R$  tak, že

$$(x, y) \in R \iff (\exists n \in \mathbb{N})(y = n \cdot x).$$

Dokažte, že  $R$  je uspořádání a sestrojte hasseovský diagram množiny  $(M, R)$ . Uvažujte relaci  $R$  definovanou tímto vztahem na množině  $\mathbb{N}$  a schematicky naznačte hasseovský diagram  $(\mathbb{N}, R)$ . Popište maximální, minimální, největší a nejmenší prvky těchto množin.

7. V předchozích příkladech diskutujte existenci suprem a infim.

8. Na  $\mathbb{R}$  definujme relaci  $R$  takto:

$$(x, y) \in R \iff (\exists c \in \mathbb{R})(c \geq 1 \wedge c \cdot x = y).$$

Dokažte, že  $R$  je uspořádání na  $\mathbb{R}$  a naznačte hasseovský diagram.

9. Nakreslete hasseovský diagram

- (a) čtyřprvkové uspořádané množiny, která má právě dva maximální prvky a nemá nejmenší prvek
- (b) čtyřprvkové uspořádané množiny, v níž každý prvek je současně maximální i minimální
- (c) konečné uspořádané množiny, která má právě tři minimální prvky a žádný maximální prvek

10. Uveďte příklad uspořádané množiny  $(M, \preceq)$ , která

- (a) má aspoň dva maximální prvky a aspoň dva minimální prvky

- (b) má právě jeden maximální prvek a nemá největší prvek
  - (c) má právě jeden nejmenší prvek a právě tři minimální
  - (d) obsahuje právě dva nesrovnatelné prvky a nemá přitom žádný maximální prvek ani minimální prvek
  - (e) neobsahuje žádné různé srovnatelné prvky
11. Nechť  $I$  je neprázdná množina a  $R, R_1, R_2, R_i, i \in I$  jsou uspořádání množiny  $M$ . Dokažte nebo vyvráťte následující tvrzení.
- (a)  $R^{-1}$  je uspořádání
  - (b)  $\bigcup_{i \in I} R_i$  je uspořádání
  - (c)  $\bigcap_{i \in I} R_i$  je uspořádání
  - (d)  $R_1 \circ R_2$  je uspořádání

12. Nechť  $(A, \leq)$  a  $(B, \sqsubseteq)$  jsou uspořádané množiny. Definujme relaci  $\preceq$  na  $A \times B$  takto:  $(a_1, b_1) \preceq (a_2, b_2) \iff a_1 \leq a_2 \wedge b_1 \sqsubseteq b_2$ . Dokažte, že  $\preceq$  je uspořádání množiny  $A \times B$ . (Hovoříme o součinu uspořádaných množin.) Nakreslete hasseovský diagram uspořádání  $\preceq$  množiny  $\mathcal{P}(\{a, b\}) \times \{1, 2\}$ , kde  $\mathcal{P}(\{a, b\})$  je uspořádáno inkluzí a  $\{1, 2\}$  dle velikosti. Rozhodněte, zda platí, že součin řetězců je řetězec. Zobecněte definici uspořádání  $\preceq$  na součin konečně mnoha uspořádaných množin a naznačte hasseovský diagram.
13. Nechť  $(A_i, \preceq_i), i \in I$  je systém uspořádaných množin, které splňují  $A_j \cap A_k = \emptyset$  pro  $j \neq k; j, k \in I$ . Definujme na  $\bigcup_{i \in I} A_i$  relaci  $\preceq$  takto:

$$x \preceq y \iff (\exists i \in I)(x \preceq_i y).$$

Dokažte, že  $(\bigcup_{i \in I} A_i, \preceq)$  je uspořádaná množina. Nakreslete hasseovský diagram pro  $(\mathcal{P}(\{a, b\}), \subseteq)$  a  $(\mathbb{N}, \leq)$ . Jak by vypadal hasseovský diagram v obecném případě?

14. Nechť  $(A, \preceq)$  je uspořádaná množina. Definujme relaci  $\leq$  na  $A \times A$  takto:

$$(a, b) \leq (c, d) \iff a \prec c \vee (a = c \wedge b \preceq d).$$

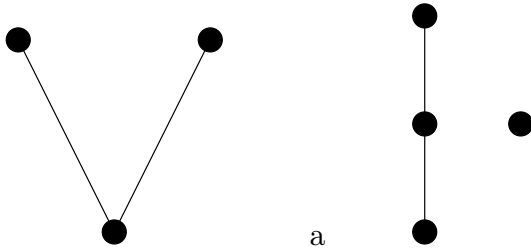
Dokažte, že  $\leq$  je uspořádání. Rozhodněte, kdy je lineární. Nakreslete hasseovský diagram pro množinu  $(\mathcal{P}(\{a, b\}), \subseteq)$ . Zobecněte tuto definici na konečný součin libovolných uspořádaných množin. (Hovoříme o lexikografickém součinu.)

15. Rozhodněte, která z následujících zobrazení jsou izotonní, respektive izomorfismy.

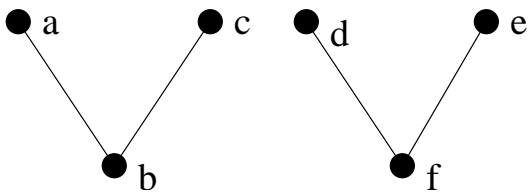
- (a)  $\mathbb{N} \longrightarrow \mathbb{N}, x \mapsto x + 1$
- (b)  $\mathbb{Z} \longrightarrow \mathbb{Z}, x \mapsto x + 1$
- (c)  $\mathbb{N} \longrightarrow \mathbb{N}, x \mapsto x^2$
- (d)  $\mathbb{Z} \longrightarrow \mathbb{Z}, x \mapsto x^2$
- (e)  $\mathbb{Z} \longrightarrow \mathbb{Z}, x \mapsto |x|$
- (f)  $\mathbb{N} \longrightarrow \mathbb{N}, x \mapsto 1$

- (g)  $\mathcal{P}(\{a, b\}) \longrightarrow \mathcal{P}(\{a, b, c\}), X \mapsto X$   
 (h)  $\mathcal{P}(\{a, b\}) \longrightarrow \mathcal{P}(\{a, b, c\}), X \mapsto X \cup \{c\}$

16. Najděte všechna izotonní zobrazení mezi uspořádanými množinami s diagramy:



17. Najděte všechny automorfismy (izomorfismy do sebe) uspořádané množiny s tímto diagramem.



18. Udejte příklad

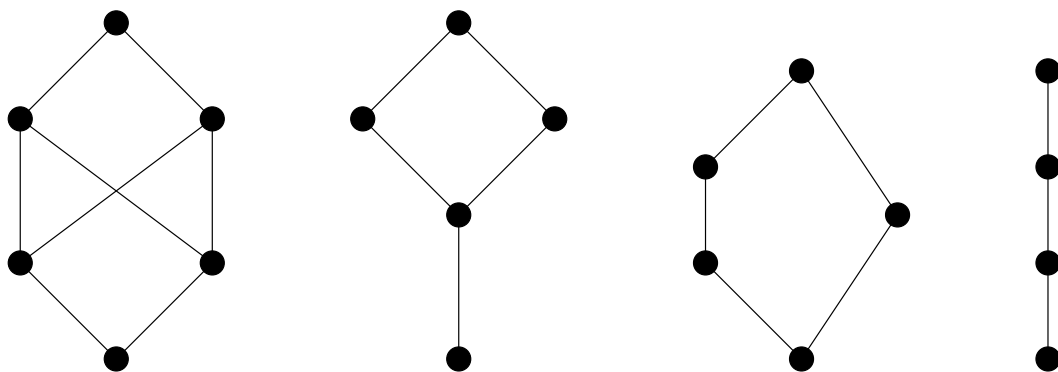
- (a) uspořádané množiny a izotonního bijektivního zobrazení množiny na sebe, jehož inverze není izotonní.  
 (b) automorfismu pětiprvkové množiny na sebe, který má právě tři pevné body

19. Najděte všechna izotonní zobrazení  $(\mathbb{Q}, \leq)$  do  $(\{0, 1\}, \leq)$ . Řekněte, čemu odpovídají.

20. Najděte všechny automorfismy  $\omega, \omega \times \omega, \mathbb{Z}, \mathbb{Z} \times \mathbb{Z}$  s obvyklým uspořádáním.

## 7 Úplné svazy

21. Rozhodněte, které z těchto uspořádaných množin jsou svazy.



22. Určete všechny pětiprvkové svazy.

23. Rozhodněte, zda následující uspořádané množiny  $(M, R)$  jsou svazy, respektive úplné svazy.

(a)  $M = \mathcal{P}(\{A\})$ ,  $A$  je libovolná množina,  $R$  je  $\subseteq$

(b)  $M$  je množina všech otevřených intervalů na reálné přímce společně s prázdnou množinou,  $R$  je  $\subseteq$

(c)  $A$  nekonečná,  $M$  je množina všech konečných podmnožin  $A$ ,  $R$  je  $\subseteq$

(d)  $M = \mathcal{P}(\{A\}) - \{\emptyset\}$ ,  $A$  je libovolná množina,  $R$  je  $\subseteq$

(e)  $M = \mathbb{N}$ ,  $R$  je  $|$

(f)  $M = \omega$ ,  $R$  je  $|$

(g)  $M = \mathbb{N}$ ,  $R$  je  $\leq$

(h)  $A$  nekonečná,  $M$  je množina všech podmnožin  $A$  s konečným doplňkem,  $R$  je  $\subseteq$

(i)  $M$  je množina všech ekvivalencí na  $A$ ,  $A$  je libovolná množina  $R$  je  $\subseteq$

24. Dokažte, že jsou-li  $(A, \leq)$  a  $(B, \sqsubseteq)$  svazy, pak součin uspořádaných množin  $A \times B$  (definovaný v příkladu 12) je svaz.

25. Nechť  $A$  je svaz. Dokažte, že pro libovolné  $a, b, c \in A$  platí:

(a)  $(a \wedge b) \vee (b \wedge c) \vee (c \wedge a) \leq (a \vee b) \wedge (b \vee c) \wedge (c \vee a)$

(b)  $a \leq c \Rightarrow a \vee (b \wedge c) \leq (a \vee b) \wedge c$

## 8 Základní algebraické struktury

1. Rozhodněte, zda daný grupoid je pologrupa, zda obsahuje neutrální prvek, nulový prvek, zda je to grupa a zda je operace komutativní.

- (a) Celá čísla s operací sčítání.
- (b) Reálná čísla s operací násobení.
- (c) Celá čísla s operací odečítání.
- (d) Přirozená čísla s operací největší společný dělitel.

2. Pro množinu  $X$  značíme  $P(X)$  množinu všech podmnožin množiny  $X$ . Pro následující operace určete, zda grupoid  $P(X)$  je pologrupou, zda je operace komutativní a nalezněte neutrální prvek.

- (a) Průnik.
- (b) Sjednocení.
- (c) Množinový rozdíl. ( $Y - Z = \{x \in Y \mid x \notin Z\}$ )
- (d) Symetrický rozdíl. ( $Y \div Z = (Y - Z) \cup (Z - Y)$ )

3. Určete, zda operace na tříprvkové množině  $\{a, b, c\}$  daná tabulkou je komutativní, asociativní a zda má neutrální prvek.

(a)

$\circ$	$a$	$b$	$c$
$a$	$b$	$a$	$a$
$b$	$a$	$b$	$a$
$c$	$a$	$a$	$a$

(b)

$\circ$	$a$	$b$	$c$
$a$	$b$	$a$	$a$
$b$	$a$	$b$	$c$
$c$	$a$	$c$	$a$

(c)

$\circ$	$a$	$b$	$c$
$a$	$a$	$a$	$a$
$b$	$b$	$b$	$b$
$c$	$c$	$c$	$c$

4. Uvažme na množině  $\mathcal{P}(X \times X)$  všech relací na množině  $X$  operaci  $\circ$  definovanou vztahem

$$\rho \circ \pi = \{(x, y) \in X \times X \mid \exists z \in X : (x, z) \in \pi, (z, y) \in \rho\}.$$

Ukažte, že  $\circ$  je asociativní. Určete neutrální a nulový prvek. Rozhodněte, zda  $(S, \circ)$ , kde  $S = \{\rho \in \mathcal{P}(X \times X) \mid \rho \text{ symetrická}\}$ , je grupoid. Rozhodněte, zda  $(T, \circ)$ , kde  $T = \{\rho \in \mathcal{P}(X \times X) \mid \rho \text{ tranzitivní}\}$ , je grupoid.

5. Pro množinu  $X$  označme  $T(X)$  množinu všech transformací, tj.  $T(X) = \{f : X \rightarrow X\}$ , a  $PT(X)$  množinu všech parciálních transformací, tj.

$$PT(X) = \{\rho \in X \times X \mid \forall x, y, z \in X : x\rho y, x\rho z \implies y = z\}.$$

Ukažte, že  $(T(X), \circ)$  resp.  $(PT(X), \circ)$ , kde  $\circ$  je operace skládání zobrazení, resp. skládání relací, jsou monoidy. Pro danou množinu transformací (resp. parciálních transformací) určete, zda společně s operací skládání zobrazení tvoří grupoid, pologrupu, či grupu. (Pozor: odpovědi se mohou lišit v případech kdy  $X$  je jednoprvková, resp. konečná, resp. nekonečná.)

- (a) Všechna injektivní zobrazení.



- (b) Všechna surjektivní zobrazení.
- (c) Všechna bijektivní zobrazení.
6. Uvažujme množinu  $\mathcal{O} = \{(a, b) \mid a, b \in \mathbb{R}, a < b\} \cup \{\emptyset\}$  všech omezených otevřených intervalů reálných čísel. Ukažte, že průnik  $\cap$  je operací na této množině. Rozhodněte, zda je operace  $\cap$  asociativní a zda existuje neutrální a nulový prvek. Je  $(\mathcal{O}, \cap)$  grupa?
7. Rozhodněte, zda daný grupoid  $(G, \circ)$  je grupa.
- (a)  $G$  je množina všech nenulových racionálních čísel a operace  $\circ$  je dána předpisem  $x \circ y = |x \cdot y|$ .
- (b)  $G$  je interval  $(0, 1)$  a operace  $\circ$  je dána předpisem  $x \circ y = x + y - [x + y]$ , kde  $[z]$  značí celou část z čísla  $z$ , tj. největší celé číslo menší nebo rovno  $z$ .
- (c)  $G$  je množina všech celých čísel a operace  $\circ$  je dána předpisem  $x \circ y = x + (-1)^x y$ .
- (d)  $G$  je množina všech uspořádaných dvojic reálných čísel, přičemž první z nich není 0, tj.  $G = \{(x, y) \mid x, y \in \mathbb{R}, x \neq 0\}$  a operace  $\circ$  je dána předpisem  $(x, y) \circ (u, v) = (xu, xv + y)$ .
- (e)  $G$  je množina všech komplexních čísel, jejichž reálná i imaginární část je celočíselná a operace  $\circ$  je sčítání komplexních čísel.
8. (a) Dokažte, že v libovolné grupě platí tzv. zákony o krácení

$$ab = ac \implies b = c, \quad ba = ca \implies b = c.$$

- (b) Udejte příklad (nekonečné) pologrupy, která není grupou, ale platí v ní zákony o krácení.
- (c) Udejte příklad tříprvkového grupoidu, který není grupou, ale platí v něm zákony o krácení. Ukažte, že grupoid není pologrupou.
- (d) Nalezněte všechny tříprvkové grupy.
- (e) Nalezněte všechny čtyřprvkové grupy.
9. Pro dané množiny matic typu 2 krát 2 nad reálnými čísly rozhodněte, zda je sčítání, resp. násobení, matic operací na této množině. Pokud se jedná o operaci, zjistěte, zda je operace asociativní či komutativní, zda obsahuje neutrální prvek, a zda se jedná o grupu.
- (a) Množina všech matic nad celými čísly.
- (b) Množina všech matic nad racionálními čísly.
- (c) Množina všech regulárních matic nad racionálními čísly.
- (d) Množina všech matic s nulou v levém dolním rohu a s jedničkami na hlavní diagonále.
- (e) Množina všech regulárních matic nad celými čísly.

Rozhodněte, zda je daná množina s operacemi sčítání a násobení matic okruhem, oborem integrity, či tělesem.

10. Uvažme následující množiny racionálních čísel:

$$A = \left\{ \frac{m}{p} \mid m, p \in \mathbb{Z}, p \neq 0, 3 \nmid p \right\}, \quad B = \left\{ \frac{q}{3^n} \mid n \in \mathbb{N}, q \in \mathbb{Z} \right\}.$$

Rozhodněte, zda  $(A, +, \cdot)$  (resp.  $(B, +, \cdot)$ ), kde operace  $+$  a  $\cdot$  jsou obvyklé sčítání a násobení racionálních čísel, je okruh, případně obor integrity. Jde-li o okruh, určete ke kterým prvkům existuje inverze.

11. Určete, zda je okruh  $(\mathbb{Z}_2, +, \cdot) \times (\mathbb{Z}_3, +, \cdot)$  oborem integrity. Je izomorfní s okruhem  $(\mathbb{Z}_6, +, \cdot)$ ?

12. Dokažte, že následující zobrazení jsou homomorfismy. Určete jejich jádra a obrazy. (Zde  $a, b \in \mathbb{R}, n \in \mathbb{N}$ .)

(a)  $\alpha : (\mathbb{R}, +) \rightarrow (\mathbb{R}^+, \cdot), \alpha(a) = 3^a$

(b)  $\beta : (\mathbb{Z}, +) \rightarrow (\mathbb{C}^*, \cdot), \beta(n) = i^n$

(c)  $\gamma : (\mathbb{C}^*, \cdot) \rightarrow (\mathbb{R}^+, \cdot), \gamma(a + bi) = \sqrt{a^2 + b^2}$

13. U každého z následujících předpisů (kde  $a, b \in \mathbb{Z}, p, q \in \mathbb{Z} - \{0\}$ ) rozhodněte, zda zadává zobrazení. Pokud ano, rozhodněte, zda se jedná o homomorfismus či dokonce izomorfismus grup.

(a)  $\alpha : (\mathbb{Z}_4, +) \times (\mathbb{Z}_3, +) \rightarrow (\mathbb{Z}_{12}, +), \alpha([a]_4, [b]_3) = [6a + 4b]_{12}$

(b)  $\beta : (\mathbb{Z}_4, +) \times (\mathbb{Z}_3, +) \rightarrow (\mathbb{Z}_{12}, +), \beta([a]_4, [b]_3) = [a - b]_{12}$

(c)  $\gamma : (\mathbb{Q}^*, \cdot) \rightarrow (\mathbb{Q}^*, \cdot), \gamma(p/q) = q/p$

(d)  $\delta : (\mathbb{Z}_{15}, +) \rightarrow (\mathbb{Z}_5, +) \times (\mathbb{Z}_3, +), \delta([a]_{15}) = ([a]_5, [a]_3)$

(e)  $\epsilon : (\mathbb{Z}_2, +) \times (\mathbb{Z}_5, +) \rightarrow (\mathbb{Z}_{10}, +), \epsilon([a]_2, [b]_5) = [a + b]_{10}$

(f)  $\zeta : (\mathbb{Z}_4, +) \rightarrow (\mathbb{C}^*, \cdot), \zeta([a]_4) = i^a$

(g)  $\eta : (\mathbb{Z}_5, +) \rightarrow (\mathbb{C}^*, \cdot), \eta([a]_5) = i^a$

(h)  $\theta : (\mathbb{Z}, +) \rightarrow (\mathbb{Z}_3, +), \theta(a) = [a]_3$

(i)  $\iota : (\mathbb{Z}, +) \rightarrow (\mathbb{Z}_2, +), \iota(a) = [a]_2$

14. Určete jádra a obrazy homomorfismů z předchozího příkladu.

15. Uvažme grupu  $(G, \cdot)$  matic typu 3 krát 3 nad  $\mathbb{Z}$ , které jsou v horním trojúhelníkovém tvaru s jedničkami na hlavní diagonále, tj.

$$G = \left\{ \begin{pmatrix} 1 & a & b \\ 0 & 1 & c \\ 0 & 0 & 1 \end{pmatrix} \mid a, b, c \in \mathbb{Z} \right\},$$

kde  $\cdot$  je násobení matic. Definujme nyní zobrazení  $f : (G, \cdot) \rightarrow (\mathbb{Z}, +)$ , které matici

$$\begin{pmatrix} 1 & a & b \\ 0 & 1 & c \\ 0 & 0 & 1 \end{pmatrix}$$

přiřadí číslo  $a - c$ . Dokažte, že zobrazení  $f$  je homomorfismus grup.

16. Uvažme zobrazení  $f : \mathbb{C} \rightarrow \mathbb{R}$  definované takto:  $f(a+bi) = a+b$  pro  $a, b \in \mathbb{R}$ . Rozhodněte, zda je  $f$  homomorfismus okruhu  $(\mathbb{C}, +, \cdot)$  do okruhu  $(\mathbb{R}, +, \cdot)$ .
17. Buď  $\mathbb{Q}(\sqrt{3}) = \{a + b\sqrt{3} \mid a, b \in \mathbb{Q}\}$ . Ukažte, že  $(\mathbb{Q}(\sqrt{3}), +, \cdot)$  je těleso. Dokažte, že libovolný okruhový homomorfismus  $\alpha : \mathbb{Q}(\sqrt{3}) \rightarrow \mathbb{C}$  je identický na množině racionálních čísel, tj.  $\forall r \in \mathbb{Q} : \alpha(r) = r$ . Popište všechny okruhové homomorfismy  $\alpha : \mathbb{Q}(\sqrt{3}) \rightarrow \mathbb{C}$ . Které z nich jsou izomorfismy?

## 9 Kombinatorika

1. Buď  $n$  přirozené číslo. Čtverec o straně  $n$  je rozdělen rovnoběžkami se stranami na  $n^2$  jednotkových čtverců. Kolik je v daném obrazci čtverců.
2. Kolika způsoby lze z úplného souboru domina (28 kostek) vybrat dvě tak, abychom je mohli přiložit k sobě (tedy aby se nějaký počet ok vyskytoval zároveň na obou kostkách)?
3. Na schůzi má promluvit pět řečníků  $A, B, C, D, E$  (každý právě jednou).
  - (a) Určete počet všech možných pořadí jejich vystoupení.
  - (b) Určete počet všech možných pořadí jejich vystoupení, má-li řečník  $B$  promluvit bezprostředně po  $A$ .
  - (c) Určete počet všech možných pořadí jejich vystoupení, má-li řečník  $B$  promluvit až poté, co promluvil řečník  $A$ .
4. Kolik čtyřciferných přirozených čísel s navzájem různými ciframi lze sestavit z cifer
  - (a) 1, 2, 3, 4
  - (b) 1, 2, 3, 4, 5, 6
  - (c) 0, 1, 2, 3, 4, 5

Kolik z nich je sudých? Kolik z nich je dělitelných čtyřmi?

5. V rovině je dáno 6 různých bodů, z nichž žádné tři neleží v jedné přímce. Kolik přímek tyto body určují.
6. Ze skupiny 7 chlapců a 4 dívek je třeba vybrat šestičlenné volejbalové družstvo, v němž musí být aspoň dvě dívky. Kolika způsoby to lze učinit?
7. Kolik značek Morseovy abecedy je možné vytvořit, sestavujeme-li tečky a čárky do skupin o jednom až čtyřech prvcích?
8. Pro osm studentů je připraveno v koleji ubytování ve 3 pokojích, z nichž dva jsou třílůžkové, jeden dvoulůžkový. Kolik je způsobů rozdělení studentů do jednotlivých pokojů?
9. Dokažte binomickou větu: pro libovolné  $n \in \mathbb{N}$ ,  $a, b \in \mathbb{R}$  platí

$$(a + b)^n = \sum_{i=0}^n \binom{n}{i} a^i b^{n-i}.$$

10. Mezi 6 dětí rozdělujeme 15 (stejných) tenisových míčků. Určete počet všech možných rozdělení. Určete počet všech rozdělení, při kterých každé dítě dostane aspoň jeden míček.
11. Pro libovolné pevné  $k, n \in \mathbb{N}$  určete počet všech řešení rovnice

$$x_1 + x_2 + \cdots + x_k = n$$

v množině celých nezáporných čísel (resp. v množině přirozených čísel).

12. Pro libovolné pevné  $k, n \in \mathbb{N}$  určete počet všech řešení nerovnice

$$x_1 + x_2 + \cdots + x_k \leq n$$

v množině celých nezáporných čísel (resp. v množině přirozených čísel).

13. Pro daná čísla  $n, k \in \mathbb{N}$  určete počet  $k$ -členných posloupností celých čísel  $(a_1, a_2, \dots, a_k)$  splňujících podmínku  $1 \leq a_1 \leq a_2 \leq \cdots \leq a_k \leq n$ .

14. Určete počet všech kladných dělitelů přirozeného čísla  $n$ .

15. V oddělení výzkumného ústavu pracuje několik osob, z nichž každá zná aspoň jeden z těchto tří světových jazyků — angličtinu, němčinu nebo francouzštinu. Šest osob ovládá angličtinu, šest němčinu a sedm francouzštinu, 4 osoby hovoří anglicky i německy, 3 osoby německy i francouzsky, 2 osoby francouzsky i anglicky, jeden pracovník ovládá všechny tři uvedené jazyky.

- (a) Kolik osob pracuje v oddělení?
- (b) Kolik z nich hovoří pouze anglicky?
- (c) Kolik z nich hovoří pouze francouzsky?

16. Kolika způsoby můžeme posadit do řady 3 Angličany, 3 Francouze a 3 Němce tak, aby žádní tři krajané neseděli vedle sebe.

17. Buďte  $n$  a  $k$  přirozená čísla taková, že  $k \leq n$ . Nechť dále  $A = \{1, 2, \dots, n\}$ ,  $B = \{1, 2, \dots, k\}$ . Určete počet všech:

- (a)  $k$  prvkových podmnožin množiny  $A$ ,
- (b) podmnožin množiny  $A$ ,
- (c) zobrazení množiny  $A$  do množiny  $B$ ,
- (d) bijekcí  $A$  na sebe,
- (e) injektivních zobrazení množiny  $B$  do množiny  $A$ ,
- (f) surjektivních zobrazení množiny  $A$  na množinu  $B$ ,
- (g) zobrazení podmnožiny množiny  $A$  do množiny  $B$ ,
- (h) izotonních zobrazení uspořádané množiny  $(A, \leq)$  do uspořádané množiny  $(B, \leq)$ , kde  $\leq$  je uspořádání dle velikosti,
- (i) relací na množině  $A$ ,

- (j) reflexivních relací na množině  $A$ ,
- (k) symetrických relací na množině  $A$ ,
- (l) antisymetrických relací na množině  $A$ ,

Výsledky:

1)  $\sum_{i=1}^n i^2 = \frac{n(n+1)(2n+1)}{6}$ ; 2) 147; 3) 120, 24, 60; 4) 24, 360, 300; 12, 180, 156; 6, 96; 5) 15; 6) 371; 7) 30; 8) 560; 10)  $\binom{20}{5}$ ,  $\binom{14}{5}$ ; 11)  $\binom{n+k-1}{k-1}$ , pro  $k \leq n$ :  $\binom{n-1}{k-1}$ , jinak 0; 12)  $\binom{n+k}{k}$ , pro  $k \leq n$ :  $\binom{n}{k}$ , jinak 0; 13)  $\binom{n+k-1}{k}$ ; 14) Pokud  $n = p_1^{\alpha_1} \cdot p_2^{\alpha_2} \cdots p_k^{\alpha_k}$  je jednoznačný rozklad na prvočinitele (tj.  $p_1, \dots, p_k$  jsou různá prvočísla a  $\alpha_1, \dots, \alpha_k \in \mathbb{N}$ ), pak počet dělitelů je  $(\alpha_1 + 1) \cdot (\alpha_2 + 1) \cdots (\alpha_k + 1)$ ; 15) 11, 1, 3; 16)  $9! - \binom{3}{1} \cdot 3!7! + \binom{3}{2} \cdot (3!)^2 \cdot 5! - (3!)^4 = 283824$