

GRAFOVÉ ALGORITMY

2004/2005 - 1. termín

1. Tranzitivní obal.

Konečná uspořádaná množina $\mathcal{P} = (P, \leq)$ je zadána pomocí relace pokrývání \prec . Výpočet relace \leq algoritmem Floyd – Warshall vezme čas

Simonův algoritmus.

Nechť $n = |P|$, $c = |\prec|$, $o = |\leq|$. Nechť množina P je reprezentována seznamem odpovídajícím nějakému topologickému uspořádání grafu (P, \prec) . Nechť $ord[x] = i$ značí, že $x \in P$ je zde i -tým prvkem. Pro každé $x \in P$ máme vypočítat seznam $F[x]$ reprezentující množinu $f(x) = \{y \in P \mid x \leq y\}$.

Nechť $U[x]$ je seznam reprezentující množinu $u(x) = \{y \in P \mid x \prec y\}$. Nechť množina P je sjednocením po dvou disjunktních řetězců C_1, \dots, C_k , nechť $C[x] = j$ značí, že $x \in C_j$.

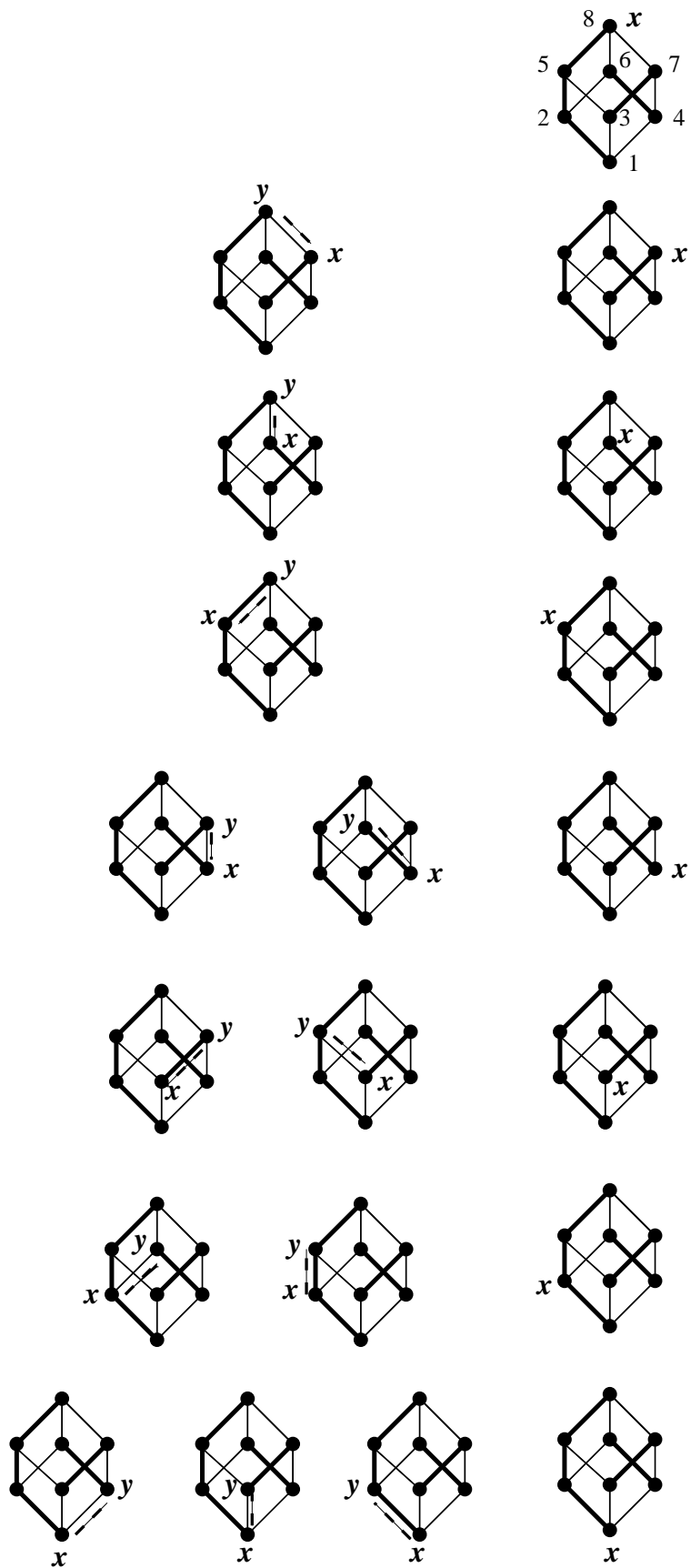
První položku seznamu S značíme *first* S .

Doplňte následující algoritmus. Dokažte jeho korektnost a odhadněte jeho složitost vzhledem k parametrům n, k, c, o .

```
1 invertujeme seznam  $P$ , nechť vznikne seznam  $S$ 
2 for  $x \in S$ ,  $j = 1, \dots, k$  do  $G[j, x] \leftarrow \emptyset$  endfor
3 for  $x \in S$  do
4   for  $y \in U[x]$  do
5     for  $j = 1, \dots, k$  do
6       if ..... then
7          $G[j, x] \leftarrow G[j, y]$ 
8       endif
9     endfor
10  endfor
11   $push(x, G[C[x], x])$ 
12 endfor
13 for  $x \in S$  do  $F[x] \leftarrow \emptyset$  endfor
14 for  $x \in S$  do
15   for  $j = 1, \dots, k$  do
16      $F[x] \leftarrow G[j, x] \cup F[x]$ 
17   endfor
18 endfor
```

Nechť $g(j, x)$ je jistá podmnožina množiny C_j reprezentovaná seznamem $G[j, x]$.

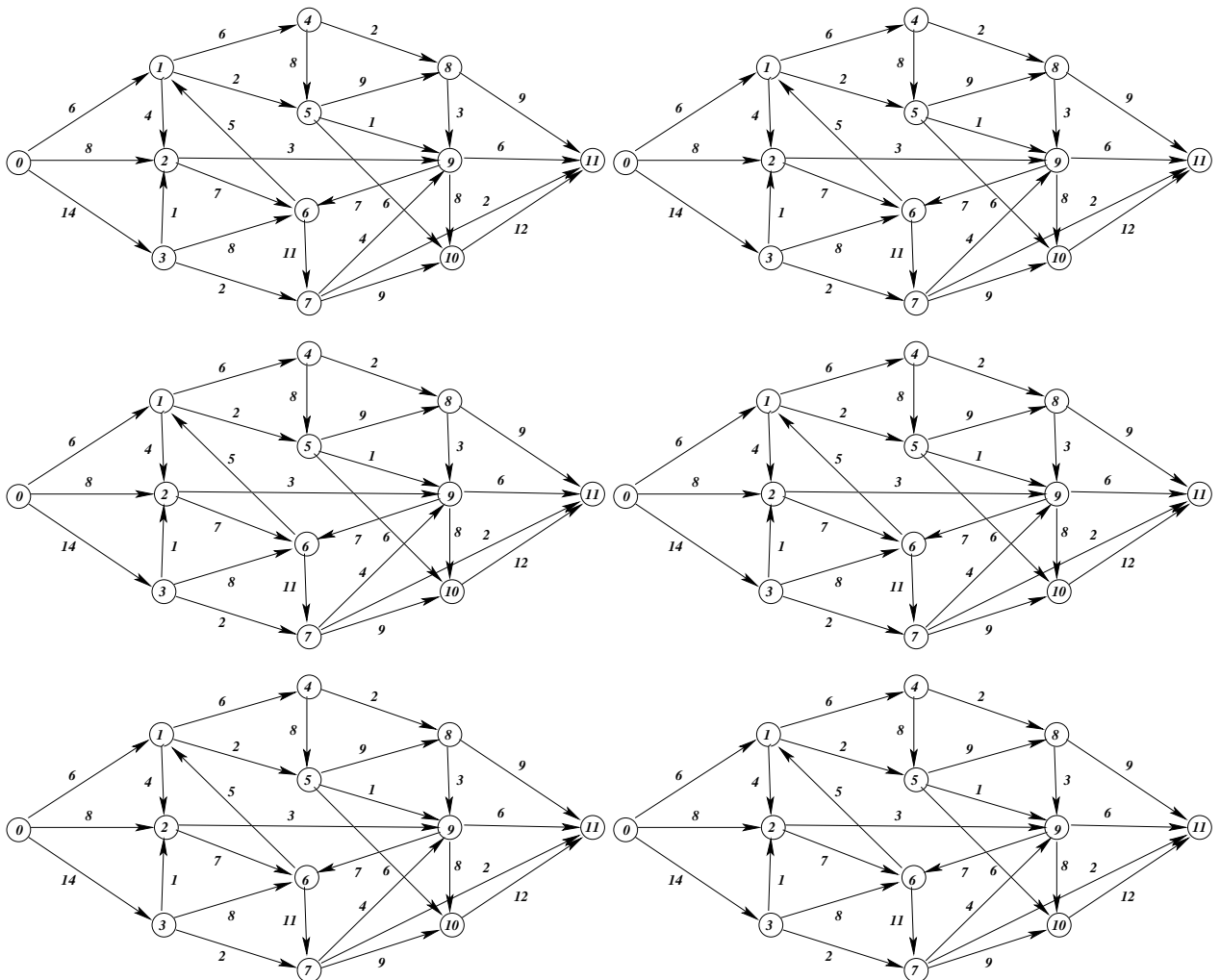
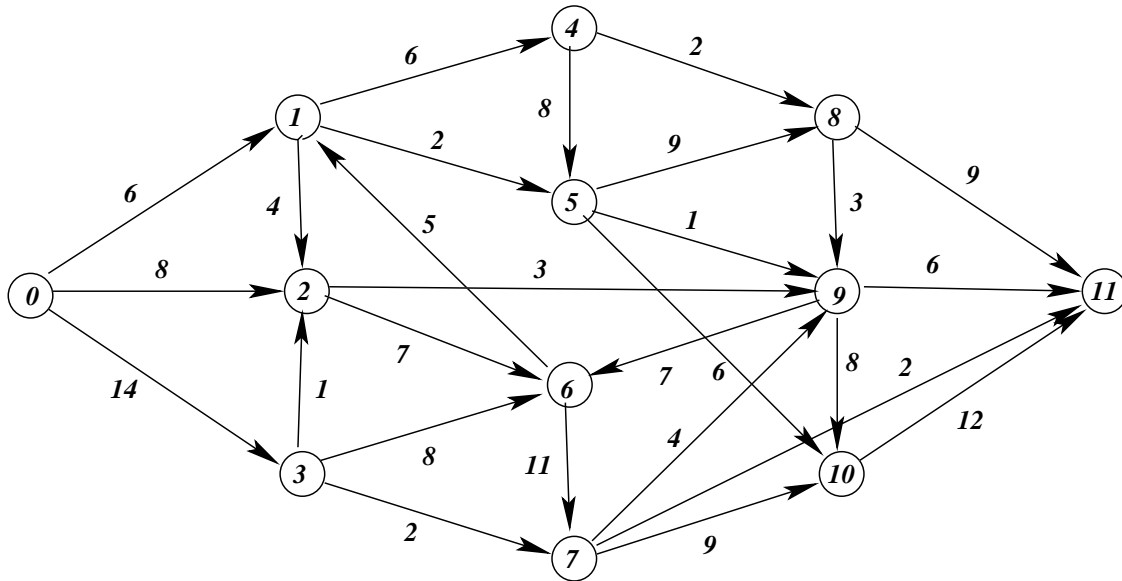
Na připravených diagramech uveďte stav množin $g(j, x)$ v okamžicích l. 10 a l. 12. Máme $C_1 = \{1, 2, 5, 8\}$, $C_2 = \{3, 7\}$, $C_3 = \{4, 6\}$ a topologické uspořádání množiny P je $(1, 2, \dots, 8)$.



I když se vám nepodaří “trefit” podmínku z l. 6, můžete dostat body za odhad složitosti. Předpokládejte, že její ověření vezme konstantní čas.

2. Toky v sítích

Na síti z obrázku se zdrojem 0 a cílem 11 najděte maximální tok. Podejte důkaz jeho maximálnosti.



GRAFOVÉ ALGORITMY

2004/2005 - 2. termín

1. Rozklad uspořádané množiny na řetězce.

Konečná uspořádaná množina $\mathcal{P} = (P, \leq)$ je zadána pomocí relace pokrývání \prec . Necht $U[x]$ je seznam reprezentující množinu $u(x) = \{y \in P \mid x \prec y\}$. Necht $n = |P|$, $c = |\prec|$. Necht množina P je reprezentována seznamem odpovídajícím nějakému topologickému uspořádání grafu (P, \prec) .

Pro $x \in P$ máme spočítat $C[x] \in \{1, \dots, k\}$ dávající rozklad množiny P na neprázdné řetězce $C_j = \{x \in P \mid C[x] = j\}$, $j \in \{1, \dots, k\}$.


Pro $x \in P$ je význam $Z[x] \in \{0, 1\}$ “nezařazeno”/“zařazeno”. Necht množina l “kandidátů” je reprezentována seznamem L .

První položku seznamu S značíme *first S*. Neprázdný seznam S ochuzený o první položku značíme *rest S*.

Doplňte následující algoritmus.

```
1  $j \leftarrow 1$ 
2 for  $x \in P$  do  $Z[x] \leftarrow 0$  endfor
3 for  $x \in P$  do
4   if  $Z[x] = 0$  then
5      $C[x] \leftarrow j$ 
6      $Z[x] \leftarrow 1$ 
7      $L \leftarrow U[x]$ 
8     while  $L \neq \emptyset$  do
9        $y \leftarrow \text{first } L$ 
10      if  $Z[y] = 0$  do
11
12
13
13'
14      else
15
16      endif
17    endwhile
18     $j \leftarrow j + 1$ 
19  endif
20 endfor
```

Na připravených diagramech uveďte každou změnu množiny l společně s číslem řádku, na němž ke změně došlo. Topologické uspořádání množiny P je $(1, 2, \dots, 8)$. Seznamy $U[x]$ respektují toto uspořádání.



Dokažte jeho korektnost. Důkaz může vypadat např. takto :

1. Každé C_j je neprázdný řetězec :

2. $\bigcup_{j=1,\dots,k} C_j = P$:

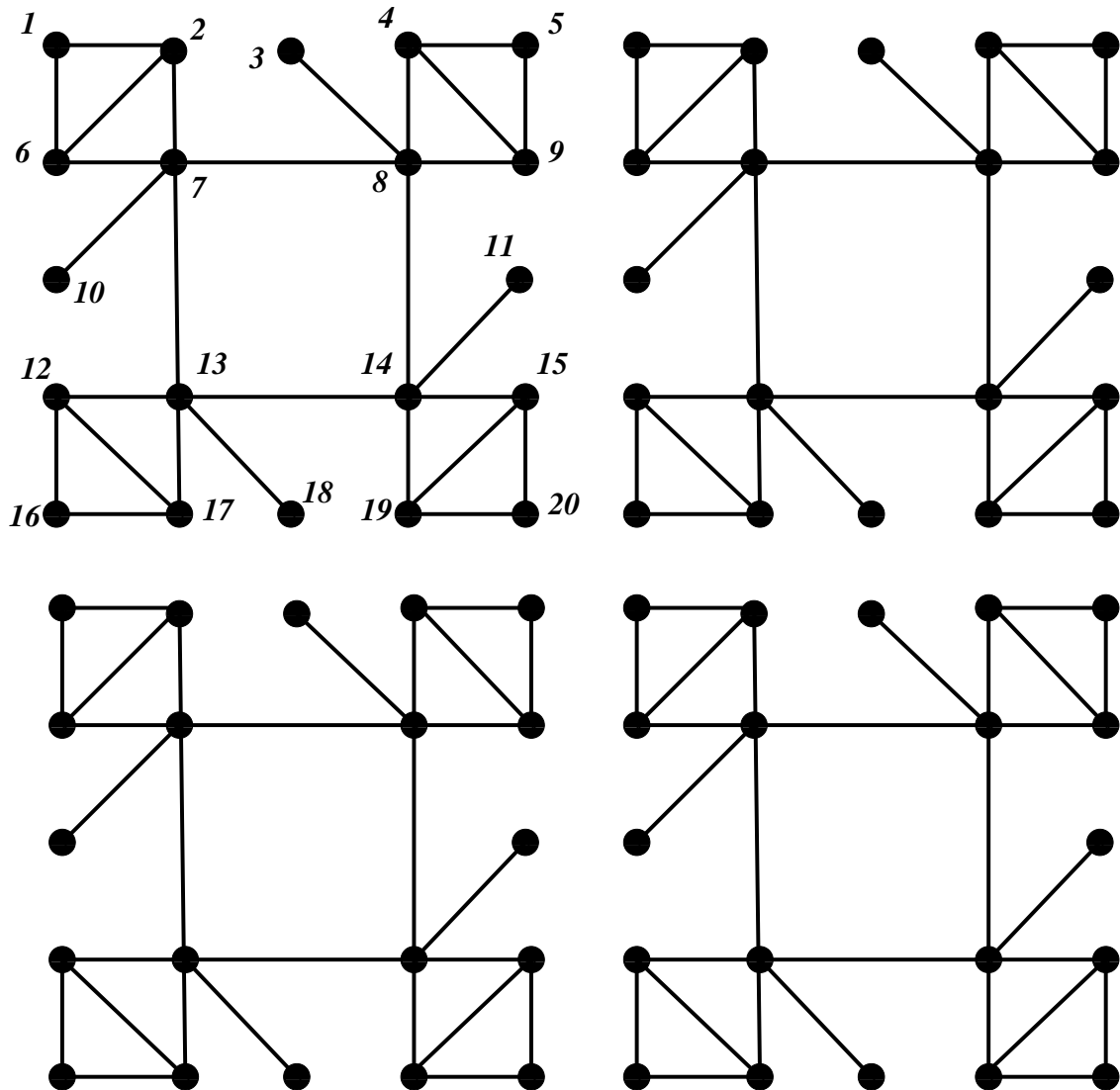
3. Pro $j \neq j'$ je

Bedlivě odhadněte složitost vašeho algoritmu vzhledem k parametrům n, c . Odhadněte též c pomocí n a uveďte složitost algoritmu vzhledem k n . I když se vám nepodaří “trefit” příkazy z l., můžete dostat body za odhad složitosti. Předpokládejte, že každý z těchto příkazů vezme konstantní čas.

Konečně poznamenejte, co by se stalo, kdyby množina P nebyla topologicky uspořádaná.

2. Párování.

- a) Ukažte, že níže uvedený graf $G = (\{1, \dots, 20\}, \dots)$ není bipartitní.
 b) Najděte v našem grafu maximální párování.



GRAFOVÉ ALGORITMY

2004/2005 - 3. termín

1. Výpočet relace pokrývání.

Konečná uspořádaná množina $\mathcal{P} = (P, \leq)$ je zadána pomocí matice určující relaci \leq (pro $x, y \in P$ v konstantním čase zjistíme zda $x \leq y$ či nikoliv). Sama množina P je reprezentována seznamem odpovídajícím nějakému topologickému uspořádání grafu (P, \leq) .

Úkolem je spočítat seznamy $U[x]$, $x \in P$, reprezentující množiny

$$u(x) = \{y \in P \mid x \prec y\}.$$

První položku seznamu S značíme $first\ S$. Neprázdný seznam S ochuzený o první položku značíme $rest\ S$. Doplňte následující algoritmus.

```
1  $Q \leftarrow P$ 
2 for  $a \in P$ 
3    $Q \leftarrow rest\ Q$ 
4    $S \leftarrow \emptyset$ 
5   for  $x \in Q$  do
6     if  $a \leq x$  then
7        $T \leftarrow S$ 
8       while  $T \neq \emptyset$  and  $first\ T \dots \dots \dots$  do
9         .....
10      endwhile
11      if  $T = \emptyset$  then  $push(x, S)$  endif
12    endif
13  endfor
14   $U[a] \leftarrow S$ 
15 endfor
```

Konkrétní případ : Matice relace \leq je níže (na pozici (x, y) je 1 právě když $x \leq y$). Topologické uspořádání je $(1, 2, \dots, 8)$.

	1	2	3	4	5	6	7	8
1	1	1	1	1	1	1	1	1
2	0	1	0	0	1	1	0	1
3	0	0	1	0	1	0	1	1
4	0	0	0	1	0	1	1	1
5	0	0	0	0	1	0	0	1
6	0	0	0	0	0	1	0	1
7	0	0	0	0	0	0	1	1
8	0	0	0	0	0	0	0	1

Do připravené tabulky uveďte všechny změny proměnných x , S , T v části výpočtu, kde $a = 1$.

2. Libovolný prvek zařazovaný do S pokrývá a .

Nechť $n = |P|$, $c = |\leq|$. Odhadněte složitost našeho algoritmu. I když se vám nepodaří "treffit" formule/příkazy z l., můžete dostat body za odhad složitosti. Předpokládejte, že každý z těchto příkazů vezme konstantní čas.

2. Cirkulace

Nechť $V = \{1, \dots, n\}$ a nechť $G = (V, E)$ je orientovaný graf s ohodnocením hran $c : E \rightarrow \mathbb{R}$. V konkrétním příkladě uvedeném níže najdete maximální cirkulaci. Například můžete použít algoritmus:

Především každá cirkulace x určuje pomocný graf $G_x = (V, E_x)$ s ohodnocením hran w_x :

$$(i, j) \in E_x \iff ((i, j) \in E \ \& \ x_{ij} < c_{ij} \text{ nebo to neplatí a } (j, i) \in E \ \& \ x_{ji} > 0) .$$

Hrany prvního typu ohodnotíme -1 a hrany druhého typu 1 .

1. Začínáme s nulovou cirkulací.

2. **while** v (G_x, w_x) existuje záporná kružnice
do vybereme některou a zvětšíme podél ní cirkulaci.

Abyste se ve výpočtech vyznali, doporučuji např. cirkulace modře, hrany pomocného grafu s ohodnocením -1 zeleně, ty s ohodnocením 1 červeně, další barvu můžete použít pro záporné kružnice.

Hodnocení: nalezení maximální cirkulace 10 b. Důkaz maximality (např. pomocí některého algoritmu pro hledání záporných kružnic) dalších 10 b.

