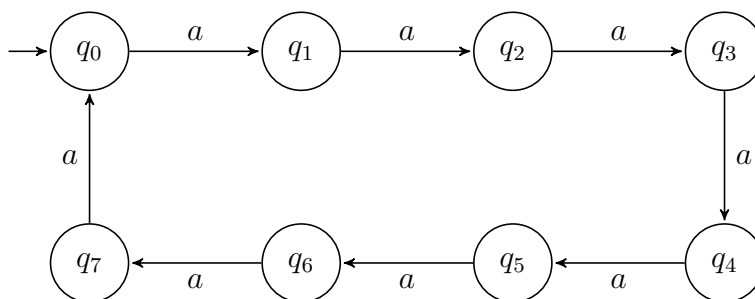


Vypracoval: James Bond

UČO: 007

Skupina: MI6

## 1. [2 body]

a) [1 bod] Mějme následující deterministický konečný automat  $\mathcal{A}$  nad abecedou  $\{a, b\}$ :

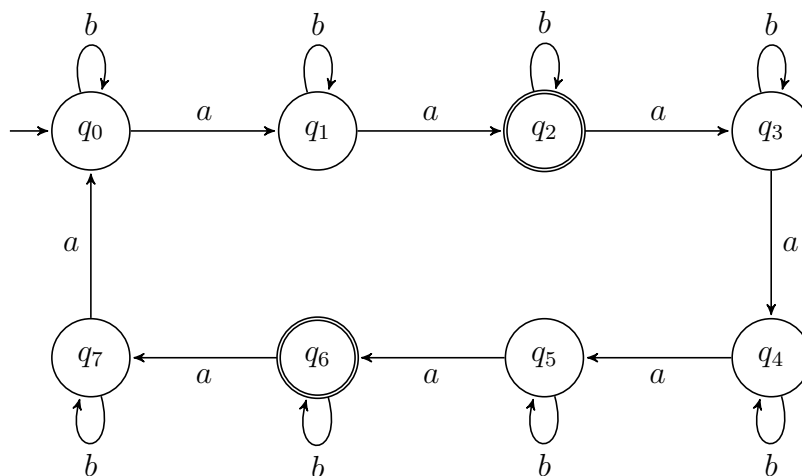
S použitím (libovolného, konečného počtu) níže uvedených *povolených úprav* (pouze a jen povolených úprav) změňte zadaný automat tak, aby akceptoval jazyk

$$L_a = \{w \in \{a, b\}^* \mid \#_a(w) \bmod 4 = 2\}.$$

*Povolené úpravy* jsou:

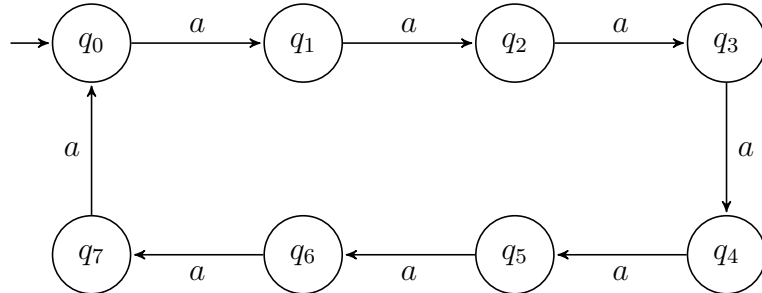
- přidávání libovolných přechodů pod  $b$ ,
- označování akceptujících stavů,

**Řešení:** V automatu je potřeba označit stavy  $q_2$  a  $q_6$  jako akceptující, tak, aby automat akceptoval jazyk  $\{w \in \{a\}^* \mid \#_a(w) \bmod 4 = 2\}$ . Dále je potřeba zařídit, aby automat uměl akceptovat i slova obsahující znaky  $b$ . Přítomnost nebo nepřítomnost znaků  $b$  ve slově neovlivňuje, jestli je slovo akceptováno nebo ne. Proto přechody pod  $b$  nemění stav automatu a jsou znázorněny jako smyčky.



- b) [1 bod] S použitím stejných *povolených úprav* jako u v zadání a) změňte následující automat nad abecedou  $\{a, b\}$  tak, aby akceptoval jazyk

$$L_b = \{w \in \{a, b\}^* \mid (\#_a(w) + 7 \cdot \#_b(w)) \bmod 4 = 0\}.$$



**Řešení:** Zadání jazyka nám říká, že každé  $b$  se započítává stejně jako  $7a$ , a že zbytek takto váženého součtu po dělení 4 má být 0. Každý čtvrtý stav tedy musíme označit jako akceptující a přechody pod  $b$  z každého stavu vést tam, kam vede sekvence sedmi přechodů pod  $a$ .

