

Matematika III, 9. cvičení

Pojmy k zopakování

- Cesta v grafu, sled
- Dijkstrův algoritmus, Bellman-Fordův algoritmus, Floyd-Warshallův algoritmus
- Vzdálenost vrcholů v neorientovaném grafu

Příklad 172. Kolik různých cest existuje v úplném grafu K_6 mezi dvěma různými vrcholy u a v ?

Výsledek. 16

Příklad 173. Kolik různých cest existuje v úplném grafu K_n mezi dvěma různými vrcholy u a v ?

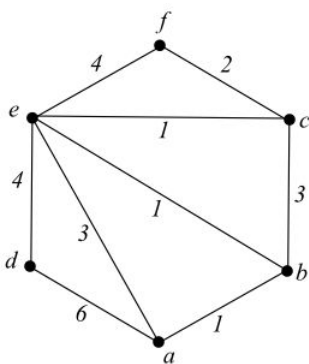
Výsledek. 2^{n-2}

Příklad 174. Dokažte, že vyskytuje-li se v uzavřeném sledu S některá hrana pouze jednou, tak sled S obsahuje cyklus.

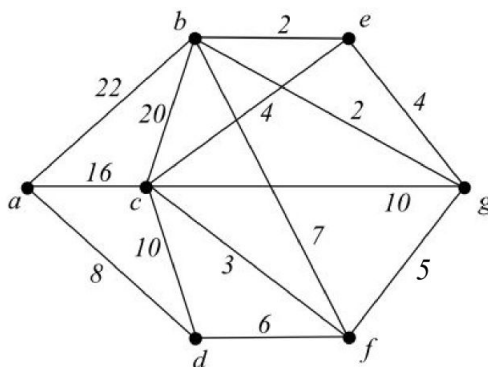
Příklad 175. Máme osmilitrovou nádobu s vínem a dvě prázdné nádoby – pětilitrovou a třilitrovou. Rozdělte osm litrů na čtyři a čtyři litry jen s užitím těchto nádob, bez použití odměrky. Úlohu namodelujte grafem a najděte nejkratší řešení a popište všechna přípustná řešení.

Nápověda: Sestrojte graf, kde uzly budou všechny stavy, které mohou v nádobách nastat.

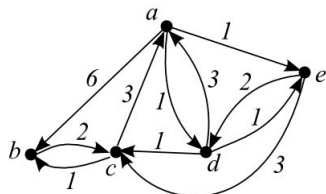
Příklad 176. V následujícím grafu pomocí Dijkstrova algoritmu najděte nejkratší cestu z vrcholu a do všech ostatních vrcholů.



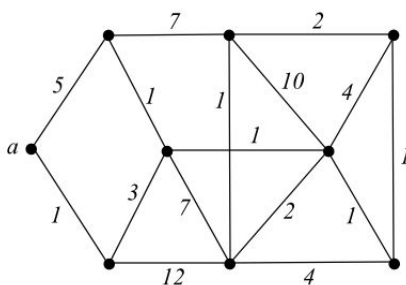
Příklad 177. V následujícím grafu pomocí Dijkstrova algoritmu najděte nejkratší cestu z vrcholu a do vrcholu g .



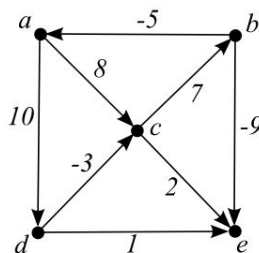
Příklad 178. V následujícím grafu pomocí Dijkstrova algoritmu najděte nejkratší cestu z vrcholu a do všech ostatních vrcholů.



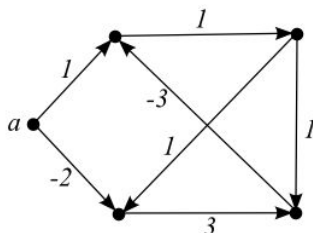
Příklad 179. V následujícím grafu pomocí Dijkstrova algoritmu najděte nejkratší cestu z vrcholu a do všech ostatních vrcholů.



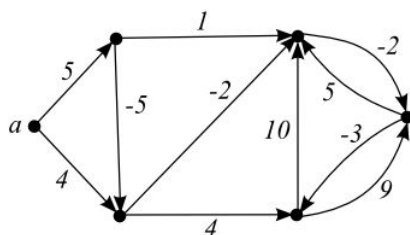
Příklad 180. V následujícím ohodnoceném grafu najděte nejkratší cesty z vrcholu a do všech ostatních vrcholů pomocí Bellman-Fordova algoritmu.



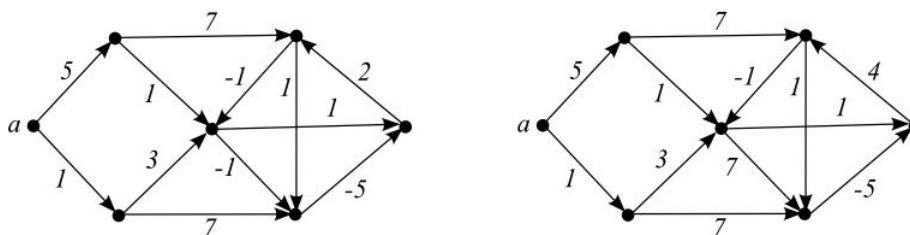
Příklad 181. V následujícím ohodnoceném grafu najděte nejkratší cesty z vrcholu a do všech ostatních vrcholů pomocí Bellman-Fordova algoritmu.



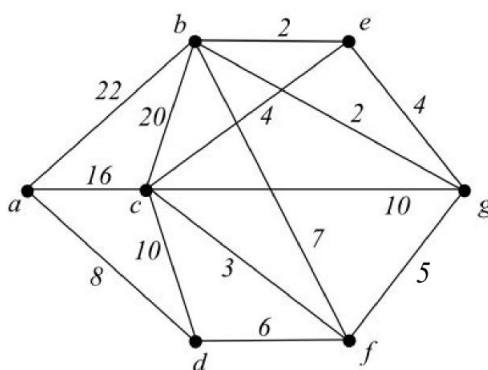
Příklad 182. V následujícím ohodnoceném grafu najděte nejkratší cesty z vrcholu a do všech ostatních vrcholů pomocí Bellman-Fordova algoritmu.



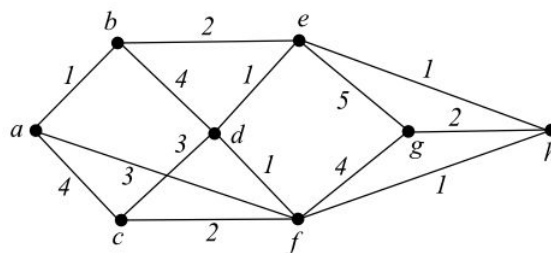
Příklad 183. V následujících ohodnocených grafech najděte nejkratší cesty z vrcholu a do všech ostatních vrcholů pomocí Bellman-Fordova algoritmu.



Příklad 184. V následujícím ohodnoceném grafu najděte vzdálenosti každých dvou vrcholů pomocí Floyd-Warshallova algoritmu.



Příklad 185. V následujícím ohodnoceném grafu najděte vzdálenosti každých dvou vrcholů pomocí Floyd-Warshallova algoritmu.



Příklad 186. Bude Dijkstrův algoritmus pracovat správně, pokud sice graf obsahuje hrany záporné délky, ale každý jeho cyklus má kladnou délku?

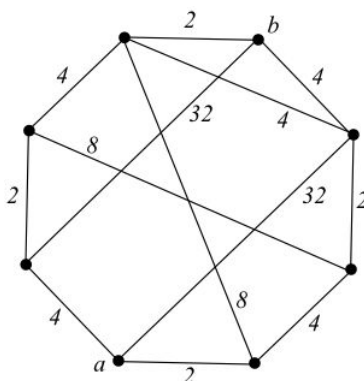
Výsledek. Ano

Příklad 187. Uvažujme následující algoritmus na hledání nejkratší cesty z vrcholu a do všech ostatních vrcholů v orientovaných grafech s obecným ohodnocením hran (tedy i záporným): Vezmeme dostatečně velkou konstantu a přičteme ji k ohodnocení každé hrany. Tím získáme nezáporné ohodnocení hran. Potom už můžeme použít Dijkstrův algoritmus. Nalezená nejkratší cesta bude stejná jako nejkratší cesta v grafu s původním ohodnocením.

Dokažte, že navrhovaná metoda funguje, nebo nalezněte protipříklad.

Příklad 188. Uveďte příklad ohodnoceného grafu na čtyřech vrcholech, na kterém selže Dijkstrův algoritmus.

Příklad 189. Je dán graf, jehož hrany jsou ohodnoceny kladnými čísly. Délka cesty se počítá jako součin ohodnocení hran ležících na cestě. Najděte nejkratší cestu z vrcholu a do vrcholu b .



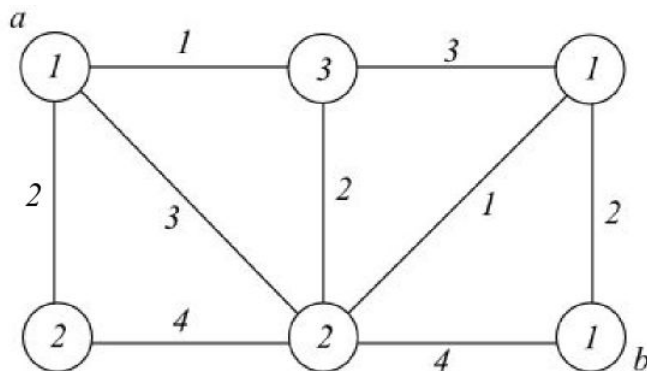
Nápověda: Převed'te součin na součet (logaritmus).

Příklad 190. Dostaneme ohodnocený orientovaný graf $G = (V; E)$, dvě neprázdné disjunktní množiny $A, B \subseteq V$. Najděte nejkratší cestu, která začíná ve vrcholu množiny A a končí ve vrcholu množiny B .

Nápověda: Převed'te tento problém na běžný problém nejkratší cesty.

Výsledek. Přidejme do grafu vrcholy u, v , přičemž ved'me navzájem stejně ohodnocené hrany z vrcholu u do vrcholů množiny A a stejně ohodnocené hrany z vrcholů množiny B do vrcholu v . Hledanou nejkratší cestou potom bude nejkratší cesta mezi vrcholy u, v .

Příklad 191. Mějme ohodnocený neorientovaný graf, kde kromě hran jsou ohodnoceny i vrcholy. Nalezněte cestu z vrcholu s do vrcholu t tak, aby součet hranových i vrcholových ohodnocení po této cestě byl co nejmenší.



Nápověda: Převed'te tento problém na běžný problém nejkratší cesty.

Výsledek. Zdvojneme každý z uzlů a mezi nimi ved'me hranu, která bude ohodnocená jako zdvojený vrchol.

Příklad 192. Jaká největší vzdálenost může být mezi dvěma vrcholy kružnice délky 9, jejíž hrany jsou ohodnoceny čísly $1, 2, \dots, 8, 9$ v libovolném pořadí?

Výsledek. 22

Příklad 193. Určete, kolik nejméně hran musíme přidat do grafu C_6 , aby vzdálenost mezi libovolnými dvěma vrcholy byla nejvýše 2.

Výsledek. 2

Příklad 194. *Určete, kolik nejvýše hran můžeme odebrat z K_5 (resp. K_6), aby vzdálenost mezi každými dvěma vrcholy byla menší nebo rovna dvěma.*

Výsledek. 5 (resp. 7)