

The background features several large, overlapping, colorful swirls in shades of purple, green, and blue. Scattered throughout are numerous small, yellow, triangular shapes, some pointing upwards and some downwards, resembling a sunburst or confetti effect.

Mezinárodní právo soukromé – 6.seminář

Mgr. Klára Svobodová

Příklad 1

Finská společnost NOKIA založená podle finského práva se sídlem v Tampere a česká společnost Mobil, s.r.o. založená podle českého práva se sídlem v Brně se slovenskými jednatelemi uzavřely dne 1. 10. 2006 smlouvu o dodávce 50 tis. kusů mobilních telefonů. Návrh předložila finská společnost jako prodávající a telefony měly být dodány do rakouské pobočky společnosti Mobil, s.r.o. Kupující zboží převzal, nicméně nebyl s jeho kvalitou spokojen, a tak nezaplatil. Prodávající tak kupujícího zažaloval.



Příklad 1

Smlouva obsahuje pro nás tyto zajímavé doložky:

- Tato smlouva se řídí českým právem. To neplatí pro následky porušení této smlouvy.
- Sjednává se limitace náhrady škody do výše 1 mil EUR.



The background features a decorative border on the left side with three balloons in green, blue, and purple, each with a string of yellow streamers and small yellow triangular flags.

Otázka 1

Za předpokladu, že český soud kvalifikuje předmětnou smlouvu jako smlouvu kupní v režimu Obchodního zákoníku, jakou kvalifikaci soud použil?



Odpověď na otázku 1

- Soud kvalifikoval podle českého hmotného práva -> použil svoje právo
 - Kvalifikace lex fori
- 
- 



A decorative graphic on the left side of the slide features three balloons: a green one at the top, a blue one in the middle, and a purple one at the bottom. Each balloon is attached to a streamer and has several small yellow triangles around it, resembling confetti or streamer tails.

Otázka 2

Jaké jiné druhy kvalifikace znáš?
Alespoň dva další druhy popiš
podrobněji.



Odpověď na otázku 2

- 1) kvalifikace lex fori
 - 2) kvalifikace lex causae
 - 3) kvalifikace prvotní a druhotná
 - 4) kvalifikace smluvní
 - 5) kvalifikace ad hoc
 - 6) kvalifikace autonomní
 - 7) kvalifikace funkční
- 
- 



Odpověď na otázku 2

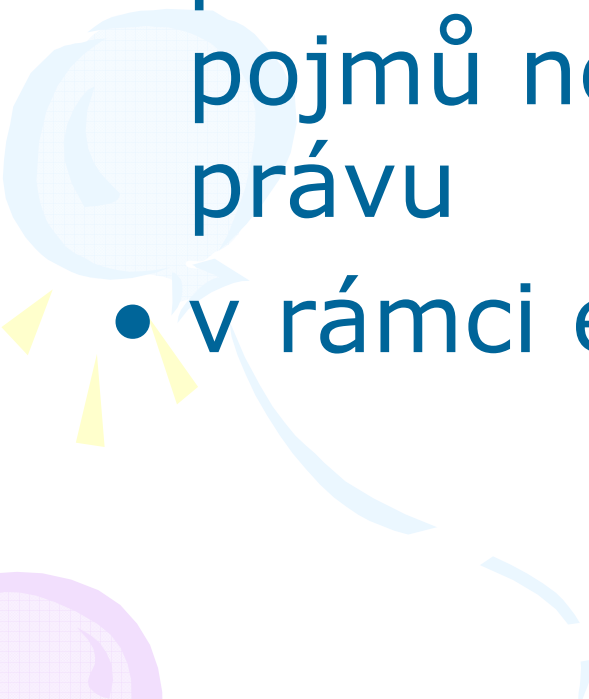

Kvalifikace lex causae

- tzv. hypotetický lex causae
- kvalifikace se provádí podle právního řádu, kterým se daný vztah řídí
- problém: provádím kvalifikaci podle něčeho, co mám teprve zjistit



Odpověď na otázku 2

Kvalifikace autonomní

- podle zvláštních mezinárodních pojmů nezávislých na národním právu
 - v rámci evropského práva
- 
- 

A decorative graphic on the left side of the slide features three balloons in light green, light blue, and light purple. Each balloon is attached to a streamer and has several small yellow triangles around it, resembling confetti or streamer ends.

Otázka 3

Urči právní režim smlouvy, posud'
doložku ad 1.



Odpověď na otázku 3

- Volba práva – s výjimkou následků porušení smlouvy
- Článek 3 ŘÚ -> české právo
- Následky porušení smlouvy
 - > článek 10/1 pís c) ŘÚ + článek 4/2 ŘÚ -> finské právo



Otázka 4

Urči obecně, co je to obligační statut a jaké mohou být jeho meze.



Odpověď na otázku 4

- Obligační statut = právní řád, kterým se řídí smluvní závazkový vztah
- Meze obligačního statutu
 - ✓ Způsobilost stran k právům a právním úkonům
 - ✓ Věcněprávní účinky smlouvy
 - ✓ Materiální platnost smlouvy
 - ✓ Formální platnost smlouvy
 - ✓ Článek 10/1



Otázka 5

Posud' situaci, kdy bude napadena platnost doložky limitující náhradu škody.



Odpověď na otázku 5

- Platnost ustanovení smlouvy
- Článek 8/1 ŘÚ -> obligační statut
- Pro následky porušení smlouvy nesjednána volba práva =>
- Článek 4/2 – finské práva

Otázka 6

Posudte situaci, kdy dojde k započtení
– finská společnost si započte kupní
cenu vůči jiné pohledávce, kterou
proti ní má česká společnost.

A decorative graphic on the left side of the slide features three balloons in light green, light blue, and light purple, each with a white streamer. Small yellow triangles are scattered around the balloons, resembling confetti or streamer details.

Odpověď na otázku 6



- Započtení – zánik závazku
- Článek 10/1 pís d) ŘÚ -> obligační statut
- Článek 3 – české právo

Otázka 7

Určete personální statut všech zúčastněných subjektů.



Odpověď na otázku 7

- §3 ZMPS + §22 ObZ (inkorporační teorie)
 - > NOKIA – finské právo
 - > MOBIL – české právo
- 
- 

Příklad 2

Mark Mackenrodt s bydlištěm v Mnichově je dítětem Němce a české emigrantky. Má proto české i německé státní občanství. V roce 2000 se oženil s Annou Novákovou. V té době žili v Německu, tam se také dohodli na úpravě svého SJM. V roce 2002 se odstěhovali do Prahy, kde se jim narodil syn David. V roce 2006 Mark Mackenrodt rodinu opustil, vrátil se do Německa, kde nyní pracuje jako úředník v bance. Dítěti ani manželce, která přišla o zaměstnání, nic nepřispívá.



Otázka 1

Které občanství pana Mackenrodta je před českými soudy relevantní?



Odpověď na otázku 1

- §33/1 ZMPS
- České občanství je rozhodující



Otázka 2

Podle jakého právního řádu budete posuzovat společné jmění manželů Mackenrodtových?

A decorative graphic on the left side of the slide features three balloons in light green, light blue, and light purple, each with a white streamer. Small yellow triangles are scattered around the balloons, suggesting streamers or confetti. The background is white with a thin black border.

Odpověď na otázku 2

- §21/2 ZMPS – smluvená úprava SJM
– rozhodná doba rok 2000
- §21/1 ZMPS – české právo



Otázka 3

Jaký právní řád je rozhodný pro posouzení výživného nezletilého Davida Mackenrodta?



Odpověď na otázku 3

- §21/1 věta první – státní příslušnost dítěte
 - > D.M. má dvojí státní příslušnost
 - > §33/1 – relevantní je české občanství
 - české právo
 - !!! Připravuje se nařízení o výživném



Otázka 4

Podle jakého práva posoudíte nárok na výživné pro paní Annu Mackenrodtovou?



Odpověď na otázku 4

- Výživné – majetkový vztah mezi manželi
- §21/1 – oba manželé mají českou státní příslušnost => české právo



!!!! Připravuje se nařízení o výživném

A decorative graphic on the left side of the slide features three balloons in light green, light blue, and light purple, each with a yellow streamer. The balloons are stylized with a grid pattern and are surrounded by several yellow triangular shapes that resemble streamers or confetti.

Otázka 5

V případě, že by paní Anna Mackenrodtová zažádala v ČR o rozvod, jaký právní řád bude pro rozvod manželů Mackenrodtových rozhodný?



Odpověď na otázku 5

- §22/1 ZMPS
- Oba manželé by měli v době zahájení českou státní příslušnost => české právo



!!! Návrh nařízení, kterým se mění nařízení Brusel IIbis





Příklad 3

Státní občanka Egypta, neprovdaná, porodila ve Vídni dítě. Zde také stále žije. Za otce označuje svého přítele, rovněž Egyptána, jenž v době porodu žil také ve Vídni. V současné době však žije v Brně, kde podniká. Matka hodlá u Městského soudu v Brně podat návrh na určení otcovství a na určení výživného pro sebe a pro své dítě. Podle egyptského práva neexistuje mezi mužem a jeho nemanželským dítětem žádný vztah.

Příklad 3

- Podle egyptského práva neexistuje mezi mužem a jeho nemanželským dítětem žádný vztah.
- Na případ nedopadá žádná mezinárodní smlouva.
- V úvahu nepřipadá zpětný ani další odkaz.



Otázka 1

Jak by český soud postupoval při zjištění rozhodného práva pro určení otcovství?



Odpověď na otázku 1

- §23/1 ZMPS
- Egyptské právo



Otázka 2

Jak by český soud postupoval při zjištění rozhodného práva pro výživné dítěte?



Odpověď na otázku 2

- §24/1 ZMPS
- Egyptské právo



Otázka 3

Jak by český soud postupoval při zjištění rozhodného práva pro nároky matky?



Odpověď na otázku 3

- §25/1 ZMPS
 - Egyptské právo
- 
- 

Otázka 4

Z pohledu teorie MPS rozeberte právní normu použitou pro řešení otázky ad 1).



Odpověď na otázku 4

- §23/1 – kolizní norma:

- > dvoustranná

- > moderně formulovaná

- > samostatná

- > slepá

- > kogentní

Hraniční učovatel: lex patriae dítěte v době narození





Otázka 5

Nepřichází v tomto případě v úvahu použití výhrady veřejného pořádku? Zdůvodněte.



Odpověď na otázku 5

- §36 ZMPS
 - Ochrana nezletilého dítěte je zájmem, na kterém je nutné trvat
 - Problém intenzity vztahu k tuzemsku
- 
- 

Příklad 4

Pan Martin Novák, podnikatel z Brna a pan Jacques Briand, francouzský podnikatel z Lyonu písemně uzavřeli na veletrhu v německém Trevíru kupní smlouvu, na základě níž měl pan Briand dodat 3000 lahví koňaku Rémy Martin. Součástí smlouvy byla i výhrada vlastnického práva. Pan Briand zboží řádně a včas dodal, pan Novák však ani po třech upomínkách nezaplatil kupní cenu. Prodávající požaduje náhradu škody a vrácení zboží s ohledem na výhradu vlastnického práva. Kupující namítá, že podle francouzského práva musí dojít k zápisu výhrady do veřejného registru, výhrada byla tudíž sjednána neplatně.



Příklad 4

Ve smlouvě byly obsaženy tyto doložky:

- *Na tuto smlouvu se nevztahuje Úmluva OSN o smlouvách o mezinárodní koupi zboží.*
- *Tato smlouva se řídí francouzským právem.*
- *Místo dodání: Brno*



Otázka 1

Posudte právní režim kupní smlouvy.



Odpověď na otázku 1

- Římská úmluva
 - > článek 3/1 – volba práva
 - > francouzské právo
- ZMPS
 - > §9
 - > francouzské právo



Otázka 2

Podle jakého právního řádu byste posoudili formu kupní smlouvy?



Odpověď na otázku 2

- ŘÚ

- > článek 9/1

- > francouzské právo, německé právo

- ZMPS

- > §4

- > francouzské právo, subsidiárně právo německé (pokud francouzské právo nepožaduje obligatorně písemnou formu)



Otázka 3

Podle jakého práva posoudíte nárok
prodávajícího na náhradu škody?



Odpověď na otázku 3

- ŘÚ

- > článek 10/1 pís c) + článek 3/1

- > francouzské právo

- ZMPS

- > §11 + §9

- > francouzské právo



Otázka 4

Posudte námitku kupujícího o neplatnosti sjednání výhrady vlastnického práva.



Odpověď na otázku 4

- Otázka platnosti výhrady - §4 ZMPS
 - stejné právo jako účinky výhrady
- Účinky VVP
 - > inter partes - §12 ZMPS -> obligační statut (článek 3/1 ŘÚ, §9 ZMPS) – francouzské právo
 - > erga omnes - §5 ZMPS – české právo



Otázka 5

Určete personální statut zúčastněných subjektů.



Odpověď na otázku 5

- §3 ZMPS
 - > české právo
 - > francouzské právo

A decorative graphic on the left side of the slide features three balloons in shades of green, blue, and purple, each with a yellow streamer. The balloons are stylized with a grid pattern and are surrounded by several yellow triangular shapes that resemble sun rays or streamer tassels.

Otázka 6

Podle kterého práva byste posoudili spor o určení vlastnického práva mezi kupujícím a třetí osobou (Čechem), na kterou v mezičase kupující zboží převedl?



Odpověď na otázku 6

- §6 ZMPS
- České právo