

Téma P08: Laboratorní diagnostika tuberkulózy, aktinomycet a nokardiíKe studiu: *Mycobacterium*, *Actinomyces*, *Nocardia* (učebnice, WWW atd.)

Z jarního semestru: Mikroskopie, kultivace, antimikrobiální citlivost, PCR

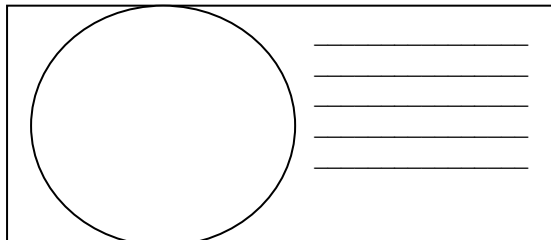
Úkol 1: Mikroskopie acidorezistentních a částečně acidorezistentních mikroorganismů

Zatímco acidorezistentní mikroorganismy (*Mycobacterium*) nelze barvit dle Grama, mikroby acidorezistentní pouze částečně (*Actinomyces*, *Nocardia*) mohou být Gramem obarveny, ale barví se nekonstantně, a také nabývají větvených filamentózních forem.

a) Barvení (negativního) klinického materiálu barvicí metodou dle Ziehl-Neelsena

Ziehl-Neelsenovo barvení se používá u mykobakterií (*M. tuberculosis*, *M. leprae*), ale také u některých parazitů (*Cryptosporidium parvum*, *Cyclospora cayetanensis*). Acidorezistentní organismy se barví pouze při zahřátí, avšak zato je pak neodbarví ani kyselý alkohol (alkohol s minerální kyselinou). Poté je odbarvené pozadí obarveno kontrastní barvou.

Obarvěte negativní vzorek sputa de Ziehl-Neelsena (varianta s methylenovou modří). Mikroskopujte. Zde acidorezistentní tyčinky nenaleznete. Zakreslete výsledky, uvidíte především přirozené pozadí, tj. leukocyty, epitelie a další objekty. Nezapomeňte obrázek **popsat** (za použití řádků vedle obrázku).
Popište také barvicí proceduru – do následující tabulky запиšte názvy činidel používaných při barvení

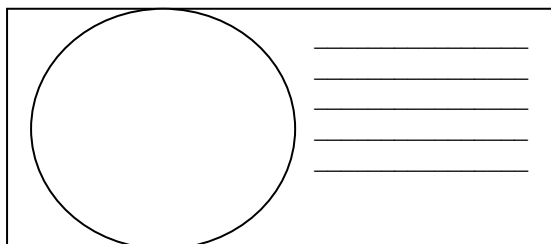


1.	Během barvení se preparát _____, dokud _____	
2.	Činidlo je směsí _____	_____ a _____
3.	Místo tohoto barviva lze použít také _____	_____

b) Mikroskopie mykobakteriální kultury

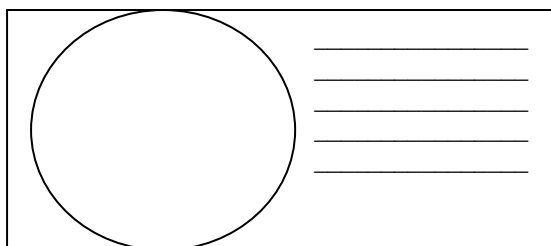
Prohlédněte si v mikroskopu (imerze, imerzní objektiv) mykobakteriální kulturu barvenou dle Ziehl-Neelsena. Zaznamenejte zejména přítomnost acidorezistentních tyčinek. Zakreslete pozorované.

Nezapomeňte obrázek **popsat** (za použití řádků vedle obrázku).

**c) Mikroskopie kmenů aktinomycet a nokardií**

Prohlédněte si mikroskopicky Gramem barvené skličko. Popište a zakreslete pozorované objekty. Povšimněte si velkého polymorfismu organismů (od kokovitého tvaru přes tyčinky až po vlákna, často větvená); grampozitivní, ale často až gramlabilní).

Opět obrázek i **popište**.

**Úkol 2: Kultivace mykobakterií, aktinomycet a nokardií**

Kultivační nároky acidorezistentních a částečně acidorezistentních bakterií jsou velmi různorodé.

- ❖ Pro *Mycobacterium tuberculosis* používáme tekuté (Šula) a pevné půdy (Ogawa, Löwenstein-Jenssen). Pevné půdy se liší od většiny půd používaných v bakteriologii, protože neobsahují agar; jejich „pevnost“ je dána koagulovanou vaječnou bílkovinou. Před kultivací je nutno vzorky mořiti.
- ❖ Pro rod *Nocardia* postačuje běžný krevní agar.
- ❖ Pro rod *Actinomyces* je nutný VL-agar a kultivace v anaerostatu či anaerobním boxu (viz P07), protože jsou anaerobní.

a) Popište půdy pro kultivaci mykobakterií

Název půdy	tekutá/pevná	barva	poznámky

b) Popište a zakreslete růst kolonií rodů *Mycobacterium*, *Actinomyces* a *Nocardia* na (v) daných médiích

Baktérie	Název půdy	Přítomnost/nepřítomnost růstu, případně charakterizace růstu (charakterizujte růst vlastními slovy)
<i>Mycobacterium</i>		
<i>Actinomyces</i>	krevní agar	
	VL agar	
<i>Nocardia</i>	krevní agar	
	VL agar	

Úkol 3: Určení citlivosti na antimikrobiální látky

K léčbě mykobakteriálních infekcí se používají speciální léky zvané antituberkulotika. Liší se také způsob testování citlivosti: antituberkulotika se přímo přidávají do půdy. Zato infekce působené rody *Actinomyces* a *Nocardia* se léčí „normálními“ antibiotiky a citlivost se testuje „normálním“ difusním diskovým testem.

a) Určení citlivosti mykobakterií na antituberkulotika

Porovnáním s kontrolní zkumavkou odečtěte testy citlivosti kmenů mykobakterií na antituberkulotika.

Antituberkulotikum				Kontrola růstu
Růst A/N				
Interpretace				

b) Citlivost na antibiotika u kmenů *Nocardia* a *Actinomyces*

Proveďte in vitro testování citlivosti na antibiotika u nokardií a aktinomycet. Na stole naleznete difusní diskové testy. Do tabulky dopište zkratky antibiotik dle přiložené kartičky a pro všechny testované kmeny změřte zóny citlivosti. Na kartičce máte napsány hraniční zóny – podle nich interpretujte zóny vámi zjištěné jako citlivé (C), rezistentní (R) a dubiózní (D).

Kmen →				
Antibiotikum (celé jméno)	Ø zóny (mm)	Interpretace	Ø zóny (mm)	Interpretace

Úkol 4: PCR v diagnostice TBC

Jelikož je kultivace mykobakterií obtížná, stává se PCR velmi důležitou diagnostickou metodou.


Odečtete výsledek PCR TBC (z prezentace), zapište a interpretejte výsledky

Pacient č.	Proužek vzorku	Interní kontrola	Interpretace
1			
2			
3			
4			

Úkol 5: Diagnostika lepry

Lepra je nemoc, která stále postihuje miliony lidí v méně rozvinutých zemích. Její diagnostika je obtížná.

Vyplňte následující tabulku.

	Toto zvíře se jmenuje	
	Používá se k výrobě	
	a tato látka se používá při	

Zdroj obrázku: http://www.1-costaricalink.com/costa_rica_fauna/nine_banded_armadillo.htm

Kontrolní otázky:

1. Jaké vzorky se odebírají při podezření na TBC?
2. Jak dlouho trvá kultivace *M. tuberculosis*?
3. Proč je nutné moření před kultivací *M. tuberculosis*?
4. K čemu je dobrá Mantouxova reakce a k čemu quantiferon? (Zkuste zadat toto heslo do vyhledávače.)
5. Za jakých podmínek a jak dlouho rostou aktinomycety a nokardie?
6. Z jakého důvodu se v diagnostice TBC prosazuje automatická kultivace?
7. Jak by ve čtvrtém úkolu vypadala „inhibice reakce“, a jak by se takový výsledek interpretoval?
8. Pouze pro zvědavé studenty: Proč je nutno ověřit Mantouxovu reakci a quantiferon u pacientů léčených biologickou léčbou (monoklonálními protilátkami)?