

## sebereflexní pracovní list II.

## SYSTÉM ROSTLIN

1) Pojmenujte rostliny zobrazené na druhé straně tohoto listu

2) Do tabulky doplňte na linky tyto pojmy

krytosemenné mechorosty kapradiny přesličky semenné rostliny plavuně  
 kaprad'orosty výtrusné rostliny nahosemenné jednoděložné řasy dvouděložné

3) Na tečky dopište zástupce jednotlivých taxonů (druhá strava vám napoví)

4) Do předposlední linky v tabulce napište, jestli mají tyto rostliny stélku nebo pletiva

5) Do poslední linky v tabulce napište, čím nebo jak se rozmnožují

NIŽŠÍ ROSTLINY	VYŠŠÍ ROSTLINY				
(.....)	(.....)	• _____ (.....)	(.....)		
	(.....)	• _____ (.....)	(.....)	(.....)	(.....)
		(.....)	(.....)	(.....)	(.....)
		• _____ (.....)	(.....)	(.....)	(.....)
		(.....)	(.....)	(.....)	(.....)
			(.....)	(.....)	(.....)
			(.....)	(.....)	(.....)



## sebereflexní pracovní list II.

## SYSTÉM ROSTLIN

I) Pojmenujte rostliny zobrazené na druhé straně tohoto listu

II) Do tabulky doplňte na linky tyto pojmy

krytosemenné mechorosty kapradiny přesličky semenné rostliny plavuně  
 kaprad'orosty výtrusné rostliny nahosemenné jednoděložné řasy dvouděložné

III) Na tečky dopište zástupce jednotlivých taxonů (druhá strava vám napoví)

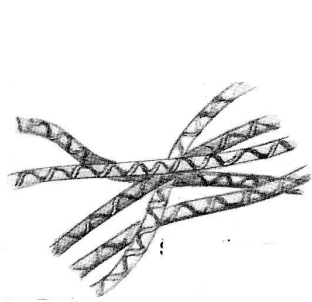
IV) Do předposlední linky v tabulce napište, jestli mají tyto rostliny stélku nebo pletiva

V) Do poslední linky v tabulce napište, čím nebo jak se rozmnožují


NIŽŠÍ ROSTLINY	VYŠŠÍ ROSTLINY				
	VÝTRUSNÉ		SEMENNÉ		
ŘASY	MECHOROSTY	KAPRAĐOROSTY	NAHOSEMENNÉ	KRYTOSEMENNÉ	
				DVOUDĚL.	JEDNODĚL.
(šroubatka)	(ploník) (bělomech)	<ul style="list-style-type: none"> <li>• kapradiny (kaprad' samec, osladič)</li> <li>• přesličky (přeslička rolní, lesní, ...)</li> <li>• plavuně (plavuň vidlačka)</li> </ul>	(smrk ztepilý) (jedle bělokorá) (jedle douglaska) (tis červený) (jalovec obecná) (borovice lesní) (borovice černá) (borovice kleč) (modřín opadavý)	(sasanka) (orsej) (buk lesní) (dub letní) (dub zimní) (cesmína)	(sněžěnka) (narcis) (traviny) (obiloviny) (orchideje)
stélka	stélka	pletiva	pletiva	pletiva	pletiva
buněčné dělení	výtrusy	výtrusy	semena	semena	semena



tis




šroubatka




cesmína



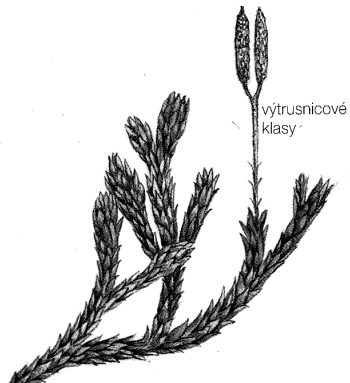
ploník



bělomech



buk



plavuň



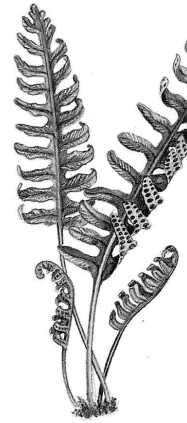
dub



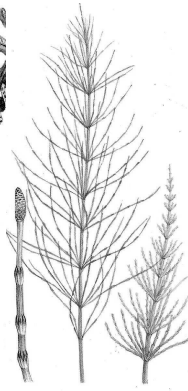
kaprad'




narcis




osladič



přeslička



modřín



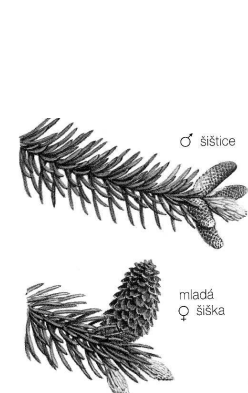
jedle



douglaska



sněžěnka



smrk




orsej



borovice



modřín



sasanka