

**MASARYKOVA UNIVERZITA V BRNĚ**

**PEDAGOGICKÁ FAKULTA**

## **Praktikum z historie**

(Bazilika sv. Prokopa v Třebíči – pracovní list)

Hana Zachová  
ZS1BK\_DEPH

## Bazilika svatého Prokopa V Třebíči

Bazilika sv. Prokopa vznikla v první polovině 13. století jako součást benediktinského kláštera, který v roce 1101 založili Litold Znojemský a Oldřich Brněnský. Je postavena v unikátním přechodném románsko – gotickém slohu. Katastrofou pro město a klášterní hrad bylo obléhání uherskými vojsky Matyáše Korvína v roce 1468. Klášter byl značně poškozen a bazilika vypálena. Klášter byl odebrán církvi, mniši byli vyhnáni a bazilika sloužila až do poloviny 18. století světským potřebám ( např. pivovar ). Po rekonstrukci arch. Kaňkou opět bazilika sloužila k sakrálním účelům.

Opravdovými skvosty baziliky jsou např. bohatě zdobený hlavní vchod zvaný Rajská brána ( Porta paradisi ), kruhová okna v apsidě, zachované fresky v severní tzv. Opatské kapli nebo rozsáhlá trojlodní krypta. Bazilika měla původně pouze jednu věž, která byla v polovině 18. století nahrazena věžemi dvěma.

V roce 2003 byla bazilika spolu s nedalekým židovským ghettem a židovským hřbitovem zapsána na seznam UNESCO.

### **Rozvíjené kompetence:**

- 1) Kompetence k učení - žák vyhledává a zpracovává potřebné informace  
- hledá různá řešení, experimentuje
- 2) Kompetence k řešení problému - žák vyhledává informace vhodné k řešení problému  
- pokračuje v řešení i přes prvotní neúspěch
- 3) Kompetence občanské - dokáže se rozhodnout a je za své rozhodnutí zodpovědný
- 4) Kompetence pracovní - dodržuje domluvená pravidla pro práci  
- plní zadaný úkol  
- práci zodpovědně dokončí

V pracovním listu, dle zadaných požadavků, je zahrnut úkol týkající se učiva fyziky a matematiky.

Použitá literatura: Hedvábný, M. Třebíčské pověsti a zajímavosti. Třebíč: Akcent, 2005

## Jak se jmenuje světec, kterému je bazilika zasvěcena?


Pátrej, hledej...pokud budeš pozorný, jméno jistě vyluštíš.

Čeká tě šest úkolů. Každá odpověď je označena písmenem - pokud vybereš tu správnou a její písmeno do tajenky doplníš, pravdu odhalíš!!!

1	2	3	4	5	6

1) Který mnišský řád v Třebíči založil klášter ke kterému bazilika patřila?

Třebíč



Jezuité (R)



Benediktíni (P)




Františkáni (V)

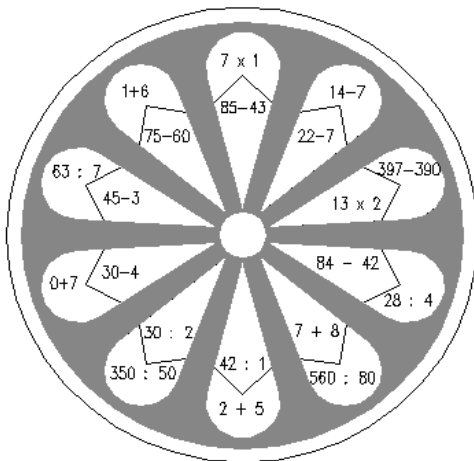


- 4) Tvým úkolem je zjistit, které z nevybarvených oken odpovídá originálu. Vypočítej příklady a vybarvi příslušnou barvou, která odpovídá výsledku.

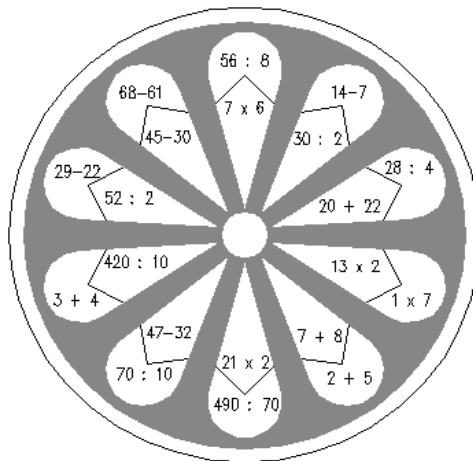
ŽLUTÁ 7  
 MODRÁ 15  
 ZELENÁ 26  
 ČERVENÁ 42



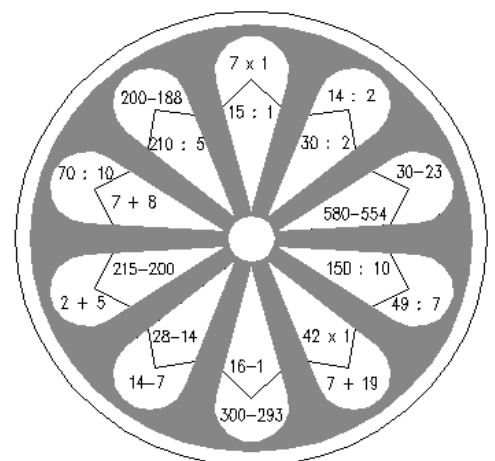
(I)



(K)



(E)



- 5) Bazilika je postavena z žulových kvádrů. V dřívějších dobách používali kameníci k trhání velkých žulových balvanů i vodu. Nejdříve skálu narušili ostrými kovovými klíny, do vzniklé trhliny nalili vodu. Ta když zmrzla, skálu roztrhla.

Proč tomu tak bylo?

- |                          |                    |     |
|--------------------------|--------------------|-----|
| Protože voda po zmrznutí | nezmění svůj objem | (V) |
|                          | zmenší svůj objem  | (D) |
|                          | zvětší svůj objem  | (O) |

6) Která z následujících památek není chráněná UNESCEM?

Telč (L)



Náměšťský zámek (P)



bazilika v Třebíči (O)



Zelená hora (J)



Pražský hrad (M)



Chrám sv. Barbory (K)



Jak se jmenuji?