

Téma: Povrch České republiky  
Eduard Hofmann

Pracovní listy a učební materiály

Pokyny ke cvičení

1. Vyplnit pracovní listy probíranou tematikou
2. Doplnit materiály k povrchu okolí PdF MU a Brna.
3. Stejným postupem charakterizovat místo bydliště.
4. Vytvořit materiály pro procvičování tohoto tématu.

## Pracovní list č. 1

Geografická charakteristika obce .....

Moje obec leží v ..... (doplň kraj), jehož krajským městem je .....  
..... Do krajského města to mám ..... km daleko, směrem na .....

Moje obec leží v blízkosti (nížiny, vysočiny, vrchoviny, pohoří) ....., jehož nejvyšší horou/nejvyšším bodem je ..... s ..... m n. m. Z hlediska typu reliéfu patří území v okolí mé obce mezi .....

Mou obcí protéká (řeka/potok) ....., který/á se vlévá do řeky .....

Ta náleží k úmoří .....

Moje obec leží v ..... podnebné oblasti, která se vyznačuje

.....

Převládajícím typem půd u nás jsou .....,  
na kterých se pěstuje .....

Z významných průmyslových odvětví je u nás zastoupen průmysl (*doplň i města, kde je průmysl umístěn*):

.....

Nejbližší chráněnou krajinnou oblastí pro moji obec je .....,  
která leží (doplň světovou stranu) ..... a ..... km daleko.

Nejbližším národním parkem k mojí obci je ....., který leží (doplň světovou stranu) ..... od nás.

Kdybyste se k nám chtěli přijet podívat, musíte jet z Brna (jak, čím a kam)

.....

Až u nás budete, určitě zajdeme podívat (vypiš významné památky, které jsou ve vašem okolí)

.....

**Česká republika – jak dobře ji znáš? - A**

*Popište vybraný geografický pojem. Pracujte s metodou geografického popisu. Příklad: město, ležící severně od našeho hlavního města na řece Labe.*

1 bod	2 body	3 body
Krkonoše	České středohoří	Hornomoravský úval
Praděd	Rožmberk	Dalešice
Vltava	Hřensko	Vyšší Brod
Lipno	Krušné hory	Slezská Harta
Svratka	Telč	Dyjsko-svratecký úval
Dyje	Vír	Blaník
Karlovy Vary	Český ráj	Velké Dářko
Brno	České Švýcarsko	Sázava
Macocha	Drahanská vrchovina	Lobendava
Moravskoslezské Beskydy	Český kras	Novohradské hory
Pardubice	Ohře	Litovelské Pomoraví
Pavlovské vrchy	Středočeská pahorkatina	Labské pískovce
Plzeň	Berounka	Brdy
Temelín	Javorníky	Žďárské vrchy
Brněnská přehrada	Milešovka	Kutná hora
Součet:	Součet:	Součet:

**Celkem:**

## Česká republika – jak dobře ji znáš? – B

*Popište vybraný geografický pojem. Pracujte s metodou geografického popisu. Příklad: město, ležící severně od našeho hlavního města na řece Labe.*

1 bod	2 body	3 body
Šumava	Jizerské hory	Králický sněžník
Jeseníky	Odra	Chřiby
Sněžka	Bílé Karpaty	Dolnomoravský úval
Labe	Moravský kras	Krásná u Aše
Mělník	Český Krumlov	Slavkovský les
Praha	Podyjí	Černé jezero
Nové Mlýny	Jizera	Blanský les
Ostrava	Lednicko-valtický areál	Lužnice
Svitava	Polabská nížina	Doupovské hory
Hranická propast	Krušné hory	Bukovec
Říp	Českomoravská vrchovina	Český les
Morava	Orlické hory	Žďár nad Sázavou
Olomouc	Třeboňsko	Holašovice
Dukovany	Lužické hory	Třebíč
Orlík	Prachovské skály	Kroměříž
Součet:	Součet:	Součet:

**Celkem:**

<b>Liberecký</b>	Nejdelší řeka
<b>Vltava</b>	Nejvyšší hora
<b>Sněžka</b>	Největší jezero
<b>Černé jezero</b>	Největší národní park
<b>Šumava</b>	Nejdelší jeskynní systém
<b>Amatérská – Punkevní jeskyně</b>	Nejdelší řeka
<b>Vltava</b>	Nejnižnější obec
<b>Vyšší Brod</b>	Nejniže položený bod
<b>Výtok Labe v Hřensku</b>	Největší rybník
<b>Rožmberk</b>	Nejteplejší minerální pramen
<b>Vřídlo</b>	Nejhlubší propast
<b>Hranická propast</b>	Nejsevernější bod
<b>Lobendava</b>	Největší chráněná krajinná oblast
<b>Beskydy</b>	Nejvýše položená železniční stanice
<b>Kubova Huť</b>	Největší plocha povodí
<b>Labe</b>	Největší přehradní nádrž
<b>Lipno</b>	Nejvýchodnější obec
<b>Bukovec</b>	Nejzápadnější bod
<b>Krásná u Aše</b>	Nejvýše položené sídlo
<b>Filipova Huť</b>	Nejhlubší jezero
<b>Máchovo jezero</b>	Nejnižší průměrné roční srážky
<b>Žatecko</b>	Nejčastější název obce v ČR
<b>Lhota</b>	Nejmenší kraj

## Námět na poznávání míst

1)



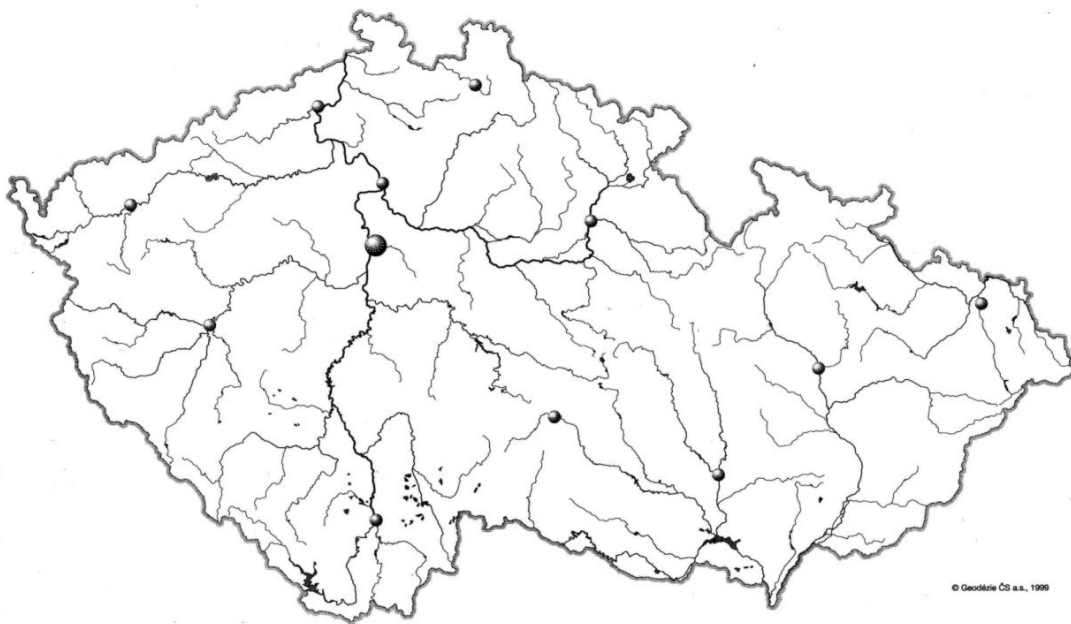
Tento zámek patří k nejznámějším a nejnavštěvovanějším v České republice.  
Jedná se o zámek....., který bychom našli u města.....  
v .....(oblast ČR). Zaznamenej do mapy.



2)



Významné vodní dílo s největším objemem vody v ČR se jmenuje..... a je vybudované na řece..... Je součástí tzv. ...., kterou tvoří 9 přehrad, např..... Zaznamenej do mapy.

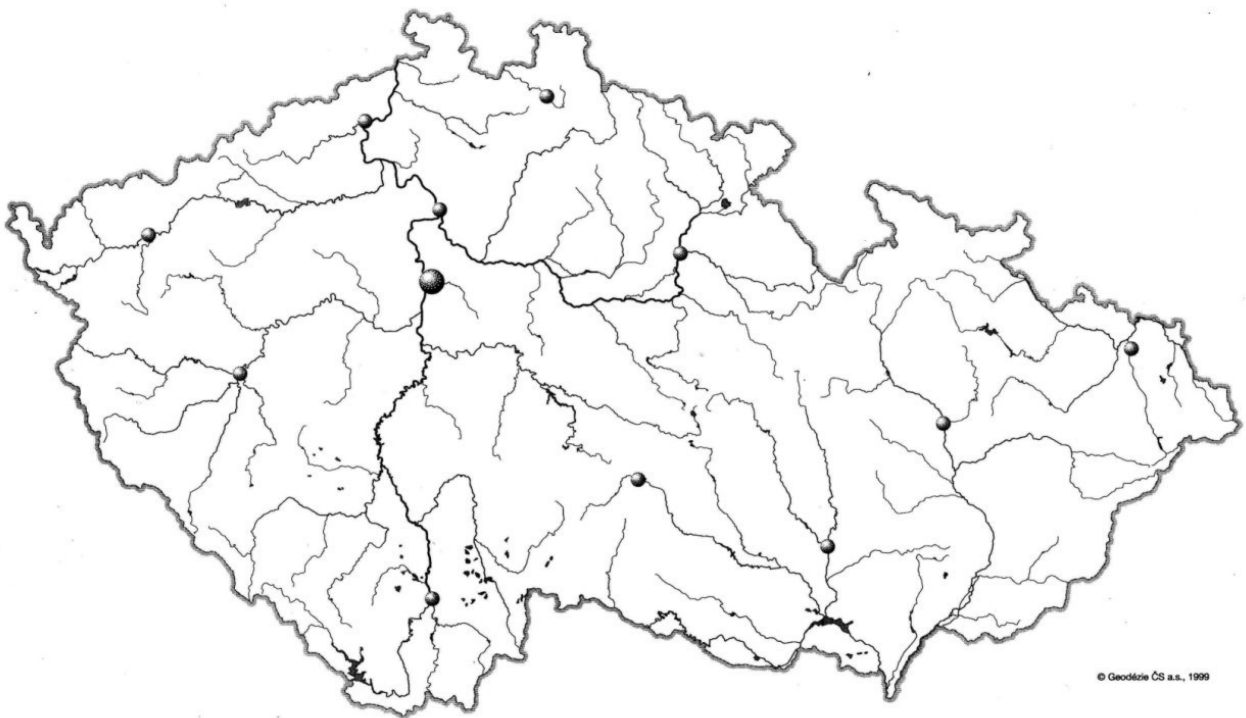




3)



Pískovcové skalní město na obrázku se jmenuje..... a je součástí Českého ráje, který patří do .....(geomorfologická soustava). Zaznamenej do mapy.

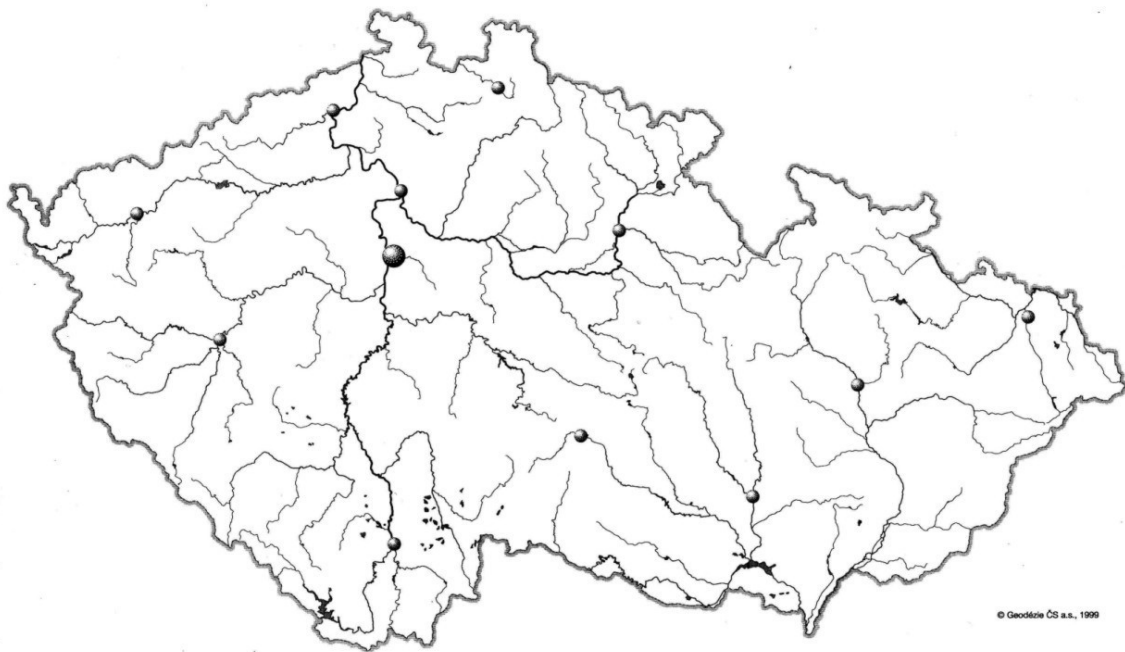




4)



Hora, na kterou vystoupil praotec Čech se jmenuje..... Nachází se v.....(geomorfologická soustava). Zaznamenej do mapy.



5)



Hora na obrázku je.....v ČR a měří.....m. Nachází se v .....(pohoří). Přes její vrchol prochází hranice s.....(stát). Zaznamenej do mapy.

