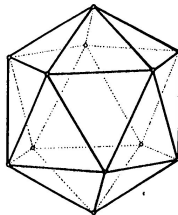
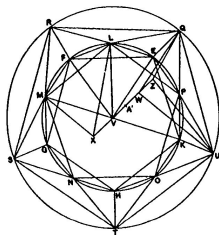


MA2BP_PKG: Konstrukční geometrie

Plán

- ▶ Klasická konstrukční geometrie
- ▶ Geometrická zobrazení
- ▶ Zobrazovací metody

Motivace



Poslední aktualizace: 17. května 2017, Vojtěch Žádník

http://is.muni.cz/el/1441/jaro2017/MA2BP_PKG/um/

Základy	1
Úvod	2
Obsahy a kvadratura mnohoúhelníku	8
Geometrická algebra a zlatý řez	11
Kosinová věta	14
O kružnicích	15
Pravidelný pětiúhelník	20
Další pravidelné mnohoúhelníky	25
Sestrojitelné veličiny	30
Teorie podobnosti	32
Poznámky k eukleidovským konstrukcím	43
Trocha stereometrie	48
Pravidelné mnohostěny	52
Dotykové úlohy	59
Geometrická zobrazení	77
Zobrazovací metody	128

Základní pojmy:

- ▶ *bod, přímka, rovina*

Základní vztahy/relace:

- ▶ *incidence, uspořádání, rovnoběžnost, shodnost, spojitost*

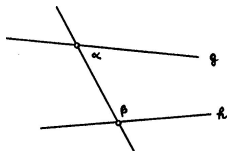
Základní definice:

- ▶ *např. úhel, pravý úhel, resp. kolmost přímek, trojúhelník, čtverec, kružnice, rovnoběžnost přímek, ...*

Základní tvrzení (axiómy/postuláty):

- ▶ *několik ke každému ze základních vztahů...*

- (I) Každé dva různé body spojuje přímka.
- (II) Každou přímku lze na každé straně libovolně prodloužit.
- (III) Lze vytvořit kružnici s libovolným daným středem procházející libovolným jiným bodem.
- (IV) Všechny pravé úhly jsou shodné.
- (V) Když přímka protínající dvě jiné přímky tvoří vnitřní úhly na jedné straně menší než dva pravé, pak tyto dvě přímky (dostatečně prodlouženy) setkají se na té straně, kde jsou úhly menší dvou pravých.



Eukleidův postulát (V): $\alpha + \beta < 2R \implies g$ a h se protínají.

Konstrukce založené na postulátech (I)–(III) jsou tzv. *eukleidovské konstrukce*.

¹ kolem –300

Na ukázkou několik axiómů, které nejsou v Eukleidově systému explicitně formulovány...

Typický axióm **uspořádání** je např.:

- ▶ *Pro tři různé body ležící na jedné přímce platí, že právě jeden z nich je mezi zbylými dvěma.*

Axiómy **spojitosti** je možné nahradit jediným, tzv. Dedekindovým axiómem.

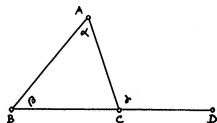
- ▶ *Body na přímce neobsahují (vzhledem k výše zmíněnému uspořádání) Dedekindovy řezy typu „skok“ a „mezera“.*

²kolem +1900

Co na postulátu (V) nezávisí

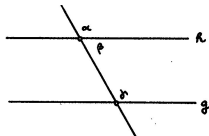
Např.

- ▶ Věty SUS, SSS, USU.
- ▶ Věta o vnějším úhlu trojúhelníku.³



$$\gamma > \alpha \text{ a } \gamma > \beta$$

- ▶ Známé nerovnosti v trojúhelníku.
- ▶ Shodné střídavé úhly implikují rovnoběžnost přímek⁴ (odtud existence rovnoběžky).

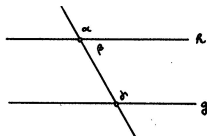


$$\alpha = \gamma \implies h \parallel g$$

³Zde jsou poprvé potřeba axiomy uspořádání.

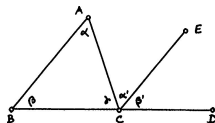
⁴Nepřímo pomocí věty o vnějším úhlu trojúhelníku.

- ▶ Věta o střídavých úhlech⁵ (odtud jednoznačnost rovnoběžky).



$$h \parallel g \implies \alpha = \gamma$$

- ▶ Věta o součtu vnitřních úhlů v trojúhelníku.⁶



$$\alpha + \beta + \gamma = 2R$$

- ▶ Věty o rovnoběžnících a trojúhelnících a jejich obsahích.
- ▶ Pythagorova věta (a téměř vše co následuje...)

⁵Nepřímo: $\alpha \neq \gamma \implies \alpha + \beta \neq \gamma + \beta \implies 2R \neq \gamma + \beta$; odtud podle (V) plyne, že se přímky h, g protínají, tedy nejsou rovnoběžné.

⁶Přímo pomocí věty o střídavých úhlech.

BOOK I. PROP. XXXII. THEOR. 33

If any side (—) of a triangle be produced, the external angle (◡) is equal to the sum of the two internal and opposite angles (◡ and ◡), and the three internal angles of every triangle taken together are equal to two right angles.

Through the point draw
 || (pr. 31.).

Then $\left\{ \begin{array}{l} \text{red triangle} = \text{yellow triangle} \\ \text{black triangle} = \text{black triangle} \end{array} \right\}$ (pr. 29.),

$\therefore \text{yellow triangle} + \text{black triangle} = \text{red triangle}$ (ax. 2.),

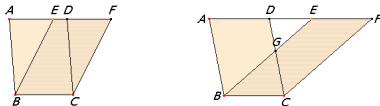
and therefore

$\text{yellow triangle} + \text{blue triangle} + \text{black triangle} = \text{red triangle} = \text{semicircle}$
 (pr. 13.).

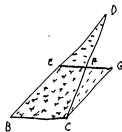
Q. E. D.

Základní tvrzení o rovnostech obsahů

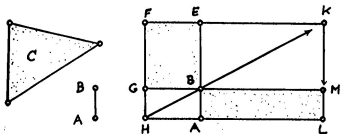
- ▶ Rovnoběžníky (resp. trojúhelníky) se stejnými základnami a stejnými výškami mají stejný obsah.⁷



- ▶ Trojúhelník BCD a rovnoběžník $BCGE$ mají stejný obsah (stejná základna a poloviční výška).⁸



- ▶ Rovnoběžníky $BEFG$ a $BALM$ na obr. mají stejný obsah.⁹



- ▶ Eukleidova věta o odvěsně/výšce, resp. věta Pythagorova.

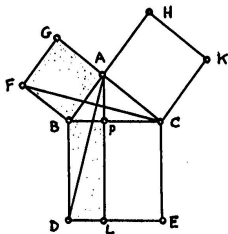
⁷Zdůvodnění založeno na shodnosti trojúhelníků ABE a DCF ...

⁸Shodné trojúhelníky CFG a DFE ...

⁹Každý rovnoběžník je úhlopříčkou rozdělen na dva shodné trojúhelníky....

Věta

V pravoúhlém trojúhelníku BAC , kde P = pata výšky z vrcholu A , platí $BP \cdot BC = BA^2$ a $CP \cdot CB = CA^2$, tudíž $BC^2 = BA^2 + AC^2$.



Důkaz.

$FBAG$ je čtverec a úhel BAC je pravý \implies body G, A, C leží na jedné přímce, a ta je rovnoběžná s FB .

Odtud podle zákl. věty o obsahích, shodnosti trojúh. FBC a ABD a znovu podle zákl. věty o obsahích:

$$\text{obsah } FBA = \text{obsah } FBC = \text{obsah } ABD = \text{obsah } PBD.$$

Proto má čtverec $FBAG$ stejný obsah jako obdélník $PBDL$...¹⁰



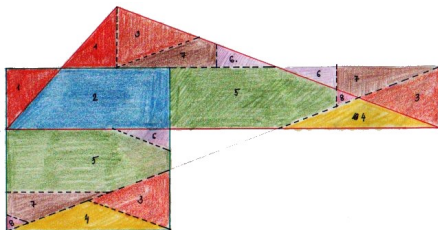
¹⁰<http://www.youtube.com/watch?v=PoFMWJkY7r8>

Kombinací předchozích poznatků zjišťujeme, že libovolný mnohoúhelník lze geometricky *kvadraturovat* = sestrojít čtverec se stejným obsahem.¹¹

Navíc každou dílčí konstrukci lze doplnit názorným rozstříháním.

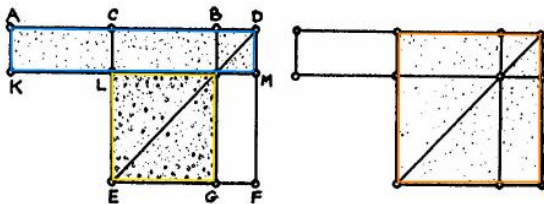
Věta (Wallaceova–Bolyaiova–Gerwienova)

Dva mnohoúhelníky mají stejný obsah \iff jeden lze rozstříhat na části, z nichž lze složit ten druhý.



Kvadratura obecného trojúhelníku se stříháním

¹¹<http://ggbtu.be/mkripDpYd>



Obrázek 4.11: **A** II.6: Pokud je C střed úsečky AB a D je libovolný bod na téže přímce vpravo od B , potom platí $AD \cdot BD + CB^2 = CD^2$.

Poznámky

Při značení $|AB| =: b$ a $|DB| =: x$ lze uvedené tvrzení psát jako

$$(b+x)x + \left(\frac{b}{2}\right)^2 = \left(\frac{b}{2} + x\right)^2, \quad \text{neboli} \quad x^2 + bx + \left(\frac{b}{2}\right)^2 = \left(\frac{b}{2} + x\right)^2.$$

Uvedené úpravy známe jako tzv. doplnění do čtverce.

Tyto úpravy jsou také prvním krokem k vyjádření kořenů obecné kvadratické rovnice...

Speciálním případem je konstrukce zlatého řezu, viz s. 12.

Definice

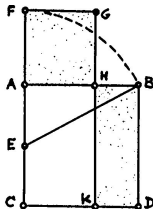
Bod H dělí úsečku AB ve *zlatém řezu*, pokud poměr celé úsečky k delší části řezu je stejný jako poměr delší části ke kratší, tzn. pokud

$$BA : AH = AH : HB, \quad \text{nebo} \quad AB : BH = BH : HA.$$

Konstrukce

- (i) AC je kolmice k AB , přičemž $AC = AB$,
- (ii) E = střed AC ,
- (iii) F leží na polopřímce CA tak, že $EF = EB$,
- (iv) H leží na úsečce AB tak, že $AH = AF$.

Potom AH je delší částí zlatého řezu úsečky AB .



Zdůvodnění konstrukce plyne z předchozího (s. 11) a z Pythagorovy věty (s. 9):

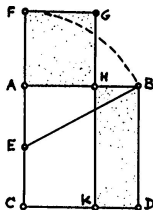
$$CF \cdot FA + AE^2 = EF^2 = EB^2 = AE^2 + AB^2, \quad \text{neboli} \quad CF \cdot FA = AB^2.$$

Tzn. obdélník $CFGK$ a čtverec $ABDC$ mají stejný obsah.

Tyto však mají společnou část $CKHA$, takže taky čtverec $AHGF$ a obdélník $KDHB$ mají stejný obsah.

To můžeme zapsat jako

$$AH^2 = AB \cdot BH, \quad \text{neboli} \quad AH : BH = AB : AH. \quad \square$$



Počítání

Při označení $|AB| =: b$ a $|AH| =: x$ definice zlatého řezu zní:

$$b : x = x : (b - x), \quad \text{neboli} \quad b(b - x) = x^2, \quad \text{neboli} \quad x^2 + bx - b^2 = 0.$$

Postupně sestrojené veličiny jsou:

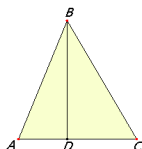
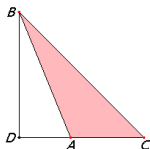
$$|AE| = |EC| = \frac{1}{2}b, \quad |EB| = \frac{\sqrt{5}}{2}b, \quad |AF| = |AH| = x = \frac{\sqrt{5}-1}{2}b.$$

Skutečně, $x = \frac{\sqrt{5}-1}{2}b$ je kořenem kvadratické rovnice $x^2 + bx - b^2 = 0 \dots$

Jako důsledek (a zobecnění) Pythagorovy věty představujeme větu kosinovou:

Věta

V obecném trojúhelníku ABC , kde $D =$ pata výšky z vrcholu B , platí:



$$BC^2 = BA^2 + AC^2 + 2DA \cdot AC, \quad BC^2 = BA^2 + AC^2 - 2DA \cdot AC.$$

Důkaz.

Několikeré užití Pythagorovy věty (zde pro trojúh. BDC a BDA) a algebraická úprava. . . □

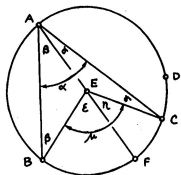
Poznámka

Při obvyklém značení $a = |BC|$, $b = |AC|$, $c = |AB|$ a $\alpha = |\angle BAC|$ můžeme obě části předchozí věty psát současně jako

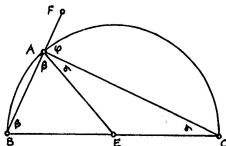
$$a^2 = b^2 + c^2 - 2bc \cos \alpha.$$

Jako důsledky věty o součtu úhlů v trojúhelníku (s. 6) uvádíme:¹²

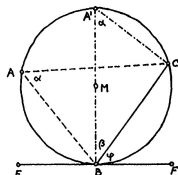
- ▶ větu o středovém a obvodovém úhlu,
- ▶ spec. případ — Thaletovu větu,
- ▶ větu o úsekovém úhlu,
- ▶ apod.



$$\mu = 2\alpha = \text{konst.}$$




$$\alpha + \beta = 90^\circ$$



$$\varphi = \alpha$$

¹²http://is.muni.cz/el/1441/jaro2017/MA2BP_PKG/um/gg/zdroje/

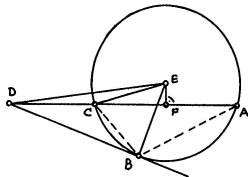


Kotoulením kružnice uvnitř kružnice s dvojnásobným poloměrem se převádí pohyb otáčivý na přímočarý...

Věta

Pro **libovolnou** sečnu jdoucí bodem D platí:

$$DC \cdot DA = \text{konst.}$$



Důkaz.

Lze zdůvodnit několikerým užitím Pythagorovy věty (zde pro trojúh. DBE , DFE , CFE) a alg. úpravou...¹³

Alternativně (univerzálně a elegantně) pomocí podobnosti trojúhelníků (zde trojúh. DCB a DCA)... □

Zejména pro D vně kružnice (a B bod dotyku tečny) platí

$$DC \cdot DA = DB^2 = DE^2 - EB^2.$$

Definice

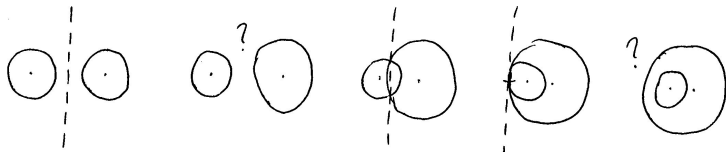
Mocnost bodu D ke kružnici se středem E a poloměrem r je reálné číslo

$$m := DB^2 - r^2.$$

¹³Třeba rozlišovat, zda je bod D uvnitř nebo vně kružnice...

Definice

Množina všech bodů v rovině, které mají stejnou mocnost ke dvěma daným kružnicím, se nazývá *chordála*.



Věta

Chordála dvou nesoustředných kružnic je **přímka**, která je kolmá na spojnici jejich středů.

Důkaz.

X = lib. bod na chordále;

P = pata kolmice z bodu X na spojnici středů.

X má stejnou mocnost k oběma kružnicím:

$$|XS_1|^2 - r_1^2 = |XS_2|^2 - r_2^2,$$

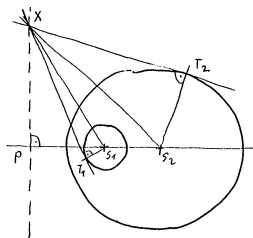
$$(|XP|^2 + |PS_1|^2) - r_1^2 = (|XP|^2 + |PS_2|^2) - r_2^2,$$

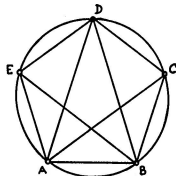
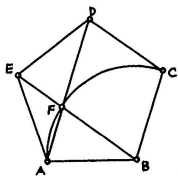
$$|PS_1|^2 - r_1^2 = |PS_2|^2 - r_2^2,$$

tedy bod P taky leží na chordále!

Chordála má se spojnici středů společný právě jeden bod, tj. právě P .

Pata kolmice z každého bodu na chordále splývá s P , tedy chordála = kolmice ke spojnici středů jdoucí P . □





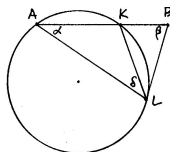
Postřehy

- (1) $AD \parallel BC$ a $BE \parallel CD$, takže $BCDF$ je **kosočtverec**.
- (2) Obvodové úhly BAC , CAD , DAE atd. jsou všechny shodné, takže trojúhelník ABD má tu vlastnost, že je rovnoramenný a úhly u základny jsou dvojnásobky úhlu u vrcholu D , tzv. **zlatý trojúhelník**.
- (3) Trojúhelníky ADE a EAF jsou oba rovnoramenné a mají společný úhel u vrcholu A , takže jsou **podobné**.

Věta

Nechť úsečka AK je delší částí zlatého řezu úsečky AB a bod L je takový, že $AL = AB$ a $BL = AK$.

Potom trojúhelník ABL je **zlatý**,
tj. rovnoramenný a takový, že $\beta = 2\alpha$.



Důkaz.

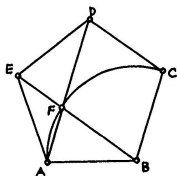
- ▶ $K = \text{zlatý řez a } AK = BL \implies AB : BL = BL : BK$, neboli $BA \cdot BK = BL^2$.
- ▶ Toto je mocnost bodu B ke kružnici $AKL \implies BL = \text{tečna}$.
- ▶ Úsekový $\angle BLK = \text{obvodový } \angle LAK = \alpha \implies \angle ALB = \alpha + \delta$.
- ▶ $\triangle ABL$ je rovnoramenný $\implies \underline{\beta = \alpha + \delta}$.
- ▶ $\angle LKB$ je vnějším úhlem v $\triangle AKL \implies \angle LKB = \alpha + \delta$.
- ▶ Odtud plyne, že $\triangle BLK$ je rovnoramenný $\implies KL = BL = AK$.
- ▶ Proto také trojúhelník AKL je rovnoramenný $\implies \underline{\alpha = \delta}$.
- ▶ Celkem tedy

$$\beta = \alpha + \delta = 2\alpha. \quad \square$$

Důsledek

Věta

Úhlopříčky v pravidelném pětiúhelníku se navzájem dělí v poměrech **zlatého řezu**, jejichž delší části jsou shodné se stranami pětiúhelníku.



Jiný důkaz.

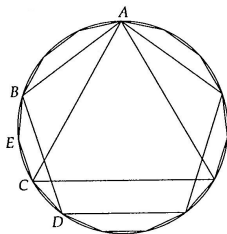
- ▶ Trojúhelníky ADE a EAF jsou rovnoramenné a mají společný úhel u vrcholu A
 \implies jsou podobné.
- ▶ Odpovídající si strany jsou úměrné $\implies AD : DE = EA : AF$.
- ▶ Současně však platí $DE = EA = DF$, tedy

$$AD : DF = DF : FA. \quad \square$$

Pravidelný n -úhelník umíme sestrojít pro $n = 3, 4, 5, 6$.

Půlením úhlů lze sestrojít také např. pro $n = 8, 10, 12, 16, 20, \dots$

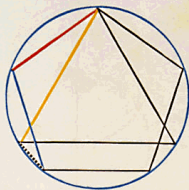
Kombinací předchozího lze sestrojít také např. pro $n = 15$:



Věta

Pokud lze sestrojít pravidelný k -úhelník a l -úhelník, potom lze sestrojít také pravidelný n -úhelník, kde $n =$ nejmenší společný násobek k a l .

Pozor: n.s.n. nelze obecně nahradit součinem (viz např. $3 \cdot 3 = 9$)!



To inscribe an equilateral and equiangular quindecagon in a given circle.

Let — and — be the sides of an equilateral pentagon inscribed in the given circle, and — the side of an inscribed equilateral triangle.

The arc subtended by — and — } = $\frac{1}{5}$ = $\frac{1}{15}$ { of the whole circumference.

The arc subtended by — } = $\frac{1}{3}$ = $\frac{1}{15}$ { of the whole circumference.

Their difference = $\frac{1}{15}$

∴ the arc subtended by - - - - - = $\frac{1}{15}$ difference of the whole circumference.

Hence if straight lines equal to - - - - - be placed in the circle (B. 4. pr. 1), an equilateral and equiangular quindecagon will be thus inscribed in the circle.

Q. E. D.

Z předchozího tušíme, že **ne každý** pravidelný mnohoúhelník je sestrojitelný:

Věta (Gaussova–Wantzelova)

Pravidelný n -úhelník lze sestrojit eukleidovským pravítkem a kružítkem $\iff n$ je součinem libovolné mocniny 2 a navzájem různých Fermatových prvočísel.

Fermatovo prvočíslo je prvočíslo tvaru $F_k = 2^{2^k} + 1$.

K dnešnímu dni¹⁴ je známo pouze pět Fermatových prvočísel:

$$F_0 = 3, \quad F_1 = 5, \quad F_2 = 17, \quad F_3 = 257, \quad F_4 = 65537.$$

Tedy:

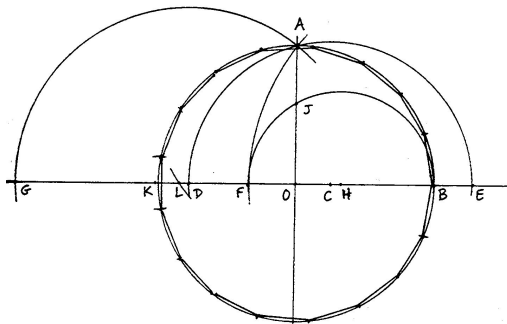
Ize	3	4	5	6	8	10	12	15	16	17	20		
nelze				7	9	11	13	14		18	19	21	22

¹⁴17. května 2017

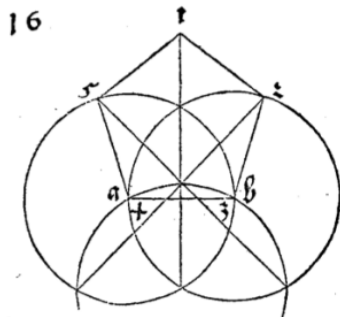
Délku strany pravidelného 17-úhelníku vepsaného do kružnice s poloměrem r lze vyjádřit jako

$$a_{17} = \frac{r}{4} \sqrt{34 - 2\sqrt{17} - 2\sqrt{34 - 2\sqrt{17}} - 4\sqrt{17 + 3\sqrt{17} + \sqrt{170 - 26\sqrt{17}} - 4\sqrt{34 + 2\sqrt{17}}}.$$

Gaussova konstrukce pravidelného 17-úhelníku vypadá takto¹⁵



¹⁵30. března 1796



Konečně umíme rozeznat přesné konstrukce od přibližných...

Reálné veličiny — reprezentované úsečkami — umíme:

- ▶ **sčítat** a **odčítat** — pomocí přikládání a odebrání úseček na přímce,
- ▶ **násobit** a **dělit** — pomocí stejnoplochých rovnoběžníků, resp. podobných trojúhelníků,
- ▶ **druhou odmocninu** — pomocí Eukleidovy věty o odvěsně, resp. o výšce.

Úplná algebraická charakterizace sestrojitelných veličin vypadá takto:

Věta

Reálné číslo je sestrojitelné eukleidovským pravítkem a kružítkem \iff jej lze vyjádřit pomocí konečného počtu

$$1 \quad + \quad - \quad \cdot \quad : \quad \sqrt{\quad} \quad (\quad)$$

Začneme s úsečkou představující jednotku.

Další sestrojitelné veličiny vznikají konstrukcemi v rovině, a to jako

- (a) průnik dvou přímek \rightsquigarrow soustava dvou lineárních rovnic,
- (b) průnik přímky s kružnicí \rightsquigarrow soustava lineární a kvadratické rovnice,
- (c) průnik dvou kružnic \rightsquigarrow soustava dvou kvadratických rovnic.

Eliminací jedné proměnné dostaneme jednu lineární, nebo kvadratickou rovnici.

Její kořen(y) lze vyjádřit z odp. koeficientů pomocí právě uvedených operací! \square

Poznámka

Algebraické vyjádření kořenů kvadratické rovnice $x^2 + bx + c = 0$ vypadá takto:

$$x^2 + bx + \left(\frac{b}{2}\right)^2 = \left(\frac{b}{2}\right)^2 - c, \quad \text{neboli} \quad \left(x + \frac{b}{2}\right)^2 = \left(\frac{b}{2}\right)^2 - c,$$

což po odmocnění a úpravě vede k dobře známému vyjádření

$$x = -\frac{b}{2} \pm \sqrt{\left(\frac{b}{2}\right)^2 - c}, \quad \text{neboli} \quad x = \frac{-b \pm \sqrt{b^2 - 4c}}{2}.$$

Teorie podobnosti (kniha VI) je založena na pojmu úměrnosti, tedy rovnosti poměrů veličin (kniha V):

Definice

Veličiny a, b jsou *ve stejném poměru* jako veličiny c, d ,

$$a : b = c : d,$$

pokud pro každá čísla m, n platí

$$na \cong mb \iff nc \cong md.$$

Poznámky pro moderního čtenáře

Veličiny a, b, c, d jsou reálná čísla, čísla m, n jsou čísla celá.

Předchozí definici můžeme vyslovit taky takto:¹⁶

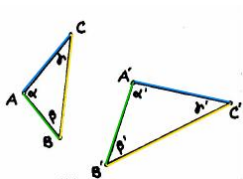
Reálná čísla $r (= \frac{a}{b})$ a $s (= \frac{c}{d})$ jsou si rovna, pokud pro každé racionální číslo $q (= \frac{m}{n})$ platí

$$r \cong q \iff s \cong q.$$

¹⁶Tady by se nám měla vybavovat konstrukce reálných čísel z racionálních pomocí tzv. Dedekindových řezů...

Definice

Trojúhelníky (obecněji, mnohoúhelníky) jsou *podobné*, pokud mají po dvou shodné vnitřní úhly a strany u shodných úhlů mají úměrné.



Tedy: trojúhelníky jsou podobné, pokud (při obvyklém značení)

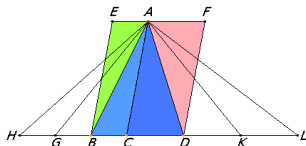
$$\alpha = \alpha', \quad \beta = \beta', \quad \gamma = \gamma',$$
$$b : c = b' : c', \quad c : a = c' : a', \quad a : b = a' : b'.$$

Druhou sadu rovností obvykle přepisujeme takto

$$a' : a = b' : b = c' : c = \textit{koeficient podobnosti}.$$

Věta

Poměr obsahů trojúhelníků (resp. rovnoběžníků) se stejnou výškou je stejný jako poměr délek jejich základů.



$$\text{obsah } ACB : \text{obsah } ACD = CB : CD$$

Důkaz.

Plyne přímo ze základní věty o rovnosti obsahů trojúhelníků (s. 8) a z definice rovnosti poměrů (s. 32). . . □

Poznámka

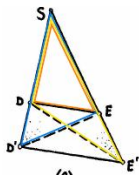
Odtud máme vzoreček pro výpočet obsahu trojúhelníku:

$$S = \frac{1}{2} a \cdot v,$$

kde S = obsah trojúhelníku, a = velikost strany, v = velikost výšky na stranu a .

Věta

Přímka je rovnoběžná s jednou stranou trojúhelníku \iff protíná zbylé dvě strany úměrně.



$$SD' : SD = SE' : SE \iff D'E' \parallel DE$$

Důkaz.

Podle předchozí věty víme, že

$$SD' : SD = \text{obsah } SD'E : \text{obsah } SDE,$$

$$SE' : SE = \text{obsah } SE'D : \text{obsah } SED.$$

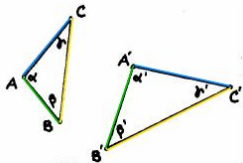
Jmenovatelé na pravé straně jsou titíž a trojúhelníky $SD'E$ a $SE'D$ mají společný průnik SDE .

Zbytek plyne ze základní věty o rovnosti obsahů trojúhelníků (s. 8)... □

Vlastnosti v definici podobných trojúhelníků (s. 33) jsou ekvivalentní:

Věta

Trojúhelníky mají po dvou shodné vnitřní úhly \iff strany u shodných úhlů jsou úměrné.



$$\alpha = \alpha', \beta = \beta', \gamma = \gamma' \iff b : c = b' : c', c : a = c' : a', a : b = a' : b'.$$

Důkaz.

Implikace zleva doprava je důsledkem předchozí věty (s. 35)...

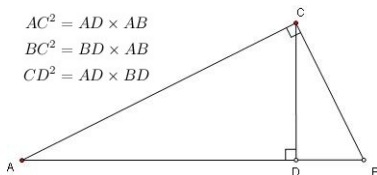
Pro opačné tvrzení uvažme pomocný trojúhelník ABD , který má shodné vnitřní úhly s trojúhelníkem $A'B'C'$. Nyní strany u shodných úhlů jsou úměrné a současně trojúhelníky ABD a ABC mají společnou stranu, tedy jsou shodné...



Implikaci „ \implies “ v předchozí větě s přezdívá věta UU.

Mnoho předchozích úvah lze nahradit úspornějším argumentem s podobnými trojúhelníky, viz např.:

- ▶ věta o mocnosti bodu ke kružnicí (s. 17),
- ▶ věta o zlatém řezu v pravidelném pětiúhelníku (s. 22),
- ▶ Eukleidova věta o odvěsně/výšce (s. 9):

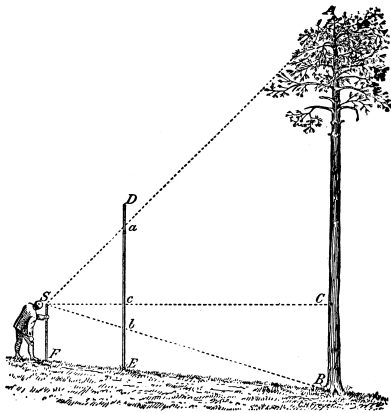


Důkaz.

Trojúhelníky ADC a ACB mají po dvou shodné vnitřní úhly \implies jsou podobné

$$\implies AC : AD = AB : AC \implies AC^2 = AB \cdot AD.$$

Ostatní vztahy lze zdůvodnit podobně... □

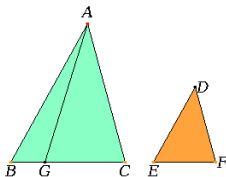


Výška stromu pomocí podobných trojúhelníků...

O obsahích podobných útvarů

Věta

Poměr obsahů podobných trojúhelníků (mnohoúhelníků) je stejný jako poměr druhých mocnin odpovídajících stran.



Je-li $1 : k$ poměr podobnosti, potom poměr obsahů je $1 : k^2$.

Důkaz¹⁷.

Pomocný bod $G \in BC$ je takový, že $EF : BG = BC : EF$.

Podle předpokladu je $AB : DE = BC : EF = 1 : k$.

Tzn. $AB : DE = EF : BG$, odkud vyplývá, že obsah $ABG =$ obsah DEF .

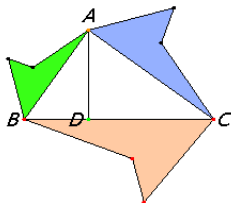
Odtud dostáváme

$$\begin{aligned} \text{obsah } ABC : \text{obsah } DEF &= \text{obsah } ABC : \text{obsah } ABG = \\ &= BC : BG = (BC : EF) \cdot (EF : BG) = 1 : k^2. \quad \square \end{aligned}$$

¹⁷... bez infinitezimálních úvah pro obecné $k \in \mathbb{R}$!

Věta

Pokud jsou mnohoúhelníky nad stranami pravoúhlého trojúhelníku podobné, potom obsah mnohoúhelníku nad přeponou je roven součtu obsahů těch nad odvěsnami.



Důkaz.

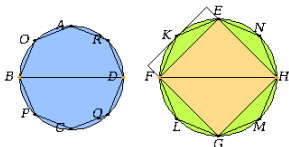
Plyne z Pythagorovy věty (s. 9) a předchozího tvrzení (s. 39)... □

O obsahích kruhů

U křivočarých útvarů se infinitesimálním úvahám nevyhneme...¹⁸

Věta

Poměr obsahů kruhů je stejný jako poměr druhých mocnin jejich průměrů.



Idea důkazu.

Každý kruh lze libovolně přesně aproximovat mnohoúhelníky.

Každé dva kruhy jsou podobné; pokud jsou aproximovány analogicky, jsou odpovídající mnohoúhelníky taky podobné.

Poměrům obsahů takových mnohoúhelníků rozumíme (s. 39)... □

Poznámka


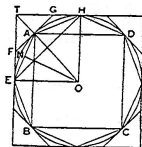
Při obvyklém značení můžeme předchozí tvrzení psát jako

$$S_1 : S_2 = r_1^2 : r_2^2, \quad \text{neboli} \quad S_1 : r_1^2 = S_2 : r_2^2 = \text{konst.}$$

¹⁸... v klasickém pojetí pomocí Eudoxovy metody.

Věta (Archimédova)

Obsah kruhu je roven obsahu pravoúhlého trojúhelníku, jehož jedna odvěsna je shodná s poloměrem, druhá s obvodem kruhu.



Poznámka

První část věty říká, že $S = \frac{1}{2} r \cdot o$, kde r = poloměr kružnice a o = její obvod.

To spolu s rovností na s. 41 dává

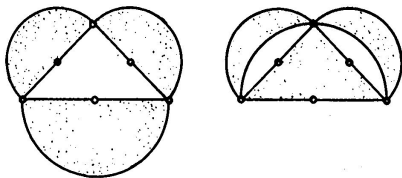
$$S = \frac{1}{2} r \cdot o = \text{konst} \cdot r^2.$$

Tzn. stejná konstanta vystupuje ve vyjádření jak obsahu, tak obvodu!

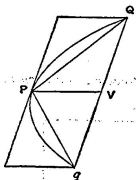
Tradičně se tato konstanta značí π , tudíž

$$S = \pi \cdot r^2 \quad \text{a} \quad o = 2\pi \cdot r.$$

Umíme kvadraturovat libovolný mnohoúhelník (s. 10), kvadraturovat však lze i některé křivočaré útvary:



Hippokratés: Vyznačené půlměsíce mají stejný obsah jako odpovídající pravoúhlý trojúhelník.



Archimédés: Obsah parabolické úseče je roven $\frac{4}{3}$ obsahu trojúhelníku PQq .

- (a) zdvojení krychle $\leadsto x = \sqrt[3]{2a}$,
- (b) rozvinutí kružnice $\leadsto x = 2\pi r$,
- (c) kvadratura kruhu $\leadsto x = \sqrt{\pi}r$,
- (d) roztřetí úhlu $\leadsto x^3 - 3ax^2 - 3x + a = 0$,
- (e) pravidelné mnohoúhelníky $\leadsto \dots\dots$ (s. 27)

Problémy (b) a (c) jsou ekvivalentní; problémy (d) a (e) spolu úzce souvisí.

Díky J.H. Lambertovi, resp. F. Lindemannovi víme, že π není racionální, resp. algebraické číslo.¹⁹

Díky charakterizaci eukleidovsky sestrojitelných veličin (s. 30) víme, že

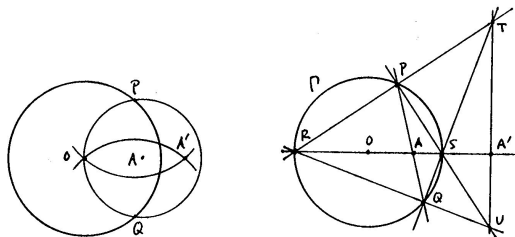
- ▶ problémy (a), (b) a (c) nejsou nikdy řešitelné,
- ▶ problémy (d) a (e) jsou ve speciálních případech řešitelné.

¹⁹r. 1767, resp. 1882

Eukleidovské konstrukce = konstrukce s kružítkem a pravítkem.

Mascheroniovské konstrukce = konstrukce pouze s kružítkem.

Steinerovské konstrukce = konstrukce pouze s pravítkem a jednou kružnicí.



Mascheroniovská a steinerovská konstrukce inverzního bodu A' k bodu A vzhledem ke kružnici se středem O .

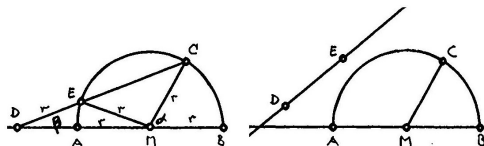
Poznámka

Platí, že konstrukce je proveditelná eukleidovsky

\iff je proveditelná mascheroniovsky

\iff je proveditelná steinerovsky...

Konstrukce *neusis* = konstrukce s kružítkem a pravítkem se značkami (které se přikládají k přímkám, resp. kružnicím)



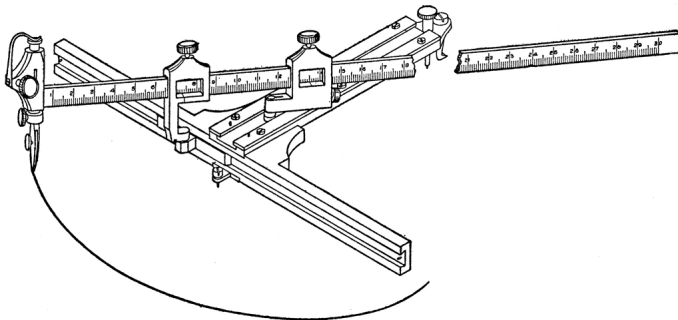
Archimédés: Trisekce úhlu s označeným pravítkem. . .

Poznámka

Takto lze sestavit (reálné) kořeny libovolné kubické rovnice, tedy vyřešit problémy (a), (d) a některé další (e) na s. 44. . .²⁰

²⁰http://en.wikipedia.org/wiki/Neusis_construction

Na tomto principu fungují rozličná mechanická zařízení. . .



Konstrukce elipsy pomocí *neuseis* udělátka.

Známe z roviny:

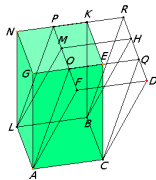
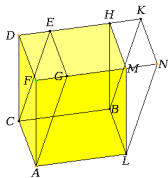
- ▶ Přímky jsou *rovnoběžné*, pokud leží v téže rovině a nemají žádný společný bod.
- ▶ Pokud jsou vedlejší úhly vymezené dvěma protínajícími se přímkami shodné, pak každý z těchto úhlů se nazývá *pravý* a přímky se nazývají *kolmé*.

Nově v prostoru:

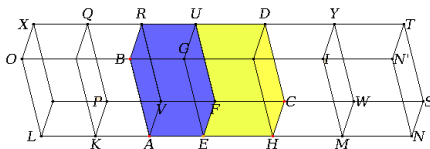
- ▶ Neprotínající se přímky jsou *kolmé*, pokud rovnoběžka k jedné přímce protínající přímkou druhou je k ní kolmá.
- ▶ Přímka je *kolmá* k rovině, pokud je kolmá ke všem přímkám, které v ní leží.
- ▶ Dvě roviny jsou *kolmé*, pokud jedna z rovin obsahuje přímku, která je kolmá ke druhé rovině.
- ▶ Roviny jsou *rovnoběžné*, pokud nemají žádný společný bod.
- ▶ Apod.

K tvrzením o rovnoběžnících (s. 8, s. 34, s. 39) máme tyto 3D analogie:

- ▶ Rovnoběžnostěny se stejnými základnami a stejnými výškami mají stejný objem.



- ▶ Poměr objemů rovnoběžnostěnů se stejnou výškou je stejný jako poměr obsahů jejich základů.

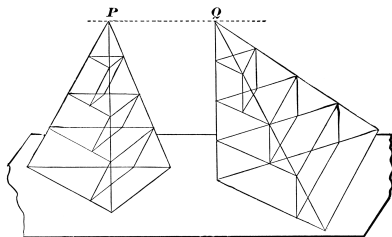


- ▶ Poměr objemů podobných rovnoběžnostěnů je stejný jako poměr třetích mocnin odpovídajících stran.

K tvrzením o trojúhelníciích uvádíme na ukázkou jednu 3D analogii s naprosto **ne**analogickým důkazem:

Věta

Poměr objemů jehlanů se stejnou výškou je stejný jako poměr obsahů jejich základů.



Idea důkazu.

Každý jehlan lze libovolně přesně aproximovat konečným počtem hranolů.

Např. můžeme v obou jehlanech použít hranoly se stejnými výškami.

Poměrům objemů takových hranolů rozumíme (s. 49)...



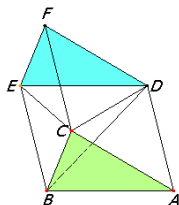
Limitní verze předchozí úvahy je známá jako tzv. *Cavalieriho princip*.²¹

Z uvedeného např. vyvozujeme, že objem trojbokého jehlanu je roven třetině objemu hranolu se stejnou základnou a stejnou výškou:

Teprve odtud máme vzorečky

$$V = \frac{1}{3} S \cdot v,$$

kde V = objem jehlanu, S = obsah podstavy
a v = velikost odpovídající výšky.



Pozor

Ani v případě jehlanů se stejnými základnami a stejnými výškami (tedy se stejnými objemy) nelze úvahy v předchozím důkazu nahradit stříháním a přeskupováním částí jako u rovnoběžnostěnů, resp. hranolů!²²

Tzn. 3D analogie Wallaceovy–Bolyaiovy–Gerwienovy věty (s. 10) obecně **neplatí**.

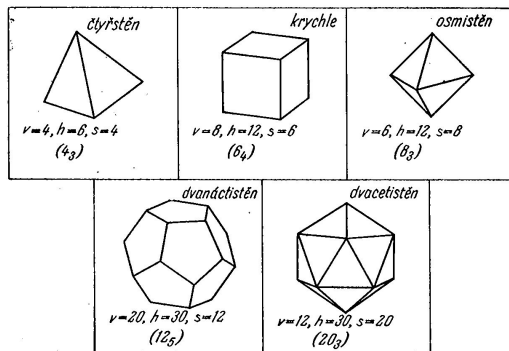
²¹http://en.wikipedia.org/wiki/Cavalieri%27s_principle

²²M. Dehn, 1900

- = pravidelné konvexní mnohostěny
- = konvexní mnohostěny, které mají stejný počet stěn kolem každého vrcholu a jejichž stěny jsou navzájem shodné pravidelné mnohoúhelníky²³

Věta









Platónských těles je právě pět druhů:



²³ \implies mají všechny stěnové úhly shodné, lze je vepsat do koule atd.

(1) Platónských těles není víc než pět druhů:²⁴

součet úhlů kolem každého vrcholu musí být ostře menší než plný úhel:

			
{3,3} Defect 180°	{3,4} Defect 120°	{3,5} Defect 60°	{3,6} Defect 0°
			
{4,3} Defect 90°	{4,4} Defect 0°	{5,3} Defect 36°	{6,3} Defect 0°
<p>A vertex needs at least 3 faces, and an angle defect. A 0° angle defect will fill the Euclidean plane with a regular tiling. By Descartes' theorem, the number of vertices is $720^\circ/\text{defect}$.</p>			

(2) Platónských těles je právě pět druhů:

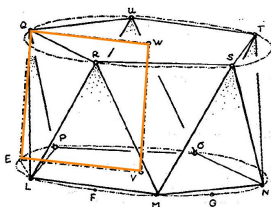
pro každou z pěti možností je třeba „složit“ odpovídající těleso:

- ▶ čtyřstěn {3, 3}, krychle {4, 3}, osmistěn {3, 4} jsou snadné,
- ▶ pro rozbor dvacetistěnu {3, 5} a dvanáctistěnu {5, 3} budeme potřebovat větu o pravidelném 5-, 6- a 10-úhelníku vepsaném do téže kružnice (s. 23)...

²⁴http://en.wikipedia.org/wiki/Platonic_solid

$QL = QR =$ strana vepsaného 5-úhelníku, $LE =$ strana vepsaného 10-úhelníku,
 $LEQ =$ pravoúhlý trojúhelník.

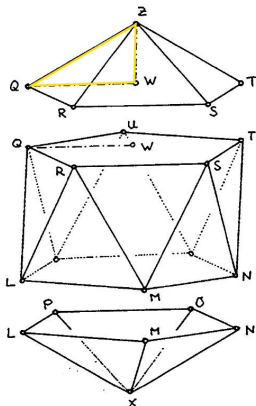
Proto $EQ =$ strana vepsaného 6-úhelníku = poloměr kružnice.



$EQ = VE$, tedy $EVWQ$ je čtverec.

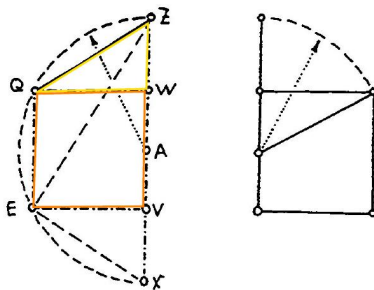
QWZ = pravouhlý trojúhelník, $QZ = QR$ = strana vepsaného 5-úhelníku, QW = strana vepsaného 6-úhelníku.

Proto WZ = strana vepsaného 10-úhelníku = delší část zlatého řezu poloměru kružnice.



WZ = delší část zlatého řezu úsečky WQ .

Pravidelný dvacetistěn je vepsán do koule...



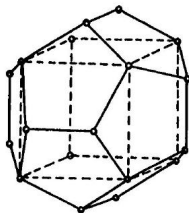
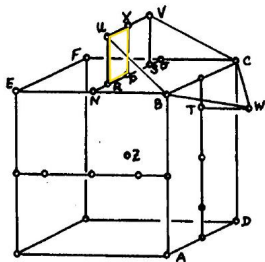
Řez dvacetistěnu a řez zlatý.²⁵

²⁵viz konstrukci na s. 12


Nad každou stěnou krychle uvažme vrcholy U, V, W podle obr.

Zájemci snadno zdůvodní, že:

- ▶ body $UBCWV$ leží v jedné rovině,
- ▶ pětiúhelník $UBCWV$ je pravidelný,
- ▶ vzdálenost středu krychle je od všech vrcholů stejná. . .



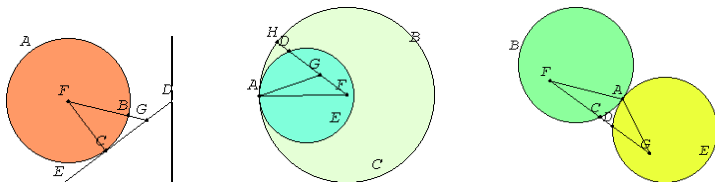
$RU = RP =$ delší část zlatého řezu úsečky PN .



Circogonia icosahedra vlevo nahoře.

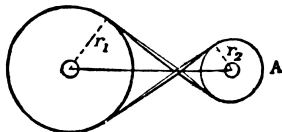
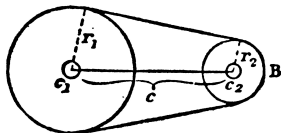
Základy	1
Dotykové úlohy	59
Úvod	60
Základní úlohy	62
Zobecnění	66
Obecná Apollóniova úloha	68
Geometrická zobrazení	77
Zobrazovací metody	128
Závěrečné shrnutí	153
Organizační věci	159
Zdroje	161

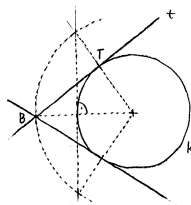
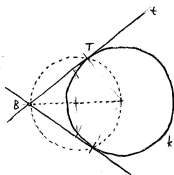
= úlohy s body, přímkami, kružnicemi a jejich *dotykem*...



Často je výhodné (občas nutné) rozlišovat orientace:

- ▶ *cyklus* = orientovaná kružnice,
- ▶ *paprsek* = orientovaná přímka,
- ▶ *orientovaný dotyk* = dotyk ve shodě s orientacemi.

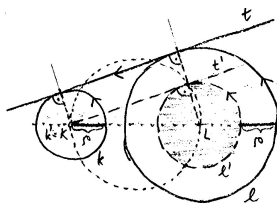
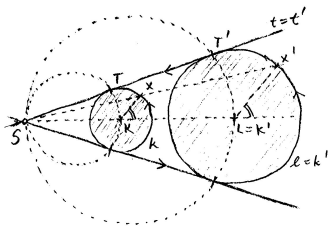




Tečna z bodu ke kružnici:

(a) pomocí Thaletovy kružnice

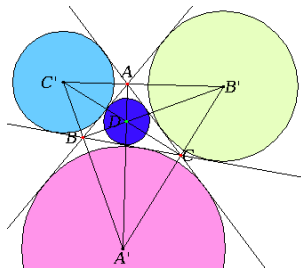
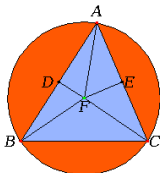
(b) pomocí **souměrnosti**



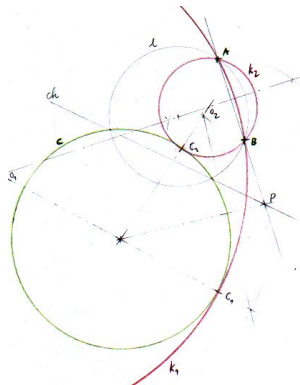
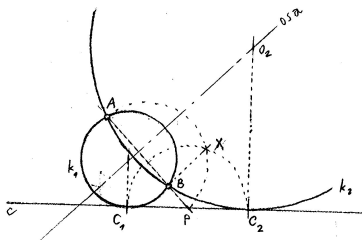
Společné tečny ke dvěma kružnicím:

(a) pomocí **stejnolehlosti**

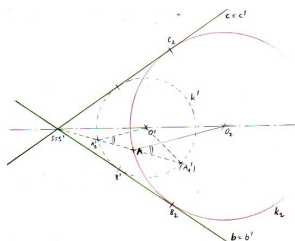
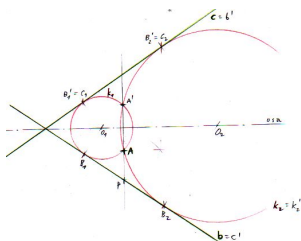
(b) pomocí **dilatace**



Kružnice opsaná trojúhelníku (pomocí os úseček), kružnice vepsaná mezi tři přímky (pomocí os úhlů).

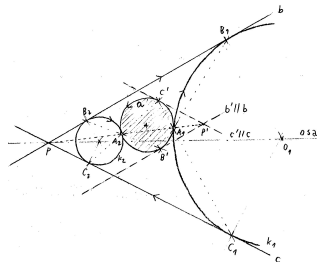
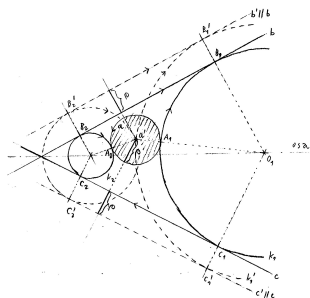


Kružnice procházející dvěma body a dotýkající se přímkou, resp. kružnice:
 (a) pomocí mocnosti (b) ještě uvidíme...



Kružnice procházející bodem a dotýkající se dvou přímek:
 (a) pomocí **soudměrnosti**²⁶ (b) pomocí **stejnolehlosti**

²⁶... redukováno na předchozí případ (s. 64).

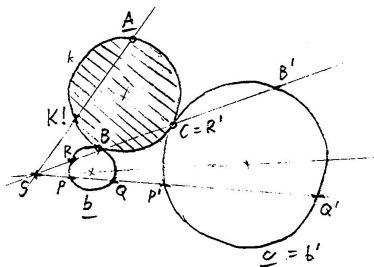


Kružnice dotýkající se kružnice a dvou přímk:

(a) pomocí **dilatace**²⁷

(b) pomocí **stejnolehlosti**

²⁷...redukováno na předchozí případ (s. 65).



Kružnice procházející bodem a dotýkající se dvou kružnic:
pomocí **stejnolehlosti** a mocnosti sestrojen bod K tak, aby $SK \cdot SA = SP \cdot SQ' \dots$ ²⁸

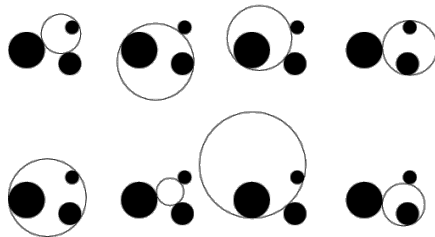
²⁸... a tím redukováno na předchozí případ (s. 64).

= dotyková úloha se třemi danými kružnicemi.

Všechny předchozí úlohy (a mnoho dalších) chápeme jako mezní případy:

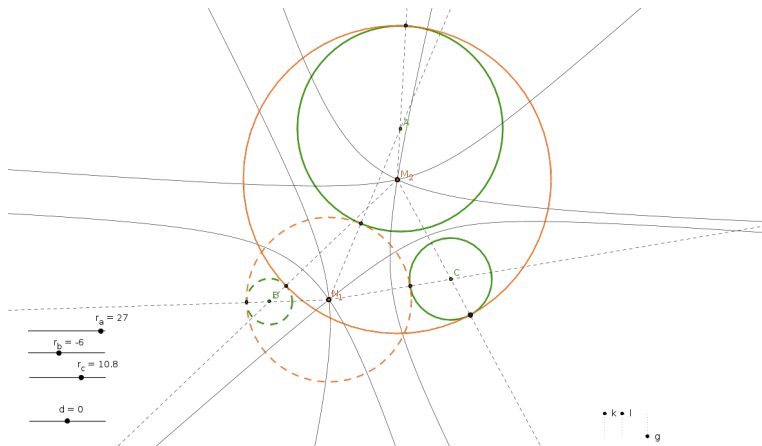
$$\lim_{r \rightarrow 0} (\text{kružnice}) = \text{bod}, \quad \lim_{r \rightarrow \infty} (\text{kružnice}) = \text{přímka}.$$

Obecná (neorientovaná) úloha má až 8 řešení; se zvolenými orientacemi dostáváme řešení po dvojcích:



Zajímavá historie, mnoho rozličných řešení a řada aplikací...²⁹

Viz např. van Roomenovo řešení, Newtonovu reformulaci a problém *trilaterace*...



Středů všech cyklů, které se dotýkají dvou daných cyklů, tvoří kuželosečku.

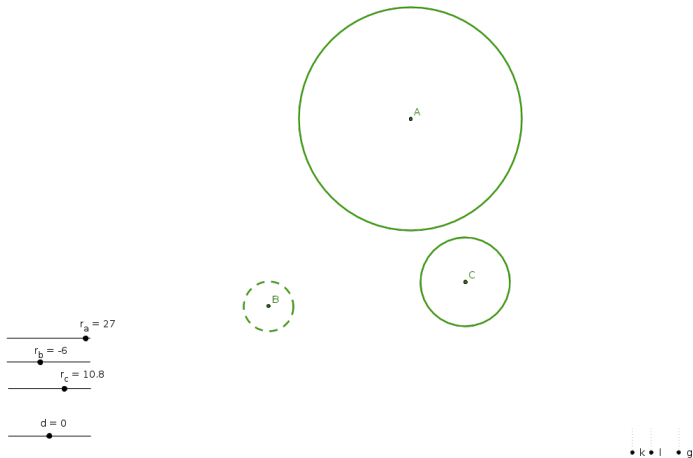
²⁹http://en.wikipedia.org/wiki/Problem_of_Apollonius

Z předchozích ukázek je patrné, že budeme protěžovat užití geometrických transformací k zjednodušení problému:

- ▶ souměrnosti,
- ▶ stejnolehlost,
- ▶ dilatace,
- ▶ kruhová inverze,
- ▶ apod.

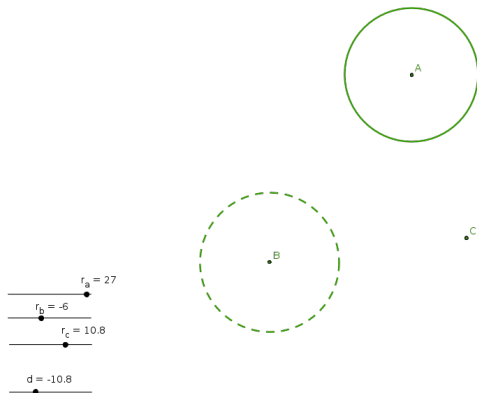
Podrobnosti k jednotlivým transformacím začínají na s. 78; ukázka typického použití na následující straně...³⁰

³⁰<http://ggbtu.be/mrFsNSnbN>



Sestrojit cykly, které se dotýkají tří daných cyklů.³¹

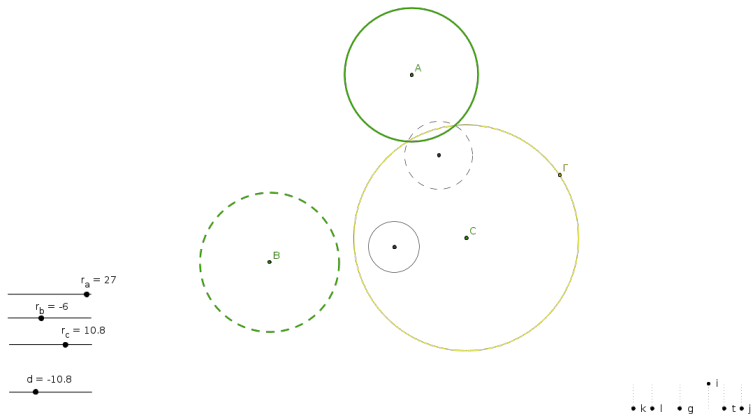
³¹ orientace je vyznačena typem čáry



• k • l • g • i • t • j

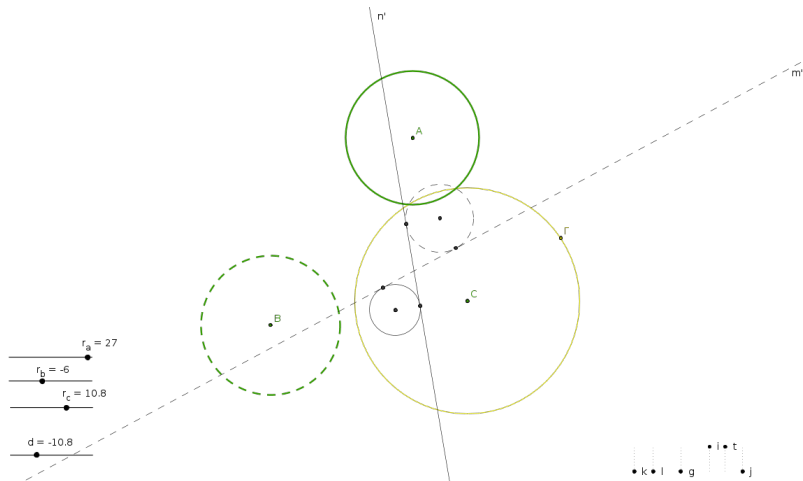
(1) **dilatace**,³²

³²... a tím redukováno na předchozí případ (s. 67), nebo ...



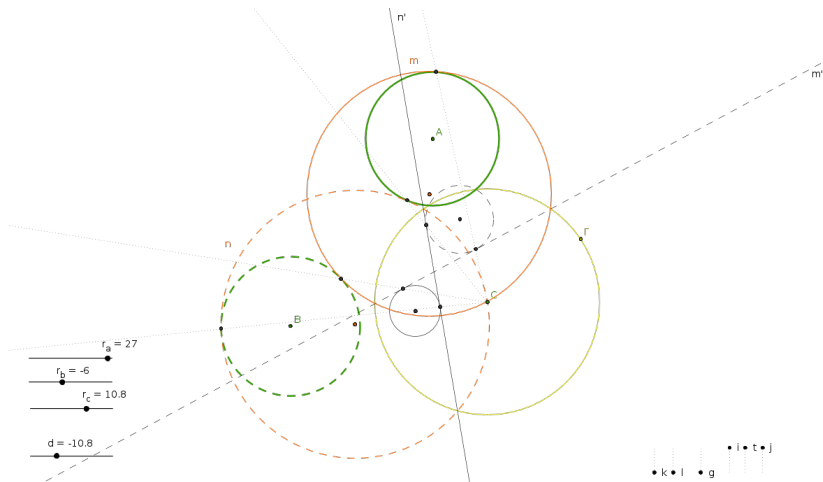
(2) kruhová inverze,³³

³³... se středem v bodě C, ...



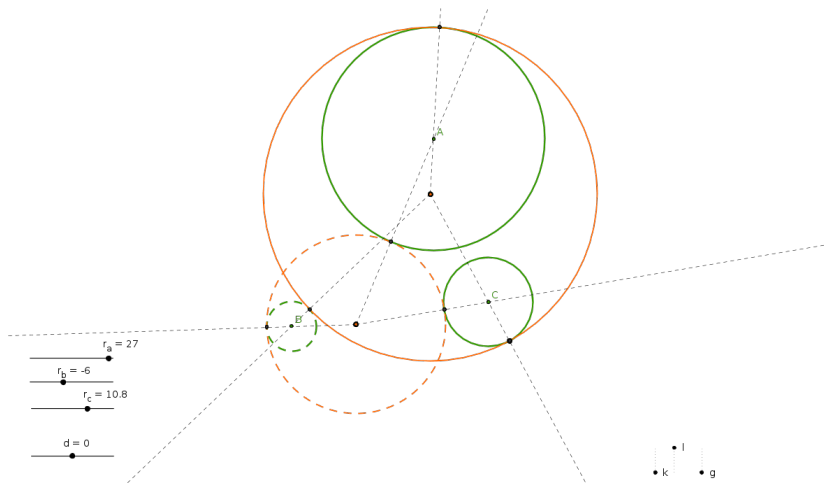
(3) společné tečny,³⁴

³⁴... základní úloha (s. 62), ...



(4) kruhová inverze zpět,³⁵

³⁵... snadné, ...



(5) dilatace zpět.³⁶

Základy	1
Dotykové úlohy	59
Geometrická zobrazení	77
Souměrnosti a shodná zobrazení	78
Stejnolehlost a podobná zobrazení	83
Kruhová inverze a konformní zobrazení	91
Dilatace a kontaktní zobrazení	100
Osová afinita a afinní zobrazení	101
Osová kolineace a projektivní zobrazení	109
Shrnutí	125
Zobrazovací metody	128
Závěrečné shrnutí	153
Organizační věci	159
Zdroje	161

Co to je? Transformace eukleidovské roviny.

Čím je určena? Přímkou o .³⁷

Jak je určena? Obraz A' lib. bodu A leží na kolmici k ose, a to tak, že

$$AA_o = A_oA',$$

kde $A_o =$ průsečík AA' s osou o .

Jaké má vlastnosti? Involutivní transformace s přímkou samodružných bodů, základní shodnost v rovině, nepřímá transformace, ...

³⁷tzv. osa

Definice

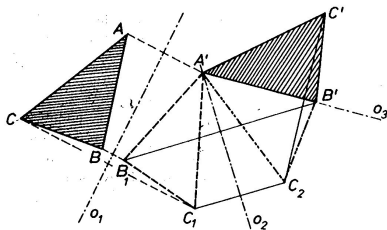
Shodné zobrazení zobrazuje každou úsečku na úsečku s ní shodnou.

Tzn. pro libovolné body A, B a jejich obrazy A', B' platí

$$|A'B'| = |AB|.$$

Věta

Každá shodnost v rovině je složením nejvýše tří osových souměrností:



... proto je osová souměrnost *základní* shodností v rovině.

Odtud klasifikace shodností v rovině:

- (a) *identita* = složení dvou os. soum. takových, že $o_1 = o_2$,
- (b) *posunutí* = složení dvou os. soum. takových, že $o_1 \parallel o_2$,
- (c) *otáčení* = složení dvou os. soum. takových, že o_1 a o_2 jsou různoběžné,
- (d) *středová souměrnost* = složení dvou os. soum. takových, že $o_1 \perp o_2$,
- (e) *osová souměrnost* = jedna os. soum.,
- (f) *posunutá souměrnost* = složení tří obecných os. soum.

Poznámky

Shodnost s přímkou samodružných bodů je právě osová souměrnost (e).

Shodnosti (a)–(d) jsou *přímé* (zachovávají orientaci),
shodnosti (e)–(f) jsou *nepřímé* (mění orientaci).

Pojmenování (f) je odvozeno z možného rozkladu na osovou souměrnost a posunutí:



Obdobné úvahy platí pro shodnosti v prostoru (dim 3), resp. na přímce (dim 1)...
Např. 3-rozměrnou analogií osově souměrnosti je souměrnost podle roviny aneb *zrcadlení*.

Každé shodné zobrazení:

- ▶ zachovává vzdálenosti bodů (definice),
- ▶ zobrazuje přímky na přímky,
- ▶ zachovává odchylky přímek,
- ▶ zachovává obsahy, resp. objemy,
- ▶ je prosté (tj. injektivní).



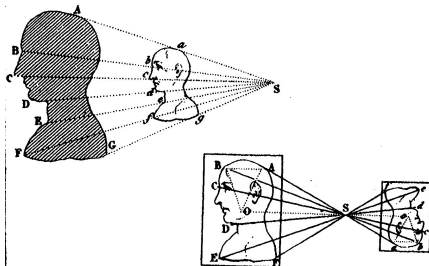
Soměrnosti jsou všude...

Co to je? Transformace eukleidovské roviny.

Čím je určena? Bodem S a nenulovým reálným číslem k .³⁸

Jak je určena? Obraz A' lib. bodu A leží přímce SA , a to tak, že

$$\overrightarrow{SA'} = k \cdot \overrightarrow{SA}, \quad \text{neboli} \quad A' = S + k \cdot \overrightarrow{SA}.$$



Jaké má vlastnosti? Transformace se samodružným bodem,
základní podobnost, v rovině přímá transformace, ...

³⁸tzv. střed a koeficient = poměr škálování

Spec. pro koeficient $|k| = 1$ dostáváme shodnosti:

- ▶ *identita*, pokud $k = 1$,
- ▶ *středová souměrnost*, pokud $k = -1$.

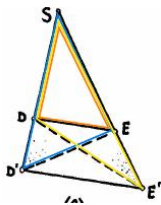
Pokud bychom připustili $k = 0$, dostaneme velmi degenerovaný případ:

- ▶ *zobrazení do jednoho bodu*.

Základní poznatek je na s. 35!

Zejména, každá stejnoolehlost je

- ▶ podobné zobrazení, které
- ▶ každou přímku zobrazuje na přímku s ní rovnoběžnou.

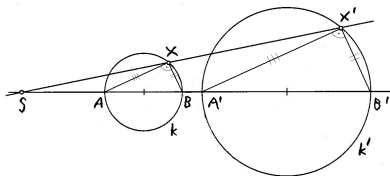


Zobrazení s těmito vlastnostmi není mnoho, jmenovitě tři:

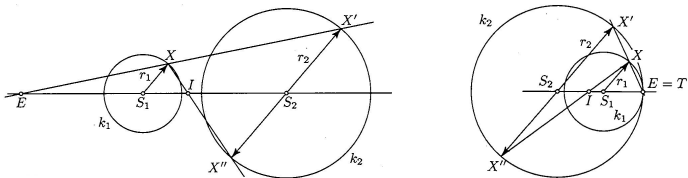
Věta

Složení dvou stejnoolehlostí se středy S_1 , resp. S_2 a koeficienty k_1 , resp. k_2 je:

- (a) *identita, právě když $k_1 k_2 = 1$ a $S_1 = S_2$,*
- (b) *posunutí, právě když $k_1 k_2 = 1$ a $S_1 \neq S_2$,*
- (c) *obecná stejnoolehlost, právě když $k_1 k_2 \neq 1$.*

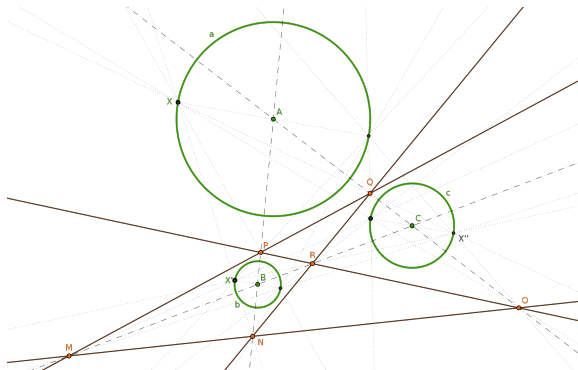


Stejnolehlým obrazem kružnice je kružnice.



Každé dvě kružnice jsou stejnolehlé, a to dvojím způsobem.

Jako důsledek předchozích poznatků pro zajímavost uvádíme:



Mezi šesti středy stejnolehlostí tří kružnic jsou čtyři kolineární trojice.

Definice

Podobné zobrazení zachová poměry vzdáleností.

Tzn. pro libovolné body A, B a jejich obrazy A', B' platí

$$|A'B'| = \mathbf{konst} \cdot |AB|.$$

Tato **konst.** je tzv. *koeficient podobnosti* a je to kladné reálné číslo.

Věta

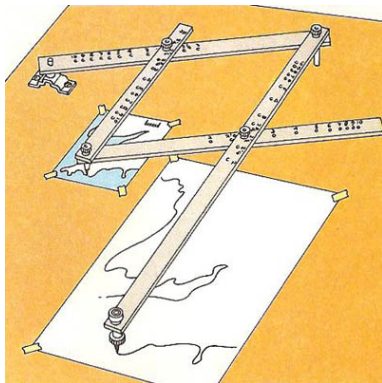
Každé podobné zobrazení je složením nějaké shodnosti a stejnolehlosti.

... proto je stejnolehlost *základní* podobností.

Každé shodné zobrazení je podobné (s koeficientem $k = 1$).

Každé podobné zobrazení:

- ▶ zachovává poměry vzdáleností (definice),
- ▶ zobrazuje přímky na přímky,
- ▶ zachovává odchylky přímk,
- ▶ obsahy se mění k^2 -krát, resp. objemy se mění k^3 -krát,
- ▶ je prosté (tj. injektivní).

Pantograf³⁹

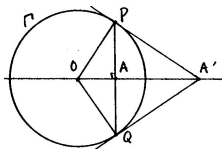
³⁹<http://en.wikipedia.org/wiki/Pantograph>

Co to je? Transformace roviny vyjma jednoho bodu, ozn. O .⁴⁰

Čím je určena? Kružnicí se středem O a poloměrem r .⁴¹

Jak je určena? Obraz A' lib. bodu $A \neq O$ leží na polopřímce OA , a to tak, že

$$|OA| \cdot |OA'| = r^2, \quad \text{neboli} \quad |OA'| = \frac{r^2}{|OA|}.$$



Jaké má vlastnosti? Involutivní transformace s kružnicí samodružných bodů, základní konformní transformace v rovině, nepřímá, ...

K čemu to je dobré? Bude zřejmé z dalších vlastností. . .

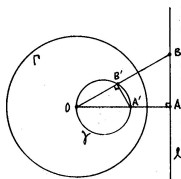
⁴⁰tzv. střed kruhové inverze

⁴¹tzv. řídicí kružnice

- (a) Kruhová inverze je involutivní transformace.
- (b) Všechny body na řídicí kružnici jsou samodružné.
- (c) Všechno, co je vně řídicí kružnice, se zobrazuje dovnitř, a naopak.
- (d) Každá přímka procházející středem inverze je samodružná; přitom jediné samodružné body jsou průsečíky s řídicí kružnicí a

$$\lim_{X \rightarrow \infty} X' = O, \quad \text{resp.} \quad \lim_{X \rightarrow O} X' = \infty.$$

- (e) Kružnice procházející středem O se zobrazuje na **přímku** (neprocházející středem O), a naopak.



Důkaz.

Předp. $A =$ vzor a $A' =$ obraz vzhledem ke kruhové inverzi Γ ; $\gamma =$ kružnice s průměrem OA' , $\ell =$ kolmice k OA . Dokážeme, že $\gamma = \ell'$:

Thaletova věta \implies úhel $OB'A'$ je pravý \implies trojúhelníky OAB a $OA'B'$ jsou podobné⁴² \implies

$$OB' : OA = OA' : OB, \quad \text{neboli} \quad OB' \cdot OB = OA' \cdot OA.$$

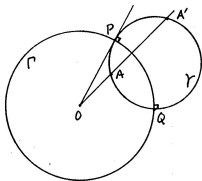
Body A, A' si však odpovídají vzhledem ke kruhové inverzi Γ , tudíž

$$\underline{OB' \cdot OB} = OA' \cdot OA = \underline{r^2}. \quad \square$$

⁴²oba trojúhelníky jsou pravoúhlé a navíc mají společný úhel u vrcholu O

(f) Kružnice kolmá ke Γ se zobrazuje **sama do sebe**.

Naopak, každá kružnice procházející dvojicí inverzních bodů je kolmá ke Γ .



Důkaz.

Kružnice γ protíná řídicí kružnici Γ kolmo⁴³

\iff poloměr OP je tečnou ke kružnici γ

\iff pro libovolnou sečnu jdoucí bodem O platí⁴⁴

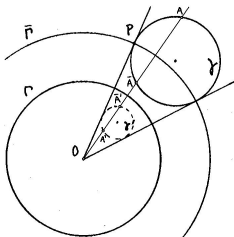
$$OA \cdot OA' = OP^2 = r^2$$

\iff body A, A' si odpovídají vzhledem ke kruhové inverzi Γ . □

⁴³tzn. tečny ve společném bodě P jsou kolmé

⁴⁴podle věty o mocnosti bodu ke kružnici (s. 17)

- (g) Obecná kružnice neprocházející středem O se zobrazuje do jiné kružnice neprocházející O .



Důkaz.

Uvažme kružnici $\bar{\Gamma}$, která je soustředná s Γ a protíná kružnici γ kolmo. Ukážeme, že složení kruhových inverzí $\bar{\Gamma}$ a Γ je stejnolehlost:

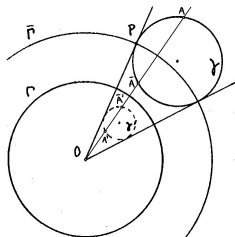
Ozn. $A \mapsto A'$ kruhovou inverzí vzhledem k Γ a $A \mapsto \bar{A}$ kruhovou inverzí vzhledem k $\bar{\Gamma}$, tedy

$$OA \cdot OA' = r^2 \quad \text{a} \quad O\bar{A} \cdot O\bar{A}' = \bar{r}^2.$$

Odtud po úpravě

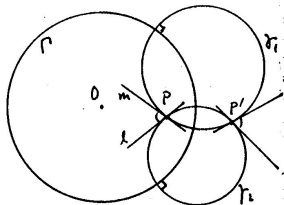
$$O\bar{A}' : OA = r^2 : \bar{r}^2 = \mathbf{konst.}, \quad \text{neboli} \quad O\bar{A}' = \mathbf{konst} \cdot OA. \quad \square$$

Při stejnolehlosti $\Gamma \circ \bar{\Gamma} : A \mapsto \bar{A}'$ se střed γ zobrazuje na střed γ' .



Při kruhové inverzi $\Gamma : A \mapsto A'$ se střed γ **nezobrazuje** na střed γ' !
(Viz obraz středu γ vzhledem ke kruhové inverzi $\bar{\Gamma}$...)

(h) Kruhová inverze je **konformní** zobrazení.⁴⁵



Důkaz.

Odchylka dvou křivek v jejich společném bodě P = odchylka jejich tečen m a ℓ .

Místo dvou obecných křivek můžeme uvažovat lib. dvě kružnice, které prochází bodem P a mají přímky m a ℓ jako tečny.

Místo obecných dvou kružnic můžeme uvažovat kružnice γ_1 a γ_2 , které jsou kolmé k řídicí kružnici Γ !

Avšak kružnice γ_1 a γ_2 se zobrazují samy do sebe, obrazem bodu P je druhý společný bod P' kružnic a odchylka v bodě P je stejná jako odchylka v bodě P' .

□

⁴⁵Tzn. zachovává odchylky protínajících se křivek.

Každé podobné zobrazení je konformní.

Každé konformní zobrazení v rovině je složením podobných zobrazení a kruhových inverzí.

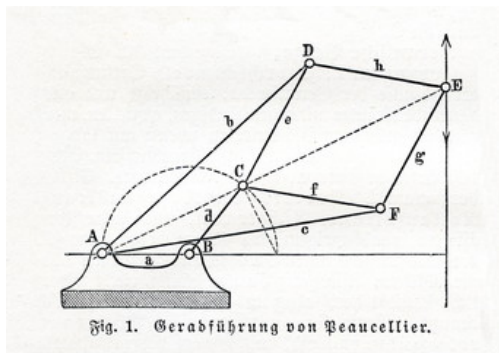
... proto je kruhová inverze *základním* konformním zobrazením v rovině.

Limitním případem kruhové inverze je osová souměrnost (pro $r \rightarrow \infty$).

3-rozměrnou analogií kruhové inverze je kulová inverze...

Kruhová inverze (a každé konformní zobrazení):

- ▶ **nezachovává** vzdálenosti ani poměry vzdáleností,
- ▶ **nezobrazuje** přímky na přímky,
- ▶ **nezachovává** obsahy, resp. objemy,
- ▶ ale zachovává odchylky protínajících se křivek,
- ▶ je prosté (tj. injektivní).



Peaucellierův–Lipkinův mechanismus převádí přímočarý pohyb na otáčivý a naopak...⁴⁶

⁴⁶http://en.wikipedia.org/wiki/Peaucellier%E2%80%93Lipkin_linkage

Co to je? Orientované **kontaktní** zobrazení v rovině.⁴⁷

Čím je určena? Nenulovým reálným číslem ρ .

Jak je určena? Obraz lib. orient. dotyk. elementu zastoupeného vektorem \mathbf{v} je reprezentován vektorem \mathbf{v}' , který je posunut o vzdálenost ρ kolmo k \mathbf{v} , a to na správnou stranu v závislosti na orientaci. . .



Jaké má vlastnosti? Orientované kontaktní zobrazení!

K čemu to je dobré? Zachovává orientovaný dotyk křivek (viz s. 62, s. 66, s. 72, . . .)!

⁴⁷(Orientovaná) kontaktní zobrazení nezobrazují body, ale tzv. (orientované) *dotykové*, neboli *kontaktní elementy*. Ty jsou reprezentovány přímkami (polopřímkami, resp. vektory). . .
Všechna ostatní zobrazení v tomto kurzu jsou **bodová** zobrazení!

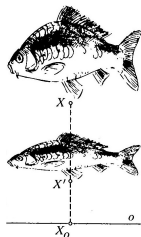
Co to je? Transformace eukleidovské roviny.

Čím je určena? Přímkou o , směrem \mathbf{s} a nenulovým reálným číslem m .⁴⁸

Jak je určena? Obraz A' lib. bodu A leží na přímce se směrem \mathbf{s} , a to tak, že

$$\overrightarrow{A'A_0} = m \cdot \overrightarrow{AA_0},$$

kde A_0 = průsečík AA' s osou o .



Jaké má vlastnosti? Transformace s přímkou samodružných bodů,
základní afinní transformace v rovině,
přímá/nepřímá podle znaménka m , ...

⁴⁸tzv. osa, směr škálování a modul = poměr škálování v daném směru

Speciálními, resp. mezními případy osově afinity jsou:

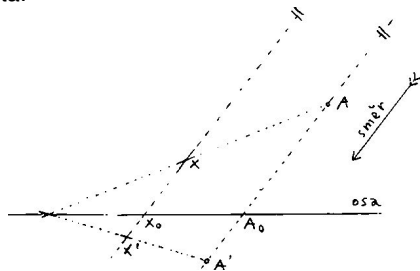
- ▶ *osová souměrnost*, pokud $m = -1$ a $\mathbf{s} \perp o$,
- ▶ *šikmá souměrnost*, pokud $m = -1$ a $\mathbf{s} \not\perp o$,
- ▶ *elace* aneb *naklonění*, pokud $\mathbf{s} \parallel o$ ($\implies m = 1$),



Pokud bychom připustili $m = 0$, dostaneme degenerovaný (neinjektivní) případ:

- ▶ *rovnoběžné promítání* do přímky o ve směru \mathbf{s} .

Obecná osová afinita:



- (a) zobrazuje kolineární body na kolineární body,
- (b) zachovává poměry vzdáleností trojic kolineárních bodů,⁴⁹
- (c) zachovává rovnoběžnost přímek.

Důkaz.

Variace na podobné trojúhelníky. . .

□

⁴⁹tzv. dělicí poměry bodů

Definice

Obecné *afinní* zobrazení je zobrazení s vlastnostmi (a)–(c) ze s. 103.

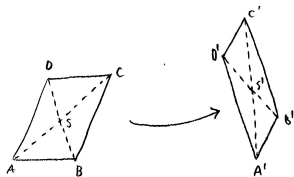
Afinní zobrazení nemusí být prosté⁵⁰ (viz rovnoběžné promítání).

Bijektivní afinní zobrazení se nazývá *afinita* (viz osová afinita).

Afinita, která zachovává obsahy (resp. objemy), se nazývá *ekviafinita* (viz šikmá souměrnost nebo elace).

Poznámka

Za předpokladu (a) jsou vlastnosti (b) a (c) ekvivalentní...



Analogicky k tvrzení na s. 79 máme:

Věta

Každá afinita v rovině je složením nejvýše tří osových afinit.

... proto je osová afinita *základní* afinitou v rovině.



Stejnolehlost jako složení dvou osových afinit. . .

Poznámky

K vyjádření neinjektivních zobrazení potřebujeme také rovnoběžná promítání. . .

Afinní zobrazení v rovině s přímkou samodružných bodů je právě osová afinita nebo rovnoběžné promítání do přímky.

Afinní zobrazení mezi přímkami je zcela určeno podmínkou (b), tj. obrazy dvou různých bodů. . .

Afinní zobrazení mezi rovinami je zcela určeno obrazy tří bodů v obecné poloze. . .

Věta

Prostě⁵¹ afinní zobrazení prostoru dimenze n je jednoznačně určeno obrazy $n + 1$ bodů v obecné poloze.

Důkaz.

Konstruktivní — pomocí rovnoběžek a přenášení dělicích poměrů. . . ⁵²



⁵¹resp. „ne příliš degenerované“ . . .

⁵²<http://tube.geogebra.org/student/m1070821>

Každé podobné zobrazení je afinní.

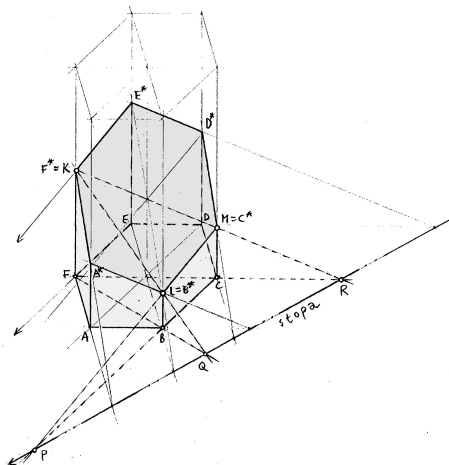
Každé shodné zobrazení je ekviafinní.

3-rozměrnou analogií osové afinity je afinita s rovinou samodružných bodů. . .

3-rozměrnou analogií rovnoběžného promítání do přímky je rovnoběžné promítání do roviny. . .

Obecné afinní zobrazení:

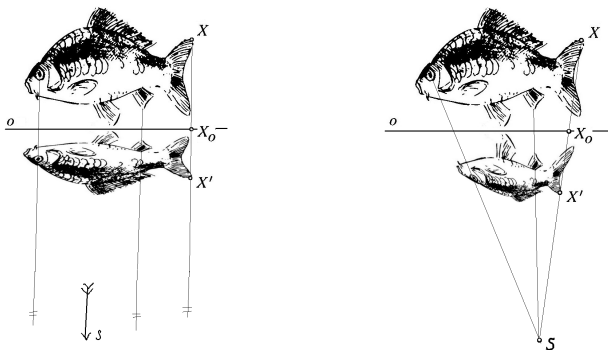
- ▶ zobrazuje přímky na přímky,
- ▶ zachovává poměry vzdáleností trojic kolin. bodů,
- ▶ zachovává rovnoběžnost,
- ▶ **nezachovává** obsahy, resp. objemy,
- ▶ **nezachovává** odchylky,
- ▶ **nemusí** být prosté (tj. injektivní).



Afinní obraz pravidelného šestibokého hranolu a jeho řez rovinou KLM .⁵³

⁵³<http://ggbtu.be/mkvJL3iqr>

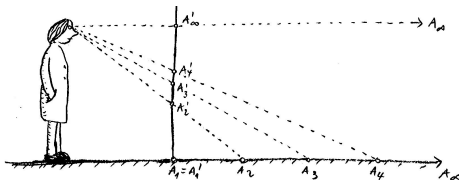
Posledním zobecněním je tzv. *osová kolineace*:



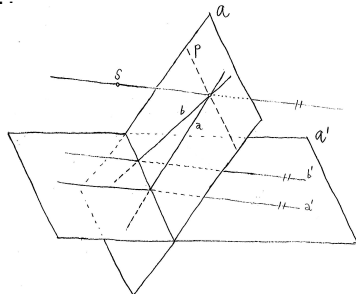
Je to základní projektivní transformace v rovině; k jejímu pořádnému popisu nejdřív musíme vysvětlit několik věcí...⁵⁴

Středové promítání aneb projekce

Jiné typické projektivní zobrazení je středové promítání:



Při středovém promítání mezi eukleidovskými prostory některé body nemají vzor, některé nemají obraz...

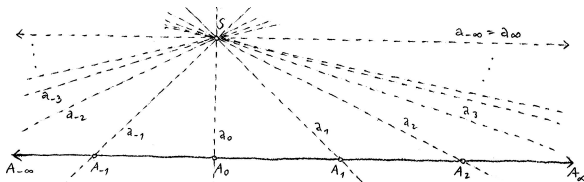


... resp. se jedná o „body v nekonečnu“.

Projektivní přímka/rovina/prostor je eukleidovská přímka/rovina/prostor rozšířená o „body v nekonečnu“.

Body v nekonečnu jmenujeme *nevlastní*, ostatní pak *vlastní*.

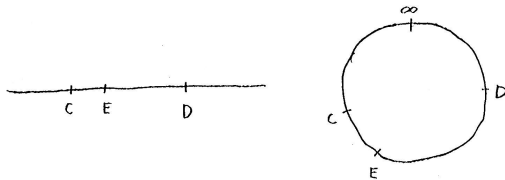
- ▶ Projektivní rozšíření eukleidovské přímky má **právě jeden** nevlastní bod:



- ▶ Projektivní rozšíření eukleidovské roviny má přímku nevlastních bodů apod.
- ▶ Každé dvě přímky v projektivní rovině se protínají.⁵⁵

⁵⁵Rovnoběžky se protínají v nevlastním bodě, různoběžky ve vlastním.

- ▶ Projektivní přímka je uzavřená.
- ▶ Projektivní přímka nerozděluje projektivní rovinu na dvě nesouvislé části.
- ▶ Uspořádání bodů na projektivní přímce nemá valného smyslu:



Eukleidovská vs. projektivní přímka

Definice

Dělicí poměr trojice kolineárních bodů (A, B, C) je reálné číslo d takové, že platí $\overrightarrow{AC} = d \cdot \overrightarrow{BC}$; značíme a zapisujeme takto:

$$d = (AB C) = \frac{\overrightarrow{AC}}{\overrightarrow{BC}}.$$

Dvojpoměr čtveřice kolineárních bodů (A, B, C, D) je poměr dělicích poměrů $(AB C) : (AB D)$, tedy

$$(AB CD) = \frac{\overrightarrow{AC}}{\overrightarrow{BC}} : \frac{\overrightarrow{AD}}{\overrightarrow{BD}}.$$

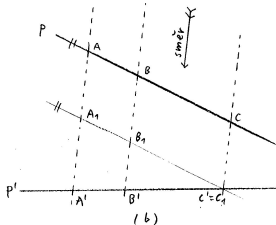
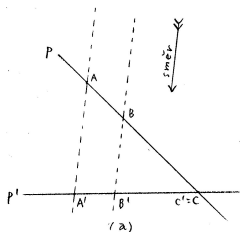
Poznámky

Vzhledem k tomu, že $\lim_{D \rightarrow \infty} (AB D) = 1$, platí $\lim_{D \rightarrow \infty} (AB CD) = (AB C)$; stručně

$$(AB CD_{\infty}) = (AB C).$$

Věta

Při rovnoběžném promítání se zachovávají poměry trojic kolineárních bodů.⁵⁶



Důkaz.

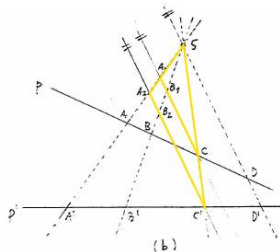
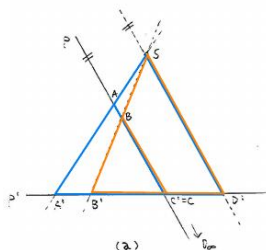
- (a) Spec. případ plyne z podobnosti trojúhelníků $AA'C$ a $BB'C'$ (s. 35).
 (b) Obecný případ plyne z (a) a shodností protilehlých stran v rovnoběžnících.



⁵⁶... pokud se různé body zobrazí na různé body.

Věta (Pappova)

Při středovém promítání se zachovávají dvojpoměry čtveřic kolineárních bodů.⁵⁷



Důkaz.

- (a) Spec. případ plyne z podobnosti dvojic barevně rozlišených trojúhelníků, jedné úpravy a vztahu $(ABC) = (ABCD_\infty)$...
- (b) Obecný případ plyne z (a) a podobnosti dvojice žlutých trojúhelníků...

⁵⁷... pokud se různé body zobrazí na různé body.

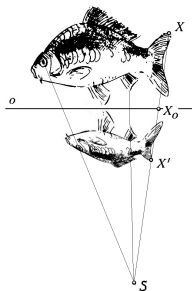
Co to je? Transformace **projektivní** roviny.

Čím je určena? Přímkou o , bodem S a nenulovým reálným číslem m .⁵⁸

Jak je určena? Obraz A' lib. bodu A leží na přímce SA , a to tak, že

$$(A'A A_o S) = m,$$

kde A_o = průsečík AA' s osou o a $(A'A A_o S) =$ **dvojpoměr**.



Jaké má vlastnosti? Transformace s přímkou samodružných bodů,
základní projektivní transformace v rovině, ...

⁵⁸tzv. osa, střed a modul

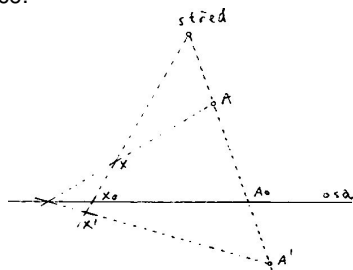
Speciálními, resp. mezními případy osové kolineace jsou:

- ▶ *osová afinita*, pokud $S =$ nevlastní,
- ▶ *stejnolehlost*, pokud $o =$ nevlastní,
- ▶ *posunutí*, pokud S i o jsou nevlastní.

Pokud bychom připustili $m = 0$, dostaneme degenerovaný (neinjektivní) případy:

- ▶ *středové promítání* do přímky o z bodu S .
- ▶ *rovnoběžné promítání* do přímky o , pokud $S =$ nevlastní.

Obecná osová kolineace:



- (a) zobrazuje kolineární body na kolineární body,
- (b) zachovává dvojpoměry čtveřic kolineárních bodů.

Důkaz.

Plyne z definice a z Pappovy věty...



Definice

Obecné *projektivní* zobrazení je zobrazení s vlastnostmi (a) a (b) ze s. 118.

Projektivní zobrazení nemusí být prosté (viz středové promítání).

Bijektivní projektivní zobrazení se nazývá *projektivita* nebo *kolineace* (viz osová kolineace).

Poznámka

Z (a) a (b) plyne, že prosté projektivní zobrazení

(c) zobrazuje projektivní přímky na projektivní přímky.⁵⁹

Ve skutečnosti platí, že (c) \implies (b)...⁶⁰

⁵⁹tedy nikoli např. na úsečky nebo jiné části přímek

⁶⁰... viz **základní větu projektivní geometrie** (příští semestr)!

Analogicky k tvrzení na s. 105 máme:

Věta

Každá kolineace v (projektivní) rovině je složením nejvýše tří osových kolineací.

... proto je osová kolineace základní kolineací v rovině.

Poznámky

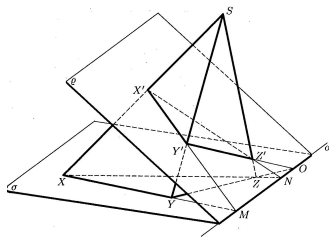
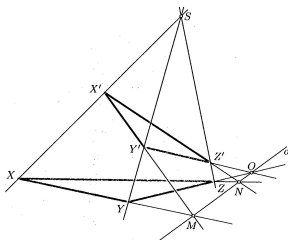
K vyjádření neinjektivních zobrazení potřebujeme také středová promítání...

Projektivní zobrazení v rovině s přímkou samodružných bodů je právě osová kolineace nebo středové promítání do přímky...⁶¹

⁶¹... viz Desarguesovu větu

Věta (Desarguesova)

Pro libovolné dva trojúhelníky XYZ a $X'Y'Z'$ v projektivní rovině platí:
 přímky XX' , YY' , ZZ' prochází jedním bodem \iff průsečíky přímek XY
 a $X'Y'$, YZ a $Y'Z'$, XZ a $X'Z'$ leží na jedné přímce.



Desarguesova věta a její trojrozměrná interpretace.

Projektivní zobrazení mezi přímkami je zcela určeno podmínkou (b), tj. obrazy tří různých bodů; tedy např. obrazy dvou různých vlastních bodů a jedním úběžníkem. . .

Projektivní zobrazení mezi rovinami je zcela určeno např. obrazy tří vlastních bodů v obecné poloze a dvěma odpovídajícími úběžníky. . .

Věta

Prostě⁶² projektivní zobrazení prostoru dimenze n je jednoznačně určeno obrazy $n + 1$ vlastních bodů v obecné poloze a n odpovídajícími úběžníky.

Důkaz.

Konstruktivní — pomocí přenášení dvojpoměrů. . .⁶³



⁶²resp. „ne příliš degenerované“ . . .

⁶³<http://tube.geogebra.org/student/m1070821>

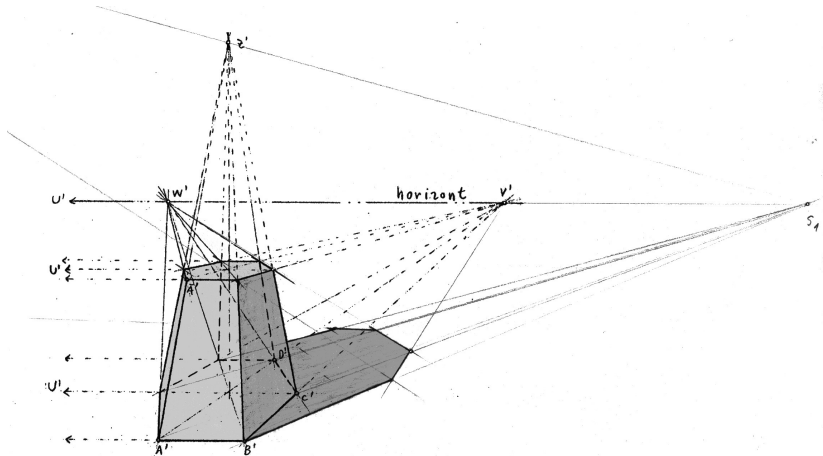
Každé afinní zobrazení je projektivní.

3-rozměrnou analogií osové kolineace je kolineace s rovinou samodružných bodů. . .

3-rozměrnou analogií středového promítání do přímky je středové promítání do roviny. . .

Obecné projektivní zobrazení:

- ▶ zobrazuje přímky na přímky,
- ▶ zachovává dvojpoměry vzdáleností čtveřic kolin. bodů,
- ▶ **nezachovává** rovnoběžnost,
- ▶ **nezachovává** obsahy, resp. objemy,
- ▶ **nezachovává** odchylky,
- ▶ **nemusí** být prosté (tj. injektivní).



Projektivní obraz pravidelného šestibokého hranolu a jeho stín.

Vše, co jsme kdy jmenovali základní transformací v rovině, mělo:⁶⁴

- ▶ *osu* = přímku samodružných bodů,
- ▶ *střed* = takový bod, že každá jím jdoucí přímka je samodružná.

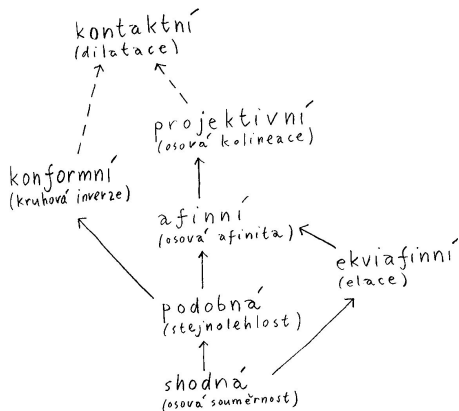
Z Desarguesovy věty (s. 121): transformace má osu \iff má střed!

střed S	osa o	$S \in o$	modul	druh
vlastní	vlastní	ne ano ne ne	0 1 -1 jinak	(středové promítání do přímky) projektivní elace harmonická souměrnost osová kolineace
nevlastní	vlastní	ne ano ne ne	0 1 -1 jinak	(rovnoběžné promítání do přímky) elace šikmá, resp. osová souměrnost osová afinita
vlastní	nevlastní	ne ne ne ne	0 1 -1 jinak	(promítání do bodu) identita středová souměrnost stejnolehlost
nevlastní	nevlastní	ano	1	posunutí

⁶⁴<http://tube.geogebra.org/student/m1073959>

	kolin.	vzdál.	děl. pom.	dvojpom.	rovnob.	obs.	odch.
projektivní	+	-	-	+	-	-	-
afinní	+	-	+	+	+	-	-
ekviafinní	+	-	+	+	+	+	-
podobná	+	-	+	+	+	-	+
shodná	+	+	+	+	+	+	+
konformní	-	-	-	-	-	-	+

- ▶ Projektivní zobrazení, které zobrazuje všechny vlastní body na vlastní (ekvivalentně, nevlastní body na nevlastní), je afinní.
- ▶ Afinní zobrazení, které zachovává poměry vzdáleností jakýchkoli (tedy i nekolineárních) trojic bodů, je podobné.
- ▶ Konformní zobrazení, které je projektivní, je podobné.
- ▶ Podobné zobrazení, které je ekviafinní, je shodné.



Základy	1
Dotykové úlohy	59
Geometrická zobrazení	77
Zobrazovací metody	128
Úvod	129
Známe: volné průměty	133
Nově: sdružené a vázané průměty	135
Závěrečné shrnutí	153
Organizační věci	159
Zdroje	161

Co chceme? Názorné a korektní 2D obrazy 3D objektů⁶⁵
a rekonstrukce skutečných 3D vztahů z 2D obrazů.

V jakém rámci? V rámci projektivních zobrazení:

přímky \mapsto přímky, resp. body.

Jak dělíme? Podle způsobu promítání $\left\{ \begin{array}{l} \text{středové} \\ \text{rovnoběžné} \end{array} \right. \left\{ \begin{array}{l} \text{šikmé} \\ \text{kolmé} \end{array} \right.$

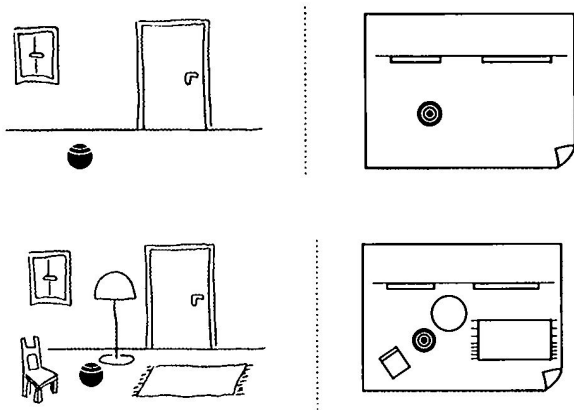
Podle způsobu zadání $\left\{ \begin{array}{l} \text{volné} \\ \text{vázané} \end{array} \right.$

Základní úlohy? Pro volné průměty:
(1) přenášení poměrů/dvojpoměrů.

Pro vázané průměty:
(2) průnik přímky a roviny,
(3) vzdálenost dvou bodů.

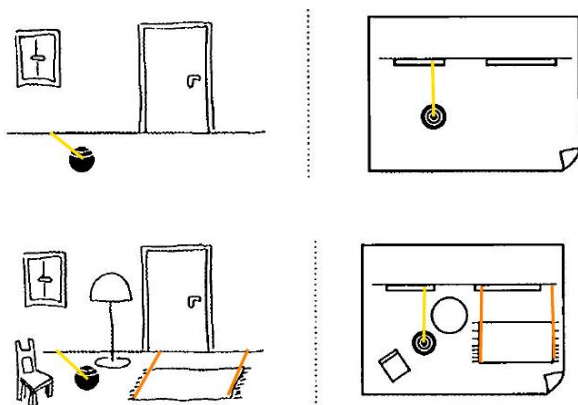
⁶⁵... taková zobrazení jsou vždy degenerovaná (**neprostá**)!

Korespondence mezi obecným a kolmým průmětem (půdorysem):



Je všechno OK?

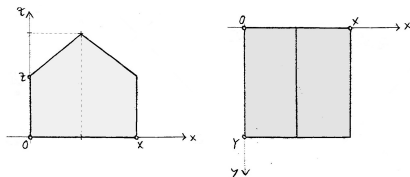
Korespondence mezi obecným a kolmým průmětem (půdorysem):



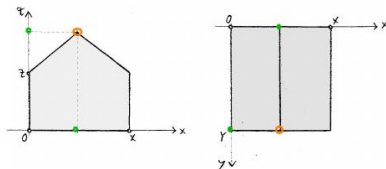
Není, ale umíme napravit!

Bod v 3D prostoru je jednoznačně určen

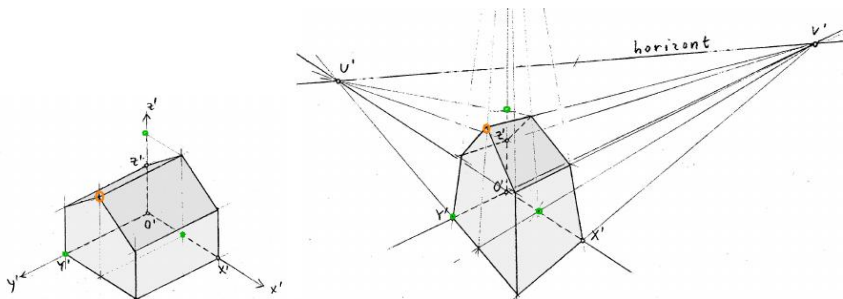
- ▶ souřadnicemi $A = (x_A, y_A, z_A)^{66} \rightsquigarrow$ výpočty,
- ▶ půdorysem $A_1 = (x_A, y_A)$ a kótou (= souřadnicí z_A) \rightsquigarrow mapy,
- ▶ půdorysem $A_1 = (x_A, y_A)$ a cyklem (= kružnicí s poloměrem $|z_A|$ a orientací podle znaménka z_A) \rightsquigarrow cyklografie,
- ▶ půdorysem $A_1 = (x_A, y_A)$ a nárysem $A_2 = (x_A, z_A)$ \rightsquigarrow !



⁶⁶... vzhledem k nějaké kartézské souřadné soustavě

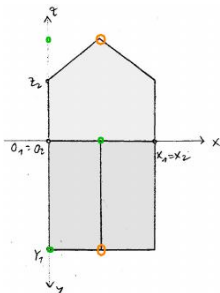


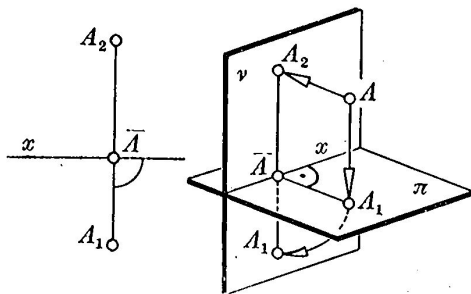
Volné (rovnoběžné, resp středové) promítání je určeno obrazy několika málo bodů (viz s. 106, resp. s. 122)...⁶⁷



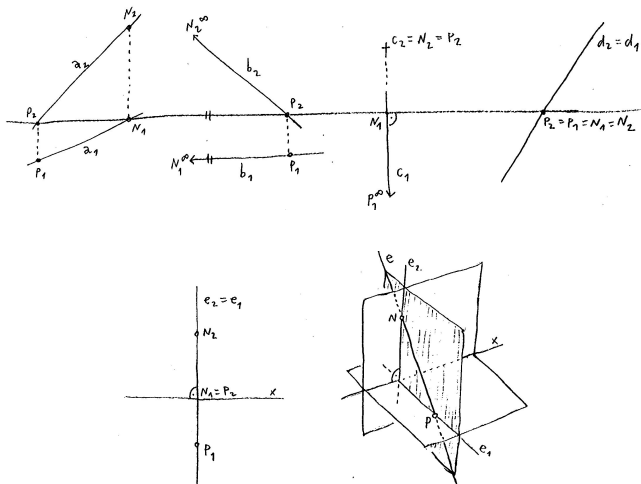
⁶⁷<https://ggbm.at/yWcCaQeA>

= kolmé průměty do dvou souřadných rovin (půdorys a nárys), které jsou sdruženy vzhledem ke společné souřadnici (x)



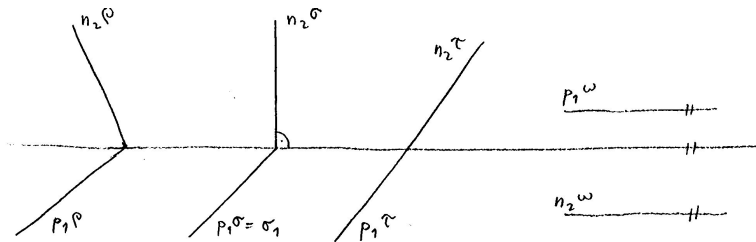


Bod v prostoru je určen sdruženými průměty.



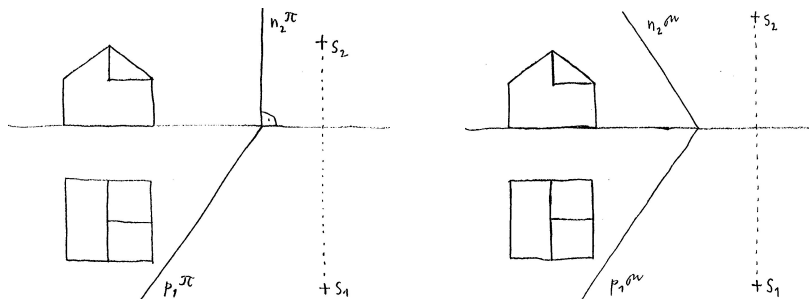
Přímka v prostoru je určena sduženými průměty, příp. stopníky.⁶⁹

⁶⁹<https://ggbm.at/TxNch9AB>



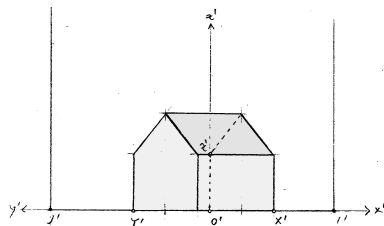
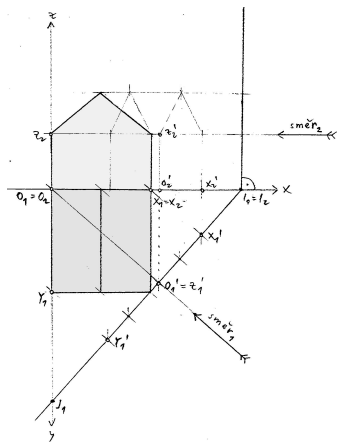
Rovina je (skoro vždy) určena svými stopami.

Vázané (rovnoběžné, resp středové) promítání je určeno přesným vymezením průmětny a směru, resp. středu promítání vzhledem k zobrazovanému objektu.⁷⁰



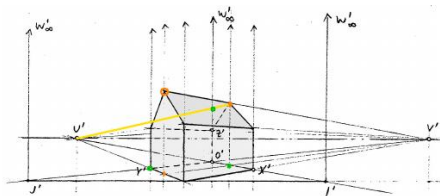
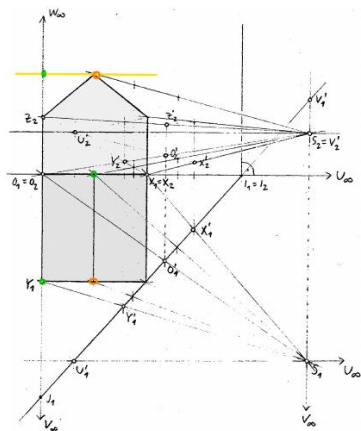
⁷⁰<http://ggbtu.be/mZv1063hi>

Průmětna kolmá k půdorysně, směr promítání rovnoběžný s půdorysnou:⁷¹

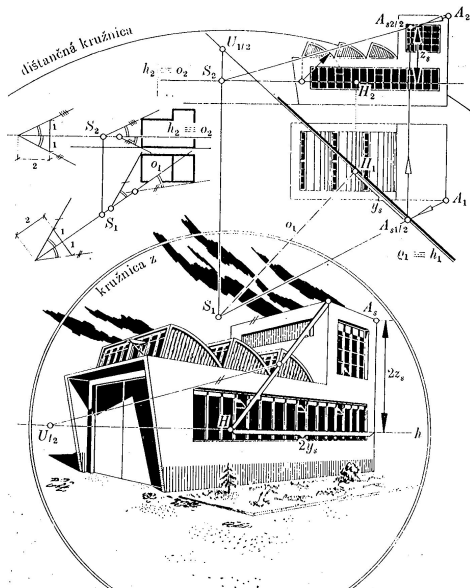


⁷¹ sr. s problémem na s. 134

Průmětna kolmá k půdorysně.⁷²



⁷²viz též s. 143



V předchozím opakovaně potřebujeme **základní konstrukce**:

(2) průnik přímky a roviny,

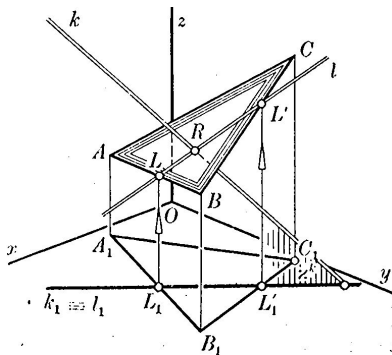
(3) vzdálenost dvou bodů,

avšak ve velmi speciální podobně.

*Jak se tyto úlohy řeší obecně?*⁷⁴

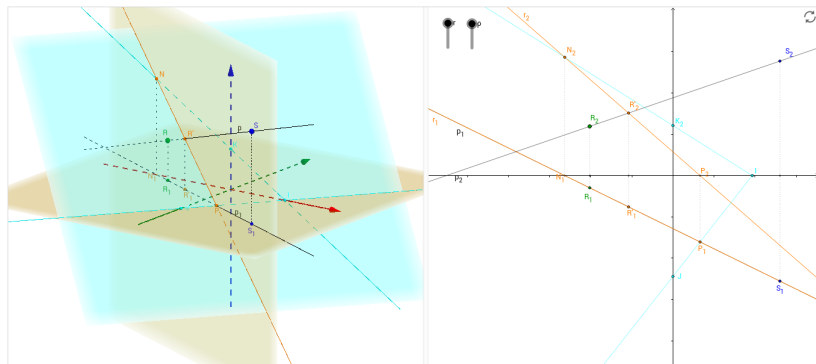
⁷⁴základní konstrukce na s. 145 a 147, vychytávky od s. 148

Průnik (resp. vzájemná poloha) přímky k a roviny $\alpha = ABC$:



Průnik $R := k \cap \alpha$ je průnikem přímek k a l ležících v pomocné (svislé) rovině!
 (Pokud náhodou $k \parallel l$, potom $k \parallel \alpha$; pokud $k = l$, potom $k \subset \alpha$.)

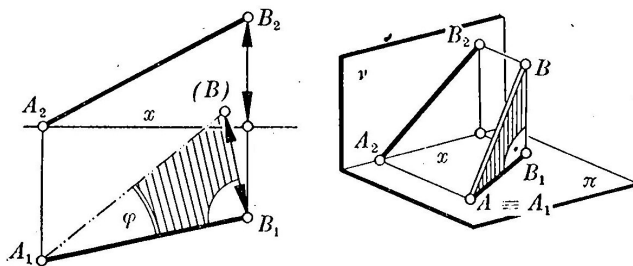
Průnik (resp. vzájemná poloha) $p = PQ$ a roviny $\beta = KLM$.⁷⁵



Stejná myšlenka jako na s. 145, ovšem realizovaná pomocí stop roviny β ...

⁷⁵<https://ggbm.at/JgQu6PvN>

Vzdálenost bodů A a B :⁷⁶

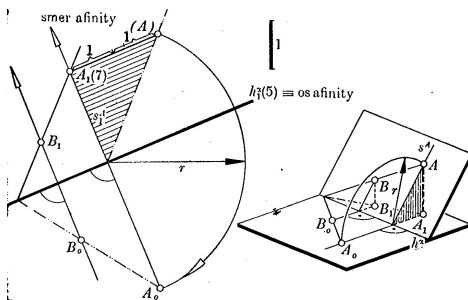


Úsečka se zobrazuje nezkráceně v náryse (resp. půdoryse) právě tehdy, když je rovnoběžná s půdorysnou (resp. nárysnou).

Tedy, skutečná velikost úsečky AB je rovna velikosti přepony v pravouhlém trojúhelníku, jehož odvěsny vidíme nezkráceně v náryse, resp. v půdoryse!

⁷⁶<https://ggbm.at/vpnVx35C>

Při měření vztahů mezi více body v jedné rovině je výhodné otočit celou rovinu kolem stopy do průmětny:⁷⁷



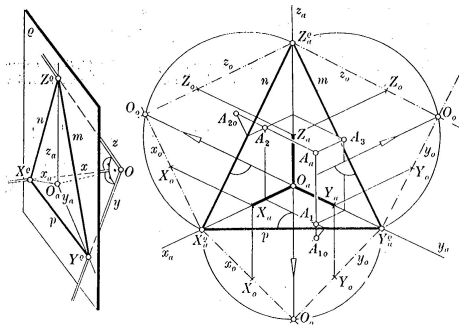
Konstrukčně úplně stačí:

- (1) otočit jeden bod: $A \mapsto A_0$ (viz s. 147),
- (2) všimnout si a využít osové afinity:
 - ▶ $B_0A_0 \cap B_1A_1 \in$ stopě (= osa),
 - ▶ $B_0B_1 \parallel A_0A_1$ (= směr, kolmý k ose)!

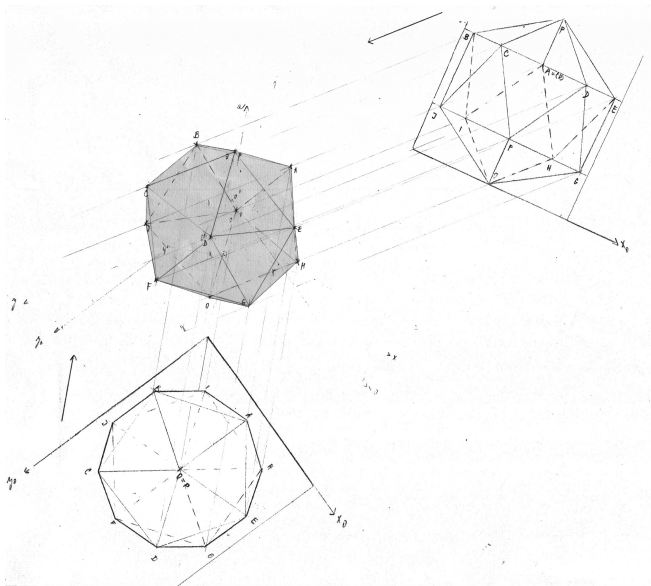
⁷⁷<https://ggbm.at/BMchamKj>

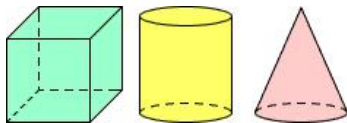
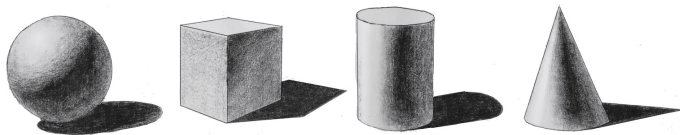
Pro obecné vázané průměty lze předchozí myšlenku s otáčením použít také naopak.

Např. při kolmém promítání do obecné roviny a otočení Mongeových průmětů do této roviny pozorujeme...



... tedy několik osových afinit (osa = stopa, směr \perp ose)!





Co je špatně?

Základy	1
Dotykové úlohy	59
Geometrická zobrazení	77
Zobrazovací metody	128
Závěrečné shrnutí	153
Klasická konstrukční geometrie	154
Zobrazení	156
Organizační věci	159
Zdroje	161

Úvod

- ▶ primitivní pojmy, vztahy (relace) a tvzení (axiómy, resp. postuláty)
- ▶ axiómy vyslovené, nevyslovené (spojitost, uspořádání) a problematické (rovnoběžnost)

Planimetrie

- ▶ základní poznatky (např. o vnějším úhlu v 3úh.)
- ▶ důsledky postulátu o rovnoběžkách (např. o součtu úhlů v 3úh., Pythagorova věta)
- ▶ geometrická algebra (zlatý řez)
- ▶ o kružnicích (obvodové úhly, mocnost)
- ▶ pravidelné mnohoúhelníky (3, 4, 5, 6, 15, ?)
- ▶ teorie podobnosti (poměry a úměrnosti, základní ekvivalence)

Sestrojitelné veličiny

- ▶ úplná charakterizace (+ - · : $\sqrt{\quad}$)
- ▶ slavné problémy starověku (např. kvadratura kruhu)

Stereometrie

- ▶ rozšíření slovníku a možných 3D vztahů (kolmost, rovnoběžnost)
- ▶ analogie, resp. rozdíly k 2D (rovnoběžnostěny, resp. jehlany)
- ▶ pravidelné mnohostěny (4, 6, 8, 12, 20)

Dotykové úlohy

- ▶ základní úlohy (tečny)
- ▶ základní nápady (mocnost, souměrnost, stejnolehlost, dilatace)
- ▶ základní motivace (obecná Apollóniova úloha)

Užitek

- ▶ kvadratura mnohoúhelníku
- ▶ kvadratické rovnice a jejich řešení
- ▶ pravidelný 5úhelník apod.
- ▶ specifické dotykové úlohy

Taxonomie

- ▶ hlavní páteř (shodná, podobná, (ekvi)afinní, projektivní)
- ▶ další typy (konformní, kontaktní)
- ▶ příklady, obecné vlastnosti a hierarchie

Obecný rámec

- ▶ projektivní rozšíření
- ▶ Pappova věta
- ▶ věta o určenosti

Základní transformace

- ▶ regulární: osová kolineace (a spec. případy), Desarguesova věta
- ▶ singulární: středové, resp. rovnoběžné promítání

Zobrazovací metody 3D \rightarrow 2D

- ▶ podle promítání: středové (\implies projektivní), rovnoběžné (\implies afinní)
- ▶ podle zadání: volné (obrazy několika bodů), vázané (střed/směr promítání a rovina)

Zadání

- ▶ kartézské souřadnice vs. Mongeovy sdružené průměty (půdorys, nárýs)

Základní úlohy

- ▶ přenášení (dvoj)poměru kolin. bodů
- ▶ průnik přímky a roviny
- ▶ skutečná velikost úsečky

Vychytávky

- ▶ otočení roviny
- ▶ zářezová metoda

Užitek

- ▶ obecná Apollóniova úloha (pomocí dilatace a kruhové inverze)
- ▶ obecné průměty pravidelných a jiných těles
- ▶ řezy hranolů, jehlanů a jejich skutečné velikosti

Základy	1
Dotykové úlohy	59
Geometrická zobrazení	77
Zobrazovací metody	128
Závěrečné shrnutí	153
Organizační věci	159
Zdroje	161

Preference

- (1) celkový přehled
- (2) hlavní myšlenky a teoretické pozadí
- (3) vlastní konstrukce a technické záležitosti

Zkouška

- ▶ písemka: požaduji aspoň poloviční úspěšnost (termíny vypsány v IS)⁷⁹
- ▶ ústní: probíhá nad písemkou (termíny budou vypisovány podle potřeby)

Konzultace

- ▶ hromadně: út 23.5. od 9:20, posl. 35
- ▶ individuálně: podle domluvy (od 25.5. do 5.6. nebudu k zastížení)

Soutěž

- ▶ o nejpovedenější konstrukci/výkres/aplikaci použitelnou ve výuce
- ▶ vítěz získá vliv na další průběh kurzu, nehynoucí slávu a věcnou cenu

⁷⁹Termíny lze využít i bez zápočtu ze cvičení; písemky opravím, až zápočet získáte.

Základy	1
Dotykové úlohy	59
Geometrická zobrazení	77
Zobrazovací metody	128
Závěrečné shrnutí	153
Organizační věci	159
Zdroje	161

- [A] B. Artmann, *Euclid: The Creation of Mathematics*, Springer, 1999
- [EB] *The Elements of Euclid*, obrázkové vydání od O. Byrneho,
<http://www.math.ubc.ca/~cass/Euclid/byrne.html>
- [EJ] *Euclid's Elements*, interaktivní edice D. Joyce podle překladu T.L. Heath,
<http://aleph0.clarku.edu/~djoyce/java/elements/elements.html>
- [EV] *Eukleidés, Základy*, české vydání podle překladu F. Servíta s komentářem P. Vopěnky, O.P.S., 2008–12
- [H] R. Hartshorne, *Geometry: Euclid and beyond*, Springer, 2000
- [K] F. Kuřina, *Deset geometrických transformací*, Prometheus, 2002
- [K] F. Kuřina, *Deset pohledů na geometrii*, ČSAV, 1996
- [M] V. Medek, *Deskriptivna geometria*, SNTL, 1962
- [L] M. Lávička, *Syntetická geometrie*, Plzeň, 2007,
http://home.zcu.cz/~lavicka/subjects/SG/texty/sg_text.pdf
- [P] J.I. Perelman, *Zajímavá geometrie*, Mladá Fronta, 1954
- [Ř] O. Říha, *Konstrukční geometrie I, II*, Brno, 2002
- [S] E. Simeonov, D. Mairinger, Ch. Schmid, *Mathematische Früherziehung, Lagen & Winkel*, von Oemis, 2010
- [U] A. Urban, *Deskriptivní geometrie I, II*, SNTL, 1965

[A], 1, 4, 6, 7, 9, 10, 12–14, 16, 18, 21, 23, 34, 36, 37, 44, 47, 55–58, 86

[EB], 8, 27

[EJ], 9, 15, 35, 40–42, 50, 52, 61, 64

[EV], 26

[H], 22, 24, 25, 29, 46, 92, 94–98

[K], 87, 102

[M], 137, 144, 146, 148–150

[P], 17

[S], 131, 132

<http://caliban.mpipz.mpg.de/haeckel/kunstformen/>, 59

<http://divisbyzero.com>, 30

<http://etc.usf.edu/clipart/>, 39, 48, 51, 62

<http://mathworld.wolfram.com/>, 69

<http://wikipedia.org>, 38, 54

<http://www.daviddarling.info/encyclopedia/>, 91

<http://za.fotolia.com>, 100

Mišejková, B., 152

Nedvědová, K., 11

Sekora, O., 83