

Čtvrtletní test

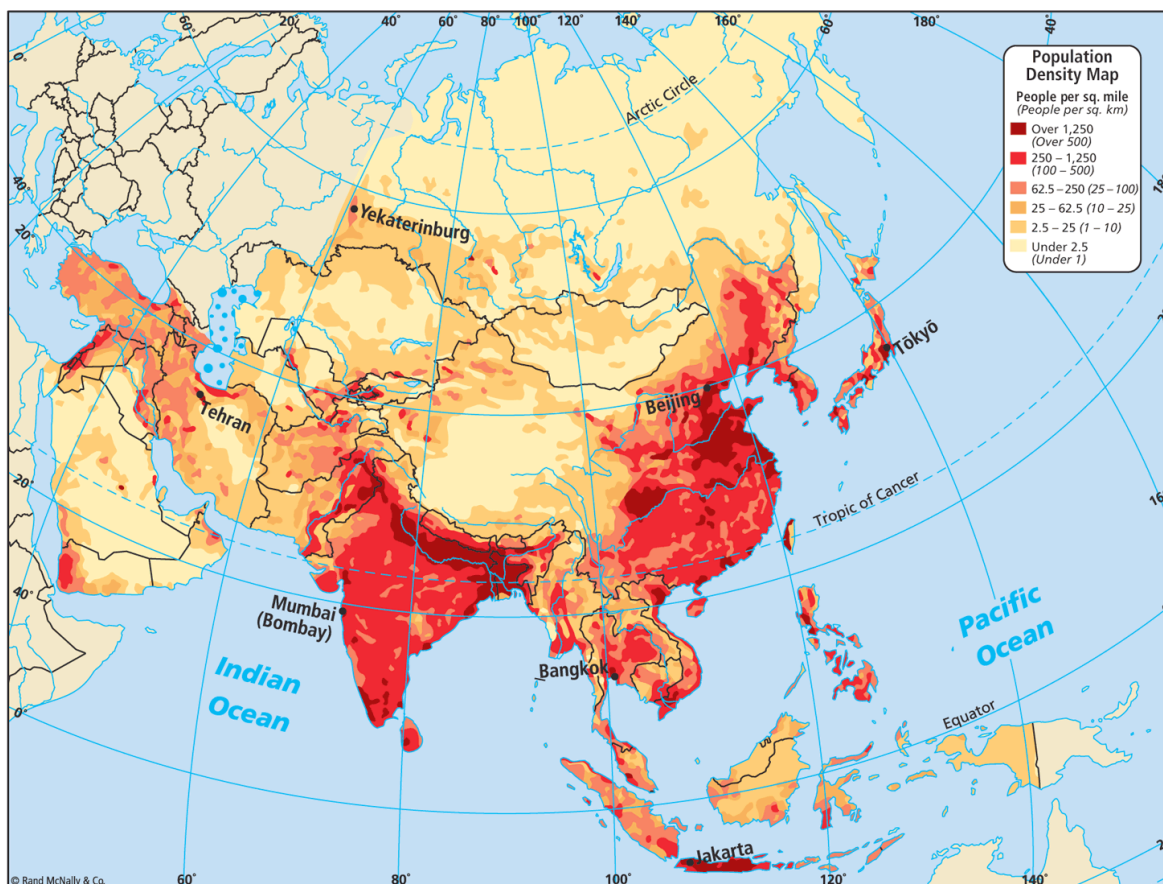
Radek Durna

1. Přiřaď správně pojmy (7b)

Posvátné zvíře	1	Perský záliv	3
Fudži	2	symbol Libanonu	5
těžba ropy	3	kráva	1
Istanbul	4	skalní město v Jordánsku	6
Cedr	5	židovský stát	7
Petra	6	město ležící v Evropě i Asii	4
Izrael	7	japonská sopka	2

2. Uveď, které oblasti v Asii jsou nejvíce zalidněné a jaké nejméně. Své odpovědi zdůvodni. (6b)

Práce s atlasem Asie: str. 4, Hustota zalidnění



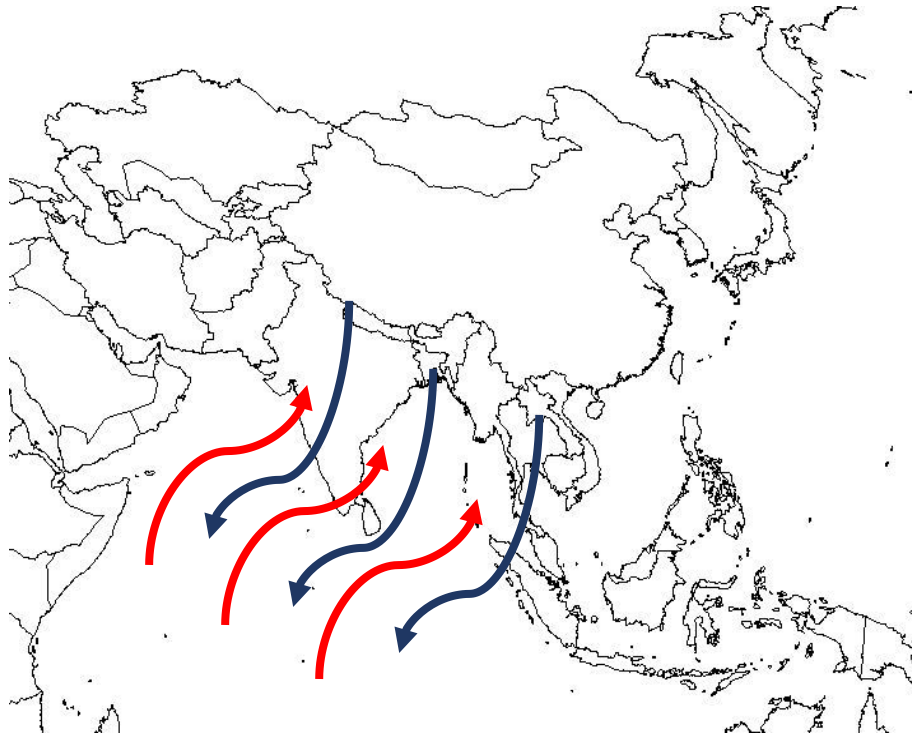
nejvíce osídlené J, JV a V pobřeží, údolí velkých řek (např. Ganga, Brahmaputra), ostrovní oblasti (např. Indonésie, Japonsko)

příznivé klimatické podmínky, příznivá teplota, dostatek vláhy, rozvoj zemědělství v nížinách

nejméně: S Sibiř, centrální oblasti (pouště a vysoká pohoří), nehostinné prostředí pro člověka, špatná dostupnost, členitý reliéf, sucho, nízká teplota, nedostatek obživy

3. Vysvětli co je to monzun? Na obrázku jsou barevně vyznačeny hlavní směry monzunů. Popiš, jaké existují typy monzunů a co je pro ně typické (projevy v krajině)? Vyznač, která barva označuje konkrétní typ monzunu.

(6)



monzun je sezónní vzdušného proudění, typické pro oblast Indického oceánu a oblast J a JV Asie. Vzniká v důsledku nerovnoměrného zahřívání a ochlazování pevniny a oceánu.

V zimě vane směrem z chladnějšího kontinentu nad oceán (z oblasti tlakové výše do oblasti tlakové níže) – směr proudění je znázorněn modrými šipkami. Zimní monzun přináší suchý a chladný vzduch

Letní monzun (červená) vane z chladnějšího oceánu nad rozehřátou pevninu (tedy z oblasti tlakové výše do oblasti tlakové níže) a tudíž přináší vlhký vzduch (z moře) a způsobuje tak vydatné srážky

4. Na základě klimadiagramu urči, které město leží v kontinentálním a které v oceánickém klimatu. Svoje rozhodnutí zdůvodni za pomoci vláhové teplotních charakteristik.

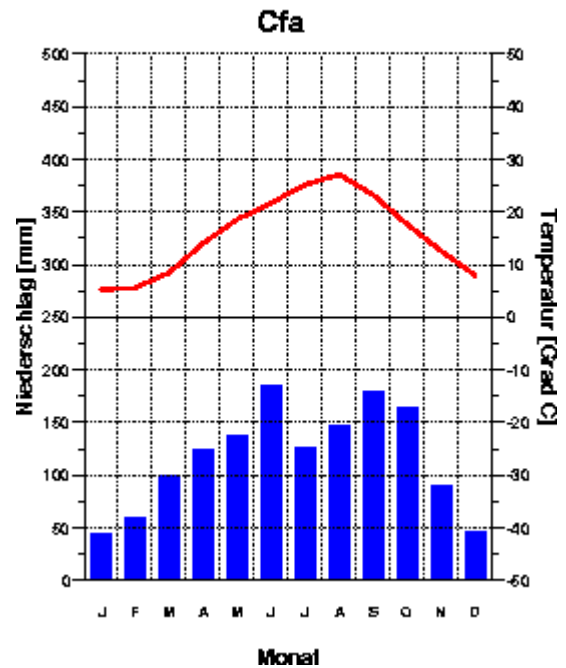
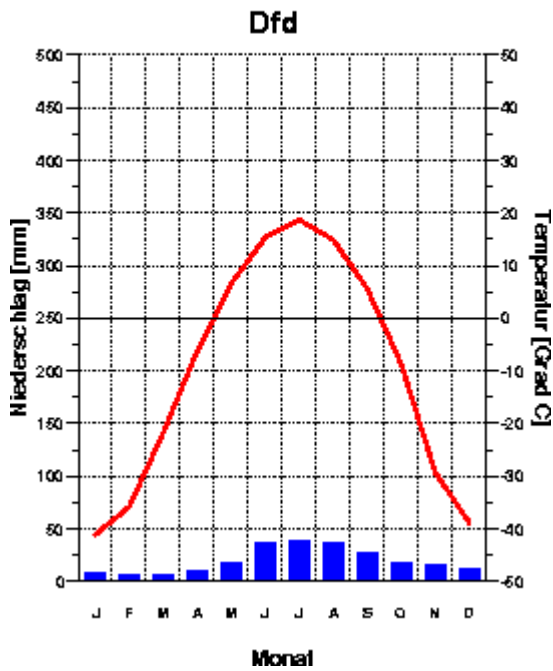
Můžeš vyhledat v atlase (rejstříku) (6)

Jakutsk
103 m

-10.0 Grad C
235 mm

Tokio
6 m

15.6 Grad C
1410 mm



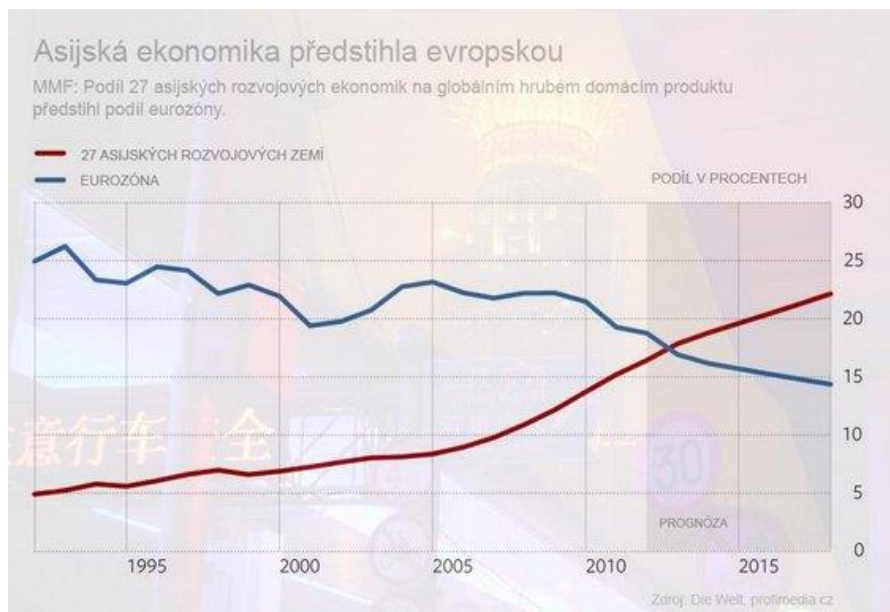
Jakutsk – kontinentální klima

- nízké roční úhrny srážek, vysoké rozdíly teplot během roku

Tokio – oceánické klima

- vysoký roční úhrn srážek, vyrovnané teploty v průběhu roku

5. Na obrázku vidíš vývoj evropské a asijské ekonomiky v posledních letech. Z jakých důvodů předhání Asie Evropu? (4)



Do Asie přesouvá svoji výrobu řada evropských podniků.

Je zde levná pracovní síla, vysoká poptávka po práci (i za malý plat)

V roce 2008 nastala světová finanční krize, kterou odstartoval propad na americké burze

Společná měna Eurozóny ovlivňuje ekonomiku všech členských států

Asijské tygři vykazují vysoké HDP, protože sem umísťují výrobu ostatní státy.

Slovníček pojmů:

Asijské tygři (draci) – skupiny nově industrializovaných asijských zemí s intenzivním hospodářským růstem

Eurozóna – státy EU, které užívají společnou měnu – Euro

Světová hospodářská krize – krize finančních trhů započatá americkou hypoteční krizí v roce 2008

HDP - suma celkové hodnoty statků a služeb nově vytvořených v daném období (obvykle jeden rok) na určitém území

6. Na obrázku vidíš Aralské jezero. Popiš, k jakému negativnímu jevu zde dochází a proč. Jaké dopady to má na životní prostředí a hospodářství? (5)



1989



2003



2009

Aralské jezero vysychá, jelikož voda z řek (Amudarja a Syrdarja), které ho napájely, byla odvedena pro účely zavlažování plantáží.

Dochází zde k intenzivnímu výparu

V důsledky vysychání dochází k hromadnému úhynu vodních živočichů, což má následky i pro člověka (omezení rybolovu).

Zvětšuje se vzdálenost, kterou musí lidé i zvířata urazit, aby se dostali k vodě.

7. Doplně chybějící slova v textu:



Mrtvé..... moře je ve skutečnosti jezerem. Jeho hladina jenejníže položeným místem na Zemi. Vysoká ...salinita..... umožňuje splývání na hladině.

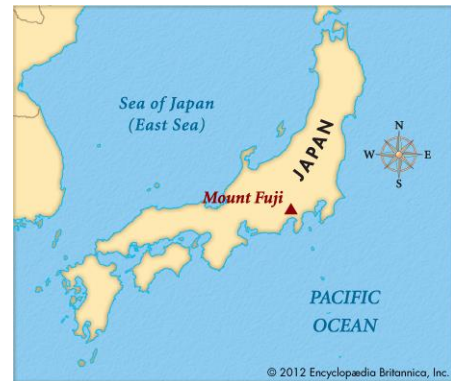


Myslíš si, že zde žijí nějaké organismy? Odpověď zdůvodni. (5)

Živočichové zde nežijí z důvodu vysokého obsahu solí, vyskytují se zde pouze nejdolnější mikroorganismy



Řeka ...**Ganga**..... protéká státem ...**Indie**..... Je posvátnou řekou pro vyznavače...**hindusmu**....
(3)



Hora na obrázku **Fudži**... je sopkou, ...**nejvyšší/posvátnou** horou a také symbolem **Japonska**..... (3)

STUPNICE hodnocení: maximum 45 bodů

Body	známka	%
45 – 41	1	100 – 91 %
40 – 32	2	90 – 71 %
31 – 19	3	70 – 41 %
18 – 10	4	40 – 21 %
9 – 0	5	20 – 0 %