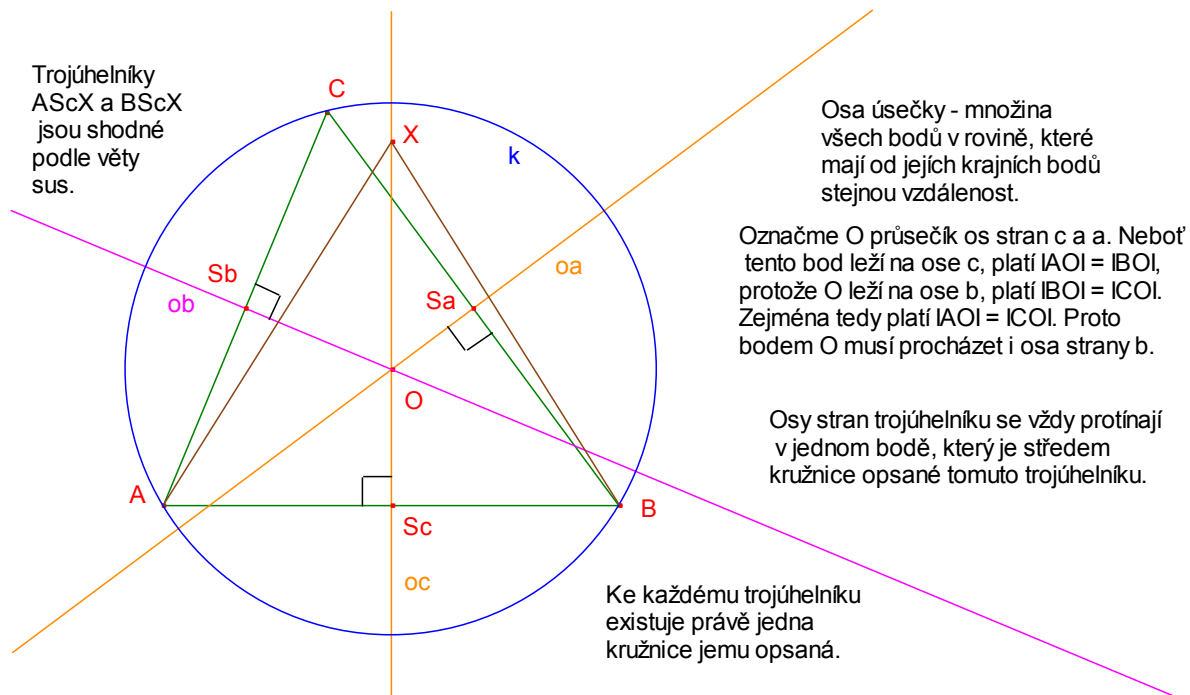
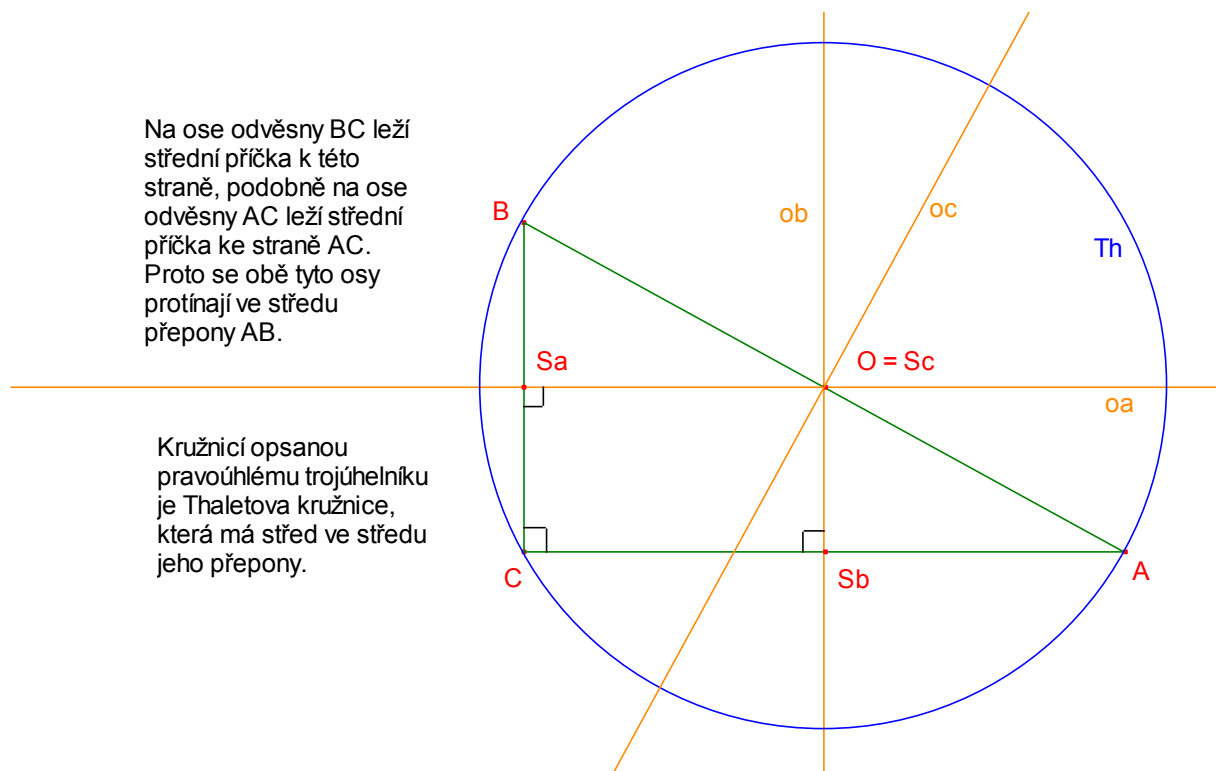


## Osy stran trojúhelníku, kružnice opsaná

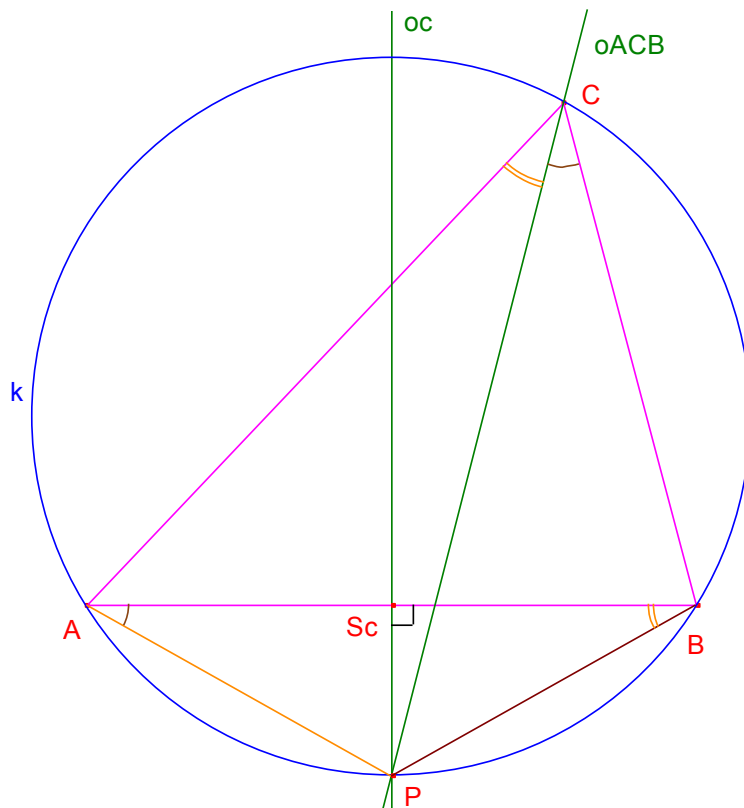


## Kružnice opsaná pravoúhlému trojúhelníku



### Aplikační úloha

Dokažte, že průsečík osy strany AB a osy úhlu ACB leží na kružnici opsané trojúhelníku ABC.

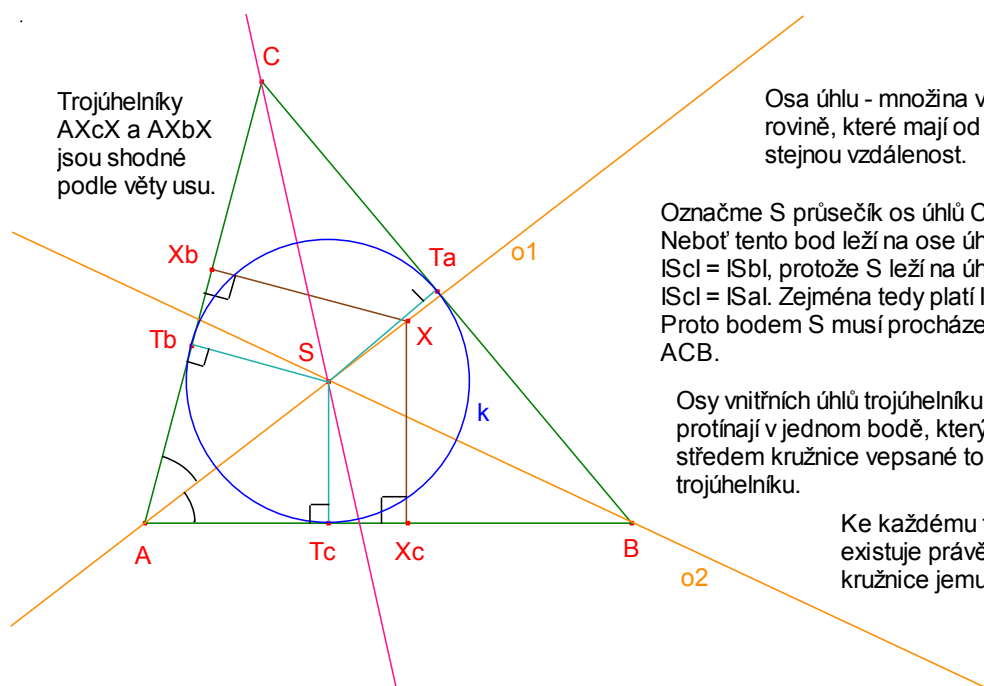


Označme P ten průsečík osy úsečky AB s kružnicí opsanou trojúhelníku ABC, který neleží v polorovině ABC. Platí tedy  $|AP| = |BP|$ ,  $|PAB| = |PBA|$ .

Úhly označené stejným symbolem jsou shodné - obvodové úhly k témuž oblouku.

Z výše uvedeného vyplývá rovnost velikostí úhlů ACP a BCP, takže bodem P prochází i osa úhlu ACB.

### Osy vnitřních úhlů trojúhelníku, kružnice vepsaná



Trojúhelníky  $AXcX$  a  $AXbX$  jsou shodné podle věty usu.

Osa úhlu - množina všech bodů v rovině, které mají od jeho ramen stejnou vzdálenost.

Označme S průsečík os úhlů CAB a ABC. Neboť tento bod leží na ose úhlu CAB, platí  $|Sc| = |Sb|$ , protože S leží na úhlu ABC, platí  $|Sc| = |Sa|$ . Zejména tedy platí  $|Sb| = |Sa|$ . Proto bodem S musí procházet i osa úhlu ACB.

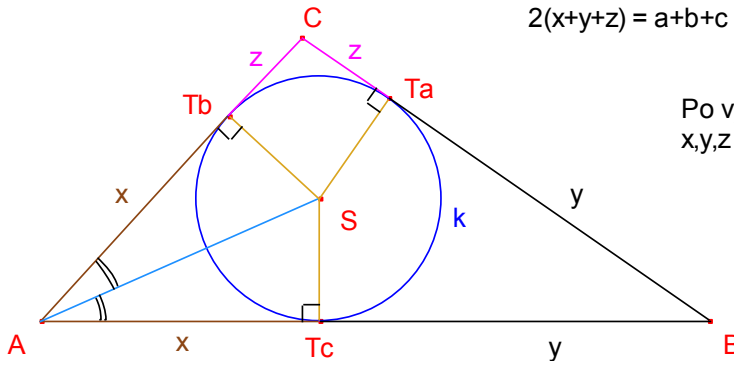
Osy vnitřních úhlů trojúhelníku se vždy protínají v jednom bodě, který je středem kružnice vepsané tomuto trojúhelníku.

Ke každému trojúhelníku existuje právě jedna kružnice jemu vepsaná.

## Úseky na které dělí strany trojúhelníka dotykové body s kružnicí tomuto trojúhelníku vepsanou

Dle označení v obrázku platí  
 $x+y = c$ ,  $y+z = a$ ,  $x+z = b$

Součtem uvedených  
rovníc dostaneme  
 $2(x+y+z) = a+b+c$



Po vyjádření délek  
 $x, y, z$  vychází:

$$x = (-a+b+c) / 2$$

$$y = (a-b+c) / 2$$

$$z = (a+b-c) / 2$$