


Repetitorium SS matematiky 2

6. cvičení

- do 5. 4. 2020 navraďte do oddělení váření "cv. 6" v jednom souboru následující příklady:
 - příklady 1, 2, 3
 - alespoň jeden z příkladů 4, 5, 7
 - alespoň dva z příkladů 6, 8, 9
- konzultace k tomuto cvičení v MS Teams 1. 4. 2020

6. cvičení

Vzájemná poloha přímky a roviny



1) $p \parallel p$ - nemají žádný průsečík

2) p leží v p - normální vektor p je kolmý na vektor vektor p (i.e. n) a libovolný bod přímky p leží v rovině p

3) $p \times p$ - rovina má s přímkou právě jeden průsečík

Vzájemná poloha dvou rovin

- nejlépe se určuje přes normální vektory

$p \parallel q$, $p = q$, $p \times q$ (mají průsečíci = společná přímka)

- rovněž lze se určitosti vzájemná poloha 3 rovin

Př. 1: Určete vzájemnou polohu rovin α, β . Jsou-li různoběžné, určete jejich průsečíci. $\alpha: 2x - 5y + 4z - 10 = 0$

a) $\beta: 4x - 10y + 8z - 10 = 0$

Řešení: a) $\alpha \parallel \beta$, $\alpha \neq \beta$

b) $\beta: x - y - z - 2 = 0$

b) $\alpha \times \beta$, $p: x = 3 + 2s$
 $y = -2 + 2s$

c) $\beta: 4x - 10y - 2z - 10 = 0$

$z = s$ $s \in \mathbb{R}$

c) $\alpha \times \beta$, $p: x = 3 + \frac{5}{2}s$

$y = s$
 $z = 1$ $s \in \mathbb{R}$

Př. 2: Jsou dány body $A[2, 0, 3]$, $B[2, 2, -7]$, $C[3, -1, -2]$ a rovina

$p: 3x + y - 2z - 5 = 0$

a) vedle bodem A přímku p , $p \parallel BC$

b) určete, že p je různoběžná s rovinou p , najděte průsečík

Řešení: a) $p: x = 2 + t$
 $y = -3t$
 $z = 3 + 5t$ $t \in \mathbb{R}$

b) $P[\frac{3}{2}, \frac{3}{2}, \frac{1}{2}]$

6. cvičení

Pr. 3:

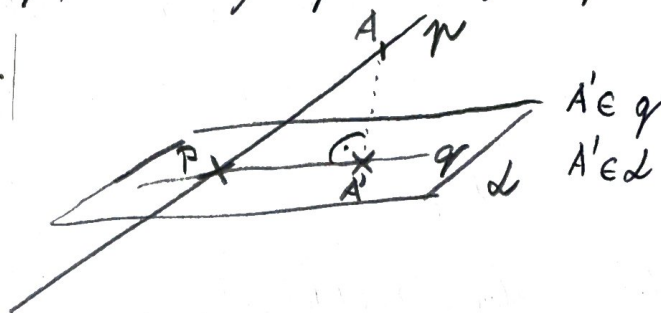
Je dána rovina $d: 2x + 3y - z - 6 = 0$ a přímka $p: x = 1 - \lambda$

$y = 2 + 2\lambda$

$z = 4 + 3\lambda, \lambda \in \mathbb{R}$

a) určete jejích vzájemnou polohu, případně průsečík

b) napište rovnici přímky q , která je pravouhlejším průmětem přímky p do roviny d .



Rěšení: $P[-1, 6, 10]$, $q: x = -1 + 16\lambda$

$y = 6 - 25\lambda$

$z = 10 - 43\lambda, \lambda \in \mathbb{R}$

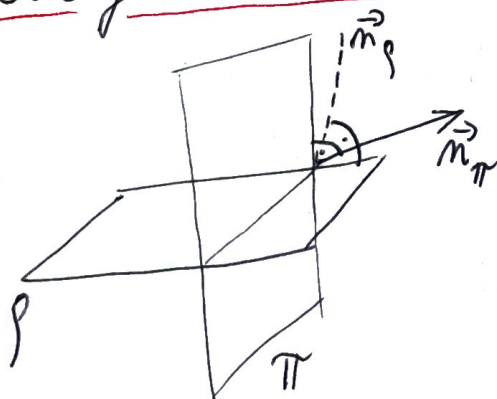
Vzdálenost bodu od roviny

- odvození je stejné jako u vzdálenosti bodu od přímky
- bodem vedená kolmice k rovině, nalezeno průsečík kolmice a roviny a máme vzdálenost průsečíku od zadávaného bodu

pro $P[p_1, p_2, p_3]$ a $\rho: ax + by + cz + d = 0$ platí

$$|P_\rho| = \frac{|ap_1 + bp_2 + cp_3 + d|}{\sqrt{a^2 + b^2 + c^2}}$$

Odchylka dvou rovin

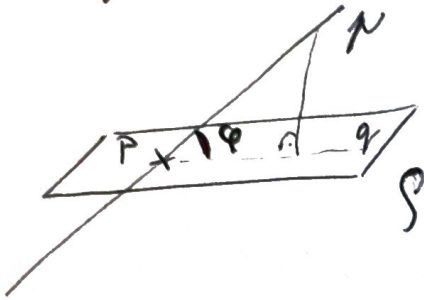


odchylka dvou rovin určujeme jako odchylka jejich normálových vektorů (z obecné rovnice roviny)

$$\cos \varphi = \frac{|\vec{m}_\rho \cdot \vec{m}_\pi|}{|\vec{m}_\rho| \cdot |\vec{m}_\pi|}$$

6. cvičenie

Odchylka priamky a roviny



- odchylnu priamky a roviny určujeme jako odchylnu priamky od jejeho pravouhlyho priemeru do roviny

- pravouhly priemer priamky nalezneme nasledovne:

- jažeby dva body priamky si bolmo promietneme na rovinu, tzn. vytvorime kolnici k rovine prochajiciu danym bodom a nalezneme priesečik tejto kolnice s rovinou
- je vyhodne sa jeden z týchto dvoch bodov volit priesečikom priamky a roviny
- z priemeru na rovinu vytvorime novou priamku
- odchylnu nalezneme tak, že spočítame odchylnu smerovych vektorov priamky a jejeho priemeru

$$\cos \varphi = \frac{|\vec{u} \cdot \vec{n}|}{|\vec{u}| \cdot |\vec{n}|}$$

Pr. 4:

Určte odchylnu roviny $\alpha: -x + 2y + z + 5 = 0$

$\beta: x + y + 2z + 7 = 0$

Rešen: $\varphi = 60^\circ$

6. cvičení

Př. 5: Určete vzdálenost bodu Q od roviny ρ .

$Q[-3, -2, 3]$, $\rho: 2x - y - 2z + 1 = 0$

Řešení: $d = 3$

Př. 6: Najděte obecnou rovnici roviny α , která je kolmá k rovině $\beta: 2x + 3y + 2z - 1 = 0$ a obsahuje přímku AB ,

$A[5, 5, 3]$, $B[-1, 0, 1]$.

Řešení: $\alpha: x - 2y + 2z - 1 = 0$

Př. 7: Jsou dány body $A[1, -2, -2]$, $B[2, -1, -1]$, $C[1, -1, -2]$, $M[0, 2, -2]$.
Určete vzdálenost bodu M od roviny ABC .

Řešení: $d = \frac{\sqrt{2}}{2}$

Př. 8: Je dána přímka $p: \begin{cases} x = 1 + \lambda \\ y = 2 - \lambda \\ z = \lambda \end{cases} \lambda \in \mathbb{R}$, rovina $\alpha: 3y + 8 = 0$ a

rovina $\beta: \begin{cases} x = 5 - \mu - 3\nu \\ y = 16 + \mu - 3\nu \\ z = 3 + 4\nu \end{cases} \mu, \nu \in \mathbb{R}$

- určete a) odchýlen p, α
- b) odchýlen p, β
- c) odchýlen α, β

Řešení: a) $35^\circ 16'$ b) $74^\circ 12'$ c) $48^\circ 11'$

Př. 9: Jsou dány přímky $p: \begin{cases} x = 1 - \lambda \\ y = 1 + \lambda \\ z = 3 + 2\lambda \end{cases} \lambda \in \mathbb{R}$ a rovina $\rho: x + 2y - z + 2 = 0$ a $q: \begin{cases} x = 1 - 2\nu \\ y = \nu \\ z = 3 + 3\nu \end{cases} \nu \in \mathbb{R}$

Určete polohu přímek a rovnici jejich průčny ležící v rovině ρ .

Řešení: mimoběžky, $\pi: \begin{cases} x = 1 - 2\lambda \\ y = 3\lambda \\ z = 3 + 4\lambda \end{cases} \lambda \in \mathbb{R}$