

# Změny geografického vzdělávání ve Francii

Eduard Hofmann  
Petra Janků

# Úvodem

- Je příliš brzy na to, porovnávat systém francouzského školství s ostatními školskými systémy. Tím máme na mysli systém školství v České republice. Všechny uvedené systémy procházejí permanentní reformou už několik let.
- Z dalšího srovnávání vynecháváme oblast řízení školství, což by zahrnovalo srovnávání systému řízení školství na úrovni ministerstev, např. MŠMT v ČR a Ministerstvo národního školství, vysokého školství a výzkumu ve Francii.
- Faktem zůstává to, že daleko více čerpáme ze srovnávání systému školství anglosaských zemí. Na vině je tomu především jazyková bariéra.

# Cíle

- Cílem příspěvku je představit základní pilíře školské reformy ve Francii z hlediska geografického vzdělávání na základní škole.

# Proč?

- Zejména proto, že současné pojetí francouzské školské geografie je v mnohém zajímavé a poučné i pro geografické vzdělávání v České republice.

# Komu je příspěvek určený

- Především všem, kteří jsou přístupní k inovacím v geografickém vzdělávání.

# Kde lze najít základní materiál pro komparaci?

- Janků, P. *Komparace vzdělávacího systému ve Francii a České republice. Diplomová práce, PdF MU, 2014.*
- Nejedná se o vyčerpávající srovnání, ale o základ k dalším, výzkumně zaměřeným studiím. Např. Analýza učebních úloh ve francouzských učebnicích geografie apod.

# Představení základních pilířů probíhající školské reformy

1. Společný základ znalostí a dovedností ustanovený v zákoně z 23. června roku 2005 vstupuje v platnost 11. června 2006 vydáním Dekretu o společném základu znalostí a dovedností (*Le décret relatif au socle commun de connaissances et de compétences*). Jedná se o dokument, který vychází z osmi klíčových kompetencí vypracovaných Evropským parlamentem.

# Představení základních pilířů probíhající školské reformy

2. Období v letech 2007 – 2010 je bráno jako zkušební. V základních školách společný rámec platí od začátku školního roku 2007 a na nižších středních školách od školního roku 2009. Jeho zavedení nenechalo odborníky, a také veřejnost bez povšimnutí, naopak byl podnětem k rozsáhlým diskusím, přednáškám, schůzím atd. Od školního roku 2009 jsou francouzští žáci testováni z mateřského jazyka a matematiky.



# Představení základních pilířů probíhající školské reformy

3. V roce 2013 došlo k zatím poslední změně. Zákon z 8. června 2013 vytvořil nový Společný základ znalostí, dovedností a kulturního přehledu (*Socle commun de connaissances, de compétences et de culture*), ve kterém došlo oproti starší verzi k několika změnám.

# Představení základních pilířů probíhající školské reformy

Společný základ znalostí, dovedností a kulturního přehledu je tvořen ze sedmi gramotností:

1. Výuka francouzského jazyka
2. Cizojazyčná gramotnost
3. Matematická, přírodní a technická gramotnost
4. Komunikační a infromatická gramotnost
5. **Humanitní gramotnost (zeměpis, dějepis, občanská výchova)**
6. Sociální a občanská gramotnost
7. Gramotnost v rozvoji individualit a iniciativ žáka

# Podklady pro komparaci

## VZDĚLÁVACÍ PROGRAM VÝUKY GEOGRAFIE VE FRANCII NA PŘÍKLADU ZE 6. ROČNÍKU

### OBYDLENÁ PLANETA ZEMĚ

#### I. Moje bydliště: krajina a území (10%)

##### a) Teoretická východiska

Čtení mapy a objevování území v okolí bydliště (místa, čtvrtě, dopravní sítě).

Okolí bydliště je představeno na více úrovních (regionální, národní a světové).

##### b) Vybrané příklady

Je doporučeno, aby výuka probíhala i v terénu. Prostřednictvím tohoto učiva se žáci učí manipulovat s geografickými a kartografickými pomůckami, jako jsou: učebnice, mapy a plány různých území např. čtvrtě nebo města, mapy dopravních sítí, turistická mapy, obrázky, letecké snímky, nejpoužívanější geografické informační systémy.

##### c) Očekávané výstupy

Žák:

- Lokalizuje okolí svého bydliště v rámci regionu a Francie,
- Francii lokalizuje na různých mapách světa a na glóbu,
- Lokalizuje kontinenty a oceány na různých mapách a družicových snímcích,
- Orientuje se v krajině, k určení místa využívá světových stran a významných geografických bodů,
- Popíše jednotlivé složky místní krajiny,
- Popíše vybranou cestu s použitím základních znalostí o jejich vzdálenostech a časech,
- Vytvoří jednoduchý náčrt pro prezentaci okolí svého bydliště nebo místního území.

# ZÁKLAD PRO SROVNÁNÍ OBSAHOVÉ NÁPLNĚ VÝUKY GEOGRAFIE FRANCIE - 6. ročník

## OBYDLENÁ PLANETA ZEMĚ

**I. Moje bydliště: krajina a území (10%)**

**II. Kde žijí lidé na Zemi? (20%)**

**III. Život ve městě**

**IV. Život na venkově**

**V. Život na pobřeží**

**VI. Život v místech s nepříznivými podmínkami (15%)**

**VII. Výběr tématu na učiteli.**

Čas a výběr tématu je na učiteli a je určený k tomu, aby učitelé rozvinuli některé ze studovaných témat v ročníku nebo řešili otázky spojené s aktuálním děním ve světě.

# ZÁKLAD PRO SROVNÁNÍ OBSAHOVÉ NÁPLNĚ VÝUKY GEOGRAFIE FRANCIE - 7. ročník

## **LIDSTVO A TRVALE UDRŽITELNÝ ROZVOJ**

### **I. Principy trvale udržitelného rozvoje (25%)**

Dynamika obyvatelstva a trvale udržitelný rozvoj

### **II. Nerovnoměrný vývoj života ve světě (35%)**

Rozdílné environmentální hazardy ve světě

Chudoba ve světě

### **III. Nerovnoměrné rozmístění zdrojů ve světě (35%)**

Potravinové zabezpečení ve světě

Přístup k vodním zdrojům


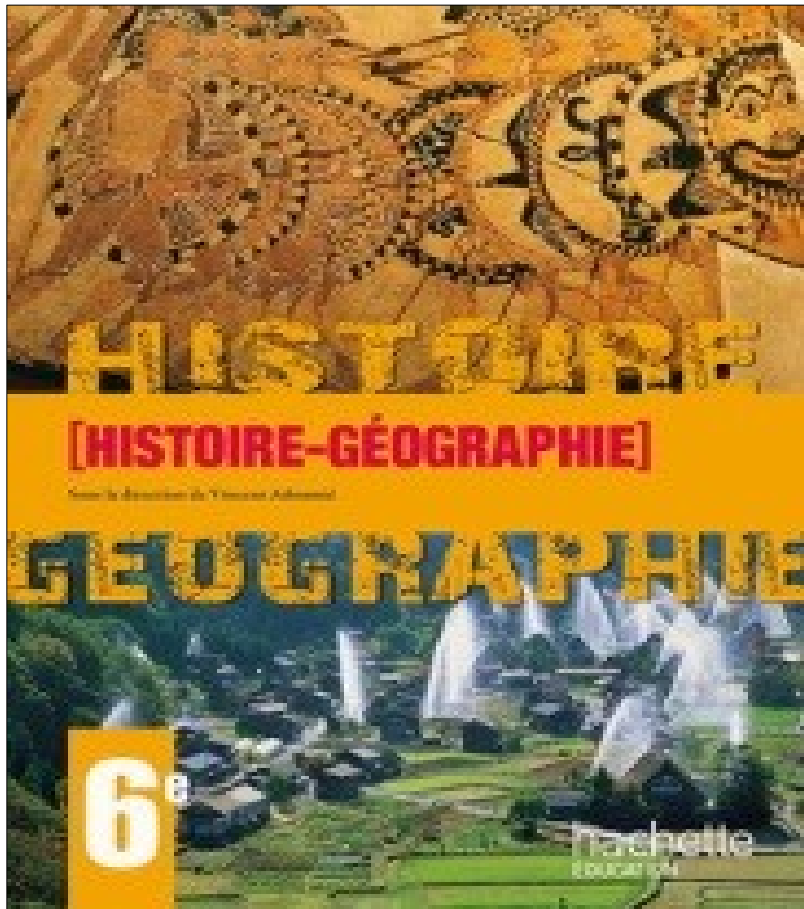
Využívání a dělení oceánů a jejich zdrojů

Atmosféra


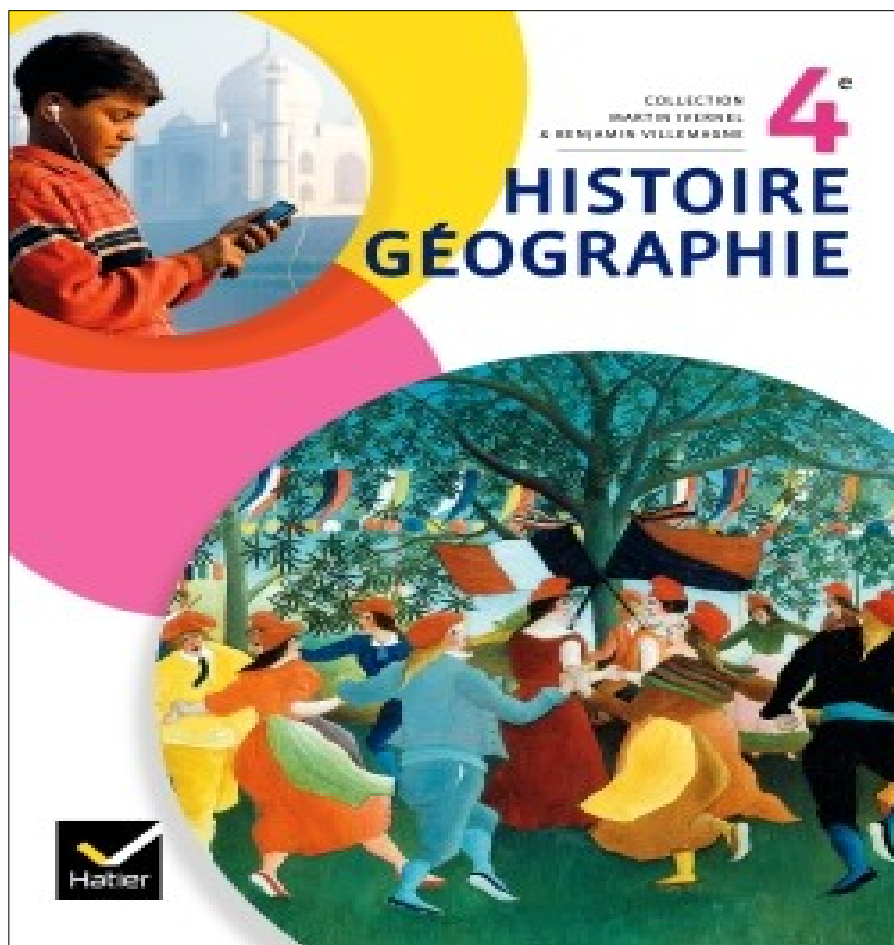
Rozmístění a distribuce energetických zdrojů

### **IV. Výběr tématu na učiteli (5%)**

# Francouzské učebnice geografie



# Francouzské učebnice geografie



# Découvrir votre manuel (2)

## > Pages communes à l'histoire et à la géographie

Ouverture de chapitre

úvod




Obrazové a kartografické ilustrace uvádějící problematiku tématu

Vždy je uvedena časová osa

Dossier

Zajímavosti,  
dominanty



Obsah a členění tématu—text, obrázky, slovníček, úlohy

Úlohy vedou studenty o tématu přemýšlet a vytvořit si k němu samostatně poznámky

Obsahuje i slovníček pojmů, které se k danému tématu vztahují



## > Pages spécifiques à l'histoire

### Entrée par le récit et Récit Vstupní příběh

**Bernard de Clairvaux (1091-1153)**

Il fut un religieux, Bernard est d'abord un moine de Clairvaux. En 1119, il est chargé de fonder une nouvelle abbaye à Clairvaux, en Champagne. Cet établissement religieux connaît rapidement un grand succès. Bernard est nommé à la tête de 50 moines, alors dans toute l'Europe. Ce grand ordre prendra aussi son début en son lieu, créant le mouvement de réforme, mené au départ à une réforme cistercienne.

**Le mouvement cistercien**

Le mouvement cistercien est né en France. Il est né de la volonté de revenir à une vie plus simple, plus austère, plus pauvre, plus centrée sur la prière. Les moines cisterciens ont voulu vivre dans une communauté simple, sans distractions, sans richesses, sans pouvoir. Ils ont voulu vivre dans une communauté simple, sans distractions, sans richesses, sans pouvoir. Ils ont voulu vivre dans une communauté simple, sans distractions, sans richesses, sans pouvoir.

**Le style gothique**

Le style gothique est né en France. Il est né de la volonté de revenir à une vie plus simple, plus austère, plus pauvre, plus centrée sur la prière. Les moines cisterciens ont voulu vivre dans une communauté simple, sans distractions, sans richesses, sans pouvoir. Ils ont voulu vivre dans une communauté simple, sans distractions, sans richesses, sans pouvoir.

### Entrée par l'histoire des arts et Histoire des arts

**La cathédrale de Bourges**  
Une cathédrale gothique

Comment l'architecture des cathédrales gothiques traduit-elle la puissance de l'Église ?

À partir de l'étude d'un modèle d'architecture gothique, les élèves découvriront les caractéristiques de ce style architectural et les innovations techniques qui ont permis de construire des édifices aussi élevés et lumineux que les cathédrales gothiques.

**Le style gothique**

Le style gothique est né en France. Il est né de la volonté de revenir à une vie plus simple, plus austère, plus pauvre, plus centrée sur la prière. Les moines cisterciens ont voulu vivre dans une communauté simple, sans distractions, sans richesses, sans pouvoir. Ils ont voulu vivre dans une communauté simple, sans distractions, sans richesses, sans pouvoir.

Shrnuje události a jejich významné osobnosti

Umožňuje žákovi zformulovat vlastní názory v psaném či mluveném projevu.

Součástí je zpravidla slovníček pojmů, které se k danému tématu vztahují

Ve zpracování tématu jsou představeny významné architektonické památky nebo umělecká díla dané doby.

Studenti jsou vedeni k tomu, aby tato díla dokázali popsat a zařadit je do uměleckého směru dané epochy.

Slovníček pojmů se vztahuje k probraným dějinám umění.

## Lekce historie a lekce zeměpisu

**Le développement durable**

Comment définir le développement durable ?

**1. Citez les trois piliers du développement durable.**

**2. Expliquez la différence entre développement durable et développement classique.**

**3. Quel est le rôle de l'économie dans le développement durable ?**

**4. Quel est le rôle de la société civile dans le développement durable ?**

**5. Quel est le rôle de la culture dans le développement durable ?**

**6. Quel est le rôle de la technologie dans le développement durable ?**

**7. Quel est le rôle de la science dans le développement durable ?**

**8. Quel est le rôle de l'art dans le développement durable ?**

**9. Quel est le rôle de la littérature dans le développement durable ?**

**10. Quel est le rôle de la philosophie dans le développement durable ?**

**11. Quel est le rôle de la religion dans le développement durable ?**

**12. Quel est le rôle de la politique dans le développement durable ?**

**13. Quel est le rôle de la justice dans le développement durable ?**

**14. Quel est le rôle de la morale dans le développement durable ?**

**15. Quel est le rôle de la loi dans le développement durable ?**

**16. Quel est le rôle de l'éthique dans le développement durable ?**

**17. Quel est le rôle de la déontologie dans le développement durable ?**

**18. Quel est le rôle de la responsabilité dans le développement durable ?**

**19. Quel est le rôle de la transparence dans le développement durable ?**

**20. Quel est le rôle de la confiance dans le développement durable ?**

**21. Quel est le rôle de la coopération dans le développement durable ?**

**22. Quel est le rôle de la solidarité dans le développement durable ?**

**23. Quel est le rôle de l'entraide dans le développement durable ?**

**24. Quel est le rôle de l'assistance dans le développement durable ?**

**25. Quel est le rôle de l'aide dans le développement durable ?**

**26. Quel est le rôle de l'assistance technique dans le développement durable ?**

**27. Quel est le rôle de l'aide humanitaire dans le développement durable ?**

**28. Quel est le rôle de l'aide au développement dans le développement durable ?**

**29. Quel est le rôle de l'aide multilatérale dans le développement durable ?**

**30. Quel est le rôle de l'aide bilatérale dans le développement durable ?**

**31. Quel est le rôle de l'aide publique au développement dans le développement durable ?**

**32. Quel est le rôle de l'aide privée au développement dans le développement durable ?**

**33. Quel est le rôle de l'aide non gouvernementale dans le développement durable ?**

**34. Quel est le rôle de l'aide gouvernementale dans le développement durable ?**

**35. Quel est le rôle de l'aide internationale dans le développement durable ?**

**36. Quel est le rôle de l'aide régionale dans le développement durable ?**

**37. Quel est le rôle de l'aide nationale dans le développement durable ?**

**38. Quel est le rôle de l'aide locale dans le développement durable ?**

**39. Quel est le rôle de l'aide communautaire dans le développement durable ?**

**40. Quel est le rôle de l'aide individuelle dans le développement durable ?**

**41. Quel est le rôle de l'aide familiale dans le développement durable ?**

**42. Quel est le rôle de l'aide amicale dans le développement durable ?**

**43. Quel est le rôle de l'aide volontaire dans le développement durable ?**

**44. Quel est le rôle de l'aide bénévole dans le développement durable ?**

**45. Quel est le rôle de l'aide gratuite dans le développement durable ?**

**46. Quel est le rôle de l'aide sans contrepartie dans le développement durable ?**

**47. Quel est le rôle de l'aide à but non lucratif dans le développement durable ?**

**48. Quel est le rôle de l'aide à caractère humanitaire dans le développement durable ?**

**49. Quel est le rôle de l'aide à caractère social dans le développement durable ?**

**50. Quel est le rôle de l'aide à caractère éducatif dans le développement durable ?**

**51. Quel est le rôle de l'aide à caractère culturel dans le développement durable ?**

**52. Quel est le rôle de l'aide à caractère sportif dans le développement durable ?**

**53. Quel est le rôle de l'aide à caractère récréatif dans le développement durable ?**

**54. Quel est le rôle de l'aide à caractère thérapeutique dans le développement durable ?**

**55. Quel est le rôle de l'aide à caractère médical dans le développement durable ?**

**56. Quel est le rôle de l'aide à caractère juridique dans le développement durable ?**

**57. Quel est le rôle de l'aide à caractère financier dans le développement durable ?**

**58. Quel est le rôle de l'aide à caractère matériel dans le développement durable ?**

**59. Quel est le rôle de l'aide à caractère immatériel dans le développement durable ?**

**60. Quel est le rôle de l'aide à caractère spirituel dans le développement durable ?**

**61. Quel est le rôle de l'aide à caractère moral dans le développement durable ?**

**62. Quel est le rôle de l'aide à caractère intellectuel dans le développement durable ?**

**63. Quel est le rôle de l'aide à caractère émotionnel dans le développement durable ?**

**64. Quel est le rôle de l'aide à caractère psychologique dans le développement durable ?**

**65. Quel est le rôle de l'aide à caractère physique dans le développement durable ?**

**66. Quel est le rôle de l'aide à caractère chimique dans le développement durable ?**

**67. Quel est le rôle de l'aide à caractère biologique dans le développement durable ?**

**68. Quel est le rôle de l'aide à caractère géologique dans le développement durable ?**

**69. Quel est le rôle de l'aide à caractère météorologique dans le développement durable ?**

**70. Quel est le rôle de l'aide à caractère astronomique dans le développement durable ?**

**71. Quel est le rôle de l'aide à caractère géométrique dans le développement durable ?**

**72. Quel est le rôle de l'aide à caractère algébrique dans le développement durable ?**

**73. Quel est le rôle de l'aide à caractère arithmétique dans le développement durable ?**

**74. Quel est le rôle de l'aide à caractère géométrique dans le développement durable ?**

**75. Quel est le rôle de l'aide à caractère algébrique dans le développement durable ?**

**76. Quel est le rôle de l'aide à caractère arithmétique dans le développement durable ?**

**77. Quel est le rôle de l'aide à caractère géométrique dans le développement durable ?**

**78. Quel est le rôle de l'aide à caractère algébrique dans le développement durable ?**

**79. Quel est le rôle de l'aide à caractère arithmétique dans le développement durable ?**

**80. Quel est le rôle de l'aide à caractère géométrique dans le développement durable ?**

**81. Quel est le rôle de l'aide à caractère algébrique dans le développement durable ?**

**82. Quel est le rôle de l'aide à caractère arithmétique dans le développement durable ?**

**83. Quel est le rôle de l'aide à caractère géométrique dans le développement durable ?**

**84. Quel est le rôle de l'aide à caractère algébrique dans le développement durable ?**

**85. Quel est le rôle de l'aide à caractère arithmétique dans le développement durable ?**

**86. Quel est le rôle de l'aide à caractère géométrique dans le développement durable ?**

**87. Quel est le rôle de l'aide à caractère algébrique dans le développement durable ?**

**88. Quel est le rôle de l'aide à caractère arithmétique dans le développement durable ?**

**89. Quel est le rôle de l'aide à caractère géométrique dans le développement durable ?**

**90. Quel est le rôle de l'aide à caractère algébrique dans le développement durable ?**

**91. Quel est le rôle de l'aide à caractère arithmétique dans le développement durable ?**

**92. Quel est le rôle de l'aide à caractère géométrique dans le développement durable ?**

**93. Quel est le rôle de l'aide à caractère algébrique dans le développement durable ?**

**94. Quel est le rôle de l'aide à caractère arithmétique dans le développement durable ?**

**95. Quel est le rôle de l'aide à caractère géométrique dans le développement durable ?**

**96. Quel est le rôle de l'aide à caractère algébrique dans le développement durable ?**

**97. Quel est le rôle de l'aide à caractère arithmétique dans le développement durable ?**

**98. Quel est le rôle de l'aide à caractère géométrique dans le développement durable ?**

**99. Quel est le rôle de l'aide à caractère algébrique dans le développement durable ?**

**100. Quel est le rôle de l'aide à caractère arithmétique dans le développement durable ?**

## Cvičení

**Réviser**

**1. Se repérer dans l'espace**

1. Quelle est la capitale de la France ?  
2. Quelle est la capitale de l'Allemagne ?  
3. Quelle est la capitale de l'Italie ?  
4. Quelle est la capitale de la Chine ?  
5. Quelle est la capitale de l'Inde ?  
6. Quelle est la capitale de l'Australie ?  
7. Quelle est la capitale du Brésil ?  
8. Quelle est la capitale du Japon ?  
9. Quelle est la capitale de la Russie ?  
10. Quelle est la capitale de l'Égypte ?

**2. Connaître les mots de la géographie**

1. Quelle est la capitale de la France ?  
2. Quelle est la capitale de l'Allemagne ?  
3. Quelle est la capitale de l'Italie ?  
4. Quelle est la capitale de la Chine ?  
5. Quelle est la capitale de l'Inde ?  
6. Quelle est la capitale de l'Australie ?  
7. Quelle est la capitale du Brésil ?  
8. Quelle est la capitale du Japon ?  
9. Quelle est la capitale de la Russie ?  
10. Quelle est la capitale de l'Égypte ?

**3. Réviser l'essentiel**

1. Quelle est la capitale de la France ?  
2. Quelle est la capitale de l'Allemagne ?  
3. Quelle est la capitale de l'Italie ?  
4. Quelle est la capitale de la Chine ?  
5. Quelle est la capitale de l'Inde ?  
6. Quelle est la capitale de l'Australie ?  
7. Quelle est la capitale du Brésil ?  
8. Quelle est la capitale du Japon ?  
9. Quelle est la capitale de la Russie ?  
10. Quelle est la capitale de l'Égypte ?

**Appliquer**

**1. Comparer le travail des enfants et la scolarisation**

1. Quel est le pourcentage de la population qui travaille ?  
2. Quel est le pourcentage de la population qui est scolarisée ?  
3. Quel est le pourcentage de la population qui est scolarisée et travaille ?  
4. Quel est le pourcentage de la population qui est scolarisée et ne travaille pas ?  
5. Quel est le pourcentage de la population qui ne travaille pas et n'est pas scolarisée ?

**2. Comparer le revenu des élèves en lecture, mathématiques et sciences**

Matériau	Élèves en lecture	Élèves en mathématiques	Élèves en sciences
1	100	100	100
2	100	100	100
3	100	100	100
4	100	100	100
5	100	100	100

Syntéza základních vědomostí k tématu kapitoly.

Jednotlivé dokumenty jsou jednotlivě představeny a dány do souvislosti.

Opět slovníček.

Žáci jsou vedeni úlohami k sestavení závěrů a základních myšlenek kapitoly.

Úkoly vedou ke znalostem k porozumění a následné aplikaci získaných znalostí.

První stránka obsahuje cvičení na ověření znalostí z časového a prostorového hlediska,

Opakuje pojmy ze slovníčků a shrnuje závěry z předchozích kapitol.

Další stránky zahrnují aplikační cvičení na společný základ

Cvič. z historie se zaměřuje na dějiny umění.

## > Pages spécifiques à la géographie

### Případová studie

**Le Mont-Saint-Michel, enjeu du tourisme durable**

De quel développement durable se définit-on le Mont-Saint-Michel ?

Le tourisme de masse est en constante progression depuis une trentaine d'années et il a des conséquences négatives à la fois sur la société et sur ses **écosystèmes** des pays visités. C'est pour cette raison que l'Organisation mondiale du tourisme (OMT) encourage le tourisme durable. Il est une conséquence de l'environnement, participe au bien-être et à la satisfaction des visiteurs et se fait accepter socialement, politiquement et économiquement par les populations locales. Mais c'est surtout dans les pays riches que le tourisme durable commence à se développer, comme au Mont-Saint-Michel.

**1. Les problèmes du Mont-Saint-Michel**

12 ans de tourisme durable ont permis de constater que le Mont-Saint-Michel est un lieu de tourisme durable. C'est pour cette raison que l'Organisation mondiale du tourisme (OMT) encourage le tourisme durable. Il est une conséquence de l'environnement, participe au bien-être et à la satisfaction des visiteurs et se fait accepter socialement, politiquement et économiquement par les populations locales. Mais c'est surtout dans les pays riches que le tourisme durable commence à se développer, comme au Mont-Saint-Michel.

**2. Le Mont-Saint-Michel (MMS) en 2010**

**3. L'impact du tourisme durable**

**4. Les enjeux du MMS**

**5. Les enjeux du MMS**

**6. Les enjeux du MMS**

**7. Les enjeux du MMS**

**8. Les enjeux du MMS**

**9. Les enjeux du MMS**

**10. Les enjeux du MMS**

**11. Les enjeux du MMS**

**12. Les enjeux du MMS**

**13. Les enjeux du MMS**

**14. Les enjeux du MMS**

**15. Les enjeux du MMS**

**16. Les enjeux du MMS**

**17. Les enjeux du MMS**

**18. Les enjeux du MMS**

**19. Les enjeux du MMS**

**20. Les enjeux du MMS**

**21. Les enjeux du MMS**

**22. Les enjeux du MMS**

**23. Les enjeux du MMS**

**24. Les enjeux du MMS**

**25. Les enjeux du MMS**

**26. Les enjeux du MMS**

**27. Les enjeux du MMS**

**28. Les enjeux du MMS**

**29. Les enjeux du MMS**

**30. Les enjeux du MMS**

**31. Les enjeux du MMS**

**32. Les enjeux du MMS**

**33. Les enjeux du MMS**

**34. Les enjeux du MMS**

**35. Les enjeux du MMS**

**36. Les enjeux du MMS**

**37. Les enjeux du MMS**

**38. Les enjeux du MMS**

**39. Les enjeux du MMS**

**40. Les enjeux du MMS**

**41. Les enjeux du MMS**

**42. Les enjeux du MMS**

**43. Les enjeux du MMS**

**44. Les enjeux du MMS**

**45. Les enjeux du MMS**

**46. Les enjeux du MMS**

**47. Les enjeux du MMS**

**48. Les enjeux du MMS**

**49. Les enjeux du MMS**

**50. Les enjeux du MMS**

**51. Les enjeux du MMS**

**52. Les enjeux du MMS**

**53. Les enjeux du MMS**

**54. Les enjeux du MMS**

**55. Les enjeux du MMS**

**56. Les enjeux du MMS**

**57. Les enjeux du MMS**

**58. Les enjeux du MMS**

**59. Les enjeux du MMS**

**60. Les enjeux du MMS**

**61. Les enjeux du MMS**

**62. Les enjeux du MMS**

**63. Les enjeux du MMS**

**64. Les enjeux du MMS**

**65. Les enjeux du MMS**

**66. Les enjeux du MMS**

**67. Les enjeux du MMS**

**68. Les enjeux du MMS**

**69. Les enjeux du MMS**

**70. Les enjeux du MMS**

**71. Les enjeux du MMS**

**72. Les enjeux du MMS**

**73. Les enjeux du MMS**

**74. Les enjeux du MMS**

**75. Les enjeux du MMS**

**76. Les enjeux du MMS**

**77. Les enjeux du MMS**

**78. Les enjeux du MMS**

**79. Les enjeux du MMS**

**80. Les enjeux du MMS**

**81. Les enjeux du MMS**

**82. Les enjeux du MMS**

**83. Les enjeux du MMS**

**84. Les enjeux du MMS**

**85. Les enjeux du MMS**

**86. Les enjeux du MMS**

**87. Les enjeux du MMS**

**88. Les enjeux du MMS**

**89. Les enjeux du MMS**

**90. Les enjeux du MMS**

**91. Les enjeux du MMS**

**92. Les enjeux du MMS**

**93. Les enjeux du MMS**

**94. Les enjeux du MMS**

**95. Les enjeux du MMS**

**96. Les enjeux du MMS**

**97. Les enjeux du MMS**

**98. Les enjeux du MMS**

**99. Les enjeux du MMS**

**100. Les enjeux du MMS**

Příp. studie dovoluje žákovi osvojit vybrané téma ve vybrané lokalitě (měřítku).  
Žáci jsou vedeni úlohami k sestavení vlastních závěrů a základních myšlenek.

### Příklad

**Alphabétisation et accès à l'éducation en France et au Burkina Faso**

Quelle est la situation de l'accès à l'éducation en France et au Burkina Faso ?

En France, le taux de littératie est actuellement proche des 100% pour les adultes de 15 ans et plus. En Burkina Faso, le taux de littératie est inférieur à 10%.

**1. Le taux de littératie en France et au Burkina Faso**

**2. Le taux de littératie en France et au Burkina Faso**

**3. Le taux de littératie en France et au Burkina Faso**

**4. Le taux de littératie en France et au Burkina Faso**

**5. Le taux de littératie en France et au Burkina Faso**

**6. Le taux de littératie en France et au Burkina Faso**

**7. Le taux de littératie en France et au Burkina Faso**

**8. Le taux de littératie en France et au Burkina Faso**

**9. Le taux de littératie en France et au Burkina Faso**

**10. Le taux de littératie en France et au Burkina Faso**

**11. Le taux de littératie en France et au Burkina Faso**

**12. Le taux de littératie en France et au Burkina Faso**

**13. Le taux de littératie en France et au Burkina Faso**

**14. Le taux de littératie en France et au Burkina Faso**

**15. Le taux de littératie en France et au Burkina Faso**

**16. Le taux de littératie en France et au Burkina Faso**

**17. Le taux de littératie en France et au Burkina Faso**

**18. Le taux de littératie en France et au Burkina Faso**

**19. Le taux de littératie en France et au Burkina Faso**

**20. Le taux de littératie en France et au Burkina Faso**

**21. Le taux de littératie en France et au Burkina Faso**

**22. Le taux de littératie en France et au Burkina Faso**

**23. Le taux de littératie en France et au Burkina Faso**

**24. Le taux de littératie en France et au Burkina Faso**

**25. Le taux de littératie en France et au Burkina Faso**

**26. Le taux de littératie en France et au Burkina Faso**

**27. Le taux de littératie en France et au Burkina Faso**

**28. Le taux de littératie en France et au Burkina Faso**

**29. Le taux de littératie en France et au Burkina Faso**

**30. Le taux de littératie en France et au Burkina Faso**

**31. Le taux de littératie en France et au Burkina Faso**

**32. Le taux de littératie en France et au Burkina Faso**

**33. Le taux de littératie en France et au Burkina Faso**

**34. Le taux de littératie en France et au Burkina Faso**

**35. Le taux de littératie en France et au Burkina Faso**

**36. Le taux de littératie en France et au Burkina Faso**

**37. Le taux de littératie en France et au Burkina Faso**

**38. Le taux de littératie en France et au Burkina Faso**

**39. Le taux de littératie en France et au Burkina Faso**

**40. Le taux de littératie en France et au Burkina Faso**

**41. Le taux de littératie en France et au Burkina Faso**

**42. Le taux de littératie en France et au Burkina Faso**

**43. Le taux de littératie en France et au Burkina Faso**

**44. Le taux de littératie en France et au Burkina Faso**

**45. Le taux de littératie en France et au Burkina Faso**

**46. Le taux de littératie en France et au Burkina Faso**

**47. Le taux de littératie en France et au Burkina Faso**

**48. Le taux de littératie en France et au Burkina Faso**

**49. Le taux de littératie en France et au Burkina Faso**

**50. Le taux de littératie en France et au Burkina Faso**

**51. Le taux de littératie en France et au Burkina Faso**

**52. Le taux de littératie en France et au Burkina Faso**

**53. Le taux de littératie en France et au Burkina Faso**

**54. Le taux de littératie en France et au Burkina Faso**

**55. Le taux de littératie en France et au Burkina Faso**

**56. Le taux de littératie en France et au Burkina Faso**

**57. Le taux de littératie en France et au Burkina Faso**

**58. Le taux de littératie en France et au Burkina Faso**

**59. Le taux de littératie en France et au Burkina Faso**

**60. Le taux de littératie en France et au Burkina Faso**

**61. Le taux de littératie en France et au Burkina Faso**

**62. Le taux de littératie en France et au Burkina Faso**

**63. Le taux de littératie en France et au Burkina Faso**

**64. Le taux de littératie en France et au Burkina Faso**

**65. Le taux de littératie en France et au Burkina Faso**

**66. Le taux de littératie en France et au Burkina Faso**

**67. Le taux de littératie en France et au Burkina Faso**

**68. Le taux de littératie en France et au Burkina Faso**

**69. Le taux de littératie en France et au Burkina Faso**

**70. Le taux de littératie en France et au Burkina Faso**

**71. Le taux de littératie en France et au Burkina Faso**

**72. Le taux de littératie en France et au Burkina Faso**

**73. Le taux de littératie en France et au Burkina Faso**

**74. Le taux de littératie en France et au Burkina Faso**

**75. Le taux de littératie en France et au Burkina Faso**

**76. Le taux de littératie en France et au Burkina Faso**

**77. Le taux de littératie en France et au Burkina Faso**

**78. Le taux de littératie en France et au Burkina Faso**

**79. Le taux de littératie en France et au Burkina Faso**

**80. Le taux de littératie en France et au Burkina Faso**

**81. Le taux de littératie en France et au Burkina Faso**

**82. Le taux de littératie en France et au Burkina Faso**

**83. Le taux de littératie en France et au Burkina Faso**

**84. Le taux de littératie en France et au Burkina Faso**

**85. Le taux de littératie en France et au Burkina Faso**

**86. Le taux de littératie en France et au Burkina Faso**

**87. Le taux de littératie en France et au Burkina Faso**

**88. Le taux de littératie en France et au Burkina Faso**

**89. Le taux de littératie en France et au Burkina Faso**

**90. Le taux de littératie en France et au Burkina Faso**

**91. Le taux de littératie en France et au Burkina Faso**

**92. Le taux de littératie en France et au Burkina Faso**

**93. Le taux de littératie en France et au Burkina Faso**

**94. Le taux de littératie en France et au Burkina Faso**

**95. Le taux de littératie en France et au Burkina Faso**

**96. Le taux de littératie en France et au Burkina Faso**

**97. Le taux de littératie en France et au Burkina Faso**

**98. Le taux de littératie en France et au Burkina Faso**

**99. Le taux de littératie en France et au Burkina Faso**

**100. Le taux de littératie en France et au Burkina Faso**

Příklad obsahuje popis a srovnání situací, které ilustrují dílčí témata kapitoly tématu.  
Je to progresivní metoda, která umožňuje tvořit závěry k případové studii.

## Ukázka úvodní kapitoly z francouzské učebnice zeměpisu (Zdroj: Histoire, Géographie, Hachette 2012)


Chapitre  
**18**

### L'organisation du territoire français

- Quels sont les principaux contrastes territoriaux en France ?
- Quelles sont les politiques menées pour améliorer l'organisation du territoire ?



**1** Le quartier d'affaires de la Défense, dans l'agglomération parisienne.  
Au second plan, on distingue le centre de Paris.  
A : Grande Arche, B : Arc de triomphe de l'Étoile, C : Musée du Louvre, D : Notre Dame de Paris  
1. Citez des monuments et des bâtiments qui montrent l'influence nationale et mondiale de Paris.



**2** Le viaduc de Millau. Il permet de relier Paris à Montpellier par l'autoroute A75, à travers le Massif central.  
1. Décrivez la photographie et expliquez dans quel type d'espace se situe le viaduc.  
2. Quelle difficulté le viaduc permet-il de résoudre ?

Chiffres clés	
<b>Les contrastes territoriaux</b> <ul style="list-style-type: none"> <li>• 3 régions concentrent 40 % du PIB : Île-de-France, Rhône-Alpes et Provence-Alpes-Côte d'Azur</li> <li>• 701 zones urbaines sensibles en France</li> </ul>	<b>Le poids de la région parisienne</b> <ul style="list-style-type: none"> <li>• 26,6 % du PIB français</li> <li>• 1<sup>er</sup> bassin d'emploi européen</li> <li>• 2<sup>e</sup> zone mondiale d'implantation des 500 plus grandes entreprises internationales</li> <li>• Paris : 1<sup>re</sup> destination touristique mondiale</li> </ul>

Žáci jsou vedeni k samostatnému uvažování a velmi často se setkáváme s úkolem popsat dva protikladné obrázky. U tohoto tématu popisují rozdíly v městské aglomeraci a na venkově.

## Thème 2 - DES INÉGALITÉS DEVANT L'ALPHABÉTISATION

### CONNAISSANCES

#### Éducation et développement

L'inégal accès à l'éducation et au savoir représente un frein majeur au développement, en particulier lorsqu'il touche les femmes. Les inégalités en ce domaine sont mises en relation avec les inégalités de développement.

### DÉMARCHES

On confronte des cartes de l'accès à l'éducation et de la richesse à l'échelle mondiale.

Elles sont expliquées à partir des exemples comparés de l'alphabetisation et de l'accès à l'éducation dans un pays pauvre et dans un pays développé.

### CAPACITÉS

**Localiser et situer** les deux pays étudiés

**Décrire** la situation de l'alphabetisation et de l'accès à l'éducation dans un pays pauvre et dans un pays développé

**Lire et décrire** les principales inégalités sur un planisphère de l'alphabetisation ou de l'accès à l'éducation

## Thème 3 - DES INÉGALITÉS DEVANT LES RISQUES

### CONNAISSANCES

#### Risques et développement

L'inégale vulnérabilité des sociétés face aux risques est le résultat de différents facteurs parmi lesquels le niveau de développement occupe une place majeure. L'action de l'homme dans l'aménagement des territoires et sa perception des risques aggravent ou réduisent

l'exposition aux risques.

### DÉMARCHES

#### Deux études de cas :

Une catastrophe naturelle  
- dans un pays développé,  
- dans un pays pauvre.

La comparaison démontre que deux aléas d'intensité voisine frappant deux sociétés différentes peuvent provoquer des dommages de nature et d'ampleur inégales.

Ces études de cas sont mises en contexte au niveau mondial en s'appuyant sur des planisphères que l'on confronte (répartition de la population, risques naturels, Indice de Développement Humain...).

### CAPACITÉS

**Localiser et situer** les deux pays étudiés

**Décrire** une catastrophe naturelle et ses conséquences

**Expliquer :**

- la différence entre les conséquences d'une catastrophe dans un pays du Nord et dans un pays du Sud.
- la relation entre vulnérabilité et développement

## Thème 4 - LA PAUVRETÉ DANS LE MONDE (obligatoire)

### CONNAISSANCES

#### Pauvreté et développement

Une part importante de l'humanité vit dans la pauvreté. La pauvreté constitue un frein au développement et un accélérateur des crises environnementales.

### DÉMARCHE :

**Des exemples appuyés sur des paysages** permettent de décrire les conditions de vie de populations pauvres.

Les inégalités socio-spatiales sont prises en compte aux différentes échelles.

À l'échelle mondiale des cartes et des indicateurs statistiques (indicateurs de pauvreté humaine, de richesse et de développement humain) sont confrontés pour mettre en évidence les inégalités de développement.

### CAPACITÉS

**Décrire :**

- les conditions de vie d'une population pauvre
- les inégalités à différentes échelles.

**Lire et décrire** une carte significative de la richesse et de la pauvreté dans l'espace mondial

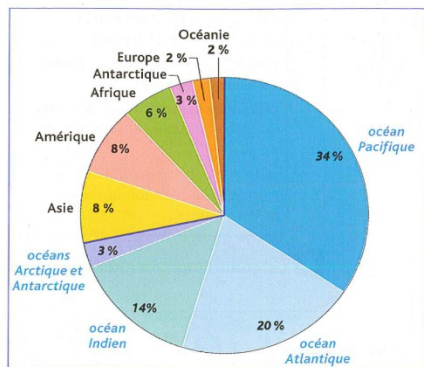
**Localiser et situer** les pays les plus pauvres du monde

## Francouzské učebnice geografie

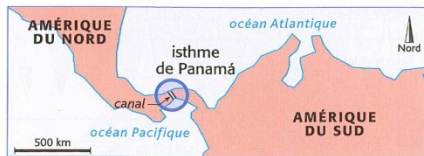
- Učebnice z nakladatelství Hachete jsou velice dobře graficky vybavené. Obsahují především celou škálu nonverbálních prvků, ke kterým jsou vytvářeny učební úlohy. Plní tak i funkci pracovního sešitu.
- Zastánci nových učebnic se především snaží o to, aby se z geografie, jako popisného předmětu stal dynamický předmět, který žákům umožní lépe pochopit aktuální dění dnešního světa (Roumégous, 2002).

# DOSSIER Océans et continents

Les **océans** et les **mers** recouvrent environ 71 % de la superficie du globe, d'où le nom de « planète bleue » donné à la Terre. Les **continents** représentent un peu plus de 29 % de la surface du globe.



1 La répartition des océans et des continents à la surface de la Terre.



2 L'isthme de Panamá.



3 Le détroit de Gibraltar.



4 Les océans et les continents.

**Vocabulaire**

**continent (un)** : immense étendue de terres entourée par des océans et des mers.

**détroit (un)** : passage maritime étroit situé entre deux terres.

**isthme (un)** : passage terrestre étroit situé entre deux mers.

**mer (une)** : étendue d'eau salée plus petite qu'un océan.

**océan (un)** : immense étendue d'eau salée.

## Questions

### Trouver des informations dans des documents

1. **Doc. 1** Pourquoi appelle-t-on la Terre, la « planète bleue » ?
2. **Doc. 1** Quel est le nom du plus grand océan ?
3. **Doc. 2** Quels océans l'isthme de Panamá sépare-t-il ?
4. **Doc. 3** Quels continents sépare le détroit de Gibraltar ?
5. **Doc. 4** Quel détroit sépare l'Asie et l'Amérique ?

### Mettre en relation des documents

6. **Doc. 1 et 3** Quel pourcentage de la surface totale de la Terre représentent les continents ?

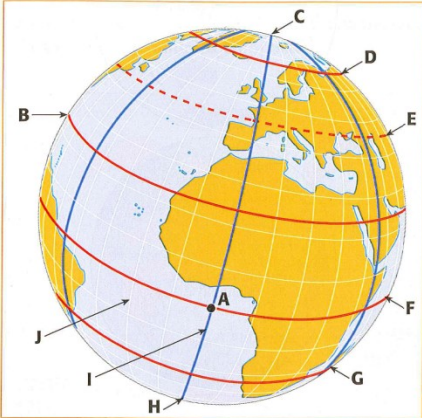
### Compléter un tableau

7. Recopiez le tableau ci-dessous et complétez-le.

Pour aller de...	Vers...	Passage le plus court
Europe	Afrique	Détroit de .....
Afrique	.....	Isthme de .....
.....	Amérique du Nord	Détroit de .....
Amérique du Nord	.....	Isthme de .....

## Réviser

## 1 Se repérer dans l'espace



1. À quels repères géographiques correspondent les lettres : B ; C ; D ; E ; F ; G ; H ; I ; J ?

Aidez-vous de la liste suivante :

- l'équateur ;
- le 45° parallèle Nord ;
- le cercle polaire arctique ;
- le méridien de Greenwich ;
- le pôle Nord ;
- le pôle Sud ;
- le tropique Nord (du Cancer) ;
- le tropique Sud (du Capricorne) ;
- un méridien.

2. Donnez les coordonnées géographiques du point A.

Doc. 1 Le quadrillage du globe terrestre.

## 2 Connaître les mots de la géographie

Sur votre cahier, recopiez pour chaque mot (1 à 5) la définition qui convient (A à E).

- |              |  |
|--------------|--|
| 1. Échelle   | A. Cercle imaginaire parallèle à l'équateur.   |
| 2. Latitude  | B. Rapport entre une distance mesurée sur la carte et la distance correspondante mesurée sur le terrain. |
| 3. Longitude | C. Distance d'un lieu par rapport au méridien 0 degré.   |
| 4. Méridien  | D. Distance d'un lieu par rapport à l'équateur. Elle se calcule en degrés.                               |
| 5. Parallèle | E. Demi-cercle imaginaire reliant les pôles.   |

## 3 Retenir l'essentiel

Pour vérifier si les éléments essentiels du chapitre sont connus, faites correspondre, sur votre cahier, chaque question (1 à 3) avec la réponse qui lui convient (A à C).

- |  |   |
|--|---|
| 1. Comment connaît-on la position d'un lieu sur la Terre ?   | A. Les océans représentent environ 71 % de la surface de la Terre alors que les continents ne recouvrent que 29 % de la surface du globe.                 |
| 2. D'où vient le nom de « planète bleue » donné à la Terre ? | B. On se sert d'une carte dont l'échelle indique le niveau de réduction par rapport à la réalité. Il existe des petites échelles et des grandes échelles. |
| 3. Comment représente-t-on un espace sur une surface plane ? | C. On se sert de ses coordonnées géographiques, c'est-à-dire de sa latitude et de sa longitude.   |

## Appliquer

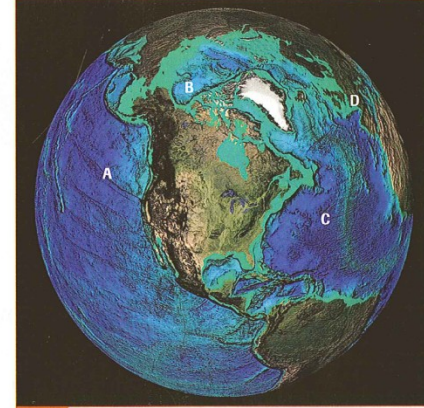
## 1 Identifier des lieux sur un globe

voir p. 204-205 et p. 208-209

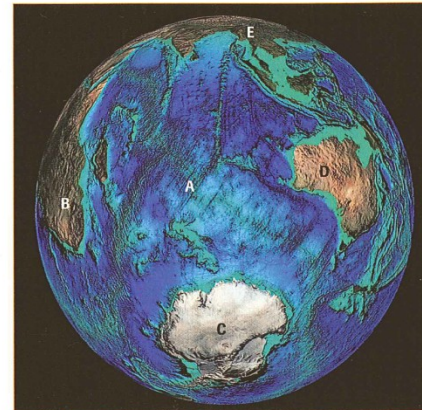
Socle commun : connaître les grands ensembles physiques (océans, continents).




Doc. 1



Doc. 2



Doc. 3



Doc. 4

1. **Doc. 1** À quoi correspondent les lettres A, B, C et D ? Aidez-vous de la liste suivante : France ; mer Méditerranée ; océan Atlantique ; océan Indien.
2. **Doc. 2** À quoi correspondent les lettres A, B, C et D ? Aidez-vous de la liste suivante : France ; océan Atlantique ; océan Glacial Arctique ; océan Pacifique.

3. **Doc. 3** À quoi correspondent les lettres A, B, C, D et E ? Aidez-vous de la liste suivante : Afrique ; Antarctique ; Asie ; Australie ; océan Indien.
4. **Doc. 4** À quoi correspondent les lettres A, B, C, D et E ? Aidez-vous de la liste suivante : Afrique ; Amérique ; France ; océan Atlantique ; océan Pacifique.



Využití map, obrázků, textu a učebních úloh ostře kontrastuje s podobným tématem v učebnici od nakladatelství Fraus.



Co víš ze 6. ročníku o vzniku kontinentů?

Které informace ze světa potvrzují, že pohyb litosférických desek stále probíhá? Čeho se týkají? Uveď příklady.

Slova kontinent a světadíl jsou ve spisovné češtině synonyma.

Z hlediska zeměpisného jde o odborné názvy různého významu. Kontinenty: Afrika, Amerika, Antarktida, Austrálie, Eurasie

Například Eurasii chápeme jako kontinent a Evropu a Asii jako světadíly. Uvažuj: Je Afrika kontinent, nebo světadíl?

## JAK JE SVĚT ROZDĚLEN

V šesté třídě jsme se zabývali tzv. obecným zeměpisem, základními složkami zeměpisného prostředí. Objektem našeho poznávání byla celá planeta Země, její přírodní podmínky, příroda, obyvatelé a jejich činnost.

V tomto školním roce se budeme zabývat zeměpisem oblastním (regionálním). Zaměříme se na poznávání oblastí (regionů), na které je svět rozdělen.

Svět je možné dělit z mnoha hledisek a různými způsoby. V podstatě jde vždy o vymezení hranic v zeměpisném prostředí Země. Podívejme se nyní na různá rozdělení. Díky nim se můžeme přesunout na jednotlivé kontinenty, do jejich oblastí, států a jejich menších samosprávných celků, v České republice pak až do okresu, ve kterém leží naše obec.



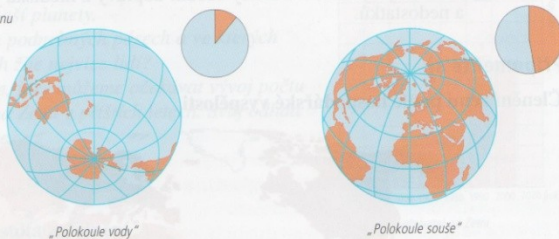
Planeta Země

## Pevniny a oceány

Kdybychom se k Zemi blížili z vesmíru, zjistili bychom, že její rozdělení je na první pohled velmi nápadné. Dobře rozeznatelné jsou pevniny a oceány. Vzhledem k tomu, že z určitého pohledu vidíme jen jednu polokouli Země, bylo by důležité i to, odkud bychom přiletali.

Výšeový graf podléhá souše a oceánu na Zemi v %

pevнина  
voda



Jak už víte ze 6. třídy, z celkové plochy naší planety zaujímá největší část **světový oceán**. Zabírá přes dvě třetiny rozlohy povrchu Země. Na **pevninu** tak připadá asi jedna třetina. Kdybychom se k Zemi přiblížili ještě více, bude nápadné rozdělení pevniny na **kontinenty** a dělení mořského prostoru na **oceány**. Obecně se uvádí, že kontinentů je pět a oceány jsou čtyři. Z hlediska historického a kulturního vývoje lidstva rozlišujeme sedm světadílů.

Rozlohy světadílů v mil. km<sup>2</sup>



Bylo vždy rozmístění kontinentů na Zemi stejné jako dnes? Zdůvodněte své tvrzení.



Uveďte názvy všech kontinentů v pořadí od největšího k nejmenšímu. Na které polokouli jednotlivé kontinenty leží? Na kolik světadílů dělíme pevninu? Vyjmenujte je.

## JAK JE SVĚT ROZDĚLEN

**Světový oceán** se dělí na čtyři části: Tichý, Atlantský, Indický a Severní ledový (Arktický) oceán. Okrajové části oceánů se nazývají **moře**. Takovým mořím, která jsou volně přístupná z oceánu, říkáme **okrajová** (např. Arabské moře). Moře, která od oceánu odcházejí průlivy a jsou obklopena pevninou, označujeme jako moře **vnitřní** (např. Černé moře).

Rozlohy oceánů v mil. km<sup>2</sup>



1. Vypočítejte a uveďte ve zlomku, jak velkou část z celkové rozlohy pevniny zaujímá Asie.
2. Vypočítejte a uveďte ve zlomku, jakou část z celkové rozlohy světového oceánu zaujímá Atlantský oceán.

Naše kosmická loď se blíží stále více k zemskému povrchu, ale kromě ostrovů a poloostrovů už další dělení není tak zřetelné. Hranici snad mohou připomínat horské hřbety a vodní toky, avšak z hlediska přírodních poměrů hranic v pravém slova smyslu nejsou.

Určitě jste již slyšeli takové pojmy jako Blízký východ, Sibiř, Polynésie nebo Středomoří. Jsou to názvy částí světadílů či oceánů – regionů, které mají něco společného, například polohu, přírodní podmínky, vlastní historický vývoj apod.



Které evropské státy patří do oblasti Středomoří? Co mají státy této oblasti Evropy společného? Pracujte s atlasem.

### Shrnutí



Již z vesmíru je patrné rozdělení povrchu Země na oceány a pevniny (kontinenty). Světový oceán tvoří čtyři oceány: Tichý, Atlantský, Indický a Severní ledový. Na pevnině se rozkládá sedm světadílů: Asie, Severní Amerika, Jižní Amerika, Afrika, Evropa, Antarktida a Austrálie a Oceánie. Ty lze podle různých hledisek dále dělit.

### Otázky a úkoly



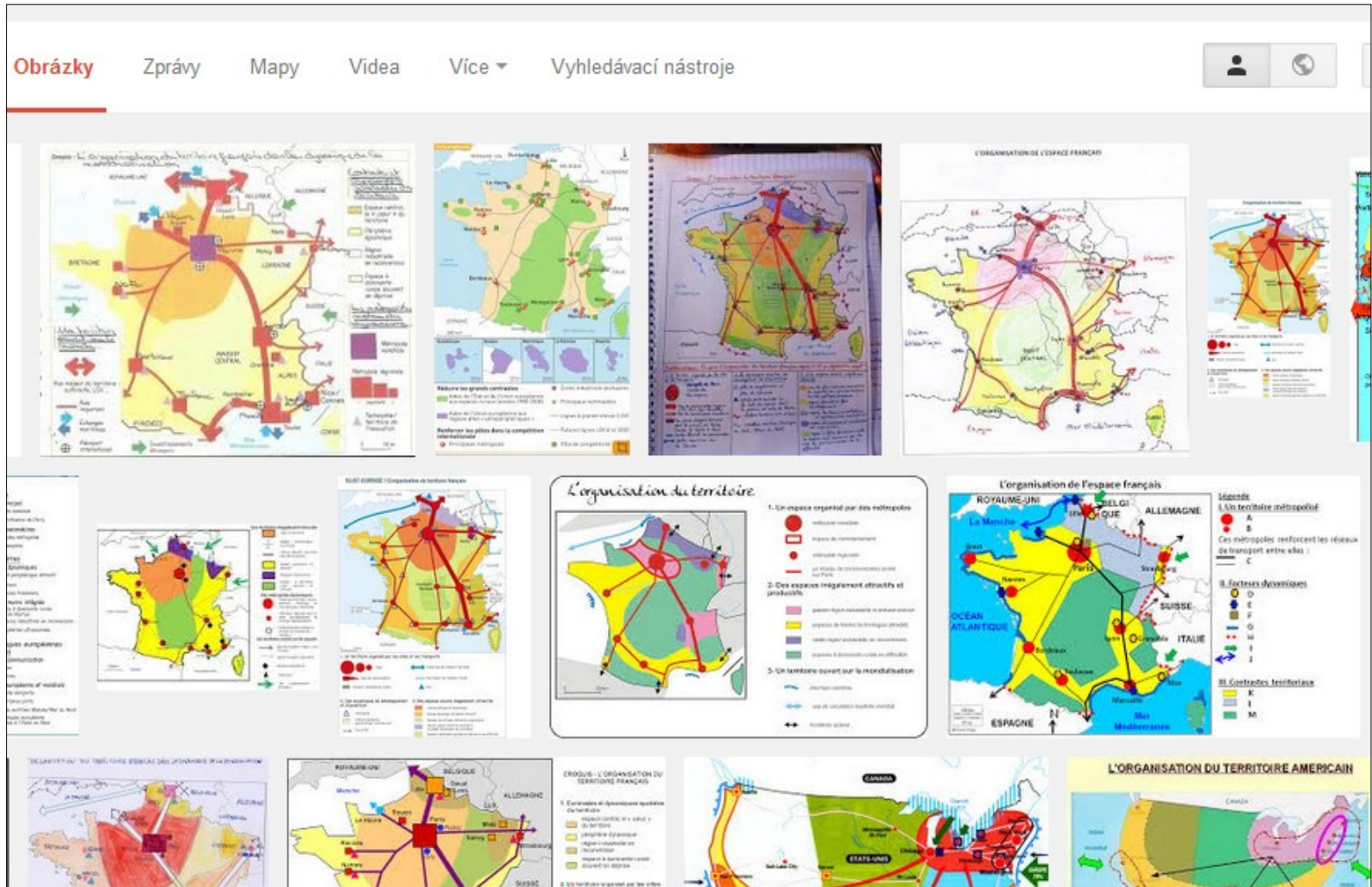
1. Prohlédněte si družicový snímek planety Země u motivačního textu na str. 10. Které světadíly a které oceány vidíte?
2. Porovnejte celkovou rozlohu pevniny a světového oceánu. Pokuste se znázornit zjištěné údaje pomocí výšeového grafu (viz str. 10).



Počet oceánů není pevně stanoven. Někteří zeměpisci uvádějí jako pátý oceán Jižní oceán.

Jak využívali lidé v dávných dobách tvary zemského povrchu k vymezení území, na kterém žili?

# CROCQUIZ – náčrtníky ukazují cestu, jak pracovat s mapovými podklady vzhledem k prostorovým vazbám. Mohou být v papírové podobě nebo v elektronické podobě.



Minimum textu maximum podkladů pro přemýšlení a práci podporované vizuálními prvky.

# Les contrastes du peuplement en Chine

La Chine est le pays le plus peuplé du monde (1,3 milliard d'habitants). La répartition de la population est très inégale sur son territoire, et l'exode rural ne fait qu'augmenter ces inégalités.

## Vocabulaire

**exode rural (un)** : départ massif des habitants des campagnes vers les villes.



## 2 L'exode rural

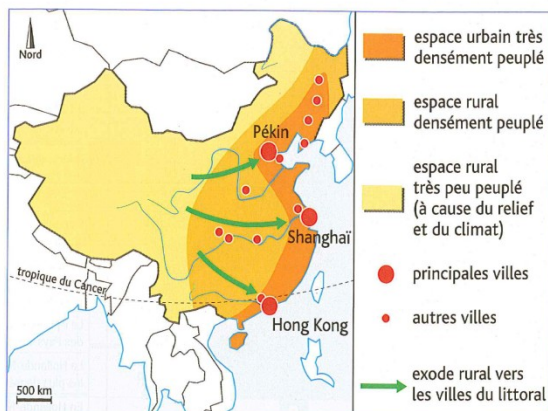
Depuis le milieu des années 1990, mon père se plaignait régulièrement de notre pauvreté.

Finalement, nous sommes partis, mon père et moi, ainsi qu'une vingtaine d'autres personnes des villages proches du nôtre.


Dans les villages, la terre ne pouvait plus nous nourrir.

Partir pour Shanghai, c'était espérer trouver un travail, et aussi un salaire que l'on enverrait aux femmes et aux enfants restés au village.

*D'après S. Fièvre, La Promesse de Shanghai, 2006.*



**4** La ville de Shanghai.



**5** Un village du Xinjiang.

## Questions

### Mettre en relation les documents

- Doc. 1, 4 et 5** Quelles sont les densités de population des lieux photographiés ?
- Doc. 2 et 4** Citez la phrase du texte qui donne la raison du départ pour Shanghai.
- Doc. 2 et 3** Comment l'exode rural est-il montré sur la carte ?

### Rédiger

- Rédigez un petit texte qui explique :
  - dans quel espace se concentre surtout la population chinoise ;
  - pourquoi cet espace accueille toujours plus de personnes.

# Život v oblastech se ztíženými životními podmínkami



Obr. 4: Ukázka úvodní části kapitoly z francouzské učebnice zeměpisu

Zdroj: Učebnice Histoire-géographie 6e, Hachette, 2009

K obou obrázkům se na úvod vztahuje série otázek, na které mají žáci odpovědět – mají popsat krajinu, která je na fotce vyobrazená, vysvětlit proč je v této krajině složité žít, vysvětlit, jak se lidé přizpůsobují na život v nepříznivých podmínkách krajiny a popsat jakým způsobem se přemisťují z místa na místo a proč.

## ÉTUDE DE CAS L'archipel des Maldives

L'archipel des Maldives s'étend sur 870 km du nord au sud. Il compte des atolls de très faible taille. Ils attirent les touristes car l'archipel est menacé par le réchauffement climatique.

### UKÁZKA Č. 1

lagon peu profond    terre émergée  
lagon profond    récif

### UKÁZKA Č. 2

1. Une île-hôtel dans l'archipel des Maldives.

### UKÁZKA Č. 3

De l'impact du réchauffement climatique

Du haut du 4<sup>e</sup> étage de son immeuble, Mariyam a vu le tsunami du 26 décembre 2004 déferler sur les Maldives : « Ce jour-là, j'ai pris conscience des dangers de la mer. » Face à la montée du niveau de l'eau due au réchauffement de la planète et à l'érosion des côtes, les Maldiviens vivent dans la crainte.

Une solution a été trouvée. Une grande île artificielle a été créée. Elle est en fait une île-hôtel, la Malé, la capitale des Maldives.

**Slovníček pojmů**

**atoll (atoll)** : barrière de corail entourant un lagon.

**érosion (érosion)** : usure du relief par la mer, les cours d'eau ou le vent.

**lagon (lagon)** : petit lac salé au milieu d'un atoll et communiquant avec la mer.

### UKÁZKA Č. 4

5. Croquis de l'île de Malé.

### Otázky a úkoly

**Trouver des informations dans un document**

- Doc. 1 Comment s'appelle la principale île habitée ?
- Doc. 2 Comment l'île est-elle approvisionnée en eau douce ? À quel sert l'eau douce ?

**Mettre en relation les documents**

- Doc. 2 et 3. Quels dangers la mer fait-elle peser sur les Maldives ? Comment les hommes s'en protègent-ils ?

**Compléter un croquis**

- Doc. 4 et 5. Recopiez la légende du doc. 5. Colorez les rectangles (1 à 7) avec la bonne couleur et complétez le texte marquant. Aidez-vous du doc. 4 et des éléments suivants : aéroport ; digue de protection ; île artificielle de Malé ; île ; deuxième peuple de Malé ; îlots ; lagon ; atoll ; îlot.

Obr. 5: Ukázka případové studie z francouzské učebnice zeměpisu

Zdroj: Učebnice Histoire-géographie 6e, Hachette, 2009



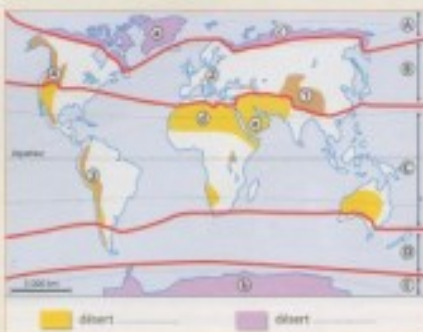


## EXERCICES

### Réviser

**1 Repérer les grands climats et les grands reliefs** voir p. 226-233, p. 234-258 et p. 326-332

But de l'exercice : situer des lieux dans l'espace.



1. Faites correspondre aux chiffres, selon de 1 à 4 le nom des chaînes de montagnes : cordillère des Andes, montagnes Rocheuses, Alpes, Himalaya.
2. Faites correspondre aux lettres A à E, les domaines suivants : domaine froid ; domaine tempéré ; domaine chaud (un même domaine peut correspondre à plusieurs lettres).
3. À quel type de climat correspondent les zones colorées en jaune et en violet sur la carte ?
4. Donnez le nom des climats correspondant aux lettres a, b, c, d, e.

  désert        désert

**2 Connaître les mots de la géographie**

Sur votre cahier, écrivez pour chaque mot (1 à 4) la définition qui convient (A à D).

<ol style="list-style-type: none"> <li>1. Banquise</li> <li>2. Érosion</li> <li>3. Intertidie</li> <li>4. Dael</li> </ol>	<ol style="list-style-type: none"> <li>A. Usure du relief par la mer, les courants d'eau ou le vent.</li> <li>B. Rivière temporaire dans une région aride.</li> <li>C. Couche de glace recouvrant la mer.</li> <li>D. Masse de glace très épaisse et permanente recouvrant les terres polaires.</li> </ol>
---	--

**3 Retenir l'essentiel**

Pour vérifier si les éléments essentiels du chapitre sont connus, faites correspondre, sur votre cahier, chaque question (1 à 4) avec la réponse qui lui convient (A à D).


<ol style="list-style-type: none"> <li>1. Comment les hommes s'adaptent-ils aux contraintes des déserts froids ?</li> <li>2. Comment les hommes s'adaptent-ils aux contraintes des déserts chauds et secs ?</li> <li>3. Comment les hommes s'adaptent-ils aux contraintes des hautes montagnes ?</li> <li>4. Comment les hommes s'adaptent-ils aux contraintes des îles ?</li> </ol>	<ol style="list-style-type: none"> <li>A. Les hommes pratiquent une agriculture irriguée dans les oasis.</li> <li>B. Les hommes pratiquent la pêche et développent le tourisme.</li> <li>C. Les hommes s'installent sur les terres libres de glace. Ils pratiquent la chasse, la pêche et l'élevage.</li> <li>D. Les hommes construisent des terrasses agricoles et développent le tourisme (ski, trekking).</li> </ol>
--	---

## EXERCICES


### Appliquer

**1 Identifier et analyser des paysages à fortes contraintes** voir p. 318 à 322


But de l'exercice : lire et utiliser des photographies.




Doc. 1



Doc. 2



Doc. 3



Doc. 4

1. Reproduisez en agrandissant le tableau ci-dessous.
2. Complétez le tableau en utilisant les expressions suivantes (certaines expressions peuvent être utilisées deux fois).

**Localisation :** un village au Groenland ; un village au Sahara ; un port dans une île des Antilles ; un village dans l'Himalaya.

**Éléments du paysage :** rebord ; montagne ; port ; oasis ; vallée ; littoral ; terrasses agricoles.

**Contraintes naturelles :** cyclones ; froid ; manque d'argine ; vents ; manque de glace ; aridité ; glace.

**Activités humaines :** agriculture ; tourisme de luxe ; pêche ; trekking ; chasse.

Paysage	Localisation	Éléments du paysage	Contraintes naturelles	Activités humaines
Doc. 1				
Doc. 2				
Doc. 3				
Doc. 4				

DUMAS - 4 QUATRE CENTS CINQUANTE ET CINQUE CONTRAINTES 329

Obr. 7: Ukázka z učebnice – dvojstrana určená k opakování a aplikaci získaných vědomostí

Zdroj: Učebnice Histoire-géographie 6e, Hachette, 2009)

Následující ukázky jsou zaměřené na propojení historické části učebnice a geografické části.

Lze si všimnout např. jak vypadaly přístavy dříve a v současnosti.

Jak vypadala a co vozila nákladní loď ve srovnání s kontejnerovou lodí.

# Le port de Bordeaux peint par Vernet

Joseph Vernet est un peintre français du XVIII<sup>e</sup> siècle. En 1758, suite à une commande royale, il réalise un grand tableau du port de Bordeaux.

> Comment Vernet a-t-il représenté le port de Bordeaux ?

## OBJECTIF


étudier un tableau d'un port du XVIII<sup>e</sup> siècle : Bordeaux par Vernet

### Socle commun

- 5.1 Avoir des connaissances relevant de la culture artistique : œuvres picturales
- 5.4 Être sensible aux enjeux esthétiques et humains d'une œuvre artistique

## 1 Joseph Vernet (1714-1789)

C'est dans sa ville natale, à Avignon, que Joseph Vernet est initié à la peinture. Il vit ensuite plus de vingt ans en Italie où il fait une carrière de peintre de paysage et de marine. En 1753, le roi de France, Louis XV, lui commande des tableaux des principaux ports du royaume pour en avoir une représentation exacte. Vernet réalise alors 15 tableaux de ports, de dimensions identiques, entre 1753 et 1765, à partir de croquis qu'il réalise lui-même. Sa réputation devient internationale et il reçoit ensuite des commandes de toute l'Europe.



Biographie

## 2 FICHE D'IDENTITÉ

### Vue de Bordeaux (doc. 3)

- **Titre** : Vue d'une partie du port et de la ville de Bordeaux, prise du côté des Salinières
- **Artiste** : Joseph Vernet (1714-1789)
- **Date** : 1758
- **Nature et technique** : peinture, huile sur toile
- **Genre** : peinture de marine
- **Commanditaire** : commande royale (du roi Louis XV)

- **Dimensions** : L. : 2,63 m x H. : 1,65 m
- **Lieu de conservation actuel** : Musée national de la Marine, Paris.

### Histoire de l'œuvre

Il s'agit d'un des deux tableaux de Bordeaux peints par Vernet à la suite de la commande royale de 1753. Ils ont été exposés à Bordeaux même puis à Paris en 1759, où ils ont obtenu à chaque fois un très grand succès.

### Vocabulaire DES ARTS

La peinture de marine : la peinture ayant pour sujet la mer, mais aussi les ports, les rives, les navires.

La peinture de marine apparaît au XVII<sup>e</sup> siècle aux Pays-Bas et en Italie. Au XVIII<sup>e</sup> siècle, le peintre français Joseph Vernet devient la référence internationale en la matière.

## Historická část



Les nouvelles façades du XVIII<sup>e</sup> siècle

Une grille clôt la Place royale et sa terrasse inaugurée en 1758

Le faubourg des Chartrons

Les navires marchands, ancrés, attendent la marée

Des barques sillonnent de la rive aux navires

Des embarcations fluviales

Le quai n'est encore qu'une grève

Des bœufs tirent des barriques de vin

La Garonne conduit à l'Atlantique

## 3 Vue du port de Bordeaux, de Joseph Vernet

## ACTIVITÉS

### Je présente

- 1 Situez Bordeaux.
- 2 Présentez le tableau de Vernet (date, sujet, dimensions, commanditaire).
- 3 Ce tableau est-il une représentation fidèle de Bordeaux au XVIII<sup>e</sup> siècle ? Justifiez la réponse à l'aide du doc. 1.

### Je décris et j'explique

- 4 Décrivez le paysage en respectant un ordre (les constructions, les quais et la vie sur les quais, les bateaux sur la Garonne).

- 5 Quels renseignements nous donne cette œuvre sur le commerce de Bordeaux ?

### J'étudie la dimension artistique

- 6 Comparez la place prise dans le tableau par les éléments humains et par les éléments naturels. Que privilégie Vernet ?
- 7 Observez le tableau de loin. Quels sont les espaces mis en valeur par la lumière ?



### Passerelle des ARTS

Vernet a peint d'autres tableaux de ports.

- Tapez sur un moteur de recherche les mots « Joseph Vernet, une commande royale ». Citez quelques-uns des ports peints par Vernet.

La Place de la Bourse, le Grand théâtre de Bordeaux, la façade des quais datent du XVIII<sup>e</sup> siècle et marquent la physionomie actuelle de la ville.

- Tapez « Grand théâtre de Bordeaux » sur un moteur de recherche (Google image...). Décrivez-le.

## ÉTUDE DE CAS

# Un port géant ouvert sur le monde : Rotterdam

Rotterdam est aujourd'hui le 4<sup>e</sup> port mondial et le 1<sup>er</sup> port européen. Sa ZIP est de plus en plus vaste. Elle domine un vaste arrière-pays industrialisé organisé autour du Rhin.

### A Comment la ZIP de Rotterdam s'agrandit-elle ?



#### 1 La ZIP de Rotterdam dans le secteur d'Europort (2008)

D'immenses terre-pleins ont été construits pour accueillir les aménagements du port.

## OBJECTIF

Décrire les principaux aménagements d'un port

### Socle commun

53 Lire et employer différents langages : textes - cartes - images

## ACTIVITÉS

1 Localisez et situez le port de Rotterdam (pays, mer, fleuve...).

2 Doc. 1 et 2 À partir des documents 1 et 2, recopiez et complétez le tableau suivant :

Aménagements portuaires	Aménagements industriels	Voies de communication

3 Doc. 2 et 3 Dans quel sens le port s'est-il agrandi ? Pourquoi s'est-il étendu et doit-il continuer à le faire ?

4 Doc. 3 et 4 Quel est le nouveau projet de port de Rotterdam ?

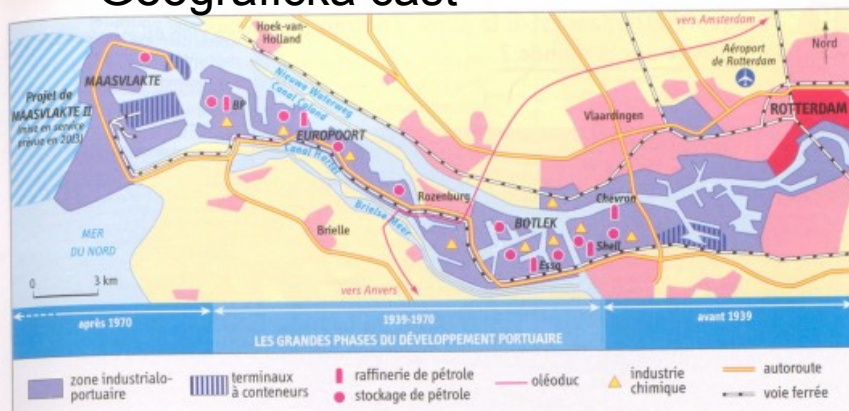
5 Doc. 3 Quels problèmes ce projet pose-t-il ? Quelles sont les solutions envisagées ?

6 Décrivez les principaux aménagements du port de Rotterdam en réalisant un croquis.

Reproduisez le croquis ci-dessous, complétez sa légende et donnez-lui un titre.



## Geografická čast



### 2 L'extension du port de Rotterdam

### 3 Le futur port sous conditions environnementales

« Mondialisation et concurrence obligent, le port de Rotterdam doit prévoir de nouveaux agrandissements. Avec le projet Maasvlakte II, il s'agit de créer une nouvelle zone d'activités sur environ 1 000 hectares, en relation directe avec les eaux profondes de la mer du Nord [...] »

Cela va affecter de nombreuses espèces animales et végétales présentes sur le site. La création d'une zone protégée est censée amoindrir ces dommages. [...] Les émissions de gaz à effet de serre des camions transitant par Rotterdam seront en revanche plus difficiles à résorber. [...] L'Union européenne demande à ce titre une augmentation du trafic par train ou par bateau le long des côtes. »

Sandrine Dumont à Rotterdam, www.novethic.fr, 11 juillet 2007. © Novethic 2001.



### 4 Le projet d'agrandissement du port : Maasvlakte II

(image de synthèse, 2010)



- 1 Zone portuaire existante 2 Quais à conteneurs  
3 Industries chimiques. 4 Digue

## Définition

ZIP (zone industrialio-portuaire) : un espace accueillant des activités industrielles et commerciales en liaison avec le port.

#### 4 Étudier le plan et la coupe d'un navire négrier : le Marie-Séraphique

**53** **Siècle commun**  
Lire et employer différents langages : images



**DOCUMENT Le Marie-Séraphique**

(Aquarelles réalisées à la demande de l'armateur du Marie-Séraphique, navire négrier nantais, vers 1770.)  
Les esclaves représentés ont été acquis par le capitaine Gaugy à Loangou (Golfe de Guinée) le 25 août 1769 et débarqués au Cap Français, capitale de la colonie de Saint-Domingue, le 16 décembre. On les voit ici à leur arrivée à Saint-Domingue.

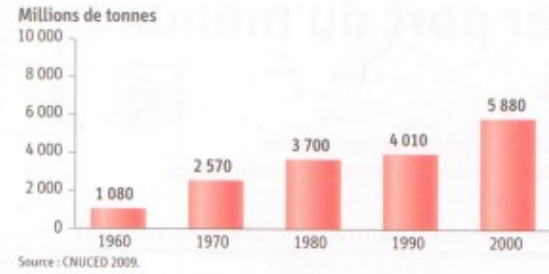
**A** Chambre du capitaine **B** Chambre du second **C et D** Cabines d'équipage **F** Parc aux femmes **G** Parc aux hommes  
**H** Soute à voiles **K** Soute à Pain **L** Soute à fèves **M** Soute à riz **Q** Cale à eau.

**B21** Rendez-vous sur le site du musée d'histoire de Nantes [www.chateau-nantes.fr](http://www.chateau-nantes.fr), puis Enseignants, puis Dossiers pédagogiques, puis Nantes et la Traite négrière, salles 12-13. Retrouvez et citez quatre objets ou produits échangés contre des esclaves en Afrique par

1. Décrivez le trajet du navire (voir p. 33).
2. Que nous apprend le document sur les esclaves pendant la traversée (situation dans le bateau, répartition, habillement...)? Pourquoi y a-t-il deux corps enveloppés de linge?
3. Où sont conservés les vivres? Quelle est la nourriture des esclaves

#### La mondialisation en chiffres

● Le trafic maritime mondial



#### 2 La construction d'un navire dans le port de Shanghai

Le port de Shanghai produit, dans ses chantiers navals, des navires vendus aux grandes compagnies

chapitre

# 13

## Les espaces majeurs de production et d'échanges

> Pourquoi les ports sont-ils les lieux privilégiés des échanges mondiaux ?



### 1 Le port de Singapour, un espace d'échanges

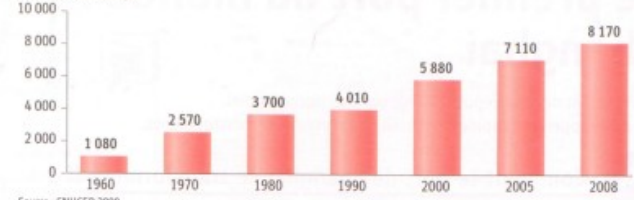
Le port de Singapour ne cesse d'agrandir les quais accueillant les conteneurs (grandes caisses utilisées pour le transport des marchandises) du monde entier.

➤ Relevez sur la photographie plusieurs indices montrant que le port de Singapour est un espace d'échanges.

## La mondialisation en chiffres

● Le trafic maritime mondial

Millions de tonnes



Source : CNUCED 2009.



### 2 La construction d'un navire dans le port de Shanghai

Le port de Shanghai produit, dans ses chantiers navals, des navires vendus aux grandes compagnies maritimes mondiales.

➤ Que font ces hommes dans le port de Shanghai ? Justifiez votre réponse en décrivant la photographie.

## ÉTUDE DE CAS

### Un port géant ouvert sur le monde : Rotterdam

Rotterdam est aujourd'hui le 4<sup>e</sup> port mondial et le 1<sup>er</sup> port européen. Sa ZIP est de plus en plus vaste. Elle domine un vaste arrière-pays industrialisé organisé autour du Rhin.

#### A Comment la ZIP de Rotterdam s'agrandit-elle ?

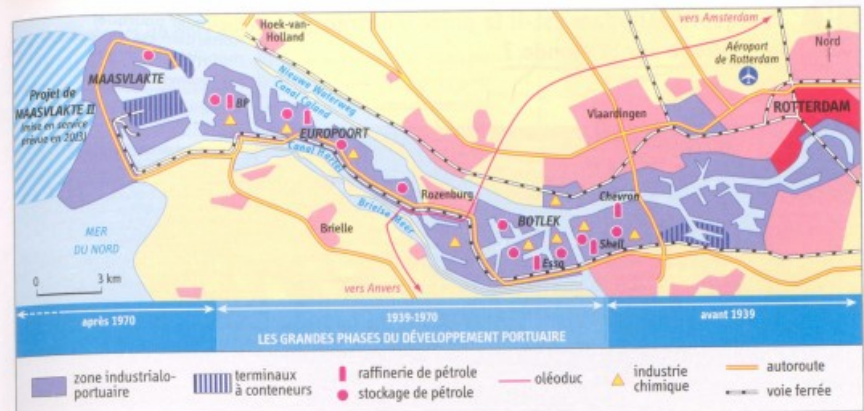


1 La ZIP de Rotterdam dans le secteur d'Europoort (2008)  
D'immenses terre-pleins ont été construits pour accueillir les aménagements du port.

#### OBJECTIF

Décrire les principaux aménagements d'un port

**Socle commun**  
53 Lire et employer différents langages : textes - cartes - images



#### 2 L'extension du port de Rotterdam

#### 3 Le futur port sous conditions environnementales

« Mondialisation et concurrence obligent, le port de Rotterdam doit prévoir de nouveaux agrandissements. Avec le projet Maasvlakte II, il s'agit de créer une nouvelle zone d'activités sur environ 1 000 hectares, en relation directe avec les eaux profondes de la mer du Nord [...]»

Cela va affecter de nombreuses espèces animales et végétales présentes sur le site. La création d'une zone protégée est censée amoindrir ces dommages. [...] Les émissions de gaz à effet de serre des camions transitant par Rotterdam seront en revanche plus difficiles à résorber. [...] L'Union européenne demande à ce titre une augmentation du trafic par train ou par bateau le long des côtes.»

Sandrine Dumont à Rotterdam, www.novethic.fr, 11 juillet 2007. © Novethic 2001.



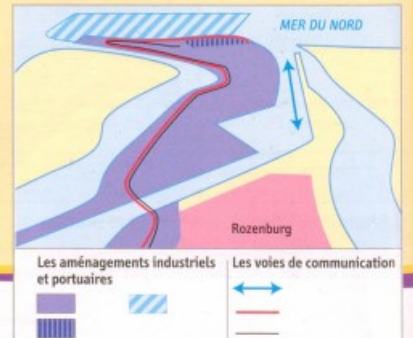
4 Le projet d'agrandissement du port : Maasvlakte II (image de synthèse, 2010)  
1 Zone portuaire existante 2 Quais à conteneurs  
3 Industries chimiques. 4 Digue

#### ACTIVITÉS

- Localisez et situez le port de Rotterdam (pays, mer, fleuve...).
- Doc. 1 et 2 À partir des documents 1 et 2, recopiez et complétez le tableau suivant :
 

Aménagements portuaires	Aménagements industriels	Voies de communication
- Doc. 2 et 3 Dans quel sens le port s'est-il agrandi ? Pourquoi s'est-il étendu et doit-il continuer à le faire ?
- Doc. 3 et 4 Quel est le nouveau projet du port de Rotterdam ?
- Doc. 3 Quels problèmes ce projet pose-t-il ? Quelles sont les solutions envisagées ?

6 Décrivez les principaux aménagements du port de Rotterdam en réalisant un croquis. Reproduisez le croquis ci-dessous, complétez sa légende et donnez-lui un titre.



#### Définition

ZIP (zone industrialo-portuaire) : un espace accueillant des activités industrielles et commerciales en liaison avec le port.

Souhrnně lze konstatovat, že učitelé ve Francii pracují hodně s danými učebnicemi a k obohacení hodiny používají další doplňkové a hlavně aktuální materiály, které si sami připraví.

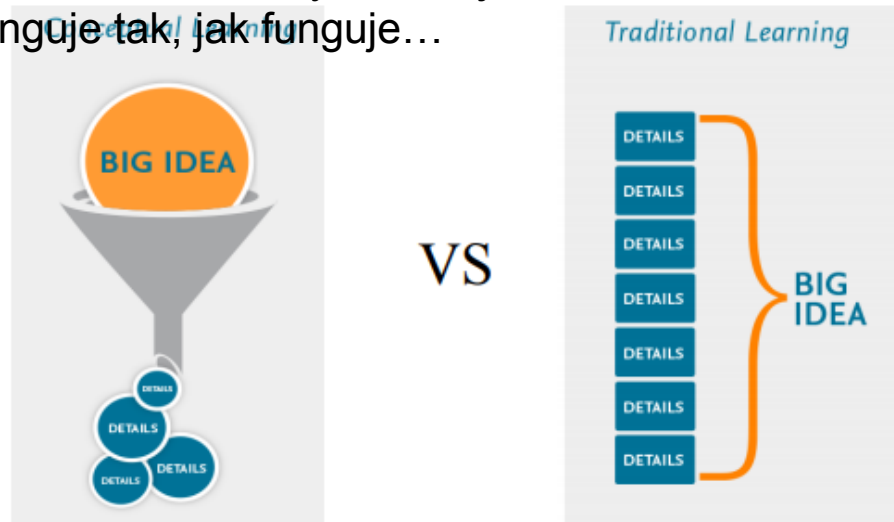
Základ je ale kvalitní učebnice, učitel si ji nemusí přizpůsobovat a zejména neaprobovaný učitel tak nadělá „méně škody“. Vzdělanému a iniciativnímu učiteli tato skutečnost „rozváže ruce“ a pokud přemýšlí, pak je schopný výuku obohatit.



## Pro přemýšlivé hlavy

### Jaký je rozdíl mezi konceptuálním modelem učení a tradičním modelem učení?

U tradičního modelu postupujeme od faktografických dílčích informací k obecnějšímu závěru. U konceptuálního modelu postupujeme od obecného a k jeho objasnění si potřebujeme nastudovat dílčí detaily, k jeho pochopení. Konceptuální model vychází i ze současného stavu, kdy je hodně lidí ovlivněno novými technologiemi. Od mladšího školního věku jsou schopni pracovat na zadaném problému tak, že si vyhledávají data, ke zdůvodnění, proč např. vybraný region funguje tak, jak funguje...



Obr. 14: Schéma znázorňující rozdíl mezi konceptuálním učením a tradičním modelem učení

Zdroj: <https://evolve.elsevier.com/education/concept-based-curriculum/conceptual-learning-definition/#>

NECHÁME SE INSPIROVAT?