

# Geografie Česka

Kateřina Gorčíková

# Proč je důležité věkové složení obyvatelstva?

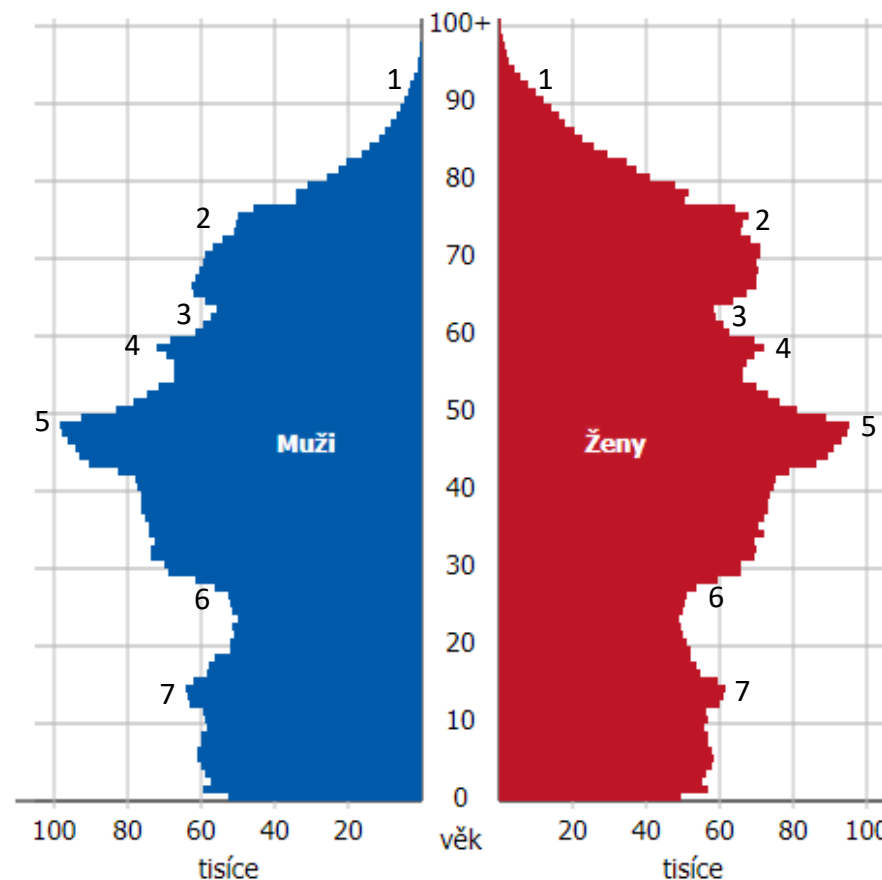
- *Jaká věková skupina je v současnosti u nás nejpočetnější?*
- *Jak se změnilo věkové složení obyvatelstva Česka za posledních 40 let?*
- *Jak se změnil počet narozených dětí ve sledovaném období? Proč tomu tak je?*
- *Přiřadte na věkovou pyramidu současnosti příčiny, které vedly ke změnám v počtu obyvatelstva v Česku.*
- *Navrhněte, jak bude vypadat věková pyramida v roce 2054 – tedy za 30 let.*

[Věková pyramida pro práci ve výuce](#)

# Demografický vývoj Česka

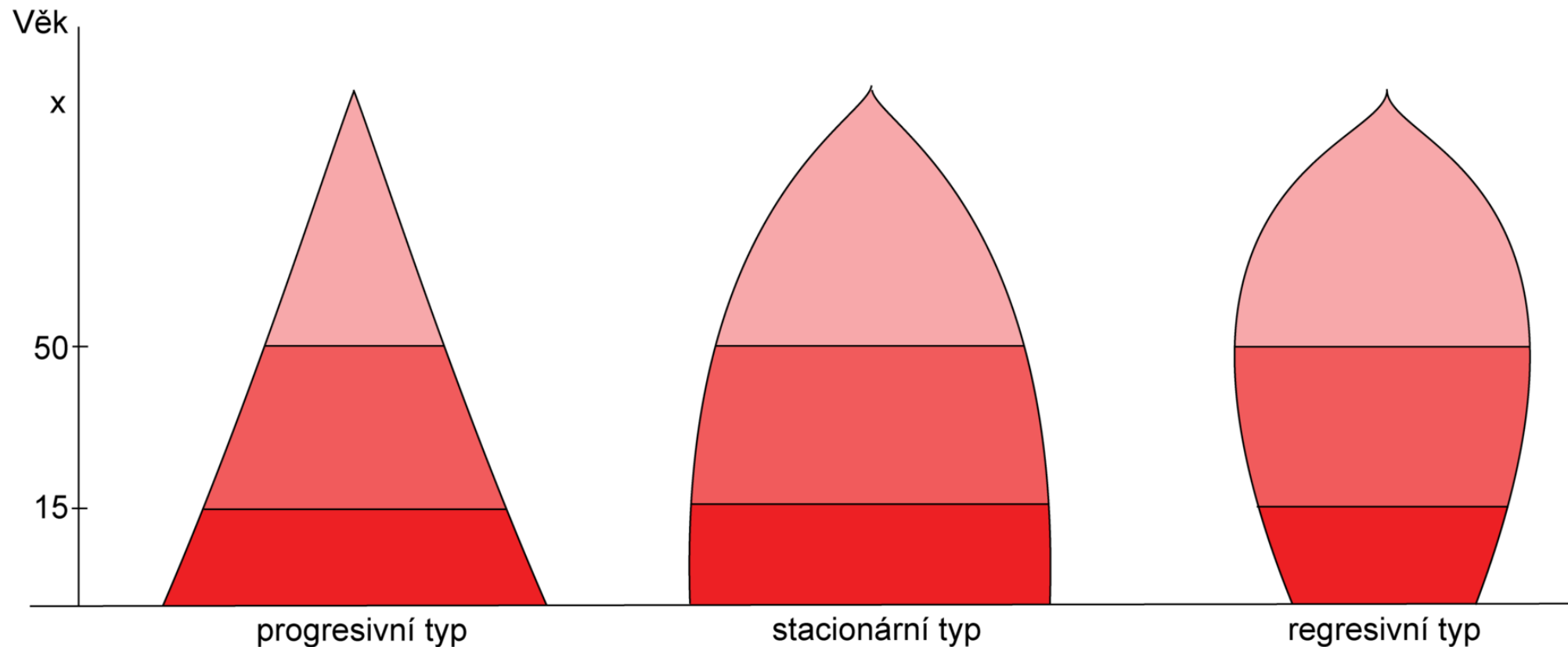
1. Hospodářská krize (1933)
2. Zvýšená plodnost v důsledku konce 2.SV (1945)
3. Legalizace umělého přerušování těhotenství (1956)
4. Větší bytová výstavba (1963)
5. Politická opatření podporující vyšší plodnost (1974)
6. Změna (nejen) reprodukčního režimu – odklad rodičovství do vyššího věku (1993)
7. Vyšší porodnost u žen z populačně silných ročníků (2008)

Věková struktura k 31. 12. 2022  
Česká republika



# Typy věkových pyramid – podle přirozené reprodukce

Kam zařadíme Česko a co to pro nás znamená?



# ***Jak bude vypadat věková pyramida v roce 2054?***

- Věkové složení obyvatelstva Česka od roku 1950:  
<https://www.populationpyramid.net/czech-republic/1950/>
- Český statistický úřad: projekce obyvatelstva do roku 2101:  
[https://www.czso.cz/staticke/animgraf/projekce\\_2023\\_2101/index.html?lang=cz](https://www.czso.cz/staticke/animgraf/projekce_2023_2101/index.html?lang=cz)

# Jak se změnila rodina?



# Co ovlivňuje rozmístění obyvatelstva Česka?

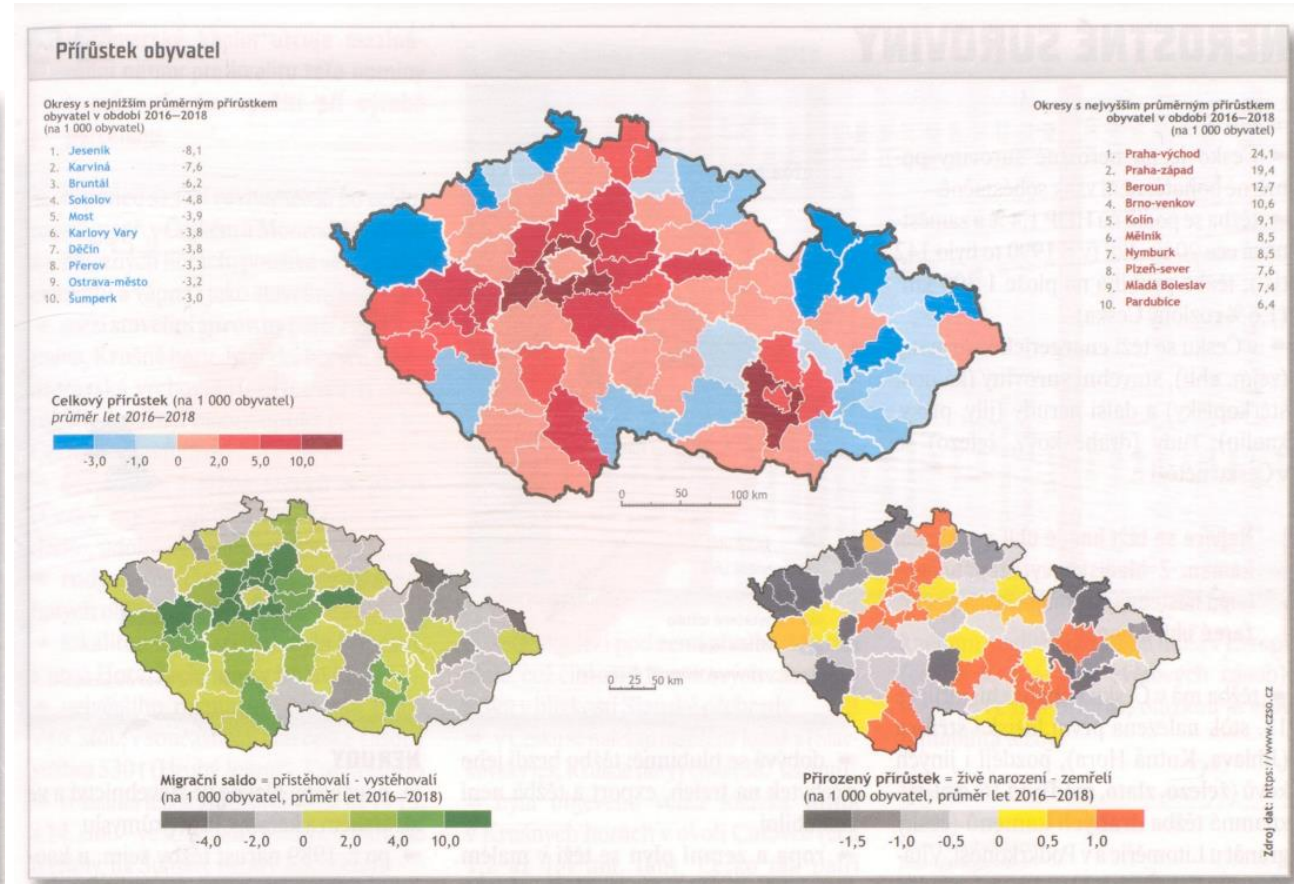
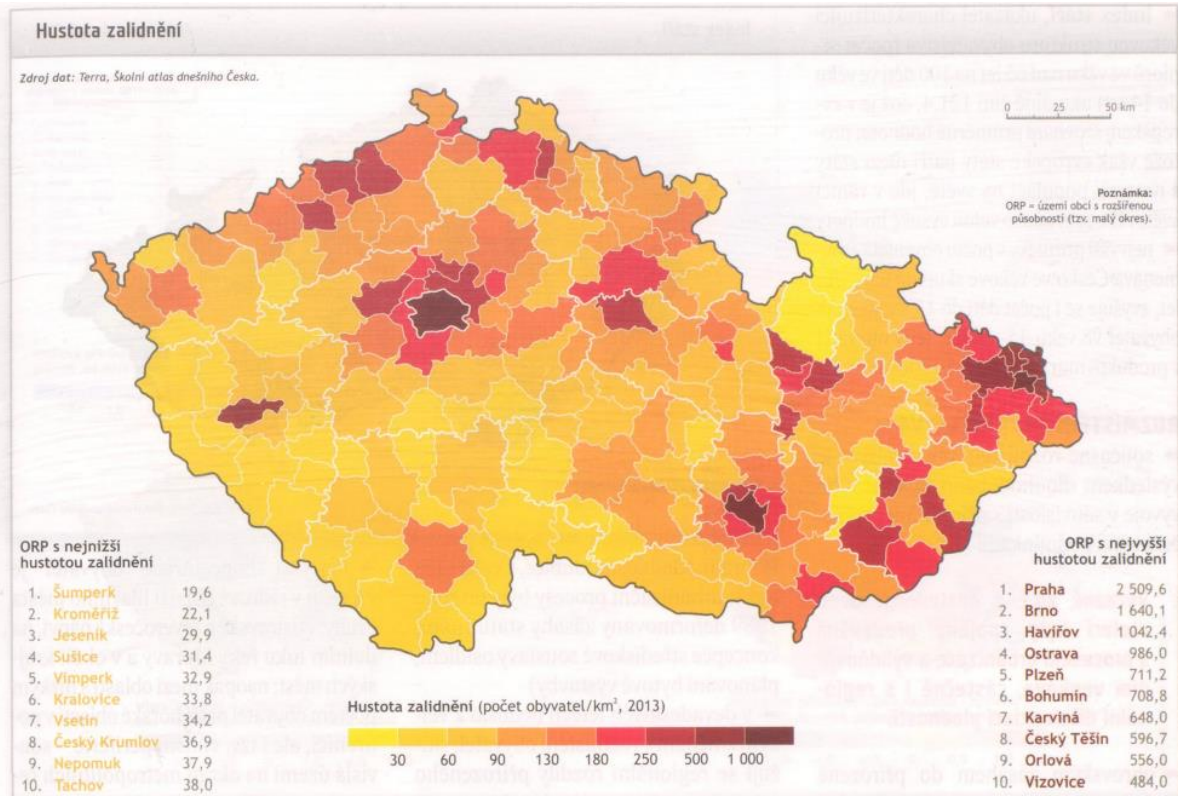
- Najděte, který kraj je (a) největší, (b) nejmenší. Který kraj má (c) největší počet obyvatel a (d) nejmenší počet obyvatel a u počtu obyvatel **vysvětlete příčinu**.

- Popište, které kraje či oblasti jsou (a) nejhustěji obydlené, (b) nejméně hustě obydlené a vysvětlete, čím je to způsobeno.

- Vysvětlete, co je **urbanizace** a zdůvodněte její rozložení.
- Vysvětlete, kde je nejvyšší a kde nejnižší míra vzdělaných lidí a proč právě tam.

- Vyhledejte, ve kterých oblastech je (a) největší a ve kterých (b) nejmenší podíl věřících ve společnosti a vysvětlete, proč tomu tak obecně je. Co to ovlivňuje?

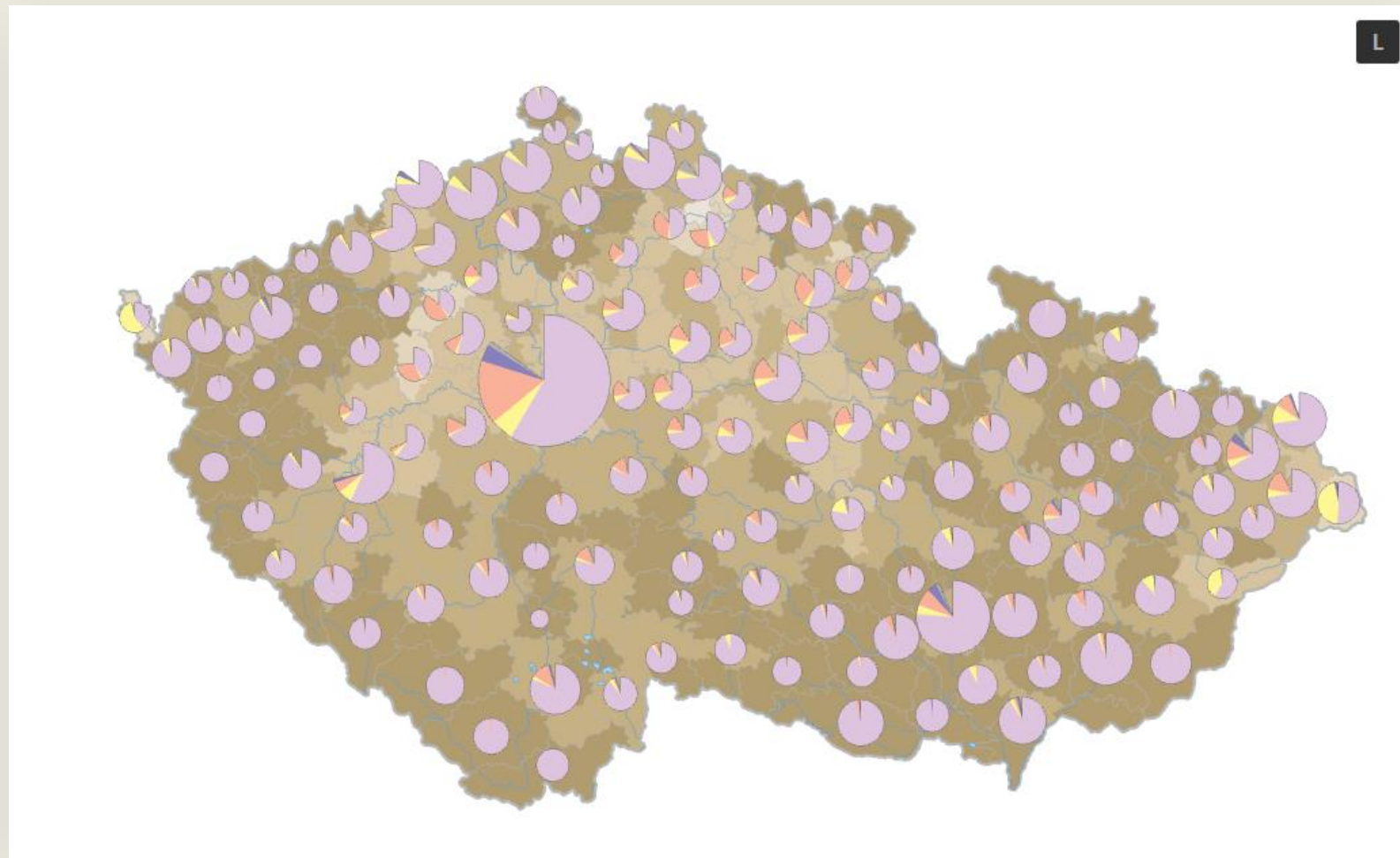
Popište, které kraje či oblasti jsou (a) nejhustěji obydlené, (b) nejméně hustě obydlené a vysvětlete, čím je to způsobeno.

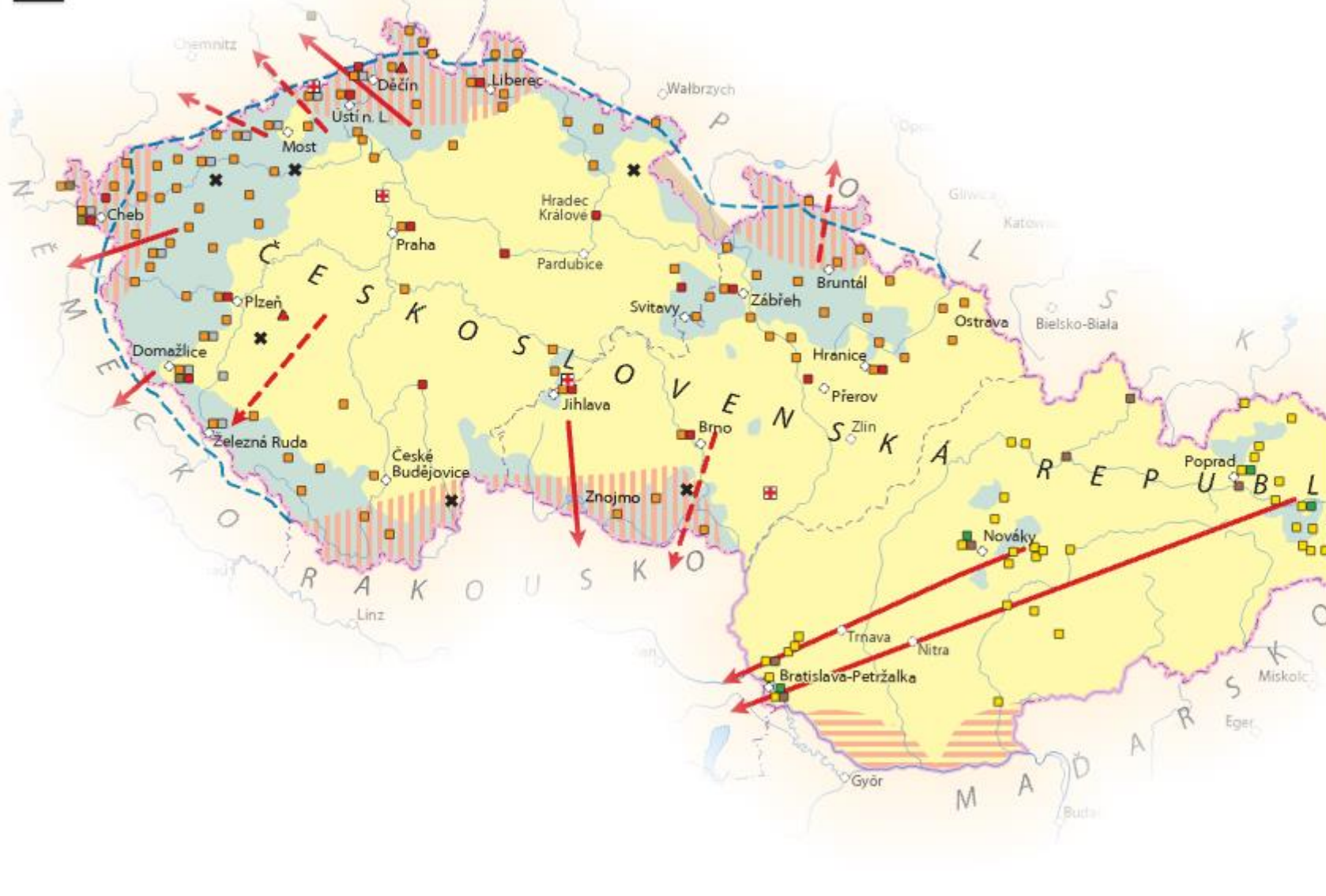




# Náboženství v Česku v roce 1935

Jak se změnil podíl věřících v Čechách a na Moravě mezi léty 1935 a 2011?





**Místa spojená s odsunem Němců (1945-1947)  
- v českých zemích**

- sběrné středisko
- odsunové středisko záložní
- přejímací stanice
- ošetrovna a stravovna
- karanténní středisko
- nemocniční středisko
- místo největších incidentů (popravy bez soudu apod.)

**- na Slovensku**

- zajišťovací/soustředovací tábor
- pracovní tábor
- odsunový tábor

**Směry odsunu**

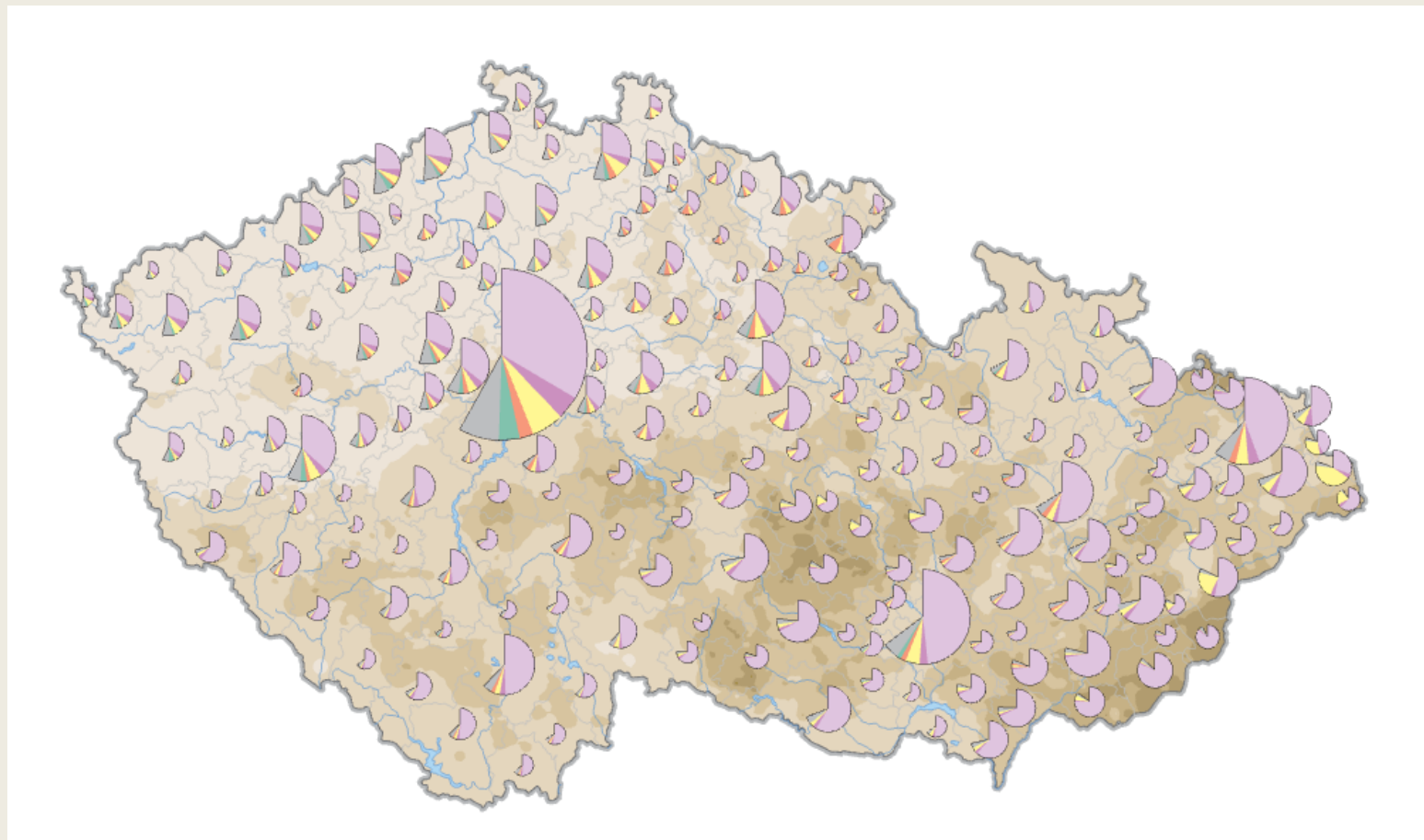
- hlavní směr tzv. divokého odsunu
- hlavní směr odsunu

**Hranice a území**

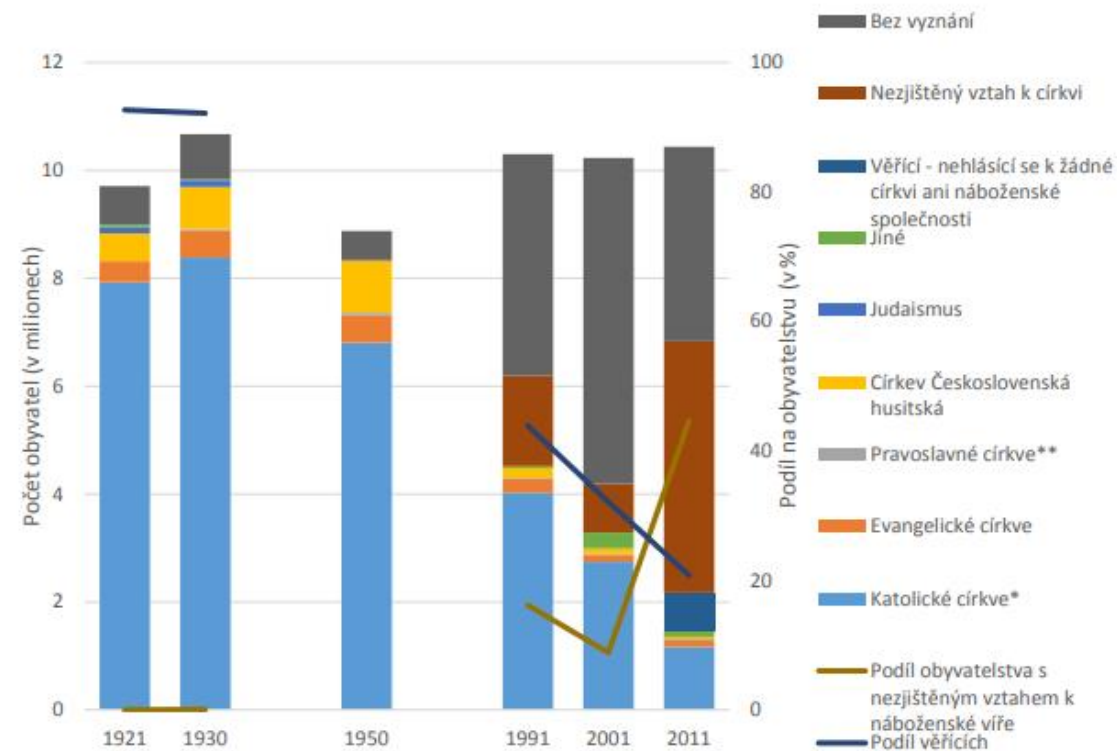
- návrh Edvarda Beneše z prosince 1944 na úpravu hranic
- zemská hranice
- hranice Československa po osvobození v roce 1945
- návrh Edvarda Beneše na odstoupení území Maďarsku
- návrh Edvarda Beneše na odstoupení území Německu
- požadavek části Kladska

# Náboženství v Česku v roce 2011

Jak se změnil podíl věřících v Čechách a na Moravě mezi léty 1935 a 2011?



# Náboženství v Česku



**Obrázek 5.1.1:** Struktura obyvatel podle náboženského vyznání v letech 1921–2011

**Zdroj:** ČSÚ, 1924, 1934, 1958, 1991, 2001, 2011

Poznámka: Ve sčítáních lidu 1961, 1970 a 1980 nebylo náboženské vyznání zjišťováno. Do kategorie "bez vyznání" byli v roce 2011 zařazeni i lidé, kteří uvedli slovně, že jsou ateisté, ale nezaškrtli, zda se hlásí či nehlásí k víře (celkem 1058 osob).

\* V letech 1921 a 2001: Římskokatolická církev

\*\* V roce 2001: Pravoslavná církev v českých zemích

Proč počet  
obyvatel v  
Česku roste?

### Přirozený a migrační pohyb obyvatel (osoby)



Živě narození



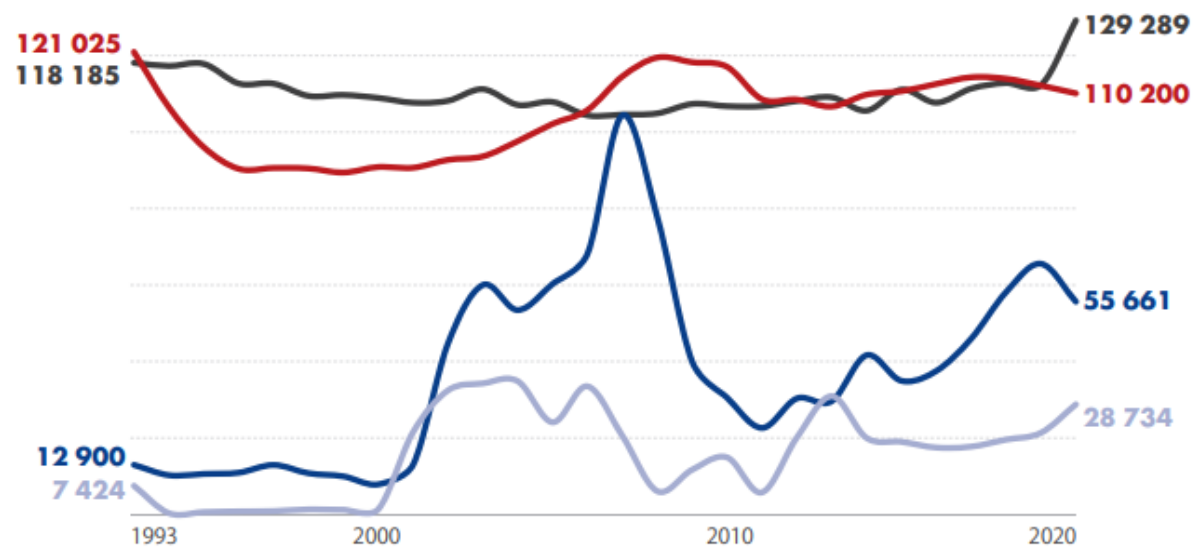
Zemřelí



Přistěhovalí



Vystěhovalí



PŘÍRŮSTEK  
OBYVATEL  
2020

Přirozený  
přírůstek

-19 089



Saldo  
stěhování

26 927



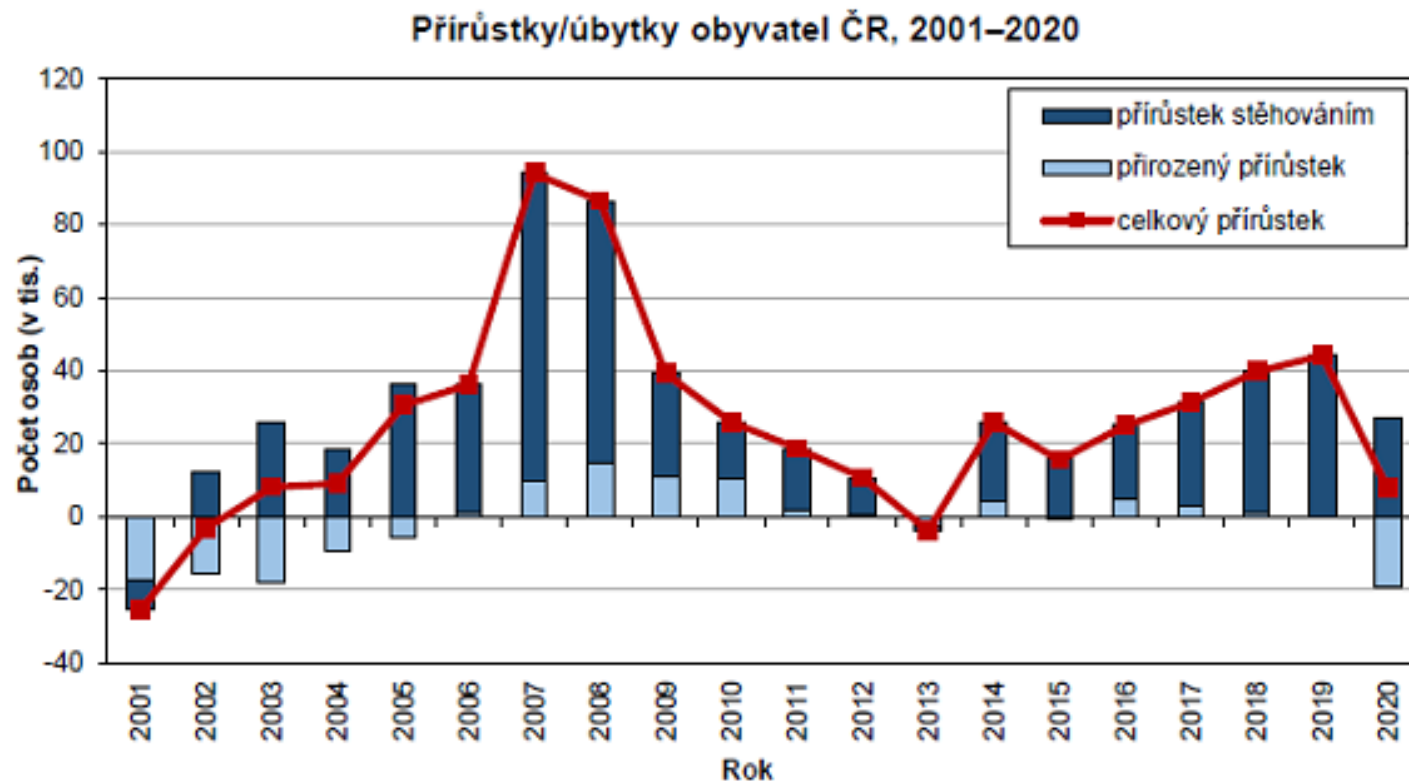
Celkový  
přírůstek

7 838



Zdroj: Česko v číslech 2021

Proč počet obyvatel v Česku roste?



# Další doporučené zdroje a infografiky

- [Cizinci u nás](#)
- [Senioři v Česku](#)
- [Maminky v Česku](#)
- [Počet dětí, žáků a studentů](#)
- [Minisčítání 2020](#)
- [Sčítání 2021](#)
- [Století statistiky](#)
  
- [K zamyšlení...](#)