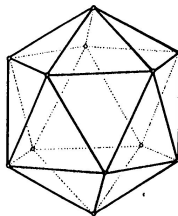
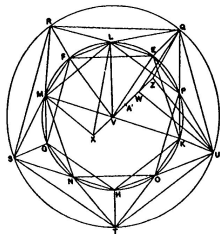


Konstrukční geometrie



Poslední aktualizace: 24. února 2025, Vojtěch Žádník

<https://is.muni.cz/el/1441/jaro2025/MA0007/>

Cíle

- ▶ připomenout, zorganizovat a rozšířit stávající poznatky
- ▶ něco udělat, udělané vysvětlit, ...

Proces

- ▶ zapamatovat a zopakovat
- ▶ pochopit a použít
- ▶ rozlišovat a vysvětlovat
- ▶ přetvářet a vytvářet

Kulisy

- ▶ geometrie

Přehled celkový

- ▶ jaro 2025: konstrukční geometrie („syntetická“) — pravítko, kružítko, trpělivost
- ▶ podzim 2025 a jaro 2026: počítačí geometrie („analytická“) — soustavy rovnic, matice, determinanty

Přehled aktuální

- ▶ klasická konstrukční geometrie: Základy, dotykové úlohy
- ▶ geometrická zobrazení: shodná, podobná, afinní, projektivní a pár dalších
- ▶ poznámky k zobrazování prostoru do roviny

Materiály

- ▶ IS: osnova, přednáška, odkazy, staré písemky¹

Zakončení

- ▶ úlohy → písemka → ústní zkouška

Soutěž

- ▶ o nejpovedenější konstrukci/výkres/aplikaci použitelnou ve výuce

¹<https://is.muni.cz/auth/el/ped/jaro2025/MA0007/index.qwarp> 

Základy	4
Úvod	4
Obsahy a kvadratura mnohoúhelníku	15
Trocha algebry a sestrojitelné veličiny	24
Kosinová věta	35
O kružnicích	37
Pravidelný pětiúhelník a další	45
Teorie podobnosti	57
Trocha stereometrie	72
Pravidelné mnohostěny	78
Dotykové úlohy	87
Geometrická zobrazení	103
Poznámky k zobrazování prostoru do roviny	178
Závěrečné shrnutí	196

- = základy eukleidovské geometrie
- = geometrie Eukleidových Základů,² ovšem s Hilbertovými upřesněními.³


Základní pojmy:

- ▶ bod, přímka, rovina

Základní vztahy/relace:

- ▶ incidence, uspořádání, rovnoběžnost, shodnost, spojitost

.....+.....



úsečky
úhly

" — ≈ IR "

← str. 8

Základní definice:

- ▶ např. úhel, pravý úhel, resp. kolmost přímek, trojúhelník, čtverec, kružnice, rovnoběžnost přímek, ...

← cvičení


Základní tvrzení (axiómy/postuláty):

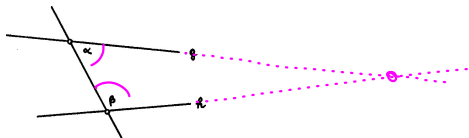
- ▶ několik ke každému ze základních vztahů...

²kolem -300, http://cs.wikipedia.org/wiki/Eukleidovy_Z%C3%A1klady

³kolem +1900, http://en.wikipedia.org/wiki/Hilbert's_axioms

Eukleidovy geometrické axiomy (postuláty)

- (I) Každé dva různé body spojuje **přímka**. ← úsečka
- (II) Každou přímku lze na každé straně libovolně **prodloužit**. ← ... a nikdy se neuzavře
- (III) Lze vytvořit **kružnici** s libovolným daným středem procházející libovolným jiným bodem.
- (IV) Všechny pravé úhly jsou **SHODNÉ**.  ... homogenost
- (V) **Lib.** přímka protínající dvě jiné přímky tvoří vnitřní úhly na jedné straně menší než dva pravé, **Pak** tyto dvě přímky (dostatečně prodlouženy) setkají se na té straně, kde jsou úhly menší dvou pravých.⁴ ... WTF?



$\alpha + \beta < 2R \Rightarrow g$ a h se protínají

$g \circ \circ$

← tj. nejsou ||

⁴https://en.wikipedia.org/wiki/Parallel_postulate

- ▶ Veličiny témuž rovné i navzájem rovny jsou.
- ▶ Když se přidají rovné veličiny k rovným, i celky jsou rovny.
- ▶ apod.

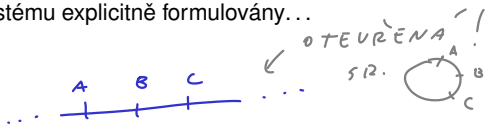
Dnes čteme jako:

- ▶ $k = l$ a $m = l \Rightarrow k = m$.
- ▶ $k = l$ a $m = n \Rightarrow k + m = l + n$.
- ▶ apod.⁵

⁵<https://mathcs.clarku.edu/~djoyce/java/elements/bookI/cm.html>

Některé věci nejsou v Eukleidově systému explicitně formulovány...

Typický axióm **uspořádání** je např.:

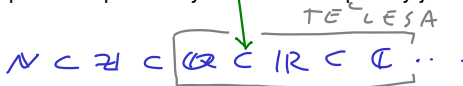


- ▶ Pro tři různé body ležící na jedné přímce platí, že právě jeden z nich je MEZI zbylými dvěma.

Axiomy **spojitosti** je možné nahradit jediným, tzv. Dedekindovým axiómem.

- ▶ Body na přímce neobsahují (vzhledem k výše zmíněnému USPOŘÁDÁNÍ) Dedekindovy řezy typu „skok“ a „mezera“.

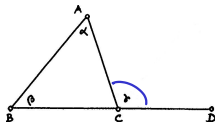
→ ... jde zejména o upřesnění představy eukleidovské přímky jakožto „reálné“ přímky!⁶



⁶viz konstrukci tělesa reálných čísel (algebra) a problém sestrojitelných veličin (s. 28)

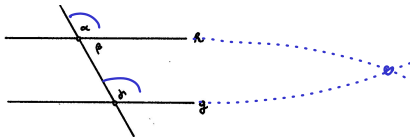
Co na postulátu (V) nezávisí

- ▶ Věty SUS, SSS, USU, nerovnosti v trojúhelníku apod.
- ▶ Věta o vnějším úhlu trojúhelníku.⁷



$$\gamma > \alpha \text{ a } \gamma > \beta$$

- ▶ *(souhlasné)* Shodné střídavé úhly implikují rovnoběžnost přímek⁸ (odtud EXISTENCE rovnoběžky).



$$\alpha = \gamma \Rightarrow h \parallel g$$

$$\alpha > \gamma \Leftarrow h \nparallel g$$

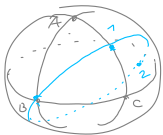
⁷Zde jsou poprvé potřeba axiomy uspořádání (viz s. 10).

⁸Nepřímo pomocí věty o vnějším úhlu trojúhelníku (viz s. 11).

Detail k větě o vnějším úhlu v trojúhelníku⁹

pozn.

na sféře
obecně
NEPLATÍ!



[sférická
"přímka"
je uzavřená.]

16 BOOK I. PROP. XVI. THEOR.

F a side of a triangle (with a diagram of a triangle and its extension) is produced, the external angle (with a diagram of an external angle) is greater than either of the internal remote angles (with diagrams of two triangles).

1. Make = (pr. 10.).

2. Draw and produce it until = ; draw .

In and ; =

= and =

3. (conf. pr. 15.), ∴ = (pr. 4.),
∴ >

(In like manner it can be shown, that if be produced, > , and therefore which is = is > .)


Q. E. D.



Bodys 1 a 2
ve stejné
polovině
vzhledem
k BC!



$\rho > \alpha$

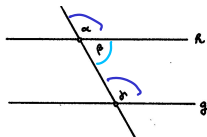


¹⁰<http://www.math.ubc.ca/~cass/Euclid/book1/byrne-28.html>

Co na postulátu (V) závisí

- ▶ Věta o střídavých úhlech¹¹ (odtud JEDNOZNAČNOST rovnoběžky).
(souhlasných)

(V) $\beta + \gamma < 180^\circ \Rightarrow h \times g$



$h \parallel g \Rightarrow \alpha = \gamma$

$\alpha + \beta \neq \gamma + \beta \Leftrightarrow \alpha \neq \gamma$

\Downarrow
 $180^\circ \neq \gamma + \beta \Rightarrow h \times g$

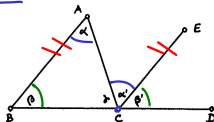
.. PŘÍZEMÍ!

I. PATRO..

- ▶ Věta o součtu vnitřních úhlů v trojúhelníku.¹²

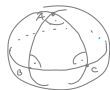
$\alpha = \alpha'$
 $\beta = \beta'$

$\alpha + \beta + \gamma = \alpha + \beta' + \gamma' = 180^\circ$



$\alpha + \beta + \gamma = 180^\circ \leftarrow \text{konstant!}$

pozn. Na sféře nikdy NEPLATÍ!



- ▶ Věty o rovnoběžnících a trojúhelnících a jejich obsahích.¹³
- ▶ Pythagorova věta (a téměř vše co následuje)...


[většiči $\Delta \Rightarrow$ většiči defekt]


¹¹ Nepřímo pomocí přičtení β a (V) postulátu (viz s. 13).





¹² Přímo pomocí věty o střídavých úhlech (viz s. 14).












¹³ Podrobněji od s. 16...

30 BOOK I. PROP. XXIX. THEOR.





 STRAIGHT line
 (—) falling on
 two parallel straight
 lines (— and
 —), makes the alternate
 angles equal to one another; and
 also the external equal to the in-
 ternal and opposite angle on the
 same side; and the two internal
 angles on the same side together
 equal to two right angles.

For if the alternate angles  and  be not equal,
 draw —, making  =  (pr. 23).
 Therefore — || — (pr. 27.) and there-
 fore two straight lines which intersect are parallel to
 the same straight line, which is impossible (ax. 12).

Hence the alternate angles  and  are not
 unequal, that is, they are equal:  =  (pr. 15);
 \therefore  = , the external angle equal to the inter-
 nal and opposite on the same side: if  be added to
 both, then  +  =  =  (pr. 13).

That is to say, the two internal angles at the same side of
 the cutting line are equal to two right angles.

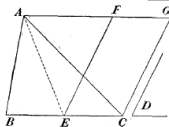
Q. E. D.



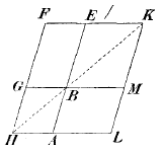
¹⁵<http://www.math.ubc.ca/~cass/Euclid/book1/byrne-32.html>

- *Rovnoběžníky, resp. trojúhelníky se stejnými základnami a stejnými výškami mají* .

- *Trojúhelník ABC a rovnoběžník ECGF mají* (kde $E =$ střed BC a $BC \parallel AF$):



- *Rovnoběžníky BEFG a BALM mají* (kde společný bod $B \in$ úhlopříčce HK):



- *Eukleidova věta o odvěsně/výšce, resp. věta* ...

¹⁶Ve všech důkazech vystačíme s větou o střídavých úhlech a shodnými trojúhelníky (viz s. 17, 18).

36 BOOK I. PROP. XXXV. THEOR.



ARALLELOGRAMS
on the same base, and
between the same paral-
lels, are (in area) equal.

On account of the parallels,

$$\begin{array}{l} \text{red triangle} = \text{blue triangle} \quad ; \quad (\text{pr. 29.}) \\ \text{black triangle} = \text{white triangle} \quad ; \quad (\text{pr. 29.}) \\ \text{and } \text{blue triangle} = \text{red triangle} \quad (\text{pr. 34.}) \end{array}$$


But, $\text{yellow trapezoid} = \text{yellow trapezoid}$ (pr. 8.)

$$\therefore \text{yellow trapezoid} \text{ minus } \text{yellow trapezoid} = \text{yellow trapezoid}$$

$$\text{and } \text{yellow trapezoid} \text{ minus } \text{yellow trapezoid} = \text{yellow trapezoid} ;$$

$$\therefore \text{yellow trapezoid} = \text{yellow trapezoid} .$$

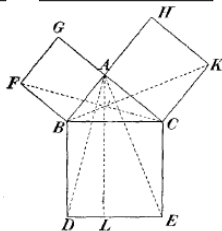
Q. E. D.



Věta

Trojúhelník BAC je pravoúhlý a P je pata výšky z vrcholu A .

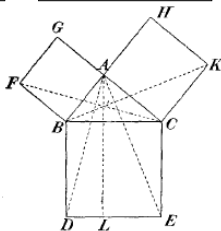
Potom platí a , tudíž .



Věta

Trojúhelník BAC je pravoúhlý a P je pata výšky z vrcholu A .

Potom platí a , tudíž .



Důkaz.

- ▶ $FBAG$ je čtverec a úhel BAC je pravý \implies body G, A, C leží na , a ta je .

- ▶ Odtud podle zákl. věty o obsahích, shodnosti trojúh. a a znovu podle zákl. věty o obsahích:

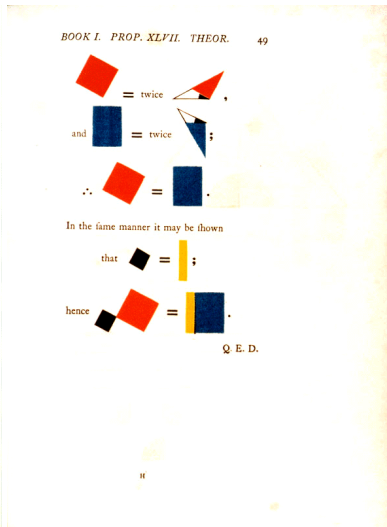
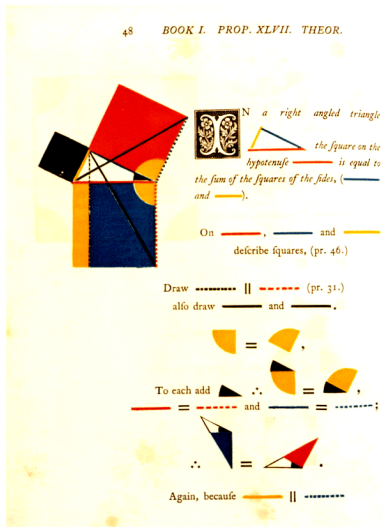
$$\text{obsah } \boxed{} = \text{obsah } \boxed{} = \text{obsah } \boxed{} = \text{obsah } \boxed{}.$$

Proto má čtverec $FBAG$ stejný obsah jako obdélník $PBDL$.

Obdobně to funguje na druhé straně...¹⁹



¹⁹<https://www.geogebra.org/m/apubVUSE>

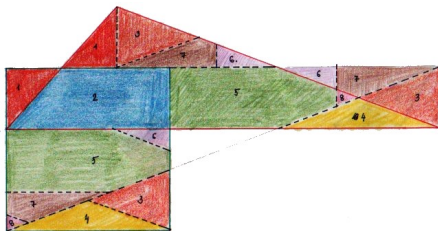


Kombinací předchozích poznatků zjišťujeme, že libovolný mnohoúhelník lze geometricky *kvadraturovat* = sestrojít čtverec se stejným obsahem.²¹

Navíc každou dílčí konstrukci lze doplnit názorným rozstříháním . . .

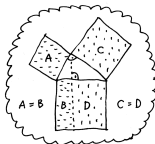

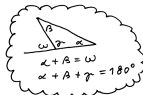

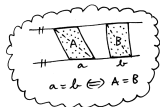
Věta (Wallaceova–Bolyaiova–Gerwienova)

Dva mnohoúhelníky mají stejný obsah jeden lze rozstříhat na části, z nichž lze složit ten druhý.

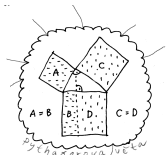


Kvadratura obecného trojúhelníku se stříháním


²¹<http://ggbtu.be/mkripDpYd>



1. PATRO



PŘÍZEMÍ

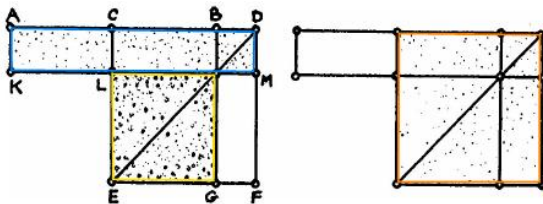


SUTERÉN



Základy	4
Úvod	4
Obsahy a kvadratura mnohoúhelníku	15
Trocha algebry a sestrojitelné veličiny	24
Kosinová věta	35
O kružnicích	37
Pravidelný pětiúhelník a další	45
Teorie podobnosti	57
Trocha stereometrie	72
Pravidelné mnohostěny	78
Dotykové úlohy	87
Geometrická zobrazení	103
Poznámky k zobrazování prostoru do roviny	178
Závěrečné shrnutí	196

... geometrické konstrukce vs. algebraická vyjádření...



Obrázek 4.11: **A** II.6: Pokud je C střed úsečky AB a D je libovolný bod na téže přímce vpravo od B , potom platí $AD \cdot BD + CB^2 = CD^2$.

Poznámky

Při značení $|AB| =: b$ a $|DB| =: x$ lze předchozí tvrzení psát jako

$$(b+x)x + \left(\frac{b}{2}\right)^2 = \left(\frac{b}{2} + x\right)^2 \quad \text{neboli} \quad x^2 + bx + \left(\frac{b}{2}\right)^2 = \left(\frac{b}{2} + x\right)^2.$$

Uvedené úpravy známe jako tzv. .

Tyto úpravy jsou prvním krokem k vyjádření kořenů obecné kvadratické rovnice (s. 30).

Míříme k charakterizaci sestrojitelných veličin (s. 28)...

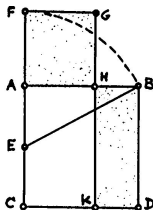
Definice

Bod H dělí úsečku AB ve *zlatém řezu*, pokud poměr celé úsečky k delší části řezu je stejný jako poměr delší části ke kratší, tzn. pokud

$$BA : AH = AH : HB, \quad \text{nebo} \quad AB : BH = BH : HA.$$

Konstrukce (Eukleidova)

- (i) AC je kolmice k AB , přičemž $AC = AB$,
- (ii) E = střed AC ,
- (iii) F leží na polopřímce CA tak, že $EF = EB$,
- (iv) H leží na úsečce AB tak, že $AH = AF$
 $\implies AH$ je delší částí zlatého řezu úsečky AB .

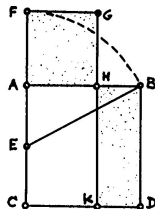


Zdůvodnění konstrukce plyne z předchozího (s. 25) a z Pythagorovy věty (s. 19):

$$CF \cdot FA + AE^2 = \boxed{} = \boxed{} \quad \text{neboli} \quad CF \cdot FA = AB^2.$$

Tzn. obdélník $CFGK$ a čtverec $ABDC$ mají stejný obsah. Tyto však mají společnou část $CKHA$, takže taky čtverec $AHGF$ a obdélník $KDHB$ mají stejný obsah. To můžeme zapsat jako

$$\boxed{} \quad \text{neboli} \quad AH : BH = AB : AH. \quad \square$$

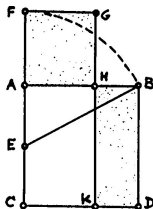


Zdůvodnění konstrukce plyne z předchozího (s. 25) a z Pythagorovy věty (s. 19):

$$CF \cdot FA + AE^2 = \boxed{} = \boxed{} \quad \text{neboli} \quad CF \cdot FA = AB^2.$$

Tzn. obdélník $CFGK$ a čtverec $ABDC$ mají stejný obsah. Tyto však mají společnou část $CKHA$, takže taky čtverec $AHGF$ a obdélník $KDHB$ mají stejný obsah. To můžeme zapsat jako

$$\boxed{} \quad \text{neboli} \quad AH : BH = AB : AH. \quad \square$$



Počítání

Při označení $|AB| =: b$ a $|AH| =: x$ definice zlatého řezu zní:

$$b : x = x : (b - x) \quad \text{neboli} \quad b(b - x) = x^2 \quad \text{neboli} \quad \boxed{}.$$

Postupně sestrojené veličiny jsou:

$$|AE| = |EC| = \boxed{}, \quad |EB| = \boxed{}, \quad |AF| = |AH| = x = \boxed{}.$$

Skutečně, $x = \boxed{}$ je kořenem kvadratické rovnice $\boxed{} \dots$