

# MA2BP\_PDM1 Diskrétní matematika 1

## 1. Základní pojmy

Lukáš Másilko

Středisko pro pomoc studentům se specifickými nároky  
Masarykova univerzita

19. 9. 2017

# Program prezentace

- 1 Organizace předmětu
- 2 Graf, vrcholy, hrany
- 3 Skóre grafu
- 4 Úplný graf, doplněk grafu

Dva předměty vzájemně provázané

- 1 MA2BP\_PDM1 Diskrétní matematika 1 – přednáška se koná v pondělí od 15:45 do 17:25, je individuálně nahrazena v termínu **úterý 9:00–10:35 v učebně 117** Střediska Teiresiás.
- 2 MA2BP\_CDM1 Cvičení z diskrétní matematiky 1 – v termínu **středa 7:30–8:15 v učebně 24** Pedagogické fakulty, Poříčí 31.
- 3 Podpůrná výuka, v níž budeme probírat nejasnosti z přednášek a cvičení – v termínu **středa 12:20–13:55 v učebně 117** Střediska Teiresiás.

- 1 MA2BP\_CDM1 Cvičení z diskrétní matematiky 1: zápočtový test na konci semestru, v době konání poslední přednášky – k udělení zápočtu je třeba získat 60 % bodů. Zápočet je podmínkou pro připuštění ke kolokviu.
- 2 MA2BP\_PDM1 Diskrétní matematika 1: kolokvium formou ústní zkoušky u dr. Břetislava Fajmona

## Doporučená literatura

- 1 FUCHS, Eduard. *Diskrétní matematika pro učitele*. 1. vyd. Brno: Masarykova univerzita, 2001. 178 s. ISBN 80-210-2703-7.
- 2 MILKOVÁ, Eva. *Teorie grafů a grafové algoritmy*. 1. vyd. Hradec Králové: Nakladatelství Gaudeamus, 2013. 123 s. ISBN 978-80-7435-267-6.

## Doplňující, nepovinná literatura

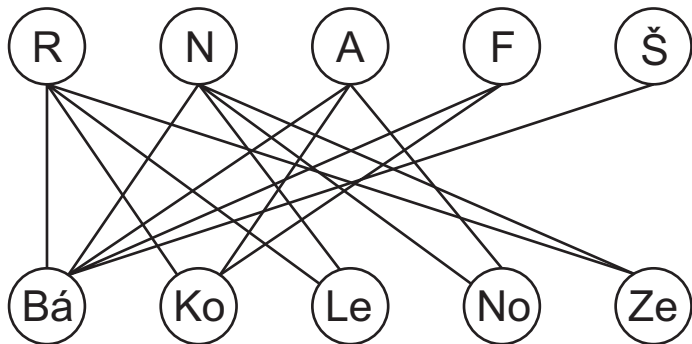
- NEŠETŘIL, Jaroslav. *Teorie grafů*. Vyd. 1. Praha: SNTL – Nakladatelství technické literatury, 1979. 316 s.

Jedna instituce vypsalala konkurz na obsazení 5 míst pro překladatele, a to z ruštiny, němčiny, angličtiny, francouzštiny a španělštiny. Přihlásilo se 5 uchazečů, kteří ovládali některé z těchto jazyků.

- Bárta ovládal všech 5 jazyků,
- Kopal angličtinu, francouzštinu a ruštinu,
- Lehký němčinu a ruštinu,
- Novák angličtinu a němčinu a
- Zeman ruštinu a němčinu.

Mohla instituce přijetím těchto uchazečů obsadit místa tak, aby každý z nich překládal jen z jednoho jazyka? Pokud ano, navrhněte řešení.

# Konkurz – grafová reprezentace



**Definice 1.1 (Milková):** Obyčejný graf je uspořádaná dvojice  $(V, E)$ , kde

- $V$  je neprázdná množina vrcholů (někdy též uzlů, angl. *vertex*),
- $E$  je množina hran (angl. *edge*),

přičemž hrana  $e$  je dvouprvková podmnožina množiny  $V$ .

## Poznámky

- 1 Vrcholy zakreslujeme v rovině pomocí kružnic, hrany jsou úsečky spojující dva vrcholy.
- 2 Definice odpovídá tzv. neorientovanému grafu, tj. hrany nemají orientaci. (Je-li  $e$  hrana mezi uzly  $x, y$ , pak vztah chápeme obousměrně:  $x \rightarrow y$ ,  $y \rightarrow x$ .)



# Zadání grafu

- Matematicky:  $G = (V, E)$ ;  $V = \{a, b, c, d, e\}$ ;  
 $E = \{\{a, b\}, \{a, c\}, \{a, d\}, \{b, c\}, \{b, d\}, \{c, d\}, \{c, e\}\}$

- Maticí sousednosti: 
$$\begin{pmatrix} 0 & 1 & 1 & 1 & 0 \\ 1 & 0 & 1 & 1 & 0 \\ 1 & 1 & 0 & 1 & 1 \\ 1 & 1 & 1 & 0 & 0 \\ 0 & 0 & 1 & 0 & 0 \end{pmatrix}$$

- Tabulkou:

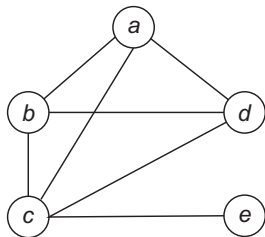
	<i>a</i>	<i>b</i>	<i>c</i>	<i>d</i>	<i>e</i>
<i>a</i>	0	1	1	1	0
<i>b</i>	1	0	1	1	0
<i>c</i>	1	1	0	1	1
<i>d</i>	1	1	1	0	0
<i>e</i>	0	0	1	0	0

- Grafem – zkuste zakreslit sami

**Definice 1.2 (Milková):** Necht'  $e = \{v, w\}$  je hrana grafu  $G$ .

- Vrcholy  $v, w$  nazýváme **koncovými vrcholy hrany**  $e$  nebo též **vrcholy incidentní s hranou**  $e$ .
- Vrchol  $v$  nazýváme **sousedním vrcholem** vrcholu  $w$ , resp. vrchol  $w$  nazýváme **sousedním vrcholem** vrcholu  $v$ .

**Příklad:** v následujícím grafu je vrchol  $a$  incidentní s vrcholy  $b, c, d$ . Pouze vrchol  $c$  je sousedním vrcholem uzlu  $e$ .



### Definice 1.3 (Milková):

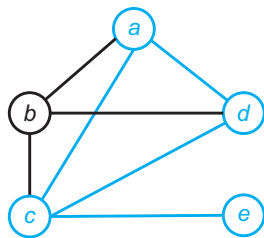
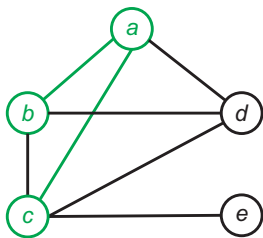
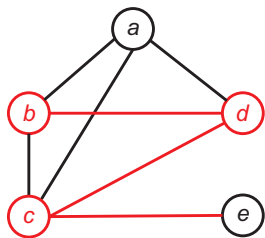
- 1 Graf  $G = (V, E)$  se rovná grafu  $G' = (V', E')$ , jestliže  $V = V'$  a  $E = E'$ .
- 2 Graf  $G = (V, E)$  je **podgraf** grafu  $G' = (V', E')$ , jestliže  $V \subseteq V'$  a  $E \subseteq E'$ .
- 3 Graf  $G = (V, E)$  je **podgraf** grafu  $G' = (V', E')$  **indukovaný vrcholy** množiny  $V$ , jestliže  $V \subseteq V'$  a  $E \subseteq E'$ , přičemž v množině  $E$  jsou právě všechny hrany z množiny  $E'$ , jejichž koncové vrcholy leží v množině  $V$ .

**Alternativní definice 3:** Graf  $G = (V, E)$  je **podgraf** grafu  $G' = (V', E')$  **indukovaný vrcholy** množiny  $V$ , jestliže

- $G$  je podgrafem  $G'$  a zároveň
- $G$  obsahuje všechny hrany grafu  $G'$  mezi dvojicemi vrcholů z  $G$ .

# Příklad

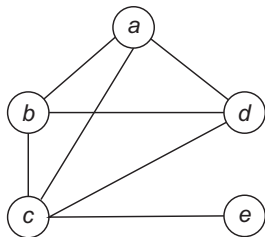
Na následujících obrázcích je tentýž graf  $G$ , v němž je barevně zvýrazněna určitá množina  $G'$  vrcholů a hran. Určete, zda  $G'$  je podgraf grafu  $G$ , resp. zda  $G'$  je indukovaný podgraf grafu  $G$ .

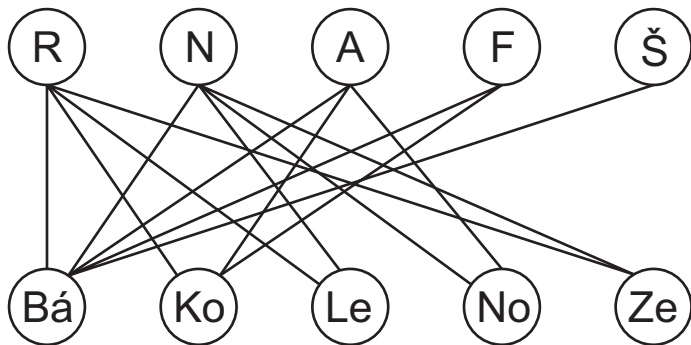


**Definice 1.4 (Milková):** Stupeň vrcholu  $v$  v grafu  $G$  je číslo rovnající se počtu hran incidentních s vrcholem  $v$ . Značíme jej  $\deg_G(v)$  nebo krátce  $d_G(v)$ .

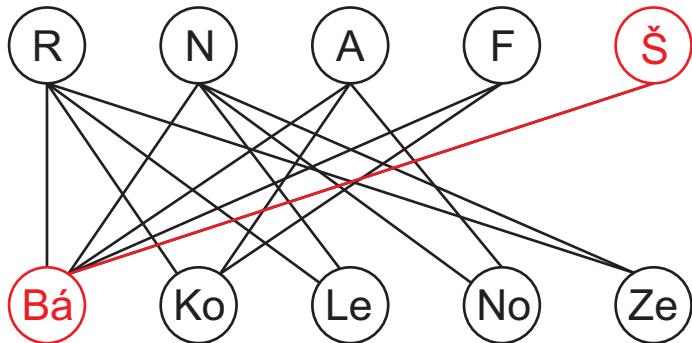
**Příklad:** v následujícím grafu platí:

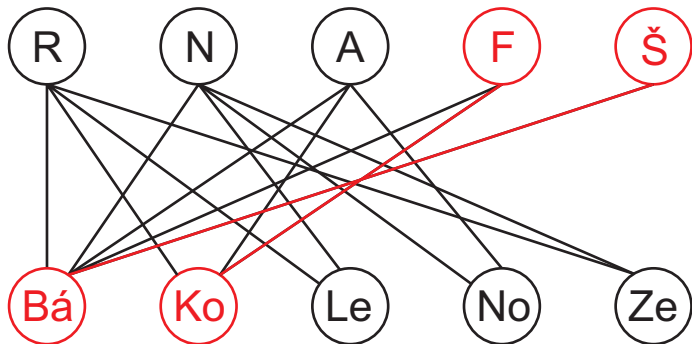
$$d_G(a) = d_G(b) = d_G(d) = 3, \quad d_G(c) = 4, \quad d_G(e) = 1$$



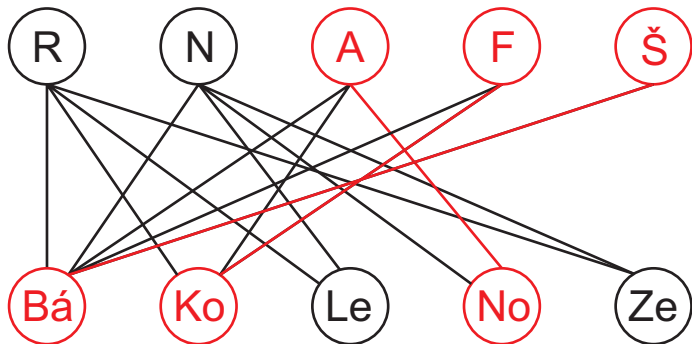


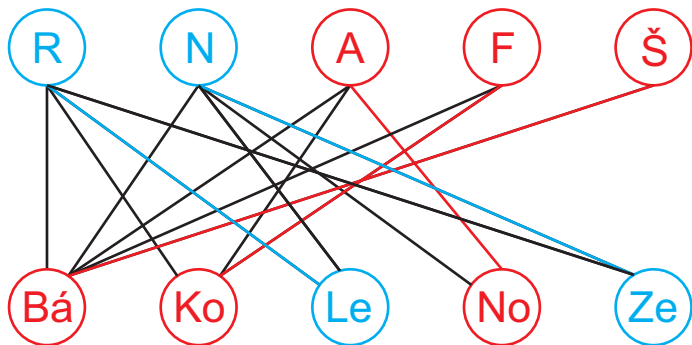
Mohla instituce přijetím těchto uchazečů obsadit místa tak, aby každý z nich překládal jen z jednoho jazyka?

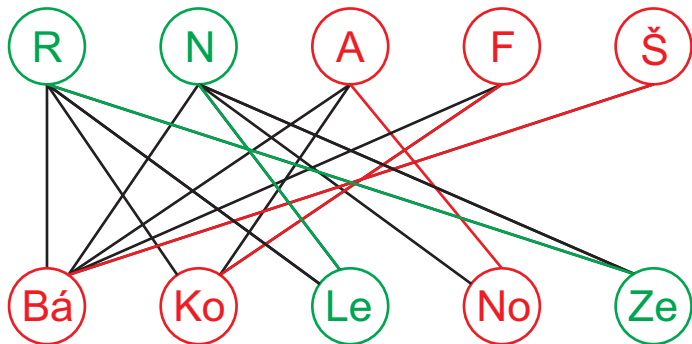












**Věta 1.1 (Milková):** Pro každý graf  $G = (V, E)$  platí vztah 
$$\sum_{v \in V} d_G(v) = 2 \cdot |E|.$$

**Poznámka:** Jinými slovy: součet stupňů všech vrcholů je dvojnásobkem počtu hran.

**Důkaz:**

- 1 Libovolná hrana je incidentní právě s dvěma uzly.
- 2 V součtu  $\sum_{v \in V} d_G(v)$  stupňů všech vrcholů je tedy každá hrana započítána dvakrát.
- 3 Sečteme-li stupně všech vrcholů, dostaneme dvojnásobek počtu hran.

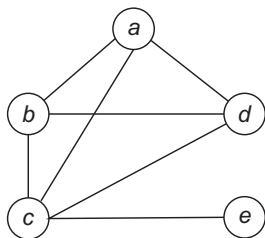
**Důsledek 1.1 (Milková):** Počet vrcholů lichého stupně v grafu  $G$  je sudý.

**Definice 1.5 (Milková):** Necht'  $G = (V, E)$  je graf s  $n$  vrcholy  $v_1, v_2, \dots, v_n$ . **Skóre grafu** je posloupnost  $(d_G(v_1), d_G(v_2), \dots, d_G(v_n))$ .

## Poznámka:

- 1 Při zápisu skóre bývá zvykem stupně řadit vzestupně či sestupně.
- 2 Ze skóre grafu snadno zjistíme počet hran. Dle principu sudosti stačí sečíst všechny stupně a podělit dvěma – výsledné číslo je počet hran.

**Příklad:** Graf na obrázku má skóre  $(1, 3, 3, 3, 4)$ .



# Jak zjistit, že skóre určuje graf?

**Věta 1.2 (Milková):** Mějme *vzestupně seřazenou* posloupnost přirozených čísel  $(d_1, d_2, \dots, d_n)$ , kde  $n \in \mathbb{N}$ .

Vytvořme z  $D$  novou posloupnost  $D' = (d'_1, d'_2, \dots, d'_{n-1})$  tak, že

1  $d'_i = d_i$  pro  $i < n - d_n$ ,

2  $d'_i = d_i - 1$  pro  $i \geq n - d_n$ .

Potom  $D$  je skóre grafu, právě když  $D'$  je skóre grafu.

**Poznámka:** Věta 1.2 dává návod, jak zjistit, zda zadané skóre určuje graf.

Postupně vytváříme posloupnosti, které mají vždy o jeden prvek méně.

Skončíme tehdy, když je jasné, zda aktuálně skóre jsme schopni "přeměnit" v graf.

Sérii posloupností lze následně použít i pro nakreslení grafu daného počáteční posloupností. Za chvíli si ukážeme jak.

# Jak zjistit, že skóre určuje graf?

**Příklad:** Určete pomocí Věty 1.2, zda posloupnost  $(1, 2, 4, 4, 4, 4, 5, 6)$  je skóre grafu.

**Řešení:**

1

2

3

4

5

# Jak zjistit, že skóre určuje graf?

**Příklad:** Určete pomocí Věty 1.2, zda posloupnost  $(1, 2, 4, 4, 4, 4, 5, 6)$  je skóre grafu.

## Řešení:

1 Nejprve ověříme, zda počet lichých čísel je sudý (důsledek principu sudosti) a zda poslední číslo posloupnosti je menší počet jejích prvků.

2

3

4

5



# Jak zjistit, že skóre určuje graf?

**Příklad:** Určete pomocí Věty 1.2, zda posloupnost  $(1, 2, 4, 4, 4, 4, 5, 6)$  je skóre grafu.

**Řešení:**

- 1 Nejprve ověříme, zda počet lichých čísel je sudý (důsledek principu sudosti) a zda poslední číslo posloupnosti je menší počet jejích prvků.
- 2 počet prvků: 8,  $a_8 = 6$ , předěl:  $8 - 6 = 2$ :  
 $(1, 2, 4, 4, 4, 4, 5, 6) \rightsquigarrow (1, 1, 3, 3, 3, 3, 4)$
- 3
- 4
- 5

# Jak zjistit, že skóre určuje graf?

**Příklad:** Určete pomocí Věty 1.2, zda posloupnost  $(1, 2, 4, 4, 4, 4, 5, 6)$  je skóre grafu.

**Řešení:**

- 1 Nejprve ověříme, zda počet lichých čísel je sudý (důsledek principu sudosti) a zda poslední číslo posloupnosti je menší počet jejích prvků.
- 2 počet prvků: 8,  $a_8 = 6$ , předěl:  $8 - 6 = 2$ :  
 $(1, 2, 4, 4, 4, 4, 5, 6) \rightsquigarrow (1, 1, 3, 3, 3, 3, 3, 4)$
- 3 počet prvků: 7,  $a_7 = 4$ , předěl:  $7 - 4 = 3$ :  
 $(1, 1, 3, 3, 3, 3, 4) \rightsquigarrow (1, 1, 2, 2, 2, 2)$
- 4
- 5

# Jak zjistit, že skóre určuje graf?

**Příklad:** Určete pomocí Věty 1.2, zda posloupnost  $(1, 2, 4, 4, 4, 4, 5, 6)$  je skóre grafu.

## Řešení:

- 1 Nejprve ověříme, zda počet lichých čísel je sudý (důsledek principu sudosti) a zda poslední číslo posloupnosti je menší počet jejích prvků.
- 2 počet prvků: 8,  $a_8 = 6$ , předěl:  $8 - 6 = 2$ :  
 $(1, 2, 4, 4, 4, 4, 5, 6) \rightsquigarrow (1, 1, 3, 3, 3, 3, 3, 4)$
- 3 počet prvků: 7,  $a_7 = 4$ , předěl:  $7 - 4 = 3$ :  
 $(1, 1, 3, 3, 3, 3, 4) \rightsquigarrow (1, 1, 2, 2, 2, 2)$
- 4 počet prvků: 6,  $a_6 = 2$ , předěl:  $6 - 2 = 4$ :  
 $(1, 1, 2, 2, 2, 2) \rightsquigarrow (1, 1, 2, 1, 1) \rightsquigarrow (1, 1, 1, 1, 2)$
- 5

# Jak zjistit, že skóre určuje graf?

**Příklad:** Určete pomocí Věty 1.2, zda posloupnost  $(1, 2, 4, 4, 4, 4, 5, 6)$  je skóre grafu.

**Řešení:**

- 1 Nejprve ověříme, zda počet lichých čísel je sudý (důsledek principu sudosti) a zda poslední číslo posloupnosti je menší počet jejích prvků.
- 2 počet prvků: 8,  $a_8 = 6$ , předěl:  $8 - 6 = 2$ :  
 $(1, 2, 4, 4, 4, 4, 5, 6) \rightsquigarrow (1, 1, 3, 3, 3, 3, 3, 4)$
- 3 počet prvků: 7,  $a_7 = 4$ , předěl:  $7 - 4 = 3$ :  
 $(1, 1, 3, 3, 3, 3, 4) \rightsquigarrow (1, 1, 2, 2, 2, 2, 4)$
- 4 počet prvků: 6,  $a_6 = 2$ , předěl:  $6 - 2 = 4$ :  
 $(1, 1, 2, 2, 2, 2) \rightsquigarrow (1, 1, 2, 1, 1) \rightsquigarrow (1, 1, 1, 1, 1, 2)$
- 5 počet prvků: 5,  $a_5 = 2$ , předěl:  $5 - 2 = 3$ :  
 $(1, 1, 1, 1, 2) \rightsquigarrow (1, 1, 0, 0) \rightsquigarrow (0, 0, 1, 1, 1)$

# Jak zjistit, že skóre určuje graf?

**Příklad:** Určete pomocí Věty 1.2, zda posloupnost  $(1, 2, 4, 4, 4, 4, 5, 6)$  je skóre grafu.

**Řešení:**

- 1 Nejprve ověříme, zda počet lichých čísel je sudý (důsledek principu sudosti) a zda poslední číslo posloupnosti je menší počet jejích prvků.
- 2 počet prvků: 8,  $a_8 = 6$ , předěl:  $8 - 6 = 2$ :  
 $(1, 2, 4, 4, 4, 4, 5, 6) \rightsquigarrow (1, 1, 3, 3, 3, 3, 4)$
- 3 počet prvků: 7,  $a_7 = 4$ , předěl:  $7 - 4 = 3$ :  
 $(1, 1, 3, 3, 3, 3, 4) \rightsquigarrow (1, 1, 2, 2, 2, 2)$
- 4 počet prvků: 6,  $a_6 = 2$ , předěl:  $6 - 2 = 4$ :  
 $(1, 1, 2, 2, 2, 2) \rightsquigarrow (1, 1, 2, 1, 1) \rightsquigarrow (1, 1, 1, 1, 2)$
- 5 počet prvků: 5,  $a_5 = 2$ , předěl:  $5 - 2 = 3$ :  
 $(1, 1, 1, 1, 2) \rightsquigarrow (1, 1, 0, 0) \rightsquigarrow (0, 0, 1, 1)$  – graf s tímto skóre lze zakreslit (dva uzly jsou izolované, další dva propojeny hranou).

# Nakreslení grafu dle posloupnosti skóre

$(0, 0, 1, 1) \rightsquigarrow (1, 1, 1, 1, 2) \rightsquigarrow (1, 1, 2, 2, 2, 2) \rightsquigarrow (1, 1, 3, 3, 3, 3, 4) \rightsquigarrow (1, 2, 4, 4, 4, 4, 5, 6)$

$(0, 0, 1, 1)$ :



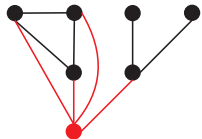
$(1, 1, 1, 1, \underline{2})$ :



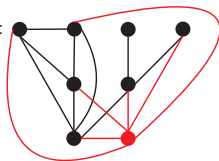
$(1, 1, 2, 2, 2, \underline{2})$ :



$(1, 1, 3, 3, 3, 3, \underline{4})$ :



$(1, 2, 4, 4, 4, 4, 5, \underline{6})$ :



# Úplný graf

**Definice 1.6 (Milková):** Úplný graf na množině  $n$  vrcholů je graf s  $n$  vrcholy ( $n \geq 1$ ), ve kterém je každý uzel spojen se všemi ostatními vrcholy hranou. Značíme jej  $K_n$ .

Příklady:

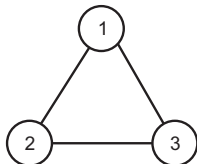
$K_1$



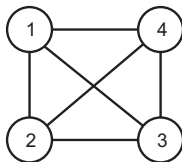
$K_2$



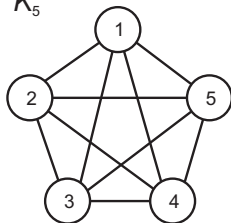
$K_3$



$K_4$



$K_5$



**Definice 1.7 (Milková):** Doplňk grafu  $G = (V, -E)$  grafu  $G = (V, E)$  je graf, jehož množina hran  $-E$  je množina všech hran úplného grafu na množině vrcholů  $V$ , které neleží v  $E$ .

**Příklad:** na následujícím obrázku je graf o pěti vrcholech a jeho doplňk.

