

Protokol č. 3

Jméno:

1. V určité rodině má Jan polydaktylii s nadbytečným prstem na obou rukách i nohách. Jeho starší sestra Hana a mladší bratr Jindřich nejsou polydaktylií postižení. Jejich otec je zdravý a ani v rodinné anamnéze (~ předchorobí) u jeho předků se polydaktylie nevyskytuje. Jejich matka má polydaktylii na obou rukách, ale má normální nohy. Matka má čtyři sourozence, z nichž tři mají nějakou formu polydaktylie a jejich otec měl, na rozdíl od své manželky a jejích předků, rovněž polydaktylii.

Předpokládejme, že polydaktylie je autozomálně dominantní (AD) nemoc s 80% penetrancí a variabilní expresivitou.

a) Nakreslete rodokmen pro tuto rodinu a запиšte genotypy.

b) Jaká je pravděpodobnost, že Jan bude mít se zdravou manželkou dítě postižené polydaktylií?

c) Jaká je pravděpodobnost, že Jan nebude mít se zdravou manželkou dítě postižené polydaktylií?

2. Manželský pár má čtyři děti. Ani otec, ani matka nejsou plešatí. Pleš má jeden z jejich dvou synů, ale ani jedna dcera.

Plešatost = znak pohlavím ovlivněný, leží na autozomu, nesou tedy obě pohlaví stejně, ale jeho fenotyp je ovlivňován pohlavními hormony, rozdíl je u heterozygotů, u jednoho pohlaví se jeví jako dominantní znak, u druhého pohlaví jako recesivní znak (viz přednáška), tzn.:

Plešatí muži = AA, Aa neplešatí muži = aa

Plešaté ženy = AA neplešaté ženy = Aa, aa

a) Jedna z dcer se provdá za muže, u něhož se plešatost v rodině nevyskytuje, a budou mít spolu syna. Jaká je pravděpodobnost, že tento jejich potomek bude v dospělosti plešatý?

b) Jedna z dcer se provdá za muže, u něhož se plešatost v rodině nevyskytuje, a budou mít spolu dceru. Jaká je pravděpodobnost, že ona bude v dospělosti plešatá?

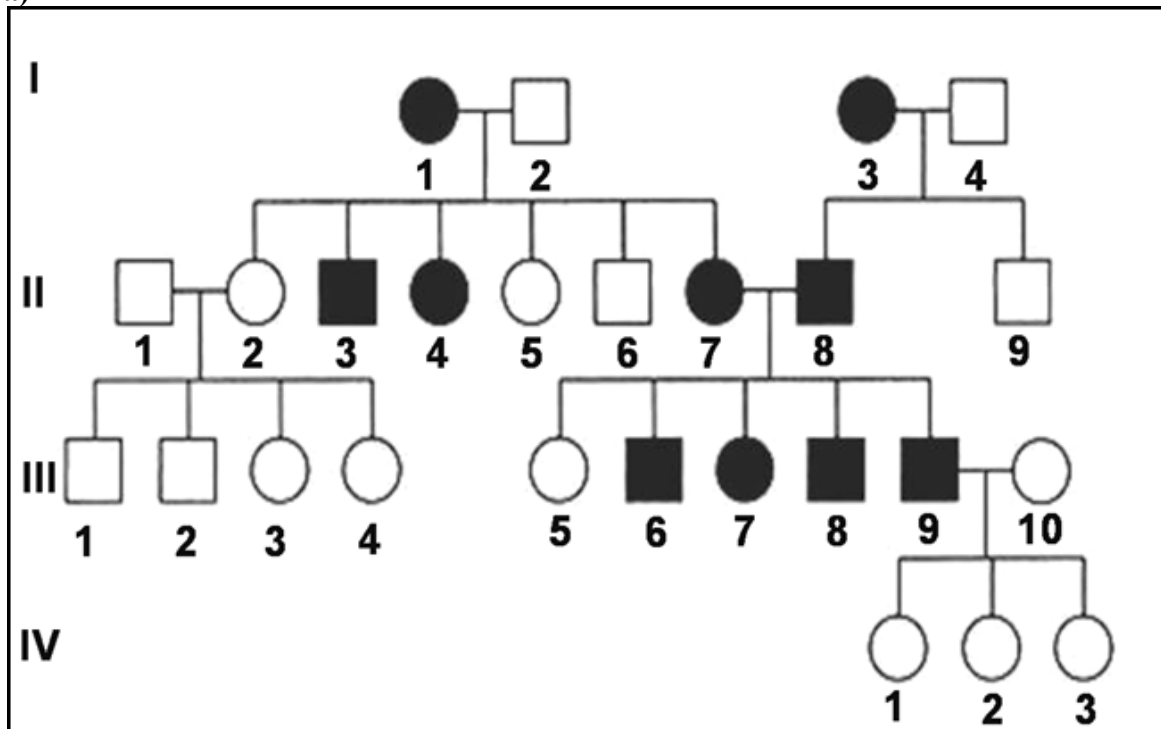
3. Muž trpí předčasnou plešatostí. Jeho otec, ani matka nejsou plešatí. Tento muž se oženil s ženou s normálními vlasy.

Její matka i oba její bratři nicméně předčasnou plešatostí trpí.

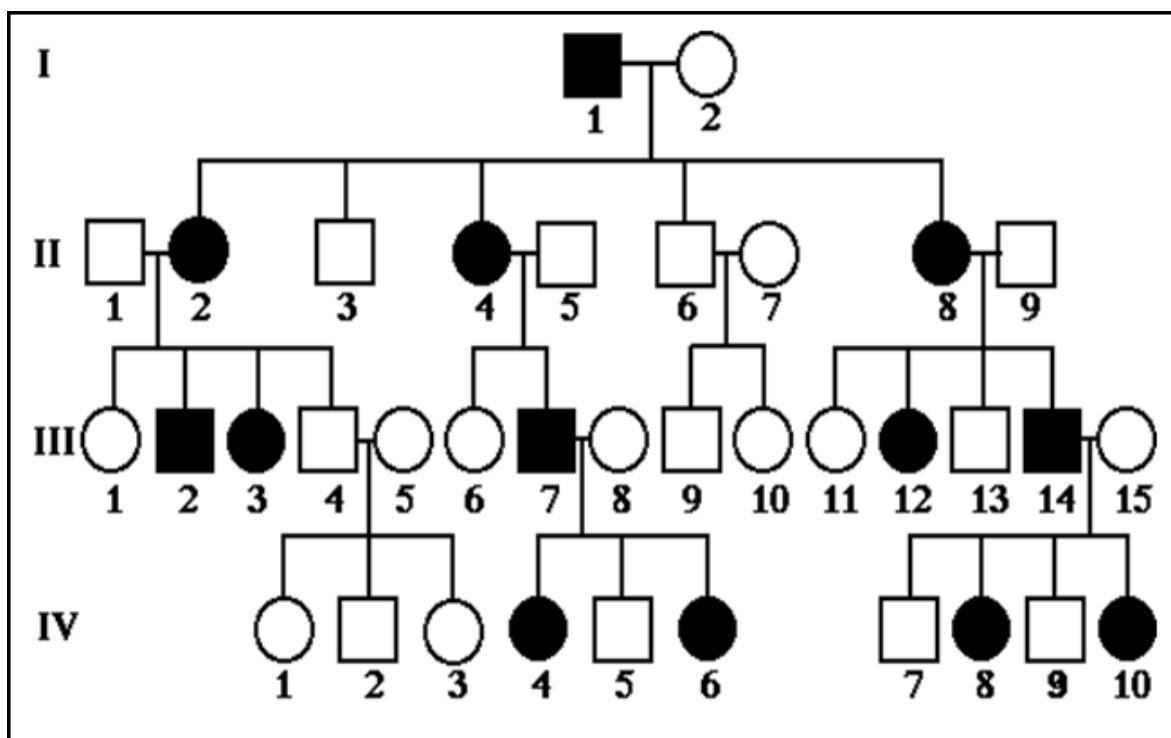
Zakreslete rodokmen, určete genotypy členů rodiny a zjistěte riziko předčasné plešatosti pro děti z tohoto manželství.

4. **Určete typy dědičnosti** (autozomálně dominantní, autozomálně recesivní, X-vázaná dominantní, X-vázaná recesivní) u obou rodokmenů, které zachycují výskyt monogenních autozomálně či gonozomálně podmíněných znaků u člověka. Za použití symboliky (A, a - u autozomální dědičnosti či X_A , X_a , Y u X-vázané dědičnosti) se pokuste **vyznačit genotypy jednotlivých osob**, popřípadě označte přenašeče (heterozygoty).

a)




b)



5. U mitotických chromozomů lymfocytů periferní krve bylo provedeno G-pruhování. **Sestavte karyotyp v aplikaci Animace: Karyotyp člověka | Praktikum z obecné genetiky | Přírodovědecká fakulta Masarykovy univerzity (muni.cz) a vložte PrintScreen**














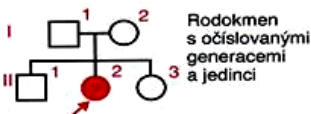








Klasifikace lidských chromozomů do skupin A - G:

- **A** (1 až 3): velké metacentrické
- **B** (4 až 5): velké submetacentrické
- **C** (6 až 12, X): středně velké metacentrické nebo submetacentrické
- **D** (13 až 15): středně velké akrocentrické se satelity
- **E** (16 až 18): relativně krátké metacentrické nebo submetacentrické
- **F** (19 až 20): krátké metacentrické
- **G** (21 až 22, Y): krátké akrocentrické se satelity (Y satelity nemá)



idiogram lidského karyotypu

Genealogické symboly

	Muž		Sňatek nebo svazek
	Žena		Rozvod
	Neznámé pohlaví		Konsanguinita
	Počet dětí označeného pohlaví		Monozygotní dvojčata
	Postižený		Dizygotní dvojčata
	Nepenetrující přenašeč, možná manifestace choroby		Dvojčata s neznámou zygotitou
	Obligatorní přenašeč, bez manifestace choroby		Rodokmen s očíslovanými generacemi a jedinci
	Proband		Potrat
	Zemřelý jedinec		Žádné potomstvo
	Mrtvě narozené dítě		Několik svazků
	Adoptovaný do rodiny		
	Adoptovaný z rodiny		