

KAPITOLA 3

Neurčitý integrál

OBSAH

3.1. Primitivní funkce a neurčitý integrál	13
3.2. Vlastnosti neurčitého integrálu	14
3.3. Výpočet neurčitého integrálu	15
3.3.1. Využití diferenciálu	15
3.3.2. Tabulky základních integrálů	15
3.3.3. Metoda <i>per partes</i>	16
3.3.4. Substituce	17
3.3.5. Zavedení do diferenciálu	18
3.4. Příklady výpočtu neurčitého integrálu	19
3.4.1. Integrály, pro něž je vhodné využít metodu <i>per partes</i>	19
3.4.2. Integrál racionální lomené funkce	20
3.4.3. Univerzální trigonometrická substituce	21
3.4.4. Některé integrály obsahující kvadratický polynom	23
3.4.5. Různé příklady	27

§ 3.1. Primitivní funkce a neurčitý integrál

Mějme funkci f definovanou na nějakém intervalu (a, b) . Pojmy primitivní funkce a neurčitého integrálu slouží pro zodpovězení otázky: *derivací čeho je výraz $f(x)$?*

DEFINICE 3.1. *Primitivní funkce* k funkci f na intervalu (a, b) je taková funkce F , že pro každé x z (a, b) platí $F'(x) = f(x)$.

Např. funkce $F(x) = \frac{5}{3}x^3$ je primitivní funkcí k $f(x) = 5x^2$, neboť $F'(x) = \frac{5}{3} \cdot 3x^2 = 5x^2 = f(x)$. Navíc všechny primitivní funkce pro $f(x) = 5x^2$ mají tvar $F(x) = \frac{5}{3}x^3 + C$, kde C je libovolná konstanta (toto platí i obecně).

DEFINICE 3.2. Výraz

$$\int f(x) dx = F(x) + C, \quad x \in (a, b), \quad (3.1)$$

kde F je primitivní funkce k f a C je libovolná konstanta, se nazývá *neurčitým integrálem* funkce f .

Symbol \int je označován jako integrační znak, funkce f se nazývá *integrandem* a formální symbol „ dx “ slouží k označení proměnné, podle níž daný výraz integrujeme. Zápis čteme takto: „integrál z $f(x)$ podle x “.

Neurčitý integrál (3.1) zodpovídá otázku: *jak vypadají všechny možné výrazy, které po zderivování vzhledem k proměnné x se promění na $f(x)$* ? Platí tedy, že

$$\left(\int f(x) dx \right)' = f(x),$$

a také

$$\left(\int F'(x) dx \right) = F(x) + C, \quad (3.2)$$

kde C je libovolná konstanta.¹ Operace derivování a nalezení neurčitého integrálu jsou navzájem inverzní. Konstanta C se nazývá *integrační konstantou*.

VĚTA. *Ke každé funkci spojitě na intervalu (a, b) existuje na tomto intervalu funkce primitivní a tudíž má funkce neurčitý integrál.*

§ 3.2. Vlastnosti neurčitého integrálu

Základní vlastností neurčitého integrálu je (3.2), tj. neurčitý integrál z derivace jakéhokoliv výrazu je rovný tomuto výrazu plus konstanta.

Vzhledem k § 4.1 a vlastnostem derivace pro libovolnou konstantu k platí

$$\int kf(x) dx = k \int f(x) dx,$$

$$\int (f(x) \pm g(x)) dx = \int f(x) dx \pm \int g(x) dx,$$

tj. konstantu lze vždy vytknout před znak integrálu a integrál součtu (rozdílu) dvou výrazů je součtem (rozdílem) příslušných integrálů.

Neexistují smysluplné vzorce, které by vyjadřovaly $\int f(x)g(x) dx$ nebo $\int \frac{f(x)}{g(x)} dx$ přes $\int f(x) dx$ a $\int g(x) dx$!

¹Tj. integrál z derivace funkce je samotná ta funkce plus konstanta.

§ 3.3. Výpočet neurčitého integrálu

Derivace konkrétních funkcí vždy vypočítáme podle známých pravidel derivování, tj. výsledek je svým způsobem garantován a k jeho dosažení stačí jen znát základní vlastnosti derivace a tabulku derivací elementárních funkcí. Situace je odlišná v případě integrování: může se totiž stát, že neurčitý integrál nějaké funkce zásadně „nejde vypočítat“. Toto znamená, že existují elementární funkce, jejichž primitivní funkce již mezi elementární funkce nepatří. Je tomu tak např. pro $f(x) = e^{-x^2}$, $f(x) = \sin(x^2)$ apod.; jsou to funkce pro něž nelze integrál $\int f(x) dx$ žádným způsobem vyjádřit přes funkce elementární (tj. mocninné, exponenciální, trigonometrické, polynomiální, racionální lomené).

„Výpočtem“ integrálu se rozumí jeho vyjádření přes nějakou kombinaci elementárních funkcí, např.: $\int (x^2 + 5e^{3x}) dx = \frac{x^3}{3} + \frac{5}{3}e^{3x} + C$, kde C je libovolná konstanta.²

Na rozdíl od derivací, pro integrál platí, že:

- (1) ne každý neurčitý integrál „jde vypočítat“;
- (2) i pokud daný neurčitý integrál vypočítat lze, je potřeba nalézt způsob jak to udělat. *Obecně platná metoda pro výpočet libovolných integrálů neexistuje.*

§ 3.3.1. Využití diferenciálu. Nehledě na to, že „ dx “ v zápisu integrálu je pouze formální symbol, jenž značí proměnnou, podle níž se integruje, v praxi je pohodlné (a z hlediska výpočtů také vhodné) tlumočit výraz „ $f(x) dx$ “ jako „ $f(x) \cdot dx$ “ („ $f(x)$ krát dx “). Píšeme tedy např. $\int \frac{1}{x} dx = \int \frac{dx}{x}$.

§ 3.3.2. Tabulky základních integrálů. Přechodem tabulky známých derivací elementárních funkcí v opačném směru přirozeně vzniká užitečná tabulka základních integrálů (viz tabulka 1).³

Vskutku máme $(x^m)' = mx^{m-1}$ a pak pro $m \neq 0$ platí $x^{m-1} = \frac{(x^m)'}{m} = \left(\frac{x^m}{m}\right)'$, tj. $F(x) = \frac{x^m}{m}$ je primitivní funkcí k $f(x) = x^{m-1}$. Dále platí $(e^x)' = e^x$, $(\sin x)' = \cos x$, $(\cos x)' = -\sin x$, $(\arctg x)' = \frac{1}{1+x^2}$ atd. Podobným způsobem se odvodí integrály řády dalších známých funkcí, které nalezneme v příslušné literatuře.⁴ Další často využívané integrály nalezneme v tabulce 2.

²Kontrola zderivováním: $\left(\frac{x^3}{3} + \frac{5}{3}e^{3x} + C\right)' = \frac{1}{3}3x^2 + \frac{5}{3}e^{3x}3 = x^2 + 5e^{3x}$.

³Pro lepší přehlednost v této tabulce vynecháváme libovolnou aditivní konstantu, která tam samozřejmě patří. Druhý vzorec v (3.3) chápeme jako přehlednou, avšak neúplně přesnou podobu vzorce (3.7) (viz pozn. 4, str. 15).

⁴V tabulce 1 je třeba okomentovat jen druhý vzorec v (3.3) vyjadřující $\int \frac{dx}{x}$. I když tento vzorec běžně potkáváme v této zkrácené podobě, jeho matematicky precizním zněním je

$$\int \frac{dx}{x} = \begin{cases} \ln(-x) + C_1 & \text{pro } x < 0, \\ \ln x + C_2 & \text{pro } x > 0, \end{cases} \quad (3.7)$$

$$\int x^n dx = \frac{x^{n+1}}{n+1} \quad (n \neq -1) \qquad \int \frac{dx}{x} = \ln|x| \quad (3.3)$$

$$\int e^x dx = e^x \qquad \int a^x dx = \frac{a^x}{\ln a} \quad (a \neq 1) \quad (3.4)$$

$$\int \cos x dx = \sin x \qquad \int \sin x dx = -\cos x \quad (3.5)$$

$$\int \frac{dx}{1+x^2} = \operatorname{arctg} x \qquad \int \frac{dx}{\sqrt{1-x^2}} = \arcsin x \quad (3.6)$$

TABULKA 1. Integrály některých elementárních funkcí.

$$\int \frac{1}{\sqrt{A^2-x^2}} dx = \arcsin \frac{x}{A} + C \quad (|x| < A) \quad (3.8)$$

$$\int \frac{1}{\sqrt{x^2 \pm B}} dx = \ln \left| x + \sqrt{x^2 \pm B} \right| + C \quad (3.9)$$

$$\int \frac{1}{A^2+x^2} dx = \frac{1}{A} \operatorname{arctg} \frac{x}{A} + C \quad (3.10)$$

$$\int \frac{1}{A^2-x^2} dx = \frac{1}{2A} \ln \left| \frac{A+x}{A-x} \right| + C \quad (3.11)$$

TABULKA 2. Další často využívané integrály.

Tyto „tabulkové“ integrály bezprostředně v uvedené podobě zpravidla nepotkáme a u konkrétních integrálů je potřeba vymyslet vhodnou úpravu.

PŘÍKLAD 3.1. Integrál $\int \cos^2 x dx$ snadno vypočítáme pomocí vzorce pro cosinus dvojitého uhlu, jenž nám umožní mocninu snížit:

$$\int \cos^2 x dx = \frac{1}{2} \int (1 + \cos 2x) dx = \frac{x}{2} + \frac{1}{4} \int d(\sin 2x) = \frac{x}{2} + \frac{1}{4} \sin 2x + C.$$

§ 3.3.3. Metoda *per partes*. Mějme dvě funkce u a v , pro něž lze vypočítat derivace. Pak $(uv)' = uv' + u'v$, odkud $uv' = (uv)' - vu'$ a proto

$$\int u(x)v'(x) dx = \int (u(x)v(x))' dx - \int v(x)u'(x) dx. \quad (3.12)$$

kde C_1 a C_2 jsou libovolné konstanty. Konstanty integrování zde tedy mohou být různé na levé a pravé poloosě. Důvodem je fakt, že $\ln|x|$ není v bodě $x = 0$ definován a tak se definiční obor této funkce dělí na dvě části, na nichž se výraz $\frac{1}{x}$ integruje zvlášť.

Podle (3.2) platí⁵ $\int (u(x)v(x))' dx = u(x)v(x)$ a proto z (3.12) obdržíme

$$\int u(x)v'(x) dx = u(x)v(x) - \int v(x)u'(x) dx. \quad (3.13)$$

Způsobu výpočtu integrálů, jenž se zakládá na vzorci (3.13), se říká metoda *per partes*, neboli *po částech*.

Tuto metodu je vhodné použít, jestliže bude integrál $\int v(x)u'(x) dx$ jednodušší než $\int u(x)v'(x) dx$ (tj. zderivování u při současném zintegrování v' zpět na v situaci zlepšuje).

Mějme, např. $\int x \cos x dx$. Víme, že $(\sin x)' = \cos x$, pak $\cos x = v'(x)$ pro $v(x) = \sin x$. Vezme-li $u(x) = x$, platí $u'(x) = 1$ a z (3.13) obdržíme

$$\int x \cos x dx = \int x (\sin x)' dx = x \cdot \sin x - \int 1 \cdot \sin x dx = x \sin x - \int \sin x dx.$$

Integrál $\int \sin x dx$ je tabulkový: $\int \sin x dx = -\cos x + \text{konstanta}$ (viz (3.5)) a proto

$$\int x \cos x dx = x \sin x - \int \sin x dx = x \sin x + \cos x + C.$$

§ 3.3.4. Substitute. Tzv. *substituční* metoda je založená na vzorci

$$\int f(h(x))h'(x)dx = F(h(x)) + C,$$

kde F je primitivní funkce pro f . Jinými slovy,

$$\int f(h(x))h'(x)dx = \int f(t)dt,$$

kde $t = h(x)$. Toto znamená, že pokud má integrand tvar $f(h(x))h'(x)$ pro nějakou⁶ funkci h , potom je výsledek jednoduše integrálem z f z dosazeným místo argumentu výrazem $h(x)$, tj. stačí odvodit integrál z f .

Postup si lépe vysvětlíme, když s jeho použitím vypočteme konkrétní integrál. Mějme např. integrál $\int \frac{dx}{4+x^2}$. V tabulce vidíme vzorec pro jiný, avšak podobný integrál:

$$\int \frac{dx}{1+x^2} = \arctg x. \quad (3.14)$$

Zkusme původní integrál upravit tak, aby se dal použít vzorec (3.14). Máme:

$$\int \frac{dx}{4+x^2} = \int \frac{dx}{4\left(1+\frac{x^2}{4}\right)} = \frac{1}{4} \int \frac{dx}{1+\frac{x^2}{4}} = \frac{1}{4} \int \frac{dx}{1+\left(\frac{x}{2}\right)^2}. \quad (3.15)$$

⁵Můžeme zde vzít konstantu integrování rovnou 0, protože se v součtu (3.13) vyskytuje další neurčitý integrál obsahující konstantu integrování.

⁶Zde se nesoustředíme na přesné formulace a příslušné podmínky explicitně neuvádíme.

Diferenciálem funkce f v bodě x se nazývá výraz

$$df(x) = f'(x) dx. \quad (3.16)$$

Z hlediska výpočtů je zde pohodlné tlumočit výraz „ $f'(x) dx$ “ jako „ $f'(x) \cdot dx$ “ („ $f'(x)$ krát dx “). Připomíná to také alternativní (starší) označení pro derivaci: $f'(x) = \frac{df(x)}{dx}$, odkud obdržíme (3.16) formálním vynásobením výrazem dx (jemuž se říká diferenciál nezávisle proměnné).

Z diferenciály se pracuje stejně jako s odpovídajícími derivacemi.

Zavedeme v (3.15) novou proměnnou

$$t = \frac{x}{2}. \quad (3.17)$$

Pak dle (3.16) $dt = d(\frac{1}{2}x) = (\frac{1}{2}x)' dx = \frac{1}{2} dx$, tj. $dt = \frac{1}{2} dx$, odkud

$$dx = 2 dt. \quad (3.18)$$

Dosaďme (3.17) a (3.18) do (3.15):

$$\int \frac{dx}{4+x^2} = \frac{1}{4} \int \frac{dx}{1+(\frac{x}{2})^2} = \frac{1}{4} \int \frac{2 dt}{1+t^2} = \frac{2}{4} \int \frac{dt}{1+t^2} = \frac{1}{2} \int \frac{dt}{1+t^2}$$

a s využitím (3.14), (3.17) ihned obdržíme výsledek:

$$\int \frac{dx}{4+x^2} = \frac{1}{2} \int \frac{dt}{1+t^2} = \frac{1}{2} \operatorname{arctg} t + C = \frac{1}{2} \operatorname{arctg} \frac{x}{2} + C.$$

Můžeme si také všimnout, že výsledek je speciálním případem vzorce (3.10).

§ 3.3.5. Zavedení do diferenciálu. Jde pouze o poněkud jinou podobu výpočtu dle § 4.4.2, když se substituce provádí implicitně (nezapisujeme ji).

Mějme např. $\int (2x-7)^3 dx$.

Podle (3.16) platí $d(2x-7) = (2x-7)' dx = 2 dx$, potom $dx = \frac{1}{2} d(2x-7)$.

Dosažením tohoto výrazu do integrálu obdržíme:⁷

$$\begin{aligned} \int (2x-7)^3 dx &= \int (2x-7)^3 \frac{1}{2} d(2x-7) = \frac{1}{2} \int (2x-7)^3 d(2x-7) \\ &= \frac{1}{2} \left(\frac{1}{4} (2x-7)^4 + C \right) = \frac{1}{8} (2x-7)^4 + \tilde{C} \quad (\tilde{C} = \frac{1}{2} C). \end{aligned}$$

Tímto způsobem např. výpočet integrálu (3.15) (§ 4.4.2, str. 34) zapíšeme takto:

$$\int \frac{dx}{4+x^2} = \frac{1}{4} \int \frac{dx}{1+(\frac{x}{2})^2} = \frac{1}{4} \cdot 2 \int \frac{d(\frac{x}{2})}{1+(\frac{x}{2})^2} = \frac{1}{2} \operatorname{arctg} \frac{x}{2} + C,$$

⁷Kontrola: $(\frac{1}{8}(2x-7)^4 + \tilde{C})' = \frac{1}{8} \cdot 4(2x-7)^3 \cdot 2 = (2x-7)^3$.

substituce $t = x/2$ je totiž dosti jednoduchá a můžeme ji provést implicitně s použitím (3.16), aniž bychom ji explicitně zapisovali.

§ 3.4. Příklady vypočtu neurčitého integrálu

Uved' me několik nejrozšířenějších typů integrálu, pro něž lze formulovat jistý obecný postup vypočtu.

§ 3.4.1. Integrály, pro něž je vhodné využít metodu *per partes*. Metodu *per partes* použijeme pro integrály součinů výrazů, z nichž jeden by bylo žádoucí zderivovat a zároveň je možné zintegrovat ten druhý.

PŘÍKLAD 3.2. Vypočtème integrál

$$I(x) = \int \cos^4 x \, dx.$$

Přepišme integrál ve tvaru $\int \cos^3 x \cos x \, dx$ a použijme metodu *per partes*:⁸

$$\begin{aligned} \int \cos^3 x \cos x \, dx &= \sin x \cos^3 x + 3 \int \sin x \cos^2 x \sin x \, dx \\ &= \sin x \cos^3 x + 3 \int \sin^2 x \cos^2 x \, dx \\ &= \sin x \cos^3 x + 3 \int (1 - \cos^2 x) \cos^2 x \, dx \\ &= \sin x \cos^3 x + 3 \int \cos^2 x \, dx - 3 \int \cos^4 x \, dx \\ &= \sin x \cos^3 x + \frac{3x}{2} + \frac{3}{4} \sin 2x - 3 \int \cos^4 x \, dx. \end{aligned}$$

$$\begin{aligned} u(x) &= \cos^3 x, & du(x) &= -3 \cos^2 x \sin x \, dx \\ dv(x) &= \cos x \, dx, & v(x) &= \sin x \end{aligned}$$

Toto znamená, že platí rovnost

$$I(x) = \frac{3x}{2} + \sin x \cos^3 x + \frac{3x}{2} + \frac{3}{4} \sin 2x - 3I(x),$$

na niž lze hledět jako na rovnici pro $I(x)$. Zbývá tedy tuto rovnici vyřešit a přidat integrační konstantu; výsledkem bude

$$I(x) = \frac{3x}{8} + \frac{1}{4} \sin x \cos^3 x + \frac{3}{16} \sin 2x + C = \frac{3x}{8} + \frac{1}{4} \sin x \cos^3 x + \frac{3}{8} \sin x \cos x + C.$$

PŘÍKLAD 3.3. Vypočtème integrály

$$I(x) = \int e^x \cos x \, dx, \quad J(x) = \int e^x \sin x \, dx.$$

⁸Použili jsme také výsledek příkladu 3.1 pro $\int \cos^2 x \, dx$.

Jelikož $(e^x)' = e^x$ a derivace sinu a kosinu jsou, až na znaménko, kosinus a sinus, je vhodné tyto integrály počítat metodou *per partes*, přičemž v daném případě není důležité který z těchto členů budeme derivovat. Uvažujme např. $I(x)$:

$$\begin{aligned} I(x) &= \int e^x \cos x \, dx = e^x \cos x - \int e^x (-\sin x) \, dx \\ &= e^x \cos x + \int e^x \sin x \, dx = e^x \cos x + J(x). \end{aligned}$$

Vykonáme-li podobné úpravy s $J(x)$, obdržíme

$$J(x) = \int e^x \sin x \, dx = e^x \sin x - \int e^x \cos x \, dx = e^x \sin x - I(x).$$

Odvodili jsme tedy, že pro integrály platí vztahy

$$I(x) = e^x \cos x + J(x), \quad J(x) = e^x \sin x - I(x),$$

odkud $I(x) - J(x) = e^x \cos x + J(x)$, $I(x) + J(x) = e^x \sin x$ a tudíž

$$I(x) = \frac{1}{2}e^x(\sin x + \cos x) + C, \quad J(x) = \frac{1}{2}e^x(\sin x - \cos x) + C.$$

$$\begin{aligned} u(x) &= \sin x, & du(x) &= \cos x \, dx \\ dv(x) &= e^x \, dx, & v(x) &= e^x \end{aligned}$$

§ 3.4.2. Integrál racionální lomené funkce. Jsou to integrály tvaru

$$\int \frac{p(x)}{q(x)} \, dx,$$

kde p je polynom stupně n a q je polynom stupně m (takový integrand se nazývá racionální lomenou funkcí). Není-li funkce ryze lomená (tj. $n \geq m$), integrand dělením polynomů upravíme na součet polynomu a ryze lomené funkce. Polynomy se integrují velice snadno a tudíž stačí rozebrat pouze případ ryze lomené funkce, když platí $n < m$.

Pro integraci ryze lomené funkce vypočítáme její rozklad na součet parciálních zlomků,⁹ jejichž integrály buď ihned převedeme na tabulkové nebo — pro složitější integrály tvaru $\frac{Ax+B}{(x^2+\alpha x+\beta)^k}$ s $k > 1$ — odvodíme postupným zredukováním na jednodušší typy (těmito integrály se zde zabývat nebudeme).

Vyjádríme-li jmenovatel $q(x)$ ve tvaru součinu výrazů typu $(x-c)^k$ a $(x^2+\alpha x+\beta)^k$ (kde $\alpha^2 < 4\beta$), rozkladem podílu $\frac{p(x)}{q(x)}$ na parciální zlomky bude součet výrazů typu $\frac{D_1}{x-c} + \frac{D_2}{(x-c)^2} + \dots + \frac{D_k}{(x-c)^k}$, odpovídajících každému výskytu v rozkladu členu $(x-c)^k$, a výrazů typu $\frac{A_1x+B_1}{x^2+\alpha x+\beta} + \dots + \frac{A_kx+B_k}{(x^2+\alpha x+\beta)^k}$, jež odpovídají členům $(x^2+\alpha x+\beta)^k$.

⁹Parciální zlomky jsou nejjednodušší ryze lomené funkce typů $\frac{A}{(x-c)^k}$ nebo $\frac{Ax+B}{(x^2+\alpha x+\beta)^k}$, kde $k = 1, 2, \dots$ a polynom $x^2 + \alpha x + \beta$ má záporný diskriminant (tj. $\alpha^2 - 4\beta < 0$).

Poznamenejme, že jmenovatelé $(x-c)^k$ a $(x^2+\alpha x+\beta)^k$ zde popisují všechny možné typy členů v rozkladu polynomu na součin kořenových činitelů, když ho zapisujeme bez použití komplexních čísel.

Koeficienty se v různých parciálních zlomcích liší a jejich hodnoty je třeba vypočítat z podmínky, že všechny vypsané členy mají v součtu dávat původní funkci (přivedeme vše ke společnému jmenovateli a zajistíme, aby byl čítec rovný $p(x)$).

PŘÍKLAD 3.4. Integrál

$$\int \frac{dx}{1-x^2}$$

snadno vypočítáme rozkladem integrandu na parciální zlomky (§ 3.4.2). Rozklad polynomu ve jmenovateli na součin kořenových činitelů je $-(x-1)(x+1)$ a proto

$$\frac{1}{1-x^2} = -\frac{1}{(x-1)(x+1)} = \frac{A}{x-1} + \frac{B}{x+1},$$

přičemž pro všechna x má platit $-1 = A(x+1) + B(x-1)$. Dosadíme-li do této rovnosti kořeny $x = 1$ a $x = -1$, obdržíme $1 = -2A$, $1 = 2B$, odkud $A = -\frac{1}{2}$, $B = \frac{1}{2}$ a tudíž platí

$$\begin{aligned} \int \frac{dx}{1-x^2} &= -\frac{1}{2} \int \frac{dx}{x-1} + \frac{1}{2} \int \frac{dx}{x+1} = -\frac{1}{2} \ln|x-1| + \frac{1}{2} \ln|x+1| + C \\ &= \frac{1}{2} \ln \left| \frac{x+1}{x-1} \right| + C. \end{aligned} \quad (3.19)$$

Koeficienty vždy můžeme nalézt tak, že přirovnáme koeficienty u jednotlivých mocnin na obou stranách rovnosti (v případě, kdy polynom ve jmenovateli má komplexní kořeny, se tomu vyhneme; viz např. příklad 3.5).

§ 3.4.3. Univerzální trigonometrická substituce. Je-li integrand racionální funkcí výrazů $\cos x$ a $\sin x$, je možné pro výpočet integrálu použít *univerzální trigonometrickou substituci*

$$t = \operatorname{tg} \frac{x}{2}, \quad (3.20)$$

kde t značí novou proměnnou. Pak, samozřejmě,

$$x = 2 \operatorname{arctg} t \quad (3.21)$$

a pro diferenciál ihned obdržíme $dx = \frac{2}{t^2+1} dt$. Vzhledem k tomu, že platí

$$\cos x = \frac{\cos^2 \frac{x}{2} - \sin^2 \frac{x}{2}}{\cos^2 \frac{x}{2} + \sin^2 \frac{x}{2}} = \frac{1 - \operatorname{tg}^2 \frac{x}{2}}{1 + \operatorname{tg}^2 \frac{x}{2}}, \quad \sin x = \frac{2 \sin \frac{x}{2} \cos \frac{x}{2}}{\cos^2 \frac{x}{2} + \sin^2 \frac{x}{2}} = 2 \frac{\operatorname{tg} \frac{x}{2}}{1 + \operatorname{tg}^2 \frac{x}{2}},$$

integrál tak převedeme na integrál racionální lomené funkce, a to pomocí následujících vzorců.

Vzorce pro vykonání univerzální trigonometrické substituce $t = \operatorname{tg} \frac{x}{2}$:

$$\cos x = \frac{1-t^2}{1+t^2}, \quad \sin x = \frac{2t}{1+t^2}, \quad dx = \frac{2 dt}{t^2+1}. \quad (3.22)$$

Z (3.22) ihned plyne, že¹⁰ $\operatorname{tg} x = \frac{2t}{1-t^2}$, $\operatorname{ctg} x = \frac{1-t^2}{2t}$, $\sec x = \frac{1+t^2}{1-t^2}$ a $\csc x = \frac{1+t^2}{2t}$, tj. po zavedení substituce (3.20) pomocí (3.20) převedeme všechny výskyty trigonometrických funkcí v integrandu na racionální lomené funkce proměnné t , přičemž podobný výraz vznikne i po přepočtu diferenciálu. Po vypočtu upraveného integrálu použijeme (3.20) a vrátíme se k původní proměnné x .

PŘÍKLAD 3.5. Vypočtěme

$$\int \frac{\sin x - 1}{\cos x + 2} dx.$$

Použijeme-li substituci (3.20), ze vzorců (3.20) obdržíme

$$\begin{aligned} \int \frac{\sin x - 1}{\cos x + 2} dx &= \int \frac{\frac{2t}{1+t^2} - 1}{\frac{1-t^2}{1+t^2} + 2} \frac{2}{t^2+1} dt = 2 \int \frac{2t - (1+t^2)}{1-t^2 + 2(1+t^2)} \frac{1}{t^2+1} dt \\ &= -2 \int \frac{t^2 - 2t + 1}{3+t^2} \frac{1}{t^2+1} dt = -2 \int \frac{t^2 - 2t + 1}{(t^2+1)(t^2+3)} dt. \end{aligned}$$

V integrandu je ryze lomená funkce, již můžeme dále rozložit na součet příslušných parciálních zlomků (§ 2.4.2):

$$\frac{t^2 - 2t + 1}{(t^2+1)(t^2+3)} = \frac{At+B}{t^2+1} + \frac{Ct+D}{t^2+3} = \frac{(At+B)(t^2+3) + (Ct+D)(t^2+1)}{(t^2+1)(t^2+3)}.$$

Potřebujeme tedy, aby pro libovolné t platilo

$$(At+B)(t^2+3) + (Ct+D)(t^2+1) = t^2 - 2t + 1.$$

Přirovnáním koeficientů u t^0 , t^1 , t^2 a t^3 obdržíme podmínky¹¹

$$3B + D = 1, \quad 3A + C = -2, \quad B + D = 1, \quad A + C = 0,$$

odkud vypočítáme $A = -1$, $B = 0$, $C = -1$, $D = 1$. Pak

$$\begin{aligned} -2 \int \frac{t^2 - 2t + 1}{(t^2+1)(t^2+3)} dt &= -2 \int \frac{-t}{t^2+1} dt - 2 \int \frac{t+1}{t^2+2} dt \\ &= \int \frac{2t}{t^2+1} dt - \int \frac{2t}{t^2+3} dt - 2 \int \frac{dt}{t^2+3}. \end{aligned}$$

¹⁰Připomeňme, že funkce sekans a kosekans se definují vzorci $\sec x = \frac{1}{\cos x}$, $\csc x = \frac{1}{\sin x}$.

¹¹První podmínku, jež odpovídá koeficientům u t^0 , lze vždy odvodit také dosazením hodnoty $t = 0$.

Máme $\int \frac{dt}{t^2+3} = \frac{1}{\sqrt{3}} \operatorname{arctg}\left(\frac{t}{\sqrt{3}}\right)$, $\int \frac{2t}{t^2+1} dt = \int \frac{d(t^2+1)}{t^2+1} = \ln(t^2+1)$, $\int \frac{2t}{t^2+3} dt = \ln(t^2+3)$, až na aditivní konstantu, již k výsledku přidáme později. Potom

$$\begin{aligned} -2 \int \frac{t^2 - 2t + 1}{(t^2 + 1)(t^2 + 3)} dt &= \ln(t^2 + 1) - \ln(t^2 + 3) - \frac{2}{\sqrt{3}} \operatorname{arctg}\left(\frac{t}{\sqrt{3}}\right) \\ &= \ln \frac{t^2 + 1}{t^2 + 3} - \frac{2}{\sqrt{3}} \operatorname{arctg}\left(\frac{t}{\sqrt{3}}\right). \end{aligned} \quad (3.23)$$

Teď již zbývá jenom dosadit do (3.23) vyjádření t přes x ze substituce (3.20) a přidat integrační konstantu:¹²

$$\int \frac{\sin x - 1}{\cos x + 2} dx = \ln \frac{\operatorname{tg}^2 \frac{x}{2} + 1}{\operatorname{tg}^2 \frac{x}{2} + 3} - \frac{2}{\sqrt{3}} \operatorname{arctg}\left(\frac{1}{\sqrt{3}} \operatorname{tg} \frac{x}{2}\right) + K. \quad (3.25)$$

Použití univerzální substituce (3.20) je zpravidla spojeno s pracnějším výpočtem a proto je vždy vhodné popřemýšlet, zda není možné integrál vypočítat snadněji. Často je užitečná následující poznámka: je-li integrál ve tvaru

$$\int R(\cos x, \sin x) dx,$$

kde R je racionální lomená funkce dvou argumentů mající jednu z vlastností

$$R(-u, v) = -R(u, v), \quad R(u, -v) = -R(u, v), \quad R(-u, -v) = R(u, v)$$

pro všechna (u, v) , pak lze použít jednu ze substitucí $t = \sin x$, $t = \cos x$ resp. $t = \operatorname{tg} x$.

Jestli např. $R(u, v) = u^2 v^3$, pak je R lichá podle v a tudíž použijeme $t = \cos x$:

$$\int \cos^2 x \sin^3 x dx = \int \cos^2 x \sin^2 x \sin x dx = - \int \cos^2 x (1 - \cos^2 x) d(\cos x)$$

atd.

§ 3.4.4. Některé integrály obsahující kvadratický polynom. Uvedme několik často se vyskytujících integrálů, kde v integrandu je přítomen kvadratický polynom. Některé z nich se obvykle uvádí v tabulkách integrálů (příklady 3.6, 3.7, 3.8).

¹²Často se stává, že výsledky integrace při použití poněkud odlišných úprav se zdánlivě liší. Např. všimneme-li si, že dle (3.20) $t^2 + 1 = \operatorname{tg}^2 \frac{x}{2} + 1 = \frac{1}{\cos^2 \frac{x}{2}}$, obdržíme

$$\ln \frac{\operatorname{tg}^2 \frac{x}{2} + 1}{\operatorname{tg}^2 \frac{x}{2} + 3} = \ln \frac{\frac{1}{\cos^2 \frac{x}{2}}}{\frac{1}{\cos^2 \frac{x}{2}} + 2} = \ln \frac{1}{1 + 2 \cos^2 \frac{x}{2}} = \ln 1 - \ln \left(1 + 2 \cos^2 \frac{x}{2}\right) = -\ln(\cos x + 2)$$

a proto lze (3.25) přepsat do tvaru

$$\int \frac{\sin x - 1}{\cos x + 2} dx = -\ln(\cos x + 2) - \frac{2}{\sqrt{3}} \operatorname{arctg}\left(\frac{1}{\sqrt{3}} \operatorname{tg} \frac{x}{2}\right) + K. \quad (3.24)$$

PŘÍKLAD 3.6. Mějme

$$\int \frac{dx}{\sqrt{x^2 - a^2}}.$$

kde $a > 0$. Definičním oborem integrandu je množina $\{x : |x| > a\}$.

Řešení 3.6.1. Funkce je sudá; uvažujme $x > a$. Vykonejme substituci $x = a \sec t$, kde $t \in (0, \frac{\pi}{2})$ (připomeňme, že $\sec t = \frac{1}{\cos t}$ a $0 < \cos x < 1$ pro $t \in (0, \frac{\pi}{2})$). Pak

$$\sqrt{x^2 - a^2} = \sqrt{a^2 \sec^2 t - a^2} = \sqrt{\frac{a^2}{\cos^2 t} - a^2} = a \sqrt{1 + \operatorname{tg}^2 t - 1} = a \operatorname{tg} t$$

(pro $t \in (0, \frac{\pi}{2})$ je $\operatorname{tg} t > 0$) a $dx = -\frac{a \sin t}{\cos^2 t} dt = \frac{a \operatorname{tg} t}{\cos t} dt$,

$$\int \frac{dx}{\sqrt{x^2 - a^2}} = \int \frac{1}{a \operatorname{tg} t} \frac{a \operatorname{tg} t}{\cos t} dt = \int \frac{dt}{\cos t}.$$

Jelikož $\operatorname{tg}^2 t + 1 = \frac{1}{\cos^2 t}$ a dle substituce $\frac{1}{\cos x} = \frac{x}{a}$, platí $\operatorname{tg} t = \sqrt{\frac{1}{\cos^2 t} - 1} = \frac{1}{a} \sqrt{x^2 - a^2}$. Pro $\int \frac{dt}{\cos t}$ využijme výsledek příkladu 3.12, řešení 3.12.1; pak obdržíme

$$\begin{aligned} \int \frac{dx}{\sqrt{x^2 - a^2}} &= \int \frac{dt}{\cos t} = \ln \left(\frac{1}{\cos t} + \operatorname{tg} t \right) + C \\ &= \ln \left(\frac{x}{a} + \frac{1}{a} \sqrt{x^2 - a^2} \right) + C = \ln(x + \sqrt{x^2 - a^2}) + K, \end{aligned}$$

kde K ($K = C - \ln a$) je libovolná konstanta. Tento vzorec jsme dokázali pro $x > a$.

Jelikož funkce v integrandu je sudá, pro $x < -a$ místo $F(x) = \ln(x + \sqrt{x^2 - a^2})$ její primitivní funkce bude¹³ $-F(-x) = -\ln(-x + \sqrt{x^2 - a^2})$. Úpravou obdržíme:

$$\begin{aligned} -F(-x) &= -\ln(-x + \sqrt{x^2 - a^2}) = \ln 1 - \ln(-x + \sqrt{x^2 - a^2}) \\ &= \ln \frac{1}{\sqrt{x^2 - a^2} - x} = \ln \frac{\sqrt{x^2 - a^2} + x}{x^2 - 1 - x^2} = \ln(-x - \sqrt{x^2 - a^2}) \end{aligned}$$

Sjednocením dvou posledních rovností obdržíme vzorec platný pro všechna x s $|x| > a$:

$$\int \frac{dx}{\sqrt{x^2 - a^2}} = \ln|x + \sqrt{x^2 - a^2}| + K.$$

¹³Zde využijeme takovou větu:

VĚTA. *Bud' te f sudá funkce a F její primitivní funkce na $[0, +\infty)$. Pak funkce $\tilde{F}(x) = -F(-x)$ je primitivní funkcí pro f na $(-\infty, 0]$.*

Vskutku pro $x \leq 0$ máme $\tilde{F}'(x) = -\frac{d}{dx} F(-x) = -F'(-x) = -f(-x) = f(x)$.

Řešení 3.6.2. Funkce v integrandu je sudá a tudíž se můžeme omezit případem, kdy x je kladné, tj. $x > a$. Vzhledem k vlastnostem hyperbolických funkcí¹⁴ (viz (3.26)) je zde vhodné provést substituci

$$x = a \cosh t, \quad (3.27)$$

pak $\sqrt{x^2 - a^2} = \sqrt{a^2 \cosh^2 t - a^2} = a\sqrt{\cosh^2 t - 1} = a\sqrt{\sinh^2 t} = a \sinh t$ a diferenciál bude $dx = a \sinh t dt$:

$$\int \frac{dx}{\sqrt{x^2 - a^2}} = \int \frac{1}{a \sinh t} a \sinh t dt = \int dt = t.$$

Zbývá tedy jen vykonat inverzní substituci a vrátit se k původní proměnné x .

Vztah $x = a \cosh t$ znamená (viz pozn. 14), že $x = \frac{a}{2}(e^t + e^{-t})$, tj. $e^{2t} - \frac{2x}{a}e^t + 1 = 0$, což je kvadratická rovnice $s^2 - \frac{2x}{a}s + 1 = 0$ pro $s = e^t$. Vyřešíme-li tuto rovnici, obdržíme $s = \frac{x}{a} \pm \frac{1}{a}\sqrt{x^2 - a^2}$, kde vezmeme znaménko „+“, protože $s = e^t$ a tudíž musí být $s > 0$ (navíc uvažujeme $x > a$). Jelikož $t = \ln x$, obdržíme

$$t = \ln \left(\frac{x}{a} + \frac{1}{a}\sqrt{x^2 - a^2} \right) = \ln(x + \sqrt{x^2 - a^2}) - \ln a$$

a proto

$$\int \frac{dx}{\sqrt{x^2 - a^2}} = \ln(x + \sqrt{x^2 - a^2}) + C. \quad (3.28)$$

PŘÍKLAD 3.7. Mějme

$$\int \frac{dx}{\sqrt{x^2 + a^2}}.$$

kde $a > 0$.

Připomeňme si vzorec $\operatorname{tg}^2 x + 1 = \frac{1}{\cos^2 t}$ a zaved'me substituci $x = a \operatorname{tg} t$, $t \in (-\frac{\pi}{2}, \frac{\pi}{2})$. Pak $\sqrt{x^2 + a^2} = \sqrt{a^2 \operatorname{tg}^2 t + a^2} = a\sqrt{\operatorname{tg}^2 t + 1} = \frac{a}{\cos t}$ a $dx = \frac{a}{\cos^2 t} dt$, odkud

$$\int \frac{dx}{\sqrt{x^2 + a^2}} = \int \frac{1}{\frac{a}{\cos t}} \frac{a}{\cos^2 t} dt = \int \frac{dt}{\cos t}.$$

Integrál $\int \frac{dt}{\cos t}$ lze vypočítat různými způsoby (§ 3.4.5, příklad 3.12). Zde je pohodlné využít řešení 3.12.3

$$\int \frac{dt}{\cos t} = \ln \left| \frac{1}{\cos t} + \operatorname{tg} t \right| + K = \ln \left| \sqrt{1 + \operatorname{tg}^2 t} + \operatorname{tg} t \right| + K$$

¹⁴Připomeňme, že hyperbolické kosinus a sinus (§ 1.1) se definují jako $\cosh x = \frac{1}{2}(e^x + e^{-x})$, $\sinh x = \frac{1}{2}(e^x - e^{-x})$ a platí $(\sinh x)' = \cosh x$, $(\cosh x)' = \sinh x$,

$$\cosh^2 x - \sinh^2 x = 1. \quad (3.26)$$

a tudíž

$$\begin{aligned} \int \frac{dx}{\sqrt{x^2 + a^2}} &= \ln \left| \sqrt{1 + \frac{x^2}{a^2}} + \frac{x}{a} \right| + K = \ln \left| \frac{x}{a} + \frac{1}{a} \sqrt{x^2 + a^2} \right| + K \\ &= \ln |x + \sqrt{x^2 + a^2}| + C, \end{aligned} \quad (3.29)$$

kde $C = K - \ln a$.

Z (3.28) a (3.29) obdržíme tabulkový integrál

$$\int \frac{dx}{\sqrt{x^2 \pm a^2}} = \ln(|x + \sqrt{x^2 \pm a^2}|) + C. \quad (3.30)$$

PŘÍKLAD 3.8. Mějme

$$\int \sqrt{x^2 - a^2} dx,$$

kde $a > 0$.

Použijme metodu *per partes* s $u(x) = \sqrt{x^2 - a^2}$, $v'(x) = 1$ a vzorec (3.30):

$$\begin{aligned} I(x) &:= \int \sqrt{x^2 - a^2} dx = x\sqrt{x^2 - a^2} - \int x \frac{x}{\sqrt{x^2 - a^2}} dx \\ &= x\sqrt{x^2 - a^2} - \int \frac{x^2 - a^2 + a^2}{\sqrt{x^2 - a^2}} dx \\ &= x\sqrt{x^2 - a^2} - \int \sqrt{x^2 - a^2} dx - a^2 \int \frac{1}{\sqrt{x^2 - a^2}} dx \\ &= x\sqrt{x^2 - a^2} - I(x) - \ln(|x + \sqrt{x^2 - a^2}|), \end{aligned}$$

odkud nalezneme $I(x)$ a obdržíme

$$\int \sqrt{x^2 - a^2} dx = \frac{1}{2}x\sqrt{x^2 - a^2} - \frac{1}{2} \ln(|x + \sqrt{x^2 - a^2}|) + C.$$

Velmi často je vhodné vyjádřit kvadratický polynom ve tvaru $(x - c)^2 \pm d^2$.

PŘÍKLAD 3.9. Uvažujme integrál

$$\int \sqrt{4x^2 - 4x - 7} dx.$$

Jelikož $4x^2 - 4x - 7 = (2x)^2 - 2 \cdot 2x \cdot 1 + 1 - 8 = (2x - 1)^2 - 8$, platí

$$\int \sqrt{4x^2 - 4x - 7} dx = \int \sqrt{(2x - 1)^2 - 8} dx = \frac{1}{2} \int \sqrt{(2x - 1)^2 - 8} d(2x - 1)$$

$$= \int \sqrt{(2x-1)^2 - (\sqrt{8})^2} dx,$$

odkud substitucí $2x - 1 = t$ obdržíme integrál tvaru $\int \sqrt{t^2 - a^2} dt$ (viz příklad 3.8).

PŘÍKLAD 3.10. Mějme integrál

$$\int \frac{dx}{\sqrt{3+2x-x^2}}. \quad (3.31)$$

Jelikož pro polynom ve jmenovateli platí vyjádření

$$\begin{aligned} 3 + 2x - x^2 &= -(x^2 - 2x - 3) = -(x^2 - 2 \cdot 1 \cdot x + 1 - 1 - 3) \\ &= -((x-1)^2 - 4) = 4 - (x-1)^2 \end{aligned} \quad (3.32)$$

obdržíme

$$\begin{aligned} \int \frac{dx}{\sqrt{3+2x-x^2}} &= \int \frac{dx}{\sqrt{4-(x-1)^2}} = \frac{1}{2} \int \frac{dx}{\sqrt{1-\frac{(x-1)^2}{4}}} \\ &= \int \frac{d\left(\frac{x-1}{2}\right)}{\sqrt{1-\left(\frac{x-1}{2}\right)^2}} = \arcsin\left(\frac{x-1}{2}\right) + C. \end{aligned}$$

PŘÍKLAD 3.11. Pro integrál

$$\int \frac{dx}{\sqrt{x^2-2x-3}},$$

jenž se liší od (3.31) pouze znaménkem polynomu, dle (3.32) obdržíme integrál typu (3.30):

$$\begin{aligned} \int \frac{dx}{\sqrt{x^2-2x-3}} &= \int \frac{dx}{\sqrt{(x-1)^2-4}} = \int \frac{d(x-1)}{\sqrt{(x-1)^2-4}} \\ &= \ln\left|x-1 + \sqrt{(x-1)^2-4}\right| + C \\ &= \ln\left|x-1 + \sqrt{x^2-2x-3}\right| + C. \end{aligned}$$

§ 3.4.5. Různé příklady.

PŘÍKLAD 3.12. Vypočtěme integrál

$$\int \frac{dx}{\cos x}.$$

Uved' me tři způsoby řešení (všimněme si různé tvary výsledků).

Řešení 3.12.1. Integrand je racionální funkcí výrazu $\cos x$ a tudíž lze využít obecnou trigonometrickou substituci $t = \operatorname{tg} \frac{x}{2}$ (§ 3.4.3). Dle vzorců (3.22) obdržíme

$$\int \frac{dx}{\cos x} = \int \frac{1+t^2}{1-t^2} \frac{2}{t^2+1} dt = 2 \int \frac{dt}{1-t^2}.$$

Integrál $\int \frac{dt}{1-t^2}$ byl vypočítán v příkladu 3.4, použijme proto již odvozený vzorec (3.19):

$$\begin{aligned} \int \frac{dx}{\cos x} &= 2 \frac{1}{2} \ln \left| \frac{t+1}{t-1} \right| + C = \ln \left| \frac{\operatorname{tg} \frac{x}{2} + 1}{\operatorname{tg} \frac{x}{2} - 1} \right| + C = \ln \left| \frac{\sin \frac{x}{2} + \cos \frac{x}{2}}{\sin \frac{x}{2} - \cos \frac{x}{2}} \right| + C \\ &= \ln \left| \frac{(\sin \frac{x}{2} + \cos \frac{x}{2})^2}{\sin^2 \frac{x}{2} - \cos^2 \frac{x}{2}} \right| + C = \ln \left| \frac{\sin^2 \frac{x}{2} + \cos^2 \frac{x}{2} + 2 \sin \frac{x}{2} \cos \frac{x}{2}}{\cos^2 \frac{x}{2} - \sin^2 \frac{x}{2}} \right| + C \\ &= \ln \left| \frac{1 + \sin x}{\cos x} \right| + C = \ln \left| \frac{1}{\cos x} + \operatorname{tg} x \right| + C. \end{aligned}$$

Řešení 3.12.2. Po vynásobení čitatele a jmenovatele členem $\cos x$ lze zavést substituci $s = \sin x$:

$$\int \frac{dx}{\cos x} = \int \frac{\cos x}{\cos^2 x} dx = \int \frac{\cos x}{1 - \sin^2 x} dx = \int \frac{d(\sin x)}{1 - \sin^2 x} = \int \frac{ds}{1 - s^2}.$$

Pro poslední integrál použijme (3.19):

$$\int \frac{dx}{\cos x} = \frac{1}{2} \ln |\sin x - 1| - \frac{1}{2} \ln |\sin x + 1| + C = \frac{1}{2} \ln \left| \frac{\sin x - 1}{\sin x + 1} \right| + C.$$

Řešení 3.12.3. Jiný způsob je založen na vzorcích $\left(\frac{1}{\cos x}\right)' = -\frac{-\sin x}{\cos^2 x} = \frac{\sin x}{\cos^2 x}$ a $(\operatorname{tg} x)' = \frac{1}{\cos^2 x}$:

$$\begin{aligned} \int \frac{dx}{\cos x} &= \int \frac{1}{\cos x} \frac{\frac{1}{\cos x} + \operatorname{tg} x}{\frac{1}{\cos x} + \operatorname{tg} x} dx = \int \frac{\frac{1}{\cos^2 x} + \frac{\sin x}{\cos^2 x}}{\frac{1}{\cos x} + \operatorname{tg} x} dx \\ &= \int \frac{d\left(\frac{1}{\cos x} + \operatorname{tg} x\right)}{\frac{1}{\cos x} + \operatorname{tg} x} = \ln \left| \frac{1}{\cos x} + \operatorname{tg} x \right| + C = \ln |\sec x + \operatorname{tg} x| + C. \end{aligned}$$

PŘÍKLAD 3.13. Vypočtěme integrály

$$I(x) = \int \sin(\ln x) dx, \quad J(x) = \int \cos(\ln x) dx.$$

Vzhledem k definičnímu oboru logaritmu má smysl integrály uvažovat pouze pro $x > 0$, což nadále předpokládáme.

Vykonejme substituci $\ln x = t$; pak $x = e^t$ (uvažujeme kladná x) a $dx = e^t dt$:

$$\int \sin(\ln x) dx = \int e^t \sin t dt, \quad \int \cos(\ln x) dx = \int e^t \cos t dt.$$

Použijeme-li teď výsledky příkladu 3.3, obdržíme

$$\begin{aligned} \int \sin(\ln x) dx &= \frac{1}{2} e^t (\sin t - \cos t) + C = \frac{x}{2} (\sin(\ln x) - \cos(\ln x)) + C, \\ \int \cos(\ln x) dx &= \frac{1}{2} e^t (\sin t + \cos t) + C = \frac{x}{2} (\sin(\ln x) + \cos(\ln x)) + C. \end{aligned}$$

KAPITOLA 4

Určitý integrál

OBSAH

4.1. Neurčitý integrál – opakování	29
4.2. Zavedení určitého integrálu	30
4.2.1. Plocha pod křivkou	30
4.2.2. Newton-Leibnizův vzorec	31
4.3. Vlastnosti určitého integrálu	32
4.4. Výpočet určitého integrálu	32
4.4.1. Metoda <i>per partes</i>	32
4.4.2. Substituce	34
4.5. Příklady výpočtu určitých integrálů	37
4.5.1. Racionální lomené funkce	37
4.5.2. Univerzální trigonometrická substituce	38
4.5.3. Různé příklady	41
4.6. Geometrické aplikace určitého integrálu	41
4.6.1. Plochy ohraničené křivkami	41
4.6.2. ...	50

Mějme reálnou funkci f jedné reálné proměnné definovanou na nějakém ohraničeném intervalu (a, b) . Dále předpokládáme, že je funkce f na (a, b) spojitá (nebo po částech spojitá¹). Pro takovouto funkci lze hovořit o jejím *integrálu neurčitém* a následně o *integrálu určitém*.

§ 4.1. Neurčitý integrál – opakování

Připomeňme si, že neurčitý integrál $\int f(x) dx$ vzniká jako odpověď na otázku jak vypadají všechny možné výrazy, které po zderivování vzhledem k proměnné x se promění na $f(x)$. Integrál $\int f(x) dx$ se definuje rovností

$$\int f(x) dx = F(x) + C,$$

¹Tím se myslí, že (a, b) lze vyjádřit jako sjednocení konečně mnoha intervalů, z nichž na každém je funkce spojitá.

kde F je primitivní funkce² k funkci f na intervalu (a, b) a C je libovolná konstanta, a se určuje vlastnostmi

$$\left(\int f(x) dx\right)' = f(x), \quad \left(\int F'(x) dx\right) = F(x) + C. \quad (4.1)$$

Pojem neurčitého integrálu se tedy zavádí jako *operace inverzní* k operaci výpočtu derivace.

§ 4.2. Zavedení určitého integrálu

Pojem *určitého integrálu* se zavádí buď s použitím integrálu neurčitého (tj. přes primitivní funkci) nebo přímo přes tzv. integrální součty. V posledním případě se jedná o způsob, jímž se obdrží vzorec pro výpočet plochy pod křivkou.³

§ 4.2.1. Plocha pod křivkou. Mějme funkci f nabývající na $[a, b]$ nezáporných hodnot.

Zašrafujeme-li geometrický útvar, jež ohraničují křivka s rovnicí $y = f(x)$, osa x a svislé přímky s rovnicemi $x = a$, $x = b$ (viz schematický obrázek 4.1a), *určitý integrál* funkce f na intervalu (a, b) (značí se $\int_a^b f(x) dx$) udává *velikost plochy* tohoto útvaru.

Myšlenka vedoucí na způsob výpočtu velikosti plochy pod libovolnou křivkou spočívá v její přibližném nahrazení jednodušším tvarem s lehce vypočitatelnou plochou, a sice sjednocením malých obdélníků.⁴

Rozdělme interval $[a, b]$ na menší intervaly $[x_0, x_1], [x_1, x_2], \dots, [x_{n-1}, x_n]$ zadáním $n - 1$ libovolných bodů x_1, x_2, \dots, x_{n-1} (definujeme také $x_0 = a, x_n = b$). Vezmeme-li v každém z intervalů $[x_i, x_{i+1}]$ libovolný bod ξ_i , u každého z těchto intervalů můžeme sestrojít obdélník šířky $x_{i+1} - x_i$ a výšky $f(\xi_i)$ (viz obrázek 4.1b). Pak hledanou plochu je přirozené přibližně nahradit součtem ploch zmíněných obdélníků, což je

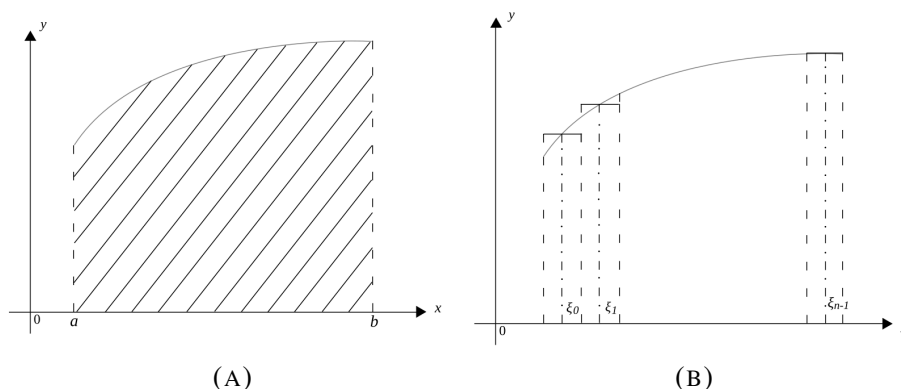
$$\sum_{i=0}^{n-1} f(\xi_i)(x_{i+1} - x_i).$$

Když je n velké (tj. zvolených bodů a odpovídajících subintervalů je hodně), všechny veličiny $x_{i+1} - x_i$ jsou malé a proto sestrojené obdélníky dostatečně dobře kopírují tvar původní plochy. Je logicky očekávat, že by se „kvalita“ aproximace měla zlepšovat při

²Jakákoliv primitivní funkce. Připomeňme si také, že primitivní funkce se určuje jednoznačně až na aditivní konstantu.

³Leibniz a Newton, XVII st. Přesná formulace vznikla v rámci Riemannova integrálu v XIX st. Současně se matematicky precizně vyjasní plochy jakých figur lze v rámci tohoto integrálu vypočítat (existují totiž „exotické“ případy, když určitý integrál neexistuje — podrobněji na toto téma zde hovořit nebudeme).

⁴Touto cestou vzniká definice toho, co je to plocha figury obecného tvaru.



OBRÁZEK 4.1. Plocha ohraničená křivkou s rovnicí $y = f(x)$, osou x a přímkami $x = a$, $x = b$.

zvětšení počtu subintervalů. *Určitým integrálem* $\int_a^b f(x) dx$ pak bude výsledek vhodným způsobem chápaného limitního přechodu při neustále zmenšujících se délkách subintervalů. Funkce, pro něž tato konstrukce neselhává, jsou integrovatelné (odpovídající plocha pod křivkou je vypočitatelná).

Neexistují např.:

$$\int_{-1}^1 \sqrt{x} dx, \int_{-\frac{1}{8}}^1 \ln x dx \text{ (funkce jsou definovány pouze pro kladná čísla);}$$

$\int_1^2 \operatorname{tg} x dx$ (interval $(1, 2)$ obsahuje bod $\frac{\pi}{2}$, v němž platí $\lim_{x \rightarrow \frac{\pi}{2}^-} \operatorname{tg} x = +\infty$ a $\lim_{x \rightarrow \frac{\pi}{2}^+} \operatorname{tg} x = -\infty$; lze ukázat, že tato nespojitost je neintegrovatelná a odpovídající plocha pod křivkou je nekonečná, viz příklad 5.4 a obrázek 5.2b).⁵

VĚTA. Pro každou funkci $f : [a, b] \rightarrow \mathbb{R}$, jež je na tomto intervalu spojitá nebo po částech spojitá, určitý integrál $\int_a^b f(x) dx$ existuje.

Pojem určitého integrálu se rozšiřuje se zachováním vlastností (§ 4.3) i na funkce střídající znaménko.

§ 4.2.2. Newton-Leibnizův vzorec. Pro výpočet určitého integrálu stačí umět nalézt k dané funkci *primitivní* funkci (tj. vypočítat odpovídající integrál neurčitý). Platí totiž tzv. *Newton-Leibnizův vzorec*⁶

$$\int_a^b f(x) dx = F(b) - F(a), \quad (4.2)$$

⁵Samotná nespojitost ještě neznamená, že integrál neexistuje; záleží také na její typu a rychlosti růstu nebo klesání. Např. $\lim_{x \rightarrow 0^+} \ln x = -\infty$, avšak $\int_0^1 \ln x dx = -1$ (viz obrázek 5.3b a příklad 5.5, p. 56); integrál tohoto typu se nazývá *nevlastní*.

⁶Vzorec (4.2) lze použít jako definici integrálu $\int_a^b f(x) dx$ spojitě funkce f .

kde F je primitivní funkce k funkci f na daném intervalu.

§ 4.3. Vlastnosti určitého integrálu

Vzhledem k Newton-Leibnizovu vzorci (4.2) a vlastnostem neurčitého integrálu pro libovolnou konstantu k platí

$$\int_a^b kf(x) dx = k \int_a^b f(x) dx,$$

$$\int_a^b (f(x) \pm g(x)) dx = \int_a^b f(x) dx \pm \int_a^b g(x) dx,$$

tj. konstantu lze vždy vytknout před znak integrálu a integrál součtu (rozdílu) dvou výrazů je součtem (rozdílem) příslušných integrálů. Toto jsou stejné vlastnosti linearit, jež má integrál neurčitý. Dále platí

$$\int_b^a f(x) dx = - \int_a^b f(x) dx. \quad (4.3)$$

Z (4.3) je zřejmé, že ve speciálním případě, když $a = b$ (tj. horní a dolní meze integrování se shodují), platí

$$\int_a^a f(x) dx = 0.$$

Nakonec, je-li c libovolný bod ležící mezi a a b , pak

$$\int_a^b f(x) dx = \int_a^c f(x) dx + \int_c^b f(x) dx. \quad (4.4)$$

Tato vlastnost se nazývá aditivita vzhledem k intervalu, neboť (4.4) znamená, že integrál funkce na sjednocení navzájem disjunktních⁷ intervalů je součtem integrálů z též funkce na jednotlivých intervalech. Je to vlastnost velmi přirozená vzhledem k tomu, že určitý integrál má význam plochy geometrického útvaru.

§ 4.4. Výpočet určitého integrálu

Základními nástroji jsou tzv. substituční metoda a metoda *per partes*.

§ 4.4.1. Metoda *per partes*. Metoda integrování *per partes* (tj. po částech) pro určitý integrál se formuluje téměř stejným způsobem jako v případě integrálu neurčitého.

Mějme dvě funkce u a v , pro něž lze vypočítat derivace. Pak $(uv)' = uv' + u'v$, odkud $uv' = (uv)' - vu'$ a proto

$$\int_a^b u(x)v'(x) dx = \int_a^b (u(x)v(x))' dx - \int_a^b v(x)u'(x) dx. \quad (4.5)$$

⁷Tj. takových, jejichž průnik je prázdný.

Funkcí primitivní k derivaci součinu $(uv)'$ je, samozřejmě, součin uv . Vzhledem k Newton-Leibnizovu vzorci (4.2) pro libovolnou funkci g se spojitou derivací platí

$$\int_a^b g'(x) dx = g(b) - g(a) \quad (4.6)$$

nebo, což je totéž,

$$\int_a^b dg(x) = g(b) - g(a). \quad (4.7)$$

Proto

$$\int_a^b (u(x)v(x))' dx = u(b)v(b) - u(a)v(a) \quad (4.8)$$

a z (4.5) obdržíme

$$\int_a^b u(x)v'(x) dx = u(b)v(b) - u(a)v(a) - \int_a^b v(x)u'(x) dx. \quad (4.9)$$

Metoda integrování *per partes* pro určitý integrál spočívá v užití vzorce (4.9), jenž se často zapisuje ve zkráceném tvaru

$$\int_a^b u(x)v'(x) dx = u(x)v(x)\Big|_a^b - \int_a^b v(x)u'(x) dx. \quad (4.10)$$

Tuto metodu je vhodné použít, jestliže bude integrál $\int v(x)u'(x) dx$ jednodušší než $\int u(x)v'(x) dx$ (tj. zderivování u při současném zintegrování v' zpět na v situaci zlepšuje).

Vzpomeneme-li si teď na pojem diferenciálu funkce,⁸ pro lepší zapamatování můžeme rovnost (4.10) zapisovat ve tvaru

$$\int_a^b u(x) dv(x) = u(x)v(x)\Big|_a^b - \int_a^b v(x) du(x). \quad (4.11)$$

PŘÍKLAD 4.1. Mějme např. $\int_0^{\frac{\pi}{2}} x \sin x dx$. Jelikož $(\cos x)' = -\sin x$, pak $\sin x = v'(x)$ pro $v(x) = -\cos x$. Vezmeme-li dále $u(x) = x$, platí $u'(x) = 1$ a podle vzorce (4.10) obdržíme

$$\begin{aligned} \int_0^{\pi} x \sin x dx &= - \int_0^{\pi} x (\cos x)' dx = (x \cos x)\Big|_0^{\pi} - \int_0^{\pi} 1 \cdot (-\cos x) dx \\ &= \pi \cos \pi - 0 \cos 0 + \int_0^{\pi} \cos x dx = -\pi + \int_0^{\pi} \cos x dx \end{aligned}$$

⁸Viz pozn. 10, str. 35

$$= -\pi + \int_0^\pi (\sin x)' dx = -\pi + \sin x \Big|_0^\pi = -\pi + \sin \pi - \sin 0 = -\pi.$$

PŘÍKLAD 4.2. Vypočtěme integrál

$$\int_{\frac{1}{2}}^1 \ln x dx.$$

Jelikož $(\ln x)' = 1/x$, je vhodné použít metodu *per partes*:

$$\begin{aligned} \int_{\frac{1}{2}}^1 \ln x dx &= \int_{\frac{1}{2}}^1 1 \cdot \ln x dx = \int_{\frac{1}{2}}^1 (x)' \ln x dx = x \ln x \Big|_{\frac{1}{2}}^1 - \int_{\frac{1}{2}}^1 x (\ln x)' dx \\ &= \ln 1 - \frac{1}{2} \ln \frac{1}{2} - \int_{\frac{1}{2}}^1 x \frac{1}{x} dx = -\frac{1}{2} \ln 1 + \frac{1}{2} \ln 2 = \frac{1}{2} (\ln 2 - 1). \end{aligned}$$

$$\begin{aligned} u(x) &= \ln x, & du(x) &= \frac{1}{x} dx & (4.12) \\ v(x) &= x \end{aligned}$$

Načrtneme-li graf funkce $x \mapsto \ln x$ na intervalu $(\frac{1}{2}, 1)$, můžeme odvodit, že nalezená hodnota integrálu (4.12) udává plochu rovinného útvaru z obr. 5.3a, str. 57.

§ 4.4.2. Substitute. *Substituční* metoda pro určitý integrál je založená na vzorci⁹

$$\int_a^b f(h(x)) dh(x) = F(h(b)) - F(h(a)),$$

kde F je primitivní funkce pro f , tj.

$$\int_a^b f(h(x))h'(x) dx = F(h(b)) - F(h(a)).$$

Výpočet se provádí substitucí $t = h(x)$, odkud $dt = h'(x) dx$ a pokud má integrand tvar $f(h(x))h'(x)$, pak lze x z výrazu úplně vyloučit a obdržíme integrál vzhledem k nové proměnné t . Tím pádem stačí odvodit neurčitý integrál z f a dosadit odpovídající (ztransformované) meze. *Tento poslední krok, jenž nemá obdobu pro integrál neurčitý, je velmi důležitý, jelikož nesprávné integrační meze způsobí chybu.*

VĚTA. *Má-li funkce h na (a, b) spojitou derivaci, pro každou spojitou funkci f platí*

$$\int_a^b f(h(x))h'(x) dx = \int_{h(a)}^{h(b)} f(t) dt. \quad (4.13)$$

Metodu substitute občas používáme v alternativní podobě, a sice tak, že se vzorec (4.13) přečte „opačným“ směrem.

⁹Tento vztah je přímým důsledkem metody substitute pro neurčitý integrál a Newton-Leibnizova vzorce (4.2). Metoda substitute pro neurčitý integrál je důsledkem pravidla derivování složené funkce.

VĚTA. Necht' $[\alpha, \beta]$ a $[a, b]$ jsou uzavřené intervaly a funkce $h : [\alpha, \beta] \rightarrow [a, b]$ je taková, že $h(\alpha) = a$, $h(\beta) = b$. Má-li funkce h na (α, β) spojitou derivaci, pak pro každou spojitou na $[a, b]$ funkci f platí

$$\int_a^b f(x) dx = \int_\alpha^\beta f(h(s))h'(s) ds. \quad (4.14)$$

V praxi výpočty provádíme nejčastěji tak, ze vzorec explicitně nevypisujeme a přecházíme přímo k zaměně proměnné. Přitom vykonáme následující kroky:

- (1) vyšetříme výraz pod integrálem a zkusíme nalézt vhodnou substituci;
- (2) zavedeme novou proměnnou, dosadíme do integrandu a vyloučíme proměnnou původní;
- (3) vypočítáme nové meze integrování.

PŘÍKLAD 4.3. Mějme integrál

$$\int_{-1}^3 \frac{x dx}{\sqrt{x+2}}.$$

Integrand obsahuje dva lineární členy: x a $x + 2$, oba dva mají stejný diferenciál.¹⁰ Proto zavedeme substituci $x + 2 = t$. Pak $x = t - 2$ a $dt = d(x + 2) = dx$. Jelikož se proměnná x mění v mezích od -1 k 3 , potom $t = x + 2$ se mění od $-1 + 2 = 1$ k $3 + 2 = 5$:

$$\begin{aligned} \int_{-1}^3 \frac{x dx}{\sqrt{x+2}} &= \int_1^5 \frac{(t-2) dt}{\sqrt{t}} = \int_1^5 \frac{t dt}{\sqrt{t}} - 2 \int_1^5 \frac{dt}{\sqrt{t}} = \int_1^5 t^{\frac{1}{2}} dt - 2 \int_1^5 t^{-\frac{1}{2}} dt \\ &= \left. \frac{t^{\frac{1}{2}+1}}{\frac{1}{2}+1} \right|_1^5 - 2 \left. \frac{t^{-\frac{1}{2}+1}}{-\frac{1}{2}+1} \right|_1^5 = \frac{5^{\frac{3}{2}} - 1}{\frac{3}{2}} - 2 \frac{5^{\frac{1}{2}} - 1}{\frac{1}{2}} = \frac{2}{3}(\sqrt{5})^3 - 4\sqrt{5} + \frac{10}{3}. \end{aligned}$$

Z vykonaných výpočtů můžeme odvodit, že by bylo lepší rovnou zavést substituci $\sqrt{x+2} = s$. Pak $x = s^2 - 2$ a proto $dx = 2s ds$.¹¹ Dále, jelikož $-1 \leq x \leq 3$, pak $1 \leq x + 2 \leq 5$ a vzhledem k monotonnosti funkce $x \mapsto \sqrt{x+2}$ platí $1 \leq \sqrt{x+2} \leq \sqrt{5}$.

¹⁰Zde využijeme pojmu diferenciálu funkce jedné proměnné. Diferenciálem funkce f v bodě x se nazývá výraz

$$df(x) = f'(x) dx, \quad (4.15)$$

kde „ $f'(x) dx$ “ tlumočíme jako „ $f'(x) \cdot dx$ “. Připomíná to také označení pro derivaci ve tvaru $f'(x) = \frac{df(x)}{dx}$, odkud obdržíme (4.15) formálním vynásobením výrazem dx (jemuž se říká diferenciál nezávisle proměnné). S diferenciály se pracuje stejně jako s odpovídajícími derivacemi.

¹¹Mohli bychom také odvodit $ds = d(\sqrt{x+2}) = \frac{1}{2\sqrt{x+2}} dx$, pak $dx = 2\sqrt{x+2} ds = 2s ds$.

Dosazením do integrálu obdržíme, samozřejmě, stejný výsledek:

$$\begin{aligned} \int_{-1}^3 \frac{x \, dx}{\sqrt{x+2}} &= \int_1^{\sqrt{5}} \frac{(s^2-2) \cdot 2s \, ds}{s} = 2 \int_1^{\sqrt{5}} (s^2-2) \, ds = 2 \int_1^{\sqrt{5}} s^2 \, ds - 4 \int_1^{\sqrt{5}} ds \\ &= 2 \frac{s^3}{3} \Big|_1^{\sqrt{5}} - 4(\sqrt{5}-1) = \frac{2}{3}(\sqrt{5})^3 - 4\sqrt{5} + \frac{10}{3}. \end{aligned}$$

PŘÍKLAD 4.4 (substituce a integrace *per partes*). Vypočtěme

$$\int_0^2 x^5 e^{x^3} \, dx.$$

Můžeme si všimnout, že platí $d(x^3) = 3x^2 \, dx$ a proto je přirozené zavést substituci

$$t = x^3. \quad (4.16)$$

Potom $dt = 3x^2 \, dx$ a tudíž $x^2 \, dx = \frac{1}{3} dt$. Dále, jelikož se x mění v mezích od 0 k 2, pak t podle (4.16) je v mezích 0 a $2^3 = 8$:

$$\int_0^2 x^5 e^{x^3} \, dx = \int_0^2 x^3 e^{x^3} \cdot x^2 \, dx = \int_0^2 x^3 e^{x^3} \cdot \frac{1}{3} d(x^3) = \frac{1}{3} \int_0^8 t e^t \, dt. \quad (4.17)$$

Pro $\int_0^8 t e^t \, dt$ použijeme metodu *per partes*:

$$\begin{aligned} \int_0^8 t e^t \, dt &= \int_0^8 t (e^t)' \, dt = (t e^t) \Big|_0^8 - \int_0^8 1 \cdot e^t \, dt \\ &= 2e^2 - 0e^0 - \int_0^8 e^t \, dt = 2e^2 - e^t \Big|_0^8 = 2e^2 - (e^8 - e^0) = 2e^2 - e^8 + 1. \end{aligned}$$

Dosazením tohoto výrazu do (4.17) obdržíme

$$\int_0^2 x^5 e^{x^3} \, dx = \frac{2e^2 - e^8 + 1}{3}.$$

PŘÍKLAD 4.5. Vypočtěme

$$\int_{-1}^2 x(2-x^2)^7 \, dx.$$

Jedná se, samozřejmě, o integraci polynomu stupně 15, s čímž po vykonání příslušných úprav žádné potíže nebudou. Pro usnadnění výpočtů si zde můžeme všimnout, že se ten nejsložitější výraz $(2-x^2)^7$ zjednoduší, zavedeme-li novou proměnnou $t = 2-x^2$. Pak bude $(2-x^2)^7 = t^7$ a $dt = -2x \, dx$. Navíc vzhledem k přítomnosti členu „ x “, jenž můžeme k diferenciálu přiřadit, není potřeba vypočítávat dx ($dx = -\frac{dt}{2x}$, $x^2 = 2-t$) a stačí použít vztah $x \, dx = -\frac{1}{2} dt$.

Vypočtěme nové meze integrování: $x = -1 \Rightarrow t = 2 - x^2 = 1$, $x = 2 \Rightarrow t = 2 - x^2 = 2 - 4 = -2$.¹² Pak obdržíme

$$\begin{aligned} \int_{-1}^2 x(2-x^2)^7 dx &= \int_{-1}^2 (2-x^2)^7 \cdot x dx = \int_1^{-2} t^7 \cdot \left(-\frac{1}{2} dt\right) = -\frac{1}{2} \int_1^{-2} t^7 dt \\ &= -\frac{1}{2} \frac{t^8}{8} \Big|_1^{-2} = -\frac{1}{16} ((-2)^8 - 1) = -\frac{255}{16}. \end{aligned}$$

§ 4.5. Příklady vypočtu určitých integrálů

Výpočet určitých integrálů provádíme pomocí Newton-Leibnizova vzorce (4.2). Je důležité předem ověřit vlastnosti integrandu a ujistit se, že určitý integrál na daném intervalu je korektně definován.

§ 4.5.1. Racionální lomené funkce. Pro integraci racionální lomené funkce vypočítáme její rozklad na součet parciálních zlomků, pro něž neurčité integrály buď známe nebo nalezneme v tabulkách.

PŘÍKLAD 4.6. Uvažujme integrál

$$\int_0^1 \frac{x^3 - 1}{x^3 + x^2 + 4x + 4} dx.$$

V integrandu je neryze lomená funkce, již převedeme na ryze lomenou funkci dělením polynomů. Rozklad na parciální zlomky pak bude

$$\frac{x^3 - 1}{x^3 + x^2 + 4x + 4} = 1 - \frac{2}{5} \frac{1}{x+1} - \frac{1}{5} \frac{3x+17}{x^2+4}.$$

Zde stačí okomentovat jen poslední člen, kde pro integraci rozložíme čitatel na součet dvou výrazů a v jednom z nich vydělíme v čitateli diferenciál jmenovatele $d(x^2 + 4) = 2x dx$.¹³

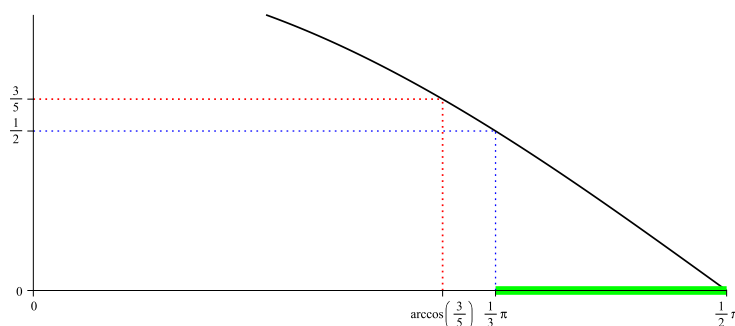
$$\begin{aligned} -\frac{1}{5} \int_0^1 \frac{3x+17}{x^2+4} dx &= -\frac{3}{5} \int_0^1 \frac{x}{x^2+4} dx - \frac{17}{5} \int_0^1 \frac{1}{x^2+4} dx \\ &= -\frac{3}{10} \int_0^1 \frac{d(x^2+4)}{x^2+4} dx - \frac{17}{10} \arctg \frac{x}{2}. \end{aligned}$$

Výpočtem pak obdržíme

$$\int_0^1 \frac{x^3 - 1}{x^3 + x^2 + 4x + 4} dx = 1 + \frac{1}{5} \ln 2 - \frac{3}{10} \ln 5 - \frac{17}{10} \arctan \frac{1}{2}.$$

¹²Nové meze integrování 1 a -2 vychází opačně uspořádané: dolní mez je větší než ta horní, $1 > -2$. Není to chyba; důvodem je, že na intervalu $(-1, 2)$ je funkce $x \mapsto 2 - x^2$ klesající.

¹³Takto integrujeme obecně výrazy typu $\frac{Ax+B}{ax^2+bx+c}$.

OBRÁZEK 4.2. Graf funkce $x \mapsto \cos x$ pro $\frac{\pi}{3} \leq x \leq \frac{\pi}{2}$.

§ 4.5.2. Univerzální trigonometrická substituce. Je-li integrand racionální funkci výrazů $\cos x$ a $\sin x$, je možné pro výpočet integrálu použít *univerzální trigonometrickou substituci*

$$t = \operatorname{tg} \frac{x}{2}. \quad (4.18)$$

Pak $x = 2 \operatorname{arctg} t$ a $dx = \frac{2}{t^2+1} dt$. Vzhledem k tomu, že platí

$$\cos x = \frac{\cos^2 \frac{x}{2} - \sin^2 \frac{x}{2}}{\cos^2 \frac{x}{2} + \sin^2 \frac{x}{2}} = \frac{1 - \operatorname{tg}^2 \frac{x}{2}}{1 + \operatorname{tg}^2 \frac{x}{2}}, \quad \sin x = \frac{2 \sin \frac{x}{2} \cos \frac{x}{2}}{\cos^2 \frac{x}{2} + \sin^2 \frac{x}{2}} = 2 \frac{\operatorname{tg} \frac{x}{2}}{1 + \operatorname{tg}^2 \frac{x}{2}},$$

integrál tak převedeme na integrál racionální lomené funkce, a to pomocí následujících vzorců.

Vzorce pro vykonání univerzální trigonometrické substituce $t = \operatorname{tg} \frac{x}{2}$:

$$\begin{aligned} \cos x &= \frac{1-t^2}{1+t^2}, & \sin x &= \frac{2t}{1+t^2}, & dx &= \frac{2 dt}{t^2+1}. \\ x = a &\Rightarrow t = \operatorname{tg} \frac{a}{2}, & x = b &\Rightarrow t = \operatorname{tg} \frac{b}{2}. \end{aligned} \quad (4.19)$$

PŘÍKLAD 4.7. Vypočtěme integrál

$$\int_{\frac{\pi}{3}}^{\frac{\pi}{2}} \frac{dx}{3-5 \cos x}. \quad (4.20)$$

Funkce $x \mapsto \frac{1}{3-5 \cos x}$ je spojitá v bodech $x \neq \arccos \frac{3}{5} + 2\pi n$, $n = 0, \pm 1, \dots$. Žádný z těchto bodů neleží v intervalu $[\frac{\pi}{3}, \frac{\pi}{2}]$ (viz obr. 4.2) a tak se jedná o integrál spojitě funkce, jenž je korektně definován.

Zavedeme-li v (4.20) trigonometrickou substituci (4.18), meze integrace pro novou proměnnou t budou $t = \operatorname{tg} \frac{1}{2} \frac{\pi}{3} = \operatorname{tg} \frac{\pi}{6} = \frac{1}{2} \left(\frac{\sqrt{3}}{2}\right)^{-1} = \frac{1}{\sqrt{3}}$ (místo $x = \frac{\pi}{3}$) a $t = \operatorname{tg} \frac{1}{2} \frac{\pi}{2} =$

$\operatorname{tg} \frac{\pi}{4} = 1$ (místo $x = \frac{\pi}{2}$). Pak dle (4.19) se integrál (4.20) přepíše takto:¹⁴

$$\begin{aligned}
 \int_{\frac{\pi}{3}}^{\frac{\pi}{2}} \frac{dx}{3 - 5 \cos x} &= \int_{\frac{1}{\sqrt{3}}}^1 \frac{1}{2 - \frac{1-t^2}{1+t^2}} \frac{2t}{t^2 + 1} dt = 2 \int_{\frac{1}{\sqrt{3}}}^1 \frac{1}{3(t^2 + 1) - 5(1 - t^2)} dt \\
 &= \int_{\frac{1}{\sqrt{3}}}^1 \frac{1}{4t^2 - 1} dt = \frac{1}{2} \int_{\frac{1}{\sqrt{3}}}^1 \frac{1}{2t - 1} dt - \frac{1}{2} \int_{\frac{1}{\sqrt{3}}}^1 \frac{1}{2t + 1} dt \\
 &= \frac{1}{4} \int_{\frac{1}{\sqrt{3}}}^1 \frac{d(2t - 1)}{2t - 1} - \frac{1}{4} \int_{\frac{1}{\sqrt{3}}}^1 \frac{d(2t + 1)}{2t + 1} \\
 &= \frac{1}{4} \ln |2t - 1| \Big|_{\frac{1}{\sqrt{3}}}^1 - \frac{1}{4} \ln |2t + 1| \Big|_{\frac{1}{\sqrt{3}}}^1 \tag{4.21} \\
 &= \frac{1}{4} \left(\ln 1 - \ln \left(\frac{2}{\sqrt{3}} - 1 \right) \right) - \frac{1}{4} \left(\ln 3 - \ln \left(\frac{2}{\sqrt{3}} + 1 \right) \right) \\
 &= \frac{1}{4} \ln \frac{2 + \sqrt{3}}{2 - \sqrt{3}} - \frac{\ln 3}{4}.
 \end{aligned}$$

Poznamenejme, že v (4.21) nebyla potřeba přepočítávat integrační meze, neboť při zavedení do diferenciálu jsme ponechali proměnnou t , jež se mění v původních mezích $\frac{1}{\sqrt{3}}$ a 1 (tj. substituce typu $s = 2t \pm 1$ jsme explicitně nevykonávali).

PŘÍKLAD 4.8. Vypočtěme

$$\int_{-\pi}^{\pi} \frac{\sin x - 1}{\cos x + 2} dx. \tag{4.22}$$

V příkladu 3.5 jsme pomocí trigonometrické substituce (4.18) odvodili neurčitý integrál $\int \frac{\sin x - 1}{\cos x + 2} dx$, pro nějž platí (3.24):

$$\int \frac{\sin x - 1}{\cos x + 2} dx = -\ln(\cos x + 2) - \frac{2}{\sqrt{3}} \operatorname{arctg} \left(\frac{1}{\sqrt{3}} \operatorname{tg} \frac{x}{2} \right) + C. \tag{4.23}$$

Jelikož $-1 \leq \cos x \leq 1$, jmenovatel v (4.22) je vždy odlišný od 0. Integrand je tedy spojitou funkcí na $[-\pi, \pi]$ a stačí jen použít Newton-Leibnizův vzorec (4.2), tj. dosadit do (4.23) integrační meze:¹⁵

$$\begin{aligned}
 \int_{-\pi}^{\pi} \frac{\sin x - 1}{\cos x + 2} dx &= -(\ln(\cos x + 2)) \Big|_{-\pi}^{\pi} - \frac{2}{\sqrt{3}} \operatorname{arctg} \left(\frac{1}{\sqrt{3}} \operatorname{tg} \frac{x}{2} \right) \Big|_{-\pi}^{\pi} \\
 &= -\frac{2}{\sqrt{3}} \operatorname{arctg} \left(\frac{1}{\sqrt{3}} \operatorname{tg} \frac{\pi}{2} \right) + \frac{2}{\sqrt{3}} \operatorname{arctg} \left(-\frac{1}{\sqrt{3}} \operatorname{tg} \frac{\pi}{2} \right)
 \end{aligned}$$

¹⁴Provedli jsme rozklad podílu $\frac{1}{4t^2-1}$ na součet parciálních zlomků (§ 4.5.1): $\frac{1}{4t^2-1} = \frac{1}{(2t-1)(2t+1)} = \frac{A}{2t-1} + \frac{B}{2t+1}$, kde pro všechna t musí platit $A(2t+1) + B(2t-1) = 1$. Pak $A+B=0$, $A-B=1$, tj. $A=\frac{1}{2}$, $B=-\frac{1}{2}$.

¹⁵Připomeňme si, že funkce $x \mapsto \operatorname{tg} x$ a $x \mapsto \operatorname{arctg} x$ jsou liché.

$$= -\frac{4}{\sqrt{3}} \operatorname{arctg} \left(\frac{1}{\sqrt{3}} \right) = -\frac{4}{\sqrt{3}} \frac{\pi}{6} = -\frac{2\pi\sqrt{3}}{3}.$$

PŘÍKLAD 4.9. Vypočtěme $\int_0^{\frac{\pi}{4}} \frac{dx}{\cos x}$ a $\int_{\frac{\pi}{6}}^{\frac{\pi}{3}} \frac{dx}{\sin x}$. Ihned poznamenejme, že $\cos x \neq 0$ pro $x \in [0, \frac{\pi}{4}]$ a $\sin x \neq 0$ pro $x \in [\frac{\pi}{6}, \frac{\pi}{3}]$, integrandy jsou tedy na příslušných intervalech spojité a integrály existují. Tyto integrály lze převést na integrály racionálních lomených funkcí obecnou trigonometrickou substitucí (4.18); v daném případě však je pohodlnější to udělat jinak.

4.9.1. V integrálu $\int \frac{dx}{\cos x}$ vykonáme substituci $\sin x = t$, pak $dt = \cos x dx$ a tudíž

$$\int \frac{dx}{\cos x} = \int \frac{\cos x dx}{\cos^2 x} = \int \frac{\cos x dx}{1 - \sin^2 x} = \int \frac{dt}{1 - t^2}.$$

Rozklad výrazu $\frac{1}{1-t^2}$ na parciální zlomky je $\frac{1}{1-t^2} = \frac{1}{2} \frac{1}{1+t} + \frac{1}{2} \frac{1}{1-t}$, proto¹⁶

$$\begin{aligned} \int \frac{dt}{1-t^2} &= \frac{1}{2} \int \frac{dt}{1+t} + \frac{1}{2} \int \frac{dt}{1-t} = \frac{1}{2} \int \frac{d(1+t)}{1+t} - \frac{1}{2} \int \frac{d(1-t)}{1-t} \\ &= \frac{1}{2} \ln |1+t| - \frac{1}{2} \ln |1-t| = \frac{1}{2} \ln \left| \frac{1+t}{1-t} \right|, \end{aligned}$$

odkud zpětným dosazením $t = \sin x$ obdržíme

$$\int \frac{dx}{\cos x} = \frac{1}{2} \ln \left| \frac{1 + \sin x}{1 - \sin x} \right| = \frac{1}{2} \ln \left(\frac{1 + \sin x}{1 - \sin x} \right) = \ln \sqrt{\frac{1 + \sin x}{1 - \sin x}} \quad (4.24)$$

a

$$\begin{aligned} \int_0^{\frac{\pi}{4}} \frac{dx}{\cos x} &= \ln \sqrt{\frac{1 + \sin x}{1 - \sin x}} \Big|_0^{\frac{\pi}{4}} = \ln \sqrt{\frac{1 + \sin \frac{\pi}{4}}{1 - \sin \frac{\pi}{4}}} - \ln \sqrt{\frac{1 + \sin 0}{1 - \sin 0}} \\ &= \ln \sqrt{\frac{1 + \frac{1}{\sqrt{2}}}{1 - \frac{1}{\sqrt{2}}}} - \ln 1 = \ln \sqrt{\frac{\sqrt{2} + 1}{\sqrt{2} - 1}} = \ln \sqrt{\frac{(\sqrt{2} + 1)^2}{2 - 1}} = \ln(\sqrt{2} + 1). \end{aligned}$$

4.9.2. Podobně předchozímu pro $t = \cos x$ máme $dt = -\sin x dx$,

$$\begin{aligned} \int \frac{dx}{\sin x} &= \int \frac{\sin x dx}{\sin^2 x} = \int \frac{\sin x dx}{1 - \cos^2 x} = - \int \frac{dt}{1 - t^2} \\ &= -\frac{1}{2} \ln \left| \frac{1+t}{1-t} \right| = \frac{1}{2} \ln \left| \frac{1-t}{1+t} \right| = \frac{1}{2} \ln \left| \frac{1 - \cos x}{1 + \cos x} \right| = \ln \sqrt{\frac{1 - \cos x}{1 + \cos x}} \end{aligned}$$

a

$$\int_{\frac{\pi}{6}}^{\frac{\pi}{3}} \frac{dx}{\sin x} = \ln \sqrt{\frac{1 - \cos x}{1 + \cos x}} \Big|_{\frac{\pi}{6}}^{\frac{\pi}{3}} = \ln \sqrt{\frac{1 - \cos \frac{\pi}{3}}{1 + \cos \frac{\pi}{3}}} - \ln \sqrt{\frac{1 - \cos \frac{\pi}{6}}{1 + \cos \frac{\pi}{6}}}$$

¹⁶Integrační konstanty pro přehlednost vynecháváme

$$\begin{aligned}
&= \ln \sqrt{\frac{1 - \frac{1}{2}}{1 + \frac{1}{2}}} - \ln \sqrt{\frac{1 - \frac{\sqrt{3}}{2}}{1 + \frac{\sqrt{3}}{2}}} = \ln \frac{1}{\sqrt{3}} - \ln \sqrt{\frac{\left(1 - \frac{\sqrt{3}}{2}\right)^2}{\frac{1}{4}}} \\
&= -\ln \sqrt{3} - \ln \frac{1 - \frac{\sqrt{3}}{2}}{\frac{1}{2}} = -\frac{1}{2} \ln 3 - \ln(2 - \sqrt{3}).
\end{aligned}$$

§ 4.5.3. Různé příklady.

PŘÍKLAD 4.10. Vypočtěme

$$\int_e^{e^2} (3 - \ln x)^2 dx.$$

Výraz $(3 - \ln x)^2$ se významně zjednoduší po zderivování a tudíž má smysl zkusit *per partes* (§ 4.4.1), kde za druhou funkci v součinu zvolíme konstantu 1:

$$\begin{aligned}
\int_e^{e^2} (3 - \ln x)^2 dx &= x(3 - \ln x)^2 \Big|_e^{e^2} - 2 \int_e^{e^2} \frac{\ln x - 3}{x} x dx \\
&= e^2 - 4e - 2 \int_e^{e^2} (\ln x - 3) dx \\
&= e^2 - 4e + 6(e^2 - e) - 2 \int_e^{e^2} \ln x dx \\
&= 7e^2 - 10e - 2x \ln x \Big|_e^{e^2} + 2 \int_e^{e^2} x \frac{1}{x} dx \\
&= 7e^2 - 10e - 4e^2 + 2e + 2(e^2 - e) = 5e^2 - 10e.
\end{aligned}$$

$$\begin{aligned}
u(x) &= (3 - \ln x)^2, & du(x) &= \frac{2}{x} (\ln x - 3) dx \\
dv(x) &= dx, & v(x) &= x
\end{aligned}$$

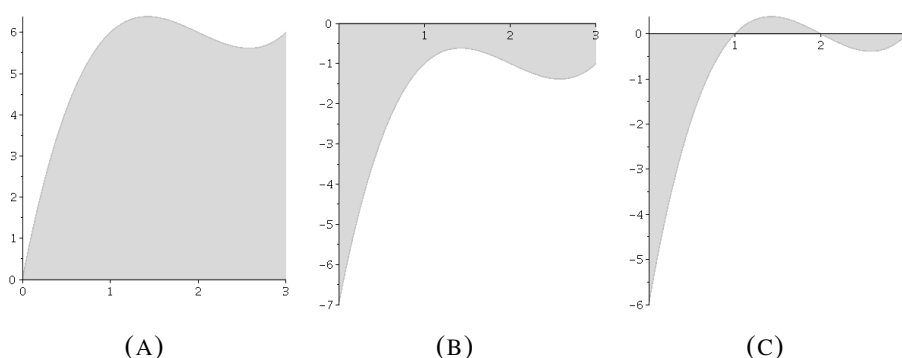
$$\begin{aligned}
u(x) &= \ln x, & du(x) &= \frac{dx}{x} \\
dv(x) &= dx, & v(x) &= x
\end{aligned}$$

§ 4.6. Geometrické aplikace určitého integrálu

§ 4.6.1. Plochy ohraničené křivkami. Mějme spojitou funkci $f : [a, b] \rightarrow \mathbb{R}$. Graf funkce představuje rovinnou křivku, s níž souvisí další geometrické útvary. Ve výpočtech se obvykle vyskytují útvary ležící mezi grafem a osou x a dále útvary ohraničené dvěma nebo více grafy.

§ 4.6.1.1. Plocha geometrického útvaru ležícího mezi grafem a osou x . Je-li potřeba určit plochu S rovinného útvaru ohraničeného grafem funkce f , osou x a svislými přímkami s rovnicemi $x = a$, $x = b$, jsou možné následující případy schematicky zobrazené na obrázcích 4.3a, 4.3b a 4.3c:

4.3a: funkce f je na $[a, b]$ nezáporná, její graf leží nad osou x , integrál je nezáporný a plocha uvažovaného útvaru je $S = \int_a^b f(x) dx$;

OBRÁZEK 4.3. Geometrické útvary ležící mezi grafem funkce a osou x

4.3b: funkce f je na $[a, b]$ nekladná, její graf leží pod osou x , integrál je nekladný a $S = -\int_a^b f(x) dx$;

4.3c: funkce f na $[a, b]$ střídá znaménko, proto plocha uvazovaného útvaru je rovna součtu integrálů z $|f|$ na jednotlivých intervalech, kde má f konstantní znaménko (je kladná nebo záporná).

Integrál funkce střídající znaménko může být jak kladným tak i záporným číslem (nemluvíme-li o nule). Odlišnosti v postupu v případech 4.3a, 4.3b, 4.3c přirozeně vznikají vzhledem k znaménku funkce na odpovídajících množinách. Např. v 4.3b je funkce na celém intervalu záporná a tudíž pro výpočet plochy pomocí integrálu musíme počítat integrál z absolutní hodnoty funkce.

PŘÍKLAD 4.11. Vypočtěme plochu S rovinného útvaru ohraničeného grafem funkce $f(x) = x^3 - 6x^2 + 11x$, osou x a přímkami $x = 0$, $x = 3$.

Graf této funkce je znázorněn na obrázku 4.3a. Funkce je na $[0, 3]$ nezáporná a tudíž

$$\begin{aligned} S &= \int_0^3 f(x) dx = \int_0^3 (x^3 - 6x^2 + 11x) dx \\ &= \int_0^3 x^3 dx - 6 \int_0^3 x^2 dx + 11 \int_0^3 x dx = \frac{3^4}{4} - 6 \frac{3^3}{3} + 11 \frac{3^2}{2} = \frac{63}{4}. \end{aligned} \quad (4.25)$$

PŘÍKLAD 4.12. Vypočtěme obsah plochy S rovinného útvaru ohraničeného grafem funkce $f(x) = x^3 - 6x^2 + 11x - 7$, osou x a přímkami $x = 0$, $x = 3$.

Graf této funkce je znázorněn na obrázku 4.3b. Funkce je na $[0, 3]$ nekladná a tudíž dle (4.25), kde jsme již vypočetli $\int_0^3 (x^3 - 6x^2 + 11x) dx$, platí

$$\begin{aligned} S &= -\int_0^3 f(x) dx = -\int_0^3 (x^3 - 6x^2 + 11x - 7) dx \\ &= -\int_0^3 (x^3 - 6x^2 + 11x) dx + 7 \int_0^3 dx = -\frac{63}{4} + 21 = \frac{21}{4}. \end{aligned}$$

PŘÍKLAD 4.13. Vypočtěme obsah plochy S útvaru ohraničeného grafem funkce $f(x) = x^3 - 6x^2 + 11x - 6$, osou x a přímkami $x = 0$, $x = 3$.

Graf této funkce je znázorněn na obrázku 4.3c. Funkce na $[0, 3]$ střídá znaménko v bodech 1, 2 a 3, přičemž 3 je již krajní bod intervalu. Funkce je kladná na intervalu $(1, 2)$ a záporná na $(0, 1)$ a $(2, 3)$, proto je plocha rovna

$$S = - \int_0^1 f(x) dx + \int_1^2 f(x) dx - \int_2^3 f(x) dx = \frac{11}{4}.$$

§ 4.6.1.2. *Plochy ohraničené dvěma grafy.* Určení plochy ohraničené dvěma grafy se provádí podobným způsobem jako v § 4.6.1.1. Máme-li dvě funkce f a g , pro něž platí¹⁷

$$f(x) \geq g(x), \quad x \in (\alpha, \beta), \quad (4.26)$$

a jejichž grafy se navzájem protínají pro $x = \alpha$ a $x = \beta$ tak, že v rovině vymezují jistou ohraničenou plochu, pak obsah plochy S jednoduše vypočteme přes určitý integrál. Vskutku je situace taková jako na schematickém obrázku 4.4a a je zřejmé, že obsah barevně zvýrazněné plochy je roven rozdílu obsahů dvou ploch, jež ohraničují grafy funkcí f a g spolu s osou x a přímkami $x = \alpha$, $x = \beta$. Dle § 4.6.1.1 obsahy těchto ploch udávají integrály $\int_\alpha^\beta f(s) dx$ a $\int_\alpha^\beta g(s) dx$, pak je

$$S = \int_\alpha^\beta f(x) dx - \int_\alpha^\beta g(x) dx, \quad (4.27)$$

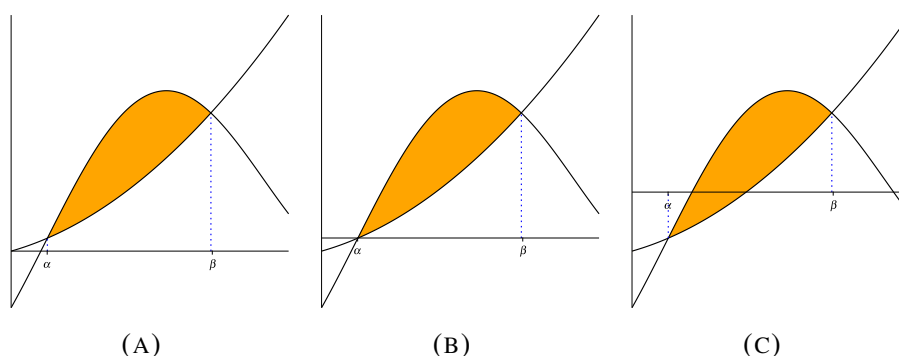
nebo, což je totéž, $S = \int_\alpha^\beta (f(x) - g(x)) dx$. Integrál od funkce s „horním“ grafem se v (4.27) vyskytuje se znaménkem „+“ a ten odpovídající „dolnímu“ grafu — se znaménkem „-“.

Poznamenejme, pro výpočet obsahu plochy pomocí vzorce (4.27) není nutné, aby obě dvě funkce nabývaly na (α, β) kladných hodnot (viz obrázky 4.4a, 4.4b), neboť v případě když tomu tak není (obrázek 4.4c) vždy můžeme grafy posunout nahoru přidáním k funkcím f , g nějakého dostatečně velkého čísla A , což situaci převede na případ 4.4a nebo 4.4b. Rozdíl funkcí, a tudíž i obsah plochy se přitom nezmění, protože $(f + A) - (g + A) = f - g$.

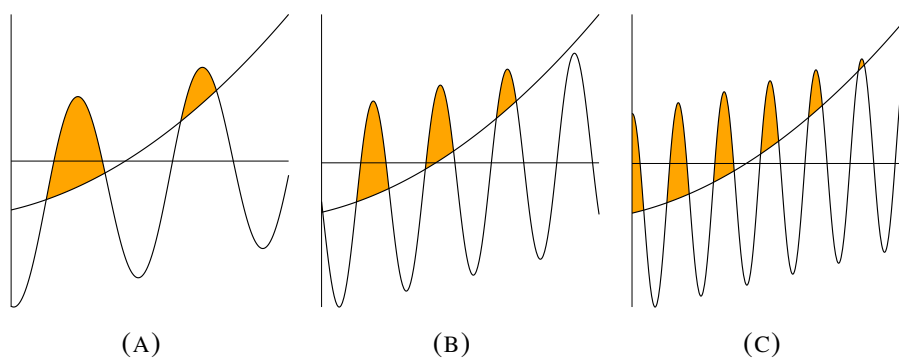
V případě když se grafy protínají tak, že vzniká uzavřený rovinný útvar sestavený z několika částí (obrázek 4.5), obsah jeho plochy bude součtem ploch jednotlivých útvarů vypočtených podle výše uvedeného.

V případě, když se křivky *protínají ve více bodech* a tudíž máme ne jeden interval (α, β) ale několik, je potřeba si dávat pozor na uspořádání grafů (tj. na nerovnost (4.26)). Muže se totiž stát, že po průsečíku už bude původně „horní“ graf niž. V takových případech počítáme integrály zvlášť na každém z intervalů (α, β) odpovídajících průsečíkům grafů, přičemž (4.27) používáme tak, aby se znaménkem „+“ byl vždy integrál z funkce, jež na (α, β) odpovídá „hornímu“ grafu.

¹⁷Takové funkce se nazývají dobře uspořádané na daném intervalu.



OBRÁZEK 4.4. Rovinná plocha ležící mezi grafy dvou funkcí: posun grafů ve svislém směru obsah plochy nemění



OBRÁZEK 4.5. Plocha mezi grafy dvou funkcí sestavená více útvary

PŘÍKLAD 4.14. Vypočtěme plochu S uzavřeného rovinného útvaru ohraničeného grafy funkcí $f(x) = \cos x$, $g(x) = \sin x$ v intervalu $(0, 2\pi)$.

Načrtněme grafy (viz obrázek 4.6a). Potřebný geometrický útvar (na obrázku 4.6a barevně zvýrazněný) je určen dvěma body, v nichž se grafy protínají, a ty jsou kořeny rovnice

$$\sin x = \cos x \quad (4.28)$$

v intervalu $(0, 2\pi)$. V intervalu $(0, 2\pi)$ (4.28) platí pro body $\frac{\pi}{4}$ a $\frac{\pi}{4} + \pi = \frac{5\pi}{4}$.

Znáznorněme si graficky plochy ohraničené grafy funkcí $f(x) = \cos x$, $g(x) = \sin x$, osou x a svislými přímkami $x = \frac{\pi}{4}$, $x = \frac{5\pi}{4}$ (obrázek 4.6a). Všude na intervalu $(\frac{\pi}{4}, \frac{5\pi}{4})$ leží graf sinu nad grafem kosinu, tj. $\sin x > \cos x$ pro $x \in (\frac{\pi}{4}, \frac{5\pi}{4})$. Velikost plochy S je tedy podle § 4.6.1.1 rovna rozdílu integrálů $\int_{\frac{\pi}{4}}^{\frac{5\pi}{4}} \sin x \, dx$ a $\int_{\frac{\pi}{4}}^{\frac{5\pi}{4}} \cos x \, dx$:

$$S = \int_{\frac{\pi}{4}}^{\frac{5\pi}{4}} \sin x \, dx - \int_{\frac{\pi}{4}}^{\frac{5\pi}{4}} \cos x \, dx. \quad (4.29)$$

Jelikož

$$\begin{aligned}\int_{\frac{\pi}{4}}^{\frac{5\pi}{4}} \sin x \, dx &= -\int_{\frac{\pi}{4}}^{\frac{5\pi}{4}} d(\cos x) = -\cos x \Big|_{\frac{\pi}{4}}^{\frac{5\pi}{4}} = \cos \frac{\pi}{4} - \cos \frac{5\pi}{4} \\ &= \frac{1}{\sqrt{2}} - \left(-\frac{1}{\sqrt{2}}\right) = \sqrt{2}, \\ \int_{\frac{\pi}{4}}^{\frac{5\pi}{4}} \cos x \, dx &= \int_{\frac{\pi}{4}}^{\frac{5\pi}{4}} d(\sin x) = \sin x \Big|_{\frac{\pi}{4}}^{\frac{5\pi}{4}} = \sin \frac{5\pi}{4} - \sin \frac{\pi}{4} = -\frac{1}{\sqrt{2}} - \frac{1}{\sqrt{2}} = -\sqrt{2},\end{aligned}$$

z (4.29) obdržíme výsledek $S = \sqrt{2} - (-\sqrt{2}) = 2\sqrt{2}$.

Všimněme si, že druhý integrál v (4.29) vychází *záporný*: $\int_{\frac{\pi}{4}}^{\frac{5\pi}{4}} \cos x \, dx = -\sqrt{2}$. Ten však sám o sobě žádnou plochu neudává; obsah dané plochy je roven *rozdílu* dvou integrálů a tudíž je to logicky v pořádku. Zde je situace typu znázorněného na obrázku 4.3c, kde uvažovaná plocha protíná osu x a proto jistá její část leží pod osou a odpovídá záporným funkčním hodnotám. Jak již bylo zmíněno, přičtením vhodné konstanty takový případ můžeme vždy převést na 4.3a nebo 4.3b (stačí jen o tom vědět; pokaždé vykonávat takový posun, samozřejmě, nemusíme). Pro tento příklad je zřejmé, že, definujeme-li

$$\tilde{f}(x) = \cos x + 1, \quad \tilde{g}(x) = \sin x + 1,$$

pak jsou funkce \tilde{f} a \tilde{g} na intervalu $[\frac{\pi}{4}, \frac{5\pi}{4}]$ nezáporné (viz obrázek 4.6b) a ohraničují plochu téhož obsahu, neboť $\tilde{g} - \tilde{f} = f - g$ a proto $\int_{\frac{\pi}{4}}^{\frac{5\pi}{4}} \tilde{g}(x) \, dx - \int_{\frac{\pi}{4}}^{\frac{5\pi}{4}} \tilde{f}(x) \, dx = S$.

PŘÍKLAD 4.15. Vypočtěme plochu S uzavřeného geometrického útvaru ohraničeného grafy funkcí $f(x) = (x-1)^2$, $g(x) = \frac{x}{2} + 1$ v intervalu $(-1, 3)$.

Po načrtnutí schematického grafu (viz obrázek 4.7) zjistíme, že se potřebný útvar určuje kořeny rovnice

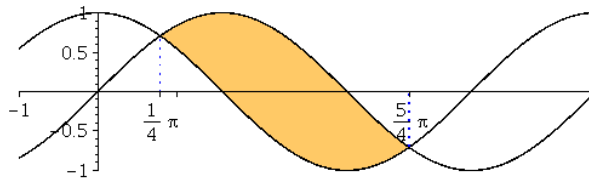
$$(x-1)^2 = \frac{x}{2} + 1 \tag{4.30}$$

nebo, což je totéž,

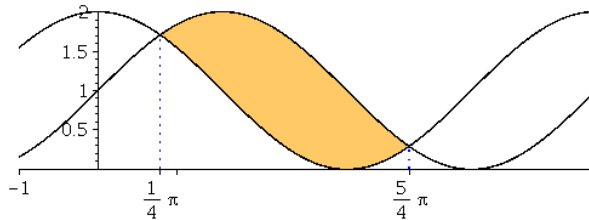
$$x^2 - \frac{5}{2}x = 0. \tag{4.31}$$

Kořeny rovnice (4.31) jsou 0 a $\frac{5}{2}$. V intervalu $(0, \frac{5}{2})$ leží graf funkce g nad grafem funkce f . Proto plocha rovinného útvaru jimi ohraničeného je rovna

$$\begin{aligned}\int_0^{\frac{5}{2}} \left(\frac{x}{2} + 1\right) dx - \int_0^{\frac{5}{2}} (x-1)^2 dx &= \frac{1}{2} \int_0^{\frac{5}{2}} x \, dx + \int_0^{\frac{5}{2}} dx - \int_0^{\frac{5}{2}} (x-1)^2 d(x-1) \\ &= \frac{1}{2} x^2 \Big|_0^{\frac{5}{2}} + \frac{5}{2} - \frac{(x-1)^3}{3} \Big|_0^{\frac{5}{2}} = \frac{65}{16} - \frac{35}{24} = \frac{125}{48}.\end{aligned}$$

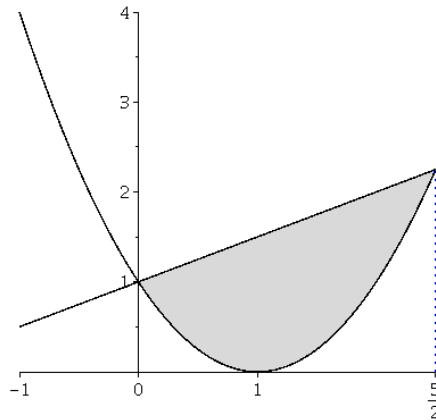


(A) $f(x) = \cos x, g(x) = \sin x$

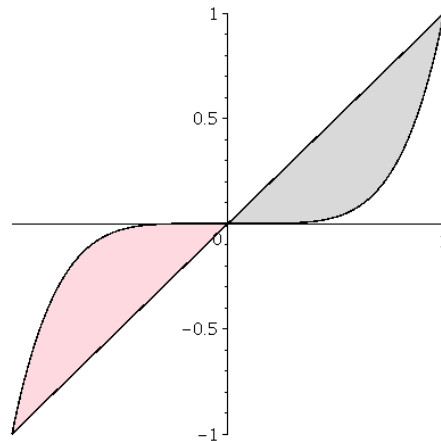


(B) $\tilde{f}(x) = \cos x + 1, \tilde{g}(x) = \sin x + 1$

OBRÁZEK 4.6. Grafy funkcí z příkladu 4.14 v intervalu $(0, 2\pi)$: posun útvaru ve svislém směru



OBRÁZEK 4.7. Grafy funkcí $f(x) = (x - 1)^2, g(x) = \frac{x}{2} + 1$ a jimi ohraničená plocha

OBRÁZEK 4.8. Plocha ohraničená grafy funkcí $f(x) = x^5$ a $g(x) = x$

PŘÍKLAD 4.16. Vypočtěme plochu S rovinného útvaru ohraničeného grafy funkcí $f(x) = x^5$, $g(x) = x$.

Grafy funkcí se protínají v bodech $[-1, -1]$, $[0, 0]$ a $[1, 1]$, přičemž v bodě $[0, 0]$ se mění znaménko rozdílu $f - g$ a proto vpravo od 0 leží graf f pod grafem g („šedá“ plocha), kdežto vlevo od 0 je tomu naopak („červená“ plocha)). Proto je plocha rovna

$$\begin{aligned} S &= - \int_{-1}^0 (g(x) - f(x)) dx + \int_0^1 (g(x) - f(x)) dx \\ &= - \int_{-1}^0 (x - x^5) dx + \int_0^1 (x - x^5) dx = - \left(\frac{x^2}{2} - \frac{x^6}{6} \right) \Big|_{-1}^0 + \left(\frac{x^2}{2} - \frac{x^6}{6} \right) \Big|_0^1 \\ &= \frac{1}{3} + \frac{1}{3} = \frac{2}{3}. \end{aligned}$$

Zde bychom si mohli také všimnout, že obě dvě funkce f a g jsou liché; pak je ihned zřejmé, že je $S = 2 \int_0^1 (g(x) - f(x)) dx$.

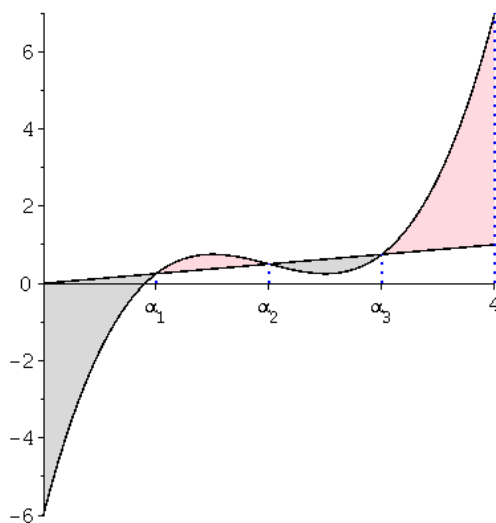
Poznamenejme, že kdybychom zde pro výpočet obsahu plochy nesprávně použili vzorec (4.27) s jedním integrálem v mezích $\alpha = -1$ a $\beta = 1$, obdrželi bychom absurdní výsledek $S = \int_{-1}^1 (f(x) - g(x)) dx = \int_{-1}^1 (x^5 - x) dx = 0$.

Postupujeme stejným způsobem i v případech, když se grafy křivek protínají ve více bodech a změna uspořádaní větví grafů nastává několikrát.

PŘÍKLAD 4.17. Vypočtěme plochu S rovinného útvaru ohraničeného grafy funkcí $f(x) = x^3 - 6x^2 + \frac{45}{4}x - 6$ a $g(x) = \frac{x}{4}$ v intervalu $(0, 4)$.

Je potřeba určit průsečíky grafů těchto funkcí; ty jsou kořeny rovnice

$$x^3 - 6x^2 + \frac{45}{4}x - 6 = \frac{x}{4}. \quad (4.32)$$



OBRÁZEK 4.9. Plocha ohraničená grafy funkcí $f(x) = x^3 - 6x^2 + \frac{45}{4}x - 6$ a $g(x) = \frac{x}{4}$ v intervalu $(0, 4)$

Rovnici (4.32) úpravami převedeme na tvar

$$x^3 - 6x^2 + 11x - 6 = 0. \quad (4.33)$$

Polynom v (4.33) má celé koeficienty. Použitím Hornerova schematu nalezneme kořeny rovnice (4.33); ty jsou 1, 2 a 3.

Průsečíky grafu funkcí f a g v intervalu $(0, 4)$ se tedy nachází v bodech, jejichž souřadnice na ose x jsou

$$\alpha_1 = 1, \quad \alpha_2 = 2, \quad \alpha_3 = 3.$$

Grafy jsou znázorněné na obrázku 4.9.

Potřebná plocha se skládá z několika částí zabarvených šedě a červeně, přičemž v „šedých“ částech (intervaly $(0, \alpha_1)$ a (α_2, α_3)) leží graf přímky g nad grafem funkce f a v „červených“ částech (intervaly (α_1, α_2) a $(\alpha_3, 4)$) je tomu naopak. Proto v daném případě pro určení obsahu plochy je potřeba sečíst integrály z funkce $g - f$ na intervalech $(0, \alpha_1)$, (α_2, α_3) a integrály z funkce $f - g$ na (α_1, α_2) a $(\alpha_3, 4)$:

$$S = \int_0^{\alpha_1} (g(x) - f(x)) dx + \int_{\alpha_2}^{\alpha_3} (g(x) - f(x)) dx + \int_{\alpha_1}^{\alpha_2} (f(x) - g(x)) dx + \int_{\alpha_3}^4 (f(x) - g(x)) dx. \quad (4.34)$$

Jelikož se v integrálech čtyřikrát vyskytuje stejný výraz, je vhodné vypočítat neurčitý integrál

$$\int (f(x) - g(x)) dx = \int \left(x^3 - 6x^2 + \frac{45}{4}x - 6 - \frac{x}{4} \right) dx$$

$$= \int (x^3 - 6x^2 + 11x - 6) dx = \frac{x^4}{4} - \frac{12x^3}{3} + \frac{11x^2}{2} - 6x$$

a následně dosadit odpovídající meze:

$$\begin{aligned} \int_0^{\alpha_1} (g(x) - f(x)) dx &= - \int_0^{\alpha_1} (f(x) - g(x)) dx \\ &= - \left(\frac{x^4}{4} - \frac{12x^3}{3} + \frac{11x^2}{2} - 6x \right) \Big|_0^1 \\ &= -\frac{1}{4} + \frac{12}{3} - \frac{11}{2} + 6 = \frac{9}{4}, \\ \int_{\alpha_2}^{\alpha_3} (g(x) - f(x)) dx &= - \left(\frac{x^4}{4} - \frac{12x^3}{3} + \frac{11x^2}{2} - 6x \right) \Big|_2^3 = \frac{1}{4}, \\ \int_{\alpha_1}^{\alpha_2} (f(x) - g(x)) dx &= \left(\frac{x^4}{4} - \frac{12x^3}{3} + \frac{11x^2}{2} - 6x \right) \Big|_1^2 = \frac{1}{4}, \\ \int_{\alpha_3}^4 (f(x) - g(x)) dx &= \left(\frac{x^4}{4} - \frac{12x^3}{3} + \frac{11x^2}{2} - 6x \right) \Big|_3^4 = \frac{1}{4} - \frac{12}{3} + \frac{11}{2} - 6 = \frac{9}{4}, \end{aligned}$$

a z (4.34) obdržíme

$$S = \frac{9}{4} + \frac{1}{4} + \frac{1}{4} + \frac{9}{4} = 2 \cdot \frac{10}{4} = 5.$$

PŘÍKLAD 4.18 (parametricky zadaná křivka). Vypočtěme plochu ohraničenou elipsou s poloosami a a b .

Rovnice takové elipsy je

$$\left(\frac{x}{a}\right)^2 + \left(\frac{y}{b}\right)^2 = 1, \quad (4.35)$$

pro daný účel je však pohodlnější její parametrické zadání:

$$x = a \cos t, \quad y = b \sin t, \quad (4.36)$$

kde $0 \leq t \leq 2\pi$. Z obr. 4.10a je zřejmé, že vzhledem k souměrnosti je hledaná plocha S rovna $4S_0$, kde S_0 značí plochu sektoru ležícího v prvním kvadrantu. Pro S_0 platí

$$S_0 = \int_0^a y dx, \quad (4.37)$$

kde y značí odpovídající funkci proměnné x , jež tento úsek grafu popisuje (tj. y jako funkci nezávisle proměnné x). Abychom nemuseli vyjádření této funkce explicitně zapisovat, použijme raději parametrické rovnice (4.36); pak v integrandu vyhází $y dx = -b \sin t d(a \cos t) = -ab \sin^2 t dt$. Přepočítejme integrační meze: pro $x = 0$ obdržíme

$\cos t = 0$, $t = \frac{\pi}{2}$; pro $x = a$ je $\cos t = 1$, tj. $t = 0$. Pak obdržíme¹⁸

$$\begin{aligned} S_0 &= \int_0^a y \, dx = - \int_{\frac{\pi}{2}}^0 b \sin t \, d(a \cos t) = -ab \int_{\frac{\pi}{2}}^0 \sin^2 t \, dt = ab \int_0^{\frac{\pi}{2}} \sin^2 t \, dt \\ &= \frac{1}{2} ab \int_0^{\frac{\pi}{2}} (1 - \cos 2t) \, dt = \frac{1}{4} \pi ab - \frac{1}{2} \int_0^{\frac{\pi}{2}} \cos 2t \, dt = \frac{1}{2} ab - \frac{1}{4} \int_0^{\frac{\pi}{2}} d(\sin 2t) \\ &= \frac{1}{4} \pi ab, \end{aligned}$$

odkud $S = 4S_0 = \pi ab$.

Poznamenejme, že v případě bezprostředního využití vzorce (4.37) bychom museli z rovnice (4.35) vyjádřit

$$y = \pm b \sqrt{1 - \frac{x^2}{a^2}},$$

což by vedlo na integrál

$$S_0 = b \int_0^a \sqrt{1 - \frac{x^2}{a^2}} \, dx = ab \int_0^1 \sqrt{1 - s^2} \, ds.$$

Zavedeme-li substituci $s = \sin \phi$, máme $ds = \cos \phi \, d\phi$, pro $s = 0$ je $t = 0$, pro $s = 1$ je $t = \frac{\pi}{2}$ a

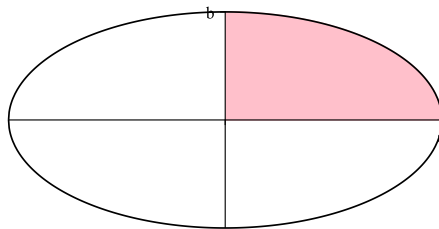
$$\begin{aligned} ab \int_0^1 \sqrt{1 - s^2} \, ds &= ab \int_0^{\frac{\pi}{2}} \sqrt{1 - \sin^2 \phi} \cos \phi \, d\phi = ab \int_0^{\frac{\pi}{2}} \cos^2 \phi \, d\phi \\ &= \frac{1}{2} ab \int_0^{\frac{\pi}{2}} (1 + \cos 2\phi) \, d\phi = \frac{1}{4} \pi ab + \frac{1}{2} ab \int_0^{\frac{\pi}{2}} \cos 2\phi \, d\phi \\ &= \frac{1}{4} \pi ab, \end{aligned}$$

odkud obdržíme stejný výsledek¹⁹ $S = \pi ab$.

§ 4.6.2. ... [...]

¹⁸Použijeme vzorec $\sin^2 x = \frac{1}{2}(1 - \cos 2x)$.

¹⁹Poznamenejme, že pro $b = a$ obdržíme πa^2 , tj. plochu kruhu o poloměru a .



(A)

OBRAZEK 4.10. Příklady rovinných ploch

KAPITOLA 5

Nevlastní integrály

Existence určitého integrálu a jeho hodnota podstatně závisí na vlastnostech funkce na daném intervalu. Může se stát, že primitivní funkci známe, avšak určitý integrál na daném intervalu je nekonečný nebo vůbec neexistuje. Takové případy vyžadují upřesnění pojmu integrálu a úpravu technik práce s ním.

§ 5.1. Motivace

Uved' me několik motivačních příkladů.

PŘÍKLAD 5.1. Vypočtěme integrál

$$\int_1^2 \frac{dx}{x^3}.$$

Jelikož příslušný neurčitý integrál je

$$\int \frac{dx}{x^3} = \int x^{-3} dx = -\frac{1}{2}x^{-2} + C, \quad (5.1)$$

využitím Newton-Leibnizova vzorce (4.2) snadno obdržíme

$$\int_1^2 \frac{dx}{x^3} = -\frac{1}{2x^2} \Big|_1^2 = -\frac{1}{2} \left(\frac{1}{4} - 1 \right) = \frac{3}{8}.$$

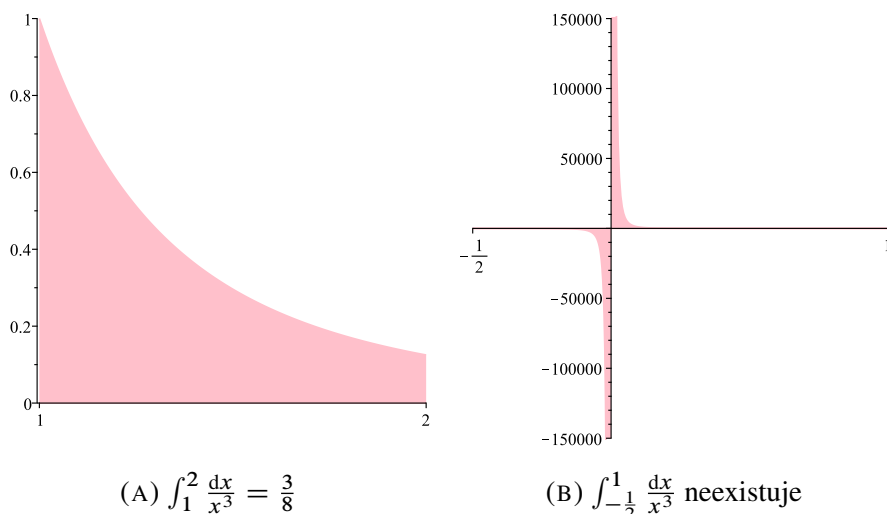
Obsah plochy znázorněné na obr. 5.1a je tedy rovní $\frac{3}{8}$.

PŘÍKLAD 5.2 (integrál neexistuje). Uvažujme integrál

$$\int_{-1}^1 \frac{dx}{x^3}.$$

Dosadíme-li výraz (5.1) do Newton-Leibnizova vzorce (4.2), obdržíme $\int_{-1}^1 \frac{dx}{x^3} = -\frac{1}{2x^2} \Big|_{-1}^1 = -\frac{1}{2}(1 - 1) = 0$. Tento výsledek je však *chybný*, protože interval $(-1, 1)$ obsahuje bod 0, v němž má funkce singularitu (mimo jiné, je narušena její spojitost) a nebyli jsme oprávněni Newton-Leibnizův vzorec použít.

Tento integrál neexistuje a odpovídající geometrický útvar obsah nemá. Vskutku, pro libovolná kladná ε_1 a ε_2 platí $\int_{-1}^{-\varepsilon_1} \frac{dx}{x^3} = -\frac{1}{2x^2} \Big|_{-1}^{-\varepsilon_1} = \frac{1}{2} \left(1 - \frac{1}{\varepsilon_1^2} \right)$ a $\int_{\varepsilon_2}^1 \frac{dx}{x^3} =$

OBRÁZEK 5.1. Integrál z $\frac{1}{x^3}$ na různých intervalech

$-\frac{1}{2x^2} \Big|_{\varepsilon_2}^1 = \frac{1}{2} \left(\frac{1}{\varepsilon_2^2} - 1 \right)$. Budeme-li v těchto vzorcích hodnoty ε_1 a ε_2 neomezeně zmenšovat, vychází

$$\lim_{\varepsilon \rightarrow 0^+} \int_{-1}^{-\varepsilon} \frac{dx}{x^3} = \frac{1}{2} \lim_{\varepsilon \rightarrow 0^+} \left(1 - \frac{1}{\varepsilon^2} \right) = -\infty, \quad (5.2)$$

$$\lim_{\varepsilon \rightarrow 0^+} \int_{\varepsilon}^1 \frac{dx}{x^3} = \frac{1}{2} \lim_{\varepsilon \rightarrow 0^+} \left(\frac{1}{\varepsilon^2} - 1 \right) = +\infty \quad (5.3)$$

a pro $\int_{-1}^1 \frac{dx}{x^3}$, což by dle (4.4) mělo být součtem $\int_{-1}^0 \frac{dx}{x^3}$ a $\int_0^1 \frac{dx}{x^3}$, tak obdržíme

$$\int_{-1}^1 \frac{dx}{x^3} = \infty - \infty.$$

Tomuto neurčitému výrazu však nemůžeme smysluplným způsobem přiřadit hodnotu ani kdybychom integrálem $\int_{-1}^1 \frac{dx}{x^3}$ rozuměli limitu součtu $\int_{-1}^{-\varepsilon_1} \frac{dx}{x^3} + \int_{\varepsilon_2}^1 \frac{dx}{x^3}$ pro $\varepsilon_1, \varepsilon_2 \rightarrow 0^+$, neboť taková limita neexistuje.

Vskutku, buď te $\varepsilon_1 = \frac{1}{n^2}$ a $\varepsilon_2 = \frac{1}{n}$, kde $n = 1, 2, \dots$. Pak $\int_{-1}^{-\frac{1}{n^2}} \frac{dx}{x^3} = \frac{1}{2}(1 - n^2)$ a $\int_{\frac{1}{n}}^1 \frac{dx}{x^3} = \frac{1}{2}(n - 1)$, odkud máme

$$\int_{-1}^{-\frac{1}{n^2}} \frac{dx}{x^3} + \int_{\frac{1}{n}}^1 \frac{dx}{x^3} = \frac{1}{2}(1 - n^2) + \frac{1}{2}(n - 1) = -\frac{1}{2}n(n - 1) \rightarrow -\infty, \quad n \rightarrow +\infty.$$

Vezmeme-li naopak $\varepsilon_1 = \frac{1}{n}$ a $\varepsilon_2 = \frac{1}{n^2}$, obdržíme

$$\int_{-1}^{-\frac{1}{n}} \frac{dx}{x^3} + \int_{\frac{1}{n^2}}^1 \frac{dx}{x^3} = \frac{1}{2}n(n - 1) \rightarrow +\infty, \quad n \rightarrow +\infty.$$

Chování výrazu $\int_{-1}^{-\varepsilon_1} \frac{dx}{x^3} + \int_{\varepsilon_2}^1 \frac{dx}{x^3}$ pro $\varepsilon_1, \varepsilon_2 \rightarrow 0+$ tudíž podstatně závisí na rychlosti s jakou se ε_1 a ε_2 blíží k 0 a o limitě při $\varepsilon_1, \varepsilon_2 \rightarrow 0+$ proto nelze mluvit. Integrál $\int_{-1}^1 \frac{dx}{x^3}$ tedy neexistuje ani v tomto smyslu.¹

PŘÍKLAD 5.3 (nekonečný obsah plochy). Vypočtěme obsah plochy ohraničené křivkou s rovnicí $y = \operatorname{tg} x$, osou x a přímkami $x = 1$, $x = \frac{\pi}{2}$.

Požadovaný obsah plochy udává určitý integrál $\int_1^{\frac{\pi}{2}} \operatorname{tg} x \, dx$, který však konečnou hodnotu nemá.

Vskutku máme $(\cos x)' = -\sin x$, odtud $d(\cos x) = -\sin x \, dx$ a $\sin x \, dx = -d(\cos x)$ a proto (implicitně provádíme substituci $\cos x = t$ a používáme (4.7))

$$\begin{aligned} \int_1^{\frac{\pi}{2}} \operatorname{tg} x \, dx &= \int_1^{\frac{\pi}{2}} \frac{\sin x}{\cos x} \, dx = \int_1^{\frac{\pi}{2}} \frac{1}{\cos x} \sin x \, dx = - \int_1^{\frac{\pi}{2}} \frac{1}{\cos x} d(\cos x) \\ &= - \int_1^{\frac{\pi}{2}} d(\ln \cos x) = - \ln \cos x \Big|_1^{\frac{\pi}{2}} \end{aligned} \quad (5.4)$$

$$= - \lim_{x \rightarrow \frac{\pi}{2}-} \ln \cos x + \ln \cos 1. \quad (5.5)$$

Zde výraz $\ln \cos 1$ má smysl, protože $\cos 1 \approx 0.54 > 0$. Avšak $\cos \frac{\pi}{2} = 0$, tudíž $\lim_{x \rightarrow \frac{\pi}{2}} \ln \cos x$ neexistuje a $\lim_{x \rightarrow \frac{\pi}{2}-} \ln \cos x = \lim_{t \rightarrow 0+} \ln t = -\infty$. Odtud vzhledem k (5.5) obdržíme²

$$\int_1^{\frac{\pi}{2}} \operatorname{tg} x \, dx = +\infty. \quad (5.6)$$

Poznamenejme, že funkce $x \mapsto \operatorname{tg} x$ není v bodě $\frac{\pi}{2}$ spojitá. Geometricky vztah (5.6) znamená, že plocha znázorněná na obr. 5.2a má nekonečný obsah.

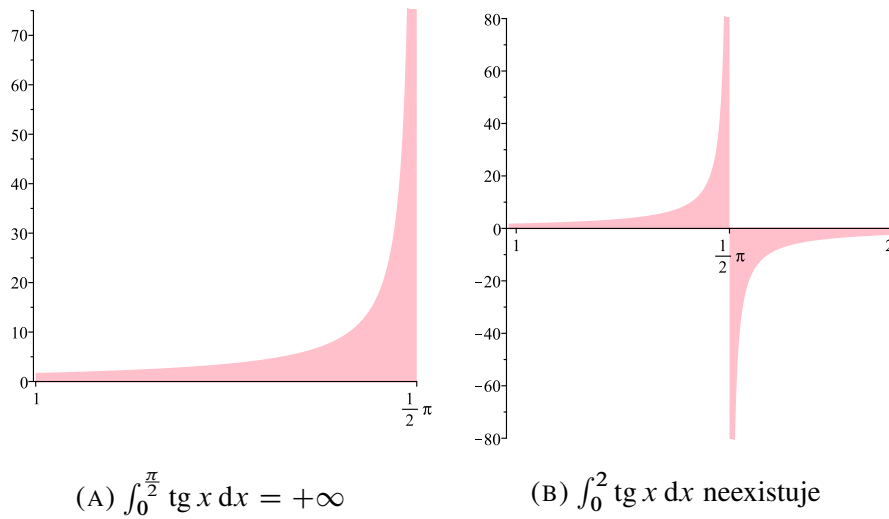
PŘÍKLAD 5.4 (integrál neexistuje). Uvažujme integrál

$$\int_1^2 \operatorname{tg} x \, dx.$$

Víme, že $\int \operatorname{tg} x \, dx = \ln |\cos x| + C$ a může se zdát, že stačí jen použít Newton-Leibnizův vzorec (4.2), tj. v (5.4) místo $\frac{\pi}{2}$ dosadit meze $|_1^2$; pro $\int_1^2 \operatorname{tg} x \, dx$ by nám tak vyšla hodnota $-\ln \cos x \Big|_1^2 = \ln \cos 1 - \ln \cos 2$. Poslední výraz však nemá smysl, neboť

¹Rovnosti (5.2), (5.3) znamenají, že pro *nevlastní* integrály $\int_{-1}^0 \frac{dx}{x^3}$ a $\int_0^1 \frac{dx}{x^3}$ platí $\int_{-1}^0 \frac{dx}{x^3} = -\infty$, $\int_0^1 \frac{dx}{x^3} = +\infty$. Podíváme-li se na obrázek 5.1b, vzniká intuitivní představa, že „velikost“ nekonečna je v obou dvou případech stejná (plochy pod $(-1, 0)$ a nad $(0, 1)$ jsou sobě rovné) a že by přece mohlo platit $\int_{-1}^1 \frac{dx}{x^3} = 0$, definujeme-li tento integrál nějak jinak. Ze vztahů (5.2), (5.3) plyne, že skutečně bude tomu tak, rozumíme-li tento nevlastní integrál ve smyslu Cauchyho *hlavní hodnoty*, tj. $\int_{-1}^1 \frac{dx}{x^3} = \lim_{\varepsilon \rightarrow 0+} \left(\int_{-1}^{-\varepsilon} \frac{dx}{x^3} + \int_{\varepsilon}^1 \frac{dx}{x^3} \right)$.

²Tento integrál je tzv. *nevlastní*: funkce $x \mapsto \operatorname{tg} x$ je spojitá všude na otevřeném intervalu $(1, \frac{\pi}{2})$ a není vůbec definována v jeho pravém koncovém bodě $\frac{\pi}{2}$. Proto integrál $\int_1^{\frac{\pi}{2}} \operatorname{tg} x \, dx$ můžeme chápat pouze ve smyslu limity $\lim_{b \rightarrow \frac{\pi}{2}-} \int_1^b \operatorname{tg} x \, dx$; ta však, jak jsme již zjistili, je nekonečná.

OBRÁZEK 5.2. Integrál z $\operatorname{tg} x$ na různých intervalech

$\cos 2 \approx -0.42 < 0$. V čem je problém? Z obrázku 5.2b vidíme, že interval integrování $(1, 2)$ obsahuje bod $\frac{\pi}{2}$, v němž se narušuje spojitost funkce (a není funkce vůbec definována). Vzorec (4.2) zde použít nesmíme, navíc integrál ani neexistuje; argumentovat lze podobně příkladu 5.2.

PŘÍKLAD 5.5 (integrace *per partes*, singularita v konci intervalu). Vypočtěme integrál

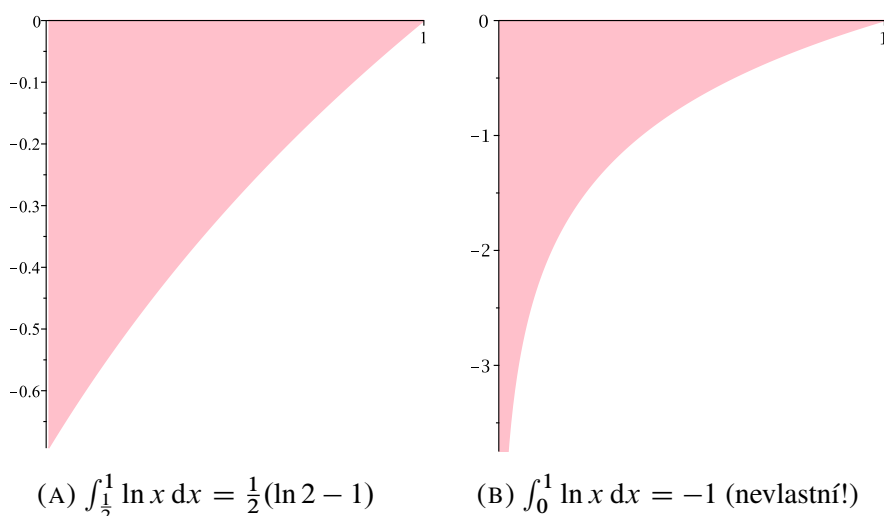
$$\int_0^1 \ln x \, dx.$$

Stejně jako v příkladu 4.2 použijeme integraci *per partes*:

$$\begin{aligned} \int_0^1 \ln x \, dx &= (x \ln x)|_0^1 - \int_0^1 x \, d(\ln x) = (x \ln x)|_0^1 - \int_0^1 x \frac{1}{x} \, dx \\ &= (x \ln x)|_0^1 - \int_0^1 dx = \ln 1 - \lim_{x \rightarrow 0^+} x \ln x - 1 = -1. \end{aligned} \quad (5.7)$$

Rozdíl je však v tom, že dosazení meze 0 v $(x \ln x)|_0^1$ vyžadovalo použití jednostranné limity, protože hodnota $\ln 0$ není definována a $\lim_{x \rightarrow 0^+} \ln x = -\infty$. Zde jsme odvodili $\lim_{x \rightarrow 0^+} x \ln x = \lim_{x \rightarrow 0^+} \frac{\ln x}{\frac{1}{x}} = 0$ podle l'Hôpitalova pravidla; hodnota limity je 0, neboť $\lim_{x \rightarrow 0^+} \frac{(\ln x)'}{(\frac{1}{x})'} = \lim_{x \rightarrow 0^+} \frac{\frac{1}{x}}{-\frac{1}{x^2}} = -\lim_{x \rightarrow 0^+} x = 0$.

Z (5.7) lze rovněž odvodit, že plocha rovinného útvaru ohraničeného křivkou s rovnicí $y = \ln x$, osou x a přímkami $x = 0$, $x = 1$ (viz obr. 5.3b) je rovna $\int_0^1 |\ln x| \, dx = 1$, kde kvůli nespojitosti funkce $x \mapsto \ln x$ v okolí 0 určitý integrál musíme tlumočit v tzv. nevlastním smyslu: $\int_0^1 |\ln x| \, dx = \lim_{\varepsilon \rightarrow 0^+} \int_{\varepsilon}^1 |\ln x| \, dx$.

OBRÁZEK 5.3. Integrál z $\ln x$ na různých intervalech

§ 5.2. Zavedení nevlastního integrálu

Myšlenky použité při analýze uvedených příkladů vedou na přirozené definice nevlastních integrálů.

§ 5.2.1. Nevlastní integrál s nekonečnými mezemi. Buď f funkce, jež je definována na intervalu $[a, +\infty)$, kde $a \in \mathbb{R}$. Necht' integrál $\int_a^b f(x) \, dx$ existuje pro libovolně velké $b > a$.

DEFINICE 5.1. Existuje-li limita integrálů $\int_a^b f(x) \, dx$ při $b \rightarrow +\infty$, pak hodnota této limity se nazývá integrálem funkce f v mezích od a do $+\infty$:

$$\int_a^{+\infty} f(x) \, dx = \lim_{b \rightarrow +\infty} \int_a^b f(x) \, dx.$$

Toto je *nevlastní integrál* s nekonečnou horní mezí. Je-li limita konečná, říká se, že integrál *konverguje* (v opačném případě, tj. když limita je nekonečna nebo neexistuje, integrál *diverguje*).

Podobným způsobem zavádíme integrál $\int_{-\infty}^b f(x) \, dx$, kde je f definována na intervalu $(-\infty, b]$. Existují-li integrály $\int_c^{+\infty} f(x) \, dx$ a $\int_{-\infty}^c f(x) \, dx$ pro nějaké $c \in \mathbb{R}$, jejich součtem definujeme nevlastní integrál

$$\int_{-\infty}^{+\infty} f(x) \, dx = \int_c^{+\infty} f(x) \, dx + \int_{-\infty}^c f(x) \, dx.$$

Integrály z příkladů 5.1 a 5.2 jsou nevlastními integrály ve smyslu definice 5.1.

PŘÍKLAD 5.6. Integrál

$$\int_1^{+\infty} \frac{dx}{x^\alpha}$$

konverguje pro $\alpha > 1$ a diverguje v opačném případě.

Nechť $\alpha \neq 1$. Pak

$$\lim_{b \rightarrow +\infty} \int_1^b \frac{dx}{x^\alpha} = \lim_{b \rightarrow +\infty} \left. \frac{x^{1-\alpha}}{1-\alpha} \right|_1^b = \lim_{b \rightarrow +\infty} \frac{1}{1-\alpha} (b^{1-\alpha} - 1). \quad (5.8)$$

Z (5.8) plyne, že $\lim_{b \rightarrow +\infty} \int_1^b \frac{dx}{x^\alpha} = \frac{1}{\alpha-1}$ pro $\alpha > 1$ a $\lim_{b \rightarrow +\infty} \int_1^b \frac{dx}{x^\alpha} = +\infty$ pro $\alpha < 1$. Nakonec pro $\alpha = 1$ platí

$$\lim_{b \rightarrow +\infty} \int_1^b \frac{dx}{x} = \lim_{b \rightarrow +\infty} (\ln b - \ln 1) = +\infty.$$

§ 5.2.2. Nevlastní integrál z neomezené funkce. Buď f funkce definovaná na intervalu (a, b) ($-\infty < a < b < +\infty$), neomezená v pravém okolí³ bodu a a omezená na každém intervalu $(a + \varepsilon, b)$, kde $\varepsilon > 0$ je libovolně malé kladné číslo.

DEFINICE 5.2. Existují-li všechny integrály $\int_{a+\varepsilon}^b f(x) dx$ pro libovolně malá ε , integrálem $\int_a^b f(x) dx$ rozumíme jednostrannou limitu těchto integrálů pro $\varepsilon \rightarrow 0+$:

$$\int_a^b f(x) dx = \lim_{\varepsilon \rightarrow 0+} \int_{a+\varepsilon}^b f(x) dx.$$

V případě existence konečné limity integrál *konverguje*, jinak integrál *diverguje*. Bod a , kde není funkce f omezená, nazývá se *singulárním* bodem této funkce.

Podobným způsobem definujeme integrál $\int_a^b f(x) dx$ v případě, kdy je f neomezená v okolí bodu b :

$$\int_a^b f(x) dx = \lim_{\varepsilon \rightarrow 0+} \int_a^{b-\varepsilon} f(x) dx.$$

Jestliže obě meze a a b jsou pro f singulárními body, zavádíme integrál rovností

$$\int_a^b f(x) dx = \int_a^c f(x) dx + \int_c^b f(x) dx, \quad (5.9)$$

kde c je nějaký bod intervalu (a, b) a integrály $\int_a^c f(x) dx$ a $\int_c^b f(x) dx$ chápeme v uvedeném výše smyslu. Říkáme, že integrál (5.9) *konverguje*, jestliže konvergují oba integrály součtu (v opačném případě integrál *diverguje*).

Integrály z příkladů 5.2, 5.3, 5.4, 5.5 jsou nevlastními integrály z neomezených funkcí tohoto typu.

PŘÍKLAD 5.7. Integrál

$$\int_0^1 \frac{dx}{x^\alpha}$$

konverguje pro $\alpha < 1$ a diverguje v opačném případě.

³Tj. neomezená na $(a, a + \varepsilon)$, kde ε je malé kladné číslo

Nechť $\alpha \neq 1$. Pak

$$\lim_{a \rightarrow 0^+} \int_a^1 \frac{dx}{x^\alpha} = \lim_{a \rightarrow 0^+} \frac{1}{1-\alpha} (1 - a^{1-\alpha}).$$

a tudíž $\lim_{a \rightarrow 0^+} \int_a^1 \frac{dx}{x^\alpha} = \frac{1}{1-\alpha}$ pro $\alpha < 1$ a $\lim_{a \rightarrow 0^+} \int_a^1 \frac{dx}{x^\alpha} = +\infty$ pro $\alpha > 1$. Pro $\alpha = 1$ obdržíme

$$\lim_{a \rightarrow 0^+} \int_a^1 \frac{dx}{x} = \lim_{a \rightarrow 0^+} (\ln 1 - \ln a) = +\infty.$$

§ 5.2.3. Nevlastní integrál z neomezené funkce s nekonečnými mezemi. Tento druh nevlastních integrálů vzniká kombinací integrálů dvou předchozích typů.

DEFINICE 5.3. Je-li funkce $f : (a, +\infty) \rightarrow \mathbb{R}$ neomezená v pravém okolí bodu a , integrálem $\int_a^{+\infty} f(x) dx$ rozumíme součet

$$\int_a^{+\infty} f(x) dx = \int_a^c f(x) dx + \int_c^{+\infty} f(x) dx,$$

kde c je nějaký bod⁴ intervalu $(a, +\infty)$.

Integrály typu $\int_a^{+\infty} f(x) dx$, kde f je neomezená v okolí nějakého bodu $b > a$, zavádíme rovností

$$\int_a^{+\infty} f(x) dx = \int_a^b f(x) dx + \int_b^{+\infty} f(x) dx,$$

kde $\int_a^b f(x) dx$ a $\int_b^{+\infty} f(x) dx$ rozumíme ve smyslu definicí 5.1 a 5.3.

PŘÍKLAD 5.8. Z příkladů 5.6 a 5.7 plyne, že integrál

$$\int_0^{+\infty} \frac{dx}{x^\alpha}$$

diverguje pro libovolné α .

⁴Pak se dokáže, že na volbě bodu c výsledek nezávisí.

