




Zaznacz, która to kraina geograficzna Polski


- a) Niziny Środkowopolskie
- b) Pobrzeża
- c) Pojezierza
- d) Góry (Sudety)
- e) Góry (Karpaty)
- f) Wyżyny
- g) Kotliny Podkarpackie

ARKTYKA

Mewa




Alka







EUROPA






Dzięcioł




Wiewiórka





AMERYKA PÓŁNOCNA




Gęś





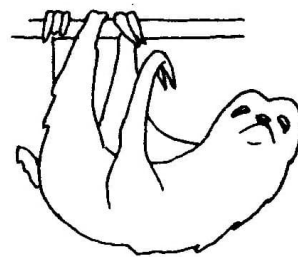
AMERYKA POŁUDNIOWA



Tapir



Legwan



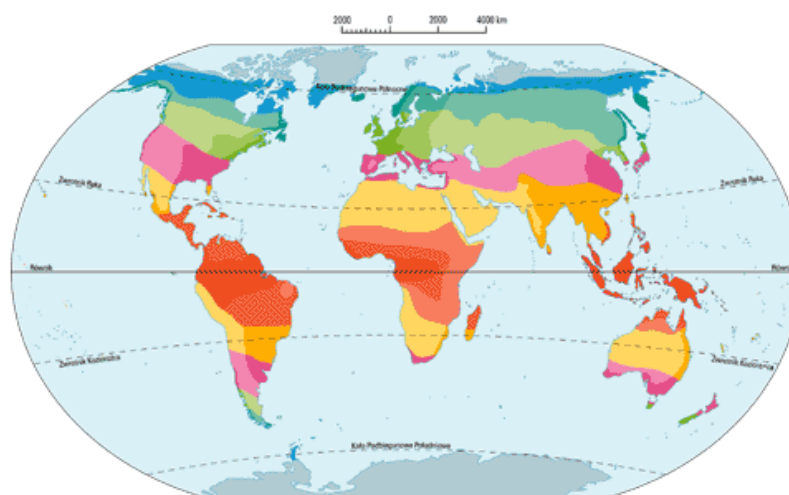
**1. Połącz nazwę zwierzęcia z odpowiednim obrazkiem.**

- |             |                         |
|-------------|-------------------------|
| 1. ALIGATOR | 10. LIS                 |
| 2. ANAKONDA | 11. ŁOŚ                 |
| 3. BIZON    | 12. MORS                |
| 4. BÓBR     | 13. NIEDŹWIEDŹ BIAŁY    |
| 5. DELFIN   | 14. NIEDŹWIEDŹ BRUNATNY |
| 6. DZIK     | 15. TUKAN               |
| 7. FOKA     | 16. WILK                |
| 8. JELEŃ    | 17. ZAJĄC               |
| 9. LENIWIEC |                         |

**2. Jakie są nazwy pozostałych kontynentów (niewymienionych na obrazku)?**

**3. Który kontynent jest największy, a który najmniejszy?**

**4. Strefy klimatyczne. W jakiej strefie klimatycznej znajdują się te kraje/ krainy?**



1. Francja	A. Strefa równikowa
2. Brazylia	B. Strefa podzwrotnikowa
3. Grenlandia	C. Strefa umiarkowana chłodna
4. Libia	D. Strefa umiarkowana ciepła
5. Rosja (część azjatycka)	E. Strefa okołobiegunowa
6. Stany Zjednoczone	F. Strefa zwrotnikowa