

# TEMA 4

(Jazykový seminář I, podzim 2016)

## Sistema horari català

- L'ordre seguit és "quarts-minuts-hora posterior".

les **10:15 h** són 'un quart d'onze'  
 les **12:30 h** són 'dos quarts d'una'  
 les **19:52 h** són 'tres quarts i set minuts de vuit'

**01:15** *un quart de dues*  
**01:30** *dos quarts de dues*  
**01:45** *tres quarts de dues*

**02:07:30** *mig quart de tres*  
**02:22:30** *un quart i mig de tres*  
**02:37:30** *dos quarts i mig de tres*  
**02:52:30** *tres quarts i mig de tres*

- Abreujadament, quan està clar que s'està parlant de l'hora (per exemple, quan te la pregunten), es pot donar sense dir la paraula "quarts":

07:45 *tres de vuit*  
 16:30 *dos de cinc*

### Sabíeu que...

En català expressem les parts de l'hora en relació a l'hora que ve després - llevat del cas dels pocs primers minuts després de l'hora justa - i utilitzem com a sistema bàsic el dels quarts, que exposem tot seguit d'una manera gràfica:

### Minut a minut

(és) la una  
(són) les dues  
(són) les cinc

(és) un quart de nou  
(són) dos quarts de nou  
(són) tres quarts de nou

quina hora és?  
(és) la una  
(és) un quart d'una (de la una)

(són) les dotze i vint =  
és un quart i cinc d'una  
falten deu minuts per a les onze =  
són tres quarts i cinc d'onze

### Hores principals

Les tres	Mig quart de quatre	Un quart de quatre	Un quart i mig de quatre
Dos quarts de quatre	Dos quarts i mig de quatre	Tres quarts de quatre	Tres quarts i mig de quatre

### Altres hores

Les tres tocades	Les tres ben tocades	Mig quart tocat de quatre	Mig quart ben tocat de quatre
Un quart tocat de quatre	Un quart ben tocat de quatre	Un quart i mig tocat de quatre	Un quart i mig ben tocat de quatre

### 3 Escolta els diàlegs i relaciona'ls amb els rellotges.

21.40 h	20.00 h	17.10 h	14.45 h
13.30 h	14.00 h	22.30 h	22.00 h

### Un exemple, les 15 h 43 min

Per dir aquesta hora són correctes les següents expressions:

- Són vora tres quarts de quatre
- Són prop de tres quarts de quatre
- Són gairebé tres quarts de quatre
- Són quasi tres quarts de quatre
- Són tres quarts de quatre encara no
- Són si fa o no fa tres quarts de quatre
- Dos minuts i seran tres quarts de quatre
- Manquen dos minuts perquè siguin tres quarts de quatre
- Manquen dos minuts per a tres quarts de quatre
- Falten dos minuts perquè siguin tres quarts de quatre
- Falten dos minuts per a tres quarts de quatre
- D'aquí a dos minuts seran tres quarts de quatre
- Són dos quarts de quatre i tretze minuts
- Són dos quarts i tretze minuts [de quatre]
- Són les tres i quaranta-tres minuts
- Són les quinze hores i quaranta-tres minuts

## Les parts del dia

Té a veure amb el sol i, per tant, varia al llarg de l'any, però per a situar l'hora en el moment del dia que li correspon podeu fer servir aquesta guia:










<b>Matinada:</b>	1, 2, 3, 4, 5
<b>Matí:</b>	6, 7, 8, 9, 10, 11
<b>Migdia:</b>	12, 13, 14
<b>Tarda:</b>	15, 16, 17, 18
<b>Vespre:</b>	19, 20, 21, 22
<b>Nit:</b>	23, 24

Els números es refereixen a l'hora que s'esmenta, per exemple a les 11.10 diem **les onze i deu minuts del matí** mentre que a les 11.15 podem dir **un quart de dotze del migdia**.

Més coses a: [http://www.comunicaciondigital.com/rellotge\\_catala/](http://www.comunicaciondigital.com/rellotge_catala/)  
<http://www.edu365.com/primaria/muds/catala/quarts/>  
<http://www.xtec.cat/~ivilater/enlinia/hores1/hora1.html>

**Les hores (1)**

Quina hora és?

				
És la una.	És un quart de dues.	Són dos quarts de dues.	Són tres quarts de dues.	
				
Són les dues.	És mig quart de tres.	És un quart i mig de tres.	Són dos quarts i mig de tres.	Són tres quarts i mig de tres.

14

Escriu amb lletres les hores indicades entre parèntesis:

La Marta treballa en un supermercat. De dilluns a divendres, el seu horari és de (9:30) a (14:00) i de (18:00) a (20:30). A les (11:00) té un quart d'hora per esmorzar. El dissabte fa la jornada seguida i treballa d' (8:15) a (14:45). A les (10:00) té mitja hora per menjar alguna cosa.

**3** Relaciona els rellotges amb les hores.



1



2



3



4



5



6



7



8



9



10



11



- a És la una.
- b És un quart de dues.
- c Són dos quarts de dues.
- d Són tres quarts de dues.
- e Són les dues.
- f És un quart de cinc.

- g És un quart i cinc de sis.
- h Són dos quarts i cinc de set.
- i Falten cinc minuts per a les onze.
- j Són les deu i cinc.
- k Falten cinc minuts per a tres quarts de vuit.

**4** Relaciona els elements de la primera columna amb els de la segona i la tercera.

1	08.00 h	a	És un quart de nou.	A	del matí
2	22.10 h	b	Són les vuit.		
3	14.40 h	c	Falten tres minuts per a dos quarts de vuit.	B	del migdia
4	19.27 h	d	Són les cinc i deu.		
5	03.15 h	e	Falten cinc minuts per a les cinc.	C	de la tarda
6	20.15 h	f	Són les deu i deu.		
7	13.45 h	g	Són tres quarts de dues.	D	del vespre
8	05.10 h	h	Falten cinc minuts per a tres quarts de tres.		
9	16.55 h	i	Són les dotze i cinc.	E	de la nit
10	12.05 h	j	És un quart de quatre.		
				F	de la matinada