



OBČANSTVÍ

DATABANKA TESTOVÝCH ÚLOH Z ČESKÝCH REÁLÍ



MINISTERSTVO VNITRA
ČESKÉ REPUBLIKY



MINISTERSTVO ŠKOLSTVÍ,
MLÁDEŽE A TĚLOVÝCHOVY



Národní ústav
pro vzdělávání
školské poradenské zařízení a zařízení pro
další vzdělávání pedagogických pracovníků



ÚSTAV JAZYKOVÉ
A ODBORNÉ PŘÍPRAVY
Univerzita Karlova

Národní ústav pro vzdělávání,
školské poradenské zařízení a zařízení pro další
vzdělávání pedagogických pracovníků

Vydání sedmé (elektronické), Praha, 2019

Aktualizováno 9. 12. 2019

© NÚV, 2019



MINISTERSTVO VNITRA
ČESKÉ REPUBLIKY



MINISTERSTVO ŠKOLSTVÍ,
MLÁDEŽE A TĚLOVÝCHOVY



ÚSTAV JAZYKOVÉ
A ODBORNÉ PŘÍPRAVY
Univerzita Karlova



OBČANSTVÍ

ATABANKA TESTOVÝCH ÚLOH Z ČESKÝCH REÁLÍ

NÚV, 2019



MINISTERSTVO VNITRA
ČESKÉ REPUBLIKY



MINISTERSTVO ŠKOLSTVÍ,
MLÁDEŽE A TĚLOVÝCHOVY



NÚV **Národní ústav
pro vzdělávání**
školské poradenské zařízení a zařízení pro
další vzdělávání pedagogických pracovníků



ÚSTAV JAZYKOVÉ
A ODBORNÉ PŘÍPRAVY
Univerzita Karlova



OBSAH

ZÁKLADNÍ INFORMACE	5
TESTOVÉ ÚLOHY	7
OBČANSKÝ ZÁKLAD	7
1. ZVYKY A TRADICE	7
2. DOPRAVA	9
3. ZDRAVOTNÍ A ZÁCHRANNÝ SYSTÉM	11
4. VZDĚLÁVÁNÍ	13
5. POLITICKÝ SYSTÉM	16
6. ZÁKONODÁRNÁ A VÝKONNÁ MOC	20
7. SOUDNÍ MOC A OCHRANA OBČANŮ	23
8. VOLBY	25
9. ZÁKLADNÍ PRÁVNÍ POJMY, SPRÁVNÍ A TRESTNÍ PRÁVO	27
10. OBČANSKÉ PRÁVO	29
11. RODINNÉ PRÁVO	32
12. MĚNA A BANKOVNÍ SOUSTAVA	34
13. DAŇOVÁ SOUSTAVA	37
14. SOCIÁLNÍ ZABEZPEČENÍ	40
15. ZAMĚSTNÁNÍ	43
16. PODNIKÁNÍ	45
ZÁKLADNÍ GEOGRAFICKÉ INFORMACE	48
17. POLOHA, ROZLOHA A PŘÍRODNÍ POMĚRY	48
18. PŘÍRODA A KRAJINA	51
19. REGIONY A MÍSTA	54
20. OCHRANA ŽIVOTNÍHO PROSTŘEDÍ	57
21. SOCIOKULTURNÍ SOUVISLOSTI	60
22. SOCIOEKONOMICKÉ SOUVISLOSTI	62
23. MEZINÁRODNÍ SOUVISLOSTI	64
ZÁKLADNÍ HISTORICKÉ A KULTURNÍ INFORMACE	68
24. STŘEDOVĚK	68
25. NOVOVĚK	70
26. DĚJINY ČESKOSLOVENSKA DO ROKU 1948	72
27. DĚJINY ČESKOSLOVENSKA OD ROKU 1948 DO ROKU 1989	75
28. DĚJINY ČESKA OD ROKU 1989	77
29. VÝZNAMNÉ OSOBNOSTI OD 19. STOLETÍ DO SOUČASNOSTI	79
30. UMĚNÍ OD STŘEDOVĚKU DO SOUČASNOSTI	82
CITACE OBRAZOVÉHO MATERIÁLU	92





ZÁKLADNÍ INFORMACE

Dle zákona o státním občanství České republiky č. 186/2013 Sb.¹ je od 1. ledna 2014 podmínkou pro udělení státního občanství České republiky prokázání znalosti českého jazyka a znalosti českých reálií. Zkouška z českých reálií se koná písemně, formou testu, který se skládá z 30 testových úloh. Použity jsou pouze testové úlohy, které jsou součástí Databanky testových úloh.

Databanka testových úloh

Databanka testových úloh je soubor testových úloh z českých reálií, které jsou veřejně dostupné na adrese www.obcanstvi.cestina-pro-cizince.cz/. Testové úlohy jsou publikovány včetně správného řešení. Zveřejněný materiál tak umožňuje se na zkoušku z českých reálií připravit. Databanka testových úloh je rozčleněna do 30 témat, z každého tématu bude do testu zařazena 1 testová úloha. S ohledem na měnící se skutečnosti bude Databanka testových úloh průběžně aktualizována a doplňována. Výhradním vlastníkem autorských práv je Národní ústav pro vzdělávání.

Specifika testových úloh

Testové úlohy jsou určeny pro žadatele o státní občanství České republiky. Ověřují základní znalosti českých reálií ve 3 okruzích: Občanský základ, Základní geografické informace a Základní historické a kulturní informace. Testové úlohy předpokládají dosažení jazykové úrovně B1 podle Společného referenčního rámce pro jazyky². Testové úlohy jsou určeny pro samostudium žadatelů o občanství České republiky a pro vytváření testů pro zkoušku z českých reálií.

Použité pojmy

V testových úlohách je v souladu se Sdělením MŠMT³ používán vedle oficiálního dvojslovného názvu *Česká republika* také jednoslovný geografický název *Česko*. Pokud je použit v testových úlohách pojem *občan*, rozumí se jím označení *občana České republiky* i *občanky České republiky*. Pojem *občan* je používán v testových úlohách ve významu *občan České republiky* nebo *obyvatel České republiky*. Obsah testových úloh je v souladu s novým

¹ Viz [zákon o státním občanství České republiky č. 186/2013 Sb.](#)

² Viz <http://www.msmt.cz/mezinarodni-vztahy/spolecny-evropsky-referencni-ramec-pro-jazyky>.

³ Viz [sdělení Ministerstva školství, mládeže a tělovýchovy k jednoslovnému geografickému názvu pro Českou republiku](#) č. j. 27686/99-20.



občanským zákoníkem (zákon č. 89/2012 Sb.)⁴. Pokud jsou v testových úlohách použita česká jména a/nebo příjmení (např. pan Novák, Karel Novák, paní Svobodová, manželé Svobodovi, slečna Novotná), neoznačují tato jména a příjmení konkrétní osoby. Jedná se o modelové situace, kdy jméno a/nebo příjmení označuje *občana České republiky* nebo *občanku České republiky*.

Struktura testových úloh

Každá testová úloha se skládá ze zadání a 4 alternativ odpovědí. Zadání má nejčastěji formu otázky a jeho součástí může být tvrzení, text, tabulka, obrázek. Základem některých testových úloh jsou modelové situace. Použití záporu v zadání testové úlohy je vždy vyznačeno podtržením. Každá testová úloha má 4 alternativy odpovědí: 1 alternativa je vždy správné řešení, zbylé 3 alternativy jsou vždy nesprávným řešením. Alternativy jsou v testové úloze většinou řazeny podle délky. Alternativa může mít podobu textu nebo obrázku. Obrázky, které jsou součástí zadání nebo alternativ, jsou vždy černobílé.

⁴ Více informací na adrese <http://obcanskyzakonik.justice.cz/>.





TESTOVÉ ÚLOHY

OBČANSKÝ ZÁKLAD

1. ZVYKY A TRADICE

1. Kterým dnem začíná v českém kalendáři rok?

- A) 1. září.
- B) 1. ledna.
- C) 1. března.
- D) 1. prosince.

Datum aktualizace testové úlohy: 8. 12. 2014

2. Jak se jmenuje sváteční období před Vánoci?

- A) Advent.
- B) Dovolená.
- C) Prázdniny.
- D) Velikonoce.

Datum aktualizace testové úlohy: 7. 12. 2015

3. Kraslice je vejce, které se barví a zdobí. Kdy ženy a dívky dávají mužům kraslice?

- A) Na Dušičky.
- B) Na Nový rok.
- C) Na Štědrý den.
- D) Na Velikonoce.

Datum aktualizace testové úlohy: 8. 12. 2014

4. Který státní svátek se slaví v České republice na podzim?

- A) Den obnovy samostatného českého státu.
- B) Den boje za svobodu a demokracii.
- C) Den upálení mistra Jana Husa.
- D) Den vítězství.

Datum aktualizace testové úlohy: 11. 12. 2017



5. Velký pátek je svátek, který připomíná smrt Ježíše Krista. Ke kterému svátečnímu období patří Velký pátek?

- A) K Velikonocům.
- B) K Dušičkám.
- C) K Vánocům.
- D) K adventu.

Datum aktualizace testové úlohy: 12. 12. 2016

6. Památce zesnulých se v Česku lidově říká Dušičky. Je to den, kdy se podle české tradice zdobí hroby květinami, rozsvěcují se svíčky a vzpomíná se na zemřelé. Ve kterém období se slaví tento svátek?

- A) Na jaře.
- B) V létě.
- C) Na podzim.
- D) V zimě.

Datum aktualizace testové úlohy: 9. 12. 2019

7. Které jídlo se jí obyčejně v Česku k večeři na Štědrý den?

- A) Pudink.
- B) Pečená husa.
- C) Smažený kapr.
- D) Vařená vajíčka.

Datum aktualizace testové úlohy: 8. 12. 2014

8. Který den si Češi obyčejně dávají vánoční dárky?

- A) 6. ledna.
- B) 24. prosince.
- C) 25. prosince.
- D) 26. prosince.

Datum aktualizace testové úlohy: 8. 12. 2014

9. Kdo podle tradice nosí v Česku na Vánoce dárky?

- A) Mrazík.
- B) Ježíšek.
- C) Mikuláš.
- D) Santa Klaus.

Datum aktualizace testové úlohy: 20. 11. 2013



10. Který svátek ukončuje období Vánoc?

- A) Dušičky.
- B) Jízda králů.
- C) Tři králové.
- D) Svátek sv. Valentýna.

Datum aktualizace testové úlohy: 10. 12. 2018

SPRÁVNÉ ŘEŠENÍ: 1B, 2A, 3D, 4B, 5A, 6C, 7C, 8B, 9B, 10C

2. DOPRAVA

1. Co nepatří do městské hromadné dopravy?

- A) Taxi.
- B) Metro.
- C) Autobus.
- D) Tramvaj.

Datum aktualizace testové úlohy: 20. 11. 2013

2. Paní Svobodová jezdí na kole do práce. Ve které situaci porušuje pravidla silničního provozu?

- A) Jede na kole po chodníku.
- B) Jede na kole po pravé straně silnice.
- C) Jede na kole v řadě za svou kolegyní.
- D) Jede na kole a dává rukou znamení o změně směru jízdy.

Datum aktualizace testové úlohy: 8. 12. 2014

3. Pan Svoboda chce řídit osobní automobil. Který typ řidičského průkazu potřebuje?

- A) Řidičský průkaz skupiny A.
- B) Řidičský průkaz skupiny B.
- C) Řidičský průkaz skupiny C.
- D) Řidičský průkaz skupiny D.

Datum aktualizace testové úlohy: 7. 12. 2015



4. Kolik piv s obsahem alkoholu může vypít řidič podle zákona při řízení auta v Česku?

- A) Tři.
- B) Dvě.
- C) Jedno.
- D) Žádné.

Datum aktualizace testové úlohy: 8. 12. 2014

5. Který dopravní prostředek má přednost před chodcem na přechodu?

- A) Auto.
- B) Tramvaj.
- C) Autobus.
- D) Motocykl.

Datum aktualizace testové úlohy: 11. 12. 2017

6. Jak se nazývá povinné pojištění automobilu?

- A) Povinné ručení.
- B) Životní pojištění.
- C) Úrazové pojištění.
- D) Cestovní pojištění.

Datum aktualizace testové úlohy: 8. 12. 2014

7. Kdo má povinnost nosit podle zákona oblečení s reflexními prvky?

- A) Osoba, která jde v noci v obci po chodníku.
- B) Osoba, která jde ve dne v obci po chodníku.
- C) Osoba, která jde v noci mimo obec po silnici.
- D) Osoba, která jde ve dne mimo obec po silnici.

Datum aktualizace testové úlohy: 12. 12. 2016

8. Jak musí cestovat v autě dítě menší než 150 cm?

- A) Dítě musí sedět na klíně dospělé osoby.
- B) Dítě musí sedět volně na zadním sedadle.
- C) Dítě musí sedět volně na předním sedadle.
- D) Dítě musí sedět připoutané v dětské autosedačce.

Datum aktualizace testové úlohy: 8. 12. 2014



9. Od kolika let mohou jezdit děti po silnici na kole bez dohledu další osoby?

- A) Od 3 let.
- B) Od 6 let.
- C) Od 10 let.
- D) Od 18 let.

Datum aktualizace testové úlohy: 9. 12. 2019

10. Která z uvedených věcí patří k povinné výbavě osobního automobilu?

- A) Rádio.
- B) Lékárnička.
- C) Destilovaná voda.
- D) Nádoba na benzin.

Datum aktualizace testové úlohy: 8. 12. 2014

SPRÁVNÉ ŘEŠENÍ: 1A, 2A, 3B, 4D, 5B, 6A, 7C, 8D, 9C, 10B

3. ZDRAVOTNÍ A ZÁCHRANNÝ SYSTÉM

1. Paní Novotná vidí požár. Chce zavolat hasiče. Na které z těchto telefonních čísel zavolá?

- A) 150.
- B) 155.
- C) 156.
- D) 158.

Datum aktualizace testové úlohy: 7. 12. 2015

2. Které telefonní číslo má zdravotnická záchranná služba?

- A) 150.
- B) 155.
- C) 156.
- D) 158.

Datum aktualizace testové úlohy: 20. 11. 2013



3. Paní Svobodová není spokojená se svou zdravotní pojišťovnou. Jak často může změnit zdravotní pojišťovnu?

- A) Jednou za měsíc.
- B) Jednou za 3 měsíce.
- C) Jednou za 6 měsíců.
- D) Jednou za 12 měsíců.

Datum aktualizace testové úlohy: 9. 12. 2019

4. Pan Svoboda je občanem České republiky a jde na prohlídku k lékaři. Který doklad musí ukázat v ordinaci?

- A) Průkaz pojištěnce.
- B) Občanský průkaz.
- C) Řidičský průkaz.
- D) Rodný list.

Datum aktualizace testové úlohy: 7. 12. 2015

5. Která instituce nepatří do integrovaného záchranného systému?

- A) Vláda České republiky.
- B) Policie České republiky.
- C) Hasičský záchranný sbor.
- D) Zdravotnická záchranná služba.

Datum aktualizace testové úlohy: 8. 12. 2014

6. Které telefonní číslo má jednotný záchranný systém (hasiči, policie, zdravotnická záchranná služba) v celé Evropě?

- A) 112.
- B) 150.
- C) 911.
- D) 999.

Datum aktualizace testové úlohy: 20. 11. 2013

7. Která součást záchranného systému má telefonní číslo 150?

- A) Městská policie.
- B) Policie České republiky.
- C) Hasičský záchranný sbor.
- D) Zdravotnická záchranná služba.

Datum aktualizace testové úlohy: 8. 12. 2014



8. Pan Novák viděl dopravní nehodu. Chce volat Policii České republiky. Které telefonní číslo použije?

- A) 150.
- B) 155.
- C) 156.
- D) 158.

Datum aktualizace testové úlohy: 20. 11. 2013

9. Pan Novotný je občanem České republiky, je nezaměstnaný a je registrovaný na úřadu práce jako uchazeč o zaměstnání. Kdo platí jeho povinné zdravotní pojištění?

- A) Stát.
- B) Finanční úřad.
- C) Platí si ho sám.
- D) Jeho poslední zaměstnavatel.

Datum aktualizace testové úlohy: 10. 12. 2018

10. Pan Svoboda ztratil průkaz pojištěnce zdravotní pojišťovny. Do kolika dnů musí nahlásit ztrátu zdravotní pojišťovně?

- A) Do jednoho dne.
- B) Do osmi dnů.
- C) Do třiceti dnů.
- D) Do šedesáti dnů.

Datum aktualizace testové úlohy: 11. 12. 2017

SPRÁVNÉ ŘEŠENÍ: 1A, 2B, 3D, 4A, 5A, 6A, 7C, 8D, 9A, 10B

4. VZDĚLÁVÁNÍ

1. Ve kterém z těchto měsíců začíná na základních školách v Česku školní rok?

- A) V září.
- B) V lednu.
- C) V březnu.
- D) V červenci.

Datum aktualizace testové úlohy: 28. 4. 2014



2. Která z těchto institucí poskytuje předškolní vzdělávání dětí?

- A) Gymnázium.
- B) Mateřská škola.
- C) Střední odborná škola.
- D) Základní umělecká škola.

Datum aktualizace testové úlohy: 8. 12. 2014

3. Kolik let trvá v České republice povinná školní docházka?

- A) 5 let.
- B) 9 let.
- C) 12 let.
- D) 15 let.

Datum aktualizace testové úlohy: 20. 11. 2013

4. Kdy mají žáci základních a středních škol v České republice hlavní prázdniny?

- A) V září a v říjnu.
- B) V únoru a v březnu.
- C) V dubnu a v květnu.
- D) V červenci a v srpnu.

Datum aktualizace testové úlohy: 8. 12. 2014

5. Dcera paní Svobodové ukončila studium státní závěrečnou zkouškou a obhájila diplomovou práci. Kterou školu právě ukončila?

- A) Gymnázium.
- B) Vysokou školu.
- C) Obchodní akademii.
- D) Střední průmyslovou školu.

Datum aktualizace testové úlohy: 10. 12. 2018

6. Manželé Svobodovi mají čtyři děti. Aleně jsou 4 roky, Janovi 10 let, Ivanovi 19 let a Tereze je 21 let. Které dítě má povinnou školní docházku?

- A) Jan.
- B) Ivan.
- C) Alena.
- D) Tereza.

Datum aktualizace testové úlohy: 9. 12. 2019



7. Kdo v České republice určuje, kam bude dítě chodit na základní školu?

- A) Rodiče.
- B) Obecní úřad.
- C) Sociální správa.
- D) Ministerstvo školství.

Datum aktualizace testové úlohy: 20. 11. 2013

8. Na které škole získala Ing. Petra Novotná své nejvyšší vzdělání?

- A) Na střední ekonomické škole.
- B) Na střední průmyslové škole.
- C) Na vyšší odborné škole.
- D) Na vysoké škole.

Datum aktualizace testové úlohy: 7. 12. 2015

9. Jak se jmenují střední školy, které poskytují všeobecné vzdělání?

- A) Gymnázia.
- B) Obchodní akademie.
- C) Střední odborná učiliště.
- D) Střední průmyslové školy.

Datum aktualizace testové úlohy: 20. 11. 2013

10. Na které z těchto škol se skládá maturitní zkouška?

- A) Na střední škole.
- B) Na vysoké škole.
- C) Na základní škole.
- D) Na vyšší odborné škole.

Datum aktualizace testové úlohy: 8. 12. 2014

SPRÁVNÉ ŘEŠENÍ: 1A, 2B, 3B, 4D, 5B, 6A, 7A, 8D, 9A, 10A

5. POLITICKÝ SYSTÉM

1. Které barvy jsou na vlajce Evropské unie?

- A) Modrá a bílá.
- B) Modrá a žlutá.
- C) Modrá a zelená.
- D) Modrá a červená.

Datum aktualizace testové úlohy: 10. 12. 2018

2. Který dokument České republiky popisuje základní pravidla pro rozdělení státní moci na zákonodárnou, výkonnou a soudní?

- A) Ústava.
- B) Vládní nařízení.
- C) Vyhláška ministerstva vnitra.
- D) Listina základních práv a svobod.

Datum aktualizace testové úlohy: 9. 12. 2019

3. Která věta o politickém systému České republiky je pravdivá?

- A) Česká republika je monarchie.
- B) Česká republika je totalitní stát.
- C) Česká republika je federativní stát.
- D) Česká republika je demokratický stát.

Datum aktualizace testové úlohy: 11. 12. 2017

4. Na kterém obrázku je česká státní vlajka?

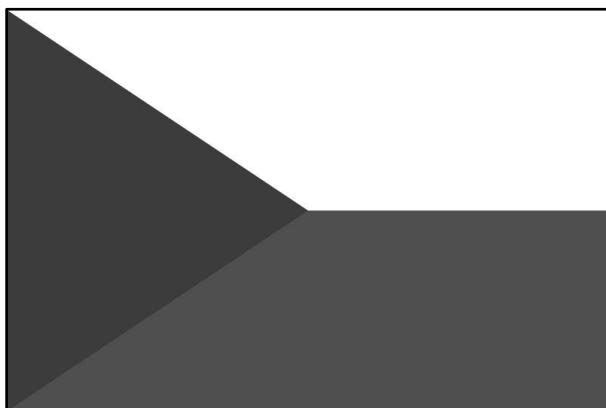
A)



B)



C)



D)



Datum aktualizace testové úlohy: 7. 12. 2015



5. Kdo může rozhodnout o změně Ústavy České republiky?

- A) Vláda.
- B) Prezident.
- C) Parlament.
- D) Předseda vlády.

Datum aktualizace testové úlohy: 12. 12. 2016

6. Který z těchto textů je začátek české státní hymny?

- A) Nad Tatrou se blýská.
- B) Kde domov můj, kde domov můj?
- C) Ať mír dál zůstává s touto krajinou.
- D) Svatý Václave, vévodo české země.

Datum aktualizace testové úlohy: 28. 4. 2014

7. Pan Novák svolal na náměstí demonstraci. Který právní předpis mu umožňuje svolat demonstraci?

- A) Trestní zákon.
- B) Zákon o policii.
- C) Občanský zákoník.
- D) Listina základních práv a svobod.


Datum aktualizace testové úlohy: 12. 12. 2016

8. Které barvy jsou na české státní vlajce?

- A) Bílá, zelená, modrá.
- B) Bílá, červená, modrá.
- C) Bílá, zelená, červená.
- D) Červená, modrá, zelená.

Datum aktualizace testové úlohy: 8. 12. 2014

9. Velký státní znak České republiky se skládá ze čtyř částí. Které území symbolizuje levá horní část?



- A) Čechy.
- B) Slezsko.
- C) Moravu.
- D) Slovensko.

Datum aktualizace testové úlohy: 20. 11. 2013

10. Který státní symbol České republiky je na obrázku?



- A) Státní vlajka.
- B) Malý státní znak.
- C) Velký státní znak.
- D) Vlajka prezidenta republiky.

Datum aktualizace testové úlohy: 11. 12. 2017

SPRÁVNÉ ŘEŠENÍ: 1B, 2A, 3D, 4C, 5C, 6B, 7D, 8B, 9A, 10B

6. ZÁKONODÁRNÁ A VÝKONNÁ MOC

1. Kdo z těchto osob může navrhnout v České republice zákon?

- A) Prezident republiky.
- B) Každý poslanec.
- C) Ústavní soudce.
- D) Každý občan.

Datum aktualizace testové úlohy: 12. 12. 2016

2. Pan Svoboda se chce stát poslancem Poslanecké sněmovny ČR. Kolik let nejdéle může být poslancem v jednom volebním období?

- A) 2 roky.
- B) 4 roky.
- C) 6 let.
- D) 8 let.

Datum aktualizace testové úlohy: 7. 12. 2015



3. Kdo se může stát prezidentem České republiky?

- A) Občan České republiky, který má právo volit a který dosáhl věku 18 let.
- B) Občan České republiky, který má právo volit a který dosáhl věku 21 let.
- C) Občan České republiky, který má právo volit a který dosáhl věku 26 let.
- D) Občan České republiky, který má právo volit a který dosáhl věku 40 let.

Datum aktualizace testové úlohy: 12. 12. 2016

4. Česká republika je demokratickou parlamentní republikou. Kdo je nejvyšším představitelem státu?

- A) Předseda vlády.
- B) Předseda Senátu.
- C) Ministr zahraničí.
- D) Prezident republiky.

Datum aktualizace testové úlohy: 8. 12. 2014

5. Které komory tvoří Parlament České republiky?

- A) Senát a vláda.
- B) Senát a ministerstva.
- C) Poslanecká sněmovna a vláda.
- D) Poslanecká sněmovna a Senát.

Datum aktualizace testové úlohy: 20. 11. 2013

6. Souhlas ke jmenování ústavního soudce musí dát Senát Parlamentu České republiky. Kdo poté jmenuje ústavního soudce?

- A) Prezident.
- B) Předseda vlády.
- C) Ministr spravedlnosti.
- D) Předseda Poslanecké sněmovny.

Datum aktualizace testové úlohy: 9. 12. 2019



7. Kolik volených zástupců má Senát České republiky?

- A) 27.
- B) 81.
- C) 200.
- D) 281.

Datum aktualizace testové úlohy: 10. 12. 2018

8. Která z těchto činností je úkolem Poslanecké sněmovny Parlamentu České republiky?

- A) Poslanecká sněmovna volí prezidenta.
- B) Poslanecká sněmovna jmenuje soudce.
- C) Poslanecká sněmovna uděluje státní vyznamenání.
- D) Poslanecká sněmovna projednává a schvaluje zákony.

Datum aktualizace testové úlohy: 11. 12. 2017

9. Kdo schvaluje zákony v České republice?

- A) Vláda ČR.
- B) Ústavní soud.
- C) Parlament ČR.
- D) Všichni občané.

Datum aktualizace testové úlohy: 8. 12. 2014

10. Kdo řídí vládu v České republice?

- A) Starosta obce.
- B) Předseda vlády.
- C) Předseda Senátu.
- D) Prezident republiky.

Datum aktualizace testové úlohy: 20. 11. 2013

SPRÁVNÉ ŘEŠENÍ: 1B, 2B, 3D, 4D, 5D, 6A, 7B, 8D, 9C, 10B



7. SOUDNÍ MOC A OCHRANA OBČANŮ

1. Pan Novotný určuje výši trestu za trestné činy. Kterou funkci vykonává?

- A) Funkci soudce.
- B) Funkci starosty.
- C) Funkci ministra.
- D) Funkci prezidenta.

Datum aktualizace testové úlohy: 8. 12. 2014

2. Paní Svobodová způsobila dopravní nehodu. Kdo ji může obhajovat u soudu?

- A) Notář.
- B) Soudce.
- C) Advokát.
- D) Exekutor.

Datum aktualizace testové úlohy: 8. 12. 2014

3. Který z těchto soudů rozhoduje o zrušení zákonů, které neodpovídají Ústavě České republiky?

- A) Vrchní soud.
- B) Ústavní soud.
- C) Krajský soud.
- D) Nejvyšší soud.

Datum aktualizace testové úlohy: 8. 12. 2014

4. Která instituce má za úkol chránit bezpečnost osob a majetku a veřejný pořádek?

- A) Policie České republiky.
- B) Armáda České republiky.
- C) Parlament České republiky.
- D) Ústavní soud České republiky.

Datum aktualizace testové úlohy: 9. 12. 2019

5. Pan Novotný pracuje jako advokát. Kterou z těchto činností může dělat?

- A) Určovat výši trestu za trestné činy.
- B) Poskytovat placené právní služby.
- C) Vydávat příkaz k zatčení.
- D) Zahajovat trestní stíhání.

Datum aktualizace testové úlohy: 28. 4. 2014



6. Na které z těchto institucí se podává trestní oznámení?

- A) Na policii.
- B) Na okresním soudě.
- C) Na ministerstvu spravedlnosti.
- D) Na obecním nebo městském úřadě.

Datum aktualizace testové úlohy: 7. 12. 2015

7. Co je úkolem státního zástupce?

- A) Vymáhat peníze.
- B) Vyhlášovat rozsudky.
- C) Zabavovat majetek dlužníkům.
- D) Podávat obžalobu proti obviněnému.

Datum aktualizace testové úlohy: 8. 12. 2014

8. Co je úkolem ombudsmana?

- A) Poskytovat placené právní služby.
- B) Rozhodovat o vině a trestu za trestné činy.
- C) Řešit stížnosti občanů na úřady státní správy.
- D) Zastupovat obžalovanou osobu v soudním řízení.

Datum aktualizace testové úlohy: 11. 12. 2017

9. Paní Svobodová se chce rozvést. Která instituce rozhodne o rozvodu?

- A) Soud.
- B) Městský úřad.
- C) Notářský úřad.
- D) Státní zastupitelství.

Datum aktualizace testové úlohy: 12. 12. 2016



10. Nejvyšší správní soud řeší například stížnosti voličů na průběh a výsledky prezidentských a parlamentních voleb. Kde sídlí tento soud?

- A) V Brně.
- B) V Plzni.
- C) V Ostravě.
- D) V Olomouci.

Datum aktualizace testové úlohy: 10. 12. 2018

SPRÁVNÉ ŘEŠENÍ: 1A, 2C, 3B, 4A, 5B, 6A, 7D, 8C, 9A, 10A

8. VOLBY

1. Do které instituce Evropské unie volí čeští občané své zástupce?

- A) Do Rady Evropy.
- B) Do Evropské komise.
- C) Do Evropského parlamentu.
- D) Do Evropského soudu pro lidská práva.

Datum aktualizace testové úlohy: 20. 11. 2013

2. Jak často se konají řádné volby do obecního zastupitelstva?

- A) Jednou za dva roky.
- B) Jednou za tři roky.
- C) Jednou za čtyři roky.
- D) Jednou za pět let.

Datum aktualizace testové úlohy: 8. 12. 2014

3. Od kolika let se může občan České republiky stát starostou?

- A) Od 18 let.
- B) Od 21 let.
- C) Od 30 let.
- D) Od 40 let.

Datum aktualizace testové úlohy: 9. 12. 2019



4. Kdo je nejvyšším představitelem kraje?

- A) Senátor.
- B) Starosta.
- C) Hejtman.
- D) Poslanec.

Datum aktualizace testové úlohy: 20. 11. 2013

5. Kdo je nejvyšším představitelem hlavního města Prahy?

- A) Ministr.
- B) Primátor.
- C) Hejtman.
- D) Prezident.

Datum aktualizace testové úlohy: 20. 11. 2013

6. Do které instituce nemohou občané České republiky volit své zástupce?

- A) Do vlády.
- B) Do Senátu.
- C) Do Poslanecké sněmovny.
- D) Do obecního zastupitelstva.

Datum aktualizace testové úlohy: 20. 11. 2013

7. Občané hlasovali o tom, jestli jejich obecní úřad postaví v obci novou radnici. Jak se jmenuje toto hlasování občanů?

- A) Obecní volby.
- B) Místní referendum.
- C) Dotazování občanů.
- D) Předvolební průzkum.

Datum aktualizace testové úlohy: 8. 12. 2014

8. Pan Novák je občanem České republiky a přišel k volbám. Kterým dokladem prokáže volební komisi svou totožnost a státní občanství ČR?

- A) Průkazem MHD.
- B) Průkazem pojištěnce.
- C) Řidičským průkazem.
- D) Občanským průkazem.

Datum aktualizace testové úlohy: 7. 12. 2015



9. V lednu 2018 volili Češi přímou volbou prezidenta České republiky. Za jak dlouho od poslední volby prezidenta bude další řádný termín prezidentských voleb?

- A) Za pět let.
- B) Za šest let.
- C) Za sedm let.
- D) Za osm let.

Datum aktualizace testové úlohy: 10. 12. 2018

10. Od kolika let se může občan České republiky účastnit voleb jako volič?

- A) Od 15 let.
- B) Od 16 let.
- C) Od 18 let.
- D) Od 21 let.

Datum aktualizace testové úlohy: 20. 11. 2013

SPRÁVNÉ ŘEŠENÍ: 1C, 2C, 3A, 4C, 5B, 6A, 7B, 8D, 9A, 10C

9. ZÁKLADNÍ PRÁVNÍ POJMY, SPRÁVNÍ A TRESTNÍ PRÁVO

1. Která z těchto vět o státním občanství České republiky je pravdivá?

- A) Státní občanství uděluje ministerstvo zahraničních věcí.
- B) Státní občanství získá každý, kdo se v České republice narodí.
- C) Žádost o udělení státního občanství České republiky se musí podat osobně.
- D) O udělení státního občanství se musí rozhodnout do 30 dnů od podání žádosti.

Datum aktualizace testové úlohy: 8. 12. 2014

2. Který úřad vydává občanům České republiky nový občanský průkaz?

- A) Policie ČR.
- B) Okresní soud.
- C) Ministerstvo spravedlnosti.
- D) Obecní úřad nebo úřad městské části.

Datum aktualizace testové úlohy: 9. 12. 2019



3. Paní Nováková si pořídila psa, a proto musí splnit určité povinnosti. Co paní Nováková ale nemusí udělat?

- A) Zajistit výcvik psa.
- B) Zajistit čip pro psa.
- C) Přihlásit psa na obecním úřadě.
- D) Uhradit škodu, kterou pes způsobil.

Datum aktualizace testové úlohy: 9. 12. 2019

4. Ve kterém případě paní Nováková nemusí požádat o nový občanský průkaz?

- A) Po změně příjmení.
- B) Po změně zaměstnání.
- C) Po změně místa trvalého pobytu.
- D) Po ukončení platnosti občanského průkazu.

Datum aktualizace testové úlohy: 7. 12. 2015

5. Které chování je trestným činem?

- A) Pan Novák způsobil dopravní nehodu, nepomohl zraněnému řidiči a od nehody ujel.
- B) Slečna Svobodová nezaplatila parkovné na placeném parkovišti.
- C) Paní Novotná neměla při cestě tramvají platnou jízdenku.
- D) Pan Svoboda u sebe neměl občanský průkaz.

Datum aktualizace testové úlohy: 8. 12. 2014

6. Pan Novotný je občanem České republiky a ztratil cestovní pas. Kde může požádat o nový pas?

- A) Na obecním úřadu.
- B) U okresního soudu.
- C) Na cizinecké policii.
- D) Na ministerstvu zahraničních věcí.

Datum aktualizace testové úlohy: 8. 12. 2014

7. Který z těchto úřadů může vydat potvrzení, že občan nemá záznam o trestu?

- A) Ministerstvo vnitra.
- B) Rejstřík trestů.
- C) Finanční úřad.
- D) Krajský soud.

Datum aktualizace testové úlohy: 8. 12. 2014



8. Který z těchto úřadů může ověřit podpis v písemném dokumentu?

- A) Ministerstvo vnitra.
- B) Finanční úřad.
- C) Okresní soud.
- D) Obecní úřad.

Datum aktualizace testové úlohy: 8. 12. 2014

9. Kolky slouží k zaplacení správních poplatků na státních úřadech. Která z těchto institucí prodává kolky?

- A) Česká pošta.
- B) Finanční úřad.
- C) Správa sociálního zabezpečení.
- D) Ministerstvo práce a sociálních věcí.

Datum aktualizace testové úlohy: 8. 12. 2014

10. Trestní odpovědnost mají podle zákona také mladistvé osoby. Která z těchto osob patří mezi mladistvé?

- A) Jana, které je 10 let.
- B) Martina, které je 14 let.
- C) David, kterému je 17 let.
- D) Zdeněk, kterému je 23 let.

Datum aktualizace testové úlohy: 11. 12. 2017

SPRÁVNÉ ŘEŠENÍ: 1C, 2D, 3A, 4B, 5A, 6A, 7B, 8D, 9A, 10C

10. OBČANSKÉ PRÁVO

1. Paní Svobodové se rozbil nový počítač. Šla jej proto reklamovat. Do kolika dnů musí prodejce vyřídit její reklamaci?

- A) Do 7 dnů.
- B) Do 14 dnů.
- C) Do 30 dnů.
- D) Do 60 dnů.

Datum aktualizace testové úlohy: 20. 11. 2013



2. Paní Novotná si pronajala byt na dobu neurčitou. Pronajímatel chce, aby zaplatila kauci (peněžní jistotu). Jak vysoká může být kauce podle zákona?

- A) Maximálně ve výši 1 měsíčního nájmu.
- B) Maximálně ve výši 3 měsíčních nájmuů.
- C) Maximálně ve výši 6 měsíčních nájmuů.
- D) Maximálně ve výši 12 měsíčních nájmuů.

Datum aktualizace testové úlohy: 11. 12. 2017

3. Pan Novotný chce koupit dům, který je na prodej. Na kterém úřadě získá informaci, kdo je majitelem domu?

- A) Na finančním úřadě.
- B) Na stavebním úřadě.
- C) Na katastrálním úřadě.
- D) Na živnostenském úřadě.

Datum aktualizace testové úlohy: 10. 12. 2018

4. Který majetek se nezapíše do katastru nemovitostí?

- A) Les.
- B) Pozemek.
- C) Automobil.
- D) Rodinný dům.

Datum aktualizace testové úlohy: 8. 12. 2014

5. Paní Svobodová si koupila v internetovém obchodě šaty. Když jí zboží přišlo, zjistila, že šaty mají jinou barvu, než si objednala. Do kolika dnů může paní Svobodová odstoupit od kupní smlouvy?

- A) Do 14 dnů od převzetí zboží.
- B) Do 20 dnů od převzetí zboží.
- C) Do 28 dnů od převzetí zboží.
- D) Do 30 dnů od převzetí zboží.

Datum aktualizace testové úlohy: 7. 12. 2015



6. Která z těchto osob může vést řízení o dědictví?

- A) Notář.
- B) Bankéř.
- C) Starosta.
- D) Policista.

Datum aktualizace testové úlohy: 28. 4. 2014

7. Paní Nováková má velké dluhy. Soud rozhodl, že musí dluh zaplatit. Kdo smí dluh vymáhat?

- A) Notář.
- B) Starosta.
- C) Policista.
- D) Exekutor.

Datum aktualizace testové úlohy: 8. 12. 2014

8. Paní Nováková koupila pozemek a chce postavit rodinný dům. Potřebuje získat stavební povolení. Který z těchto úřadů jí vydá stavební povolení?

- A) Finanční úřad.
- B) Stavební úřad.
- C) Katastrální úřad.
- D) Živnostenský úřad.

Datum aktualizace testové úlohy: 8. 12. 2014

9. Pan Novák si půjčil lyže z půjčovny lyží. Kterou smlouvu uzavřel pan Novák s půjčovnou?

- A) Kupní smlouvu.
- B) Nájemní smlouvu.
- C) Smlouvu o úschově.
- D) Smlouvu o přepravě.

Datum aktualizace testové úlohy: 8. 12. 2014



10. Pan Novák nemůže splácet úvěry bankám. Chce požádat o vyhlášení osobního bankrotu. Která instituce bude rozhodovat o vyhlášení osobního bankrotu?

- A) Soud.
- B) Banka.
- C) Úřad práce.
- D) Finanční úřad.

Datum aktualizace testové úlohy: 8. 12. 2014

SPRÁVNÉ ŘEŠENÍ: 1C, 2B, 3C, 4C, 5A, 6A, 7D, 8B, 9B, 10A

11. RODINNÉ PRÁVO

1. Kdo může v České republice uzavřít manželství?

- A) Svobodná žena a ženatý muž.
- B) Vdaná žena a rozvedený muž.
- C) Svobodná žena a svobodná žena.
- D) Svobodná žena a rozvedený muž.

Datum aktualizace testové úlohy: 11. 12. 2017

2. Který z těchto úřadů může ukončit manželství rozvodem?

- A) Obecní úřad.
- B) Okresní soud.
- C) Městská policie.
- D) Ministerstvo vnitra.

Datum aktualizace testové úlohy: 20. 11. 2013

3. Manželé Svobodovi jsou občané České republiky. Chtějí adoptovat dítě z dětského domova. Která instituce rozhoduje o adopci?

- A) Soud.
- B) Policie.
- C) Obecní úřad.
- D) Ministerstvo vnitra.

Datum aktualizace testové úlohy: 20. 11. 2013



4. Manžel nedává manželce peníze na domácnost a výživu dětí. Manžel neplní povinnosti ke své rodině. U kterého úřadu může manželka podat návrh na výživné?

- A) U soudu.
- B) V manželské poradně.
- C) V advokátní kanceláři.
- D) V exekutorské kanceláři.

Datum aktualizace testové úlohy: 8. 12. 2014

5. Panu Novákovi zemřela manželka. Kterou listinu mu vydá matriční úřad?

- A) Rodný list.
- B) Úmrtní list.
- C) Oddací list.
- D) Pamětní list.

Datum aktualizace testové úlohy: 20. 11. 2013

6. Jak se jmenuje úřad, který manželům vydá po svatbě oddací list?

- A) Obecní úřad.
- B) Okresní soud.
- C) Městská policie.
- D) Ministerstvo vnitra.

Datum aktualizace testové úlohy: 20. 11. 2013

7. Paní Nováková změnila po rozvodu příjmení. U které z těchto institucí změnu příjmení oznámila?

- A) U soudu.
- B) Na policii.
- C) Na matričním úřadě.
- D) Na Českém statistickém úřadě.

Datum aktualizace testové úlohy: 8. 12. 2014

8. Jak se jmenuje dokument, který manželům vydá matriční úřad po uzavření manželství?

- A) Rodný list.
- B) Oddací list.
- C) Prohlášení o uzavření manželství.
- D) Doklad o registrovaném partnerství.

Datum aktualizace testové úlohy: 11. 12. 2017



9. Který matriční doklad získá český občan po narození?

- A) Rodný list.
- B) Oddací list.
- C) Cestovní pas.
- D) Občanský průkaz.

Datum aktualizace testové úlohy: 9. 12. 2019

10. Manželé Novákoví se rozvedli. Jak se jmenuje dokument, který dostanou po rozvodu?

- A) Žaloba.
- B) Rodný list.
- C) Rozhodnutí.
- D) Rozsudek soudu.

Datum aktualizace testové úlohy: 20. 11. 2013

SPRÁVNÉ ŘEŠENÍ: 1D, 2B, 3A, 4A, 5B, 6A, 7C, 8B, 9A, 10D

12. MĚNA A BANKOVNÍ SOUSTAVA

1. Která instituce vydává v České republice bankovky a mince?

- A) Česká hospodářská komora.
- B) Český statistický úřad.
- C) Česká národní banka.
- D) Ministerstvo financí.

Datum aktualizace testové úlohy: 8. 12. 2014

2. Na bankovce je známá česká spisovatelka – autorka knihy *Babička*. Jak se tato žena jmenuje?



- A) Svatá Ludmila.
- B) Ema Destiniová.
- C) Božena Němcová.
- D) Anežka Přemyslovna.

Datum aktualizace testové úlohy: 10. 12. 2018

3. Jak se nazývá měna České republiky?

- A) Euro.
- B) Haléř.
- C) Koruna česká.
- D) Československá koruna.

Datum aktualizace testové úlohy: 20. 11. 2013

4. Pan Svoboda si chce vyměnit české koruny za eura. Kolik korun zaplatí za 1 euro při aktuálním kurzu?

- A) Přibližně 1 Kč.
- B) Přibližně 26 Kč.
- C) Přibližně 52 Kč.
- D) Přibližně 100 Kč.

Datum aktualizace testové úlohy: 10. 12. 2018



5. Jakou nejvyšší hodnotu má platná česká bankovka?

- A) 500 korun českých.
- B) 1 000 korun českých.
- C) 2 000 korun českých.
- D) 5 000 korun českých.

Datum aktualizace testové úlohy: 20. 11. 2013

6. Jakou nejnižší hodnotu má platná česká bankovka?

- A) 50 korun českých.
- B) 100 korun českých.
- C) 200 korun českých.
- D) 500 korun českých.

Datum aktualizace testové úlohy: 20. 11. 2013

7. Paní Svobodová si kupuje nové auto za 650 000 korun. Chce zaplatit v hotovosti, ale prodejce nemůže podle zákona tak velkou peněžní částku přijmout. Jakou maximální částku v hotovosti může prodejce přijmout?

- A) 100 000 Kč.
- B) 270 000 Kč.
- C) 400 000 Kč.
- D) 470 000 Kč.

Datum aktualizace testové úlohy: 9. 12. 2019

8. Paní Nováková nemá účet v bance a každý měsíc platí nájemné na účet pronajímatele. Který způsob platby použije k zaplacení nájemného?

- A) Příkaz k inkasu.
- B) Příkaz k úhradě.
- C) Poštovní poukázku.
- D) Převod peněz z debetní karty.

Datum aktualizace testové úlohy: 8. 12. 2014



9. Pan Svoboda si chce vyměnit české koruny za eura. Ve směnárně je tato tabule:

měna	počet	nákup	střed	prodej
EUR	1	25 Kč	25,50 Kč	26 Kč
BEZ POPLATKŮ				

Kolik korun zaplatí pan Svoboda za 100 eur?

- A) 2 500 Kč.
- B) 2 550 Kč.
- C) 2 600 Kč.
- D) 2 550 Kč + 15 % DPH.

Datum aktualizace testové úlohy: 11. 12. 2017

10. Která z těchto situací popisuje úvěr?

- A) Paní Svobodová si vzala v bance hypotéku.
- B) Paní Nováková dostává od státu přídatky na děti.
- C) Pan Novotný dostal mzdu od svého zaměstnavatele.
- D) Pan Procházka dostává od státu podporu v nezaměstnanosti.

Datum aktualizace testové úlohy: 7. 12. 2015

SPRÁVNÉ ŘEŠENÍ: 1C, 2C, 3C, 4B, 5D, 6B, 7B, 8C, 9C, 10A

13. DAŇOVÁ SOUSTAVA

1. Pan Novotný je podnikatel a má ze zákona povinnost platit daně. Který úřad kontroluje, jak platí daně?

- A) Obecní úřad.
- B) Finanční úřad.
- C) Katastrální úřad.
- D) Živnostenský úřad.

Datum aktualizace testové úlohy: 8. 12. 2014



2. Pan Svoboda si koupil od souseda zahradu a zaplatil státu daň z nabytí nemovité věci. Jaká je výše této daně?

- A) 4 % z ceny nemovitosti.
- B) 9 % z ceny nemovitosti.
- C) 15 % z ceny nemovitosti.
- D) 21 % z ceny nemovitosti.

Datum aktualizace testové úlohy: 9. 12. 2019

3. Každý měsíc odevzdává zaměstnanec 15 % ze mzdy státu. Jak se tato platba nazývá?

- A) Daň z přidané hodnoty.
- B) Spotřební daň.
- C) Darovací daň.
- D) Daň z příjmů.

Datum aktualizace testové úlohy: 20. 11. 2013

4. Paní Svobodová si koupila domů novou televizi. Kterou daň musí zaplatit v ceně televize?

- A) Daň z nemovitých věcí.
- B) Daň z přidané hodnoty.
- C) Spotřební daň.
- D) Daň z příjmů.

Datum aktualizace testové úlohy: 10. 12. 2018

5. Na kterém úřadu podává podnikatel daňové přiznání?

- A) Na obecním úřadu.
- B) Na finančním úřadu.
- C) Na ministerstvu financí.
- D) Na finančním ředitelství.

Datum aktualizace testové úlohy: 20. 11. 2013



6. Podnikatel si sám vyplňuje přiznání k dani z příjmů. Dokdy nejpozději podává podnikatel každý rok daňové přiznání k dani z příjmů?

- A) Do 1. ledna.
- B) Do 1. dubna.
- C) Do 1. června.
- D) Do 1. prosince.

Datum aktualizace testové úlohy: 28. 4. 2014

7. Na účtence za zboží je uvedeno:

Prodejní cena bez daně	10 000 Kč
DPH	2 100 Kč
Prodejní cena s daní	12 100 Kč

Která daň je na účtence uvedena?

- A) Daň z příjmů.
- B) Daň spotřební.
- C) Daň ekologická.
- D) Daň z přidané hodnoty.

Datum aktualizace testové úlohy: 8. 12. 2014

8. Na výplatním lístku paní Svobodové je uvedeno:

Základní mzda	15 000 Kč
Hrubá mzda	20 000 Kč
Čistá mzda	15 850 Kč

Kterou částku dostane paní Svobodová k výplatě?

- A) 15 000 Kč.
- B) 15 850 Kč.
- C) 20 000 Kč.
- D) 30 850 Kč.

Datum aktualizace testové úlohy: 8. 12. 2014



9. Který druh zboží má v ceně spotřební daň?

- A) Tvrdý alkohol.
- B) Elektrická energie.
- C) Sportovní oblečení.
- D) Elektronická zařízení.

Datum aktualizace testové úlohy: 12. 12. 2016

10. Pan Svoboda má zaplatit dluh 2 500 Kč na dani z příjmů. Kterému úřadu dluh zaplatí?

- A) Úřadu práce.
- B) Celnímu úřadu.
- C) Finančnímu úřadu.
- D) Českému statistickému úřadu.

Datum aktualizace testové úlohy: 7. 12. 2015

SPRÁVNÉ ŘEŠENÍ: 1B, 2A, 3D, 4B, 5B, 6B, 7D, 8B, 9A, 10C

14. SOCIÁLNÍ ZABEZPEČENÍ

1. Který úřad poskytuje podporu v nezaměstnanosti?

- A) Živnostenský úřad.
- B) Finanční úřad.
- C) Krajský úřad.
- D) Úřad práce.

Datum aktualizace testové úlohy: 20. 11. 2013

2. Panu Novotnému je 62 let a brzy půjde do starobního důchodu. Jak se jmenuje úřad, kde může žádat o starobní důchod?

- A) Úřad práce.
- B) Finanční úřad.
- C) Živnostenský úřad.
- D) Česká správa sociálního zabezpečení.

Datum aktualizace testové úlohy: 20. 11. 2013



3. Pan Novotný žije sám a má nedostatečný příjem. Na kterém úřadu bude pan Novotný žádat o příspěvek na živobytí a doplatek na bydlení?

- A) Na úřadu práce.
- B) Na správě sociálního zabezpečení.
- C) Na sociálním odboru obecního úřadu.
- D) Na ministerstvu práce a sociálních věcí.

Datum aktualizace testové úlohy: 9. 12. 2019

4. Pan Novák pracuje ve stavební firmě a v současné době je nemocný. Nedostává mzdu, ale peněžitou dávku. Jak se tato dávka jmenuje?

- A) Ošetřovné.
- B) Nemocenská.
- C) Příspěvek na živobytí.
- D) Podpora v nezaměstnanosti.

Datum aktualizace testové úlohy: 8. 12. 2014

5. Paní Svobodová je zaměstnaná v bance. Je nemocná a od lékaře dostane neschopenku (doklad o dočasné pracovní neschopnosti). Komu neschopenku odevzdá?

- A) Odborům.
- B) Úřadu práce.
- C) Zaměstnavateli.
- D) Obecnímu úřadu.

Datum aktualizace testové úlohy: 8. 12. 2014

6. Hmotná nouze je situace, kdy si člověk nemůže z různých důvodů zajistit základní životní podmínky. Která sociální dávka nepatří mezi pomoc v hmotné nouzi?

- A) Přídavek na dítě.
- B) Doplatek na bydlení.
- C) Příspěvek na živobytí.
- D) Mimořádná okamžitá pomoc.

Datum aktualizace testové úlohy: 9. 12. 2019



7. Panu Novákovi je 56 let a je nezaměstnaný. Jaká je nejdelší doba, po kterou může dostávat podporu v nezaměstnanosti?

- A) 6 měsíců.
- B) 11 měsíců.
- C) 18 měsíců.
- D) 24 měsíců.

Datum aktualizace testové úlohy: 7. 12. 2015

8. Paní Nováková pracuje jako učitelka na základní škole a čeká své první dítě. Má 3 týdny před porodem. Kterou z těchto peněžitých dávek může dostat před narozením dítěte?

- A) Porodné.
- B) Ošetrovné.
- C) Mateřskou.
- D) Rodičovskou.

Datum aktualizace testové úlohy: 8. 12. 2014

9. Manželé Svobodovi pracují na úřadu a paní Svobodová čeká dítě. Kdo může dostat rodičovskou dovolenou?

- A) Pouze otec.
- B) Pouze matka.
- C) Matka s prarodiči.
- D) Matka a/nebo otec.

Datum aktualizace testové úlohy: 11. 12. 2017

10. Paní Nováková byla v evidenci nezaměstnaných na úřadu práce. Včera začala pracovat. Kterým z těchto způsobů ukončí své zařazení v evidenci nezaměstnaných?

- A) Nemusí dělat nic.
- B) Informuje o nové práci úřad práce.
- C) Informuje o nové práci finanční úřad.
- D) Oznámi vyřazení z evidence novému zaměstnavateli.

Datum aktualizace testové úlohy: 8. 12. 2014

SPRÁVNÉ ŘEŠENÍ: 1D, 2D, 3A, 4B, 5C, 6A, 7B, 8C, 9D, 10B



15. ZAMĚSTNÁNÍ

1. *Slečna Novotná má na výplatním lístku tyto informace:*

VÝPLATNÍ LÍSTEK	
Hrubá mzda	20 000 Kč
Sociální pojištění	1 300 Kč
Zdravotní pojištění	900 Kč
Záloha na daň	4 020 Kč
Sleva na dani	2 070 Kč
Daň po slevě	1 950 Kč
Průměrná hrubá mzda	21 340 Kč
Čistá mzda	15 850 Kč

Kolik korun dostane na účet?

- A) 4 020 Kč.
- B) 15 850 Kč.
- C) 20 000 Kč.
- D) 21 340 Kč.

Datum aktualizace testové úlohy: 9. 12. 2019

2. **Kdy nemá zaměstnanec nárok na placené volno?**

- A) Když se stěhuje.
- B) Když má svatbu.
- C) Když jde se svým dítětem k lékaři.
- D) Když jde na pohřeb blízkému členovi rodiny.

Datum aktualizace testové úlohy: 12. 12. 2016

3. **Který z těchto údajů musí být podle zákona v každém případě v pracovní smlouvě?**

- A) Pracovní doba.
- B) Počet dnů dovolené.
- C) Místo výkonu práce.
- D) Termín výplaty mzdy.

Datum aktualizace testové úlohy: 8. 12. 2014



4. Minimální mzda je podle zákona nejnižší možná mzda zaměstnance. Jaká je aktuální minimální měsíční mzda v České republice?

- A) 6 000 Kč.
- B) 14 600 Kč.
- C) 17 500 Kč.
- D) 25 000 Kč.

Datum aktualizace testové úlohy: 9. 12. 2019

5. Pan Novák má zaměstnání na plný pracovní úvazek. Kolik hodin týdně musí podle zákona pracovat?

- A) 35 hodin.
- B) 40 hodin.
- C) 45 hodin.
- D) 50 hodin.

Datum aktualizace testové úlohy: 20. 11. 2013

6. Který zákon nebo zákoník upravuje vztah mezi zaměstnavatelem a zaměstnancem?

- A) Živnostenský zákon.
- B) Trestní zákoník.
- C) Zákon o rodině.
- D) Zákoník práce.

Datum aktualizace testové úlohy: 8. 12. 2014

7. Pan Novák uzavřel s firmou Stavby, s. r. o., pracovní poměr na dobu určitou. Jakou nejdelší dobu může trvat tento nový pracovní poměr bez prodloužení?

- A) Jeden rok.
- B) Dva roky.
- C) Tři roky.
- D) Čtyři roky.

Datum aktualizace testové úlohy: 9. 12. 2019



8. Paní Nováková má nové zaměstnání. Bude pracovat jako prodavačka. Získala pracovní smlouvu na dobu neurčitou s maximální zkušební dobou. Jaká bude podle zákona délka zkušební doby paní Novákové?

- A) 3 měsíce.
- B) 6 měsíců.
- C) 9 měsíců.
- D) 12 měsíců.

Datum aktualizace testové úlohy: 8. 12. 2014

9. Jaká je podle zákona délka týdenní pracovní doby v České republice?

- A) 24 hodin.
- B) 32 hodin.
- C) 40 hodin.
- D) 56 hodin.

Datum aktualizace testové úlohy: 20. 11. 2013

10. Pan Novák je zaměstnaný jako automechanik a pracuje 40 hodin týdně. Na jak dlouhou dovolenou má pan Novák nárok podle zákona v kalendářním roce?

- A) 2 týdny za rok.
- B) 4 týdny za rok.
- C) 6 týdnů za rok.
- D) 8 týdnů za rok.

Datum aktualizace testové úlohy: 8. 12. 2014

SPRÁVNÉ ŘEŠENÍ: 1B, 2A, 3C, 4B, 5B, 6D, 7C, 8A, 9C, 10B

16. PODNIKÁNÍ

1. Pan Novák je osoba samostatně výdělečně činná (OSVČ). Jak se nazývají jeho příjmy?

- A) Příjmy z důchodového připojištění.
- B) Příjmy ze samostatné činnosti.
- C) Příjmy ze závislé činnosti.
- D) Příjmy z pronájmu bytu.

Datum aktualizace testové úlohy: 3. 2. 2015



2. Která práce není živnost?

- A) Policejní služba.
- B) Kadeřnické služby.
- C) Průvodcovské služby.
- D) Služby soukromého detektiva.

Datum aktualizace testové úlohy: 28. 4. 2014

3. Podnikatel založil firmu. Ke které z uvedených daní se musel zaregistrovat na finančním úřadě?

- A) K dani z příjmů.
- B) K dani spotřební.
- C) K dani z nemovitosti.
- D) K dani z přidané hodnoty.

Datum aktualizace testové úlohy: 8. 12. 2014

4. Které pojištění musí zaměstnavatel v České republice platit za své zaměstnance?

- A) Životní pojištění.
- B) Zdravotní pojištění.
- C) Pojištění odpovědnosti.
- D) Důchodové připojištění.

Datum aktualizace testové úlohy: 20. 11. 2013

5. Pan Novák je majitelem obchodu s oděvy. Který úřad vydal panu Novákovi povolení k podnikání?

- A) Okresní soud.
- B) Finanční úřad.
- C) Živnostenský úřad.
- D) Ministerstvo práce a sociálních věcí.

Datum aktualizace testové úlohy: 8. 12. 2014

6. Pan Malý se rozhodl podnikat jako malíř pokojů. Na úřadě požádal, aby mu vydali živnostenské oprávnění. Kolik zaplatí za ohlášení živnosti?

- A) 1 000 korun.
- B) 5 000 korun.
- C) 10 000 korun.
- D) 15 000 korun.

Datum aktualizace testové úlohy: 9. 12. 2019



7. Paní Malá je překladatelka. Získala živnostenské oprávnění, zaregistrovala se na finančním úřadě a u zdravotní pojišťovny. Kde se paní Malá ještě musí zaregistrovat?

- A) Na úřadu práce.
- B) Na obchodním soudu.
- C) Na správě sociálního zabezpečení.
- D) Na obecním úřadě nebo úřadě městské části.

Datum aktualizace testové úlohy: 12. 12. 2016

8. Jak se označuje daň ze zisku, kterou platí podnikatelé státu?

- A) Darovací daň.
- B) Spotřební daň.
- C) Daň z přidané hodnoty.
- D) Daň z příjmů fyzických a právnických osob.

Datum aktualizace testové úlohy: 8. 12. 2014

9. Podnikatel podal žádost o vydání koncese, aby mohl provozovat cestovní kancelář. Který úřad zapíše podnikatele do rejstříku a vydá mu výpis?

- A) Obecní úřad.
- B) Okresní soud.
- C) Živnostenský úřad.
- D) Ministerstvo průmyslu a obchodu.

Datum aktualizace testové úlohy: 7. 12. 2015

10. Který z těchto dokumentů potřebuje občan k vykonávání volné živnosti?

- A) Rodný list.
- B) Výuční list.
- C) Daňové přiznání.
- D) Výpis ze živnostenského rejstříku.

Datum aktualizace testové úlohy: 28. 4. 2014

SPRÁVNÉ ŘEŠENÍ: 1B, 2A, 3A, 4B, 5C, 6A, 7C, 8D, 9C, 10D



ZÁKLADNÍ GEOGRAFICKÉ INFORMACE

17. POLOHA, ROZLOHA A PŘÍRODNÍ POMĚRY

1. Jaké je mezinárodní postavení České republiky?

- A) Je závislým územím Evropské unie.
- B) Je součástí státu Rakousko-Uhersko.
- C) Je jednou z částí federace Evropská unie.
- D) Je nezávislou republikou a je členem Evropské unie.

Datum aktualizace testové úlohy: 8. 12. 2014

2. Kdy začíná podle českého kalendáře léto?

- A) V dubnu.
- B) V červnu.
- C) V říjnu.
- D) V prosinci.

Datum aktualizace testové úlohy: 9. 12. 2019

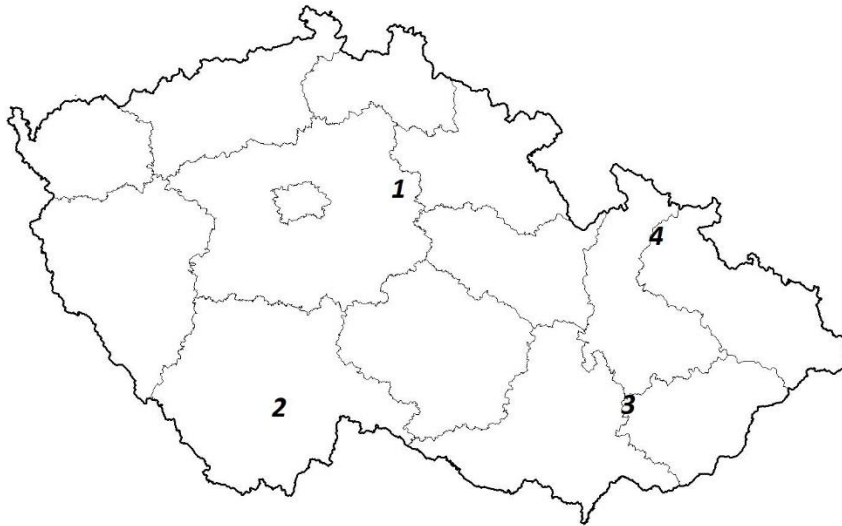
3. Kde pramení řeka Labe?

- A) V Orlických horách.
- B) V Krušných horách.
- C) V Krkonoších.
- D) Na Šumavě.

Datum aktualizace testové úlohy: 20. 11. 2013



4. Polabská nížina je největší nížina v Česku. Které číslo na mapě označuje Polabskou nížinu?



- A) 1.
- B) 2.
- C) 3.
- D) 4.

Datum aktualizace testové úlohy: 10. 12. 2018

5. Jaká je přibližně rozloha Česka?

- A) 39 000 km².
- B) 79 000 km².
- C) 119 000 km².
- D) 159 000 km².

Datum aktualizace testové úlohy: 20. 11. 2013

6. Která řeka teče Prahou?

- A) Labe.
- B) Odra.
- C) Vltava.
- D) Morava.

Datum aktualizace testové úlohy: 20. 11. 2013



7. Který stát je severním sousedem Česka?

- A) Polsko.
- B) Rakousko.
- C) Maďarsko.
- D) Slovensko.

Datum aktualizace testové úlohy: 8. 12. 2014

8. Nejvyšší hora Moravy se nachází v pohoří Hrubý Jeseník. Jak se tato hora jmenuje?

- A) Plechý.
- B) Praděd.
- C) Sněžka.
- D) Klínovec.

Datum aktualizace testové úlohy: 12. 12. 2016

9. Které státy sousedí s Českem?

- A) Maďarsko, Německo, Rakousko, Ukrajina.
- B) Maďarsko, Polsko, Rakousko, Slovensko.
- C) Německo, Polsko, Rakousko, Slovensko.
- D) Německo, Polsko, Rusko, Slovensko.

Datum aktualizace testové úlohy: 7. 12. 2015

10. Nejvyšší hora v České republice je Sněžka. Jakou má přibližně nadmořskou výšku?

- A) 800 metrů nad mořem.
- B) 1 600 metrů nad mořem.
- C) 2 400 metrů nad mořem.
- D) 3 200 metrů nad mořem.

Datum aktualizace testové úlohy: 7. 12. 2015

SPRÁVNÉ ŘEŠENÍ: 1D, 2B, 3C, 4A, 5B, 6C, 7A, 8B, 9C, 10B



18. PŘÍRODA A KRAJINA

1. Které z těchto míst není na seznamu světového kulturního dědictví UNESCO?

- A) Hrad Karlštejn.
- B) Historické centrum Prahy.
- C) Zámek a zahrady Kroměříž.
- D) Historické centrum Kutné Hory.

Datum aktualizace testové úlohy: 8. 12. 2014

2. Který národní park leží na Moravě?

- A) Národní park Podyjí.
- B) Národní park Šumava.
- C) Krkonošský národní park.
- D) Národní park České Švýcarsko.

Datum aktualizace testové úlohy: 20. 11. 2013

3. V Česku se nachází několik významných center zimních sportů. Které z těchto míst je známé jako centrum zimních sportů?

- A) Most.
- B) Třeboň.
- C) Poděbrady.
- D) Špindlerův Mlýn.

Datum aktualizace testové úlohy: 10. 12. 2018

4. Paní Svobodová chce jet na dovolenou na Moravu a chce tam navštívit hory. Kam pojede?

- A) Do Beskyd.
- B) Do Krkonoš.
- C) Do Krušných hor.
- D) Do Jizerských hor.

Datum aktualizace testové úlohy: 8. 12. 2014



5. Lipno je největší přehradní nádrž v Česku. Ve které části Česka leží?

- A) Na jižní Moravě.
- B) V jižních Čechách.
- C) Na severní Moravě.
- D) V severních Čechách.

Datum aktualizace testové úlohy: 20. 11. 2013

6. Památná hora Čechů se nachází v Ústeckém kraji blízko Roudnice nad Labem. Jak se tato hora jmenuje?



- A) Medvědín.
- B) Klínovec.
- C) Praděd.
- D) Říp.

Datum aktualizace testové úlohy: 9. 12. 2019



7. Pan Novák chce jet na výlet na hrad, který postavil Karel IV. pro korunovační klenoty. Kterou památku chce navštívit?

- A) Kost.
- B) Bezděz.
- C) Karlštejn.
- D) Křivoklát.

Datum aktualizace testové úlohy: 20. 11. 2013

8. Které město zapsané na seznamu UNESCO leží v jižních Čechách?

- A) Třebíč.
- B) Kroměříž.
- C) Kutná Hora.
- D) Český Krumlov.

Datum aktualizace testové úlohy: 20. 11. 2013

9. Jak se jmenuje nejvyšší pohoří na Moravě?

- A) Krušné hory.
- B) Krkonoše.
- C) Jeseníky.
- D) Šumava.

Datum aktualizace testové úlohy: 20. 11. 2013

10. Které lázeňské město se nachází ve středních Čechách?

- A) Poděbrady.
- B) Luhačovice.
- C) Karlovy Vary.
- D) Mariánské Lázně.

Datum aktualizace testové úlohy: 8. 12. 2014

SPRÁVNÉ ŘEŠENÍ: 1A, 2A, 3D, 4A, 5B, 6D, 7C, 8D, 9C, 10A

19. REGIONY A MÍSTA

1. Pan Novák bydlí v malém městě v Jihočeském kraji. Do kterého města pojedete na krajský úřad?

- A) Do Písku.
- B) Do Tábora.
- C) Do Českého Krumlova.
- D) Do Českých Budějovic.

Datum aktualizace testové úlohy: 11. 12. 2017

2. Jak se jmenuje největší letiště v České republice?

- A) Praha-Kbely.
- B) Brno-Tuřany.
- C) Letiště Karlovy Vary.
- D) Letiště Václava Havla Praha.

Datum aktualizace testové úlohy: 20. 11. 2013

3. Kateřinu přijali ke studiu na Univerzitě Palackého, která je nejstarší univerzitou na Moravě. Ve městě, kde bude studovat, je také památka UNESCO – sloup Nejsvětější Trojice. Ve kterém městě bude Kateřina studovat?

- A) Ve Zlíně.
- B) V Jihlavě.
- C) V Olomouci.
- D) V Pardubicích.



Datum aktualizace testové úlohy: 9. 12. 2019



4. Ve kterém městě sídlí Krajský úřad Středočeského kraje?

- A) V Praze.
- B) V Kolíně.
- C) V Benešově.
- D) V Mladé Boleslavi.

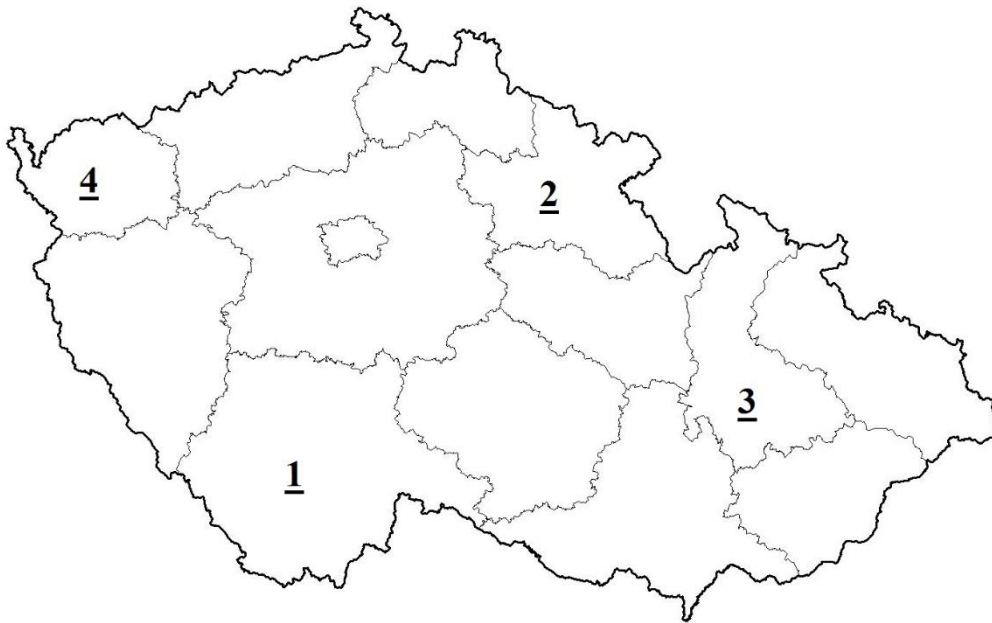
Datum aktualizace testové úlohy: 20. 11. 2013

5. Které město je centrem Moravskoslezského kraje?

- A) Třebíč.
- B) Jihlava.
- C) Ostrava.
- D) Pardubice.

Datum aktualizace testové úlohy: 20. 11. 2013

6. Které číslo na mapě označuje Olomoucký kraj?



- A) 1.
- B) 2.
- C) 3.
- D) 4.

Datum aktualizace testové úlohy: 8. 12. 2014



7. Perník je tradiční české pečivo s medem a kořením. Které město je slavné výrobou perníku?

- A) Hořice.
- B) Pardubice.
- C) Karlovy Vary.
- D) Mariánské Lázně.

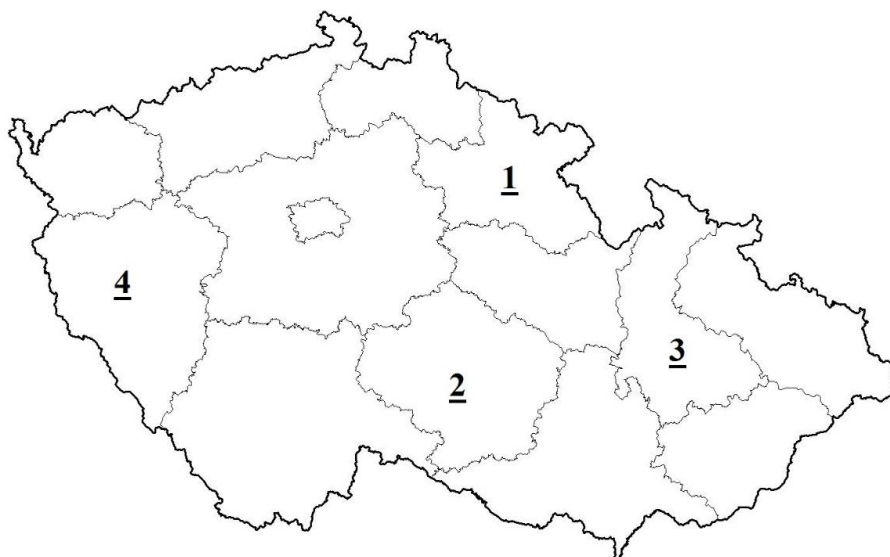
Datum aktualizace testové úlohy: 10. 12. 2018

8. Česko se skládá ze tří historických zemí: Čech, Moravy a Slezska. Které z těchto měst leží na Moravě?

- A) Pardubice.
- B) Liberec.
- C) Plzeň.
- D) Zlín.

Datum aktualizace testové úlohy: 12. 12. 2016

9. Které číslo na mapě označuje Kraj Vysočina?



- A) 1.
- B) 2.
- C) 3.
- D) 4.

Datum aktualizace testové úlohy: 20. 11. 2013



10. Které z těchto měst je průmyslovým centrem severních Čech?

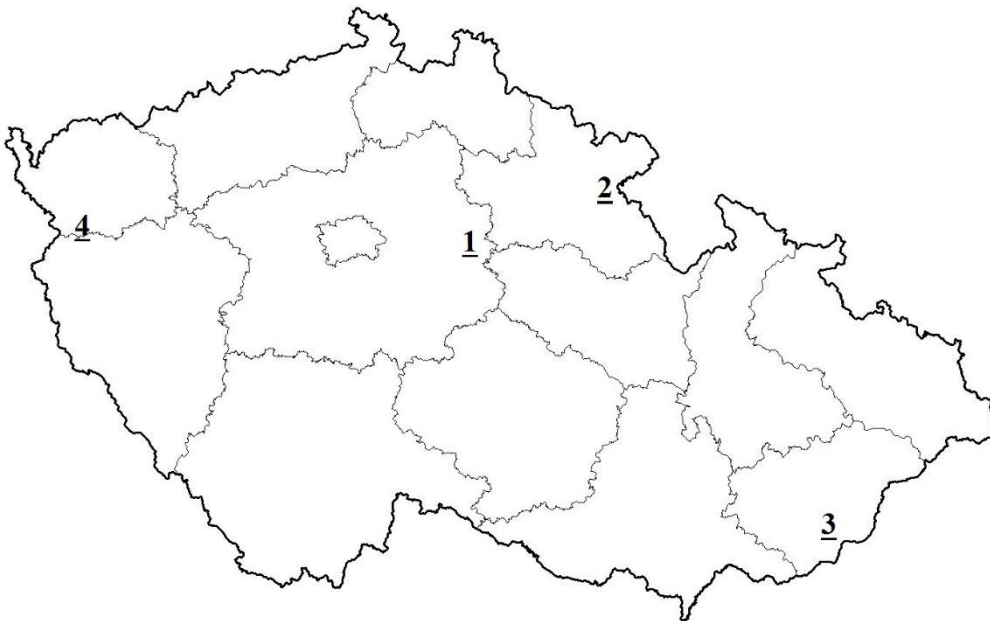
- A) Plzeň.
- B) Olomouc.
- C) Hradec Králové.
- D) Ústí nad Labem.

Datum aktualizace testové úlohy: 20. 11. 2013

SPRÁVNÉ ŘEŠENÍ: 1D, 2D, 3C, 4A, 5C, 6C, 7B, 8D, 9B, 10D

20. OCHRANA ŽIVOTNÍHO PROSTŘEDÍ

1. Česko má bohaté zásoby podzemních minerálních vod. Pramen minerální vody Vincentka se nachází v lázních Luhačovice. Které číslo na mapě označuje město Luhačovice?



- A) 1.
- B) 2.
- C) 3.
- D) 4.

Datum aktualizace testové úlohy: 7. 12. 2015



2. Který národní park leží u hranice Česka s Polskem?

- A) Národní park Podyjí.
- B) Šumavský národní park.
- C) Krkonošský národní park.
- D) Národní park České Švýcarsko.

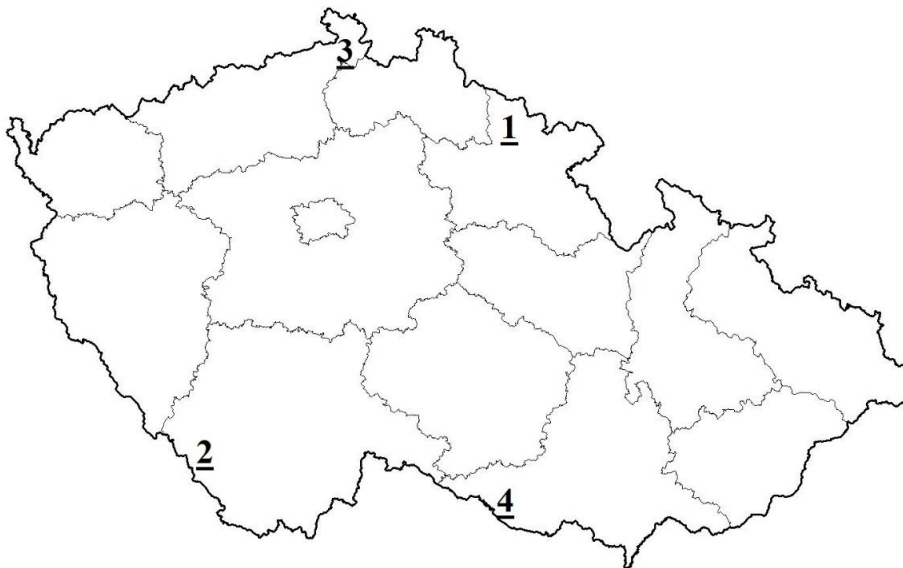
Datum aktualizace testové úlohy: 20. 11. 2013

3. Třídění odpadu pomáhá chránit životní prostředí. Kterou barvu má kontejner na papír?

- A) Bílou.
- B) Žlutou.
- C) Modrou.
- D) Zelenou.

Datum aktualizace testové úlohy: 20. 11. 2013

4. Které číslo označuje největší národní park v České republice – Šumavský národní park?



- A) 1.
- B) 2.
- C) 3.
- D) 4.

Datum aktualizace testové úlohy: 8. 12. 2014



5. Tříděný odpad se ukládá do barevných kontejnerů. Co nepatří do žlutého kontejneru?

- A) Igelitové tašky.
- B) Plastové nádoby.
- C) PET láhve od nápojů.
- D) Skleněné láhve od nápojů.

Datum aktualizace testové úlohy: 9. 6. 2014

6. Pan Svoboda třídí odpad. Co dává do modrého kontejneru?

- A) Sklo.
- B) Papír.
- C) Plasty.
- D) Bioodpad.

Datum aktualizace testové úlohy: 10. 12. 2018

7. Ve kterém kraji dosud probíhá těžba hnědého uhlí?

- A) V Ústeckém kraji.
- B) V Jihočeském kraji.
- C) V Libereckém kraji.
- D) V Jihomoravském kraji.

Datum aktualizace testové úlohy: 9. 12. 2019

8. Paní Svobodová se rozhodla jet s rodinou na výlet do národního parku. Co tam můžou dělat bez povolení?

- A) Postavit stan.
- B) Trhat květiny.
- C) Rozdělovat oheň.
- D) Chodit po značených cestách.

Datum aktualizace testové úlohy: 8. 12. 2014

9. Tříděný odpad se ukládá do barevných kontejnerů. Co patří do zeleného kontejneru?

- A) Skleněné láhve.
- B) Noviny a časopisy.
- C) PET láhve od nápojů.
- D) Použité elektrické přístroje.

Datum aktualizace testové úlohy: 8. 12. 2014



10. Česko má bohaté zásoby podzemních minerálních vod. Ve kterém regionu najdeme prameny minerálních vod, jako jsou Magnesia, Aquila, Mattoni?

- A) V okolí města Brno.
- B) V okolí města Ostrava.
- C) V okolí města Karlovy Vary.
- D) V okolí města Ústí nad Labem.

Datum aktualizace testové úlohy: 8. 12. 2014

SPRÁVNÉ ŘEŠENÍ: 1C, 2C, 3C, 4B, 5D, 6B, 7A, 8D, 9A, 10C

21. SOCIOKULTURNÍ SOUVISLOSTI

1. Kolik obyvatel má přibližně Česká republika?

- A) 5,6 milionu.
- B) 10,6 milionu.
- C) 15,6 milionu.
- D) 20,6 milionu.

Datum aktualizace testové úlohy: 11. 12. 2017

2. Národnostní menšinou je skupina občanů České republiky, kteří se hlásí k jiné než české národnosti. Kdo tvoří největší národnostní menšinu v Česku?

- A) Poláci.
- B) Němci.
- C) Slováci.
- D) Vietnamci.

Datum aktualizace testové úlohy: 8. 12. 2014

3. Kulturní region Haná je významnou zemědělskou oblastí a je známý lidovými zvyky. Které krajské město je centrem kulturního regionu Haná?

- A) Ostrava.
- B) Olomouc.
- C) Hradec Králové.
- D) České Budějovice.

Datum aktualizace testové úlohy: 9. 12. 2019



4. Veřejnoprávní rozhlas je rádio, které poskytuje službu veřejnosti. Jeho povinnosti definuje zákon. Která z těchto rozhlasových stanic je veřejnoprávní?

- A) Český rozhlas.
- B) Frekvence 1.
- C) Evropa 2.
- D) Impuls.

Datum aktualizace testové úlohy: 10. 12. 2018

5. Kolik obyvatel má hlavní město Praha?

- A) Přibližně 500 000.
- B) Přibližně 1 300 000.
- C) Přibližně 6 500 000.
- D) Přibližně 10 600 000.

Datum aktualizace testové úlohy: 11. 12. 2017

6. Ve kterém z těchto krajů Česka je v současné době nejvyšší procento nezaměstnaných?

- A) V Jihočeském kraji.
- B) V Libereckém kraji.
- C) Ve Středočeském kraji.
- D) V Moravskoslezském kraji.

Datum aktualizace testové úlohy: 11. 12. 2017

7. Které náboženství je v Česku nejrozšířenější?

- A) Islám.
- B) Judaismus.
- C) Křesťanství.
- D) Buddhismus.

Datum aktualizace testové úlohy: 20. 11. 2013

8. Ve kterém městě Česka žije po Praze nejvíc obyvatel?

- A) V Brně.
- B) V Olomouci.
- C) V Pardubicích.
- D) V Českých Budějovicích.

Datum aktualizace testové úlohy: 7. 12. 2015



9. Které tvrzení odpovídá postavení žen v české společnosti?

- A) Ženy nepracují v justici.
- B) Ženy nepracují v armádě.
- C) Ženy mají stejná práva jako muži.
- D) Ženy mají omezené volební právo.

Datum aktualizace testové úlohy: 20. 11. 2013

10. Jak se jmenuje největší město na Moravě?

- A) Zlín.
- B) Brno.
- C) Jihlava.
- D) Olomouc.

Datum aktualizace testové úlohy: 20. 11. 2013

SPRÁVNÉ ŘEŠENÍ: 1B, 2C, 3B, 4A, 5B, 6D, 7C, 8A, 9C, 10B

22. SOCIOEKONOMICKÉ SOUVISLOSTI

1. Ve kterém kraji je atomová elektrárna Temelín?

- A) V Ústeckém kraji.
- B) V Jihočeském kraji.
- C) V Jihomoravském kraji.
- D) V Moravskoslezském kraji.

Datum aktualizace testové úlohy: 20. 11. 2013

2. Která z těchto měst spojuje dálnice D1?

- A) Prahu a Pardubice.
- B) Prahu a Liberec.
- C) Prahu a Plzeň.
- D) Prahu a Brno.

Datum aktualizace testové úlohy: 20. 11. 2013



3. Jak se jmenuje slavný český podnik, který vyrábí klavíry?

- A) Amati.
- B) Petrof.
- C) Moser.
- D) Koh-i-noor.

Datum aktualizace testové úlohy: 10. 12. 2018

4. V Kopřivnici se vyrábí nákladní automobily tradiční značky. Jak se tato značka jmenuje?

- A) Tatra.
- B) Zetor.
- C) Škoda.
- D) Karosa.

Datum aktualizace testové úlohy: 8. 12. 2014

5. Který pivovar vyrábí pivo značky Pilsner Urquell?

- A) Starobrno.
- B) Staropramen.
- C) Plzeňský Prazdroj.
- D) Budějovický Budvar.

Datum aktualizace testové úlohy: 20. 11. 2013

6. Pro výrobu piva je důležitou surovinou chmel. Kde se pěstuje chmel?

- A) V okolí města Žatec.
- B) V okolí města Trutnov.
- C) V okolí města Mikulov.
- D) V okolí města Žďár nad Sázavou.

Datum aktualizace testové úlohy: 8. 12. 2014

7. Která z těchto nerostných surovin se těží v Česku?

- A) Zlato.
- B) Stříbro.
- C) Hnědé uhlí.
- D) Železná ruda.

Datum aktualizace testové úlohy: 20. 11. 2013



8. Které elektrárny vyrábí nejvíce elektrické energie v České republice?

- A) Vodní.
- B) Větrné.
- C) Uhlé.
- D) Solární.

Datum aktualizace testové úlohy: 9. 12. 2019

9. Která značka osobních automobilů se vyrábí ve městě Mladá Boleslav?

- A) Hyundai.
- B) Peugeot.
- C) Škoda.
- D) Tatra.

Datum aktualizace testové úlohy: 20. 11. 2013

10. Tradiční českou značkou je Becherovka. Ve kterém městě se tento alkoholický nápoj vyrábí?

- A) V Plzni.
- B) V Praze.
- C) V Karlových Varech.
- D) V Českých Budějovicích.

Datum aktualizace testové úlohy: 7. 12. 2015

SPRÁVNÉ ŘEŠENÍ: 1B, 2D, 3B, 4A, 5C, 6A, 7C, 8C, 9C, 10C

23. MEZINÁRODNÍ SOUVISLOSTI

1. Jak se jmenuje mezinárodní vojenská organizace, která zajišťuje bezpečnost České republiky?

- A) NATO.
- B) CEFTA.
- C) Evropská unie.
- D) Varšavská smlouva.

Datum aktualizace testové úlohy: 11. 12. 2017



2. Česká republika je členem Evropské unie. Které z těchto měst je sídlem hlavních orgánů Evropské unie?

- A) Řím.
- B) Paříž.
- C) Brusel.
- D) Londýn.

Datum aktualizace testové úlohy: 8. 12. 2014

3. V roce 2004 vstoupily do Evropské unie státy tzv. Visegrádské skupiny. Které čtyři státy tuto skupinu tvoří?

- A) Česko, Polsko, Rakousko, Slovinsko.
- B) Česko, Slovensko, Polsko, Německo.
- C) Česko, Slovensko, Maďarsko, Polsko.
- D) Česko, Slovensko, Maďarsko, Rakousko.

Datum aktualizace testové úlohy: 7. 12. 2015

4. Které město je sídlem Evropského soudu pro lidská práva?

- A) Haag.
- B) Brusel.
- C) Štrasburk.
- D) Lucemburk.

Datum aktualizace testové úlohy: 20. 11. 2013

5. V roce 2007 Česko vstoupilo do schengenského prostoru. Do které z těchto zemí může český občan cestovat bez kontroly na hranicích?

- A) Do Ruska.
- B) Do Německa.
- C) Do Velké Británie.
- D) Do Spojených států amerických.

Datum aktualizace testové úlohy: 12. 12. 2016



6. Paní Novotná je občankou České republiky a cestuje s rodinou na dovolenou na Slovensko. Slovensko je stejně jako Česko členem schengenského prostoru. Které doklady bude potřebovat?

- A) Cestovní pas nebo vízum.
- B) Cestovní pas, vízum a pozvání.
- C) Cestovní pas nebo občanský průkaz.
- D) Cestovní pas, vízum, potvrzení z banky o dostatku hotovosti na účtu.

Datum aktualizace testové úlohy: 11. 12. 2017

7. V roce 2004 Česká republika vstoupila do Evropské unie. Co může od té doby dělat český občan?

- A) Cestovat do celého světa bez víz.
- B) Pracovat a podnikat v zemích Evropské unie.
- C) Platit českou korunou v zemích Evropské unie.
- D) Používat češtinu jako úřední jazyk v sousedních zemích.

Datum aktualizace testové úlohy: 8. 12. 2014

8. Evropská komise je výkonný orgán Evropské unie a řídí její politiku. Kolik zástupců má Česko v Evropské komisi?

- A) 1.
- B) 21.
- C) 81.
- D) 200.

Datum aktualizace testové úlohy: 9. 12. 2019

9. Česká republika je členem NATO. Které město je sídlem této organizace?

- A) Paříž.
- B) Brusel.
- C) Ženeva.
- D) Štrasburk.

Datum aktualizace testové úlohy: 8. 12. 2014



10. Do které z těchto zemí nemůže cestovat český občan pouze s občanským průkazem?

- A) Do Rakouska.
- B) Do Německa.
- C) Do Francie.
- D) Do Ruska.

Datum aktualizace testové úlohy: 7. 12. 2015

SPRÁVNÉ ŘEŠENÍ: 1A, 2C, 3C, 4C, 5B, 6C, 7B, 8A, 9B, 10D





ZÁKLADNÍ HISTORICKÉ A KULTURNÍ INFORMACE

24. STŘEDOVĚK

1. Kdo podle pověsti vystoupil na horu Říp?

- A) Praotec Čech.
- B) Přemysl Oráč.
- C) Kněžna Libuše.
- D) Vladyka Horymír.

Datum aktualizace testové úlohy: 20. 11. 2013

2. Kterou osobnost si připomínáme na den české státnosti – 28. září?

- A) Svatou Anežku.
- B) Svatou Ludmilu.
- C) Svatého Václava.
- D) Svatého Vojtěcha.

Datum aktualizace testové úlohy: 20. 11. 2013

3. Jan Žižka má jezdeckou sochu na vrchu Vítkově v Praze. Kdo byl Jan Žižka?

- A) Český král.
- B) Katolický kněz.
- C) Husitský bojovník.
- D) Renesanční umělec.

Datum aktualizace testové úlohy: 10. 12. 2018

4. Jak se podle pověstí jmenuje kněžna, která předpověděla slávu Prahy?

- A) Šárka.
- B) Vlasta.
- C) Libuše.
- D) Ludmila.

Datum aktualizace testové úlohy: 20. 11. 2013



5. Jak se jmenovali bratři, kteří šířili křesťanství na Velké Moravě?

- A) Cyril a Metoděj.
- B) Jaromír a Oldřich.
- C) Václav a Boleslav.
- D) Spytihněv a Vratislav.

Datum aktualizace testové úlohy: 20. 11. 2013

6. Který rod vládl v Čechách od 9. století do roku 1306?

- A) Jagellonci.
- B) Přemyslovci.
- C) Habsburkové.
- D) Lucemburkové.

Datum aktualizace testové úlohy: 20. 11. 2013

7. Kdo byl mistr Jan Hus?

- A) Český král.
- B) Český lékař.
- C) Český cestovatel.
- D) Český reformátor církve.

Datum aktualizace testové úlohy: 20. 11. 2013

8. Ze kterého rodu byl slavný český král a římský císař Karel IV.?

- A) Z rodu Jagellonců.
- B) Z rodu Habsburků.
- C) Z rodu Lucemburků.
- D) Z rodu Přemyslovců.

Datum aktualizace testové úlohy: 7. 12. 2015

9. Kdo založil první českou univerzitu?

- A) Karel IV.
- B) Jiří z Poděbrad.
- C) Přemysl Otakar II.
- D) Vladislav Jagellonský.

Datum aktualizace testové úlohy: 12. 12. 2016



10. Co bylo cílem husitů?

- A) Založit republiku.
- B) Reformovat církve.
- C) Pomocť Habsburkům.
- D) Odstranit Lucemburky.

Datum aktualizace testové úlohy: 7. 12. 2015

SPRÁVNÉ ŘEŠENÍ: 1A, 2C, 3C, 4C, 5A, 6B, 7D, 8C, 9A, 10B

25. NOVOVĚK

1. Na přelomu 16. a 17. století se Praha stala kulturním centrem Evropy. Jak se jmenoval panovník, který tehdy v Čechách vládl?

- A) Rudolf II.
- B) Václav II.
- C) František II.
- D) Ferdinand II.

Datum aktualizace testové úlohy: 12. 12. 2016

2. Který rod začal vládnout Českému království v roce 1526 a vládl až do roku 1918?

- A) Jagellonci.
- B) Přemyslovci.
- C) Habsburkové.
- D) Lucemburkové.

Datum aktualizace testové úlohy: 8. 12. 2014

3. V roce 1618 se čeští nekatoličtí šlechtici postavili proti císaři. Tato událost začala válku, která se rozšířila téměř po celé Evropě. Jak se tato válka jmenuje?

- A) Zimní válka.
- B) Třicetiletá válka.
- C) Prusko-rakouská válka.
- D) Válka o rakouské dědictví.

Datum aktualizace testové úlohy: 9. 12. 2019



4. Ve kterém městě se odehrává pověst o Golemovi, kterého stvořil rabi Löw?

- A) V Plzni.
- B) V Praze.
- C) V Jihlavě.
- D) V Ostravě.

Datum aktualizace testové úlohy: 20. 11. 2013

5. Jan Amos Komenský byl významný český filozof, teolog a spisovatel, který žil v 17. století. Ve kterém oboru se nejvíce proslavil?

- A) Právo.
- B) Historie.
- C) Pedagogika.
- D) Matematika.

Datum aktualizace testové úlohy: 10. 12. 2018

6. Jak se jmenovala slavná císařovna, která vládla v českých zemích v 18. století?

- A) Marie Terezie.
- B) Marie Antoinetta.
- C) Kunhuta Uherská.
- D) Eliška Přemyslovna.

Datum aktualizace testové úlohy: 8. 12. 2014

7. České země byly od roku 1867 součástí Rakouska-Uherska. Kdy přestalo existovat Rakousko-Uhersko?

- A) V roce 1914.
- B) V roce 1918.
- C) V roce 1938.
- D) V roce 1948.

Datum aktualizace testové úlohy: 8. 12. 2014



8. Jak se říká rozvoji české kultury v 19. století?

- A) Jaro národů.
- B) Normalizace.
- C) Národní obrození.
- D) Sametová revoluce.

Datum aktualizace testové úlohy: 20. 11. 2013

9. Jak se jmenuje město, u kterého se odehrála v roce 1620 bitva na Bílé hoře?

- A) Brno.
- B) Praha.
- C) Olomouc.
- D) Karlovy Vary.

Datum aktualizace testové úlohy: 7. 12. 2015

10. Který panovník zavedl v českých zemích povinnou školní docházku pro děti?

- A) Josef II.
- B) Rudolf II.
- C) Marie Terezie.
- D) František Josef I.

Datum aktualizace testové úlohy: 7. 12. 2015

SPRÁVNÉ ŘEŠENÍ: 1A, 2C, 3B, 4B, 5C, 6A, 7B, 8C, 9B, 10C

26. DĚJINY ČESKOSLOVENSKA DO ROKU 1948

1. Co pro Československo znamenala mnichovská dohoda, kterou podepsalo Německo a další tři státy v září 1938?

- A) Začátek války.
- B) Obsazení Prahy.
- C) Ztrátu pohraničí.
- D) Ztrátu Slovenska.

Datum aktualizace testové úlohy: 20. 11. 2013



2. Jak se jmenovala jedna z českých obcí, kterou Němci po atentátu na Reinharda Heydricha v roce 1942 zcela zničili?

- A) Lidice.
- B) Stadice.
- C) Hrusice.
- D) Věstonice.

Datum aktualizace testové úlohy: 7. 12. 2015

3. Jak se jmenoval československý prezident, který žil za 2. světové války ve Velké Británii?

- A) Edvard Beneš.
- B) Klement Gottwald.
- C) Antonín Zápotocký.
- D) Tomáš Garrigue Masaryk.

Datum aktualizace testové úlohy: 20. 11. 2013

4. Které velké armády osvobodily území Československa v roce 1945?

- A) Americká a anglická.
- B) Americká a sovětská.
- C) Americká a kanadská.
- D) Americká a francouzská.

Datum aktualizace testové úlohy: 20. 11. 2013

5. Co se stalo 17. listopadu 1939 na českém území?

- A) Nacisté zavřeli vysoké školy.
- B) Nacisté zcela zničili obec Lidice.
- C) Armády zemí Varšavské smlouvy obsadily Československo.
- D) Americká a sovětská armáda osvobodily území Československa.

Datum aktualizace testové úlohy: 9. 12. 2019

6. Kdo se stal prvním československým prezidentem v roce 1918?

- A) T. G. Masaryk.
- B) Edvard Beneš.
- C) Karel Kramář.
- D) Alois Rašín.

Datum aktualizace testové úlohy: 20. 11. 2013



7. Jak se jmenoval zastupující říšský protektor, na kterého spáchali Gabčík a Kubiš v roce 1942 v Praze atentát?

- A) K. H. Frank.
- B) Joseph Goebbels.
- C) Hermann Göring.
- D) Reinhard Heydrich.

Datum aktualizace testové úlohy: 8. 12. 2014

8. Který den si Česká republika připomíná konec druhé světové války – Den vítězství?

- A) 6. července.
- B) 8. května.
- C) 28. října.
- D) 28. září.

Datum aktualizace testové úlohy: 8. 12. 2014

9. Která historická událost předcházela vzniku Československa v roce 1918?

- A) Sametová revoluce.
- B) První světová válka.
- C) Druhá světová válka.
- D) Světová hospodářská krize.

Datum aktualizace testové úlohy: 9. 12. 2019

10. Kdy vznikl samostatný československý stát?

- A) 29. září 1938.
- B) 1. ledna 1993.
- C) 28. října 1918.
- D) 8. května 1945.

Datum aktualizace testové úlohy: 20. 11. 2013

SPRÁVNÉ ŘEŠENÍ: 1C, 2A, 3A, 4B, 5A, 6A, 7D, 8B, 9B, 10C



27. DĚJINY ČESKOSLOVENSKA OD ROKU 1948 DO ROKU 1989

1. Kdo získal v únoru 1948 vládu nad Československem?

- A) Fašisté.
- B) Nacisté.
- C) Socialisté.
- D) Komunisté.

Datum aktualizace testové úlohy: 20. 11. 2013

2. Jak se jmenoval student, který se upálil v lednu 1969 v Praze na Václavském náměstí?

- A) Jan Palach.
- B) Jan Opletal.
- C) Martin Šmíd.
- D) Václav Sedláček.

Datum aktualizace testové úlohy: 12. 12. 2016

3. Jak dlouho trvala totalitní vláda Komunistické strany Československa?

- A) Přibližně 10 let.
- B) Přibližně 20 let.
- C) Přibližně 30 let.
- D) Přibližně 40 let.

Datum aktualizace testové úlohy: 12. 12. 2016

4. Jak se jmenoval dokument, kterým někteří občané v 70. letech protestovali proti komunistickému režimu?

- A) Poučení z krizového vývoje.
- B) Několik vět.
- C) 2 000 slov.
- D) Charta 77.

Datum aktualizace testové úlohy: 20. 11. 2013

5. Kdy vojáci zemí Varšavské smlouvy obsadili Československo?

- A) 28. října 1918.
- B) 21. srpna 1968.
- C) 15. března 1939.
- D) 17. listopadu 1989.

Datum aktualizace testové úlohy: 8. 12. 2014



6. Kdy začala v Československu sametová revoluce?

- A) 8. května 1945.
- B) 25. února 1948.
- C) 17. listopadu 1939.
- D) 17. listopadu 1989.

Datum aktualizace testové úlohy: 20. 11. 2013

7. Kdo se stal v prosinci 1989 československým prezidentem?

- A) Miloš Zeman.
- B) Václav Klaus.
- C) Václav Havel.
- D) Alexander Dubček.

Datum aktualizace testové úlohy: 20. 11. 2013

8. Jaký program měla protikomunistická občanská iniciativa Charta 77?

- A) Ozbrojený boj.
- B) Uměleckou tvorbu.
- C) Ochranu lidských práv.
- D) Vydávání české literatury v zahraničí.

Datum aktualizace testové úlohy: 8. 12. 2014

9. Pražské jaro je období politického a kulturního uvolnění během vlády Komunistické strany Československa. Ve kterém roce proběhlo?

- A) 1938.
- B) 1948.
- C) 1958.
- D) 1968.

Datum aktualizace testové úlohy: 10. 12. 2018



10. Jak se jmenovala česká politička odsouzená v roce 1950 v politickém procesu k trestu smrti?

- A) Marie Majerová.
- B) Zdena Mašínová.
- C) Milada Horáková.
- D) Marta Gottwaldová.

Datum aktualizace testové úlohy: 11. 12. 2017

SPRÁVNÉ ŘEŠENÍ: 1D, 2A, 3D, 4D, 5B, 6D, 7C, 8C, 9D, 10C

28. DĚJINY ČESKA OD ROKU 1989

1. Kdy vznikla samostatná Česká republika?

- A) 1. ledna 1993.
- B) 28. října 1918.
- C) 8. května 1945.
- D) 17. listopadu 1989.

Datum aktualizace testové úlohy: 11. 12. 2017

2. Česká republika je od roku 1999 členem NATO. K čemu tato organizace slouží?

- A) K vědecké spolupráci.
- B) K vojenské spolupráci.
- C) K rozvojové spolupráci.
- D) K ekonomické spolupráci.

Datum aktualizace testové úlohy: 9. 12. 2019

3. Kdy Česká republika vstoupila do Evropské unie?

- A) V roce 1989.
- B) V roce 1993.
- C) V roce 1999.
- D) V roce 2004.

Datum aktualizace testové úlohy: 7. 12. 2015



4. Které dva státy vznikly po rozpadu Československa v roce 1993?

- A) Čechy a Morava.
- B) Česká republika a Slovenská republika.
- C) Protektorát Čechy a Morava a Slovenská republika.
- D) Česká socialistická republika a Slovenská socialistická republika.

Datum aktualizace testové úlohy: 10. 12. 2018

5. Kdy se v České republice slaví Den boje za svobodu a demokracii?

- A) 28. října.
- B) 8. května.
- C) 6. července.
- D) 17. listopadu.

Datum aktualizace testové úlohy: 20. 11. 2013

6. Kterou z těchto funkcí vykonával Václav Havel?

- A) Funkci předsedy vlády.
- B) Funkci předsedy Senátu.
- C) Funkci prezidenta republiky.
- D) Funkci předsedy Poslanecké sněmovny.

Datum aktualizace testové úlohy: 8. 12. 2014

7. Který den se slaví státní svátek Den obnovy samostatného českého státu?

- A) 28. září.
- B) 1. ledna.
- C) 28. října.
- D) 17. listopadu.

Datum aktualizace testové úlohy: 7. 12. 2015

8. Kdo se stal českým prezidentem po Václavu Havlovi v roce 2003?

- A) Jan Švejnar.
- B) Václav Klaus.
- C) Miloš Zeman.
- D) Vladimír Špidla.

Datum aktualizace testové úlohy: 20. 11. 2013



9. Kdo se stal českým prezidentem po Václavu Klausovi v roce 2013?

- A) Jan Fischer.
- B) Miloš Zeman.
- C) Přemysl Sobotka.
- D) Karel Schwarzenberg.

Datum aktualizace testové úlohy: 20. 11. 2013

10. Česká armáda se účastní různých zahraničních misí. Ve které zemi takto působí už od roku 2002?

- A) Ve Rwandě.
- B) V Somálsku.
- C) Ve Vietnamu.
- D) V Afghánistánu.

Datum aktualizace testové úlohy: 12. 12. 2016

SPRÁVNÉ ŘEŠENÍ: 1A, 2B, 3D, 4B, 5D, 6C, 7B, 8B, 9B, 10D

29. VÝZNAMNÉ OSOBNOSTI OD 19. STOLETÍ DO SOUČASNOSTI

1. Které z těchto hudebních děl složil Antonín Dvořák?

- A) Má vlast.
- B) Z Nového světa.
- C) Prodaná nevěsta.
- D) Česká mše vánoční.

Datum aktualizace testové úlohy: 10. 12. 2018

2. Jak se jmenuje hlavní postava nejznámějšího románu Jaroslava Haška?

- A) Markéta Lazarová.
- B) Josef Švejk.
- C) Babička.
- D) Josef K.

Datum aktualizace testové úlohy: 20. 11. 2013



3. Který český spisovatel získal Nobelovu cenu za literaturu?

- A) Franz Kafka.
- B) Jaroslav Hašek.
- C) Jaroslav Seifert.
- D) Bohumil Hrabal.

Datum aktualizace testové úlohy: 20. 11. 2013

4. Který slavný český režisér žil v USA a dostal několik filmových cen Oscar?

- A) Jan Svěrák.
- B) Jiří Menzel.
- C) Jan Hřebejk.
- D) Miloš Forman.

Datum aktualizace testové úlohy: 10. 12. 2018

5. V roce 1959 dostal Jaroslav Heyrovský jako první Čech Nobelovu cenu. Ve kterém oboru ji získal?

- A) V chemii.
- B) V literatuře.
- C) V medicíně.
- D) V ekonomii.

Datum aktualizace testové úlohy: 20. 11. 2013

6. Ve kterém oboru vynikl František Kupka?

- A) V hudbě.
- B) V divadle.
- C) V literatuře.
- D) V malířství.

Datum aktualizace testové úlohy: 20. 11. 2013

7. Jak se jmenoval český podnikatel a zakladatel významné strojírenské firmy v Plzni?

- A) Emil Škoda.
- B) Tomáš Baťa.
- C) Emil Kolben.
- D) Václav Laurin.

Datum aktualizace testové úlohy: 20. 11. 2013



8. Co vynalezl český chemik Otto Wichterle?

- A) Benzin.
- B) Lék penicilin.
- C) Plastickou trhavinu.
- D) Měkké kontaktní čočky.

Datum aktualizace testové úlohy: 7. 12. 2015

9. Jak se jmenuje literární dílo, které napsal Karel Hynek Mácha?

- A) Máj.
- B) Babička.
- C) F. L. Věk.
- D) Povídky malostranské.

Datum aktualizace testové úlohy: 20. 11. 2013

10. Ve kterém sportu se proslavil Jaromír Jágr?

- A) V tenisu.
- B) Ve fotbalu.
- C) V cyklistice.
- D) V ledním hokeji.

Datum aktualizace testové úlohy: 7. 12. 2015

SPRÁVNÉ ŘEŠENÍ: 1B, 2B, 3C, 4D, 5A, 6D, 7A, 8D, 9A, 10D



30. UMĚNÍ OD STŘEDOVĚKU DO SOUČASNOSTI

1. Která významná pražská židovská památka je na obrázku?



- A) Anežský klášter.
- B) Staronová synagoga.
- C) Staroměstská radnice.
- D) Kostel svatého Tomáše.

Datum aktualizace testové úlohy: 20. 11. 2013

2. Na kterém obrázku jsou Pražský hrad s gotickým Chrámem svatého Víta – symboly české státnosti?

A)



B)



C)



D)



Datum aktualizace testové úlohy: 20. 11. 2013

3. Na kterém obrázku je Národní divadlo v Praze?

A)



B)



C)



D)



Datum aktualizace testové úlohy: 20. 11. 2013

4. Na kterém obrázku je hrad Karlštejn, který založil Karel IV.?

A)



B)



C)



D)



Datum aktualizace testové úlohy: 20. 11. 2013



5. Na kterém obrázku je Petřínská rozhledna v Praze?


A)




B)



C)



D)



Datum aktualizace testové úlohy: 7. 12. 2015

6. Na kterém obrázku je gotický kostel svaté Barbory v Kutné Hoře?

A)




B)



C)



D)



Datum aktualizace testové úlohy: 20. 11. 2013

7. Koho představuje tato socha na pražském Vítkově?



- A) Jana Žižku.
- B) Miroslava Tyrše.
- C) Jiřího z Poděbrad.
- D) Tomáše Garrigua Masaryka.

Datum aktualizace testové úlohy: 12. 12. 2016

8. Které pražské muzeum je na tomto obrázku?



- A) Národní muzeum.
- B) Technické muzeum.
- C) Zemědělské muzeum.
- D) Uměleckoprůmyslové muzeum.

Datum aktualizace testové úlohy: 11. 12. 2017



9. Orloj jsou středověké hodiny na věži. Na kterém obrázku je Pražský orloj?

A)



B)



C)



D)



Datum aktualizace testové úlohy: 7. 12. 2015

10. Na obrázku je známá pražská budova ve stylu secese. K čemu slouží tato budova?



- A) Je to banka.
- B) Je to letiště.
- C) Je to nádraží.
- D) Je to parlament.

Datum aktualizace testové úlohy: 10. 12. 2018

SPRÁVNÉ ŘEŠENÍ: 1B, 2A, 3B, 4C, 5B, 6B, 7A, 8A, 9C, 10C



CITACE OBRAZOVÉHO MATERIÁLU

5. POLITICKÝ SYSTÉM

Testová úloha 4, alternativa A

[online]. [cit. 2015-10-14]. Dostupný pod licencí Public domain na WWW:

<http://commons.wikimedia.org/wiki/File:Small_coat_of_arms_of_the_Czech_Republic.svg>

Testová úloha 4, alternativa B

[online]. [cit. 2015-10-14]. Dostupný pod licencí Public domain na WWW:

<https://commons.wikimedia.org/wiki/File:Flag_of_the_president_of_the_Czech_Republic.svg?uselang=cs>

Testová úloha 4, alternativa C

[online]. [cit. 2015-10-14]. Dostupný pod licencí Public domain na WWW:

<https://commons.wikimedia.org/wiki/File:Flag_of_the_Czech_Republic.svg?uselang=cs>

Testová úloha 4, alternativa D

[online]. [cit. 2015-10-14]. Dostupný pod licencí Public domain na WWW:

<http://commons.wikimedia.org/wiki/File:Coat_of_arms_of_the_Czech_Republic.svg>

Testová úloha 9

[online]. [cit. 2013-08-12]. Dostupný pod licencí Public domain na WWW:

<http://commons.wikimedia.org/wiki/File:Coat_of_arms_of_the_Czech_Republic.svg>

Testová úloha 10

[online]. [cit. 2013-09-27]. Dostupný pod licencí Public domain na WWW:

<http://commons.wikimedia.org/wiki/File:Small_coat_of_arms_of_the_Czech_Republic.svg>

12. MĚNA A BANKOVNÍ SOUSTAVA

Testová úloha 2

Peníze, koruna, mince [online]. [cit. 2018-12-10]. Dostupný pod licencí Creative Commons na WWW: <<https://pixabay.com/cs/pen%C3%ADze-koruna-mince-bankovky-%C4%8Desky-215006/>>

18. PŘÍRODA A KRAJINA

Testová úloha 6

SKÁLA, B. [online]. [cit. 2019-12-09]. Dostupný pod licencí Creative Commons na WWW:

<<https://commons.wikimedia.org/wiki/File:Ctin%C4%9Bves-a-%C5%98%C3%ADp2017.jpg>>

19. REGIONY A MÍSTA

Testová úloha 3

ONDRANESS [online]. [cit. 2019-12-09]. Dostupný pod licencí Creative Commons na WWW:

<https://commons.wikimedia.org/wiki/File:Sloup_Nejsv%C4%9Bt%C4%9Bj%C5%A1%C3%AD_Trojice,_Olomouc.jpg>

30. UMĚNÍ OD STŘEDOVĚKU DO SOUČASNOSTI

Testová úloha 1

BARÁNEK, D. [online]. [cit. 2013-08-16]. Dostupný pod licencí Creative Commons na WWW:

<http://commons.wikimedia.org/wiki/File:Praha,_Josefov,_Staronov%C3%A1_synagoga_01.jpg>

Testová úloha 2, alternativa A

GROH, J. [online]. [cit. 2013-09-06]. Dostupný pod licencí Creative Commons na WWW:

<http://commons.wikimedia.org/wiki/File:Povodn%C4%9B_v_Praze,_33.jpg>

Testová úloha 2, alternativa B

ADÁMEK, P. [online]. [cit. 2013-09-06]. Dostupný pod licencí Public domain na WWW:

<http://commons.wikimedia.org/wiki/File:Brno-%C5%A0pilberk_2.jpg>

Testová úloha 2, alternativa C

H2K4. [online]. [cit. 2013-08-23]. Dostupný pod licencí Creative Commons na WWW:

<http://commons.wikimedia.org/wiki/File:%C4%8Cesk%C3%BD_Krumlov,_z%C3%A1mek_%C4%8Cesk%C3%BD_Krumlov.JPG>

Testová úloha 2, alternativa D

DUDÍK, J. [online]. [cit. 2013-09-06]. Dostupný pod licencí Creative Commons na WWW:

<http://commons.wikimedia.org/wiki/File:%C4%8Cesk%C3%BD_%C5%A0ternberk,_z%C3%A1mek_01.jpg>

Testová úloha 3, alternativa A

ACONCAGUA. [online]. [cit. 2013-08-16]. Dostupný pod licencí Creative Commons na WWW: <http://commons.wikimedia.org/wiki/File:Rudolfinum_Prague.jpg>

Testová úloha 3, alternativa B

ZÖRNER, P. E. [online]. [cit. 2013-08-23]. Dostupný pod licencí Creative Commons na WWW: <http://commons.wikimedia.org/wiki/File:Praha_2005-09-20_n%C3%A1rodn%C3%AD_divadlo.jpg>

Testová úloha 3, alternativa C

SCHAEFER, H. P. [online]. [cit. 2013-08-23]. Dostupný pod licencí Creative Commons na WWW:

<http://commons.wikimedia.org/wiki/File:Prag_obecni_d%C3%BBm_gemeindehaus.jpg>

Testová úloha 3, alternativa D

BAYARCAL, C. [online]. [cit. 2013-08-16]. Dostupný pod licencí Creative Commons na WWW: <http://commons.wikimedia.org/wiki/File:Czech_National_Museum.jpg>

Testová úloha 4, alternativa A

LEHOTSKY. [online]. [cit. 2013-08-16]. Dostupný pod licencí Creative Commons na WWW:

<[http://commons.wikimedia.org/wiki/File:Hrad_K%C5%99ivokl%C3%A1t_\(K%C5%99ivokl%C3%A1t\).JPG](http://commons.wikimedia.org/wiki/File:Hrad_K%C5%99ivokl%C3%A1t_(K%C5%99ivokl%C3%A1t).JPG)>

Testová úloha 4, alternativa B

PAKOS. [online]. [cit. 2013-08-16]. Dostupný pod licencí Creative Commons na WWW:

<<http://commons.wikimedia.org/wiki/File:Loket0809.JPG>>

Testová úloha 4, alternativa C

RITTER, M. [online]. [cit. 2013-08-16]. Dostupný pod licencí Creative Commons na WWW:

<http://commons.wikimedia.org/wiki/File:Hrad_Karl%C5%A1tejn_06.jpg>

Testová úloha 4, alternativa D

BJALEK, M. [online]. [cit. 2013-08-16]. Dostupný pod licencí Creative Commons na WWW:

<[http://commons.wikimedia.org/wiki/File:Hrad_Bouzov_\(Bouzov\),_Bouzov.JPG](http://commons.wikimedia.org/wiki/File:Hrad_Bouzov_(Bouzov),_Bouzov.JPG)>

Testová úloha 5, alternativa A

MEJSNAR, O. [online]. [cit. 2015-04-22]. Dostupný pod licencí Creative Commons na

WWW: <http://commons.wikimedia.org/wiki/File:Jested_002.JPG>

Testová úloha 5, alternativa B

RODGE500. [online]. [cit. 2015-04-22]. Dostupný pod licencí Creative Commons na WWW:

<<http://commons.wikimedia.org/wiki/File:PetrinObservationTower.jpg>>

Testová úloha 5, alternativa C

EULENJAEGER. [online]. [cit. 2015-04-22]. Dostupný pod licencí Public Domain na

WWW: <http://commons.wikimedia.org/wiki/File:Hoher_Schneeberg_CZ_Turm.jpg>

Testová úloha 5, alternativa D

HAROLD. [online]. [cit. 2015-04-22]. Dostupný pod licencí Creative Commons na WWW:

<[http://commons.wikimedia.org/wiki/File:Lednice,_minaret_\(02\).jpg?uselang=cs](http://commons.wikimedia.org/wiki/File:Lednice,_minaret_(02).jpg?uselang=cs)>

Testová úloha 6, alternativa A

ZÖRNER, P. E. [online]. [cit. 2013-08-23]. Dostupný pod licencí Creative Commons na WWW: <http://commons.wikimedia.org/wiki/File:Praha_2005-09-15_St_Nicholas.jpg>

Testová úloha 6, alternativa B

MIAOW, M. [online]. [cit. 2013-08-16]. Dostupný pod licencí Creative Commons na WWW: <http://commons.wikimedia.org/wiki/File:Kutna_Hora_CZ_St_Barbara_Cathedral_front_view_01.JPG>

Testová úloha 6, alternativa C

[online]. [cit. 2013-09-06]. Dostupný pod licencí Public domain na WWW: <http://commons.wikimedia.org/wiki/File:Praha_church_St_Ignace.JPG>

Testová úloha 6, alternativa D

PRAZAK. [online]. [cit. 2013-08-23]. Dostupný pod licencí Creative Commons na WWW: <http://commons.wikimedia.org/wiki/File:Tismice_-_pr%C5%AF%C4%8Del%C3%AD_rom%C3%A1nsk%C3%A9_baziliky.jpg>

Testová úloha 7

PatrikPaprika. [online]. [cit. 2016-04-12]. Dostupný pod licencí Creative Commons na WWW: <[https://commons.wikimedia.org/wiki/File:N%C3%A1rodn%C3%AD_pam%C3%A1tn%C3%ADk_na_V%C3%ADtkov%C4%9B_\(05\).jpg](https://commons.wikimedia.org/wiki/File:N%C3%A1rodn%C3%AD_pam%C3%A1tn%C3%ADk_na_V%C3%ADtkov%C4%9B_(05).jpg)>

Testová úloha 8

BAYARCAL, C. [online]. [cit. 2017-03-22]. Dostupný pod licencí Creative Commons na WWW: <http://commons.wikimedia.org/wiki/File:Czech_National_Museum.jpg>

Testová úloha 9, alternativa A

DILIGENT. [online]. [cit. 2015-04-22]. Dostupný pod licencí Creative Commons na WWW: <http://commons.wikimedia.org/wiki/File:Olomoucky_Orloj.jpg?uselang=cs>

Testová úloha 9, alternativa B

AKTRON. [online]. [cit. 2015-04-22]. Dostupný pod licencí Creative Commons na WWW: <http://commons.wikimedia.org/wiki/File:Praha,_Jind%C5%99i%C5%A1sk%C3%A1,_v%C4%9B%C5%BE.jpg>

Testová úloha 9, alternativa C

GROUTAS, G. [online]. [cit. 2015-04-22]. Dostupný pod licencí Creative Commons na WWW: <http://commons.wikimedia.org/wiki/File:Prazsky_orloj_celkovy_pohled.jpg?uselang=cs>

Testová úloha 9, alternativa D

ŠJů. [online]. [cit. 2015-04-22]. Dostupný pod licencí Creative Commons na WWW:
<http://commons.wikimedia.org/wiki/File:C5%BDatec,_Chmelov%C3%BD_orloj.jpg?uselang=cs>

Testová úloha 10

PADDY [online]. [cit. 2018-12-10]. Dostupný pod licencí Creative Commons na WWW:
<https://commons.wikimedia.org/wiki/File:Praha_2005-09-19_Main_Station-00.jpg>