

PROSTOROVÉ SOCIÁLNĚ EKONOMICKÉ INFORMACE A JEJICH VYUŽITÍ

cvičení 8

Organizace cvičení

- úterý 12. 4. + středa 13. 4. – cvičení 8
- úterý 19. 4. + středa 20. 4. – cvičení 9
- úterý 26. 4. + středa 27. 4. – cvičení 10 s doc. Touškem

- Celkem za cvičení za celý semestr max. 100 bodů.
- váha 1/3 na výsledné známce

- zápočet: 51 bodů a více

- zkouška: někdy po 23. květnu dle domluvy
- zkouškové období 23. 5. – 1. 7. 2011

Poznámky ke cvičení 5

- OPM = **zaměstnaní** – vyjíždějící + dojíždějící
- výsledek seřadit podle ukazatele $OPM * 100 / \text{zam.}$
- hlavní směr vyjížděky x hlavní směr dojížděky
- i dlouhé tabulky do Wordu
- interpretace - suburbanizace
 - vliv velkých podniků
 - vliv měst a s nimi spojených služeb
 - vliv dopravní infrastruktury
- data jsou z roku 2001

Tab. č. 714 Obyvatelstvo vyjíždějící do zaměstnání a do školy podle pohlaví, věku a podle obce vyjížděky a obce dojížděky

Obec vyjížděky, obec dojížděky	Zaměstnané osoby vyjíždějící do zaměstnání								
	celkem	z toho ženy	v tom ve věku						
			15 - 24	25 - 29	30 - 39	40 - 49	50 - 59	60 +	nezj.
Úhrn vyjíždějících	13343	5276	2502	2275	3256	2980	2158	169	3
v tom:									
vyjíždí v rámci okresu	9264	3891	1421	1348	2336	2318	1697	142	2
vyjíždí do jiných okresů kraje	956	311	223	137	226	199	160	11	-
v tom okres:									
Havlíčkův Brod	306	115	56	44	77	68	59	2	-
Jihlava	577	176	151	83	134	112	90	7	-
Třebíč	42	10	10	7	9	9	5	2	-
Žďár nad Sázavou	31	10	6	3	6	10	6	-	-
vyjíždí do jiných krajů	3017	1025	830	763	672	445	292	14	1
vyjíždí do zahraničí	106	49	28	27	22	18	9	2	-
Obec vyjížděky:									
1. Pelhřimov									
obec dojížděky:									
Božejov	11	1	1	2	3	2	3	-	-
Černovice	10	5	3	1	3	2	1	-	-
Červená Řečice	30	11	1	3	13	8	4	1	-
Horní Cerekev	32	7	4	1	5	6	13	3	-

Tab. č. 716 Obyvatelstvo dojíždějící do zaměstnání a do školy podle pohlaví, věku a podle obce dojížděky a obce vyjížděky

Obec dojížděky obec vyjížděky	Zaměstnané osoby dojíždějící do zaměstnání								
	celkem	z toho ženy	v tom ve věku						
			15 - 24	25 - 29	30 - 39	40 - 49	50 - 59	60 +	nezj.
Úhrn dojíždějících	11253	4636	1812	1666	2807	2806	1996	164	2
v tom:									
dojíždí v rámci okresu	9264	3891	1421	1348	2336	2318	1697	142	2
dojíždí z jiných okresů kraje	836	342	161	132	205	219	113	6	-
v tom okres:									
Havlíčkův Brod	393	147	82	65	104	107	34	1	-
Jihlava	381	175	69	56	91	96	66	3	-
Třebíč	29	8	3	4	4	7	9	2	-
Žďár nad Sázavou	33	12	7	7	6	9	4	-	-
dojíždí z jiných krajů	1153	403	230	186	266	269	186	16	-
Obec dojížděky:									
1. Pelhřimov									
obec vyjížděky:									
Bácovice	20	10	1	4	9	3	2	1	-
Božejov	179	77	29	26	40	51	30	3	-
Buřenice	10	7	4	-	2	4	-	-	-
Častrov	24	13	3	3	8	7	3	-	-
Čelistná	31	22	5	3	4	13	6	-	-
Černov	17	8	3	4	3	5	2	-	-
Černovice	48	12	10	5	14	9	9	1	-
Červená Řečice	160	79	23	22	36	45	32	2	-
Čížkov	22	8	6	6	6	2	1	1	-

Cvičení 8

- Jaké znáte ukazatele trhu práce?
 - míra nezaměstnanosti
 - počet volných pracovních míst
 - počet uchazečů o zaměstnání

 - míra dlouhodobé nezaměstnanosti
 - počet uchazečů na 1 volné pracovní místo

 - zaměstnanost a nezaměstnanost podle nejrůznějších hledisek

Cvičení 8

- Co ovlivňuje výši míry nezaměstnanosti v průběhu roku?
 - sezónní práce
 - absolventi škol
 - přelom roku (smlouvy na dobu určitou)

Jak se orientujete na trhu práce?

- 1) Jaká je míra nezaměstnanosti (%) v ČR k 31. 3. 2011?
- s přesností na jedno desetinné místo
- 2) Kolik lidí bylo v ČR k 31. 3. 2011 nezaměstnaných a přihlásilo se na úřad práce?
- 3) Je vyšší míra nezaměstnanosti u mužů nebo u žen?
- 4) Přesáhla někdy po roce 1989 míra nezaměstnanosti v ČR 10 %?
- 5) Seřadte kraje ČR podle míry nezaměstnanosti k 31. 3. 2011.
- od nejvyšší po nejnižší hodnotu
- 6) Napište 10 okresů ČR s nejvyšší mírou nezaměstnanosti a 10 okresů ČR s nejnižší mírou nezaměstnanosti. Obojí k 31. 3. 2011.
- okres s nejvyšší a nejnižší mírou podtrhněte
- 7) Které sousední státy ČR mají vyšší míru nezaměstnanosti?

Odpovědi – 1. část

- 1) Jaká je míra nezaměstnanosti (%) v ČR k 31. 3. 2011?
- 9,2 %
- 2) Kolik lidí bylo v ČR k 31. 3. 2011 nezaměstnaných a přihlásilo se na úřad práce?
- 547 762 osob
- 3) Je vyšší míra nezaměstnanosti u mužů nebo u žen?
- u žen (muži 8,6 %, ženy 10,0 %)
- 4) Přesáhla někdy po roce 1989 míra nezaměstnanosti v ČR 10 %?
- ne (maximum únor 2010: 9,94 %)

Odpovědi – 2. část

- 5) Seřadte kraje ČR podle míry nezaměstnanosti k 31. 3. 2011.

1) Ústecký kraj	13,5 %
2) Olomoucký kraj	12,1 %
3) Moravskoslezský kraj	12,0 %
4) Karlovarský kraj	10,9 %
5) Jihomoravský kraj	10,3 %
6) Zlínský kraj	10,2 %
7) kraj Vysočina	10,2 %
8) Liberecký kraj	10,2 %
9) Pardubický kraj	9,3 %
10) Jihočeský kraj	8,3 %
11) Královéhradecký kraj	7,9 %
12) Plzeňský kraj	7,7 %
13) Středočeský kraj	7,5 %
14) Praha	4,1 %

Odpovědi – 3. část

- 6) Napište 10 okresů ČR s nejvyšší mírou nezaměstnanosti a 10 okresů ČR s nejnižší mírou nezaměstnanosti. Obojí k 31. 3. 2011.

1) Jeseník	19,0 %	1) Praha-východ	3,9 %
2) Bruntál	17,2 %	2) Praha	4,1 %
3) Most	16,4 %	3) Praha-západ	4,1 %
4) Děčín	15,5 %	4) Mladá Boleslav	4,9 %
5) Hodonín	15,4 %	5) Plzeň-město	6,0 %
6) Znojmo	14,6 %	6) Benešov	6,1 %
7) Karviná	14,1 %	7) Rokycany	6,3 %
8) Ústí nad Labem	13,4 %	8) České Budějovice	6,4 %
9) Teplice	13,4 %	9) Plzeň-jih	6,4 %
10) Sokolov	13,4 %	10) Pardubice	6,6 %

Odpovědi – 4. část

- 7) Které sousední státy ČR mají vyšší míru nezaměstnanosti?

- Německo, Polsko a Slovensko

1) Rakousko	4,8 %
2) ČR	7,0 %
3) Německo	7,9 %
4) Polsko	9,7 %
5) Slovensko	14,0 %

Zadání cvičení 8

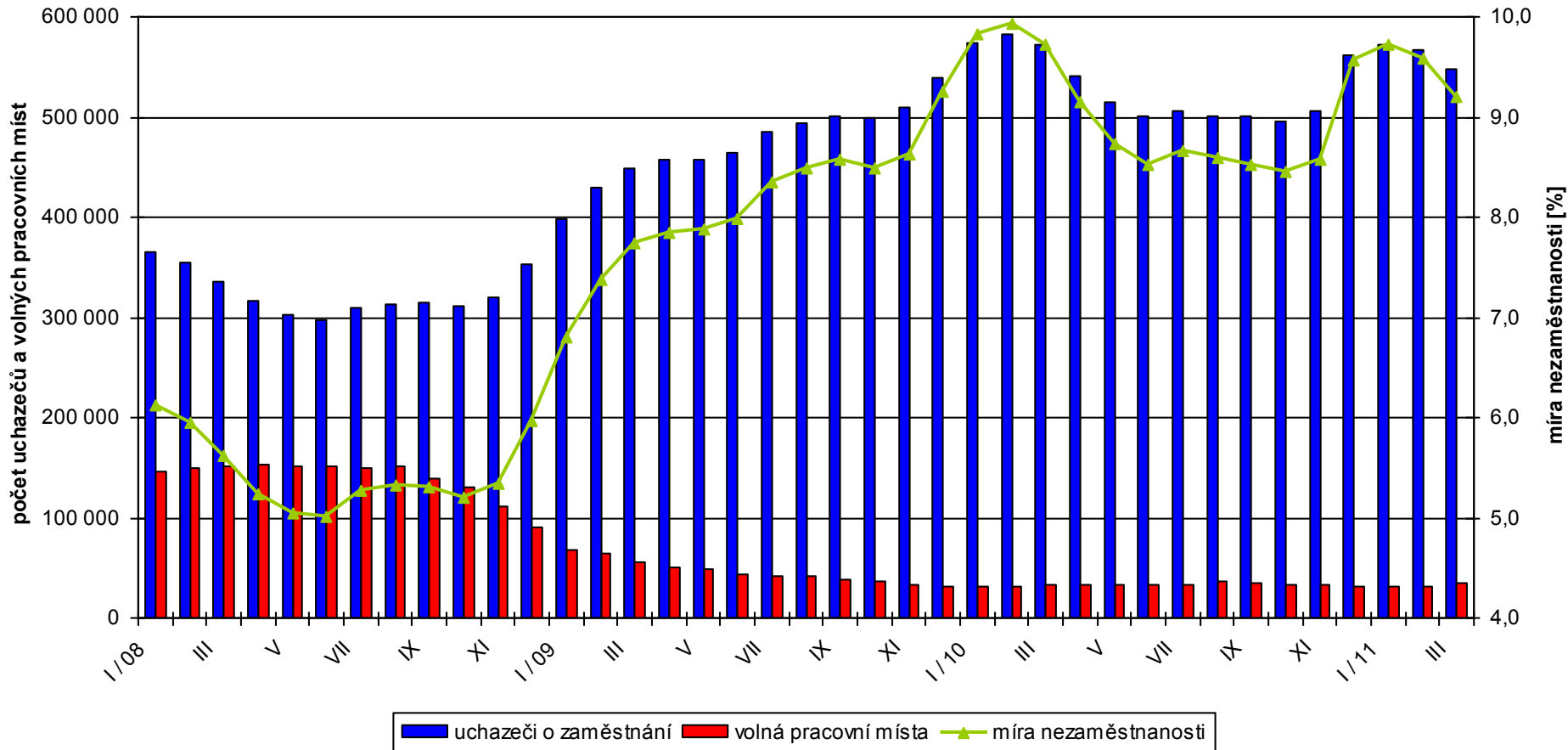
- Analyzujte situaci na trhu práce ve Vašem okrese a v ČR v letech 2000 až 2010.
 - a) vývoj míry nezaměstnanosti
 - b) vývoj počtu volných pracovních míst
 - c) pořadí Vašeho okresu mezi okresy ČR podle počtu uchazečů na 1 volné pracovní místo

- a) + b) vždy k 31. 12. daného roku
- c) k 31. 12. 2010

Grafy – úkol 1 a 2

- graf – míra nezaměstnanosti - **spojnicový**
 - osa x: jednotlivé roky
 - osy y: míra nezaměstnanosti
- graf – počet volných pracovních míst - **sloupcový**
 - osa x: jednotlivé roky
 - osa y: počet volných pracovních míst

ČESKÁ REPUBLIKA



MÍRA NEZAMĚŠTNANOSTI V OKRESECH ČESKÉ REPUBLIKY V ŘÍJNU 2008



Míra nezaměstnanosti [%]

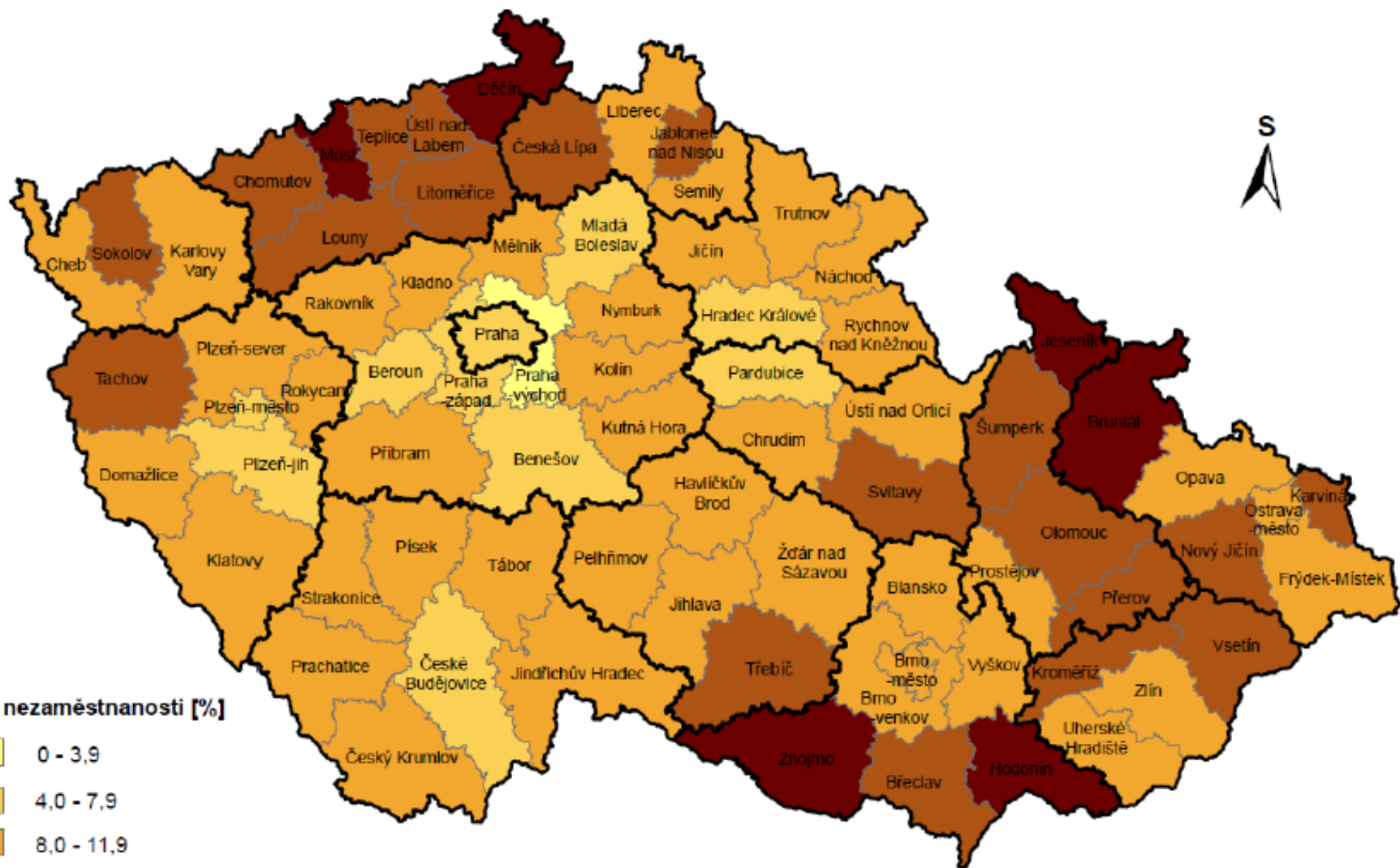
- 0 - 3,9
- 4,0 - 7,9
- 8,0 - 11,9
- 12,0 - 15,9
- 16,0 a více

- hranice okresu
- hranice kraje

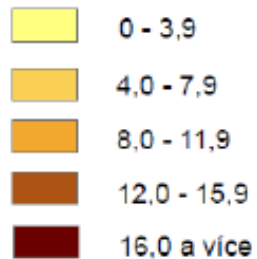


Ondřej ŠERÝ, Brno 2010
(ArcCR 500)


MÍRA NEZAMĚSTNANOSTI V OKRESECH ČESKÉ REPUBLIKY V ÚNORU 2010



Míra nezaměstnanosti [%]




— hranice okresu
 — hranice kraje



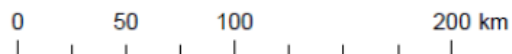
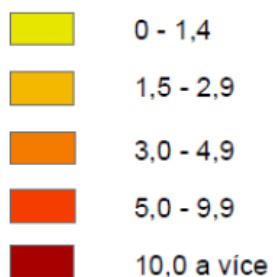
Ondřej ŠERÝ, Brno 2010
 (ArcCR 500)

III. čtvrtletí 2008

PODÍL CIZINCŮ EVIDOVANÝCH NA ÚŘADECH PRÁCE NA PRACOVNÍ SÍLE V OKRESECH ČESKÉ REPUBLIKY

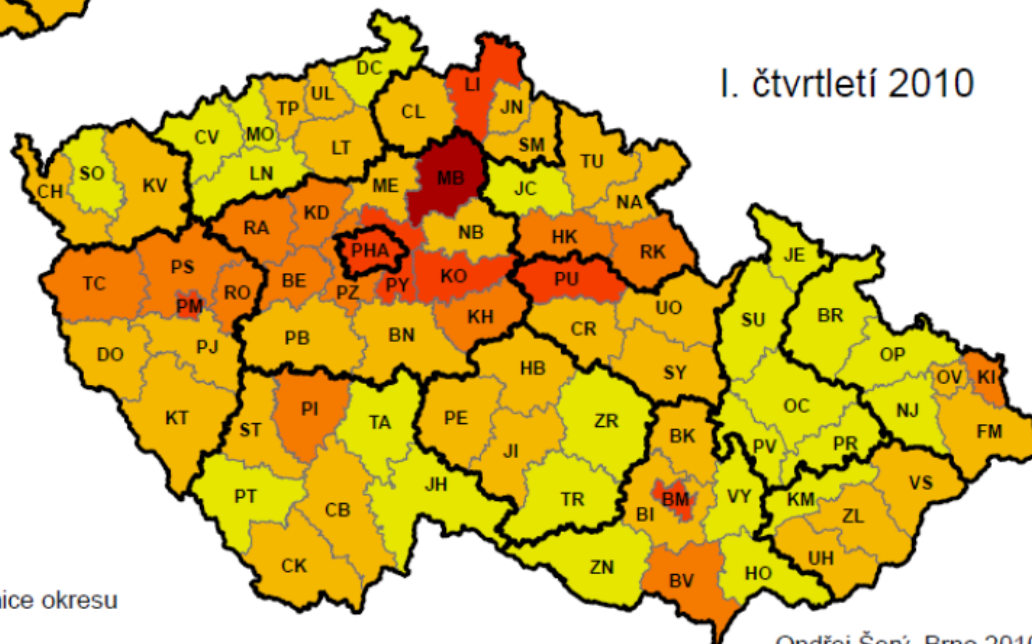


Podíl cizinců na pracovní síle [%]



— hranice okresu
— hranice kraje

I. čtvrtletí 2010

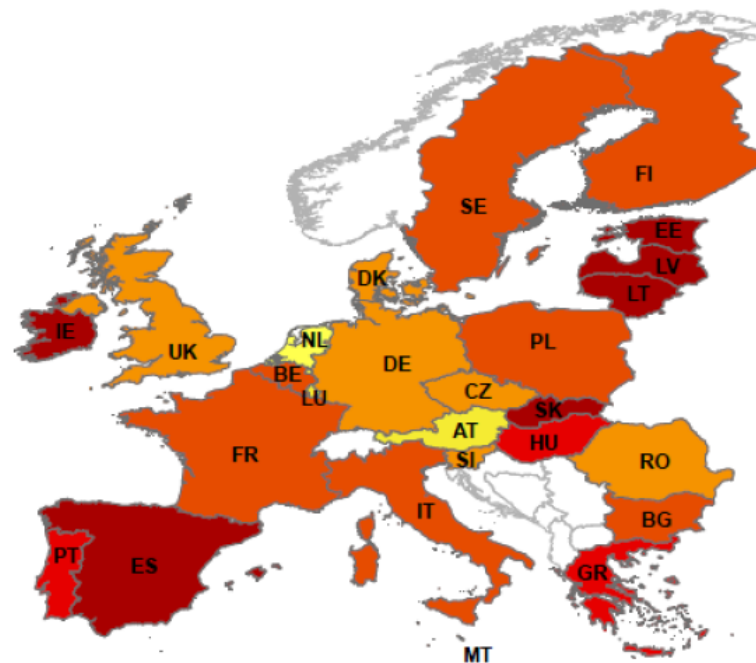
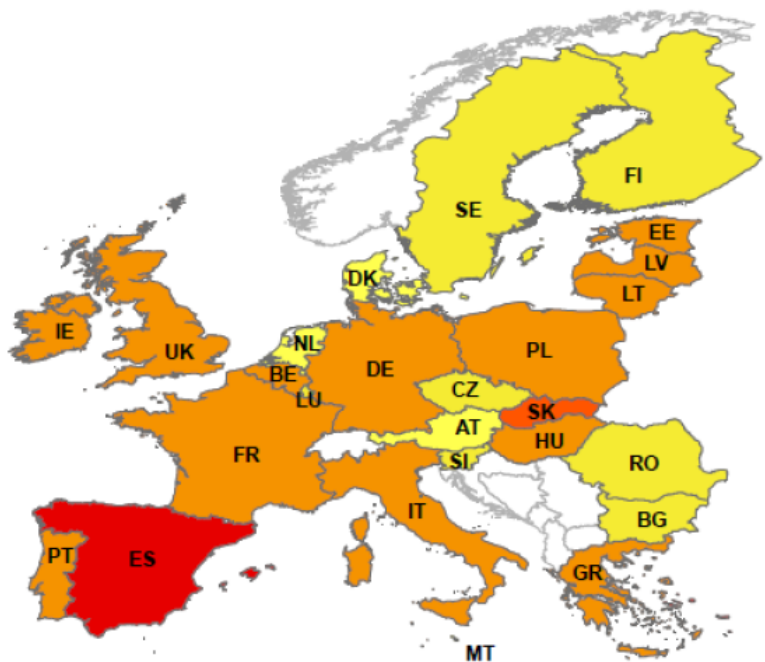


Ondřej Šerý, Brno 2010
(ArcCR 500)

MÍRA NEZAMĚSTNANOSTI VE ČLENSKÝCH STÁTECH EVROPSKÉ UNIE

III. čtvrtletí 2008

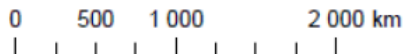
IV. čtvrtletí 2009



Míra nezaměstnanosti [%]



— státní hranice



Ondřej ŠERÝ, Brno 2010
(ESRI Data)

Otázky ???