

# Tvorba interaktivních výukových materiálů pomocí L<sup>A</sup>T<sub>E</sub>Xu – závěrečný úkol

Roman Plch



evropský  
sociální  
fond v ČR



EVROPSKÁ UNIE



MINISTERSTVO ŠKOLSTVÍ,  
MLÁDEŽE A TĚLOVÝCHOVY



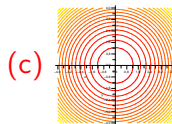
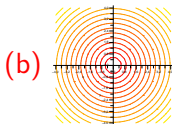
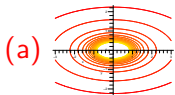
OP Vzdělávání  
pro konkurenceschopnost



INVESTICE DO ROZVOJE VZDĚLÁVÁNÍ

14. 5. 2014

1. [1b.] Na základě grafu funkce vyberte graf jejích vrstevnic.



2. [1b.] Na kterém z uvedených obrázků je kužel?

(a)

(b)

(c)

Počet správných odpovědí: