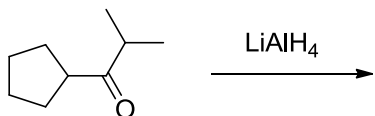
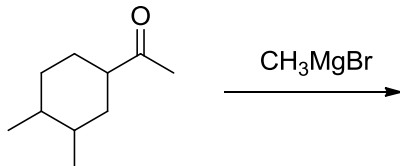
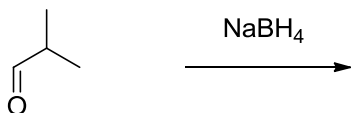
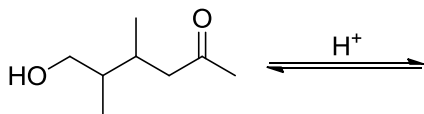
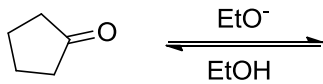
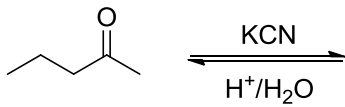
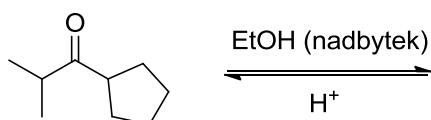


1. Napište mechanismus a produkty následujících reakcí.



2. Napište mechanismus vzniku hemiacetalu (poloacetalu) a acetalu a určete, o jaké reakce se jedná.



3. Napište produkty následujících reakcí a určete, zda se jedná o produkty kinetické nebo termodynamické.

