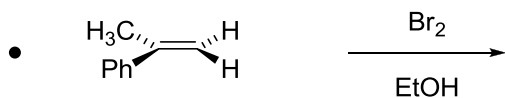
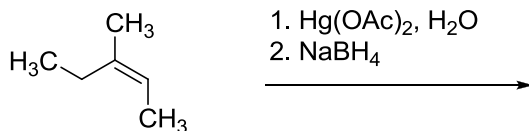
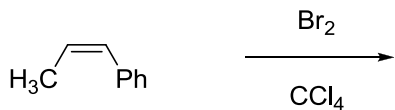
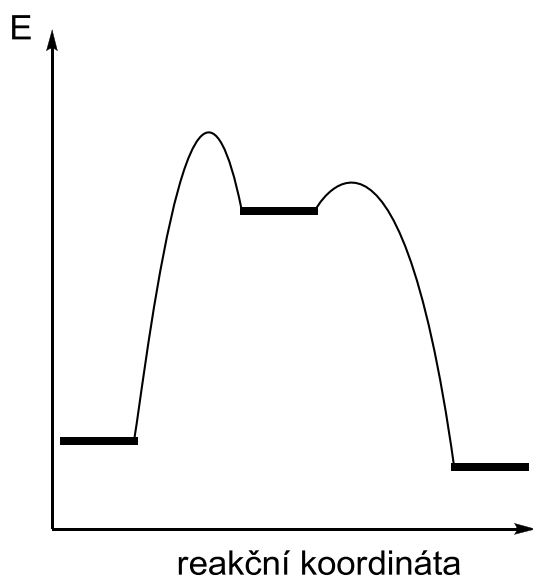


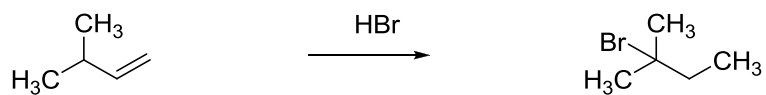
Napište hlavní produkt, včetně stereochemie (tam, kde to má smysl). U reakcí označených puntíkem napište i mechanismus:



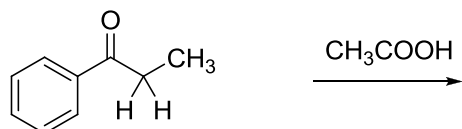
Následující závislost energie na *R.K.* přísluší poslední reakci z minulého cvičení. Doplňte do grafu výchozí látku, meziprodukty a produkty:



Napište mechanismus následující transformace (za daných podmínek): uvažujte o přesmyku



Napište mechanismus tvorby enolu a enolátu:



Napište produkt reakce:

