


Poloha a hranice

Cvičení č. 3

Co Vám vzkazuje z oprav vašich cvičení největší odborník na problematiku regionální geografie mezi doktorandy tohoto ústavu Mgr. Oran Gutan, který vám je opravoval?



- 1) Všem bylo cvičení uznáno, ale nebyl jsem vždy vůbec spokojen!! Čtěte si komentáře k vašim výstupům a berte je v potaz!! Protože jestli si myslíte, že všichni opět příště projdete... Ha, ha, ha, ha, ha...**
- 2) Odpovídejte na všechny otázky, úkoly zadání!!! Na všechny!!**
- 3) Stručnost ok, ale ne to přehánět, ne to odrbávat, že výsledek je pak takovej, že by to vymyslelo i pětiletý dítě...**
- 4) Wikina jako zdroj ne, max tak na obrázky nebo když FAKT NELZE jinak anglická...**

Forma dalších cvičení

- Po zbytek semestru budete vypracovávat různé regionální analýzy
- Pro jasné prostorové vymezení a poměrně dobrou dostupnost dat budeme v našich podmínkách chápat jako regiony **okresy**
- Vyberte si každý ze seznamu jeden okres, se kterým budete pracovat
- **Forma odevzdaného protokolu:** Od tohoto cvičení se budete držet klasického uspořádání **zadání – vlastní vypracování – závěr**
 - **Závěr** je důležitou částí cvičení, **neměl by omílat, co jste tentokrát dělali** a jak, neměl by opakovat již vyřčené, ale měl být **syntézou** toho, co podle vás z této části regionální charakteristiky okresu vyplývá!
 - **Vlastní vypracování** bude referátem na danou charakteristiku okresu. **Používejte kvalitní zdroje**, u složitějších charakteristik jich bude vždy pár ukázáno a doporučeno. Vypracování bude mít charakter **souvislého textu**, odrážky se budou používat tehdy, když to bude opodstatněné. **Bude nutné citovat průběžně v textu!**

O co půjde?

Pro zadaný region (**okres**) zpracujte stručný referát, obsahující následující témata:

- poloha v rámci ČR, Evropy
- poloha území ve vztahu k (základním) geomorfologickým celkům a vodním tokům
- poloha vzhledem k územně – správnímu členění (kraj, NUTS, ORP...)
- hranice a jejich průběh: vzhledem ke geomorfologickým celkům, antropogenním formám - cesty, železnice atd., sousedící okresy
- rozloha území, počet obyvatel, hustota zalidnění
- tvar území okresu

O co půjde?

Pro zadaný region (**okres**) zpracujte stručný referát, obsahující následující témata:

- nejvyšší a nejnižší bod území a jejich nadmořská výška
- administrativní členění okresu – seznam (a počet) obcí okresu, SO ORP
- poloha okresního města v rámci okresu
- poloha okresního města v rámci ČR – přibližná vzdálenost od Prahy
- další – podle vlastního uvážení a zájmu

Grafické přílohy

K referátu připojte i tyto obrázky – mapy (můžete vytvořit vlastní nebo použít výřezy z internetu, **nezapomeňte ale uvést zdroj**):

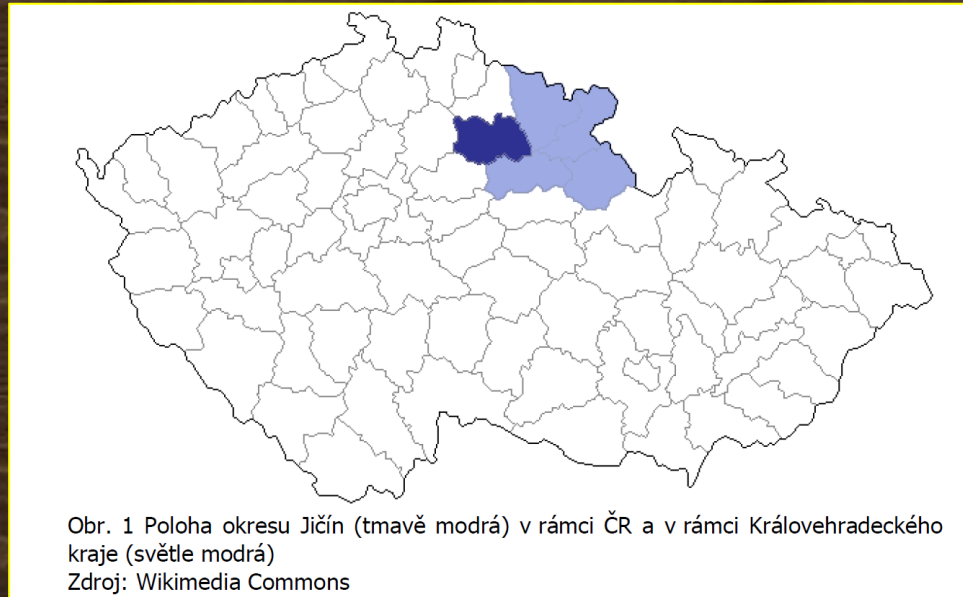
- **celá ČR** – s vyznačením polohy okresu
- **okres (větší měřítko)** - se zřetelně vyznačenými hranicemi okresu a okresním městem

Grafické přílohy – ukázky z předešlých let pro inspiraci

- Chybí však citace!
- **Na to pozor!**
- Pokud jste autoři, tak napište něco ve smyslu: „Vlastní tvorba + v jakém programu, na základě jakých podkladů“



Grafické přílohy – ukázky z předešlých let pro inspiraci



- Wikipedii a ostatní „wiki“ však používejte **jen výjimečně** (tedy lépe řečeno **nepoužívejte ji**)
- Když už, tak právě jako zdroj obrázků, ne informací
- Jinak jen pokud není jiné řešení (které je prakticky vždy)

ADMINISTRATIVNÍ ROZDĚLENÍ OKRESU JIČÍN - STAV K 1.1.2008

Průměrný počet obyvatel obce = 710

Průměrná rozloha obce (ha) = 799

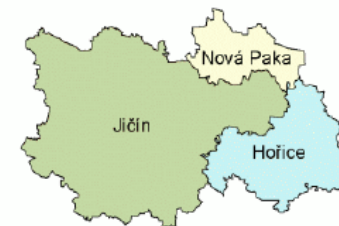
Největší: 1. Jičín = 16 448
2. Nová Paka = 9 272
3. Hořice = 9 227

Největší: 1. Kopidlno = 2 912
2. Nová Paka = 2 868
3. Lázně Bělohrad = 2 839


Nejmenší: 1. Dílce = 42
2. Petrovičky = 42
3. Kostelec = 44

Nejmenší: 1. Valdice = 90
2. Podúšší = 138
3. Ohaveč = 139

Správní obvod obce s rozšířenou působností



NÁZEV MĚSTA
Název městyse
Název ostatních obcí



Počet obyvatel v obci



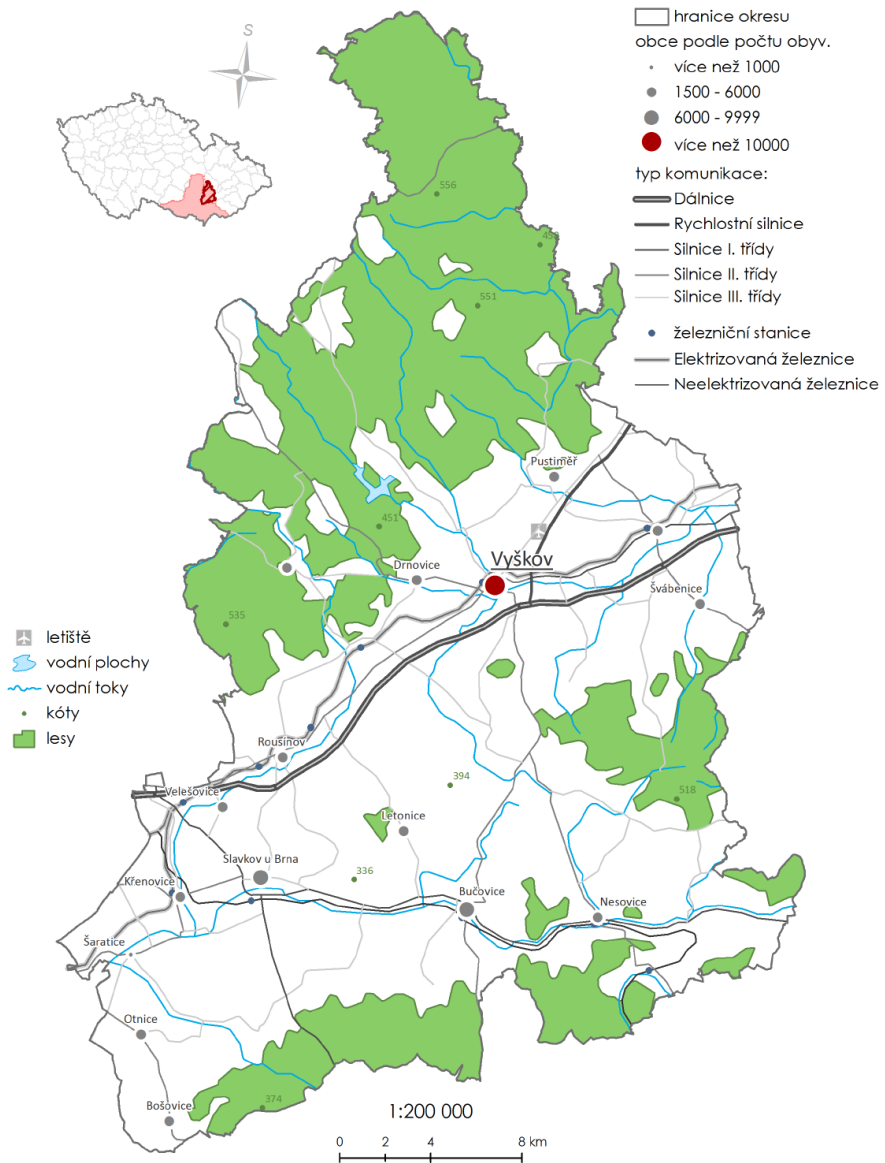
Obr. 2 Mapa okresu Jičín
Zdroj: ČSÚ

Nápadům a originalitě se však meze nekladou...



Obr. 3: Nejkrásnější nádraží ČR 2007 – Ostroměř
Zdroj: ŽelPage

OKRES VYŠKOV



Martin HOLATA, KART, Brno 2013
Zdroj: Arc-ČR 500 3.0, Arcdata Praha, s.r.o., 2012, S-JTSK

Obr. 1 Mapa okresu Vyškov

Zdroj: vlastní

!Termíny!

- Odevzdat do **So 19. 3. 2016 do 20:00!**
- Příští lekci referát vycházející z tohoto cvičení prezentují:
 - Nikdo neprezentuje, procvičíme to hromadně...

!!KONEC!!