
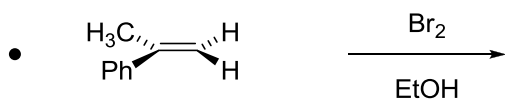
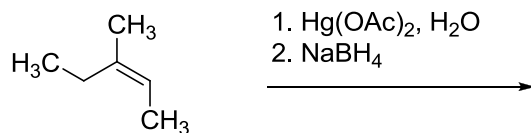

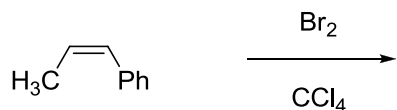


Napište hlavní produkt, včetně stereochemie (tam, kde to má smysl). U reakcí označených puntíkem napište i mechanismus:



Následující závislost energie na *R.K.* přísluší poslední reakci z minulého cvičení. Doplňte do grafu výchozí látku, meziproducty a produkty:

