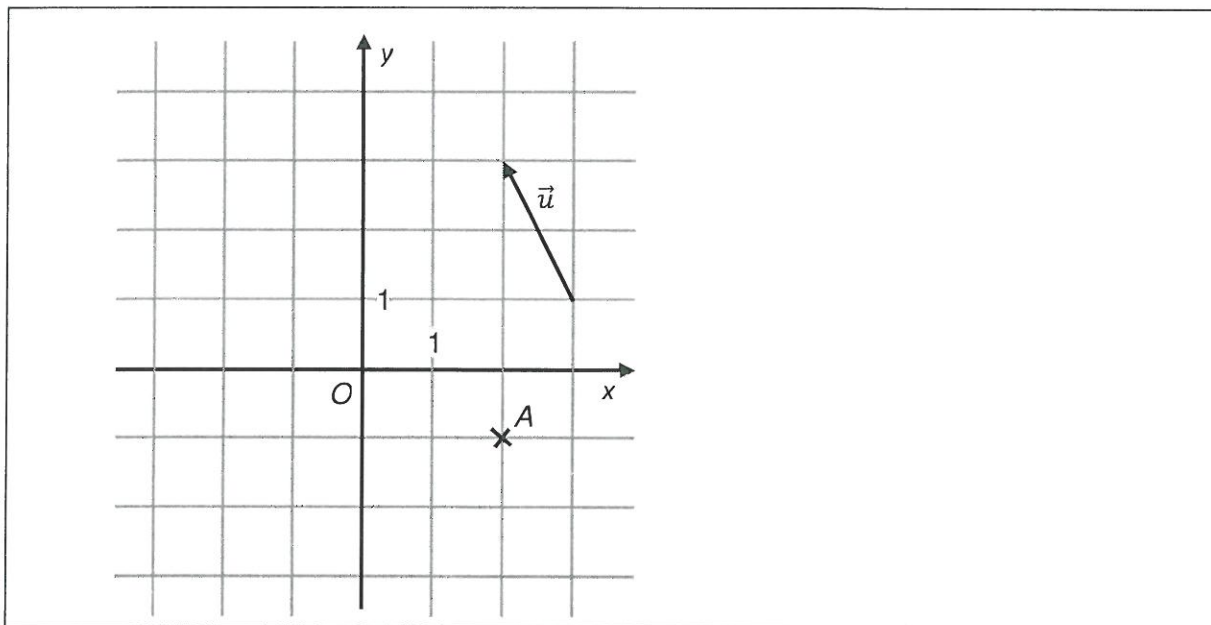


- 3 Body $A[-5; 2]$ a $B[0; -5]$ jsou sousedními vrcholy čtverce $ABCD$.

Vypočítejte obsah čtverce $ABCD$.

$$\vec{AB} = (5; -7) \quad S = |\vec{AB}|^2 = 25 + 49 = 74$$

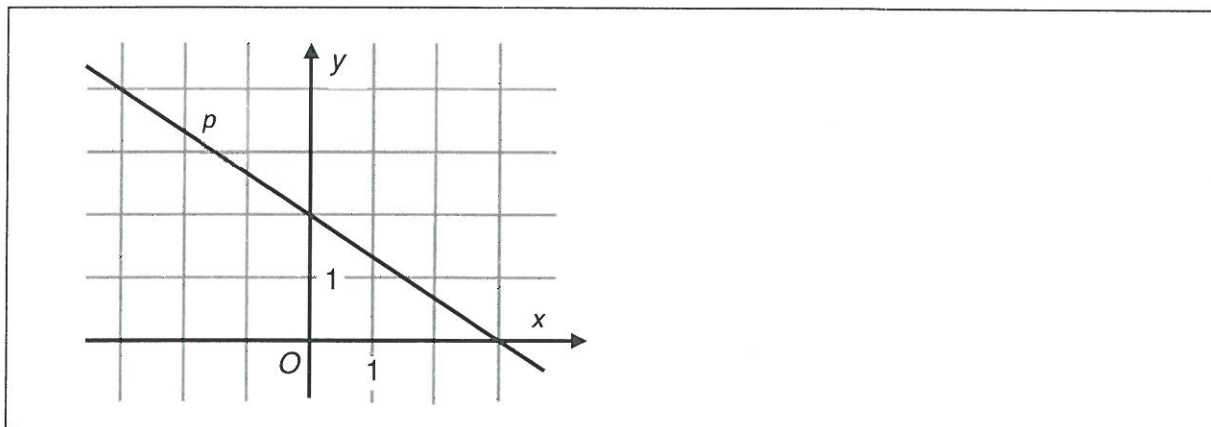
VÝCHOZÍ OBRÁZEK K ÚLOZE 4



(CERMAT)

- 4 Přímka p je určena bodem A a směrovým vektorem \vec{u} .
- 4.1 V kartézské soustavě souřadnic Oxy sestrojte přímku p .
- 4.2 Napište souřadnice průsečíku $P[x; y]$ přímky p se souřadnicovou osou y .

VÝCHOZÍ OBRÁZEK K ÚLOZE 5

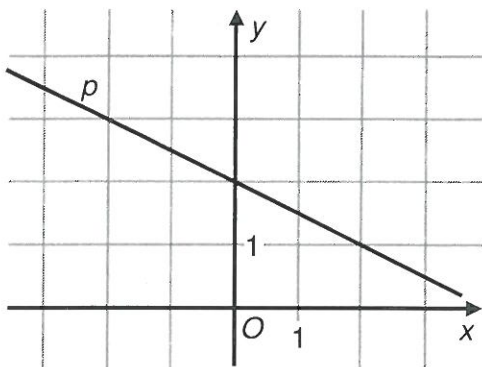


(CERMAT)

- 5 Určete rovnici přímky p (směrnice nebo obecný tvar) umístěné v kartézské soustavě souřadnic Oxy .

VÝCHOZÍ TEXT A OBRÁZEK K ÚLOZE 9

V kartézské soustavě souřadnic Oxy je umístěna přímka p .



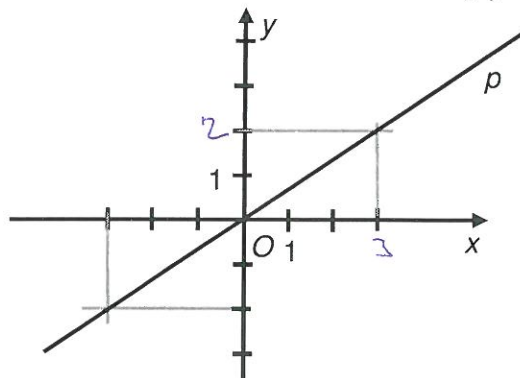
(CERMAT)

9 Která rovnice určuje přímku p ?

- A) $2x - y + 2 = 0$
- B) $x - 2y + 4 = 0$
- C) $x - 4y - 2 = 0$
- D) $x + 2y - 4 = 0$
- E) $2x + y - 2 = 0$

VÝCHOZÍ TEXT A OBRÁZEK K ÚLOZE 10

V kartézské soustavě souřadnic Oxy je sestrojena přímka p .



(CERMAT)

10 Která z uvedených přímek a, b, c, d, e je kolmá k přímce p ?

$$\vec{u}_p = (3; 2)$$

- A) $a: 2x - 3y + 7 = 0$
- B) $b: 2x + 3y - 7 = 0$
- C) $c: 2x - 3y - 7 = 0$
- D) $d: 3x - 2y - 7 = 0$
- E) $e: 3x + 2y + 7 = 0$

9. Kombinatorika, pravděpodobnost a statistika

VÝCHOZÍ TEXT K ÚLOZE 1

V kódu je na prvním místě jedno z písmen A, B, C nebo D. Na dalších dvou pozicích je libovolné dvojciferné číslo od 11 do 45. (Existují např. kódy B22, A45 apod.)

(CERMAT)

1 Určete počet všech takto vytvořených kódů.

2 Určete neznámé číslo k , jestliže platí:

$$100! = k \cdot 98!$$

3 Určete neznámé číslo m , jestliže platí:

$$m! \cdot 2^8 = 2 \cdot 4 \cdot 6 \cdot 8 \cdot 10 \cdot 12 \cdot 14 \cdot 16$$

$$= 2 \cdot 2^2 \cdot 2 \cdot 3 \cdot 2^3 \cdot 2 \cdot 5 \cdot 2 \cdot 3 \cdot 2 \cdot 7 \cdot 2^4$$

$$2^8 \cdot 2^7 \cdot 3^2 \cdot 5 \cdot 7$$

$$m = 8$$

$$8! = 7! \cdot 8 = 2^7 \cdot 3^2 \cdot 5 \cdot 7$$

$$7! = 2 \cdot 3 \cdot 4 \cdot 5 \cdot 6 \cdot 7 = 2^4 \cdot 3^2 \cdot 5 \cdot 7$$

$$\Rightarrow m \leq 8$$

VÝCHOZÍ TEXT K ÚLOZE 4

Cesta prochází několika křižovatkami. Na každé křižovatce je možné zahnout doleva (L), doprava (P), nebo pokračovat v přímém směru (S). Průjezd **dvěma** křižovatkami je možné zapsat dvojicí znaků, např. PP.

(CERMAT)

4 Kolika možnými způsoby lze projet dvěma křižovatkami?

- A) 9
- B) 8
- C) 6
- D) 5
- E) 4

VÝCHOZÍ TEXT K ÚLOZE 8

Dětské soutěže se pravidelně účastní malí i velcí chlapci a malá i velká děvčata. Pravděpodobnost, že zvítězí dívka, je 0,6. Pravděpodobnost, že zvítězí malá dívka, je 0,4. Malý chlapec zvítězí s pravděpodobností 0,3. Jen občas zvítězí velký chlapec.

(CERMAT)

8 Přiřadte ke každé otázce (8.1–8.4) správnou odpověď (A–F).

- 8.1 Jaká je pravděpodobnost, že zvítězí chlapec (malý nebo velký)? _____
- 8.2 Jaká je pravděpodobnost, že zvítězí velká dívka? _____
- 8.3 Jaká je pravděpodobnost, že zvítězí malé dítě (chlapec nebo dívka)? _____
- 8.4 Jaká je pravděpodobnost, že **nezvítězí** malá dívka? _____

A) 0,2 B) 0,3 C) 0,4 D) 0,5 E) 0,6 F) 0,7

VÝCHOZÍ TEXT K ÚLOZE 9

V osudí jsou 2 bílé a 3 černé koule. Koule se vytahují po jedné a do osudí se nevracejí.

(CERMAT)

9 Přiřadte ke každému jevu (9.1–9.3) pravděpodobnost (A–E), s níž může nastat.

- 9.1 První tažená koule bude bílá. $\frac{2}{5}$
- 9.2 První dvě tažené koule budou černé. $\frac{3}{5} \cdot \frac{2}{4} = \frac{3}{10}$ $\frac{3}{10}$
- 9.3 V první tažené dvojici koulí budou zastoupeny obě barvy. $\frac{3}{5}$

A) $\frac{2}{3}$

B) $\frac{2}{5}$

C) $\frac{9}{25}$

D) $\frac{3}{5}$

E) $\frac{3}{10}$

$$\bar{B}_1 \bar{C}_1 + \bar{C}_1 \bar{B}_1$$

$$\frac{2}{5} \cdot \frac{3}{4} + \frac{3}{5} \cdot \frac{2}{4} = \frac{6+6}{20} = \frac{12}{20} = \frac{3}{5}$$

VÝCHOZÍ TEXT K ÚLOZE 10

Součet dvaceti položek je 6 000 korun. Po odebrání dvou položek v celkové hodnotě 960 korun se průměrná hodnota položky změní.

(CERMAT)

10 Vypočítejte, o kolik korun se změní průměrná hodnota.

VÝCHOZÍ TEXT A TABULKA K ÚLOZE 11

V obchodním centru zákaznice testovaly tři druhy parfémů A, B, C. Svůj hlas mohly dát pouze jednomu z parfémů. Některé zákaznice se nedokázaly rozhodnout. Preference zákaznic jsou zaznamenány v tabulce.

	A	B	C	nerozhodnuté	Celkem
Četnost	40			20	200
Relativní četnost		20 %			

(CERMAT)

11 Vypočítejte, kolik zákaznic preferovalo vítězný parfém.

VÝCHOZÍ TEXT A TABULKA K ÚLOHÁM 12–13

Celkem 20 studentů psalo dva závěrečné testy A a B.

V tabulce jsou uvedeny výsledky testů, chybí pouze počet jedniček a dvojek v testu B.

	Známky				Počet žáků	Průměr	Medián	Modus
	1	2	3	4				
	Četnost známek							
Test A	3	8	9	0	20			
Test B			9	2	20			

(CERMAT)

12 Určete medián a modus známek z testu A.

13 V obou testech bylo dosaženo stejné průměrné známky.

Vypočítejte průměrnou známku z testu A a počet jedniček v testu B.

$$\frac{3 + 8 \cdot 2 + 9 \cdot 3}{20} = \frac{46}{20} = 2,3 = \frac{x + 2(9-x) + 9 \cdot 3 + 2 \cdot 4}{20} = \frac{53-x}{20}$$

$$46 = 53 - x$$

$$x = 7$$

VÝCHOZÍ TEXT K ÚLOZE 14

Divadlo nabízí pro každé představení celkem 220 vstupenek po 300 korunách a 80 vstupenek po 500 korunách. Během deseti představení bylo šestkrát zcela vyprodáno a čtyřikrát se neprodala právě polovina dražších lístků.

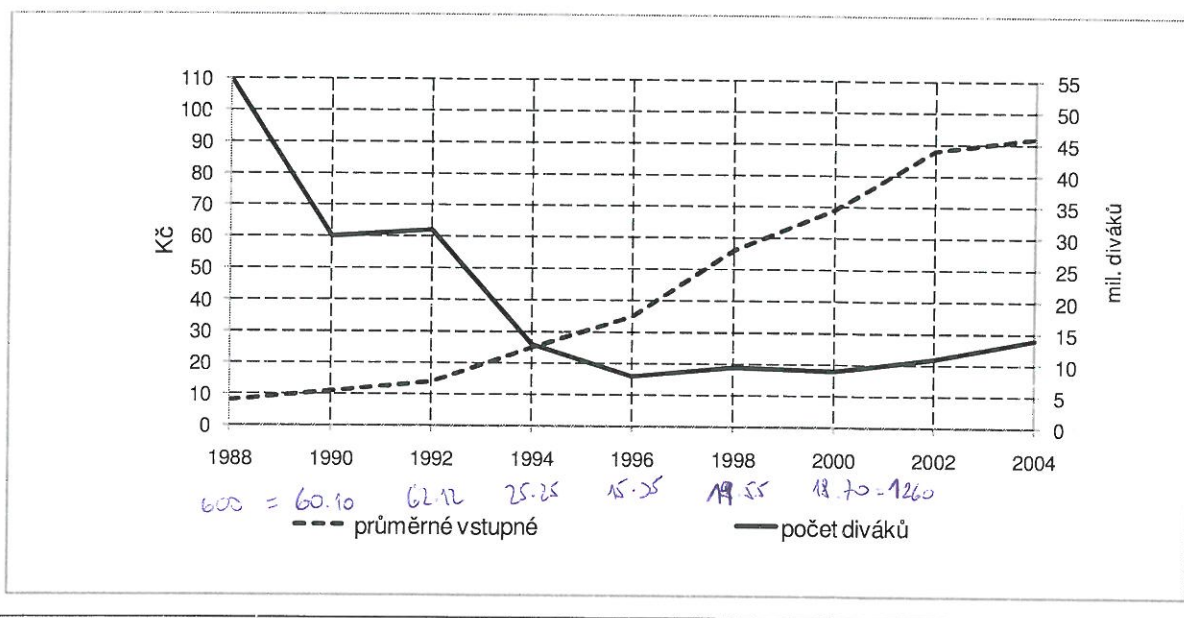
(CERMAT)

14 Jaká je průměrná tržba na jedno z deseti představení?

- A) 98 000 Kč
- B) 97 000 Kč
- C) 96 000 Kč
- D) 95 000 Kč
- E) jiná tržba

VÝCHOZÍ TEXT A GRAF K ÚLOZE 15

V grafu jsou uvedeny průměrné počty filmových diváků v milionech (sledujte na ose vpravo) a průměrná výše vstupného do kina v době od r. 1988 do r. 2004 (sledujte na ose vlevo). Návštěvnost klesala, ale vstupné se průběžně zvyšovalo.

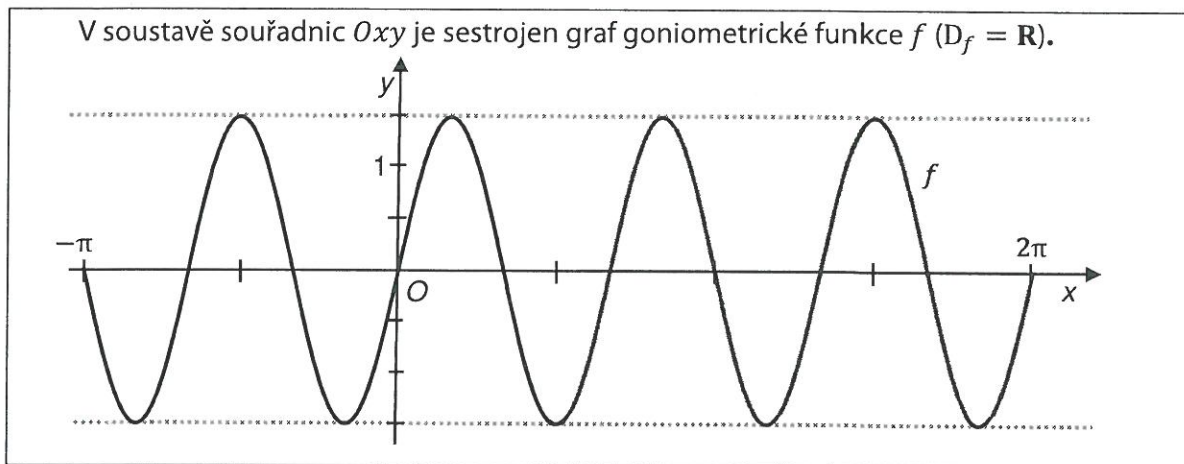


(CERMAT)

15 Průměrná roční tržba za vstupné do kina se od roku 1990 do roku 2000:

- A) v podstatě nezměnila.
- B) zvýšila jen velmi mírně, nejvýše o 20 %.
- C) zhruba zdvojnásobila.
- D) zvýšila téměř pětikrát.
- E) zvedla více než o 500 %.

VÝCHOZÍ OBRÁZEK K ÚLOZE 6



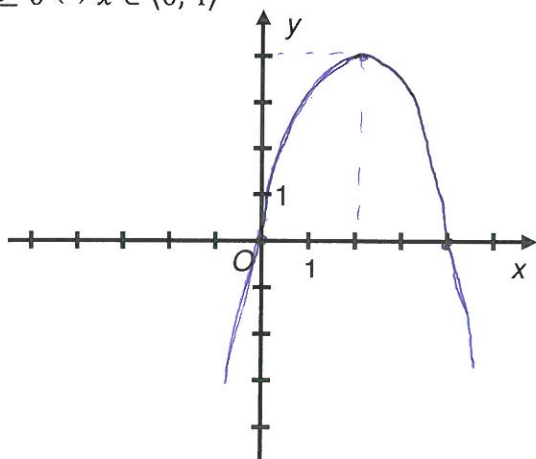
(CERMAT)

max. 2 body

6 Zapište předpis funkce f .

VÝCHOZÍ TEXT A OBRÁZEK K ÚLOZE 7

Pro kvadratickou funkci f platí:
 definiční obor je $D_f = \mathbf{R}$; obor hodnot je $H_f = (-\infty; 4)$
 $f(x) \geq 0 \Leftrightarrow x \in \langle 0; 4 \rangle$



(CERMAT)

max. 3 body

7

7.1 Sestrojte graf funkce f .

V záznamovém archu obtáhněte graf **propisovací tužkou**.

7.2 Zapište souřadnice vrcholu V grafu funkce f .

$$V[2; 4]$$

7.3 Uveďte předpis funkce f .

$$y = a(x-2)^2 + 4$$

$$[0; 0]: 0 = a \cdot 4 + 4$$

$$-1 = a$$

$$y = -(x-2)^2 + 4 = -x^2 + 4x$$

2 body

16 V aritmetické posloupnosti platí:

$$a_3 + a_4 = a_5$$

$$a_3 = 8$$

Které z následujících tvrzení je nepravdivé?

A) $a_1 + a_2 + a_3 = 0$

B) $a_2 + a_3 + a_4 = 24$

C) $a_2 + a_3 = 8$

D) $a_2 + a_3 < a_4$

E) $a_4 + a_5 < a_6$

VÝCHOZÍ TEXT K ÚLOZE 17

Pětimístné přirozené číslo je sestaveno z pěti různých číslic. Uprostřed je vždy číslice 6. Všechny číslice jsou seřazeny sestupně, tedy od největší po nejmenší.

(Daným podmínkám vyhovují např. čísla 97650 a 87631.)

(CERMAT)

2 body

17 Kolik různých čísel je možné uvedeným způsobem sestavit?

A) 324

B) 180

C) 45

D) 36

E) 18

$$\begin{array}{c} \text{---} \frac{6}{\text{---}} \text{---} \\ 9, 8, 7 \quad 5, 4, 3, 2, 1, 0 \\ \binom{3}{2} \cdot \binom{6}{2} \\ 3 \cdot 15 = 45 \end{array}$$

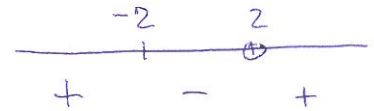
2 body

21 Jaký je definiční obor výrazu $\sqrt{\frac{2x+4}{x-2}}$ s reálnou proměnnou x ?

- A) $(-2; 2)$
- B) $(-\infty; -2)$
- C) $(2; +\infty)$
- D) $(-\infty; -2) \cup (2; +\infty)$

E) jiná množina

$$\frac{2x+4}{x-2} \geq 0$$



$$Df) = (-\infty; -2) \cup (2; \infty)$$

2 body

22 Vzdálenost obrazů komplexních čísel z_1, z_2 v Gaussově rovině je 10. Dále platí: $z_1 = -2, z_2 = 2 + bi$, kde $b \in \mathbb{R}, i$ je imaginární jednotka.

Který z následujících zápisů je správný?

- A) $2 + bi = 8$
- B) $|4 + bi| = 10$
- C) $|4 + b| = 10$
- D) $|4 - b| = 10$
- E) $\sqrt{4 + b^2} = 8$