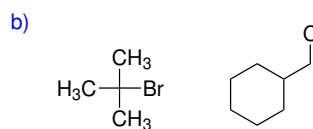
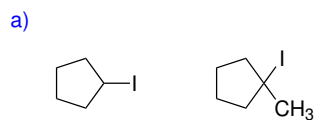
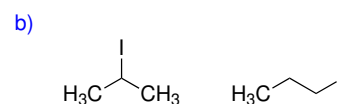
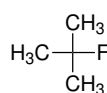
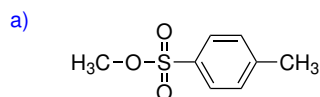


Domácí úkol číslo 9

1. V následujících dvojicích derivátů vyberte ten, který bude reagovat rychleji v S_N1 .



2. Rozhodněte, který derivát v následujících dvojicích bude reagovat rychleji v S_N2 :



3. Následující rovnice zachycují reakce probíhající jako nukleofilní substituce. Doplňte do prázdných obdélníků příslušné reaktanty nebo produkty.

