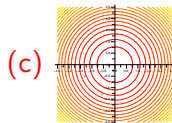
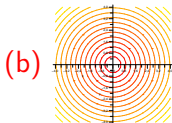
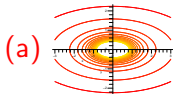


1. [1b.] Na základě grafu funkce vyberte graf jejích vrstevnic.



2. [1b.] Na kterém z uvedených obrázků je kužel?

(a)

(b)

(c)

Počet správných odpovědí: