

Matematická analýza – cvičení s použitím Maple

Jaroslav Urbánek
Václav Pink
Jiří Hřebíček

Červen 2011



Příprava tohoto učebního textu byla podpořena projektem MŠMT FRVŠ, č. 2785/2010 s názvem „Rozvoj výuky předmětu Matematická analýza – cvičení s použitím Maple“.

Předmluva

Do rukou se vám dostává text učebnice a sbírka příkladů, které prošly dlouhým vývojem, než se staly součástí sborníku z workshopu 7. ročníku mezinárodní odborné konference SCO (Sharable Content Objects) 2011. Toto dílo vzniklo v roce 2010 v rámci řešení projektu projektu FRVŠ č. 2785/2010 „Rozvoj výuky předmětu Matematická analýza — cvičení s použitím Maple“. Cílem projektu bylo poskytnout všem studentům se zájmem o matematickou analýzu a systém Maple kvalitní výukový materiál tak, aby vzrostla znalost matematické analýzy a zároveň schopnost řešit složitější problémy za pomoci informačních technologií.

Text učebnice a sbírka příkladů vycházely z dostupných materiálů o systému Maple a také z časové dotace cvičení předmětu Matematická analýza na Přírodovědecké fakultě Masarykovy univerzity (PřF MU) v Brně a osnovy příslušné přednášky z Matematické analýzy pro předměty MB000c Matematická analýza I — cvičení s použitím Maple a MB001c Matematická analýza II — cvičení s použitím Maple na PřF MU.

Po úspěšné obhajobě projektu na začátku roku 2011 byl text „Matematická analýza – cvičení s použitím Maple“ společně se sbírkou příkladů dán k dalšímu posouzení vysokoškolským učitelům matematiky na brněnských vysokých školách a Českém vysokém učení technickém v Praze, kteří k němu vznesli řadu podnětných připomínek.

Tyto připomínky byly ve velké míře akceptovány a zapracovány v prvním pololetí roku 2011 do současného textu „Matematická analýza — cvičení s použitím Maple“, který je uveden dále.

Mezitím byla vytvořena a distribuována uživatelům nová verze Maple 15, jejíž rozšíření vůči verzi Maple 14 není v textu této publikace ještě zohledněno. Nejedná se však o podstatné rozdíly a popsání vlastností a použití Maple ve cvičeních Matematická analýza I a Matematická analýza II se nezmění.

Autoři připravují nový text a sbírku příkladů, kde již bude Maple 15 zohledněn.

Autoři jsou otevřeni pro případně připomínky a návrhy čtenářů na vylepšení či rozšíření tohoto textu a sbírky příkladů.

Brno, červen 2011

Mgr. Jaroslav Urbánek
Mgr. Václav Pink
Prof. RNDr. Jiří Hřebíček, CSc.

Obsah

1	Úvod do systému Maple	5
1.1	Systém Maple	5
1.1.1	Standardní zápisník (Standard Worksheet)	5
1.1.2	Klasický zápisník (Classic Worksheet)	6
1.1.3	Příkazový řádek a kalkulačka Maple	6
1.1.4	Document Mode, Worksheet Mode	8
1.1.5	Math Mode, Text Mode	8
1.2	Základní ovládání systému	8
1.2.1	Vyhodnocení příkazů	9
1.2.2	Palety	10
1.2.3	Názvy symbolů	11
1.3	Nápověda	12
1.3.1	Tour of Maple, Quick Reference, Quick Help	13
1.3.2	What's New, Startup Dialog	13
1.3.3	Manuals, Resources, and more	13
1.3.4	Pomocníci, instruktoři a řešené úlohy	13
1.3.5	Příkaz ? (otazník)	14
1.4	Provádění výpočtů	15
1.4.1	Příkazy	15
1.4.2	Označení výsledků	17
1.4.3	Přiřazení hodnot do proměnných	18
1.4.4	Balíky	19
1.4.5	Řešení rovnic	21
2	Matematická analýza s Maple v \mathbb{R}	26
2.1	Výrazy a jejich úpravy	26
2.1.1	Zjednodušení výrazu	26
2.1.2	Omezující podmínky	26
2.1.3	Úprava polynomu	27
2.1.4	Převod výrazu na jiný tvar	27
2.2	Funkce jedné proměnné	32
2.2.1	Definice funkce	32
2.2.2	Vlastnosti funkcí	34
2.2.3	Inverzní funkce	37
2.2.4	Složená funkce	39
2.3	Vykreslení grafu funkce	39
2.3.1	Vykreslování	39
2.3.2	Animace	44
2.4	Limita a spojitost funkce	46

2.5	Derivace funkce	52
2.5.1	Diferenciál	55
2.5.2	Taylorův polynom	56
2.6	Vyšetření průběhu funkce	58
2.7	Integrál funkce	67
2.7.1	Neurčitý integrál	67
2.7.2	Metoda per partes	69
2.7.3	Substituční metoda	70
2.7.4	Určitý integrál	71
2.7.5	Aplikace určitého integrálu	76
2.7.6	Nevlastní integrál	85
3	Matematická analýza s Maple v \mathbb{R}^n	89
3.1	Funkce více proměnných	89
3.1.1	Definice funkce více proměnných	89
3.1.2	Vykreslení funkce dvou proměnných	89
3.1.3	Definiční obor funkce dvou proměnných	92
3.2	Limita a spojitost funkce více proměnných	96
3.2.1	Limita funkce	96
3.2.2	Spojitosť funkce	99
3.3	Parciální derivace funkce více proměnných	100
3.3.1	Směrové derivace	104
3.3.2	Diferenciál	105
3.3.3	Taylorův polynom	108
3.4	Extrémy funkce více proměnných	109
3.4.1	Lokální extrémy	109
3.4.2	Absolutní extrémy	114
3.5	Vícerozměrný integrál	118
3.5.1	Geometrická aplikace dvojného integrálu	126
3.5.2	Geometrická aplikace trojného integrálu	132
3.5.3	Transformace souřadnic ve dvojném a trojném integrálu	134
3.6	Nekonečné řady	136
3.6.1	Absolutní konvergence řad	143
4	Chybové zprávy	146
4.1	Chybové zprávy (Error Messages)	146
4.1.1	Math mode / Text mode	146
4.1.2	Chybné argumenty příkazů	146
4.1.3	Nesprávné použití závorek	147
4.1.4	Nesprávné přiřazení	147
4.1.5	Dělení nulou	148
4.1.6	Nesprávný zápis mocnin	148
4.1.7	Nesprávné použití objektů	148
4.1.8	Nesprávné definice a použití funkcí	150
4.1.9	Chyby při vykreslování	150
4.1.10	Další chyby	150
4.2	Varování (Warnings)	152
5	Návody k řešení příkladů	153

1 Úvod do systému Maple

1.1 Systém Maple

Systém Maple je výkonný program pro řešení jednoduchých i složitějších matematických problémů. S jeho pomocí také můžeme vytvářet dokumenty vysoké kvality, prezentace a interaktivní uživatelské nástroje. Maple patří do skupiny systémů počítačové algebry umožňující jak symbolické, tak numerické výpočty. Systém navíc obsahuje komponenty podporující výuku matematiky.

Výrobce systému je kanadská společnost Maplesoft Inc., jejíž webové stránky¹ poskytují široké informace o systému a jeho dalších příbuzných programech jako je MapleSim, MapleNet, Maple T.A. a mnoho dalších nástrojů a programů. Webové stránky mimo jiné obsahují tzv. *Aplikační centrum* (Application Center), z něž si může každý zaregistrovaný uživatel stáhnout ukázkové programy demonstrující použití systému Maple při řešení mnoha různých matematických i technických problémů. Poskytují i tzv. *Studentské centrum* (Student Center), kde si zaregistrovaný student může stáhnout mnoho studijních materiálů. Dalšími významnými zdroji informací o Maple jsou diskuzní fórum uživatelů Maple² a web distributora Maple pro Českou a Slovenskou republiku³, kde je většina dokumentů v českém jazyce [5], [9].

Systém Maple je vyvíjen od roku 1980, kdy se objevila jeho první limitovaná verze. Přelomovým obdobím byly roky 2003–2005, v nichž vznikla devátá a následně desátá verze Maple 10 přinášející nové grafické uživatelské rozhraní zvané *Standard Worksheet* a poté tzv. dokumentový režim (*Document mode*). Díky nim se ovládání systému Maple stalo výrazně jednodušším. V současné době vzniká každý rok nová verze, v době psaní tohoto textu byla na trhu nejnovější verze Maple 14. A právě touto verzí se budeme zabývat.

Se systémem je možné pracovat několika různými způsoby, které volíme při spuštění programu ze startovacího menu počítače nebo kliknutím na příslušnou ikonu na ploše. Maple je k dispozici pro různé operační systémy. V následujícím textu popíšeme, jak s programem spouštíme v nejrozšířenějším operačním systému Windows.

1.1.1 Standardní zápisník (Standard Worksheet)

Grafické uživatelské rozhraní Maple zvané *Standard Worksheet* se spustí ze startovacího menu počítače výběrem položky **Programy** > **Maple 14** > **Maple 14** nebo kliknutím na ikonu **Maple 14** na ploše. Toto prostředí poskytuje veškeré možnosti systému Maple a pomáhá vytvářet elektronické dokumenty (zápisníky) zobrazující matematické výpočty, texty a komentáře spolu s propracovanou počítačovou grafikou. Některé je možné v zápisníku „schovat“ a nechat „odkryté“ jen nejdůležitější pasáže tak, aby dokument poskytoval uživateli potřebné informace. Jelikož jsou vytvořené dokumenty interaktivní, tj. v jistém smyslu

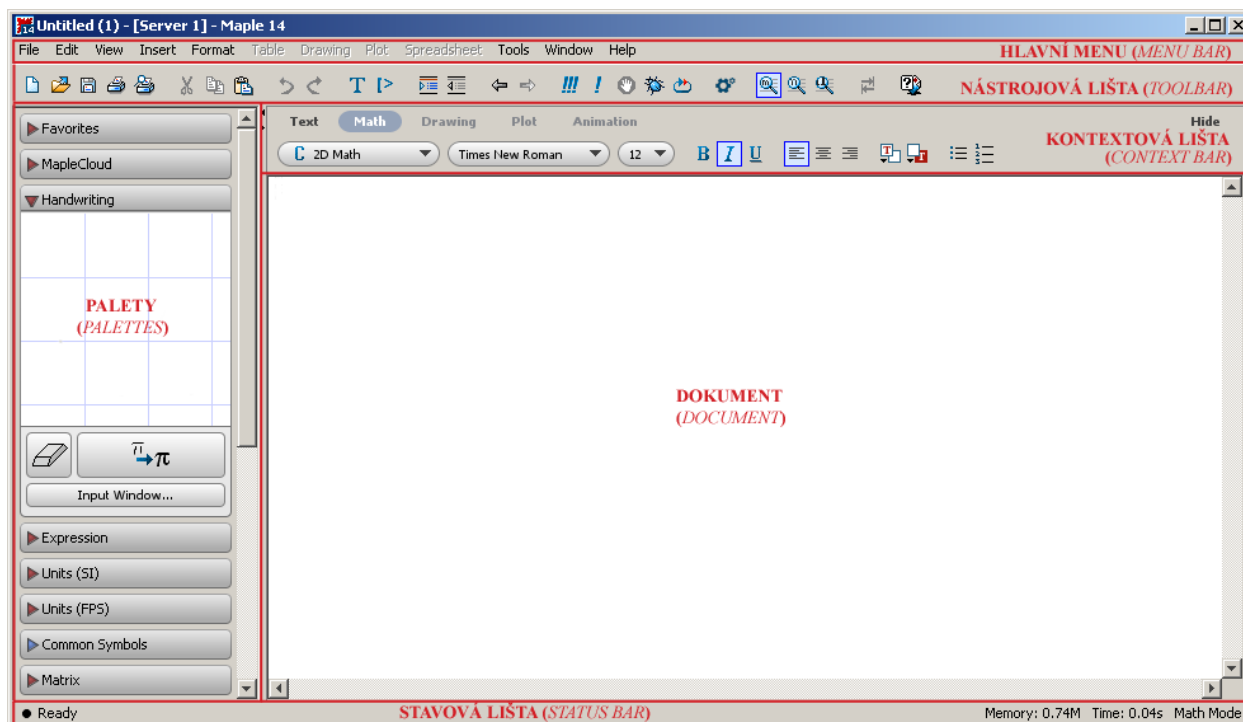
¹<http://www.maplesoft.com>

²<http://www.mapleprimes.com>

³<http://www.maplesoft.cz>

„živé“, může si uživatel sám upravovat předdefinované hodnoty parametrů, vyhodnocovat příkazy, a získávat tak nové výsledky.

Menu zápisníku Maple má tři vodorovné lišty: *hlavní menu* (*Menu Bar*, zcela nahoře), *nástrojovou lištu* (*Toolbar*, pod hlavním menu) a *kontextovou lištu* (*Context Bar*, pod nástrojovou lištou). Zápisník dále obsahuje *palety* (*Palettes*, svislý blok na levé straně⁴), vlastní pracovní pole – *dokument* (*Document*), do nějž zadáváme příkazy, texty, provádíme výpočtové a grafické akce, a *stavovou lištu* (*Status Bar*, zcela dole). Vlastní pracovní pole je možné zobrazit přes celou obrazovku skrytím palet a všech lišt (kromě hlavního menu) kliknutím na příslušné položky v záložce **View** hlavního menu.



Obrázek 1.1: Maple 14: Prostředí Standard Worksheet.

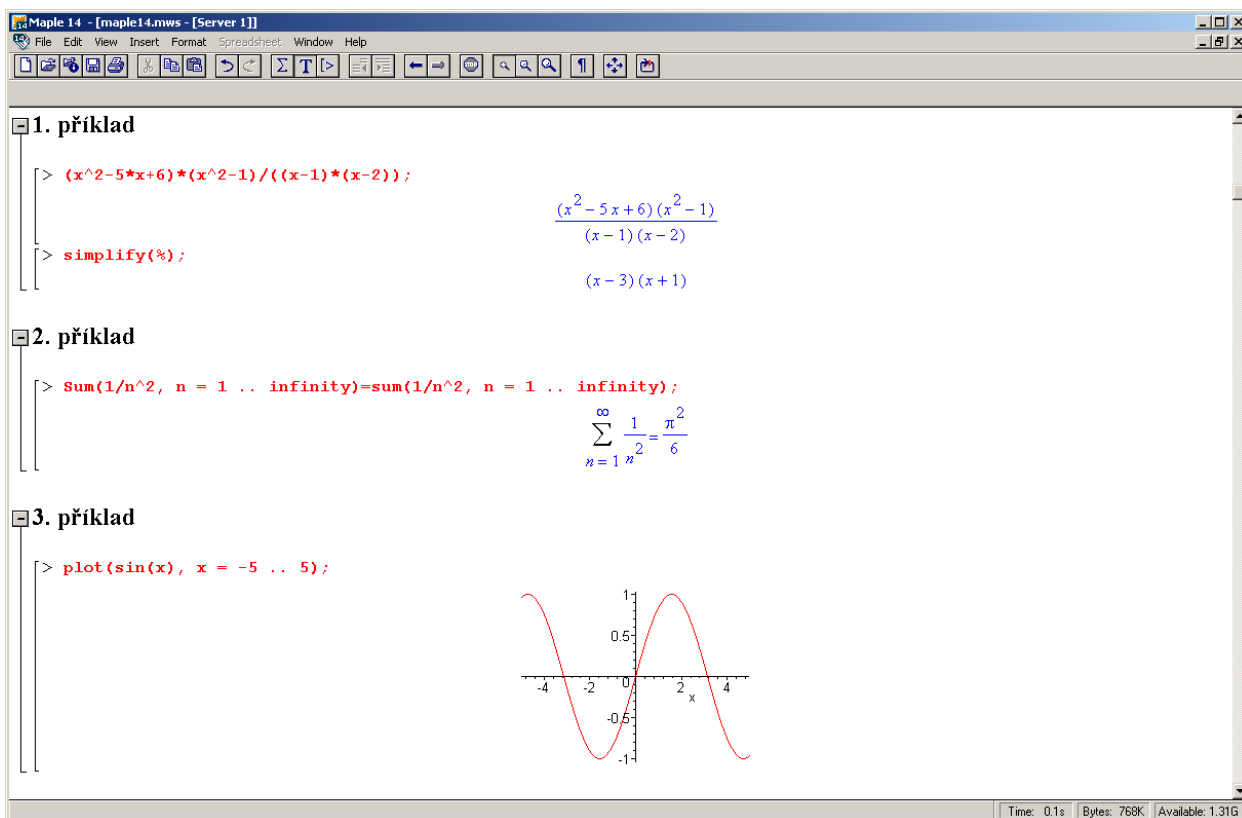
1.1.2 Klasický zápisník (Classic Worksheet)

Classic Worksheet se spustí ze startovacího menu počítače výběrem položky **Programy** > **Maple 14** > **Classic Worksheet Maple 14** nebo kliknutím na ikonu **Classic Worksheet Maple 14** na ploše. Tento zápisník Maple je určen především pro méně výkonné počítače s omezenou pamětí. Neposkytuje také všechny funkce, příkazy a možnosti systému Maple jako *Standard Worksheet* [5].

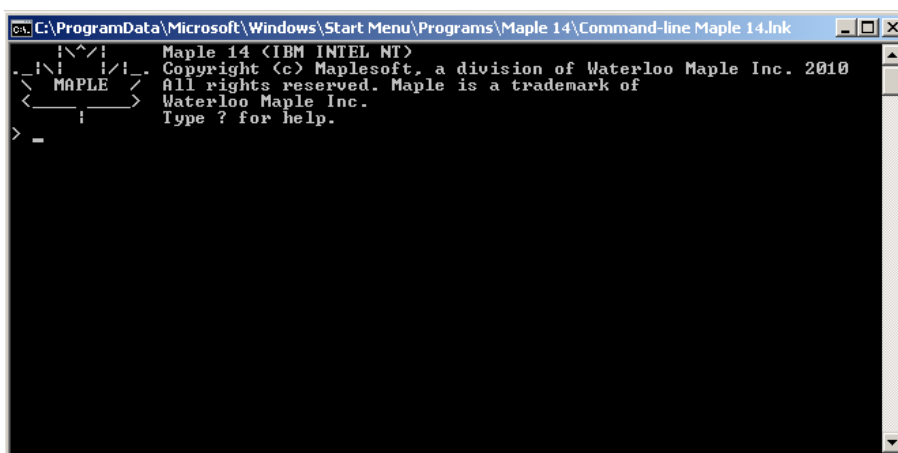
1.1.3 Příkazový řádek a kalkulačka Maple

Se systémem Maple můžeme pracovat i pouze v režimu tzv. *příkazového řádku* spustitelného ze startovacího menu počítače výběrem položky **Programy** > **Maple 14** > **Command-line Maple 14**. Příkazový řádek je určen k řešení rozsáhlých a složitých úloh. K dispozici přitom nejsou žádné grafické prvky.

⁴Palety se automaticky zobrazují v levém bloku. Prostředí systému nabízí blok pro palety i po pravé straně obrazovky (automaticky zavřený), kam je možné některé (ale i všechny) přesunout.



Obrázek 1.2: Maple 14: Prostředí Classic Worksheet (převzato z [5]).



Obrázek 1.3: Maple 14: Příkazový řádek.

Dále je možné používat (a vytvářet) tzv. *maplety*, tj. grafická uživatelská rozhraní obsahující okénka, textová pole a další vizuální prvky umožňující pouhým klikáním spouštět výpočty. *Kalkulačka* systému Maple je speciální typ mapletu, který je k dispozici pouze pro operační systémy Windows. Spouští se ze startovacího menu počítače, kde se vybere **Programy > Maple 14 > Maple Calculator** [5].

1.1.4 Document Mode, Worksheet Mode

Dále se budeme věnovat pouze rozšířenému prostředí *Standard Worksheet*. V tomto prostředí je možné pracovat ve dvou základních režimech: *Worksheet Mode* a *Document Mode*. Prvně jmenovaný odpovídá prostředí *Classic Worksheet*, v němž je každý příkaz Maple uvozen symbolem [$\>$] a musí být ukončen středníkem (výsledek se zobrazí na dalším řádku uprostřed) nebo dvojtečkou (výsledek se nezobrazí). Otevírá se v hlavním menu zvolením **File > New > Worksheet mode**. *Document Mode* poskytuje přehlednější zápis příkazů a matematických vzorců bez „přebytečných“ symbolů. Při otevření nového souboru z nástrojové lišty je automaticky spuštěn právě tento režim, jinak je možné jej též otevřít z hlavního menu v položce **File > New**.

Obvykle je zápisník nastaven do jednoho režimu⁵, který je možné zvolit při otvírání nového souboru v hlavním menu (**File > New > ...**). Existuje však i možnost přepínat mezi režimy v rámci jednoho zápisníku, kdy je část vytvořena v jednom režimu, část v jiném. Z *Document Mode* se přepneme do *Worksheet Mode* kliknutím na ikonku [$\>$] v nástrojové liště. Naopak z *Worksheet Mode* se do režimu *Document Mode* přepneme výběrem položky v hlavním menu (**Format > Create Document block**) [5].

1.1.5 Math Mode, Text Mode

Pro rozlišení příkazů a obyčejného textu slouží kontextová lišta zápisníku, kde máme na výběr *Text Mode* a *Math Mode*. *Math Mode* odpovídá příkazům (po stisku klávesy **Enter** dojde k vyhodnocení), v *Text Mode* píšeme texty dokumentu podobně jako např. v textovém editoru Word (po stisku klávesy **Enter** přejdeme na nový řádek bez jakéhokoli vyhodnocení). Volit režim zápisu můžeme buď kliknutím myši (v kontextové liště nad dokumentem jsou uvedeny názvy představující jednotlivé možnosti) nebo výběrem položky v hlavním menu (**Edit > Switch to Text/Math Mode**). Totéž lze rychleji provést klávesou **F5**.

V režimu *Worksheet Mode* lze pro text i pro příkazy použít oba druhy zápisu. Pro psaní textu je nutné kliknout na ikonku **T** v nástrojové liště nebo zvolit položku v hlavním menu (**Insert > Text**). Podobně pro zápis příkazů jazyka Maple je nutné kliknout na ikonku [$\>$] v nástrojové liště nebo zvolit položku v hlavním menu (**Insert > Maple Input**). Při otevření nového souboru je zápisník automaticky nastaven na psaní příkazů.

K příkazům máme dále možnost zapisovat komentáře uvedením symbolu mřížky (#) před text, který má být komentářem (viz obrázek 1.5) [5].

1.2 Základní ovládání systému

Již víme, jak spustit systém Maple a jak zvolit pracovní prostředí, které chceme. Otevřít již vytvořený program můžeme z hlavního menu (**File > Open...**) nebo spuštěním programu rovnou z operačního systému (prostřednictvím nějakého souborového manažeru). Když chceme vytvořený dokument uložit, zvolíme položku **File > Save** (resp. **File > Save As...**) v hlavním menu systému Maple. Dokumenty prostředí *Standard Worksheet* mají příponu *mw*, dokumenty prostředí *Classic Worksheet* příponu *mws*. V prostředí *Standard Worksheet* je možné otevřít oba typy souborů, v prostředí *Classic Worksheet* pouze typ *mws*.

Maple poskytuje také možnost exportovat dokumenty jako soubory jiných typů. Podporovány jsou typy: *HTML*, *PDF*, *LaTeX*, *Maple Input*, *Maplet*, *Maple Text*, *Plain Text*,

⁵Ten zpravidla volíme při prvním spuštění po instalaci systému nebo jej můžeme následně nastavit v hlavním menu: **Tools > Options... > Interface**.

Zápis v režimu <i>Document Mode</i>	Zápis v režimu <i>Worksheet Mode</i>
Tento text je v režimu Text Mode . Stiskem klávesy Enter jsme se dostali na další řádek. Na následujícím řádku se přepneme do režimu Math Mode .	Tento text je též v režimu Text Mode . Tento text je v režimu Math Mode .
příkaz	příkaz
nějaký text	nějaký text
256·125	> příkaz; příkaz
	> příkaz; příkaz
$\text{solve}(x^2 - 7x + 12 = 0)$	> 256·125 příkaz
	> 256·125 příkaz
	> 256*125; příkaz
	> 256*125; příkaz

Obrázek 1.4: Režimy zápisu (převzato z [5]).

```
256·125 # nějaký komentář          32000
[ > 256*125; # nějaký komentář    32000
  >
```

Obrázek 1.5: Zápis komentáře v příkazovém režimu (převzato z [5]).

Maple T.A. a *Rich Text Format*. Pro export dokumentu vybereme položku **Export As...** ze záložky **File** v hlavním menu.

Nyní si ukážeme, jak v *Document Mode* zadávat jednoduché příkazy. Budeme proto předpokládat, že zápisník je již nastaven pro psaní příkazů (*Math Mode*).

Základní operace: pro sčítání používáme symbol plus (+), pro odčítání mínus (-), pro násobení (*), ale pozor, pro dělení musíme používat pouze lomítko (/), dvojtečka (:) má jiný význam (viz dále).

Zadání zlomku: zadáme číselník, lomítko (/) a jmenovatel. Pro opuštění zápisu jmenovatele stačí stisknout šipku doprava (ve zlomku je též možno pohybovat se šipkami).

Zadání mocniny: zadáme základ, symbol stříška (^) a exponent. Pro opuštění zápisu exponentu je opět možné použít šipku doprava.

1.2.1 Vyhodnocení příkazů

Příkaz vyhodnotíme stiskem klávesy **Enter**. Výsledek se zobrazí na dalším řádku uprostřed. V dřívějších verzích (méně než 10) systému Maple bylo nutné příkaz ukončovat středníkem, aby se provedl. Tato možnost nadále zůstala (tj. zadáme-li za příkaz středník, „nic nepokazíme“) a v některých situacích je dokonce jediná možná – např. textový režim (*Text Mode*) příkazů v *Worksheet Mode* nebo při psaní příkazů v prostředí *Classic Worksheet*. Z předešlých verzí Maple se uchovala i funkcionality symbolu dvojtečka (:), která po zařazení

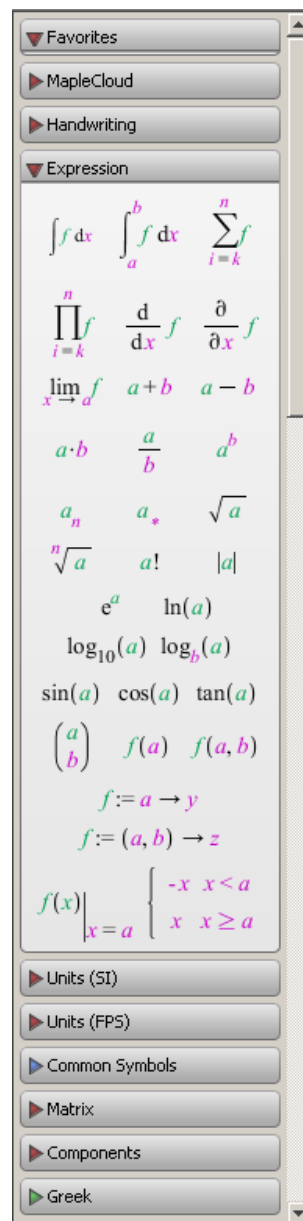
za příkaz a následného stisku klávesy **Enter** potlačí zobrazení výsledku na dalším řádku (tj. příkaz se vyhodnotí, ale na obrazovku se nic nevypíše). Proto není možné dvojtečku používat jako operátor dělení. V *Document Mode* je navíc možné zapisovat příkaz i s výsledkem na jeden řádek. Po napsání příkazu k tomu stačí namísto stisku klávesy **Enter** použít klávesovou zkratku „**Ctrl** + =“.

Jak bylo zmíněno dříve, interaktivní dokumenty v Maple jsou „živé“. Tím máme na mysli skutečnost, že i v dříve vytvořeném dokumentu s vyhodnocenými příkazy otevřeném po libovolně dlouhé době můžeme kterýkoli výraz upravit, znovu vyhodnotit (stisknout **Enter** nebo „**Ctrl** + =“) a dostaneme nový výsledek. Označíme-li myši několik (libovolně mnoho) příkazů a stiskneme ikonku **!** (vykřičník) z nástrojové lišty, všechny označené příkazy budou postupně vyhodnoceny. K vyhodnocení všech příkazů v dokumentu slouží ikonka **!!!** (tři vykřičníky).

Maple obsahuje více než tisíc symbolů, pomocí nichž můžeme tvořit matematické výrazy a typograficky kvalitní text. Patří mezi ně písmena a číslice, jimiž vytváříme jména (posloupnost znaků začínající písmenem, za kterým může následovat kombinace písmen, čísel a vybraných symbolů), reálná čísla (celá, racionální, iracionální, s desetinou tečkou nebo v notaci pohyblivé řádové čárky), komplexní čísla, aritmetické, booleovské a jiné operátory (+, −, !, /, *, \int , lim, ...), konstanty (π , e , ...), imaginární jednotku, nekonečno, matematické funkce ($\cos(x)$, $\sin(\frac{\pi}{3})$, ...) a proměnné (pojmenované jménem ...). Velkou předností systému Maple je jeho schopnost symbolických matematických výpočtů. Některé z matematických symbolů, které můžeme použít, nejsou na klávesnici, a tak se zadávají buď z palety nebo pomocí svých názvů [5].

1.2.2 Palety

Palety jsou pojmenované „obdélníčky“ s nabídkou předdefinovaných symbolů, zápisů, výrazů apod. (obrázek 1.6), zpravidla při levém okraji zápisníku. Každá paleta obsahuje symboly příslušné skupiny. Například paleta s názvem *Expression* nabízí některé základní matematické výrazy, paleta *Greek* písmena řecké abecedy atd. Standardně zůstává několik palet nezobrazených. V hlavním menu (**View** > **Palettes**) můžeme seznam zobrazených palet upravit tím, že některé přidáme, odebereme, ale třeba i jinak seřadíme. Totéž lze provést jen za pomoci myši. Přidržením levého tlačítka vybranou paletu přesuneme na jiné místo, stisknutím pravého tlačítka vyvoláme stejnou nabídku, jako bychom postupovali přes hlavní menu. Kliknutí levého tlačítka myši na některou z palet zobrazí (příp. skryje) symboly, které paleta nabízí. Vložit z palety symbol do zápisníku pak stačí pouhým kliknutím, případně „přetáhnutím“ s pomocí levého tlačítka myši. Obecné barevně zvýrazněné symboly ve výrazu je možné dále specifikovat (upravovat) dosazením hodnoty, s níž potřebujeme pracovat [5].



Obrázek 1.6: Palety.

Příklad 1.1: Vložte do dokumentu výraz $\sum_{i=1}^{10} 2^i$.

Řešení: Pro zapsání zadaného výrazu potřebujeme celkem dva různé symboly: *sumu*

a *mocninu*. Sumační symbol nalezneme v paletě **Expression**. Kliknutím na tuto paletu ji otevřeme (na obrázku 1.6 je jako jediná otevřená) a vybereme z ní přítomný sumační symbol. Po jeho vložení do zápisníku pak jednoduše přepíšeme obecné symboly (k , n a f) požadovanými hodnotami. Pohybovat ve vzorci se můžeme pomocí šipek na klávesnici, s výhodou lze využít klávesy **Tab**, přitom k úpravě výrazu můžeme používat i všechny ostatní klávesy jako např. **Delete**, **Backspace**, **mezerník**, ... Znak f přepíšeme mocninným výrazem. To můžeme provést buď vložением dalšího symbolu z palety **Expression** (symbol a^b) a následnou úpravou (specifikací hodnot a , b), nebo užitím již známé klávesy pro tvorbu mocnin – stříšky (^).

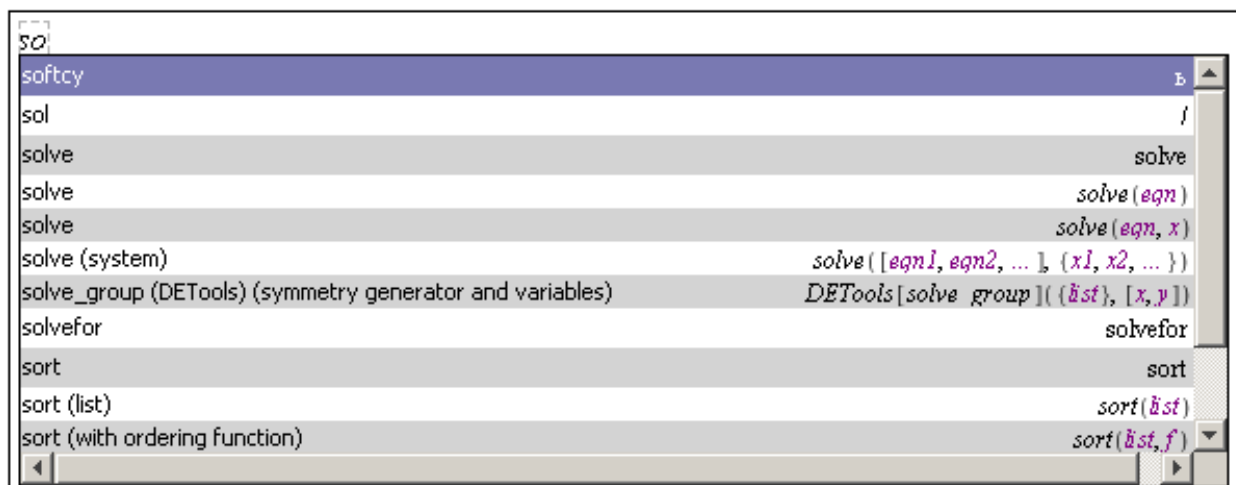
Příklad 1.2: Vložte do dokumentu výraz $\sum_{i=1}^{\infty} \frac{1}{i}$.

Příklad 1.3: Vložte do dokumentu výraz $\left| \frac{32^3 - 64^2}{17 \cdot 2^4} \right|$.

Příklad 1.4: Vložte do dokumentu výraz $\sqrt{\frac{\ln(e^5)! \cdot \sin(\frac{17 \cdot \pi}{2}) - 3 \cdot 13}{\sqrt{\log_2(16) - 1}}}$.

1.2.3 Názvy symbolů

Mimo palet můžeme k zápisu symbolů užívat jejich názvů. Například symbol π vložíme napsáním jeho názvu `Pi`⁶, pro odmocninu je vyhrazen název `sqrt`, takže \sqrt{x} vložíme napsáním `sqrt(x)`. Při vkládání symbolů pomocí názvů nebo při tvorbě příkazů se může hodit funkce „dokončování“. Pro zadání symbolu pak stačí napsat jeho úvodní písmeno (písmena) a pomocí klávesy **Esc** nebo kláves „**Ctrl** + **mezerník**“ následně z vyskakovacího okénka zvolit požadovaný příkaz. Na obrázku 1.7 je ukázka nabídky pro dokončení zápisu písmen `so` [5].



Obrázek 1.7: Funkce automatického dokončování (převzato z [5]).

⁶Maple rozlišuje malá a velká písmena. Například zápis `Pi` představuje Ludolfovo číslo π i s jeho hodnotou, zatímco zápis `pi` představuje pouze symbol (řecké písmeno) π .

Příklad 1.5: Vložte do dokumentu výraz $\left| \frac{32^3 - 64^2}{17 \cdot 2^4} \right|$ bez použití palet.

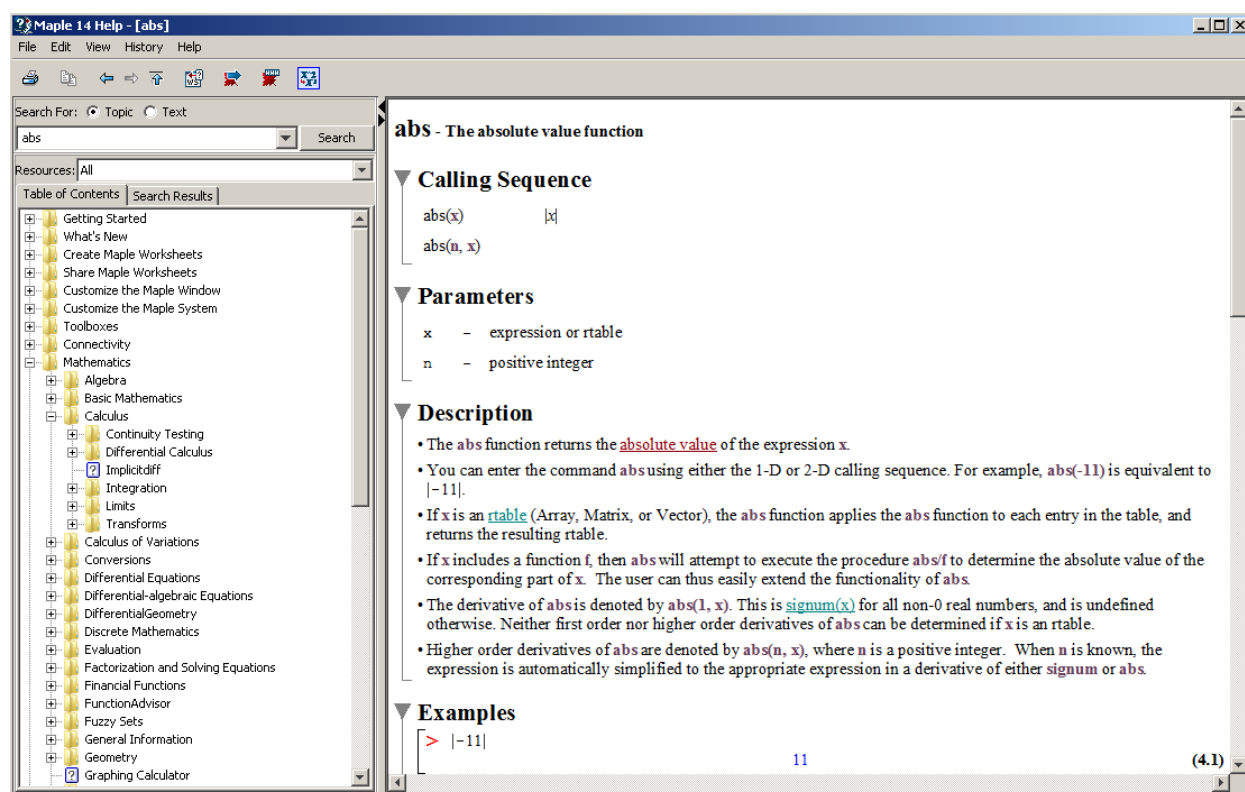
Řešení: Pro absolutní hodnotu z požadovaného výrazu použijeme příkaz `abs`, při zadávání mocnin využijeme symbolu stříšky (`^`). Výsledný zápis zadaného výrazu tedy bude: `abs((32^3-64^2)/(17*2^4))`.

Příklad 1.6: Vložte do dokumentu výraz $\sqrt{\frac{\ln(e^5)!. \sin(\frac{17 \cdot \pi}{2}) - 3 \cdot 13}{\sqrt{\log_2(16) - 1}}}$ bez použití palet.

1.3 Nápořveda

Významnou součástí systému Maple je jeho nápořveda. K dispozici je několik různých typů nápořvedy, které nejlépe najdeme v hlavním menu v nabídce **Help**. Základní stránky nápořvedy zobrazíme výběrem položky **Maple Help**⁷.

Vyhledávat v nápořvedě můžeme buď zadáním hledaného textu do textového pole v levé horní části okna (na obrázku 1.8 je v tomto poli zapsán text `abs`), nebo tematickým vyhledáváním v připravené stromové struktuře témat v levé části okna (na obrázku 1.8 je rozbalena Matematika a v ní téma Calculus, tedy Matematická analýza). Odkliknutím zadaného slova `abs` v textovém vyhledávacím poli nápořvedy zobrazíme v hlavní části okna nápořvedu právě k příkazu `abs`. Jak můžeme vidět na obrázku 1.8, nápořveda obsahuje základní popis příkazu, obecný zápis příkazu pro jeho použití a konkrétní ukázkové příklady.



Obrázek 1.8: Hlavní nápořveda systému Maple.

⁷Pro vyvolání této nápořvedy můžeme také použít klávesovou zkratku „**Ctrl + F1**“, nebo poslední ikonku nástrojové lišty.

1.3.1 Tour of Maple, Quick Reference, Quick Help

Nabídka **Help** hlavního menu poskytuje ještě několik jiných forem nápovědy. Položka **Take a Tour of Maple** zobrazí interaktivní přehled systému (jeho nejdůležitějších prvků). Kliknutí na **Quick Reference** otevře tabulku informací o ovládání systému Maple, zejména pro nové uživatele. Jedná se o základní informace s odkazy do nápovědy **Maple Help** pro jejich případné doplnění. Položka **Quick Help** nabízí ještě stručnější tabulku než předchozí nápověda. Standardně se objevuje v každém novém zápisníku při pravé straně v podobě černého okénka (pokud toto nastavení nezrušíme). Po zavření je možné ji vyvolat stiskem klávesy **F1**, či jako položku v hlavním menu [5].

1.3.2 What's New, Startup Dialog

Dalšími druhy nápovědy jsou přehled rozšíření stávající verze Maple oproti předcházející verzi (dostupné přes **Help > What's New**) a tzv. **Startup Dialog** obsahující tipy pro práci se systémem Maple. **Startup Dialog** se zobrazuje vždy po spuštění systému (pokud toto nastavení nezrušíme) [5].

1.3.3 Manuals, Resources, and more

Vyvoláním **Manuals, Resources, and more** přejdeme do další oblasti nápovědy, z níž popíšeme tři nejdůležitější části.

Maple Portal

Od předcházející verze (tedy Maple 13) je k dispozici tzv. *Maple Portal*. Spustit jej můžeme samostatně (*Maple Portal* má vlastní ikonu na ploše) nebo přes nápovědu v hlavním menu (**Help > Manuals, Resources, and more > Maple Portal**). *Maple Portal* slouží jako pomocník novým i zkušenějším uživatelům hledajících pokročilejší nápovědu. Je v něm možné rychle najít detailní popis práce se systémem Maple od řešení nejjednodušších problémů až po velmi složité úlohy [5].

Applications and Examples

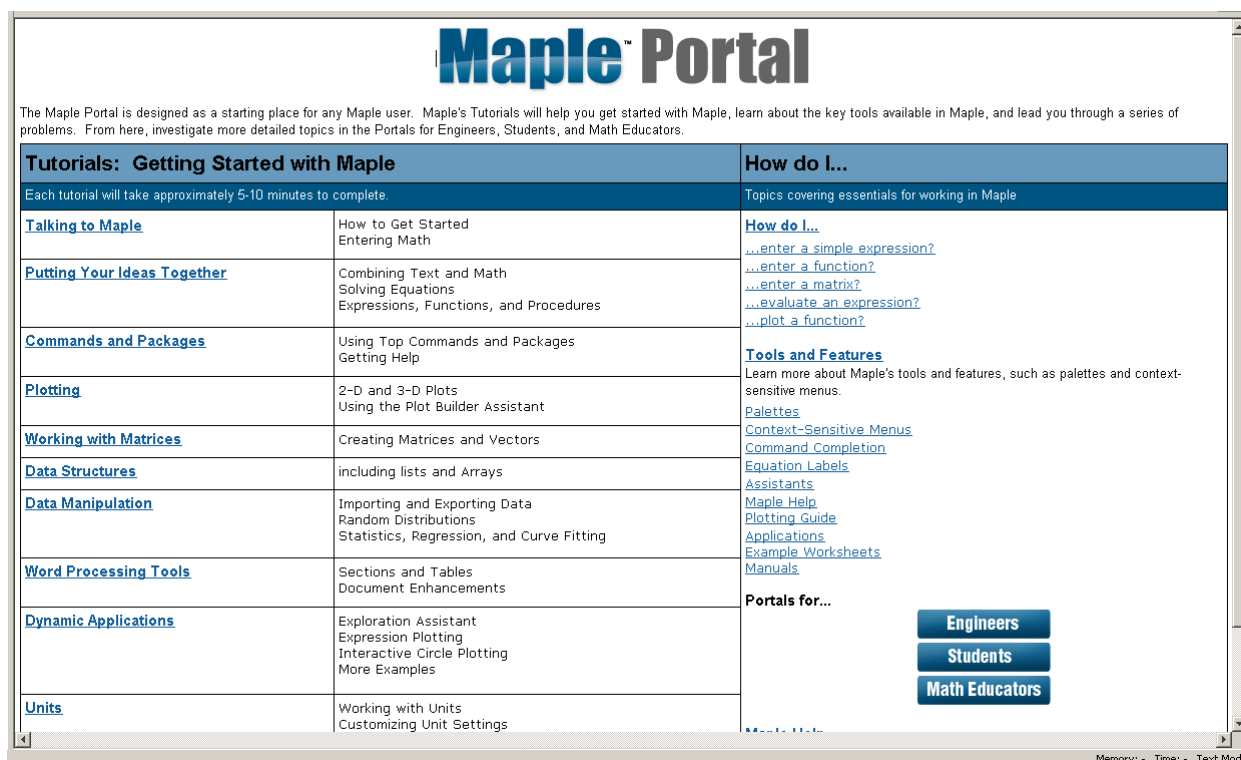
Z nápovědy je možno vyvolat i spustitelné soubory (tj. již vytvořené dokumenty) demonstrující možnosti systému Maple. Otevřeme je přes nápovědu v hlavním menu (**Help > Manuals, Resources, and more > Applications and Examples**) a pak kliknutím na zvolený příklad [5].

Manuals

Dále je možné vyvolat anglické manuály **User manual**, **Introductory Programming Guide**, **Advanced Programming Guide** a **Getting Started with Maple Toolboxes** podrobně popisující možnosti systému Maple. Otevřeme je přes nápovědu v hlavním menu (**Help > Manuals, Resources, and more > Manuals**) a pak kliknutím na zvolený manuál [5].

1.3.4 Pomocníci, instruktoři a řešené úlohy

Systém Maple poskytuje také již připravené „pomocné nástroje“ pro řešení úloh. Jsou to tzv. *Pomocníci* (*Assistants*), *Instruktoři* (*Tutors*) a *Úlohy* (*Tasks*), které vyvoláme z hlav-



Obrázek 1.9: Maple Portal (převzato z [5]).

ního menu (**Tools** > **Assistants** nebo **Tools** > **Tutors** anebo **Tools** > **Tasks**). *Pomocníci* (*Assistants*) obsahují například nástroje pro hledání funkční závislosti v datech, optimalizaci funkcí, řešení diferenciálních rovnic a další. Pro daný typ úlohy mají implementováno několik často používaných algoritmů. Po vyvolání provedou uživatele nastavením a specifikací parametrů úlohy a zvolenou metodou úlohu vyřeší. *Instruktoři* (*Tutors*) provedou uživatele řešenou problematikou pomocí jednoduchých názorných příkladů. *Úlohy* (*Tasks*) zobrazují na příkladech, jak řešit různé úlohy. Zobrazí se vyvoláním z hlavního menu (**Tools** > **Tasks** > **Browse**) [5].

1.3.5 Příkaz ? (otazník)

Symbol ? (otazník) je dalším ze způsobů zobrazení nápovědy. Zapsáním a provedením příkazu ? otevřeme hlavní stránku nápovědy. Otazník spolu s názvem příkazu otevře nápovědu na stránce týkající se zadaného příkazu. Tedy např. příkaz ?evalf otevře hlavní nápovědu systému na stránce popisující syntaxi a sémantiku příkazu evalf spolu s příklady jeho použití. Zapsáním dvou otazníků na začátek příkazu otevřeme tutéž stránku nápovědy ve „sbaleném“ tvaru osnovy, v níž je možné otevřít (odkryt) libovolné části. Zadáním tří otazníků před příkaz otevřeme nápovědu na příkladech použití tohoto příkazu [5].

Otevřít nápovědu na stránce zadaného příkazu (resp. klíčového slova) můžeme též stisknutím klávesy **F2** (za přítomnosti kurzoru na klíčovém slově).

Příklad 1.7: Zjistěte, k čemu slouží příkaz sum a jak se používá.

Příklad 1.8: Zjistěte, jak je možné v systému Maple pracovat s vektory a maticemi.

1.4 Provádění výpočtů

Maple provádí přesně numerické výpočty s celými, racionálními i iracionálními čísly. Každý zadaný matematický výraz se snaží zjednodušit (např. zlomek zkrátit a převést na základní tvar, upravit algebraický výraz, ...), ale ne za cenu ztráty přesnosti. To znamená, že například racionální čísla (zlomky) udržuje stále v jejich základním tvaru. Podobně s konstantami π , e a dalšími, s odmocninami a jinými výrazy pracuje jako se symboly. Tímto je zaručena absolutní přesnost výpočtů i v případě, kdy nepracujeme pouze s celými čísly [5].

Jsou však situace, kdy potřebujeme znát přibližnou hodnotu reálného nebo racionálního čísla v pohyblivé řádové čárce. K tomu slouží příkaz `evalf`, jenž vrátí zaokrouhlenou hodnotu svého argumentu na počet platných cifer mantisy specifikovaný systémovou proměnnou `Digits`. Ta je standardně nastavena na hodnotu 10. Všechny výpočty, při nichž je nutné zaokrouhlovat čísla, provádí proto Maple s přesností na 10 platných míst. Proměnnou `Digits` můžeme nastavit na takřka libovolné přirozené číslo. Omezení, jak vysoké toto číslo může být, zjistíme příkazem `kernelopts(maxdigits)`. Pro představu uvedme, že pro Maple 14 je toto číslo 268 435 448, tedy více než 268 milionů platných cifer, s kterými dokáže systém „teoreticky“⁸ počítat [5].

<code>Pi</code>	π
<code>Digits</code>	10
<code>evalf(Pi)</code>	3.141592654
<code>evalf(Pi, 5)</code>	3.1416
<code>evalf(Pi, 20)</code>	3.1415926535897932385

Obrázek 1.10: Příkaz `evalf` (převzato z [5]).

Aniž bychom měnili nastavení proměnné `Digits`, můžeme zobrazit libovolný výraz s požadovanou přesností pouze pomocí příkazu `evalf`. Příkaz je možné použít s jedním nebo dvěma parametry. Jediný zadaný parametr znamená, že tento zadaný výraz bude vyhodnocen na počet platných míst specifikovaný v proměnné `Digits`. Přidaný druhý parametr řekne funkci `evalf`, na kolik platných míst má výraz vyhodnotit, viz příklady na obrázku 1.10 [5].

Maple rozeznává přesná čísla (mezi něž patří i zmíněné symboly π a e , zlomky atp.) a čísla typu *Floating-Point*, nebo-li čísla v pohyblivé řádové čárce. Jestliže systému zadáme výraz, v němž některý z jeho podvýrazů bude typu *Floating-Point*, může Maple na celý výraz pohlížet jako by byl tohoto typu a bude výsledky výpočtů zaokrouhlovat. To nejlépe uvidíme na dalších příkladech na obrázku 1.11 [5].

1.4.1 Příkazy

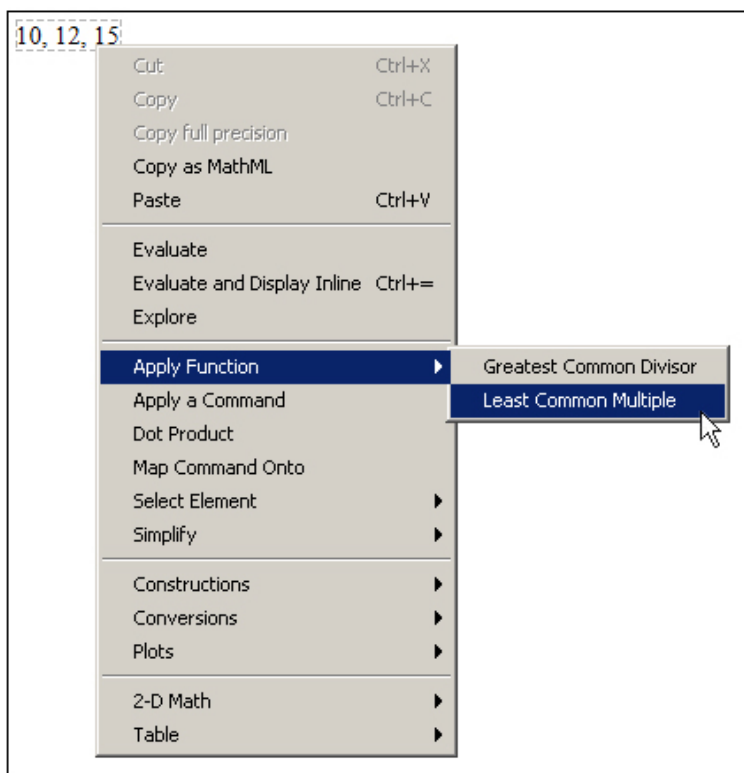
Pro provedení výpočtu máme zpravidla více možností. Tou základní, která je k dispozici ve všech verzích systému, jsou příkazy jazyka Maple. Chceme-li například vypočítat odmocninu

⁸Výpočet se s rostoucím počtem platných míst prodlužuje a je paměťově náročnější, což způsobuje praktickou nepoužitelnost pro vyšší počet (závislý na typu úlohy) cifer.

$\frac{2}{3} + \frac{3}{2} = \frac{13}{6}$,	ale	$\frac{2}{3} + 1.5 = 2.166666667$
$\sqrt{2} + \sqrt{3} = \sqrt{2} + \sqrt{3}$,	ale	$\sqrt{2.0} + \sqrt{3} = 1.414213562 + \sqrt{3}$

Obrázek 1.11: Přesná čísla a čísla typu **Floating-Point** (převzato z [5]).

z čísla 2,5, zapíšeme v systému Maple příkaz `sqrt(2.5)`. Stejného výsledku dosáhneme použitím symbolu pro odmocninu z palety **Expression**. Pokud chceme určit nejmenší společný násobek čísel 10, 12 a 15, můžeme využít příkazu `lcm`, nebo zapsat čísla na řádek za sebe (oddělená čárkami) a přes pravé tlačítko myši zvolit z kontextové nabídky **Apply Function** > **Least Common Multiple**, viz obrázky 1.12, 1.13 [5].



Obrázek 1.12: Provedení výpočtu pomocí kontextové nabídky (převzato z [5]).

Příklad 1.9: Zobrazte číslo π s přesností na pět desetinných míst.

Řešení: Pro zobrazení přibližné (zaokrouhlené) hodnoty s požadovanou přesností využíváme příkazu `evalf`. Funkci `evalf` dáme jako první argument výraz, jehož přibližnou hodnotu chceme určit (tj. π). Druhý argument bude specifikovat počet platných míst. Jelikož chceme, aby počet desetinných míst byl roven pěti, počet platných míst nastavíme na 6. Získáme tak výsledek na obrázku 1.14.

Příklad 1.10: Zobrazte Eulerovo číslo s přesností na dvě desetinná místa.

Příklad 1.11: Vypočítejte, kolik je $1 - \frac{1.0}{3.0} - \frac{1.0}{3.0} - \frac{1.0}{3.0}$. Proč není výsledek roven 0?

$$\begin{array}{l} \text{sqrt}(2.5) = 1.581138830 \\ \sqrt{2.5} = 1.581138830 \\ \text{lcm}(10, 12, 15) = 60 \\ 10, 12, 15 \xrightarrow{\text{integer lcm}} 60 \end{array}$$

Obrázek 1.13: Různé možnosti provedení výpočtu (převzato z [5]).

$$\text{evalf}(\pi, 6) = 3.14159$$

Obrázek 1.14: Řešení příkladu 1.9.

1.4.2 Označení výsledků

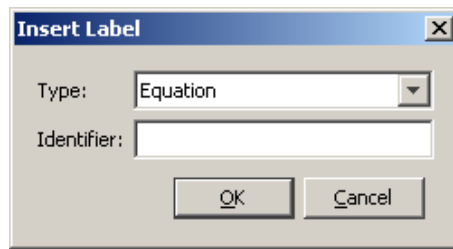
Každému zobrazenému výsledku se v zápisníku přiřazuje číselné označení, které se zapisuje zcela vpravo na řádek s odpovídajícím výsledkem. Označení je možné potlačit (tj. nezobrazovat), znovu vyvolat, případně upravit jeho formát v hlavním menu (**Format** > **Equation Labels** > ...). Díky označení se můžeme na předešlé výsledky odvolávat a používat je při tvorbě dalších příkazů. V ukázkách vytvořených dokumentů (prezentovaných v tomto textu) je označení výsledků vždy potlačeno. Použití označení ilustruje obrázek 1.15.

$\frac{2}{3} - 6$		
	$-\frac{16}{3}$	(1)
$8 \cdot 3$	24	(2)
$5 - \pi$	$5 - \pi$	(3)
$10 + (2)$	34	(4)

Obrázek 1.15: Označení výsledků (převzato z [5]).

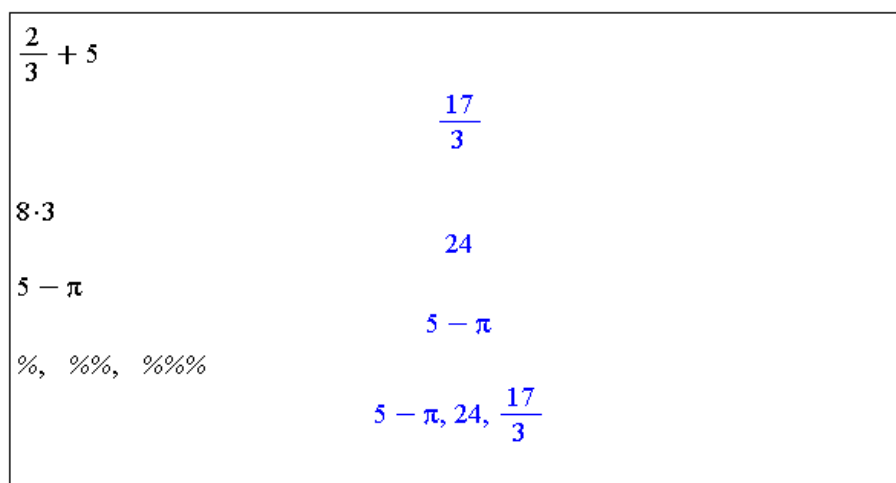
Pokud chceme například přičíst číslo **10** k výsledku s označením **(2)**, pak napíšeme „10 + “ a přes klávesovou zkratku „**Ctrl** + **L**“ vložíme požadované označení (tedy do „vyskakujícího okénka“ zadáme číslo 2 a potvrdíme (**OK**)). Místo klávesové zkratky „**Ctrl** + **L**“ je možné použít horní menu (**Insert** > **Label...**). Pozor, zápis (2) vytvořený (pouze) na klávesnici při tvorbě příkazu Maple nepochopí, pro vložení označení do příkazu je třeba důsledně používat předešlý postup s „vyskakujícím okénkem“ zobrazeným na obrázku 1.16 [5].

Maple dále nabízí možnost odkazovat se na poslední tři výsledky (v tomto případě je jedno, zda byly zobrazeny či nikoliv, a zda mají nějaké označení) pomocí symbolu % (procento). Jedno procento (%) představuje poslední výsledek, dvě procenta (%%) předposlední



Obrázek 1.16: „Vyskakující okénko“ pro zadání označení (převzato z [5]).

a tři procenta (%%) před-předposlední. Upozorníme, že výsledek získaný těmito příkazy závisí na pořadí vykonaných příkazů, ne na jejich umístění v zápisníku! Tedy např. % vypíše poslední výsledek získaný předchozím (časově) vykonaným příkazem (obrázek 1.17).



Obrázek 1.17: Využití procent při odkazování se na předchozí výsledky (převzato z [5]).

1.4.3 Přiřazení hodnot do proměnných

Odkazovat se na výrazy můžeme také po jejich přiřazení k nějaké proměnné. Operátorem přiřazení je (dvoj)symbol := (dvojtečka + rovnítko).

Namísto (dvoj)symbolu := můžeme k přiřazení použít příkaz `assign`. Tak, jak můžeme výrazy do proměnných přiřazovat, můžeme též přiřazení zrušit (tj. odebrat proměnné uloženou hodnotu). Zmíněné provedeme příkazem `unassign` nebo přiřazením názvu proměnné v apostrofech (obrázek 1.18).

Přiřazovat hodnoty můžeme i do tzv. systémových proměnných. Již jsme se setkali s proměnnou `Digits` vyjadřující počet platných míst, s nimiž Maple počítá. Ilustraci na obrázku 1.19 můžeme srovnat s obrázkem 1.10.

Odstranit uloženou hodnotu v systémové proměnné nelze. Do systémových proměnných můžeme hodnoty pouze přiřazovat, nebo vrátit příkazem `restart` nastavení všech systémových proměnných na jejich původní hodnoty. Provedení příkazu odstraní všechny uložené hodnoty v paměti (tedy i námi definované proměnné, načtené balíky atd.). Příkaz `restart` se proto používá zpravidla na počátku řešení nové úlohy, zejména pak na začátku každé práce se zápisníkem (aby se předešlo tomu, že budeme používat proměnnou, v níž je z dřívějšíka uložena pro nás nesprávná hodnota) [5].

a	a	c	c
$a := 2$	2	$assign(c, 2)$	c
a	2	c	2
b	b	$unassign('c')$	c
$b := 3 \cdot a$	6	a	2
b	6	$a := 'a'$	a
		a	a

Obrázek 1.18: Přiřazení hodnot do proměnných a odstranění uložené hodnoty (převzato z [5]).

Pi	π
$Digits$	10
$evalf(Pi)$	3.141592654
$Digits := 5$	5
$evalf(Pi)$	3.1416
$Digits := 20$	20
$evalf(Pi)$	3.1415926535897932385

Obrázek 1.19: Proměnná **Digits** a příkaz **evalf** (převzato z [5]).

1.4.4 Balíky

Knihovna příkazů jazyka Maple je rozdělena na hlavní knihovnu a tzv. balíky⁹. Příkazy, s nimiž jsme se doposud setkali, patří do hlavní knihovny, a můžeme je tak používat ihned po spuštění systému. Naproti tomu většina speciálních příkazů náleží do balíků, které musíme před použitím příslušného příkazu buď načíst do dokumentu pomocí příkazu **with**, nebo zadat příkaz spolu s názvem balíku. Načtení balíku pomocí příkazu **with** umožní používání všech příkazů z příslušného balíku. Naopak zadání příkazu spolu s názvem balíku je nutné provádět při každém použití tohoto příkazu, pokud balík nenačteme (příkazem **with**).

Načtení balíku můžeme zrušit příkazem **unwith**. Pokud balík nenačteme a použijeme z něj nějaký příkaz, Maple jej nerozpozná a příkaz vypíše jako textový řetězec. Například příkazy pro práci s vektory a maticemi náleží do balíku **LinearAlgebra**. Jestliže chceme tedy použít příkaz **Eigenvalues** pro nalezení vlastních čísel matice, načteme nejprve balík **LinearAlgebra**, jak dokumentuje obrázek 1.20 [5].

⁹Kromě pojmu *balík* se v češtině používá také termín *knihovna*.

```

Matice :=  $\begin{bmatrix} -2 & 1 & -1 \\ 1 & -1 & 0 \\ -1 & 0 & -1 \end{bmatrix}$ 
 $\begin{bmatrix} -2 & 1 & -1 \\ 1 & -1 & 0 \\ -1 & 0 & -1 \end{bmatrix}$ 
with(LinearAlgebra) :
Eigenvalues(Matice)
 $\begin{bmatrix} 0 \\ -1 \\ -3 \end{bmatrix}$ 
unwith(LinearAlgebra)
Eigenvalues(Matice)
Eigenvalues  $\left( \begin{bmatrix} -2 & 1 & -1 \\ 1 & -1 & 0 \\ -1 & 0 & -1 \end{bmatrix} \right)$ 
LinearAlgebra[Eigenvalues](Matice)
 $\begin{bmatrix} 0 \\ -1 \\ -3 \end{bmatrix}$ 

```

Obrázek 1.20: Použití balíků.

Jedním z významných balíků je balík s názvem `RealDomain`. Systém Maple pracuje s komplexními čísly a právě balík `RealDomain` umožňuje omezit se pouze na množinu reálných čísel¹⁰ (obrázek 1.21).

<code>simplify($\sqrt{x^2}$)</code>	<code>csgn(x) x</code>	<code>with(RealDomain) :</code>
$(-8)^{\frac{1}{3}}$	$(-8)^{1/3}$	<code>simplify($\sqrt{x^2}$)</code>
<code>solve($x^3 + x, x$)</code>	<code>0, 1, -1</code>	<code> x </code>
<code>ln(-1)</code>	<code>1π</code>	$(-8)^{\frac{1}{3}}$
		<code>-2</code>
		<code>solve($x^3 + x, x$)</code>
		<code>0</code>
		<code>ln(-1)</code>
		<code>undefined</code>

Obrázek 1.21: Použití balíku `RealDomain`.

¹⁰Úplný seznam případů (resp. příkazů), v nichž se můžeme pomocí tohoto balíku omezit jen na reálná čísla, nalezneme v nápovědě k balíku `RealDomain`

Jednotky

Práci s jednotkami umožňuje balík **Units**. Při výpočtech tak nemusíme pracovat jen s čísly, ale můžeme jim přiřazovat i jednotky. K vložení jednotek do zápisníku využijeme palety **Units**. Obrázek 1.22 ilustruje použití jednotek při výpočtu gravitační síly působící v tíhovém poli Země (kde gravitační zrychlení je přibližně rovno $9,81 \text{ ms}^{-2}$) na těleso o hmotnosti 10 kg . Vidíme, že Maple umí jednotky také zjednodušovat (resp. upravovat na jiný tvar). Ke zjednodušení výrazů přitom slouží příkaz `simplify`.

$$F := 10[\text{kg}] \cdot 9.81 \frac{[\text{m}]}{[\text{s}]^2}$$
$$\frac{98.10 [\text{kg}] [\text{m}]}{[\text{s}]^2}$$

`simplify (%)`

$$98.10 [\text{N}]$$

Obrázek 1.22: Použití jednotek (převzato z [5]).

Maple rozpoznává jednotky různých soustav a velikostí, s nimiž umí pracovat a vzájemně je převádět. Pro převod jednotek je k dispozici speciální nástroj zvaný **Units Calculator**. Spustit jej můžeme z hlavního menu přes **Tools > Assistants > Units Calculator...** Ukázkou poskytuje obrázek 1.23.

Pokud chceme použít jednotku, která není v paletě **Units**, můžeme si ji vytvořit sami tak, že přidáme jednotku s názvem **unit** a název přepíšeme. V systému Maple 14 je implementováno přes 500 jednotek (tzn. v paletě **Units** je pouze několik vybraných) [5].

MapleSoft
Mathematics • Modeling • Simulation

Units Calculator

Convert between over 500 units of measurement. See [Units help index](#) for details.

First, select a dimension from the drop-down box. Then select the units to convert from and to. Click the "Perform Unit Conversion" button. The "Convert Back" button converts in the opposite direction.

Convert: 10	Result: 3.048000000
From: feet (ft)	To: meters (m)
Dimension: length	

Perform Unit Conversion Convert Back

Obrázek 1.23: **Units Calculator** (převzato z [5]).

1.4.5 Řešení rovnic

K řešení rovnic v systému Maple slouží příkaz `solve` a několik příkazů k němu příbuzných závislých na typech rovnic, viz tabulka 1.1.

Tabulka 1.1: Příkazy pro řešení rovnic

Typ rovnice	Příkaz pro řešení
Rovnice a nerovnice	solve, fsolve
Obyčejné diferenciální rovnice	dsolve
Parciální diferenciální rovnice	pdsolve
Rovnice v oboru celých čísel	isolve
Rovnice v oboru celých čísel v konečném tělese	msolve
Lineární integrální rovnice	intsolve
Systémy lineárních rovnic	LinearAlgebra[LinearSolve]
Rekurentní rovnice	rsolve

Pomocí interaktivního prostředí *Standard Worksheet* můžeme řešit rovnice též pomocí kontextové nabídky. Zapišeme rovnici a pravým tlačítkem myši zvolíme požadovaný příkaz. Obrázek 1.24 ilustruje některé příklady řešení rovnic.

Příkazy pro řešení rovnic nemusí vždy zobrazit všechna řešení. Pokud je chceme zobrazit, přidáme příkazu `solve` nepovinný parametr `AllSolutions`, viz obrázek 1.25 [5].

Rovnice
 $\text{solve}(x^2 + 5 \cdot x + 6 = 0)$
 $-2, -3$

$x^2 + 5 \cdot x + 6 = 0 \xrightarrow{\text{solve}} \{x = -2\}, \{x = -3\}$

Nerovnice
 $\text{solve}(x^2 + 5 \cdot x + 6 < 0)$
 $\text{RealRange}(\text{Open}(-3), \text{Open}(-2))$

$x^2 + 5 \cdot x + 6 < 0 \xrightarrow{\text{solve}} \{-3 < x, x < -2\}$

Rekurentní rovnice
 $\text{rsolve}(\{N(t+1) = (1 + a - b) \cdot N(t), N(0) = N0\}, N(t))$
 $N0 (1 + a - b)^t$

$N(t+1) = (1 + a - b) \cdot N(t), N(0) = N0 \xrightarrow{\text{solve recurrence}} N0 (1 + a - b)^t$

Diferenciální rovnice
 $\text{dsolve}\left(\left\{\frac{d}{dt} N(t) = (a - b) \cdot N(t), N(0) = N0\right\}\right)$
 $N(t) = N0 e^{(a-b)t}$

$\frac{d}{dt} N(t) = (a - b) \cdot N(t), N(0) = N0 \xrightarrow{\text{solve DE}} N(t) = N0 e^{(a-b)t}$

Obrázek 1.24: Ukázka řešení různých druhů rovnic použitím jednak příkazu, jednak kontextové nabídky (převzato z [5]).

Symbol `_Z2~` na obrázku 1.25 představuje libovolnou celočíselnou proměnnou. Že jde o celočíselnou proměnnou poznáme podle toho, že se v symbolu vyskytuje písmeno Z. Podobně

```

solve(sin(x) = cos(x))
                                1
                                4 π

solve(sin(x) = cos(x), AllSolutions)
                                1
                                4 π + π _Z2~

about(_Z2)
Originally _Z2, renamed _Z2~:
  is assumed to be: integer

_Z2  $\xrightarrow{\text{list assumptions}}$  {_Z2~::integer}

```

Obrázek 1.25: Zobrazení všech řešení rovnice (převzato z [5]).

by výskyt například písmena **C** značil proměnnou komplexní. Cifra 2 v symbolu proměnné označuje pořadí, v jakém byla proměnná v zápisníku zavedena. A nakonec znak \sim vyjadřuje, že proměnná splňuje nějaký předpoklad. Jaké předpoklady proměnná splňuje přitom zjistíme příkazem **about**, případně zápisem proměnné a po kliknutí pravým tlačítkem myši zvolením **What Assumptions** z kontextové nabídky. V zobrazeném příkladu na obrázku 1.25 je předpoklad celočíselnosti (u již celočíselné) proměnné přebytný.

Dále může příkaz **solve** zobrazit výsledek se strukturou **RootOf** vyjadřující kořen (tj. řešení) rovnice v nevyhodnoceném tvaru. Řešení pak vyhodnotíme buď příkazem **allvalues** (pro symbolické vyjádření), nebo příkazem **evalf** (pro numerické vyjádření) – obrázek 1.26. Vedle příkazů můžeme též využít pravého tlačítka myši, zvolit z kontextové nabídky položku **All Values** (pro symbolické vyjádření) a získaný výsledek převést na numerickou hodnotu zvolením **Approximate > 10** (pro 10 platných míst) z kontextové nabídky.

```

solve(x^4 - 2 x^3 + 2 = 0)
RootOf(_Z^4 - 2 _Z^3 + 2, index = 1), RootOf(_Z^4 - 2 _Z^3 + 2, index = 2),
  RootOf(_Z^4 - 2 _Z^3 + 2, index = 3), RootOf(_Z^4 - 2 _Z^3 + 2, index = 4)

allvalues({%})
{ 1/2 - 1/2 I - 1/2 sqrt(4 + 2 I), 1/2 - 1/2 I + 1/2 sqrt(4 + 2 I), 1/2 + 1/2 I
  - 1/2 sqrt(4 - 2 I), 1/2 + 1/2 I + 1/2 sqrt(4 - 2 I) }

evalf(%)
{-0.5290855140 - 0.7429341359 I, -0.5290855140 + 0.7429341359 I,
  1.529085514 - 0.2570658641 I, 1.529085514 + 0.2570658641 I}

```

Obrázek 1.26: Tvar zobrazení řešení rovnice (převzato z [5]).

Symbole **_Z** ve struktuře **RootOf** nyní nepředstavují celočíselnou proměnnou (neboť za písmenem **Z** nenásleduje číslo), nýbrž proměnnou libovolnou (tj. i komplexní).

System Maple po zadání příkazu vypíše zpravidla pouze řešení, případně chybová hlášení či varování. U příkazu **solve** (a nejen u něj) toto chování způsobuje „prázdný výpis“ v pří-

```

solve(x2 < 0)

infolevel[solve] := 1:

solve(x2 < 0)
solve: Warning: no solutions found

```

Obrázek 1.27: Proměnná `infolevel` a „prázdný výpis“ příkazu `solve` (převzato z [5]).

```

solve({x + y = 2, x - y = 0})
                                     {x=1,y=1}

infolevel[solve] := 1:
solve({x + y = 2, x - y = 0})
Linear: # equations 2
                                     {x=1,y=1}

infolevel[solve] := 3:
solve({x + y = 2, x - y = 0})
Linear: # equations 2
Rational: # equations 2
Rational: 2 equations solved, rank: 2
                                     {x=1,y=1}

infolevel[solve] := 5:
solve({x + y = 2, x - y = 0})
Linear: # equations 2
Rational: # equations 2
Rational: # equations 1
Rational: # equations 0
Rational: backsubstitution at: 2
Rational: backsubstitution at: 1
Rational: 2 equations solved, rank: 2
                                     {x=1,y=1}

```

Obrázek 1.28: Proměnná `infolevel` a příkaz `solve` (převzato z [5]).

padě, že Maple žádné řešení nenašel. Pro výpis podrobnějších informací o průběhu vyhodnocení příkazu a výsledcích slouží proměnná `infolevel`. Můžeme ji nastavit buď pro každý příkaz samostatně, přičemž do hranatých závorek za proměnnou vložíme název příslušného příkazu, nebo ji nastavíme všem příkazům současně na stejnou hodnotu uvedením slova `all` do hranatých závorek. Proměnná může nabývat hodnot 1, 2, ..., 5. Čím vyšší hodnota je přiřazena v proměnné `infolevel`, tím více informací o vyhodnocení příkazu obdržíme. Standardně není proměnná nastavena na žádnou hodnotu, což v podstatě odpovídá nastavení proměnné na hodnotu 0. Použití proměnné `infolevel` dokumentují obrázky 1.27 a 1.28 [5].

Příklad 1.12: Řešte nerovnici: $|x - 2| < 1$ pro $x \in \mathbb{R}$.

Řešení: Pro řešení nerovnice použijeme příkaz `solve`.

```
solve(|x - 2| < 1)
      RealRange(Open(1), Open(3))
```

Obrázek 1.29: Řešení příkladu 1.12.

Získaný výsledek odpovídá zápisu $x \in (1, 3)$. Výraz `RealRange` značí reálný interval, výraz `Open(1)` vyjadřuje otevřený interval (v bodě 1). Pokud bychom zadali argument příkazu `solve` do složených závorek (tj. `solve({|x-2|<1})`), získali bychom výsledek ve tvaru nerovnosti.

Příklad 1.13: Řešte nerovnici $|x - 2| < 1$ pro $x \in \mathbb{Z}$.

Příklad 1.14: Řešte nerovnici $|x - 2| \geq 1$ pro $x \in \mathbb{Z}$.

Příklad 1.15: Určete kořeny polynomu $x^3 - 3 \cdot x^2 - 13 \cdot x + 15$ pro $x \in \mathbb{R}$.

Řešení: Kořeny polynomu můžeme určit různými způsoby. Jednak je možné použít příkaz `solve` a hledat body, v nichž je polynom nulový. Systém Maple nabízí též příkaz `roots` pro hledání kořenů polynomu jedné proměnné. Oba postupy ilustruje obrázek 1.30.

```
solve(x^3 - 3*x^2 - 13*x + 15 = 0)
      5, 1, -3
roots(x^3 - 3*x^2 - 13*x + 15)
      [[1, 1], [5, 1], [-3, 1]]
```

Obrázek 1.30: Řešení příkladu 1.15.

Výstup příkazu `roots` je tvořen seznamem dvojic. Každá dvojice obsahuje hodnotu kořenu a jeho násobnost.

Příklad 1.16: Řešte nerovnici $x \leq x^2 - 12 \leq 4 \cdot x$ pro $x \in \mathbb{R}$.

Příklad 1.17: Určete obecně kořeny kvadratického polynomu tvaru $a \cdot x^2 + b \cdot x + c$ pro $a \in \mathbb{R} \setminus \{0\}, b \in \mathbb{R}, c \in \mathbb{R}, x \in \mathbb{C}$. Zamyslete se, jak byste v řešení postupovali, kdybychom povolili možnost $a = 0$ a x omezili jen na reálná čísla.

Příklad 1.18: Řešte rovnici $\tan(x) = \sqrt{3}$ pro $x \in \mathbb{R}$.

Příklad 1.19: Řešte soustavu rovnic

$$5 \cdot x - 7 \cdot y = -9,$$

$$3 \cdot x + y = 5$$

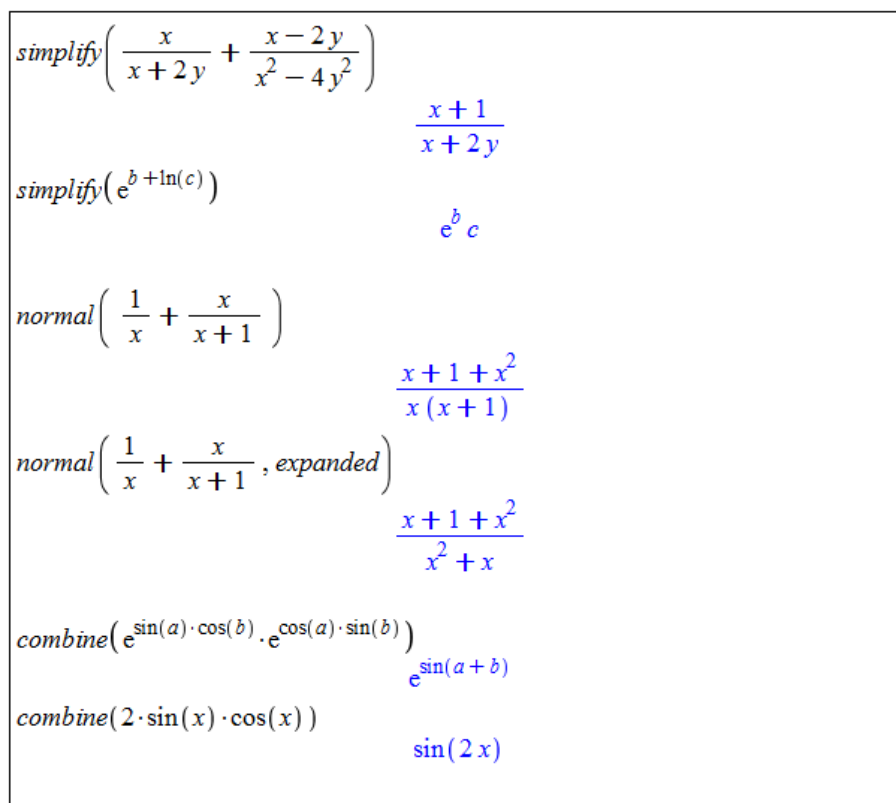
pro $x \in \mathbb{R}, y \in \mathbb{R}$.

2 Matematická analýza s Maple v \mathbb{R}

2.1 Výrazy a jejich úpravy

2.1.1 Zjednodušení výrazu

Ke zjednodušení výrazu slouží především příkazy `simplify`, `normal` a `combine`. Příkaz `simplify` provádí základní zjednodušení zadaného výrazu, příkaz `normal` je určen pro úpravy zlomků a příkaz `combine` slučuje výrazy. Vybrané příklady použití můžeme pozorovat na obrázku 2.1.



The image shows a list of Maple commands and their corresponding simplified results:

- `simplify` applied to $\frac{x}{x+2y} + \frac{x-2y}{x^2-4y^2}$ results in $\frac{x+1}{x+2y}$.
- `simplify` applied to $e^{b+\ln(c)}$ results in $e^b c$.
- `normal` applied to $\frac{1}{x} + \frac{x}{x+1}$ results in $\frac{x+1+x^2}{x(x+1)}$.
- `normal` applied to $\frac{1}{x} + \frac{x}{x+1}$ with the `expanded` option results in $\frac{x+1+x^2}{x^2+x}$.
- `combine` applied to $e^{\sin(a)\cos(b)} \cdot e^{\cos(a)\sin(b)}$ results in $e^{\sin(a+b)}$.
- `combine` applied to $2 \cdot \sin(x) \cdot \cos(x)$ results in $\sin(2x)$.

Obrázek 2.1: Zjednodušování výrazů.

2.1.2 Omezující podmínky

Příkazu `simplify` (stejně jako ostatním příkazům) můžeme doplnit omezující podmínky (resp. předpoklady), které budou aplikovány při zjednodušování zadaného výrazu. Provedeme to buď přidáním druhého parametru `assume = podmínka`, nebo zápisem `assuming`

podmínka za příkaz `simplify`. Jako druhý parametr můžeme uvést také množinu omezujících rovností. Konkrétní příklady vidíme na obrázku 2.2.

```

simplify( $\sqrt{x^2}$ )
                                csgn(x) x
simplify( $\sqrt{x^2}$ , assume = real)
                                |x|
simplify( $\sqrt{x^2}$ , assume = positive)
                                x
simplify( $\sqrt{x^2}$ , assume = negative)
                                -x

simplify( $\sqrt{x^2}$ ) assuming x :: real
                                |x|
simplify( $\sqrt{x^2}$ ) assuming x :: positive
                                x
simplify( $(-1)^z$ ) assuming z :: even
                                1
simplify( $(-1)^z$ ) assuming z :: odd
                                -1

v := x + 6 r + 5 x + 4 u - 2 r - 9 x·y + 12
                                6 x + 4 r + 4 u - 9 x y + 12
simplify(v, {x=2, r=3, u=1})
                                40 - 18 y

```

Obrázek 2.2: Zjednodušování výrazů – další možnosti příkazu `simplify`.

2.1.3 Úprava polynomu

Především pro úpravy polynomů máme k dispozici příkazy `collect`, `coeff`, `sort`, `factor` a `expand`, jejichž použití shrnuje tabulka 2.1 a na příkladech dokumentují obrázky 2.3, 2.4.

Tabulka 2.1: Příkazy pro úpravy především polynomů

Příkaz	Použití
<code>collect</code>	vytýkání ve výrazech (nejen polynomech)
<code>coeff</code>	koeficient u zvoleného členu polynomu
<code>sort</code>	setřídění členů polynomu (nebo prvků seznamu)
<code>factor</code>	rozklad polynomu na součin kořenových činitelů
<code>expand</code>	roznásobení / rozvinutí (nejen u polynomů)

2.1.4 Převod výrazu na jiný tvar

Závěrem této sekce zmíníme velmi univerzální příkaz `convert`. S jeho pomocí můžeme převádět zadaný výraz (případně jinou datovou strukturu jako např. seznam) na jiný (zvolený)

```

a·ln(x) - ln(x)·x - x
                                a ln(x) - ln(x) x - x
collect(%, ln(x))
                                (a - x) ln(x) - x
collect(a + a·√3, a)
                                (1 + √3) a

p1 := x^6 - 8·x^5 + 23·x^4 + 68·x^3 - 244·x^2 - 224·x + 384:

coeff(p1, x, 4)
                                23
coeff(p1, x, 1)
                                -224
coeff(p1, x, 0)
                                384

sort(1 + x^3 + 3·x^2 - 4·x^4)
                                -4 x^4 + x^3 + 3 x^2 + 1
sort(1 + x^3 + 3·x^2 - 4·x^4, x, tdeg, ascending)
                                1 + 3 x^2 + x^3 - 4 x^4

```

Obrázek 2.3: Použití příkazů `collect`, `coeff` a `sort`.

```

pol1 := x^6 - 8·x^5 + 23·x^4 + 68·x^3 - 244·x^2 - 224·x + 384
                                x^6 - 8 x^5 + 23 x^4 + 68 x^3 - 244 x^2 - 224 x + 384
pol2 := x^4 - 6·x^3 + 22·x^2 - 48·x + 40
                                x^4 - 6 x^3 + 22 x^2 - 48 x + 40

s1 := factor(pol1)
                                (x - 1) (x - 3) (x^2 - 8 x + 32) (x + 2)^2
s2 := factor(pol2)
                                (x^2 - 2 x + 10) (x - 2)^2

expand(s1)
                                x^6 - 8 x^5 + 23 x^4 + 68 x^3 - 244 x^2 - 224 x + 384
expand(s2)
                                x^4 - 6 x^3 + 22 x^2 - 48 x + 40

```

Obrázek 2.4: Použití příkazů `factor` a `expand`.

tvar¹. Obrázky 2.5 a 2.6 ukazují použití příkazu pro převod desetinného čísla na zlomek (při-

¹Jelikož má příkaz `convert` mnoho různých použití, doporučujeme čtenáři podívat se na stránku nápovědy k tomuto příkazu (viz `?convert`).

dáváme parametr `rational`) a pro převod výrazu na parciální zlomky (přidáváme parametr `parfrac2`).

<code>convert(0.125, rational)</code>	$\frac{1}{8}$
<code>convert(12.567, rational)</code>	$\frac{12567}{1000}$
<code>convert(0.33333333, rational)</code>	$\frac{33333333}{100000000}$
ALE POZOR!!! (za desetinou tečkou je 10 "trojek")	
<code>convert(0.3333333333, rational)</code>	$\frac{1}{3}$
$f := \frac{(x^5 + 1)}{(x^4 - x^2)}$	$\frac{x^5 + 1}{x^4 - x^2}$
<code>convert(f, parfrac)</code>	$x - \frac{1}{x^2} + \frac{1}{x - 1}$
$f := \frac{x}{(x-b)^2}$	$\frac{x}{(x-b)^2}$
<code>convert(f, parfrac, x)</code>	$\frac{1}{x-b} + \frac{b}{(x-b)^2}$
<code>convert(f, parfrac, b)</code>	$\frac{x}{(-x+b)^2}$

Obrázek 2.5: Použití příkazu `convert`.

Jak jsme již viděli, v prostředí *Standard Worksheet* je obvykle více možností, jak řešit danou úlohu. U výše uvedených příkladů (na obrázcích 2.1 – 2.6) je možné využít také kontextové nabídky. Do dokumentu vložíme výraz, který chceme upravovat, klikneme na něj pravým tlačítkem myši a z kontextové nabídky zvolíme požadovaný příkaz (často i s upřesněním požadované úpravy, tj. např. vybereme `Simplify>Simplify` nebo `Combine>exp` či `Simplify>Assuming Real` atp.). Tímto způsobem můžeme obdržet například výsledky na obrázku 2.7.

²Symbol `I` v systému Maple značí imagonární jednotku.

$$f := \frac{(4 \cdot x^3 - 6 \cdot x^2 - 2)}{(x^4 - 2 \cdot x^3 - 2 \cdot x + 4)}$$

$$\frac{4x^3 - 6x^2 - 2}{x^4 - 2x^3 - 2x + 4}$$

`convert(f, parfrac)`

$$\frac{3x^2}{x^3 - 2} + \frac{1}{x - 2}$$

`convert(f, parfrac, real)`

$$\frac{1.01}{x - 2} + \frac{1.27 + 2.00x}{x^2 + 1.259921050x + 1.587401052} + \frac{0.992}{x - 1.259921050}$$

`convert(f, parfrac, complex)`

$$\frac{0.980 + 0.00334I}{x - 2} + \frac{0.999 + 0.00528I}{x + 0.630 - 1.09I} + \frac{1.00 - 0.00294I}{x + 0.630 + 1.09I} + \frac{1.02 - 0.00568I}{-1.26 + x}$$

Obrázek 2.6: Možnosti příkazu `convert` při rozkladu výrazu na parciální zlomky.

$$\frac{x}{x + 2y} + \frac{x - 2y}{x^2 - 4y^2} \xrightarrow{\text{simplify}} \frac{x + 1}{x + 2y}$$

$$\frac{1}{x} + \frac{x}{x + 1} \xrightarrow{\text{normal}} \frac{x + 1 + x^2}{x(x + 1)}$$

$$e^{\sin(a) \cdot \cos(b)} \cdot e^{\cos(a) \cdot \sin(b)} \xrightarrow{\text{combine}} e^{\sin(a) \cos(b) + \cos(a) \sin(b)} \xrightarrow{\text{combine}} e^{\sin(a + b)}$$

$$\sqrt{x^2} \xrightarrow{\text{assuming real}} |x|$$

$$a \cdot \ln(x) - \ln(x) \cdot x - x \xrightarrow{\text{collect}} (a - x) \ln(x) - x$$

$$x^6 - 8 \cdot x^5 + 23 \cdot x^4 + 68 \cdot x^3 - 244 \cdot x^2 - 224 \cdot x + 384 \xrightarrow{\text{factor}} (x - 1)(x - 3)(x^2 - 8x + 32)(x + 2)^2$$

$$(x - 1)(x - 3)(x^2 - 8x + 32)(x + 2)^2 \xrightarrow{\text{expand}} x^6 - 8x^5 + 23x^4 + 68x^3 - 244x^2 - 224x + 384$$

$$0.125 \xrightarrow{\text{convert to rational}} \frac{1}{8}$$

$$\frac{x}{(x - b)^2} \xrightarrow{\text{convert to partial fractions in x}} \frac{b}{(x - b)^2} + \frac{1}{x - b}$$

Obrázek 2.7: Zjednodušování výrazů pomocí kontextové nabídky.

Příklad 2.1: Určete hodnotu výrazu $\frac{\sqrt{x+b} \cdot (a \cdot x - b \cdot x)}{y^3 \cdot (a-b)}$ pro $b = 16, x = 9, y = 3$.

Řešení: Pro vyřešení máme více možností. Použijme nejprve příkaz `simplify` podobně jako na obrázku 2.2. Může se stát, že příkaz neupraví „najednou“ zadaný výraz až na nejjednodušší tvar. V takovém případě (který právě nyní nastane) jej použijeme dvakrát. Další možností je použít vyhodnocovací příkaz `eval`.

$$\begin{aligned} & \text{simplify}\left(\frac{\sqrt{x+b}}{y^3} \cdot \frac{(a \cdot x - b \cdot x)}{a-b}, \{b=16, x=9, y=3\}\right) \\ & \qquad \qquad \qquad \frac{1}{3} \sqrt{25} \\ & \text{simplify}(\%) \\ & \qquad \qquad \qquad \frac{5}{3} \\ & \text{nebo} \\ & \text{simplify}\left(\text{simplify}\left(\frac{\sqrt{x+b}}{y^3} \cdot \frac{(a \cdot x - b \cdot x)}{a-b}, \{b=16, x=9, y=3\}\right)\right) \\ & \qquad \qquad \qquad \frac{5}{3} \\ & \text{či} \\ & \text{simplify}\left(\text{eval}\left(\frac{\sqrt{x+b}}{y^3} \cdot \frac{(a \cdot x - b \cdot x)}{a-b}, \{b=16, x=9, y=3\}\right)\right) \\ & \qquad \qquad \qquad \frac{5}{3} \end{aligned}$$

Obrázek 2.8: Řešení příkladu 2.1.

Příklad 2.2: Vytvořte polynom, který má jeden trojnásobný kořen s hodnotou $\frac{3}{2}$ a jeden dvojnásobný s hodnotou -5 . Nechť je výsledný polynom v roznásobeném tvaru.

Řešení: Polynomů splňujících zadání je nekonečně mnoho, připustíme-li možnost mít i další kořeny. Kořeny jednoznačně určují kořenové činitele polynomu. Polynom mající pouze kořeny zmíněné v zadání bude tvořený třemi činiteli tvaru $(x - \frac{3}{2})$ a dvěma tvaru $(x - 5)$. Roznásobený tvar získáme příkazem `expand`.

$$\begin{aligned} & \text{expand}\left(\left(x - \frac{3}{2}\right)^3 \cdot (x + 5)^2\right) \\ & \qquad \qquad \qquad x^5 + \frac{11}{2}x^4 - \frac{53}{4}x^3 - \frac{387}{8}x^2 + 135x - \frac{675}{8} \end{aligned}$$

Obrázek 2.9: Řešení příkladu 2.2.

Příklad 2.3: Zjednodušte výraz $\cos(n \cdot \pi)$ za předpokladu, že n je sudé.

Příklad 2.4: Zjednodušte výraz

$$\frac{\frac{a-b}{a+b}}{1 - \frac{a}{b}}$$

Příklad 2.5: Zjednodušte výraz

$$\frac{\sin(2 \cdot x) - \cos(x)}{\cos(2 \cdot x) - 1 + \sin(x)}$$

Příklad 2.6: Rozložte na součin: $4 \cdot x^2 \cdot (y^2 - z^2) + 25 \cdot v \cdot (z^2 - y^2)$.

Příklad 2.7: Zjednodušte: $(2 \cdot h + 5 \cdot s)^2 - (2 \cdot h + 5 \cdot s) \cdot (2 \cdot h - 5 \cdot s)$.

Příklad 2.8: Necht

$$p_1 = x^5 + 15 \cdot x^4 + 85 \cdot x^3 + 225 \cdot x^2 + 274 \cdot x + 120, \quad p_2 = x^2 + 6 \cdot x + 8.$$

Zjednodušte $\frac{p_1}{p_2}$. Výsledek rozložte na součin kořenových činitelů. Výraz $\frac{p_2}{p_1}$ rozložte na partiální zlomky.

2.2 Funkce jedné proměnné

2.2.1 Definice funkce

V prostředí *Standard Worksheet* jsou 2 způsoby, jak definovat funkci. Vytvořme například funkci $f(x) = x^2$. První možností (k dispozici jen v prostředí *Standard Worksheet* a pro matematický režim *Math Mode*) je napsat funkční předpis stejně, jak jsme to udělali před chvílí, s tím rozdílem, že namísto rovnítka („=“) použijeme symbol pro přiřazení („:=“), tedy $f(x) := x^2$. Po spuštění příkazu musíme v následně zobrazeném vyskakujícím okénku potvrdit, že se jedná o definici funkce. Druhou možností (platnou i v jiných prostředích systému Maple), jak vytvořit funkci, je použití šipkové notace. Příkaz pak vypadá následovně: $f := x \rightarrow x^2$. Šipku vytvoříme pomlčkou následovanou symbolem „větší než“ („>“).

V prostředí *Standard Worksheet* si definování funkce můžeme ulehčit využitím palet. Buď je možné při vytváření příkazu použít šipku z palety **Arrows**, nebo můžeme vzít celou šablonu příkazu vytvoření funkce z palety **Expression** a modifikovat v ní požadované symboly. Funkční hodnotu definované funkce v daném bodě získáme zápisem názvu funkce spolu s hodnotami parametrů v závorce (nemusíme přitom zadávat pouze numerické hodnoty).

Důležité je v Maple důsledně rozlišovat funkce a výrazy, lépe řečeno funkční operátory a výrazy. V matematice totiž užíváme pojem funkce i v případech, které v Maple představují výrazy (funkční výrazy – např. $f(x)$). Jestliže vytvoříme výraz, například x^2 , a přiřadíme jej k nějaké proměnné, např. g , jedná se stále pouze o výraz. Hodnotu g pro $x = 5$ nemůžeme proto určit jako funkční hodnotu v bodě 5, ale musíme použít vyhodnocovacího příkazu `eval`, případně do x přiřadit hodnotu 5. Naproti tomu funkční hodnotu funkce f (nebo vhodněji řečeno funkčního operátoru) v bodě 5 získáme specifikací argumentu operátoru (funkce) f , viz obrázek 2.11 [5].

Dále Maple nabízí příkaz `unapply`, který ze zadaného výrazu udělá funkci (funkční operátor). Tento příkaz má dva argumenty: výraz, z něhož chceme udělat funkci, a nezávisle

$f := x \rightarrow x^2$	$x \rightarrow x^2$
$z(x) := x^2$	$x \rightarrow x^2$
$f(5)$	25
$z(5)$	25
$f(a + b)$	$(a + b)^2$
$z(3 \cdot c)$	$9c^2$

Obrázek 2.10: Definice funkce v prostředí **Standard Worksheet**.

$f := x \rightarrow x^2$	$x \rightarrow x^2$	$apply(f, x)$	x^2
$g := x^2$	x^2	$apply(f, 5)$	25
$f(5)$	25	$unapply(g, x)$	$x \rightarrow x^2$
$g(5)$	$x(5)^2$	$unapply(g, x)(5)$	25
$eval(g, x = 5)$	25		
x	x		
$x := 5$	5		
g	25		
$f(x)$	25		

Obrázek 2.11: Rozdíl mezi funkcí a výrazem (převzato z [5] a doplněno).

proměnnou. Podobně máme k dispozici též příkaz `apply`, který z funkčního operátoru udělá výraz (aplikuje funkční operátor na zadaný argument/argumenty) – pravá část obrázku 2.11.

Výrazy a funkce můžeme též definovat po částech pomocí příkazu `piecewise`. Argumenty v závorce určují vždy nejprve interval následovaný funkční hodnotou na tomto intervalu. Poslední množinu bodů již zapisovat nemusíme, stačí funkční hodnota. Maple ji doplní ve zbývajících množině zatím nedefinovaných bodů. Je možné též sestavit funkci, která je definována pouze na libovolné podmnožině reálných čísel. Pokud má funkce definovaná po částech pouze

dva různé předpisy, můžeme k jejímu vytvoření využít symbolu otevřené složené závorky z palety **Expression** (viz obrázek 2.12) [5].

```

f := x → piecewise(x < 0, -1, x = 0, 0, 1)
           x → piecewise(x < 0, -1, x = 0, 0, 1)
f(-8)
           -1
f(0)
           0
f(153.6)
           1

f2 := x → piecewise(x < 0, -x, undefined)
           x → piecewise(x < 0, -x, undefined)
f2(-8)
           8
f2(4)
           undefined

g(x) := { 0   x < π
          1   x ≥ π
           x → piecewise(x < π, 0, π ≤ x, 1)
g(0)
           0
g(3)
           0
g(4)
           1

```

Obrázek 2.12: Funkce definovaná po částech (převzato z [5]).

2.2.2 Vlastnosti funkcí

Definice 2.1: *Definičním oborem* funkce f nazýváme množinu všech hodnot, pro něž je funkce f definována. Značíme ji $D(f)$ ³. *Oborem hodnot* funkce f nazýváme množinu všech hodnot, kterých funkce f na svém definičním oboru nabývá. Značíme ji $H(f)$ ⁴.

Definice 2.2: Funkce f se nazývá *shora ohraničená*, pokud existuje $K \in \mathbb{R}$ tak, že $f(x) \leq K$ pro všechna $x \in D(f)$. Analogicky, funkce f se nazývá *zdola ohraničená*, pokud existuje $L \in \mathbb{R}$ tak, že $f(x) \geq L$ pro všechna $x \in D(f)$. Funkci f nazýváme *ohraničenou (omezenou)*, pokud je f ohraničená zdola i shora.

³V literatuře je též možné se setkat s označením $Dom(f)$.

⁴V literatuře je též možné se setkat s označením $Im(f)$, případně $R(f)$.

Definice 2.3: Funkce f se nazývá *sudá*, pokud pro všechna $x \in D(f)$ platí, že $-x \in D(f)$ a $f(x) = f(-x)$. Funkce f se nazývá *lichá*, pokud pro všechna $x \in D(f)$ platí, že $-x \in D(f)$ a $f(x) = -f(-x)$.

Definice 2.4: Nechť $M \subseteq D(f)$ obsahuje alespoň 2 body. Řekneme, že funkce f je na M

- (a) *rostoucí*, jestliže $\forall x_1, x_2 \in M : x_1 < x_2 \Rightarrow f(x_1) < f(x_2)$,
- (b) *klesající*, jestliže $\forall x_1, x_2 \in M : x_1 < x_2 \Rightarrow f(x_1) > f(x_2)$,
- (c) *nerostoucí*, jestliže $\forall x_1, x_2 \in M : x_1 < x_2 \Rightarrow f(x_1) \geq f(x_2)$,
- (d) *neklesající*, jestliže $\forall x_1, x_2 \in M : x_1 < x_2 \Rightarrow f(x_1) \leq f(x_2)$,
- (e) *konstantní*, jestliže $\forall x_1, x_2 \in M : f(x_1) = f(x_2)$.

Definice 2.5: Nechť $M \subseteq D(f)$ obsahuje alespoň 2 body. Řekneme, že funkce f je na M

- (a) *prostá (injektivní)*, jestliže $\forall x_1, x_2 \in M : x_1 \neq x_2 \Rightarrow f(x_1) \neq f(x_2)$,
- (b) *zobrazením na množinu $N \subseteq H(f)$ (surjektivní)*, jestliže $\forall y \in N : \exists x \in M \wedge f(x) = y$,
- (c) *bijektivní z M do N* , jestliže je prostá na M a současně je zobrazením na množinu N (tedy injektivní a surjektivní).

System Maple nemá žádné příkazy na určování právě definovaných vlastností. To však neznamená, že tyto vlastnosti nemůžeme určovat sami. V některých případech nám může systém Maple pomoci.

I definiční obor a obor hodnot funkce musíme zjistit sami. System Maple můžeme efektivně využít pouze v případech, kdy si nejsme jisti, jestli daný bod patří do některé z množin, a to buď pokusem o vyhodnocení funkce v daném bodě nebo hledáním řešení rovnice, kdy se uvažovaná funkce rovná danému bodu.

Příklad 2.9: Určete $D(f)$ a $H(f)$ funkce $f(x) = \ln(x)$.

Řešení: Z přednášky Matematické analýzy víme, že $D(f) = \mathbb{R}^+ = \{x \in \mathbb{R} | x > 0\}$ a $H(f) = \mathbb{R}$. System Maple bychom využili asi jen v případě, kdybychom si nebyli jisti, jak je definována funkce $\ln(x)$ a chtěli se například přesvědčit, že není definována pro $x = 0$. V tom případě bychom mohli zkusit získat funkční hodnotu v bodě 0. Na obrázku 2.13 vidíme, že obdržíme chybovou zprávu, která je sice trochu matoucí (zmiňováno je dělení nulou), nicméně funkční hodnota neexistuje. Podobně můžeme například ověřit, že $0 \in H(f)$, řešením rovnice $\ln(x) = 0$. Upozorníme, že Maple počítá standardně s komplexními čísly, a tak vyhodnocení funkce $\ln(x)$ pro záporné x nezpůsobí žádnou chybu. Jelikož se pohybujeme v oboru reálných čísel, je třeba se omezit pouze na něj načtením balíku `RealDomain` (viz obrázek 1.21).

```
ln(0)
Error, (in ln) numeric exception: division by zero

solve(ln(x) = 0)
1
```

Obrázek 2.13: Řešení příkladu 2.9.

Pro zjištění, zda je funkce (shora, zdola) ohraničená, či nikoliv, můžeme využít příkazů `minimize` a `maximize` pro hledání nejmenších a největších funkčních hodnot. V případě, že funkce není „v některém směru“ ohraničená, vrací zmíněné příkazy hodnotu ∞ , resp. $-\infty$.

Další funkční vlastnosti můžeme určovat (ověřovat) za pomoci příkazů `evalb` nebo `verify`. Tyto příkazy otestují, zda je zadaný výraz pravdivý, či nikoliv. Ukažme si to na následujícím příkladu.

Příklad 2.10: Určete, zda je funkce $\cos(x)$ sudá nebo lichá.

Řešení: Opět z přednášky víme, že funkce $\cos(x)$ je funkcí sudou. Sudost funkce otestujeme zjištěním pravdivostní hodnoty výrazu $\cos(x) = \cos(-x)$, lichost podobně podle pravdivostní hodnoty výrazu $\cos(x) = -\cos(-x)$. I tentokrát bychom správně měli použít balík `RealDomain`, neboť bez něj ověřujeme zmíněné rovnosti pro všechna komplexní x . V obou případech však získáme stejný výsledek.

<code>evalb(cos(x) = cos(-x))</code>	<code>true</code>
<code>evalb(cos(x) = -cos(-x))</code>	<code>false</code>

Obrázek 2.14: Řešení příkladu 2.10.

Přestože můžeme vytvořit logické výrazy i pro zbylé funkční vlastnosti, příkazy `evalb` a `verify` většinou vracejí hodnotu `FAIL` jako znamení, že nedokáží o pravdivostní hodnotě rozhodnout. Některé další příklady je proto potřeba řešit samostatně a systém Maple využít jen k „drobným podúlohám“ – jako v následujícím příkladu 2.11.

Příklad 2.11: Určete, zda je funkce $\cos(x)$ na \mathbb{R} rostoucí, klesající, prostá či bijektivní.

Řešení: Z přednášky víme, že funkce $\cos(x)$ na celé množině \mathbb{R} žádnou ze zmíněných vlastností nespĺňuje, což můžeme dokázat nalezením protipříkladu. Vezměme např. body $x_1 = 0$ a $x_2 = 2 \cdot \pi$. Platí, že $x_1 < x_2$ (tj. $x_1 \neq x_2$) a současně $\cos(x_1) = \cos(x_2)$. Tedy funkce není rostoucí, není klesající a není prostá, z čehož plyne, že nemůže být ani bijektivní. Systém Maple tu můžeme použít ke zjišťování funkčních hodnot (i když v tomto případě známe funkční hodnoty z paměti).

V praxi se nám však často hodí najít intervaly, v nichž funkce některé vlastnosti splňuje. Funkce $\cos(x)$ je periodická s periodou $2 \cdot \pi$ a na intervalech $[k \cdot \pi, (k + 1) \cdot \pi]$ pro $k \in \mathbb{Z}$ je bijektivní (tedy i prostá), pro sudá k je na těchto intervalech vždy klesající, pro lichá k rostoucí.

Příklad 2.12: Dokažte, že funkce $\sin(x)$ je ohraničená.

Příklad 2.13: Uvažujme funkci $f(x) = \frac{1}{x^2 - 5x + 6}$. Je f sudá nebo lichá? Určete její definiční obor a obor hodnot. Je f ohraničená?

Příklad 2.14: U následujících funkcí určete, zda jsou sudé, liché, nebo ani jedno.

- (a) $f(x) = 9 - x^2$, (b) $f(x) = \sqrt{x}$, (c) $f(x) = \frac{1}{x}$.

Příklad 2.15: Definujte funkci f , pro niž platí:

- (a) $D(f) = (0, 1), H(f) = (0, 2),$
- (b) $D(f) = \mathbb{R} \setminus \{1\}, H(f) = \mathbb{R} \setminus \{0\},$
- (c) $D(f) = \mathbb{R} \setminus \{0\}, H(f) = \mathbb{R} \setminus \{1\},$
- (d) $D(f) = \mathbb{R}, H(f) = \mathbb{R}^+, f$ je prostá,
- (e) $D(f) = \mathbb{R} \setminus (-2, 2), H(f) = \mathbb{R},$
- (f) $D(f) = \mathbb{R}, H(f) = \mathbb{R} \setminus (-2, 2),$
- (g) $D(f) = \mathbb{R}, f$ je prostá a ohraničená,
- (h) $H(f) = \mathbb{R}, f$ je sudá.

Příklad 2.16: Nalezněte $k \in \mathbb{R}$ tak, aby byla funkce $f(x) = x^3 - k \cdot x^2 + 2 \cdot x$ lichá.

Příklad 2.17: U následujících funkcí určete, zda se jedná o bijekci, či nikoliv.

- (a) $f : \mathbb{R} \rightarrow \mathbb{R}, f(x) = a \cdot x + b, a, b \in \mathbb{R},$
- (b) $f : \mathbb{R}_0^+ \rightarrow \mathbb{R}_0^+, f(x) = \sqrt{x},$
- (c) $f : \mathbb{R} \rightarrow \mathbb{R}_0^+, f(x) = x^2,$
- (d) $f : \mathbb{R} \rightarrow \mathbb{R}, f(x) = x^3,$
- (e) $f : \mathbb{R} \setminus \{0\} \rightarrow \mathbb{R} \setminus \{0\}, f(x) = \frac{1}{x}.$

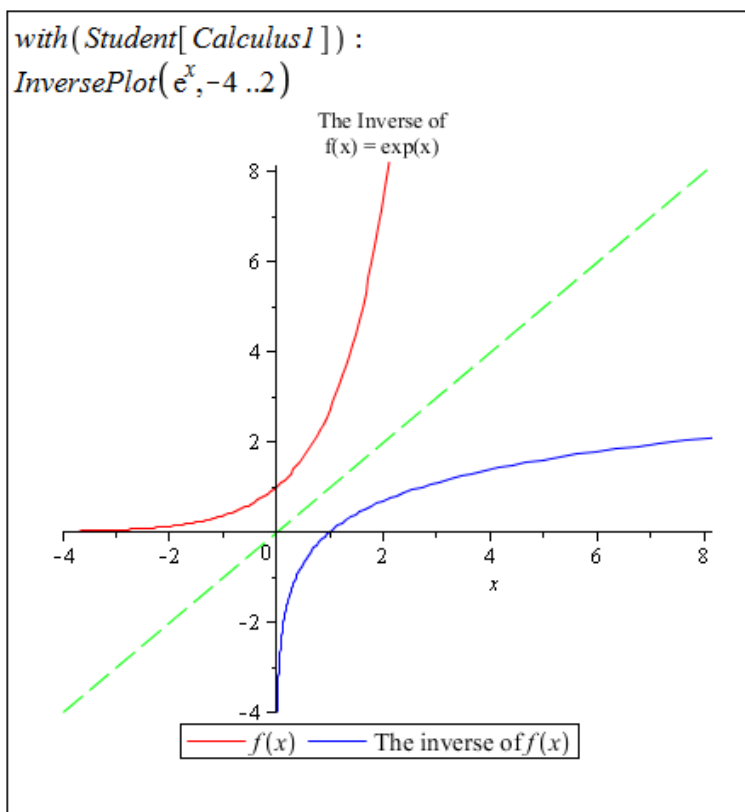
2.2.3 Inverzní funkce

Definice 2.6: Nechť f je prostá funkce. Funkci f^{-1} , pro niž platí: $D(f^{-1}) = H(f)$ a $\forall x \in D(f) : \exists y \in H(f)$ tak, že $f^{-1}(y) = x \Leftrightarrow f(x) = y$, nazýváme *inverzní funkcí*.

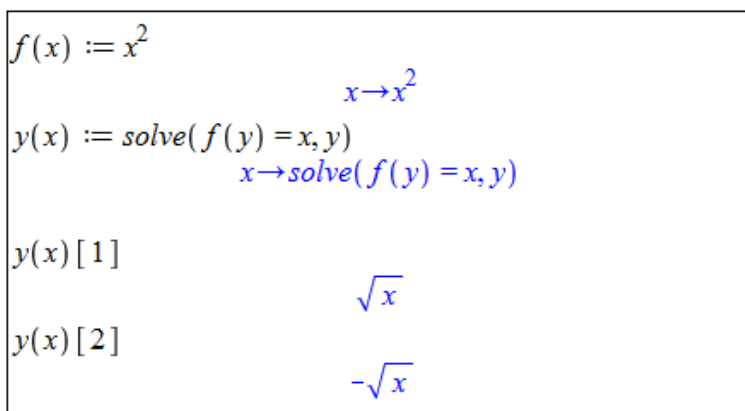
Poznámka 2.1: Z definice plyne, že funkce a její inverze jsou osově symetrické vzhledem k přímce $y = x$.

System Maple má uchováno několik základních funkcí s jejich inverzemi v tabulce s názvem `invfunc`. Praktičtější je využít příkazů `InverseTutor` nebo `InversePlot` z balíku `Student[Calculus1]` vykreslujících do jednoho grafu funkci, její inverzi a osu $y = x$ jakožto osu symetrie. Příkaz `InverseTutor` provádí zmíněné v mapletu, příkaz `InversePlot` slouží pro použití v dokumentu (obrázek 2.15).

Hledat předpis inverzní funkce můžeme rovnou podle definice 2.6, a to řešením rovnice $f(y) = x$ pro neznámou y .



Obrázek 2.15: Vykreslení funkce a její inverze.



Obrázek 2.16: Řešení příkladu 2.18.

Příklad 2.18: Nalezněte inverzní funkci k funkci $f(x) = x^2$.

Řešení: Naše odpověď by mohla být velice stručná, neboť funkce f není prostá, a tak k ní neexistuje funkce inverzní. Nicméně je možné funkci f rozdělit na dvě funkce prosté a hledat inverzi ke každé zvlášť.

V systému Maple provedeme dříve zmíněný postup, tj. budeme řešit rovnici $f(y) = x$. Získáme 2 řešení, a to právě pro 2 „prosté části“ funkce f . Pro $x \leq 0$ je inverze k x^2 rovna $-\sqrt{x}$, pro $x \geq 0$ je rovna \sqrt{x} (obrázek 2.16).

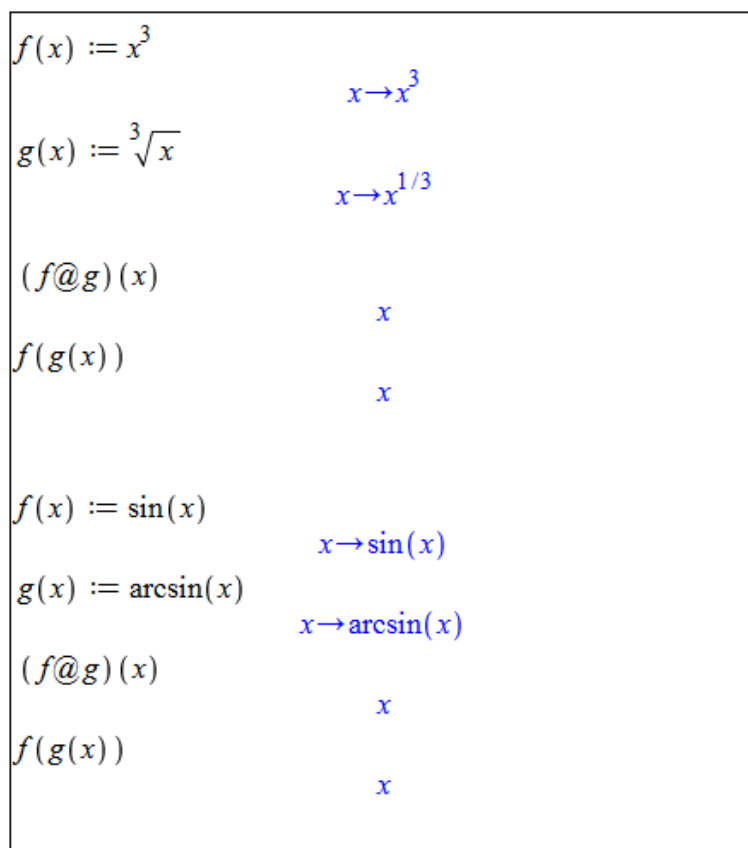
Příklad 2.19: Nalezněte inverzní funkce k následujícím funkcím:

- (a) $f(x) = 2 \cdot x + 1$, (c) $f(x) = \frac{1+x}{1-x}$, (e) $f(x) = \frac{1}{x}$,
 (b) $f(x) = x^3$, (d) $f(x) = \sqrt{1-x}$, (f) $f(x) = \left| \frac{1}{x} \right|$.

Příklad 2.20: Existuje funkce, která je sama sobě inverzí? Pokud ano, je jediná, nebo jich existuje více?

2.2.4 Složená funkce

Operátorem složení funkcí je v systému Maple symbol @ (zavináč). V praxi se bez něj však obejdeme, když použijeme kulaté závorky. Na obrázku 2.17 je několik příkladů vytvoření složené funkce, které potvrzují rovnost $f(f^{-1}(x)) = x$.

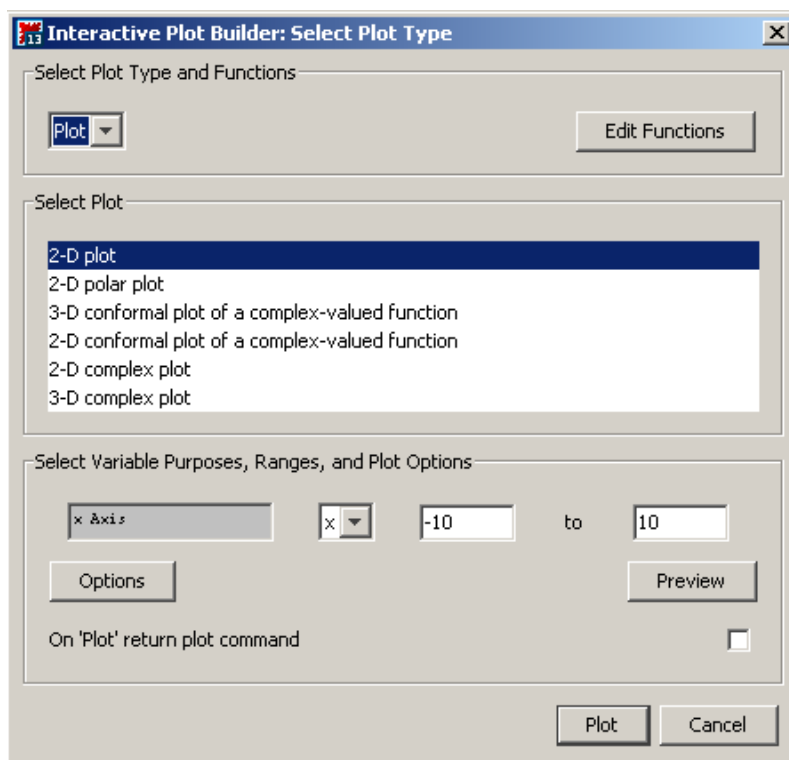


Obrázek 2.17: Složená funkce.

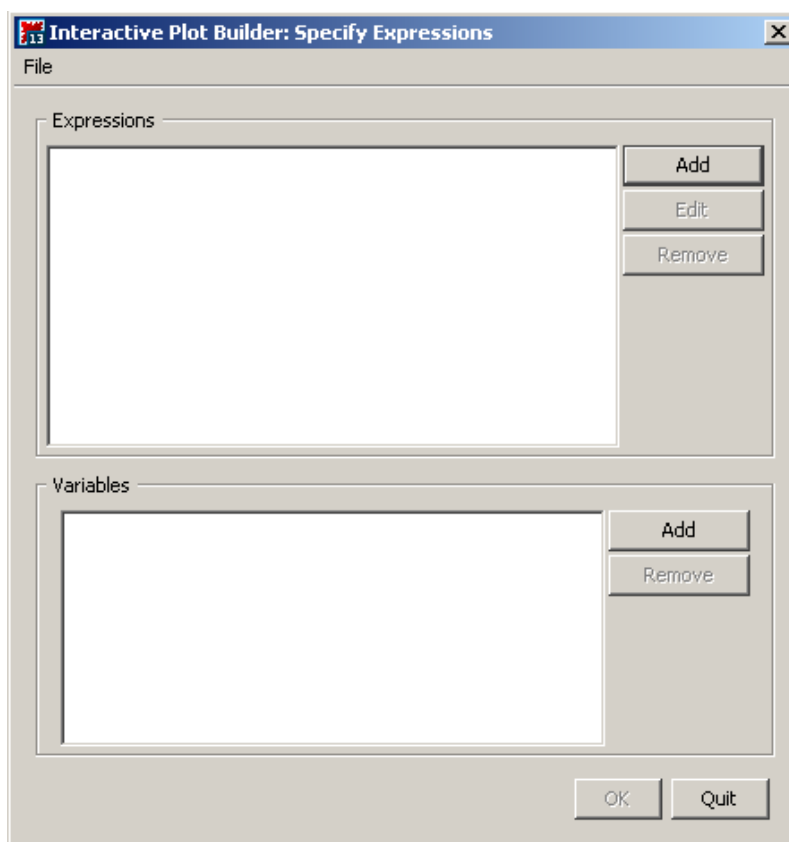
2.3 Vykreslení grafu funkce

2.3.1 Vykreslování

Prostředí *Standard Worksheet* poskytuje několik možností, jak zobrazit graf funkce nebo výrazu. Nejrychlejší a zřejmě nejjednodušší možností je zapsat do dokumentu výraz (resp. funkci), který chceme vykreslit, kliknout na něj pravým tlačítkem a z kontextové nabídky zvolit **Plots > 2-D Plot**.



Obrázek 2.18: Zvolení typu vykreslení v **Plot Builder** (převzato z [5]).

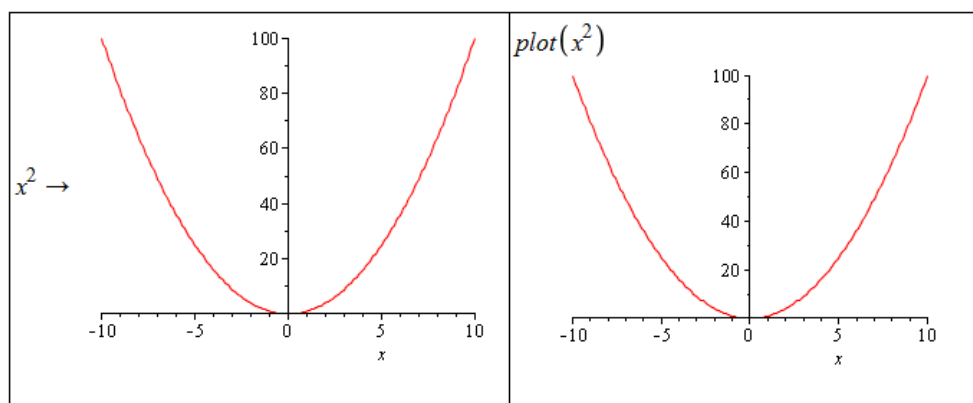


Obrázek 2.19: Okénko pro zadání výrazu z funkčního předpisu a nezávisle proměnných v **Plot Builder** (převzato z [5]).

Dále můžeme využít pomocník **Plot Builder**, a to dvěma způsoby. Buď opět zapíšeme do dokumentu výraz z funkčního předpisu, klikneme pravým tlačítkem myši a zvolíme **Plots > Plot Builder**, nebo zamíříme do hlavního menu a vybereme **Tools > Assistants > Plot Builder...** V prvním případě se objeví okénko **Interactive Plot Builder** (obrázek 2.18), v němž upřesníme typ vykreslení. Pokud uvažujeme funkci jedné proměnné, volíme **2-D Plot**. Je možné volit i jinou možnost jako například vykreslení v polárních souřadnicích (**2-D polar plot**). Kliknutím na tlačítko **Plot** zobrazíme graf v dokumentu [5].

V druhém případě, kdy **Plot Builder** vyvoláme z hlavního menu, se nám objeví okénko (viz obrázek 2.19), do něž zadáme výraz z předpisu funkce, kterou chceme zobrazit (zadání nám umožní tlačítka **Add**, resp. **Edit**), a proměnné (pokud výraz obsahuje pouze proměnné, systém je vyplní sám). Kliknutím na tlačítko **OK** přejdeme do již známého okénka pro zvolení typu vykreslení (obrázek 2.18). Další možností k vykreslení grafu výrazu nebo funkce je příkaz `plot`.

Při vykreslování můžeme specifikovat několik atributů měnících podobu grafu. Opět je několik možností, jak atributy zadávat. Při použití pomocníka **Plot Builder** se v okénku **Interactive Plot Builder** (obrázek 2.18) objevuje tlačítko **Options**. Kliknutím na toto tlačítko přejdeme na okénko (viz obrázek 2.21) umožňující nastavit parametry vykreslení jako jsou rozsah hodnot závisle i nezávisle proměnné, barva a styl vykreslované křivky, titulek grafu, legenda atd. Užitečné je navíc tlačítko **Preview** umožňující předběžně si prohlédnout současný stav a následně pokračovat v dalším nastavování atributů vykreslení grafu.

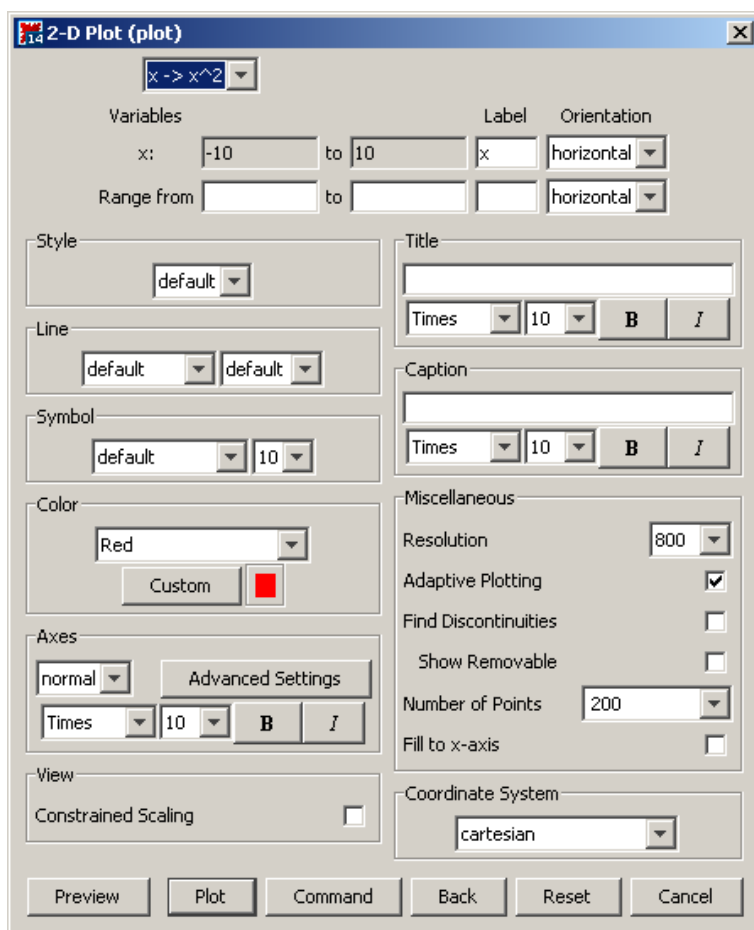


Obrázek 2.20: Vykreslení grafů pomocí kontextové nabídky a příkazu `plot` (převzato z [5]).

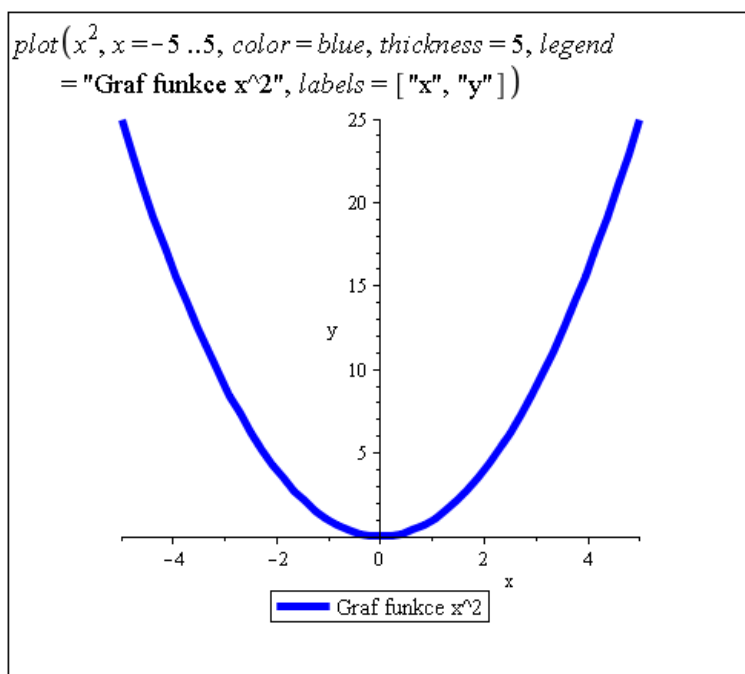
Při použití příkazu `plot` můžeme totéž provést specifikací nepovinných parametrů jako jsou `thickness` pro tloušťku křivky, `color` pro její barvu, `labels` pro popisky os, `legend` pro tvar legendy u obrázku, `axes` pro nastavení souřadných os a další. Ukázkou použití příkazu `plot` s nastavením některých nepovinných parametrů nabízí obrázek 2.22 [5].

Vzhled grafu můžeme upravovat i po jeho vytvoření a umístění do dokumentu. Jednak lze na graf kliknout pravým tlačítkem myši a z kontextové nabídky vybírat vlastnosti grafu, které jsme mohli měnit již dříve, nebo můžeme využít kontextové lišty těsně nad dokumentem. Po kliknutí levým tlačítkem myši na graf se ve zmíněné liště zobrazí nástroje skupiny nazvané **Plot**. K dispozici je též skupina s názvem **Drawing**. Nástroje v těchto skupinách umožňují do hotového grafu přidávat text, kreslit, či jinak graf upravovat [5].

Jestliže chceme vykreslit více funkcí (resp. výrazů) do jediného grafu, zapíšeme všechny do hranatých, případně složených, závorek jako první parametr příkazu `plot`. Uživateli doporučujeme používat spíše hranaté závorky, v nichž systém Maple respektuje pořadí. Pokud nechceme u vykreslovaných funkcí nic dále specifikovat, je nám jedno, v jakém pořadí Maple funkce „vezme“ a vykreslí, použijeme libovolné závorky (tj. hranaté nebo složené).

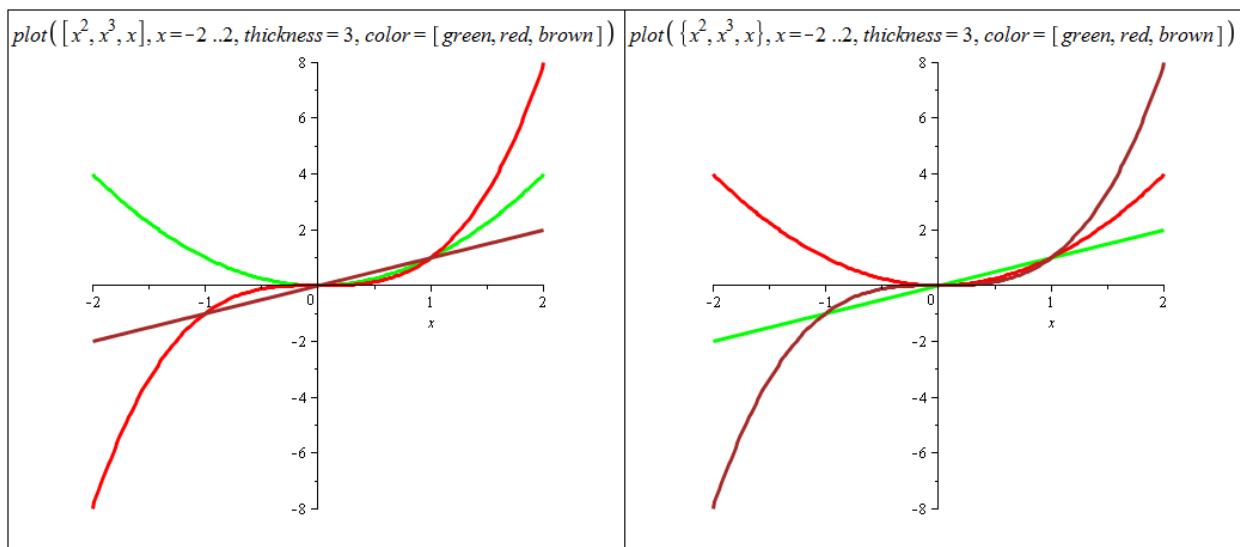


Obrázek 2.21: Okénko **Plot Builder** pro nastavení parametrů grafu (převzato z [5]).



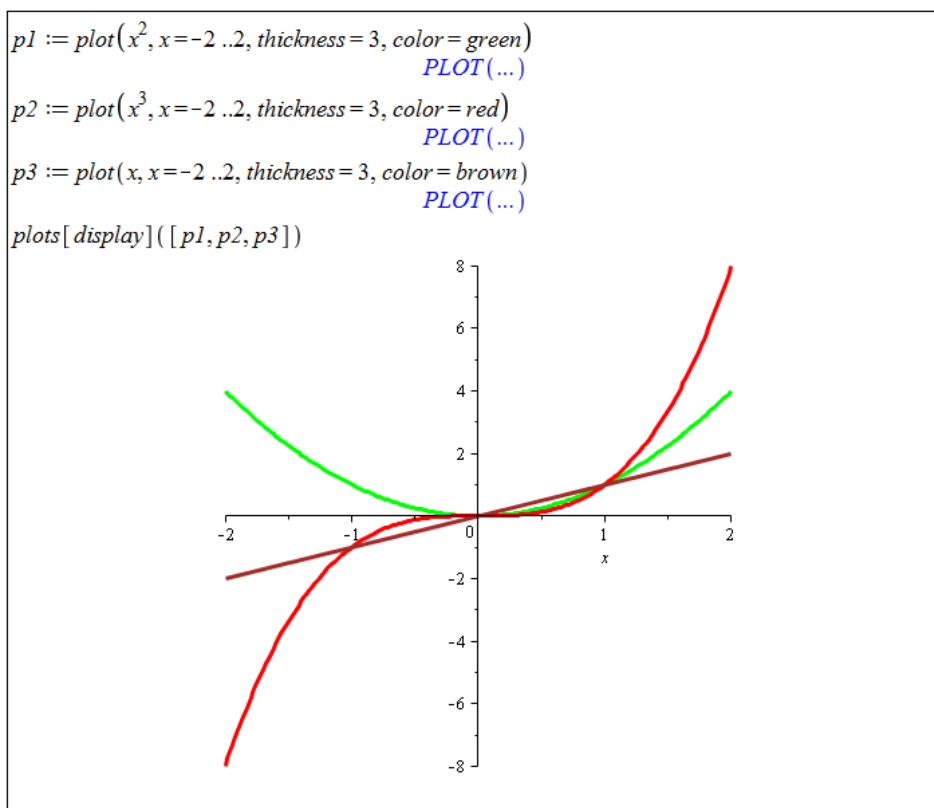
Obrázek 2.22: Vykreslení grafu při specifikaci některých nepovinných parametrů (převzato z [5]).

Pokud však chceme např. každé z křivek přiřadit nějakou barvu, použitím hranatých závorek se barvy aplikují v tom pořadí, v jakém očekáváme. Při použití složených závorek tomu tak být nemusí, viz obrázek 2.23.



Obrázek 2.23: Vykreslení grafu více výrazů příkazem `plot`.

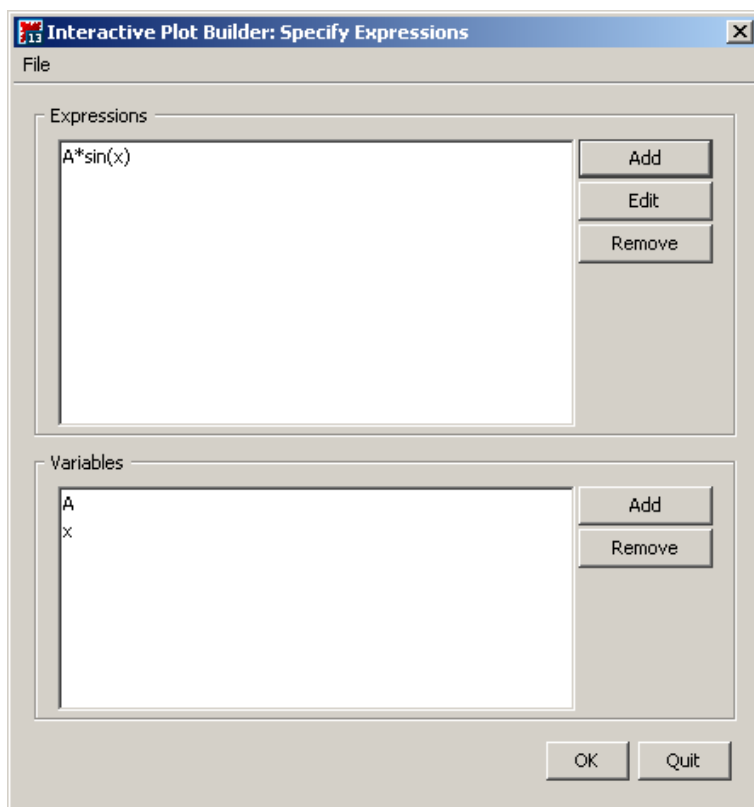
K dispozici je dále příkaz `display` z balíku `plots`, kterým můžeme dosáhnout stejného výsledku. Jednotlivé grafy nejprve vytvoříme a přiřadíme do proměnných, jež dáme jako parametry právě příkazu `display` (obrázek 2.24).



Obrázek 2.24: Vykreslení grafu více výrazů pomocí příkazu `display`.

2.3.2 Animace

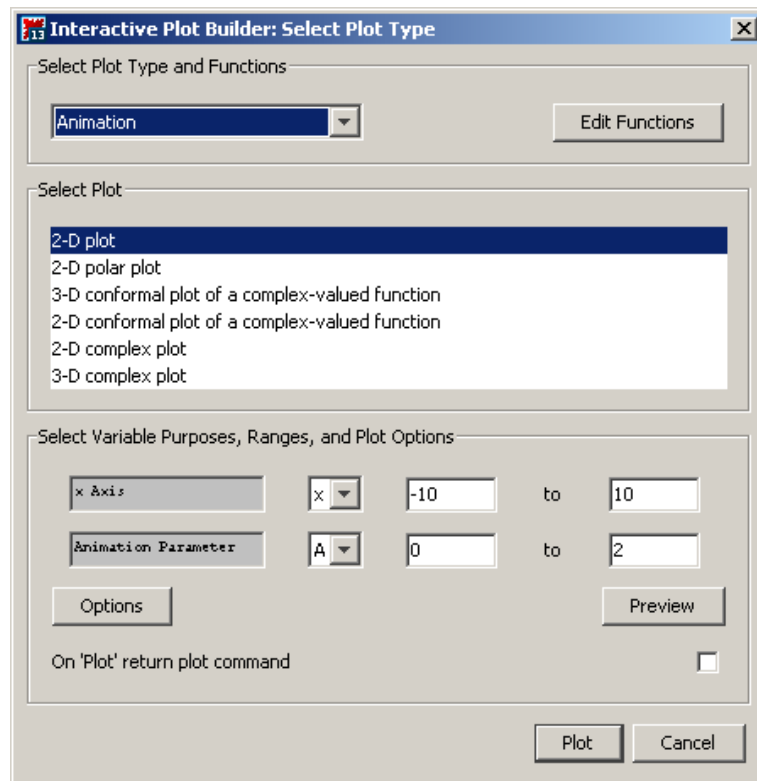
V systému Maple můžeme též vytvářet animace. Animace se skládá z několika grafů, které jsou po spuštění zobrazené v sekvenci za sebou. Vytvoříme ji buď příkazem `animate` z balíku `plots`, nebo pomocí **Plot Builderu**. Obrázky 2.25 a 2.26 ukazují nastavení **Plot Builderu** pro vytvoření animace, obrázek 2.27 ilustruje tentýž příklad při použití příkazu `animate`.



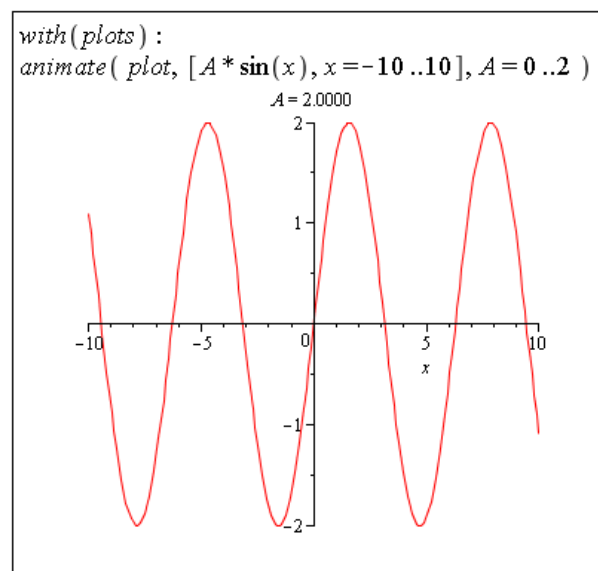
Obrázek 2.25: Zadání výrazu z předpisu funkce v **Plot Builderu** (převzato z [5]).

Ukončení **Plot Builderu**, resp. provedení příkazu, umístí do dokumentu „prázdný“ graf. Kliknutím na něj zobrazíme skupinu nástrojů v kontextové liště s názvem **Animation**. Pomocí těchto nástrojů můžeme animaci spustit, změnit její rychlost, podívat se na libovolný snímek animace atd.

Animace můžeme upravovat stejně jako grafy, tj. měnit tloušťku, barvu a druh křivky, souřadné osy, legendu apod. Navíc máme k dispozici několik nepovinných parametrů, díky nimž můžeme například určit počet grafů, z nichž se animace skládá (parametr `frames`), nebo kolik grafů vyjma posledního má zůstat trvale zobrazených po spuštění animace (parametr `trace`) [5].



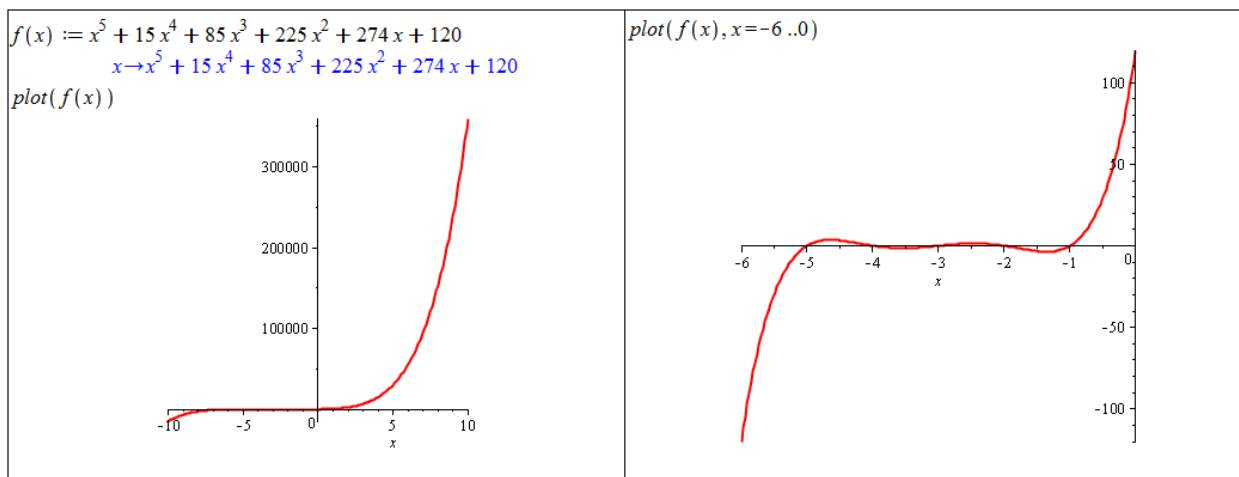
Obrázek 2.26: Zvolení druhu vykreslení (animace) v **Plot Builderu** (převzato z [5]).



Obrázek 2.27: Animace vytvořená příkazem **animate** (převzato z [5]).

Příklad 2.21: Vykreslete funkci $f(x) = x^5 + 15 \cdot x^4 + 85 \cdot x^3 + 225 \cdot x^2 + 274 \cdot x + 120$.

Řešení: K vykreslení zadané funkce ji stačí zapsat do dokumentu a použít některý z dříve uvedených postupů. Musíme však mít na paměti, co bychom rádi na grafu viděli a že je možné získaný výsledek ovlivnit. Například v tomto případě, když nespécifikujeme rozsah vykreslení (použije se standardní rozmezí $-10..10$) zcela zkrslíme informaci o chování funkce na intervalu $[-5, 0]$.



Obrázek 2.28: Řešení příkladu 2.21.

Příklad 2.22: K funkci $g(x) = e^{2 \cdot x}$ nalezněte inverzní funkci. Vykreslete do jednoho grafu funkci $g(x)$, její inverzi a funkci $f(x) = x$. Do grafu přidejte také legendu.

Příklad 2.23: Zkoumejte závislost funkce $h(x) = e^{a \cdot x}$ na parametru $a \in \mathbb{R}$ (pomocí animace). Kdy je funkce rostoucí a kdy klesající?

Příklad 2.24: Vraťte se k příkladům 2.12 – 2.20 předchozí sekce a vykreslením grafů se ujistěte o správnosti vašich odpovědí.

2.4 Limita a spojitost funkce

Definice 2.7: Funkce $f(x)$ má v bodě $x_0 \in \mathbb{R}$ limitu $L \in \mathbb{R}$, jestliže ke každému $\varepsilon > 0$ existuje $\delta > 0$ tak, že pro všechna $x \in (x_0 - \delta, x_0 + \delta)$ různá od x_0 platí: $|f(x) - L| < \varepsilon$. Takovou limitu nazýváme vlastní limitou ve vlastním bodě.

Definice 2.8: Funkce $f(x)$ má v bodě $x_0 \in \mathbb{R}$ limitu $L \in \mathbb{R}$ zleva, jestliže ke každému $\varepsilon > 0$ existuje $\delta > 0$ tak, že pro všechna $x \in (x_0 - \delta, x_0)$ platí: $|f(x) - L| < \varepsilon$. Analogicky definujeme limitu zprava.

Definice 2.9: Funkce $f(x)$ má v bodě $x_0 \in \mathbb{R}$ limitu rovnu $+\infty$, jestliže ke každému $M \in \mathbb{R}$ existuje $\delta > 0$ tak, že pro všechna $x \in (x_0 - \delta, x_0 + \delta)$ různá od x_0 platí: $f(x) > M$. Analogicky definujeme limitu rovnu $-\infty$. Takovou limitu nazýváme nevlastní limitou ve vlastním bodě.

Definice 2.10: Funkce $f(x)$ má v bodě $+\infty$ limitu rovnu $L \in \mathbb{R}$, jestliže ke každému $\varepsilon > 0$ existuje $K \in \mathbb{R}$ tak, že pro všechna $x > K$ platí: $|f(x) - L| < \varepsilon$. Analogicky definujeme limitu v bodě $-\infty$. Takovou limitu nazýváme vlastní limitou v nevlastním bodě.

Příklad 2.25: Definujte limitu zprava.

Příklad 2.26: Definujte nevlastní limitu v nevlastním bodě.

V systému Maple použijeme k výpočtu limity buď příslušný symbol z palety **Expression** (a upravíme v něm barevné symboly, jak potřebujeme) nebo příkaz `limit`, který má povinně dva parametry – výraz (tj. i funkční výraz) a bod, v němž hledáme limitu. Také je možné zadat do dokumentu výraz, jehož limitu chceme určit, kliknout na něj pravým tlačítkem a z kontextové nabídky zvolit položku **Limit**. Otevře se nám okénko, v němž je dále třeba specifikovat bod, v němž hledáme limitu. Můžeme dále uvést i typ limity – oboustrannou (základně zvolená), limitu zleva nebo limitu zprava.

V případě použití palety specifikujeme jednostrannou limitu zapsáním symbolu $+$ nebo $-$ do exponentu bodu, v němž chceme limitu určit. Příkazu `limit` můžeme zadat třetí (nepovinnný) parametr ve tvaru *right* nebo *left* pro limitu zprava, resp. zleva. Všechny zmíněné postupy ilustruje obrázek 2.29. V jeho pravé části je definována funkce a při určování limit používán funkční výraz $f(x)$. Funkční operátor (tj. f) použít nemůžeme.

$\text{limit}\left(\frac{1}{x}, x=0\right) = \text{undefined}$ $\text{limit}\left(\frac{1}{x}, x=0, \text{right}\right) = \infty$ $\lim_{x \rightarrow 0} \frac{1}{x} = \text{undefined}$ $\lim_{x \rightarrow 0^+} \frac{1}{x} = \infty$ oboustranná limita: $\frac{1}{x} \xrightarrow{\text{limit}} \text{undefined}$ limita zprava: $\frac{1}{x} \xrightarrow{\text{limit}} \infty$	$f(x) := \frac{1}{x}$ $x \rightarrow \frac{1}{x}$ $\text{limit}(f(x), x=0) = \text{undefined}$ $\text{limit}(f(x), x=0, \text{right}) = \infty$ $\lim_{x \rightarrow 0} f(x) = \text{undefined}$ $\lim_{x \rightarrow 0^+} f(x) = \infty$
---	--

Obrázek 2.29: Určení limity v bodě.

Systém Maple v některých případech zobrazuje neočekávané výsledky, které můžeme označit za chybné. Jedná se například o limity na obrázku 2.30. Vypsáním výsledkem se nám systém snaží dát omezení na funkční hodnoty v okolí bodu, v němž hledáme limitu. Podle uvedených definic v tomto textu však musíme konstatovat, že příslušné limity neexistují.

Příklad 2.27: Určete následující limity:

(a) $\lim_{x \rightarrow 0} \frac{\sin(x)}{x},$

(c) $\lim_{x \rightarrow 0} \frac{e^x - 1}{x},$

(b) $\lim_{x \rightarrow 0} \frac{\sin(a \cdot x)}{\sin(b \cdot x)},$

(d) $\lim_{x \rightarrow \frac{\pi}{2}^+} \tan(x).$

$\lim_{x \rightarrow 0} \sin\left(\frac{1}{x}\right)$	-1 ..1
$\lim_{x \rightarrow +\infty} (-1)^x$	-1 ..1

Obrázek 2.30: Nedostatky Maplu při určování limity.

Příklad 2.28: Určete následující limity:

(a) $\lim_{x \rightarrow 0} \frac{\sqrt[3]{x^2} - \sqrt[3]{x}}{\sqrt[3]{x^2} + \sqrt[3]{x}}$,	(c) $\lim_{x \rightarrow 2} \frac{\sqrt{x^2+5}-3}{x^2-2 \cdot x}$,	(e) $\lim_{x \rightarrow -\infty} \frac{5^x+3^x}{4^x}$,
(b) $\lim_{x \rightarrow \frac{\pi}{2}} \frac{\cos(\frac{x}{2}) - \sin(\frac{x}{2})}{\cos(x)}$,	(d) $\lim_{x \rightarrow -\infty} \frac{3 \cdot x + 2}{\sqrt{x^2 - 1}}$,	(f) $\lim_{t \rightarrow 0} \frac{\sin(t) \cdot \cos(t)}{t - t^2}$.

Jak byste limity určovali bez systému Maple?

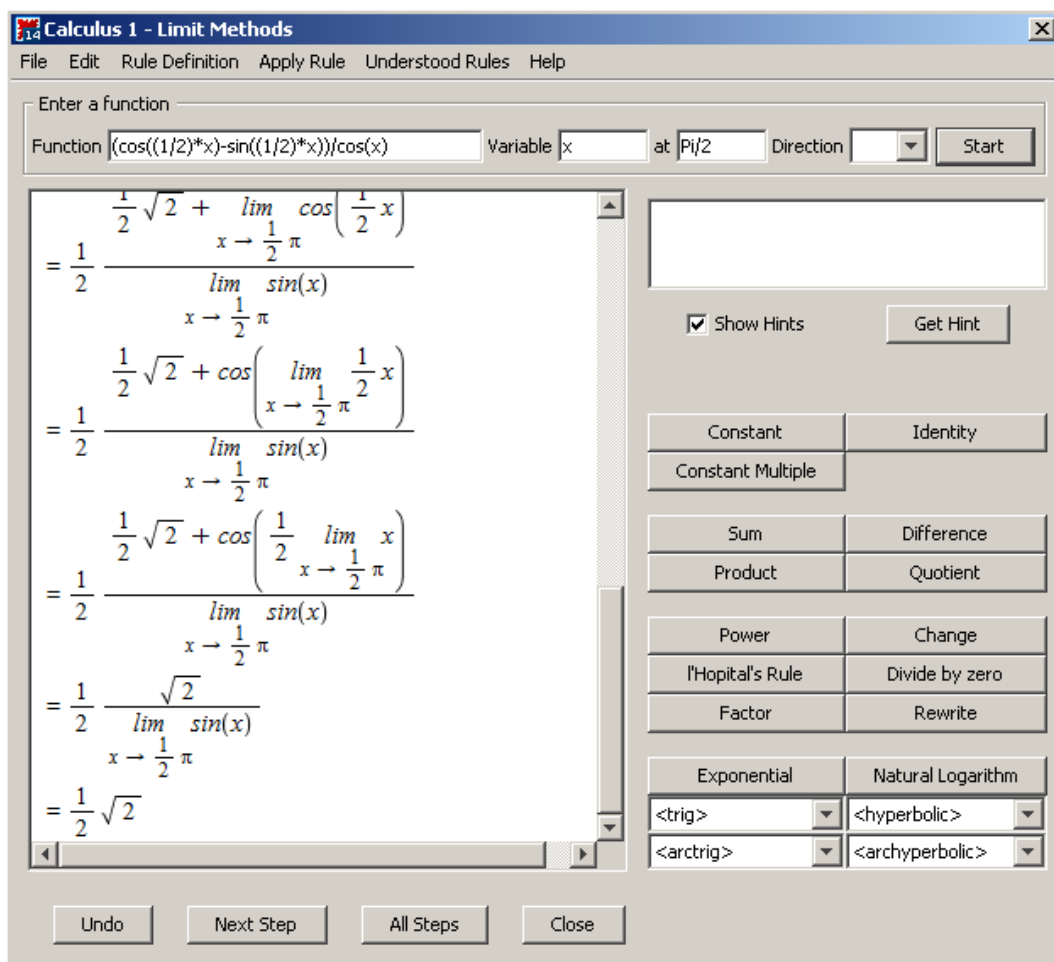
Příklad 2.29: Definujte funkci, která:

- (a) má vlastní limitu ve vlastním bodě,
- (b) má vlastní limitu v nevlastním bodě,
- (c) má nevlastní limitu ve vlastním bodě,
- (d) má nevlastní limitu v nevlastním bodě,
- (e) splňuje všechny předchozí body (a) – (d).

Jak jsme se zmínili v sekci 1.3.4, Maple obsahuje pomocné nástroje, které nám ulehčují řešení úloh a pomáhají v učení některých matematických postupů při jejich řešení. Jedním z takových nástrojů je maplet zvaný **Limit Methods**. Spustíme jej z hlavní nabídky zvolením **Tools > Tutors > Calculus – Single Variable > Limit Methods...** Tento nástroj umí řešit zadané limity krok po kroku pomocí implementovaných matematických pravidel. Můžeme mu tedy zadat výraz a bod, v němž chceme určit jeho limitu, a nechat například maplet zobrazit celé řešení krok za krokem kliknutím na tlačítko **All Steps**. Výsledek tohoto postupu na příkladu 2.28.(b) můžeme vidět na obrázku 2.31. V mapletu si však můžeme zobrazit pouze následující krok výpočtu, pokusit se použít některé z implementovaných pravidel nebo požádat o nápovědu, které pravidlo použít.

Definice 2.11: Řekneme, že funkce $f(x)$ je spojitá v bodě x_0 , pokud má v tomto bodě vlastní limitu a platí: $\lim_{x \rightarrow x_0} f(x) = f(x_0)$.

Definice 2.12: Řekneme, že funkce $f(x)$ je zprava (resp. zleva) spojitá v bodě x_0 , pokud má v tomto bodě příslušnou jednostrannou vlastní limitu a platí: $\lim_{x \rightarrow x_0^+} f(x) = f(x_0)$ (resp. $\lim_{x \rightarrow x_0^-} f(x) = f(x_0)$).



Obrázek 2.31: Pomocník pro určování limit.

Definice 2.13: Řekneme, že funkce $f(x)$ je spojitá na intervalu $J \in D(f)$, pokud

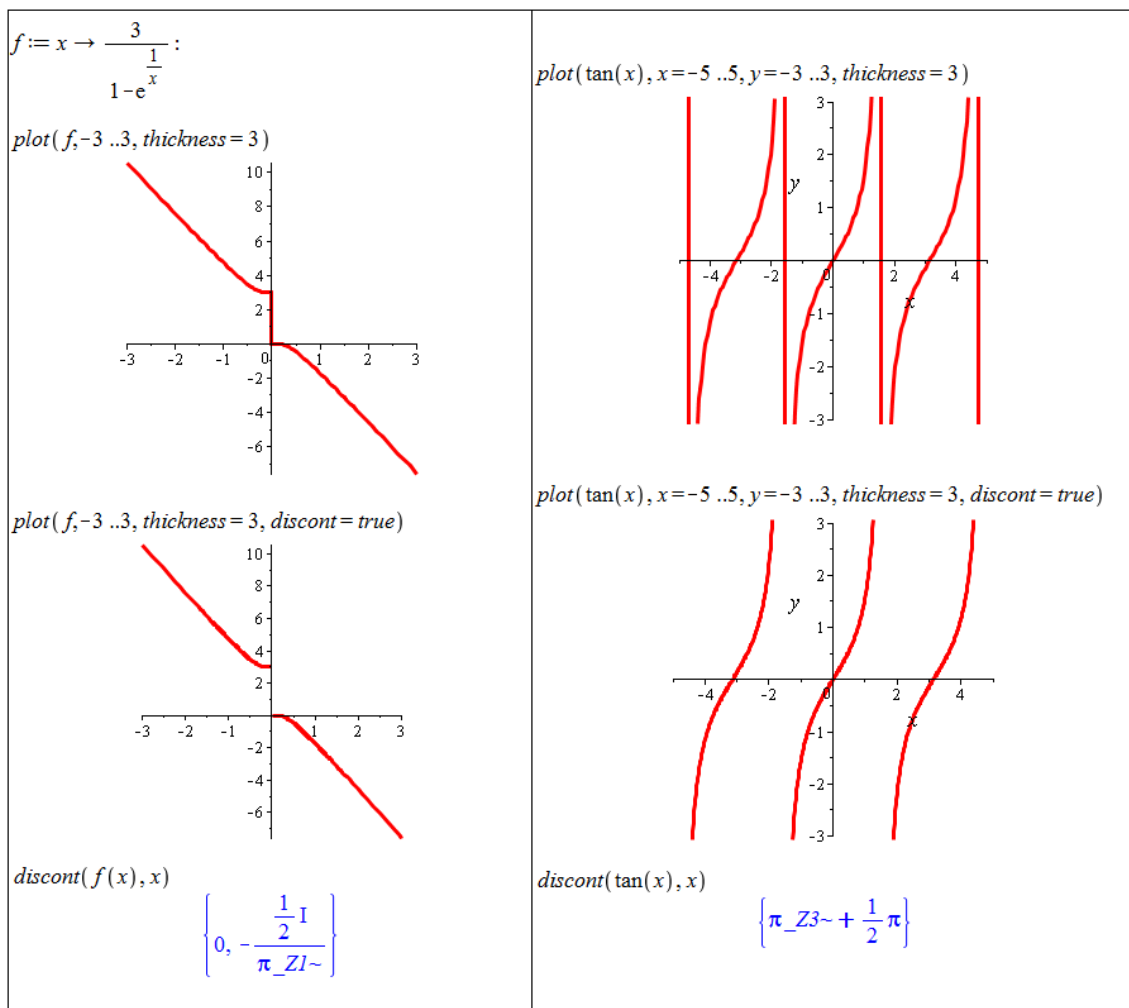
- (a) f je spojitá v každém vnitřním bodě intervalu J
- (b) a patří-li levý (resp. pravý) koncový bod do intervalu J , je v něm funkce f spojitá zprava (resp. zleva).

V systému Maple můžeme jednak testovat rovnost limity a funkční hodnoty, jak plyne z definice. Pro určování spojitosti funkce na intervalu je však možné (a vhodné) využít příkazu `discont` hledajícího nespojitosti funkce. Příkaz má dva povinné parametry, a to výraz, jehož nespojitosti určujeme, a nezávisle proměnnou.

Pokud je funkce $y = f(x)$ nespojitá na daném intervalu jen v konečně mnoha (izolovaných) bodech, systém Maple ji v těchto bodech spojuje úsečkami rovnoběžnými s osou y . Jestliže chceme nespojitosti zobrazit korektně, použijeme nepovinný atribut `discont` příkazu `plot`, který nastavíme na hodnotu `true` – viz obrázek 2.32.

Od verze Maple 14 je možné také zobrazovat odstranitelné nespojitosti (obrázek 2.33).

Příkaz `discont` však není možné používat u funkcí definovaných po částech. Výsledkem příkazu jsou v tomto případě vždy body „podezřelé“ z nespojitostí. Pro zjištění, zda se jedná o nespojitosti či nikoliv, je potřeba v těchto bodech provést test (existence a) rovnosti limity a funkční hodnoty. Obrázek 2.34 ukazuje použití příkazu `discont` v případě funkce $f(x)$ zdefinované po částech.



Obrázek 2.32: Zobrazování nespojitých funkcí.

Příklad 2.30: Nalezněte číslo $C \in \mathbb{R}$ tak, aby funkce $f(x) = \begin{cases} \frac{x^2-16}{x-4} & \dots x \neq 4 \\ C & \dots x = 4 \end{cases}$

byla spojitá pro všechna $x \in \mathbb{R}$.

Řešení: Jelikož $x^2 - 16 = (x - 4) \cdot (x + 4)$, platí $f(x) = x + 4$ pro $x \neq 4$, a tedy $\lim_{x \rightarrow 4} f(x) = 8$.

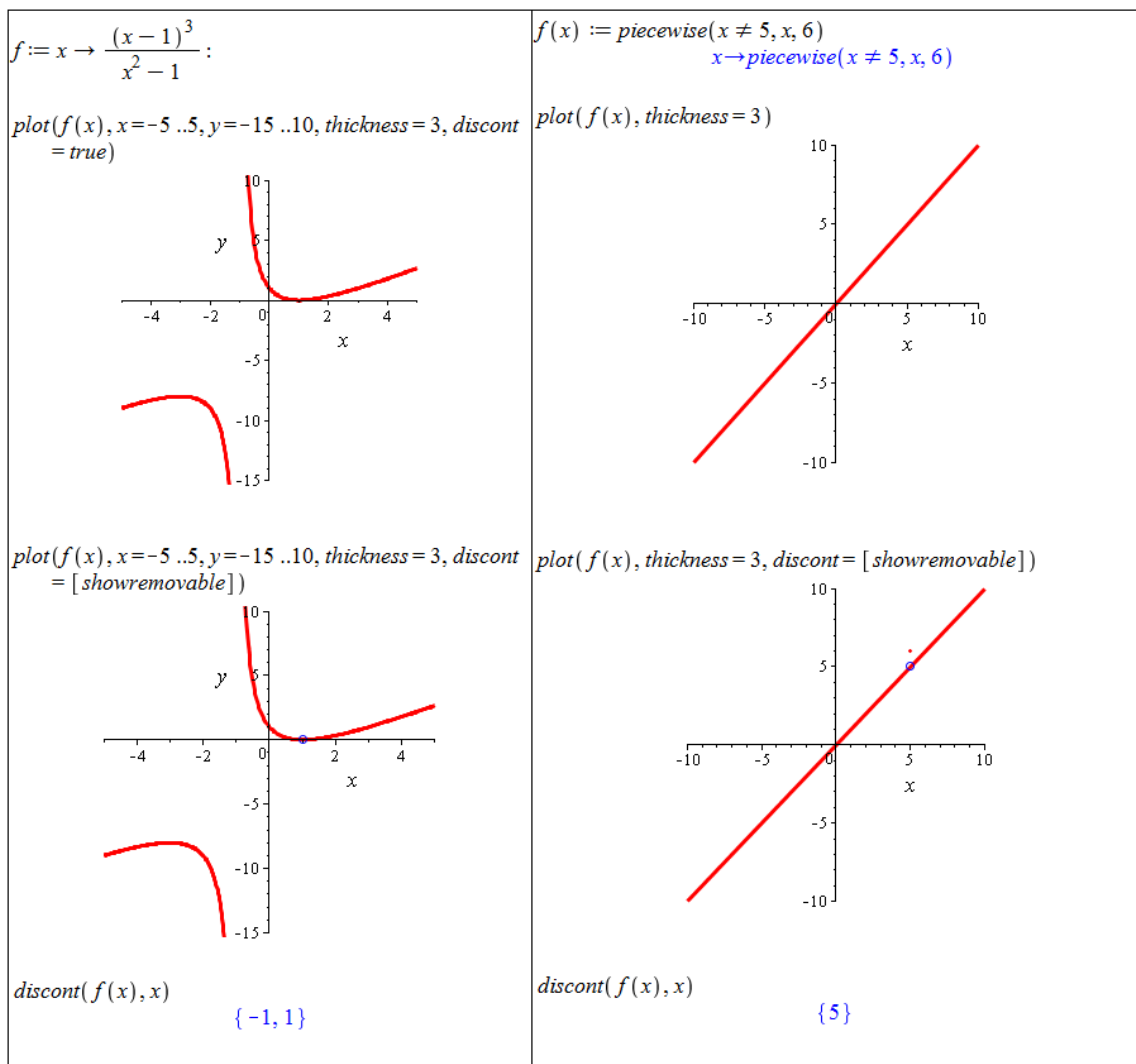
Z definice spojitosti pak dostáváme: $C = f(4) = 8$.

Příklad 2.31: Určete body nespojitosti funkcí:

(a) $f(x) = \begin{cases} x + 1 & \dots x \geq 2 \\ 2 \cdot x - 1 & \dots 1 < x < 2, \\ x - 1 & \dots x \leq 1 \end{cases}$

(b) $f(x) = \frac{3x+3}{x^2-3x-4}$,

(c) $f(x) = \frac{x^2-b^2}{x-b}$, $b \in \mathbb{R}$.



Obrázek 2.33: Zobrazování nespojitých funkcí a vyznačování odstranitelných nespojitostí.

$$\text{discont}(\text{piecewise}(x < 0, x, x \geq 0, x), x)$$

$$\{0\}$$

Obrázek 2.34: Použití příkazu `discont` u funkce definované po částech.

Příklad 2.32: Nalezněte čísla $c, d \in \mathbb{R}$ tak, aby funkce $f(x) = \begin{cases} 3 \cdot x^2 - 1 & \dots x < 0 \\ c \cdot x + d & \dots 0 \leq x \leq 1 \\ \sqrt{x+8} & \dots x > 1 \end{cases}$ byla spojitá pro všechna $x \in \mathbb{R}$.

Příklad 2.33: Uveďte příklad funkce, která na uzavřeném intervalu není spojitá, ale má limitu v každém bodě tohoto intervalu.

2.5 Derivace funkce

Definice 2.14: Necht f je funkce, $x_0 \in \mathbb{R}$. Existuje-li $\lim_{x \rightarrow x_0} \frac{f(x) - f(x_0)}{x - x_0}$, nazýváme tuto limitu *derivací* funkce f v bodě x_0 .

Poznámka 2.2: Derivace funkce $f(x)$ je funkce, která je definovaná ve všech bodech, v nichž existuje limita z předchozí definice. Tuto funkci značíme několika způsoby: $f'(x)$, $\frac{df(x)}{dx}$ nebo $\frac{\partial f(x)}{\partial x}$. Analogicky můžeme definovat druhou derivaci funkce $f(x)$ jako derivaci funkce $f'(x)$ a podobně derivace vyšších řádů.

Poznámka 2.3: Limita v definici 2.14 může být vlastní i nevlastní. Podle toho rozlišujeme také vlastní a nevlastní derivaci. V tomto textu si situaci ulehčíme a budeme uvažovat pouze vlastní derivace. Z tohoto důvodu budeme slovo „vlastní“ vynechávat a slovem „derivace“ budeme vždy rozumět vlastní derivaci.

Systém Maple nabízí (jako obvykle) několik možností, jak určit derivaci funkce. Opět můžeme využít kontextové nabídky (tj. zapsat do dokumentu výraz, který chceme derivovat, kliknout na něj pravým tlačítkem myši a z nabídky zvolit položku **Differentiate** s výběrem nezávisle proměnné). Dále je možné použít oba již uvedené symboly zápisu derivace, které jsou k dispozici v paletě **Expression**. Systém Maple (v režimu *Document Mode*) rozpozná i zápis $f'(x)$ (tj. použití apostrofu jako symbolu derivace). Další možností je příkaz `diff` mající dva povinné argumenty: výraz a nezávisle proměnnou.

$$\begin{aligned} \frac{d}{dx}(x^2 + 2 \cdot x + 6) &= 2x + 2 \\ \frac{\partial}{\partial x}(x^2 + 2 \cdot x + 6) &= 2x + 2 \\ \text{diff}(x^2 + 2 \cdot x + 6, x) &= 2x + 2 \\ x^2 + 2 \cdot x + 6 &\xrightarrow{\text{differentiate w.r.t. } x} 2x + 2 \\ (x^2 + 2 \cdot x + 6)' &= 2x + 2 \end{aligned}$$

Obrázek 2.35: Přehled možností při výpočtu derivace.

Při počítání derivací musíme být opět opatrní a rozlišovat mezi funkčním operátorem a výrazem. Všechny zmíněné způsoby určení derivace funkce (nebo lépe výrazu) vrací výsledek jako výraz. Pokud chceme poté určit jeho funkční hodnotu, musíme buď použít příkaz `eval`, nebo ze získaného výrazu udělat funkci příkazem `unapply`, případně použít apostrofovou notaci pro zápis derivace, viz obrázek 2.36.

Systém Maple disponuje též příkazem `D` představujícím diferenciální operátor. Jeho argumentem je funkční operátor a výsledkem derivace opět jako funkce (funkční operátor) – pravá část obrázku 2.36.

$h(x) := x^2 + 2 \cdot x + 6$ $x \rightarrow x^2 + 2x + 6$	$D(h)$ $x \rightarrow 2x + 2$
$\frac{d}{dx}h(x)$ $2x + 2$	$D(h)(2)$ 6
$eval(\%, x=2)$ 6	$D(\sin)$ \cos
$g := unapply\left(\frac{d}{dx}h(x), x\right)$ $x \rightarrow 2x + 2$	$D(\sin)(x)$ $\cos(x)$
$g(2)$ 6	
$h'(2)$ 6	

Obrázek 2.36: Výpočet derivace v bodě.

$$\frac{d^2}{dx^2}(x^2 + 2 \cdot x + 6) = 2$$

$$\frac{d^3}{dx^3}(x^2 + 2 \cdot x + 6) = 0$$

$$diff(x^2 + 2 \cdot x + 6, x, x) = 2$$

$$diff(x^2 + 2 \cdot x + 6, x, x, x) = 0$$

$$(x^2 + 2 \cdot x + 6)'' = 2$$

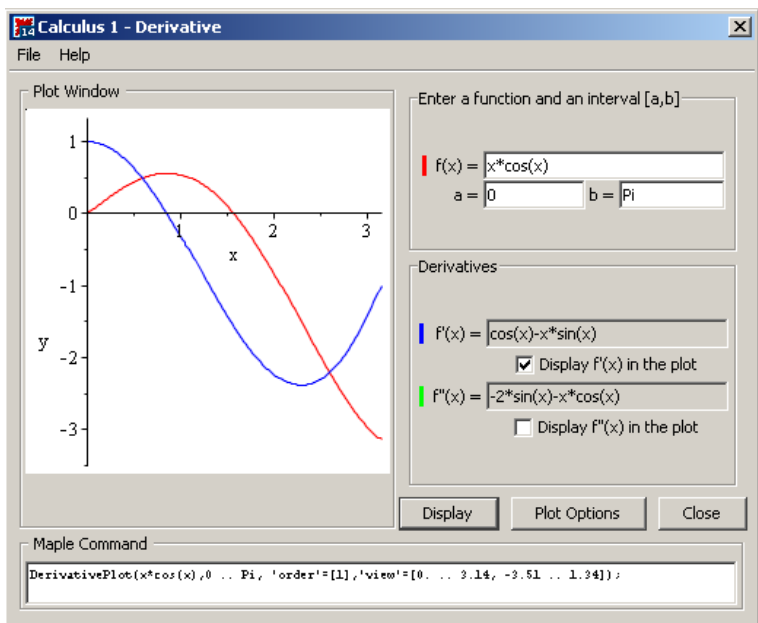
$$(x^2 + 2 \cdot x + 6)^{(3)} = 0$$

Obrázek 2.37: Výpočet derivací vyšších řádů.

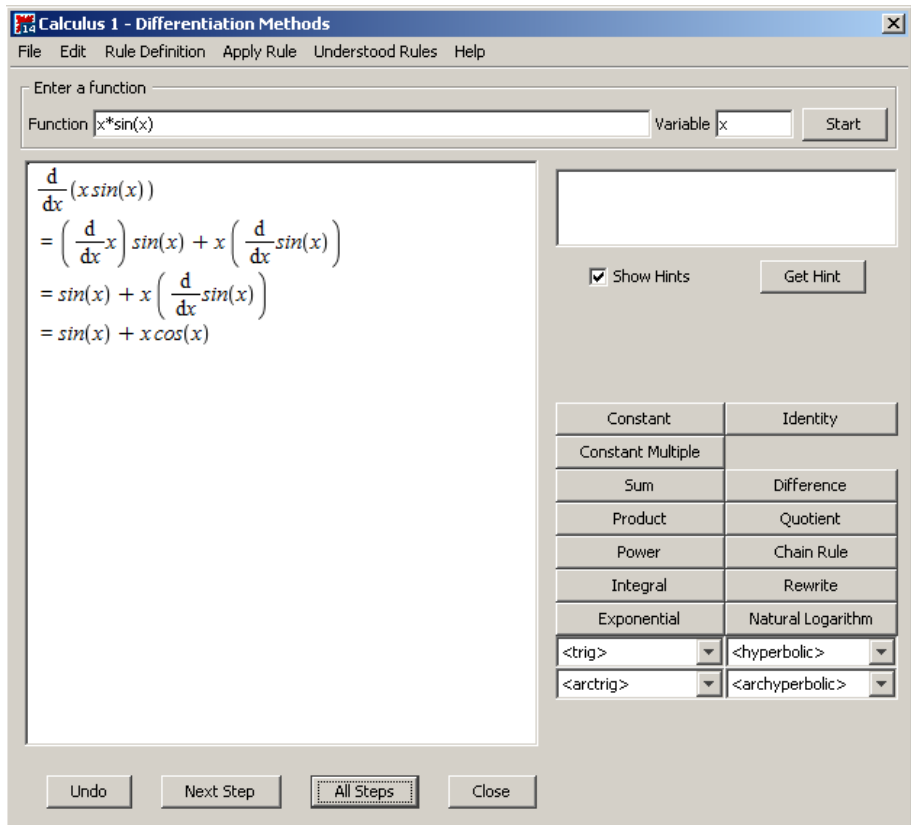
Derivace vyšších řádů zadáváme tak, jak jsme zvyklí „s tužkou na papíře“. Při použití příkazu `diff` se n -tá derivace specifikuje tak, že zadáme nezávisle proměnnou n -krát (jako argument příkazu)⁵. Systém Maple (opět pouze v režimu *Document Mode*) umí rozpoznat i zápis s číslem derivace v exponentu výrazu v kulatých závorkách – toto je nutné při odkliknutí ještě potvrdit ve vyskakujícím okénku (obrázek 2.37).

⁵Je možné použít i zkrácený zápis ve tvaru `diff(f(x), x$n)`.

Stejně jako u limit poskytuje Maple pomocné nástroje pro výpočet derivací. Prvním z nich je maplet zvaný **Derivatives**. Spustíme jej z hlavní nabídky zvolením **Tools > Tutors > Calculus – Single Variable > Derivatives...** Maplet pro zadanou funkci vypočítá její první a druhou derivaci, zvolené funkce vykreslí do jednoho grafu.



Obrázek 2.38: Pomocník pro výpočet a zobrazení derivací.



Obrázek 2.39: Pomocník pro výpočet derivací.

Druhý pomocný nástroj je maplet s názvem **Differentiation Methods**. Spustíme jej z hlavní nabídky zvolením **Tools > Tutors > Calculus – Single Variable > Differentiation Methods...** Stejně jako analogický pomocník u limit umí řešit derivace zadaných funkcí krok po kroku pomocí implementovaných matematických pravidel (která nalezneme v nápovědě). Můžeme mu tedy opět zadat výraz a nezávisle proměnnou a nechat maplet zobrazit celé řešení krok za krokem kliknutím na tlačítko **All Steps**. Výsledek tohoto postupu můžeme vidět na obrázku 2.39. V mapletu si také můžeme zobrazit pouze následující krok výpočtu (**Next Step**), pokusit se použít některé z implementovaných pravidel nebo požádat o nápovědu (**Get Hint**), které pravidlo použít.

Příklad 2.34: Určete:

- (a) $\frac{d}{dx}(f(x) \cdot g(x))$, (c) $\frac{d}{dx}(a \cdot x^3 + b \cdot x^2 + c \cdot x + d)$,
 (b) $\frac{d}{dx}(f(g(x)))$, (d) $\frac{d}{dx}\left(\frac{(x-1)^3}{x^2-1}\right)$.

Příklad 2.35: Uvedte příklad spojitě funkce na intervalu J , která na tomto intervalu není diferencovatelná (tj. nemá v alespoň jednom bodě derivaci). Dokážete uvést příklad funkce spojitě na intervalu J , která na tomto intervalu nemá derivaci právě ve dvou bodech?

Poznámka 2.4: Geometrickou interpretací derivace funkce $f(x)$ v bodě x_0 je směrnice tečny k funkci $f(x)$ v tomto bodě. Jestliže tedy $y = k \cdot x + q$ je rovnicí tečny v bodě x_0 , pak $k = f'(x_0)$.

Příklad 2.36: Určete rovnici tečny k funkci $f(x) = x^2$ v bodě $x_0 = 1$. Vykreslete do jednoho grafu funkci $f(x)$ i tuto tečnu.

Příklad 2.37: Najděte bod x_0 tak, aby tečna k funkci $f(x) = x^3$ v tomto bodě byla rovnoběžná s přímkou $y = 12 \cdot x - 5$. Vykreslete do jednoho grafu funkci $f(x)$, nalezenou tečnu a zadanou přímku.

Příklad 2.38: Najděte bod x_0 tak, aby tečna k funkci $f(x) = x^3$ v tomto bodě byla kolmá na přímkou $y = -\frac{1}{3} \cdot x - 5$. Vykreslete do jednoho grafu funkci $f(x)$, nalezenou tečnu a zadanou přímku.

2.5.1 Diferenciál

Definice 2.15: Řekneme, že funkce f je diferencovatelná v bodě x_0 , jestliže je v něm definovaná a jestliže existuje $A \in \mathbb{R}$ tak, že $\lim_{h \rightarrow 0} \frac{f(x_0+h) - f(x_0) - A \cdot h}{h} = 0$. Funkce $A \cdot h$ ($h \in \mathbb{R}$) se nazývá *diferenciálem* funkce f v bodě x_0 a značí se $df(x_0)(h)$.

Poznámka 2.5: Jak již bylo zmíněno v příkladu 2.35, „diferencovatelná funkce“ je totéž co „funkce mající derivaci“.

Diferenciál je možné použít k určení přibližné hodnoty funkce v okolí bodu se známou funkční hodnotou. V systému Maple se tato „výhoda“ smazává, jelikož samotný Maple nám okamžitě vypíše přibližnou funkční hodnotu s „libovolnou“ přesností. Přesto je možné si na příkladech význam pojmu ověřit a využít Maple alespoň k dílčím výpočtům.

Příklad 2.39: Určete přibližně: $\arctan(1.01)$.

Řešení: Vyjdeme z definice 2.15. Ta nám říká, že $f(x_0 + h) \approx f(x_0) + df(x_0) \cdot h$. V našem případě $x_0 = 1$ a $h = 0.01$. Řešení získané v Maple je znázorněno na obrázku 2.40.

<p>Derivace zadané funkce: $\frac{\partial}{\partial x} \arctan(x) = \frac{1}{1+x^2}$</p> <p>S přesností na 10 míst pomocí Maple: $\arctan(1.01) = 0.7903732467$</p> <p>Přibližně pomocí diferenciálu: $\arctan(1.01) \approx \arctan(1) + \frac{1}{1+1^2} \cdot 0.01 = \arctan(1.0) + \frac{1}{200} = 0.7903981634$</p>

Obrázek 2.40: Řešení příkladu 2.39.

Příklad 2.40: Určete přibližně: $\sqrt{51}$.

Příklad 2.41: Určete přibližně: $\sqrt[3]{123}$.

Příklad 2.42: Určete přibližně: 2.95^4 .

2.5.2 Taylorův polynom

Definice 2.16: Nechť $n \in \mathbb{N} \cup \{0\}$ a f je funkce mající v bodě $x_0 \in \mathbb{R}$ derivace až do řádu n . Polynom

$$T_n^f(x) = f(x_0) + \frac{f'(x_0)}{1!} \cdot (x - x_0) + \frac{f''(x_0)}{2!} \cdot (x - x_0)^2 + \dots + \frac{f^{(n)}(x_0)}{n!} \cdot (x - x_0)^n, x \in \mathbb{R},$$

se nazývá *Taylorův polynom* stupně n funkce f v bodě x_0 . Funkci

$$R_n^f(x) = T_n^f(x) - f(x)$$

říkáme *Taylorův zbytek* a celý výraz

$$T_n^f(x) + R_n^f(x)$$

nazýváme *Taylorovým vzorcem*.

Poznámka 2.6: Jak jsme si mohli všimnout, aproximace funkční hodnoty pomocí diferenciálu je vlastně speciální případ Taylorova polynomu pro $n = 1$. Taylorův polynom také můžeme využít k aproximaci funkční hodnoty v okolí bodu se známou funkční hodnotou. Aproximace je tím přesnější, čím vyšší je n . Díky následující poznámce můžeme zjistit, jak vysoké musí být n , abychom docílili požadované přesnosti aproximace.

Poznámka 2.7: Nechť jsou splněny předpoklady definice 2.16. Pak existuje číslo $\Theta \in (0, 1)$ tak, že

$$R_n^f(x) = \frac{f^{(n+1)}(x_0 + \Theta \cdot (x - x_0))}{(n+1)!} \cdot (x - x_0)^{n+1}.$$

Poznámka 2.8: Když položíme v Taylorově vzorci $x_0 = 0$, všechny výrazy se nám zjednoduší. V takovém případě také někdy mluvíme o *Maclaurinově vzorci*. Pro *Maclaurinův zbytek* pak platí:

$$R_n^f(x) = \frac{f^{(n+1)}(\Theta \cdot x)}{(n+1)!} \cdot x^{n+1}.$$

Systém Maple obsahuje příkaz `taylor` vypisující Taylorův vzorec příslušný zadané funkci v prvním parametru příkazu. Druhým povinným parametrem je bod, v němž se vzorec realizuje. Standardně je vzorec vypisován pro $n = 5$, což je o jedna nižší hodnota než základní nastavení systémové proměnné `Order`. Tato proměnná představuje řád Taylorova zbytku, tedy číslo $n+1$. Počet členů Taylorova vzorce tak můžeme ovlivnit přenastavením proměnné `Order` nebo zapsáním této hodnoty na místo třetího (nepovinného) parametru příkazu `taylor`⁶.

Někdy se nám může hodit pracovat pouze s Taylorovým polynomem (tedy bez Taylorova zbytku). K tomu je potřeba použít příkaz `convert`, kterému zadáme jako první parametr Taylorův vzorec (získaný příkazem `taylor`) a na místo druhého parametru zapíšeme slovo `polynom` (čímž se „zbavíme“ vyjádření Taylorova zbytku pomocí funkce O).

```
taylor(sin(x), x=x0) =
sin(x0) + cos(x0) (x - x0) - 1/2 sin(x0) (x - x0)^2 - 1/6 cos(x0) (x - x0)^3 + 1/24 sin(x0) (x - x0)^4 + 1/120 cos(x0) (x - x0)^5
+ O((x - x0)^6)

taylor(sin(x), x=0) = x - 1/6 x^3 + 1/120 x^5 + O(x^6)

taylor(e^x, x=0, 10) = 1 + x + 1/2 x^2 + 1/6 x^3 + 1/24 x^4 + 1/120 x^5 + 1/720 x^6 + 1/5040 x^7 + 1/40320 x^8 + 1/362880 x^9 + O(x^10)

convert(%, polynom) = 1 + x + 1/2 x^2 + 1/6 x^3 + 1/24 x^4 + 1/120 x^5 + 1/720 x^6 + 1/5040 x^7 + 1/40320 x^8 + 1/362880 x^9
```

Obrázek 2.41: Ukázka použití příkazu `taylor`.

Příklad 2.43: Najděte Maclaurinův polynom funkce $\tan(x)$ pátého stupně.

Příklad 2.44: Vytvořte Taylorův polynom pro funkci x^x čtvrtého stupně v bodě 1.

Příklad 2.45: Pomocí Taylorova polynomu vyjádřete funkci $f(x) = x^5 + x^4 + x^3 + x^2 + x + 1$ jako polynom v proměnné $x - 2$.

Jak jsme se zmínili v poznámce 2.6, Taylorův polynom můžeme využít k nalezení přibližné funkční hodnoty. Díky poznámkám 2.7 a 2.8 máme navíc nástroj, jak určit tuto hodnotu se zadanou přesností. Podobně jako v případě použití diferenciálu platí i zde, že (podstatně) jednodušším způsobem získáme dokonce přesnější hodnotu pouhým použitím systému Maple. Přesto může Maple sloužit jako pomocník při výpočtu a současně díky němu můžeme ověřit, zda byla splněna požadovaná přesnost výpočtu.

⁶V tomto případě nedojde ke změně hodnoty uložené v proměnné `Order`, ovlivněn bude pouze příslušný výpis příkazu `taylor`.

Příklad 2.46: Určete hodnotu Eulerova čísla e s chybou menší než 10^{-3} .

Řešení: Chceme zjistit hodnotu čísla e , vezmeme si proto na pomoc funkci $f(x) = e^x$ a budeme hledat funkční hodnotu $f(1)$. Funkci musíme aproximovat v nějakém jiném bodě než je bod 1 (neboť pro ten bychom dostali přesnou hodnotu e a v ničem by nám to nepomohlo), současně ale ne příliš daleko od tohoto bodu (čím dále od tohoto bodu bychom hledali aproximaci, tím nepřesnější bude výsledek). Abychom si situaci co nejvíce zjednodušili, vezmeme bod 0 (který je „blízko“ bodu 1), pro nějž máme tvar Taylorova (resp. Maclaurinova) zbytku určený poznámkou 2.8.

Máme tedy funkci $f(x) = e^x$ a víme, že pro příslušný Maclaurinův zbytek platí:

$$R_n^{e^x}(x) = \frac{e^{\Theta \cdot x}}{(n+1)!} \cdot x^{n+1},$$

kde $\Theta \in (0, 1)$. Nás bude zajímat funkční hodnota v bodě 1, tj. pro $x = 1$ dostáváme:

$$R_n^{e^x}(1) = \frac{e^{\Theta}}{(n+1)!}.$$

V zadání je požadována přesnost 10^{-3} . Má tedy platit:

$$|R_n^{e^x}(1)| < 10^{-3}.$$

Dosažením získáme:

$$\left| \frac{e^{\Theta}}{(n+1)!} \right| = \frac{e^{\Theta}}{(n+1)!} < 10^{-3}.$$

Nyní je třeba si uvědomit, že $e^{\Theta} < 3$, jelikož $\Theta \in (0, 1)$. Můžeme proto psát, že platí:

$$\frac{e^{\Theta}}{(n+1)!} < \frac{e^3}{(n+1)!}.$$

Když nyní najdeme n takové, že

$$\frac{e^3}{(n+1)!} < 10^{-3},$$

pak bude jistě platit:

$$\frac{e^{\Theta}}{(n+1)!} < 10^{-3}.$$

Získané n představuje stupeň Maclaurinova polynomu, takže už zbývá pouze popsany postup aplikovat v systému Maple – obrázek 2.42.

Příklad 2.47: S chybou menší než 10^{-3} určete hodnotu čísla:

(a) $\frac{1}{e}$,

(b) $\sqrt[5]{250}$.

2.6 Vyšetření průběhu funkce

Než začneme s vyšetřováním průběhu funkce na příkladech, připomeňme si základní důležité pojmy a jejich vlastnosti.

Hledáme tedy n splňující nerovnost:

$$\frac{3}{(n+1)!} < 10^{-3}$$

Což je to samé jako:

$$(n+1)! > 3 \cdot 10^3 = 3000$$

Maple takovou nerovnost vyřešit neumí, ale případně metodou "pokus-omyl" zjistíme, že:

$$(n+1)! > 3000 \rightarrow n \geq 6$$

Maclaurinův vzorec:

$$\text{taylor}(e^x, x=0, 7)$$

$$1 + x + \frac{1}{2}x^2 + \frac{1}{6}x^3 + \frac{1}{24}x^4 + \frac{1}{120}x^5 + \frac{1}{720}x^6 + O(x^7)$$

Maclaurinův polynom:

$$\text{app} := \text{convert}(\%, \text{polynom})$$

$$1 + x + \frac{1}{2}x^2 + \frac{1}{6}x^3 + \frac{1}{24}x^4 + \frac{1}{120}x^5 + \frac{1}{720}x^6$$

Vytvoření funkce ze získaného výrazu:

$$\text{aprox} := \text{unapply}(\text{app}, x)$$

$$x \rightarrow 1 + x + \frac{1}{2}x^2 + \frac{1}{6}x^3 + \frac{1}{24}x^4 + \frac{1}{120}x^5 + \frac{1}{720}x^6$$

Aproximace Maclaurinovým polynomem:

$$\text{evalf}(\text{aprox}(1)) = 2.718055556$$

Přibližná hodnota v Maple:

$$\text{evalf}(e^1) = 2.718281828$$

Chyba aproximace:

$$\text{chyba} := |\text{evalf}(\text{aprox}(1)) - \text{evalf}(e^1)| = 0.000226272$$

Obrázek 2.42: Řešení příkladu 2.46.

Poznámka 2.9: Nechť $f(x)$ je funkce. Pokud $f'(x) > 0$ pro všechna $x \in J$, pak je $f(x)$ na intervalu J rostoucí. Pokud $f'(x) < 0$ pro všechna $x \in J$, pak je $f(x)$ na intervalu J klesající.

Definice 2.17: Řekneme, že funkce $f(x)$ má v bodě $x_0 \in \mathbb{R}$ lokální minimum, jestliže existuje $\delta \in \mathbb{R}$, $\delta > 0$ tak, že $f(x) \geq f(x_0)$ pro všechna $x \in (x_0 - \delta, x_0 + \delta)$. Analogicky definujeme lokální maximum funkce. Lokální minima a maxima se souhrnně nazývají lokální extrém.

Poznámka 2.10: Nechť $f(x)$ je spojitá v bodě x_0 . Jestliže existuje $\delta \in \mathbb{R}$, $\delta > 0$ tak, že $f(x)$ je neklesající na intervalu $(x_0 - \delta, x_0)$ a nerostoucí na intervalu $(x_0, x_0 + \delta)$, má $f(x)$ v bodě x_0 lokální maximum. Analogické tvrzení platí pro lokální minimum.

Poznámka 2.11: V předchozí poznámce jsou záměrně použity výrazy „neklesající“ a „nerostoucí“. Lokální minimum (resp. maximum) se totiž může podle definice nacházet i na in-

tervalu, kde je funkce konstantní. V tom případě se jedná o tzv. neostrý extrém. Pro případ ostrých extrémů je možné v předchozí poznámce nahradit slovo „neklesající“ za „rostoucí“ a „nerostoucí“ za „klesající“.

Poznámka 2.12: Body x_0 , v nichž $f'(x_0) = 0$, nazýváme *stacionárními body*. Tyto body a body, v nichž funkce $f(x)$ nemá derivaci, jsou „podezřelé“ z toho, že jsou lokálními extrémy funkce. Jestli se skutečně jedná o extrém, určíme buď podle definice 2.17, poznámky 2.10 nebo poznámky 2.13.

Poznámka 2.13: Nechť $f'(x_0) = 0$ a $f''(x_0) \neq 0$. Pokud $f''(x_0) < 0$, má funkce $f(x)$ v bodě x_0 lokální maximum. Pokud $f''(x_0) > 0$, má funkce $f(x)$ v bodě x_0 lokální minimum.

Definice 2.18: Nechť $f(x)$ je funkce, J interval. Říkáme, že f je konvexní na J , jestliže pro každé dva body $x_1, x_2 \in J$, $x_1 < x_2$ a každá dvě nezáporná reálná čísla a_1, a_2 taková, že $a_1 + a_2 = 1$ platí:

$$f(a_1 \cdot x_1 + a_2 \cdot x_2) \leq a_1 \cdot f(x_1) + a_2 \cdot f(x_2).$$

Pokud za týchž předpokladů platí:

$$f(a_1 \cdot x_1 + a_2 \cdot x_2) \geq a_1 \cdot f(x_1) + a_2 \cdot f(x_2),$$

říkáme, že f je konkávní na J . Pokud změním všechny neostré nerovnosti na ostré, mluvíme o *ryzí konvexitě*, resp. *ryzí konkávitě*.

Poznámka 2.14: Nechť f má na intervalu $J \subseteq D(f)$ druhou derivaci. Pokud $f''(x) \geq 0$ pro všechna $x \in J$, pak je f na J konvexní. Pokud platí ostrá nerovnost, je f na J ryze konvexní. Analogicky, pokud $f''(x) \leq 0$ pro všechna $x \in J$, pak je f na J konkávní. V případě ostré nerovnosti je ryze konkávní.

Poznámka 2.15: Body, v nichž se mění ryzí konvexita funkce na ryzí konkávitě a naopak, nazýváme *inflexními body*. Nechť tedy $x_0 \in \mathbb{R}$, $\delta \in \mathbb{R}$, $\delta > 0$. Pokud $f(x)$ je na $(x_0 - \delta, x_0)$ ryze konvexní a na $(x_0, x_0 + \delta)$ ryze konkávní (resp. naopak), nazýváme bod x_0 bodem inflexním.

Poznámka 2.16: V bodech nespojitosti x_0 funkce $f(x)$ zkoumáme, jestli v nich jsou asymptoty bez směrnice, a to ověřením, zda $\lim_{x \rightarrow x_0^-} f(x) = \pm\infty$ nebo $\lim_{x \rightarrow x_0^+} f(x) = \pm\infty$.

Dále zkoumáme, zda má funkce $f(x)$ asymptotu (asymptoty) se směrnicí, tj. zda existují $A, B \in \mathbb{R}$ tak, že $\lim_{x \rightarrow \infty} f(x) = A \cdot x + B$ nebo $\lim_{x \rightarrow -\infty} f(x) = A \cdot x + B$.

Platí, že

$$A = \lim_{x \rightarrow \infty} \frac{f(x)}{x} \quad \left(\text{resp. } A = \lim_{x \rightarrow -\infty} \frac{f(x)}{x} \right)$$

a

$$B = \lim_{x \rightarrow \infty} (f(x) - A \cdot x) \quad \left(\text{resp. } B = \lim_{x \rightarrow -\infty} (f(x) - A \cdot x) \right).$$

Při vyšetřování průběhu zadané funkce $f(x)$ zkoumáme vlastnosti popsané v předchozích definicích a poznámkách, spolu s některými dříve zavedenými pojmy. Aplikujeme tak následující postup:

1. Zjišťujeme $D(f)$, hledáme nulové body (tj. taková x , pro která $f(x) = 0$), průsečík s osou y (tj. $f(0)$), určujeme, kdy je funkce kladná, záporná, a hledáme body nespojitosti funkce f .
2. Vyšetřujeme funkci $f'(x)$. Hledáme $D(f')$, nulové body a intervaly, kde je funkce $f'(x)$ kladná (tj. $f(x)$ je rostoucí) a kde záporná (tj. $f(x)$ je klesající).
3. Vyšetřujeme funkci $f''(x)$. Hledáme nulové body a intervaly, kde je funkce $f''(x)$ kladná (tj. $f(x)$ je konvexní) a kde záporná (tj. $f(x)$ je konkávní). Ověřujeme, zda je některý z dříve nalezených stacionárních bodů lokálním extrémem funkce $f(x)$.
4. Hledáme asymptoty funkce f , a to asymptoty bez směrnice a asymptoty se směrnicí.
5. Vykreslujeme graf funkce $f(x)$.

Příklad 2.48: Vyšetřete průběh funkce $f(x) = x \cdot e^{\frac{1}{x}}$.

Řešení:

Budeme procházet právě uvedený postup, přičemž budeme využívat možností Maple 14.

1. Definiční obor funkce vidíme na první pohled z jejího předpisu. Funkce není definovaná pouze v bodě nula, tedy $D(f) = \mathbb{R} \setminus \{0\}$. K nalezení nulových bodů a intervalů, kde je funkce kladná, resp. záporná, využijeme příkaz `solve`⁷. V tomto případě však příkaz žádné řešení nenajde. Musíme jej proto určit „sami“. Výraz $e^{\frac{1}{x}}$ je pro libovolná x kladný, z čehož plyne, že $f(x) > 0$ pro $x > 0$ a $f(x) < 0$ pro $x < 0$. Pro nalezení nespojitostí použijeme příkaz `discont`.

$f(x) := x \cdot e^{\frac{1}{x}} :$ <p>Nulové body: <code>solve(f(x) = 0, x)</code></p> <p>Průsečík s osou y : Není. Funkce $f(x)$ není definovaná v bodě 0.</p>	<p>Znaménka:</p> <p><code>solve(f(x) < 0)</code> Warning, solutions may have been lost</p> <p><code>solve(f(x) > 0)</code> Warning, solutions may have been lost</p> <p>Body nespojitosti:</p> $\text{discont}\left(x \cdot e^{\frac{1}{x}}, x\right) = \{0\}$
---	--

Obrázek 2.43: Řešení příkladu 2.48 – bod 1.

2. Vypočteme $f'(x)$. Definiční obor první derivace je stejný jako u původní funkce, tedy $D(f') = \mathbb{R} \setminus \{0\}$. Dále použijeme příkaz `solve`. Nyní již dostáváme všechny požadované výsledky od Maple. Pro nalezení stacionárních bodů je možné též použít příkaz `extrema` vypisující funkční hodnoty ve stacionárních bodech. Prvním parametrem příkazu je výraz, jehož stacionární body hledáme, druhým parametrem je množina omezujících podmínek (když žádné nejsou, uvedeme prázdné složené závorky). Dalším parametrem je nezávisle proměnná zadané funkce a posledním čtvrtým parametrem je název proměnné (v apostrofech), do níž se uloží stacionární body – viz obrázek 2.44.

⁷Upozorníme, že příkaz `solve` má jednu „nepříjemnou“ vlastnost: v případech, kdy nenalezne žádné řešení, na výstup nic nevypíše a přejde na další řádek.

$der1 := \frac{d}{dx}f(x)$ $e^{\frac{1}{x}} - \frac{1}{x}$ <p>Nulové body:</p> $solve(der1 = 0, x)$ <p style="text-align: right;">1</p>	<p>První derivace je kladná (tj. funkce f je rostoucí):</p> $solve(der1 > 0, x)$ $RealRange(-\infty, Open(0)), RealRange(Open(1), \infty)$ <p>První derivace je záporná (tj. funkce f je klesající):</p> $solve(der1 < 0, x)$ $RealRange(Open(0), Open(1))$ <p>Extrémy:</p> $extrema(f(x), \{ \}, x, 'bod')$ <p style="text-align: right;">{e}</p> <p>bod</p> <p style="text-align: right;">{{x=1}}</p>
--	---

Obrázek 2.44: Řešení příkladu 2.48 – bod 2.

3. Vypočteme $f''(x)$ a do třetice použijeme příkaz `solve`, který podobně jako poprvé nezvládne vypočítat zkoumané nerovnosti. Jelikož je výraz $e^{\frac{1}{x}}$ vždy kladný, můžeme nerovnosti zjednodušit a hledat pouze znaménka výrazu x^3 . Vyhodnocením druhé derivace ve stacionárním bodě $x = 1$ zjistíme, že se jedná o lokální minimum.

$der2 := \frac{d^2}{dx^2}f(x)$ $\frac{1}{e^{\frac{1}{x^3}}}$ <p>Nulové body:</p> $solve(der2 = 0, x)$	<p>Druhá derivace je kladná (tj. funkce f je konvexní):</p> $solve(der2 > 0, x)$ <p><u>Warning, solutions may have been lost</u></p> $solve(x^3 > 0, x)$ $RealRange(Open(0), \infty)$ <p>Druhá derivace je záporná (tj. funkce f je konkávní):</p> $solve(der2 < 0, x)$ <p><u>Warning, solutions may have been lost</u></p> $solve(x^3 < 0, x)$ $RealRange(-\infty, Open(0))$ <p>Extrémy:</p> $eval(der2, x = 1)$ <p style="text-align: right;">e</p>
--	--

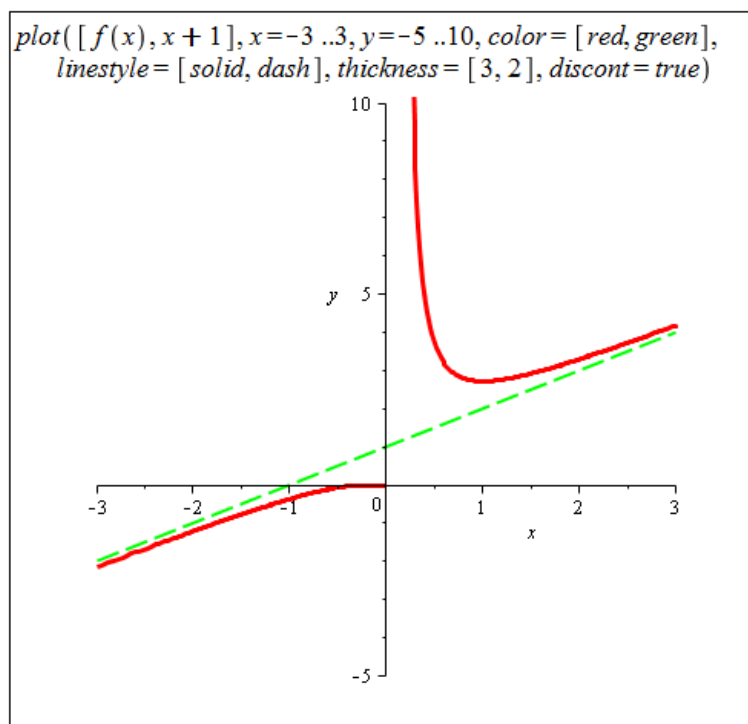
Obrázek 2.45: Řešení příkladu 2.48 – bod 3.

4. Počítáme dříve uvedené limity a zjišťujeme, že zadaná funkce má asymptotu se směrnicí tvaru $y = x + 1$ a asymptotu bez směrnice v bodě $x = 0$ (obrázek 2.46).

Se směrnicí:	Bez směrnic:
Předpokládáme, že směrnice má rovnici $y = A \cdot x + B$.	Očekávat ji můžeme pouze v bodě nespojitosti. Její obecný tvar je $x = K, K \in \mathbb{R}$.
$A_1 := \lim_{x \rightarrow \infty} \frac{f(x)}{x}$ 1	$\lim_{x \rightarrow 0^+} f(x) = \infty$
$A_2 := \lim_{x \rightarrow -\infty} \frac{f(x)}{x}$ 1	$\lim_{x \rightarrow 0^-} f(x) = 0$
$B_1 := \lim_{x \rightarrow \infty} (f(x) - A_1 \cdot x)$ 1	
$B_2 := \lim_{x \rightarrow -\infty} (f(x) - A_2 \cdot x)$ 1	
Asymptota se směrnicí bude jedna (tj. bude stejná pro $x \rightarrow \infty$ a pro $x \rightarrow -\infty$). Bude mít tvar $y = x + 1$.	

Obrázek 2.46: Řešení příkladu 2.48 – bod 4.

5. Vykreslíme graf funkce $f(x)$. Použijeme k tomu příkaz `plot`, jemuž nastavíme několik nepovinných parametrů pro lepší vzhled. Do grafu vykreslíme zadanou funkci f (červeně) a asymptotu se směrnicí $y = x + 1$ (zeleně čárkovaně). Parametr `discont` nastavíme na `true`, aby byla správně zobrazena nespojitost funkce f .



Obrázek 2.47: Řešení příkladu 2.48 – bod 5.

Příklad 2.49: Vyšetřete průběh funkce $f(x) = \frac{x}{x^2+1}$.

Řešení:

1. Definiční obor funkce f je celá množina reálných čísel, tj. $D(f) = \mathbb{R}$. K nalezení nulových bodů a intervalů, kde je funkce kladná, resp. záporná, využijeme klasicky příkaz `solve`. Pro nalezení nespojitostí použijeme opět příkaz `discont`.

$f(x) := \frac{x}{x^2 + 1} :$ <p>Nulové body: $\text{solve}(f(x) = 0, x)$ 0</p> <p>Průsečík s osou y : $f(0)$ 0</p>	<p>Znaménka:</p> $\text{solve}(f(x) < 0)$ $\text{RealRange}(-\infty, \text{Open}(0))$ $\text{solve}(f(x) > 0)$ $\text{RealRange}(\text{Open}(0), \infty)$ <p>Body nespojitosti: $\text{discont}(f(x), x) = \{ \}$</p>
---	---

Obrázek 2.48: Řešení příkladu 2.49 – bod 1.

2. Postupujeme zcela analogicky předchozímu příkladu. $D(f') = \mathbb{R}$

$\text{der1} := \frac{d}{dx}f(x)$ $\frac{1}{x^2 + 1} - \frac{2x^2}{(x^2 + 1)^2}$ <p>Nulové body: $\text{solve}(\text{der1} = 0, x)$ $-1, 1$</p>	<p>První derivace je kladná (tj. funkce f je rostoucí): $\text{solve}(\text{der1} > 0, x)$ $\text{RealRange}(\text{Open}(-1), \text{Open}(1))$</p> <p>První derivace je záporná (tj. funkce f je klesající): $\text{solve}(\text{der1} < 0, x)$ $\text{RealRange}(-\infty, \text{Open}(-1)), \text{RealRange}(\text{Open}(1), \infty)$</p> <p>Extrémy: $\text{extrema}(f(x), \{ \}, x, \text{'body'})$ $\left\{ -\frac{1}{2}, \frac{1}{2} \right\}$</p> <p>$\text{body}$ $\{ \{x = -1\}, \{x = 1\} \}$</p>
--	--

Obrázek 2.49: Řešení příkladu 2.49 – bod 2.

3. Opět postupujeme stejně jako v příkladu 2.48. Tentokrát však získáváme nulové body druhé derivace zadané funkce. Jak vidíme z intervalů konvexity a konkávnosti, všechny tři získané body jsou body inflexní. Stacionární body jsou dva, bod $x = 1$ je lokálním maximem funkce f a bod $x = -1$ jejím lokálním minimem.

$der2 := \frac{d^2}{dx^2}f(x)$ $-\frac{6x}{(x^2+1)^2} + \frac{8x^3}{(x^2+1)^3}$ <p>Nulové body:</p> $solve(der2=0, x)$ $0, \sqrt{3}, -\sqrt{3}$	<p>Druhá derivace je kladná (tj. funkce f je konvexní):</p> $solve(der2 > 0, x)$ $RealRange(Open(-\sqrt{3}), Open(0)), RealRange(Open(\sqrt{3}), \infty)$ <p>Druhá derivace je záporná (tj. funkce f je konkávní):</p> $solve(der2 < 0, x)$ $RealRange(-\infty, Open(-\sqrt{3})), RealRange(Open(0), Open(\sqrt{3}))$ <p>Extrémy:</p> $eval(der2, x=1)$ $-\frac{1}{2}$ $eval(der2, x=-1)$ $\frac{1}{2}$
--	--

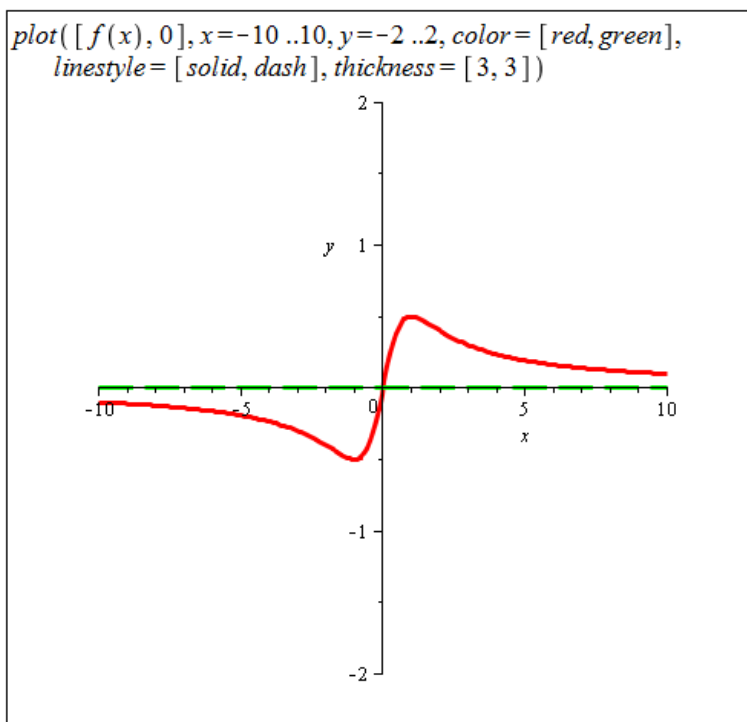
Obrázek 2.50: Řešení příkladu 2.49 – bod 3.

4. Určíme asymptoty se směrnicí a bez směrnice.

<p>Se směrnicí:</p> <p>Předpokládáme, že směrnice má rovnici $y = A \cdot x + B$.</p> $A_1 := \lim_{x \rightarrow \infty} \frac{f(x)}{x}$ 0 $A_2 := \lim_{x \rightarrow -\infty} \frac{f(x)}{x}$ 0 $B_1 := \lim_{x \rightarrow \infty} (f(x) - A_1 \cdot x)$ 0 $B_2 := \lim_{x \rightarrow -\infty} (f(x) - A_2 \cdot x)$ 0 <p>Asymptota se směrnicí bude jedna (tj. bude stejná pro $x \rightarrow \infty$ a pro $x \rightarrow -\infty$). Bude mít tvar $y = 0$.</p>	<p>Bez směrnice:</p> <p>Funkce je spojitá na celé množině \mathbb{R}, a nemá tak asymptotu bez směrnice.</p>
---	--

Obrázek 2.51: Řešení příkladu 2.49 – bod 4.

5. Vykreslíme graf funkce $f(x)$.



Obrázek 2.52: Řešení příkladu 2.49 – bod 5.

Příklad 2.50: Vyšetřete průběh funkce:

(a) $f(x) = (x^2 - 1)^3$,

(d) $f(x) = \sin(x) + x$,

(b) $f(x) = \frac{x}{\sqrt[3]{x^2-1}}$,

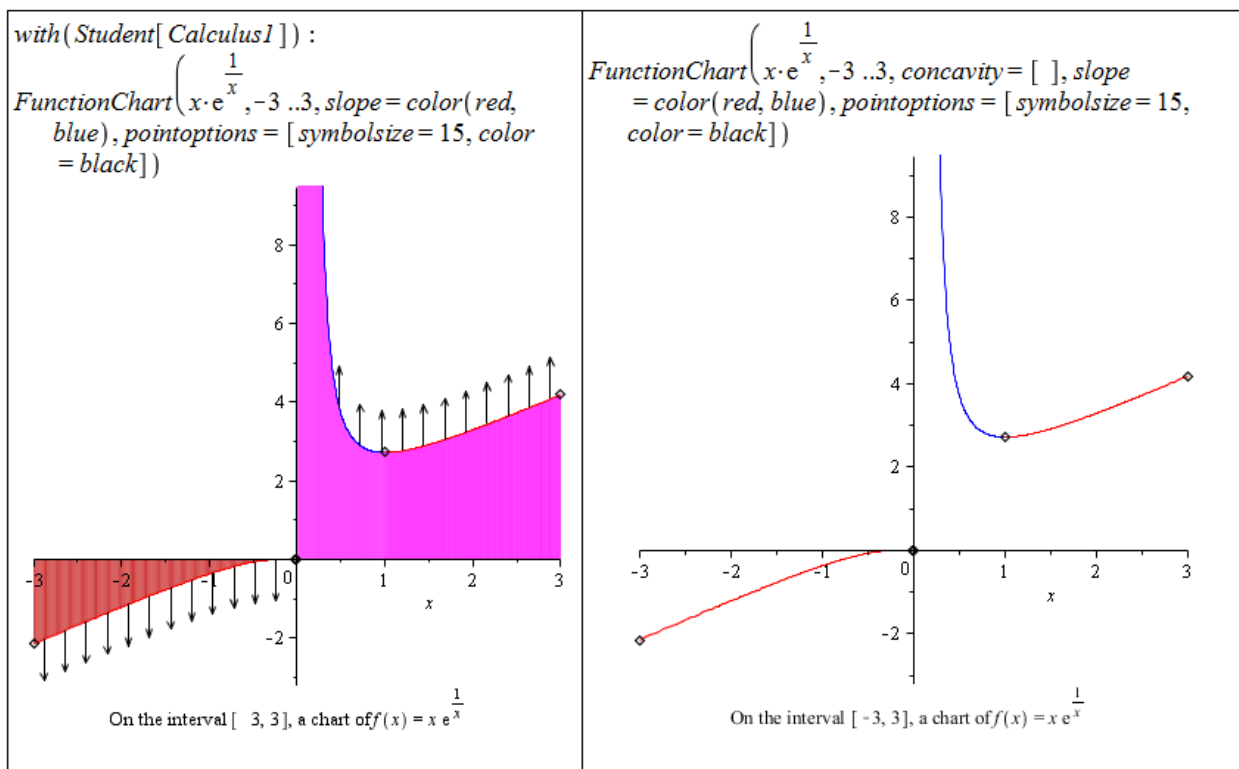
(e) $f(x) = \begin{cases} x^2 \cdot \ln|x| & \dots x \neq 0 \\ 0 & \dots x = 0. \end{cases}$

(c) $f(x) = \frac{(x-1)^3}{x^2}$,

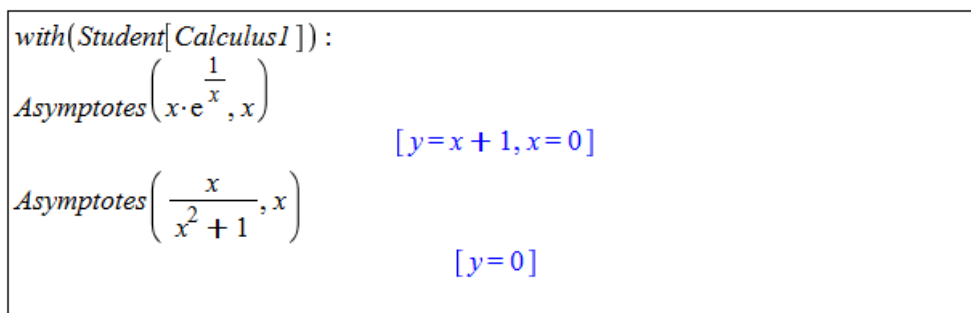
Při vyšetřování průběhu funkce nám mohou dále pomoci některé příkazy nacházející se v balíku `Student [Calculus1]`. Představme si alespoň několik z nich. Příkaz `FunctionChart` zobrazí graf funkce (zadané jako výraz) s vyznačením významných bodů a funkčních vlastností. Na obrázku 2.53 je zobrazen graf funkce $f(x)$ z příkladu 2.48. Jsou v něm znázorněny extrémní a limitní body, monotonie funkce a konvexita s konkávitou. Pokud chceme zanést do grafu méně informací (pro větší přehlednost), můžeme například vypnout zobrazování konvexity a konkávitou nastavením `concavity = []`.

Díky dalšímu příkazu, `Asymptotes`, získáme asymptoty funkce (zadané systému jako výraz) se směrnici i bez směrnice. Použití na funkcích z příkladů 2.48 a 2.49 ilustruje obrázek 2.54.

Do balíku `Student [Calculus1]` dále náleží příkazy `CriticalPoints` pro hledání stacionárních bodů, `ExtremePoints` pro hledání extrémů, `InflectionPoints` pro hledání inflexních bodů, `Roots` pro hledání kořenů a další. Více v nápovědě k balíku `Student [Calculus1]`.



Obrázek 2.53: Použití příkazu FunctionChart z balíku Student[Calculus1].



Obrázek 2.54: Použití příkazu Asymptotes z balíku Student[Calculus1].

2.7 Integrál funkce

2.7.1 Neurčitý integrál

Definice 2.19: Řekneme, že funkce $F(x)$ je na intervalu I *primitivní funkcí* k $f(x)$, jestliže pro všechna $x \in I$ platí $F'(x) = f(x)$.

Poznámka 2.17: Ke každé funkci $f(x)$ spojitě na I existuje na intervalu I nekonečně mnoho primitivních funkcí lišících se o tzv. *integrační konstantu*.

Definice 2.20: Množinu všech primitivních funkcí k funkci $f(x)$ nazýváme *neurčitý integrál* a značíme

$$\int f(x) dx.$$

Poznámka 2.18: Nechť $F(x)$ je primitivní k funkci $f(x)$. Pak platí:

$$\int f(x) dx = F(x) + C,$$

kde $C \in \mathbb{R}$ je integrační konstanta.

V systému Maple máme opět několik možností, jak spočítat integrál ze zadané funkce, přesněji řečeno, jak k této funkci určit funkci primitivní. Systém Maple totiž k výsledkům nepřidává integrační konstantu (resp. ji pokládá standardně rovnu 0), což musíme mít stále na paměti.

Při výpočtu můžeme využít symbol pro integrování z palety **Expression**, příkaz `int`, jehož parametry jsou výraz, který chceme integrovat, a proměnná podle níž integrujeme. Nakonec můžeme zapsat výraz do dokumentu, kliknout na něj pravým tlačítkem myši a z kontextové nabídky zvolit **Integrate** a následně proměnnou, podle níž chceme integrovat (viz obrázek 2.55).

$\int x^n dx$	$\frac{x^{n+1}}{n+1}$
<code>int(x^n, x)</code>	$\frac{x^{n+1}}{n+1}$
$x^n \xrightarrow{\text{integrate w.r.t. } x}$	$\frac{x^{n+1}}{n+1}$

Obrázek 2.55: Výpočet primitivní funkce.

K výpočtu integrálů se nejčastěji používají 2 základní metody - *metoda per partes* a *substituční metoda*.

Poznámka 2.19: Metoda per partes vychází z pravidla pro derivaci součinu. Její předpis pro funkce $u(x)$ a $v(x)$ (které mají na daném intervalu spojité derivace) vypadá následovně:

$$\int u(x) \cdot v'(x) dx = u(x) \cdot v(x) - \int u'(x) \cdot v(x) dx.$$

Substituční metoda poskytuje řešení pro integraci složené funkce. Jestliže $F(x)$ je primitivní funkcí k $f(x)$ a funkce $\varphi(x)$ má derivaci v každém bodě svého definičního oboru, pak platí:

$$\int f(\varphi(x)) \cdot \varphi'(x) dx = \int f(t) dt = F(t) = F(\varphi(x))$$

při substituci $t = \varphi(x)$.

2.7.2 Metoda per partes

System Maple obsahuje balík s názvem **IntegrationTools**. Pro aplikaci metody per partes slouží příkaz **Parts** mající dva parametry – integrál, který chceme určit, a funkci, jejíž derivaci chceme počítat (v poznámce 2.19 tomu odpovídá funkce $u(x)$). Pro zápis integrálu se v tomto případě používá příkaz **Int**⁸, který vytvoří integrál symbolicky a nevyhodnotí jej (narozdíl od příkazu **int**). Pro vyhodnocení symbolicky zapsaného výrazu můžeme použít příkaz **value**.

Příklad 2.51: Pomocí metody per partes určete $\int x \cdot e^x dx$.

Řešení: V systému Maple použijeme výše popsané příkazy. Při aplikaci metody per partes máme vždy více možností⁹, jak volit funkci, která se bude derivovat. Některé možnosti vedou k cíli, jiné ne, jak je vidět i na tomto řešení (obrázek 2.56). Druhá volba funkce, která se má derivovat, vedla k ještě výpočetně náročnějšímu integrálu, než byl v zadání.

Načtení balíku **IntegrationTools:**
`with(IntegrationTools)`
`[Change, CollapseNested, Combine, Expand, ExpandMultiple,`
`Flip, GetIntegrand, GetOptions, GetParts, GetRange,`
`GetVariable, Parts, Split, StripOptions]`

Chceme integrovat po částech integrál:
`Int(x·ex, x)`
$$\int x e^x dx$$

Nejprve zvolme x jako funkci, která se má derivovat:
`Parts(Int(x·ex, x), x)`
$$x e^x - \left(\int e^x dx \right)$$

Nyní zvolme funkci e^x jako funkci, která se má derivovat :
`Parts(Int(x·ex, x), ex)`
$$\frac{1}{2} x^2 e^x - \left(\int \frac{1}{2} x^2 e^x dx \right)$$

Vyhodnocení prvně získaného výsledku:
`value(%%)`
$$x e^x - e^x$$

Obrázek 2.56: Řešení příkladu 2.51.

Příklad 2.52: Pomocí metody per partes určete $\int x^2 \cdot \sin(x) dx$.

Řešení: Aplikujeme stejný postup jako v předchozím příkladu¹⁰. Přestože zvolíme vhodně funkci, která se bude derivovat, nedospějeme hned k výsledku. Metodu per partes je třeba

⁸Pozor na to, že Maple rozlišuje malá a velká písmena!

⁹Ve skutečnosti jich je nekonečně mnoho.

¹⁰Pouze nebudeme načítat balík **IntegrationTools**, neboť jsme jej načítali již dříve.

v některých případech aplikovat vícekrát, a toto je právě jeden z nich. Takže metodu per partes aplikujeme na získaný výsledek ještě jednou a získáme hledané řešení (které opět vyhodnotíme příkazem `value`).

```

i := Int(x^2 * sin(x), x)
                                ∫ x^2 sin(x) dx
Parts(i, x^2)
                                -cos(x) x^2 - (∫ (-2 x cos(x)) dx)

Metodu per partes aplikujeme ještě jednou...

Parts(%, x)
                                -cos(x) x^2 + 2 x sin(x) + ∫ (-2 sin(x)) dx

a pomocí příkazu value určíme výslednou hodnotu integrálu:

value(%)
                                -cos(x) x^2 + 2 x sin(x) + 2 cos(x)

```

Obrázek 2.57: Řešení příkladu 2.52.

2.7.3 Substituční metoda

Pro aplikaci substituční metody slouží příkaz `Change`, opět z balíku **IntegrationTools**. Příkaz má dva parametry (zcela analogicky k příkazu `Parts`) – integrál, který chceme určit, a substituci, již zamýšlíme použít.

Zavedením substituce přejdeme k jiné proměnné, v níž také obdržíme výsledek. Na závěr se proto musíme „vrátit“ k proměnné původní, což provedeme zavedením téže substituce (nazpět) pomocí příkazu `subs`. Příkaz `subs` má 2 povinné parametry – substituce, jež hodláme zavést, a výraz, v němž budou substituce aplikovány¹¹.

Příklad 2.53: Pomocí substituční metody určete $\int \sin^3(x) \cdot \cos(x) dx$.

Řešení: Postupujeme analogicky jako v předchozích příkladech. Pokud jsme při předchozí práci se systémem Maple nenačetli balík **IntegrationTools**, je třeba jej načíst. Zavedeme substituci, získáme „tabulkový“ integrál, který vyhodnotíme příkazem `value`, a další substitucí se vrátíme k původní proměnné.

Při výpočtech integrálů se uplatňují i některé další postupy jako například rozklad na parciální zlomky, pravidlo o integraci součtu funkcí, či pravidlo o integraci funkce násobené konstantou (podrobnosti najdeme též v nápovědě systému). Pro rozklad na parciální zlomky je možné použít již dříve zmíněný příkaz `convert` s parametrem `parfrac`.

¹¹Upozorněme na rozdíl mezi příkazy `Change` a `subs`. Příkaz `Change` zavede substituci proměnných v zadaném integrálu, zatímco příkaz `subs` provede substituce v zadaném výrazu.

```

Int(sin^3(x) * cos(x), x)
      
$$\int \sin(x)^3 \cos(x) dx$$


Použijeme substituční metodu:
Change(Int(sin^3(x) * cos(x), x), t = sin(x))
      
$$\int t^3 dt$$


Pomocí příkazu value určíme hodnotu získaného integrálu:

value(%)
      
$$\frac{1}{4} t^4$$


a pomocí příkazu subs se vrátíme k původní proměnné:

subs(t = sin(x), %)
      
$$\frac{1}{4} \sin(x)^4$$


```

Obrázek 2.58: Řešení příkladu 2.53.

Příklad 2.54: Pomocí vhodné metody (resp. vhodného postupu) určete následující integrály. Příkazem `int` následně ověřte správnost vašeho výpočtu.

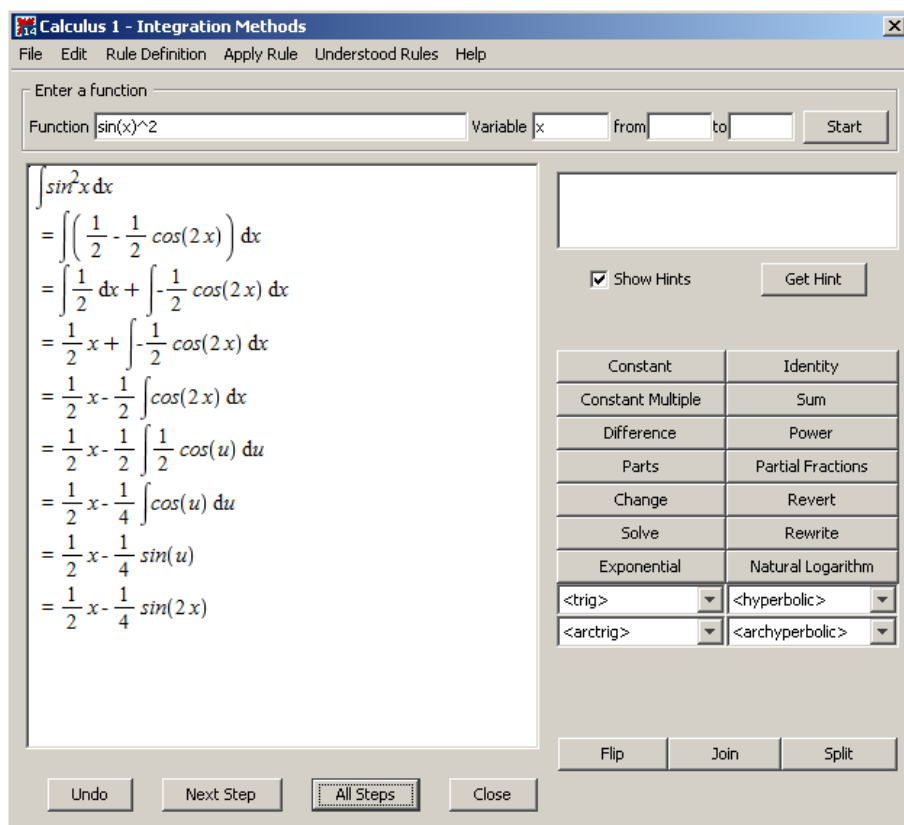
- | | |
|--|---|
| (a) $\int \frac{5x^2-3}{\sqrt{x}} dx,$ | (g) $\int \frac{1}{x \cdot \ln(x)} dx,$ |
| (b) $\int \frac{\sqrt{x^4-2+x^{-4}}}{x^3} dx,$ | (h) $\int x \cdot \sqrt{x^2+1} dx,$ |
| (c) $\int (x-1) \cdot (x-2) \cdot (x-3) dx,$ | (i) $\int x \cdot \cos^2(x) dx,$ |
| (d) $\int \frac{x}{(x-1) \cdot (x-2)^2} dx,$ | (j) $\int x \cdot \ln(x) dx,$ |
| (e) $\int \frac{1}{x^3+1} dx,$ | (k) $\int \arctan(x) dx,$ |
| (f) $\int \cos(5 \cdot x + 6) dx,$ | (l) $\int x^3 \cdot e^{x^2} dx.$ |

Již jsme se setkali s výukovými nástroji pro výpočet limit a derivací. Podobný nástroj je k dispozici i pro integrování. Spustíme jej z hlavní nabídky zvolením **Tools > Tutors > Calculus – Single Variable > Integration Methods...** Maplet nás krok po kroku provede výpočtem zadaného integrálu, nabízí tradičně nápovědu k jednotlivým krokům a pravidla, která je možno použít (viz obrázek 2.59).

2.7.4 Určitý integrál

Definice 2.21: Mějme funkci $f(x)$, která je ohraničená na uzavřeném intervalu $[a, b]$. Rozdělme interval $[a, b]$ na n podintervalů a označme toto dělení d . Délku i -tého podintervalu (pro $i = 1, 2, \dots, n$) i samotný podinterval označme stejným symbolem Δx_i . Označme dále m_i infimum $f(x)$ pro $x \in \Delta x_i$ a M_i supremum $f(x)$ na tomtéž intervalu. Nyní definujeme *dolní integrální součet* předpisem:

$$s(d) = \sum_{i=1}^n m_i \cdot \Delta x_i$$



Obrázek 2.59: Výukový nástroj pro počítání integrálů.

a horní integrální součet předpisem:

$$S(d) = \sum_{i=1}^n M_i \cdot \Delta x_i.$$

Definice 2.22: Nechť platí předpoklady a označení definice 2.21. Nyní definujeme *dolní integrál* jako supremum všech dolních integrálních součtů (pro různá dělení d), tj.:

$$\int_a^b f(x) \, dx = \sup_d s(d)$$

a horní integrál jako infimum všech horních integrálních součtů (pro různá dělení d), tj.:

$$\int_a^b f(x) \, dx = \inf_d S(d).$$

Definice 2.23: Jestliže platí:

$$\int_a^b f(x) \, dx = \int_a^b f(x) \, dx,$$

pak řekneme, že ohraničená funkce $f(x)$ je na intervalu $[a, b]$ *integrovatelná* (resp. má určitý integrál). Společnou hodnotu z předchozí rovnosti nazýváme *Riemannovým integrálem* z funkce $f(x)$ na intervalu $[a, b]$ a značíme:

$$\int_a^b f(x) dx.$$

Poznámka 2.20: (**Newtonova-Leibnizova formule**) Jestliže je funkce $f(x)$ na intervalu $[a, b]$ integrovatelná, funkce $F(x)$ na intervalu $[a, b]$ spojitá a primitivní k $f(x)$, pak platí:

$$\int_a^b f(x) dx = [F(x)]_a^b = F(b) - F(a).$$

K výpočtu určitého integrálu systém Maple nabízí předdefinovaný symbol v paletě **Expression**. Je možné použít i příkaz `int` podobně jako pro neurčitý integrál s tím rozdílem, že nyní při specifikaci proměnné, podle níž integrujeme, uvádíme i její rozsah (rozsah integrace).

$\int_1^5 x^2 dx$	$\frac{124}{3}$
<code>int(x^2, x=1..5)</code>	$\frac{124}{3}$
$\int_a^b x \cdot e^x dx$	$e^a - e^a a - e^b + e^b b$
<code>int(x * e^x, x=a..b)</code>	$e^a - e^a a - e^b + e^b b$

Obrázek 2.60: Výpočet určitého integrálu.

Je samozřejmě možné využít i Newtonovy-Leibnizovy formule, přičemž si pomůžeme příkazem `unapply` pro převod výrazu na funkci. Na tomto příkladu si můžeme všimnout, že různými postupy je možné dojít ke stejnému, ale jinak upravenému výsledku.

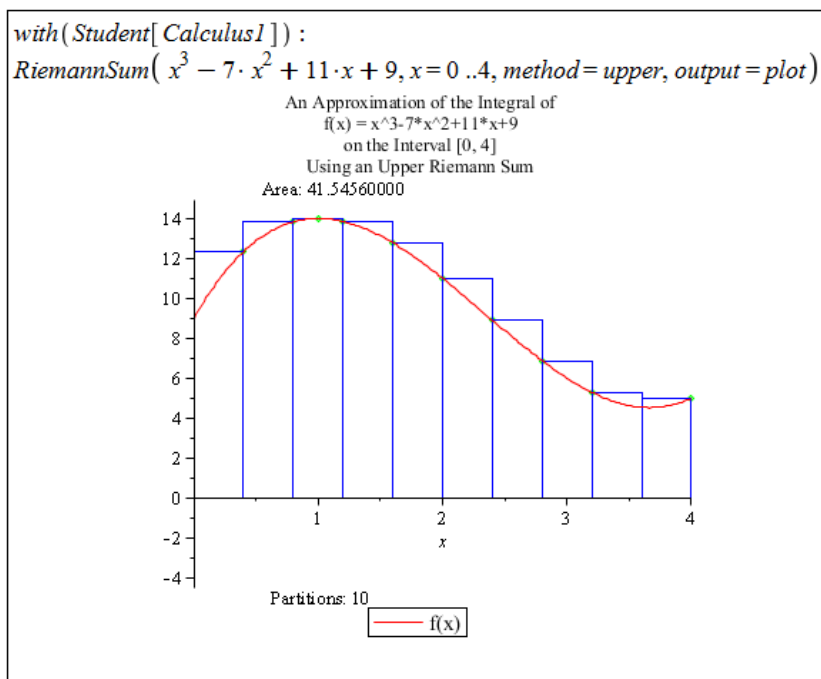
Pro geometrickou interpretaci určitého integrálu a názorné zobrazení dříve definovaných pojmů (dolní integrální součet, horní integrální součet, ...) poskytuje systém Maple příkaz `RiemannSum` z balíku `Student[Calculus1]`. Příkaz má dva povinné argumenty, a to funkci, již chceme integrovat, a interval, přes který chceme integrovat. Pokud zadáme jen tyto parametry, příkaz vypočítá integrální součet pro funkční hodnoty ve středech podintervalů vzniklých rozdělením původního intervalu a vypíše hodnotu tohoto součtu. K dispozici je však několik parametrů, které můžeme nastavit.

Prvním je parametr `method` určující, jakou metodou budou voleny funkční hodnoty v podintervalech vzniklých z rozdělení původního intervalu. Pro dolní integrální součet použijeme

$$\begin{aligned}
 F &:= \text{unapply}\left(\int x^2 dx, x\right) & x &\rightarrow \frac{1}{3}x^3 \\
 F(5) - F(1) & & & \frac{124}{3} \\
 F &:= \text{unapply}\left(\int x \cdot e^x dx, x\right) & x &\rightarrow (-1+x)e^x \\
 F(b) - F(a) & & & (-1+b)e^b - (-1+a)e^a
 \end{aligned}$$

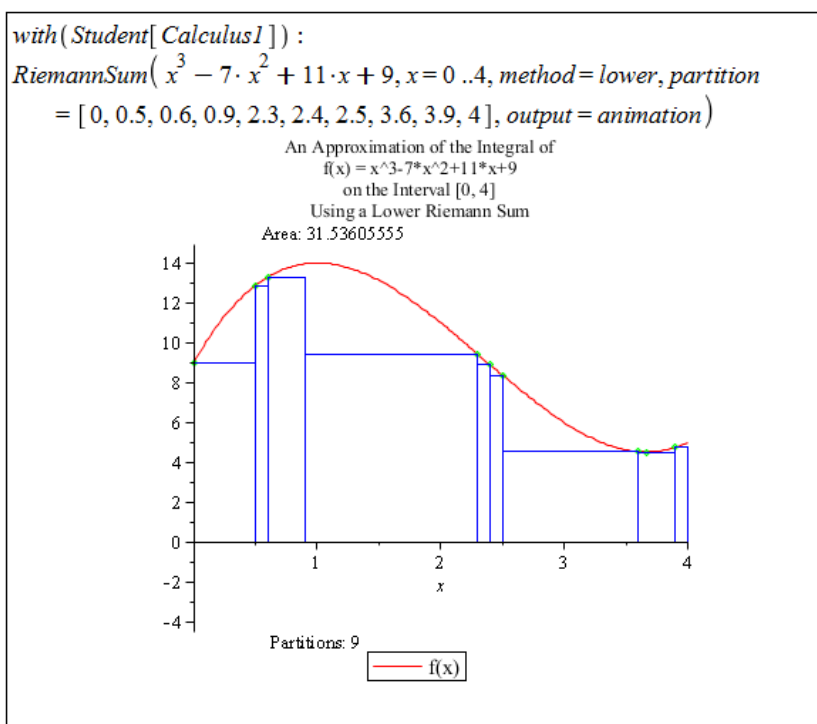
Obrázek 2.61: Výpočet určitého integrálu pomocí Newtonovy-Leibnizovy formule.

nastavení `method=lower`, pro horní integrální součet nastavení `method=upper` (základní nastavení odpovídá zápisu `method=midpoint`). Dalším parametrem je `output` (výstup). Pro nás jsou zajímavé zejména možnosti `output=plot` (zobrazí funkci v grafu i s dělením původního intervalu a základními informacemi) a `output=animation` (vytvoří animaci sestávající z grafů v případě `output=plot` pro různě jemná dělení původního intervalu)¹². Nakonec uveďme ještě parametr `partition` specifikující dělení původního intervalu. Parametru je možné přiřadit číslo (v tom případě se původní interval rozdělí na zadaný počet stejně velkých intervalů) nebo seznam bodů, v nichž se má původní interval rozdělit.



Obrázek 2.62: Geometrická interpretace určitého integrálu – vykreslení.

¹²V animaci tak můžeme sledovat, jak se pro různě jemná dělení původního intervalu mění hodnota aproximace integrálu.



Obrázek 2.63: Geometrická interpretace určitého integrálu – animace.

Pokud nechceme používat příkaz `RiemannSum`, je možné využít další z nástrojů systému Maple, který nalezneme v menu zvolením **Tools > Tutors > Calculus – Single Variable > Approximate Integration...** V tomto mapletu (obrázek 2.64) můžeme zadat funkci, interval, počet podintervalů tohoto intervalu a zvolit metodu, která bude použita k výpočtu určitého integrálu. Na výběr máme přitom i několik dalších metod kromě Riemannových součtů. Maplet také nabízí srovnání provedené aproximace integrálu a jeho skutečné hodnoty. Přesto tento nástroj postrádá některé možnosti, které nám poskytuje příkaz `RiemannSum`.

Příklad 2.55: Pomocí vhodné metody (resp. vhodného postupu) aplikované pomocí existujících příkazů určete následující integrály. Příkazem `int` následně ověřte správnost vašeho výpočtu.

$$(a) \int_0^1 \arctan(x) \, dx,$$

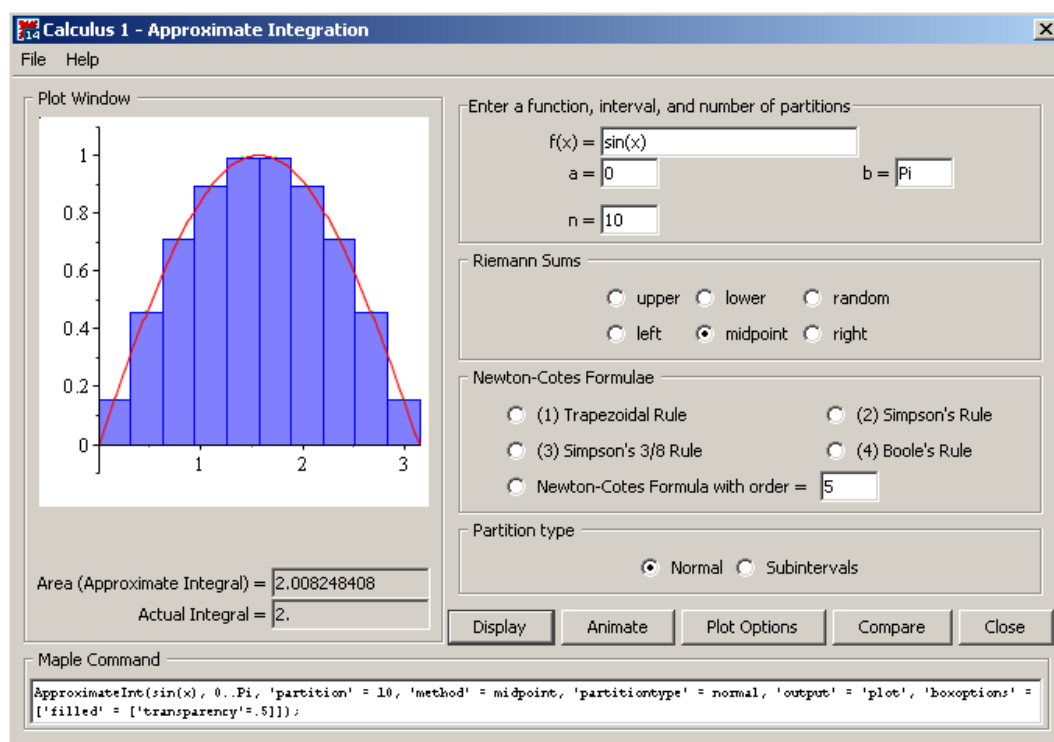
$$(d) \int_{\ln(2)}^{\ln(3)} \frac{e^x}{e^{2x}-1} \, dx,$$

$$(b) \int_1^9 \frac{1}{1+\sqrt{x}} \, dx,$$

$$(e) \int_0^{2\pi} x^2 \cdot \cos(x) \, dx,$$

$$(c) \int_0^{\frac{\pi}{4}} \sin(x) \cdot \cos^2(x) \, dx,$$

$$(f) \int_0^{\ln(2)} \sqrt{e^x - 1} \, dx.$$



Obrázek 2.64: Maplet pro přibližný výpočet určitého integrálu a jeho geometrická interpretace.

2.7.5 Aplikace určitého integrálu

Obsah plochy

Již z geometrické interpretace určitého integrálu vidíme jednu z jeho možných aplikací pro řešení praktických úloh, a tou je výpočet obsahu plochy vymezené dvěma (případně i více) křivkami.

Poznámka 2.21: Nechtě $f(x)$ je na intervalu $[a, b]$ nezáporná integrovatelná funkce. Pak pro obsah S plochy vymezené funkcí $f(x)$, osou x a přímkami $x = a$, $x = b$ platí:

$$S = \int_a^b f(x) dx.$$

Pokud je naopak funkce $f(x)$ na tomto intervalu nekladná, pak pro obsah S plochy vymezené týmiž křivkami platí:

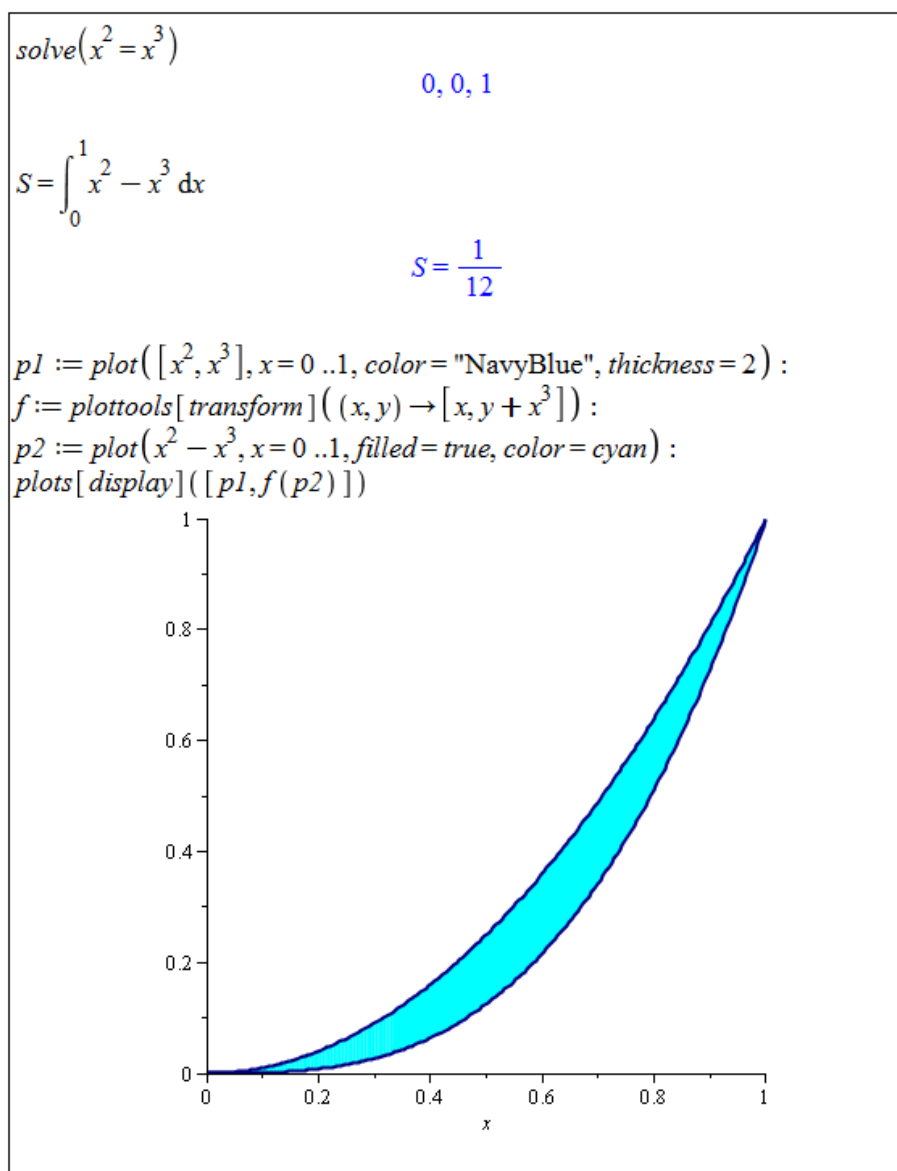
$$S = - \int_a^b f(x) dx.$$

Z předchozí poznámky můžeme odvodit i jak počítat obsah plochy v případě, kdy funkce $f(x)$ na intervalu $[a, b]$ protíná osu x (interval rozdělíme na podinterval, v nichž je funkce nezáporná, a podinterval, v nichž je nekladná). Podobně můžeme odvodit, že pro výpočet obsahu S plochy vymezené funkcemi $f(x), g(x)$ ($f(x) \geq g(x)$), a přímkami $x = a$, $x = b$ platí:

$$S = \int_a^b (f(x) - g(x)) dx.$$

Příklad 2.56: Určete obsah plochy vymezené křivkami x^2 a x^3 .

Řešení: V zadání příkladu není zmíněn interval, na kterém se plocha nachází, neboť interval určí samotné křivky x^2 a x^3 protínající se právě ve dvou bodech. Souřadnice průsečíků na ose x tvoří hledané body a a b . Průsečíky zadaných funkcí zjistíme např. příkazem `solve`. Poté stačí pouze „dosadit do vzorečku“¹³. Plochu, jejíž obsah počítáme, můžeme zobrazit též graficky. K vybarvení plochy mezi funkcemi využijeme příkaz `transform` z balíku `plottools`. Definujeme si zobrazení $x^2 - x^3$, které s pomocí příkazu `transform` vykreslujeme „vyplněně“ (*filled*) od křivky x^3 ke křivce x^2 “ (viz obrázek 2.65).



Obrázek 2.65: Řešení příkladu 2.56.

Funkce je možné zadávat též parametricky, a to například rovnicemi $x = \varphi(t)$, $y = \psi(t)$, $t \in [a, b]$.

¹³Ještě je třeba vědět, která ze zadaných funkcí je na získaném intervalu „větší“.

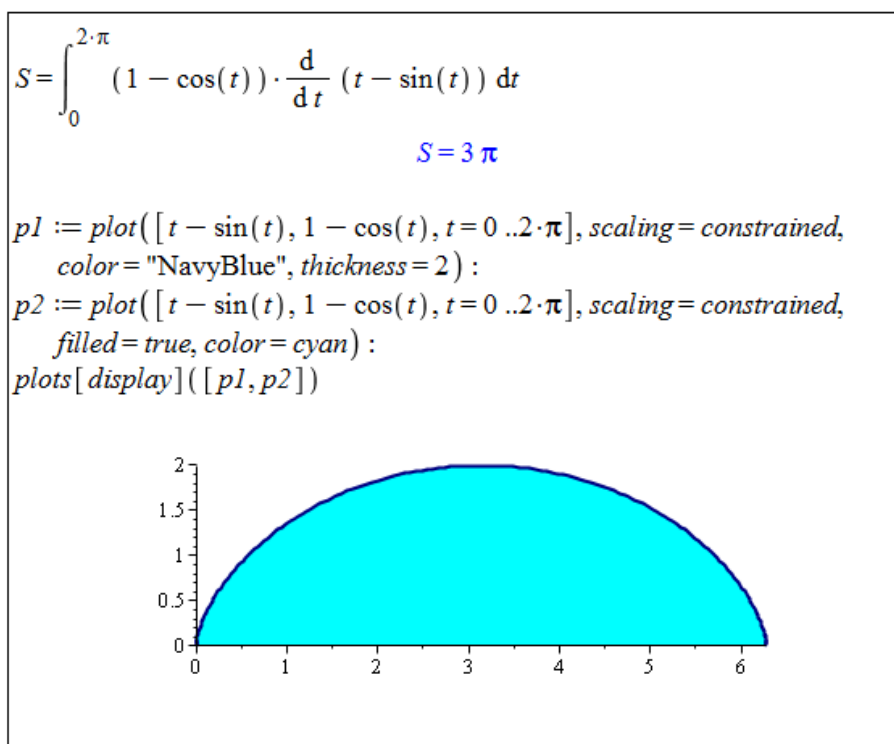
Poznámka 2.22: Nechť je funkce f zadána rovnicemi

$x = \varphi(t), y = \psi(t), t \in [a, b]$, přičemž funkce $\varphi(t), \psi(t)$ jsou spojité pro $t \in [a, b]$. Je-li $\varphi(t)$ ryze monotónní a má spojitou derivaci na $[a, b]$, přičemž $\varphi(a) = a, \varphi(b) = b$, pak pro obsah S plochy vymezené funkcí $f(x)$, osou x a přímkami $x = a, x = b$ platí:

$$S = \left| \int_a^b \psi(t) \cdot \varphi'(t) dt \right|.$$

Příklad 2.57: Určete obsah plochy vymezené osou x a funkcí zadanou rovnicemi $x = t - \sin(t), y = 1 - \cos(t), t \in [0, 2 \cdot \pi]$.

Řešení: Funkce $x = t - \sin(t)$ je na $[0, 2 \cdot \pi]$ ryze monotónní a má spojitou derivaci, takže můžeme využít předchozí poznámku. Při vykreslování plochy se nyní obejdeme bez příkazu `transform`, pouze využijeme atributu `filled`, jenž nastavíme na hodnotu `true`. Tím dosáhneme vykreslení plochy pod křivkou funkce až k ose x . Pro přehlednější zobrazení vytvoříme dva grafické objekty, které pomocí příkazu `display` vykreslíme do jednoho obrázku. Současně nastavíme atribut `scaling` na hodnotu `constrained`, abychom měli na obou osách stejné měřítko (a graf funkce tak nebyl zkreslený).



Obrázek 2.66: Řešení příkladu 2.57.

Příklad 2.58: Určete obsah plochy ohraničené křivkami:

- (a) $y = 4 - x^2, y = x^2,$
- (b) $y = x^3, y = -x, y = 1,$
- (c) $y = x^2, x = y^2,$
- (d) $y = \tan(x), y = 0, x = \frac{\pi}{4},$
- (e) $y = e^x, y = e^{-x}, y = 2.$

Příklad 2.59: Určete obsah plochy ohraničené:

- (a) funkcí $y = x^2 - 2 \cdot x + 2$, její tečnou v bodě $[3, 5]$ a souřadnými osami,
- (b) funkcí $y = x^3$ a tečnou v bodě $x = 1$,
- (c) parabolou $y = x^2 - 6 \cdot x + 8$ a tečnami v bodech $[1, 3]$ a $[4, 0]$.

Příklad 2.60: Určete obsah plochy ohraničené osou x a křivkou zadanou parametricky:

- (a) $x = 3 \cdot t^2, y = 3 \cdot t - t^3, t \in [-\sqrt{3}, \sqrt{3}]$,
- (b) $x = 2 \cdot (t - \sin(t)), y = 2 \cdot (1 - \cos(t)), t \in [0, 2 \cdot \pi]$,
- (c) $x = 3 \cdot \sin^3(t), y = 3 \cdot \cos^3(t), t \in [0, \pi]$.

Příklad 2.61: Odvoďte vzorec pro obsah kruhu o poloměru r .

Délka oblouku křivky

Poznámka 2.23: Nechť má funkce $f(x)$ spojitou derivaci na intervalu $[a, b]$. Pak pro délku křivky l funkce $f(x)$ od bodu a k bodu b platí:

$$l = \int_a^b \sqrt{1 + (f'(x))^2} dx.$$

Poznámka 2.24: Nechť je funkce f zadána parametricky rovnicemi $x = \varphi(t), y = \psi(t), t \in [\alpha, \beta]$, přičemž funkce $\varphi(t), \psi(t)$ mají spojitě derivace pro $t \in [\alpha, \beta]$. Pak pro délku křivky l funkce f od α k β platí:

$$l = \int_{\alpha}^{\beta} \sqrt{(\varphi'(t))^2 + (\psi'(t))^2} dt.$$

Příklad 2.62: Určete délku křivky funkce $y = \ln(x)$ mezi body $x = 1$ a $x = 10$.

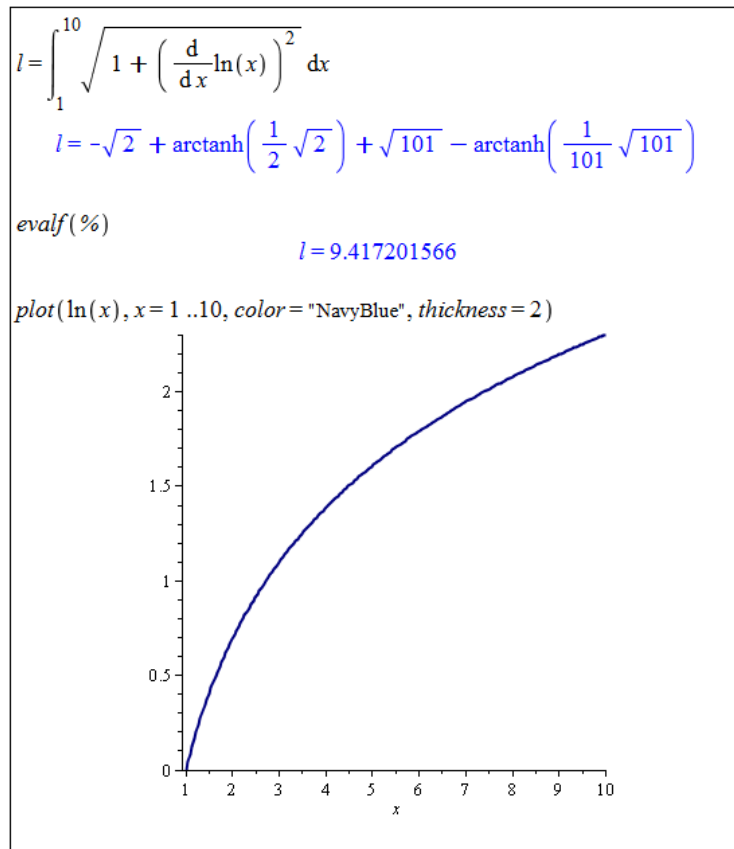
Řešení: Funkce $(\ln(x))' = \frac{1}{x}$ je spojitá na $[1, 10]$, můžeme tedy využít poznámky 2.23 (obrázek 2.67).

Příklad 2.63: Určete délku křivky zadané parametricky rovnicemi $x = \cos^3(t), y = \sin^3(t), t \in [0, 2 \cdot \pi]$.

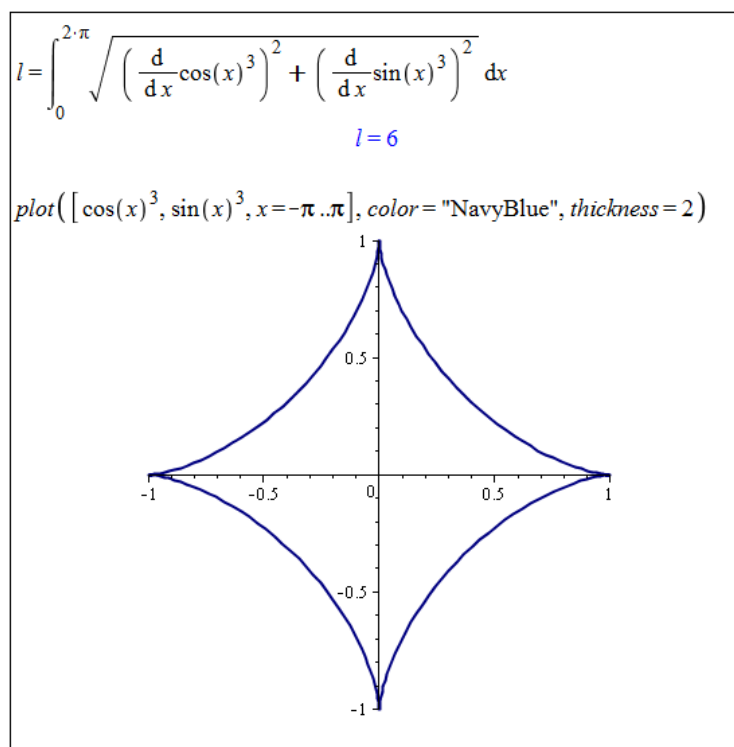
Řešení: Funkce $\cos^3(t), \sin^3(t)$ mají na intervalu $[0, 2 \cdot \pi]$ spojitě derivace, takže můžeme využít poznámky 2.24 (obrázek 2.68).

Příklad 2.64: Určete délku křivky:

- (a) $y^2 = x^3$ na intervalu $[0, 1]$,
- (b) $y = \frac{e^x + e^{-x}}{2}$ na intervalu $[-1, 1]$,
- (c) $y = \sin(x)$ na intervalu $[0, \pi]$,
- (d) $y = \sin^2(x)$ na intervalu $[0, \pi]$.



Obrázek 2.67: Řešení příkladu 2.62.



Obrázek 2.68: Řešení příkladu 2.63.

Příklad 2.65: Určete délku křivky zadané parametricky:

(a) $x = t^2, y = t - \frac{t^3}{3}, t \in [0, \sqrt{3}]$,

(b) $x = t \cdot \cos(t), y = t \cdot \sin(t), t \in [0, 4 \cdot \pi]$,

(c) $x = \cos(t) + t \cdot \sin(t), y = \sin(t) - t \cdot \cos(t), t \in [0, 2 \cdot \pi]$.

Příklad 2.66: Odvoďte vzorec pro délku kružnice o poloměru r .

Objem rotačního tělesa

Poznámka 2.25: Nechť je funkce $f(x)$ spojitá a nezáporná na intervalu $[a, b]$. Pak rotační těleso vzniklé rotací křivočarého lichoběžníka ohraničeného shora funkcí $f(x)$, osou x a přímkami $x = a, x = b$ kolem osy x má objem V :

$$V = \pi \cdot \int_a^b f^2(x) dx.$$

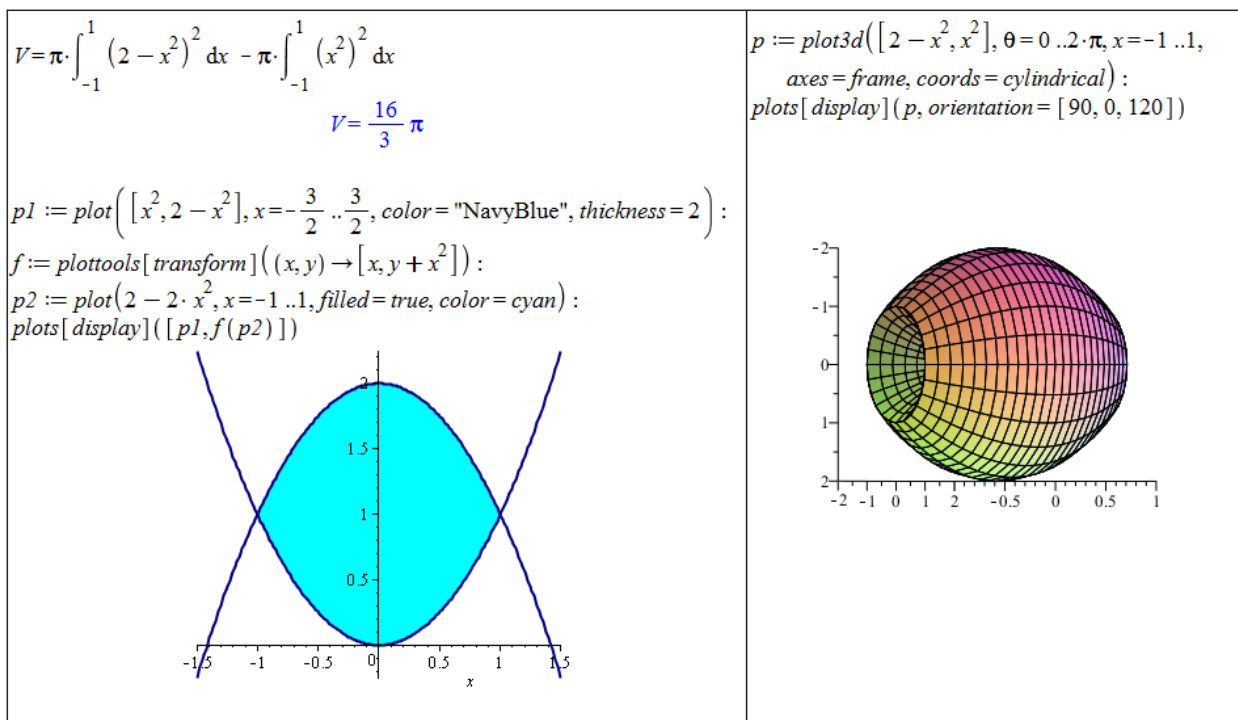
Poznámka 2.26: Nechť je funkce f zadána parametricky rovnicemi $x = \varphi(t), y = \psi(t), t \in [\alpha, \beta]$, přičemž funkce $\varphi(t)$ má spojitou derivaci pro $t \in [\alpha, \beta]$ a funkce $\psi(t)$ je spojitá a nezáporná pro $t \in [\alpha, \beta]$. Pak pro objem V rotačního tělesa vzniklého rotací oblasti $x \in [\varphi(\alpha), \varphi(\beta)]$ a $y \in [0, \psi(t)]$ kolem osy x platí:

$$V = \pi \cdot \int_{\alpha}^{\beta} \psi^2(t) \cdot |\varphi'(t)| dt.$$

Příklad 2.67: Vypočtěte objem tělesa, které vznikne rotací oblasti ohraničené křivkami $y = x^2, y = 2 - x^2$ kolem osy x .

Řešení: Objem budeme počítat podobně, jako když počítáme obsah plochy vymezené dvěma křivkami. Přesněji řečeno: vypočteme objem rotačního tělesa, které vznikne rotací funkce $y = 2 - x^2$ kolem osy x , a od něj odečteme objem tělesa, které vznikne rotací funkce $y = x^2$ kolem osy x . Jelikož obě funkce splňují předpoklady poznámky 2.25, může k výpočtu objemu použít uvedený vztah. V systému Maple můžeme jednak vykreslit zadanou oblast, která má rotovat kolem osy x , jednak můžeme využít příkazu `plot3d` pro vykreslování trojrozměrných grafů. Nastavením parametru `coords=cylindrical` vytvoříme rotační těleso vzniklé rotací kolem jedné z os. Dále nastavujeme parametry jako úhel, o nějž má zadaná (resp. zadané) funkce rotovat, a interval oblasti. Příkazu `display` nakonec nastavíme parametr `orientation` pro názornější zobrazení (pootočení grafu), obrázek 2.69.

Poznámka 2.27: Mějme funkci zadanou parametricky rovnicemi $x = f(t), y = g(t), z = h(t), t \in [\alpha, \beta]$. Pak těleso vzniklé rotací této funkce kolem osy x je popsáno parametricky rovnicemi $x = f(t), y = \sqrt{g(t)^2 + h(t)^2} \cdot \cos(s), z = \sqrt{g(t)^2 + h(t)^2} \cdot \sin(s), t \in [\alpha, \beta], s \in [0, 2 \cdot \pi]$.



Obrázek 2.69: Řešení příkladu 2.67.

Příklad 2.68: Vypočtete objem tělesa, které vznikne rotací plochy vymezené křivkou zadanou parametricky rovnicemi $x = t - \sin(t)$, $y = 1 - \cos(t)$, $t \in [0, 2 \cdot \pi]$ a osou x kolem této osy.

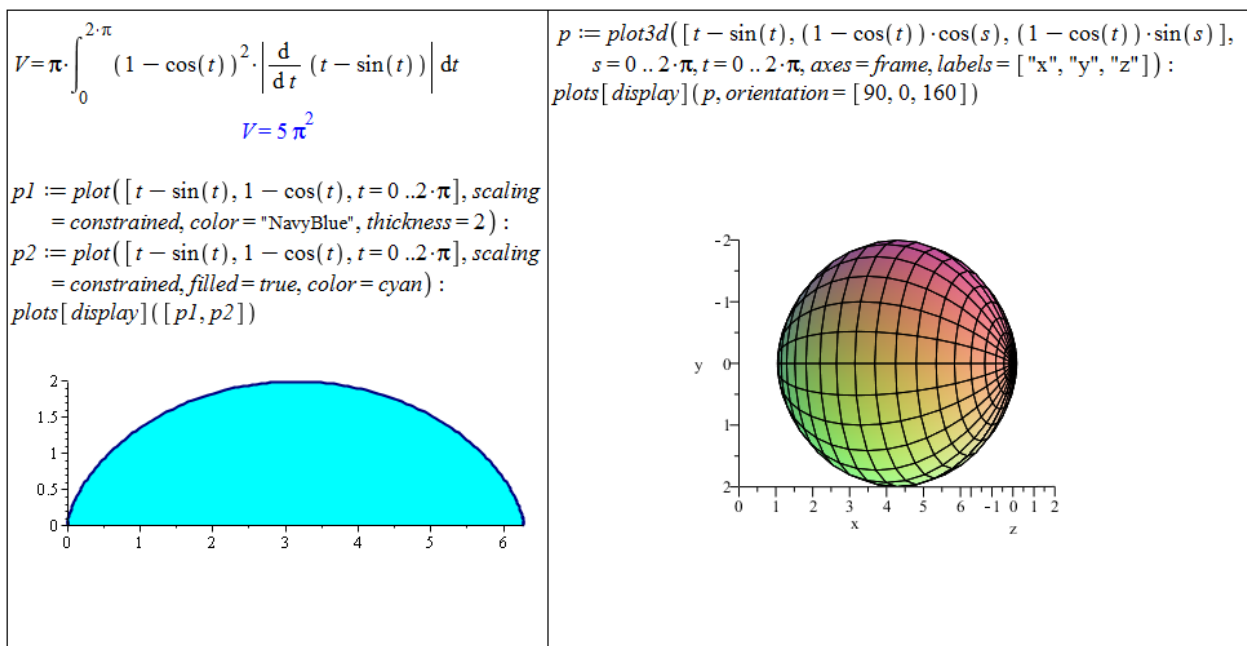
Řešení: Zadaná křivka splňuje předpoklady poznámky 2.26. Výpočet objemu tedy provedeme dosazením do příslušného vzorce. V systému Maple opět vykreslíme zadanou oblast, která má rotovat kolem osy x , a poté i získané těleso pomocí příkazu `plot3d`. Přitom využijeme poznámky 2.27. Podobně jako v předchozím příkladu použijeme příkaz `display` s nastavením parametru `orientation` pro názornější zobrazení (pootočení grafu), obrázek 2.70.

Příklad 2.69: Určete objem tělesa vzniklého rotací plochy ohraničené zadanými křivkami kolem osy x :

- | | |
|---|---|
| (a) $y^2 = x$, $y = x^2$, | (c) $y = x$, $y = \frac{1}{x}$, $y = 2$, |
| (b) $y = 0$, $x = 0$, $y = \sin(x)$, $x = \pi$, | (d) $x^2 + y^2 = 4$, $x + y = 2$. |

Příklad 2.70: Určete objem tělesa, které vznikne rotací plochy ohraničené křivkou zadanou parametricky a osou x kolem této osy:

- $x = t^2$, $y = t - \frac{t^3}{3}$, $t \in [0, \sqrt{3}]$,
- $x = 3 \cdot \sin^3(t)$, $y = 3 \cdot \cos^3(t)$, $t \in [-\frac{\pi}{2}, \frac{\pi}{2}]$,
- $x = \sin^2(t)$, $y = 1 - \cos(t)$, $t \in [0, \pi]$,
- $x = 2 + \sin(t)$, $y = 2 + \cos(t)$, $t \in [0, 2 \cdot \pi]$.



Obrázek 2.70: Řešení příkladu 2.68.

Příklad 2.71: Odvoďte vzorec pro objem koule o poloměru r .

Příklad 2.72: Odvoďte vzorec pro objem válce o poloměru podstavy r a výšce válce v .

Příklad 2.73: Odvoďte vzorec pro objem kužele o poloměru podstavy r a výšce kužele v .

Obsah pláště rotačního tělesa

Poznámka 2.28: Nechť je funkce $f(x)$ spojitá a nezáporná na intervalu $[a, b]$ a má zde spojitou derivaci. Pak pro obsah S rotační plochy vzniklé rotací křivky $y = f(x)$ kolem osy x platí:

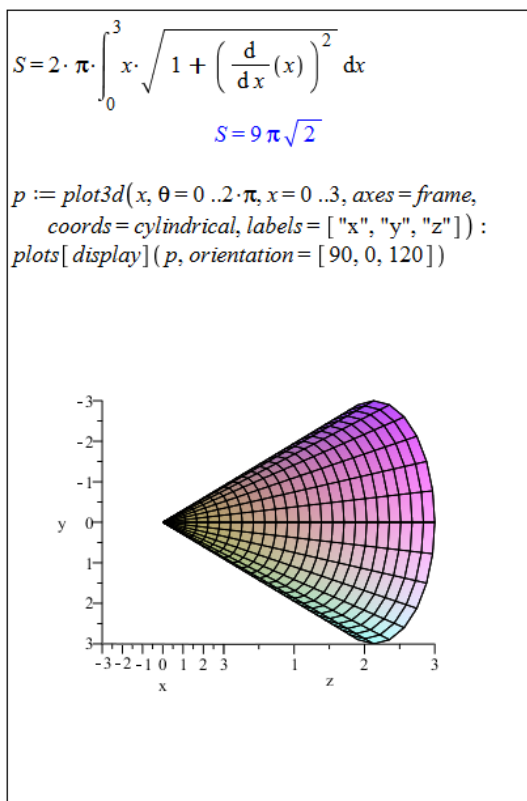
$$S = 2 \cdot \pi \cdot \int_a^b f(x) \cdot \sqrt{1 + (f'(x))^2} dx.$$

Poznámka 2.29: Nechť je funkce f zadána parametricky rovnicemi $x = \varphi(t)$, $y = \psi(t)$, $t \in [\alpha, \beta]$, přičemž funkce $\varphi(t)$ a $\psi(t)$ mají spojitě derivace pro $t \in [\alpha, \beta]$ a funkce $\psi(t)$ je nezáporná pro $t \in [\alpha, \beta]$. Pak pro obsah S rotační plochy vzniklé rotací grafu funkce f kolem osy x platí:

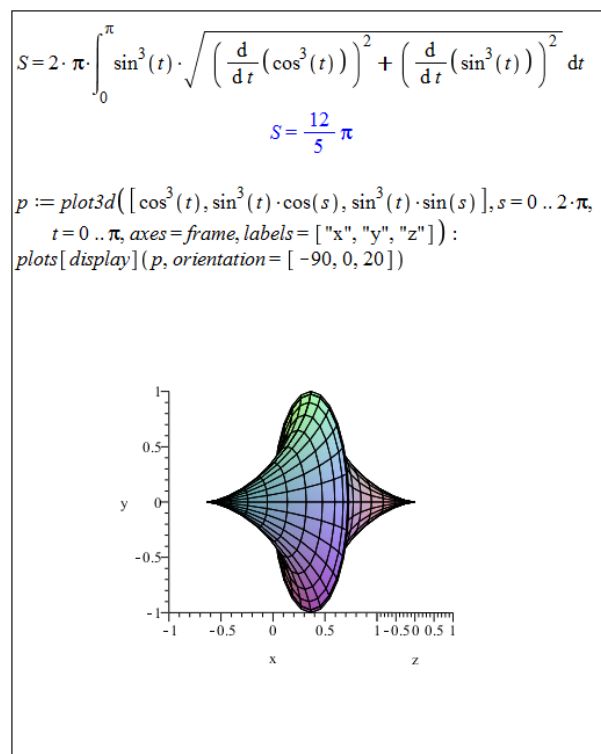
$$S = 2 \cdot \pi \cdot \int_{\alpha}^{\beta} \psi(t) \cdot \sqrt{(\varphi'(t))^2 + (\psi'(t))^2} dt.$$

Příklad 2.74: Vypočítejte obsah pláště rotačního kužele, který vznikne rotací funkce $y = x$ pro $x \in [0, 3]$ kolem osy x .

Řešení: Jelikož platí všechny předpoklady poznámky 2.28, stačí dosadit do uvedeného vzorce (obrázek 2.71).



Obrázek 2.71: Řešení příkladu 2.74.



Obrázek 2.72: Řešení příkladu 2.75.

Příklad 2.75: Vypočtete obsah pláště tělesa, které vznikne rotací křivky zadanou parametricky rovnicemi $x = \cos^3(t)$, $y = \sin^3(t)$, $t \in [0, \pi]$ kolem osy x .

Řešení: Zadaná křivka splňuje všechny předpoklady poznámky 2.29. Použijeme proto příslušný vztah pro výpočet obsahu pláště (obrázek 2.72).

Příklad 2.76: Určete obsah pláště tělesa vzniklého rotací plochy ohraničené zadanými křivkami kolem osy x :

- (a) $y^2 = x$, $y = x^2$,
- (b) $y = 0$, $x = 0$, $y = \sin(x)$, $x = \pi$,
- (c) $y = x$, $y = \frac{1}{x}$, $y = 2$,
- (d) $x^2 + y^2 = 4$, $x + y = 2$.

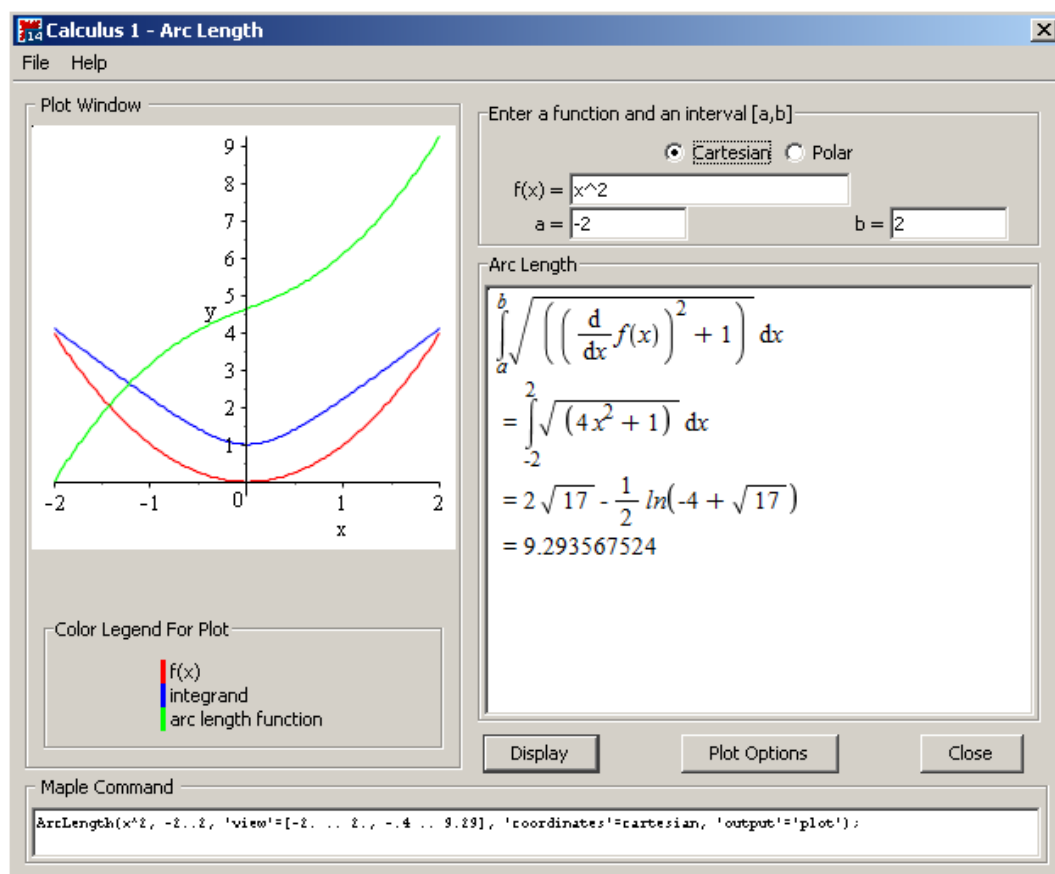
Příklad 2.77: Určete obsah pláště tělesa, které vznikne rotací plochy ohraničené křivkou zadanou parametricky a osou x kolem této osy:

- (a) $x = t^2$, $y = t - \frac{t^3}{3}$, $t \in [0, \sqrt{3}]$,
- (b) $x = 3 \cdot \sin^3(t)$, $y = 3 \cdot \cos^3(t)$, $t \in [-\frac{\pi}{2}, \frac{\pi}{2}]$,
- (c) $x = \sin^2(t)$, $y = 1 - \cos(t)$, $t \in [0, \pi]$,
- (d) $x = 2 + \sin(t)$, $y = 2 + \cos(t)$, $t \in [0, 2 \cdot \pi]$.

Příklad 2.78: Odvoďte vzorec pro povrch koule o poloměru r .

Příklad 2.79: Odvoďte vzorec pro povrch válce o poloměru podstavy r a výšce válce v .

K předešlým aplikacím určitého integrálu poskytuje systém Maple několik nástrojů z balíku Student [Calculus1]. Tyto nástroje je možné používat jednak jako příkazy příslušné knihovny (balíku) nebo je spouštět jako maplety z hlavního menu (**Tools** > **Tutors** > **Calculus – Single Variable**). Jmenovitě jde o **Arc Length** (délka křivky), **Surface of Revolution** (obsah pláště rotačního tělesa) a **Volume of Revolution** (objem rotačního tělesa). Při použití příkazů můžeme mimo jiné specifikovat parametr **output** určující, zda příkaz vypíše výslednou hodnotu, vzorec s integrálem nebo vykreslí obrázek (v případě příkazu **VolumeOfRevolution** je k dispozici i animace). Maplet po zadání předpisu funkce a integračních mezí provede výpočet odpovídajícího integrálu, který doprovodí grafickým zobrazením. Obrázek 2.73 ukazuje maplet pro výpočet délky křivky.



Obrázek 2.73: Pomocný nástroj pro výpočet délky křivky.

2.7.6 Nevlastní integrál

Definice 2.24: Nechť je funkce $f(x)$ integrovatelná v každém intervalu $[a, t]$, kde $a < t < b$, a nechť je $f(x)$ neohraničená v levém okolí bodu b . Existuje-li vlastní limita $\lim_{t \rightarrow b^-} \int_a^t f(x) dx$,

pak řekneme, že integrál $\int_a^b f(x) dx$ konverguje, a klademe

$$\int_a^b f(x) dx = \lim_{t \rightarrow b^-} \int_a^t f(x) dx.$$

Pokud zmíněná limita neexistuje nebo je nevlastní, říkáme, že integrál $\int_a^b f(x) dx$ diverguje.

Poznámka 2.30: V případě neohrazenosti funkce $f(x)$ na intervalu $[a, b]$ v pravém okolí bodu a definujeme integrál $\int_a^b f(x) dx$ analogicky.

Příklad 2.80: Určete $\int_0^1 \frac{1}{\sqrt{1-x^2}} dx$.

Řešení: V systému Maple obdržíme řešení automaticky pouhým zadáním integrálu a provedením příkazu. Musíme si však uvědomit, že zadaná funkce $\left(\frac{1}{\sqrt{1-x^2}}\right)$ není v bodě 1 spojitá a na intervalu $[0, 1]$ ohraničená! Správně bychom se tedy měli o získaném výsledku přesvědčit určením limity z definice 2.24.

$$\int_0^1 \frac{1}{\sqrt{1-x^2}} dx = \frac{1}{2} \pi$$

$$\lim_{x \rightarrow 1^-} \int_0^x \frac{1}{\sqrt{1-x^2}} dx = \arcsin(1) = \frac{1}{2} \pi$$

Obrázek 2.74: Řešení příkladu 2.80.

Příklad 2.81: Určete $\int_0^1 x \cdot \ln(x) dx$.

Poznámka 2.31: Pokud je funkce $f(x)$ neohrazená na intervalu $[a, b]$ v pravém okolí bodu a i v levém okolí bodu b , rozdělíme interval $[a, b]$ libovolným bodem $c \in (a, b)$, čímž přejdeme k případům popsaným v definici 2.24 a poznámce 2.30.

Definice 2.25: Nechť je funkce $f(x)$ integrovatelná v každém intervalu $[a, b]$, kde $a < b$. Existuje-li vlastní limita $\lim_{b \rightarrow \infty} \int_a^b f(x) dx$, pak řekneme, že integrál $\int_a^\infty f(x) dx$ konverguje,

a klademe

$$\int_a^\infty f(x) dx = \lim_{b \rightarrow \infty} \int_a^b f(x) dx.$$

Neexistuje-li zmíněná vlastní limita, říkáme, že integrál $\int_a^\infty f(x) dx$ diverguje.

Poznámka 2.32: Analogicky definujeme nevlastní integrál $\int_{-\infty}^b f(x) dx$. Je-li funkce f integrovatelná na každém omezeném intervalu, pak řekneme že integrál $\int_{-\infty}^b f(x) dx$ konverguje, jestliže pro nějaké $a \in \mathbb{R}$ konvergují oba nevlastní integrály $\int_{-\infty}^a f(x) dx$, $\int_a^\infty f(x) dx$ a klademe

$$\int_{-\infty}^\infty f(x) dx = \int_{-\infty}^a f(x) dx + \int_a^\infty f(x) dx.$$

Příklad 2.82: Určete $\int_2^\infty \frac{1}{x^2} dx$.

Řešení: V systému Maple obdržíme řešení opět automaticky pouhým zadáním integrálu a provedením příkazu. Jako v předchozím případě bychom si však měli uvědomit, zda existuje vlastní limita $\lim_{b \rightarrow \infty} \int_2^b \frac{1}{x^2} dx$. Při výpočtu limity Maple zahlásí, že neumí určit, jestli $b < 0$. Je možné mu „pomoci“ zavedením předpokladu, že $b > 0$, pomocí příkazu `assume` (obrázek 2.75).

```

∫2∞ 1/x2 dx
                                1/2

limb→∞ ∫2b 1/x2 dx
Warning, unable to determine if 0
is between 2 and b; try to use
assumptions or use the
AllSolutions option
                                1/2

assume(b > 0)

limb→∞ (∫2b 1/x2 dx)
                                1/2

```

Obrázek 2.75: Řešení příkladu 2.82.

Příklad 2.83: Určete následující integrály:

$$(a) \int_1^{\infty} \frac{1}{\sqrt{x}} dx,$$

$$(c) \int_1^{\infty} \sin(x^2) dx,$$

$$(b) \int_{-\infty}^{\infty} \frac{1}{1+x^2} dx,$$

$$(d) \int_0^{\infty} \frac{x^2+1}{x^3+1} dx.$$

Doposud jsme se setkali pouze s příklady, kdy Maple umí nalézt symbolické řešení (při použití „standardních“ funkcí). Jsou však případy, kdy Maple zavádí funkce nové či symbolické řešení nenalezne. Pokud Maple zahrne do výsledku novou funkci, najdeme její předpis v nápovědě. Například na obrázku 2.76 je v řešení zahrnuta tzv. chybová funkce $\text{erf}(x)$ s předpisem

$$\text{erf}(x) = \frac{2 \cdot \left(\int_0^x e^{-t^2} dt \right)}{\sqrt{\pi}}.$$

Jestliže Maple nenalezne symbolické řešení, vypíše námi zadaný příkaz jako výsledek. V případě určitého integrálu můžeme hledat numerické řešení, a to buď přidáním nepovinného parametru `numeric` příkazu `int`, nebo použitím příkazu `evalf` na integrál zadaný příkazem `Int`¹⁴. Numerických metod pro výpočet určitého integrálu nabízí Maple několik. Mezi nimi je možné volit specifikací parametru `method` (více v nápovědě systému).

$\int e^{-x^2} dx$ $\frac{1}{2} \sqrt{\pi} \text{erf}(x)$	<code>int(e^{-x²}, x=0 ..1, numeric)</code> 0.7468241328 <code>evalf(Int(e^{-x²}, x=0 ..1))</code> 0.7468241328
$\int e^{-x^2} \ln(x) dx$ $\int e^{-x^2} \ln(x) dx$	<code>int(e^{-x²}·ln(x), x=0 ..1, numeric, method=_Dexp)</code> -0.9059404763
$\int_0^1 e^{-x^2} dx$ $\frac{1}{2} \text{erf}(1) \sqrt{\pi}$	<code>evalf(Int(e^{-x²}·ln(x), x=0 ..1, method=_Gquad))</code> -0.9059404763
$\int_0^1 e^{-x^2} \cdot \ln(x) dx$ $\int_0^1 e^{-x^2} \ln(x) dx$	

Obrázek 2.76: Symbolická a numerická integrace.

¹⁴Upozorníme na rozdíl v zadání `evalf(Int(...))` a `evalf(int(...))`. První možnost vede na numerické řešení zadaného integrálu, v druhém případě je nejprve vyhodnocen integrál symbolicky příkazem `int` a následně výsledek převeden na numerickou hodnotu příkazem `evalf`.

3 Matematická analýza s Maple v \mathbb{R}^n

Ačkoli v sobě název kapitoly obsahuje prostor \mathbb{R}^n , často se budeme omezovat na funkce dvou proměnných, tedy prostor \mathbb{R}^2 , pro nějž máme v systému Maple grafickou podporu.

3.1 Funkce více proměnných

3.1.1 Definice funkce více proměnných

Funkci více proměnných definujeme v systému Maple zcela analogicky k funkci jedné proměnné (viz 2.2.1). V prostředí *Standard Worksheet* používáme tytéž postupy, pouze „přidáváme“ proměnné.

$f(x, y) := x^2 + y$	$f(0, 1)$	1
$(x, y) \rightarrow x^2 + y$	$g(0, 1)$	1
$g := (x, y) \rightarrow x^2 + y$	$h(0, 1)$	<i>undefined</i>
$(x, y) \rightarrow x^2 + y$	$h(-1, 1)$	1
$h := (x, y) \rightarrow \text{piecewise}(x < 0, -x, x \cdot y < 0, -y, \text{undefined})$	$h(1, -1)$	1
$(x, y) \rightarrow \text{piecewise}(x < 0, -x, x \cdot y < 0, -y, \text{undefined})$		

Obrázek 3.1: Definice funkce dvou proměnných.

3.1.2 Vykreslení funkce dvou proměnných

V závěru předchozí kapitoly jsme se již setkali s příkazem `plot3d` pro vykreslování trojrozměrných grafů. V systému Maple máme tedy možnost vykreslovat funkce dvou proměnných, a to opět podobnými postupy jako v případě funkce jedné proměnné. První způsob nabízí kliknutí pravým tlačítkem na funkci (resp. výraz) dvou proměnných v dokumentu a zvolení **Plots > 3-D Plot** se specifikací proměnných. Další možnost poskytuje pomocník zvaný **PlotBuilder** a nakonec máme k dispozici již zmíněný příkaz `plot3d`.

Narozdíl od vykreslování funkcí jedné proměnné Maple nyní v grafu standardně nezobrazuje souřadnicové osy. Pokud je chceme zobrazit (a na výběr máme z několika typů: **normal**, **boxed**, **framed**), je třeba při tvorbě grafu specifikovat parametr `axes`. Graf je možné upravovat i po jeho vytvoření kliknutím pravého tlačítka myši a volením požadovaných parametrů grafu z kontextové nabídky. Kliknutím na graf a přidržení levého tlačítka myši můžeme

```

f := (x, y, z) → x2 + y2 + z2
                                (x, y, z) → x2 + y2 + z2
f(1, 2, 3)
                                14

f := (x, y, z) → piecewise(x < 0 ∧ y < 0 ∧ z < 0, x2, x·y·z)
                                (x, y, z) → piecewise(x < 0 and y < 0 and z < 0, x2, xyz)
f(1, 2, 3)
                                6
f(-1, -2, -3)
                                1

f := (x, y, z, u, v) → x2 + y2 + z·u - v
                                (x, y, z, u, v) → x2 + y2 + zu - v
f(1, 2, 3, 4, 5)
                                12

```

Obrázek 3.2: Definice funkce více proměnných.

s grafem funkce otáčet podle pohybů myši, případně provádět další úpravy, které si předem vybereme v kontextové liště, resp. kontextovém menu.

Rozdíl mezi příkazy `plot` a `plot3d` je také v povinnosti specifikovat rozsah nezávisle proměnných. Zatímco u příkazu `plot` se použije standardní interval $[-10, 10]$ při nezadání rozsahu, příkaz `plot3d` zadání rozsahu vyžaduje pro obě nezávisle proměnné, jinak se neprovede a vypíše chybové hlášení.

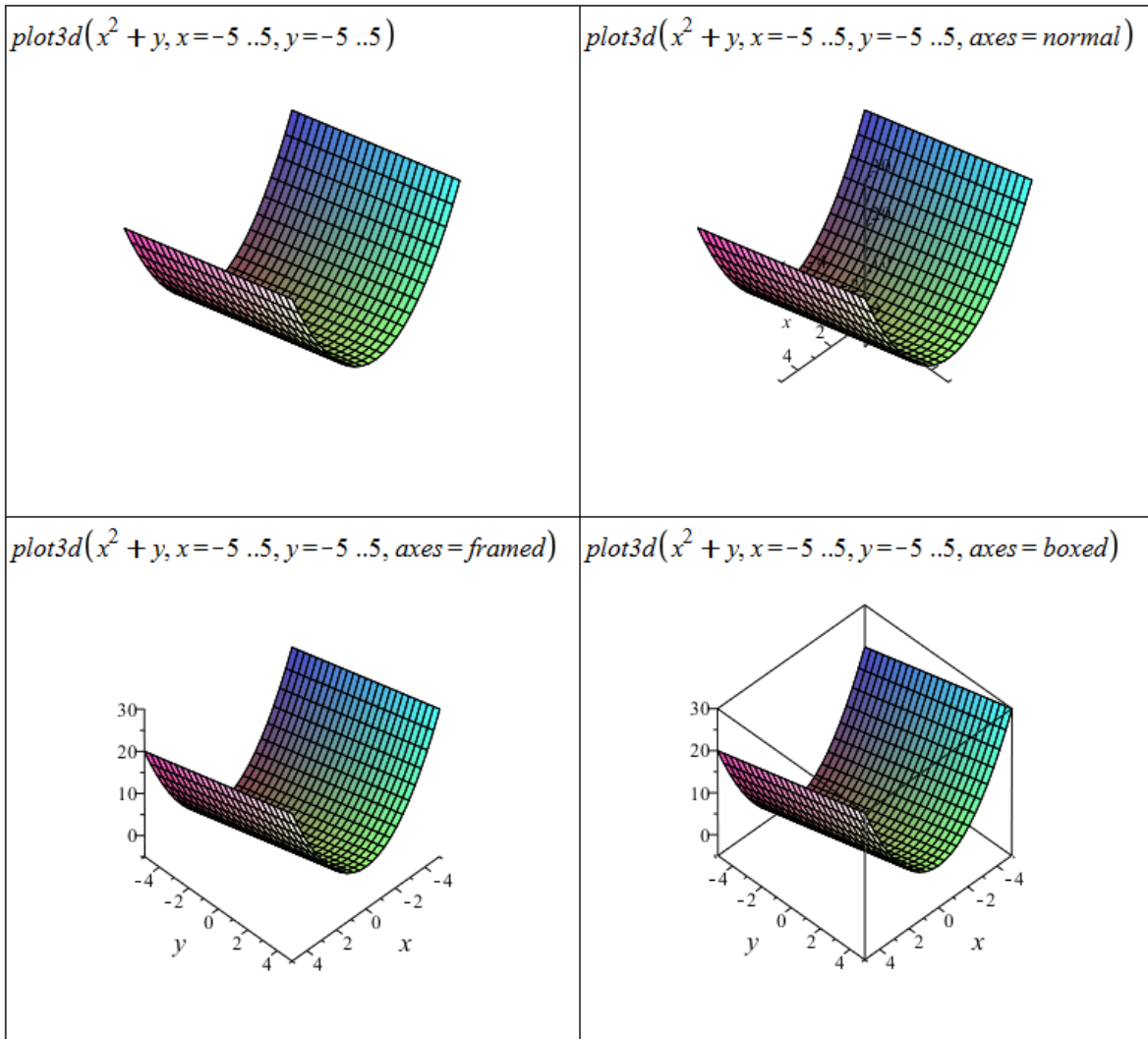
Stejně jako v případě funkce jedné proměnné musíme i zde myslet na to, jak má graf funkce vypadat a případně vyzkoušet různá nastavení parametrů (tj. např. rozsahů nezávisle proměnných), abychom dostali názorný graf. Některá zobrazení mohou velmi zkreslovat (resp. zobrazovat graf funkce chybně).

Systém Maple kvůli efektivitě (rychlosti) vykreslování počítá funkční hodnoty¹ jen v „několika“ bodech. Graf bývá zpravidla rozdělen na čtvercovou síť bodů, v nichž je spočítána odpovídající (funkční) hodnota. Parametry sítě se pro různé typy grafů liší, například pro příkaz `plot3d` je standardně použita síť 25x25 bodů, pro příkaz `implicitplot` síť 26x26 bodů atp. Zbylé body grafu jsou získané lineární (rovinnou) interpolací.

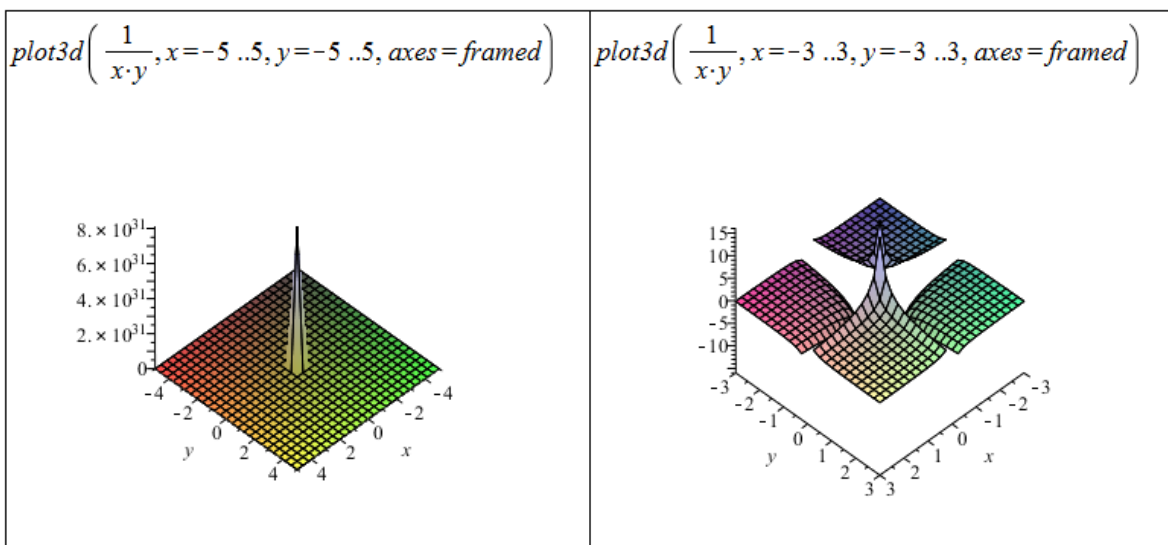
Pokud chceme po systému přesnější zobrazení, máme několik možností. První je omezení rozsahů nezávisle proměnných (viz obrázek 3.4). Můžeme také nastavit parametr `numpoints` určující, v kolika bodech bude vypočítána (funkční) hodnota. Další možností je nastavit explicitně síť počítaných bodů pomocí parametru `gridlines`. Ten specifikujeme dvojicí v hranatých závorkách: [počet bodů na ose x , počet bodů na ose y]².

¹Ve skutečnosti nemusí jít jen o funkční hodnoty, vykreslovat můžeme například i hodnoty vyhovující nějaké rovnosti (nerovnosti).

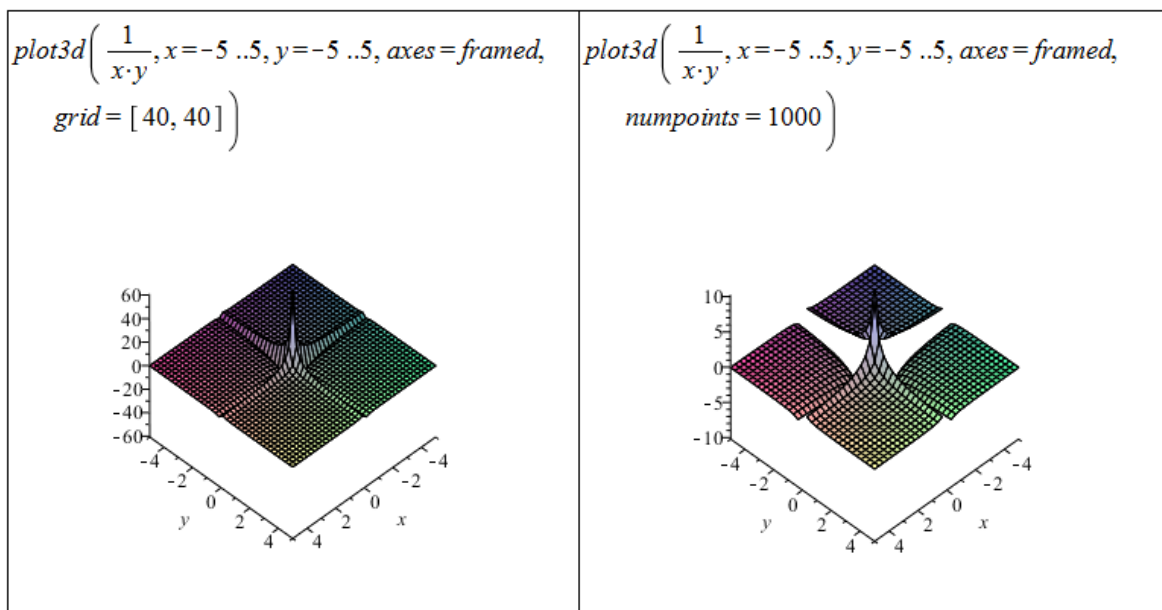
²Příkazu `implicitplot` je možné navíc nastavit parametr `gridrefine`, který „zjemňuje“ síť počítaných bodů. Standardní nastavení je 0. Nastavení na hodnotu 1 (zjednodušeně) znamená, že místo jedné (funkční) hodnoty v daném místě sítě budou určeny dvě funkční hodnoty. Při dalším zvyšování hodnoty parametru `gridrefine` se vždy rekurzivně počítají dvě nové (funkční) hodnoty místo jedné předcházející. Více informací nalezneme v nápovědě k příkazu `implicitplot`.



Obrázek 3.3: Vykreslení funkce dvou proměnných pomocí příkazu `plot3d`.



Obrázek 3.4: Ukázka různých nastavení příkazu `plot3d`.



Obrázek 3.5: Ukázka dalších nastavení příkazu `plot3d` pro přesnější vykreslení.

3.1.3 Definiční obor funkce dvou proměnných

Systém Maple nám dává možnosti, jak zakreslit do grafu dvourozměrnou (případně i třírozměrnou) oblast. K zakreslení dvourozměrné oblasti zadané implicitně (rovností či nerovností) slouží příkaz `implicitplot` z balíku `plots`. Pokud chceme zadanou oblast vyplnit, nastavíme parametr `filled` na hodnotu `true`.

Pro vykreslení oblastí vymezených více nerovnostmi (resp. rovnostmi) je nutné použít jiný postup (například takový, který jsme používali k vykreslování ploch v sekci 2.7.5). Pokud je oblast vymezená lineárními nerovnostmi, je možné použít příkaz `inequal` z balíku `plots`.

Příklad 3.1: Nakreslete oblast $A = \{(x, y) \in \mathbb{R}^2 : x^2 + y^2 < 1\}$.

Řešení: Použijeme příkaz `implicitplot`, kterému navíc specifikujeme i parametr `view` pro rozsah souřadných os³ (obrázek 3.6).

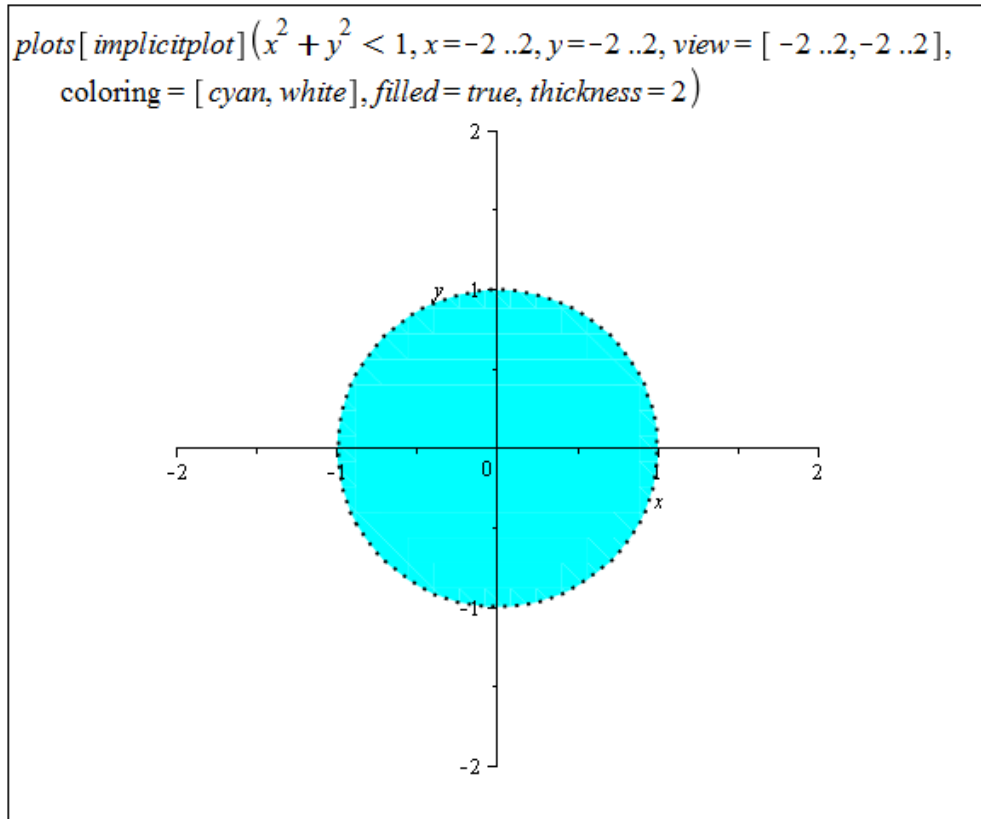
Příklad 3.2: Nakreslete oblast $A = \{(x, y) \in \mathbb{R}^2 : |x| + |y| \leq 1\}$.

Řešení: Právě v tomto případě se projeví nedostatečný počet generovaných bodů pro vykreslení zadané oblasti. Využijeme proto parametru `gridrefine`, který poskytuje příkaz `implicitplot` (obrázek 3.7).

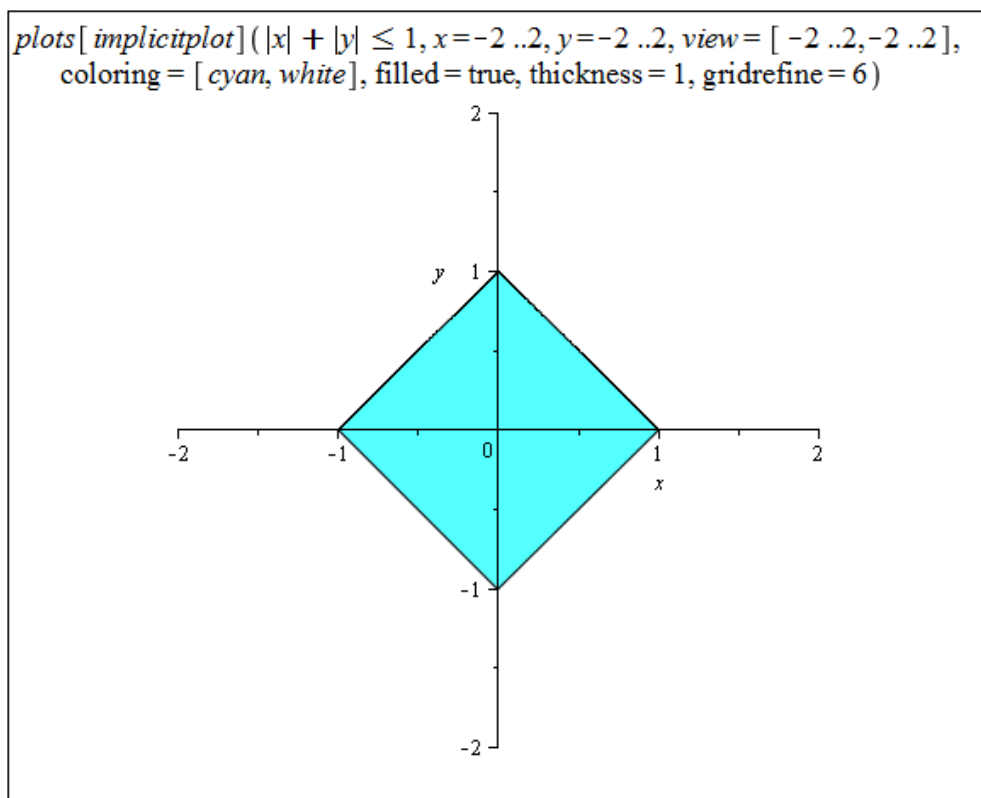
Příklad 3.3: Nakreslete oblast $A = \{(x, y) \in \mathbb{R}^2 : x \geq 0, y \geq 0, x + y < 1\}$.

Řešení: Požadovaná oblast je zadána třemi nerovnostmi, přičemž všechny jsou lineární. Využijeme proto příkazu `inequal`. Příkaz má několik nepovinných parametrů, v nichž můžeme například specifikovat barvu, kterou budou vykreslovány body patřící (resp. nepatřící) do zadané množiny (oblasti) nebo hraniční body (obrázek 3.8).

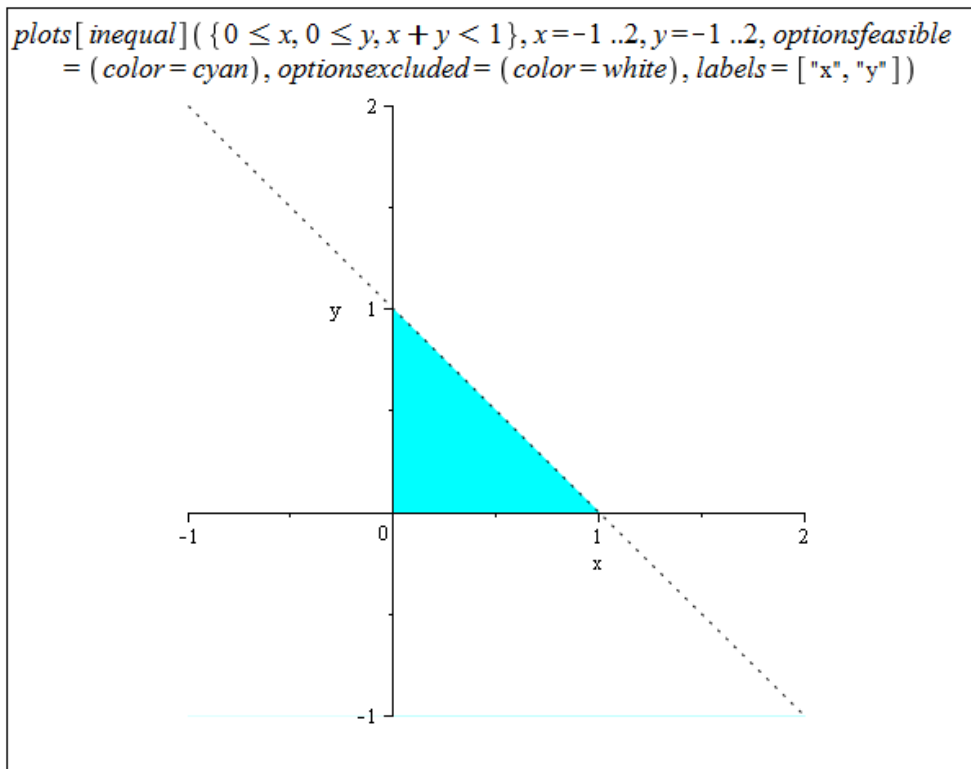
³Neplést s nastavením rozsahu nezávisle proměnných!



Obrázek 3.6: Řešení příkladu 3.1.



Obrázek 3.7: Řešení příkladu 3.2.



Obrázek 3.8: Řešení příkladu 3.3.

Příklad 3.4: Nakreslete oblast:

- (a) $A = \{(x, y) \in \mathbb{R}^2 : |x \cdot y| \leq 1\}$,
- (b) $A = \{(x, y) \in \mathbb{R}^2 : 0 \leq x \leq y \leq 1\}$,
- (c) $A = \{(x, y) \in \mathbb{R}^2 : (x - 2)^2 + y^2 \geq 1\}$,
- (d) $A = \{(x, y) \in \mathbb{R}^2 : x < x^2 + y^2 \leq 1\}$,
- (e) $A = \{(x, y) \in \mathbb{R}^2 : 1 \leq |x| + |y| < 2\}$.

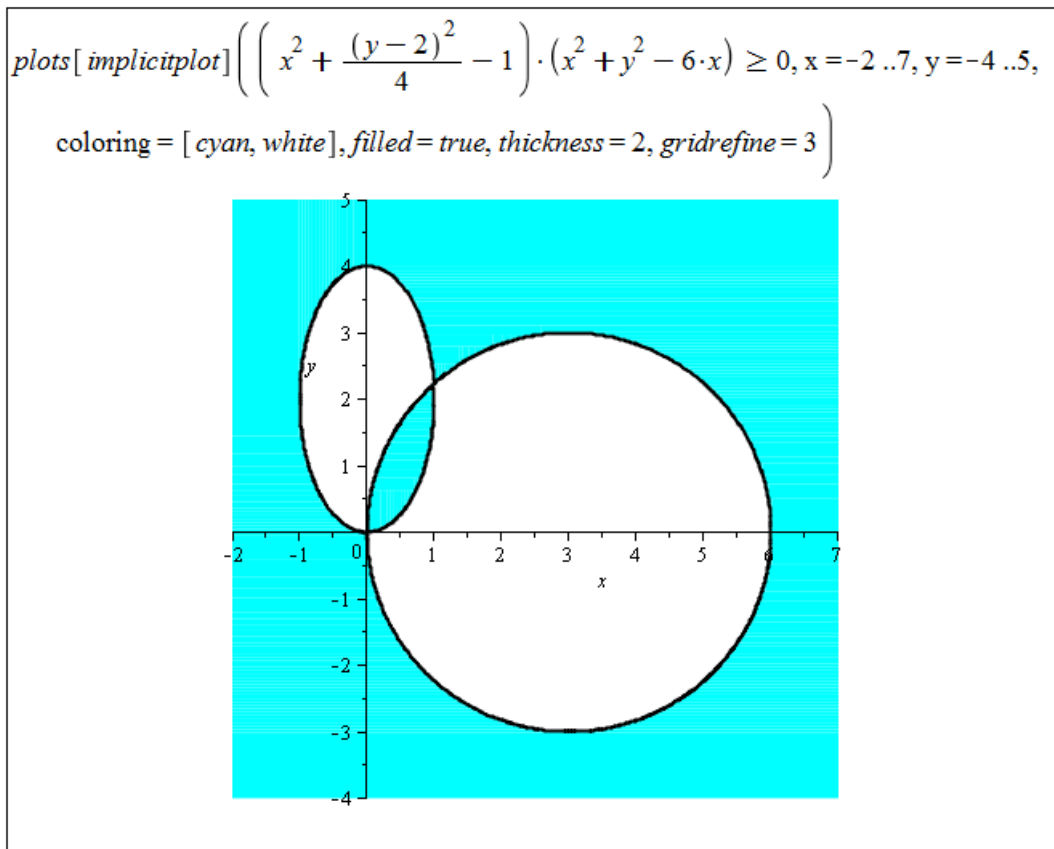
Vykreslování dvourozměrných oblastí využijeme při určování definičního oboru funkce dvou proměnných. Systém Maple nemá žádný nástroj pro nalezení definičního oboru funkce, nic nám však nebrání využít jej při podúlohách vedoucích k hledanému řešení.

Příklad 3.5: Určete definiční obor funkce $f(x, y) = \sqrt{\left(x^2 + \frac{(y-2)^2}{4} - 1\right) \cdot (x^2 + y^2 - 6 \cdot x)}$ a zakreslete jej v rovině.

Řešení: Výraz pod odmocninou musí být nezáporný, tj.

$$\left(x^2 + \frac{(y-2)^2}{4} - 1\right) \cdot (x^2 + y^2 - 6 \cdot x) \geq 0.$$

Předchozí nerovnost se nám rozpadne na 2 případy, které bychom dále upravovali. V tuto chvíli však již můžeme využít příkazu `implicitplot` a příslušnou oblast – definiční obor funkce $f(x, y)$ – rovnou vykreslit. Opět je nutné specifikovat některý z parametrů „kvality“ zobrazení, použijeme proto například znovu parametr `gridrefine` (obrázek 3.9).



Obrázek 3.9: Řešení příkladu 3.5.

Příklad 3.6: U následujících funkcí určete jejich definiční obor a zobrazte jej v rovině:

- | | |
|--|---|
| (a) $f(x, y) = \sqrt{1 - x^2 - 4 \cdot y^2}$, | (d) $f(x, y) = \arccos\left(\frac{x}{x+y}\right)$, |
| (b) $f(x, y) = \sqrt{\sin(x^2 + y^2)}$, | (e) $f(x, y) = \sqrt{1 - x^2} + \sqrt{1 - y^2}$, |
| (c) $f(x, y) = \ln(x + y)$, | (f) $f(x, y) = \ln(x \cdot \ln(y - x))$. |

V systému Maple je možné vykreslovat též vrstevnice funkcí dvou proměnných, tj. množiny bodů se stejnou funkční hodnotou. Slouží k tomu příkaz `contourplot`, případně je možné vrstevnice zakreslit do grafu funkce nastavením parametru `style` příkazu `plot3d` na hodnotu `patchcontour` (lze nastavit i dodatečně v kontextové liště či kontextovém menu).

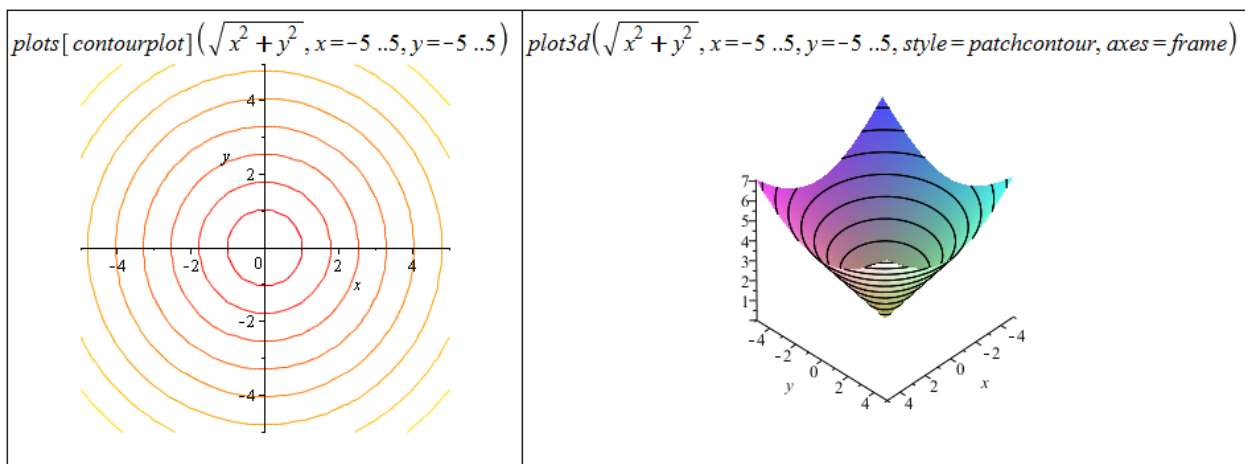
Příkazům `contourplot` a `plot3d` můžeme dále zadat parametr `contours` určující, kolik vrstevnic se zobrazí⁴, případně jaké vrstevnice (tj. vrstevnice jakých funkčních hodnot)⁵.

Příklad 3.7: Zobrazte vrstevnice následujících funkcí:

- | | |
|---------------------------------------|-------------------------------|
| (a) $f(x, y) = x^2 - y^2$, | (c) $f(x, y) = \frac{x}{y}$, |
| (b) $f(x, y) = \frac{1}{x^2 + y^2}$, | (d) $f(x, y) = x \cdot y$. |

⁴zadáme přirozené číslo

⁵zadáme seznam funkčních hodnot



Obrázek 3.10: Zobrazení vrstevnic funkce dvou proměnných.

3.2 Limita a spojitost funkce více proměnných

3.2.1 Limita funkce

Definice 3.1: Řekneme, že funkce $f(x, y)$ má v bodě $[x_0, y_0] \in \mathbb{R}^2$ limitu $L \in \mathbb{R}$, jestliže ke každému $\varepsilon > 0$ existuje $\delta > 0$ tak, že pro všechny $[x, y]$ splňující $|x - x_0| < \delta$, $|y - y_0| < \delta$ a $[x, y] \neq [x_0, y_0]$ platí $|f(x, y) - L| < \varepsilon$, a píšeme

$$\lim_{(x,y) \rightarrow (x_0,y_0)} f(x, y) = L.$$

Poznámka 3.1: Analogicky k vlastním a nevlastním bodům a limitám definujeme tyto body i v prostoru \mathbb{R}^2 . Limita se nazývá nevlastní, jestliže je rovna ∞ nebo $-\infty$. V opačném případě se nazývá vlastní. Nevlastní bod je bod s alespoň jednou souřadnicí rovnou ∞ nebo $-\infty$, tj. bod typu $[a, \pm\infty]$ nebo $[\pm\infty, a]$, kde $a \in \mathbb{R} \cup \{-\infty, \infty\}$.

Poznámka 3.2: Taktéž analogicky definujeme příslušné pojmy v prostoru dimenze větší než 2.

Poznámka 3.3: Zásadní rozdíl mezi limitou funkce jedné proměnné a limitou funkce dvou proměnných spočívá v okolí limitního bodu a tedy směru přibližování k limitnímu bodu. U funkce jedné proměnné se blížíme pouze po jedné přímce (a to zleva nebo zprava). Naproti tomu u funkce dvou (a více) proměnných se k limitnímu bodu blížíme po různých přímkách, parabolách či jiných množinách. Pokud v daném bodě limita existuje, nesmí záležet na cestě, po jaké se k tomuto bodu přibližujeme.

V systému Maple máme možnost počítat limity funkcí dvou (i více) proměnných. Nemáme k tomu však již symbol v paletě **Expression**, a tak musíme použít příkaz **limit**. Příkaz používáme jediný, limitní bod zapíšeme do složených závorek. Pokud bychom použili příkaz dvakrát za sebou vždy pro jednu proměnnou, tj. např. `limit(limit(f(x), x=a), y=b)`, nepočítali bychom dříve definovanou limitu – k limitnímu bodu se totiž v tomto případě blížíme pouze ve dvou směrech (nejprve po ose x a následně po ose y).

$\text{limit}(x^2 \cdot y, \{x=1, y=2\})$	2
$\text{limit}\left(\frac{1}{x \cdot y}, \{x=0, y=0\}\right)$	<i>undefined</i>
Limita funkce tří proměnných	
$\text{limit}(x^2 \cdot y + z, \{x=1, y=2, z=3\})$	5

Obrázek 3.11: Výpočet limity funkce více proměnných.

System Maple limitu v mnohých případech neumí určit, i když limita existuje. Často je proto vhodnější použít „klasický“ způsob určení limity a Maple použít jako pomocníka při dílčích výpočtech a pro vykreslení funkce (výrazu) v blízkosti limitního bodu (pro vyslovení hypotézy o existenci limity a její hodnotě). Pokud je možné do výrazu, jehož limitu počítáme, dosadit, řešení je triviální. Pokud při dosazení dostáváme neurčitý výraz typu „ $\frac{0}{0}$ “ nebo „ $\frac{\infty}{\infty}$ “, upravujeme původní výraz, abychom do něj mohli „dosadit“. Nejběžnějšími úpravami jsou rozšíření zlomků, použití (součtových) vzorců či substituce.

Klíčová je otázka, zda limita vůbec existuje. Pokud očekáváme, že zadaný výraz nemá limitu, je možné využít přibližování k limitnímu bodu z různých směrů (tj. např. po různých přímkách, po přímkách a po parabolách, ...). Pokud dostaneme různé výsledky (limity), limita neexistuje. Často je využívána transformace do polárních souřadnic a následné přibližování se k limitnímu bodu po kružnicích. V tomto případě je nutné mít na paměti, že výsledná limita nesmí záviset na úhlu (φ) a že přibližování se po kružnici je opět pouze jeden z možných způsobů přibližování se k limitnímu bodu! Nicméně existuje tvrzení, které nám za jistých předpokladů dovolí určit limitu funkce (výrazu) použitím jen této metody.

Poznámka 3.4: Platí-li pro funkci $f(x, y)$ po transformaci do polárních souřadnic

$$\lim_{(x,y) \rightarrow (x_0,y_0)} f(x, y) = \lim_{r \rightarrow 0^+} h(r) \cdot g(\varphi),$$

přičemž

$$\lim_{r \rightarrow 0^+} h(r) = 0 \text{ a } g(\varphi) \text{ je ohraničená pro } \varphi \in [0, 2 \cdot \pi),$$

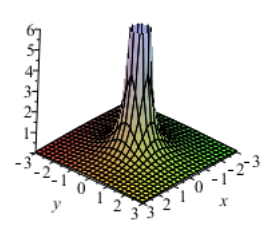
pak

$$\lim_{(x,y) \rightarrow (x_0,y_0)} f(x, y) = 0.$$

Příklad 3.8: Určete $\lim_{(x,y) \rightarrow (0,0)} \frac{1}{x^2+y^2}$.

Řešení: Právě v tomto případě od systému Maple obdržíme chybné řešení.

Již první pohled nám napovídá, že by limita měla existovat a měla být rovna ∞ . K určení limity musíme vyjít z definice nevlastní limity. Potřebujeme ukázat, že pro libovolně velké $M \in \mathbb{R}$ existuje $\delta > 0$ tak, že pro všechna $[x, y]$ splňující $|x| < \delta$, $|y| < \delta$ a $[x, y] \neq [0, 0]$ platí $f(x, y) > M$.

<p>Použití systému Maple k výpočtu limity:</p> $\text{limit}\left(\frac{1}{x^2 + y^2}, \{x=0, y=0\}\right)$ <p style="text-align: center; color: blue;">undefined</p>	$\text{plot3d}\left(\frac{1}{x^2 + y^2}, x=-3..3, y=-3..3, \text{axes}=\text{frame}, \text{view}=[-3..3, -3..3, 0..6]\right)$ 
--	--

Obrázek 3.12: Pokus o získání řešení příkladu 3.8 v Maple.

Mějme proto libovolné, ale pevné $M \in \mathbb{R}$. Položme $\delta = \frac{1}{\sqrt{2 \cdot |M|}}$. Pro $[x, y]$ splňující $|x| < \delta$, $|y| < \delta$ a $[x, y] \neq [0, 0]$ nyní platí: $x^2 + y^2 < 2 \cdot \delta^2 = \frac{1}{|M|}$. Z toho už vidíme, že skutečně $f(x, y) > M$ pro tato $[x, y]$, a tedy

$$\lim_{(x,y) \rightarrow (0,0)} \frac{1}{x^2 + y^2} = \infty.$$

Příklad 3.9: Určete $\lim_{(x,y) \rightarrow (0,0)} \frac{x^2 \cdot y^2}{x^2 + y^2}$.

Řešení: Od systému Maple nezískáme řešení. Nejprve musíme „odhadnout“, zda limita existuje a pokud ano, čemu je rovna. Z toho vyvodíme postup, jakým vyslovenou hypotézu dokázat. Díky tvaru zadání nemusíme uvažovat nad změnami znamének, funkční hodnoty jsou vždy nezáporné. Když se budou x a y blížit k nule, budou „velmi malá“. Přitom pro $|x| < 1$ a $|y| < 1$ platí $x^2 + y^2 > x^2 \cdot y^2$ a podíl čitatele a jmenovatele bude tím menší, čím menší (v absolutní hodnotě) budou x a y . To nás přivádí na myšlenku, že limita existuje a je rovná nule.

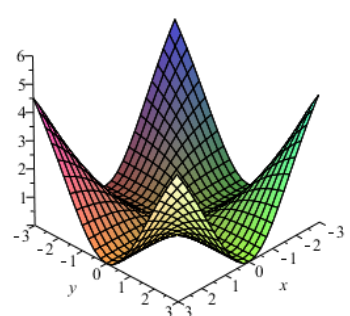
Nyní bychom mohli opět postupovat podle definice. Vzali bychom libovolné, ale pevné ε a k němu bychom „vytvořili“ δ tak, abychom splnili předpoklady definice 3.1 pro $L = 0$.

Zkusme však k výpočtu limity použít transformaci do polárních souřadnic, tzn. provést substituci: $[x, y] = [r \cdot \cos(\varphi), r \cdot \sin(\varphi)]$.

Získali jsme (viz obrázek 3.13) výsledek tvaru $r^2 \cdot \cos^2(\varphi) \cdot \sin^2(\varphi)$. Aplikací poznámky 3.4 dostáváme $h(r) = r^2$ a $g(\varphi) = \cos^2(\varphi) \cdot \sin^2(\varphi)$. Platí, že $\lim_{r \rightarrow 0^+} h(r) = 0$ a $g(\varphi)$ je ohraničená pro $\varphi \in [0, 2 \cdot \pi)$. Tedy

$$\lim_{(x,y) \rightarrow (0,0)} \frac{x^2 \cdot y^2}{x^2 + y^2} = 0.$$

Příklad 3.10: Určete $\lim_{(x,y) \rightarrow (0,0)} \frac{x^2 \cdot y^2}{x^2 + y^2}$ přímo z definice limity.

<p>Použití systému Maple k výpočtu limity:</p> $\text{limit}\left(\frac{x^2 \cdot y^2}{x^2 + y^2}, \{x=0, y=0\}\right)$ $\text{limit}\left(\frac{x^2 \cdot y^2}{x^2 + y^2}, \{x=0, y=0\}\right)$ <p>Transformace do polárních souřadnic:</p> $\text{subs}\left(\{x=r \cdot \cos(\varphi), y=r \cdot \sin(\varphi)\}, \frac{x^2 \cdot y^2}{x^2 + y^2}\right)$ $\frac{r^4 \cos(\varphi)^2 \sin(\varphi)^2}{r^2 \cos(\varphi)^2 + r^2 \sin(\varphi)^2}$ <p>Zjednodušení:</p> $\text{simplify}(\%)$ $r^2 \cos(\varphi)^2 \sin(\varphi)^2$	$\text{plot3d}\left(\frac{x^2 \cdot y^2}{x^2 + y^2}, x=-3..3, y=-3..3, \text{axes}=\text{frame}, \text{view}=[-3..3, -3..3, 0..6]\right)$ 
--	--

Obrázek 3.13: Řešení příkladu 3.9.

Příklad 3.11: Určete:

(a) $\lim_{(x,y) \rightarrow (0,0)} \frac{x-2 \cdot y}{3 \cdot x+y}$,

(e) $\lim_{(x,y) \rightarrow (0,0)} \frac{x \cdot y}{\sqrt{x^2+y^2}}$,

(b) $\lim_{(x,y) \rightarrow (0,0)} \frac{x^3 \cdot y}{x^4+y^4}$,

(f) $\lim_{(x,y) \rightarrow (0,2)} \frac{\sin(x \cdot y)}{x}$,

(c) $\lim_{(x,y) \rightarrow (0,0)} \frac{x \cdot y}{x^2+y^2}$,

(g) $\lim_{(x,y) \rightarrow (0,0)} \frac{\sqrt{x^2+y^2+1}-1}{x^2+y^2}$.

3.2.2 Spojitost funkce

Definice 3.2: Řekneme, že funkce $f(x, y)$ je spojitá v bodě $[x_0, y_0] \in \mathbb{R}^2$, jestliže má v tomto bodě vlastní limitu a platí

$$\lim_{(x,y) \rightarrow (0,0)} f(x, y) = f(x_0, y_0).$$

V systému Maple máme pro hledání bodů nespojitosti funkce jedné proměnné příkaz `discont`. Ten však „funguje“ jen pro funkce jedné proměnné. Pro funkce více proměnných můžeme využít příkazu `singular` hledajícího tzv. singularity. Jeho použitím pak můžeme odhalit některé body nespojitosti. Příkaz `singular` má však několik „nedostatků“ (resp. „omezení“), takže je vhodnější hledat nespojitosti „klasicky“ a Maple využívat k dílčím úkolům.

Příklad 3.12: Je funkce

$$f(x, y) = \begin{cases} \frac{x^3 \cdot y}{x^4+y^4} & \dots [x, y] \neq [0, 0] \\ 0 & \dots [x, y] = [0, 0] \end{cases}$$

spojitá na celém \mathbb{R}^2 ?

Řešení: V příkladu 3.11.(b) pilný čtenář zjistil, že funkce $f(x, y)$ nemá v bodě $[0, 0]$ limitu. Podle definice 3.2 proto $f(x, y)$ není v tomto bodě spojitá.

Příklad 3.13: Určete body nespojitosti u následujících funkcí:

(a) $f(x, y) = \frac{1}{\sqrt{x^2+y^2}},$

(b) $f(x, y) = \sin\left(\frac{1}{x \cdot y}\right),$

(c) $f(x, y) = \arccos\left(\frac{x}{y}\right),$

(d) $f(x, y) = \ln|1 - x^2 - y^2|,$

(e) $f(x, y) = \begin{cases} \frac{x^2 \cdot y^2}{x^2+y^2} & \dots [x, y] \neq [0, 0] \\ 0 & \dots [x, y] = [0, 0] \end{cases}.$

Příklad 3.14: Určete $C \in \mathbb{R}$ tak, aby byla následující funkce spojitá v bodě $[0, 0]$:

(a) $f(x, y) = \begin{cases} \frac{\sqrt{x^2+y^2+1}-1}{x^2+y^2} & \dots [x, y] \neq [0, 0] \\ C & \dots [x, y] = [0, 0] \end{cases},$

(b) $f(x, y) = \begin{cases} \frac{x \cdot y}{x^2+y^2} & \dots [x, y] \neq [0, 0] \\ C & \dots [x, y] = [0, 0] \end{cases}.$

3.3 Parciální derivace funkce více proměnných

Definice 3.3: Nechť je funkce $f(x, y)$ definována v bodě $[x_0, y_0]$ a nějakém jeho okolí. Položme $\varphi(x) = f(x, y_0)$. Existuje-li derivace funkce $\varphi(x)$ v bodě x_0 , nazýváme tuto derivaci parciální derivací funkce $f(x, y)$ podle proměnné x v bodě $[x_0, y_0]$ a značíme $f'_x(x_0, y_0)$ (resp. $\frac{\partial f(x_0, y_0)}{\partial x}$).

Poznámka 3.5: Předchozí definici můžeme zapsat následovně:

$$f'_x(x_0, y_0) = \lim_{x \rightarrow x_0} \frac{f(x, y_0) - f(x_0, y_0)}{x - x_0}.$$

Poznámka 3.6: Analogicky definujeme $f'_y(x_0, y_0)$ (resp. $\frac{\partial f(x_0, y_0)}{\partial y}$) či parciální derivace funkcí více proměnných.

V systému Maple máme několik možností, jak určovat parciální derivace funkcí (výrazů). Jednak máme v paletě **Expression** již předdefinované symboly pro derivaci ($\frac{d}{dx}f$, $\frac{\partial}{\partial x}f$), využít můžeme též příkaz **diff** fungující pro výrazy libovolného počtu proměnných. Můžeme též zapsat výraz (funkci) do dokumentu, kliknout pravým tlačítkem myši a z kontextové nabídky zvolit **Differentiate** a proměnnou, podle níž chceme derivovat. Oproti derivaci funkce

jedné proměnné není možné nyní používat apostrof jako symbol pro derivaci. Respektive to možné je, ale apostrof má význam parciální derivace podle proměnné x , takže můžeme tímto způsobem derivovat pouze podle této proměnné.

Stále musíme mít na paměti rozdíl mezi funkcí a výrazem (jak to „vnímá“ Maple, který většinou pracuje s výrazem). Pro derivování funkcí z pohledu systému Maple (tj. funkčních operátorů) máme příkaz `D` (s nímž jsme se setkali již v případě funkcí jedné proměnné, viz sekce 2.5). Na obrázku 3.14 vidíme, že výsledek použití příkazu `D` může být poněkud matoucí (viz výsledek příkazu `D[2](g)`, kde by bylo vhodnější obdržet $(x, y) \rightarrow 1$). Příkaz `D` totiž vždy vrací opět funkci (funkční operátor).

$g := (x, y) \rightarrow x^2 + y$	<code>D[1](g)</code>
$(x, y) \rightarrow x^2 + y$	$(x, y) \rightarrow 2x$
$\frac{\partial}{\partial x} g(x, y)$	<code>D[2](g)</code>
$2x$	1
$\frac{d}{dx} g(x, y)$	$g \xrightarrow{\text{differentiate w.r.t. 1}} (x, y) \rightarrow 2x$
$2x$	$g \xrightarrow{\text{differentiate w.r.t. 2}} 1$
$\text{diff}(g(x, y), x)$	<code>D[1](g)(3)</code>
$2x$	6
$g(x, y) \xrightarrow{\text{differentiate w.r.t. x}} 2x$	<code>D[2](g)(3)</code>
$\frac{\partial}{\partial y} g(x, y)$	1
1	
$\frac{d}{dy} g(x, y)$	
1	
$\text{diff}(g(x, y), y)$	
1	
$g(x, y) \xrightarrow{\text{differentiate w.r.t. y}} 1$	

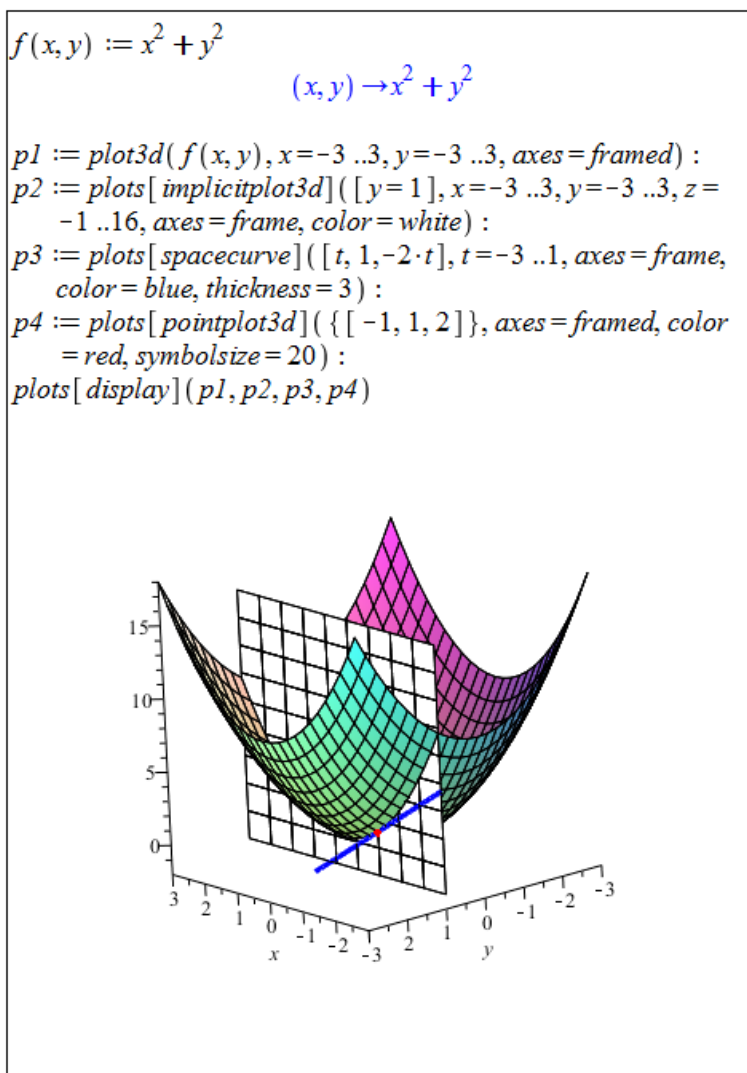
Obrázek 3.14: Výpočet parciální derivace v Maple.

Poznámka 3.7: Podobně jako v případě derivace funkce jedné proměnné má svůj geometrický význam i parciální derivace funkce dvou proměnných. Také parciální derivace funkce $f(x, y)$ v bodě $[x_0, y_0]$ je směrnici tečny k funkci $f(x, y)$, a to v bodě $[x_0, y_0, f(x_0, y_0)]$. Takových tečen je však nekonečně mnoho. Konkrétně parciální derivace funkce $f(x, y)$ podle proměnné x je směrnici tečny ke křivce vzniklé jako průsečík grafu funkce $f(x, y)$ a roviny $y = y_0$. Podobně parciální derivace funkce $f(x, y)$ podle proměnné y je směrnici tečny ke křivce vzniklé jako průsečík grafu funkce $f(x, y)$ a roviny $x = x_0$.

Tvrzení poznámky 3.7 nyní zobrazíme graficky. Na pomoc si vezmeme funkci $f(x, y) = x^2 + y^2$ a budeme počítat její parciální derivaci v bodě $[-1, 1]$ podle proměnné x . Podle zmíněné poznámky je tato parciální derivace směrnici tečny v bodě $[-1, 1, 2]$ ke křivce vzniklé jako průsečík funkce $f(x, y)$ a roviny $y = 1$. Pro vykreslení funkce $f(x, y)$ použijeme již známý příkaz `plot3d`. Pro vykreslení roviny $y = 1$ použijeme příkaz `implicitplot3d` k vykreslování objektů v třírozměrném prostoru zadaných implicitně. Následně vykreslíme tečnu

k funkci $f(x, y)$ (jejíž směrnici určuje parciální derivace) příkazem `spacecurve` pro vykreslování prostorových křivek zadaných parametricky.

Rovnice tečny je dána rovnicí $z = k \cdot x + q$, přičemž hodnota k je právě parciální derivace funkce $f(x, y)$ v bodě $[-1, 1]$ a je tedy rovna -2 . Bod q již dopočítáme dosazením bodu dotyku $([-1, 1, 2])$ tečny k funkci $f(x, y)$. Nakonec do grafu ještě pro názornost zaneseme bod dotyku pomocí příkazu `pointplot3d`. Vše vykreslíme najednou příkazem `display` a získáme obrázek 3.15⁶.



Obrázek 3.15: Geometrický význam parciální derivace.

Definice 3.4: Nechť bod $[x_0, y_0]$ patří do definičního oboru parciální derivace funkce $f(x, y)$. Existuje-li parciální derivace funkce $f'_x(x_0, y_0)$ podle proměnné x v bodě $[x_0, y_0]$, nazýváme tuto derivaci parciální derivací 2. řádu funkce $f(x, y)$ v bodě $[x_0, y_0]$ podle proměnné x a značíme

$$f''_{xx}(x_0, y_0) \left(\text{resp. } \frac{\partial^2 f(x_0, y_0)}{\partial x^2} \right).$$

⁶Všechny použité příkazy kromě příkazu `plot3d` náležejí balíku `plots`, který je potřeba načíst před jejich použitím (případně používat spolu s voláním příslušného balíku).

Existuje-li parciální derivace funkce $f'_x(x_0, y_0)$ podle proměnné y v bodě $[x_0, y_0]$, nazýváme tuto derivaci smíšenou parciální derivací 2. řádu funkce $f(x, y)$ v bodě $[x_0, y_0]$ a značíme

$$f''_{xy}(x_0, y_0) \left(\text{resp. } \frac{\partial^2 f(x_0, y_0)}{\partial x \partial y} \right).$$

Poznámka 3.8: Analogicky definujeme „zbylé“ parciální derivace 2. řádu a parciální derivace vyšších řádů.

V systému Maple postupujeme při zadávání parciálních derivací vyšších řádů podobně, jak tomu bylo u derivací vyšších řádů v případě funkce jedné proměnné.

$f := (x, y, z) \rightarrow \ln(x^2 + y^2 + z^2)$ $(x, y, z) \rightarrow \ln(x^2 + y^2 + z^2)$	
$\frac{\partial}{\partial x} f(x, y, z)$ $\frac{2x}{x^2 + y^2 + z^2}$	$D[1](f)$ $(x, y, z) \rightarrow \frac{2x}{x^2 + y^2 + z^2}$
$\frac{\partial^2}{\partial x^2} f(x, y, z)$ $\frac{2}{x^2 + y^2 + z^2} - \frac{4x^2}{(x^2 + y^2 + z^2)^2}$	$D[1](D[1](f))$ $(x, y, z) \rightarrow \frac{2}{x^2 + y^2 + z^2} - \frac{4x^2}{(x^2 + y^2 + z^2)^2}$
$\text{diff}(f(x, y, z), x)$ $\frac{2x}{x^2 + y^2 + z^2}$	
$\text{diff}(f(x, y, z), x, x)$ $\frac{2}{x^2 + y^2 + z^2} - \frac{4x^2}{(x^2 + y^2 + z^2)^2}$	$D[1](D[2](f))$ $(x, y, z) \rightarrow -\frac{4yx}{(x^2 + y^2 + z^2)^2}$
$\frac{\partial^2}{\partial x \partial y} f(x, y, z)$ $-\frac{4xy}{(x^2 + y^2 + z^2)^2}$	$D[2](D[1](f))$ $(x, y, z) \rightarrow -\frac{4yx}{(x^2 + y^2 + z^2)^2}$
$\text{diff}(f(x, y, z), x, y)$ $-\frac{4xy}{(x^2 + y^2 + z^2)^2}$	$D[2](D[2](f))$ $(x, y, z) \rightarrow \frac{2}{x^2 + y^2 + z^2} - \frac{4y^2}{(x^2 + y^2 + z^2)^2}$

Obrázek 3.16: Parciální derivace vyšších řádů funkcí více proměnných.

Poznámka 3.9: (Schwarzova věta) Nechť má funkce $f(x, y)$ spojitě smíšené parciální derivace f''_{xy} a f''_{yx} v bodě $[x_0, y_0]$. Pak platí:

$$f''_{xy}(x_0, y_0) = f''_{yx}(x_0, y_0).$$

Příklad 3.15: Určete všechny parciální derivace 1. a 2. řádu u následujících funkcí:

- (a) $f(x, y) = x^2 \cdot y + \ln\left(\frac{x}{y}\right)$, (c) $f(x, y) = x^y$,
 (b) $f(x, y) = (x^2 \cdot y + y)^4$, (d) $f(x, y) = x \cdot y \cdot \ln(x + y)$.

Příklad 3.16: Určete všechny parciální derivace 1. řádu funkce $f(x, y)$ v bodě A :

- (a) $f(x, y) = \ln\left(x + \sqrt{x^2 + y^2}\right)$, $A = [1, 2]$,
 (b) $f(x, y) = (1 + \log_y(x))^3$, $A = [e, e]$,
 (c) $f(x, y) = \ln\left(x + \frac{y}{2 \cdot x}\right)$, $A = [1, 2]$.

3.3.1 Směrové derivace

Definice 3.5: Nechť f je funkce n proměnných, $X = [x_1, x_2, \dots, x_n]$ vnitřní bod $D(f)$ a $\mathbf{u} = (u_1, u_2, \dots, u_n)$ vektor. Nechť $\varphi(t) = f(X + t \cdot \mathbf{u})$. Má-li funkce $\varphi(t)$ derivaci v bodě $t = 0$, nazýváme ji derivací funkce f v bodě X ve směru vektoru \mathbf{u} nebo také *směrovou derivací* funkce f a označujeme ji $f'_\mathbf{u}(X)$. Tedy:

$$f'_\mathbf{u}(X) = \lim_{t \rightarrow 0} \frac{\varphi(t) - \varphi(0)}{t} = \lim_{t \rightarrow 0} \frac{f(X + t \cdot \mathbf{u}) - f(X)}{t}.$$

Směrové derivace můžeme počítat buď rovnou z definice nebo využijeme příkaz balíku Student [MultivariateCalculus] s názvem DirectionalDerivative.

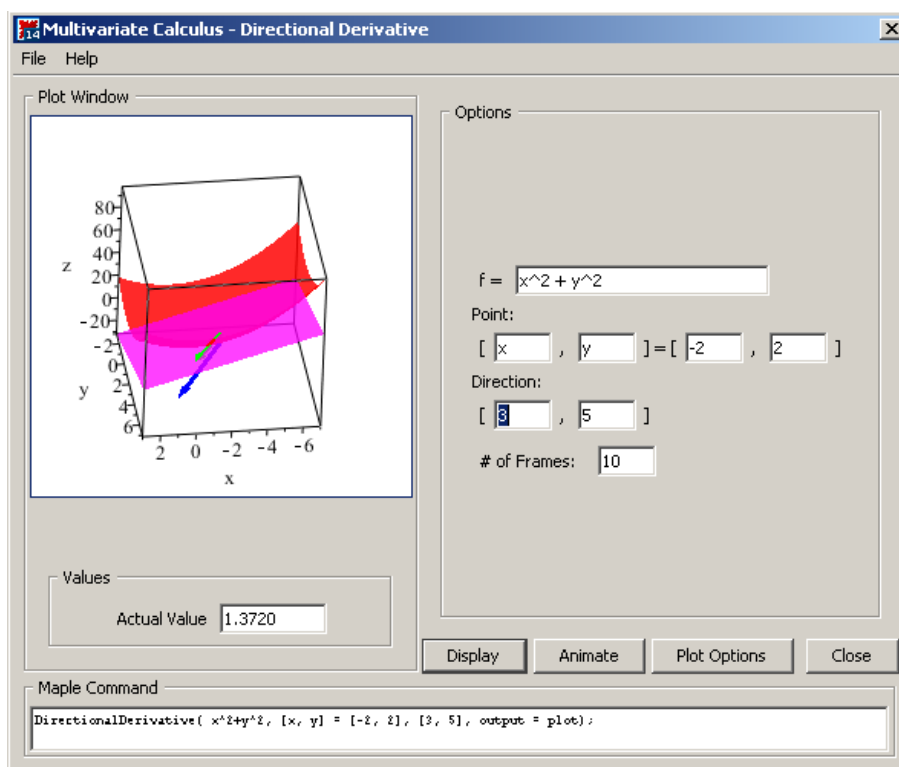
Příklad 3.17: Vypočtete směrovou derivaci funkce $f(x, y) = x^2 + y^2$ v bodě $[-2, 2]$ ve směru vektoru $u = (3, 5)$.

Řešení: Využijeme příkazu DirectionalDerivative, který má 3 povinné parametry – výraz, bod, v němž hledáme směrovou derivaci, a příslušný směr (obrázek 3.17).

with(Student[MultivariateCalculus]) :
 DirectionalDerivative($x^2 + y^2$, $[x, y] = [-2, 2]$, $[3, 5]$)
 $\frac{4}{17} \sqrt{34}$

Obrázek 3.17: Řešení příkladu 3.17.

System Maple nabízí dále maplet s názvem **Directional Derivative**, který můžeme spustit z hlavní nabídky: **Tools > Tutors > Calculus - Multi-Variable > Directional Derivatives...** Maplet pro zadanou funkci, bod a směr vypočítá směrovou derivaci a zobrazí ji graficky spolu s funkcí a tečnou rovinou v daném bodě. V mapletu je dále možné zobrazit animaci sestávající ze směrových derivací v různých směrech ve stejném bodě (ukázkou poskytuje obrázek 3.18).



Obrázek 3.18: Maplet zobrazující směrové derivace.

Příklad 3.18: Určete směrovou derivaci funkce

(a) $f(x, y) = \arctan(x \cdot y)$ v bodě $[1, 1]$ ve směru vektoru $\mathbf{u} = \left(\frac{\sqrt{2}}{2}, \frac{\sqrt{2}}{2}\right)$,

(b) $f(x, y) = \ln(e^x + e^y)$ v bodě $[0, 0]$ ve směru vektoru $\mathbf{u} = (\cos(\alpha), \sin(\alpha))$.

3.3.2 Diferenciál

Definice 3.6: Řekneme, že funkce $f(x, y)$ je *diferencovatelná* v bodě $[x_0, y_0]$, jestliže existují reálná čísla A, B tak, že

$$\lim_{(h,k) \rightarrow (0,0)} \frac{f(x_0 + h, y_0 + k) - f(x_0, y_0) - (A \cdot h + B \cdot k)}{\sqrt{h^2 + k^2}} = 0.$$

Lineární funkce $A \cdot h + B \cdot k$ proměnných h, k se nazývá (*totální*) *diferenciál funkce* v bodě $[x_0, y_0]$ a značí se $df(x_0, y_0)(h, k)$, resp. $df(x_0, y_0)$.

Poznámka 3.10: Je-li funkce $f(x, y)$ diferencovatelná v bodě $[x_0, y_0]$, pak má v tomto bodě parciální derivace a platí $A = f'_x(x_0, y_0), B = f'_y(x_0, y_0)$, tj.

$$df(x_0, y_0) = f'_x(x_0, y_0) \cdot h + f'_y(x_0, y_0) \cdot k.$$

Poznámka 3.11: Tečná rovina k funkci $f(x, y)$ v bodě $T = [x_0, y_0, f(x_0, y_0)]$ má tvar

$$z = f(x_0, y_0) + f'_x(x_0, y_0) \cdot (x - x_0) + f'_y(x_0, y_0) \cdot (y - y_0).$$

Podobně jako v případě funkce jedné proměnné využíváme diferenciál k výpočtům odhadů funkčních hodnot v okolí bodu, v němž funkční hodnotu známe. I tady pochopitelně platí, že samotný systém Maple určí funkční hodnotu přesněji. Přesto jej můžeme využít k dílčím výpočtům a kontrole přesnosti získaných aproximací.

Příklad 3.19: Určete přibližně: $\sqrt{1.02^3 + 1.97^3}$.

Řešení: Budeme uvažovat funkci $f(x, y) = \sqrt{x^3 + y^3}$. Aproximaci získáme podle vztahu:

$$f(x_0 + h, y_0 + k) \approx f(x_0, y_0) + df(x_0, y_0) = f(x_0, y_0) + f'_x(x_0, y_0) \cdot (x - x_0) + f'_y(x_0, y_0) \cdot (y - y_0).$$

V našem případě: $[x_0, y_0] = [1, 2]$, $[x, y] = [1.02, 1.97]$. Systém Maple využijeme k výpočtu parciálních derivací v příslušných bodech a celkovému součtu vypočtených hodnot (obrázek 3.19).

$f := (x, y) \rightarrow \sqrt{x^3 + y^3}$
 $(x, y) \rightarrow \sqrt{x^3 + y^3}$

$der_x := \frac{\partial}{\partial x} f(x, y)$
 $\frac{3}{2} \frac{x^2}{\sqrt{x^3 + y^3}}$

$der_y := \frac{\partial}{\partial y} f(x, y)$
 $\frac{3}{2} \frac{y^2}{\sqrt{x^3 + y^3}}$

S přesností na 10 míst: $\sqrt{1.02^3 + 1.97^3} = 2.950691614$

Přibližně pomocí diferenciálu: $\sqrt{1.02^3 + 1.97^3} \approx$
 $evalf(\sqrt{1^3 + 2^3} + eval(der_x, \{x=1, y=2\}) \cdot (1.02 - 1)$
 $+ eval(der_y, \{x=1, y=2\}) \cdot (1.97 - 2))$
 2.950000000

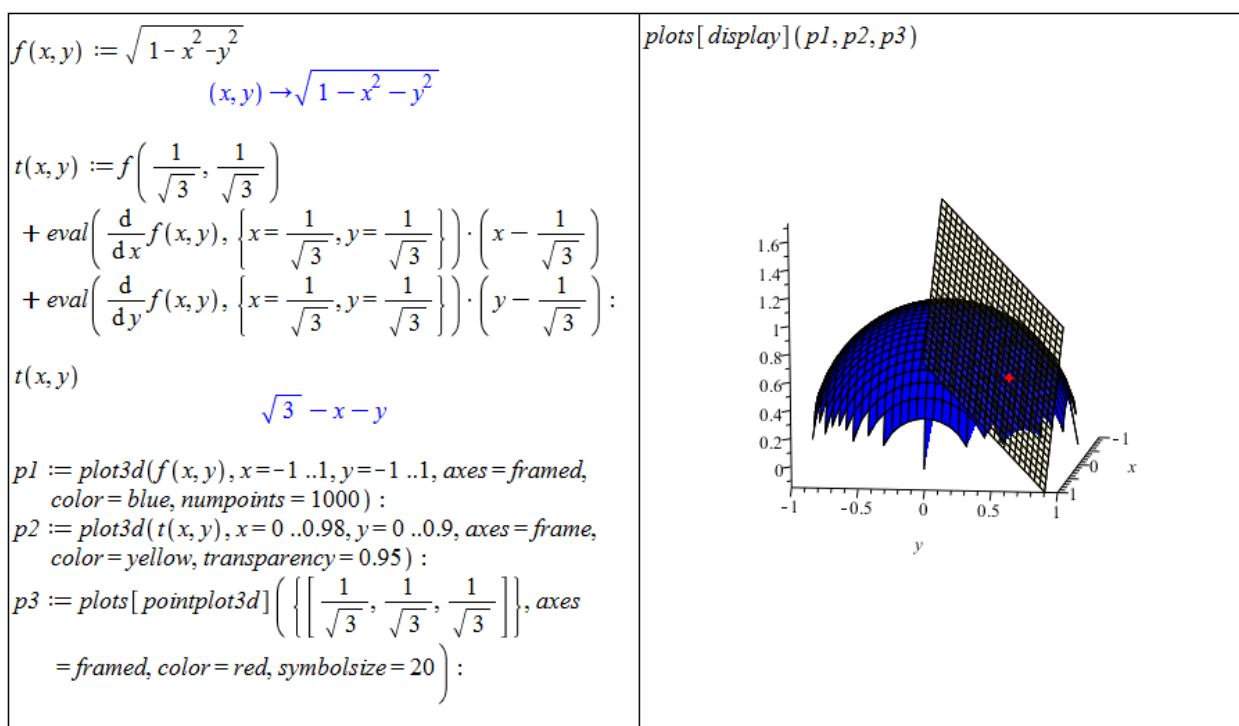
Obrázek 3.19: Řešení příkladu 3.19.

Příklad 3.20: Určete přibližně:

- (a) $3.05^{0.99}$, (c) $\arctan\left(\frac{1.02}{0.95}\right)$,
 (b) $\sqrt{3.05} \cdot \cos(62^\circ)$, (d) $\log_4(4.01 \cdot 0.97^2)$.

Příklad 3.21: Určete rovnici tečné roviny k funkci $f(x, y) = \sqrt{1 - x^2 - y^2}$ v bodě $\left[\frac{1}{\sqrt{3}}, \frac{1}{\sqrt{3}}, \frac{1}{\sqrt{3}}\right]$ a rovinu i s funkcí vykreslete.

Řešení: Vyjdeme z poznámky 3.11. V Maple vykreslíme funkci $f(x, y)$ i tečnou rovinu pomocí příkazu `plot3d` (v němž nastavíme parametr průhlednosti – `transparency` – pro větší přehlednost), navíc doplníme i bod dotyku tečné roviny příkazem `pointplot3d` z balíku `plots` (obrázek 3.20).



Obrázek 3.20: Řešení příkladu 3.21.

Příklad 3.22: Určete rovnici tečné roviny a rovinu i s funkcí vykreslete pro:

- (a) funkci $f(x, y) = x^2 + y^2$ v bodě $[2, -1, 5]$,
 (b) funkci $f(x, y) = x^4 + 2 \cdot x^2 \cdot y - x \cdot y + x$ v bodě $[1, 0, 2]$,
 (c) funkci $f(x, y) = \ln(x^2 + y^2)$ v bodě $[2, 1, \ln(5)]$,
 (d) funkci $f(x, y) = e^{x^2+y^2}$ v bodě $[0, 0, 1]$.

3.3.3 Taylorův polynom

Definice 3.7: Necht $n \in \mathbb{N} \cup \{0\}$ a $f(x, y)$ funkce mající v bodě $[x_0, y_0] \in \mathbb{R}^2$ a nějakém jeho okolí spojitě parciální derivace až do řádu n . Polynom

$$T_n^f(x, y) = f(x_0, y_0) + \frac{\partial f}{\partial x}(x_0, y_0) \cdot (x - x_0) + \frac{\partial f}{\partial y}(x_0, y_0) \cdot (y - y_0) + \frac{1}{2!} \cdot \left(\frac{\partial^2 f}{\partial x^2}(x_0, y_0) \cdot (x - x_0)^2 + 2 \cdot \frac{\partial^2 f}{\partial x \partial y}(x_0, y_0) \cdot (x - x_0) \cdot (y - y_0) + \frac{\partial^2 f}{\partial y^2}(x_0, y_0) \cdot (y - y_0)^2 \right) + \dots + \frac{1}{n!} \cdot \sum_{j=0}^n \binom{n}{r} \frac{\partial^n f}{\partial x^{n-j} \partial y^j}(x_0, y_0) \cdot (x - x_0)^{n-j} \cdot (y - y_0)^j$$

se nazývá *Taylorův polynom* stupně n funkce $f(x, y)$ v bodě $[x_0, y_0]$. Funkci

$$R_n^f(x, y) = T_n^f(x, y) - f(x, y)$$

říkáme *Taylorův zbytek* a celý výraz

$$T_n^f(x, y) + R_n^f(x, y)$$

nazýváme *Taylorovým vzorcem*.

Podobně jako v jednorozměrném případě existuje i nyní „předpis“ pro $R_n^f(x, y)$, který nám řekne, „jak dobrou“ aproximaci dané funkce $f(x, y)$ je polynom $T_n^f(x, y)$. My jej potřebovat nebudeme, a proto čtenáře pouze odkážeme na další literaturu (např. [2]).

V systému Maple slouží k získání Taylorova polynomu funkce více proměnných příkaz `mtaylor`. Příkaz má 2 povinné parametry, a to výraz (funkční předpis) a seznam proměnných s případnou specifikací bodu, v němž má být polynom rozvinut. Pokud bod nespecifikujeme, bude použit nulový bod. Můžeme si dále všimnout, že narozdíl od příkazu `taylor` v jednorozměrném případě nyní získáme „pouze“ Taylorův polynom (bez chybového členu). Stejně jako dříve využíváme k nastavení řádu chybového členu systémovou proměnnou `Order`, případně třetí (nepovinný) parametr příkazu `mtaylor` (viz obrázek 3.21).

Příklad 3.23: Určete Taylorův polynom pro

- (a) funkci $f(x, y) = \frac{x}{y}$ v bodě $[1, 1]$,
- (b) funkci $f(x, y) = \frac{\cos(x)}{\sin(y)}$ v bodě $[0, \frac{\pi}{2}]$,
- (c) funkci $f(x, y) = \sin(x + y)$ v bodě $[0, 0]$ tak, aby byl chybový člen řádu 9,
- (d) funkci $f(x, y, z) = (\cos(x + y)) \cdot z$ v bodě $[0, 0, 0]$.

Příklad 3.24: Pomocí Taylorova polynomu určete přibližně:

- (a) $\sqrt{1.02^3 + 1.97^3}$,
- (b) $\sqrt{3.05} \cdot \cos(62^\circ)$,
- (c) $\arctan(\frac{1.02}{0.95})$,
- (d) $\log_4(4.01 \cdot 0.97^2)$.

$$\begin{aligned}
& \text{mtaylor}\left(e^{x^2+y^2}, [x=1, y=1]\right) \\
& e^2 + 2e^2(x-1) + 2e^2(y-1) + 3e^2(x-1)^2 + 4e^2(y-1)(x-1) + 3e^2(y-1)^2 + \frac{10}{3}e^2(x-1)^3 + 6e^2(y-1)(x-1)^2 + 6e^2(y-1)^2(x-1) + \frac{10}{3}e^2(y-1)^3 + \frac{19}{6}e^2(x-1)^4 + \frac{20}{3}e^2(y-1)(x-1)^3 + 9e^2(y-1)^2(x-1)^2 + \frac{20}{3}e^2(y-1)^3(x-1) + \frac{19}{6}e^2(y-1)^4 + \frac{13}{5}e^2(x-1)^5 + \frac{19}{3}e^2(y-1)(x-1)^4 + 10e^2(y-1)^2(x-1)^3 + 10e^2(y-1)^3(x-1)^2 + \frac{19}{3}e^2(y-1)^4(x-1) + \frac{13}{5}e^2(y-1)^5 \\
& \text{mtaylor}\left(e^{x^2+y^2}, [x, y]\right) \\
& 1 + x^2 + y^2 + \frac{1}{2}x^4 + y^2x^2 + \frac{1}{2}y^4 \\
& \text{mtaylor}\left(e^{x^2+y^2}, [x, y], 10\right) \\
& 1 + x^2 + y^2 + \frac{1}{2}x^4 + y^2x^2 + \frac{1}{2}y^4 + \frac{1}{6}x^6 + \frac{1}{2}y^2x^4 + \frac{1}{2}y^4x^2 + \frac{1}{6}y^6 + \frac{1}{24}x^8 + \frac{1}{6}y^2x^6 + \frac{1}{4}y^4x^4 + \frac{1}{6}y^6x^2 + \frac{1}{24}y^8
\end{aligned}$$

Obrázek 3.21: Výpis Taylorova polynomu funkce dvou proměnných.

3.4 Extrémy funkce více proměnných

3.4.1 Lokální extrémy

Definice 3.8: Nechtě $\rho : \mathbb{R}^n \times \mathbb{R}^n \rightarrow \mathbb{R}$ je funkce, pro niž pro libovolná $X, Y, Z \in \mathbb{R}^n$ platí:

- (a) $\rho(X, Y) \geq 0$,
- (b) $\rho(X, Y) = 0 \Leftrightarrow X = Y$,
- (c) $\rho(X, Y) = \rho(Y, X)$,
- (d) $\rho(X, Z) \leq \rho(X, Y) + \rho(Y, Z)$.

Takovou funkci nazýváme *metrikou* (resp. *vzdáleností*) v \mathbb{R}^n . Pomocí metriky definujeme ε -okolí bodu $X \in \mathbb{R}^n$ jako množinu $O_\varepsilon(X) = \{Y \in \mathbb{R}^n \mid \rho(X, Y) < \varepsilon\}$. V případě, že hodnota ε není podstatná, mluvíme pouze o *okolí* bodu X .

Definice 3.9: Řekneme, že funkce $f : \mathbb{R}^n \rightarrow \mathbb{R}$ nabývá v bodě $X^* \in \mathbb{R}^n$ *lokálního maxima*, jestliže existuje okolí bodu X^* takové, že pro všechna X z tohoto okolí platí: $f(X) \leq f(X^*)$. Je-li uvedená nerovnost ostrá, mluvíme o *ostrém lokálním maximu*.

Poznámka 3.12: Zcela analogicky definujeme (*ostré*) *lokální minimum*. Minima a maxima souhrnně nazýváme *extrémy*.

Příklad 3.25: Napište definici lokálního minima.

Definice 3.10: Mějme funkci $f : \mathbb{R}^n \rightarrow \mathbb{R}$. Bod $X^* \in \mathbb{R}^n$ nazveme *stacionárním bodem* funkce f , jestliže v bodě X^* existují všechny parciální derivace funkce f a platí:

$$\frac{\partial f}{\partial x_i}(X^*) = 0 \quad \text{pro } i = 1, \dots, n.$$

Poznámka 3.13: Funkce $f : \mathbb{R}^n \rightarrow \mathbb{R}$ může mít lokální extrém pouze ve svém stacionárním bodě nebo v bodě, kde alespoň jedna z parciálních derivací neexistuje [2].

Poznámka 3.14: Nyní se omezíme pouze na funkce dvou proměnných. Nechť má funkce $f(x, y)$ v okolí bodu $[x_0, y_0]$ spojitě parciální derivace druhého řádu. Označme

$$H_1 = f''_{xx}(x_0, y_0), \quad H_2 = \begin{vmatrix} f''_{xx}(x_0, y_0) & f''_{xy}(x_0, y_0) \\ f''_{yx}(x_0, y_0) & f''_{yy}(x_0, y_0) \end{vmatrix}.$$

Pak:

- Když $H_2 > 0$, má funkce $f(x, y)$ v bodě $[x_0, y_0]$ ostrý lokální extrém.
 - (a) Pokud navíc $H_1 > 0$, pak je v bodě $[x_0, y_0]$ lokální minimum.
 - (b) Pokud navíc $H_1 < 0$, pak je v bodě $[x_0, y_0]$ lokální maximum.
- Když $H_2 < 0$, nemá funkce $f(x, y)$ v bodě $[x_0, y_0]$ lokální extrém.
- Když $H_2 = 0$, neumíme o existenci extrému tímto způsobem rozhodnout.

Matici druhých derivací funkce $f(x, y)$, jejíž determinant jsme označili H_2 , nazýváme *Hessovou maticí*, její determinant, H_2 , označujeme jako *hessián*.

V systému Maple je opět několik cest, po nichž můžeme dospět k lokálním extrémům zadané funkce. K dispozici máme několik příkazů, které nám mohou pomoci při dílčím výpočtu, případně i nalezení některého z extrémů, žádný příkaz však obecně nedokáže najít všechny lokální extrémy. Nejuniverzálnější cesta je projít výše popsany postup, který známe z přednášky. Systém Maple přitom můžeme využít k vykreslení zadané funkce, výpočtu parciálních derivací (případně rovnou k výpočtu stacionárních bodů pomocí příkazu `extrema`), výpočtu Hessovy matice či jejího determinantu. K výpočtu Hessovy matice slouží příkaz `Hessian` z balíku `VectorCalculus`. Pro výpočet determinantu je určen příkaz `Determinant` z balíku `LinearAlgebra`.

Příklad 3.26: Najděte lokální extrémy funkce $f(x, y) = (x - 2)^2 + (y - 3)^2 + 5$.

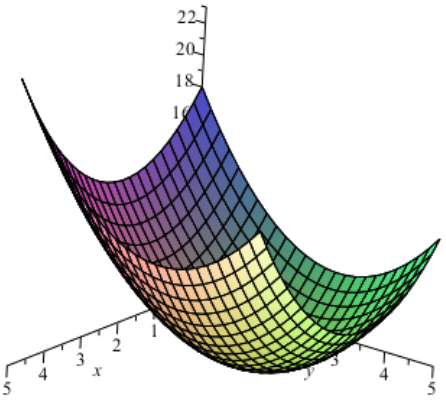
Řešení: Využijeme příkaz `extrema` k nalezení stacionárních bodů. Následně vypočítáme Hessovu matici příkazem `Hessian` a její determinant příkazem `Determinant`. Na základě poznámky 3.14 pak rozhodneme o lokálních extrémech (obrázek 3.22).

Příklad 3.27: Najděte lokální extrémy funkce $f(x, y) = (y - 3)^2 - (x - 2)^2 + 5$.

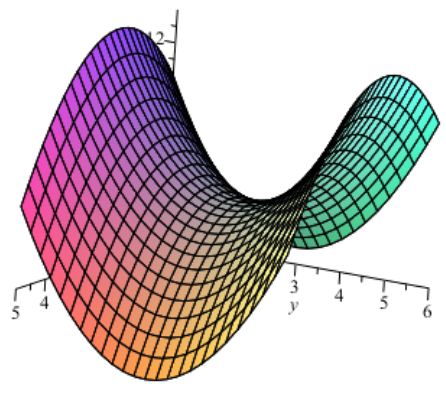
Řešení: Postupujeme zcela analogicky k předchozímu příkladu. Využijeme opět příkaz `extrema` k nalezení stacionárních bodů, příkaz `Hessian` k výpočtu Hessovy matice a příkaz `Determinant` k určení jejího determinantu. Na základě poznámky 3.14 pak rozhodneme o lokálních extrémech (obrázek 3.23).

Příklad 3.28: Najděte lokální extrémy funkce $f(x, y) = x \cdot y \cdot e^{-\frac{x^2+y^2}{2}}$.

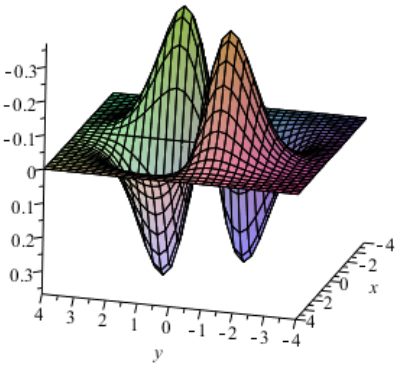
Řešení: Postupujeme opět stejně. Nyní získáváme víc stacionárních bodů, pro něž musíme vyhodnotit Hessovu matici a její determinant. Při tom si „pomůžeme“ příkazem `eval` a rozdíl od předchozích příkladů načteme příkazem `with` potřebné balíky pro příkazy `Hessian` a `Determinant` (obrázek 3.24).

<pre>f := (x,y) -> (x-2)^2 + (y-3)^2 + 5 (x,y) -> (x-2)^2 + (y-3)^2 + 5 plot3d(f(x,y), x=0..5, y=0..5, axes=normal)</pre> 	<p>Stacionární body:</p> <pre>extrema(f(x,y), { }, {x,y},'bod') {5} bod {{x=2,y=3}}</pre> <p>Stacionární bod je: $[x,y]=[2,3]$.</p> <p>Hessova matice:</p> <pre>H := VectorCalculus[Hessian](f(x,y), [x,y]) [2 0] [0 2]</pre> <p>První prvek Hessovy matice (druhá derivace $f(x,y)$ podle x):</p> <pre>H(1,1) 2</pre> <p>Determinant Hessovy matice:</p> <pre>LinearAlgebra[Determinant](H) 4</pre> <p>Bod $[2,3]$ je lokálním minimem funkce $f(x,y)$.</p>
--	---

Obrázek 3.22: Řešení příkladu 3.26.

<pre>f := (x,y) -> (y-3)^2 - (x-2)^2 + 5 (x,y) -> (y-3)^2 - (x-2)^2 + 5 plot3d(f(x,y), x=0..5, y=0..6, axes=normal)</pre> 	<p>Stacionární body:</p> <pre>extrema(f(x,y), { }, {x,y},'bod') {5} bod {{x=2,y=3}}</pre> <p>Stacionární bod je: $[x,y]=[2,3]$.</p> <p>Hessova matice:</p> <pre>H := VectorCalculus[Hessian](f(x,y), [x,y]) [-2 0] [0 2]</pre> <p>Determinant Hessovy matice:</p> <pre>LinearAlgebra[Determinant](H) -4</pre> <p>Determinant Hessovy matice je záporný \rightarrow bod $[2,3]$ není lokálním extrémem funkce $f(x,y)$.</p>
--	--

Obrázek 3.23: Řešení příkladu 3.27.

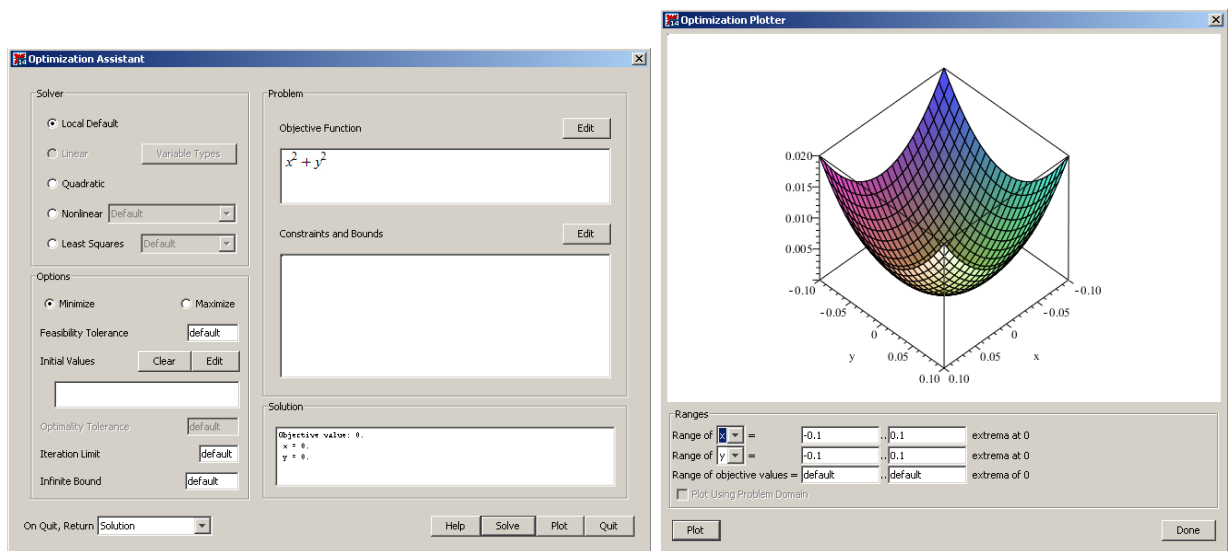
$f := (x, y) \rightarrow x \cdot y \cdot e^{-\left(\frac{x^2 + y^2}{2}\right)}$ $(x, y) \rightarrow x y e^{-\frac{1}{2}x^2 - \frac{1}{2}y^2}$ <pre>plot3d(f(x, y), x=-4..4, y=-4..4, axes=framed, numpoints = 1000)</pre>  <p>Stacionární body:</p> <pre>extrema(f(x, y), { }, {x, y}, 'body')</pre> $\{-e^{-1}, e^{-1}\}$ <pre>body</pre> $\{\{x = -1, y = -1\}, \{x = -1, y = 1\}, \{x = 0, y = 0\}, \{x = 1, y = -1\}, \{x = 1, y = 1\}\}$ <p>Stacionární body: [-1,-1], [1,-1], [-1,1], [1,1], [0,0].</p> <pre>with(VectorCalculus) : with(LinearAlgebra) :</pre>	<p>Hessova matice: $H := \text{Hessian}(f(x, y), [x, y]) :$</p> <p>Bod [-1,-1] $\text{Determinant}(\text{eval}(H, \{x = -1, y = -1\}))$ $4(e^{-1})^2$ $\text{eval}(H(1, 1), \{x = -1, y = -1\})$ $-2e^{-1}$</p> <p>Bod [1,-1] $\text{Determinant}(\text{eval}(H, \{x = 1, y = -1\}))$ $4(e^{-1})^2$ $\text{eval}(H(1, 1), \{x = 1, y = -1\})$ $2e^{-1}$</p> <p>Bod [-1,1] $\text{Determinant}(\text{eval}(H, \{x = -1, y = 1\}))$ $4(e^{-1})^2$ $\text{eval}(H(1, 1), \{x = -1, y = 1\})$ $2e^{-1}$</p> <p>Bod [1,1] $\text{Determinant}(\text{eval}(H, \{x = 1, y = 1\}))$ $4(e^{-1})^2$ $\text{eval}(H(1, 1), \{x = 1, y = 1\})$ $-2e^{-1}$</p> <p>Bod [0,0] $\text{Determinant}(\text{eval}(H, \{x = 0, y = 0\}))$ -1</p> <p>Lokální minima: [1,-1], [-1,1].</p> <p>Lokální maxima: [-1,-1], [1,1].</p>
--	--

Obrázek 3.24: Řešení příkladu 3.28.

Jak jsme zmínili dříve, v systému Maple jsou i některé příkazy hledající extrémy funkcí. Jedná se především o příkazy `minimize` a `maximize` pro nalezení globálního minima či maxima (symbolicky). Stejně příkazy, ovšem s velkými počátečními písmeny, tj. `Minimize` a `Maximize` z balíku `Optimization`, hledají globální extrémy numericky. Všem zmíněným příkazům je možné nastavit omezující podmínky, a hledat tak absolutní extrémy na dané množině (více v další části kapitoly). Můžeme také využít `mapletu` s názvem `Optimization`, který vyvoláme například z hlavního menu zvolením **Tools > Assistants > Optimization...** Na výběr máme několik metod, kterými je extrém hledán, tlačítkem **Solve** vypíšeme řešení, tlačítkem **Plot** jej zobrazíme graficky. Jeho ukázkou s nalezením globálního minima funkce $f(x, y) = x^2 + y^2$ poskytuje obrázek 3.25.

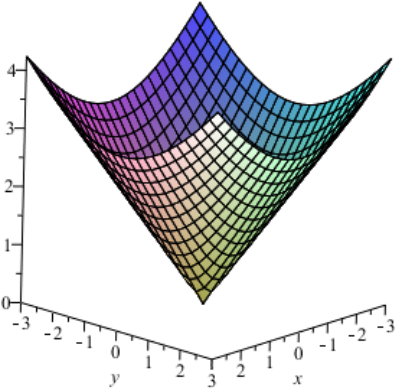
Příklad 3.29: Najděte lokální extrémy funkce $f(x, y) = \sqrt{x^2 + y^2}$.

Řešení: Postupujeme stále stejně. V tomto případě však nenalezneme žádné stacionární



Obrázek 3.25: Optimization maplet.

body. Již z grafu funkce je na první pohled vidět, že funkce má lokální minimum v bodě $[0, 0]$, v němž neexistuje parciální derivace. Existenci minima můžeme ověřit vyšetřením lokálního chování funkce v okolí tohoto bodu nebo využitím příkazu `minimize`. Příkaz volaný s jedním parametrem vypíše pouze hodnotu minima. Abychom získali i jeho polohu, přidáme druhý nepovinný parametr `location` (obrázek 3.26).

<pre>f := (x,y) -> sqrt(x^2 + y^2) (x,y) -> sqrt(x^2 + y^2) plot3d(f(x,y), x=-3 ..3, y=-3 ..3, axes=frame)</pre> 	<p>Stacionární body: <code>extrema(f(x,y), { }, {x,y}, 'bod')</code> <i>bod</i></p> <p>Stacionární body nejsou.</p> <p>V bodě $[0,0]$ však neexistuje parciální derivace: $\frac{\partial}{\partial x} f(x,y)$ $\frac{x}{\sqrt{x^2 + y^2}}$ <code>eval((d/dx f(x,y), {x=0, y=0})</code> <u>Error, numeric exception: division by zero</u></p> <p>Použití příkazu <code>minimize</code>: <code>minimize(f(x,y), location)</code> <code>0, { {x=0, y=0}, 0 }</code></p> <p>V bodě $[0,0]$ je globální (a tedy i lokální) minimum funkce $f(x,y)$.</p>
--	---

Obrázek 3.26: Řešení příkladu 3.29.

Příklad 3.30: Najděte lokální extrémů funkce:

(a) $f(x, y) = x^3 + y^3 - 3 \cdot x \cdot y$,

(b) $f(x, y) = x^4 - 3 \cdot x^2 \cdot y + 3 \cdot y - y^3$,

(c) $f(x, y) = x \cdot y \cdot \ln(x^2 + y^2)$,

(d) $f(x, y) = (x^2 + y^2) \cdot e^{-x^2 - y^2}$,

(e) $f(x, y) = 3 \cdot x^2 - 2 \cdot x \cdot \sqrt{y} + y - 8 \cdot x + 12$,

(f) $f(x, y) = y \cdot \sqrt{1+x} + x \cdot \sqrt{y+1}$,

(g) $f(x, y) = 3 - \sqrt{x^2 + y^2} + 2 \cdot \sqrt{(x-2)^2 + (y-3)^2}$.

3.4.2 Absolutní extrémů

Definice 3.11: Mějme funkci $f : \mathbb{R}^n \rightarrow \mathbb{R}$ a množinu $M \subset D(f)$. Řekneme, že bod $X^* \in M$ je bodem *absolutního maxima* funkce f na množině M , jestliže pro všechna X z množiny M platí: $f(X) \leq f(X^*)$. Je-li uvedená nerovnost ostrá pro všechna $X \neq X^*$, mluvíme o *ostrém absolutním maximum*.

Poznámka 3.15: Zcela analogicky definujeme (*ostré*) *absolutní minimum*. Místo pojmu *absolutní minimum* (*maximum*, *extrém*) používáme někdy termín *globální minimum* (*maximum*, *extrém*).

Příklad 3.31: Napište definici absolutního minima.

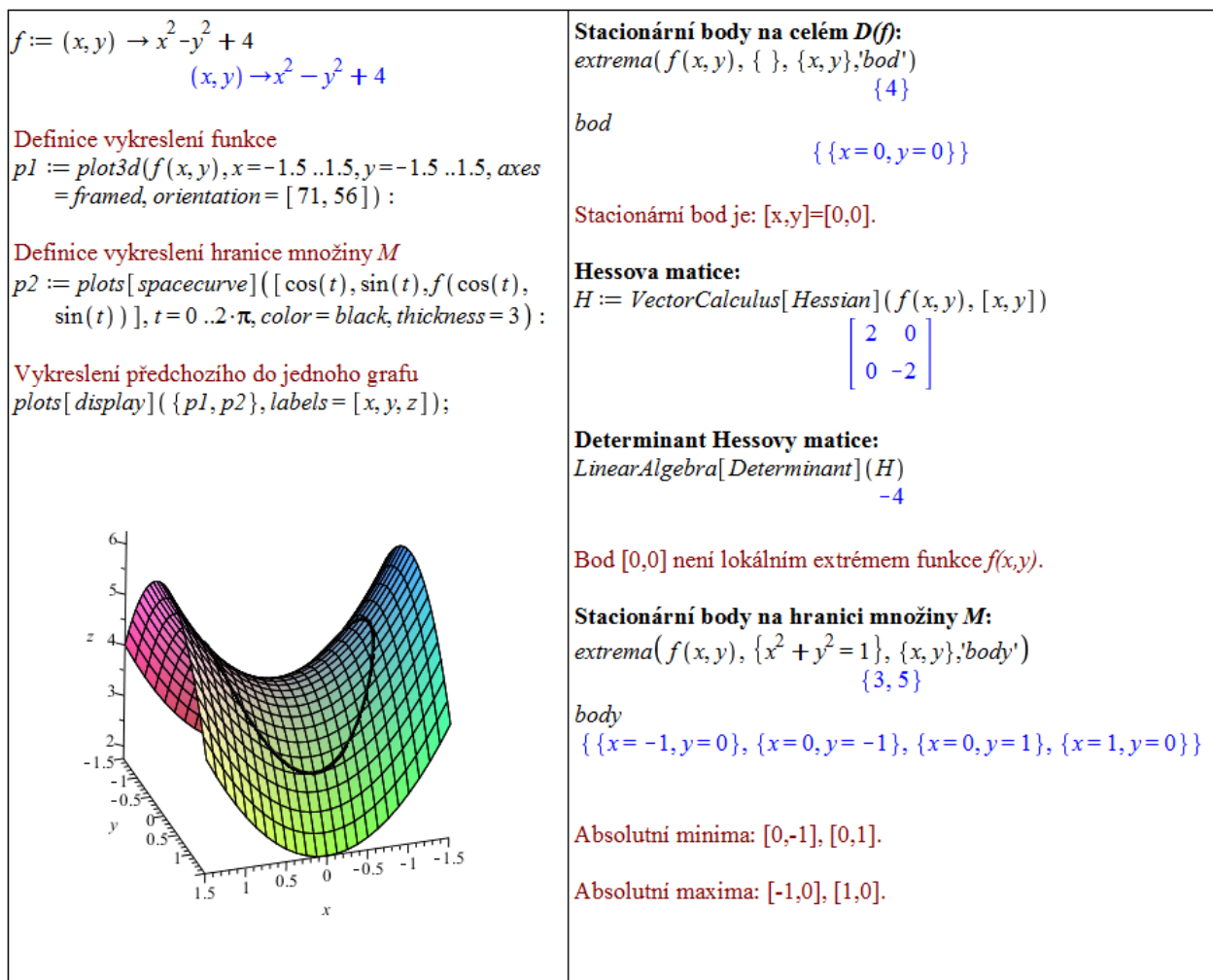
Definice 3.12: Bod $X \in \mathbb{R}^n$ nazveme *bodem uzávěru* množiny $M \subseteq \mathbb{R}^n$, jestliže pro libovolné ε platí: $O_\varepsilon(X) \cap M \neq \emptyset$. Množina všech bodů uzávěru množiny M se nazývá *uzávěr* množiny M a značí se \overline{M} . Množinu M nazveme *uzavřenou*, jestliže $M = \overline{M}$.

Poznámka 3.16: Necht' je množina M uzavřená a ohraničená a funkce f na množině M spojitá. Pak f nabývá absolutních extrémů na množině M buď v bodech lokálních extrémů patřících do množiny M nebo v některém hraničním bodě množiny M .

Při hledání absolutních extrémů můžeme v systému Maple využívat tytéž příkazy jako při hledání extrémů lokálních, přičemž specifikujeme navíc i množinu, na níž extrémů hledáme. Má to však svá omezení. Příkazu **extrema** můžeme zadat omezující podmínky pouze ve tvaru rovností. Příkazům **minimize** a **maximize** je možné zadat omezení ve tvaru rozsahů (intervalů) jednotlivých proměnných. Více možností nám nabízí příkazy **Minimize** a **Maximize** z balíku **Optimization** hledající extrémů numericky a **maplet Optimization** (viz obrázek 3.25), u nichž můžeme zadávat omezení i ve tvaru neostrých nerovností.

Příklad 3.32: Najděte absolutní extrémů funkce $f(x, y) = x^2 - y^2 + 4$ na množině $M: x^2 + y^2 \leq 1$.

Řešení: Nejprve vykreslíme zadanou funkci i s vyznačením hranice množiny M , které provedeme příkazem **spacecurve**. Následně prověříme lokální extrémů příkazem **extrema** s následným vyhodnocením determinantu Hessovy matice. Týmž příkazem najdeme extrémů funkce na hranici množiny M (obrázek 3.27).



Obrázek 3.27: Řešení příkladu 3.32.

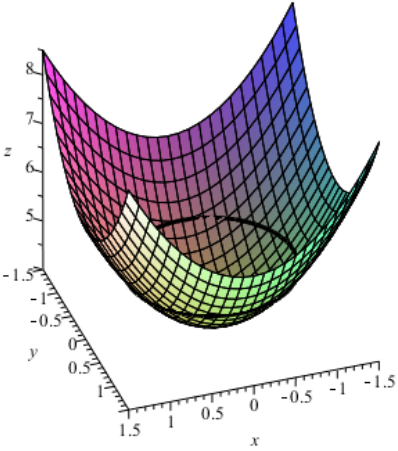
Příklad 3.33: Najděte absolutní extrémy funkce $f(x, y) = x^2 + y^2 + 4$ na množině $M: x^2 + y^2 \leq 1$.

Řešení: Postupujeme stejným způsobem jako v předchozím příkladu. Zadaná funkce má jeden lokální extrém, který je současně i jejím globálním minimem na množině M . Absolutních maxim je nekonečně mnoho a jsou tvořeny hranicí množiny M (obrázek 3.28).

Příklad 3.34: Najděte absolutní extrémy funkce $f(x, y) = x^2 + 2 \cdot x \cdot y - 4 \cdot x - 8 \cdot y$ na množině M určené přímkami $x = 0, x = 1, y = 0, y = 2$.

Řešení: K zakreslení hranice množiny M do zadané funkce potřebujeme nyní použít 4× příkaz `spacecurve` (pro každou přímku – resp. úsečku, zvlášť). Následně nalezneme stacionární bod funkce příkazem `extrema`. Tento stacionární bod leží mimo množinu M , zadaná funkce je v každém bodě diferencovatelná, absolutní extrémy tedy leží na hranici množiny M . Díky tvaru M (jedná se o obdélník) ji můžeme jednoduše vyjádřit pomocí dvou intervalů (rozsahů pro proměnné x a y). Přesně toto omezení je možné zadávat příkazům `minimize` a `maximize`, takže je využijeme⁷ (obrázek 3.29).

⁷Příkazy `minimize` a `maximize` v tomto případě neprochází jen hranicí množiny M , ale celou množinu (což nám ale nevadí). Pro jiný tvar množiny M , např. trojúhelník, často musíme procházet jednotlivé části její hranice, tj. např. jednotlivé úsečky (a hledat na nich extrém).

<p>$f := (x, y) \rightarrow x^2 + y^2 + 4$ $(x, y) \rightarrow x^2 + y^2 + 4$</p> <p>Definice vykreslení funkce $p1 := \text{plot3d}(f(x, y), x = -1.5 \dots 1.5, y = -1.5 \dots 1.5, \text{axes} = \text{framed}, \text{orientation} = [71, 56]) :$</p> <p>Definice vykreslení hranice množiny M $p2 := \text{plots}[\text{spacecurve}]([\cos(t), \sin(t), f(\cos(t), \sin(t))], t = 0 \dots 2 \cdot \pi, \text{color} = \text{black}, \text{thickness} = 3) :$</p> <p>Vykreslení předchozího do jednoho grafu $\text{plots}[\text{display}](\{p1, p2\}, \text{labels} = [x, y, z]) :$</p> 	<p>Stacionární body na celém D(f): $\text{extrema}(f(x, y), \{\}, \{x, y\}, 'bod')$ $\{4\}$</p> <p>bod $\{x=0, y=0\}$</p> <p>Stacionární bod je: $[x, y] = [0, 0]$.</p> <p>Hessova matice: $H := \text{VectorCalculus}[\text{Hessian}](f(x, y), [x, y])$ $\begin{bmatrix} 2 & 0 \\ 0 & 2 \end{bmatrix}$</p> <p>Determinant Hessovy matice: $\text{LinearAlgebra}[\text{Determinant}](H)$ 4</p> <p>První prvek Hessovy matice (druhá derivace f(x,y) podle x): $H(1, 1)$ 2</p> <p>Bod $[0, 0]$ je lokálním minimem funkce $f(x, y)$.</p> <p>Stacionární body na hranici množiny M: $\text{extrema}(f(x, y), \{x^2 + y^2 = 1\}, \{x, y\}, 'body')$ $\{5\}$</p> <p>body $\{x = -1, y = 0\}, \{x = 1, y = 0\}, \{x = \sqrt{1 - y^2}, y = y\}, \{x = -\sqrt{1 - y^2}, y = y\}$</p> <p>Absolutní minimum: $[0, 0]$. Absolutní maxima: body na kružnici $x^2 + y^2 = 1$.</p>
--	--

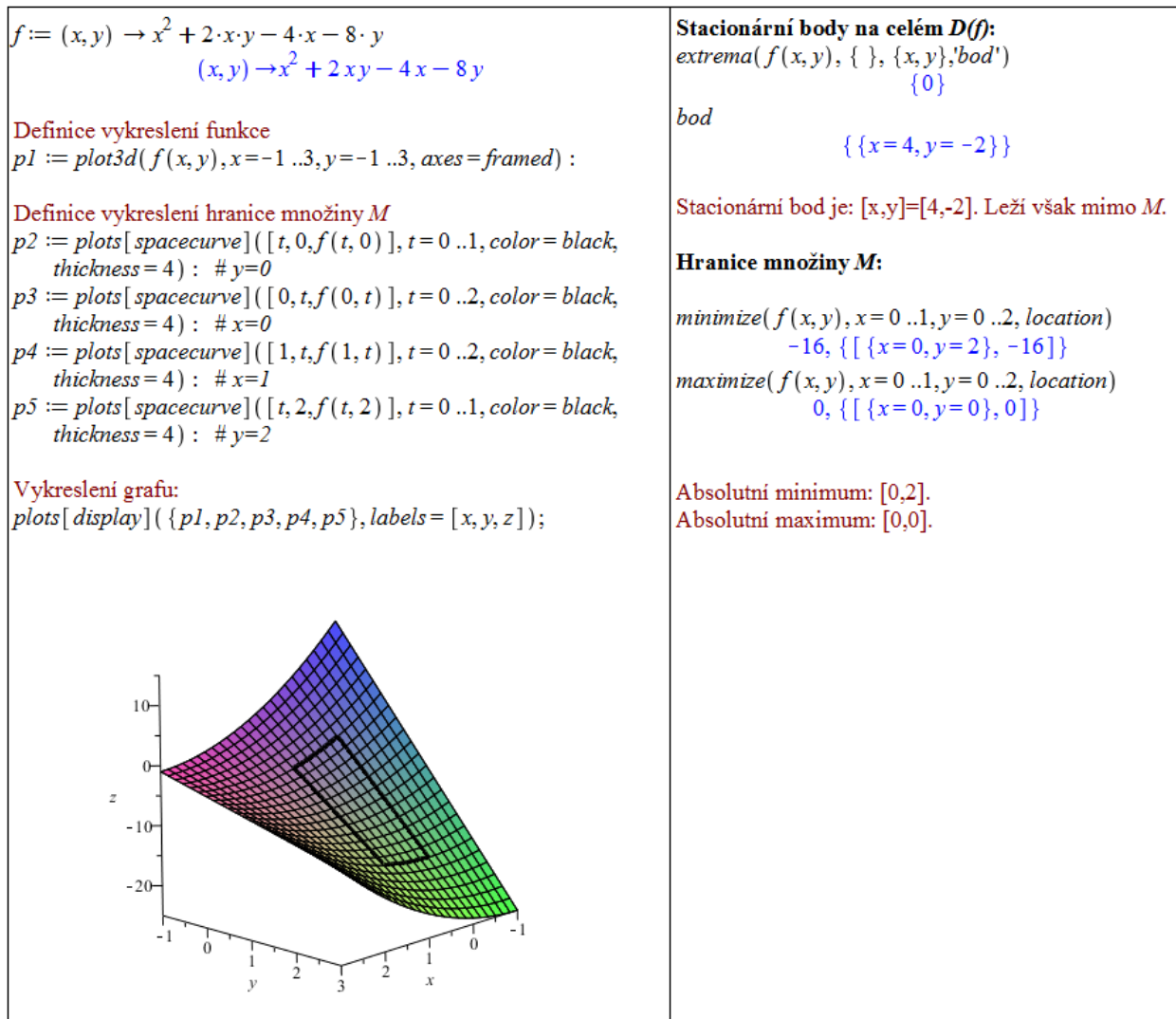
Obrázek 3.28: Řešení příkladu 3.33.

Příklad 3.35: Určete absolutní extrémy funkce $f(x, y)$ na množině M :

- (a) $f(x, y) = x^2 + y^2, M: x^2 + y^2 \leq 1,$
- (b) $f(x, y) = x + y, M: |x| \leq 1, |y| \leq 1,$
- (c) $f(x, y) = |x| + |y|, M: x^2 + y^2 \leq 1,$
- (d) $f(x, y) = x \cdot y - x^2 - y^2 + x + y, M$ je ohraničená přímkami $x = 0, y = 0, y = 4 - x,$
- (e) $f(x, y) = x^2 + 2 \cdot x \cdot y + 2 \cdot y^2 - 3 \cdot x - 5 \cdot y, M$ je trojúhelníková oblast s vrcholy v bodech $A = [0, 2], B = [3, 0], C = [0, -1],$
- (f) $f(x, y) = \sin(x) \cdot \sin(y) \cdot \sin(x + y), M: x > 0, y \leq \pi.$

Příklad 3.36: Najděte kladná čísla x, y, z taková, že $x + y + z = 18$ a $x \cdot y \cdot z$ je maximální.

Řešení: Chceme maximalizovat funkci $f(x, y, z) = x \cdot y \cdot z$. Přitom má platit, že $x + y + z = 18$. Tuto rovnost můžeme zahrnout rovnou do předpisu funkce, a získat tak funkci



Obrázek 3.29: Řešení příkladu 3.34.

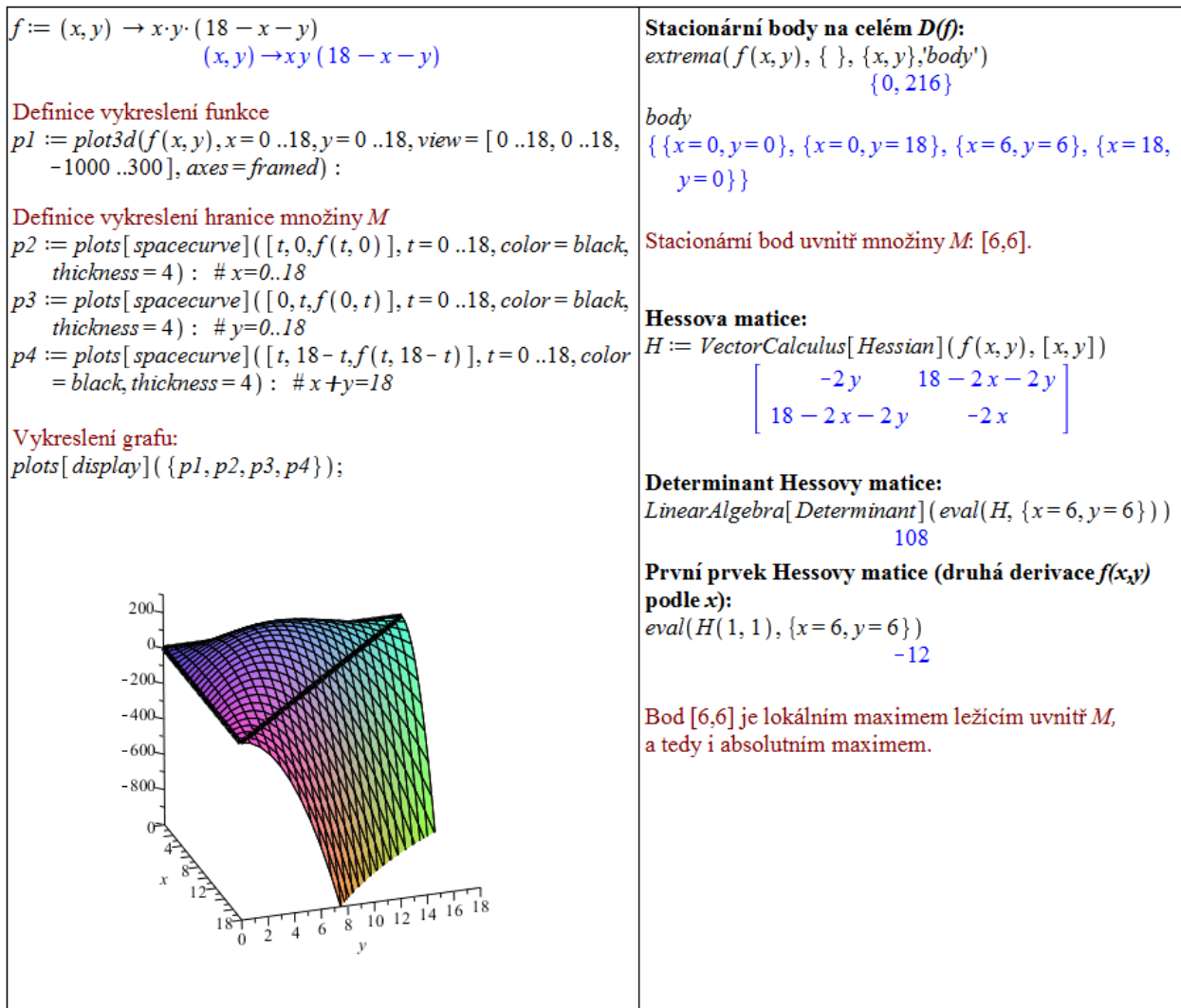
pouze dvou proměnných: $x \cdot y \cdot (18 - y - x)$. Nově vzniklou funkci přitom maximalizujeme pro $x \in (0, 18), y \in (0, 18), x + y < 18$. Tímto zápisem jsem zadanou úlohu převedli na klasické hledání absolutního maxima funkce, jak jsme jej řešili v předchozích příkladech. Tentokrát dokonce nemusíme ani vyšetřovat funkční hodnoty na hranici „omezující“ množiny, neboť omezující podmínky jsou ostré nerovnosti. Celkem získáváme, že požadovaná kladná čísla jsou: $x = y = z = 6$ (obrázek 3.30).

Příklad 3.37: Najděte kladná čísla x, y, z taková, že $x \cdot y \cdot z = 64$ a $x + y + z$ je minimální.

Příklad 3.38: Jakého nejmenšího čísla může nabýt součet tří kladných čísel x, y, z , jestliže pro ně platí: $x \cdot y \cdot z^2 = 2500$?

Příklad 3.39: Najděte bod plochy $z = x \cdot y - 1$, který je nejbližší bodu $[0, 0, 0]$.

Příklad 3.40: Určete rovnici přímky, pro niž platí, že má od bodů $[0, 2], [1, 3]$ a $[2, 5]$ nejmenší součet čtverců (druhých mocnin) jejich vertikálních vzdáleností (tj. ve směru osy y) – tzv. *metoda nejmenších čtverců*.



Obrázek 3.30: Řešení příkladu 3.36.

3.5 Vícerozměrný integrál

Poznámka 3.17: Mějme spojitou funkci $f(x, y)$ na obdélníku $[a, b] \times [c, d]$. Pak jsou spojitě i funkce $\varphi(x)$ a $\psi(y)$ dané integrály:

$$\varphi(x) = \int_c^d f(x, y) dy \quad a \quad \psi(y) = \int_a^b f(x, y) dx.$$

Funkce $\varphi(x)$ a $\psi(y)$ tak můžeme integrovat znovu a získat:

$$\int_a^b \varphi(x) dx = \int_a^b \int_c^d f(x, y) dy dx,$$

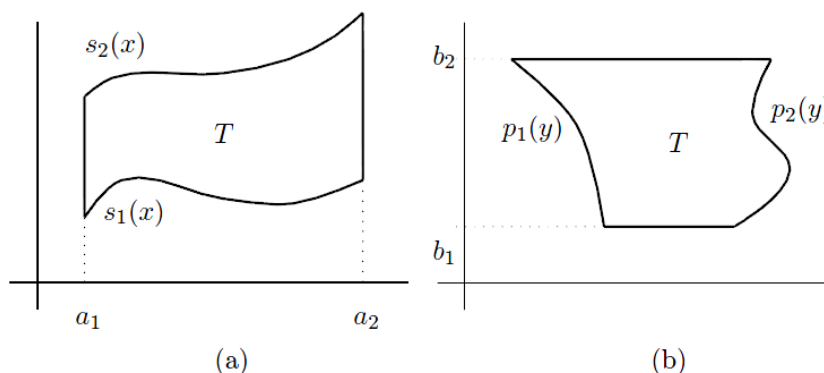
$$\int_c^d \psi(y) dy = \int_c^d \int_a^b f(x, y) dx dy.$$

Předešlé integrály nazýváme *dvojnásobnými integrály*.

Definice 3.13: Necht $T = [a, b] \times [c, d] \subset \mathbb{R}^2$ a necht je funkce $f(x, y)$ spojitá na T . *Dvojným integrálem* funkce $f(x, y)$ přes množinu T pak rozumíme:

$$\iint_T f(x, y) \, dx \, dy = \int_a^b \int_c^d f(x, y) \, dy \, dx = \int_c^d \int_a^b f(x, y) \, dx \, dy.$$

Definice 3.14: Uvažujme nyní oblast, jíž budeme říkat oblast *základní*, definovanou jako $T = \{(x, y) \in \mathbb{R}^2 \mid x \in [a_1, a_2], y \in [s_1(x), s_2(x)]\}$, resp. $T = \{(x, y) \in \mathbb{R}^2 \mid y \in [b_1, b_2], x \in [p_1(y), p_2(y)]\}$, přičemž funkce $s_1(x), s_2(x), p_1(y), p_2(y)$ jsou spojitě na intervalech $[a_1, a_2]$, resp. $[b_1, b_2]$. Základní oblast ilustruje pro lepší představu obrázek 3.31.



Obrázek 3.31: Zobrazení základní oblasti (převzato z [4]).

Analogicky jako v předchozí definici nyní definujeme *dvojný integrál* funkce $f(x, y)$ přes množinu T jako:

$$\iint_T f(x, y) \, dx \, dy = \int_{a_1}^{a_2} \int_{s_1(x)}^{s_2(x)} f(x, y) \, dy \, dx,$$

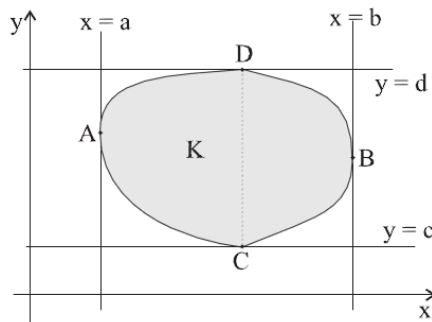
$$\text{resp.} \quad \iint_T f(x, y) \, dx \, dy = \int_{b_1}^{b_2} \int_{p_1(y)}^{p_2(y)} f(x, y) \, dx \, dy.$$

Poznámka 3.18: Sjednocením konečně mnoha základních oblastí můžeme získat tzv. elementární oblast (množinu) K (viz obrázek 3.32).

Poznámka 3.19: Častým krokem při výpočtu integrálů je prohození pořadí integrace. Musíme mít na paměti, že vnější integrál musí být vždy ten, který neobsahuje proměnnou ve svých mezích.

Definice 3.15: Uvažujme nyní základní oblast $T = \{(x, y) \in \mathbb{R}^2 \mid x \in [a_1, a_2], y \in [s_1(x), s_2(x)]\}$, přičemž funkce $s_1(x), s_2(x)$ jsou spojitě na intervalu $[a_1, a_2]$. Definujme *základní těleso* $P = \{(x, y, z) \in \mathbb{R}^3 \mid (x, y) \in T, z \in [h_1(x, y), h_2(x, y)]\}$.

Trojným integrálem funkce $f(x, y, z)$ přes množinu P nazýváme:



Obrázek 3.32: Zobrazení elementární oblasti (převzato z [8]).

$$\iiint_P f(x, y, z) dx dy dz = \iint_T \left(\int_{h_1(x,y)}^{h_2(x,y)} f(x, y, z) dz \right) = \int_{a_1}^{a_2} \int_{s_1(x)}^{s_2(x)} \int_{h_1(x,y)}^{h_2(x,y)} f(x, y, z) dz dy dx.$$

V systému Maple zadáváme vícenásobné integrály opakovaným použitím integračního symbolu z palety **Expression**, příkazu `int` či vyvoláním kontextové nabídky dokumentu (po kliknutí pravým tlačítkem myši na předpis funkce) a zvolením položky **Integrate** spolu se specifikací integrační proměnné (pouze pro neurčitý integrál).

<p>Symboly z palety</p> $\iint (x + y) dx dy$ $\frac{1}{2}x^2y + \frac{1}{2}y^2x$ $\int_0^1 \int_2^5 (x + y) dx dy$ <p style="text-align: right;">12</p> <p>Textové příkazy</p> $\text{int}(\text{int}(x + y, x), y)$ $\frac{1}{2}x^2y + \frac{1}{2}y^2x$ $\text{int}(\text{int}(x + y, x = 2 .. 5), y = 0 .. 1)$ <p style="text-align: right;">12</p> <p>Kontextová nabídka</p> $x + y \xrightarrow{\text{integrate w.r.t. } x} \frac{1}{2}x^2 + xy$ $\xrightarrow{\text{integrate w.r.t. } y} \frac{1}{2}x^2y + \frac{1}{2}xy^2$	<p>Symboly z palety</p> $\iiint (x + y + z) dx dy dz$ $\frac{1}{2}x^2yz + \frac{1}{2}y^2xz + \frac{1}{2}z^2xy$ $\int_1^3 \int_0^1 \int_2^5 (x + y + z) dx dy dz$ <p style="text-align: right;">36</p> <p>Textové příkazy</p> $\text{int}(\text{int}(\text{int}(x + y + z, x), y), z)$ $\frac{1}{2}x^2yz + \frac{1}{2}y^2xz + \frac{1}{2}z^2xy$ $\text{int}(\text{int}(\text{int}(x + y + z, x = 2 .. 5), y = 0 .. 1), z = 1 .. 3)$ <p style="text-align: right;">36</p> <p>Kontextová nabídka</p> $x + y + z \xrightarrow{\text{integrate w.r.t. } x} \frac{1}{2}x^2 + xy + zx$ $\xrightarrow{\text{integrate w.r.t. } y} \frac{1}{2}x^2y + \frac{1}{2}xy^2 + zxy$ $\xrightarrow{\text{integrate w.r.t. } z} \frac{1}{2}x^2yz + \frac{1}{2}xy^2z + \frac{1}{2}z^2xy$
---	---

Obrázek 3.33: Vícenásobné integrály.

Pokud chceme do dokumentu zapsat vícenásobný integrál symbolicky (a nevyhodnocovat jej), použijeme příkaz `Int`. Další možnost, jak zadat (určitý) vícenásobný integrál (dvojný

nebo trojný), poskytuje příkaz `MultiInt` z balíku `Student[MultivariateCalculus]`. Příkaz `MultiInt` nabízí možnost výpisu integrálu jako symbolu i jako integrálu, který bude „rovnou“ vyhodnocen. Navíc je možné nechat vypsat kroky výpočtu integrálu nastavením nepovinného parametru `output` na hodnotu `steps`. Dalším nepovinným parametrem, který můžeme specifikovat, je parametr `coordinates` určující, v jakých souřadnicích je integrál uveden. Na výběr máme podle dimenze integrálu souřadnice kartézské (`cartesian[x,y]` nebo `cartesian[x,y,z]`), polární (`polar[r,theta]`), sférické (`spherical[r,phi,theta]`) či cylindrické (`cylindrical[r,theta,z]`).

<pre>Student[MultivariateCalculus][MultiInt](3x^2 + 3y^2, x = 1 ..4, y = -1 ..6, output = integral)</pre> $\int_{-1}^6 \int_1^4 (3x^2 + 3y^2) dx dy$	<pre>with(Student[MultivariateCalculus]) : MultiInt(r, r = 1 ..4, theta = 0 ..pi/2, coordinates = polar[r, theta], output = integral)</pre>
<pre>Student[MultivariateCalculus][MultiInt](3x^2 + 3y^2, x = 1 ..4, y = -1 ..6)</pre> <p style="text-align: center;">1092</p>	$\int_0^{\frac{1}{2}\pi} \int_1^4 r^2 dr d\theta$
<pre>Student[MultivariateCalculus][MultiInt](3x^2 + 3y^2, x = 1 ..4, y = -1 ..6, output = steps)</pre> $\int_{-1}^6 \int_1^4 (3x^2 + 3y^2) dx dy$ $= \int_{-1}^6 \left((x^3 + 3y^2x) \Big _{x=1}^4 \right) dy$ $= \int_{-1}^6 (63 + 9y^2) dy$ $= (63y + 3y^3) \Big _{y=-1}^6$ <p style="text-align: center;">1092</p>	<pre>MultiInt(r, r = 1 ..4, theta = 0 ..pi/2, coordinates = polar[r, theta])</pre> $\frac{21}{2}\pi$ <pre>MultiInt(r, r = 0 ..pi, theta = 0 ..pi, phi = 0 ..pi, coordinates = spherical[r, phi, theta], output = integral)</pre> $\int_0^{\pi} \int_0^{\pi} \int_0^{\pi} r^3 \sin(\phi) dr d\theta d\phi$ <pre>MultiInt(r, r = 0 ..pi, theta = 0 ..pi, phi = 0 ..pi, coordinates = spherical[r, phi, theta])</pre> $\frac{1}{2}\pi^5$
<pre>Int(Int(3x^2 + 3y^2, x = 1 ..4), y = -1 ..6)</pre> $\int_{-1}^6 \int_1^4 (3x^2 + 3y^2) dx dy$ <pre>int(int(3x^2 + 3y^2, x = 1 ..4), y = -1 ..6)</pre> <p style="text-align: center;">1092</p>	<pre>Int(Int(3x^2 + 3y^2, x = 1 ..4), y = -1 ..6)</pre> $\int_{-1}^6 \int_1^4 (3x^2 + 3y^2) dx dy$ <pre>int(int(3x^2 + 3y^2, x = 1 ..4), y = -1 ..6)</pre> <p style="text-align: center;">1092</p>

Obrázek 3.34: Vícenásobné integrály s příkazy `MultiInt` a `Int`.

K převodům mezi různými souřadnicovými systémy můžeme využít příkaz `changecoords`, který převede zadaný výraz z kartézského systému souřadnic do námi zvoleného. Pro dvojné a trojné integrály je k dispozici příkaz balíku `Student[MultivariateCalculus]` s názvem `ChangeOfVariables` převádějící proměnné mezi dříve vyjmenovanými souřadnicovými systémy. Příkaz má jednu „slabinu“, a to, že zpravidla nepřevéde integrační meze do nových proměnných, což musíme tedy udělat sami.

$\text{changecoords}(x^2 + y^2, [x, y], \text{polar}, [r, \theta])$ $r^2 \cos(\theta)^2 + r^2 \sin(\theta)^2$	$\text{with}(\text{Student}[\text{MultivariateCalculus}]) :$ $\text{ChangeOfVariables}(\text{MultiInt}(x^2 + y^2, x=1..4, y=-1..6,$ $\text{output} = \text{integral}), [\text{cartesian}_{x,y}, \text{polar}_{r,\theta}])$ $\int_{y=-1}^{y=6} \int_{x=1}^{x=4} r^3 dr d\theta$
$\text{changecoords}(x^2 + y^2 + z^2, [x, y, z], \text{spherical}, [r, \phi, \theta])$ $r^2 \sin(\phi)^2 \cos(\theta)^2 + r^2 \sin(\phi)^2 \sin(\theta)^2 + r^2 \cos(\phi)^2$	$\text{ChangeOfVariables}(\text{MultiInt}(x^2 + y^2 + z^2, x=1..4, y=-1..6,$ $z=0..3, \text{output} = \text{integral}), [\text{cartesian}_{x,y,z}, \text{spherical}_{r,\phi,\theta}])$ $\int_{z=0}^{z=3} \int_{y=-1}^{y=6} \int_{x=1}^{x=4} r^4 \sin(\theta) d\phi dr d\theta$
$\text{changecoords}(x - y, [x, y], \text{logarithmic})$ $\frac{\ln(x^2 + y^2) - 2 \arctan\left(\frac{y}{x}\right)}{\pi}$	$\text{ChangeOfVariables}(\text{MultiInt}(x^2 + y^2 + z^2, x=1..4, y=-1..6, z$ $= 0..3, \text{output} = \text{integral}), [\text{cartesian}_{x,y,z}, \text{cylindrical}_{r,\theta,z}])$ $\int_{z=0}^{z=3} \int_{y=-1}^{y=6} \int_{x=1}^{x=4} (r^2 + z^2) r dr d\theta dz$

Obrázek 3.35: Transformace mezi souřadnicovými systémy.

Příklad 3.41: Stanovte meze dvojnásobného integrálu

$$I = \iint_{\Omega} f(x, y) dx dy.$$

Integrál následně zapíšte i s těmito mezemi pro integrační oblast:

- (a) $\Omega : 0 \leq x \leq y \leq 1$, (c) $\Omega : 1 \leq |x| + |y| < 2$,
 (b) $\Omega : x < x^2 + y^2 \leq 1$, (d) Ω je Δ s vrcholy $[1, 0], [1, 1], [0, 0]$.

Řešení: Při stanovování mezí nám může velmi pomoci obrázek. Nejprve si tedy zadanou množinu Ω vždy vykreslíme a následně odvodíme meze jednotlivých integrálů. Využijeme přitom příkazů `inequal` z balíku `plots`, `transform` z balíku `plottools` a `implicitplot` z balíku `plots`, s nimiž jsme se již setkali při vykreslování oblastí a definičních oborů funkcí v sekci 3.1.3.

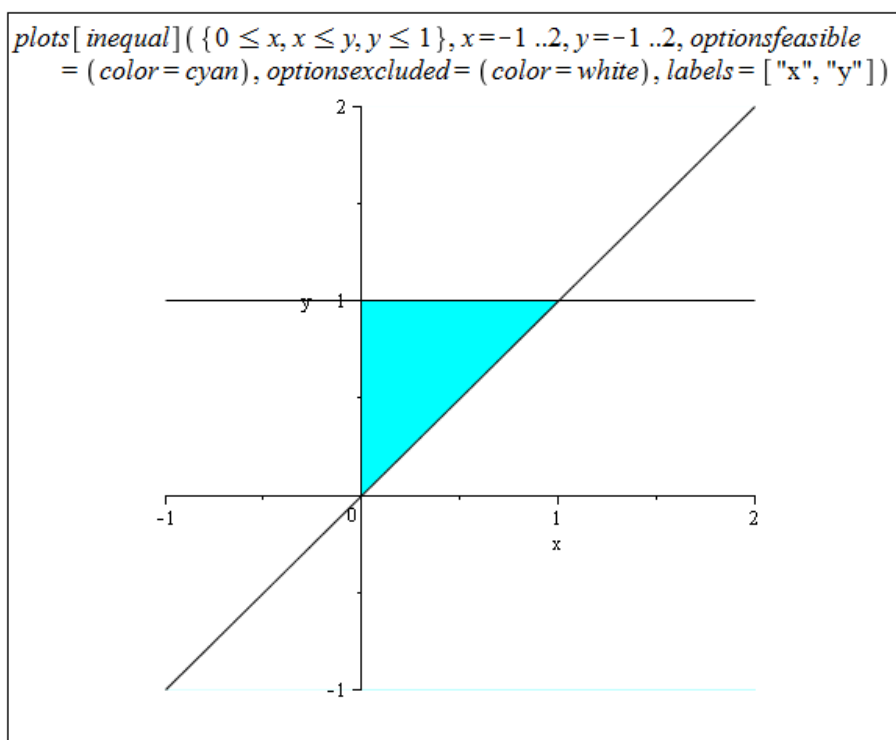
(a)

Z obrázku 3.36 můžeme vyvodit 2 různé (ekvivalentní) zápisy integračních mezí:

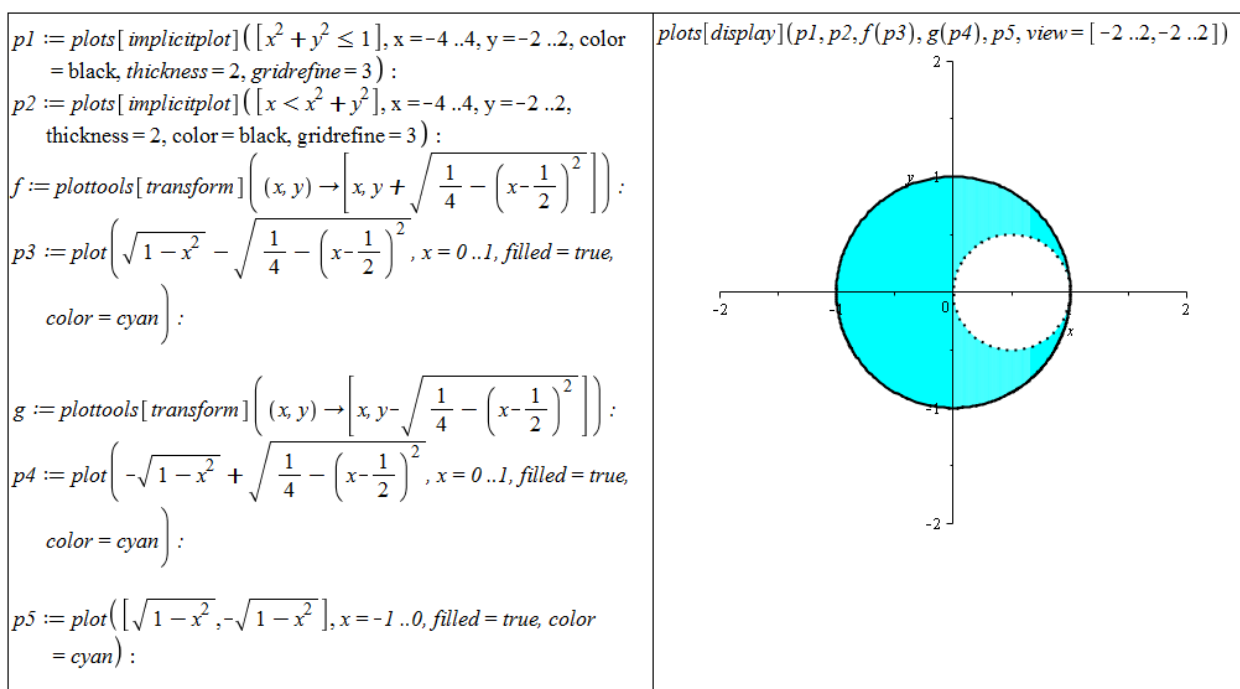
1. $0 \leq y \leq 1, 0 \leq x \leq y$,
2. $0 \leq x \leq 1, x \leq y \leq 1$.

Celkem tak získáváme:

$$I = \iint_{\Omega} f(x, y) dx dy = \int_0^1 \int_0^y f(x, y) dx dy = \int_0^1 \int_x^1 f(x, y) dy dx.$$



Obrázek 3.36: Zobrazení oblasti Ω z příkladu 3.41.(a)



Obrázek 3.37: Zobrazení oblasti Ω z příkladu 3.41.(b)

(b)

Z obrázku 3.37 můžeme vyvodit opět 2 různé (ekvivalentní) zápisy integračních mezí. Dostáváme však výrazně komplikovanější zápis než v předchozím případě, a tak zapíšeme pouze jednu možnost (která je jednodušší):

$$1. \quad -1 \leq x \leq 0, -\sqrt{1-x^2} \leq y \leq \sqrt{1-x^2},$$

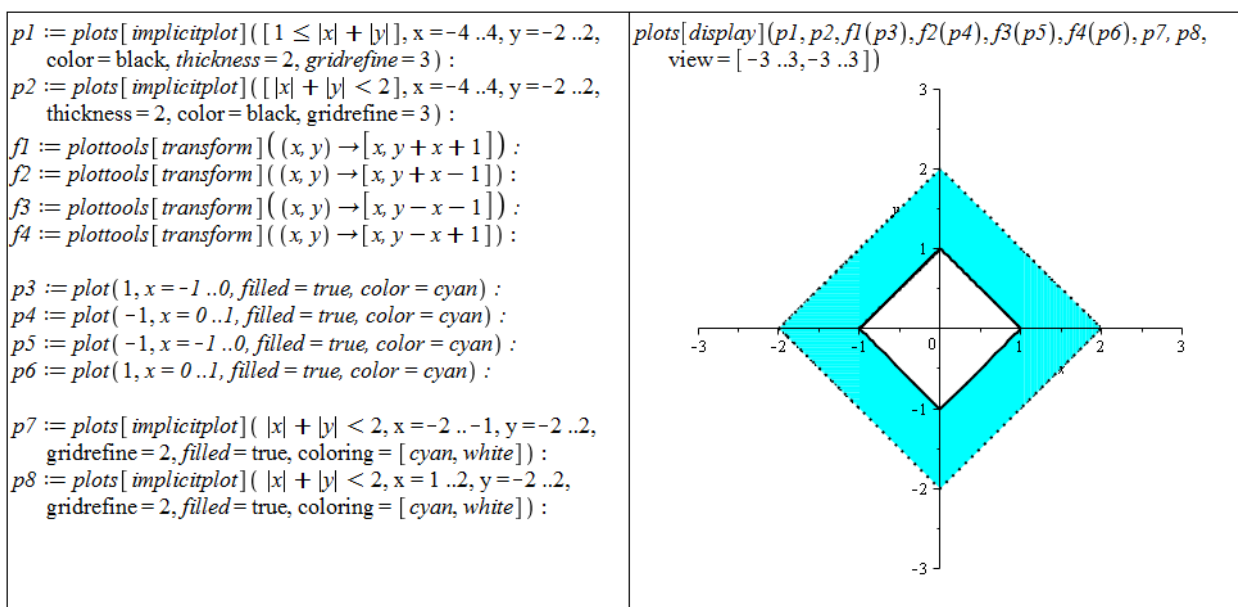
$$0 \leq x \leq 1, -\sqrt{1-x^2} \leq y < -\sqrt{\frac{1}{4} - (x-\frac{1}{2})^2} \cup \sqrt{\frac{1}{4} - (x-\frac{1}{2})^2} < y \leq \sqrt{1-x^2}.$$

Celkem tak získáváme:

$$I = \iint_{\Omega} f(x, y) dx dy = \int_{-1}^0 \int_{-\sqrt{1-x^2}}^{\sqrt{1-x^2}} f(x, y) dy dx + \int_0^1 \int_{-\sqrt{1-x^2}}^{-\sqrt{\frac{1}{4} - (x-\frac{1}{2})^2}} f(x, y) dy dx +$$

$$+ \int_0^1 \int_{\sqrt{\frac{1}{4} - (x-\frac{1}{2})^2}}^{\sqrt{1-x^2}} f(x, y) dy dx.$$

(c)



Obrázek 3.38: Zobrazení oblasti Ω z příkladu 3.41.(c)

I v tomto případě máme dvě (základní) možnosti, jak zapsat integrační meze. Pro komplikovanost zápisu ukažme opět pouze jednu z možností. Doplňme, že v případech, kdy je oblast Ω symetrická (kolem počátku či kolem některé z os) a podobně i zadaná funkce (vzhledem k ose z), počítáme zpravidla integrál pouze pro část oblasti (tj. např. jen pro jeden kvadrant) a výsledek vynásobíme počtem odpovídajících si částí. V tomto příkladu bychom tak mohli počítat integrál pouze pro oblast náležící prvnímu kvadrantu a výsledek vynásobit čtyřmi (pokud by funkce $f(x, y)$ byla symetrická kolem osy z).

$$1. \quad -2 \leq x \leq -1, -x - 2 < y < x + 2,$$

$$-1 \leq x \leq 0, -x - 2 < y \leq -x - 1 \cup x + 1 \leq y < x + 2,$$

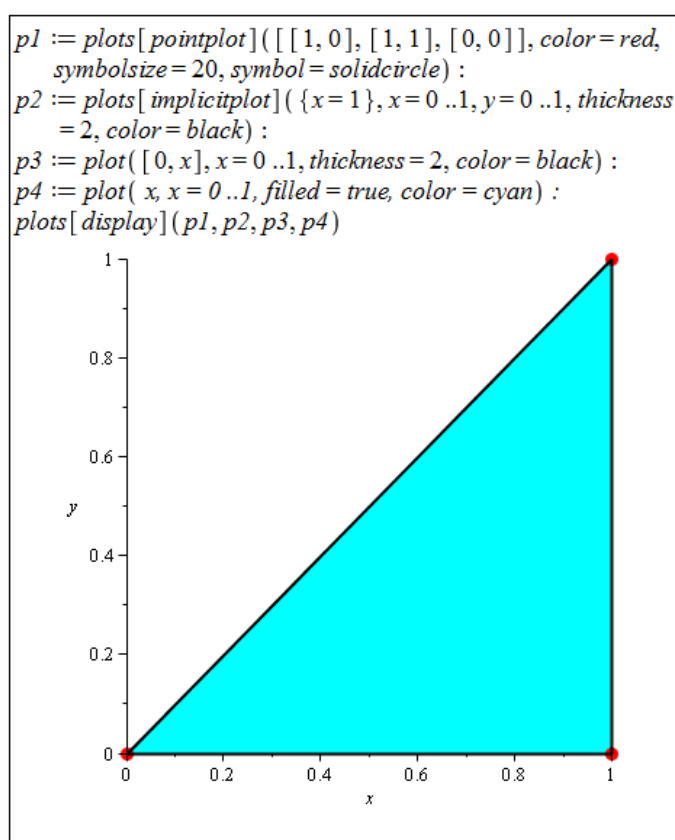
$$0 \leq x \leq 1, x - 2 < y \leq x - 1 \cup -x + 1 \leq y < -x + 2,$$

$$1 \leq x \leq 2, x - 2 < y < -x + 2.$$

Celkem tak získáváme:

$$\begin{aligned}
 I = \iint_{\Omega} f(x, y) \, dx \, dy &= \int_{-2}^{-1} \int_{-x-2}^{x+2} f(x, y) \, dy \, dx + \int_{-1}^0 \int_{-x-2}^{-x-1} f(x, y) \, dy \, dx + \\
 &+ \int_{-1}^0 \int_{x+1}^{x+2} f(x, y) \, dy \, dx + \int_0^1 \int_{x-2}^{x-1} f(x, y) \, dy \, dx + \int_0^1 \int_{-x+1}^{-x+2} f(x, y) \, dy \, dx + \\
 &+ \int_1^2 \int_{x-2}^{-x+2} f(x, y) \, dy \, dx.
 \end{aligned}$$

(d)



Obrázek 3.39: Zobrazení oblasti Ω z příkladu 3.41.(d)

Z obrázku 3.39 vidíme, že situace je velmi podobná případu (a). Můžeme opět vyvodit 2 různé (ekvivalentní) zápisy integračních mezí:

1. $0 \leq x \leq 1, 0 \leq y \leq x,$
2. $0 \leq y \leq 1, y \leq x \leq 1.$

Celkem tak získáváme:

$$I = \iint_{\Omega} f(x, y) \, dx \, dy = \int_0^1 \int_0^x f(x, y) \, dy \, dx = \int_0^1 \int_y^1 f(x, y) \, dx \, dy.$$

Příklad 3.42: Stanovte meze dvojnásobného integrálu

$$I = \iint_{\Omega} f(x, y) \, dx \, dy.$$

Integrál následně zapište i s těmito mezemi pro integrační oblast:

- (a) $\Omega : 0 \leq x + y \leq 1 \wedge x \geq 0 \wedge y \geq 0$, (c) $\Omega : |x| + |y| < 3$,
 (b) $\Omega : x^2 + y^2 \leq 1 \wedge x \geq 0$, (d) Ω je \triangle s vrcholy $[2, 1], [-2, 1], [0, 0]$.

Příklad 3.43: Vyjádřete zadané integrály v obráceném pořadí integrace.

- (a) $\int_0^4 \int_{\frac{x}{2}}^2 f(x, y) \, dy \, dx$, (c) $\int_0^2 \int_0^{x^2} f(x, y) \, dy \, dx$,
 (b) $\int_0^2 \int_x^{2-x} f(x, y) \, dy \, dx$, (d) $\int_0^1 \int_{x^3}^{x^2} f(x, y) \, dy \, dx$.

3.5.1 Geometrická aplikace dvojného integrálu

Obsah rovinné oblasti

Poznámka 3.20: Nechť $\Omega \subset \mathbb{R}^2$ je rovinná oblast. Plocha S oblasti Ω je dána vztahem

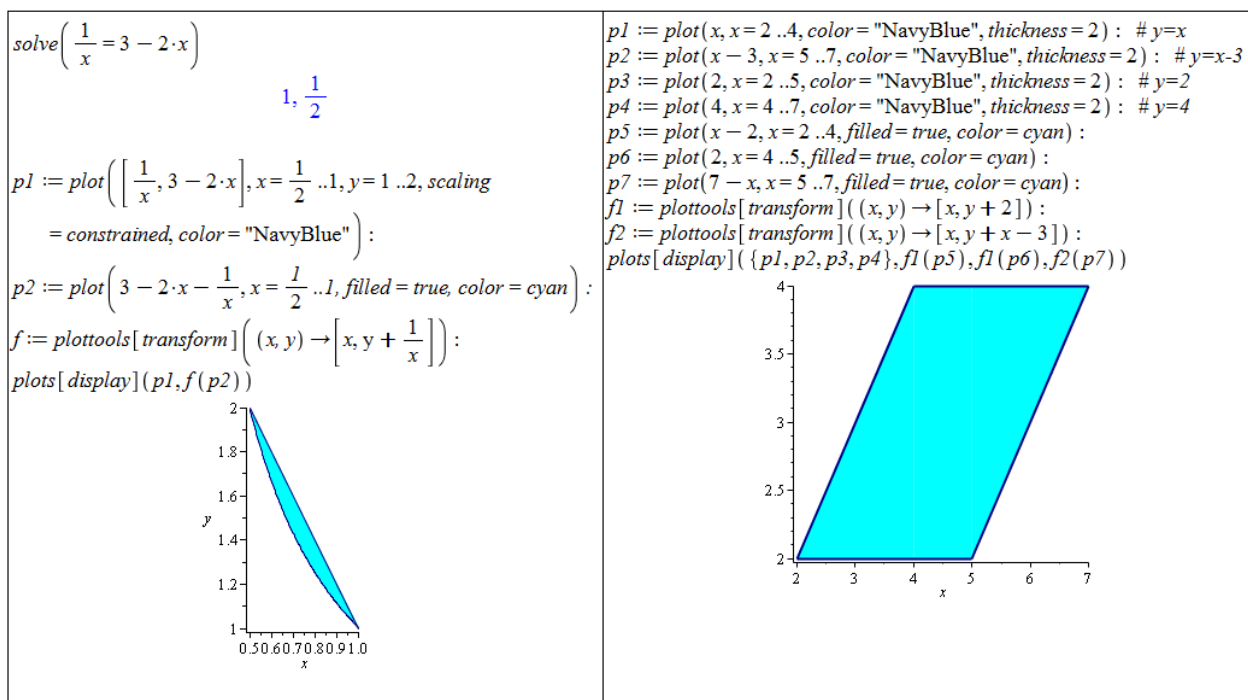
$$S = \iint_{\Omega} dx \, dy.$$

Příklad 3.44: Určete obsah oblasti Ω .

- (a) Ω je ohraničená křivkami $y = \frac{1}{x}$ a $y = 3 - 2 \cdot x$,
 (b) Ω je ohraničená přímkami $y = x$, $y = x - 3$, $y = 2$ a $y = 4$.

Řešení:

V zadání není specifikováno, jak máme obsah zadané oblasti hledat. Mohli bychom si proto vzpomenout na aplikace určitého integrálu funkce jedné proměnné a počítat obsah oblasti tímto způsobem. U některých oblastí je navíc jednodušší i jiný způsob než počítat integrály (jednoduché či dvojné). My si ukážeme výpočet jak pomocí jednoduchého, tak pomocí dvojného integrálu.



Obrázek 3.40: Zobrazení oblasti Ω z příkladu 3.44. Vlevo případ (a), vpravo případ (b).

- (a) Pomocí jednoduchého integrálu zvolíme jednu proměnnou, u níž známe číselné meze, a „odečítáme od sebe“ dvě funkce vymezující zadanou oblast. U dvojného integrálu zapíšeme zadanou oblast pouze v integračních mezích. Pozor na to, že při výpočtu dvojnásobného integrálu v systému Maple musíme zadat funkci, která bude integrována. V případě počítání obsahů rovinných oblastí podle poznámky 3.20 se v integrálu žádná funkce nevyskytuje, i když ve skutečnosti integrujeme konstantní funkci $f(x, y) = 1$, kterou také zadáme do integrálu v systému Maple.

$\int_{\frac{1}{2}}^1 \left(3 - 2 \cdot x - \frac{1}{x} \right) dx$ $-\ln(2) + \frac{3}{4}$	$\int_{\frac{1}{2}}^1 \int_{\frac{1}{x}}^{3-2 \cdot x} 1 \, dy \, dx$ $-\ln(2) + \frac{3}{4}$
--	---

Obrázek 3.41: Výpočet obsahu oblasti Ω z příkladu 3.44.(a)

- (b)

$\int_2^4 (y + 3 - y) \, dy$ 6	$\int_2^4 \int_y^{y+3} 1 \, dx \, dy$ 6
----------------------------------	---

Obrázek 3.42: Výpočet obsahu oblasti Ω z příkladu 3.44.(b)

Příklad 3.45: Určete obsahy oblastí Ω z příkladu 3.42 a obsahy oblastí tvořených integračními mezemi v příkladu 3.43. U příkladu 3.43 výpočtem obsahu příslušné oblasti navíc ověřte rovnost integrálů v zadání a v řešení.

Příklad 3.46: Pomocí dvojného integrálu určete obsah kruhu o poloměru r .

Příklad 3.47: Pomocí dvojného integrálu určete obsah oblasti ohraničené elipsou o délce hlavní poloosy a a délce vedlejší poloosy b .

Objem tělesa

Poznámka 3.21: Nechť $f(x, y)$ je spojitá funkce na množině $\Omega \subset \mathbb{R}^2$ a nechť $f(x, y) \geq 0$ pro všechna $(x, y) \in \Omega$. Objem (kolmého) tělesa $T \subset \mathbb{R}^3$ ohraničeného zdola množinou Ω a shora částí grafu funkce $f(x, y)$ je dán vztahem

$$V = \iint_{\Omega} f(x, y) \, dx \, dy.$$

Příklad 3.48: Určete objem kolmého tělesa ohraničeného:

- (a) funkcí $f(x, y) = x^2 + y^2$ a množinou $\Omega : |x| + |y| \leq 1$,
- (b) funkcí $f(x, y) = 64 - x^2$ a rovinami $3 \cdot x + 4 \cdot y = 24$, $x = 0$, $y = 0$ a $z = 0$.

Řešení:

- (a) Nejprve v systému Maple zobrazíme těleso, jehož objem počítáme, a jeho podstavu (množinu Ω), abychom získali představu a snáze odvodili meze dvojného integrálu. S množinou Ω (resp. jejími variantami) jsme se už několikrát setkali, takže by nám nemělo činit problémy přepsat ji do mezí pro proměnné x a y . Když si však uvědomíme, že množina Ω je středově souměrná podle počátku souřadné soustavy (bodou $[0, 0, 0]$) a že zadaná funkce $f(x, y)$ je symetrická podle osy z , můžeme počítat objem pouze části tělesa vyskytující se v prvním oktantu (tj. pro $x, y, z \geq 0$) a výsledek vynásobit čtyřmi (abychom získali objem celého tělesa rozprostírajícího se přes čtyři oktanty, pro něž $z \geq 0$).

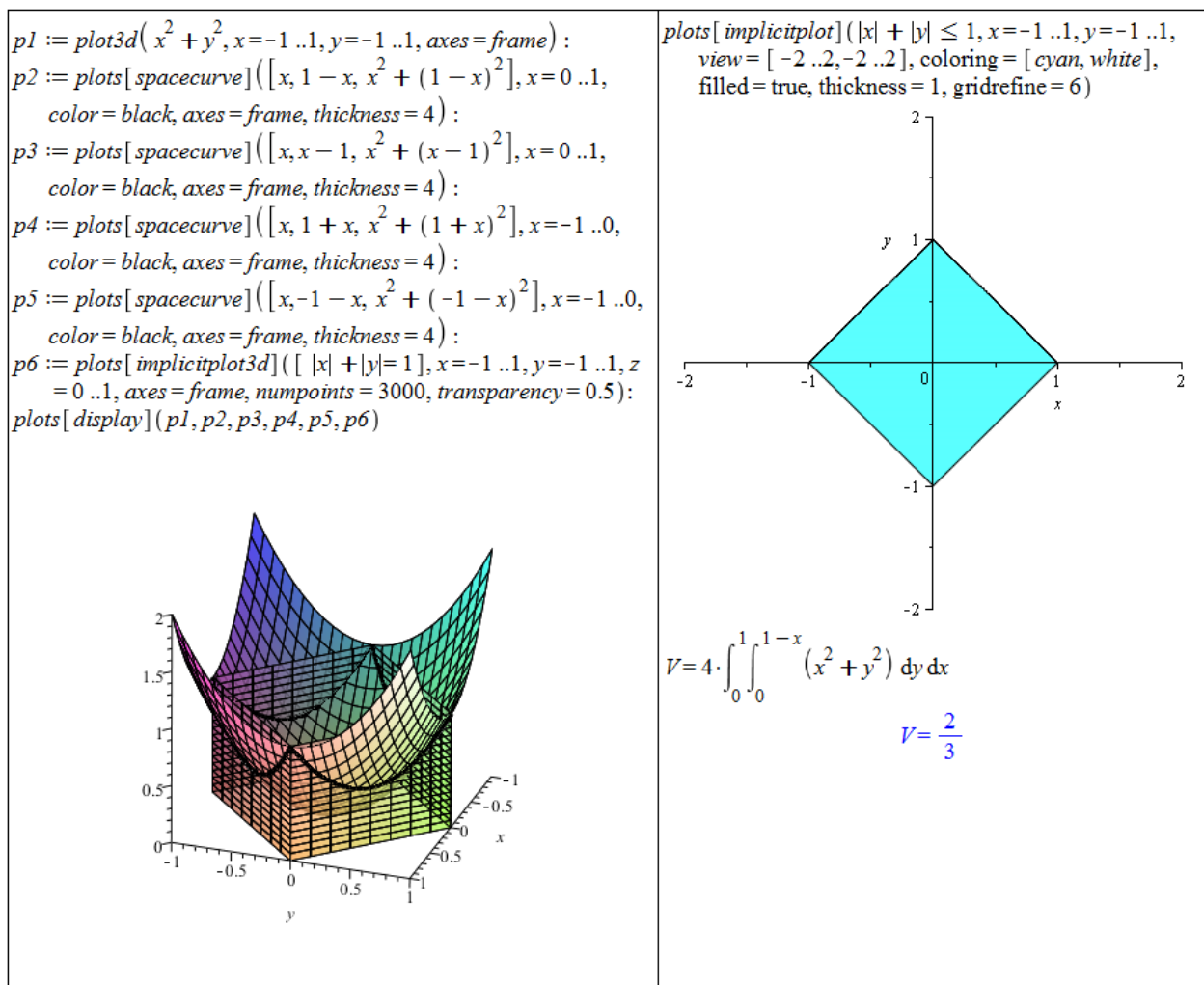
Pro meze odpovídající prvnímú oktantu platí:

$$0 \leq x \leq 1, \quad 0 \leq y \leq 1 - x.$$

- (b) Opět zobrazíme těleso, jehož objem počítáme. Vykreslením všech rovin (resp. funkcí), které se protínají a těleso vytváří, můžeme získat graf, který není příliš přehledný. Nastavováním různých nepovinných parametrů vykreslovacích příkazů, můžeme docílit přehlednějšího zobrazení. Na obrázku 3.44 je získané těleso zobrazeno 2×: vlevo „bez větších úprav“, vpravo bylo dosaženo zobrazení tělesa „bez zbytečných čar“, ovšem za cenu použití dalších příkazů a některých „triků“.

Na obrázku chybí zvláštní graf s podstavou tělesa. Z grafu vpravo je však ihned vidět, že podstavu tvoří trojúhelník vymezený přímkami $x = 0$, $y = 0$ a $3 \cdot x + 4 \cdot y = 24$. Pro meze integrálu proto platí:

$$0 \leq x \leq 8, \quad 0 \leq y \leq \frac{24-3 \cdot x}{4}.$$



Obrázek 3.43: Řešení příkladu 3.48.(a)

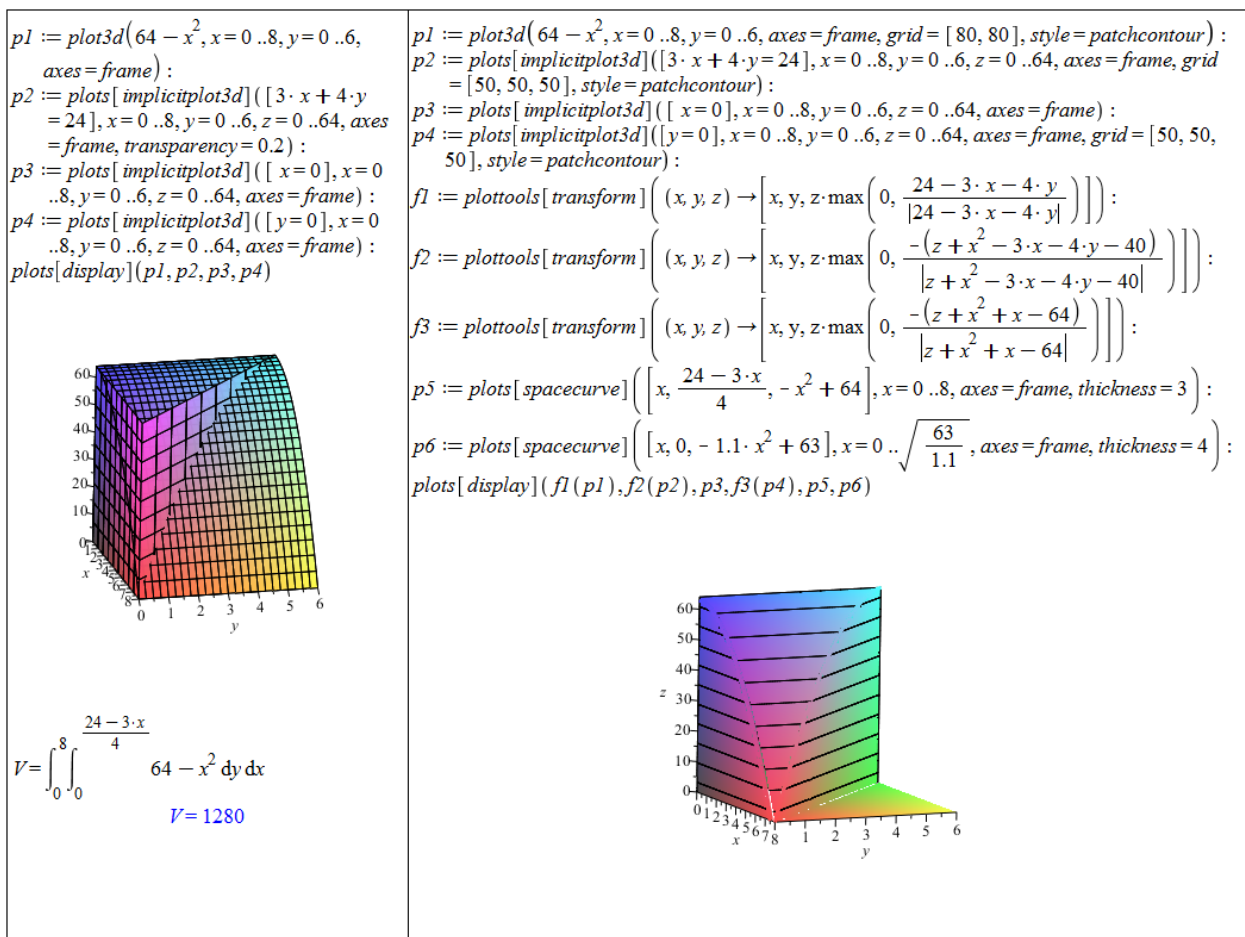
Příklad 3.49: Určete objem kolmého tělesa ohraničeného:

- (a) funkcí $f(x, y) = 6 - 2 \cdot x - 3 \cdot y$ a rovinami $x = 0, y = 0$ a $z = 0$,
- (b) funkcí $f(x, y) = x + 2 \cdot y$ a podstavou vymezenou grafy funkcí $y = 2 - x^2$ a $y = |x|$,
- (c) funkcí $f(x, y) = e^{x^2+y^2}$ a kruhovou podstavou popsanou nerovnicí $x^2 + y^2 \leq 4$,
- (d) funkcí $f(x, y) = 5 \cdot x^2 - 2 \cdot x \cdot y$ a trojúhelníkovou podstavou vymezenou body $[2, 0], [0, 1]$ a $[0, 0]$.
- (e) funkcí $f(x, y) = \left(\frac{x}{y}\right)^2$ a podstavou vymezenou grafy funkcí $y = x, y = \frac{1}{x}$ a přímkou $x = 2$.

Příklad 3.50: Pomocí dvojného integrálu určete objem kvádrů o rozměrech a, b, c .

Příklad 3.51: Pomocí dvojného integrálu určete objem koule o poloměru r .

Příklad 3.52: Pomocí dvojného integrálu určete objem válce o poloměru podstavy r a výšce v .



Obrázek 3.44: Řešení příkladu 3.48.(b)

Obsah plochy

Poznámka 3.22: Necht' jsou funkce $f(x, y)$, $f'_x(x, y)$, $f'_y(x, y)$ spojité na množině $\Omega \subset \mathbb{R}^2$. Obsah plochy tvořené grafem funkce $f(x, y)$ nad množinou Ω je dán vztahem

$$S = \iint_{\Omega} \sqrt{1 + (f'_x(x, y))^2 + (f'_y(x, y))^2} \, dx \, dy.$$

Příklad 3.53: Určete obsah plochy tvořené grafem funkce $f(x, y)$ nad množinou Ω z příkladu 3.48 v případě (a) i (b).

Řešení:

V obou případech využijeme poznámky 3.22, již dříve vypočítaných integračních mezí a předpisu ohraničující funkce.

Příklad 3.54: Určete obsah plochy tvořené grafem funkce $f(x, y)$ nad podstavou tělesa z příkladu 3.49.

Příklad 3.55: Určete obsah povrchu koule o poloměru r .

$f(x, y) := x^2 + y^2$ $(x, y) \rightarrow x^2 + y^2$ $S = 4 \cdot \int_0^1 \int_0^{1-x} \sqrt{1 + \left(\frac{\partial}{\partial x} f(x, y)\right)^2 + \left(\frac{\partial}{\partial y} f(x, y)\right)^2} dy dx$ $S = 4 \left(\int_0^1 \left(-\frac{1}{8} \ln(1 + 4x^2) - \frac{1}{2} \ln(1 + 4x^2) x^2 + \frac{1}{2} \sqrt{5 + 8x^2 - 8x} - \frac{1}{2} \sqrt{5 + 8x^2 - 8x} x + \frac{1}{4} \ln(2 - 2x + \sqrt{5 + 8x^2 - 8x}) + \ln(2 - 2x + \sqrt{5 + 8x^2 - 8x}) x^2 \right) dx \right)$ $\text{evalf}(\%)$ $S = 3.004625434$	$f(x, y) := 64 - x^2$ $(x, y) \rightarrow 64 - x^2$ $S = \int_0^8 \int_0^{\frac{24-3 \cdot x}{4}} \sqrt{1 + \left(\frac{\partial}{\partial x} f(x, y)\right)^2 + \left(\frac{\partial}{\partial y} f(x, y)\right)^2} dy dx$ $S = \frac{15}{2} \ln(2) + \frac{127}{16} \sqrt{257} + \frac{3}{2} \ln\left(\frac{1}{2} + \frac{1}{32} \sqrt{257}\right) + \frac{1}{16}$ $\text{evalf}(\%)$ $S = 132.5103717$
--	---

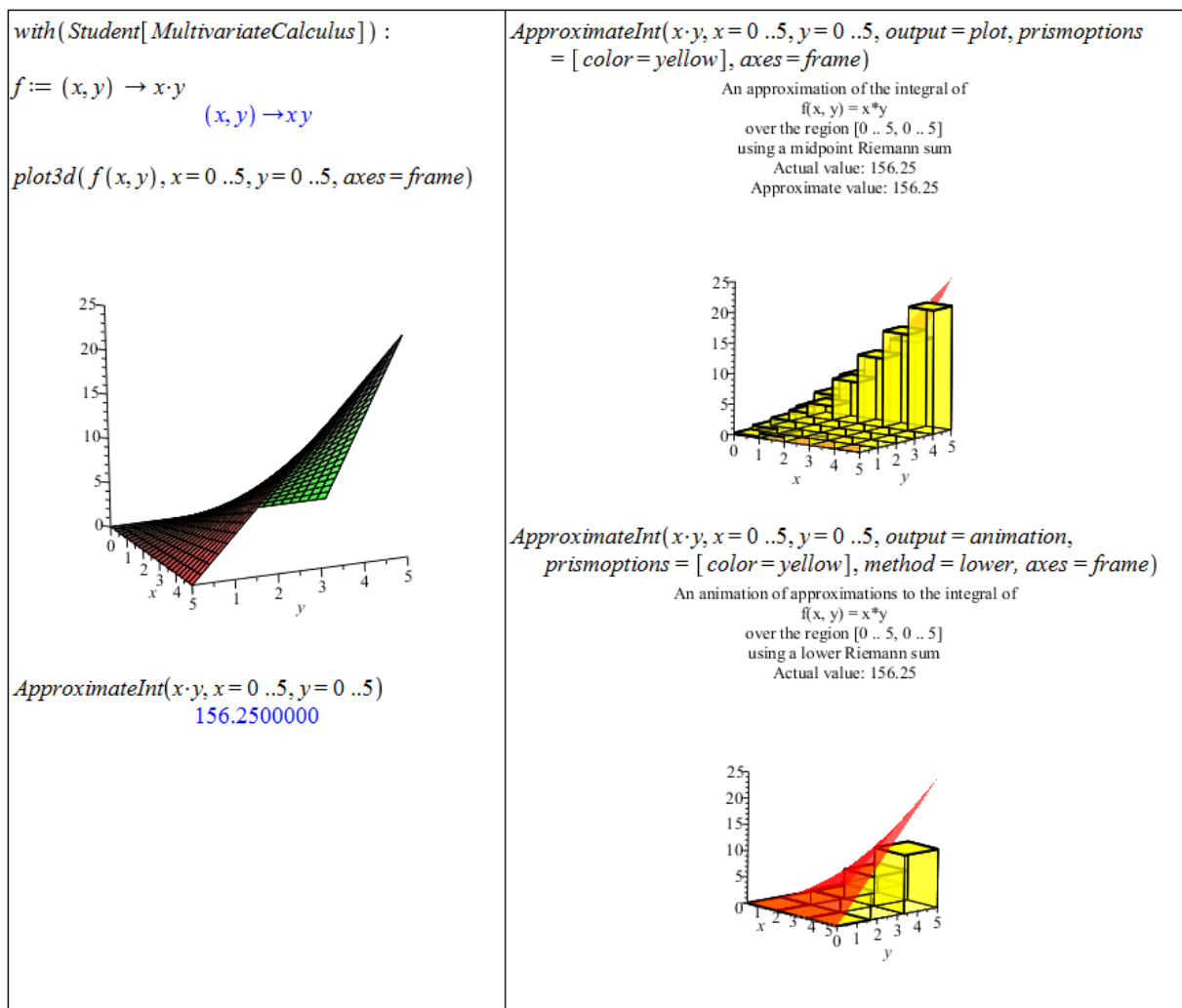
Obrázek 3.45: Řešení příkladu 3.53.(a) vlevo, řešení příkladu 3.53.(b) vpravo.

Příklad 3.56: Určete obsah části plochy koule o rovnici $x^2 + y^2 + z^2 = 25$ vymezené rovinami $z = 2$ a $z = 4$.

Integrální součet

Jak již víme, geometrickým významem dvojného integrálu z funkce $f(x, y)$ přes množinu Ω je objem tělesa ohraničeného množinou Ω , funkcí $f(x, y)$ a „vislými osami“. Tento objem můžeme počítat přibližně pomocí dolních (resp. horních, ...) integrálních součtů podobně, jako jsme si to ukazovali v případě jedné proměnné v sekci 2.7.4. Tentokrát přitom aproximujeme objem součtem objemů kvádrů se „zjemňující se“ čtvercovou základnou a výškou spočtenou např. z funkční hodnoty ve středu čtverce – základny nebo v jednom z vrcholů. K tomu nám poslouží příkaz `ApproximateInt` z balíku `Student[MultivariateCalculus]`. Použití příkazu `ApproximateInt` je takřka totožné s příkazem `RiemannSum`, s nímž jsme se dříve setkali. Příkazu opět povinně zadáváme funkci, již chceme integrovat, a meze integrace. I v tomto případě můžeme zadávat nepovinné parametry specifikující typ integrálního součtu, typ výstupu, rozdělení integračních intervalů a další. Ukázkou použití můžeme vidět na obrázku 3.46.

Tak jako v případě funkcí jedné proměnné, kde můžeme místo příkazu `RiemannSum` využít nástroje `Approximate Integration` spouštěném například z hlavního menu, máme k dispozici analogický nástroj i nyní. Opět má název `Approximate Integration` a tentokrát jej spustíme například zvolením **Tools > Tutors > Calculus – Multi-Variable > Approximate Integration...** v hlavním menu (obrázek 3.47).



Obrázek 3.46: Aproximace dvojného integrálu pomocí integrálních součtů.

3.5.2 Geometrická aplikace trojného integrálu

Objem tělesa

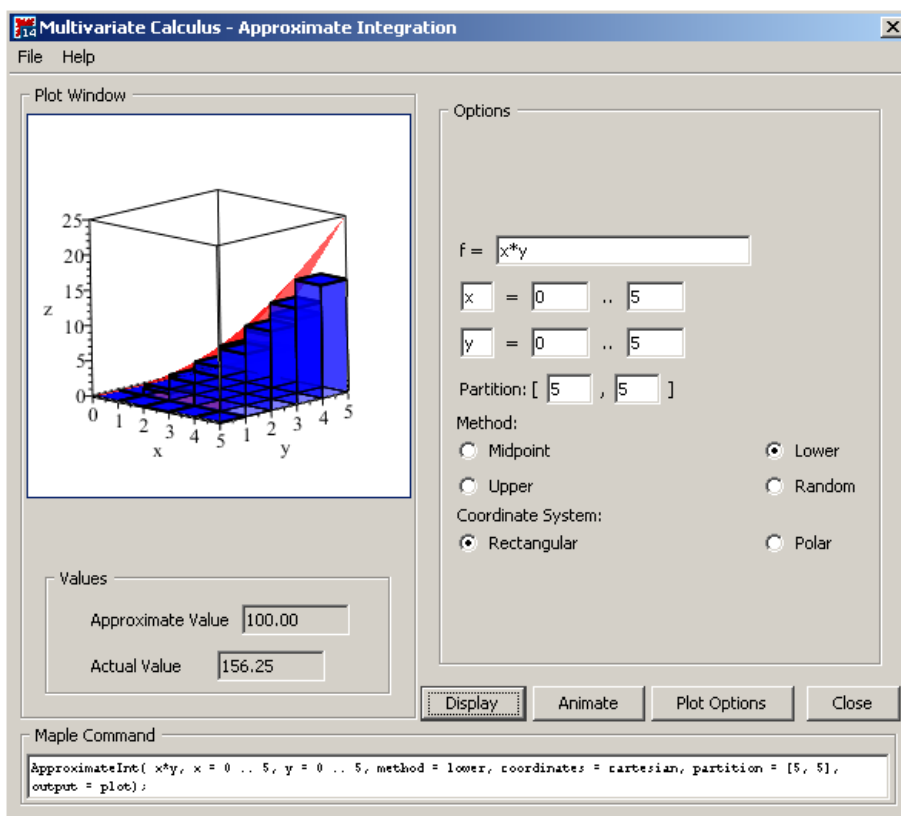
Poznámka 3.23: Nechť P je množina z definice 3.15 (obecně stačí tzv. *měřitelná* množina). Pro objem V této množiny platí vztah

$$V = \iiint_P dx \, dy \, dz.$$

Příklad 3.57: Určete objem trojosého elipsoidu daného rovnicí

$$\left(\frac{x}{a}\right)^2 + \left(\frac{y}{b}\right)^2 + \left(\frac{z}{c}\right)^2 = 1.$$

Řešení: Nejprve si elipsoid vykreslíme pro nějaké konkrétní hodnoty a, b, c . Na obrázku 3.48 jsou použity hodnoty $a = 13, b = 8, c = 6$. Následně musíme odvodit jednotlivé meze v trojném integrálu. Za „počáteční“ proměnnou vezměme x , pro niž tak platí: $x \in [-a, a]$.



Obrázek 3.47: Aproximace dvojného integrálu – maple.

Proměnnou y vyjádříme pomocí proměnné x jako: $y \in \left[-\sqrt{1 - \left(\frac{x}{a}\right)^2}, \sqrt{1 - \left(\frac{x}{a}\right)^2} \right]$ a nakonec proměnnou z pomocí zbylých proměnných jako: $z \in \left[-\sqrt{1 - \left(\frac{x}{a}\right)^2 - \left(\frac{y}{b}\right)^2}, \sqrt{1 - \left(\frac{x}{a}\right)^2 - \left(\frac{y}{b}\right)^2} \right]$.

<pre>plots[implicitplot3d]([[(x/13)^2 + (y/8)^2 + (z/6)^2 = 1], x=-13 ..13, y=-8..8, z=-6..6, axes=frame, scaling=constrained])</pre> <div style="text-align: center; margin-top: 20px;"> </div>	$V = \int_{-a}^a \int_{-b \cdot \sqrt{1 - \left(\frac{x}{a}\right)^2}}^{b \cdot \sqrt{1 - \left(\frac{x}{a}\right)^2}} \int_{-c \cdot \sqrt{1 - \left(\frac{x}{a}\right)^2 - \left(\frac{y}{b}\right)^2}}^{c \cdot \sqrt{1 - \left(\frac{x}{a}\right)^2 - \left(\frac{y}{b}\right)^2}} 1 \, dz \, dy \, dx$ $V = \frac{4}{3} c a b \pi$
--	---

Obrázek 3.48: Řešení příkladu 3.57.

Příklad 3.58: Pomocí trojného integrálu určete objem tělesa z příkladu 3.48.

Příklad 3.59: Pomocí trojného integrálu určete objem kvádrů o rozměrech a, b, c .

Příklad 3.60: Pomocí trojného integrálu určete objem koule o poloměru r .

Příklad 3.61: Pomocí trojného integrálu určete objem válce o poloměru podstavy r a výšce v .

3.5.3 Transformace souřadnic ve dvojném a trojném integrálu

U skupiny integrálů, kde pracujeme s kruhovými, kulovými či válcovými plochami, bývá výhodná transformace do polárních, sférických či cylindrických souřadnic.

Poznámka 3.24: (Transformace do polárních souřadnic) Uvažujme dvojný integrál

$$\iint_{\Omega_1} f(x, y) dx dy.$$

Pro transformaci tohoto integrálu do polárních souřadnic daných vztahy

$$x = r \cdot \cos(\theta), \quad y = r \cdot \sin(\theta)$$

platí:

$$\iint_{\Omega_1} f(x, y) dx dy = \iint_{\Omega_2} f(r \cdot \cos(\theta), r \cdot \sin(\theta)) \cdot r dr d\theta,$$

kde $r \in [0, \infty)$, $\theta \in [0, 2 \cdot \pi]$.

Poznámka 3.25: (Transformace do sférických souřadnic) Uvažujme trojný integrál

$$\iiint_{\Omega_1} f(x, y, z) dx dy dz.$$

Pro transformaci tohoto integrálu do sférických souřadnic daných vztahy

$$x = r \cdot \cos(\phi) \cdot \sin(\theta), \quad y = r \cdot \sin(\phi) \cdot \sin(\theta), \quad z = r \cdot \cos(\theta)$$

platí:

$$\begin{aligned} & \iiint_{\Omega_1} f(x, y, z) dx dy dz = \\ & = \iiint_{\Omega_2} f(r \cdot \cos(\phi) \cdot \sin(\theta), r \cdot \sin(\phi) \cdot \sin(\theta), r \cdot \cos(\theta)) \cdot \sin(\theta) \cdot r^2 dr d\phi d\theta, \end{aligned}$$

kde $r \in [0, \infty)$, $\phi \in [0, 2 \cdot \pi]$, $\theta \in [0, 2 \cdot \pi]$.

Poznámka 3.26: (Transformace do cylindrických souřadnic) Uvažujme trojný integrál

$$\iiint_{\Omega_1} f(x, y, z) \, dx \, dy \, dz.$$

Pro transformaci tohoto integrálu do cylindrických souřadnic daných vztahy

$$x = r \cdot \cos(\theta), \quad y = r \cdot \sin(\theta), \quad z = z$$

platí:

$$\iiint_{\Omega_1} f(x, y, z) \, dx \, dy \, dz = \iiint_{\Omega_2} f(r \cdot \cos(\theta), r \cdot \sin(\theta), z) \cdot r \, dr \, d\theta \, dz,$$

kde $r \in [0, \infty)$, $\theta \in [0, 2 \cdot \pi]$, $z \in \mathbb{R}$.

Příklad 3.62: Použitím transformace do polárních souřadnic určete objem kolmého tělesa ohraničeného funkcí $f(x, y) = e^{x^2+y^2}$ a kruhovou podstavou popsanou nerovnicí $x^2 + y^2 \leq 4$.

Řešení: Můžeme využít poznámky 3.24 nebo zapsat dvojný integrál pro kartézské souřadnice, který jsme již vytvořili v příkladu 3.49.(c), a pro transformaci do souřadnic polárních využít příkaz `ChangeOfVariables` (či příkaz `changecoords`). Provedme druhou možnost.

Integrační meze Maple nepřevede, musíme je tak vytvořit sami. Podstavou tělesa je kruh o poloměru $r = 2$, což vede na následující meze: $r \in [0, 2]$, $\theta \in [0, 2 \cdot \pi]$. Můžeme pozorovat, že v porovnání s řešením příkladu 3.49.(c) jsme tentokrát získali i analytické řešení.

The screenshot shows the following steps in Maple:

$$\text{Int}\left(\text{Int}\left(e^{x^2+y^2}, y = -\sqrt{4-x^2} .. \sqrt{4-x^2}\right), x = -2 .. 2\right)$$

$$\int_{-2}^2 \int_{-\sqrt{4-x^2}}^{\sqrt{4-x^2}} e^{x^2+y^2} \, dy \, dx$$

Student[MultivariateCalculus][ChangeOfVariables](%, [cartesian_{x,y}, polar_{r,θ}])

$$\int_{x=-2}^{x=2} \int_{y=-\sqrt{4-x^2}}^{y=\sqrt{4-x^2}} e^{r^2} r \, dr \, d\theta$$

$$V = \int_0^{2 \cdot \pi} \int_0^2 e^{r^2} \cdot r \, d\theta \, dr$$

$$V = -\pi + e^4 \pi$$

evalf(%)

$$V = 168.3835544$$

Obrázek 3.49: Řešení příkladu 3.62.

Příklad 3.63: Použitím transformace do polárních souřadnic určete objem kolmého tělesa ohraničeného funkcí $f(x, y) = \sqrt{1-x^2-y^2}$ a kruhovou podstavou popsanou nerovnicí $x^2 + y^2 \leq 1$.

Příklad 3.64: Vraťte se k příkladům 3.46, 3.51, 3.52, 3.60 a 3.61. Příslušné výpočty nyní proveďte i v jiném systému souřadnic (tj. např. polárních, sférických, ...) a výsledky porovnejte s původně získanými.

3.6 Nekonečné řady

Definice 3.16: Mějme funkci $f : \mathbb{R} \rightarrow \mathbb{R}$. Jestliže $D(f) = \mathbb{N}$, nazýváme tuto funkci *posloupností reálných čísel* a značíme $\{a_n\}_{n=1}^{\infty}$.

Definice 3.17: Nechť $\{a_n\}_{n=1}^{\infty}$ je posloupnost reálných čísel. Symbol

$$\sum_{n=1}^{\infty} a_n \quad \text{nebo} \quad a_1 + a_2 + \dots + a_n + \dots$$

nazýváme *nekonečnou (číselnou) řadou*. Posloupnost $\{s_n\}_{n=1}^{\infty}$ definovanou předpisem

$$s_1 = a_1, \quad s_2 = a_1 + a_2, \quad \dots \quad s_n = a_1 + a_2 + \dots + a_n, \quad \dots$$

nazýváme *posloupností částečných součtů* této řady.

Definice 3.18: Existuje-li vlastní limita $\lim_{n \rightarrow \infty} s_n = s$, řekneme, že řada $\sum_{n=1}^{\infty} a_n$ *konverguje* a má součet s .

Neexistuje-li vlastní limita $\lim_{n \rightarrow \infty} s_n$, řekneme, že řada $\sum_{n=1}^{\infty} a_n$ *diverguje*.

Poznámka 3.27: Divergenci řady můžeme ještě rozlišit na tři případy:

- je-li $\lim_{n \rightarrow \infty} s_n = \infty$, říkáme, že řada diverguje k ∞ ,
- je-li $\lim_{n \rightarrow \infty} s_n = -\infty$, říkáme, že řada diverguje k $-\infty$,
- pokud $\lim_{n \rightarrow \infty} s_n$ neexistuje, říkáme, že řada *osciluje*.

V systému Maple zadáváme posloupnosti pomocí příkazu `seq` nebo pomocí kontextové nabídky dokumentu. Příkaz `seq` je možné použít několika různými způsoby s ohledem na to, jaké mu zadáváme parametry. S výjimkou jediného případu mu vždy zadáváme jako první parametr n -tý člen posloupnosti a dalším parametrem (dalšími parametry) specifikujeme, které členy posloupnosti chceme vypsat (což můžeme učinit zadáním intervalu, zápisem jediné hodnoty – pro jediný člen nebo výpisem členů posloupnosti v seznamu).

V případě použití kontextové nabídky zadáme do dokumentu n -tý člen posloupnosti, klikneme na něj pravým tlačítkem a zvolíme položku **Sequence** spolu s iterační proměnnou. V následně zobrazeném okénku navolíme, které členy posloupnosti chceme vypsat do dokumentu. Použití kontextové nabídky má však oproti příkazu `seq` mnohá omezení.

Posloupnosti $\{a_n\}$ můžeme též vykreslovat do grafů. Potřebujeme k tomu vytvořit dvojice $[n, a_n]$, které následně zobrazíme jako body příkazem `plot`. Pro vytvoření dvojic $[n, a_n]$ můžeme pochopitelně použít příkaz `seq`, vykreslení bodů je třeba specifikovat parametrem `style` nastaveným na hodnotu `point` (v příkazu `plot`).

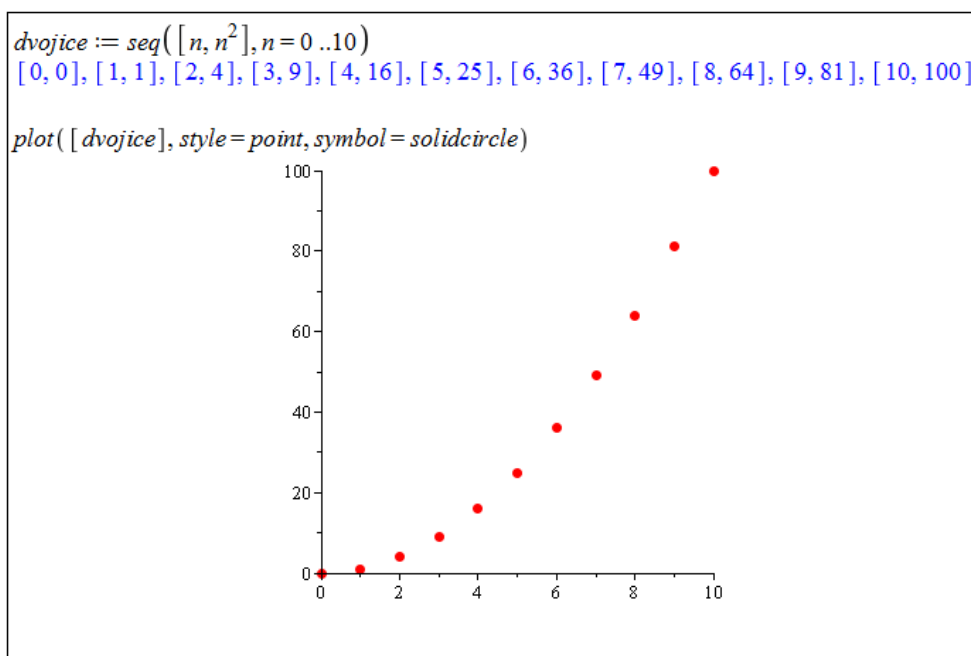
Nekonečné řady (i konečné součty) zadáváme v Maple několika způsoby. Jednak paleta **Expression** nabízí předdefinovaný symbol velkého řeckého písmene sigma, k dispozici je také příkaz `sum` a využít můžeme opět i kontextové nabídky dokumentu (i když trochu „komplikovaně“). Příkaz `sum` má dva parametry (n -tý člen řady a „součtové“ meze). Po provedení příkaz vypíše součet řady (pokud jej umí určit). Systém Maple nabízí též příkaz `Sum` s velkým počátečním písmenem, jenž slouží pro matematický zápis řady s použitím řeckého písmene sigma. A právě takový zápis je možné získat i pomocí kontextové nabídky,


```

seq(n^2, n = 0 ..10)           0, 1, 4, 9, 16, 25, 36, 49, 64, 81, 100
seq(n^2, n = k)                k^2
seq(n^2, n = 8)                64
seq(n^2, n in [1, 3, 5, 7])    1, 9, 25, 49
n^2 --sequence w.r.t. n--> 0, 1, 4, 9, 16, 25, 36, 49, 64, 81, 100
n^2 --sequence w.r.t. n--> 64

```

Obrázek 3.50: Různé možnosti vypsání členů posloupnosti.



Obrázek 3.51: Vykreslení členů posloupnosti.

když do dokumentu zapíšeme n -tý člen řady, klikneme na něj pravým tlačítkem myši a zvolíme položku **Constructions** > **Sum** > **n**. Dalším kliknutím pravého tlačítka myši (tentokrát na matematický zápis řady) a zvolením **Evaluate (from inert)** získáme součet řady (pokud jej Maple umí určit).

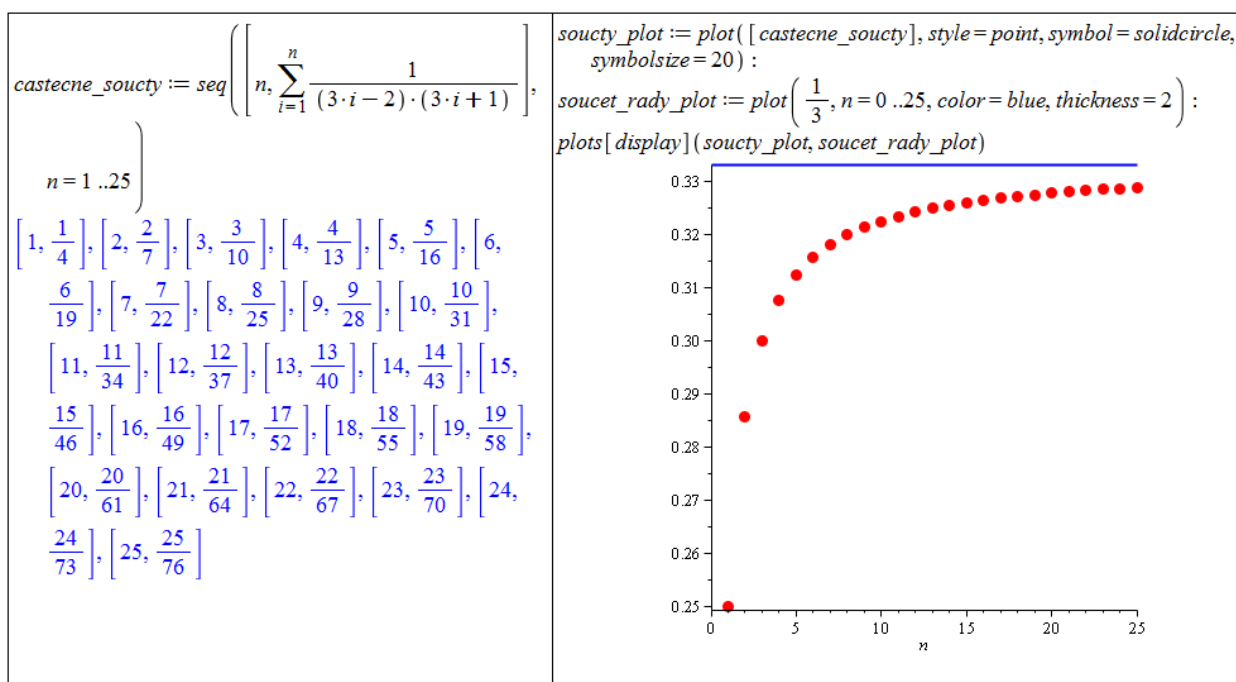
S tím, co již známe, nám nic nebrání ve vypsání posloupnosti částečných součtů. Tuto posloupnost navíc můžeme vykreslit, například společně se součtem řady – viz obrázek 3.53.

Existují nekonečné řady, jejichž součet Maple neumí určit⁸. V takových případech ani nevypíše, zda řada součet má (tj. zda konverguje) či zda řada diverguje. V těchto situacích musíme konvergenci řady vyšetřit „sami“ jinými postupy, přičemž si samozřejmě můžeme „pomáhat systémem“ při dílčích krocích.

⁸V Maple 14 neexistuje příkaz, který by uspokojivě řešil limity posloupností reálných čísel.

$\sum_{n=1}^{\infty} \frac{1}{(3 \cdot n - 2) \cdot (3 \cdot n + 1)}$ $\frac{1}{3}$ $\text{sum}\left(\frac{1}{(3 \cdot n - 2) \cdot (3 \cdot n + 1)}, n = 1 \dots \infty\right)$ $\frac{1}{3}$ <p>Částečný součet řady:</p> $\sum_{n=1}^k \frac{1}{(3 \cdot n - 2) \cdot (3 \cdot n + 1)}$ $-\frac{1}{3(3k+1)} + \frac{1}{3}$ $\text{sum}\left(\frac{1}{(3 \cdot n - 2) \cdot (3 \cdot n + 1)}, n = 1 \dots k\right)$ $-\frac{1}{3(3k+1)} + \frac{1}{3}$	$\sum_{n=1}^5 \frac{1}{(3 \cdot n - 2) \cdot (3 \cdot n + 1)}$ $\frac{5}{16}$ $\text{sum}\left(\frac{1}{(3 \cdot n - 2) \cdot (3 \cdot n + 1)}, n = 1 \dots 5\right)$ $\frac{5}{16}$ <p>Matematický zápis řady:</p> $\frac{1}{(3 \cdot n - 2) \cdot (3 \cdot n + 1)} \xrightarrow{\text{sum w.r.t. } n} \sum_{n=1}^{\infty} \frac{1}{(3 \cdot n - 2) \cdot (3 \cdot n + 1)} = \frac{1}{3}$ $\text{Sum}\left(\frac{1}{(3 \cdot n - 2) \cdot (3 \cdot n + 1)}, n = 1 \dots \infty\right) : \% = \text{value}(\%)$ $\sum_{n=1}^{\infty} \frac{1}{(3 \cdot n - 2) \cdot (3 \cdot n + 1)} = \frac{1}{3}$
--	---

Obrázek 3.52: Různé možnosti zápisu nekonečných (i konečných) řad.



Obrázek 3.53: Vykreslení posloupnosti částečných součtů a součtu řady.

Příklad 3.65: Určete součty následujících řad:

(a) $\sum_{n=1}^{\infty} \frac{1}{n \cdot (n+1)},$

(b) $\sum_{n=1}^{\infty} \frac{1}{n^2},$

(c) $\sum_{n=1}^{\infty} \frac{1}{n}.$

Příklad 3.66: Určete součty následujících řad:

$$(a) \sum_{n=1}^{\infty} (\sqrt{n+2} - 2 \cdot \sqrt{n+1} + \sqrt{n}), \quad (b) \sum_{n=1}^{\infty} \arctan\left(\frac{1}{2 \cdot n^2}\right).$$

Řešení:

- (a) Systém Maple zadanou řadu sečíst neumí. Určíme tedy částečný součet řady s_k pro libovolné (pevné) k a následně prověříme existenci limity tohoto částečného součtu pro $k \rightarrow \infty$. Částečný součet s_k přitom odvodíme na základě několika částečných součtů pro různé konkrétní numerické hodnoty. Zcela správně bychom měli (například matematickou indukcí) dokázat, že pravidlo, které vypočítáme z některých (nejlépe několika prvních) částečných součtů platí skutečně pro libovolné k .

Naznačme proto takový důkaz aspoň nyní. Díky Maple víme, že

$$\begin{aligned} \sum_{n=1}^{10} (\sqrt{n+2} - 2 \cdot \sqrt{n+1} + \sqrt{n}) &= 1 - \sqrt{2} - \sqrt{11} + \sqrt{12}, \\ \sum_{n=1}^{11} (\sqrt{n+2} - 2 \cdot \sqrt{n+1} + \sqrt{n}) &= 1 - \sqrt{2} - \sqrt{12} + \sqrt{13}, \\ \sum_{n=1}^{12} (\sqrt{n+2} - 2 \cdot \sqrt{n+1} + \sqrt{n}) &= 1 - \sqrt{2} - \sqrt{13} + \sqrt{14}. \end{aligned}$$

Předpokládejme nyní, že pro libovolné $k \geq 10$ platí:

$$\sum_{n=1}^k (\sqrt{n+2} - 2 \cdot \sqrt{n+1} + \sqrt{n}) = 1 - \sqrt{2} - \sqrt{k+1} + \sqrt{k+2}.$$

Pak platí:

$$\begin{aligned} \sum_{n=1}^{k+3} (\sqrt{n+2} - 2 \cdot \sqrt{n+1} + \sqrt{n}) &= 1 - \sqrt{2} - \sqrt{k+1} + \sqrt{k+2} \\ &+ (\sqrt{k+3} - 2 \cdot \sqrt{k+2} + \sqrt{k+1}) \\ &+ (\sqrt{k+4} - 2 \cdot \sqrt{k+3} + \sqrt{k+2}) \\ &+ (\sqrt{k+5} - 2 \cdot \sqrt{k+4} + \sqrt{k+3}) \\ &= 1 - \sqrt{2} - \sqrt{k+4} + \sqrt{k+5}. \end{aligned}$$

Zjistili jsme tedy, že pokud naše hypotéza platí pro libovolné $k \geq 10$, platí i pro $k+3$. Jelikož víme, že vypočítaný vztah platí pro $k \in \{10, 11, 12\}$, pak musí nutně platit pro zcela libovolné $k \geq 10$.

- (b) Systém Maple zadanou řadu sečíst opět neumí. Postupujeme totožným způsobem jako v předchozím příkladu. Opět je třeba dokázat, že vypočítaný vztah skutečně platí pro libovolné k . V tomto případě to necháváme na čtenáři (obrázek 3.54).

Často se nám může stát, že neumíme součet řady určit. V této situaci bychom přesto chtěli alespoň odpověď na otázku, zda řada konverguje či diverguje. Zabývat se nyní budeme řadami s nezápornými členy, u nichž platí, že buď konvergují nebo divergují k nekonečnu. Pro zjištění, zda řada konverguje či diverguje, máme několik rozhodovacích kritérií.

$\sum_{n=1}^{\infty} (\sqrt{n+2} - 2\sqrt{n+1} + \sqrt{n})$ $\sum_{n=1}^{\infty} (\sqrt{n+2} - 2\sqrt{n+1} + \sqrt{n})$	$\sum_{n=1}^{\infty} \arctan\left(\frac{1}{2 \cdot n^2}\right)$ $\sum_{n=1}^{\infty} \arctan\left(\frac{1}{2n^2}\right)$
$\sum_{n=1}^{10} (\sqrt{n+2} - 2\sqrt{n+1} + \sqrt{n})$ $1 - \sqrt{2} - \sqrt{11} + \sqrt{12}$	$\text{simplify} \left(\sum_{n=1}^{10} \arctan\left(\frac{1}{2 \cdot n^2}\right) \right)$ $\arctan\left(\frac{10}{11}\right)$
$\sum_{n=1}^{11} (\sqrt{n+2} - 2\sqrt{n+1} + \sqrt{n})$ $1 - \sqrt{2} - \sqrt{12} + \sqrt{13}$	$\text{simplify} \left(\sum_{n=1}^{11} \arctan\left(\frac{1}{2 \cdot n^2}\right) \right)$ $\arctan\left(\frac{11}{12}\right)$
$\sum_{n=1}^{12} (\sqrt{n+2} - 2\sqrt{n+1} + \sqrt{n})$ $1 - \sqrt{2} - \sqrt{13} + \sqrt{14}$	$\text{simplify} \left(\sum_{n=1}^{12} \arctan\left(\frac{1}{2 \cdot n^2}\right) \right)$ $\arctan\left(\frac{12}{13}\right)$
$\sum_{n=1}^{88} (\sqrt{n+2} - 2\sqrt{n+1} + \sqrt{n})$ $1 - \sqrt{2} - \sqrt{89} + \sqrt{90}$	$\text{simplify} \left(\sum_{n=1}^{88} \arctan\left(\frac{1}{2 \cdot n^2}\right) \right)$ $\arctan\left(\frac{88}{89}\right)$
<p>Je zřejmé, že:</p> $\sum_{n=1}^k (\sqrt{n+2} - 2\sqrt{n+1} + \sqrt{n}) = 1 - \sqrt{2}$ $- \sqrt{k+1} + \sqrt{k+2}$	<p>Je zřejmé, že:</p> $\sum_{n=1}^k \arctan\left(\frac{1}{2 \cdot n^2}\right) = \arctan\left(\frac{k}{k+1}\right)$
<p>A tedy:</p> $\sum_{n=1}^{\infty} (\sqrt{n+2} - 2\sqrt{n+1} + \sqrt{n}) =$ $\lim_{k \rightarrow \infty} (1 - \sqrt{2} - \sqrt{k+1} + \sqrt{k+2}) = 1 - \sqrt{2}$	<p>A tedy:</p> $\sum_{n=1}^{\infty} \arctan\left(\frac{1}{2 \cdot n^2}\right) = \lim_{k \rightarrow \infty} \arctan\left(\frac{k}{k+1}\right) = \frac{1}{4} \pi$

Obrázek 3.54: Řešení příkladu 3.66. Část (a) vlevo, část (b) vpravo.

Poznámka 3.28: (Srovnávací kritérium) Mějme řady $\sum_{n=1}^{\infty} a_n$, $\sum_{n=1}^{\infty} b_n$ s nezápornými členy a necht' $a_n \leq b_n$ pro všechna $n \in \mathbb{N}$. Pak platí:

- konverguje-li řada $\sum_{n=1}^{\infty} b_n$, konverguje i řada $\sum_{n=1}^{\infty} a_n$,
- diverguje-li řada $\sum_{n=1}^{\infty} a_n$, diverguje i řada $\sum_{n=1}^{\infty} b_n$.

Poznámka 3.29: (Limitní srovnávací kritérium) Mějme řady $\sum_{n=1}^{\infty} a_n$, $\sum_{n=1}^{\infty} b_n$ s nezápornými členy a necht' existuje

$$\lim_{n \rightarrow \infty} \frac{a_n}{b_n} = L.$$

Pak platí:

- je-li $L < \infty$ a konverguje-li řada $\sum_{n=1}^{\infty} b_n$, konverguje i řada $\sum_{n=1}^{\infty} a_n$,
- je-li $L > 0$ a diverguje-li řada $\sum_{n=1}^{\infty} b_n$, diverguje i řada $\sum_{n=1}^{\infty} a_n$.

Poznámka 3.30: (Odmocninové kritérium) Nechť $\sum_{n=1}^{\infty} a_n$ je řada s nezápornými členy.

- Platí-li pro všechna $n \in \mathbb{N}$: $\sqrt[n]{a_n} \leq q < 1$, pak řada konverguje,
- existuje-li

$$\lim_{n \rightarrow \infty} \sqrt[n]{a_n} = q, \quad \text{kde } q \in \mathbb{R} \cup \{-\infty, \infty\},$$

pak pro $q < 1$ řada konverguje, pro $q > 1$ řada diverguje.

Poznámka 3.31: (Podílové kritérium) Nechť $\sum_{n=1}^{\infty} a_n$ je řada s nezápornými členy.

- Platí-li pro všechna $n \in \mathbb{N}$: $\frac{a_{n+1}}{a_n} \leq q < 1$, pak řada konverguje, platí-li pro všechna $n \in \mathbb{N}$: $\frac{a_{n+1}}{a_n} \geq 1$, pak řada diverguje,
- existuje-li

$$\lim_{n \rightarrow \infty} \frac{a_{n+1}}{a_n} = q, \quad \text{kde } q \in \mathbb{R} \cup \{-\infty, \infty\},$$

pak pro $q < 1$ řada konverguje, pro $q > 1$ řada diverguje.

Poznámka 3.32: (Limitní Raabeovo kritérium) Nechť $\sum_{n=1}^{\infty} a_n$ je řada s nezápornými členy a nechť existuje

$$\lim_{n \rightarrow \infty} n \cdot \left(1 - \frac{a_{n+1}}{a_n}\right) = q, \quad \text{kde } q \in \mathbb{R} \cup \{-\infty, \infty\},$$

pak pro $q > 1$ řada konverguje, pro $q < 1$ řada diverguje.

Poznámka 3.33: (Integrální kritérium) Nechť je funkce f definovaná na intervalu $[1, \infty)$, která je na tomto intervalu nezáporná a nerostoucí. Nechť $f(n) = a_n$ pro $n \in \mathbb{N}$. Pak řada $\sum_{n=1}^{\infty} a_n$ konverguje právě tehdy, když konverguje nevlastní integrál

$$\int_1^{\infty} f(x) dx.$$

Příklad 3.67: Rozhodněte o konvergenci následujících řad:

- (a) $\sum_{n=2}^{\infty} \frac{1}{\ln(n)}$, (d) $\sum_{n=1}^{\infty} \frac{n^n}{n!}$,
 (b) $\sum_{n=1}^{\infty} \sin\left(\frac{\pi}{n}\right)$, (e) $\sum_{n=2}^{\infty} \frac{1}{n \cdot \ln(n)}$.
 (c) $\sum_{n=1}^{\infty} \frac{n}{\left(3+\frac{1}{n}\right)^n}$,

Řešení:

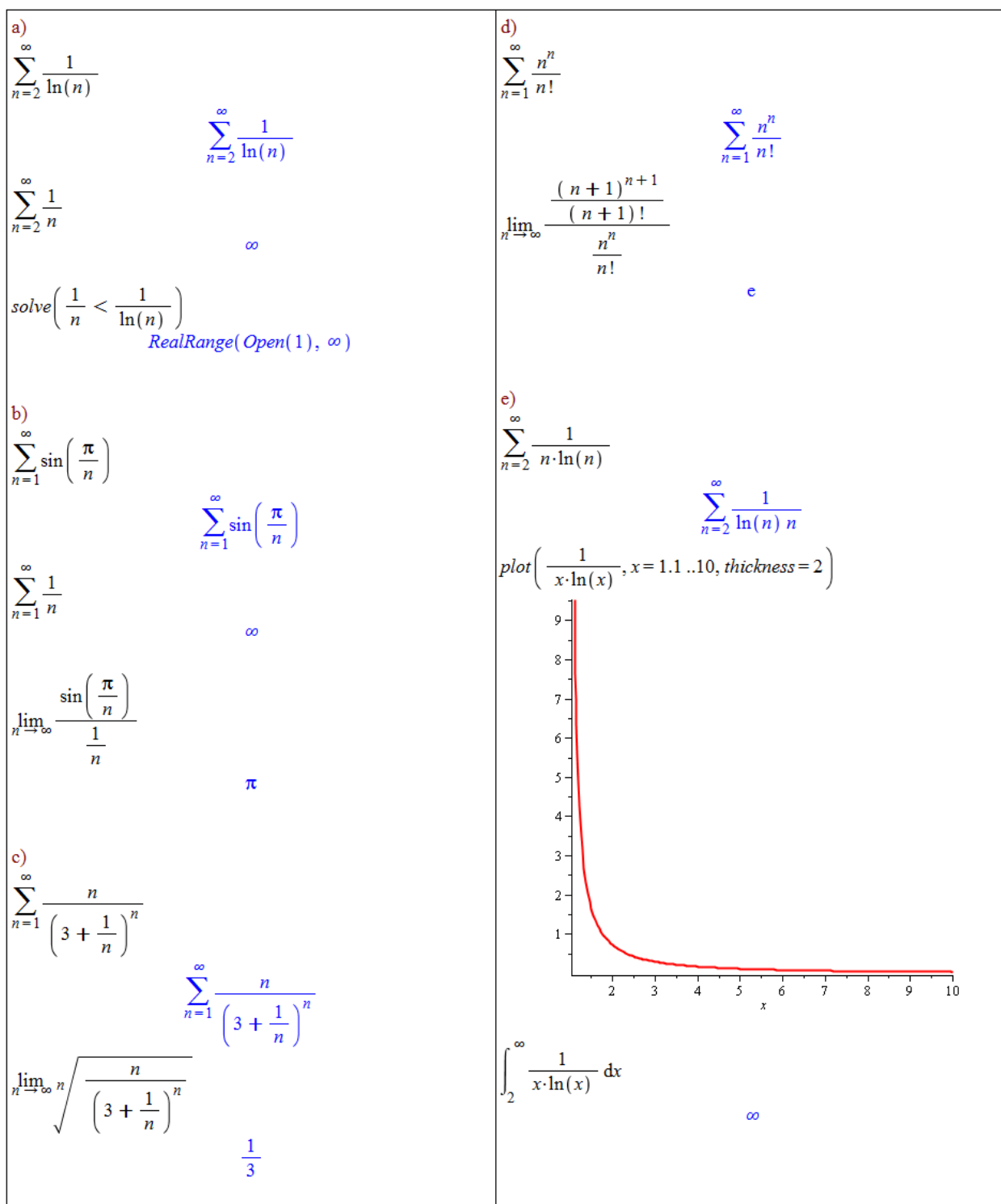
- (a) Využijeme srovnávacího kritéria a toho, že řada $\sum_{n=2}^{\infty} \frac{1}{n}$ diverguje. Jelikož pro všechna $n \in \mathbb{N} \setminus \{1\}$ platí: $\frac{1}{n} < \frac{1}{\ln(n)}$, podle srovnávacího kritéria řada $\sum_{n=2}^{\infty} \frac{1}{\ln(n)}$ diverguje.
 (b) Nyní využijeme limitního srovnávacího kritéria a znovu řady $\sum_{n=2}^{\infty} \frac{1}{n}$, která diverguje. Jelikož $\lim_{n \rightarrow \infty} \frac{\sin\left(\frac{\pi}{n}\right)}{\frac{1}{n}} = \pi$, řada $\sum_{n=1}^{\infty} \sin\left(\frac{\pi}{n}\right)$ diverguje.
 (c) Opět budeme počítat limitu, tentokrát v odmocninovém kritériu. Jelikož $\lim_{n \rightarrow \infty} \sqrt[n]{\frac{n}{\left(3+\frac{1}{n}\right)^n}} = \frac{1}{3}$, zadaná řada konverguje.
 (d) V tomto případě využijeme podílového kritéria, resp. opět jeho limitní varianty. Jelikož $\lim_{n \rightarrow \infty} \frac{\frac{(n+1)^{n+1}}{(n+1)!}}{\frac{n^n}{n!}} = e$, zadaná řada diverguje.
 (e) V posledním případě použijeme integrální kritérium. Funkce $f(x) = \frac{1}{x \cdot \ln(x)}$ je na intervalu $[2, \infty)$ nezáporná a klesající (předpoklady integrálního kritéria). Jelikož

$$\int_2^{\infty} f(x) dx = \infty,$$

řada $\sum_{n=2}^{\infty} \frac{1}{n \cdot \ln(n)}$ diverguje. Pomocné výpočty v Maple k předešlým příkladům ilustruje obrázek 3.55.

Příklad 3.68: Rozhodněte o konvergenci následujících řad:

- (a) $\sum_{n=1}^{\infty} (\sqrt{n} - \sqrt{n-1})$, (d) $\sum_{n=1}^{\infty} \ln\left(1 + \frac{1}{n^2}\right)$, (g) $\sum_{n=1}^{\infty} \frac{2^n}{n^n}$,
 (b) $\sum_{n=1}^{\infty} \frac{1}{\sqrt{n^2+2} \cdot n}$, (e) $\sum_{n=1}^{\infty} \sin\left(\frac{\pi}{2^n}\right)$, (h) $\sum_{n=1}^{\infty} \frac{2^n \cdot n!}{n^n}$,
 (c) $\sum_{n=1}^{\infty} \frac{\sqrt{n}}{\sqrt{n^4+1}}$, (f) $\sum_{n=1}^{\infty} \frac{2^n}{n^4}$, (i) $\sum_{n=1}^{\infty} \frac{1}{n^3}$.



Obrázek 3.55: Pomocné výpočty k řešení příkladu 3.67.

3.6.1 Absolutní konvergence řad

Definice 3.19: Nekonečná řada $\sum_{n=1}^{\infty} a_n$ se nazývá *alternující*, jestliže pro všechna $n \in \mathbb{N}$ platí: $\text{signum}(a_{n+1}) = -\text{signum}(a_n)$.

Poznámka 3.34: (Leibnizovo kritérium) Nechť a_n je nerostoucí posloupnost kladných čísel. Pak alternující řada $\sum_{n=1}^{\infty} (-1)^{n-1} \cdot a_n$ konverguje právě tehdy, když platí $\lim_{n \rightarrow \infty} a_n = 0$.

Alternující řady zadáváme systému stejným způsobem jako veškeré nekonečné řady. Jak uvidíme, systém Maple umí počítat součty alternujících řad. V případech, kdy součet řady určit nedokáže, nám velmi pomůže výše zmíněné Leibnizovo kritérium konvergence.

Příklad 3.69: Rozhodněte o konvergenci následujících řad:

(a) $\sum_{n=1}^{\infty} \frac{1}{n} \cdot (-1)^{n-1}$, (b) $\sum_{n=1}^{\infty} \frac{1}{\sqrt[n]{n}} \cdot (-1)^{n-1}$.

Řešení:

- (a) Systém Maple určí součet zadané řady.
 (b) V tomto případě Maple součet neurčí, využijeme proto Leibnizova kritéria, díky němuž zjistíme, že zadaná řada diverguje.

$\sum_{n=1}^{\infty} \left(\frac{1}{n} \right) \cdot (-1)^{n-1}$ <p style="text-align: right; color: blue;">ln(2)</p>	$\sum_{n=1}^{\infty} \left(\frac{1}{\sqrt[n]{n}} \right) \cdot (-1)^{n-1}$ $\sum_{n=1}^{\infty} \frac{(-1)^{n-1}}{\frac{1}{n^n}}$ $\lim_{n \rightarrow \infty} \frac{1}{\sqrt[n]{n}}$ <p style="text-align: center; color: blue;">1</p>
--	--

Obrázek 3.56: Pomocné výpočty k řešení příkladu 3.69.

Definice 3.20: Řekneme, že nekonečná řada $\sum_{n=1}^{\infty} a_n$ *konverguje absolutně*, jestliže konverguje řada $\sum_{n=1}^{\infty} |a_n|$. Jestliže řada $\sum_{n=1}^{\infty} a_n$ konverguje a řada $\sum_{n=1}^{\infty} |a_n|$ diverguje, říkáme, že řada $\sum_{n=1}^{\infty} a_n$ *konverguje neabsolutně*.

Poznámka 3.35: Konverguje-li řada $\sum_{n=1}^{\infty} |a_n|$, konverguje i řada $\sum_{n=1}^{\infty} a_n$. Diverguje-li řada $\sum_{n=1}^{\infty} a_n$, pak diverguje také řada $\sum_{n=1}^{\infty} |a_n|$.

Příklad 3.70: Rozhodněte o konvergenci a absolutní konvergenci následujících řad:

(a) $\sum_{n=1}^{\infty} \ln\left(1 + \frac{1}{n}\right) \cdot (-1)^{n-1},$

(b) $\sum_{n=2}^{\infty} \frac{1}{n \cdot \ln(n)} \cdot (-1)^n.$

Řešení:

- (a) Systém Maple součet zadané řady neurčí. Využijeme proto Leibnizova kritéria, díky němuž zjistíme, že zadaná řada konverguje. K posouzení absolutní konvergence již můžeme využít systému Maple. Závěr tedy je, že zadaná řada konverguje neabsolutně.
- (b) Systém Maple neurčí součet ani jedné z řad. Pro posouzení konvergence zadané řady využijeme Leibnizova kritéria, díky němuž zjistíme, že zadaná řada konverguje. Konvergenci (resp. divergenci) řady absolutních hodnot můžeme ověřit např. integrálním kritériem, což jsme prováděli již v příkladu 3.67.(e), kde jsme zjistili, že tato řada diverguje. Závěr tedy je, že zadaná řada konverguje neabsolutně.

$\sum_{n=1}^{\infty} \ln\left(1 + \frac{1}{n}\right) \cdot (-1)^{n-1}$ $\sum_{n=1}^{\infty} \ln\left(1 + \frac{1}{n}\right) (-1)^{n-1}$ $\lim_{n \rightarrow \infty} \ln\left(1 + \frac{1}{n}\right)$ <p style="text-align: center;">0</p> $\sum_{n=1}^{\infty} \ln\left(1 + \frac{1}{n}\right)$ <p style="text-align: center;">∞</p>	$\sum_{n=2}^{\infty} \frac{1}{n \cdot \ln(n)} \cdot (-1)^n$ $\sum_{n=2}^{\infty} \frac{(-1)^n}{n \ln(n)}$ $\lim_{n \rightarrow \infty} \frac{1}{n \cdot \ln(n)}$ <p style="text-align: center;">0</p> $\sum_{n=2}^{\infty} \frac{1}{n \cdot \ln(n)}$ $\sum_{n=2}^{\infty} \frac{1}{n \ln(n)}$
---	---

Obrázek 3.57: Pomocné výpočty k řešení příkladu 3.70.

Příklad 3.71: Rozhodněte o konvergenci a absolutní konvergenci následujících řad:

(a) $\sum_{n=1}^{\infty} \frac{1}{(2 \cdot n + 1)!} \cdot (-1)^{n-1},$

(d) $\sum_{n=1}^{\infty} \frac{1}{(n - \ln(n))} \cdot (-1)^n,$

(b) $\sum_{n=1}^{\infty} \frac{1}{3 \cdot n - 1} \cdot (-1)^{n-1},$

(e) $\sum_{n=1}^{\infty} \frac{1}{(\ln(n))^n} \cdot (-1)^n,$

(c) $\sum_{n=1}^{\infty} \frac{1}{\ln(n+1)} \cdot (-1)^{n-1},$

(f) $\sum_{n=1}^{\infty} \frac{n}{\left(3 + \frac{1}{n}\right)^n} \cdot (-1)^{n-1}.$

4 Chybové zprávy

V této kapitole si ukážeme nejčastější chyby při práci se systémem Maple.

4.1 Chybové zprávy (Error Messages)

4.1.1 Math mode / Text mode

Jednou z prvních chyb, kterých se uživatelé často dopouštějí, je nevěnování dostatečné pozornosti příkazovému (matematickému) a textovému režimu. Příkazový (matematický) režim (Math mode) slouží k zápisu příkazů. Po kliknutí na klávesu **Enter** dojde k jeho vyhodnocení. Textový režim slouží k zápisu obyčejného textu. Po kliknutí na klávesu **Enter** se „pouze“ přesuneme na nový řádek. Častá a někdy těžko odhalitelná chyba je „smíchání“ těchto dvou režimů při zápisu příkazu, kdy zpravidla získáváme chybné výsledky. To, jestli je celý příkaz zapsaný v příkazovém (matematickém) režimu, můžeme poznat z fontu písma (ale nemusí tomu tak nutně být). Nejjistěji to poznáme umístěním kurzoru na příkaz, kdy se objeví (naneštěstí slabě viditelný) šedý obdélník tvořený přerušovanou čarou vymezující znaky zapsané v příkazovém (matematickém) režimu – viz obrázek 4.1. U druhého příkazu ve správné variantě (vpravo) je kurzor umístěn na příkazu, můžeme si tedy všimnout zmíněného přerušovaného obdélníku.

Chybně zadané příkazy (na první pohled není poznat rozdíl).	Správně.
$15 + 20$ 20	$15 + 20$ 35
$\sin\left(\frac{\pi}{2}\right) \cdot \cos(\pi) + 2$ 2	$\sin\left(\frac{\pi}{2}\right) \cdot \cos(\pi) + 2$ 1

Obrázek 4.1: Chyby v použití matematického a textového režimu.

4.1.2 Chybné argumenty příkazů

Další velmi častou chybou (ne-li nejčastější) je špatné zadání argumentů příkazů. Každý příkaz má definované použití. Vždy mu musíme nastavit povinné argumenty, můžeme přidat volitelné (charakterizované slovíčkem *optional*). Argumenty musí být zadány vždy v takovém tvaru, jaký je předepsaný. Informace o tom, jak daný příkaz použít, jak specifikovat argumenty příkazu, které argumenty jsou povinné a které volitelné, nalezneme v nápovědě systému Maple k příslušnému příkazu. Následuje (na obrázku 4.2) přehled chybových zpráv, které Maple při špatném zadání argumentů vypisuje.

Chybně zadané příkazy.	Správně.
1. <code>sin([5])</code> <u>Error, invalid input: sin expects its 1st argument, x, to be of type algebraic, but received [5]</u>	1. <code>sin(5)</code> $\sin(5)$
2. <code>LinearAlgebra[Eigenvalues](2)</code> <u>Error, (in LinearAlgebra:-Eigenvalues) invalid input: LinearAlgebra:-Eigenvalues expects its 1st argument, A, to be of type Matrix(square) but received 2</u>	2. <code>LinearAlgebra[Eigenvalues](⟨⟨1, 4⟩⟨4, 1⟩⟩)</code> $\begin{bmatrix} 5 \\ -3 \end{bmatrix}$
3. <code>solve(5·x - 7·y = -9, 3·x + y = 5)</code> <u>Error, invalid input: too many and/or wrong type of arguments passed to solve; first unused argument is 3·x + y = 5</u>	3. <code>solve({5·x - 7·y = -9, 3·x + y = 5})</code> $\{x=1, y=2\}$
4. <code>roots(sin(x))</code> <u>Error, (in roots) argument must be a polynomial over an algebraic number field</u>	4. <code>roots(x)</code> $[[0, 1]]$
5. <code>simplify(x·y , x=0)</code> <u>Error, (in simplify/do) invalid simplification command</u>	5. <code>simplify(x·y , {x=0})</code> 0
6. <code>simplify(x·y , assume=x)</code> <u>Error, (in assuming) when calling 'assume'. Received: 'last object, x, has no property'</u>	6. <code>simplify(x·y , assume(x::0))</code> 0
7. <code>simplify(x·y , {x > 0, y = 0})</code> <u>Error, (in unknown) invalid input: numer expects its 1st argument, x, to be of type {set, list, algebraic}, but received 0 < x</u>	7. <code>simplify(x·y , {y=0})</code> 0
8. <code>convert($\frac{x}{(x-b)^2}$, parfrac)</code> <u>Error, (in convert/parfrac) the variable name (for conversion to partial fractions) must be provided</u>	8. <code>convert($\frac{x}{(x-b)^2}$, parfrac, x)</code> $\frac{1}{x-b} + \frac{b}{(x-b)^2}$

Obrázek 4.2: Chyby v zadávání argumentů příkazů.

4.1.3 Nesprávné použití závorek

V systému Maple můžeme používat všechny typy závorek, každý typ má však jiný význam a tedy jiné použití. Navíc je třeba dávat pozor na počet levých (otevírajících) a počet pravých (uzavírajících) závorek. Vždy, když se tyto počty nerovnají, systém vypíše chybovou zprávu **Error, unable to match delimiters** (obrázek 4.3).

4.1.4 Nesprávné přiřazení

Systém Maple disponuje tzv. systémovými proměnnými a příkazy. Jejich názvy jsou chráněné, tj. do chráněných proměnných není možné přiřazovat jiný typ hodnot, než pro který jsou určeny a názvy příkazů není možné používat jinak než jako příkazy s definovaným použitím (tj. není možné si např. vytvořit proměnnou se stejným názvem jako některý z příkazů). To, jestli je nějaký název chráněný či nikoliv, je možné zjistit příkazem `type` majícím dva argumenty: název (jméno), u nějž chceme zjistit, zda je chráněný, a argument `protected` (který už se nenastavuje na žádnou hodnotu) – viz obrázek 4.4.

Chybně zadané příkazy.	Správně.
1. $3)^2$ <i>Error, unable to match delimiters</i> $3)^2$	1. 3^2 9
2. $2 - (3 - 1(+ 4)$ <i>Error, unable to match delimiters</i> $2 - (3 - 1(+ 4)$	2. $2 - (3 - 1(+ 4))$ 3
3. $\{\sin(x \cdot (x + 1)), \cos(x \cdot (x + 1)), \tan(x \cdot (x + 1))\}$ <i>Error, unable to match delimiters</i> $\{\sin(x \cdot (x + 1)), \cos(x \cdot (x + 1)), \tan(x \cdot (x + 1))\}$	3. $\{\sin(x \cdot (x + 1)), \cos(x \cdot (x + 1)), \tan(x \cdot (x + 1))\}$ $\{\cos(x \cdot (x + 1)), \sin(x \cdot (x + 1)), \tan(x \cdot (x + 1))\}$
4. $\cos(\pi\}$ <i>Error, unable to match delimiters</i> $\cos(\pi\}$	4. $\cos(\pi)$ -1
5. $\cos(\pi]$ <i>Error, invalid interval</i> $\cos(\pi]$	5. $\cos(\pi)$ -1

Obrázek 4.3: Chyby v používání závorek.

Chybně zadané příkazy.	Správně.
1. $Digits := \acute{u}$ <i>Error, invalid assignment to Digits</i>	1. $Digits := 15$ 15
2. $solve := 3$ <i>Error, attempting to assign to `solve` which is protected</i>	2. $type(solve, protected)$ true
3. $int := 5$ <i>Error, attempting to assign to `int` which is protected</i>	3. $type(int, protected)$ true

Obrázek 4.4: Chyby v přiřazování hodnot do proměnných.

4.1.5 Dělení nulou

Když se při úpravě zadaného výrazu (příkazu) dostane Maple do situace, kdy má dělit nulou, vypíše zprávu **Error, numeric exception: division by zero**. Tato situace se může přihodit i u výrazů (příkazů), u nichž to neočekáváme (např. u funkce \ln) – obrázek 4.5.

4.1.6 Nesprávný zápis mocnin

Při zápisu mocnin je možné se setkat s následujícími chybovými zprávami (obrázek 4.6).

4.1.7 Nesprávné použití objektů

V systému Maple můžeme narazit také na chybovou zprávu **Error, illegal use of an object as a name**. Ta se objeví vždy, když použijeme nějaký objekt, který není jménem na místě, kde systém jméno očekává. Význam chyby bude nejlépe patrný z obrázku 4.7.

$\tan\left(\frac{\pi}{2}\right)$ Error, (in tan) numeric exception: division by zero
$\ln(0)$ Error, (in ln) numeric exception: division by zero
$a := 1 : \frac{a^2 - 1}{a - 1}$ Error, numeric exception: division by zero

Obrázek 4.5: Vyhodnocení výrazu, v němž se dělí nulou.

Chybně zadané příkazy.	Správně.
Chybí základ mocniny. 1. 2 Error, invalid power	1. 3^2 9
Špatně uvedený základ, který chceme umocňovat (je tam navíc čárka). 2. $3,^2$ Error, invalid power	2. 3^2 9
V exponentu není možné použít \leq . 3. $3^{(\leq 2)}$ Error, invalid \leq	3. 3^2 9
Za písmenem b je mezera, chybí tak základ mocniny. 4. b^{-x} Error, invalid base	4. b^{-x} b^{-x}

Obrázek 4.6: Nesprávný zápis mocnin.

Chybně zadané příkazy.	Správně.
1. $[a, b] := [5, 6]$ Error, illegal use of an object as a name	1. $a, b := 5, 6$ 5, 6
2. $seq(I, I=1..5)$ Error, illegal use of an object as a name	Písmeno (velké) I je vyhrazeno pro imaginární jednotku. 2. $seq(i, i=1..5)$ 1, 2, 3, 4, 5
3. $I := 2$ Error, illegal use of an object as a name	3. $J := 2$ 2

Obrázek 4.7: Nesprávné použití objektů.

4.1.8 Nesprávné definice a použití funkcí

Různých chyb se můžeme dopustit i při definici a použití funkce (obrázek 4.8).

Chybně zadané příkazy.	Správně.
1. $f := x^2 \rightarrow x$ <u>Error, invalid operator parameter name</u> $f := x^2 \rightarrow x$	1. $f := x \rightarrow x^2$ $x \rightarrow x^2$
2. $f(x) := \rightarrow x^2$ <u>Error, invalid arrow procedure</u> $f(x) := \rightarrow x^2$	2. $f(x) := x^2$ $x \rightarrow x^2$
3. $f := 3 \rightarrow x$ <u>Error, invalid operator parameter name</u> $f := 3 \rightarrow x$	3. $f := x \rightarrow 3$ $x \rightarrow 3$
4. $f := x \rightarrow @$ <u>Error, invalid arrow procedure</u> $f := x \rightarrow @$	4. $f := x \rightarrow x^2$ $x \rightarrow x^2$
5. $g(x, y)$ <u>Error, invalid function arguments</u> $g(x, y)$	5. $g(x, y)$ $g(x, y)$

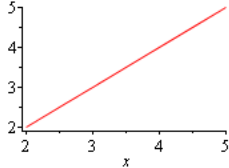
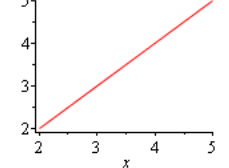
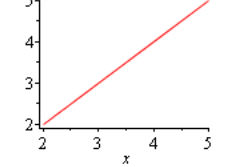
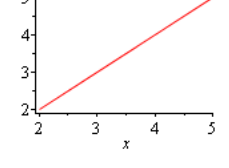
Obrázek 4.8: Nesprávné definice a použití funkcí.

4.1.9 Chyby při vykreslování

Následují chyby vyskytující se při vykreslování. Jako u každého příkazu musíme dbát na správně uvedené argumenty i u příkazů pro vykreslování funkcí a výrazů. Chyby uvedené na obrázku 4.9 jsou způsobeny především nesprávně uvedeným rozsahem proměnné x .

4.1.10 Další chyby

Na závěr chybových zpráv si ukážeme ještě tři chyby, s nimiž se často setkáváme, obr. 4.10.

Chybně zadané příkazy.	Správně.
<p>1. <code>plot(x, x=2..)</code> <u>Error, (in plot) cannot split rhs for multiple assignment</u></p>	<p>1. <code>plot(x, x=2..5)</code></p> 
<p>2. <code>plot(x, x=2.5)</code> <u>Error, (in plot) unexpected option: x = 2.5</u></p>	<p>2. <code>plot(x, x=2..5)</code></p> 
<p>3. <code>plot(x, x=2..a)</code> <u>Error, (in plot) expecting a real constant as range endpoint but received a</u></p>	<p>3. <code>plot(x, x=2..5)</code></p> 
<p>4. <code>f(x) := x: plot(f, x=2..5)</code> <u>Error, (in plot) expected a range but received x = 2 .. 5</u></p>	<p>4. <code>f(x) := x: plot(f(x), x=2..5)</code></p> 

Obrázek 4.9: Chyby při vykreslování.

Chybně zadané příkazy.	Správně.
<p>1. <code>collect(x² - 5·x + 2·x·y, 2)</code> <u>Error, (in collect) cannot collect 2</u></p>	<p>1. <code>collect(x² - 5·x + 2·x·y, x)</code> $x^2 + (-5 + 2y)x$</p>
<p>2. <code>f := 2·x</code> $2x$ <code>g(x) := unapply(f, x)</code> $x \rightarrow unapply(f, x)$ <code>g(2)</code> <u>Error, (in unapply) variables must be unique and of type name</u></p>	<p>2. <code>f := 2·x</code> $2x$ <code>g := unapply(f, x)</code> $x \rightarrow 2x$ <code>g(2)</code> 4</p>
<p>3. <code>∫₀¹ ∫₀¹ dx dy</code> <u>Error, (in int) integration range or variable must be provided</u></p>	<p>3. <code>∫₀¹ ∫₀¹ 1 dx dy</code> 1</p>

Obrázek 4.10: Další chybové zprávy.

4.2 Varování (Warnings)

Kromě chybových zpráv vypisuje systém ještě tzv. varování. Varování může signalizovat naši chybu (v zápisu příkazu), ale zpravidla informuje o důvodech, proč nemůže systém zadaný příkaz vyhodnotit (někdy jej přesto vyhodnotí). Při výpisu varování s textem **Warning, solutions may have been lost** je nutné přeformulovat problém (zapsat příkaz jinak, neboť jej Maple nedokáže vyhodnotit). Ne vždy je toto však možné, zpravidla můžeme jinou formulací problému dosáhnout alespoň „nějakých zlepšení“.

Varování.	Řešení.
<p>1. $V = \int_1^2 \int_{\frac{1}{x}}^x \left(\frac{x}{y}\right)^2 dy dx$</p> <p><u>Warning, unable to determine if 0 is between 1/x and x; try to use assumptions or use the AllSolutions option</u></p> $V = \frac{9}{4}$	<p>1. $assume(x > 0) : V = \int_1^2 \int_{\frac{1}{x}}^x \left(\frac{x}{y}\right)^2 dy dx$</p> $V = \frac{9}{4}$
<p>2. $\int_1^b \frac{1}{x-a} dx$</p> <p><u>Warning, unable to determine if a is between 1 and b; try to use assumptions or use the AllSolutions option</u></p> $\int_1^b \frac{1}{x-a} dx$	<p>2. $assume(a < 1 < b) : \int_1^b \frac{1}{x-a} dx$</p> $-\ln(1-a) + \ln(b-a)$
<p>3. $solve(\sin(x \cdot y) < 0)$</p> <p><u>Warning, solutions may have been lost</u></p>	<p>3. $solve(\sin(z) < 0)$</p> $RealRange(Open(-\pi), Open(0))$

Obrázek 4.11: Varování.

5 Návody k řešení příkladů

Příklad 1.2: Pro vložení zadaného výrazu potřebujeme: *sumační symbol* a *symbol nekonečna*. Sumační symbol nalezneme v paletě **Expression**, symbol nekonečna v paletě **Common Symbols**. Zlomek můžeme buď vzít také z palety **Expression**, nebo jej zapíšeme ručně pomocí lomítka.

Příklad 1.3: Potřebujeme vložit zlomek a mocninu (resp. exponent). Obojí najdeme v paletě **Expression**. Můžeme také použít lomítko a „stříšku“.

Příklad 1.4: Opět využijeme již dříve zmíněných palet. Pozor však na vkládání Eulerova čísla. To je nutné vzít z palety (resp. použít příkaz **exp**). Zapsané písmeno *e* z klávesnice Maple bere jako „obyčejné“ písmeno (proměnnou) *e*.

Příklad 1.6: K zadání výrazu potřebujeme příkaz **sqrt** pro vložení odmocniny a příkaz **exp** pro vložení Eulerova čísla. Příkaz má jeden parametr, kterým je exponent Eulerova čísla (tj. pro Eulerovo číslo samotné zadáváme **exp(1)**). Vložit Eulerovo číslo je možné též zapsáním písmene *e*, vyvoláním funkce automatického dokončování a zvolením položky **Exponential 'e'**.

Příklad 1.7: Nejrychlejší způsob je zadat do dokumentu `?sum`, případně zadat `sum`, umístit kurzor na příkaz a stisknout klávesu F2.

Příklad 1.8: Je několik způsobů, jak to zjistit. Zřejmě nejrychlejší je vyhledávat v nápovědě klíčová slova **matrix** a **vector**, případně **Linear Algebra**.

Příklad 1.10: Pozor na rozdíl mezi počtem platných cifer a počtem desetinných míst.

Příklad 1.11: Když zapíšeme nějaké číslo s desetinnou tečkou, Maple jej automaticky bude brát jako číslo v pohyblivé řádové čarce a výpočty s ním bude zaokrouhlovat na počet platných míst specifikovaný proměnnou `Digits`.

Příklad 1.13: Použijeme příkaz `isolve`.

Příklad 1.14: Použijeme příkaz `isolve`. Systém Maple vypíše řešení s použitím konstant, které jsou přirozenými čísly (bez nuly). Správně však mají být použity nezáporné celočíselné konstanty.

Příklad 1.16: Řešíme jako soustavu nerovnic příkazem `solve`.

Příklad 1.17: Použijeme příkaz `solve`. Pro $a = 0$ bychom dostali lineární polynom.

Příklad 1.18: Řešíme opět příkazem `solve`. Pozor, daná rovnice má nekonečně mnoho řešení.

Příklad 1.19: Řešíme jako soustavu rovnic příkazem `solve`.

Příklad 2.3: Použijeme zavedení předpokladu: `assuming`.

Příklad 2.4: Použijeme příkaz `simplify`.

Příklad 2.5: Použijeme příkaz `simplify`.

Příklad 2.6: Použijeme příkaz `factor`.

Příklad 2.7: Použijeme příkaz `simplify`.

Příklad 2.8: Využijeme příkazů `simplify`, `factor` a `convert`.

Příklad 2.12: Pro všechna $x \in \mathbb{R}$ platí: $\sin(x) \in [-1, 1]$.

Příklad 2.13: Platí: $f(x) = \frac{1}{x^2-5 \cdot x+6}$ a $f(-x) = \frac{1}{x^2+5 \cdot x+6}$. Z toho máme: $f(x) \neq f(-x)$, $f(x) \neq -f(-x)$ a tedy funkce není sudá, ani lichá. $D(f) = \mathbb{R} \setminus \{2, 3\}$, $H(f) = \mathbb{R} \setminus (-4, 0]$. Obor hodnot určíme z toho, že polynom $x^2 - 5 \cdot x + 6$ nabývá všech kladných hodnot (a proto musí i funkce $f(x)$). Zmíněný polynom nabývá též záporných hodnot, a to na intervalu $(2, 3)$, přičemž tu nejmenší přesně uprostřed intervalu, tj. v bodě $x = \frac{5}{2}$. Funkce $f(x)$ v tomto bodě naopak nabývá své nejvyšší hodnoty na intervalu $(2, 3)$, a to hodnoty -4 .

Z předešlého plyne, že funkce není ohraničená.

Příklad 2.14:

(a) $f(x) = 9 - x^2, f(-x) = 9 - x^2 = f(x) \Rightarrow$ sudá funkce,

(b) $f(x) = \sqrt{x}, f(-x) = \sqrt{-x} \Rightarrow$ ani sudá, ani lichá,

(c) $f(x) = \frac{1}{x}, f(-x) = \frac{-1}{x} = -f(x) \Rightarrow$ lichá funkce.

Příklad 2.15:

(a) $f(x) = 2 \cdot x$, kde $x \in (0, 1)$,

(b) $f(x) = \frac{1}{x-1}$,

(c) $f(x) = \frac{1}{x} + 1$,

(d) $f(x) = e^x$,

(e) $f(x) = \begin{cases} x+2 & \dots & x \leq -2 \\ x-2 & \dots & x \geq 2 \end{cases}$,

(f) $f(x) = \begin{cases} x-2 & \dots & x \leq 0 \\ 2 & \dots & 0 < x \leq 1, \\ x+1 & \dots & x \geq 1 \end{cases}$,

(g) $f(x) = \arctan(x)$,

(h) $f(x) = \begin{cases} \ln(-x) & \dots & x < 0 \\ \ln(x) & \dots & x > 0 \end{cases}$.

Příklad 2.16: $f(x) = x^3 - k \cdot x^2 + 2 \cdot x, f(-x) = -(x^3 + k \cdot x^2 + 2 \cdot x)$. Z toho dostáváme: $k = -k = 0$.

Příklad 2.17:

- (a) Pro $a \neq 0$ se jedná o bijekci.
- (b) Ano, je to bijekce.
- (c) Nejedná se o bijekci, funkce není prostá.
- (d) Ano, je to bijekce.
- (e) Ano, je to bijekce.

Příklad 2.19:

- (a) $f^{-1}(x) = \frac{1}{2} \cdot (x - 1)$,
- (b) $f^{-1}(x) = \sqrt[3]{x}$,
- (c) $f^{-1}(x) = \frac{x-1}{x+1}$,
- (d) $f^{-1}(x) = (1 - x)^2 \dots x \geq 0$,
- (e) $f^{-1}(x) = \frac{1}{x}$,
- (f) zadaná funkce není prostá (a nemá tak inverzi).

Příklad 2.20: Každá funkce osově symetrická vzhledem k přímce $y = x$ je sama sobě inverzí. To znamená, že jich je dokonce nekonečně mnoho.

Příklad 2.22: $g^{-1}(x) = \frac{1}{2} \cdot \ln(x)$. Legendu můžeme do grafu přidat nastavením parametru `legend` příkazu `plot` nebo kliknutím na graf a výběrem z kontextové nabídky.

Příklad 2.23: Použijeme příkaz `animate`. Funkce $h(x)$ je klesající pro $a < 0$, rostoucí pro $a > 0$ a konstantní pro $a = 0$.

Příklad 2.25: Vycházíme z definice 2.8, pouze se nyní přibližujeme k bodu x_0 zprava, tj. uvažujeme interval $(x_0, x_0 + \delta)$.

Příklad 2.26: Vyjdeme z definic 2.9 a 2.10. Uvažujeme bod ∞ (resp. $-\infty$) a chceme popsat stav, kdy pro libovolně „vysokou“ (resp. „nízkou“) hodnotu M existuje hranice, nad níž (resp. pod níž) pro všechna x platí, že funkční hodnota $f(x)$ je větší (resp. menší) než ona původně (libovolně) zvolená hodnota M .

Příklad 2.27: Maple zvládne určit všechny limity. Postupujeme tedy klasicky využitím symbolu pro počítání limit z palety, kontextové nabídky nebo příkazu `limit`.

Příklad 2.28:

- (a) Zavedeme substituci $y = x^3$.
- (b) Využijeme vzorce $\cos(x) = \cos(\frac{x}{2})^2 - \sin(\frac{x}{2})^2$.
- (c) Rozšíříme výrazem $\sqrt{x^2 + 5} + 3$.

- (d) Rozšíříme výrazem $\frac{1}{x}$ a uvědomíme si, že pro $x \rightarrow -\infty$ je $x = -\sqrt{x^2}$.
- (e) Zadaný zlomek rozložíme na součet dvou zlomků a zavedeme substituci $u = -x$. Dalšími drobnými úpravami umíme rozhodnout, kam se který výraz (zlomek) limitně blíží pro $u \rightarrow \infty$.
- (f) Využijeme vzorce $\sin(2 \cdot t) = 2 \cdot \sin(t) \cdot \cos(t)$ a platnosti $\lim_{x \rightarrow 0} \frac{\sin(x)}{x} = 1$.

Příklad 2.29:

- (a) Stačí dát příklad takřka jakékoli „rozumné“ funkce definované na nějakém neprázdném intervalu – viz definice 2.7.
- (b) Vycházíme z 2.10. Je třeba dát příklad funkce $f(x)$, jejíž hodnoty se blíží nějakému konečnému číslu pro $x \rightarrow \infty$ (resp. $x \rightarrow -\infty$). Mohla by něco takového splňovat nějaká polynomiální, mocninná, exponenciální, či goniometrická funkce?
- (c) Takřka „opačný“ případ k předešlému. Hledáme funkci $f(x)$, která pro nějaké konečně velké x „roste nade všechny meze“ (resp. „klesá pod všechny meze“). Mohla by něco takového splňovat nějaká polynomiální, mocninná, exponenciální, či goniometrická funkce?
- (d) Nyní chceme najít funkci $f(x)$, jejíž hodnoty se blíží ∞ (resp. $-\infty$) pro $x \rightarrow \infty$ (resp. $x \rightarrow -\infty$). Opět je na místě stejná otázka: splňuje toto nějaká polynomiální, mocninná, exponenciální, či goniometrická funkce?
- (e) Musíme spojit všechny předešlé body. Na bod (a) můžeme zapomenout. Pokud splníme všechny ostatní, bude splněna i tato podmínka. Jedno možné řešení je najít funkci splňující (b) a (d) – takovou funkci jste již možná dokonce našli – a zkombinovat ji (tj. např. vynásobit) s funkcí splňující bod (c).

Příklad 2.31:

- (a) Musíme se obejít bez systému Maple, jelikož příkaz `discont` neumí hledat nespojitosti u funkcí definovaných po částech. Podezřelé body z nepojitosti jsou body 1 a 2. Musíme ověřit, zda v nich existuje limita a zda je rovna příslušné funkční hodnotě.
- (b) V tomto případě příkaz `discont` pracuje bezchybně.
- (c) Opět se musíme obejít bez systému Maple. Postupujeme analogicky k řešení příkladu 2.30.

Příklad 2.32: Postupujeme analogicky k řešení příkladu 2.30. Hledání čísel c a d vede na soustavu dvou rovnic.

Příklad 2.33: Jsou dvě hlavní možnosti, jak postupovat. Buď vzít známou funkci, která není spojitá, ale víme, že má limitu v každém bodě (na daném intervalu), nebo vzít funkci spojitou (ta má limitu v každém bodě) a nespojitost „vytvořit“, aniž bychom porušili existenci limity.

Příklad 2.34: Systém Maple zvládne určit všechny derivace. Ke správné odpovědi je nutné porozumět výpisu systému v případě (b). Symbol D tu značí diferenciální operátor.

Příklad 2.35: Je třeba najít spojitou funkci $f(x)$, pro niž by v nějakém bodě x_0 neexistovala limita z definice 2.14: $\lim_{x \rightarrow x_0} \frac{f(x)-f(x_0)}{x-x_0}$. K tomu, aby tato limita neexistovala, stačí, aby se nerovnalily limity zleva a zprava, tedy aby platilo: $\lim_{x \rightarrow x_0^-} \frac{f(x)-f(x_0)}{x-x_0} \neq \lim_{x \rightarrow x_0^+} \frac{f(x)-f(x_0)}{x-x_0}$. Jak musí vypadat funkce splňující předchozí nerovnost?

Když najdeme právě popsanou funkci, je již jednoduché např. definováním po částech vytvořit funkci, která bude mít na daném intervalu libovolný počet (a tedy i např. rovný dvěma) bodů, v nichž bude funkce spojitá, ale nebude v nich mít derivaci.

Příklad 2.36: Z poznámky 2.4 víme, že směrnice tečny je rovna derivaci funkce v příslušném bodě. V rovnici tečny tak zbývá určit pouze konstantní člen, jehož hodnotu zjistíme z toho, že tečna má s funkcí jeden společný bod.

Příklad 2.37: Jelikož má být tečna rovnoběžná s nějakou přímkou, musí mít stejnou směrnici. Tedy pokud $y = k \cdot x + q$ je rovnicí tečny k funkci $f(x)$ v bodě x_0 , pak musí platit $k = f'(x_0) = 12$ (neboť 12 je směrnice rovnoběžné přímky). Jelikož $f'(x_0) = 3 \cdot x_0^2$, dostáváme dva různé body x_0 a tedy dvě tečny.

Příklad 2.38: Řešíme obdobně jako předchozí příklad. Směrnice zadané přímky je rovna $-\frac{1}{3}$. My potřebujeme nyní směrnici kolmice. K tomu využijeme lineární algebry, odkud víme, že dva vektory jsou na sebe kolmé, jestliže je jejich skalární součin roven 0. Máme-li přímky $y = k \cdot x$ a $y = l \cdot x$, pak tyto jsou na sebe kolmé, jestliže $1 + k \cdot l = 0$. Z toho dostáváme, že směrnice hledané kolmice je rovna 3, což je tedy směrnice tečny. Tedy pokud $y = k \cdot x + q$ je rovnicí tečny k funkci $f(x)$ v bodě x_0 , pak musí platit $k = f'(x_0) = 3$. Jelikož $f'(x_0) = 3 \cdot x_0^2$, dostáváme opět dva různé body x_0 a tedy dvě tečny.

Příklad 2.40: $f(x) = \sqrt{x}, x_0 = 49, h = 2$.

Příklad 2.41: $f(x) = \sqrt[3]{x}, x_0 = 125, h = -2$.

Příklad 2.42: $f(x) = x^4, x_0 = 3, h = -0.05$.

Příklad 2.43: Použijeme příkaz `taylor` pro bod $x = 0$ a získaný výsledek převedeme na polynom příkazem `convert`.

Příklad 2.44: Použijeme příkaz `taylor` pro bod $x = 1$. Proměnnou `Order` nastavíme na hodnotu 5 a získaný výsledek převedeme na polynom příkazem `convert`.

Příklad 2.45: Použijeme příkaz `taylor` pro bod $x = 2$.

Příklad 2.47: Postupujeme analogicky k příkladu 2.46.

- (a) Uvažujeme funkci e^x , kterou rozvineme do Taylorova polynomu v bodě $x_0 = 0$, a hledáme aproximaci v bodě $x = -1$. Stejným postupem jako v příkladu 2.46 dospějeme k tomu, že je pro požadovanou přesnost potřeba nastavit proměnnou `Order` na hodnotu 7.
- (b) Uvažujeme funkci $\sqrt[5]{x}$, kterou rozvineme do Taylorova polynomu v bodě $x_0 = 243$, a hledáme aproximaci v bodě $x = 250$. Nyní musíme k odhadu velikosti Taylorova

zbytku použít poznámku 2.7, neboť $x_0 \neq 0$. Tvar zbytku je pak nejjednodušší vyhodnocovat postupně pro $n = 1, 2, \dots$, neboť Maple neumí vyřešit příslušnou nerovnici. Dostatečné n v tomto případě: $n = 2$.

Příklad 2.50:

- (a) Funkce f má tři stacionární body, z nichž jediný je lokální extrém, další dva jsou body inflexní. Funkce nemá žádnou asymptotu.
- (b) Funkce f má dva stacionární body, oba jsou lokálními extrémy. Funkce má dále tři inflexní body. Funkce není definována ve dvou bodech, v nichž má asymptoty bez směrnice. Asymptoty se směrnicí neexistují. Aby Maple tento příklad správně vyřešil, je potřeba načíst balík `RealDomain`.
- (c) Funkce má dva stacionární body, z nichž jeden je lokální extrém, druhý je inflexním bodem. Funkce není definována v jediném bodě, v němž má asymptotu bez směrnice. Funkce má také asymptotu se směrnicí.
- (d) Funkce má nekonečně mnoho stacionárních bodů (na zjištění tohoto v Maple je třeba použít atribut `allsolutions`), všechny jsou však inflexními body. Funkce má i další inflexní body (vždy uprostřed intervalu tvořeného stacionárními body). Funkce nemá asymptotu bez směrnice ani asymptotu se směrnicí. Opět pozor na výpočet systému Maple – při počítání limit v některých případech vypisuje interval jako hodnotu limity (limita však neexistuje).
- (e) Zásadní otázka v tomto příkladu je, zda je funkce $f(x)$ spojitá v bodě 0. Funkce má tři stacionární body a všechny jsou jejími lokálními extrémy. Funkce má dále dva inflexní body a žádnou asymptotu (bez směrnice či se směrnicí).

Příklad 2.54:

- (a) Stačí rozložit na dva zlomky a určit přímo ze znalosti „tabulkových“ integrálů.
- (b) Výraz pod odmocninou je možné upravit tak, aby se dala odmocnina odstranit (aplikovat). Poté už se výsledek určí podobně jako v předchozím případě.
- (c) Po roznásobení je možné integrovat každý člen zvlášť.
- (d) Rozklad na parciální zlomky.
- (e) Opět rozklad na parciální zlomky. V tomto případě je však výrazně pracnější než předchozí, neboť jeden ze získaných parciálních zlomků je třeba dále upravit (rozložit), abychom integrací získali přirozený logaritmus. Tím se nám však objeví další zlomek, u něž je třeba rozpoznat, že připomíná derivaci funkce arkus tangens (\arctan), jen je potřeba zlomek opět upravit do vhodného tvaru.
- (f) Zavedeme substituci $t = 5 \cdot x + 6$.
- (g) Zavedeme substituci $t = \ln(x)$.
- (h) Zavedeme substituci $t = x^2 + 1$.

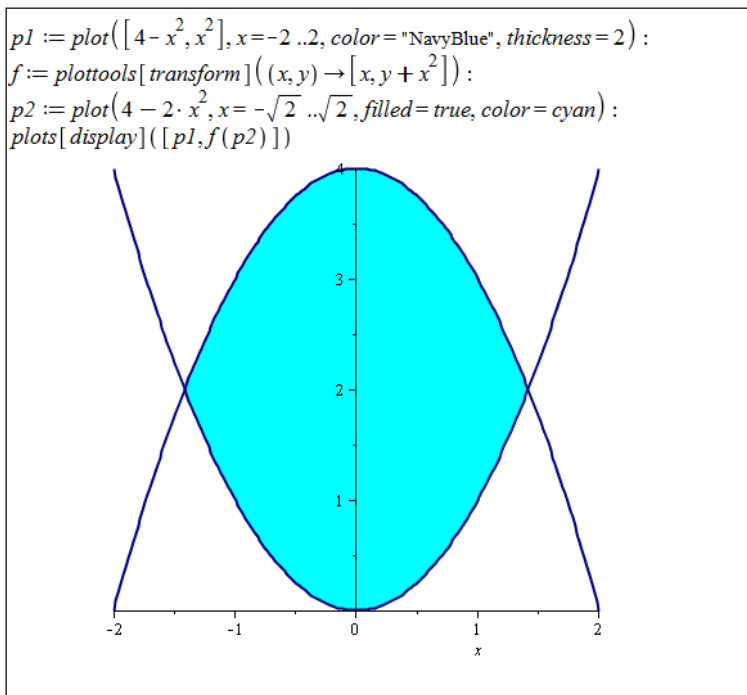
- (i) Řešíme metodou per partes, přičemž funkce, kterou budeme chtít derivovat, bude funkce x . Maple při použití příkazu `Parts` využije znalosti $\int \cos^2(x) dx = \frac{1}{2} \cdot \cos(x) \cdot \sin(x) + \frac{1}{2} \cdot x$, k čemuž dospějeme užitím vztahu $\cos^2(x) = \frac{1+\cos(2x)}{2}$. Integrál získaný metodou per partes je třeba rozložit a na jeden z nich použít substituční metodu.
- (j) Řešíme metodou per partes. Funkcí, kterou budeme derivovat, je funkce $\ln(x)$.
- (k) Řešíme opět metodou per partes. Funkci $\arctan(x)$ si zapíšeme jako $\arctan(x) \cdot 1$ a právě samotná funkce $\arctan(x)$ bude ta, kterou budeme derivovat.
- (l) Řešíme nejprve substituční metodou položením $t = x^2$. Následně použijeme metodu per partes, přičemž funkce, kterou budeme derivovat, bude funkce x .

Příklad 2.55: Ve všech případech využíváme Newton-Leibnizovy formule.

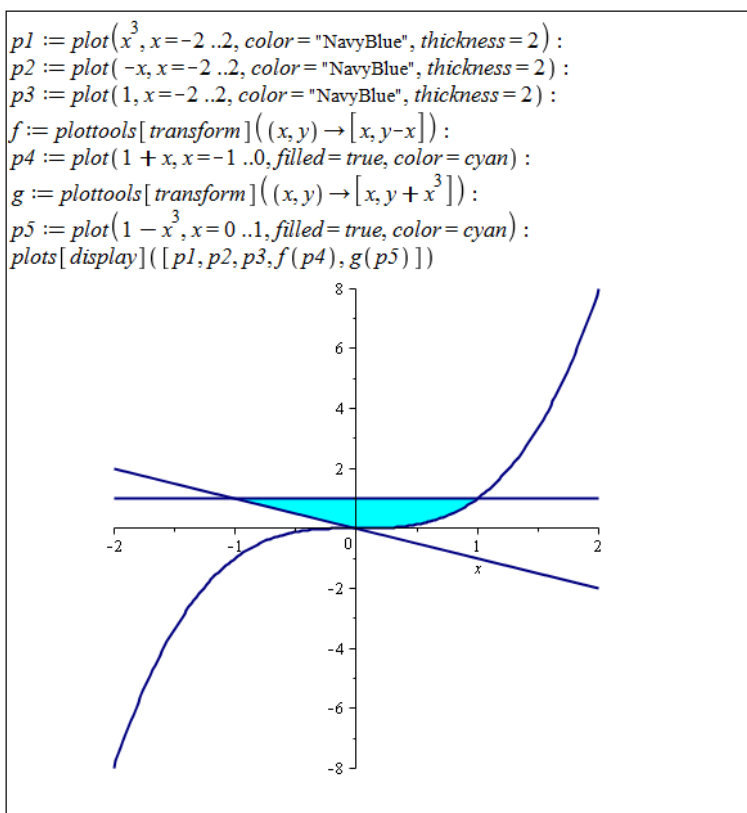
- (a) Řešíme metodou per partes.
- (b) Zavedeme substituci $x = t^2$.
- (c) Zavedeme substituci $\cos(x) = t$.
- (d) Zavedeme substituci $e^x = t$.
- (e) Řešíme metodou per partes.
- (f) Zavedeme nejprve substituci $t = e^x$ a následně $u^2 = t - 1$.

Příklad 2.58:

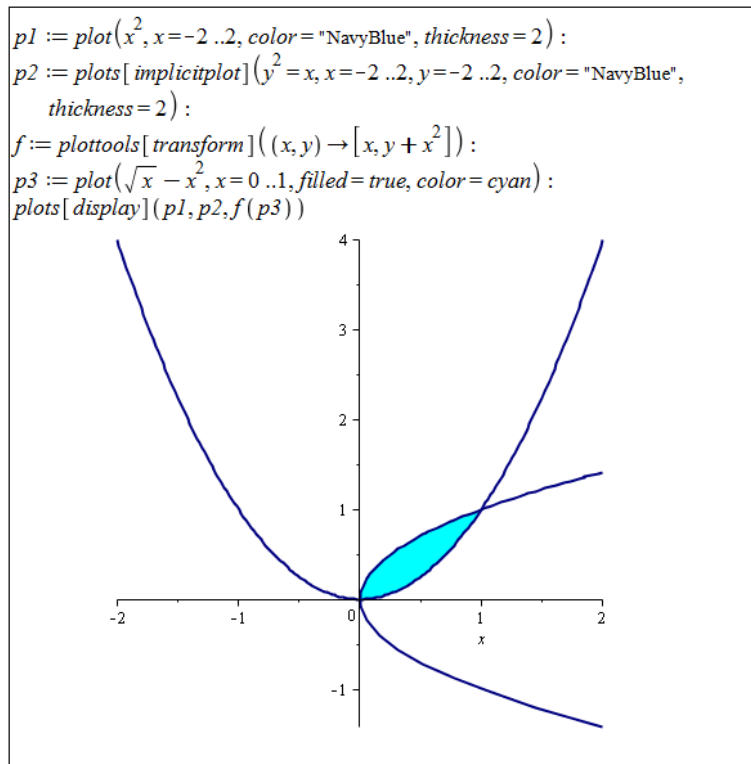
- (a) Řešíme naprosto analogicky s příkladem 2.56. Výsledek je: $S = \frac{16\sqrt{2}}{3}$.
- (b) Obsah zadané plochy je třeba počítat „na dvakrát“. Nejprve se spočítá obsah plochy mezi křivkami $y = -x$ a $y = 1$ na intervalu $[-1, 0]$, následně obsah plochy mezi křivkami $y = x^3$ a $y = 1$ na intervalu $[-1, 0]$. Výsledek je: $S = \frac{5}{4}$.
- (c) Stačí si uvědomit, mezi kterými částmi křivek leží zadaná plocha. Výsledek je: $S = \frac{1}{3}$.
- (d) Řešíme rovnou podle poznámky 2.21. Výsledek je: $S = \frac{\ln(2)}{2}$.
- (e) Řešíme opět rozdělením na dva určité integrály. Výsledek je: $S = 4 \cdot \ln(2) - 2$.



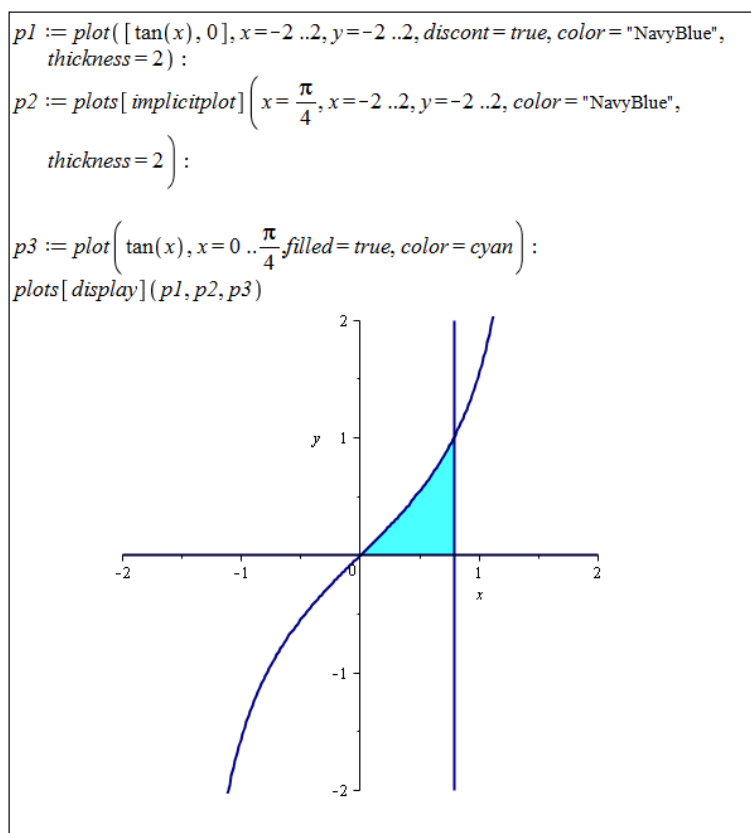
Obrázek 5.1: Zobrazení plochy z příkladu 2.58.(a).



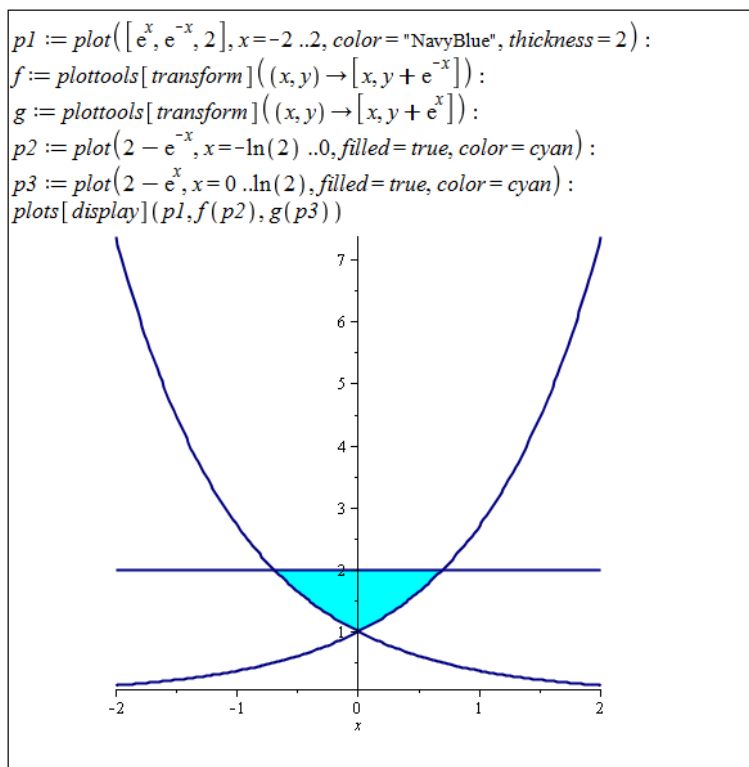
Obrázek 5.2: Zobrazení plochy z příkladu 2.58.(b).



Obrázek 5.3: Zobrazení plochy z příkladu 2.58.(c).



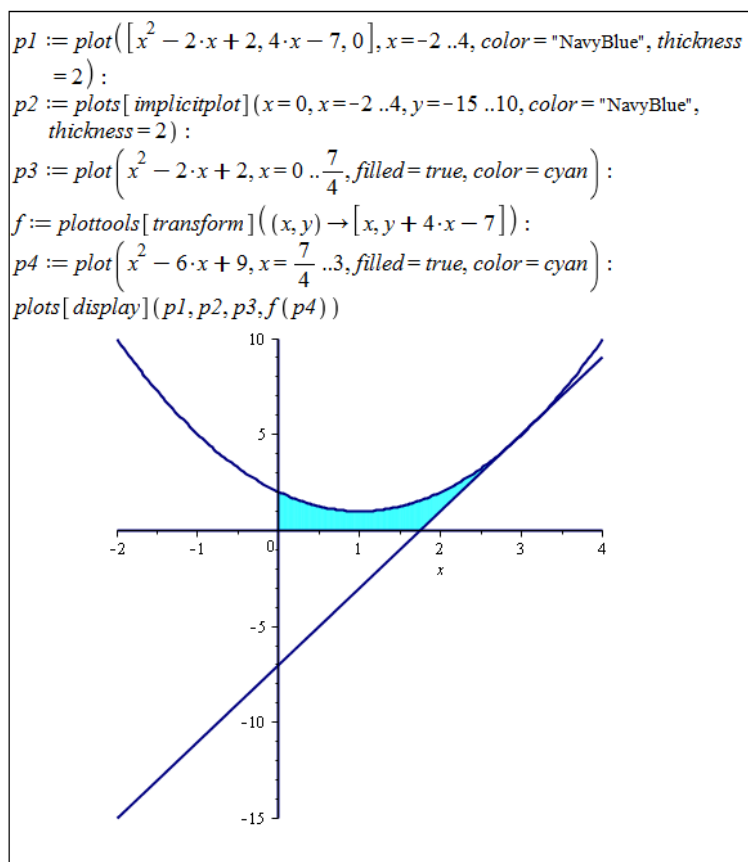
Obrázek 5.4: Zobrazení plochy z příkladu 2.58.(d).



Obrázek 5.5: Zobrazení plochy z příkladu 2.58.(e).

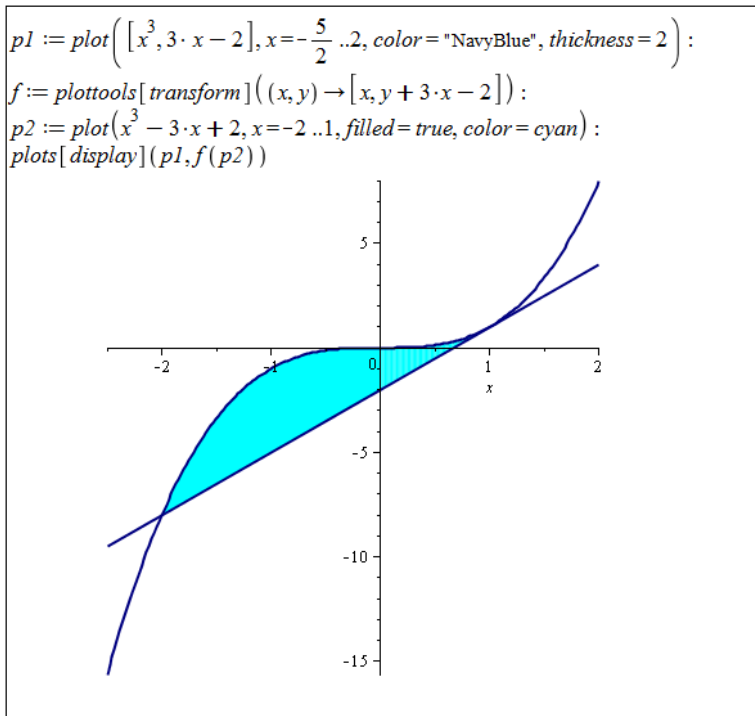
Příklad 2.59:

- (a) Pomocí derivace musíme určit rovnici tečny. Dále už řešíme analogicky k předchozím příkladům. Výsledek je: $S = \frac{23}{8}$.

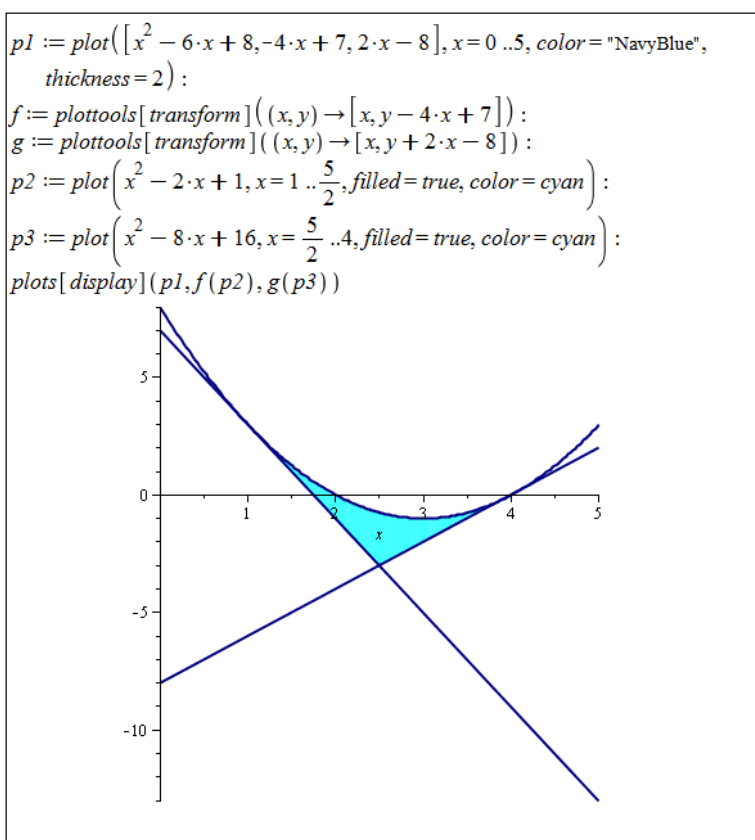


Obrázek 5.6: Zobrazení plochy z příkladu 2.59.(a).

- (b) Opět musíme určit rovnici tečny a také její průsečík s funkcí $y = x^3$. Výsledek je: $S = \frac{27}{4}$.
- (c) Nyní je třeba určit rovnice dvou tečen a jejich průsečík. Výsledek je: $S = \frac{9}{4}$.



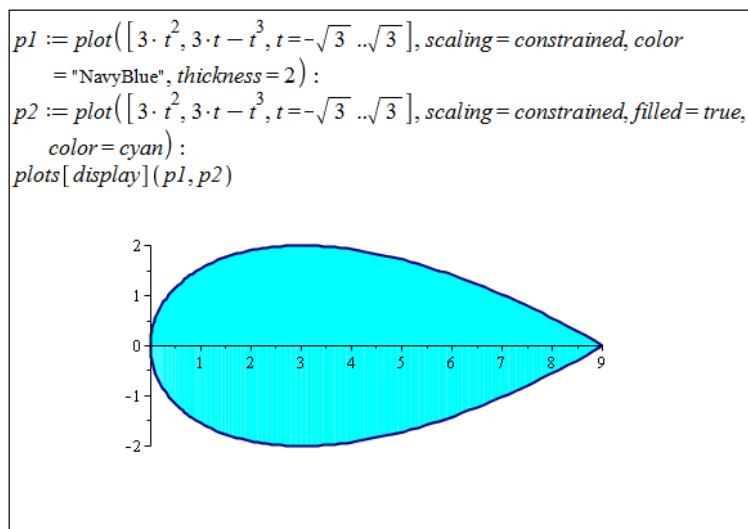
Obrázek 5.7: Zobrazení plochy z příkladu 2.59.(b).



Obrázek 5.8: Zobrazení plochy z příkladu 2.59.(c).

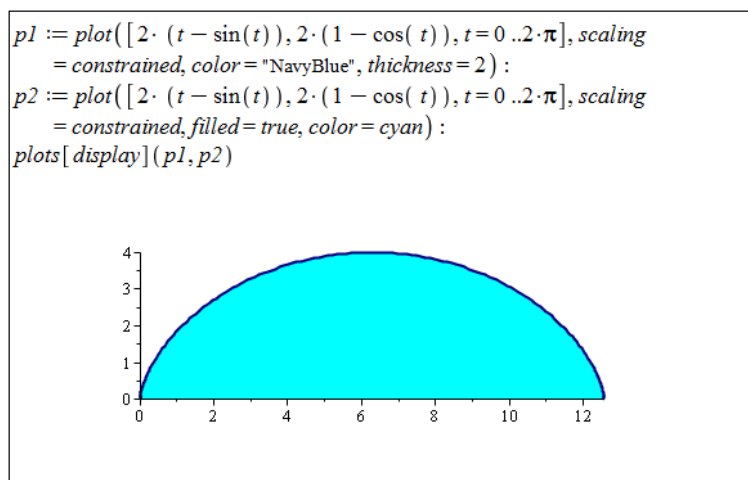
Příklad 2.60: Ve všech případech využijeme poznámky 2.22:

(a) Výsledek je: $S = \frac{72 \cdot \sqrt{3}}{5}$.



Obrázek 5.9: Zobrazení plochy z příkladu 2.60.(a).

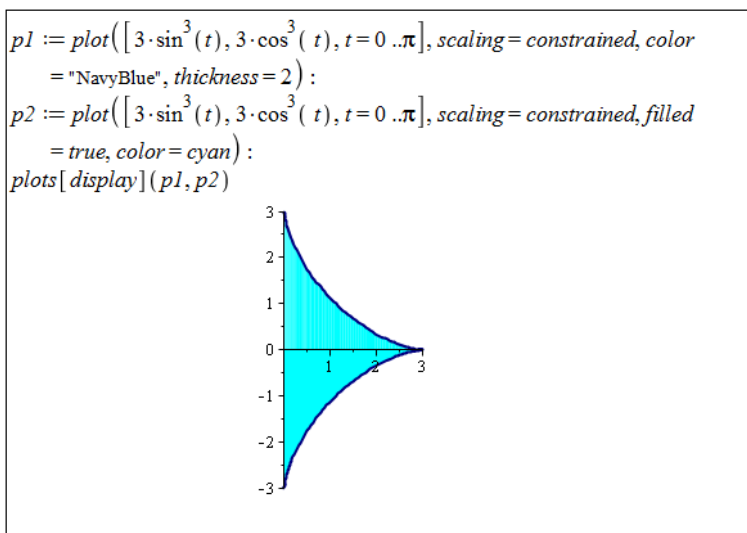
(b) Výsledek je: $S = 12 \cdot \pi$.



Obrázek 5.10: Zobrazení plochy z příkladu 2.60.(b).

(c) Výsledek je: $S = \frac{27 \cdot \pi}{16}$.

Příklad 2.61: Je třeba odvodit rovnici kružnice. Máme dvě možnosti – buď popsat „horní“ polovinu kružnice vztahem $y = \sqrt{r^2 - x^2}$ a „spodní“ polovinu kružnice vztahem $y = -\sqrt{r^2 - x^2}$, nebo kružnici popsat parametricky předpisem $x = r \cdot \sin(t)$, $y = r \cdot \cos(t)$, $t \in [0, 2 \cdot \pi]$. Následně využijeme odpovídajícího určitého integrálu. Při použití prvního postupu je v Maple nutné přidat při výpočtu integrálu předpoklad, že r je nezáporné (reálné) číslo, abychom dospěli k požadovanému výsledku.



Obrázek 5.11: Zobrazení plochy z příkladu 2.60.(c).

Příklad 2.64: Ve všech případech využijeme poznámky 2.23.

(a) $l = \frac{26 \cdot \sqrt{13}}{27} - \frac{16}{27}$

(b) $l = \frac{e^{-1} \cdot \sqrt{2 \cdot e^2 + e^4 + 1} \cdot (e^2 - 1)}{e^2 + 1} \doteq 2.35$

(c) Systém Maple vyjádří řešení za pomoci eliptického integrálu. Informace k tomu výsledku můžeme nalézt v nápovědě. Příkazem `evalf` získáme přibližné numerické řešení.

$$l = 2 \cdot \sqrt{2} \cdot \text{EllipticE}\left(\frac{\sqrt{2}}{2}\right) = 2 \cdot \sqrt{2} \cdot \int_0^1 \frac{\sqrt{1 - \frac{x^2}{2}}}{\sqrt{1 - x^2}} dx \doteq 3.82$$

(d) $l = 2 \cdot \sqrt{2} \cdot \text{EllipticE}\left(\frac{\sqrt{2}}{2}\right) = 2 \cdot \sqrt{2} \cdot \int_0^1 \frac{\sqrt{1 - \frac{x^2}{2}}}{\sqrt{1 - x^2}} dx \doteq 3.82$

Příklad 2.65: Ve všech případech využijeme poznámky 2.24.

(a) $l = 2 \cdot \sqrt{3}$

(b) $l = 2 \cdot \pi^2$

(c) $l = 2 \cdot \pi \cdot \sqrt{1 + 16 \cdot \pi^2} - \frac{1}{2} \cdot \ln(-4 \cdot \pi + \sqrt{1 + 16 \cdot \pi^2})$

Příklad 2.66: Řešíme analogicky jako v příkladu 2.61, jen místo obsahu kruhu počítáme obvod kružnice.

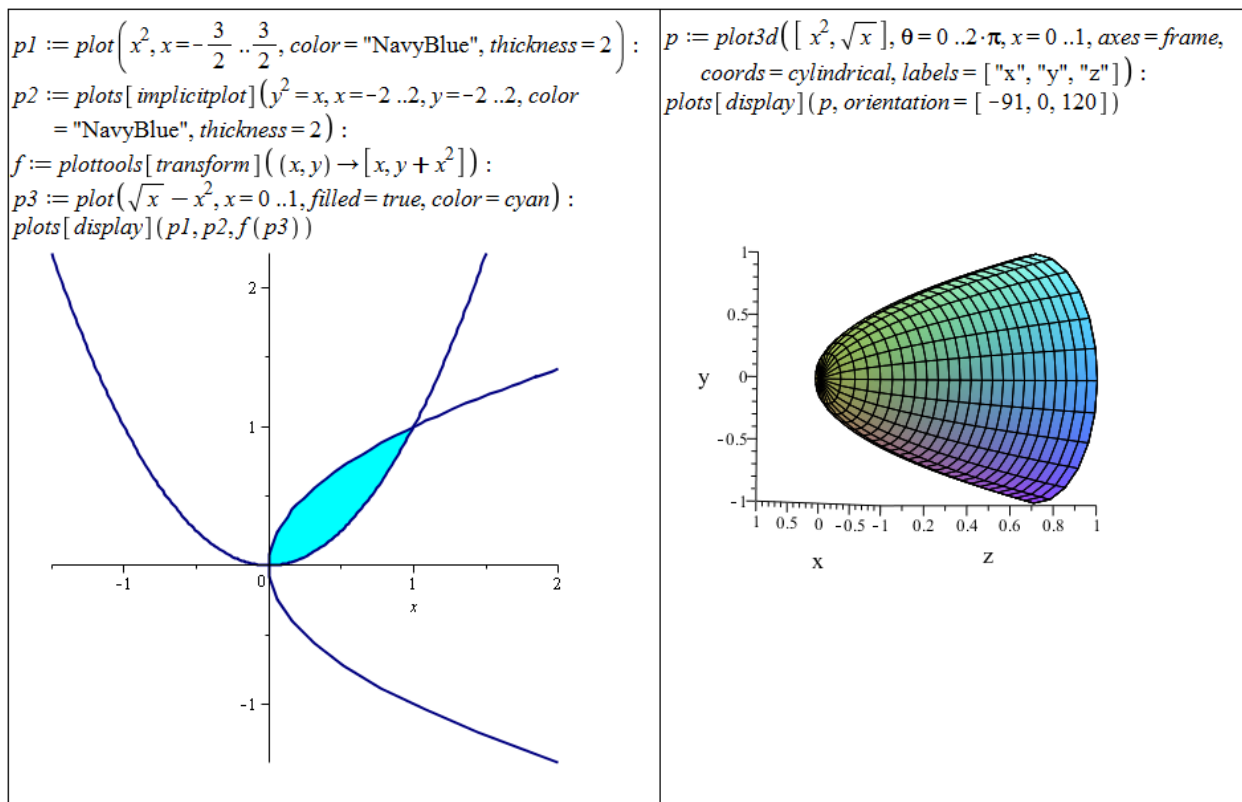
Příklad 2.69: Ve všech případech využijeme poznámky 2.25:

(a) Výsledek: $V = \frac{3 \cdot \pi}{10}$.

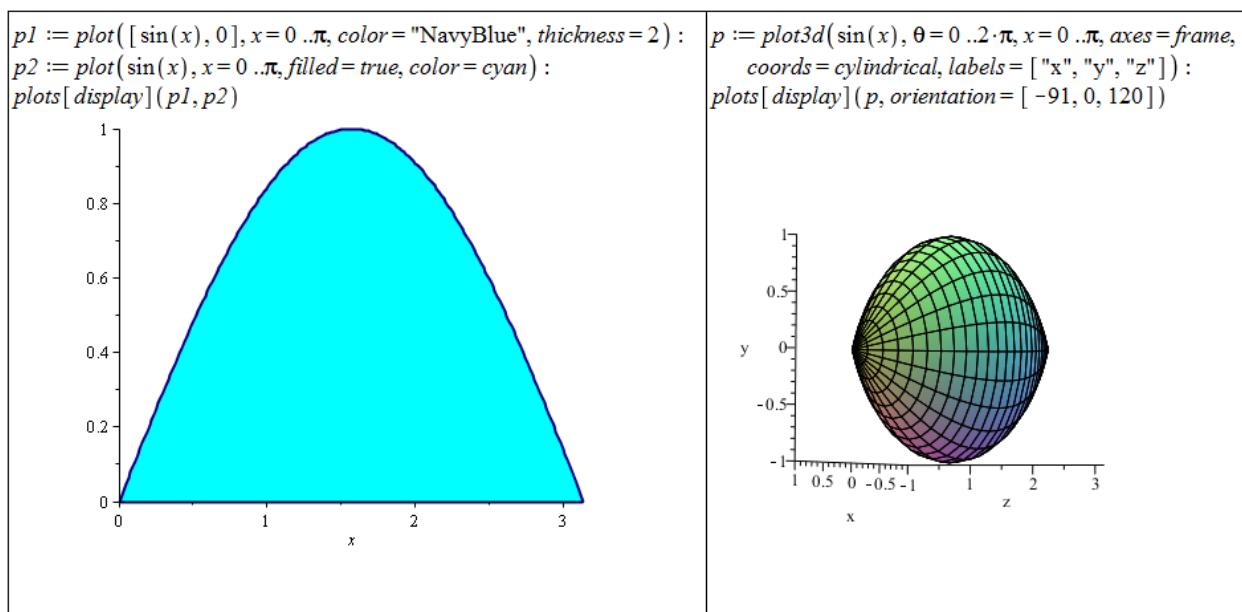
(b) Výsledek: $V = \frac{\pi^2}{2}$.

(c) Výsledek: $V = \frac{8 \cdot \pi}{3}$.

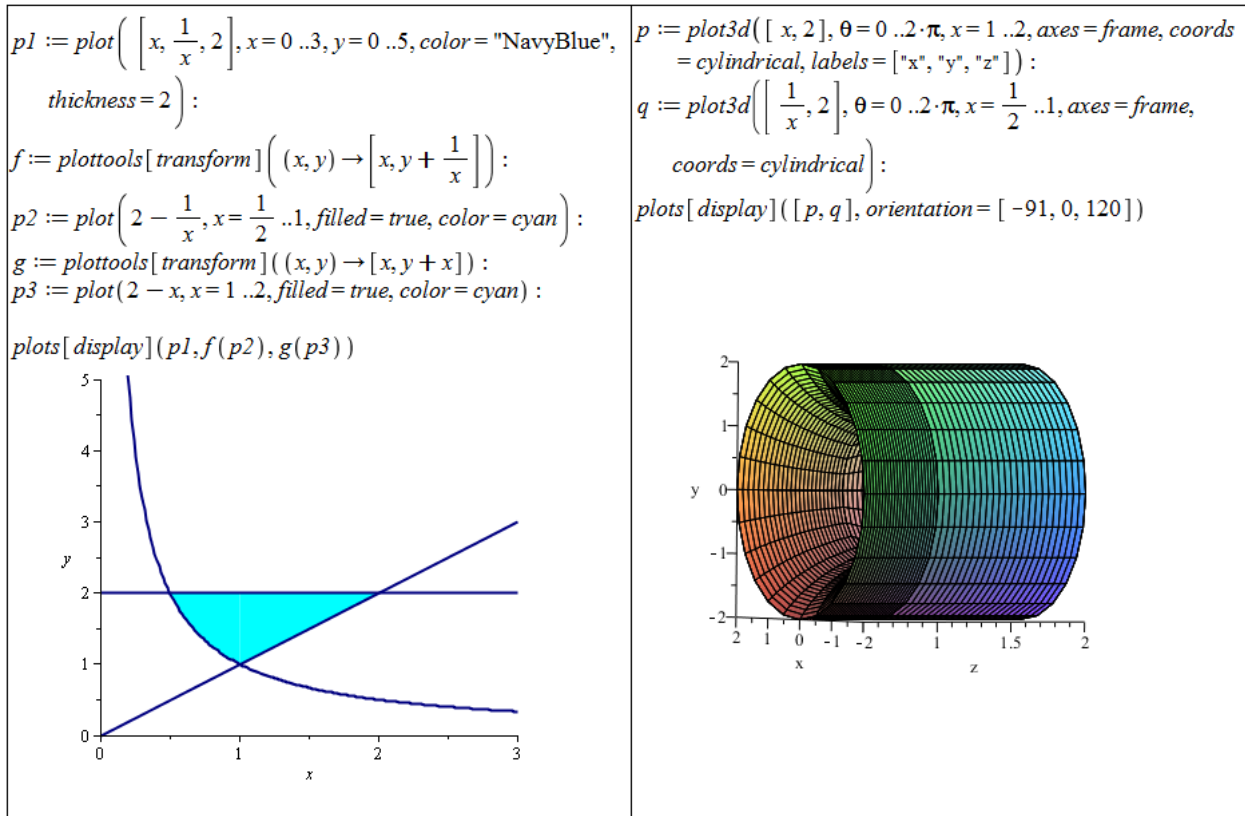
(d) Výsledek: $V = \frac{8 \cdot \pi}{3}$.



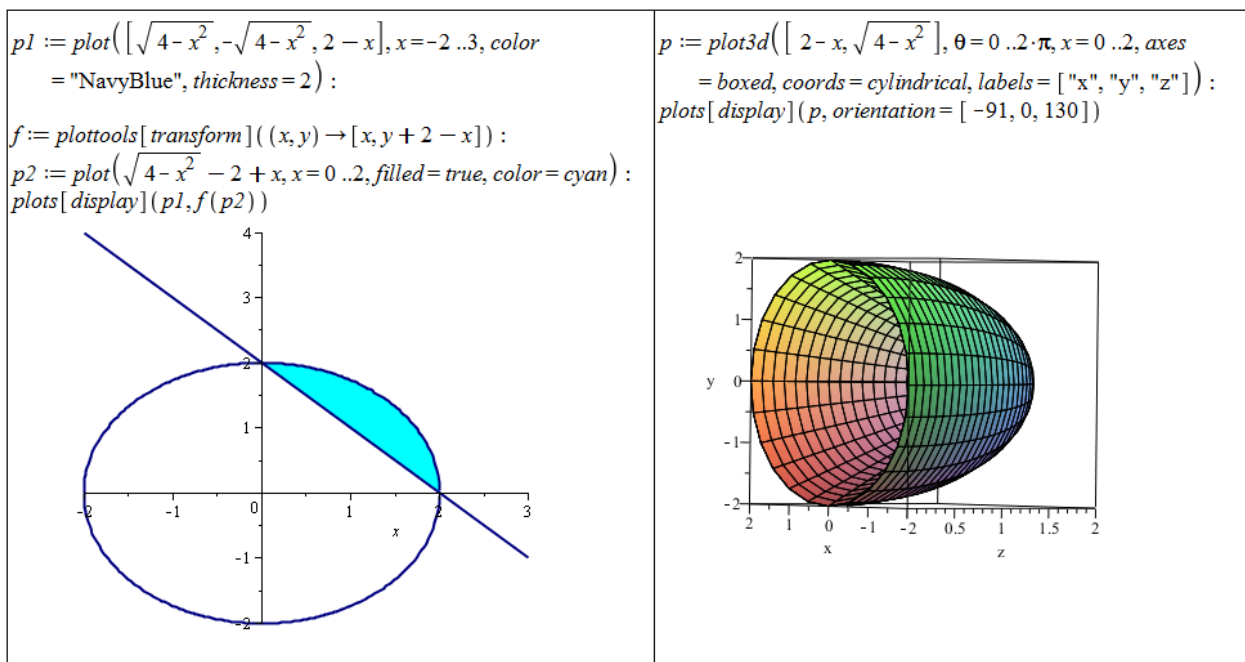
Obrázek 5.12: Zobrazení zadané plochy a získaného rotačního tělesa z příkladu 2.69.(a).



Obrázek 5.13: Zobrazení zadané plochy a získaného rotačního tělesa z příkladu 2.69.(b).



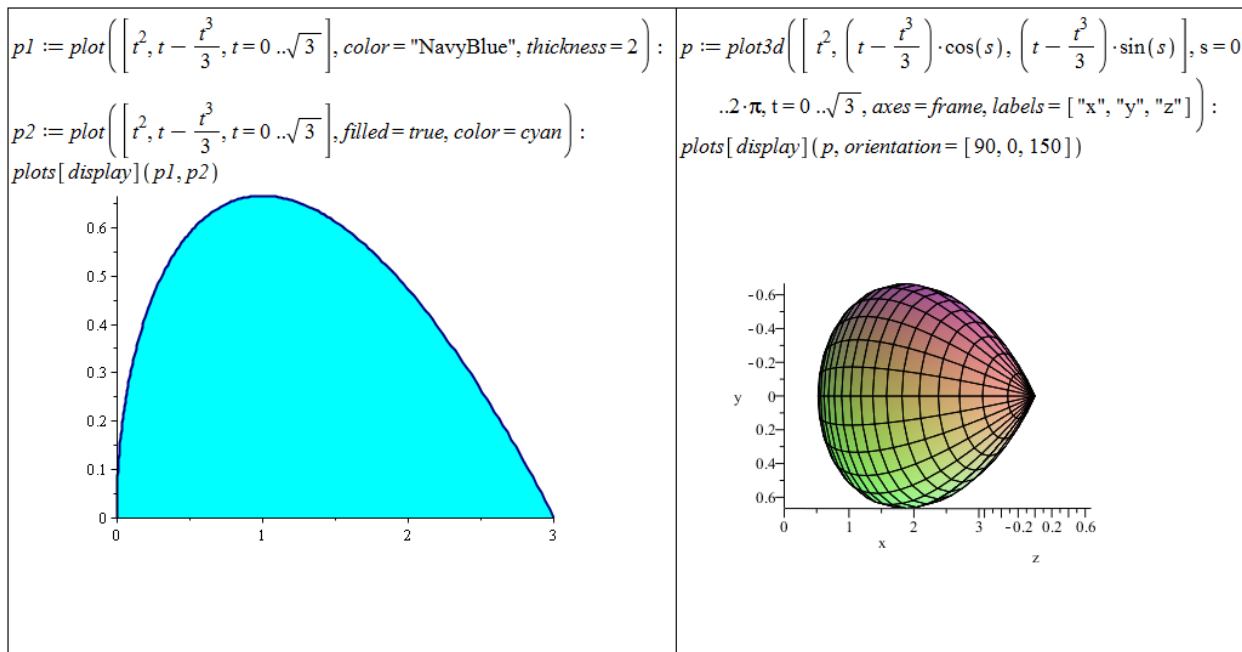
Obrázek 5.14: Zobrazení zadané plochy a získaného rotačního tělesa z příkladu 2.69.(c).



Obrázek 5.15: Zobrazení zadané plochy a získaného rotačního tělesa z příkladu 2.69.(d).

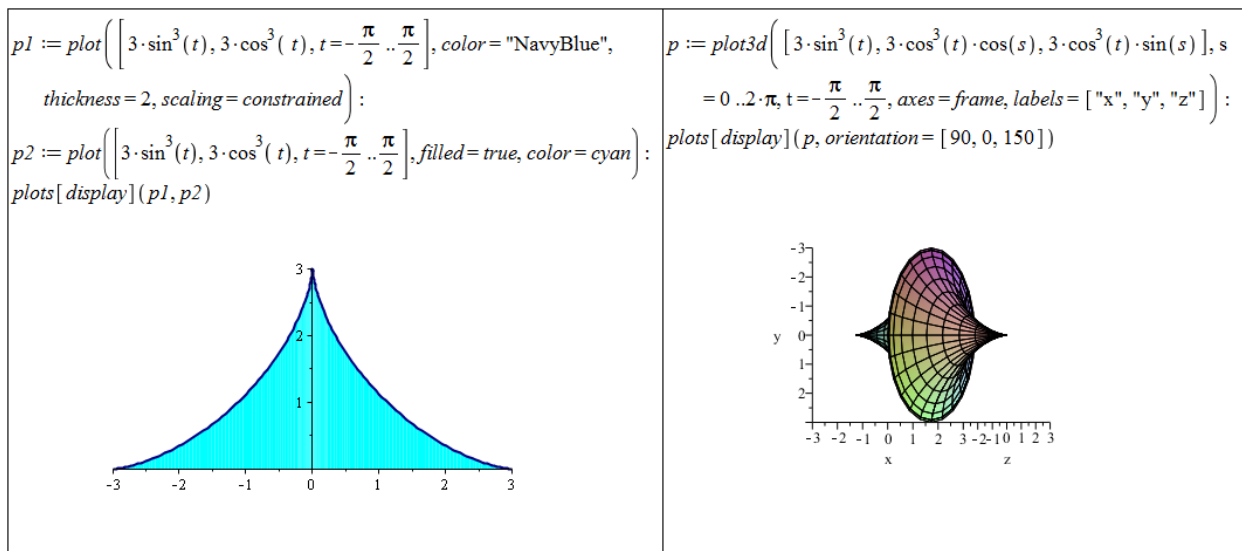
Příklad 2.70: Ve všech případech využijeme poznámky 2.26:

(a) Výsledek: $V = \frac{3\pi}{4}$.



Obrázek 5.16: Zobrazení zadané plochy a získaného rotačního tělesa z příkladu 2.70.(a).

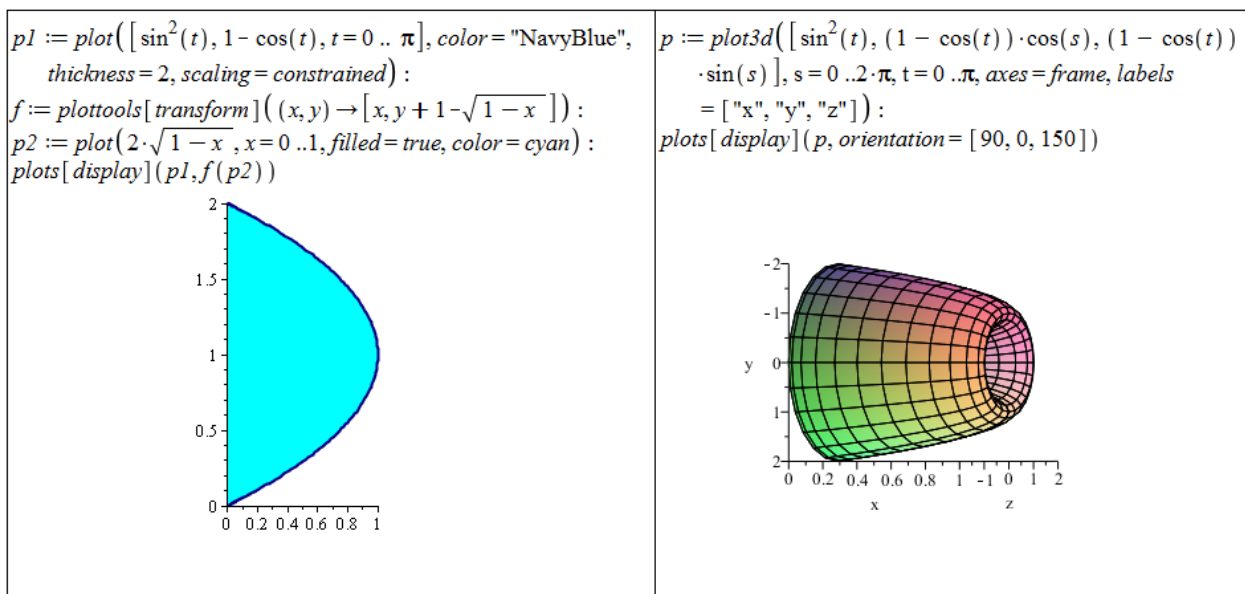
(b) Výsledek: $V = \frac{288\pi}{35}$.



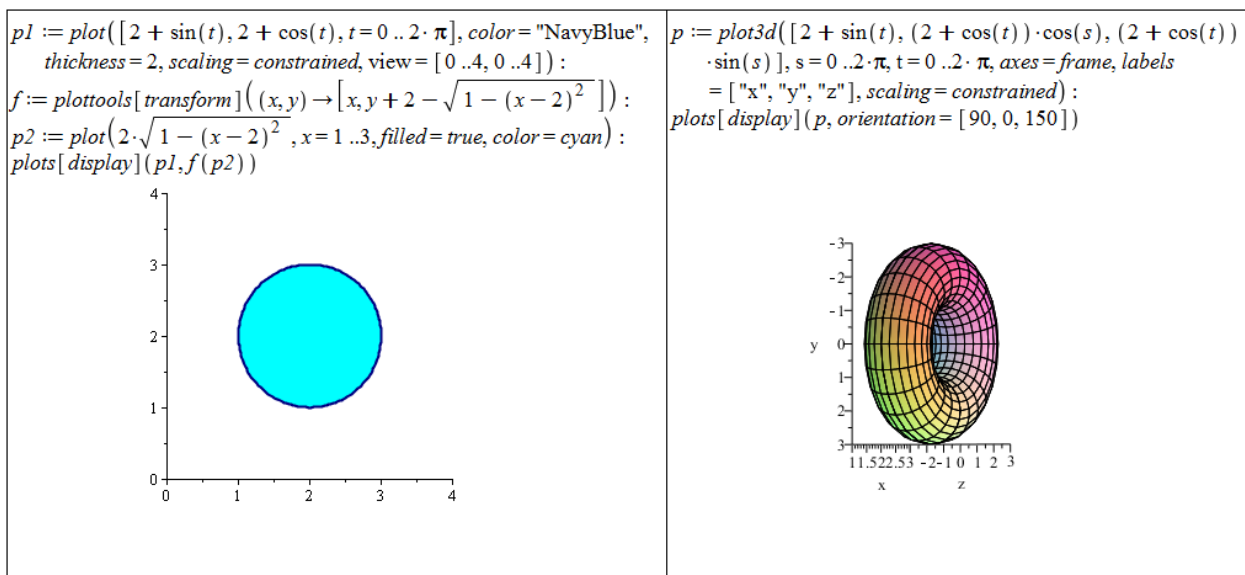
Obrázek 5.17: Zobrazení zadané plochy a získaného rotačního tělesa z příkladu 2.70.(b).

(c) Výsledek: $V = 3 \cdot \pi$.

(d) Výsledek: $V = 4 \cdot \pi^2$.



Obrázek 5.18: Zobrazení zadané plochy a získaného rotačního tělesa z příkladu 2.70.(c).



Obrázek 5.19: Zobrazení zadané plochy a získaného rotačního tělesa z příkladu 2.70.(d).

Příklad 2.71: Koule vznikne například rotací „horní“ poloviny kruhu kolem osy x . Je tedy potřeba odvodit rovnici kružnice o poloměru r a její „horní“ polovinu použít pro dosazení do vztahu pro výpočet objemu.

Příklad 2.72: Válec o poloměru podstavy r a výšce válce v vznikne rotací (kolem osy x) obdélníka tvořeného stranou o délce v na ose x , kolmicemi v krajních bodech o délkách r a zbylou stranou o délce v (spojující kolmice „na druhé straně“).

Příklad 2.73: Kužel vznikne rotací trojúhelníka kolem osy x . Trojúhelník je tvořen úsečkou na ose x odpovídající výšce kužele a kolmicí na jednom konci úsečky o délce rovné polo-

měru kužele. Lineární funkce pak spojí „zbývající konce“ úsečky a kolmice (při vhodném „rozmístění“ může být lineární funkcí funkce $y = \frac{r}{v} \cdot x$).

Příklad 2.76: Ve všech případech využijeme poznámky 2.28. Obsah pláště zpravidla počítáme rozdělením na části pláště získané rotacemi jednotlivých funkcí na odpovídajících intervalech.

$$(a) S = \frac{1}{96} \cdot \pi \cdot (134 \cdot \sqrt{5} - 3 \cdot \ln(\sqrt{5} + 2) - 16) \doteq 9.14 .$$

$$(b) S = 2 \cdot \pi \cdot (\sqrt{2} + \ln(1 + \sqrt{2})) \doteq 14.42.$$

$$(c) S = \pi \cdot (\sqrt{17} + 2 \cdot \ln(2) - \ln(1 + \sqrt{17}) + 2 \cdot \sqrt{2} + \ln(1 + \sqrt{2}) + 6) \doteq 42.68.$$

$$(d) S = 4 \cdot \pi \cdot (\sqrt{2} + 2) \doteq 42.90.$$

Příklad 2.77: Ve všech případech využijeme poznámky 2.29:

$$(a) S = 3 \cdot \pi.$$

$$(b) S = \frac{108 \cdot \pi}{5}.$$

$$(c) S = \pi \cdot (2 \cdot \sqrt{5} + \ln(\sqrt{5} + 2)) \doteq 18.58.$$

$$(d) S = 8 \cdot \pi^2.$$

Příklad 2.78: Řešíme zcela analogicky k příkladu 2.71.

Příklad 2.79: Řešíme analogicky k příkladu 2.72. Pozor na to, že v zadání se požaduje povrch celého válce, tj. musíme určit povrch pláště i podstavy válce.

Příklad 2.81: Postupujeme stejným způsobem jako v příkladu 2.80. Tentokrát je funkce nespojitá v bodě 0, a musíme tak určit $\lim_{t \rightarrow 0^+} \int_t^1 x \cdot \ln(x) dx$.

Příklad 2.83:

$$(a) \text{ Integrál diverguje: } \lim_{x \rightarrow \infty} (2 \cdot \sqrt{x}) = \infty.$$

$$(b) \int_{-\infty}^{\infty} \frac{1}{1+x^2} dx = \lim_{x \rightarrow -\infty} \arctan(x) + \lim_{x \rightarrow \infty} \arctan(x).$$

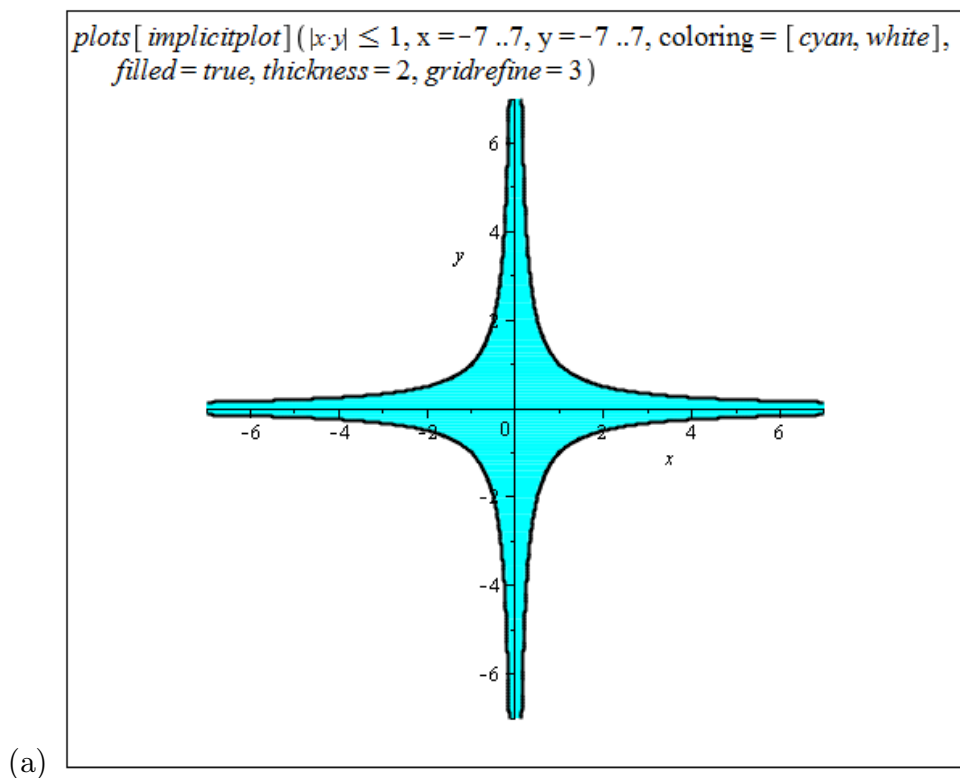
(c) Maple ve výsledku zobrazí Fresnelův integrál definovaný jako

$$FresnelS(x) = \int_0^x \sin\left(\frac{1}{2} \cdot \pi \cdot t^2\right) dt,$$

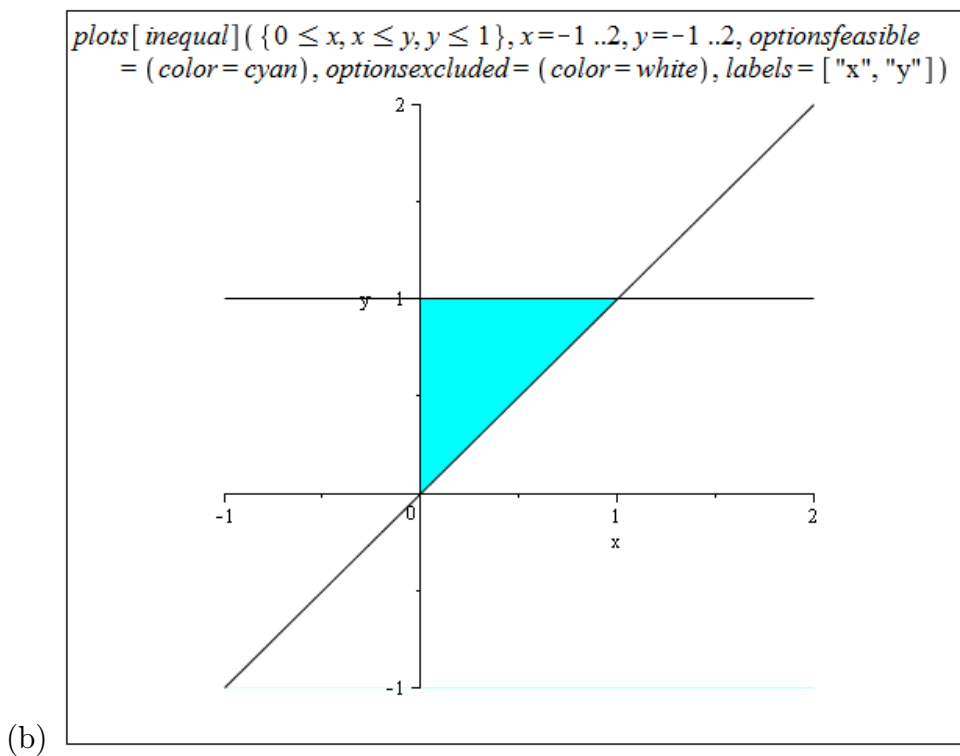
neboť neumí zapsat řešení analyticky pomocí standardních funkcí. Příkazem `evalf` zjistíme, že příslušný integrál konverguje.

$$(d) \text{ Integrál diverguje: } \lim_{x \rightarrow \infty} \ln(x) = \infty.$$

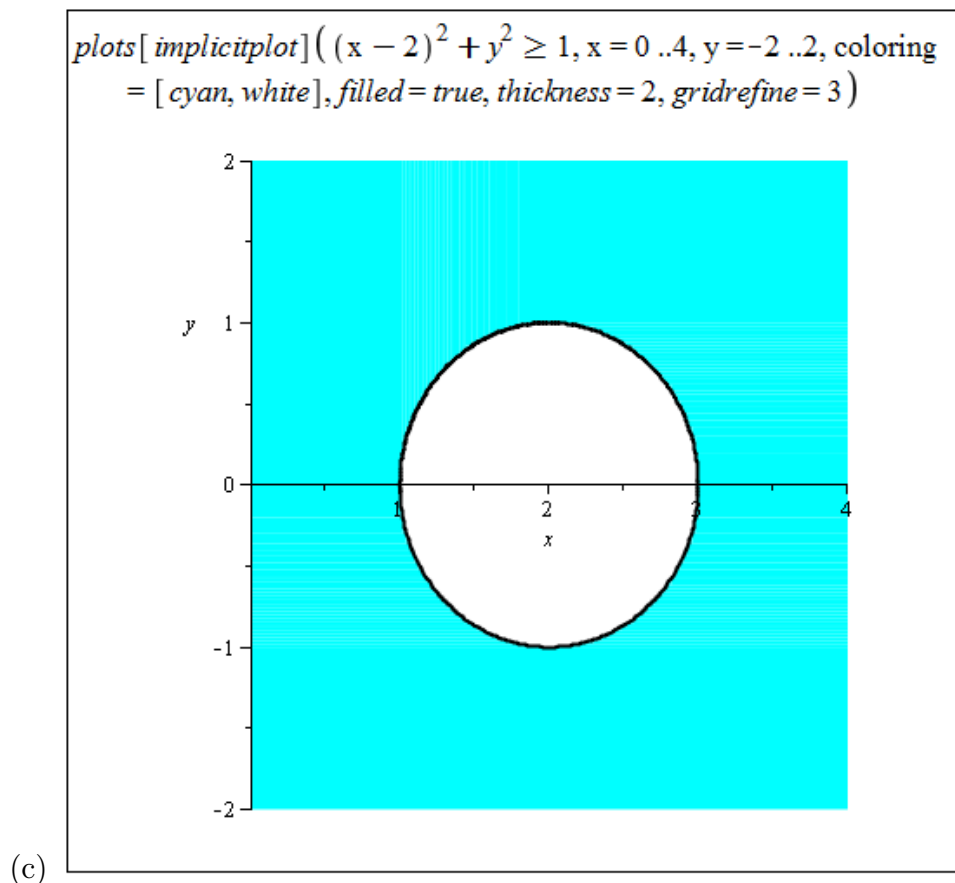
Příklad 3.4: Nakreslené oblasti jsou zobrazeny na obrázcích 5.20 – 5.24



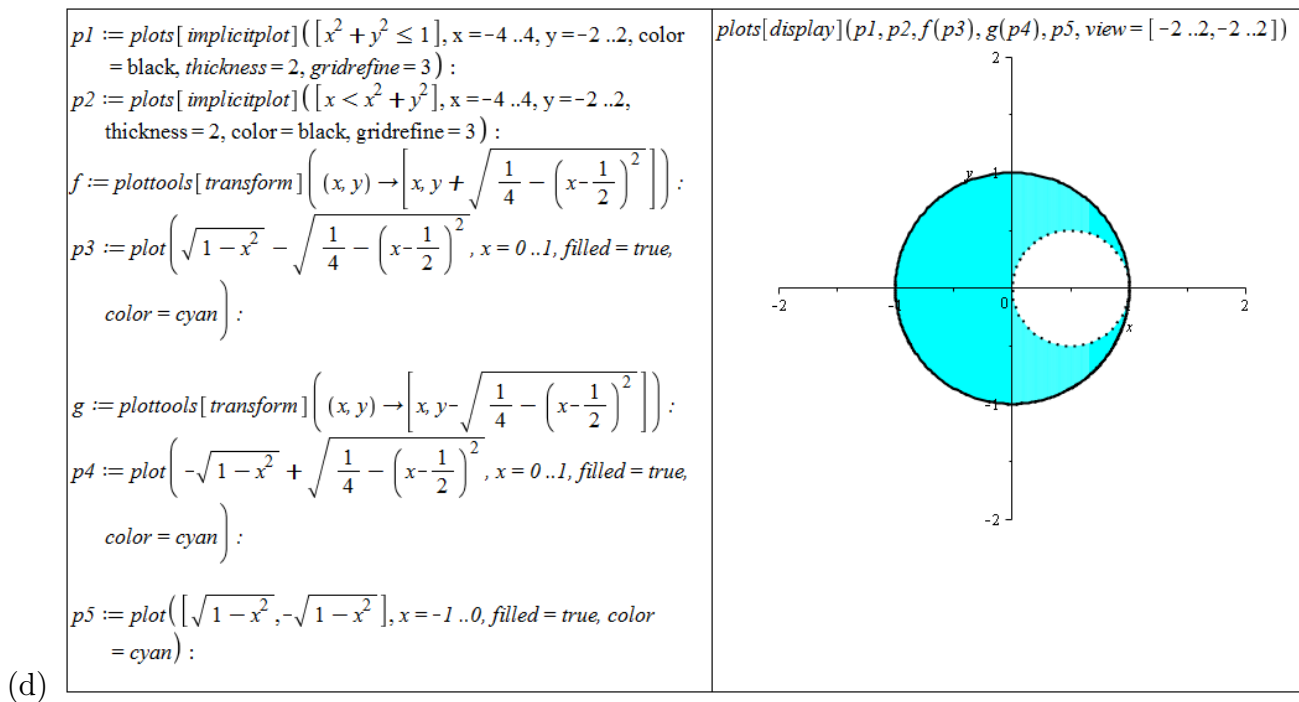
Obrázek 5.20: Zobrazení zadané oblasti z příkladu 3.4.(a).



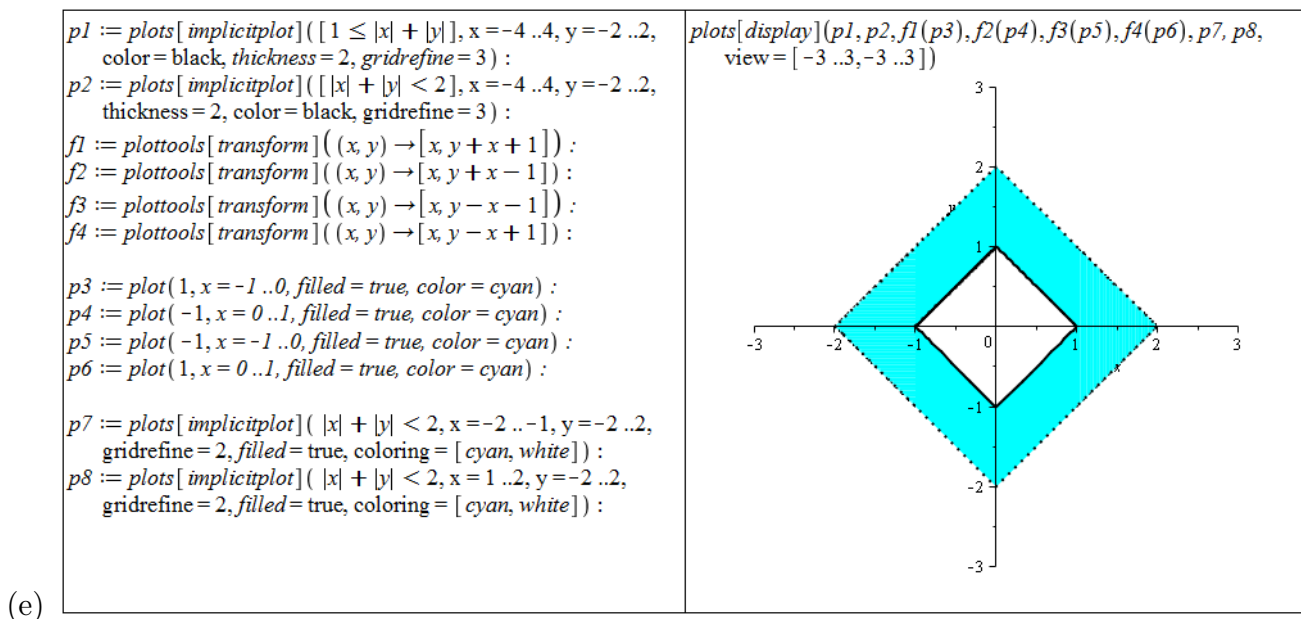
Obrázek 5.21: Zobrazení zadané oblasti z příkladu 3.4.(b).



Obrázek 5.22: Zobrazení zadané oblasti z příkladu 3.4.(c).



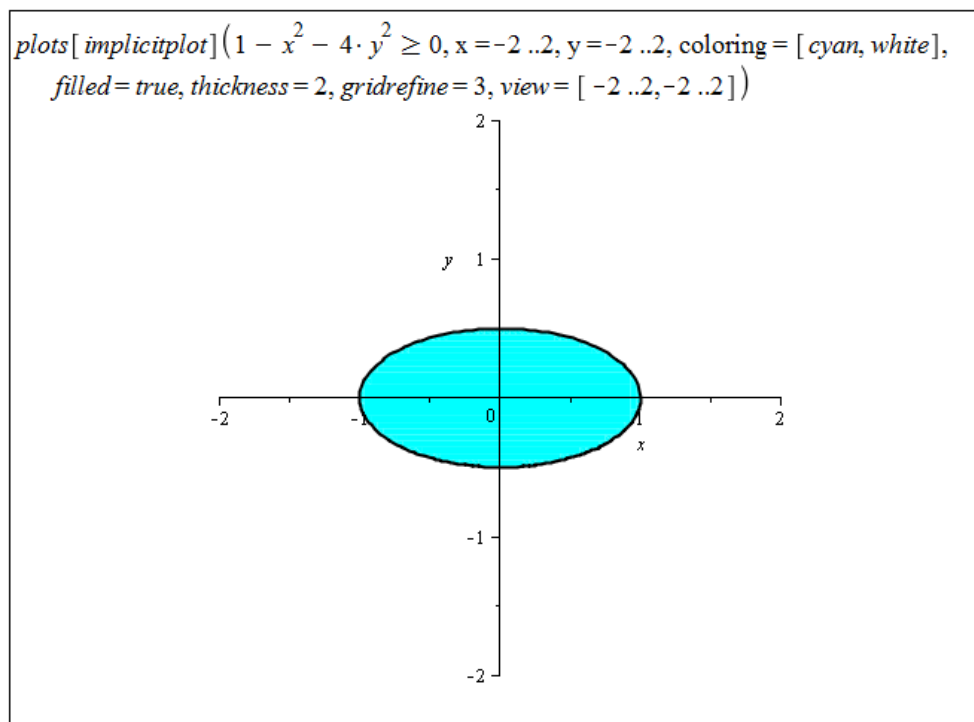
Obrázek 5.23: Zobrazení zadané oblasti z příkladu 3.4.(d).



Obrázek 5.24: Zobrazení zadané oblasti z příkladu 3.4.(e).

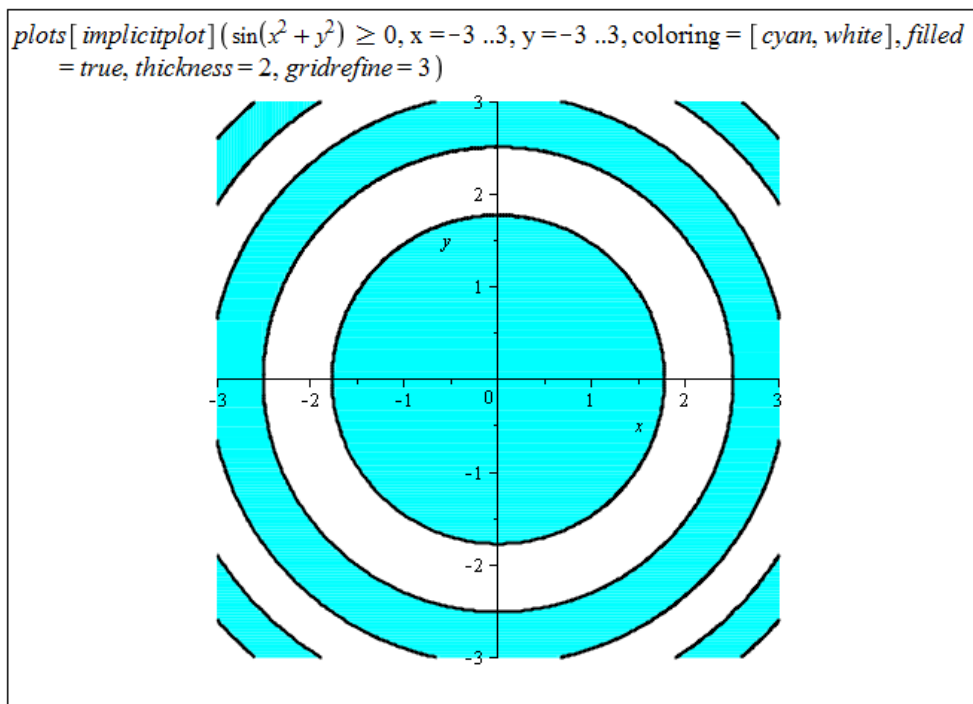
Příklad 3.6: Příslušné definiční obory jsou zobrazeny na obrázcích 5.25 – 5.30

(a) Výraz pod odmocninou musí být nezáporný.



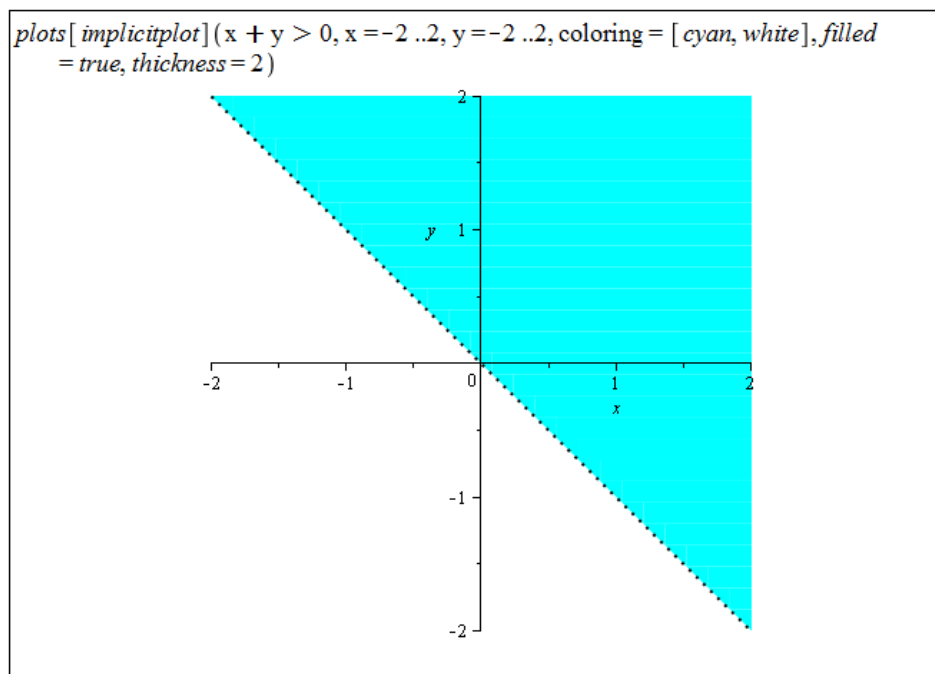
Obrázek 5.25: Zobrazení definičního oboru funkce z příkladu 3.6.(a).

(b) Výraz pod odmocninou musí být nezáporný.



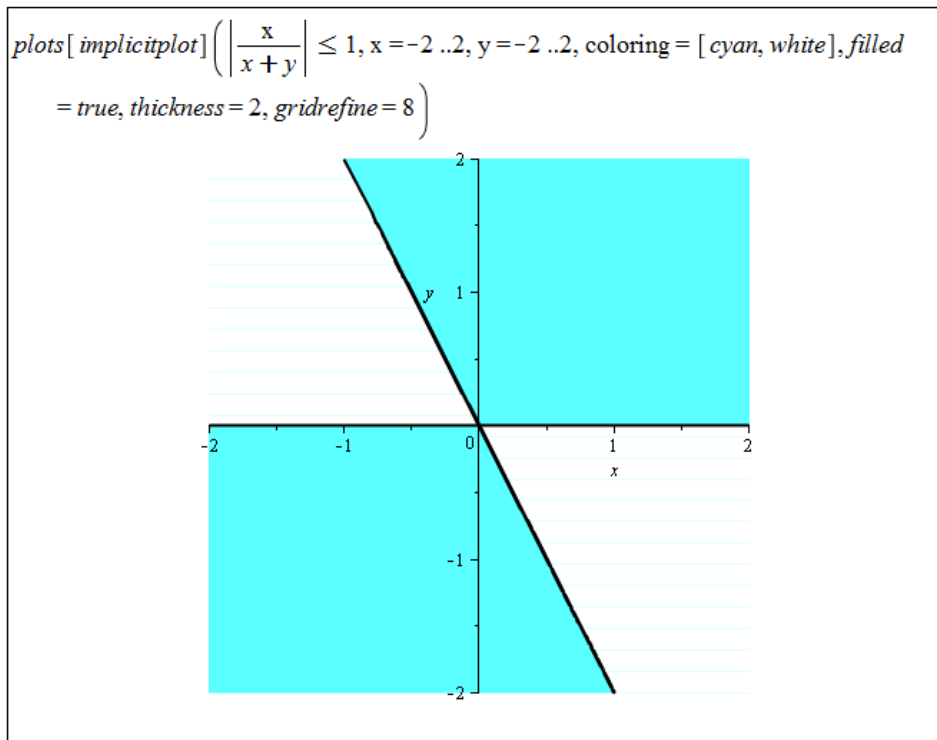
Obrázek 5.26: Zobrazení definičního oboru funkce z příkladu 3.6.(b).

(c) Argument funkce ln musí být kladný.



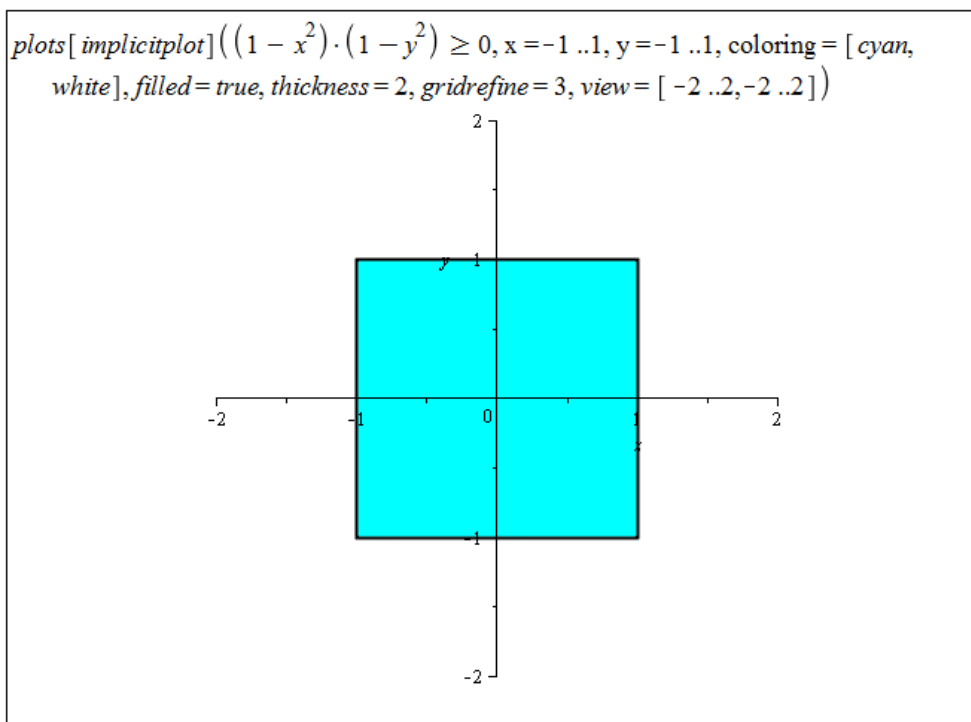
Obrázek 5.27: Zobrazení definičního oboru funkce z příkladu 3.6.(c).

(d) Argument funkce arccos musí nabývat hodnot z intervalu $[-1, 1]$. Systém Maple má s vykreslením příslušné množiny „problémy“. Při vyšší hodnotě parametru `gridrefine` je výsledek akceptovatelný.



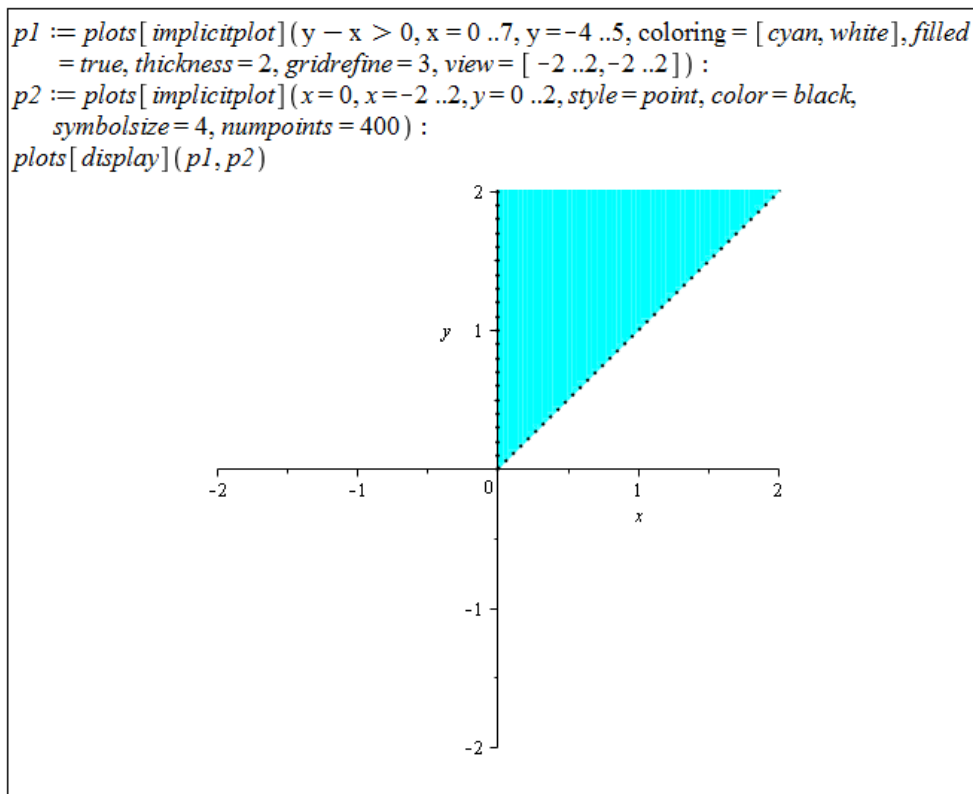
Obrázek 5.28: Zobrazení definičního oboru funkce z příkladu 3.6.(d).

- (e) Výrazy pod odmocninami musí být nezáporné. Díky jejich tvaru je pro ně možné vytvořit jedinou nerovnost a zbývající část podmínky „schovat“ do rozsahu proměnných, abychom mohli použít příkaz `implicitplot`.



Obrázek 5.29: Zobrazení definičního oboru funkce z příkladu 3.6.(e).

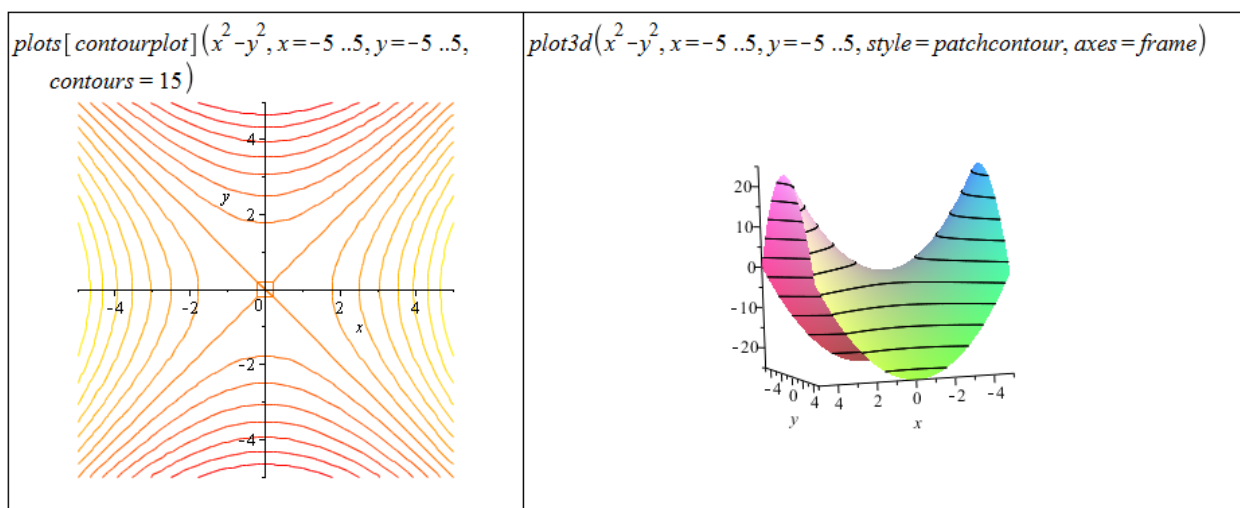
(f) Argument funkce \ln musí být kladný, tzn. $x > 0 \wedge y - x > 0$.



Obrázek 5.30: Zobrazení definičního oboru funkce z příkladu 3.6.(f).

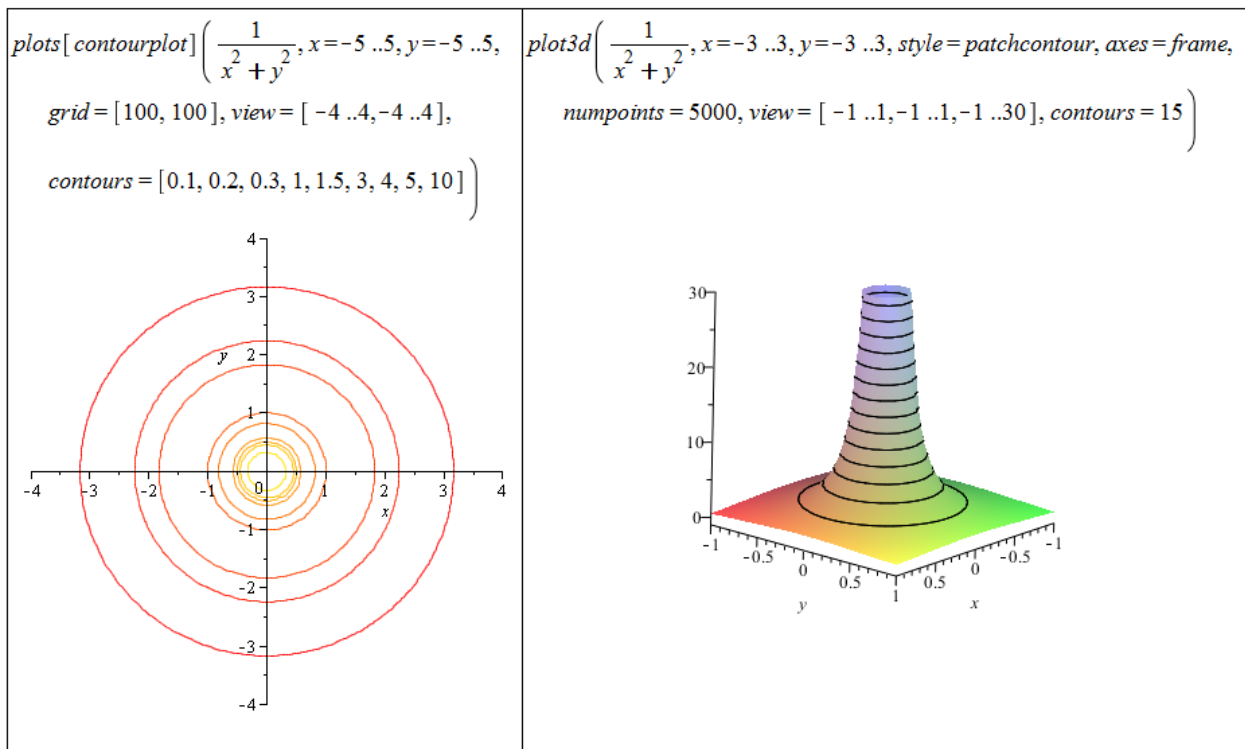
Příklad 3.7:

(a) Pro některé hodnoty parametru `contours` Maple nezobrazí vrstevnice $y = -x$ a $y = x$.

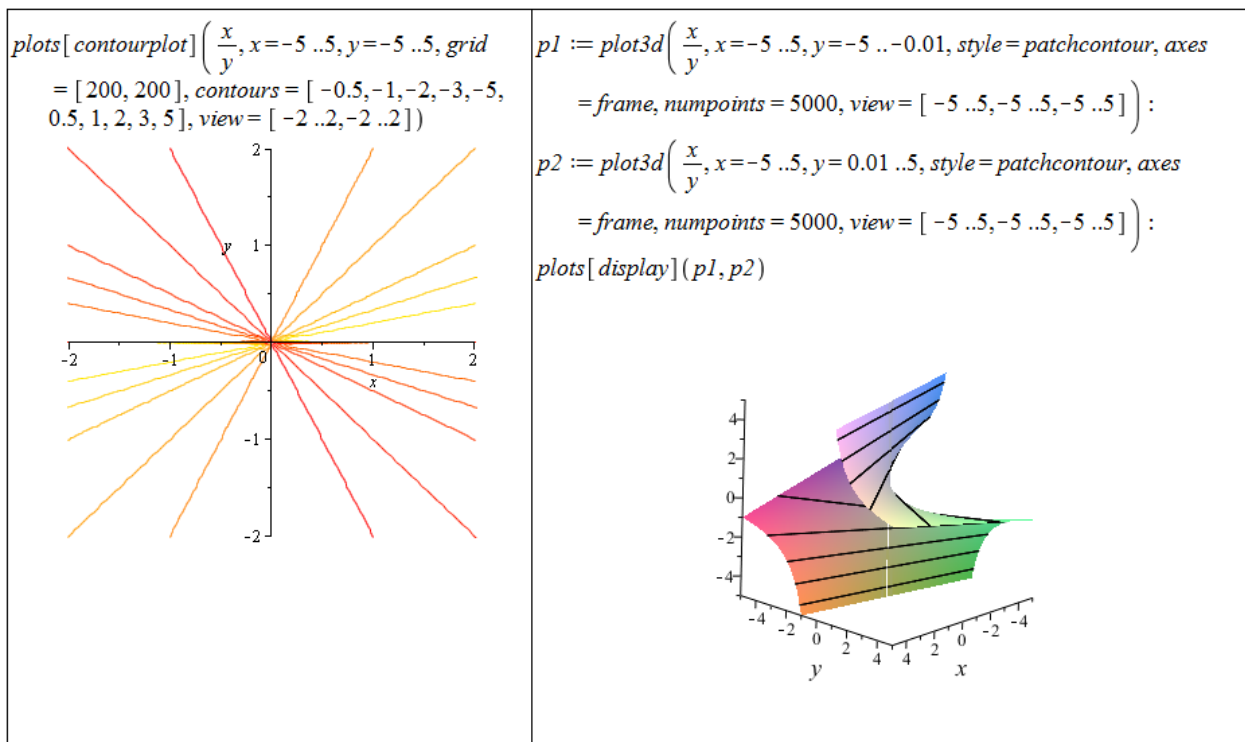


Obrázek 5.31: Zobrazení vrstevnic funkce z příkladu 3.7.(a).

(b) Pro rovnoměrné rozložení vrstevnic na zadané oblasti je vhodné specifikovat parametr `contours` seznamem funkčních hodnot.



Obrázek 5.32: Zobrazení vrstevnic funkce z příkladu 3.7.(b).



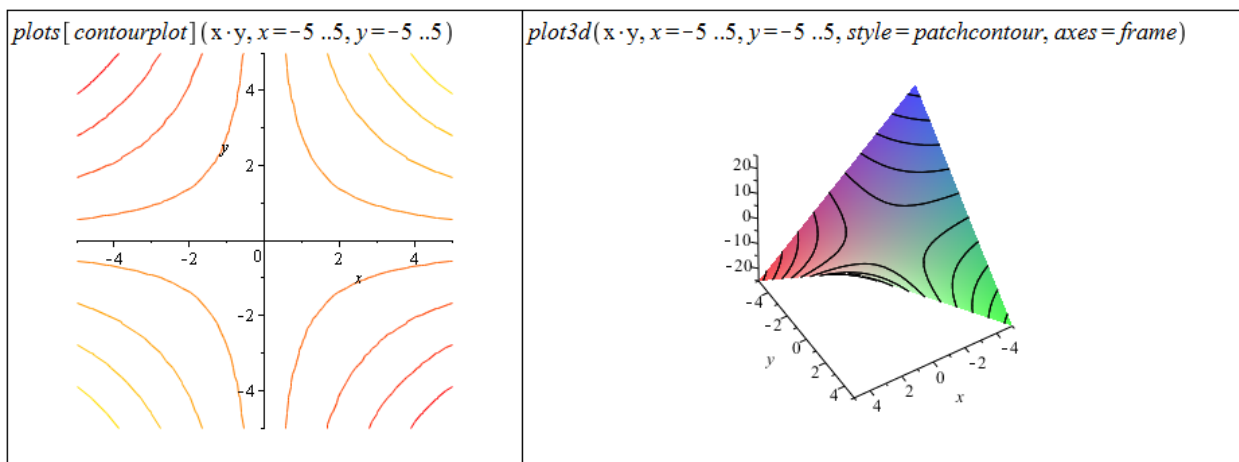
Obrázek 5.33: Zobrazení vrstevnic funkce z příkladu 3.7.(c).

(c)

Zadaná funkce je nespojitá pro $y = 0$, s čímž si Maple „neumí poradit“ a vykresluje v tomto místě svislou plochu. Příkaz `plot3d` nemá k dispozici parametr `discont`, což se

obchází vytvořením dvou grafů tak, abychom se nespojitosti „vyhnuli“ – vykreslíme funkci nalevo od místa nespojitosti a napravo, grafy pak spojíme v jeden příkazem `display`.

(d)



Obrázek 5.34: Zobrazení vrstevnic funkce z příkladu 3.7.(d).

Příklad 3.10: Položíme $\delta = \min\{\varepsilon, 1\}$. Následně musíme ukázat, že pro libovolná x, y splňující $|x| < \delta, |y| < \delta, [x, y] \neq [0, 0]$ platí:

$$\frac{x^2 \cdot y^2}{x^2 + y^2} < \varepsilon.$$

Jelikož x, y splňuje $[x, y] \neq [0, 0]$, je aspoň jedno z nich nenulové. Bez újmy na obecnosti předpokládejme, že například $y \neq 0$. Pak pro jinak libovolná x, y platí: $x^2 < x^2 + y^2$. Z toho máme:

$$\frac{x^2 \cdot y^2}{x^2 + y^2} < y^2.$$

Pro $\varepsilon > 1$ máme $|x| < 1, |y| < 1$ a tedy

$$\frac{x^2 \cdot y^2}{x^2 + y^2} < y^2 < 1 < \varepsilon.$$

Pro $\varepsilon \leq 1$ máme $|x| < \varepsilon, |y| < \varepsilon$ a tedy

$$\frac{x^2 \cdot y^2}{x^2 + y^2} < y^2 < \varepsilon^2 \leq \varepsilon.$$

Příklad 3.11:

- Maple určí správně, že limita neexistuje. Sami to můžeme ověřit například přibližováním se po přímkách $y = k \cdot x$. Výsledek je závislý na k , tj. na přímce, po níž se k limitnímu bodu blížíme.
- Maple limitu neumí spočítat. Limita v tomto případě opět neexistuje, což můžeme stejně jako v předchozím případě ověřit přibližováním se k limitnímu bodu po přímkách.

- (c) Maple limitu nespočítá. Limita neexistuje, což můžeme zjistit pomocí transformace do polárních souřadnic. Získaný výsledek závisí na úhlu φ .
- (d) Maple limitu nespočítá ani v tomto případě, i když stačí pouze dosadit.
- (e) Maple limitu nespočítá. Limita existuje a je rovná 0. Ověřit to můžeme transformací do polárních souřadnic a aplikací poznámky 3.4.
- (f) Maple limitu nespočítá. Proměnná y tu přitom není zdrojem nespojitosti, a tak za ni můžeme dosadit a počítat zadanou limitu pouze jako limitu v proměnné x .
- (g) Maple limitu nespočítá ani tentokrát. Limita existuje a je rovná $\frac{1}{2}$. Výsledek získáme po rozšíření zadaného výrazu doplněním čitatele na rozdíl čtverců, následné úpravě a dosazení.

Příklad 3.13: V případech a) – d) jsou body nespojitosti tvořeny vždy body, které nejsou v definičním oboru funkce $f(x, y)$. Ve všech bodech definičního oboru jsou funkce totiž spojitě.

- (a) Jmenovatel rovný nule, takže jediným bodem nespojitosti funkce $f(x, y)$ je bod $[0, 0]$.
- (b) Jmenovatel rovný nule, tj. body $[x, y]$ takové, že $x = 0$ nebo $y = 0$.
- (c) Jmenovatel rovný nule, tj. body $[x, y]$ takové, že $y = 0$.
- (d) Argument funkce $\ln(x)$ nekladný, tj. body $[x, y]$ takové, že $x^2 + y^2 = 1$.
- (e) Funkce $f(x, y)$ nemá body nespojitosti. Jediný „podezřelý“ bod z nespojitosti je bod $[0, 0]$, v němž je však limita rovna funkční hodnotě (viz příklad 3.9).

Příklad 3.14:

- (a) Podle příkladu 3.11.(g): $C = \frac{1}{2}$.
- (b) Podle příkladu 3.11.(c) limita v bodě $[0, 0]$ neexistuje, tj. není možné „dodefinovat“ C tak, aby zadaná funkce byla v bodě $[0, 0]$ spojitá.

Příklad 3.15:

- (a) $f'_x(x, y) = 2 \cdot x \cdot y + \frac{1}{x}$,
 $f'_y(x, y) = x^2 - \frac{1}{y}$,
 $f''_{xx}(x, y) = 2 \cdot y - \frac{1}{x^2}$,
 $f''_{xy}(x, y) = 2 \cdot x$,
 $f''_{yx}(x, y) = 2 \cdot x$,
 $f''_{yy}(x, y) = \frac{1}{y^2}$,
- (b) $f'_x(x, y) = 8 \cdot (x^2 \cdot y + y)^3 \cdot x \cdot y$,
 $f'_y(x, y) = 4 \cdot (x^2 \cdot y + y)^3 \cdot (x^2 + 1)$,
 $f''_{xx}(x, y) = 56 \cdot x^6 \cdot y^4 + 120 \cdot x^4 \cdot y^4 + 72 \cdot x^2 \cdot y^4 + 8 \cdot y^4$,
 $f''_{xy}(x, y) = 32 \cdot x^7 \cdot y^3 + 96 \cdot x^5 \cdot y^3 + 96 \cdot x^3 \cdot y^3 + 32 \cdot x \cdot y^3$,
 $f''_{yx}(x, y) = 32 \cdot x^7 \cdot y^3 + 96 \cdot x^5 \cdot y^3 + 96 \cdot x^3 \cdot y^3 + 32 \cdot x \cdot y^3$,
 $f''_{yy}(x, y) = 12 \cdot y^2 \cdot (x^2 + 1)^4$,

$$\begin{aligned}
\text{(c)} \quad & f'_x(x, y) = \frac{x^y \cdot y}{x}, \\
& f'_y(x, y) = x^y \cdot \ln(x), \\
& f''_{xx}(x, y) = x^{y-2} \cdot y \cdot (y-1), \\
& f''_{xy}(x, y) = x^{y-1} \cdot (y \cdot \ln(x) + 1), \\
& f''_{yx}(x, y) = x^{y-1} \cdot (y \cdot \ln(x) + 1), \\
& f''_{yy}(x, y) = x^y \cdot \ln(x)^2, \\
\text{(d)} \quad & f'_x(x, y) = y \cdot \ln(x+y) + \frac{x \cdot y}{x+y}, \\
& f'_y(x, y) = x \cdot \ln(x+y) + \frac{x \cdot y}{x+y}, \\
& f''_{xx}(x, y) = y \cdot \frac{x+2 \cdot y}{(x+y)^2}, \\
& f''_{xy}(x, y) = \ln(x+y) + \frac{y}{x+y} + \frac{x}{x+y} - \frac{x \cdot y}{(x+y)^2}, \\
& f''_{yx}(x, y) = \ln(x+y) + \frac{y}{x+y} + \frac{x}{x+y} - \frac{x \cdot y}{(x+y)^2}, \\
& f''_{yy}(x, y) = x \cdot \frac{2 \cdot x+y}{(x+y)^2}.
\end{aligned}$$

Příklad 3.16:

$$\begin{aligned}
\text{(a)} \quad & f'_x(1, 2) = \frac{1+\frac{1}{5} \cdot \sqrt{5}}{1+\sqrt{5}}, f'_y(1, 2) = \frac{2}{5} \cdot \frac{\sqrt{5}}{1+\sqrt{5}}, \\
\text{(b)} \quad & f'_x(e, e) = \frac{12}{e}, f'_y(e, e) = -\frac{12}{e}, \\
\text{(c)} \quad & f'_x(1, 2) = 0, f'_y(1, 2) = \frac{1}{4}.
\end{aligned}$$

Příklad 3.18:

$$\begin{aligned}
\text{(a)} \quad & f'_u(A) = \frac{\sqrt{2}}{2}, \\
\text{(b)} \quad & \text{Příkaz DirectionalDerivative neumí pracovat s obecnými směry. Je proto potřeba vypočítat řešení jinak. } f'_u(A) = \frac{1}{2} \cdot (\cos(\alpha) + \sin(\alpha)).
\end{aligned}$$

Příklad 3.20:

$$\begin{aligned}
\text{(a)} \quad & f(x, y) = x^y, [x_0, y_0] = [3, 1], [x, y] = [3.05, 0.99], \\
\text{(b)} \quad & \text{Nejprve převedeme stupně na radiány. } f(x, y) = \sqrt{x} \cdot \cos(y), [x_0, y_0] = [3, \frac{\pi}{3}], [x, y] = [3.05, \frac{31 \cdot \pi}{90}], \\
\text{(c)} \quad & f(x, y) = \arctan(\frac{x}{y}), [x_0, y_0] = [1, 1], [x, y] = [1.02, 0.95], \\
\text{(d)} \quad & f(x, y) = \log_4(x \cdot y^2), [x_0, y_0] = [4, 1], [x, y] = [4.01, 0.97].
\end{aligned}$$

Příklad 3.22:

$$\begin{aligned}
\text{(a)} \quad & t(x, y) = 4 \cdot x - 2 \cdot y - 5, \\
\text{(b)} \quad & t(x, y) = 5 \cdot x + y - 3, \\
\text{(c)} \quad & t(x, y) = \frac{4}{5} \cdot x + \frac{2}{5} \cdot y + \ln(5) - 2, \\
\text{(d)} \quad & t(x, y) = 1.
\end{aligned}$$

Příklad 3.23: Ve všech příkladech použijeme příkaz `mtaylor`.

- (a) musíme specifikovat bod $[x = 1, y = 1]$,
- (b) musíme specifikovat bod $[x = 0, y = \frac{\pi}{2}]$,
- (c) musíme změnit proměnnou `Order` nebo přidat třetí parametr příkazu `mtaylor`,
- (d) musíme specifikovat všechny tři proměnné.

Příklad 3.24:

- (a) $f(x, y) = \sqrt{x^3 + y^3}$, $[x_0, y_0] = [1, 2]$, $[x, y] = [1.02, 1.97]$,
- (b) Nejprve převedeme stupně na radiány. $f(x, y) = \sqrt{x} \cdot \cos(y)$, $[x_0, y_0] = [3, \frac{\pi}{3}]$, $[x, y] = [3.05, \frac{31\pi}{90}]$,
- (c) $f(x, y) = \arctan(\frac{x}{y})$, $[x_0, y_0] = [1, 1]$, $[x, y] = [1.02, 0.95]$,
- (d) $f(x, y) = \log_4(x \cdot y^2)$, $[x_0, y_0] = [4, 1]$, $[x, y] = [4.01, 0.97]$.

Příklad 3.25: Definice lokálního minima je naprosto stejná s definicí 3.9, jen nyní požadujeme, aby pro všechna X z nějakého okolí bodu X^* platilo: $f(X) \geq f(X^*)$.

Příklad 3.30:

- (a) Funkce má 2 stacionární body, z nichž jeden (bod $[1, 1]$) je lokálním minimem.
- (b) Funkce má 4 stacionární body. Dva z nich jsou lokálními extrémy. Bod $[0, -1]$ je lokálním minimem, bod $[0, 1]$ je lokálním maximem.
- (c) Funkce má 8 stacionárních bodů. Čtyři z nich jsou lokální extrémy. Body $[-\frac{\sqrt{2-e}}{2-e}, -\frac{\sqrt{2-e}}{2-e}]$ a $[\frac{\sqrt{2-e}}{2-e}, \frac{\sqrt{2-e}}{2-e}]$ jsou lokální minima, body $[-\frac{\sqrt{2-e}}{2-e}, \frac{\sqrt{2-e}}{2-e}]$ a $[\frac{\sqrt{2-e}}{2-e}, -\frac{\sqrt{2-e}}{2-e}]$ jsou lokální maxima zadané funkce.
- (d) Funkce má nekonečně mnoho stacionárních bodů, které jsou též jejími lokálními extrémy. V bodě $[0, 0]$ se nachází lokální minimum. Ostatní stacionární body, které jsou všechny lokálními maximy, leží na kružnici $x^2 + y^2 = 1$. Klasickým způsobem neumíme o těchto bodech rozhodnout. Pro ověření, že se jedná o lokální maxima, můžeme zavést substituci $t = x^2 + y^2$ a vyšetřit lokální extrémy funkce, jako by se jednalo o funkci jedné proměnné.
- (e) Funkce má jediný stacionární bod ($[2, 4]$), který je jejím lokálním minimem. Pro $y = 0$ neexistuje parciální derivace podle proměnné y . Podle toho, jak chápeme pojem *okolí bodu* (funkce není definovaná pro $y < 0$), bychom měli vyšetřit ještě body, pro něž $y = 0$. Nicméně pro $y = 0$ funkce lokálního extrému nenabývá, o čemž je potřeba se přesvědčit vyšetřením okolí „potenciálního“ lokálního minima v bodě $[\frac{4}{3}, 0]$.
- (f) Funkce má jeden stacionární bod, který není jejím lokálním extrémem. Pro $x = -1$ nebo $y = -1$ neexistují parciální derivace zadané funkce. Opět je na uvážení, jak chápat pojem *okolí bodu* a případně vyšetřit i lokální chování funkce v případech $x = -1$ nebo $y = -1$. Již z grafu je vidět, že funkce tu dosahuje lokálně své nejvyšší hodnoty v bodě $[-1, -1]$, takže je možné mluvit o lokálním maximu funkce v tomto bodě.

- (g) Funkce má nekonečně mnoho stacionárních bodů, žádný z nich však není jejím lokálním extrémem. Funkce má dále dva body, v nichž neexistují parciální derivace. Bod $[0, 0]$ není lokálním extrémem funkce, bod $[2, 3]$ je lokálním minimem.

Příklad 3.31: Definice absolutního minima je naprosto stejná s definicí 3.11, jen nyní požadujeme, aby pro všechna X z množiny M platilo: $f(X) \geq f(X^*)$.

Příklad 3.35: Určete absolutní extrémy funkce $f(x, y)$ na množině M :

- (a) V tomto případě ani není potřeba nic počítat. Jen si pozorně přečíst zadání a zamyslet se nad ním. Největší hodnota (absolutní maximum) zadané funkce je dána „přímo“ množinou M a jsou to tedy všechny body na její hranici. Absolutní minimum získáme tak, když si uvědomíme, že druhá mocnina reálného čísla je vždy číslo nezáporné (tj. větší nebo rovno nule).
- (b) Opět není třeba nic počítat, stačí použít „selský rozum“. Množinu M můžeme přepsat do intervalů: $x \in [-1, 1], y \in [-1, 1]$ a odtud už je na první pohled vidět, že absolutní minimum se nachází v bodě $[-1, -1]$ a absolutní maximum v bodě $[1, 1]$.
- (c) Absolutní minimum funkce určíme již ze zadání, neboť absolutní hodnota nabývá své nejmenší hodnoty pro nulový argument a ten je uvnitř množiny M . Absolutní maximum můžeme hledat klasickou cestou. Zadaná funkce nemá stacionární body, má ovšem nekonečně mnoho bodů, kde není diferencovatelná. Z grafu funkce (případně rovnou ze zadání) zjistíme, že absolutní maximum leží na hranici množiny M . Například příkazem `extrema` můžeme extrém najít, a to hned ve čtyřech bodech: $[\frac{\sqrt{2}}{2}, \frac{\sqrt{2}}{2}]$, $[\frac{\sqrt{2}}{2}, -\frac{\sqrt{2}}{2}]$, $[-\frac{\sqrt{2}}{2}, \frac{\sqrt{2}}{2}]$ a $[-\frac{\sqrt{2}}{2}, -\frac{\sqrt{2}}{2}]$.
- (d) Postupujeme „klasickým“ způsobem. Určíme lokální extrémy (lok. max. v bodě $[1, 1]$) a následně extrémy na hranici množiny M . Celkem dostaneme, že absolutní maximum je v bodě $[1, 1]$, absolutní minima jsou dvě, a to v bodech $[0, 4]$ a $[4, 0]$.
- (e) Zadaný trojúhelník M je možné vykreslit následující posloupností příkazů:
- ```
p1 := plots[pointplot]([[0, 2], [3, 0], [0, -1]], color = red, symbolsize = 20, symbol = solidcircle):
p2 := plots[polygonplot]([[0, 2], [3, 0], [0, -1]], style=line, color=red, thickness = 2):
plots[display](p1, p2)
```

Základním krokem je zápis jednotlivých úseček trojúhelníku v proměnných  $x$  a  $y$ . Pak pokračujeme „klasickým“ způsobem. Určíme lokální extrémy (lok. min. v bodě  $[\frac{1}{2}, 1]$ ) a následně extrémy na hranici množiny  $M$ . Celkem dostaneme, že absolutní maximum je v bodě  $[0, -1]$ , absolutní minimum v bodě  $[\frac{1}{2}, 1]$ .

- (f) Postupujeme opět „klasickým“ způsobem. Nejprve hledáme lokální extrémy. Dostáváme „tři“ stacionární body, přičemž jeden z nich pokrývá všechny body takové, že  $y = 0$ . Tento stacionární bod (body) však není extrémem již na první pohled, protože funkční hodnota je pro něj rovna nule. Zbylé dva stacionární body  $[\frac{\pi}{3}, \frac{\pi}{3}]$ ,  $[-\frac{\pi}{3}, -\frac{\pi}{3}]$  jsou lokální minimum a maximum zadané funkce. Nyní je potřeba si uvědomit, že funkce sinus je periodická s periodou  $2\pi$ , takže těchto lokálních extrémů je vlastně nekonečně

mnoho a všechny jsou současně i extrémy globálními na celém definičním oboru. V zadání byla specifikována množina  $M$ , a tak je potřeba omezit množinu těchto extrémů tak, aby vyhovovala zadání, tj. absolutní maxima jsou body  $[\frac{\pi}{3} + 2 \cdot k \cdot \pi, \frac{\pi}{3} - 2 \cdot l \cdot \pi]$  pro  $k, l \in \mathbb{N}_0$ , absolutní minima jsou body  $[\frac{5\pi}{3} + 2 \cdot k \cdot \pi, -\frac{\pi}{3} - 2 \cdot l \cdot \pi]$  pro  $k, l \in \mathbb{N}_0$ .

Příklad 3.37: Řešíme naprosto stejným postupem jako v příkladu 3.36. Hledaná kladná čísla jsou:  $x = y = z = 4$ .

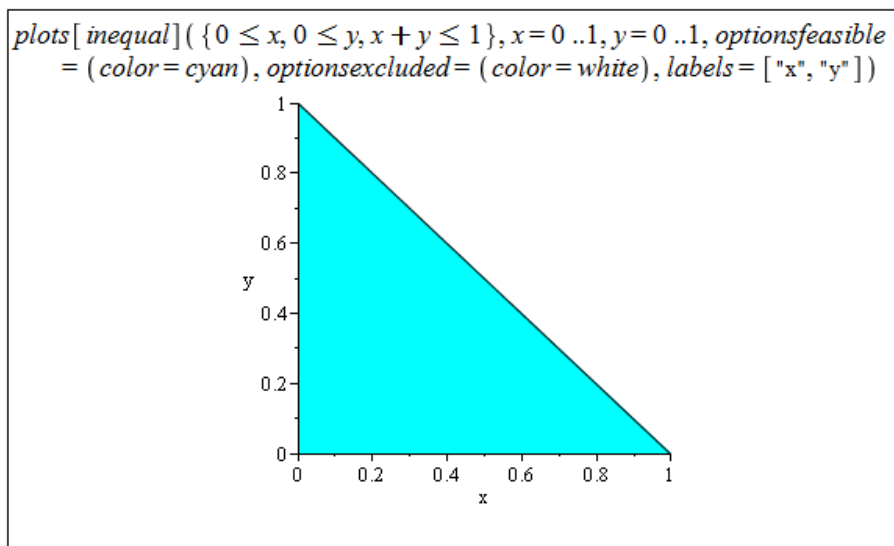
Příklad 3.38: Opět postupujeme stejně jako v příkladu 3.36. Minimalizujeme funkci  $f(x, y) = x + y + \frac{50}{\sqrt{x \cdot y}}$  pro  $x > 0, y > 0$ . Nejmenší možný součet takových čísel je 20 pro  $x = 5, y = 5, z = 10$ .

Příklad 3.39: Vzdálenost bodu o souřadnicích  $[x, y, z]$  od počátku souřadného systému je:  $\sqrt{x^2 + y^2 + z^2}$ . Tento součet musíme minimalizovat pro  $z = x \cdot y - 1$ . Přepisem analogickým k předchozím příkladům dostáváme úlohu minimalizovat funkci  $f(x, y) = \sqrt{x^2 + y^2 + (x \cdot y - 1)^2}$  na celém jejím definičním oboru. K tomu můžeme využít příkaz `minimize`. Nejblíže počátku je bod  $[0, 0, -1]$ .

Příklad 3.40: Hledáme rovnici přímky  $y = k \cdot x + q$ , tj. reálná čísla  $k$  a  $q$ , pro něž platí, že  $S = (q - 2)^2 + (k + q - 3)^2 + (2 \cdot k + q - 5)^2$  je minimální. Můžeme opět využít příkazu `minimize` a dostáváme:  $k = \frac{3}{2}, q = \frac{11}{6}$ .

Příklad 3.42: U každého případu vykreslíme množinu  $\Omega$  a z obrázku určíme meze dvojnásobného integrálu.

(a)



Obrázek 5.35: Zobrazení množiny  $\Omega$  z příkladu 3.42.(a).

Můžeme volit následující:

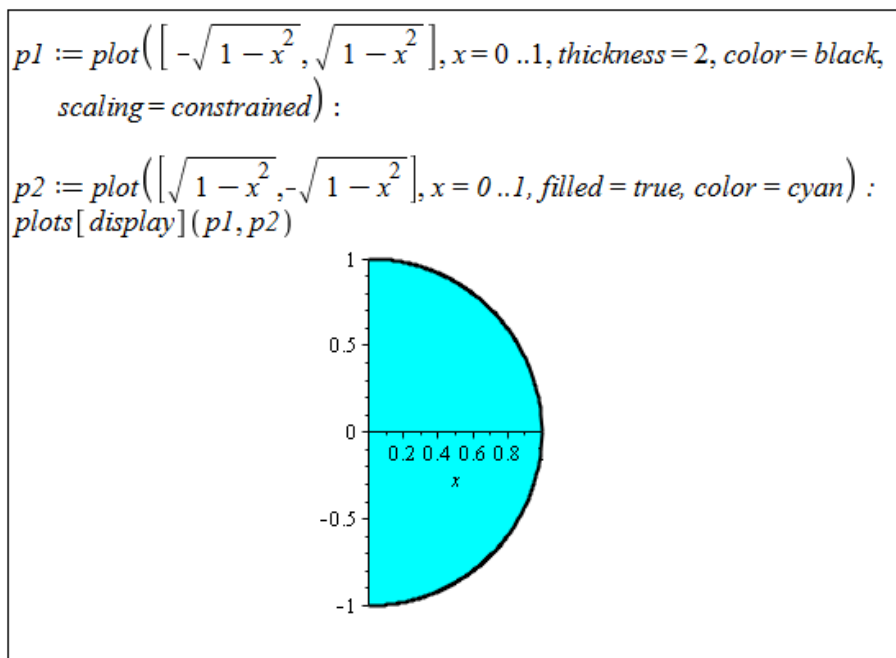
1.  $0 \leq x \leq 1, 0 \leq y \leq x$ ,
2.  $0 \leq y \leq 1, 0 \leq x \leq y$ .



Celkem tak získáváme:

$$I = \iint_{\Omega} f(x, y) dx dy = \int_0^1 \int_0^x f(x, y) dy dx = \int_0^1 \int_0^y f(x, y) dx dy.$$

(b)



Obrázek 5.36: Zobrazení množiny  $\Omega$  z příkladu 3.42.(b).

Můžeme volit následující:

$$1. \quad 0 \leq x \leq 1, -\sqrt{1-x^2} \leq y \leq \sqrt{1-x^2}.$$

Celkem tak získáváme:

$$I = \iint_{\Omega} f(x, y) dx dy = \int_0^1 \int_{-\sqrt{1-x^2}}^{\sqrt{1-x^2}} f(x, y) dy dx.$$

(c)

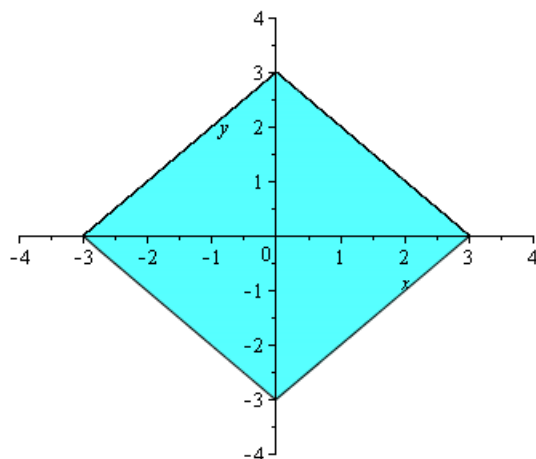
Můžeme volit následující:

$$1. \quad \begin{aligned} -3 < x \leq 0, -x-3 < y < x+3, \\ 0 \leq x < 3, x-3 < y < -x+3. \end{aligned}$$

Celkem tak získáváme:

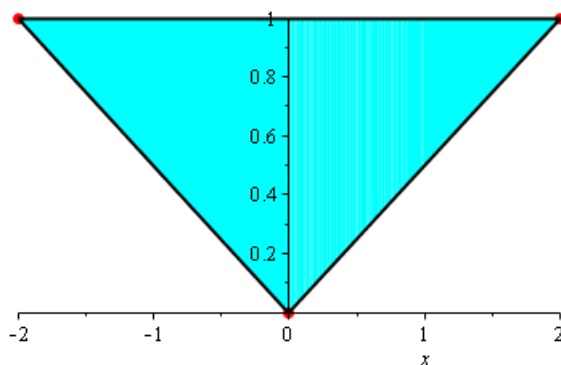
$$I = \iint_{\Omega} f(x, y) dx dy = \int_{-3}^0 \int_{-x-3}^{x+3} f(x, y) dy dx + \int_0^3 \int_{x-3}^{-x+3} f(x, y) dy dx.$$

```
plots[implicitplot](|x| + |y| ≤ 3, x=-4..4, y=-4..4, view = [-4..4, -4..4], coloring = [cyan, white], filled = true, thickness = 1, gridrefine = 6)
```



Obrázek 5.37: Zobrazení množiny  $\Omega$  z příkladu 3.42.(c).

```
p1 := plots[pointplot]([[2, 1], [-2, 1], [0, 0]], color = red, symbolsize = 20, symbol = solidcircle) :
p2 := plot([[1, x/2], x = 0..2, thickness = 2, color = black] :
p3 := plot([[1, -x/2], x = -2..0, thickness = 2, color = black] :
p4 := plot(1 + x/2, x = -2..0, filled = true, color = cyan) :
p5 := plot(1 - x/2, x = 0..2, filled = true, color = cyan) :
f1 := plottools[transform]((x, y) → [x, y - x/2]) :
f2 := plottools[transform]((x, y) → [x, y + x/2]) :
plots[display](p1, p2, p3, f1(p4), f2(p5))
```



Obrázek 5.38: Zobrazení množiny  $\Omega$  z příkladu 3.42.(d).

(d)

Můžeme volit následující:

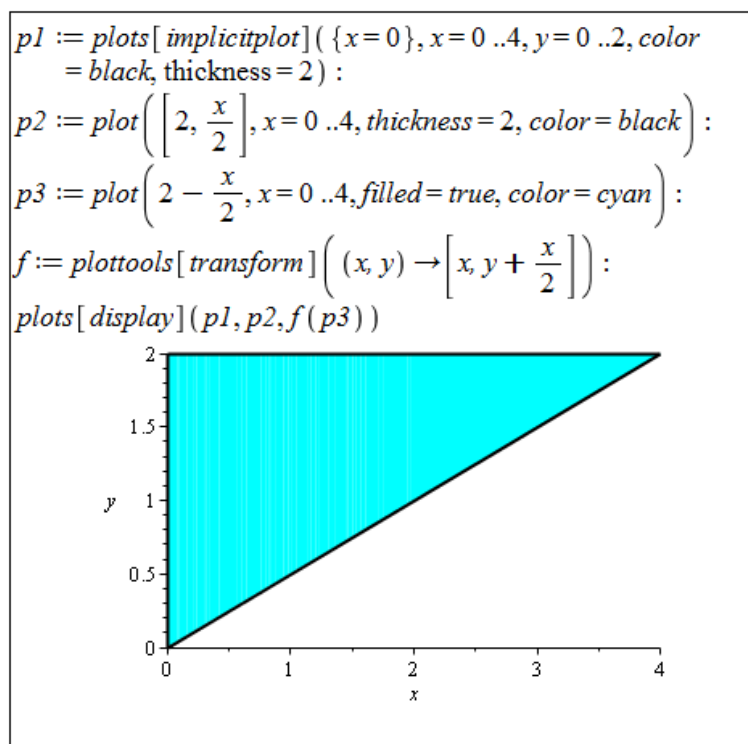
1.  $-2 \leq x \leq 0, -\frac{x}{2} \leq y \leq 1,$   
 $0 \leq x \leq 2, \frac{x}{2} \leq y \leq 1.$

Celkem tak získáváme:

$$I = \iint_{\Omega} f(x, y) dx dy = \int_{-2}^0 \int_{-\frac{x}{2}}^1 f(x, y) dy dx + \int_0^2 \int_{\frac{x}{2}}^1 f(x, y) dy dx.$$

Příklad 3.43: Podobně jako v předchozím příkladu si nejprve zobrazíme množinu ohraničenou integračními mezemi a následně množinu vyjádříme v obráceném pořadí mezí.

(a)



Obrázek 5.39: Zobrazení množiny ohraničené integračními mezemi z příkladu 3.43.(a).

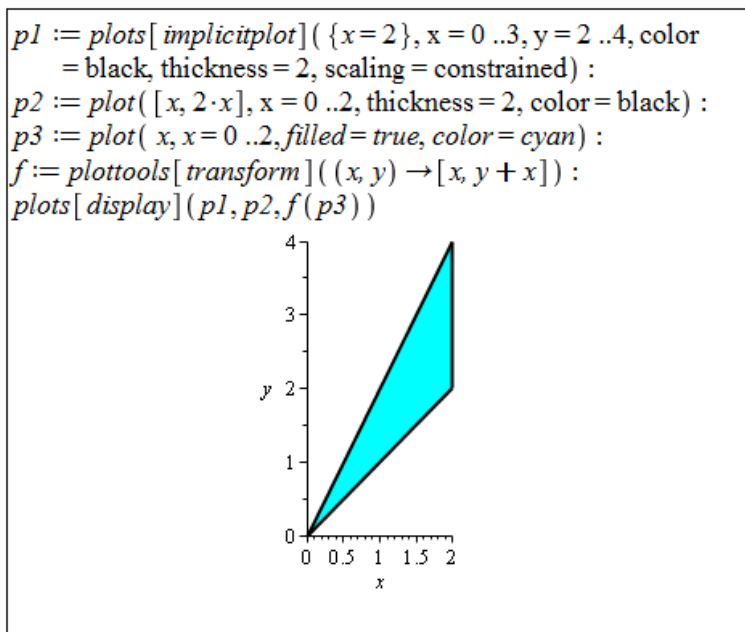
Přepis množiny v obráceném pořadí proměnných:

$$0 \leq y \leq 2, 0 \leq x \leq 2 \cdot y.$$

Celkem tak získáváme:

$$\int_0^4 \int_{\frac{x}{2}}^2 f(x, y) dy dx = \int_0^2 \int_0^{2 \cdot y} f(x, y) dx dy.$$

(b)



Obrázek 5.40: Zobrazení množiny ohraničené integračními mezemi z příkladu 3.43.(b).

Přepis množiny v obráceném pořadí proměnných:

$$0 \leq y \leq 2, \frac{y}{2} \leq x \leq y,$$
$$2 \leq y \leq 4, \frac{y}{2} \leq x \leq 2.$$

Celkem tak získáváme:

$$\int_0^2 \int_x^{2x} f(x, y) dy dx = \int_0^2 \int_{\frac{y}{2}}^y f(x, y) dx dy + \int_2^4 \int_{\frac{y}{2}}^2 f(x, y) dx dy.$$

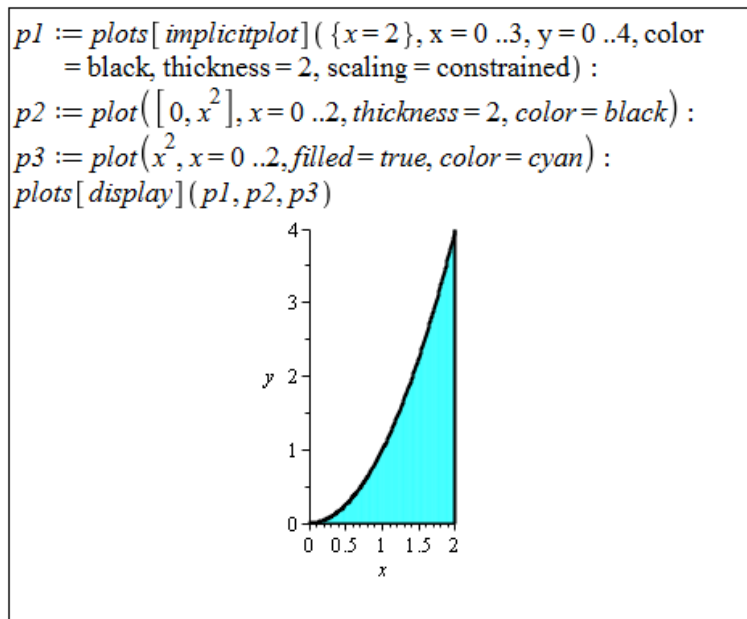
(c)

Přepis množiny v obráceném pořadí proměnných:

$$0 \leq y \leq 4, \sqrt{y} \leq x \leq 2.$$

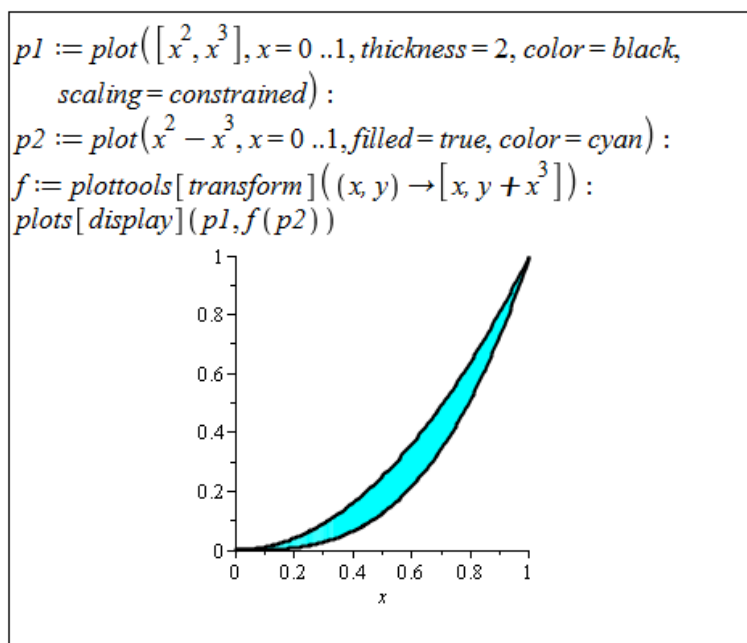
Celkem tak získáváme:

$$\int_0^2 \int_0^{x^2} f(x, y) dy dx = \int_0^4 \int_{\sqrt{y}}^2 f(x, y) dx dy.$$



Obrázek 5.41: Zobrazení množiny ohraničené integračními mezemi z příkladu 3.43.(c).

(d)



Obrázek 5.42: Zobrazení množiny ohraničené integračními mezemi z příkladu 3.43.(d).

Přepis množiny v obráceném pořadí proměnných:

$$0 \leq y \leq 1, \sqrt{y} \leq x \leq \sqrt[3]{y}.$$

Celkem tak získáváme:

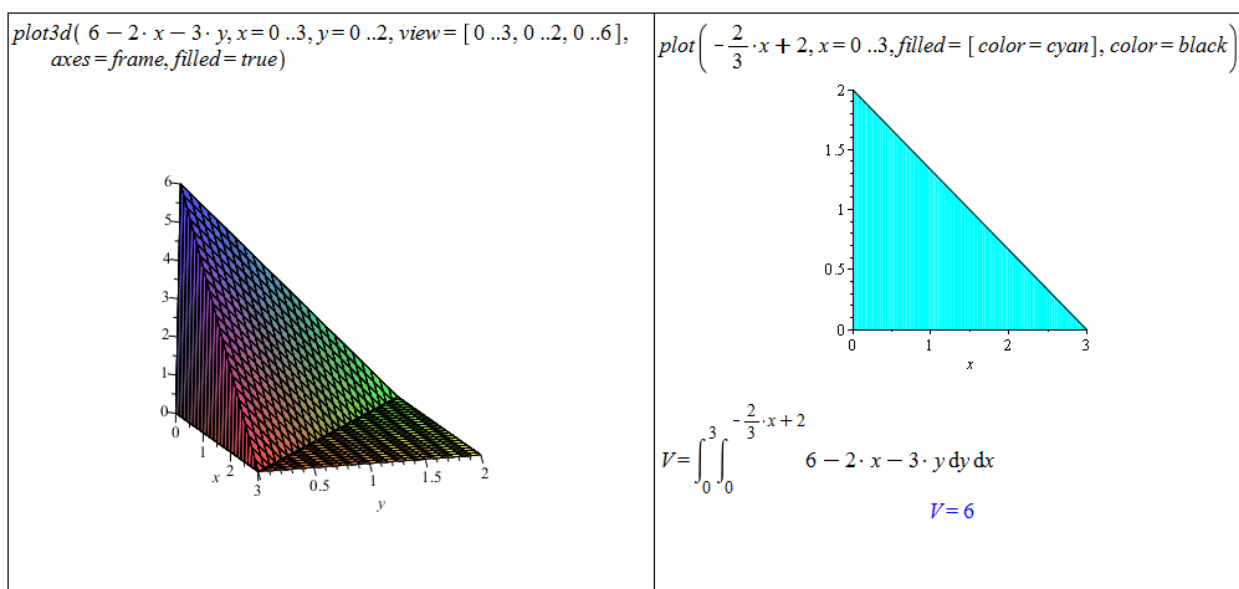
$$\int_0^1 \int_{x^3}^{x^2} f(x, y) dy dx = \int_0^1 \int_{\sqrt[3]{y}}^{\sqrt{y}} f(x, y) dx dy.$$

Příklad 3.45: Řešení je velice jednoduché. U příkladu 3.42 stačí dosadit  $f(x, y) = 1$  do integrálů, které jsme získali řešením příkladu. U příkladu 3.43 stačí dosadit  $f(x, y) = 1$  jak do zadání, tak do řešení příkladu.

Příklad 3.46: Vyjdeme z rovnice kružnice o poloměru  $r$ :  $x^2 + y^2 = r^2$ . Jestliže postupujeme od proměnné  $x$ , meze prvního integrálu jsou zřejmé:  $x \in [-1, 1]$ . Následně potřebujeme vyjádřit meze proměnné  $y$ , což provedeme právě z rovnice kružnice:  $y \in [-\sqrt{r^2 - x^2}, \sqrt{r^2 - x^2}]$ . Podle vztahu v poznámce 3.20 již jednoduše pomocí systému Maple určíme požadovaný obsah kruhu.

Příklad 3.47: Postupujeme analogicky předchozímu příkladu. Tentokrát vyjdeme z rovnice elipsy:  $\frac{x^2}{a^2} + \frac{y^2}{b^2} = 1$ . Proměnná  $x$  nyní nabývá hodnot z intervalu  $[-a, a]$ , pro meze proměnné  $y$  platí:  $y \in \left[-b \cdot \sqrt{1 - \frac{x^2}{a^2}}, b \cdot \sqrt{1 - \frac{x^2}{a^2}}\right]$ .

Příklad 3.49: Ve všech případech je vhodné pro získání představy vykreslit alespoň náznak tvaru získaného tělesa. Dále je vhodné si zobrazit podstavu tělesa, z níž odvodíme integrační meze. Dvojný integrál nám následně spočítá systém Maple, jen v případě (c) nezískáme přesnou (symbolickou) hodnotu a musíme použít příkaz `evalf`.

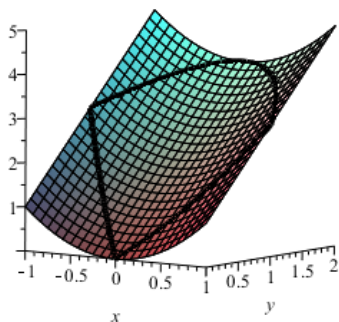


Obrázek 5.43: Řešení příkladu 3.49.(a).

```

p1 := plot3d(x^2 + 2*y, x = -1 .. 1, y = 0 .. 2, view = [
-1 .. 1, 0 .. 2, 0 .. 5], axes = frame) :
p2 := plots[spacecurve]([x, x, x^2 + 2*x], x = 0 .. 1,
color = black, axes = frame, thickness = 4) :
p3 := plots[spacecurve]([x, -x, x^2 - 2*x], x = -1 .. 0,
color = black, axes = frame, thickness = 4) :
p4 := plots[spacecurve]([x, 2 - x^2, 4 - x^2], x = -1
.. 1, color = black, axes = frame, thickness = 4) :
plots[display](p1, p2, p3, p4)

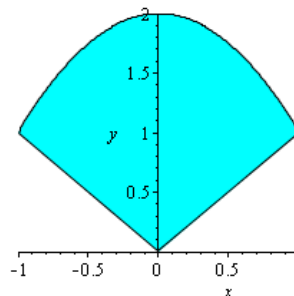
```



```

p1 := plot([2 - x^2, |x|], x = -1 .. 1, y = 0 .. 2, color = black) :
p2 := plot(2 - x^2 + x, x = -1 .. 0, filled = true, color = cyan) :
p3 := plot(2 - x^2 - x, x = 0 .. 1, filled = true, color = cyan) :
f1 := plottools[transform]((x, y) -> [x, y - x]) :
f2 := plottools[transform]((x, y) -> [x, y + x]) :
plots[display](p1, f1(p2), f2(p3))

```



$$V = \int_{-1}^0 \int_{-x}^{2-x^2} (x^2 + 2y) dy dx + \int_0^1 \int_x^{2-x^2} (x^2 + 2y) dy dx$$

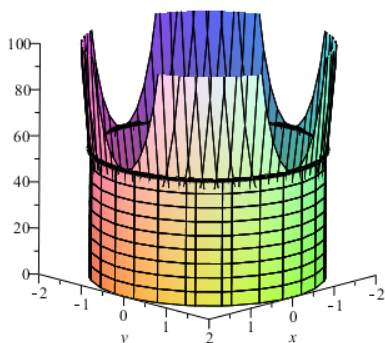
$$V = \frac{11}{2}$$

Obrázek 5.44: Řešení příkladu 3.49.(b).

```

p1 := plot3d(e^(x^2 + y^2), x = -2 .. 2, y = -2 .. 2, view = [-2
.. 2, -2 .. 2, 0 .. 100], axes = frame) :
p2 := plots[spacecurve]([2*cos(t), 2*sin(t), e^4], t = 0
.. 2*pi, color = black, axes = frame, thickness = 4) :
p3 := plots[implicitplot3d](x^2 + y^2 = 4, x = -2 .. 2, y = -2
.. 2, z = 0 .. e^4, axes = frame) :
plots[display](p1, p2, p3)

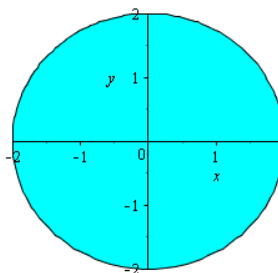
```



```

p1 := plots[implicitplot]([x^2 + y^2 = 4], x = -2 .. 2, y = -2 .. 2, color = black) :
p2 := plot([sqrt(4 - x^2), -sqrt(4 - x^2)], x = -2 .. 2, filled = true, color = cyan) :
f := plottools[transform]((x, y) -> [x, y - sqrt(4 - x^2)]) :
plots[display](p1, p2)

```



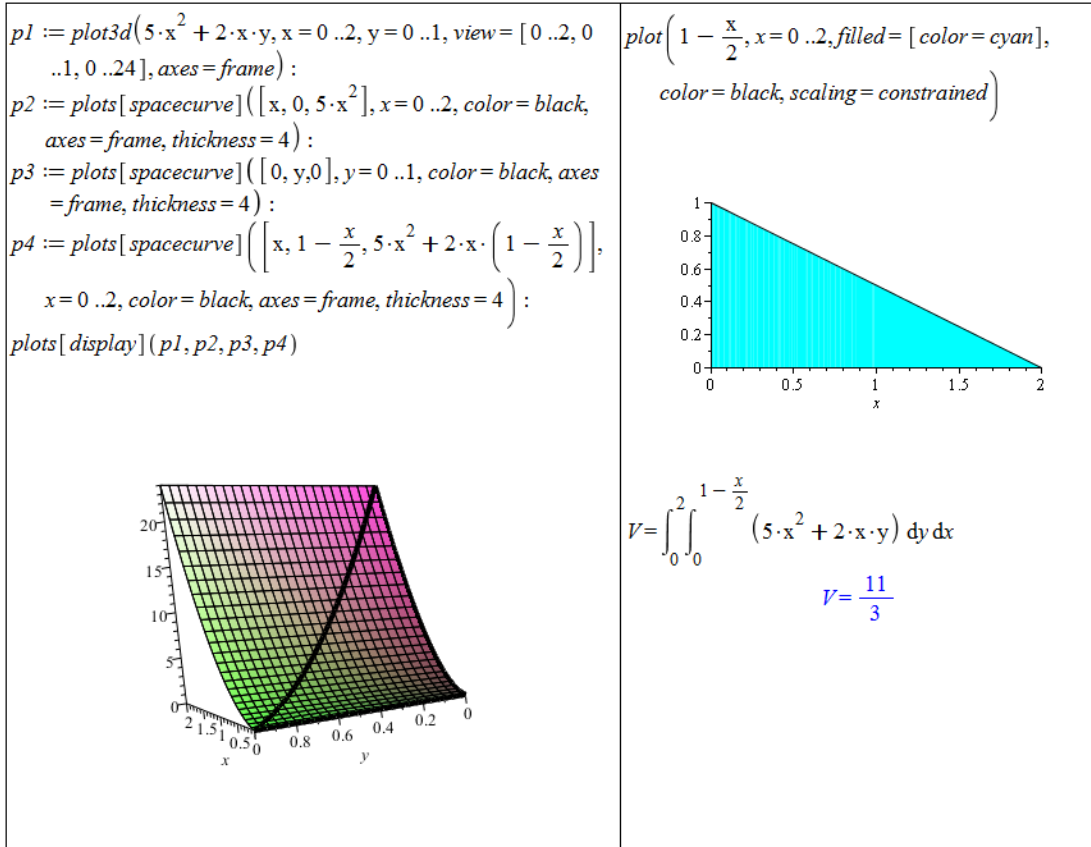
$$V = \int_{-2}^2 \int_{-\sqrt{4-x^2}}^{\sqrt{4-x^2}} e^{x^2 + y^2} dy dx$$

$$V = \int_{-2}^2 \left( -\text{Erfi}\left(\sqrt{4-x^2}\right) e^{x^2} \sqrt{\pi} \right) dx$$

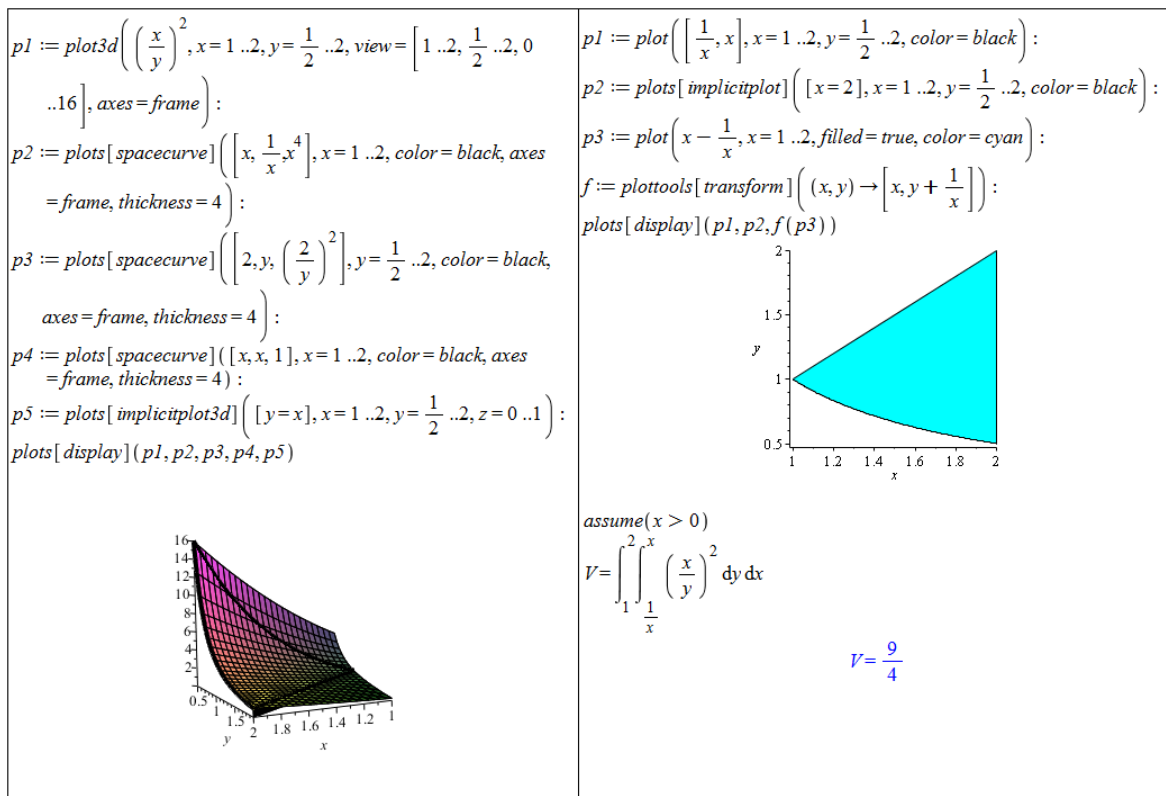
evalf(%)

$$V = 168.3835544$$

Obrázek 5.45: Řešení příkladu 3.49.(c).



Obrázek 5.46: Řešení příkladu 3.49.(d).



Obrázek 5.47: Řešení příkladu 3.49.(e).



Příklad 3.50: Kvádr je třeba vhodně umístit do souřadné soustavy – například tak, že spodní roh podstavy dáme do bodu  $[0, 0, 0]$ , zbylé rohy podstavy budou v bodech  $[a, 0, 0]$ ,  $[0, b, 0]$  a  $[a, b, 0]$ . Výška kvádru bude rovna  $c$ . Z toho vyplývá, že funkce ohraničující kvádr je konstantní funkce  $f(x, y) = c$  a podstavu kvádru můžeme přepsat do mezí následovně:  $x \in [0, a], y \in [0, b]$ .

Příklad 3.51: Je potřeba znát rovnici koule:  $x^2 + y^2 + z^2 = r^2$ . Koule vyjádřená touto rovnicí má střed v počátku souřadné soustavy. Její objem určíme tak, že spočítáme objem její horní poloviny (která leží nad rovinou  $z = 0$ ) a ten vynásobíme dvěma. Plášť horní poloviny koule je popsán funkcí  $f(x, y) = \sqrt{r^2 - x^2 - y^2}$ , podstava je tvořena kruhem popsáným nerovnicí  $x^2 + y^2 \leq r^2$ . Integrační meze tak můžeme zapsat následovně:  $x \in [-r, r], y \in [-\sqrt{r^2 - x^2}, \sqrt{r^2 - x^2}]$ .

Příklad 3.52: Opět je potřeba vhodně umístit válec do souřadného systému. Můžeme například podstavu válce umístit do roviny  $z = 0$  tak, že její střed je v počátku souřadné soustavy. Podstava je pak popsána nerovnicí  $x^2 + y^2 \leq r^2$  a je možné ji přepsat do integračních mezí následovně:  $x \in [-r, r], y \in [-\sqrt{r^2 - x^2}, \sqrt{r^2 - x^2}]$ . Válec je shora ohraničen konstantní funkcí  $f(x, y) = v$ .

Příklad 3.54: Postupujeme stejným způsobem jako v příkladu 3.53.

Výsledky:

(a)  $S = 3 \cdot \sqrt{14}$ ,

(b)  $S = -\frac{15}{16} + \frac{185}{128} \cdot \ln(5) + \frac{5}{6} \cdot \sqrt{5} + \frac{185}{64} \cdot \operatorname{arcsinh}\left(\frac{2}{5} \cdot \sqrt{5}\right) \doteq 5.58$ ,

(c) příslušný integrál musíme vyhodnotit numericky,  $S \doteq 583.77$ ,

(d) příslušný integrál musíme vyhodnotit numericky,  $S \doteq 7.57$ ,

(e) příslušný integrál musíme vyhodnotit numericky,  $S \doteq 6.00$ .

Příklad 3.55: Kouli umístíme opět středem do počátku souřadného systému. Povrch horní poloviny koule je pak popsán funkcí  $f(x, y) = \sqrt{r^2 - x^2 - y^2}$ . Integrační meze můžeme zapsat následovně:  $x \in [-r, r], y \in [-\sqrt{r^2 - x^2}, \sqrt{r^2 - x^2}]$ . Získaný výsledek je třeba vynásobit dvěma (neboť počítáme povrch pouze horní poloviny koule).

Příklad 3.56: Povrch horní poloviny koule je popsán funkcí  $f(x, y) = \sqrt{25 - x^2 - y^2}$ . Dále je třeba odvodit integrační meze. Rovina  $z = 2$  protne kouli v bodech kružnice popsané rovnicí  $x^2 + y^2 = 21$  a rovina  $z = 4$  protne kouli v bodech kružnice popsané rovnicí  $x^2 + y^2 = 9$ . Množina  $\Omega$  je tedy prstencového tvaru vymezená kružnicemi o poloměrech  $\sqrt{21}$  a 3. Díky symetrii celého tělesa je možné zabývat se pouze prvním oktantem a výsledek vynásobit čtyřmi. Integrační meze (meze části množiny  $\Omega$ ) bychom pak zapsali následovně:  $x \in [0, 3], y \in [\sqrt{9 - x^2}, \sqrt{21 - x^2}] \cup x \in [3, \sqrt{21}], y \in [0, \sqrt{21 - x^2}]$ .

Pro získání symbolického výsledku je třeba převést integrál do polárních souřadnic, např. příkazem `ChangeOfVariables` z balíku `Student[MultivariateCalculus]`. Maple to nezvládne dokonale, a tak je potřeba následně zapsat do polárních souřadnic ještě množinu  $\Omega$  (pro získání integračních mezí). V polárních souřadnicích je navíc jednodušší množinu  $\Omega$  zapsat, a tak ji přepíšeme rovnou celou. Pro poloměr  $r$  platí:  $3 \leq r \leq \sqrt{21}$ , a pro úhel  $\theta$ :  $0 \leq \theta \leq 2 \cdot \pi$ .

$$f(x, y) := \sqrt{25 - x^2 - y^2}$$

$$(x, y) \rightarrow \sqrt{25 - x^2 - y^2}$$

$$\text{Student}[\text{MultivariateCalculus}][\text{ChangeOfVariables}] \left( \int_0^3 \int_{\sqrt{9-x^2}}^{\sqrt{21-x^2}} \left( \sqrt{1 + \left( \frac{\partial}{\partial x} f(x, y) \right)^2 + \left( \frac{\partial}{\partial y} f(x, y) \right)^2} \right) dy dx, \right.$$

$$\left. [\text{cartesian}_{x,y}, \text{polar}_{r,\theta}] \right)$$

$$\int_{x=0}^{x=3} \int_{y=\sqrt{9-x^2}}^{y=\sqrt{21-x^2}} 5 \sqrt{-\frac{1}{-25+r^2}} r dr d\theta$$

$$\int_3^{\sqrt{21}} \int_0^{2\cdot\pi} 5 \sqrt{-\frac{1}{-25+r^2}} r d\theta dr$$

$$20\pi$$

Obrázek 5.48: Řešení příkladu 3.56

Příklad 3.58: Můžeme využít dvojných integrálů již získaných při řešení příkladu 3.48 a pouze funkci  $f(x, y)$  „přepsat“ do mezí pro proměnnou  $z$  v třetím integrálu. Zřejmě platí:

- (a)  $z \in [0, x^2 + y^2]$ ,
- (b)  $z \in [0, 64 - x^2]$ .

Příklad 3.59: Postupujeme analogicky k řešení příkladu 3.50. Kvádr vhodně umístíme do souřadné soustavy a jeho meze pak můžeme zapsat následovně:  $x \in [0, a]$ ,  $y \in [0, b]$ ,  $z \in [0, c]$ .

Příklad 3.60: Koule je speciálním případem trojosého elipsoidu z příkladu 3.57 pro  $a = b = c = r$ . Můžeme tedy pouze pozměnit tyto hodnoty v řešení v příkladu 3.57 a získáme vztah pro objem koule o poloměru  $r$ .

Příklad 3.61: Postupujeme analogicky k řešení příkladu 3.52. Válec vhodně umístíme do souřadné soustavy a jeho meze pak můžeme zapsat následovně:  
 $x \in [-r, r]$ ,  $y \in [-\sqrt{r^2 - x^2}, \sqrt{r^2 - x^2}]$ ,  $z \in [-v, v]$ .

Příklad 3.63: Zadaná funkce představuje plášť horní poloviny koule o poloměru  $r = 1$ . V příkladu tak počítáme objem horní poloviny koule o zmíněném poloměru a z předešlých příkladů víme, že by výsledek měl vyjít  $\frac{2\pi}{3}$ . Můžeme například zapsat dvojný integrál v kartézských souřadnicích a použít příkaz **ChangeOfVariables**. Nové integrační meze odvodíme velmi snadno, neboť se jedná o kruh o poloměru  $r = 1$ . Dostáváme tedy:  $r \in [0, 1]$ ,  $\theta \in [0, 2 \cdot \pi]$ .

Příklad 3.64: Ve všech příkladech (3.46, 3.51, 3.52, 3.60 a 3.61) jsme v tomto textu využili kartézských souřadnic. Nyní tedy provedeme příslušné výpočty v souřadnicích polárních, sférických a cylindrických.

V příkladu 3.46 počítáme obsah kruhu o poloměru  $r$ . V polárních souřadnicích můžeme kruh popsat následovně:  $x = \rho \cdot \cos(\theta)$ ,  $y = \rho \cdot \sin(\theta)$ , kde  $\rho \in [0, r]$ ,  $\theta \in [0, 2 \cdot \pi]$ . Podle poznámky 3.24 tak počítáme integrál

$$\int_0^{2 \cdot \pi} \int_0^r \rho \, d\rho \, d\theta.$$

Jak v příkladu 3.46, tak i nyní bychom měli obdržet tabulkový vzorec:  $S = \pi \cdot r^2$ .

V příkladu 3.51 počítáme objem koule o poloměru  $r$ . Využijeme polárních souřadnic, v nichž popíšeme podstavu horní polokoule následovně:  $x = \rho \cdot \cos(\theta)$ ,  $y = \rho \cdot \sin(\theta)$ , kde  $\rho \in [0, r]$ ,  $\theta \in [0, 2 \cdot \pi]$ . Podle poznámky 3.24 tak počítáme integrál

$$2 \cdot \int_0^{2 \cdot \pi} \int_0^r \rho \cdot \sqrt{r^2 - \rho^2 \cdot \cos^2(\theta) - \rho^2 \cdot \sin^2(\theta)} \, d\rho \, d\theta.$$

Jak v příkladu 3.51, tak i nyní bychom měli obdržet tabulkový vzorec:  $V = \frac{4}{3} \cdot \pi \cdot r^3$ .

V příkladu 3.52 počítáme objem válce o poloměru podstavy  $r$  a výšce  $v$ . Využijeme opět polárních souřadnic, v nichž popíšeme podstavu válce:  $x = \rho \cdot \cos(\theta)$ ,  $y = \rho \cdot \sin(\theta)$ , kde  $\rho \in [0, r]$ ,  $\theta \in [0, 2 \cdot \pi]$ . Podle poznámky 3.24 tak počítáme integrál

$$\int_0^{2 \cdot \pi} \int_0^r \rho \cdot v \, d\rho \, d\theta.$$

Jak v příkladu 3.52, tak i nyní bychom měli obdržet tabulkový vzorec:  $V = \pi \cdot r^2 \cdot v$ .

V příkladu 3.60 počítáme objem koule o poloměru  $r$ . Ve sférických souřadnicích můžeme kouli popsat následovně:  $x = \rho \cdot \cos(\phi) \cdot \sin(\theta)$ ,  $y = \rho \cdot \sin(\phi) \cdot \sin(\theta)$ ,  $z = \rho \cdot \cos(\theta)$ , kde  $\rho \in [0, r]$ ,  $\phi \in [0, 2 \cdot \pi]$ ,  $\theta \in [0, 2 \cdot \pi]$ . Podle poznámky 3.25 tak počítáme integrál

$$\int_0^{2 \cdot \pi} \int_0^{2 \cdot \pi} \int_{-r}^r \sin(\theta) \cdot \rho^2 \, d\rho \, d\phi \, d\theta.$$

Jak v příkladu 3.60, tak i nyní bychom měli obdržet tabulkový vzorec:  $V = \frac{4}{3} \cdot \pi \cdot r^3$ .

V příkladu 3.61 počítáme objem válce o poloměru podstavy  $r$  a výšce  $v$ . V cylindrických souřadnicích můžeme váleček popsat následovně:  $x = \rho \cdot \cos(\theta)$ ,  $y = \rho \cdot \sin(\theta)$ ,  $z = z$ , kde  $\rho \in [0, r]$ ,  $\theta \in [0, 2 \cdot \pi]$ ,  $z \in [0, v]$ . Podle poznámky 3.26 tak počítáme integrál

$$\int_0^{2 \cdot \pi} \int_0^r \int_0^v \rho \, dz \, d\rho \, d\theta.$$

Jak v příkladu 3.61, tak i nyní bychom měli obdržet tabulkový vzorec:  $V = \pi \cdot r^2 \cdot v$ .

Příklad 3.65: Všechny tři řady umí Maple „sečíst“.

$$(a) \sum_{n=1}^{\infty} \frac{1}{n \cdot (n+1)} = 1, \quad (b) \sum_{n=1}^{\infty} \frac{1}{n^2} = \frac{\pi^2}{6}, \quad (c) \sum_{n=1}^{\infty} \frac{1}{n} = \infty, \text{ řada diverguje.}$$

Příklad 3.68:

- (a)  $s_n = \sqrt{n}$ ,  $s = \lim_{n \rightarrow \infty} s_n = \infty \Rightarrow$  řada diverguje,
- (b)  $a_n = \frac{1}{\sqrt{n^2+2 \cdot n}} > \frac{1}{\sqrt{n^2+2 \cdot n+1}} = \frac{1}{\sqrt{(n+1)^2}} = \frac{1}{n+1}$ , řada  $\sum_{n=1}^{\infty} \frac{1}{n+1}$  diverguje  $\Rightarrow$  zadaná řada také diverguje,
- (c)  $a_n = \frac{\sqrt{n}}{\sqrt{n^4+1}} < \sqrt{\frac{1}{n^3}}$ , řada  $\sum_{n=1}^{\infty} \sqrt{\frac{1}{n^3}}$  konverguje  $\Rightarrow$  konverguje i zadaná řada,
- (d) použijeme limitní srovnávací kritérium a budeme srovnávat s řadou  $\sum_{n=1}^{\infty} \frac{1}{n^2}$ , o níž víme, že konverguje,
- (e) použijeme limitní verzi podílového kritéria a zjistíme, že řada konverguje,
- (f) využijeme opět limitní verze podílového kritéria a zjistíme, že řada diverguje,
- (g) využijeme limitní verze odmocninového kritéria a zjistíme, že zadaná řada konverguje,
- (h) využijeme limitní verze podílového kritéria a zjistíme, že zadaná řada konverguje,
- (i) stačí zadat systému Maple a zjistíme, že zadaná řada konverguje; jinak je možné použít například integrální kritérium.

Příklad 3.71:

- (a) Jak součet zadané řady, tak součet řady absolutních hodnot umí určit Maple přímo. Zadaná řada konverguje absolutně.
- (b) Součet zadané řady i řady absolutních hodnot opět určí Maple přímo (i když je potřeba se „nevyděsit“ vypsáním tvarem výsledku pro součet zadané řady). Zadaná řada konverguje neabsolutně.
- (c) Pomocí Leibnizova kritéria zjistíme, že zadaná řada konverguje. Pomocí integrálního kritéria ověříme, že řada absolutních hodnot diverguje. Zadaná řada proto konverguje neabsolutně.
- (d) Pomocí Leibnizova kritéria zjistíme, že zadaná řada konverguje. Srovnávacím kritériem s řadou  $\sum_{n=1}^{\infty} \frac{1}{n}$  ověříme, že řada absolutních hodnot diverguje. Zadaná řada proto konverguje neabsolutně.
- (e) Pomocí limitní varianty odmocninového kritéria zjistíme, že řada absolutních hodnot konverguje. Zadaná řada proto konverguje absolutně.
- (f) V příkladu 3.67.(c) jsme zjistili, že řada absolutních hodnot zadané řady konverguje, tedy zadaná řada konverguje absolutně.

# Rejstřík

- ?, 13
- %, 16
  
- abs, 11
- absolutní konvergence řady, 143
- All values, 22
- AllSolutions, 21
- allvalues, 22
- alternující řada, 142
- animate, 43
- apply, 32
- Approximate Integration, 74, 130
- ApproximateInt, 130
- assign, 17
- assume, 25, 86
- assuming, 26
- Asymptotes, 65
- axes, 40
  
- bod uzávěru, 113
  
- Change, 69
- changecoords, 120, 134
- ChangeOfVariables, 120, 134
- Classic Worksheet, 5
- coeff, 26
- collect, 26
- color, 40
- combine, 25
- contourplot, 94
- contours, 94, 176
- convert, 26, 56, 69
- CriticalPoints, 65
  
- D, 51, 100
- definiční obor, 33
- Determinant, 109
- diff, 51, 99
- Digits, 14, 17
- DirectionalDerivative, 103
- discont, 48, 60, 62, 63, 98
- display, 81, 101
- divergence řady, 135
  
- Document Mode, 7
- dolní integrál, 71
- dolní integrální součet, 70
- Drawing, 40
- dsolve, 21
  
- Error, (in plot) ..., 149
- Error, illegal use of an object as a name, 147
- Error, invalid assignment, 146
- Error, invalid input, 145
- Error, invalid operator parameter name, 149
- Error, invalid power, 147
- Error, numeric exception: division by zero, 147
- Error, unable to match delimiters, 146
- eval, 30, 31, 51, 109
- evalb, 35
- evalf, 14, 15, 22
- expand, 26, 30
- extrema, 60, 109, 113, 114
- ExtremePoints, 65
  
- factor, 26
- frames, 43
- fsolve, 21
- FunctionChart, 65
  
- gridlines, 89
- gridrefine, 89, 91, 93
  
- hessián, 109
- Hessian, 109
- Hessova matice, 109
- hlavní menu, 5
- horní integrál, 71
- horní integrální součet, 71
  
- implicitplot, 89, 91, 93, 121
- implicitplot3d, 100
- inequal, 91, 121
- InflectionPoints, 65
- Int, 68, 119
- int, 67, 72, 119

integrální kritérium, 140  
 integrační konstanta, 66  
 IntegrationTools, 68, 69  
 integrovatelná funkce, 72  
 intsolve, 21  
 InversePlot, 36  
 InverseTutor, 36  
 invfunc, 36  
 isolve, 21  
  
 kernelopts(maxdigits), 14  
 kontextová lišta, 5  
 konvergence řady, 135  
  
 labels, 40  
 lcm, 15  
 legend, 40  
 Leibnizovo kritérium, 143  
 limit, 46, 95  
 limitní Raabeovo kritérium, 140  
 limitní srovnávací kritérium, 139  
 LinearAlgebra, 18, 109  
 LinearSolve, 21  
  
 Maclaurinův vzorec, 56  
 Maclaurinův zbytek, 56  
 Maple Help, 11  
 Math Mode, 7  
 Maximize, 111, 113  
 maximize, 34, 111, 113, 114  
 metoda per partes, 67  
 Minimize, 111, 113  
 minimize, 34, 111–114  
 msolve, 21  
 mtaylor, 107  
 MultiInt, 120  
  
 nástrojová lišta, 5  
 neabsolutní konvergence řady, 143  
 nekonečná řada, 135  
 neurčitý integrál, 66  
 normal, 25  
 numpoints, 89  
  
 obor hodnot, 33  
 odmocninové kritérium, 140  
 ohraničená funkce, 33  
 Optimization, 111, 113  
 Order, 56, 107  
 oscilace řady, 135  
  
 palety, 5, 9  
  
 parfrac, 69  
 Parts, 68  
 pdsolve, 21  
 Pi, 10  
 piecewise, 32  
 Plot, 40  
 plot, 40, 62, 135  
 Plot Builder, 40  
 plot3d, 80, 81, 88, 89, 94, 100, 101, 106  
 PlotBuilder, 88  
 plots, 43, 91, 101, 106, 121  
 plottools, 76, 121  
 podílové kritérium, 140  
 pointplot3d, 101, 106  
 polygonplot, 182  
 posloupnost, 135  
 posloupnost částečných součtů, 135  
 primitivní funkce, 66  
  
 RealDomain, 19, 34  
 restart, 17  
 Riemannův integrál, 72  
 RiemannSum, 72, 130  
 Roots, 65  
 rsolve, 21  
  
 seq, 135  
 simplify, 20, 25, 26, 30  
 singular, 98  
 solve, 20, 60, 76  
 sort, 26  
 spacecurve, 101, 113, 114  
 sqrt, 10  
 srovnávací kritérium, 139  
 stacionární body, 59  
 Standard Worksheet, 4  
 stavová lišta, 5  
 Student[Calculus1], 36, 65, 72, 84  
 Student[MultivariateCalculus], 103, 120, 130  
 subs, 69  
 substituční metoda, 67  
 Sum, 135  
 sum, 135  
  
 taylor, 56, 107  
 Taylorův polynom, 55, 107  
 Taylorův vzorec, 55, 107  
 Taylorův zbytek, 55, 107  
 Text Mode, 7  
 thickness, 40

trace, 43  
transform, 76, 121  
type, 146

unapply, 31, 51, 72  
unassign, 17  
Units, 20  
Units Calculator, 20  
unwith, 18  
uzávěr množiny, 113  
uzavřená množina, 113

value, 68, 69  
VectorCalculus, 109  
verify, 35

Warning, solutions may have been lost, 151  
Warning, unable to determine if ..., 151  
What Assumptions, 22  
with, 18, 109  
Worksheet Mode, 7

# Literatura

- [1] Ash, C., Ash, R. B.: *The Calculus Tutoring Book*. Wiley-IEEE Press (1993)
- [2] Došlá, Z., Došlý, O.: *Diferenciální počet funkcí více proměnných*. Masarykova Univerzita, Brno (1999)
- [3] Došlá, Z., Plch, R., Sojka, P.: *Nekonečné řady s programem Maple*. Masarykova Univerzita, Brno (2002)
- [4] Hamhalter, J., Tišer, J.: *Integrální počet funkcí více proměnných*. ČVUT, Praha (2005) [online]. [cit 2010-12-27]. Dostupný z WWW: <<http://math.feld.cvut.cz/tiser/intpocet.htm>>
- [5] Hřebíček, J., Pospíšil, Z., Urbánek, J.: *Úvod do matematického modelování s využitím Maple*. CERM, Brno (2010)
- [6] Hummelová, I., Hamříková, R., Janků, V., Tannenbergová, M., Dostálová, M., Dudková, K., Dudek, J.: *ZÁKLADY MATEMATIKY pro kombinované a distanční studium*. Fakulta elektrotechniky a informatiky, VŠB – Technická univerzita Ostrava, 2003. [online]. [cit 2010-08-28]. Dostupný z WWW: <[http://cementarna.ic.cz/matematika\\_prehled/](http://cementarna.ic.cz/matematika_prehled/)>
- [7] Kalus, R., Hrivňák, D.: *Breviář vyšší matematiky*. Ostravská univerzita, Ostrava 2001. [online]. [cit 2010-12-31]. Dostupný z WWW: <<http://artemis.osu.cz/skripta/kalus1/intro.pdf>>
- [8] Kouřilová-Šnyrychová, P.: *Dvojný Riemannův integrál*. [online]. [cit 2010-12-27]. Dostupný z WWW: <<http://kma.me.sweb.cz/dvoj-integr%C3%A1l.pdf>>
- [9] Maplesoft: *Maple User Manual*. [online]. [cit 2010-08-17] Dostupný z WWW: <[http://www.maplesoft.com/documentation\\_center](http://www.maplesoft.com/documentation_center)>
- [10] Ústav Matematiky FSI VUT Brno: *MATEMATIKA online*. [online]. [cit 2010-08-17] Dostupný z WWW: <<http://mathonline.fme.vutbr.cz/>>
- [11] Mendelson, E.: *3000 Solved Problems in Calculus*. McGraw-Hill (1988)
- [12] Novák, V.: *Diferenciální počet v R*. Masarykova univerzita, Brno (1997)
- [13] Plch, R., Došlá, Z., Sojka, P.: *Matematická analýza s programem Maple. Díl 1, Diferenciální počet funkcí více proměnných*. Masarykova Univerzita, Brno (1999)