

# **Drsná matematika**

Martin Panák, Jan Slovák a „autorský kolektiv“

Projekt netradiční základní učebnice matematiky pro studenty přírodních věd, informatiky, ekonomie apod., přibližující podstatnou část matematiky v rozsahu čtyř semestrálních přednášek.

Text by měl být dokončen a vydán v roce 2013. Práce na učebnici jsou podpořeny projektem Univerzitní výuka matematiky v měnícím se světě (CZ.1.07/2.2.00/15.0203)



INVESTICE DO ROZVOJE VZDĚLÁVÁNÍ

## Obsah

Kapitola 1. Rozcvička	5
1. Čísla a funkce	5
2. Kombinatorické veličiny	10
3. Diferenční rovnice	15
4. Pravděpodobnost	18
5. Geometrie v rovině	27
6. Relace a zobrazení	42
Kapitola 2. Elementární lineární algebra	71
1. Vektory a matice	71
2. Determinanty	83
3. Vektorové prostory a lineární zobrazení	93
4. Vlastnosti lineárních zobrazení	111
Kapitola 3. Lineární modely a maticový počet	129
1. Lineární procesy	129
2. Diferenční rovnice	131
3. Iterované lineární procesy	138
4. Více maticového počtu	146
5. Rozklady matic a pseudoinverze	165
Kapitola 4. Analytická geometrie	189
1. Afinní a euklideovská geometrie	189
2. Geometrie kvadratických forem	207
3. Projektivní geometrie	213



## Předmluva

Příprava této učebnice byla motivována přednáškami pro inženýrské obory na Masarykově univerzitě, kde je celý program založen na precizním matematickém přístupu.

Chtěli jsme proto rychle, ale zároveň pořádně, pokrýt zhruba tolik matematických metod, jako je obvyklé u větších kurzů v klasických technických oborech opřených o matematické metody. Zároveň jsme ale nechtěli rezignovat na úplný a matematicky korektní výklad. Chtěli jsme vedle sebe vyložit i obtížnější partie matematiky a spoustu elementárních i obtížnějších konkrétních příkladů, jak s uvedenými postupy ve skutečnosti pracovat. Nechtěli jsme přitom za čtenáře řešit, v jakém pořadí a kolik „teorie“ či „praxe“ pročítat.

Z těchto podnětů vznikl dvousloupcový formát s oddělenými teoretickými úvahami a praktickými postupy, který kopíruje i skutečné rozdělení výkladu na přednáškách na „teoretické přednášky“ a „demonstrování cvičení“.

Snažíme se tím vyjít vstříc jak čtenářům, kteří si napřed chtějí procvičit postupy při řešení úloh a teprve pak přemýšlet, proč a jak algoritmy fungují, tak těm druhým, kteří si napřed chtějí dělat jasno o tom proč a jak věci fungují a pak případně zkouší počítat příklady. Zároveň tím snad zbavujeme čtenáře stresu, že by měl přečíst úplně vše. Naopak, měl by mít radost z brouzdání textem a prožitku objevování vlastní cestičky.

Text se přitom v obou svých částech snaží prezentovat standardní výklad matematiky s akcentem na smysl a obsah představovaných matematických metod. Řešené úlohy procvičují základní pojmy, ale zároveň se snažíme dávat co nejlepší příklady užití matematických modelů.

Teoretický text je prezentován dosti kompaktním způsobem, mnoho prostoru je ponecháno pro dořešení podrobností čtenáři. Uváděné příklady se snaží pokrýt celou škálu složitosti, od banálních až po perličky ke skutečnému přemýšlení. Studenti navíc řešili a odevzdávali každý týden zadávané příklady.

Čtenářům bychom rádi pomohli:

- přesně formulovat definice základních pojmů a dokazovat jednoduchá matematická tvrzení,
- vnímat obsah i přibližně formulovaných závislostí, vlastností a výhledů použití matematických nástrojů,
- vstřebat návody na užívání matematických modelů a osvojit si jejich využití.

K těmto ambiciózním cílům nelze dojít lehce a pro většinu lidí to znamená hledat si vlastní cestu s tápáním různými směry (s potřebným překonáváním odporu či nechtě). I proto je celý výklad strukturován tak, aby se pojmy a postupy vždy několikrát vracely s postupně rostoucí složitostí a šíří diskuse. Jsme si vědomi, že se tento postup může jevit jako chaotický. Domníváme se ale, že dává mnohem lepší šanci na pochopení u těch, kteří vytrvají.

Vstup do matematiky je skoro pro každého obtížný — pokud už „víme“, nechce se nám přemýšlet, pokud „nevíme“, je to ještě horší. Jediný spolehlivý postup pro orientaci v matematice je hledat porozumění v mnoha pokusech a to, pokud možno, při četbě v různých zdrojích. Určitě nepovažujeme tento text za dostatečný jediný zdroj pro každého. Doufáme, že může být dobrým začátkem a případně i dlouhodobým pomocníkem, zvláště pro ty, kdo se k jednotlivým částem budou znovu a znovu vracet.

Pro ulehčení vícekolového přístupu ke čtení je text doprovázen emotivně laděnými ikonkami, které snad nejen ožíví obvyklou strohou strukturu matematického textu, ale naznačí čtenáři, kde by složitější text měl být čten pozorněji, ale určitě ne přeskakován, případně kde by bylo možná lépe náročné pasáže přinejmenším napoprvé vůbec nečíst.

Volba jednotlivých ikonek samozřejmě odráží hlavně pocity autorů. Přesto by postupně mohly být dobrým vodítkem pro čtenáře. Velice zhruba řečeno, používáme ikonky varující před pracností/složitostí/náročností, např.



Další označují ne úplně pohodovou zdouhavost práce a potřebu trpělivosti či nadhledu, jako jsou tyto



A konečně máme také ikonky vyjadřující pohodu nebo radost ze hry, třeba následující



Snažili jsme se sloupce s příklady sepsat tak, aby byly čitelné prakticky víceméně samostatně. Bez ambicí pohrát si s hlubšími důvody, proč uváděné postupy fungují (nebo s prostým cílem „projít s písečkou“), by mělo skoro stačit probírat se jen příklady. Definice pojmů či popisy jejich vlastností používaných při řešení příkladů jsou v teoretickém sloupci zpravidla vyznačeny, aby o ně bylo možno snadno pohledem zavadit. Souvislost řešených příkladů s paralelně studovanou teorií je přitom spíše volná, snažili jsme ale ulehčit přeskokování „z teorie do praxe a zpět“ co nejvíce. Příklady jsou vesměs řešené, u některých je řešení uvedeno až za celou kapitolou (čísla těchto příkladů jsou sázena kurzívou). Na konci každé kapitoly je pak uvedena ještě řada zajímavých doplňujících příkladů v širokém sloupci, které se z nejrůznějších důvodů nevešli do dvouslupcové sazby.

Obsahově je celá učebnice ovlivněna představou, že pro praktické využití jsou velmi podstatné metody tzv. diskrétní matematiky, zatímco tzv. spojité modely jsou matematicky dobře uchopitelná přiblížení veskrze diskrétního světa kolem nás. Počítat koneckonců stejně umíme vždy jen s konečně mnoha racionálními čísly naráz. Bez spojité matematiky si lze ale těžko dobře představit koncepty jako konvergence procesu k limitnímu stavu nebo robustnost výpočtu. Bylo by bez ní také obtížné pracovat s odhady chyb při numerických procesech.

Všechna témata a velmi podstatná část textu jsme v letech 2005 – 2012 ověřovali při výuce studentů informatiky a později i matematiky na Masarykově univerzitě. Paralelně jsme přitom vytvořili také podklady pro praktické semináře matematického modelování a numerických metod. V nich se studenti věnují skutečnému využití výpočtových nástrojů a modelů.

Závěrem stručně shrneme obsah celé učebnice. Samozřejmě předpokládáme, že si každý čtenář, případně přednášející, vybere témata a jejich pořadí. Pokusíme se proto zároveň vymezit bloky, se kterými lze takto nezávisle zacházet.

Úvodní motivační kapitola se snaží ilustrovat několik přístupů k matematickému popisu problémů. Začínáme nejjednoduššími funkcemi (základní *kombinatorické vzorce*). Pak naznačujeme, jak pracovat se závislostmi zadanými pomocí okamžitých změn (jednoduché *diferenční rovnice*), užití kombinatoriky a množinové algebry diskutujeme prostřednictvím konečné klasické *pravděpodobnosti*. Předvádíme maticový počet pro jednoduché úlohy rovinné geometrie (práce s pojmem *pozice* a *transformace*) a závěrem vše trochu zformalizujeme (*relace, uspořádní, ekvivalence*). Nenechte se zde uvrhnout do chaotického zmatku rychlým střídáním témat — cílem je nashromáždit něco málo netriviálních námětů k přemýšlení a hledání jejich souvislostí i použití, ještě než zabředneme do úrovně problémů a teorií složitějších. Ke všem tématům této úvodní kapitoly se časem vrátíme.

Další dvě kapitoly jsou věnovány základům počtu, který umožňuje práci s vícerozměrnými daty i grafikou. Jde o postupy tzv. *lineární algebry*, které jsou základem a konečným výpočetním nástrojem pro většinu matematických modelů. Nejprve probíráme jednoduché postupy pro práci s *vektory a maticemi*, třetí kapitola je pak věnována aplikacím maticového počtu v různých lineárních modelech (*systemy lineárních rovnic, lineární procesy, lineární diferenční rovnice, Markovovy procesy, lineární regrese*). Čtvrtá kapitola pak ilustruje použití maticového počtu v geometrických úlohách. Dozvíme se něco málo o *afinní, euklidovské a projektivní geometrii*.

V tomto okamžiku přerušíme diskusi diskrétních modelů a přejdeme ke spojitém. Chceme co nejnázorněji ukázat, že základní ideje, jak s funkcemi pracovat, bývají jednoduché. Stručně řečeno, velmi jednoduché úvahy spojené s popisem okamžitých změn sledovaných veličin umožňují dělat závěry pro jejich celkové chování. Složitosti se pojí skoro výhradně se zvládnutím rozumně velké třídy funkcí, pro které mají naše postupy být použitelné.

Začínáme proto kapitolou, kde diskutujeme jaké funkce potřebujeme pro nelineární modely. Po *polynomech a splajnech* postupně diskutujeme pojmy *spojitost, limity posloupností a funkcí a derivace funkcí*, připomeneme všechny základní *elementární funkce* a závěrem se seznámíme s *mocninými řadami*. Tím je připravena půda pro klasický diferenciální a integrální počet. Ten prezentujeme v kapitole šesté s důrazem na co nejpřímochařejší pochopení souvislostí *limitních procesů, integračních procesů a aproximací*.

Sedmá kapitola se věnuje náznakům aplikací a snaží se co nejvíce připomínat analogie k postupům jednoduché lineární algebry. Místo lineárních zobrazení mezi konečně rozměrnými vektorovými prostory tak pracujeme s lineárními operacemi mezi vektorovými prostory funkcí, definovanými buď integrálními nebo diferenciálními operátory.

Zatímco diskusi diferenciální rovnic necháváme na později, zde studujeme nejprve aproximace funkcí s pomocí vzdálenosti definované integrálem (tzv. *Fourierovy řady*). Pak se věnujeme souvislostem s některými integrálními operátory (např. *konvoluce*) a integrálními transformacemi (zejména *Fourierova transformace*). Po cestě si neodpustíme ilustraci obecného principu, že spojité modely jsou zpravidla ideovým podkladem a zároveň dobrou aproximací pro modely diskrétní. Poslouží nám k tomu stručné nahlédnutí na problematiku tzv. *waveletů a diskrétní Fourierovy transformace*.

V osmé kapitole pokračujeme v našem stručném nastínění analytických spojitéch metod, tentokrát pro modely s mnoha proměnnými. Nejprve rozšíříme základní postupy a výsledky týkající se derivací na *funkce více proměnných*, včetně *funkcí zadaných implicitně* a tzv. *vázaných extrémů*. Hned poté rozšíříme teorii integrování o tzv. násobné integrály. Poté se věnujeme stručně modelům opřeným o známou změnu našich objektů, tj. *diferenciálním rovnicím* a malinko naznačíme obdobné problémy *variační*. Závěrem této kapitoly se pak stručně věnujeme numerickým příblížením a odhadům.

Devátá kapitola je věnována popisné statistice, matematické pravděpodobnosti a matematické statistice. Seznámíme se s pojmy *pravděpodobnostní prostor, hustota pravděpodobnosti, normální rozdělení, střední hodnota, medián, kvantil, rozptyl, příklady diskrétních a spojitéch rozdělení* a budeme se náznakem věnovat *statistickému zpracování dat*, tj. výběrovým statistikám a jejich spolehlivosti.

V další kapitole zamíříme zpět do světa diskrétních metod. Zabýváme se v ní základními pojmy a poznatky teorie grafů a jejich využitím v praktických problémech (např. prohledávání do šířky a hloubky, *minimální pokrývající kostry, toky v sítích, hry popisované stromy*). Závěrem se budeme zajímat o vytvářející funkce.

Poslední kapitola se zabývá nejprve obecnými algebraickými strukturami s důrazem na elementární poznatky z teorie grup, okruhů polynomů. Zmíníme i něco málo aplikací v kódování. Dále se věnujeme úvodu do teorie čísel a vybrané aplikace, včetně šifrování informace.

POŘÁDNÉ PODĚKOVÁNÍ VŠEM ZÚČASTNĚNÝM, KTEŘÍ NEBUDOU PŘÍMO V AUTORSKÉM KOLEKTIVU, STUDENTŮM APOD.

?? . ?? . 2013,

kolektiv autorů





## Rozcvička

„hodnota, změna, poloha“  
– co to je a jak to uchopit?

Cílem první kapitoly je uvést čtenáře do fascinujícího světa matematického myšlení. Vybíráme si k tomu co nejkonkrétnější příklady modelování reálných situací pomocí abstraktních objektů a souvislostí. Zároveň projdeme několik témat a postupů, ke kterým se postupně budeme vracet a v závěru kapitoly se budeme chvíli věnovat samotnému jazyku matematiky (se kterým budeme jinak zacházet spíše intuitivně).

O co jednodušší jsou východiska a objekty, se kterými zde budeme pracovat, o to složitější je pochopit do důsledku jemnosti použitých nástrojů a postupů. Většinou je možné proniknout k podstatě věci teprve v jejich souvislostech. Proto je také představujeme hned z několika pohledů zároveň.

Přecházení od tématu k tématu se možná bude zdát jako zmatečné, ale to se jistě postupně spraví při našich návratech k jednotlivým úvahám a pojmům v pozdějších kapitolách.

Název kapitoly lze chápat i jako nabádání k trpělivosti. I nejjednodušší úlohy a úvahy budou snadné jen pro ty, kteří už podobné řešili (a půjde pro ně jen o opakování znalosti ze střední školy). K postupnému poznání a ovládnutí matematického myšlení vede jen pozvolná a spletitá cesta.

Začneme s tím nejjednodušším: obyčejnými čísly.

### 1. Čísla a funkce

Lidé odjakživa chtějí mít jasno „kolik“ něčeho je, případně „za kolik“ to je, „jak dlouho“ něco trvá apod. Výsledkem takových úvah je většinou nějaké „číslo“. Za číslo přitom považujeme něco, co umíme sčítat a násobit a splňuje to obvyklé zákonitosti, ať už všechny nebo jen některé. Například výsledek sčítání nezávisí na pořadí, v jakém čísla sčítáme, máme k dispozici číslo nula, které přičtením výsledek nezmění, číslo jedna, kterým můžeme násobit, aniž bychom změnili výsledek, apod.

Nejjednodušším příkladem jsou tzv. čísla přirozená, budeme je značit  $\mathbb{N} = \{0, 1, 2, 3, \dots\}$ . Všimněme si, že jsme mezi přirozená čísla vzali i nulu, jak je obvyklé zvláště v informatice.

Počítat „jedna, dvě, tři, ...“ se učí děti už ve školce. O něco později se setkáváme s čísly celými  $\mathbb{Z} = \{\dots, -2, -1, 0, 1, 2, \dots\}$  a nakonec si zvykneme na

### A. Čísla a funkce

S přirozenými, celými, racionálními a reálnými čísly již počítat umíme. Zamysleme se, proč racionální čísla nestačí (byť v počítači s jinými doopravdy počítat neumíme) a připomeneme si tzv. čísla komplexní (protože ani s reálnými čísly si při výpočtech nevystačíme).

**1.1.** Najděte nějaké reálné číslo, které není racionální.

**Řešení.** Jedna z mnoha možných odpovědí je  $\sqrt{2}$ . Již staří Řekové věděli, že předepíšeme-li plochu čtverce  $a^2 = 2$ , pak nelze najít racionální  $a$ , které by předpisu vyhovovalo. Proč?

Víme, že každé přirozené číslo  $n$  lze jednoznačným způsobem vyjádřit jako součin  $n = p_1^{r_1} \cdot p_2^{r_2} \dots p_k^{r_k}$ , až na pořadí v součinu, kde  $p_1, \dots, p_k$  jsou po dvou různá prvočísla.

Pokud by tedy platilo  $(p/q)^2 = 2$  pro přirozená čísla  $p$  a  $q$ , pak tedy  $p^2 = 2q^2$ . Na levé straně máme v rozkladu na prvočísla  $2^r$  se sudým  $r$  (případně  $r = 0$ ), na pravé straně ale bude vždy mocnina dvojky lichá. To je spor s naším tvrzením a tedy předpoklad nemůže platit a žádné racionální číslo nemůže mít za svoji druhou mocninu dvojku.  $\square$

**1.2.** Najděte řešení rovnice  $x^2 = b$  pro libovolné reálné číslo  $b$ .

**Řešení.** Víme, že tato rovnice má vždy řešení  $x$  v oboru reálných čísel, pokud je  $b$  nezáporné. Jestliže je  $b = -1$ , pak ale zjevně takové reálné  $x$  existovat nemůže. Musíme proto najít větší obor čísel, ve kterém už řešení existovat bude.

K reálným číslům nejprve přidáme nové číslo  $i$ , tzv. *imaginární jednotku* a zkusíme dodefinovat sčítání a násobení tak, abychom i na-  
dále zajistili obvyklé chování čísel, jak jsou shrnuty v odstavci 1.1.

Jistě musíme umět nové číslo  $i$  násobit reálnými čísly a výsledky sčítat s jakýmikoliv reálnými čísly. Nutně proto musíme v novém číselném oboru *komplexních čísel*  $\mathbb{C}$  pracovat s formálními výrazy  $z = a + i b$ .

Aby byly splněny vlastnosti asociativity a distributivity, zavedeme sčítání tak, že se nezávisle sčítají reálné složky a imaginární složky. Stejně tak chceme násobení tak, jak by se násobily dvojčleny reálných čísel s jediným dodatečným pravidlem  $i^2 = -1$ , tj.

$$(a + i b) + (c + i d) = (a + c) + i (b + d),$$

$$(a + i b) \cdot (c + i d) = (ac - bd) + i (bc + ad).$$

□

Reálnému číslu  $a$  říkáme *reálná složka* komplexního čísla  $z$ , reálnému číslu  $b$  pak *imaginární složka*, píšeme  $\operatorname{re}(z) = a$ ,  $\operatorname{im}(z) = b$ .

**1.3.** Ověřte, že skutečně platí všechny vlastnosti (KG1-4), (O1-4) a (P) skalárů z 1.1.

**Řešení.** Nulou je číslo  $0 + i 0$ , jedničkou číslo  $1 + i 0$ , které opět píšeme jako  $0$  a  $1$ . Všechny vlastnosti se ověří přímočarým výpočtem. □

p1.3

**1.4.** Komplexní číslo je dáno dvojicí reálných čísel, jde tedy o bod v reálné rovině  $\mathbb{R}^2$ . Ukažte, že vzdálenost komplexního čísla  $z = a + i b$  od počátku je dána výrazem  $\sqrt{z\bar{z}}$ , kde  $\bar{z}$  *komplexně sdružené číslo*  $a - i b$ .

**Řešení.** Součin

$$z\bar{z} = (a^2 + b^2) + i(-ab + ba) = a^2 + b^2$$

je vždy reálné číslo a dává nám skutečně kvadrát vzdálenosti čísla  $z$  od počátku  $0$ . Platí tedy  $|z|^2 = z\bar{z}$ . □

**1.5.** Interpretujte násobení imaginární jednotkou a vzetí komplexně sdruženého čísla jako geometrickou transformaci v rovině.

**Řešení.** Imaginární jednotka  $i$  odpovídá bodu  $(0, 1)$  a všimněme si, že vynásobením jakéhokoliv čísla  $z = a + i b$  imaginární jednotkou dává výsledek

$$i \cdot (a + i b) = -b + i a$$

což je v interpretaci v rovině otočení bodu  $z$  o pravý úhel v kladném smyslu, tj. proti směru hodinových ručiček.

Přiřazení komplexně sdruženého čísla je symetrie podle osy reálných čísel:

$$z = (a + i b) \mapsto (a - i b) = \bar{z}.$$

□

desetinná čísla a víme, co znamená 1.19-násobek ceny díky 19% dani z přidané hodnoty.

**1.1. Vlastnosti čísel.** Abychom mohli s čísly pracovat opravdu, musíme se jejich definici a vlastnostem věnovat pořádněji. V matematice se těm základním tvrzením o vlastnostech objektů, jejichž platnost předpokládáme, aniž bychom se zabývali jejich dokazováním, říkáme *axiomy*. Vhodná volba axiomů předurčuje jak dosah z nich vycházející teorie, tak její použitelnost v matematických modelech skutečnosti.



#### VLASTNOSTI SKALÁRŮ

##### Vlastnosti sčítání:

(KG1)  $(a + b) + c = a + (b + c)$ , pro všechna  $a, b, c$

(KG2)  $a + b = b + a$ , pro všechna  $a, b$

(KG3) existuje  $0$  taková, že pro všechna  $a$  platí  $a + 0 = a$

(KG4) pro všechna  $a$  existuje  $b$  takové, že  $a + b = 0$

Vlastnostem (KG1) – (KG4) říkáme vlastnosti *komutativní grupy*. Jsou to po řadě *asociativita*, *komutativita*, *existence neutrálního prvku* (říkáme u sčítání také *nulového prvku*), *existence inverzního prvku* (říkáme u sčítání také *opačného prvku*  $k$   $a$  a značíme ho  $-a$ ).

##### Vlastnosti násobení:

(O1)  $(a \cdot b) \cdot c = a \cdot (b \cdot c)$ , pro všechny  $a, b, c$

(O2)  $a \cdot b = b \cdot a$ , pro všechny  $a, b$

(O3)

existuje prvek  $1$  takový, že pro všechny  $a$  platí  $1 \cdot a = a$

(O4)  $a \cdot (b + c) = a \cdot b + a \cdot c$ , pro všechny  $a, b, c$ .

Vlastnosti (O1)–(O4) se postupně nazývají *asociativita*, *komutativita*, *existence jednotkového prvku* a *distributivita* sčítání vůči násobení.

Množiny s operacemi  $+$ ,  $\cdot$  a vlastnostmi (KG1)–(KG4), (O1)–(O4) se nazývají *komutativní okruhy*.

Další vlastnosti násobení:

(P) pro každé  $a \neq 0$  existuje  $b$  takové, že  $a \cdot b = 1$ .

(OI) je-li  $a \cdot b = 0$ , potom buď  $a = 0$  nebo  $b = 0$ .

Vlastnost (P) se nazývá *existence inverzního prvku* vzhledem k násobení (tento prvek se pak značí  $a^{-1}$ ) a vlastnost (OI) říká, že neexistují „dělitelé nuly“.



Uvedli jsme si základní vlastnosti operací sčítání a násobení pro naše počty s čísly, která píšeme jako písmena  $a, b, c, \dots$ . Obě tyto operace fungují tak, že vezmeme dvě čísla  $a, b$  a aplikací sčítání nebo násobení dostaneme výsledné hodnoty  $a + b$  a  $a \cdot b$ . Vlastnosti těchto operací budeme soustavně využívat, aniž bychom museli přesně vědět, s jakými objekty skutečně pracujeme. Tak se dostaneme k obecným matematickým nástrojům, je však vždy dobré mít představu o typických příkladech.

Celá čísla  $\mathbb{Z}$  jsou dobrým příkladem komutativní grupy, přirozená čísla nikoliv, protože nesplňují (KG4) (a případně neobsahují neutrální prvek, pokud někdo nulu do  $\mathbb{N}$  nezahrnuje).

Když komutativní okruh navíc splňuje i vlastnost (P), hovoříme o *poli* (často také o *komutativním tělese*).

Poslední uvedená vlastnost (OI) je automaticky splněna, pokud platí (P). Opačně to ovšem neplatí a tak říkáme, že vlastnost (OI) je slabší než (P). Např. okruh celých čísel  $\mathbb{Z}$  nesplňuje (P), ale splňuje (OI). Hovoříme v takovém případě o *oboru integrity*.

Všimněme si, že množina všech nenulových prvků v poli společně s operací násobení splňuje (O1), (O2), (O3), (P), a je proto také komutativní grupa. Jen se místo sčítání mluví o násobení. Jako příklad můžeme vzít všechna nenulová reálná čísla.

Prvky nějaké množiny s operacemi  $+$  a  $\cdot$  splňujícími (ne nutně všechny) výše uvedené vlastnosti (tj. komutativní okruh, obor integrity, pole) budeme nazývat *skaláry*. Budeme pro ně vesměs užívat malá latinská písmena ze začátku nebo konce abecedy.

Všechny vlastnosti (KG1)–(KG4), (O1)–(O4), (P), (OI) z našich úvah je třeba brát jako *axiomatickou definici* příslušných matematických pojmů. Pro naše potřeby bude stačit si průběžně uvědomovat, že při dalších diskusích budeme důsledně používat pouze tyto vlastnosti skalárů a že i naše výsledky proto budou platné pro všechny objekty s těmito vlastnostmi.

V tomto je pravá síla matematických teorií – nejsou platné jen pro konkrétní řešený příklad. Naopak, při rozumné výstavbě mají vždy univerzální použití. Budeme se snažit tento aspekt zdůrazňovat, přestože naše ambice mohou být v rámci daného rozsahu učebnice jen velice skromné.

1.1a

**1.2. Existence skalárů.** K tomu, aby ale skutečně bylo možné budovat matematickou teorii, je třeba ověřit, že takové objekty mohou existovat. Pro pořádek si proto budeme postupně ukazovat, jak je možné zkonstruovat základní číselné obory. Pro konstrukci přirozených čísel začneme s předpokladem, že víme, co jsou to množiny.

Prázdnou množinu si označíme  $\emptyset$  a definujeme

e1.1

$$(1.1) \quad 0 := \emptyset, \quad n + 1 := n \cup \{n\},$$

neboli

$$0 := \emptyset, \quad 1 := \{\emptyset\}, \quad 2 := \{0, 1\}, \dots, \quad n + 1 := \{0, 1, \dots, n\}.$$

Tímto zápisem říkáme, že pokud už máme definovaná všechna čísla  $0, 1, 2, \dots, n$ , pak číslo  $n + 1$  definujeme jako množinu všech předchozích čísel.

Přirozená čísla takto ztotožňujeme s počty prvků konkrétních množin. Číslo  $n$  je množina, která má  $n$  prvků a dvě přirozená čísla  $a, b$  jsou stejná, právě když příslušné množiny mají stejně prvků. V teorii množin se místo slovního spojení „počet prvků množiny“ používá pojem „mohutnost

**1.6.** Využijte k popisu komplexních čísel úhel průvodiče a vzdálenost od počátku (tzv. *gonimetrický tvar*).

**Řešení.** Komplexní čísla tvaru  $z = \cos \varphi + i \sin \varphi$ , kde  $\varphi$  je reálný parametr udávající úhel mezi reálnou přímkou a spojnicí  $z$  s počátkem (měřený v kladném smyslu), popisují právě všechny body na jednotkové kružnici v komplexní rovině. Každé nenulové číslo  $z$  pak lze právě jedním způsobem napsat jako

$$z = |z|(\cos \varphi + i \sin \varphi).$$

□

**1.7.** Napište součin dvou komplexních čísel pomocí goniometrických tvarů (tzv. Moivreova věta).

**Řešení.** Hledaný vztah

$$z_1 \cdot z_2 = |z_1||z_2|(\cos(\varphi_1 + \varphi_2) + i \sin(\varphi_1 + \varphi_2)),$$

kde  $\varphi_i$  jsou argumenty čísel  $z_i$ , vyplývá z vzorců pro sinus a kosinus součtu argumentů. □

**1.8.** Vyjádřete číslo  $z_1 = 2 + 3i$  v goniometrickém tvaru a naopak číslo  $z_2 = 3(\cos(\pi/3) + i \sin(\pi/3))$  v algebraickém tvaru.

**Řešení.** Absolutní hodnota daného čísla (vzdálenost bodu s kartézskými souřadnicemi  $[2, 3]$  v rovině od počátku souřadnic) je  $\sqrt{2^2 + 3^2} = \sqrt{13}$ . Z pravoúhlého trojúhelníka v obrázku pak snadno spočteme  $\sin(\varphi) = 3/\sqrt{13}$ ,  $\cos(\varphi) = 2/\sqrt{13}$ . Je tedy  $\varphi = \arcsin(3/\sqrt{13}) = \arccos(2/\sqrt{13}) \doteq 53, 3^\circ$ . Celkem

$$z_1 = \sqrt{13} \left( \frac{2}{\sqrt{13}} + i \cdot \frac{3}{\sqrt{13}} \right) = \sqrt{13} \left( \cos \left( \arccos \left( \frac{2}{\sqrt{13}} \right) \right) + \sin \left( \arcsin \left( \frac{3}{\sqrt{13}} \right) \right) \right).$$

Převod komplexního čísla z goniometrického do algebraického je ještě jednodušší:

$$z_2 = 3 \left( \cos \left( \frac{\pi}{3} \right) + i \sin \left( \frac{\pi}{3} \right) \right) = 3 \left( \frac{1}{2} + i \cdot \frac{\sqrt{3}}{2} \right) = \frac{3}{2} + i \cdot \frac{3\sqrt{3}}{2}.$$

□

**1.9.** Číslo  $(5\sqrt{3} + 5i)^{12}$  zapište v co nejjednodušším tvaru.

**Řešení.** Úpravy jako postupné umocňování nebo rozvoj podle binomické věty jsou v tomto případě časově náročné. Při vyjádření

$$5\sqrt{3} + 5i = 10 \left( \frac{\sqrt{3}}{2} + \frac{i}{2} \right) = 10 \left( \cos \frac{\pi}{6} + i \sin \frac{\pi}{6} \right)$$

užitím Moivreovy věty však snadno obdržíme

$$(5\sqrt{3} + 5i)^{12} = 10^{12} \left( \cos \frac{12\pi}{6} + i \sin \frac{12\pi}{6} \right) = 10^{12}.$$

□

**1.10.** Vyjádřete  $z = \cos 0 + \cos \frac{\pi}{3} + i \sin \frac{\pi}{3}$  v goniometrickém tvaru.

**Řešení.** Abychom mohli vyjádřit

$$z = |z| (\cos \varphi + i \sin \varphi),$$

nejprve určíme

$$|z| = \sqrt{(\cos 0 + \cos \frac{\pi}{3})^2 + \sin^2 \frac{\pi}{3}} = \sqrt{(1 + \frac{1}{2})^2 + (\frac{\sqrt{3}}{2})^2} = \sqrt{3}.$$

Zapíšeme-li

$$z = \sqrt{3} \left( \frac{\cos 0 + \cos \frac{\pi}{3}}{\sqrt{3}} + i \frac{\sin \frac{\pi}{3}}{\sqrt{3}} \right) = \sqrt{3} \left( \frac{1 + \frac{1}{2}}{\sqrt{3}} + i \frac{\frac{\sqrt{3}}{2}}{\sqrt{3}} \right) = \sqrt{3} \left( \frac{\sqrt{3}}{2} + i \frac{1}{2} \right),$$

vidíme, že pro argument  $\varphi$  má platit

$$\cos \varphi = \frac{\sqrt{3}}{2}, \quad \sin \varphi = \frac{1}{2},$$

což již dává  $\varphi = \pi/6$ . Celkem jsme tak získali

$$z = \sqrt{3} \left( \cos \frac{\pi}{6} + i \sin \frac{\pi}{6} \right).$$

□

**1.11.** Pomocí Moivreovy věty vypočítejte

$$\left( \cos \frac{\pi}{6} + i \sin \frac{\pi}{6} \right)^{31}.$$

**Řešení.** Ihned dostáváme

$$\left( \cos \frac{\pi}{6} + i \sin \frac{\pi}{6} \right)^{31} = \cos \frac{31\pi}{6} + i \sin \frac{31\pi}{6} = \cos \frac{7\pi}{6} + i \sin \frac{7\pi}{6} = -\frac{\sqrt{3}}{2} - i \frac{1}{2}.$$

□

**1.12.** Stanovte

$$\left| \frac{(2+3i)(1+i\sqrt{3})}{1-i\sqrt{3}} \right|.$$

**Řešení.** Neboť absolutní hodnota součinu (podílu) dvou libovolných komplexních čísel je součin (podíl) jejich absolutních hodnot a každé komplexní číslo má stejnou absolutní hodnotu jako číslo s ním komplexně sdružené, platí

$$\left| \frac{(2+3i)(1+i\sqrt{3})}{1-i\sqrt{3}} \right| = |2+3i| \cdot \left| \frac{1+i\sqrt{3}}{1-i\sqrt{3}} \right| = |2+3i| = \sqrt{2^2+3^2} = \sqrt{13}.$$

□

**1.13.** Uvedte vzdálenost  $d$  čísel  $z, \bar{z}$  v komplexní rovině, je-li

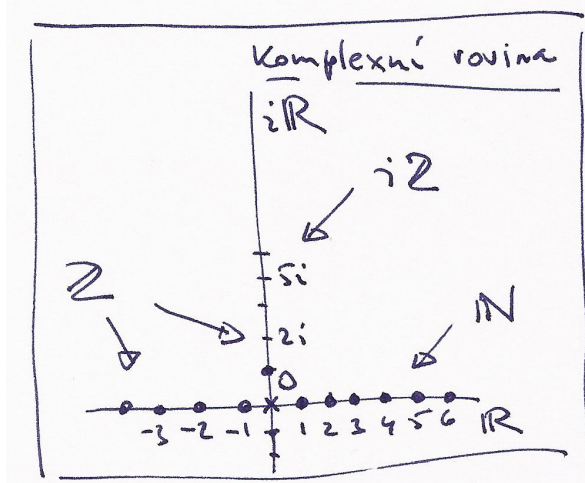
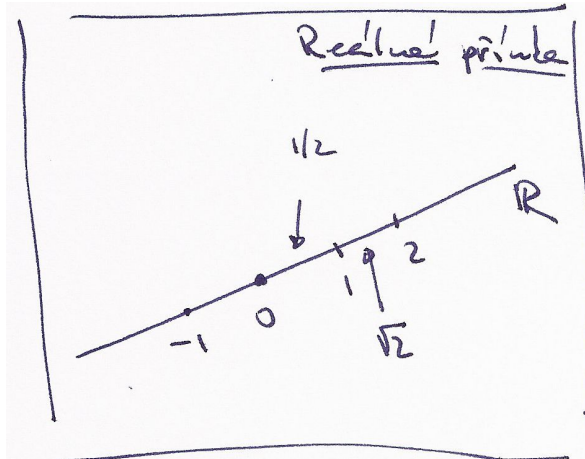
$$\bar{z} = \frac{\sqrt{3}\sqrt{3}}{2} - i \frac{3}{2}.$$

1.2

množiny“. Tento pojem má smysl (narozdíl od toho předchozího) i pro nekonečné množiny.

Na první pohled je také vidět obvyklá definice uspořádání přirozených čísel podle velikosti (o číslu  $a$  řekneme, že je ostře menší než  $b$  tehdy a jen tehdy, když  $a \neq b$  a  $a \subset b$  jako množina). Dalším formálním krokem by měla být definice sčítání a násobení a důkaz všech základních vlastností přirozených čísel, včetně výše uvedených axiomů komutativního okruhu. Snadno lze např. ukázat, že každá podmnožina v  $\mathbb{N}$  má nejmenší prvek a spoustu dalších vlastností o kterých zpravidla už dávno nepřemýšlíme a máme je za samozřejmé.

Nebudeme se tu konstrukcí číselných oborů zabývat podrobně a předpokládáme, že čtenář čísla racionální ( $\mathbb{Q}$ ), reálná ( $\mathbb{R}$ ) a komplexní ( $\mathbb{C}$ ) důvěrně zná. Občas budeme jen připomínat teoretické i praktické souvislosti při dalším výkladu. Podrobně bude konstrukce racionálních čísel z přirozených diskutována v 1.40. Konstrukci reálných čísel bude vhodné zmínit při studiu limitních procesů později a již dříve budeme z různých algebraických pohledů zkoumat čísla komplexní.



Navíc, jak je v matematice obvyklé, budeme místo s čísly manipulovat s písmeny abecedy, případně jinými znaky, ať už jejich hodnota je nebo není předem známá.

**1.3. Skalární funkce.** Často pracujeme s číselnou hodnotou, která není dána jako konkrétní číslo. Místo toho něco víme o závislosti naší hodnoty na hodnotách jiných. Formálně píšeme, že hodnota  $y = f(x)$  naší „závislé“ proměnné veličiny  $y$  je dána „nezávislou“ veličinou  $x$ . Přitom můžeme znalost  $f$  brát formálně (prostě je to nějaká, blíže nespecifikovaná, závislost) nebo operačně, tj.  $f(x)$  je dáno vzorcem poskládaným z (prozatím si představme konečně mnoha) známých operací. Pokud je hodnotou skalár, hovoříme o *skalární funkci*. Každá funkce je definována na nějaké množině, mluvíme o *definičním oboru funkce*, a množina všech hodnot je pak tzv. *obor hodnot funkce*.

Také mohou být ale hodnoty funkce  $f$  dány pouze přibližně nebo s jistou pravděpodobností.

Smyslem matematických úvah pak bývá z neformálního popisu závislosti najít explicitní vzorce pro funkce, které je popisují, nebo aspoň explicitní vyjádření pro konkrétní hodnoty závislých proměnných, případně jejich přiblížení. Podle typu úlohy a cíle pracujeme:

- s přesným a konečným výrazem
- s nekonečným výrazem
- s přiblížením neznámé funkce známým odhadem (většinou s vyčíslenou možnou chybou)
- s odhadem hodnot s vyčíslením jejich pravděpodobnosti apod.

Skalární funkcí je např. roční mzda pracovníka nějaké firmy (hodnoty nezávislé veličiny, tj. definiční obor funkce, jsou jednotliví pracovníci  $x$  z množiny všech sledovaných pracovníků,  $f(x)$  je jejich roční mzda za dané období). Stejně tak můžeme sledovat měsíční mzdu konkrétního pracovníka v čase (nezávislou hodnotou je čas v měsících, závislou příjem v jednom každém měsíci). Jiným příkladem je třeba plocha obrazce v rovině, objem tělesa v prostoru, rychlost konkrétního auta v čase atd. Dovedeme si jistě představit, že ve všech uvedených případech může být hodnota dána nějakou volně popsanou souvislostí nebo naměřena přibližně nebo odhadnuta atd.

1.3

**1.4. Operačně definované funkce.** Funkce můžeme mít dány výčtem jejich hodnot – např. ve firmě je jen konečně mnoho zaměstnanců a umíme sestavit tabulku s jejich aktuálními měsíčními platy. Častěji ale máme místo hodnot pravidla, jak k hodnotám dojít.



#### FUNKCE FAKTORIÁL

Důležitou skalární funkcí na přirozených číslech je *faktoriál*, který definujeme vztahy

$$f(0) = 1, \quad f(n) = n \cdot f(n-1)$$

pro  $n = 1, 2, \dots$ . Píšeme  $f(n) = n!$  a definice zjevně znamená

$$n! = n \cdot (n-1) \cdot \dots \cdot 1.$$

**Řešení.** Není obtížné si uvědomit, že komplexně sdružená čísla jsou souměrně sdružená podle osy  $x$  a že vzdálenost komplexního čísla od osy  $x$  je rovna absolutní hodnotě jeho imaginární části. To již dává  $d = 3$ .  $\square$

1.14. Vyjádřete  $z_1 + z_2$ ,  $z_1 \cdot z_2$ ,  $\bar{z}_1$ ,  $|z_2|$ ,  $\frac{z_1}{z_2}$ , pro

i)  $z_1 = 1 - 2i$ ,  $z_2 = 4i - 3$

ii)  $z_1 = 2$ ,  $z_2 = i$

**1.15.** Komplexní čísla nejsou pouze nástrojem, abychom získali „divná“ řešení kvadratických rovnic, ale jsou potřeba i k tomu, abychom určili reálná řešení kubických rovnic. Jak vyjádřit řešení kubické rovnice

$$x^3 + ax^2 + bx + c = 0$$

pomocí reálných koeficientů  $a$ ,  $b$ ,  $c$ ? Ukažme si metodu, na kterou přišli v šestnáctém století pánové Ferro, Cardano, Tartaglia a možná další. Zavedme substituci  $x := t - a/3$  (abychom odstranili kvadratický člen v rovnici), dostaneme rovnici:

$$t^3 + pt + q = 0,$$

kde  $p = b - a^2/3$  a  $q = c + (2a^3 - 9ab)/27$ . Nyní zavedme neznámé  $u$ ,  $v$  splňující podmínky  $u + v = t$  a  $3uv + p = 0$ . Dosazením první podmínky do původní rovnice dostáváme

$$u^3 + v^3 + (3uv + p)(u + v) + q = 0,$$

dosazením druhé pak

$$u^6 + qu^3 - \frac{p^3}{27} = 0,$$

což je kvadratická rovnice v neznámé  $s = u^3$ . Máme tedy

$$u = \sqrt[3]{-\frac{q}{2} \pm \sqrt{\frac{q^2}{4} + \frac{p^3}{27}}},$$

Celkem pak zpětným dosazením

$$x = -p/3u + u - a/3. \quad \boxed{\text{Cardan}}$$

Ve výrazu pro  $u$  je se vyskytuje třetí odmocnina a abychom dostali všechna tři řešení, je nutno pracovat i s komplexními odmocninami. Rovnice  $x^3 = a$ ,  $a \neq 0$ , s neznámou  $x$  má totiž právě tři řešení v oboru komplexních čísel (Základní věta algebry, viz (??)). Všechna tato řešení nazýváme třetí odmocninou z čísla  $a$ . Je tedy výraz  $\sqrt[3]{a}$  v komplexním oboru trojznačný. Pokud se chce přisoudit výrazu  $\sqrt[3]{a}$  jednoznačný význam, tak se za třetí odmocninu uvažuje řešení s nejmenším argumentem.

Navíc ještě dodejme, že při popsaném postupu se mohlo vyskytnout dělení nulou. V tom případě je nutno použít jiného (většinou snadnějšího) postupu.

**1.16.** Řešte rovnici

$$x^3 + x^2 - 2x - 1 = 0.$$

**Řešení.** Jak snadno zjistíme, tak rovnice nemá racionální kořeny (metody na určování racionálních kořenů si objasníme v části (??)). Dosazením do získaných vztahů získáme  $p = b - a^2/3 = -7/3$ ,  $q = -7/27$ , pro  $u$  pak dostáváme

$$u = \frac{\sqrt[3]{28 \pm 12\sqrt{-147}}}{6},$$

kde můžeme teoreticky volit až šest možností pro  $u$  (dvě volby znaménka plus či mínus a k tomu tři nezávislé volby třetí odmocniny). Jak však snadno nahlédneme, dostáváme pro  $x$  pouze tři různé hodnoty. Dosazením do (1.15) pak jeden z kořenů má tvar

$$\frac{14}{\sqrt[3]{3(28 - 84i\sqrt{3})}} + \frac{\sqrt[3]{28 - 84i\sqrt{3}}}{6} - \frac{1}{3} \doteq 1, 247,$$

obdobně pro ostatní dva kořeny (přibližně  $-0, 445$  a  $-1, 802$ ). Jak jsme předeslali, vidíme, že i když se ve vzorcích pro kořeny vyskytují komplexní čísla, tak výsledek je reálný.  $\square$

Závěrem uvedme ještě jeden příklad ukazující, že „divné“ skaláry se chovají divně:

**1.17. Nenulový mnohočlen s nulovými hodnotami.** Najděte nenulový mnohočlen jedné neznámé s koeficienty v  $\mathbb{Z}_7$ , tj. výraz typu  $a_n x^n + \dots + a_1 x + a_0$ ,  $a_i \in \mathbb{Z}_7$ ,  $a_n \neq 0$ , takový, že na množině  $\mathbb{Z}_7$  nabývá pouze nulových hodnot (tj. dosadíme-li za  $x$  libovolný z prvků  $\mathbb{Z}_7$  a výraz v  $\mathbb{Z}_7$  vyčíslíme, dostaneme vždy nulu).

**Řešení.** Při konstrukci tohoto mnohočlenu se opřeme o Malou Fermatovu větu, která říká, že pro libovolné prvočíslo  $p$  a číslo  $a$  s  $\boxed{1.4}$  nesoudělné platí:

$$a^{p-1} \equiv 1 \pmod{p}.$$

Hledaný polynom je tedy například polynom  $x^7 - x$  (polynom  $x^6 - 1$  by neměl nulovou hodnotu v čísle 0).  $\square$

## B. Kombinatorika

V této kapitole si budeme hrát s přirozenými čísly, která budou popisovat různé nedělitelné předměty nacházející se v našem životním prostoru a budeme se zabývat tím, jak spočítat počet jejich uspořádání,

Naše definice funkce faktoriál říká, jak se změní hodnota  $f(n)$ , když změníme hodnotu  $n$  o jedničku. Vzorec pro  $n!$  již explicitně říká, kolik to je doopravdy. V tomto případě to není příliš efektivní vzorec, protože se jeho složitost zvětšuje s rostoucím  $n$ , lepší ale těžko hledat.

Podívejme se ještě na obyčejné sčítání přirozených čísel jako na operačně definovanou skalární funkci. Definičním oborem je množina všech dvojic  $(a, b)$  přirozených čísel. Definujeme  $a + b$  jako výsledek procedury, ve které k  $a$  několikrát po sobě přičítáme 1. Tak jsme vlastně obecně  $a + 1$  definovali v rovnicích (1.1). Při každém přičtení odebereme z  $b$  největší prvek a postupujeme tak, dokud není  $b$  prázdná (tj.  $b$  se postupně zmenšuje o jedničku a v každém kroku nám říká, kolik ještě zbývá přičíst).

Je evidentní, že takto definované sčítání sice je dáno (iterativním) vzorcem, postup ale není vhodný pro praktické počítání. Tak tomu bude v našem výkladu často – teoreticky korektní definice pojmu či operace neznamená, že úkony s nimi spojené jsou efektivně vykonatelné. Právě k tomu budeme postupně rozvíjet celé teorie, abychom praktické nástroje získávali. Co se týče přirozených čísel, od školky je umíme sčítat zpaměti a rychle (pokud jsou malá), pro větší známe ze základní školy algoritmus písemného sčítání a s velkými si poradí počítače (pokud nejsou příliš velká).

## 2. Kombinatorické veličiny

Typickým „kombinatorickým“ problémem je napočítat, kolika různými způsoby se může něco stát. Např. kolika způsoby lze vybrat v samoobsluze dva různé sendviče z dané nabídky? Myslíme si přitom, že jsou všechny sendviče v regálu po dvou různé nebo rozlišujeme jen různé typy sendvičů? Pripouštíme pak, že si také můžeme vzít dva stejné? Nepřeberně takových otázek máme u karetních a jiných her.

Při řešení konkrétních problémů většinou používáme buď tzv. „pravidlo součinu“, když v navzájem nezávislých úkonech kombinujeme každý výsledek s každým, nebo „pravidlo součtu“, když sčítáme počty pro různé neslučitelné možnosti. Prakticky to uvidíme v mnoha příkladech.

**1.5. Permutace.** Jestliže z množiny  $n$  předmětů vytváříme nějaké pořadí jejich prvků, máme pro volbu prvního prvku  $n$  možností, další je volen z  $n - 1$  možností atd., až nám nakonec zůstane jediný poslední prvek. Zjevně tedy je na dané konečné množině  $S$  s  $n$  prvky právě  $n!$  různých pořadí. Procesu uspořádávání prvků množiny  $S$  říkáme *permutace* prvků množiny  $S$ . Výsledkem permutace je pak vždy nějaké pořadí prvků. Jestliže si předem prvky v  $S$  očíslováme, tj. ztožníme si  $S$  s množinou  $S = \{1, \dots, n\}$   $n$  přirozených čísel, pak permutace odpovídají možným pořadím čísel od jedné do  $n$ . Máme tedy příklad jednoduché matematické věty a naši předchozí diskusi je možné považovat za její důkaz:

## POČET PERMUTACÍ

**Tvrzení.** Počet  $p(n)$  různých pořadí na konečné množině s  $n$  prvky je dán známou funkcí faktoriál:

$$e1.1a \quad (1.2) \quad p(n) = n!$$

1.4a

**1.6. Kombinace a variace.** Dalším jednoduchým příkladem hodnoty určené vzorcem jsou tzv. *kombinační čísla*, která vyjadřují, kolika způsoby lze vybrat  $k$  různých rozlišitelných předmětů z množiny  $n$  předmětů. Zjevně máme



$$n(n-1) \cdots (n-k+1)$$

možných výsledků postupného výběru našich  $k$  prvků, přitom ale stejnou výslednou  $k$ -tici dostaneme v  $k!$  různých pořadích. Pokud nám záleží i na pořadí vybrané  $k$ -tice prvků, hovoříme o *variaci  $k$ -tého stupně*.

Jak jsme si právě ověřili, počet kombinací a variací udávají následující vzorce, které také nejsou pro výpočet moc efektivní při velkých  $k$  a  $n$ , protože obsahují výrazy pro faktoriály.

## KOMBINACE A VARIACE

**Tvrzení.** Pro počet  $c(n, k)$  kombinací  $k$ -tého stupně z  $n$  prvků, kde  $0 \leq k \leq n$ , platí

$$e1.2 \quad (1.3) \quad c(n, k) = \binom{n}{k} = \frac{n(n-1) \cdots (n-k+1)}{k(k-1) \cdots 1} = \frac{n!}{(n-k)!k!}.$$

Pro počet  $v(n, k)$  variací platí

$$e1.2a \quad (1.4) \quad v(n, k) = n(n-1) \cdots (n-k+1)$$

pro všechny  $0 \leq k \leq n$  (a nula jinak).

Kombinační číslo  $\binom{n}{k}$  čteme „ $n$  nad  $k$ “ a nazýváme ho také někdy *binomickým číslem*. Tento název čísla dostala od tzv. *binomického rozvoje*, tj. roznásobení  $n$ -té mocniny dvojkleny. Počítáme-li totiž  $(a+b)^n$ , bude koeficient u mocniny  $a^k b^{n-k}$  pro každé  $0 \leq k \leq n$  roven právě počtu možností, jak vybrat  $k$ -tici z  $n$  závorek v součinu (ty, kde bereme do výsledku  $a$ ). Platí proto

$$e1.3 \quad (1.5) \quad (a+b)^n = \sum_{k=0}^n \binom{n}{k} a^k b^{n-k}$$

a všimněme si, že pro odvození jsme potřebovali pouze distributivitu, komutativitu a asociativitu násobení a sčítání. Formule (1.5) proto platí v každém komutativním okruhu.

Jako další jednoduchou ukázkou, jak vypadá matematický důkaz si odvodíme několik jednoduchých tvrzení o kombinačních číslech. Pro zjednodušení formulací definujeme  $\binom{n}{k} = 0$ , kdykoliv je buď  $k < 0$  nebo  $k > n$ .

1.5 **1.7. Tvrzení.** Pro všechna přirozená čísla  $k$  a  $n$  platí

přeuspořádání, výběrů a tak podobně. Ve velké většině takovýchto problémů lze vystačit se „selským rozumem“. Stačí vhodně používat pravidel *součtu* a *součinu*, která si ukážeme na následujících příkladech:

**1.18.** Maminka chce Jeníkovi a Mařence rozdělit pět hrušek a šest jablek. Kolika způsoby to může udělat? (Hrušky mezi sebou považujeme za nerozlišitelné, stejně tak jablka. Připouštíme, že některé z dětí nic nedostane.)

**Řešení.** Pět hrušek samostatně může maminka rozdělit šesti způsoby. (Rozdělení je určeno tím, kolik hrušek dá Jeníkovi, zbytek připadne Mařence.) Šest jablek pak nezávisle sedmi způsoby. Podle pravidla součinu pak obě ovoce současně může rozdělit  $6 \cdot 7 = 42$  způsoby.  $\square$

**1.19.** Určete počet čtyřciferných čísel, která začínají cifrou 1 a nekončí cifrou 2, nebo končí cifrou 2 a nezačínají cifrou 1.

**Řešení.** Množina uvažovaných čísel je složená ze dvou disjunktních množin, totiž čísel, která začínají cifrou 1 a nekončí cifrou 2 (první množina) a čísel, která nezačínají cifrou 1 a končí cifrou 2. Celkový počet popsanych čísel dostaneme podle pravidla součtu tak, že sečteme počty čísel v těchto dvou množinách. V první z těchto množin máme čísla tvaru „1XXY“, kde  $X$  je libovolná cifra a  $Y$  je libovolná číslice mimo dvojky. Můžeme tedy provést deset voleb druhé cifry, nezávisle na tom můžeme provést deset voleb třetí cifry a opět nezávisle devět voleb poslední cifry. Tyto tři nezávislé volby jednoznačně určují dané číslo a podle pravidla součinu máme tedy  $10 \cdot 10 \cdot 9 = 900$  takových čísel. Obdobně ve druhé skupině máme  $8 \cdot 10 \cdot 10 = 800$  čísel (na první cifru máme pouze osm možností, neboť číslo nemůže začínat nulou a jedničku máme zakázáno). Celkem podle pravidla součtu je  $900 + 800 = 1700$  uvažovaných čísel.  $\square$

**1.20.** Určete počet způsobů, jak lze na šachovnici ( $8 \times 8$  polí) postavit bílou a černou věž tak, aby se neohrožovaly (nebyly ve stejném řádku ani sloupci).

**Řešení.** Nejprve umístíme např. bílou věž. Pro ni máme na výběr z  $8^2$  polí. Ve druhém kroku umístíme věž černou. Nyní máme „ $k$  dispozici“  $7^2$  polí. Podle pravidla součinu je výsledek  $8^2 \cdot 7^2 = 3136$ .  $\square$

V následujících příkladech už budeme při řešení používat pojmů kombinace, permutace, variace (případně s opakováním), které jsme definovali.

**1.21.** Během schůze má vystoupit 8 řečníků. Stanovte počet všech pořadí, v nichž dva předem určené řečníci nevystupují ihned po sobě.

**Řešení.** Označme si zmíněné dva řečníky jako osoby  $A$  a  $B$ . Pokud hned po vystoupení osoby  $A$  následuje vystoupení osoby  $B$ , můžeme na to nahlížet jako na projev jediného řečníka. Počet všech pořadí, v nichž vystupuje  $B$  ihned po  $A$ , je tedy roven počtu všech permutací ze sedmi prvků. Stejný je pochopitelně také počet všech pořadí, v nichž vystupuje  $A$  ihned po  $B$ . Neboť počet všech možných pořadí 8 řečníků je  $8!$ , číslo  $8! - 2 \cdot 7!$  udává hledaný počet pořadí.  $\square$

**1.22.** Kolik existuje přesmyček slova PROBLÉM takových, že v nich

- písmena B a R stojí vedle sebe,
- písmena B a R nestojí vedle sebe.

**Řešení.** a) Dvojici písmen B a R můžeme považovat za jedno nedělitelné dvojpísmeno. Celkem tedy máme k dispozici šest různých písmen a šestipísmenných slov složených z různých písmen je  $6!$ . V našem případě však tento počet musíme ještě vynásobit dvěma, neboť naše dvojpísmeno může být jak BR tak RB. Celkem dostáváme  $2 \cdot 6!$  různých přesmyček.

b)  $7! - 2 \cdot 6!$  (doplňek části a) do počtu všech sedmipísmenných slov složených z různých písmen.  $\square$

**1.23.** Kolika způsoby může sportovec umístit 10 různých pohárů do 5 polic, jestliže se na každou polici vejde všech 10 pohárů?

**Řešení.** K pohárům přidáme 4 navzájem nerozlišitelné předměty, kupř. tužky. Počet všech různých pořadí pohárů a tužek je zřejmě  $14!/4!$  (tužky jsou nerozlišitelné). Každé umístění pohárů do polic ovšem odpovídá právě jednomu seřazení pohárů a tužek. Stačí třeba říci, že poháry před první tužkou v pořadí dáme do první police (při zachování pořadí), poháry před druhou tužkou do druhé police atd. To znamená, že číslo  $14!/4!$  je výsledkem.  $\square$

**1.24.** Určete počet čtyřciferných čísel sestavených z právě dvou různých cifer.

**Řešení.** Dvě různé cifry použité na zápis můžeme vybrat  $\binom{10}{2}$  způsoby, ze dvou vybraných cifer můžeme sestavit  $2^4 - 2$  různých čtyřciferných čísel (dvojku odečítáme za dvě čísla složená pouze z jedné cifry). Celkem máme  $\binom{10}{2}(2^4 - 2) = 630$  čísel. Nyní jsme ale započítali i čísla začínající nulou. Těch je  $\binom{9}{1}(2^3 - 1) = 63$ . Celkově dostáváme  $630 - 63 = 567$  čísel.  $\square$

**1.25.** Určete počet sudých čtyřciferných čísel sestavených z právě dvou různých cifer.

**Řešení.** Obdobně jako v předchozím příkladu se nejprve nebudeme ohlížet na cifru nula. Dostaneme tak  $\binom{5}{2}(2^4 - 2) + 5 \cdot 5(2^3 - 1)$  čísel (nejprve počítáme čísla pouze ze sudých cifer, druhý sčítanec udává

$$\begin{aligned} (1) \quad \binom{n}{k} &= \binom{n}{n-k} \\ (2) \quad \binom{n+1}{k+1} &= \binom{n}{k} + \binom{n}{k+1} \\ (3) \quad \sum_{k=0}^n \binom{n}{k} &= 2^n \\ (4) \quad \sum_{k=0}^n k \binom{n}{k} &= n2^{n-1}. \end{aligned}$$

**DŮKAZ.** První tvrzení je zjevné přímo z formule (1.3). Jestliže vyčíslíme pravou stranu z tvrzení (2), dostáváme

$$\begin{aligned} \binom{n}{k} + \binom{n}{k+1} &= \frac{n!}{k!(n-k)!} + \frac{n!}{(k+1)!(n-k-1)!} \\ &= \frac{(k+1)n! + (n-k)n!}{(k+1)!(n-k)!} \\ &= \frac{(n+1)!}{(k+1)!(n-k)!} \end{aligned}$$

což je ale levá strana tohoto tvrzení.

Tvrzení (3) dokážeme tzv. *matematickou indukcí*. Tento typ důkazu je vhodný právě pro tvrzení, která říkají, že něco má platit pro všechna přirozená čísla  $n$ . Matematická indukce se skládá ze dvou kroků. V prvním se tvrzení dokáže pro  $n = 0$  (případě  $n = 1$  nebo další hodnoty  $n$ ). V druhém, tzv. indukčním, kroku předpokládáme, že tvrzení platí pro nějaké  $n$  (a všechny předešlé hodnoty), a za pomoci tohoto předpokladu dokážeme, že tvrzení platí i pro  $n + 1$ . Dohromady z toho pak vyvodíme, že tvrzení platí pro všechna přirozená  $n$ .

Tvrzení (3) zjevně platí pro  $n = 0$ , protože  $\binom{0}{0} = 1 = 2^0$ . (Stejně tak je přímo vidět i pro  $n = 1$ .) Předpokládejme, že platí pro nějaké  $n$  a spočteme příslušnou sumu pro  $n + 1$  s využitím tvrzení (2) i (3). Dostaneme

$$\begin{aligned} \sum_{k=0}^{n+1} \binom{n+1}{k} &= \sum_{k=0}^{n+1} \left[ \binom{n}{k-1} + \binom{n}{k} \right] \\ &= \sum_{k=-1}^n \binom{n}{k} + \sum_{k=0}^{n+1} \binom{n}{k} = 2^n + 2^n = 2^{n+1}. \end{aligned}$$

Všimněme si, že vzorec (3) udává počet všech podmnožin  $n$ -prvkové množiny, neboť  $\binom{n}{k}$  je počet všech jejích  $k$ -prvkových podmnožin. Všimněme si také, že tvrzení (3) plyne přímo z (1.5) volbou  $a = b = 1$ .

Tvrzení (4) dokážeme opět matematickou indukcí, podobně jako (3). Zjevně platí pro  $n = 0$ , čímž je hotov první krok. Indukční předpoklad říká, že (4) platí pro nějaké  $n$ . Spočteme nyní příslušnou sumu pro  $n + 1$  s využitím tvrzení (2) a indukčního předpokladu. Dostaneme

$$\begin{aligned} \sum_{k=0}^{n+1} k \binom{n+1}{k} &= \sum_{k=0}^{n+1} k \left[ \binom{n}{k-1} + \binom{n}{k} \right] \\ &= \sum_{k=-1}^n (k+1) \binom{n}{k} + \sum_{k=0}^{n+1} k \binom{n}{k} \\ &= \sum_{k=0}^n \binom{n}{k} + \sum_{k=0}^n k \binom{n}{k} + \sum_{k=0}^n k \binom{n}{k} \end{aligned}$$



$$= 2^n + n2^{n-1} + n2^{n-1} = (n+1)2^n.$$

Tím je proveden indukční krok, a tvrzení je dokázáno pro všechna přirozená  $n$ .  $\square$

Druhá vlastnost z našeho tvrzení umožňuje sestavit všechna kombinační čísla do tzv. *Pascalova trojúhelníku*, kde každé číslo obdržíme jako součet dvou bezprostředně nad ním ležících sousedů:

$n = 0 :$				1								
$n = 1 :$			1		1							
$n = 2 :$			1		2		1					
$n = 3 :$			1		3		3	1				
$n = 4 :$			1		4		6		4	1		
$n = 5 :$			1		5		10		10		5	1

Všimněme si, že v jednotlivých řádcích máme právě koeficienty u jednotlivých mocnin z výrazu (1.5), např. poslední uvedený řádek říká

$$(a+b)^5 = a^5 + 5a^4b + 10a^3b^2 + 10a^2b^3 + 5ab^4 + b^5.$$

1.6

**1.8. Výběr s opakováním.** Pořadí  $n$  prvků, z nichž mezi některými nerozlišujeme, nazýváme *permutace s opakováním*.



Nechť je mezi  $n$  danými prvky  $p_1$  prvků prvního druhu,  $p_2$  prvků druhého druhu, ...,  $p_k$  prvků  $k$ -tého druhu,  $p_1 + p_2 + \dots + p_k = n$ , potom počet pořadí těchto prvků s opakováním budeme značit  $P(p_1, \dots, p_k)$ .

Podobně jako u permutací a kombinací bez opakování, pro výběr prvního z nich máme  $n$  možností, pro další  $n-1$  a tak dále, až po poslední, který zůstane. Přitom ale za stejná považujeme pořadí nerozlišitelných objektů. Těch je pro každou skupinku o  $p_i$  objektech právě  $p_i!$ , takže zřejmě platí

PERMUTACE S OPAKOVÁNÍM

$$P(p_1, \dots, p_k) = \frac{n!}{p_1! \dots p_k!}.$$

Volný výběr  $k$  prvků z  $n$  možností, včetně pořadí, nazýváme *variace  $k$ -tého stupně s opakováním*, jejich počet budeme značit  $V(n, k)$ . Volný výběr v tomto případě znamená, že předpokládáme, že stále máme pro výběr stejně možností, např. díky tomu, že vybrané prvky před dalším výběrem vracíme nebo třeba házíme pořad stejnou kostkou. Zřejmě platí

VARIACE S OPAKOVÁNÍM

$$V(n, k) = n^k.$$

Pokud nás výběr zajímá bez zohlednění pořadí, hovoříme o *kombinacích s opakováním* a pro jejich počet píšeme  $C(n, k)$ . Zde se na první pohled nezdá tak jednoduché, jak výsledný počet zjistit. Důkaz následující věty je pro matematiku typický – podaří se nám nový problém převést na problém jiný, který jsme už dříve zvládli. V našem

počet sudých čtyřciferných čísel složených ze sudé a liché cifry). Opět musíme odečíst čísla začínající nulou, těch je  $(2^3 - 1)4 + (2^2 - 1)5$ . Hledaný počet cifer tak je

$$\binom{5}{2}(2^4 - 2) + 5 \cdot 5(2^3 - 1) - (2^3 - 1)4 - (2^2 - 1)5 = 272.$$

$\square$

**1.26.** Na koncertě je 730 lidí. Mají někteří z nich stejné iniciály? (Neuvažujeme háčky ani čárky)

**Řešení.** Písmen v abecedě (včetně CH) je 27. Počet všech možných iniciálů je tedy  $27^2 = 729$ . Proto aspoň 2 lidé budou mít stejné iniciály.  $\square$

**1.27.** Noví hráči se sejdou v jednom volejbalovém týmu (6 lidí). Kolikrát si při seznamování (každý s každým) podají ruce? Kolikrát si hráči podají ruce se soupeřem po odehrání zápasu?

**Řešení.** Seznamuje se každá dvojice z šesti hráčů. Počet podání rukou je teda roven kombinaci  $C(2, 6) = \binom{6}{2} = 15$ . Po zápase si každý z šesti hráčů podá ruku šestkrát (s každým z šesti soupeřů). Počet je teda dohromady  $6^2 = 36$ .  $\square$

**1.28.** Jak se může rozesadit pět osob v pětimístném autě, když jen dva z nich mají řidičský průkaz? Jak se může rozesadit 20 cestujících a dva řidiči v 25-místném minibusu?

**Řešení.** Na místě řidiče máme dvě možnosti a na zbylých místech už je pořadí libovolné, tzn. pro spolujezdce 4 možnosti, pro další místo 3, pak 2 a 1. Celkově  $2 \cdot 4! = 48$  možností. Podobně v minibusu máme dvě možnosti na místě řidiče a druhý řidič plus cestující mohou na zbylých 24 místech sedět libovolně. Nejprve vybereme místa, která budou obsazena, tj.  $\binom{24}{2}$  a na těchto místech může být 21! různých pořadí. Dohromady máme  $2 \cdot \binom{24}{2} 21! = \frac{24!}{3}$  možností.  $\square$

**1.29.** Kolika způsoby lze do tří různých obálek rozmístit pět shodných stokorun a pět shodných tisícikorun tak, aby žádná nezůstala prázdná?

**Řešení.** Nejdříve zjistíme všechna rozmístění bez podmínky neprázdnosti. Těch je podle pravidla součinu (rozmísťujeme nezávisle stokoruny a tisícikoruny)  $C(3, 5)^2 = \binom{7}{2}^2$ . Odečteme postupně rozmístění, kdy je právě jedna obálka prázdná, a poté kdy jsou dvě obálky prázdné. Celkem  $C(3, 5)^2 - 3(C(2, 5)^2 - 2) - 3 = \binom{7}{2}^2 - 3(6^2 - 2) - 3 = 336$ .  $\square$

**1.30.** Určete počet různých vět, které vzniknou přesmyčkami v jednotlivých slovech věty „Skokan na koks“ (vzniklé věty ani slova nemusejí dávat smysl).

**Řešení.** Určíme nejprve počty přesmyček jednotlivých slov. Ze slova „skokan“ dostaneme  $6!/2$  různých přesmyček (permutace s opakováním  $P(1, 1, 1, 1, 2)$ ), obdobně ze slova „na“ dvě a ze slova „koks“  $4!/2$ . Celkem podle pravidla součinu  $6!4!/4 = 4320$ .  $\square$

**1.31.** Kolik existuje různých přesmyček slova „krakatit“ takových, že mezi písmeny „k“ je právě jedno jiné písmeno.

**Řešení.** V uvažovaných přesmyčkách je šest možností, jak umístit skupinu dvou „k“. Fixujeme-li pevně místa pro dvě písmena „k“, pak ostatní písmena můžeme rozmístit na zbylých šest míst libovolně, tedy  $P(1, 1, 2, 2)$  způsoby. Celkem podle pravidla součinu je hledaný počet

$$6 \cdot P(1, 1, 2, 2) = \frac{6 \cdot 6!}{2 \cdot 2} = 1080. \quad \square$$

**1.32.** Kolika způsoby můžeme do pěti různých důlků vybrat po jedné kouli, vybíráme-li ze čtyř bílých, čtyř modrých a tří červených koulí?

**Řešení.** Nejprve řešme úlohu v případě, že bychom měli k dispozici alespoň pět koulí od každé barvy. V tomto případě se jedná o volný výběr pěti prvků ze tří možností, tedy o variace s opakováním (viz 2.4.). Máme

$$V(3, 5) = 3^5.$$

Nyní odečteme ty výběry, ve kterých se vyskytují buď pouze koule stejné barvy (takové výběry jsou tři), nebo právě čtyři koule červené (takových výběrů je  $2 \cdot 5 = 10$ ; nejprve vybereme barvu koule, která nebude červená – dvě možnosti – a poté důlek, ve kterém bude – pět možností). Celkem tedy máme

$$3^5 - 3 - 10 = 230$$

možných výběrů.  $\square$

**1.33.** Kolika způsoby lze rozestavit  $n$  shodných věží na šachovnici  $n \times n$  tak, aby bylo každé neobsazené pole ohrožováno některou z věží?

**Řešení.** Daná rozestavení jsou sjednocením dvou množin: množiny rozestavení, kdy je alespoň v jednom řádku jedna věž (tedy v každém řádku právě jedna; tato množina má  $n^n$  prvků – v každém řádku vybereme nezávisle jedno pole pro věž) a množiny rozestavení, kdy je v každém sloupci alespoň (tedy právě) jedna věž (stejnou úvahou jako u první množiny má tato množina rovněž  $n^n$  prvků). Průnik těchto

případě je to převedení na problém standardních kombinací bez opakování:

KOMBINACE S OPAKOVÁNÍM

**Věta.** Počet kombinací s opakováním  $k$ -té třídy z  $n$  prvků je pro všechny  $k \geq 0$  a  $n \geq 1$

$$C(n, k) = \binom{n+k-1}{k}.$$

**DŮKAZ.** Důkaz je opřen o trik (jednoduchý, jakmile ho pochopíme). Uvedeme dva různé postupy.

Představme si nejprve, že taháme postupně karty z balíku  $n$  různých karet a abychom mohli případně některou z nich vytáhnout vícekrát, přidáme si k balíku ještě  $k-1$  různých žolíků (alespoň jednou určitě chceme jednu z původních karet). Řekněme, že postupně vytáhneme  $r$  původních karet a  $s$  žolíků, tj.  $r+s=k$ . Zdá se, že bychom měli vymyslet postup, jak z těch  $s$  žolíků poznat, které karty nám zastupují. Ve skutečnosti nám ale stačí diskuse počtů možností takových voleb.

K tomu můžeme použít matematickou indukci a předpokládat, že dokazovaná věta platí pro menší argumenty než jsou  $n$  a  $k$ . Skutečně, potřebujeme obsáhnout kombinace  $s$ -té třídy s opakováním z pouze  $r$  původních karet, což dává  $\binom{r+k-s}{s} = \binom{k-1}{s}$ , což je právě počet kombinací  $s$ -tého stupně (bez opakování) ze všech žolíků. Tím je věta dokázána.

Druhý přístup (bez matematické indukce): Na množině

$$S = \{a_1, \dots, a_n\},$$

ze které vybíráme kombinace, si zafixujeme uvedené pořadí prvků a pro naše volby prvků z  $S$  si připravíme  $n$  přihrádek, do kterých si již předem dáme v námi zvoleném pořadí po právě jednom prvku z  $S$ .

Jednotlivé volby  $x_i \in S$  přidáváme do přihrádky, která již tento prvek obsahuje. Nyní si uvědomme, že pro rozpoznání původní kombinace nám stačí vědět, kolik je prvků v jednotlivých přihrádkách. Například,

$$a | bbb | cc | d \simeq * | *** | ** | *,$$

vypovídá o volbě  $b, b, c$  z množiny  $S = \{a, b, c, d\}$ .

V obecném případě výběru  $k$  prvků z  $n$  možných tedy máme řetězec  $n+k$  znaků a počet  $C(n, k)$  je roven počtu možných umístění přihrádek | mezi jednotlivé znaky. To odpovídá výběru  $n-1$  pozic z  $n+k-1$  možných. Protože je

$$\binom{n+k-1}{k} = \binom{n+k-1}{n+k-1-k} = \binom{n+k-1}{n-1},$$

je věta dokázána i podruhé.  $\square$

### 3. Diferenční rovnice

V předchozích odstavcích jsme viděli vzorce, které dávaly hodnotu skalární funkce definované na přirozených číslech (faktoriál) nebo dvojicích čísel (binomická čísla) pomocí předcházejících hodnot. Zatímco v odstavci 1.5 jsou kombinační čísla definována přímo spočítatelným výrazem, lze rozumět vztahům v 1.8 také tak, že místo hodnoty naší funkce zadáváme její změnu při odpovídající změně nezávislé proměnné.



Takto se skutečně velice často postupuje při matematické formulaci modelů, které popisují reálné systémy v ekonomice, biologii apod. My si tu povšimneme jen několika jednoduchých případů a budeme se k této tématice postupně vracet.

1.7

**1.9. Lineární diferenční rovnice prvního řádu.** Obecnou diferenční rovnicí prvního řádu rozumíme výraz

$$f(n+1) = F(n, f(n)),$$

kde  $F$  je známá skalární funkce závislá na dvojicích přirozených čísel. Známe-li „počáteční“ hodnotu  $f(0)$ , můžeme spočítat  $f(1) = F(0, f(0))$ , poté  $f(2) = F(1, f(1))$  atd. Tímto postupným způsobem můžeme tedy nakonec spočítat hodnotu  $f(n)$  pro libovolné  $n \in \mathbb{N}$ . Všimněme si, že tato úvaha je podobná konstrukci přirozených čísel z prázdné množiny nebo principu matematické indukce.

Jako příklad může sloužit definiční formule pro faktoriál, tj.

$$(n+1)! = (n+1) \cdot n!$$

Vidíme, že skutečně vztah pro  $f(n+1)$  závisí na  $n$  i na hodnotě  $f(n)$ .

Dalším obzvlášť jednoduchým příkladem je  $f(n) = C$  pro nějaký pevný skalár  $C$  a všechna  $n$  a tzv. *lineární diferenční rovnice*

e1.4

$$(1.6) \quad f(n+1) = a \cdot f(n) + b,$$

kde  $a \neq 0$ ,  $a, b$  jsou známé skaláry.

Takovou diferenční rovnicí umíme snadno řešit, je-li  $b = 0$ . Pak se totiž jedná o dobře známou rekurentní definici geometrické posloupnosti a platí

$$f(1) = af(0), \quad f(2) = af(1) = a^2 f(0) \quad \text{atd.}$$

Máme tedy pro všechna  $n$

$$f(n) = a^n f(0).$$

To je např. vztah pro tzv. Malthusiánský model populačního růstu, který vychází z představy, že za zvolený časový interval vzroste populace s konstantní úměrou  $a$  vůči předchozímu stavu.

Dokážeme si obecný výsledek pro rovnice prvního řádu, které se podobají lineárním, ale připouští proměnné koeficienty  $a$  a  $b$ ,

e1.5

$$(1.7) \quad f(n+1) = a_n \cdot f(n) + b_n.$$

množin pak má  $n!$  prvků (místa pro věže vybíráme postupně od prvního řádku – tam máme  $n$  možností, ve druhém pak již pouze  $n-1$  možností – jeden sloupec je již obsazen, ...). Podle principu inkluze a exkluze je počet hledaných rozestavení:

$$2n^n - n!.$$

□

**1.34.** Kolika způsoby mohla skončit tabulka první fotbalové ligy, víme-li o ní, že žádné dva z trojice týmů Zbrojovka Brno, Baník Ostrava a Sigma Olomouc spolu v tabulce „nesousedí“? (Ligu hraje 16 mužstev.)

**Řešení.** *První způsob.* Hledaný počet spočítáme podle principu inkluze a exkluze tak, že od počtu všech možných tabulek odečteme počet tabulek, ve kterých sousedí některá dvojice z uvedených tří týmů a přičteme počet těch tabulek, ve kterých sousedí všechny tři týmy. Hledaný počet tedy je

$$16! - \binom{3}{2} \cdot 2! \cdot 15! + 3! \cdot 14! = 13599813427200.$$

*Jiné řešení.* Zmíněné tři týmy budeme považovat za „oddělovače“. Zbylých třináct týmů musíme rozdělit tak, aby mezi libovolnými dvěma oddělovači byl alespoň jeden tým. Navíc zbylé týmy můžeme mezi sebou nezávisle permutovat a rovněžtak oddělovače. Celkem tedy dostáváme

$$\binom{14}{3} \cdot 13! \cdot 3! = 13599813427200$$

možností. □

**1.35.** Pro libovolné pevné  $n \in \mathbb{N}$  určete počet všech řešení rovnice

$$x_1 + x_2 + \dots + x_k = n$$

v množině

- nezáporných
- kladných

celých čísel.

**Řešení.** a) Každé řešení  $(r_1, \dots, r_k)$ ,  $\sum_{i=1}^k r_i = n$  můžeme jednoznačně zašifrovat jako posloupnost jedniček a nul, ve které napíšeme nejprve  $r_1$  jedniček, pak nulu, pak  $r_2$  jedniček, nulu a tak dále. Posloupnost bude celkem obsahovat  $n$  jedniček a  $k-1$  nul. Každá taková posloupnost navíc zřejmě určuje nějaké řešení dané rovnice. Je tedy řešení tolik, kolik je posloupností, tedy  $\binom{n+k-1}{n}$ .

b) Hledáme-li řešení v oboru kladných celých čísel, tak si všimněme, že přirozená čísla  $x_1, \dots, x_k$  jsou řešením dané rovnice, právě

když jsou celá nezáporná čísla  $y_i = x_i - 1$ ,  $i = 1, \dots, k$ , řešením rovnice

$$y_1 + y_2 + \dots + y_k = n - k.$$

Těch je podle první části řešení  $\binom{n-1}{k-1}$ .  $\square$

### C. Diferenční rovnice

Diferenční rovnice (jinak řečeno též rekurentní vztahy) jsou vztahy mezi členy nějaké posloupnosti, přičemž následující člen je dán pomocí členů předchozích. Vyřešit diferenční rovnici pak znamená najít explicitní vzorec pro  $n$ -tý (libovolný) člen dané posloupnosti. Rekurentní vztah nám totiž po zadání několika prvních členů posloupnosti zadává  $n$ -tý člen přímo pouze pomocí postupného vyčíslení všech předchozích členů.

Pokud je následující člen posloupnosti určen pouze předchozím členem, hovoříme o diferenčních rovnicích prvního řádu. S nimi se můžeme v životě opravdu setkat, například, pokud si chceme zjistit dobu splácení nějaké půjčky při pevné měsíční splátce, nebo naopak chceme zjistit výši měsíční splátky, zadáme-li si dobu, za kterou chceme půjčku splatit.

**1.36.** Mirek si chce koupit nové auto. Auto stojí 300 000 Kč. Mirek by chtěl auto koupit na měsíční splátky. Prodávající společnost mu nabízí půjčku na koupi auta s ročním úrokem 6%. Mirek by chtěl auto splatit za tři roky. Jak vysoká bude měsíční splátka?

**Řešení.** Označme Mirkovu měsíční splátku  $S$ . Po prvním měsíci splatí Mirek  $S$  korun, z nichž část půjde na vlastní splátku, část na splacení úroku. Částku, kterou bude Mirek dlužit po uplynutí  $k$  měsíců označme  $d_k$ . Po prvním měsíci bude Mirek dlužit

$$d_1 = 300000 - S + \frac{0,06}{12} \cdot 300000.$$

Obecně po uplynutí  $k$ -tého měsíce

$$(1.1) \quad d_k = d_{k-1} - S + \frac{0,06}{12} d_{k-1}.$$

Podle vztahu (1.9) je  $d_k$  dáno následovně

$$d_k = \left(1 + \frac{0,06}{12}\right)^k 300000 - \left[\left(1 + \frac{0,06}{12}\right)^k - 1\right] \left(\frac{12S}{0,06}\right).$$

Splacení po třech letech se rovná podmínce  $d_{36} = 0$ , odkud dostáváme

$$(1.2) \quad S = 300000 \left( \frac{\frac{0,06}{12}}{1 - \left(1 + \frac{0,06}{12}\right)^{-36}} \right) \doteq 9127.$$

1.9

e1.7

Nejdříve se ale zamysleme, co mohou takové rovnice popisovat.

Lineární diferenční rovnici (1.6) můžeme pěkně interpretovat jako matematický model pro spoření nebo splácení úvěru s pevnou úrokovou mírou  $a$  a pevnou splátkou  $b$  (tyto dva případy se liší pouze znaménkem u parametru  $b$ ).



S proměnnými parametry dostáváme obdobný model, ovšem s proměnlivými jak úroky, tak splátkami. Můžeme si představit třeba  $n$  jako počet měsíců,  $a_n$  bude vyjadřovat úrokovou míru v měsíci  $n$ ,  $b_n$  příslušnou splátku v měsíci  $n$ .

Neděste se zdánlivě složitým sčítáním a násobením v následujícím výsledku. Jde o typický příklad technického matematického tvrzení, kdy těžké je „uhodnout“, jak zní. Naopak důkaz je už pak jen docela snadné cvičení na základní vlastnosti skalárů a matematickou indukci. Skutečně zajímavé jsou teprve důsledky, viz 1.11 níže.

Ve formulaci používáme vedle obvyklých znaků pro součet  $\sum$  také obdobné znaky pro součin  $\prod$ . V dalším budeme vždy používat také konvenci, že pokud u součtu je množina uvedených indexů prázdná, pak je součet nula, zatímco u součinu je ve stejném případě výsledek jedna.

**1.10. Tvrzení.** *Obecné řešení diferenční rovnice (1.7) prvního řádu s počáteční podmínkou  $f(0) = y_0$  je dáno vztahem*

$$(1.8) \quad f(n) = \left(\prod_{i=0}^{n-1} a_i\right) y_0 + \sum_{j=0}^{n-2} \left(\prod_{i=j+1}^{n-1} a_i\right) b_j + b_{n-1}.$$



DŮKAZ. Tvrzení dokážeme matematickou indukci.

Zjevně tvrzení platí pro  $n = 1$ , kdy se jedná právě o definiční vztah  $f(1) = a_0 y_0 + b_0$ .

Předpokládáme-li, že tvrzení platí pro nějaké pevně zvolené  $n$ , můžeme snadno spočítat:

$$\begin{aligned} f(n+1) &= a_n \left( \left(\prod_{i=0}^{n-1} a_i\right) y_0 + \sum_{j=0}^{n-2} \left(\prod_{i=j+1}^{n-1} a_i\right) b_j + b_{n-1} \right) \\ &\quad + b_n \\ &= \left(\prod_{i=0}^n a_i\right) y_0 + \sum_{j=0}^{n-1} \left(\prod_{i=j+1}^n a_i\right) b_j + b_n, \end{aligned}$$

jak se přímo vidí roznásobením výrazů.  $\square$

Opět si všimněme, že jsme pro důkaz nepotřebovali o použitých skalárech nic víc než vlastnosti komutativního okruhu.

**1.11. Důsledek.** *Obecné řešení lineární diferenční rovnice (1.6) s  $a \neq 1$  a počáteční podmínkou  $f(0) = y_0$  je*

$$(1.9) \quad f(n) = a^n y_0 + \frac{1 - a^n}{1 - a} b.$$

DŮKAZ. Dosazením konstantních hodnot za  $a_i$  a  $b_i$  do obecného vzorce (1.8) dostáváme

$$f(n) = a^n y_0 + b \left( 1 + \sum_{j=0}^{n-2} a^{n-j-1} \right).$$

Pro vyčíslení součtu součinnů v druhém sčítanci si je třeba všimnout, že se jedná o výrazy  $(1 + a + \dots + a^{n-1})b$ . Součet této geometrické řady spočteme ze vztahu  $1 - a^n = (1 - a)(1 + a + \dots + a^{n-1})$  a dostaneme právě požadovaný výsledek.  $\square$



Všimněme si, že pro výpočet součtu geometrické řady jsme potřebovali existenci inverze pro nenulové skaláry. To bychom nad celými čísly neuměli. Poslední výsledek tedy platí pro pole skalárů a můžeme jej bez problému použít pro lineární diferenciální rovnice, kde koeficienty  $a$ ,  $b$  a počáteční podmínka  $f(0) = y_0$  jsou racionální, reálné nebo komplexní, ale také nad okruhem zbytkových tříd  $\mathbb{Z}_k$  s prvočíselným  $k$  (zbytkové třídy budeme definovat v odstavci 1.41).

Pozoruhodné je, že ve skutečnosti vzorec (1.9) platí i s celočíselnými koeficienty a počáteční podmínkou. Pak totiž předem víme, že všechny  $f(n)$  budou také celočíselné, a celá čísla jsou podmnožinou v číslech racionálních. Musí proto nutně náš vzorec dávat ta správná celočíselná řešení.

Při pozornějším pohledu na důkaz je zřejmé, že  $1 - a^n$  je vždy dělitelné  $1 - a$ , takže nás poslední pozorování nemělo překvapit. Nicméně je vidět, že třeba nad skaláry ze  $\mathbb{Z}_4$  a třeba  $a = 3$  už neuspějeme, protože pak  $1 - a = 2$  je dělitelem nuly.

**1.12. Nelineární příklad.** Vraťme se na chvíli k rovnici prvního řádu (1.6), kterou jsme použili na velice primitivní model populačního růstu závisující přímo úměrně na okamžité velikosti populace  $p$ . Na první pohled je zřejmé, že takový model vede při úměře  $a > 1$  k příliš rychlému a hlavně neomezenému růstu.

Realističtější model bude mít také přímkydelirovinu ~~úměrnou změnu po~~ populace  $\Delta p(n) = p(n+1) - p(n)$  jen při malých hodnotách  $p$ , tj.  $\Delta p/p \sim r > 0$ . Pokud tedy budeme chtít nechat růst populaci o 5% za období při malém  $p$ , budeme  $r$  volit 0, 05. Při určité limitní hodnotě  $p = K > 0$  ale naopak už populace neroste a při ještě větších už klesá (třeba protože zdroje pro její obživu jsou omezené, jedinci ve veliké populaci si navzájem překáží apod.).

Předpokládejme, že právě hodnoty  $y_n = \Delta p(n)/p(n)$  se v závislosti na  $p(n)$  mění lineárně. Graficky si tedy tuto závislost můžeme představit jako přímku v rovině proměnných  $p$  a  $y$ , která prochází body  $[0, r]$  (tj. při  $p = 0$  máme  $y = r$ ) a  $[K, 0]$  (což dává druhou podmínku, že při  $p = K$  se populace nemění). Položíme proto

$$y = -\frac{r}{K}p + r.$$

Všimněme si, že rekurentní vztah (1.1) můžeme použít na náš příklad pouze tak dlouho, dokud budou všechna  $y(n)$  kladná, tj. dokud bude Mírek skutečně něco dlužit.

**1.37.** Uvažujme situaci z předchozího příkladu. Jak dlouho by Mírek auto splácel, kdyby chtěl měsíčně splácet 5000 Kč?

**Řešení.** Při označení  $q = 1,005$ ,  $c = 300000$  nám podmínka  $d_k = 0$  dává vztah

$$q^k = \frac{200S}{200S - c},$$

jehož logaritmováním obdržíme

$$k = \frac{\ln 200S - \ln(200S - c)}{\ln q},$$

což pro  $S = 5000$  dává přibližně  $k = 71,5$ , tedy splácení půjčky by trvalo šest let (poslední splátka by nebyla plných 5 000 Kč).  $\square$

**1.38.** Určete posloupnost  $\{y_n\}_{n=1}^{\infty}$ , která vyhovuje následujícímu rekurentnímu vztahu

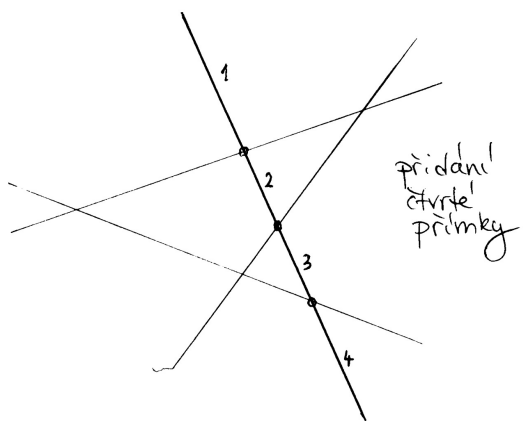
$$y_{n+1} = \frac{3y_n}{2} + 1, \quad n \geq 1, \quad y_1 = 1.$$

Lineární rekurentní vztahy se mohou vyskytnout například v geometrických problémech:

**1.39.** Na kolik nejvýše oblastí může dělit rovinu  $n$  přímek?

**Řešení.** Označme hledaný počet oblastí  $p_n$ . Pokud v rovině nemáme danu žádnou přímku, je celá rovina jedinou oblastí, je tedy  $p_0 = 1$ . Pokud je v rovině dáno  $n$  přímek, tak přidáním  $n + 1$  přibude nejvýše  $(n + 1)$  oblastí: oblastí přibude právě tolik, kolika (původními) oblastmi bude přímka procházet (každou takovou oblast rozdělí na dvě části, jedna oblast tedy přibude). Přidaná přímka může mít nejvýše  $n$  různých průsečíků s  $n$  přímkami, které už v rovině byly. Část přímky mezi libovolnými dvěma sousedními průsečíky prochází právě jednou oblastí, celkem může přidaná přímka procházet nejvýše  $n+1$  oblastmi, tedy může přibýt maximálně  $n + 1$  oblastí, navíc v rovině bylo před přidáním  $(n + 1)$ -ní přímky nejvýše  $p_n$  oblastí (tak jsme číslo  $p_n$  totiž definovali).

tady to asi není šikovné — příklady na zbytkové třídy snad budou v druhém sloupci už dřívě, nejlépe by bylo i z tohoto udělat příklad a odtud to přesunout (nebo úplně vypustit) . 1 1



e1.7a

Celkem dostáváme rekurentní vztah

$$p_{n+1} = p_n + (n + 1),$$

ze kterého získáme explicitní formuli pro  $p_n$  buď pomocí vzorce 1.10 nebo přímo:

$$\begin{aligned} p_n &= p_{n-1} + n = p_{n-2} + (n-1) + n = \\ &= p_{n-3} + (n-2) + (n-1) + n = \dots = p_0 + \sum_{i=1}^n i = \\ &= 1 + \frac{n(n+1)}{2} = \frac{n^2 + n + 2}{2} \end{aligned}$$

□

Rekurentní vztahy mohou mít i složitější podobu než je rekurze prvního řádu. Uvedme si příklady kombinatorických úloh, při jejichž řešení se můžeme rekurze s výhodou využít.

**1.40.** Kolik existuje slov délky 12 složených pouze z písmen  $A$  a  $B$ , které neobsahují skupinu  $BBB$ ?

**Řešení.** Nechť  $a_n$  značí počet slov délky  $n$  složených pouze z písmen  $A$ ,  $B$ , neobsahujících skupinu  $BBB$ . Pak pro  $a_n$  ( $n \geq 3$ ) platí rekurentní vztah

$$a_n = a_{n-1} + a_{n-2} + a_{n-3},$$

neboť slova délky  $n$  splňující danou podmínku musí končit buď na  $A$ , nebo na  $AB$ , nebo na  $ABB$ . Slova končících na  $A$  je právě  $a_{n-1}$  (před posledním  $A$  může být libovolné slovo délky  $n-1$  splňující danou podmínku). Obdobně pro zbylé dvě skupiny. Dále snadno vyčíslíme  $a_1 = 2$ ,  $a_2 = 4$ ,  $a_3 = 7$ . Postupným dopočítáním

$$a_{12} = 1705.$$

Dosazením  $y_n$  za  $y$  a  $p(n)$  za  $p$  dostáváme

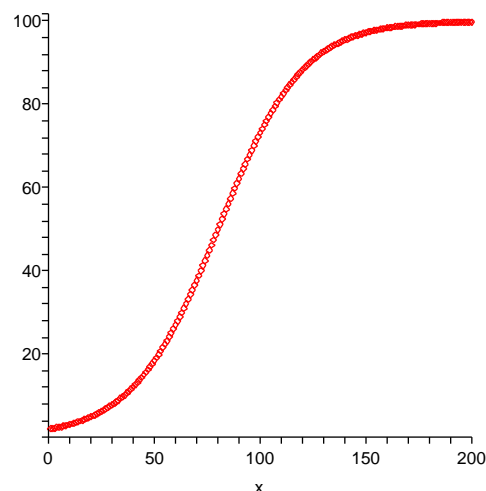
$$\frac{p(n+1) - p(n)}{p(n)} = -\frac{r}{K}p(n) + r,$$

tj. roznásobením dostáváme diferenční rovnici prvního řádu (kde hodnota  $p(n)$  vystupuje v první i v druhé mocnině)

$$(1.10) \quad p(n+1) = p(n)\left(1 - \frac{r}{K}p(n) + r\right).$$



Zkuste si promyslet nebo vyzkoušet chování tohoto modelu pro různé hodnoty  $r$  a  $K$ . Na obrázku je průběh hodnot pro parametry  $r = 0,05$  (tj. pětiprocentní nárůst v ideálním stavu),  $K = 100$  (tj. zdroje limitují hodnotu na 100 jedinců) a  $p(0)$  jsou dva jedinci.



Všimněme si, že počáteční přibližně exponenciální růst se skutečně později zlomí a hodnota se postupně blíží kýžnému limitu 100 jedinců. Pro  $p$  blízké jedné a  $K$  daleko větší než  $r$  bude pravá strana rovnice (1.10) přibližně  $p(n)(1+r)$ , tzn. chování je obdobné Malthusiánskému modelu. Naopak při  $p$  přibližně  $K$  bude pravá strana přibližně  $p(n)$ . Pro větší počáteční hodnoty  $p$  než  $K$  budou hodnoty klesat, pro menší než  $K$  růst, takže systém bude zpravidla postupně oscilovat kolem hodnoty  $K$ .

#### 4. Pravděpodobnost



Teď se podíváme na jiný obvyklý případ skalárních hodnot funkcí – sledované hodnoty často nejsou známy ani explicitně vzorcem, ani implicitně nějakým popisem. Jsou výsledkem nějaké nahodilosti a my se snažíme popsat s jakou *pravděpodobností* nastane ta či ona možnost.

**1.13. Co je pravděpodobnost?** Jako jednoduchý příklad může sloužit obvyklé házení kostkou se šesti stěnami s označeními

1, 2, 3, 4, 5, 6.

Pokud popisujeme matematický model takového házení „pocitivou“ kostkou, budeme očekávat a tudíž i předepisovat, že každá ze stran padá stejně často. Slovy to vyjadřujeme „každá předem vybraná stěna padne s pravděpodobností  $\frac{1}{6}$ “.

Pokud ale si třeba sami nožičkem vyrobíme takovou kostku z kusu dřeva, je jisté, že skutečné relativní četnosti výsledků nebudou stejné. Pak můžeme z velikého počtu pokusů usoudit na relativní četnosti jednotlivých výsledků hodů a tyto ustanovit jako pravděpodobnosti v našem matematickém popisu. Nicméně při sebevětším počtu pokusů nemůžeme vyloučit možnost, že se náhodou povedla velice nepravděpodobná kombinace výsledků a že jsme proto náš matematický model skutečnosti pro naši kostku nevybrali dobře.

V dalším budeme pracovat s abstraktním matematickým popisem pravděpodobnosti v nejjednodušším přiblížení. To, do jaké míry je takový popis adekvátní pro konkrétní pokusy či jiný problém, je záležitostí mimo samotnou matematiku. To ale neznamená, že by se takovým přemýšlením neměli zabývat matematikové (nejspíše ve spolupráci s jinými experty). Později se vrátíme k pravděpodobnosti coby teorii popisující chování nahodilých procesů nebo i plně determinovaných dějů, kde ovšem neznáme přesně všechny určující parametry.

Matematická statistika pak umožňuje posuzovat, do jaké míry lze očekávat, že vybraný model je ve shodě s realitou, resp. umožňuje určit parametry modelu tak, aby docházelo k co nejlepší shodě s pozorováním a zároveň umí odhadnout míru spolehlivosti zvoleného modelu.

K matematické pravděpodobnosti i statistice ovšem budeme potřebovat dosti rozsáhlý matematický aparát, který budeme mezitím několik semestrů budovat.

Na příkladu naší neumělé kostky si to můžeme představit tak, že v teorii pravděpodobnosti budeme pracovat s parametry  $p_i$  pro pravděpodobnost jednotlivých hodnot stran a budeme požadovat pouze aby všechny tyto pravděpodobnosti byly nezáporné a jejich součet byl

$$p_1 + p_2 + p_3 + p_4 + p_5 + p_6 = 1.$$

Při volbě konkrétních hodnot  $p_i$  pro konkrétní kostku pak v matematické statistice budeme schopni odhadnout s jakou spolehlivostí tento model naší kostce odpovídá.

Naším skromným cílem je teď pouze naznačit, jak abstraktně zachytit pravděpodobnostní úvahy ve formalizovaných matematických objektech. Následující odstavce tak budou ve své podstatě pouhými cvičeními v jednoduchých operacích nad množinami a jednoduché kombinatorice (tj. výpočtech počtu možností, jak mohou být splněny dané podmínky kladené na konečné množiny prvků).

Těž bychom mohli odvodit explicitní vzorec pro  $n$ -tý člen takto zadané posloupnosti, dle uvedené teorie. Charakteristický polynom dané rekurentní rovnice je  $x^3 - x^2 - x - 1$  s jedním reálným a dalšími dvěma komplexními kořeny, které můžeme vyjádřit pomocí vztahů (1.15).  $\square$

**1.41.** Skóre basketbalového utkání mezi týmy Česka a Ruska vy-



znělo po první čtvrtině 12 : 9 pro ruský tým. Kolika způsoby se mohlo vyvíjet skóre? K výpočtu můžete použít výpočetní techniky.

**Řešení.** Označíme-li  $P_{(k,l)}$  počet způsobů, kterými se mohlo vyvíjet skóre basketbalového utkání, které skončilo  $k : l$ , tak pro  $k, l \geq 3$  platí rekurentní vztah:

$$P_{(k,l)} = P_{(k-3,l)} + P_{(k-2,l)} + P_{(k-1,l)} + P_{(k,l-1)} + P_{(k,l-2)} + P_{(k,l-3)}.$$

(Způsoby, kterými se mohlo vyvíjet utkání s výsledným skóre  $k : l$  rozdělíme na šest po dvou disjunktních podmnožin podle toho, které družstvo vstřelilo koš a za kolik bodů (1, 2, či 3).) Ze symetrie úlohy zřejmě platí  $P_{(k,l)} = P_{(l,k)}$ . Dále pro  $k \geq 3$  platí:

$$P_{(k,2)} = P_{(k-3,2)} + P_{(k-2,2)} + P_{(k-1,2)} + P_{(k,1)} + P_{(k,0)},$$

$$P_{(k,1)} = P_{(k-3,1)} + P_{(k-2,1)} + P_{(k-1,1)} + P_{(k,0)},$$

$$P_{(k,0)} = P_{(k-3,0)} + P_{(k-2,0)} + P_{(k-1,0)},$$

což spolu s počátečními podmínkami  $P_{(0,0)} = 1$ ,  $P_{(1,0)} = 1$ ,  $P_{(2,0)} = 2$ ,  $P_{(3,0)} = 4$ ,  $P_{(1,1)} = 2$ ,  $P_{(2,1)} = P_{(1,1)} + P_{(0,1)} + P_{(2,0)} = 5$ ,  $P_{(2,2)} = P_{(0,2)} + P_{(1,2)} + P_{(2,1)} + P_{(2,0)} = 14$ , dává

$$P_{(12,9)} = 497178513.$$

$\square$

**Poznámka.** Vidíme, že rekurentní vztah v tomto příkladu má složitější formu, než kterou jsme se zabývali v teorii a tudíž neumíme vyčísřit libovolné číslo  $P_{(k,l)}$  explicitně, nýbrž pouze postupným výpočtem od počátečních členů. Takové rovnice nazýváme parciální diferenční rovnice, protože členy posloupnosti jsou značeny dvěma nezávislými proměnnými  $(k, l)$ .

O lineárních rekurentních formulích (diferenčních rovnicích) vyšších řádů s konstantními koeficienty si povíme více v kapitole 3.

## D. Pravděpodobnost

### Klasická pravděpodobnost

Uvedme si několik jednoduchých příkladů na klasickou pravděpodobnost, kdy zkoumáme nějaký pokus, který má konečně mnoho

**1.14. Náhodné jevy.** Budeme pracovat s neprázdnou pevně zvolenou množinou  $\Omega$  všech možných výsledků, kterou nazýváme *základní prostor*. Pro jednoduhost bude pro nás  $\Omega$



možných výsledků („všechny případy“) a nás zajímá, kdy výsledek pokusu bude náležet nějaké podmnožině možných výsledků („příznivé případy“). Hledaná pravděpodobnost je pak rovna poměru počtu příznivých případů ku počtu všech případů. Klasickou pravděpodobnost můžeme použít tam, kde předpokládáme (víme), že každý z možných výsledků má stejnou pravděpodobnost toho, že nastane (například při hodech kostkou).

**1.42.** Jaká je pravděpodobnost, že při hodu šestibokou kostkou padne číslo větší než 4?

**Řešení.** Všech možných výsledků je šest (tvoří množinu  $\{1, 2, 3, 4, 5, 6\}$ ), příznivé možnosti jsou dvě ( $\{5, 6\}$ ). Hledaná pravděpodobnost je tedy  $2/6 = 1/3$ .  $\square$

**1.43.** Ze skupiny osmi mužů a čtyř žen náhodně vybereme skupinu pěti lidí. Jaká je pravděpodobnost, že v ní budou alespoň tři ženy?

**Řešení.** Pravděpodobnost spočítáme jako podíl počtu příznivých případů ku počtu všech případů. Příznivé případy rozdělíme podle toho, kolik je v náhodně vybrané skupině mužů: mohou v ní být buď dva, nebo jeden muž. Skupinek o pěti lidech s jedním mužem je osm (záleží pouze na výběru muže, ženy v ní musí být všechny), skupinek se dvěma muži je potom  $c(8, 2) \cdot c(4, 3) = \binom{8}{2} \cdot \binom{4}{3}$  (vybereme dva muže z osmi a nezávisle na tom tři ženy ze čtyř, tyto dva výběry můžeme nezávisle kombinovat a podle pravidla součinu dostáváme uvedený počet skupin). Všech možných skupin o pěti lidech pak můžeme sestavit  $c(12, 5) = \binom{12}{5}$ . Hledaná pravděpodobnost je tedy

$$\frac{8 + \binom{4}{3} \binom{8}{2}}{\binom{12}{5}}.$$

Uvedme si příklad, při jehož řešení není vhodné používat klasické pravděpodobnosti:

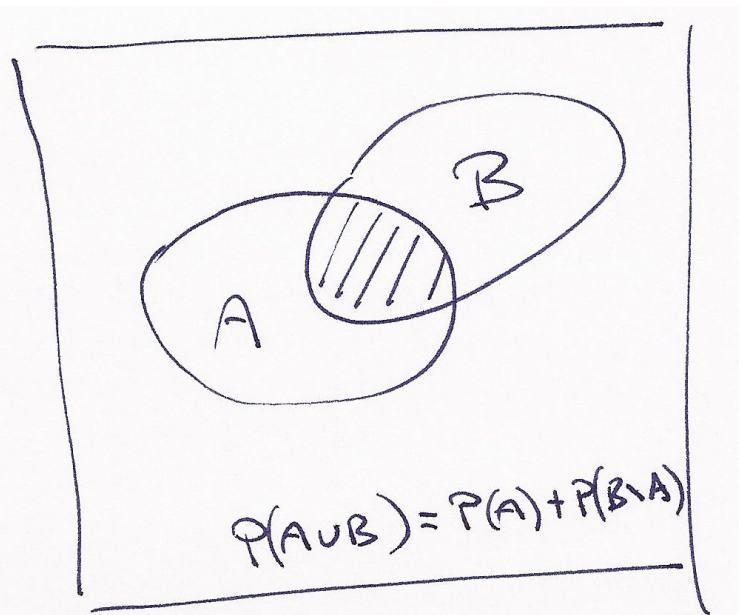
**1.44.** Jaká je pravděpodobnost toho, že čtenář této úlohy vyhraje příští týden alespoň milion dolarů v loterii?

**Řešení.** Takováto formulace úlohy je neúplná, neposkytuje dostatek údajů. Předvedme „chybné“ řešení Základní prostor všech možných jevů je dvouprvkový: buď vyhraje nebo nevyhraje. Příznivý jev je jeden (vyhraje), hledaná pravděpodobnost je tedy  $1/2$  (a to je zjevně špatná odpověď).  $\square$

**Poznámka.** V předchozím příkladě je porušena základní podmínka použití klasické pravděpodobnosti, totiž to, že každý z elementárních jevů má stejnou pravděpodobnost toho, že nastane.

konečná množina s prvky  $\omega_1, \dots, \omega_n$ , představujícími jednotlivé *možné výsledky*. Každá podmnožina  $A \subset \Omega$  představuje možný *jev*. Systém podmnožin  $\mathcal{A}$  základního prostoru se nazývá *jevové pole*, jestliže

- $\Omega \in \mathcal{A}$  (tj. základní prostor, je jevem),
- je-li  $A, B \in \mathcal{A}$ , pak  $A \setminus B \in \mathcal{A}$  (tj. pro každé dva jevy je jevem i jejich množinový rozdíl),
- jsou-li  $A, B \in \mathcal{A}$ , pak  $A \cup B \in \mathcal{A}$  (tj. pro každé dva jevy je jevem i jejich sjednocení).



Zjevně je i komplement  $A^c = \Omega \setminus A$  jevu  $A$  jevem, který nazýváme *opačný jev* k jevu  $A$ . Průnik dvou jevů je opět jevem, protože pro každé dvě podmnožiny  $A, B \subset \Omega$  platí

$$A \setminus (\Omega \setminus B) = A \cap B.$$

Slovy se tak dá jevové pole charakterizovat jako systém podmnožin (konečného) základního prostoru uzavřený na průniky, sjednocení a rozdíly. Jednotlivé množiny  $A \in \mathcal{A}$  nazýváme *náhodné jevy* (vzhledem k  $\mathcal{A}$ ).

Pro naše házení kostkou je  $\Omega = \{1, 2, 3, 4, 5, 6\}$  a jevové pole je tvořeno všemi podmnožinami množiny  $\Omega$ . Např. náhodný jev  $\{1, 3, 5\}$  pak interpretujeme jako „padne liché číslo“.

Něco málo terminologie, která by měla dále připomínat souvislosti s popisem skutečných modelů:

- celý základní prostor  $\Omega$  se nazývá *jistý jev*, prázdná podmnožina  $\emptyset \in \mathcal{A}$  se nazývá *nemožný jev*,
- jednoprvkové podmnožiny  $\{\omega\} \subset \Omega$  se nazývají *elementární jevy*,
- *společné nastoupení jevů*  $A_i, i \in I$ , odpovídá jevu  $\bigcap_{i \in I} A_i$ , *nastoupení alespoň jednoho z jevů*  $A_i, i \in I$ , odpovídá jevu  $\bigcup_{i \in I} A_i$ ,
- $A, B \in \mathcal{A}$  jsou *neslučitelné jevy*, je-li  $A \cap B = \emptyset$ ,
- jev  $A$  má za *důsledek* jev  $B$ , když  $A \subset B$ ,



Přestavte si příklady všech uvedených pojmů pro jevový prostor popisující házení kostkou nebo obdobně pro házení mincí!

**1.15. Definice.** *Pravděpodobnostní prostor* je trojice  $(\Omega, \mathcal{A}, P)$ , kde  $\mathcal{A}$  je jevové pole podmnožin (konečného) základního prostoru  $\Omega$ , na kterém je definována skalární funkce  $P : \mathcal{A} \rightarrow \mathbb{R}$  s následujícími vlastnostmi:

- $P$  je nezáporná, tj.  $P(A) \geq 0$  pro všechny jevy  $A$ ,
- $P$  je aditivní, tj.  $P(A \cup B) = P(A) + P(B)$ , kdykoliv je  $A, B \in \mathcal{A}$  a  $A \cap B = \emptyset$ ,
- pravděpodobnost jistého jevu je 1, tj.  $P(\Omega) = 1$ .

Funkci  $P$  nazýváme *pravděpodobností* na jevovém poli  $\mathcal{A}$ .

Zjevně je okamžitým důsledkem našich definic řada prostých ale užitečných tvrzení. Např. pro všechny jevy platí

$$P(A^c) = 1 - P(A).$$

Dále můžeme matematickou indukcí snadno rozšířit aditivnost na jakýkoliv konečný počet vzájemně neslučitelných jevů  $A_i \subset \Omega, i \in I$ , tj.

$$P(\cup_{i \in I} A_i) = \sum_{i \in I} P(A_i),$$

kdykoliv  $A_i \cap A_j = \emptyset$ , pro všechna  $i \neq j, i, j \in I$ .

**1.16. Definice.** Nechť  $\Omega$  je konečný základní prostor a nechť jevové pole  $\mathcal{A}$  je právě systém všech podmnožin v  $\Omega$ . *Klasická pravděpodobnost* je pravděpodobnostní prostor  $(\Omega, \mathcal{A}, P)$  s pravděpodobnostní funkcí

$$P : \mathcal{A} \rightarrow \mathbb{R}, \quad P(A) = \frac{|A|}{|\Omega|},$$

kde  $|A|$  značí počet prvků množiny  $A \in \mathcal{A}$ .

Zjevně takto zadaná funkce skutečně definuje pravděpodobnost, ověřte si samostatně všechny požadované axiomy.

**1.17. Sčítání pravděpodobností.** U neslučitelných jevů je sčítání pravděpodobností pro výskyt alespoň jednoho z nich přímo požadováno v základní definici pravděpodobnosti. Obecně je sčítání pravděpodobností pro výskyt jevů složité. Problém totiž je, že pokud jsou jevy slučitelné, částečně máme v součtu pravděpodobností započteny příznivé výskyt vícekrát.

Nejjednodušší je si nejprve představit situaci se dvěma slučitelnými jevy  $A, B$ . Uvažme nejprve klasickou pravděpodobnost, kde jde vlastně o počítání prvků v podmnožinách. Pravděpodobnost výskytu alespoň jednoho z nich, tj. pravděpodobnost jejich sjednocení, je dána vztahem

e1.12a

$$(1.11) \quad P(A \cup B) = P(A) + P(B) - P(A \cap B)$$

protože ty prvky, které patří do množiny  $A$  i  $B$ , jsme nejprve započítali dvakrát a tak je musíme jednou odečíst.

**1.45.** Do řady v kině o  $2n$  místech je náhodně rozmístěno  $n$  mužů a  $n$  žen. Jaká je pravděpodobnost, že žádné dvě osoby stejného pohlaví nebudou sedět vedle sebe?

**Řešení.** Všech možných rozmístění lidí v řadě je  $(2n)!$ , rozmístění splňujících podmínky je  $2(n!)^2$ : máme dvě možnosti výběru pozice mužů, tedy i žen – buď všichni muži budou sedět na lichých místech (a tedy ženy na sudých), nebo všichni muži na sudých (a tedy ženy na lichých místech); na nich jsou pak muži i ženy rozmístěny libovolně. Výsledná pravděpodobnost je tedy

$$p(n) = \frac{2(n!)^2}{(2n)!}, \quad p(2) \doteq 0,33, \quad p(5) \doteq 0,0079, \quad p(8) \doteq 0,00016.$$

□

**1.46.** Do výtahu osmipatrové budovy nastoupilo 5 osob. Každá z nich vystoupí se stejnou pravděpodobností v libovolném poschodí. Jaká je pravděpodobnost, že vystoupí

- všichni v šestém poschodí,
- všichni ve stejném poschodí,
- každý v jiném poschodí?

**Řešení.** Základní prostor všech možných jevů je prostor všech možných způsobů vystoupení 5 osob z výtahu. Těch je  $8^5$ .

V prvním případě je jediná příznivá možnost vystoupení, hledaná pravděpodobnost je tedy  $\frac{1}{8^5}$ , ve druhém případě máme osm možností, hledaná pravděpodobnost je tedy  $\frac{1}{8^4}$  a konečně ve třetím je počet příznivých případů dán pětiprvkovou variací z osmi prvků (z osmi pater vybíráme pět, ve kterých se vystoupí a dále kteří lidé vystoupí ve vybraných poschodích), celkem je hledaná pravděpodobnost ve třetím případě rovna (viz 1.6 a 1.8)

$$\frac{v(5, 8)}{V(5, 8)} = \frac{8 \cdot 7 \cdot \dots \cdot 4}{8^5} \doteq 0,2050781250.$$

□

**1.47.** Náhodně vybereme celé kladné číslo menší než  $10^5$ . Jaká je pravděpodobnost, že bude složeno pouze z cifer 0, 1, 5 a zároveň bude dělitelné číslem 5?

**Řešení.** Čísel splňujících danou podmínku je  $2 \cdot 3^4 - 1$  (kromě poslední cifry máme na každý řád na výběr ze tří cifer, případně číslice 0 na začátku slova nepíšeme). Všech celých kladných čísel menších než  $10^5$  je  $10^5 - 1$ , podle klasické pravděpodobnosti dostáváme, že hledaná pravděpodobnost je  $\frac{2 \cdot 3^4 - 1}{10^5 - 1}$ .

21

**1.48. Princip inkluze a exkluze.** Sekretářka má rozeslat šest dopisů šesti různým lidem. Dopisy pro různé adresáty vkládá do obálek s adresami náhodně. Jaká je pravděpodobnost, že alespoň jeden člověk dostane dopis určený pro něj?

**Řešení.** Spočítejme pravděpodobnost jevu opačného, tedy toho, že ani jeden člověk neobdrží správný dopis. Stavový prostor všech možných jevů odpovídá všem možným pořadím pěti prvků (obálek). Označíme-li jak obálky tak dopisy čísly od jedné do šesti, tak všechny příznivé jevy (tedy žádný dopis nepříjde do obálky se stejným číslem) odpovídají takovým pořadím šesti prvků, kdy  $i$ -tý prvek není na  $i$ -tém místě ( $i = 1, \dots, 6$ ), tzv. pořadím bez pevného bodu. Jejich počet spočítáme pomocí principu inkluze a exkluze. Označíme-li  $M_i$  množinu permutací s pevným bodem  $i$  (permutace v  $M_i$  ale mohou mít i jiné pevné body), tak výsledný počet  $d$  permutací bez pevného bodu je roven

$$d = 6! - |M_1 \cup \dots \cup M_6|$$

Počet prvků průniku  $|M_{i_1} \cap \dots \cap M_{i_k}|$ ,  $k = 1, \dots, 6$ , je  $(6-k)!$  (pořadí prvků  $i_1, \dots, i_k$  je pevně dáno, ostatních  $6-k$  prvků řadíme libovolně). Podle principu inkluze a exkluze je

$$|M_1 \cup \dots \cup M_6| = \sum_{k=1}^6 (-1)^{k+1} \binom{6}{k} (6-k)!$$

a tedy pro hledaný počet  $d$  dostáváme vztah

$$\begin{aligned} d &= 6! - \sum_{k=1}^6 (-1)^{k+1} \binom{6}{k} (6-k)! \\ &= \sum_{k=0}^6 (-1)^k \binom{6}{k} (6-k)! = 6! \sum_{k=0}^6 \frac{(-1)^k}{k!} \end{aligned}$$

Pravděpodobnost toho, že žádný člověk neobdrží „svůj“ dopis je tedy

$$\sum_{k=0}^6 \frac{(-1)^k}{k!}$$

a hledaná pravděpodobnost pak

$$1 - \sum_{k=0}^6 \frac{(-1)^k}{k!} = \frac{53}{144}.$$

□

**Poznámka.** Všimněme si, že odpověď na stejnou otázku, se s rostoucím počtem dopisů příliš nemění. Pro  $n$  dopisů je pravděpodobnost, že sekretářka nedá žádný do správné obálky

$$1 - \sum_{k=0}^n \frac{(-1)^k}{k!} \doteq 1 - \frac{1}{e},$$

jak totiž uvidíme později, uvedená suma konverguje (blíží se) k hodnotě  $1/e$ .


Tentýž výsledek dostaneme i pro obecnou pravděpodobnost  $P$  na nějakém jevovém poli. Protože  $A \cap B$  a  $A \setminus B$  jsou nezávislé jevy,

$$P(A) = P(A \setminus B) + P(A \cap B),$$

podobně pro  $B$ , ale také máme

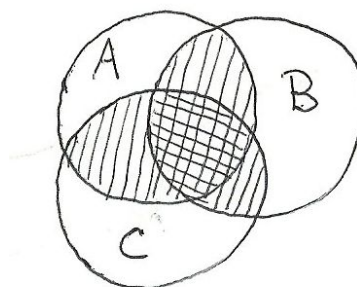
$$P(A \cup B) = P(A \setminus B) + P(B \setminus A) + P(A \cap B).$$

Dosažením za pravděpodobnosti množinových rozdílů dostáváme opět vztah (1.11).



Následující věta je přímým promítnutím tzv. kombinatorického *principu inkluze a exkluze* do naší konečné pravděpodobnosti a říká, jakým způsobem vícenásobné započítávání výsledků kompenzovat v obecném případě.

Jde patrně o dobrý příklad matematického tvrzení, kde nejtěžší je najít dobrou formulaci a pak se dá říci, že (intuitivně) je tvrzení zřejmé.



$$\begin{aligned} P(A \cup B \cup C) &= P(A) + P(B) + P(C) \\ &\quad - P(A \cap B) - P(B \cap C) - P(A \cap C) + P(A \cap B \cap C) \end{aligned}$$

Na obrázku je situace znázorněna pro tři množiny  $A$ ,  $B$ ,  $C$  a pro klasickou pravděpodobnost. Jednoduše šrafované oblasti v prostém součtu máme dvakrát, dvojité šrafované třikrát. Pak ty jednoduše šrafované jednou odečteme, přitom ty dvojité šrafované opět třikrát odečteme, proto je tam nakonec ještě jednou započteme.

Obecně, díky aditivní vlastnosti pravděpodobnosti, si můžeme představit, že každý jev rozložíme na elementární (tj. jednobodové) jevy, jakkoliv ve skutečnosti nemusí jednobodové podmnožiny do uvažovaného jevového pole patřit. Pak je pravděpodobnost každého jevu dána součtem pravděpodobností jednotlivých elementárních jevů do něj patřících a můžeme při vyjádření pravděpodobnosti nastoupení alespoň jednoho z jevů takto: sečteme všechny pravděpodobnosti výsledků pro všechna  $A_i$ ; zvlášť, pak ovšem musíme odečíst ty, které tam jsou započteny dvakrát (tj. prvky v průnicích dvou). Teď si ovšem dovolujeme odečíst příliš mnoho tam, kde ve skutečnosti byly prvky třikrát, tj. korigujeme přičtením pravděpodobností ze třetího členu, atd.

1.16 **Věta.** *Budte  $A_1, \dots, A_k \in \mathcal{A}$  libovolné jevy na základním prostoru  $\Omega$  s jevovým polem  $\mathcal{A}$ . Pak platí*

$$\begin{aligned} P(\cup_{i=1}^k A_i) &= \sum_{i=1}^k P(A_i) - \sum_{i=1}^{k-1} \sum_{j=i+1}^k P(A_i \cap A_j) \\ &\quad + \sum_{i=1}^{k-2} \sum_{j=i+1}^{k-1} \sum_{\ell=j+1}^k P(A_i \cap A_j \cap A_\ell) \\ &\quad - \dots \\ &\quad + (-1)^{k-1} P(A_1 \cap A_2 \cap \dots \cap A_k). \end{aligned}$$

**DŮKAZ.** Aby se výše naznačený postup stal důkazem, je zapotřebí si ujasnit, že skutečně všechny korekce, tak jak jsou popsány, jsou skutečně s koeficienty jedna. Místo toho můžeme snáze dát dohromady formálnější důkaz matematickou indukcí přes počet  $k$  jevů, jejichž pravděpodobnosti sčítáme. Zkuste si průběžně porovnávat oba postupy, mělo by to vést k vyjasnění, co to znamená „dokázat“ a co „porozumět“.

Pro  $k = 1$  tvrzení zjevně platí, vztah pro  $k = 2$  je totožný s rovností (1.11) a tu jsme pro obecné pravděpodobnostní funkce již dokázali také.

Předpokládejme tedy, že věta platí pro všechny počty množin až do pevně zvoleného  $k \geq 1$ . Nyní můžeme pracovat v indukčním kroku se vztahem pro  $k + 1$  jevů, když sjednocení prvních  $k$  jevů bereme jako  $A$  ve vzorci (1.11) výše, zatímco zbývajícím jev hraje roli  $B$ :

$$\begin{aligned} P(\cup_{i=1}^{k+1} A_i) &= P((\cup_{i=1}^k A_i) \cup A_{k+1}) \\ &= \sum_{j=1}^k \left( (-1)^{j+1} \sum_{1 \leq i_1 < \dots < i_j \leq k} P(A_{i_1} \cap \dots \cap A_{i_j}) \right) \\ &\quad + P(A_{k+1}) - P((A_1 \cup \dots \cup A_k) \cap A_{k+1}). \end{aligned}$$

To už připomíná formuli pro  $k + 1$  sčítaných jevů, nicméně nám ve velké sumě chybějí všechny výrazy obsahující  $A_{k+1}$  a člen s pravděpodobností současného nastoupení všech jevů. Zato nám však přebývá poslední člen. Tento člen výrazu můžeme nahradit výrazem

$$-P((A_1 \cap A_{k+1}) \cup \dots \cup (A_k \cap A_{k+1}))$$

a pro tento výraz opět použít indukční předpoklad, tj. formuli ve větě. Při troše trpělivosti (a dostatečně velkém papíru na rozepsání všech členů) ověříme, že tím právě přidáme všechny dosud chybějící členy.  $\square$

1.17

**1.18. Princip inkluze a exkluze.** Speciálním případem předchozí věty je případ klasické pravděpodobnosti, kdy všechny konečné podmnožiny základního prostoru jsou jevy a všechny elementární jevy mají stejnou pravděpodobnost. Ve vzorci z předchozí věty pak všechny pravděpodobnosti dávají právě počet prvků příslušných podmnožin, až na společný faktor  $\frac{1}{n}$ , kde  $n$  je počet prvků základního prostoru.



1.49. Volejbalový tým (s liberem, tj. celkem sedm osob) sedí po zápase v hospodě a popíjí zasloužené pivo. Je ale málo kríglů a proto hospodský používá pořad těch sedm samých. Jaká je pravděpodobnost, že příště

- i) právě jeden nedostane ten svůj, ze kterého pil
- ii) nikdo nedostane ten svůj
- iii) právě tři dostanou ten svůj.

**1.50. Další principy počítání s pravděpodobnostmi.** Vraťme se k házení kostkou a zkusme popsat jevy ze základního prostoru  $\Omega$  vznikající při házení tak dlouho, dokud nepadne šestka, ne však více než stokrát.

Pro jeden hod samostatně je základním prostorem šest čísel od jedné do šesti a jde o klasickou pravděpodobnost. Pro celé série našich hodů bude základní prostor daleko větší – bude to množina konečných posloupností čísel od jedné do šestky, které buď končí šestkou, mají nejvýše 100 členů a všechna předchozí čísla jsou menší než šest, nebo jde o 100 čísel od jedné do pěti. Jevem  $A$  může být např. podmnožina „házení končí druhým pokusem“. Všechny příznivé elementární jevy pak jsou

$$[1, 6], [2, 6], [3, 6], [4, 6], [5, 6].$$

Ze známé klasické pravděpodobnosti pro jednotlivé hody umíme odvodit pravděpodobnosti našich jevů v  $\Omega$ . Není to ale jistě klasická pravděpodobnost. Tak pro diskutovaný jev chceme popsat, s jakou pravděpodobností nepadne šestka při prvním hodu a zároveň padne při druhém. Vnucuje se řešení

$$P(A) = \frac{5}{6} \cdot \frac{1}{6} = \frac{5}{36},$$

protože v prvním hodu padne s pravděpodobností  $1 - \frac{1}{6}$  jiné číslo než šest a druhý hod, ve kterém naopak požadujeme šestku, je zcela nezávislý na prvním. Samozřejmě toto není poměr počtu příznivých výsledků k velikosti celého stavového prostoru!

Obecněji můžeme říci, že po právě  $1 < k < 100$  hodech pokus skončí s pravděpodobností  $(\frac{5}{6})^{k-1} \cdot \frac{1}{6}$ . Ze všech možností je tedy nejpravděpodobnější, že skončí již napoprvé.

Jiný příklad, jak z házení kostkou dostat různě pravděpodobné jevy je pozorovat součty při hodu více kostkami. Uvažujme takto: při hodu jednou kostkou je každý výsledek stejně pravděpodobný s pravděpodobností  $\frac{1}{6}$ . Při hodu dvěma kostkami je každý předem zvolený výsledek  $(a, b)$ , tj. dvojice přirozených čísel od jedné do šesti (včetně pořadí), stejně pravděpodobný s pravděpodobností  $\frac{1}{36}$ . Pokud se budeme ptát po dvou pětkách, je tedy pravděpodobnost poloviční než u dvou různých hodnot bez uvedení pořadí. Pro jednotlivé možné součty

uvedené v horním řádku nám vychází počet možností v řádku dolním:

Součet	2	3	4	5	6	7	8	9	10	11	12
Počet	1	2	3	4	5	6	5	4	3	2	1

Podobně vyjde pravděpodobnost  $\frac{1}{216}$  jednotlivých výsledků hodu třemi kostkami, včetně určeného pořadí. Pokud se budeme ptát na pravděpodobnost výsledného součtu při hodu více kostkami, musíme pouze určit, kolik je možností, jak daného součtu dosáhnout a příslušné pravděpodobnosti sečíst.

**1.51.** Ze sáčku s pěti bílými a pěti červenými koulemi náhodně vytáhneme tři (koule do sáčku nevracíme). Jaká je pravděpodobnost, že dvě budou bílé a jedna červená?

**Řešení.** Rozdělme uvažovaný jev na sjednocení tří disjunktních jevů: podle toho, kolikátou vytáhneme červenou kouli. Pravděpodobnosti, že vytáhneme koule přesně ve zvoleném pořadí jsou:  $\frac{1}{2} \cdot \frac{4}{9} \cdot \frac{5}{8}$ ,  $\frac{1}{2} \cdot \frac{5}{9} \cdot \frac{1}{2}$ ,  $\frac{1}{2} \cdot \frac{5}{9} \cdot \frac{1}{2}$ . Celkem  $\frac{5}{12}$ .

**Jiné řešení.** Uvažme počet všech možných trojic vytažených koulí (koule jsou mezi sebou rozlišitelné), tedy  $\binom{10}{3}$ . Trojic, které obsahují právě dvě bílé koule je potom  $\binom{5}{2} \cdot \binom{5}{1}$  (dvě bílé koule můžeme vytáhnout  $\binom{5}{2}$  způsoby, k nim pak červenou pěti způsoby).  $\square$

**1.52.** Z klobouku, ve kterém je pět bílých, pět červených a šest černých koulí, náhodně vytahujeme koule (bez vracení). Jaká je pravděpodobnost, že pátá vytažená koule bude černá?

**Řešení.** Spočítáme dokonce obecnější úlohu. Totiž pravděpodobnost toho, že  $i$ -tá vytažená koule bude černá, je stejná pro všechna  $i$ ,  $1 \leq i \leq 16$ . Můžeme si totiž představit, že vytáhneme postupně všechny koule. Každá taková posloupnost vytažených koulí (od první vytažené koule po poslední), složená z pěti bílých, pěti červených a šesti černých koulí, má stejnou pravděpodobnost vytažení a pro výpočet hledané pravděpodobnosti můžeme opět použít model klasické pravděpodobnosti. Zmíněných posloupností je  $P(5, 5, 6) = \frac{16!}{5! \cdot 5! \cdot 5!}$ . Počet posloupností, kde na  $i$ -tém místě je černá koule, zbytek libovolný, je tolik, kolik je libovolných posloupností pěti bílých, pěti červených a pěti černých koulí, tedy  $P(5, 5, 5) = \frac{15!}{5! \cdot 5! \cdot 5!}$ . Celkem tedy je hledaná pravděpodobnost

$$\frac{P(5, 5, 5)}{P(5, 5, 6)} = \frac{\frac{15!}{5! \cdot 5! \cdot 5!}}{\frac{16!}{5! \cdot 5! \cdot 5!}} = \frac{3}{8}.$$

$\square$

**1.53.** V jisté zemi mají parlament, ve kterém zasedá 200 poslanců. Dvě hlavní politické strany, které v zemi existují, si při „volbách“ házejí o každý poslanecký mandát zvlášť mincí. Každá z těchto stran má

Takto můžeme z věty 1.17 vyčíst následující tvrzení pro mohutnosti obecné konečné množiny  $M$  a jejích podmnožin  $A_1, \dots, A_k$ . Jako obvykle píšeme  $|M|$  pro počet prvků množiny  $M$ .

Samozřejmě pro konečnou množinu  $M$  a její podmnožiny platí

$$|M \setminus (\cup_{i=1}^k A_i)| = |M| - |\cup_{i=1}^k A_i|.$$

Nyní můžeme dosadit z předchozí věty za mohutnost sjednocení na pravé straně a dostáváme tvrzení, kterému se říká *princip inkluze a exkluze*.

$$\begin{aligned} |M \setminus (\cup_{i=1}^k A_i)| &= \\ &= |M| + \sum_{j=1}^k \left( (-1)^j \sum_{1 \leq i_1 < \dots < i_j \leq k} |A_{i_1} \cap \dots \cap A_{i_j}| \right). \end{aligned}$$

Opět je snadné nakreslit si tvrzení pro dvě nebo tři množiny, viz obrázek před větou 1.17.

**1.19. Nezávislé jevy.** Vraťme se na chvíli k jednoduchému modelu dokonalé hrací kostky. Bude nás zajímat, jak mohou být jevy závislé.

Např. pravděpodobnost, že nastanou zároveň jevy „padne liché číslo“ a „padne alespoň trojka“, je  $\frac{1}{3}$ . To je totéž jako  $\frac{1}{2} \cdot \frac{2}{3}$ , tedy součin pravděpodobností jednotlivých jevů. To odpovídá představě, že můžeme nezávisle testovat obě podmínky a výsledná pravděpodobnost současného splnění bude dána součinem pravděpodobnostní dílčích. Naopak, jestliže budeme uvažovat neslučitelné jevy, jako jsou např. „padne sudé číslo“ a „padne liché číslo“, bude pravděpodobnost současného výskytu obou nulová, zatímco součin dílčích pravděpodobností nulový není. To odpovídá představě, že tyto dva jevy musí být závislé, protože výskyt jednoho z nich ten druhý už vylučuje. Samozřejmě může nastávat slabší závislost, např. jev „padne liché číslo“ je důsledkem jevu „padne trojka“ a proto také není dána pravděpodobnost společného výskytu těchto dvou jevů pomocí součinu.

Pro pravděpodobnosti  $P$  na libovolných jevových polích řekneme že jevy  $A$  a  $B$  jsou *stochasticky nezávislé* jestliže platí

$$P(A \cap B) = P(A) \cdot P(B).$$

Zkusme ale tutéž hru s kostkou s více jevy, třeba jev  $A$  „padne liché číslo“, jev  $B$  „padne alespoň 3“ a jev  $C$  „padne nejvýše 3“. Pravděpodobnosti jsou  $P(A) = \frac{1}{2}$ ,  $P(B) = \frac{2}{3}$ ,  $P(C) = \frac{1}{2}$ ,  $P(A \cap B \cap C) = \frac{1}{6} = \frac{1}{2} \cdot \frac{2}{3} \cdot \frac{1}{2}$ , ale po dvojicích dostáváme např.  $P(A \cap C) = \frac{2}{3} \neq \frac{1}{2} \cdot \frac{1}{2}$ .

Obecně tedy definujeme nezávislé jevy takto:

**Definice.** Uvažme libovolný pravděpodobnostní prostor  $(\Omega, \mathcal{A}, P)$  a v něm  $k$  jevů  $A_1, \dots, A_k$ . Řekneme, že tyto jevy jsou *stochasticky nezávislé* (vzhledem k pravděpodobnosti  $P$ ), jestliže pro libovolné z nich vybrané jevy  $A_{i_1}, \dots, A_{i_\ell}$ ,  $1 \leq \ell \leq k$  platí



$$P(A_{i_1} \cap \dots \cap A_{i_\ell}) = P(A_{i_1}) \cdot \dots \cdot P(A_{i_\ell}).$$

Zjevně je každý podsystem stochasticky nezávislých jevů opět stochasticky nezávislý. Dále si pro dva stochasticky nezávislé jevy  $A, B$  spočtěme

$$\begin{aligned} P(A \cap B^c) &= P(A \setminus B) = P(A) - P(A \cap B) = \\ &= P(A)(1 - P(B)) = P(A)P(B^c). \end{aligned}$$

Odtud už snadno dovodíme, že záměnou jednoho nebo více stochasticky nezávislých jevů za jejich opačné jevy obdržíme opět stochasticky nezávislé jevy.

Často je potřebná pravděpodobnost, že nastane alespoň jeden ze stochasticky nezávislých jevů, tzn. hledáme  $P(A_1 \cup \dots \cup A_k)$ . Můžeme pak použít elementární vlastnosti množinových operací, tzv. de Morganova pravidla,

$$\begin{aligned} (\cup_{i \in I} A_i)^c &= \cap_{i \in I} A_i^c \\ (\cap_{i \in I} A_i)^c &= \cup_{i \in I} A_i^c \end{aligned}$$

a dostáváme:

e1.14a 
$$(1.12) \quad P(A_1 \cup \dots \cup A_k) = 1 - P(A_1^c \cap \dots \cap A_k^c) = 1 - (1 - P(A_1)) \dots (1 - P(A_k)).$$

**1.20. Podmíněná pravděpodobnost.** Míru závislosti dvou jevů můžeme přeformulovat s představou, že zkoumáme jeden z nich za podmínky, že druhý nastal. U nezávislých by podmínka neměla mít žádný vliv. Např. „jaká je pravděpodobnost, že při hodu dvěma kostkami padly dvě pětky, je-li součet hodnot deset?“. Formalizovat takový postup umíme následovně.



PODMÍNĚNÁ PRAVDĚPODOBNOST

**Definice.** Nechť  $H$  je jev s nenulovou pravděpodobností v jevovém poli  $\mathcal{A}$  v pravděpodobnostním prostoru  $(\Omega, \mathcal{A}, P)$ . *Podmíněná pravděpodobnost*  $P(A|H)$  jevu  $A \in \mathcal{A}$  vzhledem k hypotéze  $H$  je definována vztahem

$$P(A|H) = \frac{P(A \cap H)}{P(H)}.$$

Jak je vidět přímo z definice, hypotéza  $H$  a jev  $A$  jsou skutečně nezávislé tehdy a jen tehdy, je-li  $P(A) = P(A|H)$ . Přímou z definice také vyplývá tzv. „věta o násobení pravděpodobností“. Máme-li dva jevy  $A_1, A_2$  splňující  $P(A_1 \cap A_2) > 0$ , potom

$$P(A_1 \cap A_2) = P(A_2)P(A_1|A_2) = P(A_1)P(A_2|A_1).$$

Všechna tato čísla vyjadřují pravděpodobnost toho, že nastanou oba jevy  $A_1$  i  $A_2$ , jenom jinými způsoby. Například v posledním případě nejprve sledujeme, zda nastane první jev. Potom za předpokladu, že ten první nastal, sledujeme zda nastane i ten druhý. Podobně, pro tři jevy  $A_1, A_2, A_3$  splňující  $P(A_1 \cap A_2 \cap A_3) > 0$ , dostaneme

$$P(A_1 \cap A_2 \cap A_3) = P(A_1)P(A_2|A_1)P(A_3|A_1 \cap A_2).$$

přiděleno jednu stranu mince. Té straně, jejíž strana mince padne, náleží mandát, o který se právě losovalo. Jaká je pravděpodobnost, že každá ze stran získá 100 mandátů? (mince je „pocitivá“)

**Řešení.** Všech možných výsledků losování (uvažovaných jako dvousetčlenné posloupnosti rubů a líců) je  $2^{200}$ . Pokud každá strana získá právě sto mandátů, je ve vylosované posloupnosti právě sto líců a sto rubů. Takových posloupností je  $\binom{200}{100}$  (taková posloupnost je jednoznačně určena výběrem sto členů z dvou set možných, na kterých budou např. líce). Celkem je hledaná pravděpodobnost

$$\frac{\binom{200}{100}}{2^{200}} = \frac{200!}{100! \cdot 100!} \doteq 0,056.$$

□

Následující příklad je jednoduchým modelem, který odhaduje pravděpodobnost úmrtí osoby při dopravní nehodě.

**1.54.** Ročně zahyne na silnicích v ČR přibližně 1200 českých občanů. Určete pravděpodobnost, že někdo z vybrané skupiny pěti set Čechů zemře v následujících deseti letech při dopravní nehodě. Předpokládejte pro zjednodušení, že každý občan má v jednom roce stejnou „šanci“ zemřít při dopravní nehodě a to  $1200/10^7$ .

**Řešení.** Spočítejme nejprve pravděpodobnost, že jeden vybraný člověk v následujících deseti letech **nezahyne** při dopravní nehodě. Pravděpodobnost, že nezahyne v jednom roce, je  $(1 - \frac{12}{10^5})$ . Pravděpodobnost, že nezahyne v následujících deseti letech, je pak  $(1 - \frac{12}{10^5})^{10}$ . Pravděpodobnost, že v následujících deseti letech nezahyne nikdo z daných pěti set lidí, je opět podle pravidla součinu (jedná se o nezávislé jevy)  $(1 - \frac{12}{10^5})^{5000}$ . Pravděpodobnost jevu opačného, tedy toho, že někdo z vybraných pěti set lidí zahyne, je tedy

$$1 - \left(1 - \frac{12}{10^5}\right)^{5000} \doteq 0,4512.$$

□

**Poznámka.** Model, který jsme použili v předchozím příkladu k popisu zadané situace, je pouze přibližný. Problém spočívá v podmínce, že každý občan z vyšetřovaného vzorku má stejnou pravděpodobnost toho, že v průběhu roku zahyne, kterou jsme odhadli z počtu usmrčených osob za rok. Počet tragických nehod se totiž rok od roku mění a i kdyby se neměnil, tak se mění populace. Ukažme si jednu s nepřesností příkladu na jiném způsobu řešení: zahyne-li 1200 osob za rok, tak za deset let zahyne 12000. Pravděpodobnost toho, že konkrétní člověk zahyne v průběhu deseti let tedy můžeme odhadnout i zlomkem  $12000/10^7$ . Pravděpodobnost, že konkrétní osoba nezahyne v průběhu 10 let je tedy  $(1 - \frac{12}{10^4})$  (to jsou první dva členy binomického rozvoje

$(1 - \frac{12}{10^5})^{10}$ ). Celkem dostáváme anologicky jako v předchozím řešení odhad pravděpodobnosti

$$1 - \left(1 - \frac{12}{10^4}\right)^{500} \doteq 0,4514.$$

Vidíme, že oba odhady jsou velmi blízké.

Snaha použít matematických znalostí k výhře v nejrůznějších hazardních hrách je velmi stará. Podívejme se na jednoduchý příklad.

**1.55.** Alešovi zbylo 2500 Kč z pořádání tábora. Aleš není žádný nouma: 50 Kč přidal z kasičky a rozhodl se jít hrát ruletu na automaty. Aleš sází pouze na barvu. Pravděpodobnost výhry při sázce na barvu je  $18/37$ . Začíná sázet na 10 Kč a pokud prohraje, v další sázce vsadí dvojnásobek toho, co v předchozí (pokud na to ještě má, pokud ne, tak končí s hrou – byť by měl ještě peníze na nějakou menší sázku). Pokud nějakou sázku vyhraje, v následující sázce hraje opět o 10 Kč. Jaká je pravděpodobnost, že při tomto postupu vyhraje dalších 2550 Kč? (jakkmile bude 2550 Kč v plusu, tak končí)

**Řešení.** Nejprve spočítejme, kolikrát po sobě může Aleš prohrát. Začíná-li s 10 Kč, tak na  $n$  vsazení potřebuje

$$10 + 20 + \dots + 10 \cdot 2^{n-1} = 10 \cdot \left(\sum_{i=0}^{n-1} 2^i\right) = 10 \cdot \left(\frac{2^n - 1}{2 - 1}\right) = 10 \cdot (2^n - 1).$$

Jak snadno nahlédneme, číslo 2550 je tvaru  $10(2^n - 1)$  a to pro  $n = 8$ . Aleš tedy může sázet osmkrát po sobě bez ohledu na výsledek sázky, na devět sázek by potřeboval již  $10(2^9 - 1) = 5110$  Kč a to v průběhu hry nikdy mít nebude (jakkmile bude mít 5100 Kč, tak končí). Aby tedy jeho hra skončila neúspěchem, musel by prohrát osmkrát v řadě. Pravděpodobnost prohry při jedné sázce je  $19/37$ , pravděpodobnost prohry v osmi po sobě následujících (nezávislých) sázkách je tedy  $(19/37)^8$ . Pravděpodobnost, že v těchto osmi hrách vyhraje 10 Kč (při daném postupu) je tedy  $1 - (19/37)^8$ . Na to, aby vyhrál 2500 Kč, potřebuje 255 krát vyhrát po desetikoruně. Tedy opět podle pravidla součinu je pravděpodobnost výhry

$$\left(1 - \left(\frac{19}{37}\right)^8\right)^{255} \doteq 0,29.$$

Tedy pravděpodobnost výhry je nižší, než kdyby vsadil rovnou vše na jednu barvu.  $\square$

**1.56.** Samostatně si můžete vyzkoušet spočítat předchozí příklad za předpokladu, že Aleš sází stejnou metodou jako v předchozím příkladě, končí však až v okamžiku, kdy nemá žádné peníze (pokud nemá na vsazení dvojnásobku částky prohrané v předchozí sázce, ale má ještě nějaké peníze, začíná sázet znovu od 10 Kč).

Slovy to lze opět popsat tak, že pravděpodobnost výskytu všech tří jevů zároveň můžeme spočítat tak, že se nejprve zabýváme výskytem pouze prvního z nich, potom druhého za předpokladu, že první už nastal a naposledy třetího za předpokladu, že oba předešlé jevy již nastaly.

Máme-li obecný počet  $k$  jevů  $A_1, \dots, A_k$  splňujících  $P(A_1 \cap \dots \cap A_k) > 0$ , pak věta říká následující:

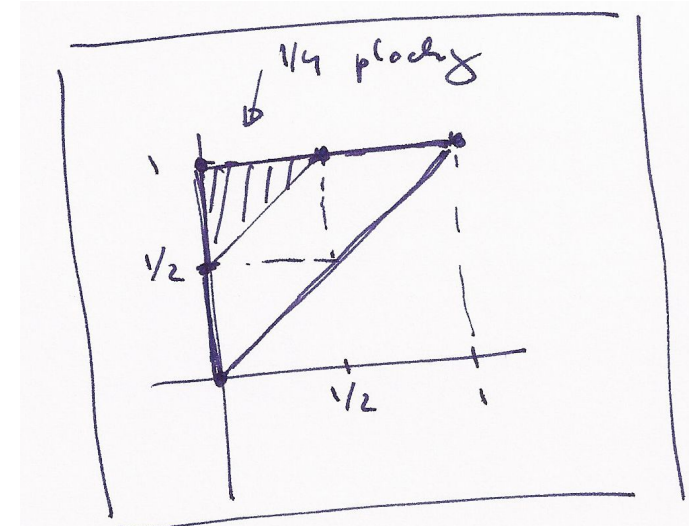
$$P(A_1 \cap \dots \cap A_k) = P(A_1)P(A_2|A_1) \dots P(A_k|A_1 \cap \dots \cap A_{k-1}).$$

Skutečně, dle předpokladu jsou i pravděpodobnosti všech průniků, které jsou brány ve výrazu za hypotézy, nenulové. Pokrácením čitatele a jmenovatele získáme i napravo právě pravděpodobnost jevu odpovídajícího průniku všech uvažovaných jevů.

**1.21. Geometrická pravděpodobnost.** V praktických problémech se často setkáváme s daleko složitějšími modely, kde základní prostor není konečnou množinou. Nemáme momentálně k dispozici ani základní nástroje pro dostatečné zobecnění pojmu pravděpodobnosti, nicméně můžeme uvést alespoň jednoduchou ilustraci.

Uvažme rovinu  $\mathbb{R}^2$  dvojic reálných čísel a v ní podmnožinu  $\Omega$  se známým obsahem vol  $\Omega$  (symbol „vol“ je od anglického „volume“, tj. obsah/objem). Příkladem může sloužit třeba jednotkový čtverec. Náhodné jevy budou reprezentovány podmnožinami  $A \subset \Omega$  a za jevové pole  $\mathcal{A}$  bereme nějaký vhodný systém podmnožin, u kterých umíme určit jejich obsah. Nastoupení nebo nenastoupení jevu je dáno výběrem bodu v  $\Omega$ , kterým se trefíme nebo netrefíme do množiny reprezentující jev  $A$ .

Uvažme jako příklad problém, kdy náhodně vybereme dvě hodnoty  $a < b$  v intervalu  $[0, 1] \subset \mathbb{R}$ . Všechny hodnoty  $a$  i  $b$  jsou stejně pravděpodobné a otázka zní „jaká je pravděpodobnost, že interval  $(a, b)$  bude mít velikost alespoň jedna polovina?“. Volba čísel  $a, b$  je volbou libovolného bodu  $[a, b]$  ve vnitřku trojúhelníku  $\Omega$  s hraničními vrcholy  $[0, 0]$ ,  $[0, 1]$ ,  $[1, 1]$  (viz obrázek).





Úlohu si můžeme představit jako popis problému, kdy se hodně unavený účastník večírku nad ránem pokouší dvěma řezy rozdělit párek na tři díly pro sebe a své dva kamarády. Jaká je pravděpodobnost, že se na někoho dostane aspoň půlka?

Odpověď je docela jednoduchá: Podobně jako u klasické pravděpodobnosti definujeme pravděpodobnostní funkci  $P : \mathcal{A} \rightarrow \mathbb{R}$  vztahem

$$P(A) = \frac{\text{vol } A}{\text{vol } \Omega},$$

kde  $A$  jsou podmnožiny v rovině, které odpovídají námi vybraným jevům.

Potřebujeme tedy znát plochu podmnožiny, která odpovídá bodům s  $b \geq a + \frac{1}{2}$ , tj. vnitřku trojúhelníku  $A$  ohraničeného vrcholy  $[0, \frac{1}{2}]$ ,  $[0, 1]$ ,  $[\frac{1}{2}, 1]$ . Evidentně dostáváme  $P(A) = \frac{1}{4}$ .

Zkuste si samostatně odpovědět na otázku „pro jakou požadovanou minimální délku intervalu  $(a, b)$  dostaneme pravděpodobnost jedna polovina?“.

1.20a

**1.22. Metody Monte Carlo.** Jednou z účinných výpočetních metod přibližných hodnot je naopak simulace známé takovéto pravděpodobnosti pomocí relativní četnosti nastoupení vhodně zvoleného jevu. Např. známá formule pro obsah kruhu o daném poloměru říká, že obsah jednotkového kruhu je roven právě konstantě



$$\pi = 3, 1415 \dots,$$

která vyjadřuje poměr obsahu kruhu a druhé mocniny jeho poloměru. (Tady si také povšimněme východiska, které jsme nedokázali – proč by měl být obsah kruhu roven konstantnímu násobku druhé mocniny poloměru? Matematicky to budeme umět ukázat, až zvládneme tzv. integrování. Experimentálně si to ale můžeme ověřit níže uvedeným postupem s různými velikostmi strany čtverce.)

Pokud zvolíme za  $\Omega$  jednotkový čtverec a za  $A$  průnik  $\Omega$  a jednotkového kruhu se středem v počátku, pak  $\text{vol } A = \frac{1}{4}\pi$ . Máme-li tedy spolehlivý generátor náhodných čísel mezi nulou a jedničkou a počítáme relativní četnosti, jak často bude vzdálenost bodu  $[a, b]$  (určeného vygenerovanou dvojicí  $a, b$ ) od počátku menší než jedna, tj.  $a^2 + b^2 < 1$ , pak výsledek bude při velkém počtu pokusů s velkou jistotou dobře aproximovat číslo  $\frac{1}{4}\pi$ .

Numerickým postupům založeným na tomto principu se říká *metoda Monte Carlo*.

## 5. Geometrie v rovině

V posledních odstavcích jsme intuitivně používali elementární pojmy z geometrie reálné roviny. Teď budeme podrobněji zkoumat, jak se vypořádávat s potřebou popisovat „polohu v rovině“, resp. dávat do souvislostí polohy různých bodů roviny.



**1.57. Podmíněná pravděpodobnost.** Nyní si procvičme tzv. „podmíněnou“ pravděpodobnost (viz (??)).

**1.58.** Jaká je pravděpodobnost toho, že při hození dvěma kostkami padne součet 7, víme-li, že ani na jedné z kostek nepadlo číslo 2?

**Řešení.** Označme jako  $B$  jev, že ani na jedné kostce nepadne dvojka, jev „padne součet 7“ označme jako  $A$ . Množinu všech možných výsledků budeme značit opět jako  $\Omega$ . Pak

$$P(A|B) = \frac{P(A \cap B)}{P(B)} = \frac{\frac{|A \cap B|}{|\Omega|}}{\frac{|B|}{|\Omega|}} = \frac{|A \cap B|}{|B|}.$$

Číslo 7 může padnout čtyřmi různými způsoby, pokud nepadne dvojka, tedy  $|A \cap B| = 4$ ,  $|B| = 5 \cdot 5 = 25$ , tedy

$$P(A|B) = \frac{4}{25}.$$

Všimněme si, že  $P(A) = \frac{1}{6}$ , tedy jevy  $A$  a  $B$  jsou závislé.  $\square$

**1.59.** Michal má dvě poštovní schránky, jednu na gmail.com a jednu na seznam.cz. Uživatelské jméno má stejné na obou serverech, hesla různá (ale nepamatuje si, které heslo má na kterém serveru). Při zadávání hesla při přístupu do schránky se splete s pravděpodobností 5% (tj. jestliže chce napsat zadat jemu známé slovo jako heslo, tak jej s pravděpodobností 95% skutečně správně na klávesnici zadá). Michal zadal na serveru seznam.cz jméno a heslo a server mu oznámil, že něco není v pořádku. Jaká je pravděpodobnost, že chtěl zadat správné heslo, ale pouze se „překlepnul“ při zadávání? (Předpokládáme, že uživatelské jméno zadá vždy bez chyby.)

**Řešení.** Označme  $A$  jev, že Michal fyzicky zadal na serveru seznam.cz špatné heslo. Tento jev je sjednocením dvou disjunktních jevů:

$A_1$  : chtěl zadat správné heslo a přepsal se,

$A_2$  : chtěl zadat špatné heslo (to z gmail.com) a buď se přepsal nebo ne.

Hledáme tedy podmíněnou pravděpodobnost  $P(A_1|A)$ , ta je podle vztahu pro podmíněnou pravděpodobnost rovna:

$$P(A_1|A) = \frac{P(A_1 \cap A)}{P(A)} = \frac{P(A_1)}{P(A_1 \cup A_2)} = \frac{P(A_1)}{P(A_1) + P(A_2)},$$

potřebujeme tedy určit pravděpodobnosti  $P(A_1)$  a  $P(A_2)$ . Jev  $A_1$  je konjunkcí (průnikem) dvou nezávislých jevů: Michal chtěl zadat správné heslo a Michal se při zadávání přepsal. Dle zadání je pravděpodobnost prvního z nich  $1/2$ , druhého  $1/20$ , celkem  $P(A_1) = \frac{1}{2} \cdot \frac{1}{20} = \frac{1}{40}$  (pravděpodobnosti násobíme, protože se jedná o nezávislé jevy). Dále je ze zadání  $P(A_2) = \frac{1}{2}$ . Celkem  $P(A) = P(A_1) + P(A_2) =$

$\frac{1}{40} + \frac{1}{2} = \frac{21}{40}$ , a můžeme vyčíslit:

$$P(A_1|A) = \frac{P(A_1)}{P(A)} = \frac{\frac{1}{40}}{\frac{21}{40}} = \frac{1}{21}.$$

□

### Geometrická pravděpodobnost.

Metodu *geometrické pravděpodobnosti* můžeme použít v případě, že daný základní prostor sestává z nekonečně mnoha elementárních jevů, které dohromady vyplňují nějakou oblast na přímce, rovině, prostoru (u které umíme určit její délku, obsah, objem, ...). Předpokládáme, že pravděpodobnost toho, že nastane elementární jev z určité podoblasti je rovna poměru její velikosti (délce, obsahu, ...) k velikosti celého základního prostoru.

**1.60.** Z Těšína vyjíždí vlaky co půl hodinu (směrem na Bohumín) a z tohoto směru přijíždějí také každé půl hodiny. Předpokládejme, že vlaky se mezi těmito dvěma stanicemi pohybují rovnoměrnou rychostí 72 km/h a jsou dlouhé 100 metrů, cesta trvá 30 minut, vlaky se míjejí někde na trase. Nevyspalý hazardér Jarek si vybere jeden z těchto vlaků a během cesty z Těšína do Bohumína náhodně vystrčí hlavu z okna na pět vteřin nad kolejiště pro protější směr. Jaká je pravděpodobnost, že mu bude uražena? (Předpokládáme, že jiné než zmíněné vlaky na trati nejezdí.)

**Řešení.** Vzájemná rychlost protijedoucích vlaků je 40 m/s, protijedoucí vlak mine Jardovo okno za dvě a půl sekundy. Prostor všech možností je tedy interval  $(0, 1800\text{ s})$ , prostor „příznivých“ možností je potom interval délky 7,5 s ležící někde uvnitř předchozí úsečky. Pravděpodobnost uražení hlavy je tedy  $7,5/1800 \doteq 0,004$ . □

**1.61.** Jednou denně někdy mezi osmou hodinou ranní a osmou hodinou večerní vyjíždí náhodně autobus z Koločavy do Užhorodu. Jednou denně ve stejném časovém rozmezí jezdí jiný autobus náhodně opačným směrem. Cesta tam trvá pět hodin, zpět též pět hodin. Jaká je pravděpodobnost, že se autobusy potkají, jezdí-li po stejné trase?

**Řešení.** Prostor všech možných jevů je čtverec  $12 \times 12$ , Označíme-li doby odjezdu obou autobusů  $x$ , resp.  $y$ , pak se tyto na trase potkají právě když  $|x - y| \leq 5$ . Tato nerovnost vymezuje v daném čtverci oblast „příznivých jevů“. Obsah zbylé části spočítáme přímo jednodušeji, neboť je sjednocením dvou pravouhlých rovnoramenných trojúhelníků o odvěsnách délky 7, tedy je roven 49, obsah části odpovídající „příznivým jevům“ je tedy  $144 - 49 = 95$ , celkem je hledaná pravděpodobnost  $p = \frac{95}{144} \doteq 0,66$ .

Nástrojem k tomu budou opět zobrazení, tentokrát to ale budou velice speciální pravidla přiřazující dvojicím hodnot  $(x, y)$  dvojice  $(w, z) = F(x, y)$ . Zároveň půjde o předzvěst úvah z oblasti matematiky, které se říká *lineární algebra* a kterou se budeme podrobně zabývat v dalších třech kapitolách.

**1.23. Vektorový prostor  $\mathbb{R}^2$ .** Podívejme se na „rovinu“ jakožto na množinu dvojic reálných čísel  $(x, y) \in \mathbb{R}^2$ . Budeme jim říkat *vektory* v  $\mathbb{R}^2$ . Pro takové vektory umíme definovat sčítání „po složkách“, tj. pro vektory  $u = (x, y)$  a  $v = (x', y')$  klademe

$$u + v = (x + x', y + y').$$

Protože pro jednotlivé složky platí všechny vlastnosti komutativní grupy, evidentně budou tyto vlastnosti platit i pro naše nové sčítání vektorů. Zejména tedy máme tzv. *nulový vektor*  $0 = (0, 0)$ , jehož přičtením k jakémukoliv vektoru  $v$  dostaneme opět vektor  $v$ . Záměrně teď používáme tentýž symbol  $0$  pro vektor i jeho skalární složky — z kontextu je vždy jasné, jakou „nulu“ máme kdy na mysli.

Dále definujeme násobení vektorů a skalárů tak, že pro  $a \in \mathbb{R}$  a  $v = (x, y) \in \mathbb{R}^2$  klademe

$$a \cdot v = (ax, ay).$$

Zpravidla budeme znak  $\cdot$  vynechávat a pouhé zřetězení znaků  $a v$  bude označovat skalární násobek vektoru. Přímo se ověří další vlastnosti pro násobení skaláry  $a, b$  a sčítání vektorů  $u, v$ , např.

$$a(u+v) = au + av, (a+b)u = au + bu, a(bu) = (ab)u,$$

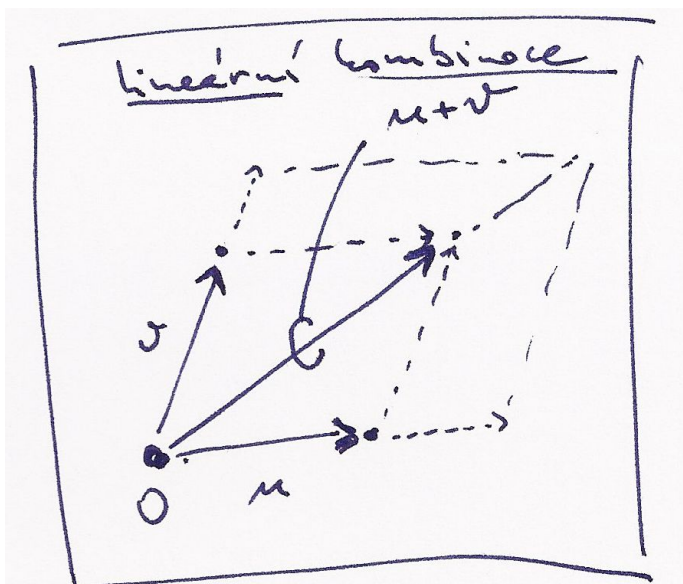
kde opět používáme stejný znak plus pro sčítání vektorů i skalárů.

Tyto operace si můžeme dobře představit, jestliže uvažujeme vektory  $v$  jako šipky začínající v počátku  $0 = [0, 0]$  a končící v bodě  $[x, y]$  v rovině.

Takové šipky pak můžeme přikládat jednu za druhou a to přesně odpovídá sčítání vektorů. Násobení skalárem  $a$  pak odpovídá natažení dané šipky na  $a$ -násobek.







Nyní můžeme udělat podstatný krok: jestliže si zapamatujeme dva významné vektory  $e_1 = (1, 0)$  a  $e_2 = (0, 1)$ , pak každý jiný vektor dostaneme jako



$$u = (x, y) = x e_1 + y e_2.$$

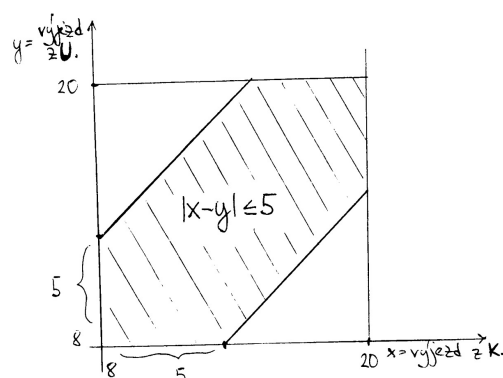
Výrazu napravo říkáme *lineární kombinace vektorů*  $e_1$  a  $e_2$ . Dvojici vektorů  $e = (e_1, e_2)$  říkáme *báze* vektorového prostoru  $\mathbb{R}^2$ .

Jestliže si ale vybereme jiné dva vektory  $u, v$ , které nejsou jeden násobek druhého, tj. jinou bázi v  $\mathbb{R}^2$ , budeme moci udělat totéž. Lineární kombinace  $w = x u + y v$  nám pro všechny různé dvojice  $(x, y)$  dá právě všechny vektory  $w$  v rovině.

Nakonec můžeme nahlížet vektory jako naše šipky v abstraktní poloze, tj. zapomeneme na ztotožnění bodů v rovině s dvojicemi čísel. Jenom budou naše šipky všechny „upoutány“ v bodě 0, který je zároveň nulovým vektorem. Zůstanou nám operace sčítání a násobení skaláry a teprve volbou báze  $e_1, e_2$  ztotožníme naši rovinu šipek s  $\mathbb{R}^2$ .



**1.24. Afinní rovina.** Když si pevně vyvolíme nějaký vektor  $u \in \mathbb{R}^2$ , můžeme jej přičítat (tj. coby šipku přikládat) k libovolnému bodu  $P = [x, y]$ . Máme tak tedy s pevným vektorem definované *posunutí*, které každý bod roviny  $P$  zobrazí na  $P + u$ .

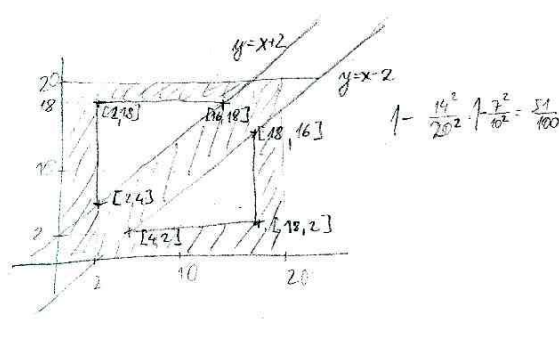


**1.62.** Dvoumetrová tyč je náhodně rozdělena na tři díly. Určete pravděpodobnost, že alespoň jeden díl bude nejvýše 20 cm dlouhý.

**Řešení.** Náhodné rozdělení tyče na tři díly je dáno dvěma body řezu, čísla  $x$  a  $y$  (nejprve tyč rozřízneme ve vzdálenosti  $x$  od počátku, nehybeme s ní a dále ji rozřízneme ve vzdálenosti  $y$  od počátku). Pravděpodobnostní prostor je tedy čtverec  $C$  o straně 2 m. Umístíme-li čtverec  $C$  tak, aby dvě jeho strany ležely na kartézských osách v rovině, tak podmínka, že alespoň jeden díl má být nejvýše 20 cm dlouhý, nám vymezuje ve čtverci následující oblast  $O$ :

$$O = \{(x, y) \in C \mid (x \leq 20) \vee (x \geq 180) \vee (y \leq 20) \vee (y \geq 180) \vee (|x - y| \leq 20)\}.$$

Jak snadno nahlédneme, zaujímá takto vymezená oblast  $\frac{51}{100}$  obsahu čtverce.



□

□

## E. Geometrie v rovině

**1.63.** Napište obecnou rovnici přímky  $p : x = 2 - t, y = 1 + 3t, t \in \mathbb{R}$ .

**Řešení.** Vektor  $(-1, 3)$  je směrovým vektorem přímky  $p$ . Proto vektor  $(3, 1)$  je jejím normálovým vektorem a obecná rovnice přímky  $p$  má tvar

$$3x + y + c = 0$$

pro jisté  $c \in \mathbb{R}$ . Tuto konstantu  $c$  určíme dosazením  $x = 2, y = 1$  (přímka  $p$  prochází bodem  $[2, 1]$  daným volbou  $t = 0$ ). Získáváme tak  $c = -7$  a následně výsledek  $3x + y - 7 = 0$ .  $\square$

**1.64.** Je dána přímka

$$p : [2, 0] + t(3, 2), t \in \mathbb{R}.$$

Určete její obecnou rovnici a nalezněte průnik s přímkou

$$q : [-1, 2] + s(1, 3), s \in \mathbb{R}.$$

**Řešení.** Souřadnice bodů na přímce jsou dány dle daného parametrického zadání jako  $x = 2 + 3t$  a  $y = 0 + 2t$ . Vyloučením parametru  $t$  ze soustavy těchto dvou rovnic dostáváme obecnou rovnici přímky  $p$ :

$$2x - 3y - 4 = 0.$$

Průnik s přímkou  $q$  získáme dosazením parametrického vyjádření bodů přímky  $q$ , tedy  $x = -1 + s$  a  $y = 2 + 3s$ , do obecné rovnice přímky  $p$ :

$$2(-1 + s) - 3(2 + 3s) - 4 = 0,$$

odkud  $s = -12/7$  a dosazením do parametrického vyjádření přímky  $q$  dostáváme souřadnice průsečíku  $P$ :

$$P = \left[-\frac{19}{7}, -\frac{22}{7}\right].$$

$\square$

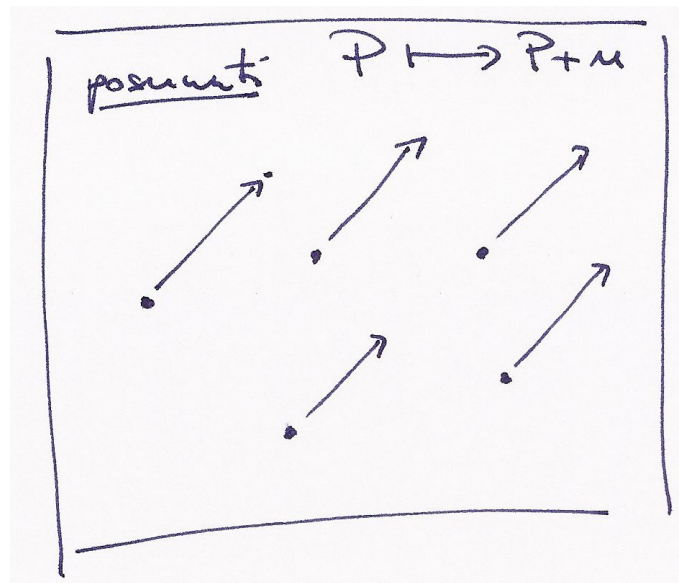
**1.65.** Stanovte průsečík přímek

$$p : x + y - 4 = 0, \quad q : x = -1 + 2t, y = 2 + t, t \in \mathbb{R}.$$

**Řešení.** Nejdříve poznamenejme, že směrovým vektorem přímky  $p$  je  $u_p = (1, -1)$  (libovolný nenulový vektor kolmý k vektoru  $(1, 1)$  z obecné rovnice přímky) a směrovým vektorem přímky  $q$  je  $u_q = (2, 1)$ . To, že vektor  $u_p$  není násobkem vektoru  $u_q$ , pak zaručuje, že se přímky protínají (přímky nejsou rovnoběžné). Bod  $[x, y]$  je hledaným průsečíkem, právě když jeho souřadnice vyhovují rovnici přímky  $p$  a současně existuje reálné číslo  $t$ , pro které

$$x = -1 + 2t, \quad y = 2 + t.$$

Dosadíme-li odsud do obecné rovnice  $p$ , obdržíme



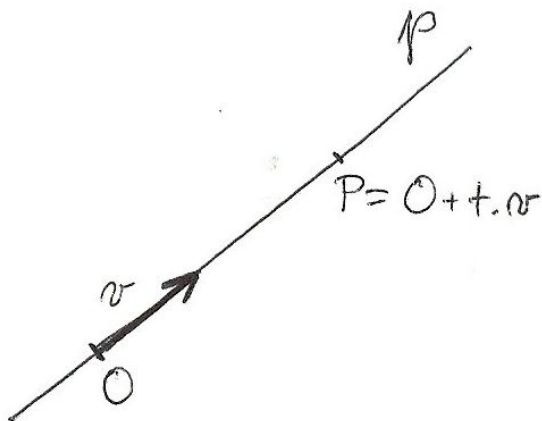
Zkusme teď úplně zapomenout na souřadnice a vnímat celou rovinu jako množinu, na které fungují naše posunutí. Takovou množinu  $A = \mathbb{R}^2$  si můžeme představit z pohledu pozorovatele, který sedí v některém pevně zvoleném místě (můžeme mu říkat třeba bod  $O = [x_0, y_0] \in \mathbb{R}^2$ ). Předpokládejme, že ji vnímá jako nekonečnou desku bez jakýchkoliv zvolených měřítek a popisů a jenom ví, co to znamená posunout se o libovolný násobek nějakého vektoru  $u \in \mathbb{R}^2$ . Takové roviny budeme říkat „afinní rovina“.



Aby mohl vidět kolem sebe „dvojice reálných čísel“, musí si vybrat nějaký bod  $E_1$ , kterému řekne „bod  $[1, 0]$ “ a jiný bod  $E_2$ , kterému začne říkat „bod  $[0, 1]$ “. Jinými slovy, zvolí si bázi  $e_1 = (1, 0), e_2 = (0, 1)$  mezi vektory posunutí. Do všech ostatních se pak dostane tak, že poskočí „ $a$ -krát ve směru  $e_1$ “ a pak „ $b$ -krát ve směru  $e_2$ “ a takovému bodu bude říkat „bod  $[a, b]$ “. Pokud to bude dělat obvyklým způsobem, nebude výsledek záviset na pořadí, tzn. může také napřed jít  $b$ -krát ve směru  $e_2$  a pak teprve ve směru  $e_1$ .

To, co jsme popsali, se nazývá volba (afinního) souřadného systému v rovině, bod  $O$  je jeho počátkem, a obecně každý bod  $P$  roviny je ztotožněn s dvojicí čísel  $[a, b]$ , kterou také budeme psát jako posunutí  $P - O$ .

Budeme dále pracovat v pevně zvolených souřadnicích, tj. s dvojicemi reálných čísel, ale pro lepší orientaci budeme vektory zapisovat s kulatými závorkami místo hranatých u souřadnic bodů v afinní rovině.



1.24

**1.25. Přímky v rovině.** Když se náš pozorovatel umí posouvat o libovolný násobek pevného vektoru, pak také ví, co je to *přímka*.



Je to podmnožina  $p \subset A$  v rovině taková, že existují bod  $O$  a nenulový vektor  $v$  takové, že

$$p = \{P \in A; P - O = t \cdot v, t \in \mathbb{R}\}.$$

Popišme si  $P = P(t) \in p$  ve zvolených souřadnicích s volbou  $v = (\alpha, \beta)$ :

$$x(t) = x_0 + \alpha \cdot t, \quad y(t) = y_0 + \beta \cdot t.$$

Protože vektor  $v = (\alpha, \beta)$  je nenulový, musí být aspoň jedno z čísel  $\alpha, \beta$  různé od nuly. Když pro určitost předpokládáme, že třeba  $\alpha \neq 0$ , pak vyloučíme  $t$  z parametrického vyjádření pro  $x$  a  $y$  a jednoduchým výpočtem dostaneme

$$-\beta x + \alpha y = -\beta x_0 + \alpha y_0.$$

To je obecná rovnice přímky

e1.12 (1.13)  $ax + by = c,$

se známým vztahem dvojice čísel  $(a, b) = (-\beta, \alpha)$  a směrového vektoru přímky  $v = (\alpha, \beta)$

e1.13 (1.14)  $a\alpha + b\beta = 0.$

$$(-1 + 2t) + (2 + t) - 4 = 0.$$

Této rovnici vyhovuje právě  $t = 1$ , což dává průsečík se souřadnicemi  $x = 1, y = 3$ . □

**1.66.** Najděte obecnou rovnici přímky  $p$ , jež prochází bodem  $[2, 3]$  a je rovnoběžná s přímkou  $x - 3y + 2 = 0$ , a parametrickou rovnici přímky  $q$  procházející body  $[1, 3]$  a  $[-2, 1]$ .

**Řešení.** Každá přímka rovnoběžná s přímkou  $x - 3y + 2 = 0$  je zadána rovnicí

$$x - 3y + c = 0$$

pro nějaké  $c \in \mathbb{R}$ . Přímka  $p$  prochází bodem  $[2, 3]$ . Musí tedy platit

$$2 - 3 \cdot 3 + c = 0, \quad \text{tj.} \quad c = 7.$$

Pro přímku  $q$  lze ihned uvést její parametrické vyjádření

$$q : [1, 3] + t(1 - (-2), 3 - 1) = [1, 3] + t(3, 2), \quad t \in \mathbb{R}.$$

□

**1.67.** Zjistěte, zda některé z přímek

$$p_1 : 2x + 3y - 4 = 0, \quad p_2 : x - y + 3 = 0, \quad p_3 : -2x + 2y = -6,$$

$$p_4 : -x - \frac{3}{2}y + 2 = 0, \quad p_5 : x = 2 + t, \quad y = -2 - t, \quad t \in \mathbb{R}$$

(ne)jsou totožné.

**Řešení.** Je vidět, že

$$-2 \cdot (-x - \frac{3}{2}y + 2) = 2x + 3y - 4.$$

Obecné rovnice  $p_1$  a  $p_4$  tudíž zadávají stejnou přímku. Normálový vektor přímky  $p_1$  je  $(2, 3)$ , pro přímku  $p_2$  je  $(1, -1)$ , pro  $p_3$  je  $(-2, 2)$  a pro  $p_5$  je  $(1, 1)$  (kolmý vektor k vektoru  $(1, -1)$ ). Přímky  $p_2$  a  $p_3$  jsou rovnoběžné (normálový vektor jedné je násobkem normálového vektoru druhé). Další dvojice rovnoběžných přímek neexistují. Neboť soustava

$$x - y + 3 = 0, \quad -2x + 2y + 6 = 0$$

zjevně nemá řešení, přímky  $p_1$  a  $p_4$  tvoří jedinou dvojici totožných přímek. □

**1.68.** Určete přímku  $p$ , která je kolmá k přímce  $q : 6x - 7y + 13 = 0$  a která prochází bodem  $[-6, 7]$ .

**Řešení.** Protože normálový vektor přímky  $q$  je směrový vektor přímky  $p$ , můžeme bezprostředně napsat výsledek

$$p : x = -6 + 6t, \quad y = 7 - 7t, \quad t \in \mathbb{R}.$$

□

**1.69.** Udejte příklad čísel  $a, b \in \mathbb{R}$ , pro něž je vektor  $u$  normálovým vektorem přímky  $AB$ , je-li  $A = [1, 2]$ ,  $B = [2b, b]$ ,  $u = (a - b, 3)$ .

**Řešení.** Směrovým vektorem přímky  $AB$  je  $(2b - 1, b - 2)$  (tento vektor je vždy nenulový), a proto jejím normálovým vektorem je  $(2 - b, 2b - 1)$ . Položíme-li

$$2 - b = a - b, \quad 2b - 1 = 3,$$

dostáváme  $a = b = 2$ .  $\square$

**1.70.** Určete vzájemnou polohu přímek  $p, q$  v rovině, jestliže je  $p : 2x - y - 5 = 0$ ,  $q : x + 2y - 5 = 0$ . Pokud se jedná o různoběžky, nalezněte souřadnice jejich průsečíku.

**Řešení.** Z obecných rovnic přímek  $p, q$  známe jejich normálové vektory  $(2, -1)$ ,  $(1, 2)$ . Přímky jsou rovnoběžné právě tehdy, je-li normálový vektor jedné násobkem normálového vektoru druhé, což zřejmě pro přímky  $p, q$  splněno není. Jde tedy o různoběžky. Průsečík nalezneme vyřešením soustavy

$$2x - y - 5 = 0, \quad x + 2y - 5 = 0.$$

Když z první rovnice vyjádříme  $y = 2x - 5$  a dosadíme za  $y$  do druhé, získáme

$$x + 2(2x - 5) - 5 = 0, \quad \text{tj.} \quad x = 3.$$

Poté snadno určíme  $y = 2 \cdot 3 - 5 = 1$ . Přímky se tak protínají v bodě  $[3, 1]$ .  $\square$

**1.71.** Uvažujme rovinu  $\mathbb{R}^2$  se standardní soustavou souřadnic. Z počátku  $[0, 0]$  je vyslán laserový paprsek ve směru  $(3, 1)$ . Dopadne na zrcadlovou přímku  $p$  danou parametricky jako

$$p : [4, 3] + t(-2, 1)$$

a poté se odrazí (úhel dopadu je shodný s úhlem odrazu). V jakém bodě dopadne odražený paprsek na přímku  $q$ , danou parametricky jako

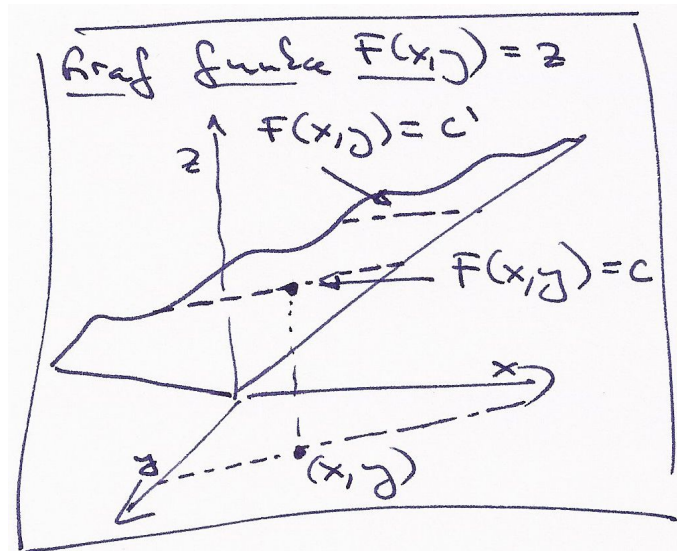
$$q : [7, -10] + t(-1, 6)?$$

1.25

**Řešení.** Směr paprsku svírá s přímkou  $p$  úhel  $45^\circ$ , odražený paprsek tedy bude kolmý na dopadající, jeho směrový vektor bude  $(1, -3)$  (Pozor na orientaci! Daný směrový vektor můžeme též získat například zrcadlením (osovou symetrií) podle kolmého vektoru k přímce  $p$ .) Paprsek dopadne v bodě  $[6, 2]$ , odražený paprsek tedy bude mít rovnici

$$[6, 2] + t(1, -3), \quad t \geq 0.$$

Průnik přímky dané odraženým paprskem s přímkou  $q$  je bod  $[4, 8]$ , což je mimo polopřímku, která je daná odraženým paprskem ( $t = -2$ ). Odražený paprsek tedy přímku  $q$  neprotne.  $\square$



Výraz nalevo v rovnici přímky (1.13) můžeme vidět jako skalární funkci  $F$  závislou na bodech v rovině a s hodnotami v  $\mathbb{R}$ , samu rovnici pak jako požadavek na její hodnotu. Časem uvidíme, že vektor  $(a, b)$  je v tomto případě právě směrem, ve kterém  $F$  nejrychleji roste. Proto bude směr kolmý na  $(a, b)$  právě tím směrem, ve kterém zůstává naše funkce  $F$  konstantní. Konstanta  $c$  pak určuje, kterou ze všech rovnoběžných přímek rovnice určuje.



Mějme nyní dvě přímky  $p$  a  $q$  a ptejme se po jejich průniku  $p \cap q$ . Ten bude popsán jako bod, splňující obě rovnice přímek současně. Pišme je takto

$$(1.15) \quad \begin{aligned} ax + by &= r \\ cx + dy &= s. \end{aligned}$$

Opět můžeme levou stranu vnímat jako přiřazení, které každé dvojici souřadnic  $[x, y]$  bodů  $P$  v rovině přiřadí vektor hodnot dvou skalárních funkcí  $F_1$  a  $F_2$  daných levými stranami jednotlivých rovnic (1.15). Můžeme tedy naše rovnice napsat jako jediný vztah  $F(v) = w$ , kde  $F$  je přiřazení, které vektor  $v$  popisující polohu obecného bodu v rovině (v našich souřadnicích) zobrazí na vektor zadaný levou stranou rovnic, a požadujeme, aby se toto zobrazení střelilo do předem zadané hodnoty  $w = (r, s)$ .

**1.26. Lineární zobrazení a matice.** Přiřazení  $F$ , se kterými jsme pracovali při popisu průniku přímek, mají jednu velice podstatnou společnou vlastnost: respektují operace sčítání a násobení s vektory a skaláry, tj. respektují lineární kombinace:

$$F(a \cdot v + b \cdot w) = a \cdot F(v) + b \cdot F(w)$$

pro všechny  $a, b \in \mathbb{R}$ ,  $v, w \in \mathbb{R}^2$ . Říkáme, že  $F$  je *lineární zobrazení* z  $\mathbb{R}^2$  do  $\mathbb{R}^2$ , a píšeme  $F : \mathbb{R}^2 \rightarrow \mathbb{R}^2$ . Slovy lze podmínku také vyjádřit tak, že lineární kombinace vektorů se zobrazuje na tutéž lineární kombinaci jejich obrazů, tj. lineární zobrazení jsou ta zobrazení, která zachovávají lineární kombinace.



Se stejným chováním jsme se setkali i v rovnici (1.13) pro přímkou, kde šlo o lineární zobrazení  $F : \mathbb{R}^2 \rightarrow \mathbb{R}$  a jeho předepsanou hodnotu  $c$ . To je také důvodem, proč jsou hodnoty zobrazení  $z = F(x, y)$  na obrázku vyobrazeny jako rovina v  $\mathbb{R}^3$ .

Stručně budeme zapisovat taková zobrazení pomocí tzv. *matic* a jejich násobení. Maticí rozumíme obdélníkové schéma skalárů, např.

$$A = \begin{pmatrix} a & b \\ c & d \end{pmatrix} \quad \text{nebo} \quad v = \begin{pmatrix} x \\ y \end{pmatrix},$$

hovoříme o (čtvercové) matici  $A$  a (sloupcovém) vektoru  $v$ . Jejich násobení definujeme takto:

$$A \cdot v = \begin{pmatrix} a & b \\ c & d \end{pmatrix} \cdot \begin{pmatrix} x \\ y \end{pmatrix} = \begin{pmatrix} ax + by \\ cx + dy \end{pmatrix}.$$

Podobně, můžeme místo vektoru  $v$  zprava násobit jinou maticí  $B$  stejného rozměru jako je  $A$ . Prostě aplikujeme předchozí formule po jednotlivých sloupcích matice  $B$  a obrdříme jako výsledek opět čtvercovou matici.

Neumíme násobit vektor  $v$  zprava maticí  $A$  protože nám nevychází počty skalárů na řádcích  $v$  s počty skalárů ve sloupcích  $A$ . Umíme však napsat vektor  $w$  do řádku skalárů (tzv. transponovaný vektor)  $w^T = (a \ b)$  a ten zprava našimi maticemi  $A$  nebo vektory  $v$  již násobit umíme.

Snadno ověříme tzv. asociativitu násobení (propočítejte pro obecné matice  $A$ ,  $B$  a vektor  $v$  detailně):

$$(A \cdot B) \cdot v = A \cdot (B \cdot v).$$

Místo vektoru  $v$  můžeme samozřejmě psát i libovolnou matici  $C$  správného rozměru. Stejně snadno je vidět i distributivita

$$A \cdot (B + C) = A \cdot B + A \cdot C,$$

neplatí však komutativita a existují „dělitelé nuly“. Např.

$$\begin{pmatrix} 0 & 1 \\ 0 & 0 \end{pmatrix} \cdot \begin{pmatrix} 0 & 0 \\ 0 & 1 \end{pmatrix} = \begin{pmatrix} 0 & 1 \\ 0 & 0 \end{pmatrix}, \quad \begin{pmatrix} 0 & 0 \\ 0 & 1 \end{pmatrix} \cdot \begin{pmatrix} 0 & 1 \\ 0 & 0 \end{pmatrix} = \begin{pmatrix} 0 & 0 \\ 0 & 0 \end{pmatrix}.$$

Zejména vidíme, že násobení vektorů pevnou maticí zadává lineární zobrazení, a naopak, pomocí hodnot lineárního zobrazení  $F$  na dvou pevných vektorech báze už dostaneme celé příslušné zobrazení. Body v rovině jsou tedy obecně vzory hodnot lineárních zobrazení  $F$  roviny do roviny, přímky jsou obecně vzory hodnot lineárních zobrazení z roviny do reálné přímky  $\mathbb{R}$ . S maticemi a vektory umíme rovnice pro přímky a body psát

$$w^T \cdot v = (a \ b) \cdot \begin{pmatrix} x \\ y \end{pmatrix} = c$$

$$A \cdot v = \begin{pmatrix} a & b \\ c & d \end{pmatrix} \cdot \begin{pmatrix} x \\ y \end{pmatrix} = \begin{pmatrix} r \\ s \end{pmatrix} = u.$$

Samozřejmě, ve zvláštních situacích tomu tak být nemusí. Tak třeba průnikem dvou stejných přímek je opět sama přímka (a vzorem vhodné hodnoty pro takové lineární zobrazení bude celá přímka), nulové zobrazení má za vzor nuly

**1.72.** Z bodu  $[-2, 0]$  vyrazila v pravé poledne konstantní rychlostí  $1 \text{ ms}^{-1}$  ve směru  $(3, 2)$  úsečka délky 1. Rovněž v poledne vyrazila z bodu  $[5, -2]$  druhá úsečka délky 1 ve směru  $(-1, 1)$ , ovšem dvojnásobnou rychlostí. Srazí se?

**Řešení.** Přímky, po kterých se pohybují dané úsečky, můžeme popsat parametrickým vyjádřením:

$$\begin{aligned} p & : [-2, 0] + r(3, 2), \\ q & : [5, -2] + s(-1, 1). \end{aligned}$$

Obecná rovnice přímky  $p$  je

$$2x - 3y + 4 = 0.$$

Dosažením parametrického vyjádření přímky  $q$  získáme průsečík  $P = [1, 2]$ .

Nyní se snažme zvolit jediný parametr  $t$  pro obě úsečky tak, aby nám odpovídající bod na přímkách  $p$ , resp.  $q$ , popisoval polohu počátku první, resp. druhé, úsečky v čase  $t$ . V čase 0 je první úsečka v bodě  $[-2, 0]$ , druhá v bodě  $[5, -2]$ . Za čas  $t$  sekund urazí první úsečka  $t$  jednotek délky ve směru  $(3, 2)$  druhá pak  $2t$  jednotek délky ve směru  $(-1, 1)$ . Odpovídající parametrizace jsou tedy

$$\begin{aligned} p & : [-2, 0] + \frac{t}{\sqrt{13}}(3, 2), \\ q & : [5, -2] + t\sqrt{2}(-1, 1). \end{aligned}$$

Počátek první úsečky dorazí do bodu  $[1, 2]$  v čase  $t_1 = \sqrt{13}$  s, počátek druhé úsečky v čase  $t = 2\sqrt{2}$  s, tedy více než o půl vteřiny dříve. Tedy v době, kdy dorazí do průsečíku  $P$  počátek první úsečky, bude již konec druhé úsečky pryč a úsečky se tak nesrazí.  $\square$

**1.73.** Rovinný fotbalista vystřelí míč z bodu  $F = [1, 0]$  ve směru  $(3, 4)$  na bránu (úsečku) ohraničenou body  $A = [23, 36]$  a  $B = [26, 30]$ . Směřuje míč do brány?

**Řešení.** Vzhledem k tomu, že se situace odehrává v prvním kvadrantu, stačí uvažovat směrnice vektorů  $\vec{FA}$ ,  $(3, 4)$ ,  $\vec{FB}$ . Tvoří-li (v tomto pořadí) buď rostoucí nebo klesající posloupnost, míč směřuje na bránu. Tato posloupnost je  $36/22, 4/3, 30/25$ , což je klesající posloupnost, míč tedy směřuje do brány.  $\square$

**1.74.** Upravte  $(A - B)^T \cdot 2C \cdot u$ , přičemž

$$A = \begin{pmatrix} 0 & 5 \\ -2 & 2 \end{pmatrix}, \quad B = \begin{pmatrix} 2 & 0 \\ -1 & 1 \end{pmatrix}, \quad C = \begin{pmatrix} 2 & -2 \\ 4 & 5 \end{pmatrix}, \quad u = \begin{pmatrix} 3 \\ 2 \end{pmatrix}.$$

**Řešení.** Dosažením

$$A - B = \begin{pmatrix} -2 & 5 \\ -1 & 1 \end{pmatrix}, \quad (A - B)^T = \begin{pmatrix} -2 & -1 \\ 5 & 1 \end{pmatrix}, \quad 2C = \begin{pmatrix} 4 & -4 \\ 8 & 10 \end{pmatrix}$$

a násobením matic dostáváme

$$(A - B)^T \cdot 2C \cdot u = \begin{pmatrix} -2 & -1 \\ 5 & 1 \end{pmatrix} \cdot \begin{pmatrix} 4 & -4 \\ 8 & 10 \end{pmatrix} \cdot \begin{pmatrix} 3 \\ 2 \end{pmatrix} = \begin{pmatrix} -52 \\ 64 \end{pmatrix}.$$

□

**1.75.** Uvedte příklad matic  $A$  a  $B$ , pro něž

$$(a) (A + B) \cdot (A - B) \neq A \cdot A - B \cdot B;$$

e1.15

$$(b) (A + B) \cdot (A + B) \neq A \cdot A + 2A \cdot B + B \cdot B.$$

**Řešení.** Připomeňme, že uvažujeme dvojrozměrné (čtvercové) matice  $A$  a  $B$ . Pro libovolné matice  $A$  a  $B$  ovšem platí

$$(A + B) \cdot (A - B) = A \cdot A - A \cdot B + B \cdot A - B \cdot B.$$

Identitu

$$(A + B) \cdot (A - B) = A \cdot A - B \cdot B$$

tak dostaneme, právě když je  $-A \cdot B + B \cdot A$  nulovou maticí, tj. právě když matice  $A$  a  $B$  komutují. Příkladem hledaných matic jsou tedy právě ty dvojice matic, které nekomutují (matice součinu se při záměně pořadí násobených matic změní). Můžeme např. zvolit

$$A = \begin{pmatrix} 1 & 2 \\ 3 & 4 \end{pmatrix}, \quad B = \begin{pmatrix} 4 & 3 \\ 2 & 1 \end{pmatrix},$$

neboť při této volbě je

$$A \cdot B = \begin{pmatrix} 8 & 5 \\ 20 & 13 \end{pmatrix}, \quad B \cdot A = \begin{pmatrix} 13 & 20 \\ 5 & 8 \end{pmatrix}. \quad 1.25b$$

Analogicky pro každou dvojici matic  $A, B$  platí

$$(A + B) \cdot (A + B) = A \cdot A + A \cdot B + B \cdot A + B \cdot B.$$

To znamená, že

$$(A + B) \cdot (A + B) = A \cdot A + A \cdot B + A \cdot B + B \cdot B$$

je splněno tehdy a jenom tehdy, když  $A \cdot B = B \cdot A$ . Ve druhém případě jsou tak hledané dvojice matic  $A, B$  zcela totožné s případem prvním. □

**1.76.** Rozhodněte, zda jsou zobrazení  $F, G: \mathbb{R}^2 \rightarrow \mathbb{R}^2$  zadaná přiřazeními

$$F: \begin{pmatrix} x \\ y \end{pmatrix} \mapsto \begin{pmatrix} 7x - 3y \\ -2x + 5y \end{pmatrix}, \quad x, y \in \mathbb{R},$$

$$G: \begin{pmatrix} x \\ y \end{pmatrix} \mapsto \begin{pmatrix} 2x + 2y - 4 \\ 4x - 9y + 3 \end{pmatrix}, \quad x, y \in \mathbb{R}$$

lineární.

**Řešení.** Pro libovolný vektor  $(x, y)^T \in \mathbb{R}^2$  můžeme vyjádřit

$$F \left( \begin{pmatrix} x \\ y \end{pmatrix} \right) = \begin{pmatrix} 7 & -3 \\ -2 & 5 \end{pmatrix} \cdot \begin{pmatrix} x \\ y \end{pmatrix}, \quad G \left( \begin{pmatrix} x \\ y \end{pmatrix} \right) = \begin{pmatrix} 2 & 2 \\ 4 & -9 \end{pmatrix} \cdot \begin{pmatrix} x \\ y \end{pmatrix} + \begin{pmatrix} -4 \\ 3 \end{pmatrix}.$$

celou rovinu. V prvním případě to poznáme tak, že jsou nalevo v rovnicích (1.15) stejné výrazy až na skalární násobek (nebo jinak řečeno, řádky matice  $A$  jsou stejné až na skalární násobek). V takovém případě buď nebude v průniku příslušných přímek žádný bod (rovnoběžné různé přímky) nebo tam budou všechny body přímky (stejně přímky). Tuto podmínku může vyjádřit tak, že poměry  $a/c$  a  $b/d$  musí být stejné, neboli

$$(1.16) \quad ad - bc = 0.$$

Všimněme si, že toto vyjádření už zahrnuje i případy, kdy  $c$  nebo  $d$  je nulové.

**1.27. Determinant matice.** Výrazu nalevo v (1.16) říkáme *determinant* matice  $A$  a píšeme pro něj

$$\det A = \begin{vmatrix} a & b \\ c & d \end{vmatrix} = ad - bc.$$

Naši diskusi teď můžeme vyjádřit takto:

**Tvrzení.** *Determinant je skalární funkce  $\det A$  definovaná na všech maticích  $A$  a rovnice  $A \cdot v = u$  je jednoznačně řešitelná, právě když je  $\det A \neq 0$ .*



Zkuste promyslet, že pro tuto úvahu bylo podstatné, že pracujeme s polem skalárů. Například nad celými čísly obecně neplatí. Když prostě spočteme řešení rovnic s celočíselnými koeficienty (tj. matice  $A$  má pouze celočíselné vstupy), tak toto řešení celočíselné být nemusí.

**1.28. Afinní zobrazení.** Podíváme se, jak maticová symbolika umožňuje pracovat s jednoduchými zobrazeními v afinní rovině. Viděli jsme, že násobením maticí je dáno lineární zobrazení. Posunutí v afinní rovině  $\mathbb{R}^2$  o pevný vektor  $t = (r, s) \in \mathbb{R}^2$  umíme v maticové formě také snadno zapsat:



$$P = \begin{pmatrix} x \\ y \end{pmatrix} \mapsto P + t = \begin{pmatrix} x \\ y \end{pmatrix} + \begin{pmatrix} r \\ s \end{pmatrix} = \begin{pmatrix} x + r \\ y + s \end{pmatrix}.$$

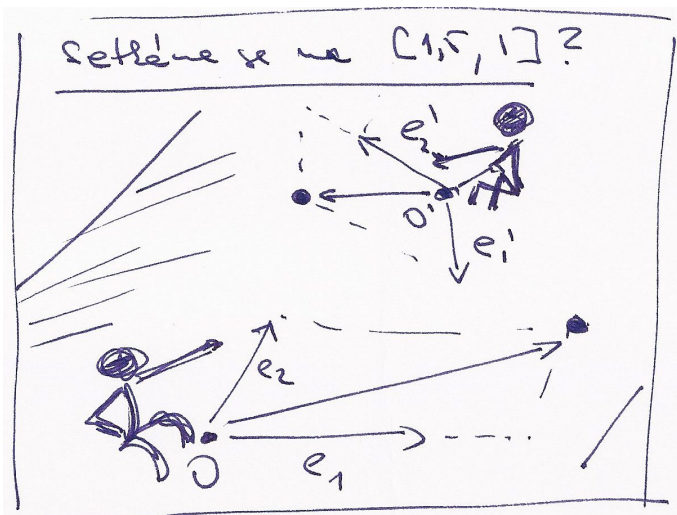
Jestliže k výsledku lineárního zobrazení ještě dovolíme přičíst pevný vektor  $t = (r, s)$ , pak naše zobrazení bude mít tvar

$$v = \begin{pmatrix} x \\ y \end{pmatrix} \mapsto A \cdot v + t = \begin{pmatrix} ax + by + r \\ cx + dy + s \end{pmatrix}.$$

Takto jsou popsána právě všechna tzv. *afinní zobrazení roviny* do sebe.



Taková zobrazení nám umožní přepočítávání souřadnic vzniklých různými volbami počátků a bází směrů pro posunutí. Co se stane, když náš pozorovatel z odstavce 1.23 bude tutéž rovinu shlížet z jiného bodu nebo si aspoň vybere jiné body  $E_1, E_2$ ? Zkuste si promyslet, že na úrovni souřadnic to skutečně bude právě změna realizovaná pomocí afinního zobrazení. Časem budeme vidět obecné důvody, proč tomu tak je ve všech dimenzích.



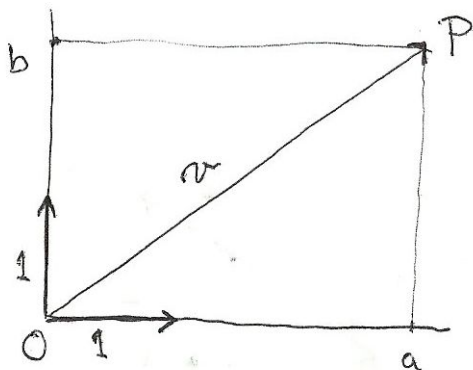
1.26

**1.29. Euklidovská rovina.** Přidejme nyní schopnost našeho pozorovatele vidět vzdálenosti. Např. může věřit obvyklému vzorci pro velikost vektoru  $v = (a, b)$

$$\|v\| = \sqrt{a^2 + b^2}$$

v jím zvolených afinních souřadnicích. Okamžitě pak můžeme definovat pojmy jako jsou úhel a otočení v rovině.

Jednoduše si to můžeme představit takto: náš člověk se rozhodne o nějakých bodech  $E_1$  a  $E_2$ , že jsou od něj ve vzdálenosti jedna, a zároveň si řekne, že jsou na sebe kolmé. Vzdálenosti ve směrech souřadných os pak jsou dány příslušným poměrem, obecně používá Euklidovu (nebo Pythagorovu) větu. Odtud vyjde právě výše uvedený vzorec.



$$\|v\| = \|P - Q\| = \sqrt{a^2 + b^2}$$

Náš pozorovatel roviny může samozřejmě postupovat i jinak. Může použít nějaký standard pro skutečné měření vzdálenosti bodů  $P$  a  $Q$  v rovině a říci, že to je právě velikost vektoru  $Q - P$ , který potřebujeme na posunutí z  $P$  do  $Q$ . Pak si vybere nějaký z vektorů, které skutečně mají velikost 1 a třeba pomocí trojúhelníku o stranách s velikostmi 3, 4 a 5 zkonstruuje kolmý vektor o velikosti jedna a dále pokračuje jako výše.

Odtud vyplývá, že obě zobrazení jsou afinní. Připomeňme, že afinní zobrazení je lineární, právě když se nulový vektor zobrazí sám na sebe. Neboť

$$F \left( \begin{pmatrix} 0 \\ 0 \end{pmatrix} \right) = \begin{pmatrix} 0 \\ 0 \end{pmatrix}, \quad G \left( \begin{pmatrix} 0 \\ 0 \end{pmatrix} \right) = \begin{pmatrix} -4 \\ 3 \end{pmatrix},$$

zobrazení  $F$  je lineární, zobrazení  $G$  nikoli.  $\square$

**1.77.** Buď dán pravidelný šestiúhelník  $ABCDEF$  (vrcholy jsou označeny pořadě v kladném smyslu) se středem v bodě  $S = [1, 0]$  a vrcholem  $A = [0, 2]$ . Určete souřadnice vrcholu  $C$ .

**Řešení.** Souřadnice vrcholu  $C$  získáme otočením bodu  $A$  okolo středu  $S$  šestiúhelníka o  $120^\circ$  v kladném smyslu:

$$\begin{aligned} C &= \begin{pmatrix} \cos(120^\circ) & -\sin(120^\circ) \\ \sin(120^\circ) & \cos(120^\circ) \end{pmatrix} (A - S) + S \\ &= \begin{pmatrix} -\frac{1}{2} & -\frac{\sqrt{3}}{2} \\ \frac{\sqrt{3}}{2} & -\frac{1}{2} \end{pmatrix} \begin{pmatrix} -1 \\ 2 \end{pmatrix} + [1, 0] = \left[ \frac{3}{2} - \sqrt{3}, -1 - \frac{\sqrt{3}}{2} \right]. \end{aligned}$$

$\square$

**1.78.** Buď dán rovnostranný trojúhelník s vrcholy  $[1, 0]$  a  $[0, 1]$  ležící celý v prvním kvadrantu. Určete souřadnice jeho třetího vrcholu.

**Řešení.** Třetí souřadnice je  $[\frac{1}{2} + \frac{\sqrt{3}}{2}, \frac{1}{2} + \frac{\sqrt{3}}{2}]$  (otáčíme bod  $[1, 0]$  o  $60^\circ$  kolem bodu  $[0, 1]$  v kladném smyslu).  $\square$

**1.79.** Určete souřadnice vrcholů trojúhelníka, který vznikne otočením rovnostranného trojúhelníka, jehož dva vrcholy jsou  $A = [1, 1]$  a  $B = [2, 3]$  (třetí pak v polorovině dané přímkou  $AB$  a bodem  $S = [0, 0]$ ) o  $60^\circ$  v kladném smyslu kolem bodu  $S$ .

**Řešení.** Třetí vrchol trojúhelníka dostaneme např. otočením o  $60^\circ$  jednoho z vrcholů kolem druhého (ve správném smyslu). Hledané body mají pak souřadnice  $[-\frac{3}{2}\sqrt{3}, \sqrt{3} - \frac{1}{2}]$ ,  $[\frac{1}{2} - \frac{1}{2}\sqrt{3}, \frac{1}{2}\sqrt{3} + \frac{1}{2}]$ ,  $[1 - \frac{3}{2}\sqrt{3}, \sqrt{3} + \frac{3}{2}]$ .  $\square$

**1.80.** Určete úhel, který svírají vektory

(a)  $u = (-3, -2)$ ,  $v = (-2, 3)$ ;

(b)  $u = (2, 6)$ ,  $v = (-3, -9)$ .

**Řešení.** Hledaný úhel  $\varphi$  vypočítáme ze vzorce (1.36). Všimněme si, že vektor  $(-3, -2)$  můžeme získat tak, že zaměníme pořadí souřadnic ve vektoru  $(-2, 3)$  a jednu z nich vynásobíme číslem  $-1$ . To je ovšem úprava, která se provádí, když chceme ze směrového vektoru přímky získat normálový (nebo naopak). Vektory ve variantě (a) jsou tedy kolmé, tj.  $\varphi = \pi/2$ . Neboť  $-3 \cdot (2, 6) = 2 \cdot (-3, -9)$ , je ve variantě (b) vektor  $u$  násobkem vektoru  $v$ . Pokud jeden vektor přejde na druhý tak, že ho vynásobíme kladným číslem, svírají tyto vektory evidentně nulový úhel. V našem příkladu je třeba násobit záporným číslem, což bezprostředně dává  $\varphi = \pi$ .  $\square$

**1.81.** Určete úhel (odchylku)  $\varphi$ , který svírají úhlopříčky  $A_3A_7$  a  $A_5A_{10}$  pravidelného dvanáctiúhelníka  $A_0A_1A_2 \dots A_{11}$ .

**Řešení.** Odchylka nezávisí na velikosti daného dvanáctiúhelníka. Volme dvanáctiúhelník vepsaný do kružnice o poloměru 1. Jako v předchozím příkladě určíme souřadnice jeho vrcholů a podle vzorce snadno dopočítáme, že  $\cos(\varphi) = \frac{1}{2\sqrt{2+\sqrt{3}}}$ , tedy  $\varphi = 75^\circ$ .

**Jiné řešení.** Úlohu lze řešit čistě metodami syntetické geometrie: označíme  $S$  střed dvanáctiúhelníka a  $T$  průsečík úhlopříček  $A_3A_7$  a  $A_5A_{10}$ . Nyní  $|\angle A_7A_5A_{10}| = 45^\circ$  (obvodový úhel příslušný středovému úhlu  $A_7SA_{10}$ , který je pravý), dále  $|\angle A_5A_7A_3| = 30^\circ$  (obvodový úhel příslušný středovému úhlu  $A_5SA_3$ , jehož velikost je  $60^\circ$ ). Velikost úhlu  $A_5TA_7$  je pak doplnkem výše zmíněných úhlů do  $180^\circ$ , tedy je rovna  $105^\circ$ . Hledaná odchylka je pak  $180^\circ - 105^\circ = 75^\circ$ .  $\square$

**1.82.** Spočítejte délky stran trojúhelníku s vrcholy  $A = [2, 2]$ ,  $B = [3, 0]$ ,  $C = [4, 3]$ .

**Řešení.** Užítím známého vzorce pro velikost vektoru

$$\|u\| = \sqrt{u_1^2 + u_2^2}, \quad u = (u_1, u_2) \in \mathbb{R}^2$$

obdržíme výsledky

$$|AB| = \|A - B\| = \sqrt{(2-3)^2 + (2-0)^2} = \sqrt{5},$$

$$|BC| = \|B - C\| = \sqrt{(3-4)^2 + (0-3)^2} = \sqrt{10},$$

$$|AC| = \|A - C\| = \sqrt{(2-4)^2 + (2-3)^2} = \sqrt{5}. \quad \square$$

**1.83.** Najděte matice  $A$  takové, že

$$A^2 = \begin{pmatrix} \frac{1}{2} & -\frac{\sqrt{3}}{2} \\ \frac{\sqrt{3}}{2} & \frac{1}{2} \end{pmatrix}.$$

Nápověda: jaké geometrické zobrazení v rovině zadává matice  $A^2$ ?

**Řešení.**  $A^2$  je matice rotace o  $60^\circ$  v kladném smyslu, takže hledané matice jsou

$$A = \pm \begin{pmatrix} \frac{\sqrt{3}}{2} & -\frac{1}{2} \\ \frac{1}{2} & \frac{\sqrt{3}}{2} \end{pmatrix},$$

tj. jsou to matice rotace o  $30^\circ$ , resp. o  $210^\circ$ .  $\square$

**1.84.** Stanovte  $A \cdot A$  pro

$$A = \begin{pmatrix} \cos \varphi & -\sin \varphi \\ \sin \varphi & \cos \varphi \end{pmatrix}, \quad \text{kde } \varphi \in \mathbb{R}.$$

**Řešení.** Víme, že zobrazení

$$\begin{pmatrix} x \\ y \end{pmatrix} \mapsto \begin{pmatrix} \cos \varphi & -\sin \varphi \\ \sin \varphi & \cos \varphi \end{pmatrix} \cdot \begin{pmatrix} x \\ y \end{pmatrix}, \quad x, y \in \mathbb{R}$$

je rotací roviny  $\mathbb{R}^2$  kolem počátku soustavy souřadnic o úhel  $\varphi$  v kladném smyslu. Vzhledem k asociativitě násobení matic dostáváme, že zobrazení

*Euklidovská rovina* je afinní rovina s výše zavedeným pojmem vzdálenosti.

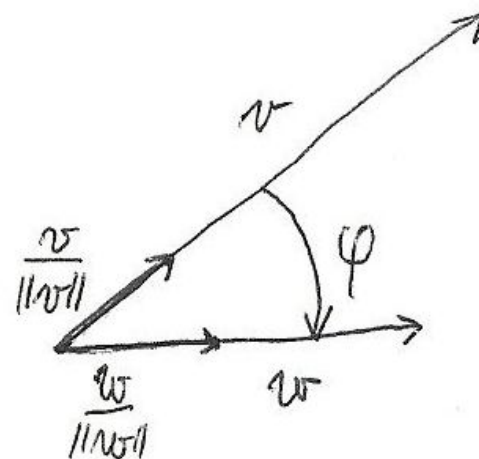
**1.30. Úhel vektorů.** Jak jsme již používali při diskusi komplexních čísel coby bodů v rovině, tzv. goniometrická funkce  $\cos \varphi$  je dána hodnotou reálné první souřadnice jednotkového vektoru, jehož úhel s vektorem  $(1, 0)$  je  $\varphi$ .

Zjevně je pak druhá souřadnice takového vektoru dána reálnou hodnotou  $0 \leq \sin \varphi \leq 1$  splňující

$$(\cos \varphi)^2 + (\sin \varphi)^2 = 1.$$

Obecně pak pro dva vektory  $v$  a  $w$  můžeme jejich úhel popsat pomocí souřadnic  $v = (v_x, v_y)$ ,  $w = (w_x, w_y)$  takto:

$$\cos \varphi = \frac{v_x w_x + v_y w_y}{\|v\| \cdot \|w\|}.$$



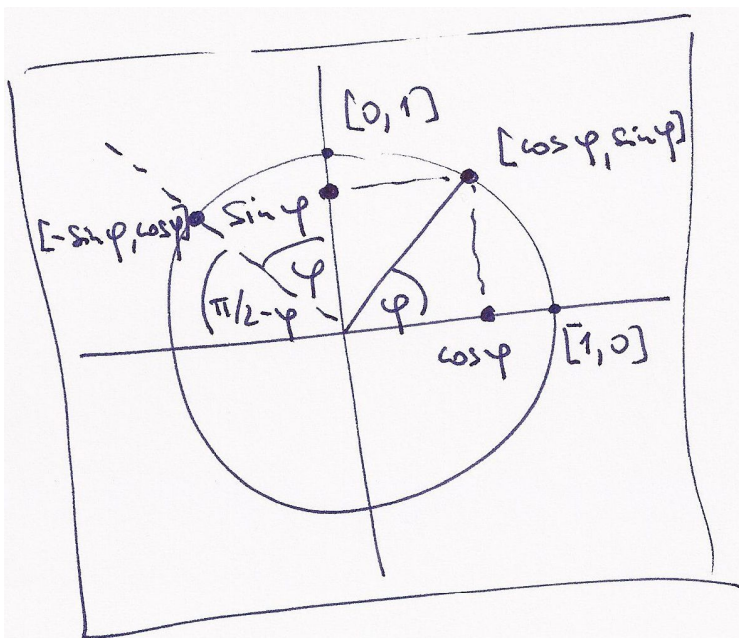
Tento vztah si snadno ověříme, pokud věříme, že otočení roviny kolem počátku nemění úhly. Pak totiž můžeme napřed libovolně zvolené vektory vynásobit vhodnými skaláry tak, abychom dostali vektory velikosti jedna (naš vzorec totiž po násobení vektorů libovolnými skaláry dává pochopitelně neměnné výsledky). Poté můžeme vhodným otočením naší roviny dosáhnout toho, že první z vektorů bude právě prvním bázovým vektorem  $(1, 0)$ . Potom dává náš vzorec

$$\cos \varphi = \frac{w_x}{\|w\|},$$

což je pouze opakováním definice funkce  $\cos \varphi$ .

**1.31. Rotace kolem bodu v rovině.** Matici libovolného známého zobrazení  $F : \mathbb{R}^2 \rightarrow \mathbb{R}^2$  lze vcelku snadno uhádnout: Je-li totiž výsledkem matice se sloupci  $(a, c)$  a  $(b, d)$ , pak první sloupec dostaneme násobením této matice s prvním vektorem báze  $(1, 0)$  a druhý je vyčíslením na druhém vektoru báze  $(0, 1)$ .





Z obrázku je proto vidět, že pro rotaci o úhel  $\psi$  proti směru hodinových ručků jsou v matici sloupce

$$\begin{pmatrix} a & b \\ c & d \end{pmatrix} \begin{pmatrix} 1 \\ 0 \end{pmatrix} = \begin{pmatrix} \cos \psi \\ \sin \psi \end{pmatrix} \quad \begin{pmatrix} a & b \\ c & d \end{pmatrix} \begin{pmatrix} 0 \\ 1 \end{pmatrix} = \begin{pmatrix} -\sin \psi \\ \cos \psi \end{pmatrix}$$

Směr proti směru hodinových ručků označujeme jako *kladný směr rotace*, opačný je pak *záporný*. Proto dostáváme tvrzení:

#### MATICE ROTACE

Rotace o předem daný úhel  $\psi$  v kladném směru kolem počátku souřadnic je dána maticí  $R_\psi$ :

$$v = \begin{pmatrix} x \\ y \end{pmatrix} \mapsto R_\psi \cdot v = \begin{pmatrix} \cos \psi & -\sin \psi \\ \sin \psi & \cos \psi \end{pmatrix} \cdot \begin{pmatrix} x \\ y \end{pmatrix}.$$

Nyní, když už víme, jak vypadá matice otočení v rovině, můžeme ověřit, že otočení zachovává vzdálenosti a úhly (definované předešlým vzorcem). Označíme-li obraz vektoru  $v$  jako



toru  $v$  jako

$$v' = \begin{pmatrix} v'_x \\ v'_y \end{pmatrix} = R_\psi \cdot v = \begin{pmatrix} v_x \cos \psi - v_y \sin \psi \\ v_x \sin \psi + v_y \cos \psi \end{pmatrix},$$

a podobně  $w' = R_\psi \cdot w$ , pak lze snadno přepočítat, že opravdu platí

$$\|v'\| = \|v\|$$

$$v'_x w'_x + v'_y w'_y = v_x w_x + v_y w_y.$$

Předchozí výraz lze pomocí vektorů a matic napsat následovně

$$(R_\psi \cdot w)^T (R_\psi \cdot v) = w^T v.$$

Transponovaný vektor  $(R_\psi \cdot w)^T$  je roven  $w^T \cdot R_\psi^T$ , kde  $R_\psi^T$  je tzv. transponovaná matice k matici  $R_\psi$ . To je matice, jejíž řádky tvoří sloupce původní matice a sloupce naopak tvoří

$$\begin{pmatrix} x \\ y \end{pmatrix} \mapsto \begin{pmatrix} \cos \varphi & -\sin \varphi \\ \sin \varphi & \cos \varphi \end{pmatrix} \cdot \begin{pmatrix} \cos \varphi & -\sin \varphi \\ \sin \varphi & \cos \varphi \end{pmatrix} \cdot \begin{pmatrix} x \\ y \end{pmatrix}, \quad x, y \in \mathbb{R}$$

je rotací o úhel  $2\varphi$ . To znamená, že platí

$$A \cdot A = \begin{pmatrix} \cos 2\varphi & -\sin 2\varphi \\ \sin 2\varphi & \cos 2\varphi \end{pmatrix}.$$

Poznamenejme, že jsme samozřejmě mohli přímo vynásobit  $A \cdot A$  (a aplikovat vzorce pro sinus a kosinus dvojnásobného úhlu). Opakováním výše uvedeného (příp. použitím matematické indukce) lze ovšem snadněji obdržet

$$A^n = \begin{pmatrix} \cos n\varphi & -\sin n\varphi \\ \sin n\varphi & \cos n\varphi \end{pmatrix}, \quad n = 2, 3, \dots,$$

jestliže klademe  $A^2 = A \cdot A$ ,  $A^3 = A \cdot A \cdot A$  atd.  $\square$

**1.85. Zrcadlení.** Najděte matici zrcadlení v rovině (tj. osové symetrie) podle přímky  $y = x$ .

**Řešení.** Namalujte si obrázek. V bázi určené vektory  $(1, 1)$ ,  $(1, -1)$  je matice zrcadlení zřejmě  $\begin{pmatrix} 1 & 0 \\ 0 & -1 \end{pmatrix}$ . Ve standardní bázi je tedy rovna

$$\begin{pmatrix} 1 & 1 \\ -1 & 1 \end{pmatrix}^{-1} \begin{pmatrix} 1 & 0 \\ 0 & -1 \end{pmatrix} \begin{pmatrix} 1 & 1 \\ -1 & 1 \end{pmatrix}$$

Inverzní matici je v tomto případě jednoduché najít, protože vektory ve sloupcích jsou kolmé, tj. matice je (skoro) ortogonální. Máme

$$\begin{pmatrix} 1 & 1 \\ -1 & 1 \end{pmatrix}^2 = 2 \begin{pmatrix} 1 & 0 \\ 0 & 1 \end{pmatrix} \Rightarrow \begin{pmatrix} 1 & 1 \\ -1 & 1 \end{pmatrix}^{-1} = \frac{1}{2} \begin{pmatrix} 1 & 1 \\ -1 & 1 \end{pmatrix}$$

Vynásobením příslušných matic dostaneme výsledek  $\begin{pmatrix} 0 & 1 \\ 1 & 0 \end{pmatrix}$ . Tento výsledek se dá uhádnout i přímo z obrázku.  $\square$

**1.86.** Zjistěte, jaká lineární zobrazení  $\mathbb{R}^2$  do  $\mathbb{R}^2$  jsou zadána maticemi (tj. popište jejich geometrický význam)

$$A_1 = \begin{pmatrix} 1 & 0 \\ 0 & 0 \end{pmatrix}, \quad A_2 = \begin{pmatrix} -1 & 0 \\ 0 & 1 \end{pmatrix}, \quad A_3 = \begin{pmatrix} \frac{\sqrt{2}}{2} & -\frac{\sqrt{2}}{2} \\ \frac{\sqrt{2}}{2} & \frac{\sqrt{2}}{2} \end{pmatrix},$$

**Řešení.** Nechť  $(x, y)^T$  je nadále libovolný reálný vektor. Pro matici  $A_1$  dostáváme

$$\begin{pmatrix} x \\ y \end{pmatrix} \mapsto \begin{pmatrix} 1 & 0 \\ 0 & 0 \end{pmatrix} \cdot \begin{pmatrix} x \\ y \end{pmatrix} = \begin{pmatrix} x \\ 0 \end{pmatrix},$$

což znamená, že lineární zobrazení, které tato matice zadává, je projekce na osu  $x$ . Podobně vidíme, že matice  $A_2$  určuje zrcadlení vzhledem k ose  $y$ , protože

$$\begin{pmatrix} x \\ y \end{pmatrix} \mapsto \begin{pmatrix} -1 & 0 \\ 0 & 1 \end{pmatrix} \cdot \begin{pmatrix} x \\ y \end{pmatrix} = \begin{pmatrix} -x \\ y \end{pmatrix}.$$

Matici  $A_3$  lze vyjádřit ve tvaru

$$\begin{pmatrix} \cos \varphi & -\sin \varphi \\ \sin \varphi & \cos \varphi \end{pmatrix}$$

pro  $\varphi = \pi/4$ , a tudíž zadává otočení roviny kolem počátku o úhel  $\pi/4$  (v kladném smyslu, tj. proti pohybu hodinových ručiček).  $\square$

**1.87. Rovnoběžníková rovnost.** Dokažme jako ilustraci našich nástrojů tzv. „rovnoběžníkovou rovnost“: Jsou-li  $u, v \in \mathbb{R}^2$ , pak:

$$2(\|u\|^2 + \|v\|^2) = \|u + v\|^2 + \|u - v\|^2.$$

Neboli součet druhých mocnin délek úhlopříček rovnoběžníka je roven dvojnásobku součtu druhých mocnin délek jeho stran.

**Řešení.** Rozepsáním obou stran do souřadnic  $u = (u_1, u_2)$ ,  $v = (v_1, v_2)$  obdržíme:

$$\begin{aligned} & 2(\|u\|^2 + \|v\|^2) \\ &= 2(u_1^2 + u_2^2 + v_1^2 + v_2^2) \\ &= u_1^2 + 2u_1v_1 + v_1^2 + u_2^2 + 2u_2v_2 + v_2^2 \\ &\quad + u_1^2 - 2u_1v_1 + v_1^2 + u_2^2 - 2u_2v_2 + v_2^2 \\ &= (u_1 + v_1)^2 + (u_2 + v_2)^2 + (u_1 - v_1)^2 + (u_2 - v_2)^2 \\ &= \|u + v\|^2 + \|u - v\|^2. \end{aligned}$$

□

**1.88.** Ukažte, že složením lichého počtu středových souměrností v rovině dostaneme opět středovou symetrii.

**Řešení.** Středovou souměrnost v rovině se středem  $S$  reprezentujeme předpisem  $X \mapsto S - (X - S)$ , neboli  $X \mapsto 2S - X$ . (Obraz bodu  $X$  ve středové symetrii podle středu  $S$  dostaneme tak, že k souřadnicím bodu  $S$  přičteme souřadnice vektoru opačného k vektoru  $X - S$ .) Postupnou aplikací tří středových souměrností se středy  $S, T$  a  $U$  tak dostáváme  $X \mapsto 2S - X \mapsto 2T - (2S - X) \mapsto 2U - (2T - (2S - X)) = 2(U - T + S) - X$ , celkem  $X \mapsto 2(U - T + S) - X$ , což je středová souměrnost se středem  $S - T + U$ . Složením libovolného lichého počtu středových souměrností tak postupně redukuje až na složení tří středových souměrností, jde tedy o středovou symetrii (v principu se jedná o důkaz matematickou indukcí, zkuste si jej sami zformulovat). □

**1.89.** Sestrojte  $(2n + 1)$ -úhelník, jsou-li dány všechny středy jeho stran.

1.26c

**Řešení.** K řešení využijeme toho, že složením lichého počtu středových souměrností je opět středová souměrnost (viz předchozí příklad). Označme vrcholy hledaného  $(2n + 1)$ -úhelníka po řadě  $A_1, A_2, \dots, A_{2n+1}$  a středy stran (počínaje středem strany  $A_1A_2$ ) postupně  $S_1, S_2, \dots, S_{2n+1}$ . Provedeme-li středové souměrnosti po řadě podle těchto středů, tak bod  $A_1$  je zjevně pevným bodem výsledné středové souměrnosti, tedy jejím středem. K jeho nalezení tedy stačí provést uvedenou středovou souměrnost s libovolným bodem  $X$  roviny. Bod  $A_1$  leží pak ve středu úsečky  $XX'$ , kde  $X'$  je obrazem bodu  $X$  ve zmíněné

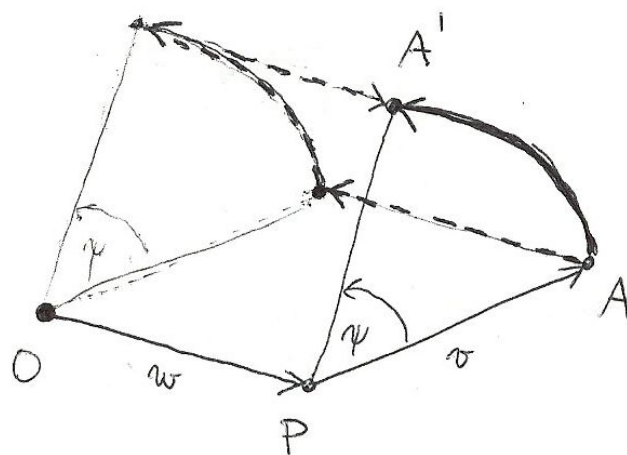
řádky původní matice. Vidíme tedy, že matice otočení splňují vztah  $R_\psi^T \cdot R_\psi = I$ , matice  $I$  (někdy píšeme prostě 1 a máme tím na mysli jednotku v okruhu matic), je tzv. *jednotková matice*

$$I = \begin{pmatrix} 1 & 0 \\ 0 & 1 \end{pmatrix}.$$

Tím jsme odvodili pozoruhodné tvrzení — matice  $F$  s vlastností, že  $F \cdot R_\psi = I$  (budeme takové říkat inverzní matice k matici rotace  $R_\psi$ ) je maticí transponovanou k původní. To je logické, neboť inverzní zobrazení k rotaci o úhel  $\psi$  je opět rotace, ale o úhel  $-\psi$ , tj. inverzní matice  $R_\psi^T$  je rovna matici

$$R_{-\psi} = \begin{pmatrix} \cos(-\psi) & -\sin(-\psi) \\ \sin(-\psi) & \cos(-\psi) \end{pmatrix} = \begin{pmatrix} \cos \psi & \sin \psi \\ -\sin \psi & \cos \psi \end{pmatrix}.$$

Pokud bychom chtěli zapsat rotaci kolem jiného bodu  $P = O + w$ ,  $P = [w_x, w_y]$ , opět pomocí matice, snadno napíšeme potřebný vzorec pomocí posunutí:



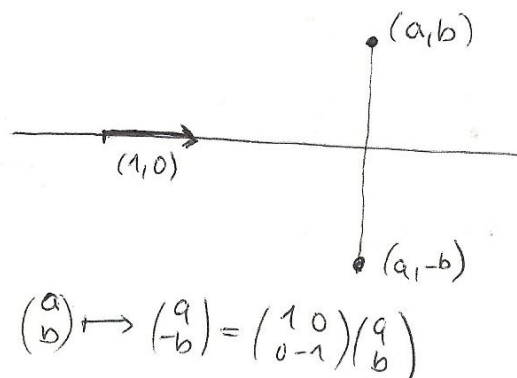
Stačí si k tomu uvědomit, že můžeme místo rotace kolem daného bodu  $P$  napřed posunout  $P$  do našeho počátku, pak provést rotaci a pak udělat opačné posunutí, kterým celou rovinu vrátíme tam, kde měla celou dobu být, viz obrázek. Počítejme tedy

$$\begin{aligned} v = \begin{pmatrix} x \\ y \end{pmatrix} &\mapsto v - w \mapsto R_\psi \cdot (v - w) \\ &\mapsto R_\psi \cdot (v - w) + w \\ &= \begin{pmatrix} \cos \psi(x - w_x) - \sin \psi(y - w_y) + w_x \\ \sin \psi(x - w_x) + \cos \psi(y - w_y) + w_y \end{pmatrix}. \end{aligned}$$

**1.32. Zrcadlení.** Dalším dobře známým příkladem zobrazení, která zachovávají velikosti, je tzv. *zrcadlení vzhledem k přímce*. Opět nám bude stačit popsat zrcadlení vzhledem k přímkám procházejícím počátkem  $O$  a ostatní se z nich odvodí pomocí posunutí, resp. rotací.

Hledejme tedy matici  $Z_\psi$  zrcadlení vzhledem k přímce s jednotkovým směrovým vektorem  $v$  svírajícím úhel  $\psi$  s vektorem  $(1, 0)$ . Nejprve si uvědomme, že

$$Z_0 = \begin{pmatrix} 1 & 0 \\ 0 & -1 \end{pmatrix}.$$



Obecně můžeme každou přímku otočit do směru vektoru  $(1, 0)$  a tedy zapsat obecnou matici zrcadlení jako

$$Z_\psi = R_\psi \cdot Z_0 \cdot R_{-\psi},$$

kdy nejprve otočíme maticí  $R_{-\psi}$  přímku do „nulové“ polohy, odzrcadlíme maticí  $Z_0$  a vrátíme zpět otočením  $R_\psi$ .

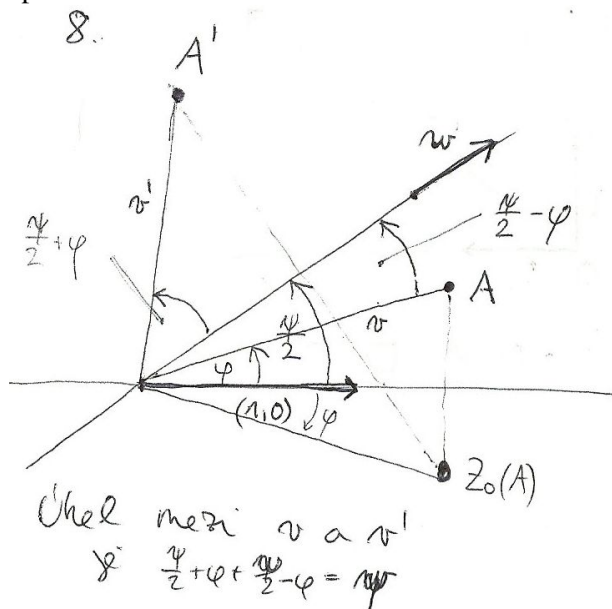
Můžeme proto (díky asociativitě násobení matic) spočítat:

$$\begin{aligned} Z_\psi &= \begin{pmatrix} \cos \psi & -\sin \psi \\ \sin \psi & \cos \psi \end{pmatrix} \cdot \begin{pmatrix} 1 & 0 \\ 0 & -1 \end{pmatrix} \cdot \begin{pmatrix} \cos \psi & \sin \psi \\ -\sin \psi & \cos \psi \end{pmatrix} \\ &= \begin{pmatrix} \cos \psi & \sin \psi \\ \sin \psi & -\cos \psi \end{pmatrix} \cdot \begin{pmatrix} \cos \psi & \sin \psi \\ -\sin \psi & \cos \psi \end{pmatrix} \\ &= \begin{pmatrix} \cos^2 \psi - \sin^2 \psi & 2 \sin \psi \cos \psi \\ 2 \sin \psi \cos \psi & -(\cos^2 \psi - \sin^2 \psi) \end{pmatrix} \\ &= \begin{pmatrix} \cos 2\psi & \sin 2\psi \\ \sin 2\psi & -\cos 2\psi \end{pmatrix}. \end{aligned}$$

Použili jsme přitom obvyklé součtové vzorce pro goniometrické funkce. Povšimněme si také, že  $Z_\psi \cdot Z_0$  je dáno:

$$\begin{pmatrix} \cos 2\psi & \sin 2\psi \\ \sin 2\psi & -\cos 2\psi \end{pmatrix} \cdot \begin{pmatrix} 1 & 0 \\ 0 & -1 \end{pmatrix} = \begin{pmatrix} \cos 2\psi & -\sin 2\psi \\ \sin 2\psi & \cos 2\psi \end{pmatrix}.$$

Toto pozorování lze zakreslit a zformulovat následovně



středové symetrii. Další vrcholy  $A_2, \dots, A_{2n+1}$  získáme zobrazováním bodu  $A_1$  ve středových souměrnostech podle  $S_1, \dots, S_{2n+1}$ .  $\square$

**1.90.** Určete obsah trojúhelníku  $ABC$ , je-li  $A = [-8, 1]$ ,  $B = [-2, 0]$ ,  $C = [5, 9]$ .

**Řešení.** Víme, že obsah je roven polovině determinantu matice, jejíž první sloupec je dán vektorem  $B - A$  a druhý sloupec vektorem  $C - A$ , tj. determinantu matice

$$\begin{pmatrix} -2 - (-8) & 5 - (-8) \\ 0 - 1 & 9 - 1 \end{pmatrix}.$$

Jednoduchý výpočet tak dává výsledek

$$\frac{1}{2} ((-2 - (-8)) \cdot (9 - 1) - (5 - (-8)) \cdot (0 - 1)) = \frac{61}{2}.$$

Dodejme, že při záměně pořadí vektorů by hodnota determinantu měla opačné znaménko (její absolutní hodnota by tedy zůstala stejná) a že by se vůbec nezměnila, kdybychom vektory (při zachování pořadí) napsali do řádků.  $\square$

**1.91.** Spočítejte obsah  $S$  čtyřúhelníku vymezeného jeho vrcholy  $[1, 1]$ ,  $[6, 1]$ ,  $[11, 4]$ ,  $[2, 4]$ .

**Řešení.** Nejprve si označme vrcholy (proti směru pohybu hodinových ručiček)

$$A = [1, 1], \quad B = [6, 1], \quad C = [11, 4], \quad D = [2, 4].$$

Pokud rozdělíme čtyřúhelník  $ABCD$  na trojúhelníky  $ABC$  a  $ACD$ , můžeme získat jeho obsah jako součet obsahů těchto trojúhelníků, a to vyčíslením determinantů

$$d_1 = \begin{vmatrix} 6 - 1 & 11 - 1 \\ 1 - 1 & 4 - 1 \end{vmatrix} = \begin{vmatrix} 5 & 10 \\ 0 & 3 \end{vmatrix},$$

$$d_2 = \begin{vmatrix} 11 - 1 & 2 - 1 \\ 4 - 1 & 4 - 1 \end{vmatrix} = \begin{vmatrix} 10 & 1 \\ 3 & 3 \end{vmatrix},$$

kde ve sloupcích jsou postupně vektory  $B - A$ ,  $C - A$  (pro  $d_1$ ) a  $C - A$ ,  $D - A$  (pro  $d_2$ ). Potom

$$S = \frac{d_1}{2} + \frac{d_2}{2} = \frac{5 \cdot 3 - 10 \cdot 0}{2} + \frac{10 \cdot 3 - 1 \cdot 3}{2} = \frac{15 + 27}{2} = 21.$$

(díky uspořádání vrcholů v kladném smyslu, vyšli všechny determinanty kladné). Správnost výsledku můžeme snadno potvrdit, neboť čtyřúhelník  $ABCD$  je lichoběžníkem se základnami délek 5, 9 a jejich vzdáleností  $v = 3$ .  $\square$

**1.92.** Stanovte rozlohu louky, která je na pozemkové mapě ohraničena body o kótách  $[-7, 1]$ ,  $[-1, 0]$ ,  $[29, 0]$ ,  $[25, 1]$ ,  $[24, 2]$  a  $[17, 5]$ . (Jednotky neuvažujte. Jsou určeny poměrem pozemkové mapy vůči skutečnosti.)

**Řešení.** Uvažovaný šestiúhelník můžeme rozdělit např. na čtyři trojúhelníky s vrcholy

$$[-7, 1], [-1, 0], [17, 5]; \quad [-1, 0], [24, 2], [17, 5];$$

$$[-1, 0], [25, 1], [24, 2]; \quad [-1, 0], [29, 0], [25, 1].$$

Jejich obsahy jsou po řadě  $24$ ,  $89/2$ ,  $27/2$  a  $15$ , což dává výsledek

$$24 + 44\frac{1}{2} + 13\frac{1}{2} + 15 = 97.$$

□

**1.93.** Určete obsah trojúhelníka  $A_2A_3A_{11}$ , kde  $A_0A_1 \dots A_{11}$  jsou vrcholy pravidelného dvanáctiúhelníka vepsaného do kružnice o polooměru 1.

**Řešení.** Vrcholy dvanáctiúhelníka můžeme ztotožnit s dvanáctými odmocninami z čísla 1 v komplexní rovině. Zvolíme-li navíc  $A_0$   $\left[ \frac{1}{1}, \frac{1}{1} \right]$  pak můžeme psát  $A_k = \cos(2k\pi/12) + i \sin(2k\pi/12)$ . Pro vrcholy zkoumaného trojúhelníka máme:  $A_2 = \cos(\pi/3) + i \sin(\pi/3) = 1/2 + i\sqrt{3}/2$ ,  $A_3 = \cos(\pi/2) + i \sin(\pi/2) = i$ ,  $A_{11} = \cos(-\pi/6) + i \sin(-\pi/6) = \sqrt{3}/2 - i/2$ , neboli souřadnice těchto bodů v komplexní rovině jsou  $A_2 = [1/2, \sqrt{3}/2]$ ,  $A_3 = [0, 1]$ ,  $A_{11} = [\sqrt{3}/2, -1/2]$ . Podle vzorce pro obsah trojúhelníka je potom hledaný obsah  $S$  roven

$$S = \frac{1}{2} \begin{vmatrix} A_2 - A_{11} \\ A_3 - A_{11} \end{vmatrix} = \frac{1}{2} \begin{vmatrix} \frac{1}{2} - \frac{\sqrt{3}}{2} & \frac{1}{2} + \frac{\sqrt{3}}{2} \\ -\frac{\sqrt{3}}{2} & \frac{3}{2} \end{vmatrix} = \frac{3 - \sqrt{3}}{4}.$$

Vzhledem ke kladnosti předchozího determinantu jsme mohli z estetických důvodů vynechat jeho absolutní hodnotu. □

**1.94.** Které strany čtyřúhelníku zadaného vrcholy  $[-2, -2]$ ,  $[1, 4]$ ,  $[3, 3]$  a  $[2, 1]$  jsou viditelné z pozice bodu  $[3, \pi - 2]$ ?

**Řešení.** Jedná se o modelovou úlohu na viditelnost stran konvexního mnohoúhelníku v rovině. V prvním kroku uspořádáme vrcholy tak, aby jejich pořadí odpovídalo směru proti pohybu hodinových ručiček. Když jako první vrchol zvolíme např.  $A = [-2, -2]$ , je další pořadí  $B = [2, 1]$ ,  $C = [3, 3]$ ,  $D = [1, 4]$ . Uvažujme nejprve stranu  $AB$ . Ta společně s bodem  $X = [3, \pi - 2]$  zadává matici

$$\begin{pmatrix} -2 - 3 & 2 - 3 \\ -2 - (\pi - 2) & 1 - (\pi - 2) \end{pmatrix}$$

tak, že její první sloupec je rozdíl  $A - X$  a druhý sloupec je  $B - X$ . To, zda je vidět z bodu  $[3, \pi - 2]$ , pak určuje znaménko determinantu

$$\begin{vmatrix} -2 - 3 & 2 - 3 \\ -2 - (\pi - 2) & 1 - (\pi - 2) \end{vmatrix} = \begin{vmatrix} -5 & -1 \\ -\pi & 3 - \pi \end{vmatrix} = -5 \cdot (3 - \pi) - (-1)(-\pi) < 0.$$

Záporná hodnota znamená, že strana je vidět. Doplňme, že nezáleží na tom, zda uvažujeme rozdíly  $A - X$  a  $B - X$ , nebo  $X - A$  a  $X - B$ . Kdybychom však zaměnili pořadí sloupců, příslušná strana by byla vidět právě tehdy, když by byl determinant kladný.

Pro stranu  $BC$  analogicky obdržíme

**Tvrzení.** Otočení o úhel  $\psi$  obdržíme následným provedením dvou zrcadlení vzhledem ke směrům, které spolu svírají úhel  $\frac{1}{2}\psi$ .



Pokud umíme odůvodnit předchozí tvrzení ryze geometrickou úvahou (zkuste si zahrát na „syntetického geometra“), dokázali jsme právě standardní vzorce pro goniometrické funkce dvojnásobného úhlu.

Hlubší je následující rekapitulace předchozích úvah (skoro si můžeme říci, že už umíme dokázat skutečně zajímavý matematický výsledek):

#### ZOBRAZENÍ ZACHOVÁVAJÍCÍ VELIKOSTI

**1.33. Věta.** Lineární zobrazení euklidovské roviny je složeno z jednoho nebo více zrcadlení, právě když je dáno maticí  $R$  splňující

$$R = \begin{pmatrix} a & b \\ c & d \end{pmatrix}, \quad ab + cd = 0, \quad a^2 + c^2 = b^2 + d^2 = 1.$$

To nastane, právě když toto zobrazení zachovává velikosti.

Otočením je takové zobrazení přitom právě tehdy, když je determinant matice  $R$  roven jedné, což odpovídá sudému počtu zrcadlení. Při lichém počtu zrcadlení je determinant roven  $-1$ .



**DŮKAZ.** Zkusme napřed spočítat, jak může vypadat obecně matice  $A$ , když příslušné zobrazení zachovává velikosti. Tj. máme zobrazení

$$\begin{pmatrix} x \\ y \end{pmatrix} \mapsto \begin{pmatrix} a & b \\ c & d \end{pmatrix} \cdot \begin{pmatrix} x \\ y \end{pmatrix} = \begin{pmatrix} ax + by \\ cx + dy \end{pmatrix}.$$

Zachování velikosti tedy znamená, že pro všechna  $x$  a  $y$  je

$$\begin{aligned} x^2 + y^2 &= (ax + by)^2 + (cx + dy)^2 = \\ &= (a^2 + c^2)x^2 + (b^2 + d^2)y^2 + 2(ab + cd)xy. \end{aligned}$$

Protože má tato rovnost platit pro všechna  $x$  a  $y$ , musí si být rovny koeficienty u jednotlivých mocnin  $x^2$ ,  $y^2$  a  $xy$  na pravé i levé straně. Tím jsme spočetli, že rovnosti kladené na matici  $R$  v prvním tvrzení dokazované věty jsou ekvivalentní vlastnosti, že příslušné zobrazení zachovává velikosti.

Díky vztahu  $a^2 + c^2 = 1$  můžeme předpokládat, že  $a = \cos \varphi$  a  $c = \sin \varphi$  pro vhodný úhel  $\varphi$ . Jakmile takto zvolíme první sloupec matice  $R$ , až na násobek nám vztah  $ab + cd = 0$  určuje i druhý sloupec. Zároveň ale víme, že i velikost vektoru ve druhém sloupci je jedna a dostáváme tedy právě dvě možnosti pro matici  $R$ :

$$\begin{pmatrix} \cos \varphi & -\sin \varphi \\ \sin \varphi & \cos \varphi \end{pmatrix}, \quad \begin{pmatrix} \cos \varphi & \sin \varphi \\ \sin \varphi & -\cos \varphi \end{pmatrix}.$$

V prvním případě jde o rotaci o úhel  $\varphi$ , ve druhém pak o rotaci složenou se zrcadlením podle první souřadné osy. Jak



jsme viděli v předchozím tvrzení 1.31, každá rotace odpovídá dvěma zrcadlením a determinant matice  $R$  je v těchto dvou případech skutečně jedna nebo mínus jedna a rozlišuje je.  $\square$

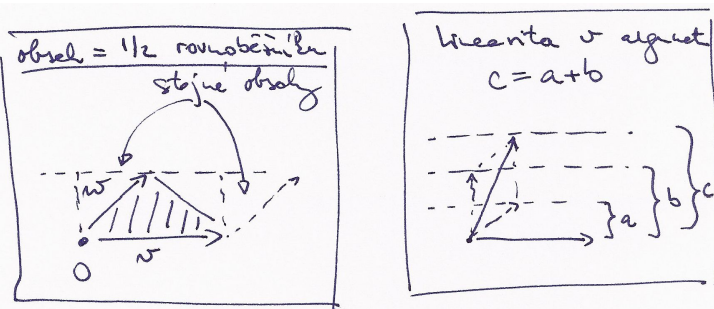
1.28

**1.34. Obsah trojúhelníka.** Závěrem našeho malého výletu do geometrie se zaměříme na *obsah* rovinných objektů. Budou nám stačit trojúhelníky. Každý trojúhelník je vymezen dvojicí vektorů  $v$  a  $w$ , které, přiloženy do jednoho z vrcholů  $P$ , zadají zbylé dva vrcholy. Chtěli bychom tedy najít vzorec (skalární funkci vol) která dvěma vektorům přiřadí číslo rovné obsahu vol  $\Delta(v, w)$  takto definovaného trojúhelníku  $\Delta(v, w)$ , kde si pro určitost za  $P$  volíme počátek a posunutím se obsah stejně nemění.



Ze zadání je vidět, že hledaná hodnota je polovinou plochy rovnoběžníku nataženého na vektory  $v$  a  $w$  a snadno se spočte (pomocí známého vzorečku: základna krát příslušná výška) nebo prostě vidí z obrázku, že nutně platí

$$\begin{aligned} \text{vol } \Delta(v + v', w) &= \text{vol } \Delta(v, w) + \text{vol } \Delta(v', w) \\ \text{vol } \Delta(av, w) &= a \text{ vol } \Delta(v, w). \end{aligned}$$



Nakonec ještě přidáme k našemu zadání požadavek

$$\text{vol } \Delta(v, w) = -\text{vol } \Delta(w, v),$$

který odpovídá představě, že opatříme plochu znaménkem podle toho, v jakém pořadí bereme vektory (tj. jestli se na ni díváme shora nebo zespodu).

Pokud vektory  $v$  a  $w$  napíšeme do sloupců matice  $A$ , pak

$$A = (v, w) \mapsto \det A$$

splňuje všechny tři naše požadavky. Kolik takových zobrazení ale může být? Každý vektor umíme vyjádřit pomocí dvou bázových vektorů  $e_1 = (1, 0)$  a  $e_2 = (0, 1)$  a díky linearitě je tedy každá možnost pro  $\text{vol } \Delta$  jednoznačně určena už vyčíslením na těchto vektorech. Protože ale pro obsah, stejně jako pro determinant, je zjevně  $\text{vol } \Delta(e_1, e_1) = \text{vol } \Delta(e_2, e_2) = 0$  (kvůli požadované antisymetrii), je nutně každá taková skalární funkce jednoznačně zadána hodnotou na jediné dvojici argumentů  $(e_1, e_2)$ . Jsou si tedy všechny možnosti rovny až na skalární násobek. Ten umíme určit požadavkem

$$\text{vol } \Delta(e_1, e_2) = \frac{1}{2},$$

$$\begin{vmatrix} 2-3 & 3-3 \\ 1-(\pi-2) & 3-(\pi-2) \end{vmatrix} = \begin{vmatrix} -1 & 0 \\ 3-\pi & 5-\pi \end{vmatrix} = -1 \cdot (5-\pi) - 0 < 0.$$

Tato strana je tudíž vidět. Zbývají strany  $CD$  a  $DA$ . Pro ně dostáváme po řadě

$$\begin{vmatrix} 3-3 & 1-3 \\ 3-(\pi-2) & 4-(\pi-2) \end{vmatrix} = \begin{vmatrix} 0 & -2 \\ 5-\pi & 6-\pi \end{vmatrix} = 0 - (-2) \cdot (5-\pi) > 0,$$

$$\begin{vmatrix} 1-3 & -2-3 \\ 4-(\pi-2) & -2-(\pi-2) \end{vmatrix} = \begin{vmatrix} -2 & -5 \\ 6-\pi & -\pi \end{vmatrix} = -2 \cdot (-\pi) - (-5) \cdot (6-\pi) > 0.$$

Z bodu  $X$  jsou tedy vidět právě strany určené dvojicemi vrcholů  $[-2, -2]$ ,  $[2, 1]$  a  $[2, 1]$ ,  $[3, 3]$ .  $\square$

**1.95.** Uveďte strany pětiúhelníku s vrcholy v bodech  $[-2, -2]$ ,  $[-2, 2]$ ,  $[1, 4]$ ,  $[3, 1]$  a  $[2, -11/6]$ , které je možné vidět z bodu  $[300, 1]$ .

**Řešení.** Pro zjednodušení zápisů „tradičně“ položíme

$$A = [-2, -2], \quad B = [2, -11/6], \quad C = [3, 1], \quad D = [1, 4], \quad E = [-2, 2].$$

Strany  $BC$  a  $CD$  jsou zjevně z pozice bodu  $[300, 1]$  viditelné; naopak strany  $DE$  a  $EA$  být vidět nemohou. Pro stranu  $AB$  raději určíme

$$\begin{vmatrix} -2-300 & 2-300 \\ -2-1 & -\frac{11}{6}-1 \end{vmatrix} = -302 \cdot \left(-\frac{17}{6}\right) - (-298) \cdot (-3) < 0.$$

Odsud plyne, že tato strana je z bodu  $[300, 1]$  vidět.  $\square$

**1.96. Viditelnost stran trojúhelníka.** Je dán trojúhelník s vrcholy  $A = [5, 6]$ ,  $B = [7, 8]$ ,  $C = [5, 8]$ . Určete, které jeho strany je vidět z bodu  $P = [0, 1]$ .

**Řešení.** Uspořádáme vrcholy v kladném smyslu, tedy proti směru hodinových ručiček:  $[5, 6]$ ,  $[7, 8]$ ,  $[5, 8]$ . Pomocí příslušných determinantů určíme, je-li bod  $[0, 1]$  „nalevo“ či „napravo“ od jednotlivých stran trojúhelníka uvažovaných jako orientované úsečky,

$$\begin{vmatrix} B-P \\ C-P \end{vmatrix} = \begin{vmatrix} 7 & 7 \\ 5 & 7 \end{vmatrix} > 0, \quad \begin{vmatrix} C-P \\ A-P \end{vmatrix} = \begin{vmatrix} 5 & 7 \\ 5 & 5 \end{vmatrix} < 0,$$

$$\begin{vmatrix} A-P \\ B-P \end{vmatrix} = \begin{vmatrix} 5 & 5 \\ 7 & 7 \end{vmatrix} = 0.$$

Z nulovosti posledního determinantu vidíme, že body  $[0, 1]$ ,  $[5, 6]$  a  $[7, 8]$  leží na přímkě, stranu  $AB$  tedy nevidíme. Stranu  $BC$  rovněž tak nevidíme, na rozdíl od strany  $AC$ , pro kterou je příslušný determinant záporný.  $\square$

**1.97.** Určete, které strany čtyřúhelníka s vrcholy  $A = [95, 99]$ ,  $B = [130, 106]$ ,  $C = [40, 60]$ ,  $D = [130, 120]$  jsou viditelné z bodu  $[2, 0]$ .

**Řešení.** Nejprve je třeba určit strany čtyřúhelníka („správné“ pořadí vrcholů):  $ACBD$ . Po spočítání příslušných determinantů jako v předchozích příkladech zjistíme, že je vidět pouze strana  $CB$ .  $\square$

### F. Zobrazení a relace

1.29

**1.98.** Rozhodněte, zda následující relace na množině  $M$  jsou relace ekvivalence:

- $M = \{f : \mathbb{R} \rightarrow \mathbb{R}\}$ , kde  $(f \sim g)$ , pokud  $f(0) = g(0)$ .
- $M = \{f : \mathbb{R} \rightarrow \mathbb{R}\}$ , kde  $(f \sim g)$ , pokud  $f(0) = g(1)$ .
- $M$  je množina přímek v rovině, přičemž dvě přímky jsou v relaci, jestliže se neprotínají.
- $M$  je množina přímek v rovině, přičemž dvě přímky jsou v relaci, jestliže jsou rovnoběžné.
- $M = \mathbb{N}$ , kde  $(m \sim n)$ , pokud  $S(m) + S(n) = 20$ , přičemž  $S(n)$  značí ciferný součet čísla  $n$ .
- $M = \mathbb{N}$ , kde  $(m \sim n)$ , pokud  $C(m) = C(n)$ , kde  $C(n) = S(n)$ , pokud je ciferný součet  $S(n)$  menší než 10, jinak definujeme  $C(n) = C(S(n))$  (je tedy vždy  $C(n) < 10$ ).

**Řešení.**

- Ano. Ověříme tři vlastnosti ekvivalence:
  - Reflexivita: pro libovolnou reálnou funkci  $f$  je  $f(0) = f(0)$ .
  - Symetrie: jestliže platí  $f(0) = g(0)$ , pak i  $g(0) = f(0)$ .
  - Tranzitivita: jestliže platí  $f(0) = g(0)$  a  $g(0) = h(0)$ , pak platí i  $f(0) = h(0)$ .
- Ne. Definovaná relace není reflexivní, např. pro funkci  $\sin$  máme  $\sin 0 \neq \sin 1$  a není ani tranzitivní.
- Ne. Relace opět není reflexivní (každá přímka protíná sama sebe) ani tranzitivní.
- Ano. Třídy ekvivalence pak tvoří množinu neorientovaných směrů v rovině.
- Ne. Relace není reflexivní.  $S(1) + S(1) = 2$ .
- Ano.

 $\square$ 

**1.99.** Máme množinu  $\{3, 4, 5, 6, 7\}$ . Napište explicitně relaci

- $a$  dělí  $b$
- $a$  dělí  $b$  nebo  $b$  dělí  $a$
- $a$  a  $b$  jsou soudělná

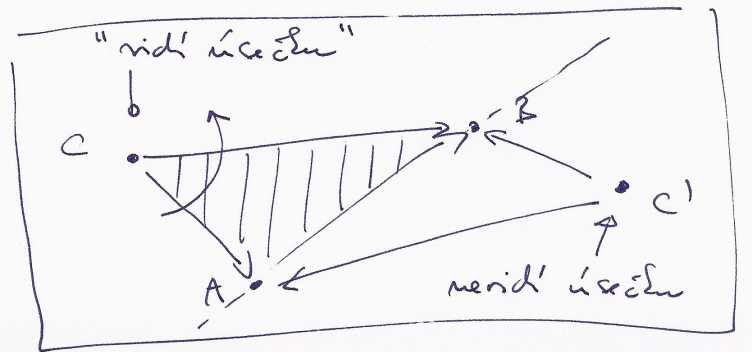
**1.100.** Nechť je na  $\mathbb{R}^2$  definována relace  $R$  tak, že  $((a, b), (c, d)) \in R$  pro libovolná  $a, b, c, d \in \mathbb{R}$ , právě když  $b = d$ . Zjistěte, zda se

tj. volíme *orientaci* a *měřítka* pomocí volby básových vektorů a chceme aby jednotkový čtverec měl plochu jedna.

Vidíme tedy, že determinant zadává plochu rovnoběžníku určeného sloupci matice  $A$  a plocha trojúhelníku je tedy poloviční.

**1.35. Viditelnost v rovině.** Předchozí popis hodnot pro orientovaný obsah nám dává do rukou elegantní nástroj pro určování pozice bodu vůči orientovaným úsečkám. Orientovanou úsečkou rozumíme dva body v rovině  $\mathbb{R}^2$  s určeným pořadím. Můžeme si ji představit jako šipku od prvního k druhému bodu. Taková orientovaná úsečka nám rozděljuje rovinu na dvě poloroviny, říkáme jim „levou“ a „pravou“. Pro daný bod chceme poznat, jestli je v té levé nebo pravé.

Takové úlohy často potkáváme v počítačové grafice při řešení viditelnosti objektů. Pro zjednodušení si zde jen představme, že úsečku „je vidět“ z bodů napravo a není vidět z těch nalevo (což odpovídá představě, že objekt ohraničený orientovanými hranami proti směru hodinových ručiček má nalevo od nich svůj vnitřek, přes který tedy není hranu vidět). obrázek je naopak!



Máme-li dán nějaký bod  $C$ , spočteme orientovanou plochu příslušného trojúhelníku zadaného vektory  $A - C$  a  $B - C$ . Pokud jsme s bodem  $C$  nalevo od úsečky, pak při obvyklé kladné orientaci proti směru hodinových ručiček bude vektor  $A - C$  dříve než ten druhý a proto výsledná plocha (tj. hodnota determinantu matice jejímiž sloupci jsou tyto dva vektory) bude kladná. Naopak, při opačné poloze bude výsledkem záporná hodnota determinantu a podle záporné hodnoty determinantu zjistíme, že je náš bod od úsečky napravo.

Uvedený jednoduchý postup je skutečně často využíván pro testování polohy při standardních úlohách v 2D grafice.

### 6. Relace a zobrazení

V této závěrečné části úvodní motivační kapitoly se vrátíme k formálnímu popisu matematických struktur, budeme se je ale průběžně snažit ilustrovat na již známých příkladech. Zároveň můžeme tuto část brát jako cvičení ve formálním přístupu k objektům a konceptům matematiky.



**1.36. Relace mezi množinami.** Nejprve potřebujeme definovat *kartézský součin*  $A \times B$  dvou množin  $A$  a  $B$ . Je to množina všech uspořádaných dvojic  $(a, b)$  takových, že  $a \in A$  a  $b \in B$ . *Binární relací* mezi množinami  $A$  a  $B$  pak rozumíme libovolnou podmnožinu  $R$  kartézského součinu  $A \times B$ .

Často píšeme  $a \simeq_R b$  pro vyjádření skutečnosti, že  $(a, b) \in R$ , tj. že body  $a \in A$  a  $b \in B$  jsou v relaci  $R$ . *Definičním oborem relace* je podmnožina

$$D \subseteq A, \quad D = \{a \in A; \exists b \in B, (a, b) \in R\}.$$

Slovy vyjádřené, je to množina prvků  $a$  z množiny  $A$  takových, že existuje prvek  $b$  z množiny  $B$  tak, že  $(a, b)$  patří do relace  $R$ . Stručněji, jsou to takové prvky z  $A$ , které mají obraz v  $B$ . Podobně *oborem hodnot relace* je podmnožina

$$I \subseteq B, \quad I = \{b \in B; \exists a \in A, (a, b) \in R\},$$

to znamená takové prvky v  $B$ , které mají vzor v  $A$ .

Speciálním případem relace mezi množinami je *zobrazení z množiny  $A$  do množiny  $B$* . Je to případ, kdy pro každý prvek definičního oboru relace existuje právě jeden prvek z oboru hodnot, který je s ním v relaci. Nám známým případem zobrazení jsou všechny skalární funkce, kde oborem hodnot zobrazení je množina skalárů, třeba celých nebo reálných čísel. Pro zobrazení zpravidla používáme značení, které jsme také u skalárních funkcí zavedli. Píšeme

$$f : D \subseteq A \rightarrow I \subseteq B, f(a) = b$$

pro vyjádření skutečnosti, že  $(a, b)$  patří do relace, a říkáme, že  $b$  je hodnotou zobrazení  $f$  v bodě  $a$ . Dále říkáme, že  $f$  je

- zobrazení množiny  $A$  do množiny  $B$ , jestliže je  $D = A$ ,
- zobrazení množiny  $A$  na množinu  $B$ , jestliže je  $D = A$  a  $I = B$ , často také *surjektivní zobrazení*
- prosté (často také *injektivní zobrazení*), jestliže je  $D = A$  a pro každé  $b \in I$  existuje právě jeden vzor  $a \in A$ ,  $f(a) = b$ .

Vyjádření zobrazení  $f : A \rightarrow B$  jakožto relace

$$f \subseteq A \times B, \quad f = \{(a, f(a)); a \in A\}$$

známe také pod názvem *graf zobrazení  $f$* .

jedná o relaci ekvivalence. Pokud jde o relaci ekvivalence, popište geometricky rozklad, který určuje.

**Řešení.** Z  $((a, b), (a, b)) \in R$  pro všechna  $a, b \in \mathbb{R}$  plyne, že relace je reflexivní. Stejně snadno vidíme, že relace je symetrická, neboť v rovnosti (druhých složek) můžeme zaměnit levou a pravou stranu. Je-li  $((a, b), (c, d)) \in R$  a  $((c, d), (e, f)) \in R$ , tj. platí-li  $b = d$  a  $d = f$ , lehce dostáváme splnění tranzitivní podmínky  $((a, b), (e, f)) \in R$ , tj.  $b = f$ . Relace  $R$  je relací ekvivalence, kdy body roviny jsou spolu v relaci, právě když mají stejnou druhou souřadnici (přímka jimi zadaná je kolmá na osu  $y$ ). Příslušný rozklad proto rozdělí rovinu na přímky rovnoběžné s osou  $x$ .  $\square$

**1.101.** Určete, kolik různých binárních relací lze zavést mezi množinou  $X$  a množinou všech jejích podmnožin, má-li množina  $X$  právě 3 prvky.

**Řešení.** Nejprve si uvědomme, že množina všech podmnožin  $X$  má  $2^3 = 8$  prvků, a tudíž její kartézský součin s množinou  $X$  má  $8 \cdot 3 = 24$  prvků. Uvažovanými binárními relacemi jsou právě podmnožiny tohoto kartézského součinu, kterých je celkem  $2^{24}$ .  $\square$

**1.102.** Uvedte definiční obor  $D$  a obor hodnot  $I$  relace

$$R = \{(a, v), (b, x), (c, x), (c, u), (d, v), (f, y)\}$$

mezi množinami  $A = \{a, b, c, d, e, f\}$  a  $B = \{x, y, u, v, w\}$ . Je relace  $R$  zobrazení?

**Řešení.** Přímo z definice definičního oboru a oboru hodnot relace dostáváme

$$D = \{a, b, c, d, f\} \subset A, \quad I = \{x, y, u, v\} \subset B.$$

Nejedná se o zobrazení, protože  $(c, x), (c, u) \in R$ , tj.  $c \in D$  má dva obrazy.  $\square$

**1.103.** O každé z následujících relací na množině  $\{a, b, c, d\}$  rozhodněte, zda se jedná o relaci uspořádání (příp. zda se jedná o úplné uspořádání):

$$R_a = \{(a, a), (b, b), (c, c), (d, d), (b, a), (b, c), (b, d)\},$$

$$R_b = \{(a, a), (b, b), (c, c), (d, d), (d, a), (a, d)\},$$

$$R_c = \{(a, a), (b, b), (c, c), (d, d), (a, b), (b, c), (b, d)\},$$

$$R_d = \{(a, a), (b, b), (c, c), (a, b), (a, c), (a, d), (b, c), (b, d), (c, d)\},$$

$$R_e = \{(a, a), (b, b), (c, c), (d, d), (a, b), (a, c), (a, d), (b, c), (b, d),$$

$$(c, d)\}.$$

**Řešení.**  $R_a$  je uspořádání, které není úplné (např.  $(a, c) \notin R_a$  ani  $(c, a) \notin R_a$ ). Relace  $R_b$  není antisymetrická (je totiž  $(a, d) \in R_b$  i

$(d, a) \in R_b$ ), a tudíž se nejedná o uspořádání (jde o ekvivalenci). Relace  $R_c$  a  $R_d$  rovněž nejsou uspořádáními, protože nejsou tranzitivní (např.  $(a, b), (b, c) \in R_c, R_d, (a, c) \notin R_c, R_d$ ) a dokonce ani reflexivní ( $(d, d) \notin R_c, (d, d) \notin R_d$ ). Relace  $R_e$  je úplné uspořádání (pokud budeme  $(a, b) \in R$  interpretovat jako  $a \leq b$ , pak  $a \leq b \leq c \leq d$ ). □

**1.104.** Rozhodněte, zda je zobrazení  $f$  injektivní, resp. surjektivní, jestliže

- (a)  $f : \mathbb{Z} \times \mathbb{Z} \rightarrow \mathbb{Z}, f((x, y)) = x + y - 10x^2;$
- (b)  $f : \mathbb{N} \rightarrow \mathbb{N} \times \mathbb{N}, f(x) = (2x, x^2 + 10).$

**Řešení.** Ve variantě (a) je uvedeno surjektivní zobrazení (postačuje položit  $x = 0$ ), které není injektivní (stačí zvolit  $(x, y) = (0, -9)$  a  $(x, y) = (1, 0)$ ). Ve variantě (b) se naopak jedná o injektivní zobrazení (obě jeho složky, tj. funkce  $y = 2x$  a  $y = x^2 + 10$ , jsou evidentně rostoucí na  $\mathbb{N}$ ), které není surjektivní (např. dvojice  $(1, 1)$  nemá vzor). □

1.31

**1.105.** Stanovte počet zobrazení množiny  $\{1, 2\}$  do množiny  $\{a, b, c\}$ . Kolik z nich je surjektivních a kolik injektivních?

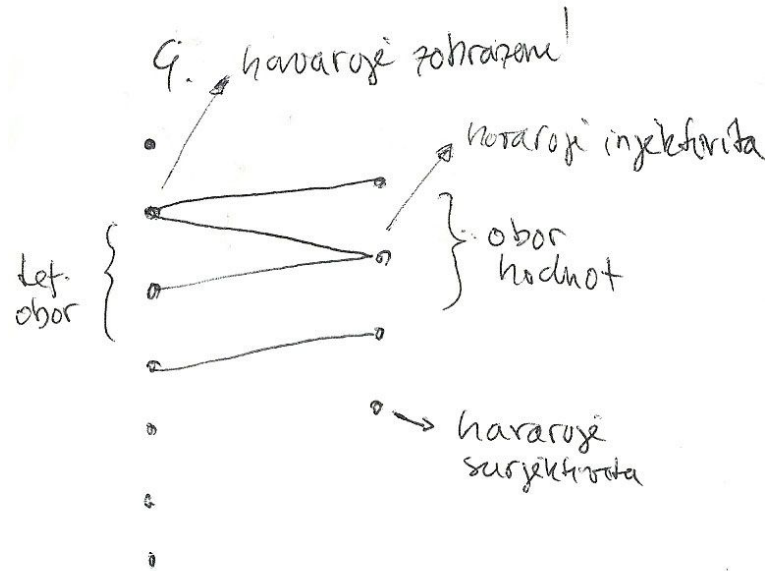
**Řešení.** Prvku 1 můžeme v rámci zobrazení přiřadit libovolně jeden ze tří prvků  $a, b, c$ . Podobně také pro prvek 2 máme tři možnosti. Podle (kombinatorického) pravidla součinu tak existuje celkem  $3^2$  zobrazení množiny  $\{1, 2\}$  do množiny  $\{a, b, c\}$ . Surjektivní žádné z nich být nemůže, neboť konečná množina  $\{a, b, c\}$  má více prvků než množina  $\{1, 2\}$ . Při libovolném zobrazení prvku 1 (tři možnosti) obdržíme injektivní zobrazení, právě když prvek 2 zobrazíme na jiný prvek (dvě možnosti). Vidíme tedy, že injektivních zobrazení množiny  $\{1, 2\}$  do množiny  $\{a, b, c\}$  je 6. □

**1.106.** Určete počet injektivních zobrazení množiny  $\{1, 2, 3\}$  do množiny  $\{1, 2, 3, 4\}$ .

**Řešení.** Libovolné injektivní zobrazení mezi uvažovanými množinami je dáno výběrem (uspořádané) trojice z množiny  $\{1, 2, 3, 4\}$  (prvky ve vybrané trojici budou po řadě obrazy čísel 1, 2, 3) a obráceně každé injektivní zobrazení nám zadává takovou trojici. Je tedy hledaných injektivních zobrazení stejně jako možností výběru uspořádaných trojic ze čtyř prvků, tedy  $v(3, 4) = 4 \cdot 3 \cdot 2 = 24$ . □

**1.107.** Určete počet surjektivních zobrazení množiny  $\{1, 2, 3, 4\}$  na množinu  $\{1, 2, 3\}$ .

**Řešení.** Hledaný počet určíme tak, že od počtu všech zobrazení odečteme ta, která nejsou surjektivní, to jest ta, jejichž obor hodnot je buď jednoprvkovou nebo dvouprvkovou množinou. Všech zobrazení



**1.37. Skládání relací a funkcí.** U zobrazení je jasná koncepce, jak se skládají. Máme-li dvě zobrazení  $f : A \rightarrow B$  a  $g : B \rightarrow C$ , pak jejich složení  $g \circ f : A \rightarrow C$  je definováno

$$(g \circ f)(a) = g(f(a)).$$

Ve značení používaném pro relace totéž můžeme zapsat jako

$$\begin{aligned} f &\subseteq A \times B, & f &= \{(a, f(a)); a \in A\} \\ g &\subseteq B \times C, & g &= \{(b, g(b)); b \in B\} \\ g \circ f &\subseteq A \times C, & g \circ f &= \{(a, g(f(a))); a \in A\}. \end{aligned}$$

Zcela obdobně definujeme skládání relací, v předchozích vztazích jen doplníme existenční kvantifikátory, tj. musíme uvažovat všechny „vzory“ a všechny „obrazy“. Uvažme relace  $R \subseteq A \times B, S \subseteq B \times C$ . Potom  $S \circ R \subseteq A \times C$ ,



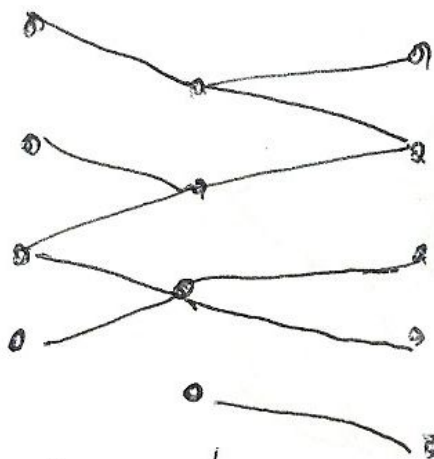
$$S \circ R = \{(a, c); \exists b \in B, (a, b) \in R, (b, c) \in S\}.$$

Zvláštním případem relace je *identické zobrazení*

$$\text{id}_A = \{(a, a) \in A \times A; a \in A\}$$

na množině  $A$ . Je neutrální vzhledem ke skládání s každou relací s definičním oborem nebo oborem hodnot  $A$ .





složením relací =  
vše, což lze nějakou cestou  
spojit.

Pro každou relaci  $R \subseteq A \times B$  definujeme *inverzní relaci*

$$R^{-1} = \{(b, a); (a, b) \in R\} \subset B \times A.$$

Pozor, u zobrazení, je stejný pojem užíván ve specifitější situaci. Samozřejmě, že existuje pro každé zobrazení jeho inverzní relace, ta však nemusí být zobrazením. Zcela logicky proto hovoříme o existenci inverzního zobrazení, pokud každý prvek  $b \in B$  je obrazem pro právě jeden vzor  $a \in A$ . V takovém případě je samozřejmě inverzní zobrazení právě inverzní relací.

Všimněme si, že složením zobrazení a jeho inverzního zobrazení (pokud obě existují) vždy vznikne identické zobrazení, u obecných relací tomu tak být nemusí.

1.32

**1.38. Relace na množině.** V případě  $A = B$  hovoříme o relaci na množině  $A$ . Říkáme, že relace  $R$  je:

- *reflexivní*, pokud  $\text{id}_A \subseteq R$ , tj.  $(a, a) \in R$  pro všechny  $a \in A$ ,
- *symetrická*, pokud  $R^{-1} = R$ , tj. pokud  $(a, b) \in R$ , pak i  $(b, a) \in R$ ,
- *antisymetrická*, pokud  $R^{-1} \cap R \subseteq \text{id}_A$ , tj. pokud  $(a, b) \in R$  a zároveň  $(b, a) \in R$ , pak  $a = b$ ,
- *tranzitivní*, pokud  $R \circ R \subseteq R$ , tj. pokud z  $(a, b) \in R$  a  $(b, c) \in R$  vyplývá i  $(a, c) \in R$ .

Relace se nazývá *ekvivalence*, pokud je současně reflexivní, symetrická i tranzitivní.



Relace se nazývá *uspořádání* jestliže je reflexivní, tranzitivní a antisymetrická. Relaci uspořádání obvykle značíme symbolem  $\leq$ , tj. skutečnost, že prvek  $a$  je v relaci s prvkem  $b$ , značíme  $a \leq b$ .

je  $V(3, 4) = 3^4$ , zobrazení, jejichž oborem hodnot je jednoprvková množina, jsou tři. Počet zobrazení, jejichž oborem hodnot je dvouprvková množina, je  $\binom{3}{2}(2^4 - 2)$  ( $\binom{3}{2}$  způsoby můžeme vybrat obor hodnot a máme-li již dva prvky fixovány, máme  $2^4 - 2$  možností, jak na ně zobrazit čtyři prvky). Celkem je tedy počet hledaných surjektivních zobrazení

$$(1.3) \quad 3^4 - \binom{3}{2}(2^4 - 2) - 3 = 36.$$

□

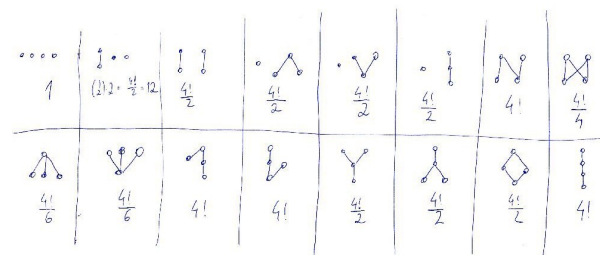
**1.108.** Určete počet surjektivních zobrazení  $f$  množiny  $\{1, 2, 3, 4, 5\}$  na množinu  $\{1, 2, 3\}$  takových, že  $f(1) = f(2)$ .

**Řešení.** Každé takové zobrazení je jednoznačně dáno obrazem prvků  $\{1, 3, 4, 5\}$ , těchto zobrazení je tedy přesně tolik, kolik je zobrazení surjektivních zobrazení množiny  $\{1, 3, 4, 5\}$  na množinu  $\{1, 2, 3\}$ , tedy 36, jak víme z předchozího příkladu. □

**1.109. Hasseův diagram uspořádání.** Hasseův diagram daného uspořádání  $<$  na  $n$ -prvkové množině  $M$  je diagram s  $n$  vrcholy (každý vrchol odpovídá právě jednomu prvku množiny), přičemž dva vrcholy (prvky)  $a, b$  jsou spojeny (víceméně svislou) čarou (tak, že  $a$  je „dole“ a  $b$  „nahore“), právě když  $b$  pokrývá  $a$ , tj.  $a < b$  a neexistuje  $c \in M$  tak, že  $a < c$  a  $c < b$ .

**1.110.** Určete počet relací uspořádání na čtyřprvkové množině.

**Řešení.** Postupně projdeme všechny možné Hasseovy diagramy uspořádání na nějaké čtyřprvkové množině  $M$  a spočítáme, kolik různých uspořádání (tj. podmnožin množiny  $M \times M$ ) má daný Hasseův diagram, viz obr.:



Celkem tedy je 219 uspořádání na čtyřprvkové množině. □

**1.111.** Určete počet relací uspořádání množiny  $\{1, 2, 3, 4, 5\}$  takových, že právě dvě dvojice prvků jsou nesrovnatelné.

**1.112.** Vypište všechny relace na dvouprvkové množině  $\{1, 2\}$ , jež současně nejsou reflexivní, jsou symetrické a nejsou tranzitivní.

**Řešení.** Reflexivní relace jsou právě ty, které obsahují obě dvojice  $(1, 1)$ ,  $(2, 2)$ . Tím jsme vyloučili relace

$$\{(1, 1), (2, 2)\}, \quad \{(1, 1), (2, 2), (1, 2)\}, \quad \{(1, 1), (2, 2), (2, 1)\}, \\ \{(1, 1), (2, 2), (1, 2), (2, 1)\}.$$

Zbývající relace, které jsou symetrické a nejsou tranzitivní, musejí obsahovat  $(1, 2)$ ,  $(2, 1)$ . Pokud taková relace obsahuje jednu z těchto dvou uspořádaných dvojic, musí obsahovat rovněž druhou (podmínka symetrie). Kdyby neobsahovala ani jednu z těchto dvou uspořádaných dvojic, pak by očividně byla tranzitivní. Z celkového počtu 16 relací na dvouprvkové množině jsme tak vybrali

$$\{(1, 2), (2, 1)\}, \quad \{(1, 2), (2, 1), (1, 1)\}, \quad \{(1, 2), (2, 1), (2, 2)\}.$$

Je vidět, že každá z těchto 3 relací není reflexivní, je symetrická a není tranzitivní.  $\square$

**1.113.** Určete počet relací ekvivalence na množině  $\{1, 2, 3, 4\}$ .

**Řešení.** Ekvivalence můžeme počítat podle toho, kolik prvků mají jejich třídy rozkladu. Pro počty prvků tříd rozkladu ekvivalencí na čtyřprvkové množině jsou tyto možnosti:

Počty prvků ve třídách rozkladu	počet ekvivalencí daného typu
1,1,1,1	1
2,1,1	$\binom{4}{2}$
2,2	$\frac{1}{2} \binom{4}{2}$
3,1	$\binom{4}{1}$
4	1

Celkem tedy máme 15 různých ekvivalencí.  $\square$

**Poznámka.** Obecně počet tříd rozkladu  $n$ -prvkové množiny udává *Bellovo číslo*  $B_{n+k}$ , pro které lze odvodit rekurentní formuli

$$B_{n+1} = \sum_{k=0}^n \binom{n}{k} B_k.$$

1.33

**1.114.** Kolik existuje relací na  $n$ -prvkové množině?

**Řešení.** Relace je libovolná podmnožina kartézského součinu množiny se sebou samou. Tento kartézský součin má  $n^2$  prvků, a je tedy počet všech relací na  $n$ -prvkové množině  $2^{n^2}$ .  $\square$

**1.115.** Kolik existuje reflexivních relací na  $n$ -prvkové množině?

**Řešení.** Relace na množině  $M$  je reflexivní, právě když je diagonální relace  $\Delta_M = \{(a, a), \text{ kde } a \in M\}$  její podmnožinou. U zbylých  $n^2 - n$  uspořádaných dvojic v kartézském součinu  $M \times M$  máme nezávislou volbu, jestli daná dvojice v dané relaci bude či ne. Celkem tedy máme  $2^{n^2 - n}$  různých reflexivních relací na  $n$ -prvkové množině.  $\square$

**1.116.** Kolik existuje symetrických relací na  $n$ -prvkové množině?

**Řešení.** Relace na množině  $M$  je symetrická, právě když je její průnik s každou množinou  $\{(a, b), (b, a), \text{ kde } a \neq b, a, b \in M\}$  buď

Zde je dobré si uvědomit, že relace  $<$ , tj. „býti ostře menší než“, mezi reálnými (racionálními, celými, přirozenými) čísly není relace uspořádání, protože není reflexivní.

Dobrym příkladem uspořádání je inkluze. Uvažme množinu  $2^A$  všech podmnožin konečné množiny  $A$  (značení je speciálním případem obvyklé notace  $B^A$  pro množinu všech zobrazení z  $A$  do  $B$ ; prvky množiny  $2^A$  jsou tedy zobrazení  $A \rightarrow \{0, 1\}$ , které "říkají", zda určitý prvek je či není v dané podmnožině). Na množině  $2^A$  máme relaci  $\subseteq$  danou vlastností „být podmnožinou“. Je tedy  $X \subseteq Z$  právě, když je  $X$  podmnožinou v  $Z$ . Evidentně jsou přitom splněny všechny tři vlastnosti pro uspořádání: skutečně, je-li  $X \subseteq Y$  a zároveň  $Y \subseteq X$  musí být nutně množiny  $X$  a  $Y$  stejné. Je-li  $X \subseteq Y \subseteq Z$  je také  $X \subseteq Z$  a také reflexivita je zřejmá.

Říkáme, že uspořádání  $\leq$  na množině  $A$  je *úplné*, když pro každé dva prvky  $a, b \in A$  platí, že jsou *srovnatelné*, tj. buď  $a \leq b$  nebo  $b \leq a$ . Všimněme si, že ne všechny dvojice  $(X, Y)$  podmnožin v  $A$  jsou srovnatelné v tomto smyslu. Přesněji, pokud je v  $A$  více než jeden prvek, existují podmnožiny  $X$  a  $Y$ , kdy není ani  $X \subseteq Y$  ani  $Y \subseteq X$ .

Připomeňme rekurentní definici přirozených čísel  $\mathbb{N} = \{0, 1, 2, 3, \dots\}$ , kde

$$0 = \emptyset, \quad n + 1 = \{0, 1, 2, \dots, n\}.$$

Na této množině  $\mathbb{N}$  definujeme relaci  $\leq$  následovně:  $m \leq n$ , právě když  $m \in n$  nebo  $m = n$ . Evidentně jde o úplné uspořádání. Např.  $2 \leq 4$ , protože

$$2 = \{\emptyset, \{\emptyset\}\} \in \{\emptyset, \{\emptyset\}, \{\emptyset, \{\emptyset\}\}, \{\emptyset, \{\emptyset\}, \{\emptyset, \{\emptyset\}\}\} = 4.$$

Jinak řečeno, samotná rekurentní definice zadává vztah  $n \leq n + 1$  a tranzitivně pak  $n \leq k$  pro všechna  $k$ , která jsou tímto postupem definována později.

**1.39. Rozklad podle ekvivalence.** Každá ekvivalence  $R$  na množině  $A$  zadává zároveň *rozklad* množiny  $A$  na podmnožiny vzájemně ekvivalentních prvků, tzv. *třídy ekvivalence*. Pro libovolné  $a \in A$  uvažujeme třídu (množinu) prvků, které jsou ekvivalentní s prvkem  $a$ , tj.



$$R_a = \{b \in A; (a, b) \in R\}.$$

Často budeme psát pro  $R_a$  prostě  $[a]$ , je-li z kontextu zřejmé, o kterou ekvivalenci jde.

Zjevně  $R_a = R_b$ , právě když  $(a, b) \in R$  a každá taková třída ekvivalence je tedy reprezentována kterýmkoliv svým prvkem, tzv. *reprezentantem*. Zároveň  $R_a \cap R_b \neq \emptyset$ , právě když  $R_a = R_b$ , tj. třídy ekvivalence jsou po dvou disjunktní. Konečně,  $A = \cup_{a \in A} R_a$ , tj. celá množina  $A$  se skutečně rozloží na jednotlivé třídy.

Můžeme také třídám rozkladu rozumět tak, že třídu  $[a]$  vnímáme jako prvek  $a$  „až na ekvivalenci“.

**1.40. Konstrukce celých a racionálních čísel.** Na přirozených číslech umíme sice sčítat a víme, že přičtením nuly se číslo nezmění. Umíme i definovat odečítání, při něm ale jen někdy existuje výsledek v množině  $\mathbb{N}$ .



Základní ideou konstrukce celých čísel z přirozených je tedy přidat k nim chybějící rozdíly. To můžeme udělat tak, že místo výsledku odečítání budeme pracovat s uspořádanými dvojicemi čísel, které nám samozřejmě vždy výsledek dobře reprezentují. Zbývá jen dobře definovat, kdy jsou (z hlediska výsledku odečítání) takové dvojice ekvivalentní. Potřebný vztah tedy je:

$$(a, b) \sim (a', b') \iff a - b = a' - b' \iff a + b' = a' + b.$$

Všimněme si, že zatímco výrazy v prostřední rovnosti v přirozených číslech neumíme, výrazy vpravo už ano. Snadno ověříme, že skutečně jde o ekvivalenci a její třídy označíme jako celá čísla  $\mathbb{Z}$ . Na nich definujeme operaci sčítání (a s ní i odečítání) pomocí reprezentantů. Např.

$$[(a, b)] + [(c, d)] = [(a + c, b + d)],$$

což zjevně nezávisí na výběru reprezentantů.

Lze si přitom vždy volit reprezentanty  $(a, 0)$  pro kladná čísla a reprezentanty  $(0, a)$  pro čísla záporná, se kterými se nám bude patrně počítat nejlépe.

Tento jednoduchý příklad ukazuje, jak důležité je umět nahlížet na třídy ekvivalence jako na celistvý objekt a soustředit se na vlastnosti těchto objektů, nikoliv formální popisy jejich konstrukcí. Ty jsou však důležité k ověření, že takové objekty vůbec existují.

U celých čísel nám už platí všechny vlastnosti skalárů (KG1)–(KG4) a (O1)–(O4), viz odstavce 1.1 a 1.3. Pro násobením je neutrálním prvkem jednička, ale pro všechna čísla  $a$  různá od nuly a jedničky neumíme najít číslo  $a^{-1}$  s vlastností  $a \cdot a^{-1} = 1$ , tzn. chybí nám inverzní prvky pro násobení.

Zároveň si povšimněme, že platí vlastnost oboru integrity (OI), viz 1.3, tzn. je-li součin dvou čísel nulový, musí být alespoň jedno z nich nula.

Díky poslední jmenované vlastnosti můžeme zkonstruovat racionální čísla  $\mathbb{Q}$  přidáním všech chybějících inverzí zcela obdobným způsobem, jak jsme konstruovali  $\mathbb{Z}$  z množiny  $\mathbb{N}$ . Na množině uspořádaných dvojic  $(p, q)$ ,  $q \neq 0$ , celých čísel definujeme relaci  $\sim$  tak, jak očekáváme, že se mají chovat podíly  $p/q$ :

$$(p, q) \sim (p', q') \iff p/q = p'/q' \iff p \cdot q' = p' \cdot q.$$

Opět neumíme očekávané chování v prostřední rovnosti v množině  $\mathbb{Z}$  formulovat, nicméně rovnost na pravé straně ano. Zjevně jde o dobře definovanou relaci ekvivalence (ověřte podrobnosti!) a racionální čísla jsou pak její třídy ekvivalence. Když budeme formálně psát  $p/q$  místo dvojic  $(p, q)$ , budeme definovat operace násobení a sčítání právě pomocí formulí, které nám jsou jistě dobře známy.

celá daná dvouprvková množina, nebo je tento průnik prázdný. Dvouprvkových podmnožin množiny  $M$  je  $\binom{n}{2}$  a pokud kromě průníků s těmito množinami ještě určíme průnik dané relace s diagonální relací  $\Delta_M = \{(a, a) \mid a \in M\}$ , je tímto daná relace jednoznačně určena. Celkem můžeme provést  $\binom{n}{2} + n$  nezávislých voleb mezi dvěma alternativami: každá množina typu  $\{(a, b), (b, a) \mid a, b \in M, a \neq b\}$  je buď podmnožinou dané relace, nebo ani jeden z jejích prvků v dané relaci neleží a každá dvojice  $(a, a)$ ,  $a \in M$ , potom také buď v relaci leží nebo ne. Celkem tedy máme  $2^{\binom{n}{2} + n}$  symetrických relací na  $n$ -prvkové množině.  $\square$

**1.117.** Kolik existuje antisymetrických relací na  $n$ -prvkové množině?

**Řešení.** Relace na množině  $M$  je antisymetrická, právě když její průnik s každou množinou  $\{(a, b), (b, a) \mid a \neq b, a, b \in M\}$  není dvojeprvkový (jsou tedy tři možnosti jak průnik vypadá, buď je to množina  $\{(a, b)\}$ , nebo  $\{(b, a)\}$ , nebo je průnik prázdný). Průnik s diagonální relací pak může být libovolný. Určením těchto všech průníků je relace jednoznačně určena. Celkem máme  $3^{\binom{n}{2}} 2^n$  antisymetrických relací na  $n$ -prvkové množině.  $\square$

**1.118.** Určete počet relací na množině  $\{1, 2, 3, 4\}$ , které jsou současně symetrické i tranzitivní.

**1.119.** Určete počet relací uspořádání na tříprvkové množině.

**1.120.** Určete počet relací uspořádání na množině  $\{1, 2, 3, 4\}$  takových, že prvky 1 a 2 jsou nesrovnatelné (tedy neplatí  $1 < 2$  ani  $2 < 1$ , kde  $<$  je označení uvažované relace uspořádání).

**1.121.** Nechť pro libovolná celá čísla  $k, l$  platí  $(k, l) \in R$  právě tehdy, když je číslo  $4k - 4l$  celočíselným násobkem 7. Je takto zavedená relace  $R$  ekvivalence, uspořádání?

**Řešení.** Uvědomme si, že dvě celá čísla jsou spolu v relaci  $R$ , právě když dávají stejný zbytek po dělení 7. Jde tedy o příklad tzv. zbytkové třídy celých čísel. Proto víme, že relace  $R$  je relací ekvivalence. Její symetrie (např.  $(3, 10), (10, 3) \in R$ ,  $3 \neq 10$ ) pak implikuje, že se nejedná o uspořádání.  $\square$

**1.122.** Nechť je na množině  $N = \{3, 4, 5, \dots, n, n+1, \dots\}$  definována relace  $R$  tak, že dvě čísla jsou v relaci, právě když jsou nesoudělná (tedy neobsahuje-li prvočíselný rozklad uvažovaných dvou čísel ani jedno stejné prvočíslo). Zjistěte, zda je tato relace reflexivní, symetrická, antisymetrická, tranzitivní.

**Řešení.** Pro dvojici stejných čísel platí, že  $(n, n) \notin R$ . Nejedná se tedy o reflexivní relaci. Být „soudělný“ nebo „nesoudělný“ pro dvojici čísel

z  $N$  je zřejmě vlastnost neuspořádané dvojice – nezávisí na uvedeném pořadí uvažovaných čísel, a proto je relace  $R$  symetrická. Ze symetrie relace  $R$  plyne, že není antisymetrická (např.  $(3, 5) \in R, 3 \neq 5$ ). Neboť je  $R$  symetrická a  $(n, n) \notin R$  pro libovolné číslo  $n \in N$ , volba dvou různých čísel, která jsou spolu v této relaci, dává, že  $R$  není tranzitivní.  $\square$

**1.41. Zbytkové třídy.** Jiným dobrým a jednoduchým příkladem jsou tzv. zbytkové třídy celých čísel. Pro pevně zvolené přirozené číslo  $k$  definujeme ekvivalenci  $\sim_k$  tak, že dvě čísla  $a, b \in \mathbb{Z}$  jsou ekvivalentní, jestliže jejich zbytek po dělení číslem  $k$  je stejný. Výslednou množinu tříd ekvivalence označujeme  $\mathbb{Z}_k$ . Nejjednodušší je tato procedura pro  $k = 2$ . To dostáváme  $\mathbb{Z}_2 = \{0, 1\}$ , kde nula reprezentuje sudá čísla, zatímco jednička čísla lichá. Opět lze snadno zjistit, že pomocí reprezentantů můžeme koekválně definovat násobení a sčítání na každém  $\mathbb{Z}_k$ .



**Věta.** Zbytkové třídy  $\mathbb{Z}_k$  jsou komutativním tělesem skalárů (tj. splňují i vlastnost (P) z odstavce 1.3), právě když je  $k$  prvočíslo.

*Pokud  $k$  prvočíslem není, obsahuje  $\mathbb{Z}$  vždy dělitele nuly, není proto ani obor integrity.*

**DŮKAZ.** Okamžitě je vidět druhé tvrzení — jestliže  $x \cdot y = k$  pro přirozená čísla  $x, y$ , pak samozřejmě je výsledek násobení příslušných tříd  $[x] \cdot [y]$  nulový.

Naopak, jsou-li  $x$  a  $k$  nesoudělná, existují podle tzv. Bezoutovy rovnosti, kterou dovodíme později (viz ??) přirozená čísla  $a$  a  $b$  splňující

$$ax + bk = 1,$$

což pro odpovídající třídy ekvivalence dává

$$[a] \cdot [x] + [0] = [a] \cdot [x] = [1]$$

a proto je  $[a]$  inverzním prvkem k  $[x]$ .  $\square$

## G. Doplnující příklady k celé kapitole

**1.123.** Setkání se zúčastnilo šest mužů. Pokud si všichni navzájem potřásli rukama, vyčíslete počet potřesení.

**Řešení.** Počet potřesení rukou zřejmě odpovídá počtu způsobů, jak lze vybrat neuspořádanou dvojici ze 6 prvků, tj. výsledek je  $c(6, 2) = \binom{6}{2} = 15$ .  $\square$

**1.124.** Určete, kolika způsoby lze z 15 poslanců vybrat čtyřčlennou komisi, není-li možné, aby jistí 2 poslanci pracovali spolu.

**Řešení.** Výsledek je

$$\binom{15}{4} - \binom{13}{2} = 1\,287.$$

Obdržíme ho tak, že nejprve určíme počet všech možných výběrů čtyřčlenné komise, potom od něj odečteme počet těch výběrů, kdy oba zmínění poslanci budou vybráni (v takovém případě vybíráme pouze 2 další členy komise ze 13 poslanců).  $\square$

**1.125.** Kolika způsoby můžeme rozdělit 8 žen a 4 muže do 2 šestičlenných skupin (v nichž nerozlišujeme pořadí – jsou neuspořádané) tak, aby v obou skupinách byl alespoň 1 muž?

**Řešení.** Rozdělení 12 osob do 2 šestičlenných skupin bez jakýchkoli podmínek je dáno libovolným výběrem 6 z nich do první ze skupin, což lze provést  $\binom{12}{6}$  způsoby. Skupiny ale nejsou rozlišitelné (nevíme, která z nich je první), a proto je počet všech možných rozdělení  $\frac{1}{2} \cdot \binom{12}{6}$ . V  $\binom{8}{2}$  případech pak budou všichni muži v jedné skupině (volíme 2 ženy z 8, které skupinu doplní). Správná odpověď je tudíž

$$\frac{1}{2} \cdot \binom{12}{6} - \binom{8}{2} = 434.$$

$\square$

**1.126.** Jaký je počet čtyřciferných čísel složených z číslic 1, 3, 5, 6, 7 a 9, ve kterých se žádná z cifer neopakuje?

**Řešení.** K dispozici máme šest různých číslic. Ptáme se: Kolik různých uspořádaných čtveřic z nich můžeme vybrat? Výsledek je proto  $v(6, 4) = 6 \cdot 5 \cdot 4 \cdot 3 = 360$ .  $\square$

**1.127.** Řecká abeceda se skládá z 24 písmen. Kolik různých slov majících právě pět písmen z ní lze utvořit? (Bez ohledu na to, zda tato slova mají nějaký jazykový význam.)

**Řešení.** Pro každou z pěti pozic ve slově máme 24 možností, neboť písmena se mohou opakovat. Výsledek je tedy  $V(24, 5) = 24^5$ .  $\square$

**1.128.** K vytrvalostnímu závodu, v němž běžci vybíhají jeden po druhém s danými časovými odstupy, se přihlásilo  $k$  závodníků, mezi nimi také tři kamarádi. Stanovte počet startovních listin, v rámci kterých žádní dva z trojice kamarádů nestartují těsně po sobě. Pro jednoduchost uvažujte  $k \geq 5$ .

**Řešení.** Ostatních  $k - 3$  závodníků můžeme seřadit  $(k - 3)!$  způsoby. Pro uvažované tři kamarády pak máme  $k - 2$  míst (začátek, konec a  $k - 4$  mezer), na které je můžeme rozmístit  $v(k - 2, 3)$  způsoby. Podle (kombinatorického) pravidla součinu je tak výsledek

$$(k - 3)! \cdot (k - 2) \cdot (k - 3) \cdot (k - 4) = (k - 2)! \cdot (k - 3) \cdot (k - 4).$$

□

**1.129.** Turnaje se zúčastní 32 lidí. Podle požadavků organizátorů se musí libovolným způsobem rozdělit do čtyř skupin tak, aby první skupina měla 10 účastníků, druhá 8, třetí také 8 a poslední čtvrtá potom 6. Kolika způsoby se mohou takto rozdělit?

**Řešení.** Můžeme si představit, že z 32 účastníků vytvoříme řadu, kdy prvních 10 utvoří první skupinu, dalších 8 druhou atd. Celkem můžeme účastníky seřadit  $32!$  způsoby. Uvědomme si ovšem, že na rozdělení do skupin nemá vliv, když zaměníme pořadí osob, které patří do stejné skupiny. Proto je počet navzájem různých rozdělení roven

$$P(10, 8, 8, 6) = \frac{32!}{10! \cdot 8! \cdot 8! \cdot 6!}.$$

□

**1.130.** Je potřeba ubytovat 9 osob v jednom čtyřlůžkovém, jednom třílůžkovém a jednom dvoulůžkovém pokoji. Zjistěte, kolika způsoby to lze provést.

**Řešení.** Jestliže např. hostům ve čtyřlůžkovém pokoji, přiřadíme číslici 1, v třílůžkovém pokoji číslici 2 a v dvoulůžkovém číslici 3, pak vytváříme permutace s opakováním ze tří prvků 1, 2, 3, v nichž jednička se vyskytuje čtyřikrát, dvojka třikrát a trojka dvakrát. Příslušný počet permutací je

$$P(4, 3, 2) = \frac{9!}{4! \cdot 3! \cdot 2!} = 1\,260.$$

□

**1.131.** Určete počet způsobů, jak lze rozdělit mezi tři osoby  $A$ ,  $B$  a  $C$  33 různých mincí tak, aby osoby  $A$  a  $B$  měly dohromady právě dvakrát více mincí, než má osoba  $C$ .

**Řešení.** Ze zadání vyplývá, že osoba  $C$  má obdržet 11 mincí. To lze provést  $\binom{33}{11}$  způsoby. Každou ze zbývajících 22 mincí může získat osoba  $A$  nebo  $B$ , což dává  $2^{22}$  možností. Z (kombinatorického) pravidla součinu plyne výsledek  $\binom{33}{11} \cdot 2^{22}$ . □

**1.132.** Kolika způsoby můžete mezi 4 chlapce rozdělit 40 stejných kuliček?

**Řešení.** Přidejme ke 40 kuličkám troje zápalky. Poskládáme-li kuličky a zápalky do řady, rozdělí zápalky kuličky na 4 úseky. Náhodně seřadíme chlapce. Dáme-li prvnímu chlapci všechny kuličky z prvního úseku, druhému chlapci všechny kuličky z druhého úseku atd., je již vidět, že všech rozdělení je právě  $\binom{43}{3} = 12\,341$ . □

**1.133.** Podle kvality dělíme výrobky do skupin  $I$ ,  $II$ ,  $III$ ,  $IV$ . Zjistěte počet všech možných rozdělení 9 výrobků do těchto skupin, která se liší počtem výrobků v jednotlivých skupinách.

**Řešení.** Zapisujeme-li přímo uvažované devítičlenné skupiny z prvků  $I$ ,  $II$ ,  $III$ ,  $IV$ , vytváříme kombinace s opakováním deváté třídy ze čtyř prvků. Počet takových kombinací je  $\binom{12}{9} = 220$ . □

**1.134.** Kolika způsoby mohla skončit tabulka první fotbalové ligy, víme-li o ní pouze, že alespoň jeden z týmů z dvojice Ostrava, Olomouc je v tabulce za týmem Brna (ligu hraje 16 mužstev).

**Řešení.** Nejprve určíme tři místa, na kterých se umístily celky Brna, Olomouce a Ostravy. Ty lze vybrat  $c(3, 16) = \binom{16}{3}$  způsoby. Z šesti možných pořadí zmíněných tří týmů na vybraných třech místech vyhovují podmínce ze zadání čtyři. Pro libovolné pořadí těchto týmů na libovolně vybraných třech místech pak můžeme nezávisle volit pořadí zbylých 13 týmů na ostatních místech tabulky. Podle pravidla součinu je tedy hledaný počet tabulek roven

$$\binom{16}{3} \cdot 4 \cdot 13! = 13948526592000.$$

□

**1.135.** Kolik je možných uspořádání (v řadě) na fotce volejbalového týmu (6 hráčů), když

- i) Gouald a Bamba chtějí stát vedle sebe
- ii) Gouald a Bamba chtějí stát vedle sebe a uprostřed
- iii) Gouald a Kamil nechtějí stát vedle sebe

**Řešení.**

- i) Goualda a Bambu můžeme v tomto případě počítat za jednoho, rozlišíme jen jak stojí vzájemně. Máme  $2 \cdot 5! = 240$  pořadí.
- ii) Tady je to podobné, jen pozice Goualda a Bamby je pevně daná. Dostáváme  $2 \cdot 4! = 48$  možností.
- iii) Nejjednodušší je asi odečíst případy, kdy stojí vedle sebe (viz (i)) od všech pořadí. Dostaneme  $6! - 2 \cdot 5! = 720 - 240 = 480$ .

□

**1.136.** Házení mincí. Šestkrát hodíme mincí.

- i) Kolik je všech různých posloupností panna, orel
- ii) Kolik je takových, že padnou právě čtyři panny.
- iii) Kolik je takových, že padnou aspoň dvě panny.

**1.137.** Kolik existuje přesmyček slova BAZILIKA takových, že se v nich střídají souhlásky a samohlásky?

**Řešení.** Protože souhlásky i samohlásky jsou v daném slově čtyři, tak se v každé takové přesmyčce střídají pravidelně souhlásky a samohlásky. Slovo tedy může být typu *BABABABA* nebo *ABABABAB*. Na daných čtyřech místech můžeme pak samohlásky permutovat mezi sebou ( $P_o(2, 2) = \frac{4!}{2!2!}$  způsoby) a nezávisle na tom i souhlásky ( $4!$  způsoby). Hledaný počet je pak dle pravidla součinu  $2 \cdot 4! \cdot \frac{4!}{2!2!} = 288$ . □

**1.138.** Kolika způsoby lze rozdělit 9 děvčat a 6 chlapců do dvou skupin tak, aby každá skupina obsahovala alespoň dva chlapce?

**Řešení.** Rozdělíme zvlášť děvčata a chlapce:  $2^9(2^5 - 7) = 12800$ . □

**1.139.** Materiál je tvořen pěti vrstvami, každá z nich má vlákna v jednom z daných šesti směrů. Kolik takových materiálů existuje? Kolik je jich takových, že dvě sousední vrstvy nemají vlákna ve stejném směru?

**Řešení.**  $6^5$  a  $6 \cdot 5^5$ . □

**1.140.** Na kružnici stojí  $n$  pevností ( $n \geq 3$ ), očíslovaných po řadě čísly  $1, \dots, n$ . V jeden okamžik každá vystřelí na jednu ze dvou sousedních (pevnost 1 sousedí s pevností  $n$ ). Označme  $P(n)$  počet možných výsledků střelby (za výsledek střelby považujeme množinu čísel právě těch pevností, které byly při střelbě zasaženy, nerozlišujeme přitom mezi jedním a dvěma zásahy). Dokažte, že  $P(n)$  a  $P(n+1)$  jsou nesoudělná.



**Řešení.** Označíme-li zasažené pevnosti černým kolečkem a nezasažené bílým, úloha je ekvivalentní úloze určit počet všech možných obarvení  $n$  koleček, umístěných na kružnici, černou a bílou barvou tak, aby nebyla žádná dvě bílá kolečka „objedno“. Pro lichá  $n$  je tento počet roven počtu  $K(n)$  obarvení černou a bílou barvou tak, aby žádná dvě bílá kolečka nestála vedle sebe (přečíslováme pevnosti tak, že začneme u kolečka 1 a číslováme popořadě vzestupně po lichých číslech a poté vzestupně po sudých). V případě sudého  $n$  je tento počet roven  $K(n/2)^2$ , kvadrátu počtu obarvení  $n/2$  koleček na obvodu kruhu tak, aby žádná dvě bílá nestála vedle sebe (barvíme nezávisle kolečka na lichých a na sudých pozicích).

Pro  $K(n)$  snadno odvodíme rekurentní formuli  $K(n) = K(n-1) + K(n-2)$ . Navíc snadno spočteme, že  $K(2) = 3$ ,  $K(3) = 4$ ,  $K(4) = 7$ , tedy  $K(2) = F(4) - F(0)$ ,  $K(3) = F(5) - F(1)$ ,  $K(4) = F(6) - F(2)$  a indukci snadno dokážeme  $K(n) = F(n+2) - F(n-2)$ , kde  $F(n)$  značí  $n$ -tý člen Fibonacciho posloupnosti ( $F(0) = 0$ ,  $F(1) = F(2) = 1$ ). Navíc protože  $(K(2), K(3)) = 1$ , máme pro  $n \geq 3$  obdobně jako u Fibonacciho posloupnosti

$$\begin{aligned} (K(n), K(n-1)) &= (K(n) - K(n-1), K(n-1)) = \\ &= (K(n-2), K(n-1)) = \dots = 1. \end{aligned}$$

Ukážeme nyní, že pro každé sudé  $n = 2a$  je  $P(n) = K(a)^2$  nesoudělné jak s  $P(n+1) = K(2a+1)$ , tak s  $P(n-1) = K(2a-1)$ . K tomu stačí následující: pro  $a \geq 2$  je totiž

$$\begin{aligned} (K(a), K(2a+1)) &= (K(a), F(2)K(2a) + F(1)K(2a-1)) = \\ &= (K(a), F(3)K(2a-1) + F(2)K(2a-2)) = \dots \\ &= (K(a), F(a+1)K(a+1) + F(a)K(a)) = \\ &= (K(a), F(a+1)) = (F(a+2) - F(a-2), F(a+1)) = \\ &= (F(a+2) - F(a+1) - F(a-2), F(a+1)) = \\ &= (F(a) - F(a-2), F(a+1)) = \\ &= (F(a-1), F(a+1)) = (F(a-1), F(a)) = 1 \\ (K(a), K(2a-1)) &= (K(a), F(2)K(2a-2) + F(1)K(2a-3)) = \\ &= (K(a), F(3)K(2a-3) + F(2)K(2a-4)) = \\ &= \dots = (K(a), F(a)K(a) + F(a-1)K(a-1)) = \\ &= (K(a), F(a-1)) = (F(a+2) - F(a-2), F(a-1)) = \\ &= (F(a+2) - F(a), F(a-1)) = \end{aligned}$$



$$= (F(a+2) - F(a+1), F(a-1)) = (F(a), F(a-1)) = 1.$$

Tím je tvrzení dokázáno. □

**1.141.** Kolik peněz naspořím na stavebním spoření za pět let, vkládám-li 3000 Kč měsíčně (vždy k 1. v měsíci), vklad je úročen roční úrokovou mírou 3% (úročení probíhá jednou za rok) a od státu obdržím ročně příspěvek 1500 Kč (státní příspěvek se přispisuje vždy až 1. května následujícího roku)?

**Řešení.** Označme množství naspořených peněz po  $n$ -tém roce jako  $x_n$ . Potom dostáváme (pro  $n > 2$ ) následující rekurentní formuli (navíc předpokládáme, že každý měsíc je přesně dvanáctina roku)

$$\begin{aligned} x_{n+1} &= 1,03(x_n) + 36000 + 1500 + \\ &\quad \underbrace{0,03 \cdot 3000 \left(1 + \frac{11}{12} + \dots + \frac{1}{12}\right)}_{\text{úroky z vkladů za aktuální rok}} + \\ &\quad + \underbrace{0,03 \cdot \frac{2}{3} \cdot 1500}_{\text{úrok ze státního příspěvku připsaného v aktuálním roce}} = \\ &= 1,03(x_n) + 38115. \end{aligned}$$

Tedy

$$x_n = 38115 \sum_{i=0}^{n-2} (1,03)^i + (1,03)^{n-1} x_1 + 1500,$$

přičemž  $x_1 = 36000 + 0,03 \cdot 3000 \left(1 + \frac{11}{12} + \dots + \frac{1}{12}\right) = 36585$ , celkem

$$x_5 = 38115 \left( \frac{(1,03)^4 - 1}{0,03} \right) + (1,03)^4 \cdot 36585 + 1500 \doteq 202136.$$

□

**1.142. Poznámka.** Ve skutečnosti úročení probíhá podle počtu dní, které jsou peníze na účtu. Obstarejte si skutečný výpis ze stavebního spoření, zjistěte si jeho úročení a zkuste si spočítat připsané úroky za rok. Porovnejte je se skutečně připsanou sumou. Počítejte tak dlouho, dokud sumy nebudou souhlasit ...

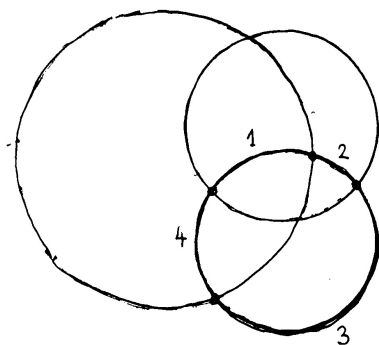
**1.143.** Na kolik maximálně částí dělí rovinu  $n$  kružnic?

**Řešení.** Pro maximální počet  $p_n$  oblastí, na které dělí rovinu kružnice odvodíme rekurentní vzorec

$$p_{n+1} = p_n + 2n.$$

Všimněme si totiž, že  $(n+1)$ -ní kružnice protíná  $n$  předchozích maximálně v  $2n$  průsečících (a tato situace skutečně může nastat).

přidání třetí kružnice



Navíc zřejmě  $p_1 = 2$ . Pro počet  $p_n$  tedy dostáváme

$$\begin{aligned} p_n &= p_{n-1} + 2(n-1) = p_{n-2} + 2(n-2) + 2(n-1) = \dots \\ &= p_1 + \sum_{i=1}^{n-1} 2i = n^2 - n + 2. \end{aligned}$$

□

**1.144.** Na kolik nejvýše částí dělí třírozměrný prostor  $n$  rovin?

**Řešení.** Označme hledaný počet  $r_n$ . Vidíme, že  $r_0 = 1$ . Podobně jako příkladu (1.39) uvažujme, že máme v prostoru  $n$  rovin, přidejme jednu další a ptejme se, kolik nejvýše částí prostoru přibude. Opět to bude přesně tolik, kolika původními částmi prostoru přidaná rovina prochází. Kolik to může být? Počet částí prostoru, kterými  $(n+1)$ -ní rovina prochází je roven počtu částí, na které je přidaná  $(n+1)$ -ní rovina rozdělena průsečnicemi s  $n$  rovinami, které v prostoru již byly rozmístěny. Těchto částí však může být podle předchozího příkladu nejvýše  $1/2 \cdot (n^2 + n + 2)$ , dostáváme tak rekurentní formuli

$$r_{n+1} = r_n + \frac{n^2 + n + 2}{2}.$$

Danou rovnicí opět můžeme vyřešit přímo:

$$\begin{aligned} r_n &= r_{n-1} + \frac{(n-1)^2 + (n-1) + 2}{2} = r_{n-1} + \frac{n^2 - n + 2}{2} = \\ &= r_{n-2} + \frac{(n-1)^2 - (n-1) + 2}{2} + \frac{n^2 - n + 2}{2} = \\ &= r_{n-2} + \frac{n^2}{2} + \frac{(n-1)^2}{2} - \frac{n}{2} - \frac{(n-1)}{2} + 1 + 1 = \\ &= r_{n-3} + \frac{n^2}{2} + \frac{(n-1)^2}{2} + \frac{(n-3)^2}{2} - \frac{n}{2} - \frac{(n-1)}{2} - \frac{(n-2)}{2} + \\ &\quad + 1 + 1 + 1 = \\ &= \dots = r_0 + \frac{1}{2} \sum_{i=1}^n i^2 - \frac{1}{2} \sum_{i=1}^n i + \sum_{i=1}^n 1 = \\ &= 1 + \frac{n(n+1)(2n+1)}{12} - \frac{n(n+1)}{4} + n = \end{aligned}$$

$$= \frac{n^3 + 6n + 5}{6},$$

kde jsme použili známého vztahu

$$\sum_{i=1}^n i^2 = \frac{n(n+1)(2n+1)}{6},$$

který lze snadno dokázat matematickou indukcí.

□

1.145. Na kolik maximálně částí dělí trojrozměrný prostor  $n$  koulí?

**1.146.** Na kolik částí dělí prostor  $n$  navzájem různých rovin, které všechny prochází jedním daným bodem?

**Řešení.** Pro hledaný počet  $x_n$  odvodíme rekurentní formuli

$$x_n = x_{n-1} + 2(n-1),$$

dále  $x_1 = 2$ , tedy

$$x_n = n(n-1) + 2.$$

□

**1.147.** Z balíčku 52 karet náhodně vybereme 16 karet. Vyjádřete pravděpodobnost, že vybereme právě 10 červených a 6 černých karet.

**Řešení.** Nejdříve si uvědomme, že nemusíme zohledňovat pořadí výběru karet. (Ve výsledném zlomku bychom uspořádané výběry získali tak, že bychom číslem  $16!$  vynásobili čitatele i jmenovatele.) Počet všech možných (neuspořádaných) výběrů 16 karet z 52 je  $\binom{52}{16}$ . Podobně je počet všech možných výběrů 10 karet z 26 roven  $\binom{26}{10}$  a 6 karet z 26 pak  $\binom{26}{6}$ . Neboť vybíráme nezávisle na sobě 10 karet z 26 červených a 6 karet z 26 černých, užití (kombinatorického) pravidla součinu dává výsledek

$$\frac{\binom{26}{10} \cdot \binom{26}{6}}{\binom{52}{16}} \doteq 0,118.$$

□

**1.148.** V urně je 7 bílých, 6 žlutých a 5 modrých koulí. Vylosujeme (bez vracení) 3 koule. Určete pravděpodobnost, že právě 2 jsou bílé.

**Řešení.** Celkem máme  $\binom{7+6+5}{3}$  způsobů, jak lze vybrat 3 koule. Vylosovat právě 2 bílé umožňuje  $\binom{7}{2}$  výběrů bílých a současně  $\binom{11}{1}$  výběrů zbylé (třetí) koule. Podle pravidla součinu je tak počet způsobů, jak lze vylosovat právě 2 bílé, roven  $\binom{7}{2} \cdot \binom{11}{1}$ . Odsud již plyne výsledek

$$\frac{\binom{7}{2} \cdot 11}{\binom{18}{3}} \doteq 0,283.$$

□

**1.149.** Z karetní hry o 108 kartách ( $2 \times 52 + 4$  žolíci) bez vracení vybereme 4 karty. Jaká je pravděpodobnost, že aspoň jedna z nich je eso nebo žolík?

**Řešení.** Lehce můžeme určit pravděpodobnost opačného (komplementárního) jevu znamenajícího, že ve vybrané čtveřici není žádná z 12 uvažovaných karet (8 es a 4 žolíků). Tato pravděpodobnost je dána poměrem počtu výběrů 4 karet z 96 a počtu výběrů 4 karet ze 108, tj. je rovna  $\binom{96}{4} / \binom{108}{4}$ . Opačný jev má tudíž pravděpodobnost

$$1 - \frac{\binom{96}{4}}{\binom{108}{4}} \doteq 0,380.$$

□

**1.150.** Při házení kostkou padla jedenáctkrát po sobě čtyřka. Uvedte pravděpodobnost, že padne podvanácté.

**Řešení.** Předchozí výsledky (podle našich předpokladů) nijak neovlivňují, co padne na kostce při dalších hodech. Proto je hledaná pravděpodobnost  $1/6$ . □

**1.151.** Z balíčku 32 karet náhodně vypadne 6 karet. Jaká je pravděpodobnost, že jsou všechny téže barvy?

**Řešení.** K tomu, abychom získali výsledek

$$\frac{4 \cdot \binom{8}{6}}{\binom{32}{6}} \doteq 1,234 \cdot 10^{-4},$$

stačí nejprve zvolit jednu ze 4 barev a uvědomit si, že existuje  $\binom{8}{6}$  způsobů, jak vybrat 6 karet z 8 této barvy. □

**1.152.** Tři hráči dostanou po 10 kartách a 2 zbudou (z balíčku připraveného na mariáš nebo prší – 32 karet, z toho 4 esa). Je pravděpodobnější, že někdo dostane listovou sedmu, osmu a devítku, nebo to, že zbyla dvě esa?

**Řešení.** Protože pravděpodobnost, že nějaký z hráčů dostane uvedené tři karty, je rovna hodnotě

$$3 \frac{\binom{29}{7}}{\binom{32}{10}},$$

zatímco pravděpodobnost, že zbudou dvě esa, je rovna číslu

$$\frac{\binom{4}{2}}{\binom{32}{2}},$$

je pravděpodobnější, že nějaký z hráčů dostal zmíněné tři karty. Poznamenejme, že dokázat nerovnost

$$\frac{3 \cdot \binom{29}{7}}{\binom{32}{10}} > \frac{\binom{4}{2}}{\binom{32}{2}}$$

lze úpravou obou jejích stran, kdy opakovaným krácením (po vyjádření kombinačních čísel dle definice) lehce dostaneme  $6 > 1$ . □

**1.153.** Hodíme  $n$  kostkami. Jaká je pravděpodobnost, že mezi čísly, která padnou, nebudou hodnoty 1, 3 a 6?

**Řešení.** Úlohu můžeme přeformulovat tak, že  $n$ -krát po sobě hodíme 1 kostkou. Pravděpodobnost, že při prvním hodu nepadne 1, 3 nebo 6, je  $1/2$ . Pravděpodobnost, že při prvním a druhém hodu nepadne 1, 3 ani 6, je zjevně  $1/4$  (výsledek prvního hodu neovlivňuje výsledek druhého). Vzhledem k tomu, že jev určený výsledkem jistého hodu a jakýkoli jev určený výsledkem jiného hodu jsou vždy (stochasticky) nezávislé, hledaná pravděpodobnost je  $1/2^n$ . □

**1.154.** Dva přátelé střílejí nezávisle na sobě do jednoho terče, každý po jednom výstřelu. Pravděpodobnost zásahu terče pro prvního je 0,4, pro druhého je 0,3. Nalezněte pravděpodobnost  $P$  jevu, že po střelbě bude v terči právě jeden zásah.

**Řešení.** Výsledek stanovíme tak, že sečteme pravděpodobnosti těchto dvou neslučitelných jevů: trefil se první střelec a druhý nikoli; první střelec minul, zatímco druhý terč zasáhl. Při nezávislosti jevů (která se zachovává také tehdy, když uvažujeme komplementy některých z jevů) je pravděpodobnost společného nastoupení dána součinem pravděpodobností jednotlivých jevů. Užitím toho dostáváme

$$P = 0,4 \cdot (1 - 0,3) + (1 - 0,4) \cdot 0,3 = 0,46.$$

□

**1.155.** Dvanáctkrát po sobě házíme třemi mincemi. Jaká je pravděpodobnost, že alespoň v jednom hodu padnou tři líce?

**Řešení.** Uvážíme-li, že při opakování téhož pokusu jsou jednotlivé výsledky nezávislé, a označíme-li pro  $i \in \{1, \dots, 12\}$  jako  $A_i$  jev „při  $i$ -tém hodu padly tři líce“, určujeme

$$P\left(\bigcup_{i=1}^{12} A_i\right) = 1 - (1 - P(A_1)) \cdot (1 - P(A_2)) \cdots (1 - P(A_{12})).$$

Pro každé  $i \in \{1, \dots, 12\}$  je však  $P(A_i) = 1/8$ , neboť na každé ze tří mincí padne líc s pravděpodobností  $1/2$  nezávisle na tom, zda na ostatním mincích padl líc, příp. rub. Nyní již můžeme napsat výsledek

$$1 - \left(\frac{7}{8}\right)^{12}.$$

□

**1.156.** Z deseti karet, z nichž právě jedna je eso, namátkou vybereme kartu a vrátíme ji zpět. Kolikrát takový výběr musíme provést, aby pravděpodobnost, že aspoň jednou vybereme eso, byla větší než 0,9?

**Řešení.** Označme  $A_i$  jev „při  $i$ -tém výběru bylo vytaženo eso“. Neboť jednotlivé jevy  $A_i$  jsou (stochasticky) nezávislé, víme, že

$$P\left(\bigcup_{i=1}^n A_i\right) = 1 - (1 - P(A_1)) \cdot (1 - P(A_2)) \cdots (1 - P(A_n))$$

pro každé  $n \in \mathbb{N}$ . Připomeňme, že hledáme  $n \in \mathbb{N}$  takové, aby platilo

$$P\left(\bigcup_{i=1}^n A_i\right) = 1 - (1 - P(A_1)) \cdot (1 - P(A_2)) \cdots (1 - P(A_n)) > 0,9.$$

Zřejmě je  $P(A_i) = 1/10$  pro libovolné  $i \in \mathbb{N}$ . Proto stačí vyřešit nerovnici

$$1 - \left(\frac{9}{10}\right)^n > 0,9,$$

ze které lze vyjádřit

$$n > \frac{\log_a 0,1}{\log_a 0,9}, \quad \text{kde } a > 1.$$

Vyčíslením potom zjistíme, že daný pokus musíme provést alespoň dvaadvacetkrát.

□

**1.157. Texas hold'em.** Nyní spočítejme několik jednoduchých úloh týkajících se populární karetní hry Texas hold'em, jejíž pravidla zde nebudeme uvádět (pokud je čtenář nezná, snadno je dohledá na internetu). Jaká je pravděpodobnost, že

- i) jako startovní kominaci dostanu dvojici stejných symbolů?
- ii) ve své startovní dvojici karet budu mít eso?
- iii) na konci budu mít jednu z šesti nejlepších kombinací karet?
- iv) vyhraji, pokud držím v ruce eso a trojku (libovolné barvy), na flopu je eso a dve dvojky a na turnu je třetí trojka a všechny tyto čtyři karty mají různou barvu? (poslední karta river ještě není otočena)

### Řešení.

- i) Počet různých symbolů je 13 a jsou vždy čtyři (pro každou barvu jeden). Proto je počet dvojic se stejnými symboly  $13 \binom{4}{2} = 78$ . Počet všech možných dvojic je  $\binom{13 \cdot 4}{2} = 1326$ . Pravděpodobnost stejných symbolů je tedy  $\frac{1}{17} \doteq 0,06$ .
- ii) Jedna karta je eso, to jsou čtyři možnosti a druhá je libovolná, to je 51 možností. Dvojice s oběma esama, kterých je  $\binom{4}{2} = 6$  jsme ale takto započítali dvakrát. Dostáváme tedy  $4 \cdot 51 - 6 = 198$  dvojic a pravděpodobnost je  $\frac{198}{1326} \doteq 0,15$ .
- iii) Spočítáme pravděpodobnosti jednotlivých nejlepších kombinací:
 

ROYAL FLUSH: Takové kombinace jsou zřejmě jen čtyři - pro každou barvu jedna. Všechny kombinace pěti karet je  $\binom{52}{5} = 2598960$ . Pravděpodobnost je tak rovna asi  $1,5 \cdot 10^{-6}$ . Hodně malá :)

STRAIGHT FLUSH: Postupka, která končí nejvyšší kartou v rozmezí 6 až K, tj. 8 možností pro každou barvu. Dostáváme  $\frac{32}{2598960} \doteq 1,2 \cdot 10^{-5}$ .

POKER: Čtyři stejné symboly - 13 možností (pro každý symbol jedna). Pátá karta může být libovolná, to znamená 48 možností. Odtud:  $\frac{624}{2598960} \doteq 2,4 \cdot 10^{-4}$ .

FULL HOUSE: Tři stejné symboly  $13 \binom{4}{3} = 52$  možností a k tomu dva stejné symboly je  $12 \binom{4}{2} = 72$  možností. Pravděpodobnost je  $\frac{3744}{2598960} \doteq 1,4 \cdot 10^{-3}$ .

FLUSH: Všechny pět karet stejné barvy znamená  $4 \binom{13}{5} = 5148$  možností a pravděpodobnost je pak  $\frac{5148}{2598960} \doteq 2 \cdot 10^{-3}$ .

STRAIGHT: Nejvyšší karta postupky je v rozmezí 6 až A, tj. 9 možností. Barva každé karty je pak libovolná, tj. dohromady  $9 \cdot 4^5 = 9216$  možností. Zde jsme ale započítali jak straight flush, tak i royal flush. Ty je potřeba odečíst.

Pro zjištění pravděpodobnosti nějaké z šesti nejlepších kombinací to ale ani nemusíme dělat, jen první dvě kombinace nezapočteme. Celkově tedy dostáváme pravděpodobnost zhruba  $3,5 \cdot 10^{-3} + 2 \cdot 10^{-3} + 1,4 \cdot 10^{-3} + 2,4 \cdot 10^{-4} = 7,14 \cdot 10^{-3}$ .
- iv) Evidentně je situace hodně dobrá a proto bude lepší spočítat nepříznivé situace, tj. kdy bude mít soupeř lepší kombinaci. Já mám v tuto chvíli full house ze dvou es a tří dvojek. Jediná kombinace, která by mne mohla porazit v tuto chvíli je buď full house ze tří es a dvou dvojek nebo dvojkový poker. To znamená, že soupeř by určitě musel držet eso nebo poslední dvojku. Pokud drží dvojku a libovolnou jinou kartu, pak určitě vyhraje bez ohledu na kartu na riveru. Kolik je možností pro tuto kartu ke dvojce?  $3 + 4 + \dots + 4 + 2 = 45$  (jednu trojku a dvě esa už mít v ruce nemůže). Všechny zbylé kombinace je  $\binom{46}{2} = 1035$  a pravděpodobnost takové prohry je tak 0,043. Pokud drží v ruce eso, pak se může stát následující. Pokud drží

(zbylá) dvě esa, tak opět vyhraje, pokud na riveru nepřijde dvojka - pak by byl split poker. Pravděpodobnost (podmíněná) mé prohry je tedy  $\frac{1}{1035} \cdot \frac{43}{44} \doteq 10^{-3}$ . pokud drží soupeř v ruce eso a nějakou jinou kartu, než 2 a A, tak následuje remíza bez ohledu na river. Celková pravděpodobnost výhry je tak skoro 96 %.

□

**1.158.** Zjistěte pravděpodobnost, že při hodu dvěma kostkami padla alespoň na jedné kostce čtyřka, jestliže padl součet 7.

**Řešení.** Příklad řešíme pomocí klasické pravděpodobnosti, kdy podmínku interpretujeme jako zúžení pravděpodobnostního prostoru. Ten má vzhledem k podmínce tedy 6 prvků, z čehož právě 2 jsou příznivé vyšetřovanému jevu. Správná odpověď je  $2/6 = 1/3$ .

□

**1.159.** Hodíme dvěma kostkami. Určete podmíněnou pravděpodobnost, že na první kostce padla pětka za podmínky, že padl součet 9. Na základě tohoto výsledku rozhodněte o nezávislosti jevů „na první kostce padla pětka“ a „padl součet 9“.

**Řešení.** Označíme-li jev „na první kostce padla pětka“ jako  $A$  a jev „padl součet 9“ jako  $H$ , pak platí

$$P(A|H) = \frac{P(A \cap H)}{P(H)} = \frac{\frac{1}{36}}{\frac{4}{36}} = \frac{1}{4}.$$

Uvědomme si, že součet 9 můžeme získat tak, že na první kostce padne 3 a na druhé 6, na první 4 a na druhé 5, na první 5 a na druhé 4 nebo na první 6 a na druhé 3. Z těchto čtyř (stejně pravděpodobných) výsledků jevu  $A$  vyhovuje právě jeden. Protože pravděpodobnost jevu  $A$  je očividně  $1/6 \neq 1/4$ , nejsou uvedené jevy nezávislé.

□

**1.160.** Mějme balíček 32 karet. Vytáhneme-li dvakrát po jedné kartě, nalezněte pravděpodobnost, že druhá tažená karta bude eso, když první kartu vrátíme, a také tehdy, když ji do balíčku nevrátíme (druhou kartu potom vybíráme z balíčku 31 karet).

**Řešení.** Pokud kartu do balíčku vrátíme, zjevně opakujeme pokus, který má 32 možných (stejně pravděpodobných) výsledků, přičemž právě 4 z nich vyhovují námi uvažovanému jevu. Vidíme, že tomto případě je hledaná pravděpodobnost  $1/8$ . Ve druhém případě, kdy první kartu do balíčku nevrátíme, je ovšem hledaná pravděpodobnost stejná. Postačuje např. uvážit, že při vytažení postupně všech karet je pravděpodobnost vytažení esa jako první karty totožná s pravděpodobností, že druhá vytažená karta bude eso. Pochopitelně bylo možné využít toho, že máme zavedenu podmíněnou pravděpodobnost. Tak bychom mohli obdržet

$$\frac{4}{32} \cdot \frac{3}{31} + \frac{28}{32} \cdot \frac{4}{31} = \frac{1}{8}.$$

□

**1.161.** Uvažujme rodiny se dvěma dětmi a pro jednoduchost předpokládejme, že všechny možnosti v množině  $\Omega = \{kk, kh, hk, hh\}$ , kde  $k$  značí „kluk“ a  $h$  znamená „holka“ při zohlednění stáří dětí, jsou stejně pravděpodobné. Zavedme náhodné jevy

$$H_1 - \text{rodina má kluka}, \quad A_1 - \text{rodina má 2 kluky}.$$

Vypočtěte  $P(A_1|H_1)$ .

Podobně uvažujme rodiny se třemi dětmi, kdy je



$$\Omega = \{kkk, kkh, khk, hkk, khh, hkh, hkh, hhh\}.$$

Jestliže

$$H_2 - \text{rodina má kluka i holku}, \quad A_2 - \text{rodina má nejvýše jednu holku},$$

rozhodněte o nezávislosti náhodných jevů  $A_2$  a  $H_2$ .

**Řešení.** Uvážením, které ze čtyř prvků množiny  $\Omega$  (ne)vyhovují jevu  $A_1$ , resp.  $H_1$ , lehce získáváme

$$P(A_1|H_1) = \frac{P(A_1 \cap H_1)}{P(H_1)} = \frac{P(A_1)}{P(H_1)} = \frac{\frac{1}{4}}{\frac{3}{4}} = \frac{1}{3}.$$

Dále máme zjistit, zda platí

$$P(A_2 \cap H_2) = P(A_2) \cdot P(H_2).$$

Opět si stačí pouze uvědomit, že jevu  $A_2$  vyhovují právě prvky  $kkk, kkh, khk, hkk$  množiny  $\Omega$ , jevu  $H_2$  prvky  $kkh, khk, hkk, khh, hkh, hkh$  a jevu  $A_2 \cap H_2$  prvky  $kkh, khk, hkk$ . Odtud plyne

$$P(A_2 \cap H_2) = \frac{3}{8} = \frac{4}{8} \cdot \frac{6}{8} = P(A_2) \cdot P(H_2),$$

což znamená, že jevy  $A_2$  a  $H_2$  jsou nezávislé.  $\square$

**1.162.** Pětkrát jsme hodili mincí. Pokud padl líc, dali jsme do klobouku bílou kuličku. Když padl rub, dali jsme do téhož klobouku kuličku černou. Vyjádřete pravděpodobnost, že v klobouku je více černých kuliček než bílých, je-li v klobouku alespoň jedna černá kulička.

**Řešení.** Zavedme jevy

$A$  – v klobouku je víc černých kuliček než bílých,

$H$  – v klobouku je aspoň jedna černá kulička.

Chceme stanovit  $P(A|H)$ . Uvědomme si, že pravděpodobnost  $P(H^C)$  opačného jevu k jevu  $H$  je  $2^{-5}$  a že pravděpodobnost jevu  $A$  je stejná jako pravděpodobnost  $P(A^C)$  jevu opačného (v klobouku je víc bílých kuliček). Nutně tedy  $P(H) = 1 - 2^{-5}$ ,  $P(A) = 1/2$ . Dále je  $P(A \cap H) = P(A)$ , neboť jev  $H$  obsahuje jev  $A$  (jev  $A$  má za důsledek jev  $H$ ). Celkem jsme obdrželi

$$P(A|H) = \frac{P(A \cap H)}{P(H)} = \frac{\frac{1}{2}}{1 - \left(\frac{1}{2}\right)^5} = \frac{16}{31}.$$

$\square$

**1.163.** V osudí je 9 červených a 7 bílých koulí. Postupně vytáhneme 3 koule (bez vracení). Určete pravděpodobnost, že první dvě budou červené a třetí bílá.

**Řešení.** Příklad budeme řešit pomocí věty o násobení pravděpodobností. Nejprve požadujeme vytažení červené koule, což se podaří s pravděpodobností  $9/16$ . Pokud byla poprvé vytažena červená koule, při druhém tahu vytáhneme znovu červenou kouli s pravděpodobností  $8/15$  (v osudí je 15 koulí, z toho 8 červených). Konečně, pokud byla dvakrát vytažena červená koule, pravděpodobnost, že potom bude vytažena bílá, je  $7/14$  (v osudí je 7 bílých koulí a 7 červených koulí). Celkem dostáváme

$$\frac{9}{16} \cdot \frac{8}{15} \cdot \frac{7}{14} = 0,15.$$

$\square$

**1.164.** V osudí je 10 koulí, a to 5 černých a 5 bílých. Postupně budeme losovat po jedné kouli, přičemž vytaženou kouli nevrátíme zpět. Stanovte pravděpodobnost, že nejprve vytáhneme bílou, poté černou, pak bílou a v posledním čtvrtém tahu opět bílou kouli.

**Řešení.** Použijeme větu o násobení pravděpodobností. V prvním tahu vytáhneme bílou kouli s pravděpodobností  $5/10$ , poté černou s pravděpodobností  $5/9$ , následně bílou s pravděpodobností  $4/8$  a na závěr bílou s pravděpodobností  $3/7$ . Dohromady to dává

$$\frac{5}{10} \cdot \frac{5}{9} \cdot \frac{4}{8} \cdot \frac{3}{7} = \frac{5}{84}.$$

□

**1.165.** Z balíčku 32 karet náhodně vybereme šestkrát po sobě po jedné kartě, a to bez vracení. Spočítejte pravděpodobnost, že první král bude vybrán až při šestém výběru.

**Řešení.** Podle věty o násobení pravděpodobností je výsledek

$$\frac{28}{32} \cdot \frac{27}{31} \cdot \frac{26}{30} \cdot \frac{25}{29} \cdot \frac{24}{28} \cdot \frac{4}{27} \doteq 0,0723.$$

□

**1.166.** Jaká je pravděpodobnost, že součet dvou náhodně zvolených kladných čísel menších než 1 bude menší než  $3/7$ ?

**Řešení.** Je vidět, že jde o jednoduchý příklad na geometrickou pravděpodobnost, kdy jako základní prostor  $\Omega$  se nabízí čtverec s vrcholy  $[0, 0]$ ,  $[1, 0]$ ,  $[1, 1]$ ,  $[0, 1]$  (volíme dvě čísla mezi 0 a 1). Zajímá nás pravděpodobnost jevu udávajícího, že pro náhodně zvolený bod  $[x, y]$  v tomto čtverci bude platit  $x + y < 3/7$ ; tj. pravděpodobnost toho, že zvolený bod se bude nacházet uvnitř trojúhelníku  $A$  s vrcholy  $[0, 0]$ ,  $[3/7, 0]$ ,  $[0, 3/7]$ . Nyní již snadno vyčíslíme

$$P(A) = \frac{\text{vol } A}{\text{vol } \Omega} = \frac{\left(\frac{3}{7}\right)^2/2}{1} = \frac{9}{98}.$$

□

**1.167.** Nechť je náhodně rozlomena tyč na tři části. Stanovte pravděpodobnost, že délka druhé (prostřední) části bude větší než dvě třetiny délky tyče před jejím rozlomením.

**Řešení.** Nejprve si označme délku uvažované tyče jako  $d$ . Rozlomení tyče ve dvou místech je dáno volbou bodů, kde ji zlomíme. Označme jako  $x$  bod, ve kterém je první (např. blíže nějakému předmětu) zlom, a jako  $x + y$  bod, ve kterém je druhý zlom. To nám říká, že za základní prostor lze považovat množinu  $\{[x, y]; x \in (0, d), y \in (0, d - x)\}$ , tj. trojúhelník s vrcholy v bodech  $[0, 0]$ ,  $[d, 0]$ ,  $[0, d]$ . Délka prostřední části je dána hodnotou  $y$ . Požadavek ze zadání lze nyní zapsat v jednoduchém tvaru  $y > 2d/3$ , což odpovídá trojúhelníku s vrcholy  $[0, 2d/3]$ ,  $[d/3, 2d/3]$ ,  $[0, d]$ . Obsahy uvažovaných pravoúhlých rovnoramenných trojúhelníků jsou  $d^2/2$  a  $(d/3)^2/2$ , a proto je hledaná pravděpodobnost

$$\frac{\frac{d^2}{3^2 \cdot 2}}{\frac{d^2}{2}} = \frac{1}{9}.$$

□

**1.168.** Tyč o délce 2 m je náhodně rozřezána na tři části. Nalezněte pravděpodobnost jevu, že třetí část měří méně než 1,5 m.

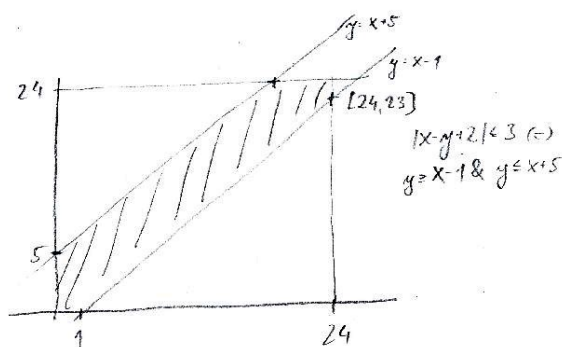
**Řešení.** Tento příklad je na užití geometrické pravděpodobnosti, kdy hledáme pravděpodobnost toho, že součet délek prvních dvou částí je větší než čtvrtina délky tyče. Určeme pravděpodobnost opačného jevu, tj. pravděpodobnost, když budou náhodně (a nezávisle na sobě) zvolena dvě místa, ve kterých bude tyč rozřezána, že budou obě v první čtvrtině tyče. Pravděpodobnost tohoto jevu je  $1/4^2$ , neboť pravděpodobnost výběru místa v první čtvrtině tyče je zřejmě  $1/4$  a tento výběr se (nezávisle) jednou opakuje. Pravděpodobnost hledaného (opačného) jevu je tak  $15/16$ .  $\square$

**1.169.** Mirek a Marek chodí na obědy do univerzitní menzy. Menza má otevřeno od 11h do 14h. Každý z nich stráví na obědě půl hodiny a dobu příchodu (mezi 11h a 14h) si vybírá náhodně. Jaká je pravděpodobnost, že se na obědě v daný den potkají, sedávají-li oba u stejného stolu?

**Řešení.** Prostor všech možných jevů je čtverec  $3 \times 3$ . Označíme-li  $x$  dobu příchodu Mirka a  $y$  dobu příchodu Marka, tak tito se potkají, právě když  $|x - y| \leq 1/2$ . Tato nerovnost vymezuje ve čtverci možných událostí oblast, jejíž obsah je roven  $11/36$  obsahu čtverce. Tomuto zlomku je tedy rovna i hledaná pravděpodobnost.  $\square$

**1.170.** Z Brna vyrazí náhodně někdy mezi polednem a čtvrtou hodinou odpolední Honza autem do Prahy a opačným směrem někdy ve stejném intervalu autem Martin. Oba si dávají půl hodiny pauzu v motorestu v polovině cesty (přístupném pro oba směry). Jaká je pravděpodobnost, že se tam potkají, jezdí-li Honza rychlostí 150 km/h a Martin 100 km/h? (Vzdálenost Brno-Praha je 200 km)

**Řešení.** Označíme-li dobu odjezdu Martina  $x$  a dobu odjezdu Honzy  $y$  a pro menší výskyt zlomků v následujících výpočtech zvolíme za jednotku deset minut, tak stavovým prostorem bude čtverec  $24 \times 24$ . Doba příjezdu Martina do motorestu je  $x + 6$ , do příjezdu Honzy  $x + 4$ . Stejně jako v předchozím příkladu to, že se v motorestu potkají, je ekvivalentní tomu, že doby jejich příjezdu se neliší o více než o půl hodiny, tedy  $|(x + 6) - (y + 4)| \leq 3$ . Tato podmínka nám pak ve stavovém čtverci vymezuje oblast o obsahu  $24^2 - \frac{1}{2}(23^2 + 19^2)$  (viz obr.) a hledaná pravděpodobnost je

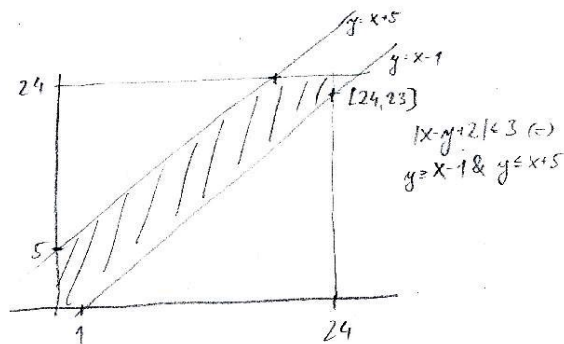


$$p = \frac{24^2 - \frac{1}{2}(23^2 + 19^2)}{24^2} = \frac{131}{576} \doteq 0,227.$$

$\square$

**1.171.** Mirek vyjede náhodně mezi desátou hodinou dopolední a osmou hodinou večerní z Brna do Prahy. Marek vyjede náhodně ve stejném intervalu z Prahy do Brna. Oběma trvá cesta 2 hodiny. Jaká je pravděpodobnost, že se po cestě potkají (jezdí po stejné trase)?

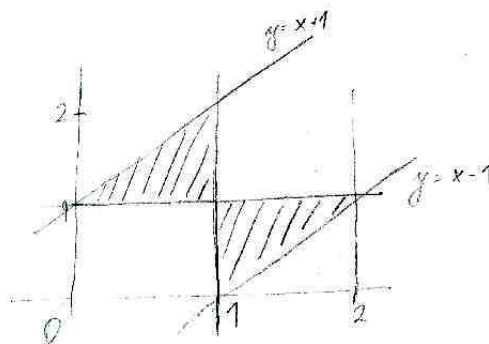
**Řešení.** Řešíme naprosto analogicky jako v předchozím příkladě. Prostor všech možných jevů je čtverec  $10 \times 10$ , Mirek, vyjíždějící v čase  $x$ , potká Marka, vyjíždějícího v čase  $y$  právě když  $|x - y| \leq 2$ . Hledaná pravděpodobnost je  $p = \frac{36}{100} = \frac{9}{25} = 0,36$ .



□

**1.172.** Dvoumetrová tyč je náhodně rozdělena na tři díly. Určete pravděpodobnost, že ze vzniklých dílů půjde sestavit trojúhelník.

**Řešení.** Rozdělení tyče je dáno stejně jako v předchozím příkladě body řezu  $x$  a  $y$  a jevovým prostorem je opět čtverec  $2 \times 2$ . Aby z částí bylo možno sestavit trojúhelník, musejí jejich délky splňovat tzv. trojúhelníkové nerovnosti, tedy součet délek libovolných dvou částí musí být větší než délka třetí části. Vzhledem k tomu, že součet délek je roven 2 m, je tato podmínka ekvivalentní podmínce, že každá s částí musí být menší než 1 m. To pomocí řezů  $x$  a  $y$  vyjádříme tak, že nesmí platit současně  $x \leq 1$  a  $y \leq 1$  nebo současně  $x \geq 1$  a  $y \geq 1$  (odpovídá podmínkám, že krajní díly tyče jsou menší než 1), navíc  $|x - y| \leq 1$  (prostřední díl musí být menší než jedna). Tyto podmínky splňuje vyšrafovaná oblast na obrázku a jak snadno nahlédneme, její obsah je  $1/4$ .



□

**1.173.** Je rovnice

- (a)  $4x_1 - \sqrt{3}x_2 = 3,$   
 $x_1 - 2\sqrt{7}x_2 = -2;$
- (b)  $4x_1 - \sqrt{3}x_2 = 16,$   
 $x_1 - 2\sqrt{7}x_2 = -7;$
- (c)  $4x_1 + 2x_2 = 7,$   
 $-2x_1 - x_2 = -3$

jednoznačně řešitelná (má právě 1 řešení)?

**Řešení.** Soustava lineárních rovnic je jednoznačně řešitelná právě tehdy, když je nenulový determinant matice určené koeficienty na levé straně soustavy. Zvláště řečeno, absolutní členy (čísla na pravé straně) neovlivňují jednoznačnost řešení soustavy. Musíme tedy ve variantách (a) a (b) dostat stejnou odpověď. Protože

$$\begin{vmatrix} 4 & -\sqrt{3} \\ 1 & -2\sqrt{7} \end{vmatrix} = 4 \cdot (-2\sqrt{7}) - (-\sqrt{3} \cdot 1) \neq 0,$$

$$\begin{vmatrix} 4 & 2 \\ -2 & -1 \end{vmatrix} = 4 \cdot (-1) - (2 \cdot (-2)) = 0,$$

mají soustavy ve variantách (a) a (b) právě 1 řešení a poslední soustava nikoliv. Vynásobíme-li druhou rovnici v (c) číslem  $-2$ , vidíme, že tato soustava nemá řešení.  $\square$

**1.174.** Vypočítejte obsah  $S$  čtyřúhelníku zadaného vrcholy

$$[0, -2], \quad [-1, 1], \quad [1, 5], \quad [1, -1].$$

**Řešení.** Při obvyklém označení vrcholů

$$A = [0, -2], \quad B = [1, -1], \quad C = [1, 5], \quad D = [-1, 1]$$

a neméně obvyklém rozdělení čtyřúhelníku na trojúhelníky  $ABC$  a  $ACD$  s obsahy  $S_1$  a  $S_2$ , dostáváme

$$S = S_1 + S_2 = \frac{1}{2} \begin{vmatrix} 1-0 & 1-0 \\ -1+2 & 5+2 \end{vmatrix} + \frac{1}{2} \begin{vmatrix} 1-0 & -1-0 \\ 5+2 & 1+2 \end{vmatrix} = \frac{1}{2}(7-1) + \frac{1}{2}(3+7) = 8.$$

$\square$

**1.175.** Určete obsah čtyřúhelníka  $ABCD$  s vrcholy  $A = [1, 0]$ ,  $B = [11, 13]$ ,  $C = [2, 5]$  a  $D = [-2, -5]$ .

**Řešení.** Čtyřúhelník rozdělíme na dva trojúhelníky  $ABC$  a  $ACD$ . Jejich obsahy pak spočítáme pomocí patřičných determinantů, viz 1.34,

$$S = \frac{1}{2} \begin{vmatrix} 1 & 5 \\ 10 & 13 \end{vmatrix} + \frac{1}{2} \begin{vmatrix} 1 & 5 \\ -3 & -5 \end{vmatrix} = \frac{47}{2}.$$

$\square$

**1.176.** Spočítejte obsah rovnoběžníku s vrcholy v bodech  $[5, 5]$ ,  $[6, 8]$  a  $[6, 9]$ .

**Řešení.** Přestože takový rovnoběžník není zadán jednoznačně (není uveden čtvrtý vrchol), trojúhelník s vrcholy  $[5, 5]$ ,  $[6, 8]$  a  $[6, 9]$  musí být nutně polovinou každého rovnoběžníku s těmito třemi vrcholy (jedna ze stran trojúhelníku se stane úhlopříčkou rovnoběžníku). Proto je hledaný obsah vždy roven determinantu

$$\begin{vmatrix} 6-5 & 6-5 \\ 8-5 & 9-5 \end{vmatrix} = \begin{vmatrix} 1 & 1 \\ 3 & 4 \end{vmatrix} = 1 \cdot 4 - 1 \cdot 3 = 1.$$

$\square$

**1.177.** Výčtem prvků zadejte  $S \circ R$ , je-li

$$R = \{(2, 4), (4, 4), (4, 5)\} \subset \mathbb{N} \times \mathbb{N},$$

$$S = \{(3, 1), (3, 2), (3, 5), (4, 1), (4, 4)\} \subset \mathbb{N} \times \mathbb{N}.$$

**Řešení.** Uvážení všech výběrů dvou uspořádaných dvojic

$$(2, 4), (4, 1); \quad (2, 4), (4, 4); \quad (4, 4), (4, 1); \quad (4, 4), (4, 4)$$

splňujících, že druhá složka první uspořádané dvojice, která je prvkem  $R$ , je rovna první složce druhé uspořádané dvojice, která je prvkem  $S$ , dostáváme

$$S \circ R = \{(2, 1), (2, 4), (4, 1), (4, 4)\}.$$

□

**1.178.** Nechť je dána binární relace

$$R = \{(0, 4), (-3, 0), (5, \pi), (5, 2), (0, 2)\}$$

mezi množinami  $A = \mathbb{Z}$  a  $B = \mathbb{R}$ . Vyjádřete  $R^{-1}$  a  $R \circ R^{-1}$ .

**Řešení.** Ihned vidíme, že

$$R^{-1} = \{(4, 0), (0, -3), (\pi, 5), (2, 5), (2, 0)\}.$$

Odtud pak dále

$$R \circ R^{-1} = \{(4, 4), (0, 0), (\pi, \pi), (2, 2), (4, 2), (\pi, 2), (2, \pi), (2, 4)\}.$$

□

**1.179.** Rozhodněte, zda je relace  $R$  určená podmínkou

$$(a) \quad (a, b) \in R \iff |a| < |b|;$$

$$(b) \quad (a, b) \in R \iff |a| = |2b|$$

na množině celých čísel  $\mathbb{Z}$  tranzitivní.

**Řešení.** V prvním případě relace  $R$  tranzitivní je, protože platí

$$|a| < |b|, |b| < |c| \implies |a| < |c|.$$

Ve druhém případě relace  $R$  tranzitivní není. Stačí např. uvážít, že

$$(4, 2), (2, 1) \in R, \quad (4, 1) \notin R.$$

□

**1.180.** Najděte všechny relace na  $M = \{1, 2\}$ , které nejsou antisymetrické. Které z nich jsou tranzitivní?

**Řešení.** Hledané relace, jež nejsou antisymetrické, jsou čtyři. Jsou to právě ty podmnožiny  $\{1, 2\} \times \{1, 2\}$ , které obsahují prvky  $(1, 2), (2, 1)$  (jinak nemůže být podmínka antisymetrie porušena). Z těchto čtyř je tranzitivní pouze jediná relace

$$\{(1, 1), (1, 2), (2, 1), (2, 2)\} = M \times M,$$

protože nezahrnutí dvojic  $(1, 1)$  a  $(2, 2)$  do tranzitivní relace by znamenalo, že nemůže obsahovat zároveň  $(1, 2)$  a  $(2, 1)$ .

□

**1.181.** Existuje relace ekvivalence, která je současně relací uspořádání, na množině všech přímek v rovině?

**Řešení.** Relace ekvivalence (příp. relace uspořádání) musí být reflexivní, a proto každá přímka musí být v relaci sama se sebou. Dále požadujeme, aby hledaná relace byla symetrická (ekvivalence) a zároveň antisymetrická (uspořádání). To dává, že přímka může být v relaci pouze sama se sebou. Zavedeme-li ovšem relaci tak, že dvě přímky jsou v relaci právě tehdy, když jsou totožné, dostaneme „velmi přirozenou“ relaci ekvivalence i relací uspořádání. Stačí si uvědomit, že je triviálně tranzitivní. Hledanou relací je právě identické zobrazení množiny všech přímek v rovině.  $\square$

**1.182.** Určete, zda je relace

$$R = \{(k, l) \in \mathbb{Z} \times \mathbb{Z}; |k| \geq |l|\}$$

na množině  $\mathbb{Z}$  ekvivalence, uspořádání.

**Řešení.** Relace  $R$  není ekvivalencí: není symetrická (kupř.  $(6, 2) \in R$ ,  $(2, 6) \notin R$ ); není uspořádáním: není antisymetrická (mj.  $(2, -2) \in R$ ,  $(-2, 2) \in R$ ).  $\square$

**1.183.** Ukažte, že průnik libovolných relací ekvivalence na libovolně dané množině  $X$  je rovněž relace ekvivalence a že sjednocení dvou relací uspořádání na  $X$  nemusí být relace uspořádání.

**Řešení.** Postupně uvidíme, že průnik relací ekvivalence je reflexivní, symetrický a tranzitivní. Všechny relace ekvivalence na  $X$  musí obsahovat dvojici  $(x, x)$  pro každé  $x \in X$ , a proto ji musí obsahovat také daný průnik. Pokud v průniku ekvivalencí je prvek  $(x, y)$ , musí v něm být rovněž prvek  $(y, x)$  (stačí využít toho, že každá ekvivalence je symetrická). To, že do průniku ekvivalencí náleží prvky  $(x, y)$  a  $(y, z)$ , znamená, že se jedná o prvky každé z ekvivalencí. Z tranzitivnosti všech jednotlivých ekvivalencí již vyplývá, že do průniku náleží také prvek  $(x, z)$ .

Zvolíme-li  $X = \{1, 2\}$  a relace uspořádání

$$R_1 = \{(1, 1), (2, 2), (1, 2)\}, \quad R_2 = \{(1, 1), (2, 2), (2, 1)\}$$

na  $X$ , dostáváme relaci

$$R_1 \cup R_2 = \{(1, 1), (2, 2), (1, 2), (2, 1)\},$$

která zřejmě není antisymetrická, a tedy ani uspořádáním.  $\square$

**1.184.** Na množině  $M = \{1, 2, \dots, 19, 20\}$  je zavedena relace ekvivalence  $\sim$  tak, že  $a \sim b$  pro libovolná  $a, b \in M$  právě tehdy, když první cifry čísel  $a, b$  jsou stejné. Sestrojte rozklad daný touto ekvivalencí.

**Řešení.** Dvě čísla z množiny  $M$  jsou ve stejné třídě ekvivalence, právě když jsou spolu v relaci (první cifra je stejná). Rozklad jí určený se tedy skládá z množin

$$\{1, 10, 11, \dots, 18, 19\}, \{2, 20\}, \{3\}, \{4\}, \{5\}, \{6\}, \{7\}, \{8\}, \{9\}.$$

$\square$

**1.185.** Je dán rozklad se dvěma třídami  $\{b, c\}, \{a, d, e\}$  množiny  $X = \{a, b, c, d, e\}$ . Napište relaci ekvivalence  $R$  na množině  $X$  příslušnou tomuto rozkladu.

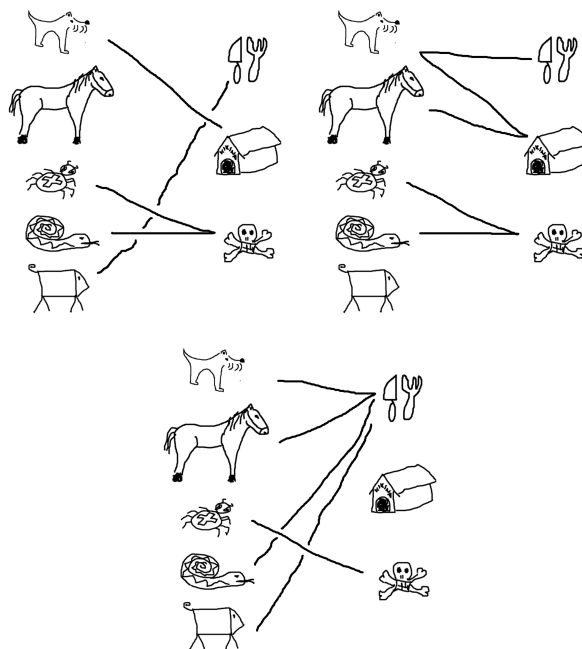
**Řešení.** Ekvivalence  $R$  je určena tím, že v relaci jsou spolu ty prvky, které jsou ve stejné třídě rozkladu, a to v obou pořadích ( $R$  musí být symetrická) a každý sám se sebou ( $R$  musí být reflexivní). Proto  $R$  obsahuje právě



$(a, a), (b, b), (c, c), (d, d), (e, e),$   
 $(b, c), (c, b), (a, d), (a, e), (d, a), (d, e), (e, a), (e, d).$

□

**1.186.** Na následujících třech obrázcích jsou ikony spojeny čarami tak, jak by je možná přiřadili lidé v různých částech světa. Určete, zda jde o zobrazení, zda je injektivní, surjektivní nebo bijektivní.



**Řešení.** V prvním případě jde o zobrazení, které je surjektivní, ale není injektivní, protože had i pavouk jsou označeni jako jedovatí. Druhý případ není zobrazení ale jen relace, protože pes je určen jako domácí zvíře i na jídlo. V třetím případě máme opět zobrazení. Tentokrát není ani injektivní, ani surjektivní. □

**1.187.** Mějme množinu  $\{a, b, c, d\}$  a na ní relaci

$\{(a, a), (b, b), (a, b), (b, c), (c, b)\}.$

Jaké členy je potřeba minimálně doplnit do této relace, aby to byla ekvivalence?

**Řešení.** Postupně projdeme všechny tři vlastnosti, které definují ekvivalenci. Za prvé je to reflexivita. Musíme tedy doplnit dvojice  $\{(c, c), (d, d)\}$ . Za druhé symetrie –musíme doplnit  $(b, a)$  a za třetí musíme udělat tzv. tranzitivní obal. Protože je  $a$  v relaci s  $b$  a  $b$  v relaci s  $c$ , musí být i  $a$  v relaci s  $c$ . Nakonec tedy potřebujeme přidat  $(a, c)$  a  $(c, a)$ . □

**1.188.** Uvažme množinu čísel, které mají pět cifer ve dvojkovém zápisu a relaci takovou, že dvě čísla jsou v relaci, právě když jejich ciferný součet má stejnou paritu. Napište příslušné třídy ekvivalence.

**Řešení.** Dostáváme dvě třídy ekvivalence (o osmi členech):

$[10000] = \{10000, 10011, 10101, 10110, 11001, 11010, 11100, 11111\}$

odpovídá množině {16, 19, 21, 22, 25, 26, 28, 31} a

$$[10001] = \{10001, 10010, 10100, 11000, 10111, 11011, 11101, 11110\}$$

odpovídá množině {17, 18, 20, 24, 23, 27, 29, 30}. □

**1.189.** Uvažme množinu čísel, které mají tři cifry ve trojkové soustavě a relaci takovou, že dvě čísla jsou v relaci, právě když v této soustavě

- i) začínají stejným dvojčíslem.
- ii) končí stejným dvojčíslem.

Napište příslušné třídy ekvivalence.

**Řešení.**

- i) Dostáváme šest tříprvkových tříd

$$[100] = \{100, 101, 102\} \text{ odpovídá } \{9, 10, 11\}$$

$$[110] = \{110, 111, 112\} \text{ odpovídá } \{12, 13, 14\}$$

$$[120] = \{120, 121, 122\} \text{ odpovídá } \{15, 16, 17\}$$

$$[200] = \{200, 201, 202\} \text{ odpovídá } \{18, 19, 20\}$$

$$[210] = \{210, 211, 212\} \text{ odpovídá } \{21, 22, 23\}$$

$$[220] = \{220, 221, 222\} \text{ odpovídá } \{24, 25, 26\}$$

- ii) V tomto případě máme devět dvouprvkových tříd

$$[100] = \{100, 200\} \text{ odpovídá } \{9, 18\}$$

$$[101] = \{101, 201\} \text{ odpovídá } \{10, 19\}$$

$$[102] = \{102, 202\} \text{ odpovídá } \{11, 20\}$$

$$[110] = \{110, 210\} \text{ odpovídá } \{12, 21\}$$

$$[111] = \{111, 211\} \text{ odpovídá } \{13, 22\}$$

$$[112] = \{112, 212\} \text{ odpovídá } \{14, 23\}$$

$$[120] = \{120, 220\} \text{ odpovídá } \{15, 24\}$$

$$[121] = \{121, 221\} \text{ odpovídá } \{16, 25\}$$

$$[122] = \{122, 222\} \text{ odpovídá } \{17, 26\}$$

□

**1.190.** Pro jaký maximální definiční obor  $D$  a obor hodnot  $H$  je zobrazení bijektivní a jaká je v tom případě inverzní funkce?

i)  $x \mapsto x^4$

ii)  $x \mapsto x^3$

iii)  $x \mapsto \frac{1}{x+1}$

**Řešení.**

i)  $D = [0, \infty)$  a  $H = [0, \infty)$  nebo také  $D = (-\infty, 0]$  a  $H = [0, \infty)$ . Inverzní funkce je  $x \mapsto \sqrt[4]{x}$ .

ii)  $D = H = \mathbb{R}$  a inverze je  $x \mapsto \sqrt[3]{x}$ .

iii)  $D = \mathbb{R} \setminus \{-1\}$  a  $H = \mathbb{R} \setminus \{0\}$ . Inverzní funkce je  $x \mapsto \frac{1}{x} - 1$ .

□

**1.191.** Uvažme relaci na  $\mathbb{R} \times \mathbb{R}$ . Bod je v relaci, pokud pro něj platí

$$(x - 1)^2 + (y + 1)^2 = 1$$

Můžeme body popsat pomocí funkce  $y = f(x)$ ? Nakreslete obrázek bodů v relaci.

**Řešení.** Nemůžeme, protože např.  $y = -1$  má dva vzory:  $x = 0$  a  $x = 2$ . Body leží na kružnici se středem v bodě  $(1, -1)$  s poloměrem 1. □

## Řešení cvičení

1.14.

- i)  $1 - 3 - 2i + 4i = -2 + 2i$ ,  $1 \cdot (-3) - 8i^2 + 6i + 4i = 5 + 10i$ ,  $1 + 2i$ ,  $\sqrt{4^2 + (-3)^2} = 5$ ,  
 $\frac{z_1}{z_2} = \frac{z_1 \bar{z}_2}{|z_2|^2} = 1 \cdot (-3) + 8i^2 + 6i - 4i \cdot 25 = -\frac{11}{25} + \frac{2}{25}i$ .
- ii)  $2 + i$ ,  $2i$ ,  $2$ ,  $1$ ,  $\frac{2}{i} = -2i$ .

1.38.  $y_n = 2\left(\frac{3}{2}\right)^n - 2$ .

1.49. Jedná se o známý problém permutací s pevnými body.

- i) Pokud šest lidí dostane ten svůj, tak zákonitě i ten šestý. pravděpodobnost je tedy nulová.
- ii) Nechť  $M$  je množina všech uspořádání a jev  $A_i$  je uspořádání, kdy  $i$ -tý hráč dostane svůj krígl. Chceme spočítat  $|M - \cup_i A_i|$ . Dostáváme  $7! \sum_{k=0}^7 \frac{(-1)^k}{k!} = 1854$ . A pravděpodobnost je  $\frac{1854}{5040} = \frac{103}{280} \doteq 0,37$ .
- iii) Vybereme, kteří tři dostanou ten svůj -  $\binom{7}{3} = 35$  možností. Zbylí čtyři musí dostat jiné než svoje. To je opět vzorec z minulého bodu, konkrétně jde o  $4! \sum_{k=0}^4 \frac{(-1)^k}{k!} = 9$  možností. Máme tedy dohromady  $9 \cdot 35 = 315$  možností a pravděpodobnost je  $\frac{315}{5040} = \frac{1}{16}$ .

1.99.

- i)  $(3, 3)$ ,  $(4, 4)$ ,  $(5, 5)$ ,  $(6, 6)$ ,  $(7, 7)$ ,  $(3, 6)$  ověřte, že jde o relaci uspořádání
- ii) opět  $(i, i)$  pro  $i = 1, \dots, 7$  a k tomu  $(3, 6)$ ,  $(6, 3)$  ověřte, že jde o relaci ekvivalence
- iii)  $(i, i)$  pro  $i = 1, \dots, 7$  a k tomu  $(3, 6)$ ,  $(6, 3)$ ,  $(4, 6)$ ,  $(6, 4)$  ověřte, že nejde o relaci ekvivalence, protože není splněna tranzitivita.

1.111. Tři různé Hasseovy diagramy vyhovujících uspořádání. Celkem  $5! + 5! + 5!/4 = 270$ .1.118. Relace uvedených vlastností je relací ekvivalence na nějaké podmnožině množiny  $\{1, 2, 3, 4\}$ . Celkem  $1 + 4 \cdot 1 + \binom{4}{2} \cdot 2 + \binom{4}{3} \cdot 5 + 15 = 52$ .

1.119. 19.

1.120. 87.

1.136.

- i)  $2^6 = 64$
- ii)  $\binom{6}{4} = 15$
- iii) Žádná panna je jedna možnost  $\binom{6}{0} = 1$ , jedna panna  $\binom{6}{1} = 6$  možností. Posloupností s nejvýše jednou pannou je teda jen 7 a proto posloupností, kde jsou aspoň dvě panny je  $64 - 7 = 57$ .

1.145. Maximální počet  $y_n$  částí, na které rozdělí  $n$  kružnic rovinu, je  $y_n = y_{n-1} + 2(n-1)$ ,  $y_1 = 2$ , tedy  $y_n = n^2 - n + 2$ .Pro maximální počet  $p_n$  částí, na které potom rozdělí  $n$  koulí prostor, pak dostáváme rekurentní vztah  $p_{n+1} = p_n + y_n$ ,  $p_1 = 2$ , tedy celkem  $p_n = \frac{n}{3}(n^2 - 3n + 8)$ .

## Elementární lineární algebra

*neumíte ještě počítat se skaláry?  
– zkusme to rovnou s maticemi...*

V minulé kapitole jsme se snad rozešli s relativně jednoduchými úlohami, k jejichž řešení nebylo potřeba složitých nástrojů. Vystačili jsme si přitom se sčítáním a násobením skalárů. V této a dalších kapitolách se postupně budeme věnovat jednotlivým tématům související.

Hned tři kapitoly budou věnovány nástrojům pro práci s daty, kdy operace spočívají v obzvlášť jednoduchých úkonech se skaláry, jen je těch skalárů povíce naráz. Hovoříme o „lineárních objektech“ a „lineární algebře“. Jakkoliv to teď může vypadat jako hodně speciální nástroj, uvidíme později, že složitější objekty a závislosti stejně studujeme hlavně pomocí jejich „lineárních přiblížení“.

V této kapitole budeme pracovat přímo s konečnými posloupnostmi skalárů. Takové se objevují v praktických úlohách všude, kde máme objekty popisované pomocí několika parametrů. Nedělejme si přitom problémy s představou, jak vypadá prostor s více než třemi „souřadnicemi“. Smiřme se se skutečností, že malovat si budeme umět jednu, dvě nebo tři dimenze, ale představovat ty obrázky mohou jakýkoliv jiný počet. A když budeme sledovat jakýkoliv parametr u třeba 500 studentů (např. jejich studijní výsledky), budou naše data mít hned zrovna několikrát 500 položek a budeme s nimi chtít pracovat. Naším cílem bude vytvořit nástroje, které budou dobře fungovat nezávisle na skutečném počtu těchto položek.



Také se neděsme slovních spojení jako pole či okruh skalárů  $\mathbb{K}$ . Prostě si můžeme představit jakýkoliv konkrétní číselný obor. Okruhy skalárů pak zahrnují i celá čísla  $\mathbb{Z}$  a všechny zbytkové třídy, zatímco mezi poli jsou pouze  $\mathbb{R}$ ,  $\mathbb{Q}$ ,  $\mathbb{C}$  a zbytkové třídy  $\mathbb{Z}_k$  s prvočíselným  $k$ . Zvláštní je mezi nimi  $\mathbb{Z}_2$ , kde ze vztahu  $x = -x$  nemůžeme usoudit, že  $x = 0$ , zatímco u všech ostatních číselných oborů tomu tak je.



### 1. Vektory a matice

Většinou se o vektorech hovoří pouze ve spojení s poli skalárů, protože obecná teorie je při existenci neinvertibilních nenulových skalárů nesrovnatelně složitější. Jen v prvních dvou částech této kapitoly budeme pracovat s vektory a maticemi v kontextu konečných posloupností skalárů a tam bude

### A. Soustavy lineárních rovnic

Na vektorové prostory půjdeme od lesa. Začneme s něčím známým, totiž soustavami lineárních rovnic. I za nimi jsou totiž skryty vektorové prostory.

**2.1. A teď vám to pěkně natřeme.** Firma zabývající se velkoplošnými nátěry si objednala 810 litrů barvy, která má obsahovat stejné množství červené, zelené a modré barvy (tj. 810 litrů černé barvy). Obchod může splnit tuto zakázku smícháním běžně prodávaných barev (má skladem jejich dostatečné zásoby), a to

- načervenalé barvy – obsahuje 50 % červené, 25 % zelené a 25 % modré barvy;
- nazelenalé barvy – obsahuje 12,5 % červené, 75 % zelené a 12,5 % modré barvy;
- namodralé barvy – obsahuje 20 % červené, 20 % zelené a 60 % modré barvy.

Kolik litrů od každé z uskladněných barev se musí smíchat, aby byly splněny požadavky zákazníka?

**Řešení.** Označme jako

- $x$  – množství (v litrech) načervenalé barvy, které se použije;
- $y$  – množství (v litrech) nazelenalé barvy, které se použije;
- $z$  – množství (v litrech) namodralé barvy, které se použije.

Smícháním barev chceme získat barvu, která bude obsahovat 270 litrů červené barvy. Uvědomme si, že načervenalá barva obsahuje 50 % červené, nazelenalá obsahuje 12,5 % červené a namodralá 20 % červené barvy. Musí tudíž platit

$$0,5x + 0,125y + 0,2z = 270.$$

Analogicky požadujeme (pro zelenou a modrou barvu)

$$0,25x + 0,75y + 0,2z = 270,$$

$$0,25x + 0,125y + 0,6z = 270.$$

Nyní můžeme postupovat dvěma způsoby. Buď budeme postupně vyjadřovat proměnné pomocí ostatních (z první rovnice je  $x = 540 - 0,25y - 0,4z$ , dosadíme za  $x$  do druhé a třetí rovnice a dostaneme dvě lineární rovnice o dvou neznámých  $2,75y + 0,4z = 540$  a  $0,25y + 2z = 540$ . Ze druhé rovnice vyjádříme  $z = 270 - 0,125y$  a dosazením do první dostáváme  $2,7y = 432$ , neboli  $y = 160$ , odkud  $z = 270 - 0,125 \cdot 160 = 250$  a  $x = 540 - 0,25 \cdot 160 + 0,4 \cdot 250 = 400$ .

Druhým způsobem je zapsat si soustavu do matice, jejíž první řádek bude tvořen koeficienty u neznámých v první rovnici, druhý koeficienty ve druhé rovnici a třetí ve třetí. Je tedy *matice soustavy*

$$\begin{pmatrix} 0,5 & 0,125 & 0,2 \\ 0,25 & 0,75 & 0,2 \\ 0,25 & 0,125 & 0,6 \end{pmatrix},$$

rozšířenou matici soustavy potom získáme z matice soustavy připsáním sloupce pravých stran jednotlivých rovnic v systému:

$$\left( \begin{array}{ccc|c} 0,5 & 0,125 & 0,2 & 270 \\ 0,25 & 0,75 & 0,2 & 270 \\ 0,25 & 0,125 & 0,6 & 270 \end{array} \right)$$

Jejím postupným upravováním pomocí tzv. elementárních řádkových úprav (odpovídají ekvivalentním úpravám rovnic, více viz 2.7) pak dostáváme:

$$\left( \begin{array}{ccc|c} 0,5 & 0,125 & 0,2 & 270 \\ 0,25 & 0,75 & 0,2 & 270 \\ 0,25 & 0,125 & 0,6 & 270 \end{array} \right) \sim \left( \begin{array}{ccc|c} 1 & 0,25 & 0,4 & 540 \\ 1 & 3 & 0,8 & 1080 \\ 1 & 0,5 & 2,4 & 1080 \end{array} \right) \sim$$

$$\left( \begin{array}{ccc|c} 1 & 0,25 & 0,4 & 540 \\ 0 & 2,75 & 0,4 & 540 \\ 0 & 0,25 & 2 & 540 \end{array} \right) \sim \left( \begin{array}{ccc|c} 1 & 0,25 & 0,4 & 540 \\ 0 & 11 & 1,6 & 2160 \\ 0 & 1 & 8 & 2160 \end{array} \right) \sim$$

$$\left( \begin{array}{ccc|c} 1 & 0,25 & 0,4 & 540 \\ 0 & 1 & 8 & 2160 \\ 0 & 11 & 1,6 & 2160 \end{array} \right) \sim \left( \begin{array}{ccc|c} 1 & 0,25 & 0,4 & 540 \\ 0 & 1 & 8 & 2160 \\ 0 & 0 & -86,4 & -21600 \end{array} \right).$$

A opět zpětně vypočítáme

$$z = \frac{-21600}{-86,4} = 250,$$

$$y = 2160 - 8 \cdot 250 = 160,$$

$$x = 540 - 0,4 \cdot 250 - 0,25 \cdot 160 = 400.$$

Je tedy potřeba smísit po řadě 400 l, 160 l, 250 l uvedených barev.

zajímavé si i třeba případu celých čísel povšimnout. Bude přitom snad pěkně vidět, jak silné výsledky lze důsledným formálním uvažováním odvodit.

2.1

**2.1. Vektory nad skaláry.** Prozatím budeme *vektorem* rozumět uspořádanou  $n$ -tici skalárů z  $\mathbb{K}$ , kde



pevně zvolené  $n \in \mathbb{N}$  budeme nazývat *dimenzí*.

Skaláry umíme sčítat a násobit. Vektory budeme také sčítat, násobit však vektor budeme umět jen skalárem. To odpovídá představě, kterou jsme již viděli v rovině  $\mathbb{R}^2$ , kde sčítání odpovídalo skládání vektorů coby šipek vycházejících z počátku a násobení skalárem pak jejich příčinnému natahování.

Násobení vektoru  $u = (a_1, \dots, a_n)$  skalárem  $c$  tedy definujeme tak, že každý prvek  $n$ -tice  $u$  vynásobíme stejným skalárem  $c$  a také sčítání vektorů definujeme po složkách. To znamená

ZÁKLADNÍ OPERACE S VEKTORY

$$\begin{aligned} u + v &= (a_1, \dots, a_n) + (b_1, \dots, b_n) \\ &= (a_1 + b_1, \dots, a_n + b_n) \end{aligned}$$

$$c \cdot u = c \cdot (a_1, \dots, a_n) = (c \cdot a_1, \dots, c \cdot a_n).$$

Pro sčítání vektorů a násobení vektorů skaláry budeme používat stále stejné symboly jako u skalárů samotných, tj. symboly plus a buď tečku nebo prosté zřetězení znaků.

**Konvence zápisu vektorů.** Nebudeme, na rozdíl od mnoha jiných učebnic, v textu používat pro vektory žádné speciální značení a ponecháváme na čtenáři, aby udržoval svoji pozornost přemýšlením o kontextu. Pro skaláry ale spíše budeme používat písmena ze začátku abecedy a pro vektory od konce (prostředek nám zůstane na indexy proměnných či komponent a také pro sčítací indexy v součtech).



Často budeme požadovat, aby skaláry byly z nějakého pole, viz 1.1, ale v této kapitole budeme vesměs pracovat s operacemi, které tento předpoklad nepotřebují. V literatuře se pak většinou místo o vektorových prostorech hovoří o *modulech nad okruhy*. U obecné teorie se ale v příští kapitole již zcela omezíme na pole skalárů.

Pro sčítání vektorů v  $\mathbb{K}^n$  zjevně platí (KG1)–(KG4) s nulovým prvkem

$$0 = (0, \dots, 0) \in \mathbb{K}^n.$$

Schválně zde používáme i pro nulový prvek stejný symbol jako pro nulový prvek skalárů.

VLASTNOSTI VEKTORŮ

Pro všechny vektory  $v, w \in \mathbb{K}^n$  a skaláry  $a, b \in \mathbb{K}$  platí

$$(V1) \quad a \cdot (v + w) = a \cdot v + a \cdot w$$

$$(V2) \quad (a + b) \cdot v = a \cdot v + b \cdot v$$

$$(V3) \quad a \cdot (b \cdot v) = (a \cdot b) \cdot v$$

$$(V4) \quad 1 \cdot v = v$$

Vlastnosti (V1)–(V4) našich vektorů, coby  $n$ -tic skalárů v  $\mathbb{K}^n$ , se snadno ověří pro kterýkoliv okruh skalárů  $\mathbb{K}$ , protože při ověřování vždy používáme pro jednotlivé souřadnice vektorů pouze vlastnosti skalárů uvedené v 1.1 a 1.3.

Budeme takto pracovat např. s  $\mathbb{R}^n$ ,  $\mathbb{Q}^n$ ,  $\mathbb{C}^n$ , ale také  $\mathbb{Z}^n$ ,  $(\mathbb{Z}_k)^n$ ,  $n = 1, 2, 3, \dots$

2.2

**2.2. Matice nad skaláry.** O něco složitějším objektem, který budeme při práci s vektory používat, jsou matice.

MATICE TYPU  $m/n$

Maticí typu  $m/n$  nad skaláry  $\mathbb{K}$  rozumíme obdélníkové schéma  $A$  s  $m$  řádky a  $n$  sloupci

$$A = \begin{pmatrix} a_{11} & a_{12} & \dots & a_{1n} \\ a_{21} & a_{22} & \dots & a_{2n} \\ \vdots & & & \vdots \\ a_{m1} & a_{m2} & \dots & a_{mn} \end{pmatrix}$$

kde  $a_{ij} \in \mathbb{K}$  pro všechny  $1 \leq i \leq m$ ,  $1 \leq j \leq n$ . Pro matici  $A$  s prvky  $a_{ij}$  používáme také zápis  $A = (a_{ij})$ .

Vektory  $(a_{i1}, a_{i2}, \dots, a_{in}) \in \mathbb{K}^n$  nazýváme ( $i$ -té) řádky matice  $A$ ,  $i = 1, \dots, m$ , vektory  $(a_{1j}, a_{2j}, \dots, a_{mj}) \in \mathbb{K}^m$  nazýváme ( $j$ -té) sloupce matice  $A$ ,  $j = 1, \dots, n$ .

Matici můžeme také chápat jako zobrazení

$$A : \{1, \dots, m\} \times \{1, \dots, n\} \rightarrow \mathbb{K},$$

kde  $A(i, j) = a_{ij}$ . Matice typu  $1/n$  nebo  $n/1$  jsou vlastně právě vektory v  $\mathbb{K}^n$ .

I obecné matice lze chápat jako vektory v  $\mathbb{K}^{m \cdot n}$ , prostě zapomeneme na řádkování. Zejména tedy je definováno sčítání matic a násobení matic skaláry:



$$A + B = (a_{ij} + b_{ij}), \quad a \cdot A = (a \cdot a_{ij})$$

kde  $A = (a_{ij})$ ,  $B = (b_{ij})$ ,  $a \in \mathbb{K}$ .

Matice  $-A = (-a_{ij})$  se nazývá *matice opačná* k matici  $A$  a matice

$$0 = \begin{pmatrix} 0 & \dots & 0 \\ \vdots & & \vdots \\ 0 & \dots & 0 \end{pmatrix}$$

se nazývá *nulová matice*. Zapomenutím řádkování tak získáme následující tvrzení, že matice jsou jen specificky zapísané vektory:

Čím více máme v soustavě rovnic, tím je druhý způsob řešení zpravidla výhodnější.  $\square$

**2.2.** Vypočtěte

$$\begin{aligned} x_1 + 2x_2 + 3x_3 &= 2, \\ 2x_1 - 3x_2 - x_3 &= -3, \\ -3x_1 + x_2 + 2x_3 &= -3. \end{aligned}$$

**Řešení.** Zadanou soustavu lineárních rovnic zapíšeme ve tvaru rozšířené matice

$$\left( \begin{array}{ccc|c} 1 & 2 & 3 & 2 \\ 2 & -3 & -1 & -3 \\ -3 & 1 & 2 & -3 \end{array} \right),$$

kteřou pomocí elementárních řádkových transformací postupně převedeme na schodovitý tvar

$$\begin{aligned} \left( \begin{array}{ccc|c} 1 & 2 & 3 & 2 \\ 2 & -3 & -1 & -3 \\ -3 & 1 & 2 & -3 \end{array} \right) &\sim \left( \begin{array}{ccc|c} 1 & 2 & 3 & 2 \\ 0 & -7 & -7 & -7 \\ 0 & 7 & 11 & 3 \end{array} \right) \sim \\ &\sim \left( \begin{array}{ccc|c} 1 & 2 & 3 & 2 \\ 0 & 1 & 1 & 1 \\ 0 & 0 & 4 & -4 \end{array} \right) \sim \left( \begin{array}{ccc|c} 1 & 2 & 3 & 2 \\ 0 & 1 & 1 & 1 \\ 0 & 0 & 1 & -1 \end{array} \right). \end{aligned}$$

Nejdříve jsme přitom dvojnásobek prvního řádku odečetli od druhého a jeho trojnásobek přičetli ke třetímu. Poté jsme sečetli druhý a třetí řádek (součet napsali do třetího řádku) a druhý řádek vynásobili číslem  $-1/7$ . Přejdeme nyní zpět k soustavě rovnic

$$\begin{aligned} x_1 + 2x_2 + 3x_3 &= 2, \\ x_2 + x_3 &= 1, \\ x_3 &= -1. \end{aligned}$$

Okamžitě vidíme, že  $x_3 = -1$ . Dosadíme-li  $x_3 = -1$  do rovnice  $x_2 + x_3 = 1$ , dostaneme  $x_2 = 2$ . Podobně dosazení získaných hodnot  $x_3 = -1$ ,  $x_2 = 2$  do první rovnice dává  $x_1 = 1$ .  $\square$

Systémy lineárních rovnic tedy lze zapisovat v maticovém tvaru. Ale je to nějaká výhoda, když je stejně umíme řešit, aniž bychom hovořili o maticích? Ano je, o řešení můžeme hovořit koncepčněji a jazyk matic pak daleko lépe navádí k počítačovému zpracování problému. Zkusme si tedy osvojit lépe různé operace, které můžeme s maticemi provádět. Jak jsme viděli v předchozích příkladech, tak ekvivalentní úpravy lineárních rovnic odpovídají v řeči matic elementárním řádkovým (sloupcovým) úpravám. Dále jsme viděli, že převedeme-li těmito úpravami matici soustavy do schodovitého tvaru (tomuto procesu říkáme Gaussova eliminace, viz 2.7), tak je již vyřešení soustavy velmi jednoduché. Ukažme si to ještě na dalších příkladech, na kterých uvidíme, že soustava lineárních rovnic může mít nekonečně mnoho řešení.



2.3. Vyřešte soustavu lineárních rovnic

$$\begin{aligned} 2x_1 - x_2 + 3x_3 &= 0, \\ 3x_1 + 16x_2 + 7x_3 &= 0, \\ 3x_1 - 5x_2 + 4x_3 &= 0, \\ -7x_1 + 7x_2 + -10x_3 &= 0. \end{aligned}$$

2.3

**Řešení.** Vzhledem k nulovosti pravých stran všech rovnic (jedná se tedy o homogenní systém) budeme upravovat pouze matici systému. Řešení nalezneme převodem na schodovitý tvar pomocí elementárních řádkových transformací, které odpovídají záměně pořadí rovnic, vynásobení rovnice nenulovým číslem a přičítání násobků rovnic. Navíc můžeme kdykoli od maticového zápisu přejít zpět k zápisu rovnic s neznámými  $x_i$ . Nejprve docílíme toho, aby se proměnná  $x_1$  vyskytovala pouze v první rovnici. Zřejmě postačuje  $(-3/2)$ násobek prvního řádku přičíst ke druhému a ke třetímu řádku a jeho  $(7/2)$ násobek k poslednímu řádku, což v maticovém zápisu dává

$$\begin{pmatrix} 2 & -1 & 3 \\ 3 & 16 & 7 \\ 3 & -5 & 4 \\ -7 & 7 & -10 \end{pmatrix} \sim \begin{pmatrix} 2 & -1 & 3 \\ 0 & 35/2 & 5/2 \\ 0 & -7/2 & -1/2 \\ 0 & 7/2 & 1/2 \end{pmatrix}.$$

Odtud je vidět, že druhá, třetí a čtvrtá rovnice jsou násobky rovnice  $7x_2 + x_3 = 0$ . Při maticovém zápisu můžeme např.  $(1/5)$ násobek druhého řádku přičíst ke třetímu a jeho  $(-1/5)$ násobek k poslednímu řádku, čímž obdržíme schodovitý tvar

$$\begin{pmatrix} 2 & -1 & 3 \\ 0 & 35/2 & 5/2 \\ 0 & -7/2 & -1/2 \\ 0 & 7/2 & 1/2 \end{pmatrix} \sim \begin{pmatrix} 2 & -1 & 3 \\ 0 & 35/2 & 5/2 \\ 0 & 0 & 0 \\ 0 & 0 & 0 \end{pmatrix} \sim \begin{pmatrix} 2 & -1 & 3 \\ 0 & 7 & 1 \\ 0 & 0 & 0 \\ 0 & 0 & 0 \end{pmatrix},$$

který jsme v posledním kroku zjednodušili tak, že jsme druhý řádek (druhou rovnici) vynásobili číslem  $2/5$ . Přestože byly zadány čtyři rovnice pro tři neznámé, má celá soustava nekonečně mnoho řešení, neboť pro libovolné  $x_3 \in \mathbb{R}$  mají zbylé rovnice

$$\begin{aligned} 2x_1 - x_2 + 3x_3 &= 0, \\ 7x_2 + x_3 &= 0 \end{aligned}$$

řešení. Nahradíme tak proměnnou  $x_3$  parametrem  $t \in \mathbb{R}$  a vyjádříme

$$x_2 = -\frac{1}{7}x_3 = -\frac{1}{7}t \quad \text{a} \quad x_1 = \frac{1}{2}(x_2 - 3x_3) = -\frac{11}{7}t.$$

Pokud ještě nahradíme  $t = -7s$ , obdržíme výsledek v jednoduchém tvaru

$$(x_1, x_2, x_3) = (11s, s, -7s), \quad s \in \mathbb{R}.$$

**Tvrzení.** Předpisy pro  $A + B$ ,  $a \cdot A$ ,  $-A$ ,  $0$  zadávají na množině všech matic typu  $m/n$  operace sčítání a násobení skaláry splňující axiomy (V1)–(V4).

2.3. **Matice a rovnice.** Velmi častý nástroj pro popis nějakých matematických modelů jsou systémy lineárních rovnic. Právě matice lze vhodně využít pro jejich zápis. Zavedeme si k tomu účelu pojem *skalární součin* dvou vektorů, který vektorům  $(a_1, \dots, a_n)$  a  $(x_1, \dots, x_n)$  přiřadí jejich součin

$$(a_1, \dots, a_n) \cdot (x_1, \dots, x_n) = a_1x_1 + \dots + a_nx_n$$

tj. postupně násobíme po dvou souřadnice vektorů a výsledky sčítáme.

Každý systém  $m$  lineárních rovnic v  $n$  proměnných

$$a_{11}x_1 + a_{12}x_2 + \dots + a_{1n}x_n = b_1$$

$$a_{21}x_1 + a_{22}x_2 + \dots + a_{2n}x_n = b_2$$

$$\vdots$$

$$a_{m1}x_1 + a_{m2}x_2 + \dots + a_{mn}x_n = b_m$$

Lze tedy vidět jako požadavek na hodnoty  $m$  skalárních součinů neznámého vektoru  $(x_1, \dots, x_n)$  s vektory souřadnic  $(a_{i1}, \dots, a_{in})$ .

Vektor proměnných můžeme také vidět jako sloupec v matici typu  $n/1$ , a podobně hodnoty  $b_1, \dots, b_n$  můžeme vnímat jako vektor  $u$  a to opět jako jediný sloupec v matici typu  $n/1$ . Náš systém rovnic lze pak formálně psát ve tvaru  $A \cdot x = u$  takto:



$$\begin{pmatrix} a_{11} & \dots & a_{1n} \\ \vdots & & \vdots \\ a_{m1} & \dots & a_{mn} \end{pmatrix} \cdot \begin{pmatrix} x_1 \\ \vdots \\ x_n \end{pmatrix} = \begin{pmatrix} b_1 \\ \vdots \\ b_m \end{pmatrix}$$

kde levou stranu interpretujeme jako  $m$  skalárních součinů jednotlivých řádků matice vytvářejících sloupcový vektor, jehož hodnotu rovnice určují. To znamená, že skutečně rovnost  $i$ -tých souřadnic zadává podmínku původní rovnice

$$a_{i1}x_1 + \dots + a_{in}x_n = b_i$$

a zápis  $A \cdot x = u$  tak dává skutečně původní systém lineárních rovnic.

2.4. **Součin matic.** V rovině, tj. pro vektory dimenze 2, jsme už zavedli počet s maticemi a viděli jsme, že s ním lze pracovat velice efektivně (viz 1.26). Nyní budeme postupovat obecněji a zavedeme všechny nástroje již známé z roviny pro všechny dimenze  $n$ .



Násobení matic je možné definovat pouze, když to rozměry sloupců a řádků v maticích dovolí, tj. když je pro ně definován skalární součin jako výše:

**SOUČIN MATIC**

Pro libovolnou matici  $A = (a_{ij})$  typu  $m/n$  a libovolnou matici  $B = (b_{jk})$  typu  $n/q$  nad okruhem skalárů  $\mathbb{K}$  definujeme jejich součin  $C = A \cdot B = (c_{ik})$  jako matici typu  $m/q$  s prvky

$$c_{ik} = \sum_{j=1}^n a_{ij} b_{jk}, \text{ pro libovolné } 1 \leq i \leq m, 1 \leq k \leq q.$$

Je tedy prvek  $c_{ik}$  součinu právě skalárním součinem  $i$ -tého řádku matice nalevo a  $k$ -tého sloupce matice napravo. Například máme

$$\begin{pmatrix} 2 & 1 \\ 1 & -1 \end{pmatrix} \cdot \begin{pmatrix} 2 & 1 & 1 \\ -1 & 0 & 1 \end{pmatrix} = \begin{pmatrix} 3 & 2 & 3 \\ 3 & 1 & 0 \end{pmatrix}.$$

2.5

**2.5. Čtvercové matice.** Je-li v matici stejný počet řádků a sloupců, hovoříme o *čtvercové matici*. Počet řádků a sloupců pak nazýváme také *dimenzí matice*. Matici

$$E = (\delta_{ij}) = \begin{pmatrix} 1 & \dots & 0 \\ \vdots & \ddots & \vdots \\ 0 & \dots & 1 \end{pmatrix}$$

se říká *jednotková matice*. Takto definovaným číslem  $\delta_{ij}$  se říká *Kroneckerovo delta*. Na množině čtvercových matic nad  $\mathbb{K}$  dimenze  $n$  je součin matic definován pro každé dvě matice, je tam tedy definována operace násobení, jejíž vlastnosti jsou velice podobné jako u skalárů:

**Tvrzení.** Na množině všech čtvercových matic dimenze  $n$  nad libovolným okruhem skalárů  $\mathbb{K}$  je definována operace násobení s následujícími vlastnostmi okruhů (viz 1.3):

- (1) Platí asociativita násobení (O1).
- (2) Jednotková matice  $E = (\delta_{ij})$  je jednotkovým prvkem pro násobení dle (O3).
- (3) Platí distributivita sčítání a násobení (O4).

Obecně však neplatí axiomy (O2) ani (O1). Čtvercové matice pro  $n > 1$  proto netvoří obor integrity, zejména tedy nejsou ani (nekomutativním) tělesem.

**DŮKAZ.** Asociativita násobení – (O1): Protože skaláry jsou asociativní, distributivní i komutativní, můžeme pro tři matice  $A = (a_{ij})$  typu  $m/n$ ,  $B = (b_{jk})$  typu  $n/p$  a  $C = (c_{kl})$  typu  $p/q$  spočítat

$$A \cdot B = \left( \sum_j a_{ij} \cdot b_{jk} \right), \quad B \cdot C = \left( \sum_k b_{jk} \cdot c_{kl} \right),$$

$$(A \cdot B) \cdot C = \left( \sum_k \left( \sum_j a_{ij} \cdot b_{jk} \right) \cdot c_{kl} \right) = \left( \sum_{j,k} a_{ij} \cdot b_{jk} \cdot c_{kl} \right),$$

$$A \cdot (B \cdot C) = \left( \sum_j a_{ij} \cdot \left( \sum_k b_{jk} \cdot c_{kl} \right) \right) = \left( \sum_{j,k} a_{ij} \cdot b_{jk} \cdot c_{kl} \right).$$

**2.4.** Nalezněte všechna řešení soustavy lineárních rovnic

$$\begin{aligned} 3x_1 &+ 3x_3 - 5x_4 = -8, \\ x_1 - x_2 + x_3 - x_4 &= -2, \\ -2x_1 - x_2 + 4x_3 - 2x_4 &= 0, \\ 2x_1 + x_2 - x_3 - x_4 &= -3. \end{aligned}$$

**Řešení.** Soustavě rovnic odpovídá rozšířená matice

$$\left( \begin{array}{cccc|c} 3 & 0 & 3 & -5 & -8 \\ 1 & -1 & 1 & -1 & -2 \\ -2 & -1 & 4 & -2 & 0 \\ 2 & 1 & -1 & -1 & -3 \end{array} \right).$$

Záměnou pořadí řádků (rovnic) potom obdržíme matici

$$\left( \begin{array}{cccc|c} 1 & -1 & 1 & -1 & -2 \\ 2 & 1 & -1 & -1 & -3 \\ -2 & -1 & 4 & -2 & 0 \\ 3 & 0 & 3 & -5 & -8 \end{array} \right),$$

kteřou převedeme na schodovitý tvar. Nejprve přičteme  $(-2)$ násobek, 2násobek a  $(-3)$ násobek prvního řádku po řadě ke druhému, třetímu a čtvrtému řádku, čímž získáme 0 pod prvním nenulovým číslem v prvním řádku. Analogicky poté získáme 0 pod prvním nenulovým číslem ve druhém řádku tak, že tento řádek a jeho  $(-1)$ násobek přičteme po řadě ke třetímu a čtvrtému řádku. Takto dostaneme

$$\left( \begin{array}{cccc|c} 1 & -1 & 1 & -1 & -2 \\ 2 & 1 & -1 & -1 & -3 \\ -2 & -1 & 4 & -2 & 0 \\ 3 & 0 & 3 & -5 & -8 \end{array} \right) \sim \left( \begin{array}{cccc|c} 1 & -1 & 1 & -1 & -2 \\ 0 & 3 & -3 & 1 & 1 \\ 0 & -3 & 6 & -4 & -4 \\ 0 & 3 & 0 & -2 & -2 \end{array} \right) \sim$$

$$\left( \begin{array}{cccc|c} 1 & -1 & 1 & -1 & -2 \\ 0 & 3 & -3 & 1 & 1 \\ 0 & 0 & 3 & -3 & -3 \\ 0 & 0 & 3 & -3 & -3 \end{array} \right) \sim \left( \begin{array}{cccc|c} 1 & -1 & 1 & -1 & -2 \\ 0 & 3 & -3 & 1 & 1 \\ 0 & 0 & 3 & -3 & -3 \\ 0 & 0 & 0 & 0 & 0 \end{array} \right).$$

Odtud vyplývá (čtvrtý řádek je pouhou kopií třetího – lze jej tedy „vynulovat“), že soustava bude mít nekonečně mnoho řešení, neboť dostáváme tři rovnice pro čtyři neznámé, které očividně budou mít právě jedno řešení pro každou volbu proměnné  $x_4 \in \mathbb{R}$ . Neznámou  $x_4$  proto nahradíme parametrem  $t \in \mathbb{R}$  a od maticového zápisu přejdeme zpět k rovnicím

$$\begin{aligned} x_1 - x_2 + x_3 - t &= -2, \\ 3x_2 - 3x_3 + t &= 1, \\ 3x_3 - 3t &= -3. \end{aligned}$$

Z poslední rovnice máme  $x_3 = t - 1$ . Dosazení za  $x_3$  do druhé rovnice potom dává

$$3x_2 - 3t + 3 + t = 1, \quad \text{tj.} \quad x_2 = \frac{1}{3}(2t - 2).$$

Konečně podle první rovnice je

$$x_1 - \frac{1}{3}(2t - 2) + t - 1 - t = -2, \quad \text{tj.} \quad x_1 = \frac{1}{3}(2t - 5).$$

Množinu řešení můžeme tudíž zapsat (pro  $t = 3s$ ) ve tvaru

$$\left\{ (x_1, x_2, x_3, x_4) = \left( 2s - \frac{5}{3}, 2s - \frac{2}{3}, 3s - 1, 3s \right), s \in \mathbb{R} \right\}.$$

Nyní se vraťme k rozšířené matici naší soustavy a upravujeme ji dále užitím řádkových transformací tak, aby (při schodovitém tvaru) první nenulové číslo každého řádku (tzv. *pivot*) bylo právě číslo 1 a aby všechna ostatní čísla v jeho sloupci byla 0. Platí

$$\left( \begin{array}{cccc|c} 1 & -1 & 1 & -1 & -2 \\ 0 & 3 & -3 & 1 & 1 \\ 0 & 0 & 3 & -3 & -3 \\ 0 & 0 & 0 & 0 & 0 \end{array} \right) \sim \left( \begin{array}{cccc|c} 1 & -1 & 1 & -1 & -2 \\ 0 & 1 & -1 & 1/3 & 1/3 \\ 0 & 0 & 1 & -1 & -1 \\ 0 & 0 & 0 & 0 & 0 \end{array} \right) \sim$$

$$\left( \begin{array}{cccc|c} 1 & -1 & 0 & 0 & -1 \\ 0 & 1 & 0 & -2/3 & -2/3 \\ 0 & 0 & 1 & -1 & -1 \\ 0 & 0 & 0 & 0 & 0 \end{array} \right) \sim \left( \begin{array}{cccc|c} 1 & 0 & 0 & -2/3 & -5/3 \\ 0 & 1 & 0 & -2/3 & -2/3 \\ 0 & 0 & 1 & -1 & -1 \\ 0 & 0 & 0 & 0 & 0 \end{array} \right),$$

příčemž nejdříve jsme vynásobili druhý a třetí řádek číslem  $1/3$ , pak přičetli třetí řádek ke druhému a jeho  $(-1)$ násobek k prvnímu a na závěr přičetli druhý řádek k prvnímu. Z poslední matice snadno dostáváme výsledek

$$\begin{pmatrix} x_1 \\ x_2 \\ x_3 \\ x_4 \end{pmatrix} = \begin{pmatrix} -5/3 \\ -2/3 \\ -1 \\ 0 \end{pmatrix} + t \begin{pmatrix} 2/3 \\ 2/3 \\ 1 \\ 1 \end{pmatrix}, \quad t \in \mathbb{R}.$$

Volné proměnné jsou totiž ty, jejichž sloupce neobsahují žádného pivota (v našem případě neobsahuje pivota čtvrtý sloupec, je tedy volná čtvrtá proměnná, tj. používáme ji jako parametr).  $\square$

## 2.5. Určete řešení systému rovnic

$$\begin{array}{rccccrcr} 3x_1 & & & + & 3x_3 & - & 5x_4 & = & 8, \\ x_1 & - & x_2 & + & x_3 & - & x_4 & = & -2, \\ -2x_1 & - & x_2 & + & 4x_3 & - & 2x_4 & = & 0, \\ 2x_1 & + & x_2 & - & x_3 & - & x_4 & = & -3. \end{array}$$

**Řešení.** Uvědomme si, že soustava rovnic v tomto příkladu se od soustavy z předešlého příkladu liší pouze v hodnotě 8 (místo  $-8$ ) na pravé straně první rovnice. Provedeme-li totožné řádkové úpravy jako v minulém příkladu, obdržíme

$$\left( \begin{array}{cccc|c} 3 & 0 & 3 & -5 & 8 \\ 1 & -1 & 1 & -1 & -2 \\ -2 & -1 & 4 & -2 & 0 \\ 2 & 1 & -1 & -1 & -3 \end{array} \right) \sim \left( \begin{array}{cccc|c} 1 & -1 & 1 & -1 & -2 \\ 2 & 1 & -1 & -1 & -3 \\ -2 & -1 & 4 & -2 & 0 \\ 3 & 0 & 3 & -5 & 8 \end{array} \right) \dots$$

$$\sim \left( \begin{array}{cccc|c} 1 & -1 & 1 & -1 & -2 \\ 0 & 3 & -3 & 1 & 1 \\ 0 & 0 & 3 & -3 & -3 \\ 0 & 0 & 3 & -3 & 13 \end{array} \right) \sim \left( \begin{array}{cccc|c} 1 & -1 & 1 & -1 & -2 \\ 0 & 3 & -3 & 1 & 1 \\ 0 & 0 & 3 & -3 & -3 \\ 0 & 0 & 0 & 0 & 16 \end{array} \right),$$

kde poslední úpravou bylo odečtení třetího řádku od čtvrtého. Ze čtvrté rovnice  $0 = 16$  vyplývá, že soustava nemá řešení. Vyzdvihněme, že

Všimněme si, že jsme při výpočtu vycházeli z toho, že je jedno v jakém pořadí uvedené součty a součiny provádíme, tj. využívali jsme podstatně našich vlastností skalárů.

Velmi snadno vidíme, že násobení jednotkovou maticí má skutečně vlastnost jednotkového prvku:

$$A \cdot E = \begin{pmatrix} a_{11} & \cdots & a_{1m} \\ \vdots & & \vdots \\ a_{m1} & \cdots & a_{mm} \end{pmatrix} \cdot \begin{pmatrix} 1 & 0 & \cdots & 0 \\ 0 & 1 & \cdots & 0 \\ \vdots & \vdots & & \vdots \\ 0 & 0 & \cdots & 1 \end{pmatrix} = A$$

a stejně pro násobení  $E$  zleva.

Zbývá ukázat distributivitu násobení a sčítání. Opět díky distributivitě skalárů snadno spočteme pro matice  $A = (a_{ij})$  typu  $m/n$ ,  $B = (b_{jk})$  typu  $n/p$ ,  $C = (c_{jk})$  typu  $n/p$ ,  $D = (d_{kl})$  typu  $p/q$

$$\begin{aligned} A \cdot (B + C) &= \left( \sum_j a_{ij} (b_{jk} + c_{jk}) \right) \\ &= \left( \left( \sum_j a_{ij} b_{jk} \right) + \left( \sum_j a_{ij} c_{jk} \right) \right) = A \cdot B + A \cdot C \end{aligned}$$

$$\begin{aligned} (B + C) \cdot D &= \left( \sum_k (b_{jk} + c_{jk}) d_{kl} \right) \\ &= \left( \left( \sum_k b_{jk} d_{kl} \right) + \left( \sum_k c_{jk} d_{kl} \right) \right) = B \cdot D + C \cdot D. \end{aligned}$$

Jak jsme již viděli v 1.26, dvě matice dimenze 2 nemusí komutovat:

$$\begin{pmatrix} 1 & 0 \\ 0 & 0 \end{pmatrix} \cdot \begin{pmatrix} 0 & 1 \\ 0 & 0 \end{pmatrix} = \begin{pmatrix} 0 & 1 \\ 0 & 0 \end{pmatrix}$$

$$\begin{pmatrix} 0 & 1 \\ 0 & 0 \end{pmatrix} \cdot \begin{pmatrix} 1 & 0 \\ 0 & 0 \end{pmatrix} = \begin{pmatrix} 0 & 0 \\ 0 & 0 \end{pmatrix}.$$

Tím jsme získali zároveň protipříklad na platnost (O2) i (OI). Pro matice typu  $1/1$  ovšem oba axiomy samozřejmě platí, protože je mají samy skaláry. Pro větší matice získáme protipříklady snadno tak, že právě uvedené matice umístíme do levého horního rohu příslušných čtvercových schémat a doplníme nulami. (Ověřte si sami!)  $\square$

V důkazu jsme vlastně pracovali s maticemi obecnějšího typu, dokázali jsme tedy příslušné vlastnosti obecněji:

ASOCIATIVITA A DISTRIBUTIVITA NÁSOBENÍ MATIC

**Důsledek.** Násobení matic je asociativní a distributivní, tj.

$$A \cdot (B \cdot C) = (A \cdot B) \cdot C$$

$$A \cdot (B + C) = A \cdot B + A \cdot C,$$

kdykoliv jsou všechny uvedené operace definovány. Jednotková matice je neutrálním prvkem pro násobení zleva i zprava.

2.6

**2.6. Inverzní matice.** Se skaláry umíme počítat tak, že z rovnosti  $a \cdot x = b$  umíme vyjádřit  $x = a^{-1} \cdot b$ , kdykoliv inverze k  $a$  existuje. Podobně bychom to chtěli umět i s maticemi, máme ale problém, jak poznat, zda taková existuje, a jak ji spočítat.



Říkáme, že  $B$  je *matice inverzní* k matici  $A$ , když

$$A \cdot B = B \cdot A = E.$$

Píšeme pak  $B = A^{-1}$  a z definice je samozřejmé, že obě matice musí mít být čtvercové se stejnou dimenzí  $n$ . Matici, k níž existuje matice inverzní, říkáme *invertibilní matice* nebo také *regulární čtvercová matice*.

V následujících odstavcích mimo jiné odvodíme, že  $B$  je inverzní k  $A$ , jakmile platí jedna z požadovaných identit (tj. druhá je pak důsledkem).

Pokud  $A^{-1}$  a  $B^{-1}$  existují, pak existuje i inverze k součinu  $A \cdot B$

$$(2.1) \quad (A \cdot B)^{-1} = B^{-1} \cdot A^{-1}.$$

Je totiž, díky právě dokázané asociativitě násobení,

$$(B^{-1} \cdot A^{-1}) \cdot (A \cdot B) = B^{-1} \cdot (A^{-1} \cdot A) \cdot B = E$$

$$(A \cdot B) \cdot (B^{-1} \cdot A^{-1}) = A \cdot (B \cdot B^{-1}) \cdot A^{-1} = E.$$

Protože s maticemi umíme počítat podobně jako se skaláry, jen mají složitější chování, může nám existence inverzní matice skutečně hodně pomoci s řešením systémů lineárních rovnic: Jestliže vyjádříme soustavu  $n$  rovnic pro  $n$  neznámých součinem matic



$$A \cdot x = \begin{pmatrix} a_{11} & \cdots & a_{1m} \\ \vdots & & \\ a_{m1} & \cdots & a_{mm} \end{pmatrix} \cdot \begin{pmatrix} x_1 \\ \vdots \\ x_m \end{pmatrix} = \begin{pmatrix} b_1 \\ \vdots \\ b_m \end{pmatrix} = u$$

a jestliže existuje matice inverzní k matici  $A$ , pak lze násobit zleva  $A^{-1}$  a dostaneme

$$A^{-1} \cdot u = A^{-1} \cdot A \cdot x = E \cdot x = x,$$

tj.  $A^{-1} \cdot u$  je hledané řešení.

Naopak rozepsáním podmínky  $A \cdot A^{-1} = E$  pro neznámé skaláry v hledané matici  $A^{-1}$  dostaneme  $n$  systémů lineárních rovnic se stejnou maticí na levé straně a různými vektory napravo.

2.7

**2.7. Ekvivalentní úpravy matic.** Zkusme se praktičtěji zorientovat v předchozí úvaze o systémech rovnic a jejich maticích. Samozřejmě nás nalezení inverzní matice stojí jisté úsilí – větší než přímé vyřešení rovnice. Podstatné však je, že pokud máme mnohokrát za sebou řešit systémy se stejnou maticí  $A$  ale různými pravými stranami  $u$ , pak se nám nalezení  $A^{-1}$  opravdu hodně vyplatí.

při úpravě na schodovitý tvar obdržíme rovnici  $0 = a$  pro nějaké  $a \neq 0$  (tj. nulový řádek na levé straně a nenulové číslo za svislou čarou) právě tehdy, když soustava nemá řešení.  $\square$

## B. Manipulace s maticemi

V této podkapitole budeme pracovat pouze s maticemi, abychom si osvojili jejich vlastnosti.

**2.6. Násobení matic.** Provedte násobení matic a zkontrolujte si výsledek. Všimněte si, že proto, abychom mohli dvě matice násobit je nutná a postačující podmínka, aby měla první matice stejně sloupců, jako druhá řádků. Počet řádků výsledné matice je pak dán počtem řádků první matice, počet sloupců je roven počtu sloupců druhé matice.

$$\text{i) } \begin{pmatrix} 1 & 2 \\ -1 & 3 \end{pmatrix} \cdot \begin{pmatrix} 1 & -1 \\ 2 & 1 \end{pmatrix} = \begin{pmatrix} 5 & 1 \\ 5 & 4 \end{pmatrix},$$

$$\text{ii) } \begin{pmatrix} 1 & -1 \\ 2 & 1 \end{pmatrix} \cdot \begin{pmatrix} 1 & 2 \\ -1 & 3 \end{pmatrix} = \begin{pmatrix} 2 & -1 \\ 1 & 7 \end{pmatrix},$$

$$\text{iii) } \begin{pmatrix} 1 & 2 & 3 \\ 1 & -1 & 1 \end{pmatrix} \cdot \begin{pmatrix} 1 & -1 & 2 & 1 \\ 1 & 1 & -2 & -3 \\ 3 & 2 & 1 & 0 \end{pmatrix} = \begin{pmatrix} 12 & 7 & 1 & -5 \\ 3 & 0 & 5 & 4 \end{pmatrix},$$

$$\text{iv) } \begin{pmatrix} 1 & 3 & 1 \\ -2 & 2 & -1 \\ 3 & 1 & -4 \end{pmatrix} \cdot \begin{pmatrix} 1 \\ 3 \\ -3 \end{pmatrix} = \begin{pmatrix} 7 \\ 7 \\ 18 \end{pmatrix},$$

$$\text{v) } \begin{pmatrix} 1 & 3 & -3 \\ -2 & 2 & -1 \\ 3 & 1 & -4 \end{pmatrix} \cdot \begin{pmatrix} 1 & -2 & 3 \\ -2 & 2 & -1 \\ 3 & 1 & -4 \end{pmatrix} = \begin{pmatrix} -14 & 1 & 12 \\ & & \end{pmatrix},$$

$$\text{vi) } \begin{pmatrix} 1 & 2 & -2 \\ 1 & 2 & -2 \end{pmatrix} \cdot \begin{pmatrix} 2 \\ 1 \\ 3 \end{pmatrix} = \begin{pmatrix} -2 \\ -2 \end{pmatrix}.$$

**Poznámka.** Body i) a ii) v předchozím příkladu ukazují, že násobení čtvercových matic není komutativní, v bodě iii) vidíme, že pokud můžeme násobit obdélníkové matice, tak pouze v jednom ze dvou možných pořadí. V bodech iv) a v) si pak všimněme, že  $(A \cdot B)^T = A^T \cdot B^T$ .

**2.7.** Nechť je

$$A = \begin{pmatrix} 4 & 0 & -5 \\ 2 & 7 & 15 \\ 2 & 7 & 13 \end{pmatrix}, \quad B = \begin{pmatrix} 7 & 2 & 0 \\ 0 & 0 & 3 \\ 0 & -19 & \sqrt{13} \end{pmatrix}.$$

Lze matici  $A$  převést na matici  $B$  pomocí elementárních řádkových transformací (pak říkáme, že jsou řádkově ekvivalentní)?

**Řešení.** Obě matice jsou zřejmě řádkově ekvivalentní s trojrozměrnou jednotkovou maticí. Snadno se vidí, že řádková ekvivalence na množině všech matic daných rozměrů je relací ekvivalence. Matice  $A$  a  $B$  jsou tudíž řádkově ekvivalentní.  $\square$

**2.8.** Řešte maticovou rovnici

$$X \cdot \begin{pmatrix} 2 & 5 \\ 1 & 3 \end{pmatrix} = \begin{pmatrix} 4 & -6 \\ 2 & 1 \end{pmatrix}.$$

**2.9.** Nalezněte libovolnou matici  $B$ , pro kterou je matice  $C = B \cdot A$  ve schodovitém tvaru, jestliže

$$A = \begin{pmatrix} 3 & -1 & 3 & 2 \\ 5 & -3 & 2 & 3 \\ 1 & -3 & -5 & 0 \\ 7 & -5 & 1 & 4 \end{pmatrix}.$$

**Řešení.** Budeme-li matici  $A$  postupně násobit zleva elementárními maticemi (uvažte, jakým řádkovým úpravám toto násobení matic odpovídá)

$$E_1 = \begin{pmatrix} 0 & 0 & 1 & 0 \\ 0 & 1 & 0 & 0 \\ 1 & 0 & 0 & 0 \\ 0 & 0 & 0 & 1 \end{pmatrix}, \quad E_2 = \begin{pmatrix} 1 & 0 & 0 & 0 \\ -5 & 1 & 0 & 0 \\ 0 & 0 & 1 & 0 \\ 0 & 0 & 0 & 1 \end{pmatrix},$$

$$E_3 = \begin{pmatrix} 1 & 0 & 0 & 0 \\ 0 & 1 & 0 & 0 \\ -3 & 0 & 1 & 0 \\ 0 & 0 & 0 & 1 \end{pmatrix}, \quad E_4 = \begin{pmatrix} 1 & 0 & 0 & 0 \\ 0 & 1 & 0 & 0 \\ 0 & 0 & 1 & 0 \\ -7 & 0 & 0 & 1 \end{pmatrix},$$

$$E_5 = \begin{pmatrix} 1 & 0 & 0 & 0 \\ 0 & 1/3 & 0 & 0 \\ 0 & 0 & 1 & 0 \\ 0 & 0 & 0 & 1 \end{pmatrix}, \quad E_6 = \begin{pmatrix} 1 & 0 & 0 & 0 \\ 0 & 1 & 0 & 0 \\ 0 & -2 & 1 & 0 \\ 0 & 0 & 0 & 1 \end{pmatrix},$$

$$E_7 = \begin{pmatrix} 1 & 0 & 0 & 0 \\ 0 & 1 & 0 & 0 \\ 0 & 0 & 1 & 0 \\ 0 & -4 & 0 & 1 \end{pmatrix}, \quad E_8 = \begin{pmatrix} 1 & 0 & 0 & 0 \\ 0 & 1/4 & 0 & 0 \\ 0 & 0 & 1 & 0 \\ 0 & 0 & 0 & 1 \end{pmatrix},$$

obdržíme

$$B = E_8 E_7 E_6 E_5 E_4 E_3 E_2 E_1 = \begin{pmatrix} 0 & 0 & 1 & 0 \\ 0 & 1/12 & -5/12 & 0 \\ 1 & -2/3 & 1/3 & 0 \\ 0 & -4/3 & -1/3 & 1 \end{pmatrix},$$

$$C = \begin{pmatrix} 1 & -3 & -5 & 0 \\ 0 & 1 & 9/4 & 1/4 \\ 0 & 0 & 0 & 0 \\ 0 & 0 & 0 & 0 \end{pmatrix}.$$

**2.10. Komplexní čísla jako matice.** Uvažme množinu matic  $C = \left\{ \begin{pmatrix} a & b \\ -b & a \end{pmatrix}, a, b \in \mathbb{R} \right\}$ . Všimněte si, že  $C$  je uzavřená na sčítání a násobení matic a dále ukažte, že přiřazení  $f : C \rightarrow \mathbb{C}$ ,  $\begin{pmatrix} a & b \\ -b & a \end{pmatrix} \mapsto a + bi$  splňuje  $f(M + N) = f(M) + f(N)$  i  $f(M \cdot N) = f(M) \cdot f(N)$  (na levých stranách rovností se jedná o sčítání a násobení matic, na pravých o sčítání a násobení komplexních čísel). Na množinu  $C$  spolu s násobením a sčítáním matic lze tedy

Z hlediska řešení systémů rovnic  $A \cdot x = u$  je jistě přirozené považovat za ekvivalentní matice  $A$  a vektory  $u$ , které zadávají systémy rovnic se stejným řešením. Zkusme se teď zamyslet nad možnostmi, jak zjednodušovat matici  $A$  tak, abychom se k řešení blížili.



Začneme jednoduchými manipulacemi s řádky rovnic, které řešení ovlivňovat nebudou, a stejným způsobem pak můžeme upravovat i vektor napravo. Když se nám u čtvercové matice podaří vlevo dostat systém s jednotkovou maticí, bude napravo řešení původního systému. Pokud při našem postupu nějaké řádky úplně vypadnou (při úpravách se vynulují), bude to také dávat další přímé informace o řešení. Naše jednoduché úpravy jsou:

#### ELEMENTÁRNÍ ŘÁDKOVÉ TRANSFORMACE

- záměna dvou řádků,
- vynásobení vybraného řádku nenulovým skalárem,
- přičtení řádku k jinému řádku.

Těmto operacím říkáme *elementární řádkové transformace*. Je zřejmé, že odpovídající operace na úrovni rovnic v systému skutečně nemohou změnit množinu všech jeho řešení, pokud je náš okruh oborem integrity.

Analogicky, *elementární sloupcové transformace* matic jsou

- záměna dvou sloupců,
- vynásobení vybraného sloupce nenulovým skalárem,
- přičtení sloupce k jinému sloupci,

ty však nezachovávají řešení příslušných rovnic, protože mezi sebou míchají samotné proměnné.

Systematicky můžeme použít elementární řádkové úpravy k postupné eliminaci proměnných.



Postup je algoritmický a většinou se mu říká *Gaussova eliminace* proměnných.

#### GAUSSOVA ELIMINACE PROMĚNNÝCH

**Tvrzení.** *Nenulovou matici nad libovolným okruhem skalárů  $\mathbb{K}$  lze konečně mnoha elementárními řádkovými transformacemi převést na tzv. (řádkově) schodovitý tvar:*

- Je-li  $a_{ik} = 0$  pro všechna  $k = 1, \dots, j$ , potom  $a_{kj} = 0$  pro všechna  $k \geq i$ ,
- je-li  $a_{(i-1)j}$  první nenulový prvek na  $(i-1)$ -ním řádku, pak  $a_{ij} = 0$ .

**DŮKAZ.** Matice v řádkově schodovitém tvaru vypadá takto

$$\begin{pmatrix} 0 & \dots & 0 & a_{1j} & \dots & \dots & \dots & a_{1m} \\ 0 & \dots & 0 & 0 & \dots & a_{2k} & \dots & a_{2m} \\ \vdots & & & & & & & \\ 0 & \dots & \dots & \dots & \dots & 0 & a_{lp} & \dots \\ \vdots & & & & & & & \end{pmatrix}$$

a matice může, ale nemusí, končit několika nulovými řádky. K převodu libovolné matice můžeme použít jednoduchý algoritmus, kterým se postupně, řádek za řádkem, blížíme k výslednému schodovitému tvaru:

ALGORITMUS GAUSSOVY ELIMINACE

- (1) Případnou záměnou řádků docílíme, že v prvním řádku bude v prvním nenulovém sloupci nenulový prvek, nechť je to  $j$ -tý sloupec.
- (2) Pro  $i = 2, \dots$ , vynásobením prvního řádku prvkem  $a_{ij}$ ,  $i$ -tého řádku prvkem  $a_{1j}$  a odečtením vynulujeme prvek  $a_{ij}$  na  $i$ -tém řádku.
- (3) Opakovanou aplikací bodů (1) a (2), vždy pro dosud neupravený zbytek řádků a sloupců v získané matici dospějeme po konečném počtu kroků k požadovanému tvaru.

Tím je tvrzení dokázáno  $\square$

Uvedený postup je skutečně právě obvyklá eliminace proměnných v systémech lineárních rovnic.

Zcela analogickým postupem definujeme sloupcově schodovitý tvar matic a záměnou řádkových na sloupcové transformace obdržíme algoritmus převádějící matici na takový tvar.

**Poznámka.** Gaussovu eliminaci jsme zformulovali pro obecné skaláry z nějakého okruhu. Zdá se být přirozené, že ve schodovitém tvaru ještě vynásobením vhodnými skaláry dosáhneme jednotkových koeficientů na výsledné nenulové „diagonále“ nad nulami v matici a dopočítáme řešení. To ale pro obecné skaláry nepůjde, představte si třeba celá čísla  $\mathbb{Z}$ .

Pro řešení systémů rovnic nemá ale vůbec uvedený postup rozumný smysl, když jsou mezi skaláry dělitelé nuly. Promyslete si pečlivě rozdíl mezi  $\mathbb{K} = \mathbb{Z}$ ,  $\mathbb{K} = \mathbb{R}$  a případně  $\mathbb{Z}_2$  nebo  $\mathbb{Z}_4$ .

2.8

**2.8. Matice elementárních transformací.** V dalším budeme už pracovat jen s polem skalárů  $\mathbb{K}$ , každý nenulový skalár tedy má inverzní prvek.

Všimněme si, že elementární řádkové (resp. sloupcové) transformace odpovídají vynásobením zleva (resp. zprava) následujícími maticemi:

- (1) Přehození  $i$ -tého a  $j$ -tého řádku (resp. sloupce)

$$\begin{pmatrix} 1 & 0 & \dots & & \\ 0 & \ddots & & & \\ \vdots & & & & \\ & & 0 & \dots & 1 \\ & & \vdots & \ddots & \vdots \\ & & 1 & \dots & 0 \\ & & & & & \ddots \\ & & & & & & 1 \end{pmatrix}$$

nahlížet jako na těleso  $\mathbb{C}$  komplexních čísel. Zobrazení  $f$  se pak nazývá izomorfismem (těles). Je tedy například

$$\begin{pmatrix} 3 & 5 \\ -5 & 3 \end{pmatrix} \cdot \begin{pmatrix} 8 & -9 \\ 9 & 8 \end{pmatrix} = \begin{pmatrix} 69 & 13 \\ -13 & 69 \end{pmatrix},$$

což odpovídá tomu, že  $(3 + 5i) \cdot (8 - 9i) = 69 - 13i$ .

**2.11.** Vyřešte maticové rovnice

$$\begin{pmatrix} 1 & 3 \\ 3 & 8 \end{pmatrix} \cdot X_1 = \begin{pmatrix} 1 & 2 \\ 3 & 4 \end{pmatrix}, \quad X_2 \cdot \begin{pmatrix} 1 & 3 \\ 3 & 8 \end{pmatrix} = \begin{pmatrix} 1 & 2 \\ 3 & 4 \end{pmatrix}.$$

**Řešení.** Zjevně neznámé  $X_1$  a  $X_2$  musejí být matice  $2 \times 2$  (aby uvažované součiny matic existovaly a výsledkem byla matice  $2 \times 2$ ). Položme

$$X_1 = \begin{pmatrix} a_1 & b_1 \\ c_1 & d_1 \end{pmatrix}, \quad X_2 = \begin{pmatrix} a_2 & b_2 \\ c_2 & d_2 \end{pmatrix}$$

a roznásobme matice v první zadané rovnici. Má platit

$$\begin{pmatrix} a_1 + 3c_1 & b_1 + 3d_1 \\ 3a_1 + 8c_1 & 3b_1 + 8d_1 \end{pmatrix} = \begin{pmatrix} 1 & 2 \\ 3 & 4 \end{pmatrix},$$

tj. má být

$$\begin{array}{rclcl} a_1 & & + & 3c_1 & = & 1, \\ & b_1 & & & + & 3d_1 & = & 2, \\ 3a_1 & & + & 8c_1 & = & 3, \\ & 3b_1 & & & + & 8d_1 & = & 4. \end{array}$$

Sečtením  $(-3)$ násobku první rovnice se třetí dostáváme  $c_1 = 0$  a následně  $a_1 = 1$ . Podobně sečtením  $(-3)$ násobku druhé rovnice se čtvrtou dostáváme  $d_1 = 2$  a poté  $b_1 = -4$ . Je tedy

$$X_1 = \begin{pmatrix} 1 & -4 \\ 0 & 2 \end{pmatrix}.$$

Hodnoty  $a_2, b_2, c_2, d_2$  najdeme odlišným způsobem. Např. použitím vzorce

$$\begin{pmatrix} a & b \\ c & d \end{pmatrix}^{-1} = \frac{1}{ad - bc} \begin{pmatrix} d & -b \\ -c & a \end{pmatrix},$$

který platí pro libovolná čísla  $a, b, c, d \in \mathbb{R}$  (přičemž inverzní matice existuje právě tehdy, když  $ad - bc \neq 0$ ), spočtíme

$$\begin{pmatrix} 1 & 3 \\ 3 & 8 \end{pmatrix}^{-1} = \begin{pmatrix} -8 & 3 \\ 3 & -1 \end{pmatrix}.$$

Vynásobením zadané rovnice touto maticí zprava dává

$$X_2 = \begin{pmatrix} 1 & 2 \\ 3 & 4 \end{pmatrix} \cdot \begin{pmatrix} -8 & 3 \\ 3 & -1 \end{pmatrix},$$

a tudíž

$$X_2 = \begin{pmatrix} -2 & 1 \\ -12 & 5 \end{pmatrix}.$$

$\square$

**2.12. Výpočet inverzní matice.** Spočítejte inverzní matice k maticím

$$A = \begin{pmatrix} 4 & 3 & 2 \\ 5 & 6 & 3 \\ 3 & 5 & 2 \end{pmatrix}, \quad B = \begin{pmatrix} 1 & 0 & 1 \\ 3 & 3 & 4 \\ 2 & 2 & 3 \end{pmatrix}.$$

Poté určete matici  $(A^T \cdot B)^{-1}$ .

**Řešení.** Inverzní matice nalezneme tak, že vedle sebe napíšeme matici  $A$  a matici jednotkovou. Pomocí řádkových transformací pak převedeme matici  $A$  na jednotkovou. Tímto matice jednotková přejde na matici  $A^{-1}$ . Postupnými úpravami dostáváme

$$\begin{aligned} \left( \begin{array}{ccc|ccc} 4 & 3 & 2 & 1 & 0 & 0 \\ 5 & 6 & 3 & 0 & 1 & 0 \\ 3 & 5 & 2 & 0 & 0 & 1 \end{array} \right) &\sim \left( \begin{array}{ccc|ccc} 1 & -2 & 0 & 1 & 0 & -1 \\ 5 & 6 & 3 & 0 & 1 & 0 \\ 3 & 5 & 2 & 0 & 0 & 1 \end{array} \right) \sim \\ \left( \begin{array}{ccc|ccc} 1 & -2 & 0 & 1 & 0 & -1 \\ 0 & 16 & 3 & -5 & 1 & 5 \\ 0 & 11 & 2 & -3 & 0 & 4 \end{array} \right) &\sim \left( \begin{array}{ccc|ccc} 1 & -2 & 0 & 1 & 0 & -1 \\ 0 & 5 & 1 & -2 & 1 & 1 \\ 0 & 11 & 2 & -3 & 0 & 4 \end{array} \right) \sim \\ \left( \begin{array}{ccc|ccc} 1 & -2 & 0 & 1 & 0 & -1 \\ 0 & 5 & 1 & -2 & 1 & 1 \\ 0 & 1 & 0 & 1 & -2 & 2 \end{array} \right) &\sim \left( \begin{array}{ccc|ccc} 1 & 0 & 0 & 3 & -4 & 3 \\ 0 & 0 & 1 & -7 & 11 & -9 \\ 0 & 1 & 0 & 1 & -2 & 2 \end{array} \right) \\ &\sim \left( \begin{array}{ccc|ccc} 1 & 0 & 0 & 3 & -4 & 3 \\ 0 & 1 & 0 & 1 & -2 & 2 \\ 0 & 0 & 1 & -7 & 11 & -9 \end{array} \right), \end{aligned}$$

přičemž v prvním kroku jsme odečetli od prvního řádku třetí, ve druhém jsme  $(-5)$ násobek prvního přičetli ke druhému a současně jeho  $(-3)$ násobek ke třetímu, ve třetím kroku jsme odečetli od druhého řádku třetí, ve čtvrtém jsme  $(-2)$ násobek druhého přičetli ke třetímu, v pátém kroku jsme  $(-5)$ násobek třetího řádku přičetli ke druhému a jeho 2násobek k prvnímu, v posledním kroku jsme pak zaměnili druhý a třetí řádek. Zdůrazněme výsledek

$$A^{-1} = \begin{pmatrix} 3 & -4 & 3 \\ 1 & -2 & 2 \\ -7 & 11 & -9 \end{pmatrix}.$$

Upozorníme, že při určování matice  $A^{-1}$  jsme díky vhodným řádkovým úpravám nemuseli počítat se zlomky. Přestože bychom si mohli obdobně počínat při určování matice  $B^{-1}$ , budeme raději provádět více názorné (nabízející se) řádkové úpravy. Platí

$$\begin{aligned} \left( \begin{array}{ccc|ccc} 1 & 0 & 1 & 1 & 0 & 0 \\ 3 & 3 & 4 & 0 & 1 & 0 \\ 2 & 2 & 3 & 0 & 0 & 1 \end{array} \right) &\sim \left( \begin{array}{ccc|ccc} 1 & 0 & 1 & 1 & 0 & 0 \\ 0 & 3 & 1 & -3 & 1 & 0 \\ 0 & 2 & 1 & -2 & 0 & 1 \end{array} \right) \sim \\ \left( \begin{array}{ccc|ccc} 1 & 0 & 1 & 1 & 0 & 0 \\ 0 & 3 & 1 & -3 & 1 & 0 \\ 0 & 0 & 1/3 & 0 & -2/3 & 1 \end{array} \right) &\sim \left( \begin{array}{ccc|ccc} 1 & 0 & 1 & 1 & 0 & 0 \\ 0 & 1 & 1/3 & -1 & 1/3 & 0 \\ 0 & 0 & 1/3 & 0 & -2/3 & 1 \end{array} \right) \sim \\ \left( \begin{array}{ccc|ccc} 1 & 0 & 0 & 1 & 2 & -3 \\ 0 & 1 & 0 & -1 & 1 & -1 \\ 0 & 0 & 1/3 & 0 & -2/3 & 1 \end{array} \right) &\sim \left( \begin{array}{ccc|ccc} 1 & 0 & 0 & 1 & 2 & -3 \\ 0 & 1 & 0 & -1 & 1 & -1 \\ 0 & 0 & 1 & 0 & -2 & 3 \end{array} \right), \end{aligned}$$

(2) Vynásobení  $i$ -tého řádku (resp. sloupce) skalárem  $a$ :

$$\begin{pmatrix} 1 & & & & & \\ & \ddots & & & & \\ & & 1 & & & \\ & & & a & & \\ & & & & 1 & \\ & & & & & \ddots \\ & & & & & & 1 \end{pmatrix} \leftarrow i$$

(3) Sečtení  $i$ -tého řádku (resp. sloupce) s  $j$ -tým:

$$i \rightarrow \begin{pmatrix} 1 & 0 & & & & \\ 0 & \ddots & & & & \\ & & \ddots & & & \\ & & & \ddots & & \\ & & & & 1 & \ddots \\ & & & & & \ddots & \\ & & & & & & & 1 \end{pmatrix} \begin{matrix} \\ \\ \\ \\ \uparrow \\ \\ \\ \end{matrix} j$$



Toto prostinké pozorování je ve skutečnosti velice podstatné, protože součin invertibilních matic je invertibilní (viz rovnost (2.1)) a všechny elementární transformace jsou nad polem skalárů invertibilní (sama definice elementárních transformací zajišťuje, že inverzní transformace je stejného typu a je také snadné určit její matici).

Pro libovolnou matici  $A$  tedy dostaneme násobením vhodnou invertibilní maticí  $P = P_k \cdots P_1$  zleva (postupné násobení  $k$  maticemi zleva) její ekvivalentní řádkový schodovitý tvar  $A' = P \cdot A$ .

Jestliže obecně aplikujeme tentýž eliminační postup na sloupce, dostaneme z každé matice  $B$  její sloupcový schodovitý tvar  $B'$  vynásobením zprava vhodnou invertibilní maticí  $Q = Q_1 \cdots Q_\ell$ . Pokud ale začneme s maticí  $B = A'$  v řádkově schodovitém tvaru, eliminuje takový postup pouze všechny dosud nenulové prvky mimo diagonálu matice a závěrem lze ještě i tyto elementárními operacemi změnit na jedničky. Celkem jsme tedy ověřili důležitý výsledek, ke kterému se budeme mnohokrát vracet:

**2.9. Věta.** Pro každou matici  $A$  typu  $m/n$  nad polem skalárů  $\mathbb{K}$  existují čtvercové invertibilní matice  $P$  dimenze  $m$  a  $Q$  dimenze  $n$  takové, že matice  $P \cdot A$  je v řádkově schodovitém tvaru a

$$P \cdot A \cdot Q = \begin{pmatrix} 1 & \dots & 0 & \dots & \dots & \dots & 0 \\ \vdots & \ddots & & & & & \\ 0 & \dots & 1 & 0 & \dots & \dots & 0 \\ 0 & \dots & 0 & 1 & 0 & \dots & 0 \\ 0 & \dots & 0 & 0 & 0 & \dots & 0 \\ \vdots & & & & & & \end{pmatrix}.$$



2.10

**2.10. Algoritmus pro výpočet inverzní matice.** V předchozích úvahách jsme se dostali prakticky k úplnému algoritmu pro výpočet inverzní matice. Během jednoduchého níže uvedeného postupu buď zjistíme, že inverze neexistuje, nebo bude inverze spočtena. I nadále pracujeme nad polem skalárů.



Ekvivalentní řádkové transformace se čtvercovou maticí  $A$  dimenze  $n$  vedou k matici  $P'$  takové, že matice  $P' \cdot A$  bude v řádkově schodovitém tvaru. Přitom může (ale nemusí) být jeden nebo více posledních řádků nulových. Jestliže má existovat inverzní matice k  $A$ , pak existuje i inverzní matice k  $P' \cdot A$ . Jestliže však je poslední řádek v  $P' \cdot A$  nulový, bude nulový i poslední řádek v  $P' \cdot A \cdot B$  pro jakoukoliv matici  $B$  dimenze  $n$ . Existence takového nulového řádku ve výsledku (řádkové) Gaussovy eliminace tedy vylučuje existenci  $A^{-1}$ .

Předpokládejme nyní, že  $A^{-1}$  existuje. Podle předchozího, nalezneme řádkově schodovitý tvar bez nulového řádku, tzn. že všechny diagonální prvky v  $P' \cdot A$  jsou nenulové. Pak ovšem pokračováním eliminace pomocí řádkových elementárních transformací od pravého dolního rohu zpět a vynormováním diagonálních prvků na jedničky získáme jednotkovou matici  $E$ . Jinými slovy, najdeme další invertibilní matici  $P''$  takovou, že pro  $P = P'' \cdot P'$  platí  $P \cdot A = E$ . Výměnou řádkových a sloupcových transformací lze za předpokladu existence  $A^{-1}$  stejným postupem najít  $Q$  takovou, že  $A \cdot Q = E$ . Odtud

$$P = P \cdot E = P \cdot (A \cdot Q) = (P \cdot A) \cdot Q = Q.$$

To ale znamená, že jsme našli hledanou inverzní matici

$$A^{-1} = P = Q$$

k matici  $A$ . Zejména se tedy v okamžiku nalezení matice  $P$  s vlastností  $P \cdot A = E$  už nemusíme s žádnými dalšími výpočty namáhat, protože víme, že již jistě jde o inverzní matici.

Prakticky tedy můžeme postupovat takto:

#### VÝPOČET INVERZNÍ MATICE

Vedle sebe napíšeme původní matici  $A$  a jednotkovou matici  $E$ , matici  $A$  upravujeme řádkovými elementárními úpravami nejprve na schodovitý tvar, potom tzv. zpětnou eliminací na diagonální matici a v té násobíme řádky inverzními prvky z  $\mathbb{K}$ . Tytéž úpravy postupně prováděné s  $E$  vedou právě k hledané matici  $A^{-1}$ . Pokud tento algoritmus narazí na vynulování celého řádku v původní matici, znamená to, že matice inverzní neexistuje.

2.10a

**2.11. Lineární závislost a hodnost.** V předchozích úvahách a počtech s maticemi jsme stále pracovali se sčítáním řádků nebo sloupců coby vektorů, spolu s jejich násobením skaláry. Takové operaci říkáme *lineární kombinace*. V abstraktním pojetí se k



tj.

$$B^{-1} = \begin{pmatrix} 1 & 2 & -3 \\ -1 & 1 & -1 \\ 0 & -2 & 3 \end{pmatrix}.$$

Využitím identity

$$(A^T \cdot B)^{-1} = B^{-1} \cdot (A^T)^{-1} = B^{-1} \cdot (A^{-1})^T$$

a znalosti výše vypočítaných inverzních matic lze obdržet

$$\begin{aligned} (A^T \cdot B)^{-1} &= \begin{pmatrix} 1 & 2 & -3 \\ -1 & 1 & -1 \\ 0 & -2 & 3 \end{pmatrix} \cdot \begin{pmatrix} 3 & 1 & -7 \\ -4 & -2 & 11 \\ 3 & 2 & -9 \end{pmatrix} \\ &= \begin{pmatrix} -14 & -9 & 42 \\ -10 & -5 & 27 \\ 17 & 10 & -49 \end{pmatrix}. \end{aligned}$$

□

2.13. Vypočítejte inverzní matici k matici

$$A = \begin{pmatrix} 1 & 0 & -2 \\ 2 & -2 & 1 \\ 5 & -5 & 2 \end{pmatrix}.$$

2.14. Nalezněte inverzní matici k matici

$$\begin{pmatrix} 8 & 3 & 0 & 0 & 0 \\ 5 & 2 & 0 & 0 & 0 \\ 0 & 0 & -1 & 0 & 0 \\ 0 & 0 & 0 & 1 & 2 \\ 0 & 0 & 0 & 3 & 5 \end{pmatrix}.$$

2.15. Zjistěte, zda existuje inverzní matice k matici

$$C = \begin{pmatrix} 1 & 1 & 1 & 1 \\ 1 & 1 & -1 & 1 \\ 1 & -1 & 1 & -1 \\ 1 & -1 & -1 & 1 \end{pmatrix}.$$

Pokud ano, určete tuto matici  $C^{-1}$ .

2.16. Stanovte  $A^{-1}$ , je-li

(a)  $A = \begin{pmatrix} 1 & i \\ -i & 3 \end{pmatrix}$ , přičemž  $i$  je imaginární jednotka;

(b)  $A = \begin{pmatrix} 1 & -5 & -3 \\ -1 & 5 & 4 \\ -1 & 6 & 2 \end{pmatrix}.$

2.17. Napište inverzní matici k  $n \times n$  matici ( $n > 1$ )

$$A = \begin{pmatrix} 2-n & 1 & \cdots & 1 & 1 \\ 1 & 2-n & \ddots & \ddots & 1 \\ \vdots & \ddots & \ddots & \ddots & \vdots \\ 1 & \ddots & \ddots & 2-n & 1 \\ 1 & 1 & \cdots & 1 & 2-n \end{pmatrix}.$$

## C. Determinanty

Ověřte si nejprve na následujícím příkladu, že umíte počítat determinanty matic  $2 \times 2$  a  $3 \times 3$  (pomocí Saarusova pravidla):

2.18. Určete determinanty matic:  $\begin{pmatrix} 1 & 2 \\ 2 & 1 \end{pmatrix}$ ,  $\begin{pmatrix} 1 & 2 & 3 \\ 1 & -1 & 2 \\ 3 & 2 & 2 \end{pmatrix}$

$$\begin{pmatrix} 1 & 1 & 1 \\ 1 & 0 & 0 \\ -2 & 0 & 1 \end{pmatrix}.$$

2.19. Spočítejte determinant matice

$$\begin{pmatrix} 1 & 3 & 5 & 6 \\ 1 & 2 & 2 & 2 \\ 1 & 1 & 1 & 2 \\ 0 & 1 & 2 & 1 \end{pmatrix}.$$

**Řešení.** Začneme rozvíjet podle prvního sloupce, kde máme nejvíce (jednu) nul. Postupně dostáváme

$$\begin{vmatrix} 1 & 3 & 5 & 6 \\ 1 & 2 & 2 & 2 \\ 1 & 1 & 1 & 2 \\ 0 & 1 & 2 & 1 \end{vmatrix} = 1 \cdot \begin{vmatrix} 2 & 2 & 2 \\ 1 & 1 & 2 \\ 1 & 2 & 1 \end{vmatrix} - 1 \cdot \begin{vmatrix} 3 & 5 & 6 \\ 1 & 1 & 2 \\ 1 & 2 & 1 \end{vmatrix} + 1 \cdot \begin{vmatrix} 3 & 5 & 6 \\ 2 & 2 & 2 \\ 1 & 2 & 1 \end{vmatrix}$$

Podle Saarusova pravidla  
 $= -2 - 2 + 6 = 2.$

2.20. Nalezněte všechny hodnoty argumentu  $a$  takové, že

$$\begin{vmatrix} a & 1 & 1 & 1 \\ 0 & a & 1 & 1 \\ 0 & 1 & a & 1 \\ 0 & 0 & 0 & -a \end{vmatrix} = 1.$$

Pro komplexní  $a$  uveďte buď jeho algebraický nebo goniometrický tvar.

**Řešení.** Spočítáme determinant rozvinutím podle prvního sloupce matice:

$$D = \begin{vmatrix} a & 1 & 1 & 1 \\ 0 & a & 1 & 1 \\ 0 & 1 & a & 1 \\ 0 & 0 & 0 & -a \end{vmatrix} = a \cdot \begin{vmatrix} a & 1 & 1 \\ 1 & a & 1 \\ 0 & 0 & -a \end{vmatrix},$$

dále rozvíjíme podle posledního řádku:

$$D = a \cdot (-a) \begin{vmatrix} a & 1 \\ 1 & a \end{vmatrix} = -a^2(a^2 - 1). \quad \boxed{2.10b}$$

Celkem dostáváme následující podmínku pro  $a$ :  $a^4 - a^2 + 1 = 0$ . Substitucí  $t = a^2$ , pak máme  $t^2 - t + 1$  s kořeny  $t_1 = \frac{1+i\sqrt{3}}{2} = \cos(\pi/3) + i \sin(\pi/3)$ ,  $t_1 = \frac{1-i\sqrt{3}}{2} = \cos(\pi/3) - i \sin(\pi/3) = \cos(-\pi/3) + i \sin(-\pi/3)$ , odkud snadno určíme čtyři možné hodnoty parametru  $a$ :  $a_1 = \cos(\pi/6) + i \sin(\pi/6) = \sqrt{3}/2 + i/2$ ,  $a_2 = \cos(7\pi/6) + i \sin(7\pi/6) = -\sqrt{3}/2 - i/2$ ,  $a_3 = \cos(-\pi/6) +$

operacím s vektory vrátíme za chvíli v 2.24, bude ale užitečné pochopit podstatu už nyní. Lineární kombinací řádků (nebo sloupců) matice  $A = (a_{ij})$  typu  $m/n$  rozumíme výraz

$$c_1 u_{i_1} + \dots + c_k u_{i_k},$$

kde  $c_i$  jsou skaláry,  $u_j = (a_{j1}, \dots, a_{jn})$  jsou řádky (nebo  $u_j = (a_{1j}, \dots, a_{mj})$  jsou sloupce) matice  $A$ .

Jestliže existuje lineární kombinace daných řádků s alespoň jedním nenulovým skalárním koeficientem, jejímž výsledkem je nulový řádek, říkáme, že jsou tyto řádky *lineárně závislé*. V opačném případě, tj. když jedinou možností jak získat nulový řádek je vynásobením výhradně nulovými skaláry, jsou tyto řádky *lineárně nezávislé*.

Obdobně definujeme lineárně závislé a nezávislé sloupce matice.

Předchozí výsledky o Gausově eliminaci můžeme teď interpretovat tak, že počet výsledných nenulových „schodů“ v řádkově nebo sloupcově schodovitě tvaru je vždy roven počtu lineárně nezávislých řádků matice, resp. počtu lineárně nezávislých sloupců matice. Označme  $E_h$  matici z věty 2.9 s  $h$  jedničkami na diagonále a předpokládejme, že dvěma různými postupy dostaneme různá  $h' < h$ . Pak ovšem podle našeho postupu budou existovat také invertibilní matice  $P$  a  $Q$  takové, že

$$P \cdot E_{h'} \cdot Q = E_h.$$

□

V součinu  $E_{h'} \cdot Q$  bude více nulových řádků ve spodní části matice, než kolik má být jedniček v  $E_h$  a přitom se k nim máme dostat už jen řádkovými transformacemi. Zvýšit počet lineárně nezávislých řádků ale pomocí elementárních řádkových transformací nelze. Proto je počet jedniček v matici  $P \cdot A \cdot Q$  ve větě 2.9 nezávislý na volbě našeho postupu eliminace a je roven jak počtu lineárně nezávislých řádků v  $A$ , tak počtu lineárně nezávislých sloupců v  $A$ . Tomuto číslu říkáme *hodnota matice* a značíme je  $h(A)$ . Zapamatujme si výsledné tvrzení:

**Věta.** *Nechť  $A$  je matice typu  $m/n$  nad polem skalárů  $\mathbb{K}$ . Matice  $A$  má stejný počet  $h(A)$  lineárně nezávislých řádků a lineárně nezávislých sloupců. Zejména je hodnota vždy nejvýše rovna menšímu z rozměrů matice  $A$ .*

Algoristmus pro výpočet inverzních matic také říká, že čtvercová matice  $A$  dimenze  $m$  má inverzi, právě když je její hodnota rovna počtu řádků  $m$ .

**2.12. Matice jako zobrazení.** Zcela stejně, jak jsme s maticemi pracovali v geometrii roviny, viz 1.29, můžeme každou čtvercovou matici  $A$  interpretovat jako zobrazení

$$A : \mathbb{K}^n \rightarrow \mathbb{K}^n, \quad x \mapsto A \cdot x.$$

Díky distributivitě násobení matic je zřejmé, jak jsou zobrazovány lineární kombinace vektorů takovými zobrazeními:

$$A \cdot (a x + b y) = a (A \cdot x) + b (A \cdot y).$$

Přímo z definice je také vidět (díky asociativitě násobení matic), že skládání zobrazení odpovídá násobení matic v daném pořadí. Invertibilní matice tedy odpovídají bijektivním zobrazením.

Vandermond

Z tohoto pohledu je velice zajímavá věta 2.9. Můžeme ji číst tak, že hodnost matice určuje, jak velký je obraz celého  $\mathbb{K}^n$  v tomto zobrazení. Skutečně, je-li  $A = P \cdot E_k \cdot Q$  s maticí  $E_k$  s  $k$  jedničkami jako v 2.9, pak invertibilní  $Q$  napřed jen bijektivně „zamíchá“  $n$ -rozměrné vektory v  $\mathbb{K}^n$ , matice  $E_k$  pak „zkopíruje“ prvních  $k$  souřadnic a vynuluje  $n - k$  zbývajících. Tento „ $k$ -rozměrný“ obraz už pak následně násobením invertibilní  $P$  nemůže zvětšit.



2.10c

**2.13. Řešení systémů lineárních rovnic.** K pojmemu dimenze, lineární nezávislost apod. se vrátíme ve třetí části této kapitoly. Již teď si ale můžeme povšimnout, co právě dovozené výsledky říkají o řešení systému lineárních rovnic. Jestliže budeme uvažovat matici systému rovnic a přidáme k ní ještě sloupec požadovaných hodnot, hovoříme o rozšířené matici systému. Postup, který jsme předvedli odpovídá postupné eliminaci proměnných v rovnicích a vyškrtání lineárně závislých rovnic (ty jsou prostě důsledkem ostatních).



Dovodili jsme tedy kompletní informaci o velikosti množiny řešení systému lineárních rovnic v závislosti na hodnotě matice systému. Pokud nám při přechodu na řádkově schodovitý tvar zůstane v rozšířené matici více nenulových řádků než v matici systému, pak žádné řešení nemůže existovat (prostě se daným lineárním zobrazením do požadované hodnoty vůbec netrefíme). Pokud je hodnost obou matic stejná, pak nám při zpětném dopočtu řešení zůstane právě tolik volných parametrů, kolik je rozdíl mezi počtem proměnných  $n$  a hodnotou  $h(A)$ .

## 2. Determinanty

V páté části první kapitoly jsme viděli (viz 1.27), že pro čtvercové matice dimenze 2 nad reálnými čísly existuje skalární funkce  $\det$ , která matici přiřadí nenulové číslo, právě když existuje její inverze. Neříkali jsme to sice stejnými slovy, ale snadno si to ověříte (viz odstavce počínaje 1.26 a vzorec (1.16)). Determinant byl užitečný i jinak, viz odstavce 1.33 a 1.34, kde jsme si volnou úvahou odvodili, že obsah rovnoběžníka by měl být lineárně závislý na každém ze dvou vektorů definujících rovnoběžník a že je užitečné zároveň požadovat změnu znaménka při změně pořadí těchto vektorů. Protože tyto vlastnosti měl, až na pevný skalární násobek, jedině determinant, odvodili jsme, že je obsah dán právě takto. Nyní uvidíme, že podobně lze postupovat v každé konečné dimenzi.

V této části budeme pracovat s libovolnými skaláry  $\mathbb{K}$  a maticemi nad těmito skaláry. Naše výsledky o determinantech tedy budou vesměs platit pro všechny komutativní okruhy, zejména tedy třeba pro celočíselné matice.

$$i \sin(-\pi/6) = \sqrt{3}/2 - i/2, a_4 = \cos(5\pi/6) + i \sin(5\pi/6) = -\sqrt{3}/2 + i/2. \quad \square$$

**2.21. Vandermondův determinant.** Dokažte vzorec pro tzv. Vandermondův determinant, tj. determinant Vandermondovy matice:

$$V_n = \begin{vmatrix} 1 & 1 & \dots & 1 \\ a_1 & a_2 & \dots & a_n \\ a_1^2 & a_2^2 & \dots & a_n^2 \\ \vdots & \vdots & & \vdots \\ a_1^{n-1} & a_2^{n-1} & \dots & a_n^{n-1} \end{vmatrix} = \prod_{1 \leq i < j \leq n} (a_j - a_i),$$

kde  $a_1, \dots, a_n \in \mathbb{R}$  a na pravé straně rovnosti je součin všech rozdílů  $a_j - a_i$ , kde  $j > i$ .

**Řešení.**

Ukážeme opravdu nádherný důkaz indukcí, nad nímž srdce matematika zaplesá. Pro  $n = 2$  vztah triviálně platí. Nechť tedy platí pro determinant matice určené čísly  $a_1, \dots, a_k$  a dokážeme, že platí i pro výpočet determinantu Vandermondovy matice určenou čísly  $a_1, \dots, a_{k+1}$ . Uvažme determinant  $V_{k+1}$  jako polynom  $P$  v proměnné  $a_{k+1}$ . Z definice determinantu vyplývá, že tento polynom bude stupně  $k$  v této proměnné a navíc čísla  $a_1, \dots, a_k$  budou jeho kořeny: nahradíme-li totiž ve Vandermondově matici  $V_{k+1}$  poslední sloupec tvořený mocninami čísla  $a_{k+1}$  libovolným z předchozích sloupců tvořeným mocninami čísla  $a_i$ , tak hodnota tohoto pozmeněného determinantu je vlastně hodnotou Vandermondova determinantu (jakožto polynomu v proměnné  $a_{k+1}$ ) v bodě  $a_i$ . Tato je ovšem nulová, neboť determinant z matice se dvěma shodnými, tedy lineárně závislými, sloupci je nulový. To znamená, že  $a_i$  je kořenem  $P$ . Nalezli jsme tedy  $k$  kořenů polynomu stupně  $k$ , tudíž všechny jeho kořeny a  $P$  musí být tvaru  $P = C(a_{k+1} - a_1)(a_{k+1} - a_2) \cdots (a_{k+1} - a_k)$ , kde  $C$  je nějaká konstanta, resp. vedoucí koeficient polynomu  $P$ . Uvážíme-li však výpočet determinantu  $V_{k+1}$  pomocí rozvoje podle posledního sloupce, tak vidíme, že  $C = V_k$ , což už dokazuje vzorec pro  $V_{k+1}$ .  $\square$

**Jiné řešení.** (viz Návody a řešení cvičení)

**2.22.** Nenulovost determinantu čtvercové matice charakterizuje všechny invertibilní čtvercové matice: zjistěte, zda je matice

$$\begin{pmatrix} 3 & 2 & -1 & 2 \\ 4 & 1 & 2 & -4 \\ -2 & 2 & 4 & 1 \\ 2 & 3 & -4 & 8 \end{pmatrix}$$

invertibilní.

tady byla ještě ukázka matic rotací – patrně budou v příkladech, tak jsou tady vyprocentované

**Řešení.** Matice je invertibilní (existuje k ní inverzní matice) právě tehdy, když ji lze pomocí řádkových transformací převést na jednotkovou matici. To je ekvivalentní např. s tím, že má nenulový determinant. Ten spočítáme pomocí Laplaceovy věty (2.32) například rozvojem podle prvního řádku:

$$\begin{vmatrix} 3 & 2 & -1 & 2 \\ 4 & 1 & 2 & -4 \\ -2 & 2 & 4 & 1 \\ 2 & 3 & -4 & 8 \end{vmatrix} \\ = 3 \cdot \begin{vmatrix} 1 & 2 & -4 \\ 2 & 4 & 1 \\ 3 & -4 & 8 \end{vmatrix} - 2 \cdot \begin{vmatrix} 4 & 2 & -4 \\ -2 & 4 & 1 \\ 2 & -4 & 8 \end{vmatrix} + (-1) \cdot \begin{vmatrix} 4 & 1 & -4 \\ -2 & 2 & 1 \\ 2 & 3 & 8 \end{vmatrix} - 2 \cdot \begin{vmatrix} 4 & 1 & 2 \\ -2 & 2 & 4 \\ 2 & 3 & -4 \end{vmatrix} \\ = 3 \cdot 90 - 2 \cdot 180 + (-1) \cdot 110 - 2 \cdot (-100) = 0,$$

tedy daná matice není invertibilní.  $\square$

**2.23.** Nalezněte matici algebraicky adjungovanou a matici inverzní k matici

$$A = \begin{pmatrix} 1 & 0 & 2 & 0 \\ 0 & 3 & 0 & 4 \\ 5 & 0 & 6 & 0 \\ 0 & 7 & 0 & 8 \end{pmatrix}.$$

**Řešení.** Adjungovaná matice je

$$A^* = \begin{pmatrix} A_{11} & A_{12} & A_{13} & A_{14} \\ A_{21} & A_{22} & A_{23} & A_{24} \\ A_{31} & A_{32} & A_{33} & A_{34} \\ A_{41} & A_{42} & A_{43} & A_{44} \end{pmatrix}^T,$$

kde  $A_{ij}$  je algebraický doplněk prvku  $a_{ij}$  matice  $A$ , tedy součin čísla  $(-1)^{i+j}$  a determinantu trojrozměrné matice vzniklé z  $A$  vnechááním  $i$ -tého řádku a  $j$ -tého sloupce. Platí

$$A_{11} = \begin{vmatrix} 3 & 0 & 4 \\ 0 & 6 & 0 \\ 7 & 0 & 8 \end{vmatrix} = -24, \quad A_{12} = - \begin{vmatrix} 0 & 0 & 4 \\ 5 & 6 & 0 \\ 0 & 0 & 8 \end{vmatrix} = 0, \dots \\ A_{43} = - \begin{vmatrix} 1 & 0 & 0 \\ 0 & 3 & 4 \\ 5 & 0 & 0 \end{vmatrix} = 0, \quad A_{44} = \begin{vmatrix} 1 & 0 & 2 \\ 0 & 3 & 0 \\ 5 & 0 & 6 \end{vmatrix} = -12.$$

Dosazením získáme

$$A^* = \begin{pmatrix} -24 & 0 & 20 & 0 \\ 0 & -32 & 0 & 28 \\ 8 & 0 & -4 & 0 \\ 0 & 16 & 0 & -12 \end{pmatrix}^T = \begin{pmatrix} -24 & 0 & 8 & 0 \\ 0 & -32 & 0 & 16 \\ 20 & 0 & -4 & 0 \\ 0 & 28 & 0 & -12 \end{pmatrix}.$$

Inverzní matici  $A^{-1}$  určíme ze vztahu  $A^{-1} = |A|^{-1} \cdot A^*$ . Determinant matice  $A$  je (rozvojem podle prvního řádku) roven

$$|A| = \begin{vmatrix} 1 & 0 & 2 & 0 \\ 0 & 3 & 0 & 4 \\ 5 & 0 & 6 & 0 \\ 0 & 7 & 0 & 8 \end{vmatrix} = \begin{vmatrix} 3 & 0 & 4 \\ 0 & 6 & 0 \\ 7 & 0 & 8 \end{vmatrix} + 2 \begin{vmatrix} 0 & 3 & 4 \\ 5 & 0 & 0 \\ 0 & 7 & 8 \end{vmatrix} = 16.$$

**2.14. Definice determinantu.** Připomeňme, že bijektivní zobrazení množiny  $X$  na sebe se nazývá *permutace množiny*  $X$ , viz 1.7. Je-li  $X = \{1, 2, \dots, n\}$ , lze permutace zapsat pomocí výsledného pořadí ve formě tabulky:

$$\begin{pmatrix} 1 & 2 & \dots & n \\ \sigma(1) & \sigma(2) & \dots & \sigma(n) \end{pmatrix}.$$

Prvek  $x \in X$  se nazývá *samodružným bodem* permutace  $\sigma$ , je-li  $\sigma(x) = x$ . Permutace  $\sigma$  taková, že existují právě dva různé prvky  $x, y \in X$  s  $\sigma(x) = y$ , zatímco všechna ostatní  $z_1 \in X$  jsou samodružná, se nazývá *transpozice*, značíme ji  $(x, y)$ . Samozřejmě pro takovou transpozici platí také  $\sigma(y) = x$ , odtud název.

V dimenzi 2 byl vzorec pro determinant jednoduchý – vezmeme všechny možné součiny dvou prvků, po jednom z každého sloupce a řádku matice, opatříme je znaménkem tak, aby při přehození dvou sloupců došlo ke změně celkového znaménka, a výrazy všechny (tj. oba) sečteme:

$$A = \begin{pmatrix} a & b \\ c & d \end{pmatrix}, \quad \det A = ad - bc.$$

Obecně, uvažujme čtvercové matice  $A = (a_{ij})$  dimenze  $n$  nad  $\mathbb{K}$ . Vzorec pro determinant matice  $A$  bude také poskládaný ze všech možných součinů prvků z jednotlivých řádků a sloupců:

#### DEFINICE DETERMINANTU

*Determinant matice*  $A$  je skalár  $\det A = |A|$  definovaný vztahem

$$|A| = \sum_{\sigma \in \Sigma_n} \operatorname{sgn}(\sigma) a_{1\sigma(1)} \cdot a_{2\sigma(2)} \cdot \dots \cdot a_{n\sigma(n)}$$

kde  $\Sigma_n$  je množina všech možných permutací na  $\{1, \dots, n\}$  a znaménko  $\operatorname{sgn}$  pro každou permutaci  $\sigma$  ještě musíme popsat. Každý z výrazů

$$\operatorname{sgn}(\sigma) a_{1\sigma(1)} \cdot a_{2\sigma(2)} \cdot \dots \cdot a_{n\sigma(n)}$$

nazýváme *člen determinantu*  $|A|$ .

V dimenzích 2 a 3 snadno uhádneme i správná znaménka. Součin prvků z diagonály má být s kladným znaménkem a chceme antisymetrii při přehození dvou sloupců nebo řádků.

#### DETERMINANTY V DIMENZI 2 A 3

Pro  $n = 2$  je, jak jsme čekali

$$\begin{vmatrix} a_{11} & a_{12} \\ a_{21} & a_{22} \end{vmatrix} = a_{11}a_{22} - a_{12}a_{21}.$$

Podobně pro  $n = 3$

$$\begin{vmatrix} a_{11} & a_{12} & a_{13} \\ a_{21} & a_{22} & a_{23} \\ a_{31} & a_{32} & a_{33} \end{vmatrix} = a_{11}a_{22}a_{33} - a_{13}a_{22}a_{31} + a_{13}a_{21}a_{32} - a_{11}a_{23}a_{32} + a_{12}a_{23}a_{31} - a_{12}a_{21}a_{33}.$$

Tomuto vzorci se říká *Saarusovo pravidlo*.

2.13a

**2.15. Parita permutace.** Jak tedy najít správná znaménka permutací? Říkáme, že dvojice prvků  $a, b \in X = \{1, \dots, n\}$  tvoří *inverzi* v permutaci  $\sigma$ , je-li  $a < b$  a  $\sigma(a) > \sigma(b)$ . Permutace  $\sigma$  se nazývá *sudá* (resp. *lichá*), obsahuje-li sudý (resp. lichý) počet inverzí.



*Parita permutace*  $\sigma$  je  $(-1)^{\text{počet inverzí}}$  a značíme ji  $\text{sgn}(\sigma)$ . Tolik tedy definice znamének našich členů determinantu. Chceme ale vědět, jak s paritou počítat. Z následujícího tvrzení o permutacích už je jasně vidět, že Saarusovo pravidlo skutečně počítá determinant v dimenzi 3.

**Věta.** Na množině  $X = \{1, 2, \dots, n\}$  je právě  $n!$  různých permutací. Tyto lze seřadit do posloupnosti tak, že každé dvě po sobě jdoucí se liší právě jednou transpozicí. Lze při tom začít libovolnou permutací. Každá transpozice mění paritu.

**DŮKAZ.** Pro jednoprvkové a dvouprvkové  $X$  tvrzení samozřejmě platí. Budeme postupovat indukcí přes dimenzi.

Předpokládejme, že tvrzení platí pro všechny množiny s  $n - 1$  prvky a uvažme permutaci  $\sigma(1) = a_1, \dots, \sigma(n) = a_n$ . Podle indukčního předpokladu všechny permutace, které mají na posledním místě  $a_n$ , dostaneme z tohoto pořadí postupným prováděním transpozic. Přitom jich bude  $(n - 1)!$ . V posledním z nich prohodíme  $\sigma(n) = a_n$  za některý z prvků, který dosud nebyl na posledním místě, a znovu uspořádáme všechny permutace s tímto vybraným prvkem na posledním místě do posloupnosti s požadovanými vlastnostmi. Po  $n$ -násobné aplikaci tohoto postupu získáme  $n(n - 1) = n!$  zaručeně různých permutací, tzn. všechny, právě předepsaným způsobem.

Všimněme si, že poslední věta dokazovaného tvrzení se nezdá příliš důležitá pro jeho využití. Je však velice důležitou částí postupu v našem důkazu indukcí přes počet prvků v  $X$ .

Zbývá tvrzení věty o paritách. Uvažme pořadí

$$(a_1, \dots, a_i, a_{i+1}, \dots, a_n),$$

ve kterém je  $r$  inverzí. Pak zjevně je v pořadí

$$(a_1, \dots, a_{i+1}, a_i, \dots, a_n)$$

buď  $r - 1$  nebo  $r + 1$  inverzí. Každou transpozici  $(a_i, a_j)$  lze přitom získat postupným provedením  $(j - i) + (j - i - 1) = 2(j - i) - 1$  transpozic sousedních prvků. Proto se provedením libovolné transpozice parita permutace změní. Navíc již víme, že všechny permutace lze získat prováděním transpozic.  $\square$

Zjistili jsme, že provedení libovolné transpozice změní paritu permutace a že každé pořadí čísel  $\{1, 2, \dots, n\}$  lze získat postupnými transpozicemi sousedních prvků. Dokázali jsme proto:

**Důsledek.** Na každé konečné množině  $X = \{1, \dots, n\}$  s  $n$  prvky,  $n > 1$ , je právě  $\frac{1}{2}n!$  sudých a  $\frac{1}{2}n!$  lichých permutací.

Dostáváme tedy

$$A^{-1} = \begin{pmatrix} -3/2 & 0 & 1/2 & 0 \\ 0 & -2 & 0 & 1 \\ 5/4 & 0 & -1/4 & 0 \\ 0 & 7/4 & 0 & -3/4 \end{pmatrix}.$$

 $\square$ 

2.24. Najděte algebraicky adjungovanou matici  $F^*$ , je-li

$$F = \begin{pmatrix} \alpha & \beta & 0 \\ \gamma & \delta & 0 \\ 0 & 0 & 1 \end{pmatrix}, \quad \alpha, \beta, \gamma, \delta \in \mathbb{R}.$$

2.25. Vypočítejte algebraicky adjungované matice k maticím

$$(a) \begin{pmatrix} 3 & -2 & 0 & -1 \\ 0 & 2 & 2 & 1 \\ 1 & -2 & -3 & -2 \\ 0 & 1 & 2 & 1 \end{pmatrix}, \quad (b) \begin{pmatrix} 1+i & 2i \\ 3-2i & 6 \end{pmatrix},$$

přičemž  $i$  označuje imaginární jednotku.

### D. Soustavy lineárních rovnic podruhé

Se soustavami lineárních rovnic jsme se již setkali na začátku kapitoly. Nyní se budeme věnovat této problematice podrobněji. Zkusme nejprve využít výpočtu inverzní matice k řešení systému lineárních soustav rovnic.

**2.26. Účastníci zájezdu.** Dvoudenního autobusového zájezdu se zúčastnilo 45 osob. První den se platilo vstupné na rozhlednu 30 Kč za dospělého, 16 Kč za dítě a 24 Kč za seniora, celkem 1 116 Kč. Druhý den se platilo vstupné do botanické zahrady 40 Kč za dospělého, 24 Kč za dítě a 34 Kč za seniora, celkem 1 542 Kč. Kolik bylo mezi výletníky dospělých, dětí a seniorů?

**Řešení.** Zavedme proměnné

$x$  udávající „počet dospělých“;

$y$  udávající „počet dětí“;

$z$  udávající „počet seniorů“.

Zájezdu se zúčastnilo 45 osob, a proto

$$x + y + z = 45.$$

Celkové vstupné na rozhlednu a do botanické zahrady při zavedení našich proměnných a při zachování pořadí činí  $30x + 16y + 24z$  a  $40x + 24y + 34z$ . My je ovšem známe (1 116 Kč a 1 542 Kč). Máme tak

$$\begin{aligned} 30x + 16y + 24z &= 1116, \\ 40x + 24y + 34z &= 1542. \end{aligned}$$

Soustavu tří lineárních rovnic zapíšeme maticově jako

$$\begin{pmatrix} 1 & 1 & 1 \\ 30 & 16 & 24 \\ 40 & 24 & 34 \end{pmatrix} \cdot \begin{pmatrix} x \\ y \\ z \end{pmatrix} = \begin{pmatrix} 45 \\ 1116 \\ 1542 \end{pmatrix}.$$

Řešením je

$$\begin{pmatrix} x \\ y \\ z \end{pmatrix} = \frac{1}{6} \begin{pmatrix} 16 & 5 & -4 \\ 30 & 3 & -3 \\ -40 & -8 & 7 \end{pmatrix} \cdot \begin{pmatrix} 45 \\ 1116 \\ 1542 \end{pmatrix} = \frac{1}{6} \begin{pmatrix} 132 \\ 72 \\ 66 \end{pmatrix} = \begin{pmatrix} 22 \\ 12 \\ 11 \end{pmatrix},$$

neboť

$$\begin{pmatrix} 1 & 1 & 1 \\ 30 & 16 & 24 \\ 40 & 24 & 34 \end{pmatrix}^{-1} = \frac{1}{6} \begin{pmatrix} 16 & 5 & -4 \\ 30 & 3 & -3 \\ -40 & -8 & 7 \end{pmatrix}. \quad \boxed{2.13b}$$

Slovně vyjádřeno, zájezdu se zúčastnilo 22 dospělých, 12 dětí, 11 seniorů.  $\square$

2.27. Za pomoci výpočtu inverzní matice určete řešení soustavy

$$\begin{aligned} x_1 + x_2 + x_3 + x_4 &= 2, \\ x_1 + x_2 - x_3 - x_4 &= 3, \\ x_1 - x_2 + x_3 - x_4 &= 3, \\ x_1 - x_2 - x_3 + x_4 &= 5. \end{aligned}$$

Co když však matice soustavy není invertibilní? Potom nemůžeme k jejímu řešení inverzní matice využít. Taková soustava pak má jiný počet než jedno řešení. Jak možná čtenář již ví, tak systém lineárních rovnic buď nemá řešení, nebo má jedno řešení, nebo jich má nekonečně mnoho (například nemůže mít právě dvě řešení). Prostor řešení je buď vektorový prostor (v případě, že pravá strana všech rovnic v systému je nulová, hovoříme o *homogenním systému* lineárních rovnic) nebo afinní prostor, viz 4.1, (v případě, že pravá strana alespoň jedné z rovnic je nenulová, hovoříme o *nehomogenním systému* lineárních rovnic). Ukažme si tedy různé možné typy řešení soustavy lineárních rovnic na příkladech.  $\boxed{2.12}$

2.28. Pro jaké hodnoty parametrů  $a, b \in \mathbb{R}$  má lineární systém

$$\begin{aligned} x_1 - ax_2 - 2x_3 &= b, \\ x_1 + (1-a)x_2 &= b-3, \\ x_1 + (1-a)x_2 + ax_3 &= 2b-1 \end{aligned}$$

- (a) právě 1 řešení;  
 (b) žádné řešení;  
 (c) alespoň 2 řešení?

**Řešení.** Soustavu „tradičně“ přepíšeme do rozšířené matice a upravíme

$$\left( \begin{array}{ccc|c} 1 & -a & -2 & b \\ 1 & 1-a & 0 & b-3 \\ 1 & 1-a & a & 2b-1 \end{array} \right) \sim \left( \begin{array}{ccc|c} 1 & -a & -2 & b \\ 0 & 1 & 2 & -3 \\ 0 & 1 & a+2 & b-1 \end{array} \right)$$

Jestliže složíme dvě permutace za sebou, znamená to provést napřed všechny transpozice tvořící první a pak druhou. Proto pro libovolné permutace  $\sigma, \eta : X \rightarrow X$  platí

$$\operatorname{sgn}(\sigma \circ \eta) = \operatorname{sgn}(\sigma) \cdot \operatorname{sgn}(\eta)$$

a proto také

$$\operatorname{sgn}(\sigma^{-1}) = \operatorname{sgn}(\sigma).$$

**2.16. Rozklad permutace na cykly.** Dobrým nástrojem pro praktickou práci s permutacemi je jejich rozklad na tzv. cykly.

### CYKLY

Permutace  $\sigma$  na množině  $X = \{1, \dots, n\}$  se nazývá *cyklus* délky  $k$ , jestliže je možné najít prvky  $a_1, \dots, a_k \in X$ ,  $2 \leq k \leq n$ , takové, že  $\sigma(a_i) = a_{i+1}$ ,  $i = 1, \dots, k-1$ , zatímco  $\sigma(a_k) = a_1$  a ostatní prvky v  $X$  jsou pro  $\sigma$  samodružné. Cykly délky dva jsou právě transpozice.

Každá permutace je složením cyklů. Cykly sudé délky mají paritu  $-1$ , cykly liché délky mají paritu  $1$ .



Poslední tvrzení musíme ještě dokázat. Jestliže definujeme pro danou permutaci  $\sigma$  relaci  $R$  tak, že dva prvky  $x, y \in X$  jsou v relaci právě když  $\sigma^r(x) = y$  pro nějakou iteraci permutace  $\sigma$ , pak zjevně jde o relaci ekvivalence (ověřte si podrobně!). Protože je  $X$  konečná množina, musí pro nějaké  $\ell$  být  $\sigma^\ell(x) = x$ . Jestliže zvolíme jednu třídu ekvivalence  $\{x, \sigma(x), \dots, \sigma^{\ell-1}(x)\} \subset X$  a ostatní prvky definujeme jako samodružné, dostáváme cyklus. Evidentně je pak celá původní permutace  $X$  složením všech těchto cyklů pro jednotlivé třídy naší ekvivalence a je jedno v jakém pořadí cykly skládáme.

Pro určení parity si nyní stačí povšimnout, že cykly sudé délky lze napsat jako lichý počet transpozic, proto mají paritu  $-1$ . Obdobně cyklus liché délky dostaneme ze sudého počtu transpozic a proto mají paritu  $1$ .

**2.17. Jednoduché vlastnosti determinantu.** Poznání vlastností permutací a jejich parit z předchozích odstavců nám teď umožní rychle odvodit základní vlastnosti determinantů.



Pro každou matici  $A = (a_{ij})$  typu  $m/n$  nad skaláry z  $\mathbb{K}$  definujeme *matici transponovanou* k  $A$ . Jde o matici  $A^T = (a'_{ij})$  s prvky  $a'_{ij} = a_{ji}$ , která je typu  $n/m$ .

Čtvercová matice  $A$  s vlastností  $A = A^T$  se nazývá *symetrická*. Jestliže platí  $A = -A^T$ , pak se  $A$  nazývá *antisymetrická*.

### JEDNODUCHÉ VLASTNOSTI DETERMINANTŮ

**Věta.** Pro každou čtvercovou matici  $A = (a_{ij})$  platí následující tvrzení:

- (1)  $|A^T| = |A|$   
 (2) Je-li jeden řádek v  $A$  tvořen nulovými prvky z  $\mathbb{K}$ , pak  $|A| = 0$ .

- (3) Jestliže matice  $B$  vznikla z  $A$  výměnou dvou řádků, pak  $|A| = -|B|$ .
- (4) Jestliže matice  $B$  vznikla z  $A$  vynásobením řádku skalárem  $a \in \mathbb{K}$ , pak  $|B| = a|A|$ .
- (5) Jsou-li prvky  $k$ -tého řádku v  $A$  tvaru  $a_{kj} = c_{kj} + b_{kj}$  a všechny ostatní řádky v maticích  $A$ ,  $B = (b_{ij})$ ,  $C = (c_{ij})$  jsou stejné, pak  $|A| = |B| + |C|$ .
- (6) Determinant  $|A|$  se nezmění, přičteme-li k libovolnému řádku  $A$  lineární kombinaci ostatních řádků.

**DŮKAZ.** (1) Členy determinantů  $|A|$  a  $|A^T|$  jsou v bijektivní korespondenci. Člen  $\text{sgn}(\sigma)a_{1\sigma(1)} \cdot a_{2\sigma(2)} \cdots a_{n\sigma(n)}$  přitom v  $A^T$  odpovídá člen (na pořadí skalárů v součinu totiž nezáleží)



$$\begin{aligned} \text{sgn}(\sigma)a_{\sigma(1)1} \cdot a_{\sigma(2)2} \cdots a_{\sigma(n)n} &= \\ &= \text{sgn}(\sigma)a_{1\sigma^{-1}(1)} \cdot a_{2\sigma^{-1}(2)} \cdots a_{n\sigma^{-1}(n)}, \end{aligned}$$

přičemž musíme ověřit, že je tento člen opatřen správným znaménkem. Parita  $\sigma$  a  $\sigma^{-1}$  je ale stejná, jde tedy opravdu o člen v determinantu  $|A^T|$  a první tvrzení je dokázáno.

(2) Plyne přímo z definice determinantu, protože všechny jeho členy obsahují z každého řádku právě jeden člen. Je-li jeden z řádků nulový, budou tedy všechny členy determinantu nulové.

(3) Ve všech členech  $|B|$  dojde ve srovnání s determinan-tem  $|A|$  u permutací k přidání jedné transpozice, znaménko všech členů determinantu tedy bude opačné.

(4) Vyplývá přímo z definice, protože členy determi- nantu  $|B|$  jsou členy  $|A|$  vynásobené skalárem  $a$ .

(5) V každém členu  $|A|$  je právě jeden součinitel z  $k$ -tého řádku matice  $A$ . Protože platí distributivní zákon pro násobení a sčítání v  $\mathbb{K}$ , vyplývá tvrzení přímo z definičního vztahu pro determinanty.

(6) Jsou-li v  $A$  dva stejné řádky, jsou mezi členy deter- minantu vždy dva sčítance stejné až na znaménko. Proto je v takovém případě  $|A| = 0$ . Je tedy podle tvrzení (5) možné přičíst k vybranému řádku libovolný jiný řádek, aniž by se změnila hodnota determinantu. Vzhledem k tvrzení (4) lze ale přičíst i skalární násobek libovolného jiného řádku.  $\square$

2.13

**2.18. Výpočetní důsledky.** Podle předchozí věty umíme převést elementárními řádkovými transformacemi každou čtvercovou matici  $A$  na řádkově schodovitý tvar, aniž bychom změnila hodnotu jejího determinantu. Jen musíme dávat pozor, abychom vždy k upravovanému řádku pouze přičítali lineární kombinace řádků ostatních.



$$\sim \left( \begin{array}{ccc|c} 1 & -a & -2 & b \\ 0 & 1 & 2 & -3 \\ 0 & 0 & a & b+2 \end{array} \right).$$

Dodejme, že v prvním kroku jsme první řádek odečetli od druhého a od třetího a ve druhém kroku pak druhý od třetího. Vidíme, že sou- stava bude mít právě jedno řešení (které lze určit zpětnou eliminací) tehdy a jenom tehdy, když  $a \neq 0$ . Pro  $a = 0$  totiž ve třetím sloupci není první nenulové číslo nějakého řádku. Je-li  $a = 0$  a  $b = -2$ , dostá- váme nulový řádek, kdy volba  $x_3 \in \mathbb{R}$  jako parametru dává nekonečně mnoho různých řešení. Pro  $a = 0$  a  $b \neq -2$  poslední rovnice  $a = b+2$  nemůže být splněna – soustava nemá řešení.

Poznamenejme, že pro  $a = 0$ ,  $b = -2$  jsou řešeními

$$(x_1, x_2, x_3) = (-2 + 2t, -3 - 2t, t), \quad t \in \mathbb{R}$$

a pro  $a \neq 0$  je jediným řešením trojice

$$\left( \frac{-3a^2 - ab - 4a + 2b + 4}{a}, -\frac{2b + 3a + 4}{a}, \frac{b + 2}{a} \right).$$

$\square$

**2.29.** Zjistěte počet řešení soustav

(a)

$$\begin{aligned} 12x_1 + \sqrt{5}x_2 + 11x_3 &= -9, \\ x_1 &- 5x_3 = -9, \\ x_1 &+ 2x_3 = -7; \end{aligned}$$

(b)

$$\begin{aligned} 4x_1 + 2x_2 - 12x_3 &= 0, \\ 5x_1 + 2x_2 - x_3 &= 0, \\ -2x_1 - x_2 + 6x_3 &= 4; \end{aligned}$$

(c)

$$\begin{aligned} 4x_1 + 2x_2 - 12x_3 &= 0, \\ 5x_1 + 2x_2 - x_3 &= 1, \\ -2x_1 - x_2 + 6x_3 &= 0. \end{aligned}$$

**Řešení.** Vektory  $(1, 0, -5)$ ,  $(1, 0, 2)$  jsou očividně lineárně nezávislé (jeden není násobkem druhého) a vektor  $(12, \sqrt{5}, 11)$  nemůže být je- jich lineární kombinací (jeho druhá složka je nenulová), a proto matice, jejímiž řádky jsou tyto tři lineárně nezávislé vektory, je invertibilní. Soustava ve variantě (a) má tedy právě jedno řešení.

U soustav ve variantách (b), (c) si stačí povšimnout, že je

$$(4, 2, -12) = -2(-2, -1, 6).$$

V případě (b) tak sečtení první rovnice s dvojnásobkem třetí dává  $0 = 8$  – soustava nemá řešení; v případě (c) je třetí rovnice násobkem první – soustava má zřejmě nekonečně mnoho řešení.  $\square$

**2.30.** Najděte (libovolný) lineární systém, jehož množina řešení je právě

$$\{(t + 1, 2t, 3t, 4t); t \in \mathbb{R}\}.$$

**Řešení.** Takovým systémem je např.

$$2x_1 - x_2 = 2, \quad 2x_2 - x_4 = 0, \quad 4x_3 - 3x_4 = 0.$$

Těmto rovnicím totiž uvedené řešení vyhovuje pro každé  $t \in \mathbb{R}$  a vektory

$$(2, -1, 0, 0), \quad (0, 2, 0, -1), \quad (0, 0, 4, -3)$$

zadávající levé strany rovnic jsou zřejmě lineárně nezávislé (množina řešení obsahuje jeden parametr).  $\square$

**2.31.** Stanovte hodnotu matice

$$A = \begin{pmatrix} 1 & -3 & 0 & 1 \\ 1 & -2 & 2 & -4 \\ 1 & -1 & 0 & 1 \\ -2 & -1 & 1 & -2 \end{pmatrix}.$$

Poté stanovte počet řešení systému lineárních rovnic

$$\begin{aligned} x_1 + x_2 + x_3 - 2x_4 &= 4, \\ -3x_1 - 2x_2 - x_3 - x_4 &= 5, \\ + 2x_2 + x_4 &= 1, \\ x_1 - 4x_2 + x_3 - 2x_4 &= 3 \end{aligned}$$

a také všechna řešení systému

$$\begin{aligned} x_1 + x_2 + x_3 - 2x_4 &= 0, \\ -3x_1 - 2x_2 - x_3 - x_4 &= 0, \\ + 2x_2 + x_4 &= 0, \\ x_1 - 4x_2 + x_3 - 2x_4 &= 0 \end{aligned}$$

a systému

$$\begin{aligned} x_1 - 3x_2 &= 1, \\ x_1 - 2x_2 + 2x_3 &= -4, \\ x_1 - x_2 &= 1, \\ -2x_1 - x_2 + x_3 &= -2. \end{aligned}$$

**Řešení.** Protože je  $\det A = -10$ , tedy nenulový, jsou sloupce matice  $A$  lineárně nezávislé, a tudíž se její hodnota rovná jejímu rozměru.

První z uvedených třech systémů je zadán rozšířenou maticí

$$\left( \begin{array}{cccc|c} 1 & 1 & 1 & -2 & 4 \\ -3 & -2 & -1 & -1 & 5 \\ 0 & 2 & 0 & 1 & 1 \\ 1 & -4 & 1 & -2 & 3 \end{array} \right).$$

Ovšem levá strana je právě  $A^T$  s determinantom  $|A^T| = |A| \neq 0$ . Existuje tedy matice  $(A^T)^{-1}$  a soustava má právě 1 řešení

$$(x_1, x_2, x_3, x_4)^T = (A^T)^{-1} \cdot (4, 5, 1, 3)^T.$$

Druhý ze systémů má totožnou levou stranu (určenou maticí  $A^T$ ) s prvním. Protože absolutní členy na pravé straně lineárních systémů

### VÝPOČET DETERMINANTŮ ELIMINACÍ

Je-li matice  $A$  v řádkovém schodovitém tvaru, pak v každém členu  $|A|$  je alespoň jeden součinitel prvkem pod diagonálou s výjimkou případu, kdy jsou všechny jen na diagonále. Pak je ale jediným nenulovým členem determinantu ten, který odpovídá identické permutaci. Vidíme tedy, že determinant takové matice ve schodovitém tvaru je

$$|A| = a_{11} \cdot a_{22} \cdot \dots \cdot a_{nn}.$$

Předchozí věta tedy poskytuje velice efektivní metodu výpočtu determinantů pomocí Gaussovy eliminační metody, viz odstavec 2.7.



Všimněme si také hezkého důsledku prvního tvrzení předchozí věty o rovnosti determinantů matice a matice transponované. Zaručuje totiž, že kdykoliv se nám podaří dokázat nějaké tvrzení o determinantech formulované s využitím řádků příslušné matice, pak analogické tvrzení platí i pro sloupce. Např. tedy můžeme okamžitě všechna tvrzení (2)–(6) této věty přeformulovat i pro přičítání lineárních kombinací ostatních sloupců k vybranému. To můžeme hned použít pro odvození následujícího vzorce pro přímý výpočet řešení systémů lineárních rovnic:

### CRAMMEROVO PRAVIDLO

Uvažme systém  $n$  lineárních rovnic pro  $n$  proměnných s maticí systému  $A = (a_{ij})$  a sloupcem hodnot  $b = (b_1, \dots, b_n)$ , tj. v maticovém zápisu řešíme rovnici  $A \cdot x = b$ . Jestliže existuje inverze  $A^{-1}$ , pak jsou jednotlivé komponenty jediného řešení  $x = (x_1, \dots, x_n)$  dány vztahem

$$x_i = |A_i| |A|^{-1},$$

kde matice  $A_i$  vznikne z matice systému  $A$  výměnou  $i$ -tého sloupce za sloupec hodnot  $b$ .

Skutečně, jak jsme viděli, inverze k matici systému existuje právě tehdy, když má systém jediné řešení. Jestliže tedy takové řešení  $x$  máme, můžeme za sloupec  $b$  dosadit do matice  $A_i$  příslušnou kombinaci sloupců matice  $A$ , tj. hodnoty  $b_i = a_{i1}x_1 + \dots + a_{in}x_n$ . Pak ale odečtením  $x_k$ -násobků všech ostatních sloupců zůstane v  $i$ -tém sloupci pouze  $x_i$ -násobek původního sloupce z  $A$ . Číslo  $x_i$  tedy můžeme vytknout před determinant a získáme rovnost  $|A_i| |A|^{-1} = x_i |A| |A|^{-1} = x_i$ , což je požadované tvrzení.

Dále si všimněme, že vlastnosti (3)–(5) z předchozí věty říkají, že determinant jakožto zobrazení, které  $n$  vektorům dimenze  $n$  (řádkům nebo sloupcům matice) přiřadí skalár, je antisymetrické zobrazení lineární v každém svém argumentu, přesně jako jsme podle analogie z dimenze 2 požadovali.



**2.19. Další vlastnosti determinantu.** Časem uvidíme, že skutečně stejně jako v dimenzi dva je determinant matice roven orientovanému objemu rovnoběžnostěny určeného jejími sloupci. Uvidíme také, že když uvážíme zobrazení  $x \mapsto A \cdot x$  zadané čtvercovou maticí  $A$  na  $\mathbb{R}^n$ , pak můžeme determinant této matice vidět jako vyjádření poměru mezi objemem rovnoběžnostěny daných vektory  $x_1, \dots, x_n$  a jejich obrazy  $A \cdot x_1, \dots, A \cdot x_n$ . Protože skládání zobrazení  $x \mapsto A \cdot x \mapsto B \cdot (A \cdot x)$  odpovídá násobení matic, je snad docela pochopitelná tzv. *Cauchyova věta*:



CAUCHYOVA VĚTA

**Věta.** Necht'  $A = (a_{ij})$ ,  $B = (b_{ij})$  jsou čtvercové matice dimenze  $n$  nad okruhem skalárů  $\mathbb{K}$ . Pak  $|A \cdot B| = |A| \cdot |B|$ .

Všimněme si, že z Cauchyovy věty a z reprezentace elementárních řákových transformací pomocí násobení vhodnými maticemi (viz 2.8), okamžitě vyplývají tvrzení (2), (3) a (6) z Věty 2.17.

My teď tuto větu odvodíme ryze algebraicky už proto, že předchozí odvolávka na geometrický argument těžko může fungovat pro libovolné skaláry. Základním nástrojem je tzv. *rozvoj determinantu* podle jednoho nebo více řádků či sloupců. Budeme proto potřebovat něco málo technické přípravy. Čtenář, který by snad tolik abstrakce nestrávil může tyto pasáže přeskočit a vstřebet pouze znění Laplaceovy věty a jejich důsledků.



1.14a

**2.20. Minory matice.** Při úvahách o maticích a jejich vlastnostech budeme často pracovat jen s jejich částmi. Budeme si proto muset zavést několik pojmů.



SUBMATICE A MINORY

Necht'  $A = (a_{ij})$  je matice typu  $m/n$  a  $1 \leq i_1 < \dots < i_k \leq m$ ,  $1 \leq j_1 < \dots < j_\ell \leq n$  jsou pevně zvolená přirozená čísla. Pak matici

$$M = \begin{pmatrix} a_{i_1 j_1} & a_{i_1 j_2} & \dots & a_{i_1 j_\ell} \\ \vdots & & & \vdots \\ a_{i_k j_1} & a_{i_k j_2} & \dots & a_{i_k j_\ell} \end{pmatrix}$$

typu  $k/\ell$  nazýváme *submaticí matice*  $A$  určenou řádky  $i_1, \dots, i_k$  a sloupci  $j_1, \dots, j_\ell$ . Zbývajícimi  $(m - k)$  řádky a  $(n - \ell)$  sloupci je určena matice  $M^*$  typu  $(m - k)/(n - \ell)$ , která se nazývá *doplňková submatice* k  $M$  v  $A$ . Při  $k = \ell$  je definován  $|M|$ , který nazýváme *subdeterminant* nebo *minor* řádu  $k$  matice  $A$ . Je-li  $m = n$ , pak při  $k = \ell$  je i  $M^*$  čtvercová a  $|M^*|$  se nazývá *doplňek minoru*  $|M|$ , nebo *doplňkový minor* k submatici  $M$  v matici  $A$ . Skalár

$$(-1)^{i_1 + \dots + i_k + j_1 + \dots + j_\ell} \cdot |M^*|$$

se nazývá *algebraický doplněk* k minoru  $|M|$ .

neovlivňují počet řešení a protože každý homogenní systém má nulové řešení, dostáváme jako jediné řešení druhého systému uspořádanou čtveřici

$$(x_1, x_2, x_3, x_4) = (0, 0, 0, 0).$$

Třetí systém má rozšířenou matici

$$\left( \begin{array}{ccc|c} 1 & -3 & 0 & 1 \\ 1 & -2 & 2 & -4 \\ 1 & -1 & 0 & 1 \\ -2 & -1 & 1 & -2 \end{array} \right),$$

což je matice  $A$  (pouze poslední sloupec je uveden za svislou čarou). Pokud budeme tuto matici upravovat na schodovitý tvar, musíme obdržet řádek

$$(0 \ 0 \ 0 \ | \ a), \quad \text{kde } a \neq 0.$$

Víme totiž, že sloupec na pravé straně není lineární kombinací sloupců na levé straně (hodnota matice je 4). Tento systém nemá řešení.  $\square$

2.32. Vyřešte systém homogenních lineárních rovnic zadaný maticí

$$\begin{pmatrix} 0 & \sqrt{2} & \sqrt{3} & \sqrt{6} & 0 \\ 2 & 2 & \sqrt{3} & -2 & -\sqrt{5} \\ 0 & 2 & \sqrt{5} & 2\sqrt{3} & -\sqrt{3} \\ 3 & 3 & \sqrt{3} & -3 & 0 \end{pmatrix}.$$

2.33. Určete všechna řešení systému

$$\begin{array}{rccccrcr} & & x_2 & & + & x_4 & = & 1, \\ 3x_1 & - & 2x_2 & - & 3x_3 & + & 4x_4 & = & -2, \\ x_1 & + & x_2 & - & x_3 & + & x_4 & = & 2, \\ x_1 & & & - & x_3 & & & = & 1. \end{array}$$

2.34. Vyřešte

$$3x - 5y + 2u + 4z = 2,$$

$$5x + 7y - 4u - 6z = 3,$$

$$7x - 4y + u + 3z = 5.$$

2.35. Rozhodněte o řešitelnosti soustavy lineárních rovnic

$$3x_1 + 3x_2 + x_3 = 1,$$

$$2x_1 + 3x_2 - x_3 = 8,$$

$$2x_1 - 3x_2 + x_3 = 4,$$

$$3x_1 - 2x_2 + x_3 = 6$$

třech proměnných  $x_1, x_2, x_3$ .

2.36. Stanovte počet řešení 2 soustav 5 lineárních rovnic

$$A^T \cdot x = (1, 2, 3, 4, 5)^T, \quad A^T \cdot x = (1, 1, 1, 1, 1)^T,$$

kde

$$x = (x_1, x_2, x_3)^T \quad \text{a} \quad A = \begin{pmatrix} 3 & 1 & 7 & 5 & 0 \\ 0 & 0 & 0 & 0 & 1 \\ 2 & 1 & 4 & 3 & 0 \end{pmatrix}. \quad \boxed{2.14b}$$

2.37. Nechť je dáno

$$A = \begin{pmatrix} 4 & 5 & 1 \\ 3 & 4 & 0 \\ 1 & 1 & 1 \end{pmatrix}, \quad x = \begin{pmatrix} x_1 \\ x_2 \\ x_3 \end{pmatrix}, \quad b = \begin{pmatrix} b_1 \\ b_2 \\ b_3 \end{pmatrix}.$$

Najděte taková reálná čísla  $b_1, b_2, b_3$ , aby systém lineárních rovnic  $A \cdot x = b$  měl:

- (a) nekonečně mnoho řešení;
- (b) právě jedno řešení;
- (c) žádné řešení;
- (d) právě 4 řešení.

2.38. Určete řešení soustavy lineárních rovnic

$$ax_1 + 4x_2 + 2x_3 = 0,$$

$$2x_1 + 3x_2 - x_3 = 0,$$

v závislosti na parametru  $a \in \mathbb{R}$ .

2.39. V závislosti na hodnotě parametru  $a \in \mathbb{R}$  rozhodněte o počtu řešení soustavy

$$\begin{pmatrix} 4 & 1 & 4 & a \\ 2 & 3 & 6 & 8 \\ 3 & 2 & 5 & 4 \\ 6 & -1 & 2 & -8 \end{pmatrix} \cdot \begin{pmatrix} x_1 \\ x_2 \\ x_3 \\ x_4 \end{pmatrix} = \begin{pmatrix} 2 \\ 5 \\ 3 \\ -3 \end{pmatrix}.$$

2.40. Rozhodněte, zda existuje homogenní soustava lineárních rovnic tří proměnných, jejíž množinou řešení je

- (a)  $\{(0, 0, 0)\}$ ;
- (b)  $\{(0, 1, 0), (0, 0, 0), (1, 1, 0)\}$ ;
- (c)  $\{(x, 1, 0); x \in \mathbb{R}\}$ ;
- (d)  $\{(x, y, 2y); x, y \in \mathbb{R}\}$ .

Submatice tvořené prvními  $k$  řádky a sloupci se nazývají *vedoucí hlavní submatice*, jejich determinanty *vedoucí hlavní minory* matice  $A$ . Zvolíme-li  $k$  po sobě jdoucích řádků a sloupců, počínaje  $i$ -tým řádkem, hovoříme o *hlavních submaticích*, resp. *hlavních minorech*.

Při speciální volbě  $k = \ell = 1$ ,  $m = n$  říkáme příslušnému doplňkovému minoru *algebraický doplněk*  $A_{ij}$  prvku  $a_{ij}$  matice  $A$ .

**2.21. Laplaceův rozvoj determinantu.** Pokud je  $|M|$  hlavní minor matice  $A$  řádu  $k$ , pak přímo z definice determinantu je vidět, že každý z jednotlivých  $k!(n-k)!$  sčítanců v součinu  $|M|$  s jeho algebraickým doplňkem je členem determinantu  $|A|$ .



Obecně, uvažme submatici  $M$ , tj. čtvercovou matici, určenou řádky  $i_1 < i_2 < \dots < i_k$  a sloupci  $j_1 < \dots < j_k$ . Pak pomocí  $(i_1 - 1) + \dots + (i_k - k)$  výměn sousedních řádků a  $(j_1 - 1) + \dots + (j_k - k)$  výměn sousedních sloupců v  $A$  převedeme tuto submatici  $M$  na hlavní submatici a doplňková matice přitom přejde právě na doplňkovou matici. Celá matice  $A$  přejde přitom v matici  $B$ , pro kterou platí podle 2.17 a definice determinantu  $|B| = (-1)^\alpha |A|$ , kde  $\alpha = \sum_{h=1}^k (i_h - j_h) - 2(1 + \dots + k)$ . Tím jsme ověřili:

**Tvrzení.** Jestliže je  $A$  je čtvercová matice dimenze  $n$  a  $|M|$  je její minor řádu  $k < n$ , pak součin libovolného členu  $|M|$  s libovolným členem jeho algebraického doplňku je členem  $|A|$ .

Toto tvrzení už podbízí představu, že by se pomocí takových součinů menších determinantů skutečně mohl determinant matic vyjadřovat. Víme, že  $|A|$  obsahuje právě  $n!$  různých členů, právě jeden pro každou permutaci. Tyto členy jsou navzájem různé jakožto polynomy v prvcích (neznámé obecné) matice  $A$ . Jestliže tedy ukážeme, že navzájem různých výrazů z předchozího tvrzení je právě tolik, jako je tomu u determinantu  $|A|$ , pak dostaneme jejich součtem právě determinant  $|A|$ .

Zbývá proto ukázat, že uvažované součiny  $|M| \cdot |M^*|$  obsahují právě  $n!$  různých členů z  $|A|$ .

Ze zvolených  $k$  řádků lze vybrat  $\binom{n}{k}$  minorů  $M$  a podle předchozího lematu je každý z  $k!(n-k)!$  členů v součinech  $|M|$  s jejich algebraickými doplňky členem  $|A|$ . Přitom pro různé výběry  $M$  nemůžeme nikdy obdržet stejné členy a jednotlivé členy v  $(-1)^{i_1 + \dots + i_k + j_1 + \dots + j_k} \cdot |M| \cdot |M^*|$  jsou také po dvou různé. Celkem tedy máme právě požadovaný počet  $k!(n-k)!\binom{n}{k} = n!$  členů.

Tím jsme bezzbytku dokázali:

#### LAPLACEOVA VĚTA

**Věta.** Nechť  $A = (a_{ij})$  je čtvercová matice dimenze  $n$  nad libovolným okruhem skalárů a nechť je pevně zvoleno  $k$  jejích řádků. Pak  $|A|$  je součet všech  $\binom{n}{k}$  součinů  $(-1)^{i_1 + \dots + i_k + j_1 + \dots + j_k} \cdot |M| \cdot |M^*|$  minorů řádu  $k$  vybraných ze zvolených řádků, s jejich algebraickými doplňky.

Laplaceova věta převádí výpočet  $|A|$  na výpočet determinantů nižšího stupně. Těto metodě výpočtu se říká *Laplaceův rozvoj* podle zvolených řádků či sloupců. Např. rozvoj podle  $i$ -tého řádku nebo podle  $j$ -tého sloupce:

$$|A| = \sum_{j=1}^n a_{ij} A_{ij}$$

kde  $A_{ij}$  označuje algebraický doplněk k prvku  $a_{ij}$  (tj. k minoru stupně 1).

Při praktickém počítání determinantů bývá výhodné kombinovat Laplaceův rozvoj s přímou metodou přičítání lineárních kombinací řádků či sloupců.

**2.22. Důkaz Cauchyovy věty.** Důkaz se opírá o trikovou ale elementární aplikaci Laplaceovy věty. Použijeme prostě dvakrát Laplaceův rozvoj na vhodné matice.



Uvažme nejprve následující matici  $H$  dimenze  $2n$  (používáme tzv. blokovou symboliku, tj. píšeme matici jakoby složenou ze (sub)matic  $A, B$  atd.)

$$H = \begin{pmatrix} A & 0 \\ -E & B \end{pmatrix} = \begin{pmatrix} a_{11} & \dots & a_{1n} & 0 & \dots & 0 \\ \vdots & & \vdots & \vdots & & \vdots \\ a_{n1} & \dots & a_{nn} & 0 & \dots & 0 \\ -1 & & 0 & b_{11} & \dots & b_{1n} \\ & \ddots & & \vdots & & \vdots \\ 0 & & -1 & b_{n1} & \dots & b_{nn} \end{pmatrix}$$

Laplaceovým rozvojem podle prvních  $n$  řádků obdržíme právě  $|H| = |A| \cdot |B|$ .

Nyní budeme k posledním  $n$  sloupcům postupně přičítat lineární kombinace prvních  $n$  sloupců tak, abychom obdrželi matici s nulami v pravém dolním rohu. Dostaneme

$$K = \begin{pmatrix} a_{11} & \dots & a_{1n} & c_{11} & \dots & c_{1n} \\ \vdots & & \vdots & \vdots & & \vdots \\ a_{n1} & \dots & a_{nn} & c_{n1} & \dots & c_{nn} \\ -1 & & 0 & 0 & \dots & 0 \\ & \ddots & & \vdots & & \vdots \\ 0 & & -1 & 0 & \dots & 0 \end{pmatrix}.$$

Prvky submatice nahoře vpravo přitom musí splňovat

$$c_{ij} = a_{i1}b_{1j} + a_{i2}b_{2j} + \dots + a_{in}b_{nj}$$

neboli jde právě o prvky součinu  $A \cdot B$  a  $|K| = |H|$ . Přitom rozvojem podle posledních  $n$  sloupců dostáváme

$$|K| = (-1)^{n+1+\dots+2n} |A \cdot B| = (-1)^{2n \cdot (n+1)} \cdot |A \cdot B| = |A \cdot B|.$$

Tím je Cauchyova věta bezzbytku dokázána.

**2.41.** Řešte soustavu lineárních rovnic v závislosti na reálných parametrech  $a, b$ .

$$\begin{aligned} x + 2y + bz &= a \\ x - y + 2z &= 1 \\ 3x - y &= 1. \end{aligned}$$

## E. Vektorové prostory

Vlastnosti vektorového prostoru, kterých jsme si všimli u roviny či třírozměrného prostoru, ve kterém žijeme, má celá řada jiných množin. Ukažme si to na příkladech.

**2.42. Vektorový prostor ano či ne?** Rozhodněte o následujících množinách, jestli jsou vektorovými prostory nad tělesem reálných čísel:

i) Množina řešení soustavy

$$\begin{aligned} x_1 + x_2 + \dots + x_{98} + x_{99} + x_{100} &= 100x_1, \\ x_1 + x_2 + \dots + x_{98} + x_{99} &= 99x_1, \\ x_1 + x_2 + \dots + x_{98} &= 98x_1, \\ &\vdots \\ x_1 + x_2 &= 2x_1. \end{aligned}$$

ii) Množina řešení rovnice

$$x_1 + x_2 + \dots + x_{100} = 0$$

iii) Množina řešení rovnice

$$x_1 + 2x_2 + 3x_3 + \dots + 100x_{100} = 1.$$

iv) Množina všech reálných, resp. komplexních, posloupností. (Reálnou, resp. komplexní posloupností rozumíme zobrazení  $f : \mathbb{N} \rightarrow \mathbb{R}$ , resp.  $f : \mathbb{N} \rightarrow \mathbb{C}$ . O obrazu čísla  $n$  pak hovoříme jako o  $n$ -tém členu posloupnosti, většinou jej označujeme dolním indexem, např.  $a_n$ .)

v) Množina řešení homogenní diferenční rovnice.

vi) Množina řešení nehomogenní diferenční rovnice.

vii)  $\{f : \mathbb{R} \rightarrow \mathbb{R} \mid f(1) = f(2) = c, c \in \mathbb{R}\}$

**Řešení.**

i) Ano. Jsou to všechny reálné násobky vektoru  $(\underbrace{1, 1, 1, \dots, 1}_{100 \text{ jedniček}})$ , tedy vektorový prostor dimenze 1 (viz dále (2.29)).

- ii) Ano. Jedná se o prostor dimenze 99 (odpovídá počtu volných parametrů řešení). Obecně je tvoří množina řešení libovolné homogenní soustavy lineárních rovnic vektorový prostor.
- iii) Ne. Např. dvojnásobek řešení  $x_1 = 1, x_i = 0, i = 2, \dots, 100$  není řešením dané rovnice. Množina řešení však tvoří tzv. afinní prostor (viz (??)).
- iv) Ano. Množina všech reálných, resp. komplexních, posloupností tvoří zřejmě reálný, resp. komplexní, vektorový prostor. Sčítání posloupností a násobení posloupnosti skalárem je totiž definováno člen po členu, kde se jedná o vektorový prostor reálných, resp. komplexních, čísel.
- v) Ano. Abychom ukázali, že množina posloupností vyhovujících dané diferenční homogenní rovnici tvoří vektorový prostor, stačí ukázat, že je uzavřená vzhledem ke sčítání i násobení reálným číslem (neboť se jedná o podmnožinu vektorového prostoru) mějme posloupnosti  $(x_j)_{j=0}^{\infty}$  a  $(y_j)_{j=0}^{\infty}$  vyhovující stejné homogenní diferenční rovnici, tedy

$$\begin{aligned} a_n x_{n+k} + a_{n-1} x_{n+k-1} + \dots + a_0 x_k &= 0 \\ a_n y_{n+k} + a_{n-1} y_{n+k-1} + \dots + a_0 y_k &= 0. \end{aligned}$$

Sečtením těchto rovnic dostaneme

$$a_n (x_{n+k} + y_{n+k}) + a_{n-1} (x_{n+k-1} + y_{n+k-1}) + \dots + a_0 (x_k + y_k) = 0,$$

tedy i posloupnost  $(x_j + y_j)_{j=0}^{\infty}$ , vyhovuje stejné diferenční rovnici. Rovněž tak pokud posloupnost  $(x_j)_{j=0}^{\infty}$  vyhovuje dané rovnici, tak i posloupnost  $(ux_j)_{j=0}^{\infty}$ , kde  $u \in \mathbb{R}$ .

- vi) Ne. Součet dvou řešení nehomogenní rovnice

$$\begin{aligned} a_n x_{n+k} + a_{n-1} x_{n+k-1} + \dots + a_0 x_k &= c \\ a_n y_{n+k} + a_{n-1} y_{n+k-1} + \dots + a_0 y_k &= c, \quad c \in \mathbb{R} - \{0\} \end{aligned}$$

vyhovuje rovnici

$$a_n (x_{n+k} + y_{n+k}) + a_{n-1} (x_{n+k-1} + y_{n+k-1}) + \dots + a_0 (x_k + y_k) = 2c,$$

zejména pak nevyhovuje původní nehomogenní rovnici. Množina řešení však tvoří afinní prostor, viz 4.1.

- vii) Je to vektorový prostor právě, když  $c = 0$ . Vezme-li dvě funkce  $f$  a  $g$  z dané množiny, pak  $(f+g)(1) = (f+g)(2) = f(1) + g(1) = 2c$ . Má-li funkce  $f+g$  být prvkem dané množiny, musí být  $(f+g)(1) = c$ , tedy  $2c = c$ , tedy  $c = 0$ .

**2.23. Determinant a inverzní matice.** Předpokládejme nejprve, že existuje matice inverzní k matici  $A$ , tj.  $A \cdot A^{-1} = E$ . Protože pro jednotkovou matici platí vždy  $|E| = 1$ , je pro každou invertibilní matici vždy  $|A|$  invertibilní skalár a díky Cauchyově větě platí  $|A^{-1}| = |A|^{-1}$ .

My však nyní kombinací Laplaceovy věty a Cauchyho věty umíme říci víc.

#### VZOREC PRO INVERZNÍ MATICI

Pro libovolnou čtvercovou matici  $A = (a_{ij})$  dimenze  $n$  definujeme matici  $A^* = (a_{ij}^*)$ , kde  $a_{ij}^* = A_{ji}$  jsou algebraické doplňky k prvkům  $a_{ji}$  v  $A$ . Matici  $A^*$  nazýváme *algebraicky adjungovaná matice* k matici  $A$ .

**Věta.** Pro každou čtvercovou matici  $A$  nad okruhem skalárů  $\mathbb{K}$  platí

$$(2.2) \quad AA^* = A^*A = |A| \cdot E.$$

Zejména tedy

- (1)  $A^{-1}$  existuje jako matice nad okruhem skalárů  $\mathbb{K}$ , právě když  $|A|^{-1}$  existuje v  $\mathbb{K}$ .
- (2) Pokud existuje  $A^{-1}$ , pak platí  $A^{-1} = |A|^{-1} \cdot A^*$ .

**DŮKAZ.** Jak jsme již zmínili, Cauchyova věta ukazuje, že z existence  $A^{-1}$  vyplývá invertibilita  $|A| \in \mathbb{K}$ .

Pro libovolnou čtvercovou matici  $A$  spočteme přímým výpočtem  $A \cdot A^* = (c_{ij})$ , kde

$$c_{ij} = \sum_{k=1}^n a_{ik} a_{kj}^* = \sum_{k=1}^n a_{ik} A_{jk}.$$

Pokud  $i = j$  je to právě Laplaceův rozvoj  $|A|$  podle  $i$ -tého řádku. Pokud  $i \neq j$  jde o rozvoj determinantu matice v níž je  $i$ -tý a  $j$ -tý řádek stejný a proto je  $c_{ij} = 0$ . Odtud plyne  $A \cdot A^* = |A| \cdot E$  a dokázali jsme rovnost (2.2).

Předpokládejme navíc, že  $|A|$  je invertibilní skalár. Jestliže zopakujeme předešlý výpočet pro  $A^* \cdot A$ , obdržíme  $|A|^{-1} A^* \cdot A = E$ . Proto náš výpočet skutečně dává inverzní matici  $A$ , jak je tvrzeno ve větě.  $\square$

Jako přímý důsledek této věty můžeme znovu ověřit Cramerovo pravidlo pro řešení systémů lineárních rovnic, viz 2.18. Skutečně, pro řešení systému  $A \cdot x = b$  stačí důsledně přecházet v rovnosti

$$x = A^{-1} \cdot b = |A|^{-1} A^* \cdot b$$

poslední výraz jako Laplaceův rozvoj determinantu matice  $A_i$  vzniklé výměnou  $i$ -tého sloupce v  $A$  za sloupec hodnot  $b$ .

2.17

### 3. Vektorové prostory a lineární zobrazení



**2.24. Abstraktní vektorové prostory.** Vraťme se teď na chvíli k systémům  $m$  lineárních rovnic pro  $n$  proměnných z 2.3 a předpokládejme navíc, že jde o homogenní systém rovnic  $A \cdot x = 0$ , tj.

$$\begin{pmatrix} a_{11} & \dots & a_{1n} \\ \vdots & & \vdots \\ a_{m1} & \dots & a_{mn} \end{pmatrix} \cdot \begin{pmatrix} x_1 \\ \vdots \\ x_n \end{pmatrix} = \begin{pmatrix} 0 \\ \vdots \\ 0 \end{pmatrix}.$$

Díky vlastnosti distributivity pro násobení matic je zřejmé, že součet dvou řešení  $x = (x_1, \dots, x_n)$  a  $y = (y_1, \dots, y_n)$  splňuje

$$A \cdot (x + y) = A \cdot x + A \cdot y = 0$$

a je tedy také řešením. Stejně tak zůstává řešením i skalární násobek  $a \cdot x$ . Množina všech řešení pevně zvoleného systému rovnic je proto uzavřená na sčítání vektorů a násobení vektorů skaláry. To byly základní vlastnosti vektorů dimenze  $n$  v  $\mathbb{K}^n$ , viz 2.1. Teď ale máme vektory v prostoru řešení s  $n$  souřadnicemi a „rozměr“ tohoto prostoru je dán rozdílem počtu proměnných a hodnotí matice  $A$ . Můžeme tedy snadno mít při řešení 1000 souřadnic a jen jeden nebo dva volné parametry. Celý prostor řešení se pak bude chovat jako rovina nebo přímka, jak jsme je poznali již v 1.25 na straně 31.

Už v odstavci 1.9 jsme ale potkali ještě zajímavější příklad prostoru všech řešení homogenní lineární diferenciální rovnice (prvního řádu). Všechna řešení jsme dostali z jednoho pomocí násobení skaláry a jsou tedy také uzavřená na součty a skalární násobky. Tyto „vektory“ řešení ovšem jsou nekonečné posloupnosti čísel, přestože intuitivně očekáváme, že „rozměr“ celého prostoru řešení by měl být jedna. Potřebujeme proto obecnější definici vektorového prostoru a jeho dimenze:

#### DEFINICE VEKTOROVÉHO PROSTORU

Vektorovým prostorem  $V$  nad polem skalárů  $\mathbb{K}$  rozumíme množinu, na které jsou definovány

- operace sčítání splňující axiomy (KG1)–(KG4) z odstavce 1.1 na straně 6,
- násobení skaláry, pro které platí axiomy (V1)–(V4) z odstavce 2.1 na straně 72.

Připomeňme také naši jednoduchou konvenci ohledně značení: skaláry budou zpravidla označovány znaky z počátku abecedy, tj.  $a, b, c, \dots$ , zatímco pro vektory budeme užívat znaky z konce,  $u, v, w, x, y, z$ . Přitom ještě navíc většinou  $x, y, z$  budou opravdu  $n$ -tice skalárů. Pro úplnost výčtu, písmena z prostředka, např.  $i, j, k, \ell$  budou nejčastěji označovat indexy výrazů.

Abychom se trochu pocvičili ve formálním postupu,



ověříme jednoduché vlastnosti vektorů, které pro  $n$ -tice skalárů byly samozřejmé, nicméně teď je musíme odvodit z axiomů.

**2.43.** Zjistěte, zda je množina

$$U_1 = \{(x_1, x_2, x_3) \in \mathbb{R}^3; |x_1| = |x_2| = |x_3|\}$$

podprostorem vektorového prostoru  $\mathbb{R}^3$  a množina

$$U_2 = \{ax^2 + c; a, c \in \mathbb{R}\}$$

podprostorem prostoru polynomů stupně nejvýše 2.

**Řešení.** Množina  $U_1$  není vektorovým (pod)prostorem. Vidíme např., že je

$$(1, 1, 1) + (-1, 1, 1) = (0, 2, 2) \notin U_1.$$

Množina  $U_2$  ovšem podprostor tvoří (nabízí se přirozené ztotožnění s  $\mathbb{R}^2$ ), protože

$$(a_1x^2 + c_1) + (a_2x^2 + c_2) = (a_1 + a_2)x^2 + (c_1 + c_2),$$

$$k \cdot (ax^2 + c) = (ka)x^2 + kc$$

pro všechna čísla  $a_1, c_1, a_2, c_2, a, c, k \in \mathbb{R}$ . □

**2.44.** Je množina  $V = \{(1, x); x \in \mathbb{R}\}$  s operacemi

$$\oplus : V \times V \rightarrow V, \quad (1, y) \oplus (1, z) = (1, z + y) \quad \text{pro všechna}$$

$$\odot : \mathbb{R} \times V \rightarrow V, \quad z \odot (1, y) = (1, y \cdot z) \quad \text{pro všechna}$$

vektorovým prostorem?

#### F. Lineární závislost a nezávislost, báze

**2.45.** Výpočtem determinantu vhodné matice rozhodněte o lineární nezávislosti vektorů  $(1, 2, 3, 1)$ ,  $(1, 0, -1, 1)$ ,  $(2, 1, -1, 3)$  a  $(0, 0, 3, 2)$ .

**Řešení.** Protože

$$\begin{vmatrix} 1 & 2 & 3 & 1 \\ 1 & 0 & -1 & 1 \\ 2 & 1 & -1 & 3 \\ 0 & 0 & 3 & 2 \end{vmatrix} = 10 \neq 0,$$

uvedené vektory jsou lineárně nezávislé. □

**2.46.** Nechť jsou dány libovolné lineárně nezávislé vektory  $u, v, w, z$  ve vektorovém prostoru  $V$ . Rozhodněte, zda jsou ve  $V$  lineárně závislé, či nezávislé, vektory

$$u - 2v, \quad 3u + w - z, \quad u - 4v + w + 2z, \quad 4v + 8w + 4z.$$

**Řešení.** Uvažované vektory jsou lineárně nezávislé právě tehdy, když jsou lineárně nezávislé vektory  $(1, -2, 0, 0)$ ,  $(3, 0, 1, -1)$ ,  $(1, -4, 1, 2)$ ,  $(0, 4, 8, 4) \in \mathbb{R}^4$ . Je však

$$\begin{vmatrix} 1 & -2 & 0 & 0 \\ 3 & 0 & 1 & -1 \\ 1 & -4 & 1 & 2 \\ 0 & 4 & 8 & 4 \end{vmatrix} = -36 \neq 0,$$

tudíž jsou uvažované vektory lineárně nezávislé.

2.17a

**2.47.** Určete všechny konstanty  $a \in \mathbb{R}$  takové, aby polynomy  $ax^2 + x + 2$ ,  $-2x^2 + ax + 3$  a  $x^2 + 2x + a$  byly lineárně závislé (ve vektorovém prostoru  $P_3[x]$ , polynomů jedné proměnné stupně nejvýše 3 nad reálnými čísly).

**Řešení.** V bázi  $1, x, x^2$  jsou souřadnice zadaných vektorů (polynomů) následující:  $(a, 1, 2)$ ,  $(-2, a, 3)$ ,  $(1, 2, a)$ . Polynomy budou lineárně závislé, právě když bude mít matice, jejíž řádky jsou tvořeny souřadnicemi zadaných vektorů menší hodnot, než je počet vektorů, v tomto případě tedy hodnot dvě a menší. V případě čtvercové matice nižší hodnot než je počet řádků je ekvivalentní nulovosti determinantu dané matice. Podmínka na  $a$  tedy zní

$$\begin{vmatrix} a & 1 & 2 \\ -2 & a & 3 \\ 1 & 2 & a \end{vmatrix} = 0,$$

tj.  $a$  bude kořenem polynomu  $a^3 - 6a - 5 = (a + 1)(a^2 - a - 5)$ , tj. úloha má tři řešení  $a_1 = -1$ ,  $a_{2,3} = \frac{1 \pm \sqrt{21}}{2}$ .  $\square$

2.48. Vektory

$$(1, 2, 1), \quad (-1, 1, 0), \quad (0, 1, 1)$$

jsou lineárně nezávislé, a proto z nich lze sestavit bázi  $\mathbb{R}^3$ . Každý trojrozměrný vektor je tak nějakou jejich lineární kombinací. Jakou jejich lineární kombinací je vektor  $(1, 1, 1)$ ?

2.17a

**2.49.** Vyjádřete vektor  $(5, 1, 11)$  jako lineární kombinaci vektorů  $(3, 2, 2)$ ,  $(2, 3, 1)$ ,  $(1, 1, 3)$ , tj. nalezněte čísla  $p, q, r \in \mathbb{R}$ , pro která je

$$(5, 1, 11) = p(3, 2, 2) + q(2, 3, 1) + r(1, 1, 3).$$

**2.50.** Pro jaké hodnoty parametrů  $a, b, c \in \mathbb{R}$  jsou vektory  $(1, 1, a, 1)$ ,  $(1, b, 1, 1)$ ,  $(c, 1, 1, 1)$  lineárně závislé?

**2.51.** Nechť je dán vektorový prostor  $V$  a nějaká jeho báze složená z vektorů  $u, v, w, z$ . Zjistěte, zda jsou vektory

$$u - 3v + z, \quad v - 5w - z, \quad 3w - 7z, \quad u - w + z$$

lineárně (ne)závislé.

**2.52.** Doplňte vektory  $1 - x^2 + x^3$ ,  $1 + x^2 + x^3$ ,  $1 - x - x^3$  na bázi prostoru polynomů stupně nejvýše 3.

**2.25. Tvrzení.** Nechť  $V$  je vektorový prostor nad polem skalárů  $\mathbb{K}$ , dále uvažme  $a, b, a_i \in \mathbb{K}$ , vektory  $u, v, u_j \in V$ . Potom

- (1)  $a \cdot u = 0$ , právě když  $a = 0$  nebo  $u = 0$ ,
- (2)  $(-1) \cdot u = -u$ ,
- (3)  $a \cdot (u - v) = a \cdot u - a \cdot v$ ,
- (4)  $(a - b) \cdot u = a \cdot u - b \cdot u$ ,
- (5)  $(\sum_{i=1}^n a_i) \cdot (\sum_{j=1}^m u_j) = \sum_{i=1}^n \sum_{j=1}^m a_i \cdot u_j$ .

DŮKAZ. Můžeme rozepsat

$$(a + 0) \cdot u \stackrel{(V2)}{=} a \cdot u + 0 \cdot u = a \cdot u$$

což podle axiomu (KG4) zaručuje  $0 \cdot u = 0$ . Nyní

$$u + (-1) \cdot u \stackrel{(V2)}{=} (1 + (-1)) \cdot u = 0 \cdot u = 0$$

a odtud  $-u = (-1) \cdot u$ . Dále

$$a \cdot (u + (-1) \cdot v) \stackrel{(V2, V3)}{=} a \cdot u + (-a) \cdot v = a \cdot u - a \cdot v,$$

což dokazuje (3). Platí

$$(a - b) \cdot u \stackrel{(V2, V3)}{=} a \cdot u + (-b) \cdot u = a \cdot u - b \cdot u$$

a tím je ověřeno (4). Vztah (5) plyne indukcí z (V2) a (V1).

Zbývá (1):  $a \cdot 0 = a \cdot (u - u) = a \cdot u - a \cdot u = 0$ , což spolu s prvním tvrzením tohoto důkazu ukazuje jednu implikaci. K opačné implikaci poprvé potřebujeme axiom pole pro skaláry a axiom (V4) pro vektorové prostory: je-li  $p \cdot u = 0$  a  $p \neq 0$ , pak  $u = 1 \cdot u = (p^{-1} \cdot p) \cdot u = p^{-1} \cdot 0 = 0$ .  $\square$

**2.26. Lineární (ne)závislost.** V odstavci 2.11 jsme pracovali s tzv. lineárními kombinacemi řádků matice. S obecnými vektory budeme zacházet zcela analogicky:

#### LINEÁRNÍ KOMBINACE A NEZÁVISLOST

Výrazy tvaru  $a_1 \cdot v_1 + \dots + a_k \cdot v_k$  nazýváme *lineární kombinace* vektorů  $v_1, \dots, v_k \in V$ .

Konečnou posloupnost vektorů  $v_1, \dots, v_k$  nazveme *lineárně nezávislou*, jestliže jediná jejich nulová lineární kombinace je ta s nulovými koeficienty, tj. jestliže pro skaláry  $a_1, \dots, a_k \in \mathbb{K}$  platí

$$a_1 \cdot v_1 + \dots + a_k \cdot v_k = 0 \implies a_1 = a_2 = \dots = a_k = 0.$$

Je zřejmé, že v nezávislé posloupnosti vektorů jsou všechny po dvou různé a nenulové.

Množina vektorů  $M \subset V$  ve vektorovém prostoru  $V$  nad  $\mathbb{K}$  se nazývá *lineárně nezávislá*, jestliže každá konečná  $k$ -tice vektorů  $v_1, \dots, v_k \in M$  je lineárně nezávislá.

Množina  $M$  vektorů je *lineárně závislá*, jestliže není lineárně nezávislá.



Přímo z definice vyplývá, že neprázdná podmnožina  $M$  vektorů ve vektorovém prostoru nad polem skalárů  $\mathbb{K}$  je závislá právě, když je jeden z jejích vektorů vyjádřitelný jako konečná lineární kombinace pomocí ostatních vektorů v  $M$ . Skutečně, alespoň jeden koeficient v příslušné nulové lineární kombinaci musí být nenulový a protože jsme nad polem skalárů, můžeme jím podělit a vyjádřit tak u něj stojící vektor pomocí ostatních.

Každá podmnožina lineárně nezávislé množiny  $M$  je samozřejmě také lineárně nezávislá (požadujeme stejné podmínky na méně vektorů). Stejně snadno vidíme, že  $M \subset V$  je lineárně nezávislá právě tehdy, když každá konečná podmnožina v  $M$  je lineárně nezávislá.

2.18

**2.27. Generátory a podprostory.** Podmnožina  $M \subset V$  se nazývá *vektorovým podprostorem* jestliže spolu se zúženými operacemi sčítání a násobení skaláry je sama vektorovým prostorem. Tzn. požadujeme



$$\forall a, b \in \mathbb{K}, \forall v, w \in M, a \cdot v + b \cdot w \in M.$$

Rozeberme si hned několik příkladů: Prostor  $m$ -tic skalárů  $\mathbb{R}^m$  se sčítáním a násobením po složkách je vektorový prostor nad  $\mathbb{R}$ , ale také vektorový prostor nad  $\mathbb{Q}$ . Např. pro  $m = 2$ , jsou vektory  $(1, 0)$ ,  $(0, 1) \in \mathbb{R}^2$  lineárně nezávislé, protože z

$$a \cdot (1, 0) + b \cdot (0, 1) = (0, 0)$$

plyne  $a = b = 0$ . Dále, vektory  $(1, 0)$ ,  $(\sqrt{2}, 0) \in \mathbb{R}^2$  jsou lineárně závislé nad  $\mathbb{R}$ , protože  $\sqrt{2} \cdot (1, 0) = (\sqrt{2}, 0)$ , ovšem nad  $\mathbb{Q}$  jsou lineárně nezávislé! Nad  $\mathbb{R}$  tedy tyto dva vektory „generují“ jednorozměrný podprostor, zatímco nad  $\mathbb{Q}$  je „větší“.

Polynomy stupně nejvýše  $m$  tvoří vektorový prostor  $\mathbb{R}_m[x]$ . Polynomy můžeme chápat jako zobrazení  $f: \mathbb{R} \rightarrow \mathbb{R}$  a sčítání a násobení skaláry definujeme takto:  $(f + g)(x) = f(x) + g(x)$ ,  $(a \cdot f)(x) = a \cdot f(x)$ . Polynomy všech stupňů také tvoří vektorový prostor  $\mathbb{R}_\infty[x]$  a  $\mathbb{R}_m[x] \subset \mathbb{R}_n[x]$  je vektorový podprostor pro všechna  $m \leq n \leq \infty$ . Podprostory jsou také např. všechny sudé polynomy nebo liché polynomy, tj. polynomy splňující  $f(-x) = \pm f(x)$ .

Úplně analogicky jako u polynomů můžeme definovat strukturu vektorového prostoru na množině všech zobrazení  $\mathbb{R} \rightarrow \mathbb{R}$  nebo všech zobrazení  $M \rightarrow V$  libovolně pevně zvolené množiny  $M$  do vektorového prostoru  $V$ .

Protože podmínka v definici podprostoru obsahuje pouze univerzální kvantifikátory, je jistě průnik podprostorů opět podprostor. Snadno to ověříme i přímo: Nechť  $W_i$ ,  $i \in I$ , jsou vektorové podprostory ve  $V$ ,  $a, b \in \mathbb{K}$ ,  $u, v \in \bigcap_{i \in I} W_i$ . Pak pro všechny  $i \in I$ ,  $a \cdot u + b \cdot v \in W_i$ , to ale znamená, že  $a \cdot u + b \cdot v \in \bigcap_{i \in I} W_i$ .



**2.53.** Tvoří matice

$$\begin{pmatrix} 1 & 0 \\ 1 & -2 \end{pmatrix}, \begin{pmatrix} 1 & 4 \\ 0 & -1 \end{pmatrix}, \begin{pmatrix} -5 & 0 \\ 3 & 0 \end{pmatrix}, \begin{pmatrix} 1 & -2 \\ 0 & 3 \end{pmatrix}$$

bázi vektorového prostoru čtvercových dvourozměrných matic?

**Řešení.** Uvedené čtyři matice jsou jako vektory v prostoru  $2 \times 2$  matic lineárně nezávislé. Vyplývá to z toho, že matice

$$\begin{pmatrix} 1 & 1 & -5 & 1 \\ 0 & 4 & 0 & -2 \\ 1 & 0 & 3 & 0 \\ -2 & -1 & 0 & 3 \end{pmatrix}$$

je tzv. regulární, což je mimochodem ekvivalentní livovolnému z následujících tvrzení: její hodnota je rovna rozměru; ze z ní pomocí řádkových elementárních transformací obdržíme jednotkovou matici; existuje k ní matice inverzní; má nenulový determinant, roven 116; jí zadaná homogenní soustava lineárních rovnic má pouze nulové řešení; každý nehomogenní lineární systém s levou stranou určenou touto maticí má právě jedno řešení; obor hodnot lineárního zobrazení, jež zadává, je vektorový prostor dimenze 4; toto zobrazení je injektivní).  $\square$

**2.54.** Uvažme komplexní čísla  $\mathbb{C}$  jako reálný vektorový prostor. Určete souřadnice čísla  $2 + i$  v bázi dané kořeny polynomu  $x^2 + x + 1$ .

**2.55.** Uvažme komplexní čísla  $\mathbb{C}$  jako reálný vektorový prostor. Určete souřadnice čísla  $2 + i$  v bázi dané kořeny polynomu  $x^2 - x + 1$ .

**2.56.** V  $\mathbb{R}^3$  jsou dány podprostory  $U$  a  $V$  generované po řadě vektory  $(1, 1, -3)$ ,  $(1, 2, 2)$  a  $(1, 1, -1)$ ,  $(1, 2, 1)$ ,  $(1, 3, 3)$ .

Nalezněte průnik těchto podprostorů.

**Řešení.** Podprostor  $V$  má dimenzi pouze 2 (nejedná se tedy o celý prostor  $\mathbb{R}^3$ ), neboť

$$\begin{vmatrix} 1 & 1 & -1 \\ 1 & 2 & 1 \\ 1 & 3 & 3 \end{vmatrix} = \begin{vmatrix} 1 & 1 & 1 \\ 1 & 2 & 3 \\ -1 & 1 & 3 \end{vmatrix} = 0$$

a neboť libovolná dvojice z uvažovaných třech vektorů je očividně lineárně nezávislá. Stejně snadno vidíme, že také podprostor  $U$  má dimenzi 2. Současně je

$$\begin{vmatrix} 1 & 1 & 1 \\ 1 & 2 & 1 \\ -3 & 2 & -1 \end{vmatrix} = 2 \neq 0,$$

a proto vektor  $(1, 1, -1)$  nemůže náležet do podprostoru  $U$ . Průnikem rovin procházejících počátkem (dvojrozměrných podprostorů) v trojrozměrném prostoru musí být alespoň přímka. V našem případě je jím právě přímka (podprostory nejsou totožné). Určili jsme dimenzi průniku – je jednodimenzionální. Všimneme-li si, že

$$1 \cdot (1, 1, -3) + 2 \cdot (1, 2, 2) = (3, 5, 1) = 1 \cdot (1, 1, -1) + 2 \cdot (1, 2, 1),$$

dostáváme vyjádření hledaného průniku ve tvaru množiny všech skalárních násobků vektoru  $(3, 5, 1)$  (jedná se o přímku procházející počátkem s tímto směrovým vektorem).  $\square$

**2.57.** Stanovte vektorový podprostor (prostoru  $\mathbb{R}^4$ ) generovaný vektory  $u_1 = (-1, 3, -2, 1)$ ,  $u_2 = (2, -1, -1, 2)$ ,  $u_3 = (-4, 7, -3, 0)$ ,  $u_4 = (1, 5, -5, 4)$ . vybráním nějaké maximální množiny lineárně nezávislých vektorů  $u_i$  (tj. vybráním báze).

**Řešení.** Sepíšeme vektory  $u_i$  do sloupců matice a obdrženou matici upravíme pomocí řádkových elementárních transformací. Takto získáme

$$\begin{pmatrix} -1 & 2 & -4 & 1 \\ 3 & -1 & 7 & 5 \\ -2 & -1 & -3 & -5 \\ 1 & 2 & 0 & 4 \end{pmatrix} \sim \begin{pmatrix} 1 & 2 & 0 & 4 \\ -1 & 2 & -4 & 1 \\ 3 & -1 & 7 & 5 \\ -2 & -1 & -3 & -5 \end{pmatrix} \sim \begin{pmatrix} 1 & 2 & 0 & 4 \\ 0 & 4 & -4 & 5 \\ 0 & -7 & 7 & -7 \\ 0 & 3 & -3 & 3 \end{pmatrix} \\ \sim \begin{pmatrix} 1 & 2 & 0 & 4 \\ 0 & 1 & -1 & 5/4 \\ 0 & 1 & -1 & 1 \\ 0 & 0 & 0 & 0 \end{pmatrix} \sim \begin{pmatrix} 1 & 2 & 0 & 4 \\ 0 & 1 & -1 & 5/4 \\ 0 & 0 & 0 & -1/4 \\ 0 & 0 & 0 & 0 \end{pmatrix} \sim \begin{pmatrix} 1 & 0 & 2 & 0 \\ 0 & 1 & -1 & 0 \\ 0 & 0 & 0 & 1 \\ 0 & 0 & 0 & 0 \end{pmatrix}$$

Odtud vyplývá, že lineárně nezávislé jsou právě vektory  $u_1, u_2, u_4$ , tj. právě ty vektory odpovídající sloupcům, které obsahují první nenulové číslo nějakého řádku. Navíc odsud plyne (viz třetí sloupec)

$$2 \cdot (-1, 3, -2, 1) - (2, -1, -1, 2) = (-4, 7, -3, 0).$$

$\square$

## G. Lineární zobrazení

Jak popsat analyticky shodná zobrazení v rovině či prostoru jako je <sup>2.19</sup>rotace, osová symetrie či zrcadlení, nebo projekci třírozměrného prostoru na dvojrozměrné plátno? Jak popsat zvětšení obrázku? Co mají společného? Jsou to všechno lineární zobrazení. Znamená to, že zachovávají jistou strukturu roviny či prostoru. Jakou strukturu? Strukturu vektorového prostoru. Každý bod v rovině je popsán dvěma v prostoru pak třema souřadnicemi. Pokud zvolíme počátek souřadnic, tak má smysl mluvit o tom, že nějaký bod je dvakrát dál od počátku stejným směrem než jiný bod. Také víme, kam se dostaneme, posuneme-li se o nějaký úsek v jistém směru a pak o jiný úsek v jiném směru. Tyto vlastnosti můžeme zformalizovat, hovoříme-li o vektorech v rovině, či prostoru a o jejich násobcích, či součtech. Lineární zobrazení má pak tu vlastnost, že obraz součtu vektorů je součet obrazů sčítaných vektorů a obraz násobku vektoru je ten stejný násobek obrazu násobného vektoru. Tyto vlastnosti právě mají zobrazení zmíněná v úvodu tohoto odstavce. Takové zobrazení je pak jednoznačně určeno tím, jak se chová na vektorech nějaké báze (to je v rovině obrazem dvou vektorů neležících na přímce, v prostoru obrazem tří vektorů neležících v rovině).

Zejména je tedy podprostorem průnik  $\langle M \rangle$  všech podprostorů  $W \subset V$ , které obsahují předem danou množinu vektorů  $M \subset V$ .

Říkáme, že množina  $M$  generuje podprostor  $\langle M \rangle$ , nebo že prvky  $M$  jsou generátory podprostoru  $\langle M \rangle$ .

Zformulujme opět několik jednoduchých tvrzení o generování podprostorů:

**Tvrzení.** Pro každou neprázdnou podmnožinu  $M \subset V$  platí

- (1)  $\langle M \rangle = \{a_1 \cdot u_1 + \dots + a_k \cdot u_k; k \in \mathbb{N}, a_i \in \mathbb{K}, u_j \in M, j = 1, \dots, k\}$ ;
- (2)  $M = \langle M \rangle$ , právě když  $M$  je vektorový podprostor;
- (3) jestliže  $N \subset M$ , pak  $\langle N \rangle \subset \langle M \rangle$  je vektorový podprostor.

Podprostor  $\langle \emptyset \rangle$  generovaný prázdnou podmnožinou je triviální podprostor  $\{0\} \subset V$ .

**DŮKAZ.** (1) Množina všech lineárních kombinací

$$a_1 u_1 + \dots + a_k u_k$$

na pravé straně (1) je jistě vektorový podprostor a samozřejmě obsahuje  $M$ . Naopak, každá z jednotlivých lineárních kombinací nutně musí být v  $\langle M \rangle$  a první tvrzení je dokázáno.

Tvrzení (2) vyplývá okamžitě z (1) a z definice vektorového podprostoru a obdobně je z prvního tvrzení zřejmé i tvrzení třetí.

Konečně, nejmenší vektorový podprostor je  $\{0\}$ , protože prázdnou množinu obsahují všechny podprostory a každý z nich obsahuje vektor  $0$ .  $\square$

**2.28. Součty podprostorů.** Když už máme představu o generátorech a jimi vytvářených podprostorech, měli bychom rozumět i možnostem, jak několik podprostorů může vytvářet celý vektorový prostor  $V$ .



### SOUČTY PODPROSTORŮ

Nechť  $V_i, i \in I$ , jsou podprostory ve  $V$ . Pak podprostor generovaný jejich sjednocením, tj.  $\langle \cup_{i \in I} V_i \rangle$ , nazýváme *součtem podprostorů*  $V_i$ . Značíme  $\sum_{i \in I} V_i$ . Zejména pro konečný počet podprostorů  $V_1, \dots, V_k \subset V$  píšeme

$$V_1 + \dots + V_k = \langle V_1 \cup V_2 \cup \dots \cup V_k \rangle.$$

Vidíme, že každý prvek v uvažovaném součtu podprostorů můžeme vyjádřit jako lineární kombinaci vektorů z podprostorů  $V_i$ . Protože však je sčítání vektorů komutativní, lze k sobě poskládat členy patřící do stejného podprostoru a pro konečný součet  $k$  podprostorů tak dostáváme

$$V_1 + V_2 + \dots + V_k = \{v_1 + \dots + v_k; v_i \in V_i, i = 1, \dots, k\}.$$

Součet  $W = V_1 + \dots + V_k \subset V$  se nazývá *přímý součet* podprostorů, jsou-li průniky všech dvojic triviální, tj.  $V_i \cap V_j = \{0\}$  pro všechny  $i \neq j$ . Ukážeme, že v takovém případě



Ize každý vektor  $w \in W$  napsat právě jedním způsobem jako součet

$$w = v_1 + \dots + v_k,$$

kde  $v_i \in V_i$ . Skutečně, pokud by tento vektor šlo zároveň vyjádřit, jako  $w = v'_1 + \dots + v'_k$ , potom

$$0 = w - w = (v_1 - v'_1) + \dots + (v_k - v'_k).$$

Pokud bude  $v_i - v'_i$  první nenulový člen na pravé straně, pak tento vektor z  $V_i$  umíme vyjádřit pomocí vektorů z ostatních podprostorů. To je ale ve sporu s předpokladem, že  $V_i$  má se všemi ostatními nulový průnik. Jedinou možností tedy je, že všechny vektory na pravé straně jsou nulové a tedy je rozklad  $w$  jednoznačný.

Pro přímé součty podprostorů píšeme

$$W = V_1 \oplus \dots \oplus V_k = \bigoplus_{i=1}^k V_i.$$

2.19a

**2.29. Báze.** Nyní máme vše připravené pro pochopení minimálních množin generátorů tak, jak jsme se s nimi vypořádali v rovině  $\mathbb{R}^2$ .

#### BÁZE VEKTOROVÝCH PROSTORŮ

Podmnožina  $M \subset V$  se nazývá *báze vektorového prostoru*  $V$ , jestliže  $\langle M \rangle = V$  a  $M$  je lineárně nezávislá.

Vektorový prostor, který má konečnou bázi nazýváme *konečněrozměrný*, počet prvků báze nazýváme *dimenzí*  $V$ . Nemá-li  $V$  konečnou bázi, říkáme, že  $V$  je *nekonečněrozměrný*. Píšeme  $\dim V = k$ ,  $k \in \mathbb{N}$ , případně  $k = \infty$ .



Abychom s takovou definicí dimenze mohli být spokojeni, potřebujeme vědět, že různé báze téhož prostoru budou mít vždy stejný počet prvků. To skutečně brzy dokážeme. Všimněme si hned, že triviální podprostor je generován prázdnou množinou, která je „prázdnou“ bazí. Má tedy triviální podprostor dimenzi nulovou.

Bázi  $k$ -rozměrného prostoru budeme obvykle zapisovat jako  $k$ -tici  $\underline{v} = (v_1, \dots, v_k)$  bázevých vektorů. Jde tu především o zavedení konvence: U konečněrozměrných podprostorů budeme totiž vždy uvažovat bázi včetně zadaného pořadí prvků i když jsme to takto, striktně vzato, nedefinovali.

Zjevně, je-li  $(v_1, \dots, v_n)$  bazí  $V$ , je celý prostor  $V$  přímým součtem jednorozměrných podprostorů

$$V = \langle v_1 \rangle \oplus \dots \oplus \langle v_n \rangle.$$

Okamžitým důsledkem výše odvozené jednoznačnosti rozkladu jakéhokoliv vektoru ve  $V$  do komponent v přímém součtu dává jednoznačné vyjádření

$$w = x_1 v_1 + \dots + x_n v_n$$

a dovoluje nám tedy po volbě báze opět vidět vektory jako  $n$ -tice skalárů. K tomuto pohledu se vrátíme v zápětí v odstavci 2.33, jak jen dokončíme diskusi existence bazí a součtů podprostorů v obecné poloze.

A jak tedy zapsat nějaké lineární zobrazení  $f$  na vektorovém prostoru  $V$ ? Začneme pro jednoduchost s rovinou  $\mathbb{R}^2$ : předpokládejme, že obraz bodu (vektoru)  $(1, 0)$  je  $(a, b)$  a obraz bodu  $(0, 1)$  je  $(c, d)$ . Tím už je jednoznačně určený obraz libovolného bodu o souřadnicích  $(u, v)$ :  $f((u, v)) = f(u(1, 0) + v(0, 1)) = uf(1, 0) + vf(0, 1) = (ua, ub) + (vc, vd) = (au + cv, bu + dv)$ , což můžeme výhodně zapsat následujícím způsobem:

$$\begin{pmatrix} a & c \\ b & d \end{pmatrix} \begin{pmatrix} u \\ v \end{pmatrix} = \begin{pmatrix} au + cv \\ bu + dv \end{pmatrix}$$

Lineární je tedy zobrazení jednoznačně dané maticí. Navíc pokud máme další lineární zobrazení  $g$ , dané maticí  $\begin{pmatrix} e & f \\ g & h \end{pmatrix}$ , tak snadno spočítáme (čtenář si jistě ze zájmu sám ověří), že jejich složení  $g \circ f$  je dáno maticí  $\begin{pmatrix} ae + fc & be + df \\ ag + ch & bg + dh \end{pmatrix}$ .

To nás vede k tomu, abychom násobení matic definovali tímto způsobem, tedy aby aplikace zobrazení na vektor byla dána maticovým násobením matice zobrazení se zobrazovaným vektorem a aby složení zobrazení bylo dáno součinem matic jednotlivých zobrazení. Obdobně to funguje v prostorech vyšší dimenze. Zároveň tato úvaha znovu ukazuje to, co již bylo dokázáno v (2.5), totiž že násobení matic je asociativní, ale není komutativní, neboť tomu tak je u skládání zobrazení. To je tedy další z motivací, proč se zabývat vektorovými prostory a proč je s pojmem vektorového

**2.58.** Popišme si nejprve některá lineární zobrazení. Začneme několika příklady v prostorech malých dimenzí. Ve standardní bázi  $\mathbb{R}^2$  uvažujme následující matice zobrazení  $f : \mathbb{R}^2 \rightarrow \mathbb{R}^2$ :

$$A = \begin{pmatrix} 1 & 0 \\ 0 & 0 \end{pmatrix}, \quad B = \begin{pmatrix} 0 & 1 \\ 0 & 0 \end{pmatrix}, \quad C = \begin{pmatrix} a & 0 \\ 0 & b \end{pmatrix}, \quad D = \begin{pmatrix} 0 & -1 \\ 1 & 0 \end{pmatrix}.$$

Matice  $A$  zadává kolmou projekci podél podprostoru

$$W \subset \{(0, a); a \in \mathbb{R}\} \subset \mathbb{R}^2$$

na podprostor

$$V \subset \{(a, 0); a \in \mathbb{R}\} \subset \mathbb{R}^2.$$

Evidentně pro toto zobrazení  $f : \mathbb{R}^2 \rightarrow \mathbb{R}^2$  platí  $f \circ f = f$  a tedy  $f|_{\text{Im } f}$  je identické zobrazení. Jádrem  $f$  je právě podprostor  $W$ .

Matice  $B$  má vlastnost  $B^2 = 0$ , platí tedy totéž o příslušném zobrazení  $f$ . Můžeme si jej představit jako matici derivování polynomů  $\mathbb{R}_1[x]$  stupně nejvýše jedna v bázi  $(1, x)$ .

Matice  $C$  zadává zobrazení  $f$ , které první vektor báze zvětší  $a$ -krát, druhý  $b$ -krát. Tady se nám tedy celá rovina rozpadá na dva podprostory, které jsou zobrazením  $f$  zachovány a ve kterých jde o pouhou *homotetii*, tj. roztážení skalárním násobkem. Např. volba  $a = 1$ ,

$b = -1$  odpovídá komplexní konjugaci  $x + iy \mapsto x - iy$  na dvořozměrném reálném prostoru  $\mathbb{R}^2 \simeq \mathbb{C}$  v bázi  $(1, i)$ . Toto je lineární zobrazení reálného vektorového prostoru, nikoliv však jednorozměrného komplexního prostoru  $\mathbb{C}$ . V geometrii roviny jde o zrcadlení podle osy  $x$ .

Matice  $D$  je maticí rotace o pravý úhel ve standardní bázi. Jako pro každé lineární zobrazení, které je bijekcí, umíme najít báze na definičním oboru a oboru hodnot, ve kterých bude jeho maticí jednotková matice  $E$  (prostě vezmeme jakoukoliv bázi na definičním oboru a její obraz na oboru hodnot). Neumíme ale v tomto případě totéž s jednou bází na začátku i konci. Zkusme však uvažovat matici  $C$  jako matici zobrazení  $g : \mathbb{C}^2 \rightarrow \mathbb{C}^2$ . Pak umíme najít vektory  $u = (i, 1)$ ,  $v = (1, i)$ , pro které bude platit

$$g(u) = \begin{pmatrix} 0 & -1 \\ 1 & 0 \end{pmatrix} \cdot \begin{pmatrix} i \\ 1 \end{pmatrix} = i \cdot u, \quad g(v) = \begin{pmatrix} 0 & -1 \\ 1 & 0 \end{pmatrix} \cdot \begin{pmatrix} 1 \\ i \end{pmatrix} = -i \cdot v.$$

To ale znamená, že v bázi  $(u, v)$  na  $\mathbb{C}^2$  má  $g$  matici

$$K = \begin{pmatrix} i & 0 \\ 0 & -i \end{pmatrix}$$

a povšimněme si, že tato komplexní analogie k případu matice  $C$  má na diagonále prvky  $\pm a$ ,  $a = \cos(\frac{1}{2}\pi) + i \sin(\frac{1}{2}\pi)$ . Jinými slovy, argument v goniometrickém tvaru tohoto komplexního čísla udává úhel otočení. Navíc, můžeme si označit reálnou a imaginární část vektoru  $u$  takto

$$u = x_u + iy_u = \operatorname{Re} u + i \operatorname{Im} u = \begin{pmatrix} 0 \\ 1 \end{pmatrix} + i \cdot \begin{pmatrix} 1 \\ 0 \end{pmatrix}$$

a zúžení komplexního zobrazení  $g$  na reálný vektorový podprostor generovaný vektory  $x_u$  a  $y_u$  (tj. násobení komplexní jednotkou  $i$ ) je právě otočení o úhel  $\frac{1}{2}\pi$ .

Nyní zkusme přejít do lineárních zobrazení z  $\mathbb{R}^3$  do  $\mathbb{R}^3$ . Jedním z nich je například rotace.

**2.59.** Nalezněte matici rotace v kladném smyslu o úhel  $\pi/3$  kolem přímky procházející počátkem s orientovaným směrovým vektorem  $(1, 1, 0)$  ve standardní bázi  $\mathbb{R}^3$ .

**Řešení.** Uvedené otočení lze získat složením po řadě těchto tří zobrazení:

- rotace o  $\pi/4$  v záporném smyslu podle osy  $z$  (osa rotace přejde na osu  $x$ );
- rotace o  $\pi/3$  v kladném smyslu podle osy  $x$ ;
- rotace o  $\pi/4$  v kladném smyslu podle osy  $z$  (osa  $x$  přejde na osu rotace).

Matice výsledné rotace bude součinem matic odpovídajících uvedeným třem zobrazením, přičemž pořadí matic je dáno pořadím provádění jednotlivých zobrazení – prvním zobrazení odpovídá v součinu

**2.30. Věta.** Z libovolné konečné množiny generátorů vektorového prostoru  $V$  lze vybrat bázi. Každá báze koeficientně-rozměrného prostoru  $V$  má přitom stejný počet prvků.

**DŮKAZ.** První tvrzení ukážeme snadno indukcí přes počet generátorů  $k$ .



Jedině nulový podprostor nepotřebuje žádný generátor a tedy umíme vybrat prázdnou bázi. Naopak, nulový vektor vybrat nesmíme (generátory by byly lineárně závislé) a nic jiného už v podprostoru není.

Abychom měli indukční krok přirozenější, probereme ještě přímo případ  $k = 1$ . Máme  $V = \langle \{v\} \rangle$  a  $v \neq 0$ , protože  $\{v\}$  je lineárně nezávislá množina vektorů. Pak je ovšem  $\{v\}$  zároveň báze vektorového prostoru  $V$ .

Předpokládejme, že tvrzení platí pro  $k = n$ , a uvažme  $V = \langle v_1, \dots, v_{n+1} \rangle$ . Jsou-li  $v_1, \dots, v_{n+1}$  lineárně nezávislé, pak tvoří bázi. V opačném případě existuje index  $i$  takový, že

$$v_i = a_1 v_1 + \dots + a_{i-1} v_{i-1} + a_{i+1} v_{i+1} + \dots + a_{n+1} v_{n+1}.$$

Pak ovšem  $V = \langle v_1, \dots, v_{i-1}, v_{i+1}, \dots, v_{n+1} \rangle$  a již umíme vybrat bázi (podle indukčního předpokladu).

Zbývá ověřit, že báze mají vždy stejný počet prvků. Uvažujme bázi  $(v_1, \dots, v_n)$  prostoru  $V$  a libovolný nenulový vektor

$$u = a_1 v_1 + \dots + a_n v_n \in V$$

s  $a_i \neq 0$  pro jisté  $i$ . Pak

$$v_i = \frac{1}{a_i} (u - (a_1 v_1 + \dots + a_{i-1} v_{i-1} + a_{i+1} v_{i+1} + \dots + a_n v_n))$$

a proto také  $\langle u, v_1, \dots, v_{i-1}, v_{i+1}, \dots, v_n \rangle = V$ .

Ověříme, že je to opět báze: Kdyby přidáním  $u$  k lineárně nezávislým vektorům  $v_1, \dots, v_{i-1}, v_{i+1}, \dots, v_n$  vznikly lineárně závislé vektory, pak by  $u$  bylo jejich lineární kombinací. To by znamenalo

$$V = \langle v_1, \dots, v_{i-1}, v_{i+1}, \dots, v_n \rangle,$$

což není možné.

Takže jsme dokázali, že pro libovolný nenulový vektor  $u \in V$  existuje  $i$ ,  $1 \leq i \leq n$ , takové, že  $(u, v_1, \dots, v_{i-1}, v_{i+1}, \dots, v_n)$  je opět báze  $V$ .

Dále budeme místo jednoho vektoru  $u$  uvažovat lineárně nezávislou množinu  $u_1, \dots, u_k$  a budeme postupně přidávat  $u_1, u_2, \dots$ , vždy výměnou za vhodné  $v_i$  podle předchozího postupu. Musíme přitom ověřit, že takové  $v_i$  vždy bude existovat (tj. že se nebudou vektory  $u$  vyměňovat vzájemně). Předpokládejme tedy, že již máme umístěné  $u_1, \dots, u_\ell$ . Pak se  $u_{\ell+1}$  jistě vyjádří jako lineární kombinace těchto vektorů a zbylých  $v_j$ . Pokud by pouze koeficienty u  $u_1, \dots, u_\ell$  byly nenulové, znamenalo by to, že již samy vektory  $u_1, \dots, u_{\ell+1}$  byly lineárně závislé, což je ve sporu s našimi předpoklady.

Pro každé  $k \leq n$  tak po  $k$  krocích získáme bázi ve které z původní báze došlo k výměně  $k$  vektorů za nové. Pokud by  $k > n$ , pak již v  $n$ -tém kroku obdržíme bázi vybranou z

nových vektorů  $u_i$ , což znamená, že tyto nemohou být lineárně nezávislé. Zejména tedy není možné, aby dvě báze měly různý počet prvků.  $\square$

Ve skutečnosti jsme dokázali silnější tvrzení, tzv. *Steinitzovu větu o výměně*, která říká, že pro každou konečnou bázi  $v$  a každý systém lineárně nezávislých vektorů ve  $V$  umíme najít podmnožinu bázevých vektorů  $v_i$ , po jejichž záměně za zadané nové vektory opět dostaneme bázi.

2.20a

**2.31. Důsledky Steinitzovy věty o výměně.** Díky mož-



nosti volně volit a vyměňovat bázevé vektory můžeme okamžitě dovodit pěkné (a intuitivně snad také očekávané) vlastnosti bázevých vektorových prostorů:

**Tvrzení.** (1) Každé dvě báze konečněrozměrného vektorového prostoru mají stejný počet vektorů, tzn. že naše definice dimenze nezávisí na volbě báze.

(2) Má-li  $V$  konečnou bázi, lze každou lineárně nezávislou množinu doplnit do báze.

(3) Báze konečněrozměrných vektorových prostorů jsou právě maximální lineárně nezávislé množiny.

(4) Báze prostoru s konečnou dimenzí jsou právě minimální množiny generátorů.

Malinko složitější, ale nyní snadno zvládnutelná, je situace kolem dimenzí podprostorů a jejich součtů:

**Důsledek.** Necht'  $W, W_1, W_2 \subset V$  jsou podprostory v prostoru  $V$  konečné dimenze. Pak platí

(1)  $\dim W \leq \dim V$ ,

(2)  $V = W$ , právě když  $\dim V = \dim W$ ,

(3)  $\dim W_1 + \dim W_2 = \dim(W_1 + W_2) + \dim(W_1 \cap W_2)$ .

**DŮKAZ.** Zbývá dokázat pouze poslední tvrzení. To je zřejmé, pokud je dimenze jednoho z prostorů nulová. Předpokládejme tedy  $\dim W_1 = r \geq 1$ ,  $\dim W_2 = s \geq 1$  a nechť  $(w_1, \dots, w_r)$  je báze  $W_1 \cap W_2$  (nebo prázdná množina, pokud je průnik triviální).



Podle Steinitzovy věty o výměně lze tuto bázi průniku doplnit na bázi  $(w_1, \dots, w_r, u_{r+1}, \dots, u_r)$  pro  $W_1$  a na bázi  $(w_1, \dots, w_r, v_{r+1}, \dots, v_s)$  pro  $W_2$ . Vektory

$$w_1, \dots, w_r, u_{r+1}, \dots, u_r, v_{r+1}, \dots, v_s$$

jistě generují  $W_1 + W_2$ . Ukážeme, že jsou přitom lineárně nezávislé. Nechť tedy

$$a_1 w_1 + \dots + a_r w_r + b_{r+1} u_{r+1} + \dots + b_r u_r + c_{r+1} v_{r+1} + \dots + c_s v_s = 0.$$

Pak nutně

$$\begin{aligned} &-(c_{r+1} \cdot v_{r+1} + \dots + c_s \cdot v_s) = \\ &= a_1 \cdot w_1 + \dots + a_r \cdot w_r + b_{r+1} \cdot u_{r+1} + \dots + b_r \cdot u_r \end{aligned}$$

matice nejvíce napravo. Takto dostaneme hledanou matici

$$\begin{aligned} &\begin{pmatrix} \frac{\sqrt{2}}{2} & -\frac{\sqrt{2}}{2} & 0 \\ \frac{\sqrt{2}}{2} & \frac{\sqrt{2}}{2} & 0 \\ 0 & 0 & 1 \end{pmatrix} \cdot \begin{pmatrix} 1 & 0 & 0 \\ 0 & \frac{1}{2} & -\frac{\sqrt{3}}{2} \\ 0 & \frac{\sqrt{3}}{2} & \frac{1}{2} \end{pmatrix} \cdot \begin{pmatrix} \frac{\sqrt{2}}{2} & \frac{\sqrt{2}}{2} & 0 \\ -\frac{\sqrt{2}}{2} & \frac{\sqrt{2}}{2} & 0 \\ 0 & 0 & 1 \end{pmatrix} = \\ &= \begin{pmatrix} \frac{3}{4} & \frac{1}{4} & \frac{\sqrt{6}}{4} \\ \frac{1}{4} & \frac{3}{4} & -\frac{\sqrt{6}}{4} \\ -\frac{\sqrt{6}}{4} & \frac{\sqrt{6}}{4} & \frac{1}{2} \end{pmatrix} \end{aligned}$$

Uvědomme si, že výslednou rotaci bylo možné získat např. také složením následujících tří zobrazení:

- rotace o  $\pi/4$  v kladném smyslu podle osy  $z$  (osa rotace přejde na osu  $y$ );
- rotace o  $\pi/3$  v kladném smyslu podle osy  $y$ ;
- rotace o  $\pi/4$  v záporném smyslu podle osy  $z$  (osa  $y$  přejde na osu rotace).

Analogicky tak dostáváme

$$\begin{aligned} &\begin{pmatrix} \frac{\sqrt{2}}{2} & \frac{\sqrt{2}}{2} & 0 \\ -\frac{\sqrt{2}}{2} & \frac{\sqrt{2}}{2} & 0 \\ 0 & 0 & 1 \end{pmatrix} \cdot \begin{pmatrix} \frac{1}{2} & 0 & \frac{\sqrt{3}}{2} \\ 0 & 1 & 0 \\ -\frac{\sqrt{3}}{2} & 0 & \frac{1}{2} \end{pmatrix} \cdot \begin{pmatrix} \frac{\sqrt{2}}{2} & -\frac{\sqrt{2}}{2} & 0 \\ \frac{\sqrt{2}}{2} & \frac{\sqrt{2}}{2} & 0 \\ 0 & 0 & 1 \end{pmatrix} = \\ &= \begin{pmatrix} \frac{3}{4} & \frac{1}{4} & \frac{\sqrt{6}}{4} \\ \frac{1}{4} & \frac{3}{4} & -\frac{\sqrt{6}}{4} \\ -\frac{\sqrt{6}}{4} & \frac{\sqrt{6}}{4} & \frac{1}{2} \end{pmatrix} \end{aligned}$$

$\square$

**2.60. Matice obecné rotace v  $\mathbb{R}^3$ .** Ve vedlejším sloupci umí kolega v  $\mathbb{R}^3$  popsat pouze matice rotace kolem souřadnicových os. V tomto sloupci umíme odvodit i matici obecné rotace v  $\mathbb{R}^3$ . Úvahu z předchozího příkladu totiž můžeme provést i s obecnými hodnotami. Uvažme libovolný jednotkový vektor  $(x, y, z)$ . Rotace v kladném smyslu o úhel  $\varphi$  kolem tohoto vektoru pak můžeme zapsat jako složení následujících rotací, jejichž matice již známe:

- i) rotace  $\mathcal{R}_1$  v záporném smyslu kolem osy  $z$  o úhel s kosinem  $x/\sqrt{x^2 + y^2} = x/\sqrt{1 - z^2}$ , tedy sinem  $y/\sqrt{1 - z^2}$ , ve které přejde přímka se směrovým vektorem  $(x, y, z)$  na přímku se směrovým vektorem  $(0, y, z)$ . Matice této rotace je

$$R_1 = \begin{pmatrix} x/\sqrt{1 - z^2} & y/\sqrt{1 - z^2} & 0 \\ -y/\sqrt{1 - z^2} & x/\sqrt{1 - z^2} & 0 \\ 0 & 0 & 1 \end{pmatrix},$$

- ii) rotace  $\mathcal{R}_2$  v kladném smyslu podle osy  $y$  o úhel s kosinem  $\sqrt{1 - z^2}$ , tedy sinem  $z$ , ve které přejde přímka se směrovým vektorem  $(0, y, z)$  na přímku se směrovým vektorem

(1, 0, 0). Matice této rotace je

$$R_2 = \begin{pmatrix} \sqrt{1-z^2} & 0 & z \\ 0 & 1 & 0 \\ -z & 0 & \sqrt{1-z^2} \end{pmatrix},$$

iii) rotace  $\mathcal{R}_3$  v kladném smyslu kolem osy  $x$  o úhel  $\varphi$  s maticí

$$\begin{pmatrix} 1 & 0 & 0 \\ 0 & \cos(\varphi) & -\sin(\varphi) \\ 0 & \sin(\varphi) & \cos(\varphi) \end{pmatrix},$$

iv) rotace  $\mathcal{R}_2^{-1}$  s maticí  $R_2^{-1}$ ,

v) rotace  $\mathcal{R}_1^{-1}$  s maticí  $R_1^{-1}$ .

2.21

Matice složení těchto zobrazení, tedy hledaná matice, je dána součinem matic jednotlivých rotací v opačném pořadí:

(2.1)

$$R_1^{-1} \cdot R_2^{-1} \cdot R_3 \cdot R_2 \cdot R_1 =$$

(2.2)

$$\begin{pmatrix} \cos \varphi + (1 - \cos \varphi)x^2 & (1 - \cos \varphi)xy - z \sin \varphi & (1 - \cos \varphi)xz + y \sin \varphi \\ yx(1 - \cos \varphi) + z \sin \varphi & \cos \varphi + (1 - \cos \varphi)y^2 & (1 - \cos \varphi)yz - x \sin \varphi \\ zx(1 - \cos \varphi) - y \sin \varphi & (1 - \cos \varphi)zy + x \sin \varphi & \cos \varphi + (1 - \cos \varphi)z^2 \end{pmatrix}$$

**2.61.** Je dáno lineární zobrazení  $\mathbb{R}^3 \rightarrow \mathbb{R}^3$  ve standardní bázi následující maticí:

$$\begin{pmatrix} 1 & -1 & 0 \\ 0 & 1 & 1 \\ 2 & 0 & 0 \end{pmatrix}.$$

2.22

Napište matici tohoto zobrazení v bázi

$$(f_1, f_2, f_3) = ((1, 1, 0), (-1, 1, 1), (2, 0, 1)).$$

**Řešení.** Matice přechodu  $T$  od báze  $\underline{f} = (f_1, f_2, f_3)$  k standardní bázi, tj. bázi danou vektory  $(1, 0, 0)$ ,  $(0, 1, 0)$ ,  $(0, 0, 1)$ , získáme podle Tvzení 2.25 zapsáním souřadnic vektorů  $f_1, f_2, f_3$  ve standardní bázi do sloupců matice přechodu  $T$ . Máme tedy

$$T = \begin{pmatrix} 1 & -1 & 2 \\ 1 & 1 & 0 \\ 0 & 1 & 1 \end{pmatrix}.$$

Matice přechodu od standardní báze k bázi  $\underline{f}$  je potom

$$T^{-1} = \begin{pmatrix} \frac{1}{4} & \frac{3}{4} & -\frac{1}{2} \\ -\frac{1}{4} & \frac{1}{4} & \frac{1}{2} \\ \frac{1}{4} & -\frac{1}{4} & \frac{1}{2} \end{pmatrix}.$$

Matice zobrazení v bázi  $\underline{f}$  je potom

$$T^{-1}AT = \begin{pmatrix} \frac{1}{4} & 2 & -\frac{3}{4} \\ \frac{5}{4} & 0 & \frac{7}{4} \\ \frac{3}{4} & -2 & \frac{9}{4} \end{pmatrix}.$$

musí patřit do  $W_2 \cap W_1$ . To ale má za následek, že

$$b_{t+1} = \dots = b_r = 0,$$

protože tak jsem doplňovali naše báze. Pak ovšem i

$$a_1 \cdot w_1 + \dots + a_t \cdot w_t + c_{t+1} \cdot v_{t+1} + \dots + c_s \cdot v_s = 0$$

a, protože příslušné vektory tvoří bázi  $W_2$ , jsou všechny koeficienty nulové.

Tvrzení (3) nyní vyplývá z přímého přepočítání generátorů.  $\square$

**2.32. Příklady.** (1)  $\mathbb{K}^n$  má (jako vektorový prostor nad  $\mathbb{K}$ ) dimenzi  $n$ . Bazí je např.  $n$ -tice vektorů

$$((1, 0, \dots, 0), (0, 1, \dots, 0), \dots, (0, \dots, 0, 1)).$$

Tuto bázi nazýváme *standardní báze* v  $\mathbb{K}^n$ . Všimněme si, že případě konečného pole skalárů, např.  $\mathbb{Z}_k$ , má celý vektorový prostor  $\mathbb{K}^n$  jen konečný počet  $k^n$  prvků.

(2)  $\mathbb{C}$  jako vektorový prostor nad  $\mathbb{R}$  má dimenzi 2, bázi tvoří např. čísla 1 a  $i$ .

(3)  $\mathbb{K}_m[x]$ , tj. prostor polynomů stupně nejvýše  $m$ , má dimenzi  $m+1$ , bazí je např. posloupnost  $1, x, x^2, \dots, x^m$ .

Vektorový prostor všech polynomů  $\mathbb{K}[x]$  má dimenzi  $\infty$ , umíme však ještě stále najít bázi (i když s nekonečně mnoha prvky):  $1, x, x^2, \dots$

(4) Vektorový prostor  $\mathbb{R}$  nad  $\mathbb{Q}$  má dimenzi  $\infty$  a nemá spočetnou bázi.

(5) Vektorový prostor všech zobrazení  $f: \mathbb{R} \rightarrow \mathbb{R}$  má také dimenzi  $\infty$  a nemá spočetnou bázi.

**2.33. Souřadnice vektorů.** Jestliže pevně zvolíme bázi

$(v_1, \dots, v_n)$  konečněrozměrného prostoru  $V$ , pak můžeme každý vektor  $w \in V$  vyjádřit jako lineární kombinaci  $v = a_1 v_1 + \dots + a_n v_n$ . Předpokládejme, že to uděláme dvěma způsoby:

$$w = a_1 v_1 + \dots + a_n v_n = b_1 v_1 + \dots + b_n v_n.$$

Potom ale

$$0 = (a_1 - b_1) \cdot v_1 + \dots + (a_n - b_n) \cdot v_n$$

a proto  $a_i = b_i$  pro všechna  $i = 1, \dots, n$ . Dospěli jsme proto k závěru:

V konečněrozměrném vektorovém prostoru lze každý vektor zadat právě jediným způsobem jako lineární kombinaci bázevých vektorů. Koeficienty této jediné lineární kombinace vyjadřující daný vektor  $w \in V$  ve zvolené bázi  $\underline{v} = (v_1, \dots, v_n)$  se nazývají *souřadnice vektoru*  $w$  v této bázi.

Kdykoliv budeme mluvit o souřadnicích  $(a_1, \dots, a_n)$  vektoru  $w$ , které vyjadřujeme jako posloupnost, musíme mít pevně zvolenu i posloupnost bázevých vektorů  $\underline{v} = (v_1, \dots, v_n)$ . Jakkoliv jsme tedy báze zavedli jako minimální množiny generátorů, ve skutečnosti s nimi budeme pracovat

 $\square$

jako s posloupnostmi (tedy s uspořádanými množinami, kde je pevně zadáno pořadí báze prvků).

PŘÍRAZENÍ SOUŘADNIC VEKTORŮM

Přiřazení, které vektoru  $u = a_1v_1 + \dots + a_nv_n$  přiřadí jeho souřadnice v bázi  $\underline{v}$ , budeme značit stejným symbolem  $\underline{v} : V \rightarrow \mathbb{K}^n$ . Má tyto vlastnosti:

- (1)  $\underline{v}(u + w) = \underline{v}(u) + \underline{v}(w); \forall u, w \in V,$
- (2)  $\underline{v}(a \cdot u) = a \cdot \underline{v}(u); \forall a \in \mathbb{K}, \forall u \in V.$

Všimněme si, že operace na levých a pravých stranách těchto rovnic nejsou totožné, naopak, jde o operace na různých vektorových prostorech! Při této příležitosti se také můžeme zamyslet nad obecným případem báze  $M$  (možná nekonečněrozměrného) prostoru  $V$ . Báze pak nemusí být spočetná, pořád ale ještě můžeme definovat zobrazení  $\underline{M} : V \rightarrow \mathbb{K}^M$  (tj. souřadnice vektoru jsou zobrazení z  $M$  do  $\mathbb{K}$ ).

Uvedené vlastnosti přiřazení souřadnic jsme viděli už dříve u zobrazení, kterým jsme v geometrii roviny říkali lineární (zachovávaly naši lineární strukturu v rovině). Než se budeme věnovat podrobněji závislosti souřadnic na volbě báze, podíváme se obecněji na pojem linearit y zobrazení.

2.23

**2.34. Lineární zobrazení.** Pro jakékoliv vektorové prostory (konečné i nekonečné dimenze), definujeme „linearitu“ zobrazení mezi prostory obdobně, jako jsme to viděli již v rovině  $\mathbb{R}^2$ :

DEFINICE LINEÁRNÍCH ZOBRAZENÍ

Nechť  $V$  a  $W$  jsou vektorové prostory nad týmž polem skalárů  $\mathbb{K}$ . Zobrazení  $f : V \rightarrow W$  se nazývá *lineární zobrazení (homomorfismus)* jestliže platí:

- (1)  $f(u + v) = f(u) + f(v), \forall u, v \in V$
- (2)  $f(a \cdot u) = a \cdot f(u), \forall a \in \mathbb{K}, \forall u \in V.$

Samozřejmě, že jsme taková zobrazení již viděli ve formě násobení matic:

$$f : \mathbb{K}^n \rightarrow \mathbb{K}^m, x \mapsto A \cdot x$$

s maticí typu  $m/n$  nad  $\mathbb{K}$ .

Obraz  $\text{Im } f := f(V) \subset W$  je vždy vektorový podprostor, protože lineární kombinace obrazů  $f(u_i)$  je obrazem lineární kombinace vektorů  $u_i$  se stejnými koeficienty.

Stejně tak je vektorovým podprostorem množina všech vektorů  $\text{Ker } f := f^{-1}(\{0\}) \subset V$ , protože lineární kombinace nulových obrazů bude vždy zase nulovým vektorem. Podprostor  $\text{Ker } f$  se nazývá *jádro lineárního zobrazení*  $f$ .

Lineární zobrazení, které je bijekcí nazýváme *izomorfismus*.

Podobně jako u abstraktní definice vektorových prostorů, opět je třeba ověřit zdánlivě samozřejmá tvrzení vyplývající z axiomů:

**Tvrzení.** *Nechť  $f : V \rightarrow W$  je lineární zobrazení mezi libovolnými vektorovými prostory nad týmž polem skalárů  $\mathbb{K}$ . Pro*

**2.62.** Uvažme vektorový prostor mnohočlenů jedné neznámé stupně nejvýše 2 s reálnými koeficienty. V tomto prostoru uvažme bázi  $1, x, x^2$ . Napište matici zobrazení derivace v této bázi a také v bázi  $1 + x^2, x, x + x^2$ .

**Řešení.**  $\begin{pmatrix} 0 & 1 & 0 \\ 0 & 0 & 2 \\ 0 & 0 & 0 \end{pmatrix}, \begin{pmatrix} 0 & 1 & 1 \\ 2 & 1 & 3 \\ 0 & -1 & -1 \end{pmatrix}.$  □

**2.63.** Ve standardní bázi v  $\mathbb{R}^3$  určete matici rotace o  $90^\circ$  v kladném smyslu kolem přímky  $(t, t, t), t \in \mathbb{R}$ , orientované ve směru vektoru  $(1, 1, 1)$ . Dále určete matici této rotace v bázi  $\underline{g} = ((1, 1, 0), (1, 0, -1), (0, 1, 1))$ .

**Řešení.** Snadno určíme matici uvažované rotace a to ve vhodné bázi, totiž v bázi dané směrovým vektorem přímky a dále dvěma navzájem kolmými vektory v rovině  $x + y + z = 0$ , tedy v rovině vektorů kolmých k vektoru  $(1, 1, 1)$ . Uvědomme si, že matice rotace v kladném smyslu o  $90^\circ$  v nějaké ortonormální bázi v  $\mathbb{R}^2$  je  $\begin{pmatrix} 0 & -1 \\ 1 & 0 \end{pmatrix}$ , v orto-

gonální s velikostmi vektorů  $k, l$  potom  $\begin{pmatrix} 0 & -k/l \\ l/k & 0 \end{pmatrix}$ . Zvolíme-li v rovině  $x + y + z = 0$  kolmé vektory  $(1, -1, 0)$  a  $(1, 1, -2)$  o velikostech  $\sqrt{2}$  a  $\sqrt{6}$ , tak v bázi  $\underline{f} = ((1, 1, 1), (1, -1, 0), (1, 1, -2))$  má uvažovaná rotace matici  $\begin{pmatrix} 1 & 0 & 0 \\ 0 & 0 & -\sqrt{3} \\ 0 & 1/\sqrt{3} & 0 \end{pmatrix}$ . Abychom získali matici uvažované rotace ve standardní bázi, stačí nám transformovat matici již známým způsobem. Matici přechodu  $T$  od báze  $\underline{f}$  ke standardní dostaneme zapsáním souřadnic (ve standardní bázi) vektorů báze  $\underline{f}$  do

sloupců matice  $T: T = \begin{pmatrix} 1 & 1 & 1 \\ 1 & -1 & 1 \\ 1 & 0 & -2 \end{pmatrix}$ . Celkem tedy pro hledanou matici  $R$  máme

$$(2.3) \quad R = T \cdot \begin{pmatrix} 1 & 0 & 0 \\ 0 & 0 & -\sqrt{3} \\ 0 & 1/\sqrt{3} & 0 \end{pmatrix} \cdot T^{-1}$$

$$(2.4) \quad = \begin{pmatrix} 1/3 & 1/3 - \sqrt{3}/3 & 1/3 + \sqrt{3}/3 \\ 1/3 + \sqrt{3}/3 & 1/3 & 1/3 - \sqrt{3}/3 \\ 1/3 - \sqrt{3}/3 & 1/3 + \sqrt{3}/3 & 1/3 \end{pmatrix}$$

Tento výsledek můžeme ověřit dosazením do matice obecné rotace (2.1), normováním vektoru  $(1, 1, 1)$  dostáváme vektor  $(x, y, z) = (1/\sqrt{3}, 1/\sqrt{3}, 1/\sqrt{3}), \cos(\varphi) = 0, \sin(\varphi) = 1.$  □

**2.64. Matice obecné rotace podruhé.** Zkusme odvodit matici (obecné) rotace (2.1) o úhel  $\varphi$  v kladném smyslu kolem jednotkového vektoru  $(x, y, z)$  jiným způsobem než, jsme učinili v [], analogicky jako v předchozím příkladě. V bázi

$\underline{f} = ((x, y, z), (-y, x, 0), (zx, zy, z^2 - 1))$ , tedy v ortogonální bázi tvořené směrovým vektorem osy rotace a dvěma navzájem kolmými vektory o shodných velikostech  $\sqrt{1-z^2}$  ležícími v rovině kolmé na osu, má uvažovaná rotace matici

$$A = \begin{pmatrix} 1 & 0 & 0 \\ 0 & \cos(\varphi) & -\sin(\varphi) \\ \cos(\varphi) & \sin(\varphi) & 0 \end{pmatrix}. \text{ Maticе přechodu od báze } \underline{f} \text{ ke}$$

standardní bázi je potom  $T = \begin{pmatrix} x & -y & zx \\ y & x & zy \\ z & 0 & z^2 - 1 \end{pmatrix}$  s inverzní maticí

$$T^{-1} = \begin{pmatrix} x & y & z \\ -\frac{y}{1-z^2} & \frac{x}{1-z^2} & 0 \\ \frac{zx}{1-z^2} & \frac{zy}{1-z^2} & -1 \end{pmatrix}.$$

Celkem pak pro matici  $R$  hledané rotace dostáváme

$$R = T \cdot R \cdot T^{-1} =$$

$$\begin{pmatrix} \cos \varphi + (1 - \cos \varphi)x^2 & (1 - \cos \varphi)xy - z \sin \varphi & (1 - \cos \varphi)xz + y \sin \varphi \\ yx(1 - \cos \varphi) + z \sin \varphi & \cos \varphi + (1 - \cos \varphi)y^2 & (1 - \cos \varphi)yz - x \sin \varphi \\ zx(1 - \cos \varphi) - y \sin \varphi & (1 - \cos \varphi)zy + x \sin \varphi & \cos \varphi + (1 - \cos \varphi)z^2 \end{pmatrix}$$

Při násobení a následném zjednodušování je nutno opakovaně použít předpokladu  $x^2 + y^2 + z^2 = 1$ .

Podrobnějším rozbořením vlastností různých typů lineárních zobrazení se nyní dostaneme k pořádnějšímu pochopení nástrojů, které nám vektorové prostory pro lineární modelování procesů a systémů nabízejí.

**2.65.** Najděte matici zrcadlení vzhledem k rovině  $x + y + z = 0$ .

**Řešení.** Z tvaru rovnice roviny zjistíme její jednotkový normálový vektor. V našem případě to je  $n = \frac{1}{\sqrt{3}}(1, 1, 1)$ . Zrcadlení  $Z$  na vektoru  $v$  lze pak vyjádřit  $Zv = v - 2(v \cdot n)n = (1 - 2nn^T)v$  (pro standardní skalární součin je  $v \cdot n = vn^T$ ). Maticе zrcadlení je tedy

$$1 - 2nn^T = \begin{pmatrix} 1 & 0 & 0 \\ 0 & 1 & 0 \\ 0 & 0 & 1 \end{pmatrix} - 2 \cdot \frac{1}{3} \begin{pmatrix} 1 & 1 & 1 \\ 1 & 1 & 1 \\ 1 & 1 & 1 \end{pmatrix} = \frac{1}{3} \begin{pmatrix} 1 & -2 & -2 \\ -2 & 1 & -2 \\ -2 & -2 & 1 \end{pmatrix}$$

□

Nyní jeden známý, ale velmi pěkný příklad.

**2.66.** Určete součet úhlů, které v rovině  $\mathbb{R}^2$  svírají s osou  $x$  postupně vektory  $(1, 1)$ ,  $(2, 1)$  a  $(3, 1)$  (obrázek).

**Řešení.** Uvážíme-li rovinu  $\mathbb{R}^2$  jakožto Gaussovu rovinu komplexních čísel, tak uvedené vektory odpovídají komplexním číslům  $1 + i$ ,  $2 + i$  a  $3 + i$  a máme najít součet jejich argumentů, tedy podle Moivroy věty argument jejich součinu. Jejich součin je  $(1 + i)(2 + i)(3 + i) = (1 + 3i)(3 + i) = 10i$ , tedy ryze imaginární číslo s argumentem  $\pi/2$  a tedy hledaný součet je roven právě  $\pi/2$ . □

všechny vektory  $u, u_1, \dots, u_k \in V$ , a skaláry  $a_1, \dots, a_k \in \mathbb{K}$  platí:

- (1)  $f(0) = 0$ ,
- (2)  $f(-u) = -f(u)$ ,
- (3)  $f(a_1 \cdot u_1 + \dots + a_k \cdot u_k) = a_1 \cdot f(u_1) + \dots + a_k \cdot f(u_k)$ ,
- (4) pro každý vektorový podprostor  $V_1 \subset V$  je jeho obraz  $f(V_1)$  vektorový podprostor ve  $W$ ,
- (5) pro každý podprostor  $W_1 \subset W$  je množina  $f^{-1}(W_1) = \{v \in V; f(v) \in W_1\}$  vektorový podprostor ve  $V$ .

**DŮKAZ.** Počítáme s využitím axiomů a definic a již dokázaných výsledků (dohleďte si případně samostatně!):

$$f(0) = f(u - u) = f((1 - 1) \cdot u) = 0 \cdot f(u) = 0,$$

$$f(-u) = f((-1) \cdot u) = (-1) \cdot f(u) = -f(u).$$

Vlastnost (3) se ověří snadno z definičního vztahu pro dva sčítance indukci přes počet sčítanců. Z platnosti (3) nyní plyne, že  $\langle f(V_1) \rangle = f(V_1)$ , je to tedy vektorový podprostor.

Je-li naopak  $f(u) \in W_1$  a  $f(v) \in W_1$ , pak pro libovolné skaláry bude i  $f(a \cdot u + b \cdot v) = a \cdot f(u) + b \cdot f(v) \in W_1$ . □

### 2.35. Jednoduché důsledky.

- (1) Složení  $g \circ f : V \rightarrow Z$  dvou lineárních zobrazení  $f : V \rightarrow W$  a  $g : W \rightarrow Z$  je opět lineární zobrazení.
- (2) Lineární zobrazení  $f : V \rightarrow W$  je izomorfismus, právě když  $\text{Im } f = W$  a  $\text{Ker } f = \{0\} \subset V$ . Inverzní zobrazení k izomorfismu je opět izomorfismus.
- (3) Pro libovolné podprostory  $V_1, V_2 \subset V$  a lineární zobrazení  $f : V \rightarrow W$  platí

$$f(V_1 + V_2) = f(V_1) + f(V_2),$$

$$f(V_1 \cap V_2) \subset f(V_1) \cap f(V_2).$$

- (4) Zobrazení „přiřazení souřadnic“  $\underline{u} : V \rightarrow \mathbb{K}^n$  dané libovolně zvolenou bází  $\underline{u} = (u_1, \dots, u_n)$  vektorového prostoru  $V$  je izomorfismus.
- (5) Dva konečněrozměrné vektorové prostory jsou izomorfní právě když mají stejnou dimenzi.
- (6) Složení dvou izomorfismů je izomorfismus.

**DŮKAZ.** Ověření prvního tvrzení je velmi snadné cvičení.



Pro důkaz druhého si uvědomme, že je-li  $f$  lineární bijekce, pak je vektor  $w$  vzorem lineární kombinace  $au + bv$ , tj.  $w = f^{-1}(au + bv)$ , právě když

$$f(w) = au + bv = f(a \cdot f^{-1}(u) + b \cdot f^{-1}(v)).$$

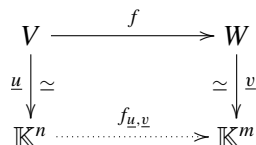
Je tedy také  $w = af^{-1}(u) + bf^{-1}(v)$  a tedy je inverze k lineární bijekci opět lineární zobrazení.

Dále,  $f$  je surjektivní, právě když  $\text{Im } f = W$  a pokud  $\text{Ker } f = \{0\}$ , pak  $f(u) = f(v)$  zaručuje  $f(u - v) = 0$ , tj.  $u = v$ . Je tedy v tom případě  $f$  injektivní.

2.25

Další tvrzení se dokáže snadno přímo z definic. Najděte si protipříklad, že v dokazované inkluzi opravdu nemusí nastat rovnost! Zbývající body jsou již zřejmé.  $\square$

**2.36. Opět souřadnice.** Uvažujme libovolné vektorové prostory  $V$  a  $W$  nad  $\mathbb{K}$  s  $\dim V = n$ ,  $\dim W = m$  a mějme lineární zobrazení  $f : V \rightarrow W$ . Pro každou volbu bází  $\underline{u} = (u_1, \dots, u_n)$  na  $V$ ,  $\underline{v} = (v_1, \dots, v_m)$  na  $W$ , máme k dispozici příslušná přiřazení souřadnic a celou situaci několika právě zmíněných zobrazení zachycuje následující diagram:



Spodní šipka  $f_{\underline{u}, \underline{v}}$  je definována zbylými třemi, tj. jako zobrazení jde o složení

$$f_{\underline{u}, \underline{v}} = \underline{v} \circ f \circ \underline{u}^{-1}.$$

**MATICE LINEÁRNÍHO ZOBRAZENÍ**

Každé lineární zobrazení je jednoznačně určeno svými hodnotami na libovolné množině generátorů, zejména tedy na vektorech báze  $\underline{u}$ . Označme

$$f(u_1) = a_{11} \cdot v_1 + a_{21} \cdot v_2 + \dots + a_{m1} v_m$$

$$f(u_2) = a_{12} \cdot v_1 + a_{22} \cdot v_2 + \dots + a_{m2} v_m$$

$\vdots$

$$f(u_n) = a_{1n} \cdot v_1 + a_{2n} \cdot v_2 + \dots + a_{mn} v_m$$

tj. skaláry  $a_{ij}$  tvoří matici  $A$ , kde sloupce jsou souřadnice hodnot  $f(u_j)$  zobrazení  $f$  na bázevých vektorech vyjádření v bázi  $\underline{v}$  na cílovém prostoru  $W$ .

Matici  $A = (a_{ij})$  nazýváme *maticí zobrazení*  $f$  v bázích  $\underline{u}, \underline{v}$ .

Pro obecný vektor  $u = x_1 u_1 + \dots + x_n u_n \in V$  spočteme (vzpomeňme, že sčítání vektorů je komutativní a distributivní vůči násobení skaláry)

$$\begin{aligned} f(u) &= x_1 f(u_1) + \dots + x_n f(u_n) \\ &= x_1 (a_{11} v_1 + \dots + a_{m1} v_m) + \dots + x_n (a_{1n} v_1 + \dots + a_{mn} v_m) \\ &= (x_1 a_{11} + \dots + x_n a_{1n}) v_1 + \dots + (x_1 a_{m1} + \dots + x_n a_{mn}) v_m. \end{aligned}$$

Pomocí násobení matic lze nyní velice snadno a přehledně zapsat hodnoty zobrazení  $f_{\underline{u}, \underline{v}}(w)$  definovaného jednoznačně předchozím diagramem. Připomeňme si, že vektory v  $\mathbb{K}^r$  chápeme jako sloupce, tj. matice typu  $r/1$

$$f_{\underline{u}, \underline{v}}(\underline{u}(w)) = \underline{v}(f(w)) = A \cdot \underline{u}(w).$$

Naopak, máme-li pevně zvoleny báze na  $V$  i  $W$ , pak každá volba matice  $A$  typu  $m/n$  zadává jednoznačně lineární zobrazení  $\mathbb{K}^n \rightarrow \mathbb{K}^m$  a tedy i zobrazení  $f : V \rightarrow W$ . Máme-li tedy zvoleny báze prostorů  $V$  a  $W$ , odpovídá každé volbě matice typu  $m/n$  právě jedno lineární zobrazení  $V \rightarrow W$  a

**2.67.** Uvažme komplexní čísla jako reálný vektorový prostor a za jeho bázi zvolme  $1$  a  $i$ . V této bázi určete matici následujících lineárních zobrazení:



- a) konjugace,
- b) násobení číslem  $(2 + i)$ .

Určete matici těchto zobrazení v bázi  $(1 - i), (1 + i)$ .

**Řešení.**

a)  $\begin{pmatrix} 1 & 0 \\ 0 & -1 \end{pmatrix}$ ,

b) V obou bázích je matice stejná a to  $\begin{pmatrix} 2 & -1 \\ 1 & 2 \end{pmatrix}$ .

Zamyslete se, proč tomu tak je.  $\square$

**2.68.** Určete matici  $A$ , která ve standardní bázi prostoru  $\mathbb{R}^3$  zadává kolmou projekci do vektorového podprostoru generovaného vektory  $u_1 = (-1, 1, 0)$  a  $u_2 = (-1, 0, 1)$ .

**Řešení.** Nejprve poznamenejme, že uvedený podprostor je rovinou procházející počátkem s normálovým vektorem  $u_3 = (1, 1, 1)$ . Uspořádaná trojice  $(1, 1, 1)$  je totiž očividným řešením soustavy

$$\begin{aligned} -x_1 + x_2 &= 0, \\ -x_1 + x_3 &= 0, \end{aligned}$$

tj. vektor  $u_3$  je kolmý na vektory  $u_1, u_2$ . Podotkněme rovněž, že jsme tento příklad již vyřešili (matici  $A$  známe z dřívějšího příkladu).

Při dané projekci se vektory  $u_1$  a  $u_2$  musejí zobrazit na sebe a vektor  $u_3$  potom na nulový vektor. V bázi složené po řadě z vektorů  $u_1, u_2, u_3$  je proto matice této projekce

$$\begin{pmatrix} 1 & 0 & 0 \\ 0 & 1 & 0 \\ 0 & 0 & 0 \end{pmatrix}.$$

Pomocí matic přechodu

$$T = \begin{pmatrix} -1 & -1 & 1 \\ 1 & 0 & 1 \\ 0 & 1 & 1 \end{pmatrix}, \quad T^{-1} = \begin{pmatrix} -\frac{1}{3} & \frac{2}{3} & -\frac{1}{3} \\ -\frac{1}{3} & -\frac{1}{3} & \frac{2}{3} \\ \frac{1}{3} & \frac{1}{3} & \frac{1}{3} \end{pmatrix}$$

od báze  $(u_1, u_2, u_3)$  ke standardní bázi a od standardní báze k bázi  $(u_1, u_2, u_3)$  získáme

$$\begin{aligned} A &= \begin{pmatrix} -1 & -1 & 1 \\ 1 & 0 & 1 \\ 0 & 1 & 1 \end{pmatrix} \cdot \begin{pmatrix} 1 & 0 & 0 \\ 0 & 1 & 0 \\ 0 & 0 & 0 \end{pmatrix} \cdot \begin{pmatrix} -\frac{1}{3} & \frac{2}{3} & -\frac{1}{3} \\ -\frac{1}{3} & -\frac{1}{3} & \frac{2}{3} \\ \frac{1}{3} & \frac{1}{3} & \frac{1}{3} \end{pmatrix} \\ &= \begin{pmatrix} \frac{2}{3} & -\frac{1}{3} & -\frac{1}{3} \\ -\frac{1}{3} & \frac{2}{3} & -\frac{1}{3} \\ -\frac{1}{3} & -\frac{1}{3} & \frac{2}{3} \end{pmatrix}. \end{aligned}$$

$\square$

**2.69.** Napište matici zobrazení kolmé projekce do roviny procházející počátkem a kolmé na vektor  $(1, 1, 1)$ .

2.25a

**Řešení.** Obraz libovolného bodu (vektoru)  $\mathbf{x} = (x_1, x_2, x_3) \in \mathbb{R}^3$  v uvažovaném zobrazení získáme tak, že od daného bodu odečteme jeho kolmou projekci do normálového směru dané roviny, tedy do směru  $(1, 1, 1)$ . Tato projekce  $\mathbf{p}$  je dána (viz přednáška) jako

$$\frac{(\mathbf{x}, (1, 1, 1))}{|(1, 1, 1)|^2} = \left( \frac{x_1 + x_2 + x_3}{3}, \frac{x_1 + x_2 + x_3}{3}, \frac{x_1 + x_2 + x_3}{3} \right).$$

Výsledné zobrazení je tedy

$$\begin{aligned} \mathbf{x} - \mathbf{p} &= \left( \frac{2x_1}{3} - \frac{x_2 + x_3}{3}, \frac{2x_2}{3} - \frac{x_1 + x_3}{3}, \frac{2x_3}{3} - \frac{x_1 + x_2}{3} \right) = \\ &= \begin{pmatrix} \frac{2}{3} & -\frac{1}{3} & -\frac{1}{3} \\ -\frac{1}{3} & \frac{2}{3} & -\frac{1}{3} \\ -\frac{1}{3} & -\frac{1}{3} & \frac{2}{3} \end{pmatrix} \begin{pmatrix} x_1 \\ x_2 \\ x_3 \end{pmatrix}. \end{aligned}$$

□

**2.70.** Ve vektorovém prostoru  $\mathbb{R}^3$  určete matici kolmé projekce na rovinu  $x + y - 2z = 0$ .

**2.71.** Ve vektorovém prostoru  $\mathbb{R}^3$  určete matici kolmé projekce na rovinu  $2x - y + 2z = 0$ .

### H. Vlastní čísla a vlastní vektory

2.31

**2.72.** Vlastní čísla a vlastní vektory mohou sloužit k názornému popisu lineárních zobrazení, zejména v  $\mathbb{R}^2$  a  $\mathbb{R}^3$ . (1) Uvažme zobrazení s maticí ve standardní bázi

$$f : \mathbb{R}^3 \rightarrow \mathbb{R}^3, \quad A = \begin{pmatrix} 0 & 0 & 1 \\ 0 & 1 & 0 \\ 1 & 0 & 0 \end{pmatrix}.$$

Pak dostáváme

$$|A - \lambda E| = \begin{vmatrix} -\lambda & 0 & 1 \\ 0 & 1 - \lambda & 0 \\ 1 & 0 & -\lambda \end{vmatrix} = -\lambda^3 + \lambda^2 + \lambda - 1,$$

s kořeny  $\lambda_{1,2} = 1, \lambda_3 = -1$ . Vlastní vektory s vlastní hodnotou  $\lambda = 1$  se spočtou:

$$\begin{pmatrix} -1 & 0 & 1 \\ 0 & 0 & 0 \\ 1 & 0 & -1 \end{pmatrix} \sim \begin{pmatrix} 1 & 0 & -1 \\ 0 & 0 & 0 \\ 0 & 0 & 0 \end{pmatrix}; \quad 2.26$$

s bází prostoru řešení, tj. všech vlastních vektorů s touto vlastní hodnotou

$$u_1 = (0, 1, 0), \quad u_2 = (1, 0, 1).$$

Podobně pro  $\lambda = -1$  dostáváme třetí nezávislý vlastní vektor

$$\begin{pmatrix} 1 & 0 & 1 \\ 0 & 2 & 0 \\ 1 & 0 & 1 \end{pmatrix} \sim \begin{pmatrix} 1 & 0 & 1 \\ 0 & 2 & 0 \\ 0 & 0 & 0 \end{pmatrix} \Rightarrow u_3 = (-1, 0, 1).$$

ukázali jsme bijekci mezi maticemi příslušného rozměru a lineárními zobrazeními  $V \rightarrow W$ .

**2.37. Matice přechodu mezi souřadnicemi.** Jestliže za  $V$  i  $W$  zvolíme tentýž prostor, ale s různými bázemi, a za  $f$  identické zobrazení, vyjadřuje postup z předchozího odstavce vektory báze  $\underline{u}$  v souřadnicích vzhledem k  $\underline{v}$ . Označme výslednou matici  $T$ . Když pak zadáme vektor  $u$



$$u = x_1 u_1 + \dots + x_n u_n$$

v souřadnicích vzhledem k  $\underline{u}$  a dosadíme za  $u_i$  jejich vyjádření pomocí vektorů z  $\underline{v}$ , obdržíme souřadné vyjádření  $\bar{x} = (\bar{x}_1, \dots, \bar{x}_n)$  téhož vektoru v bázi  $\underline{v}$ . Stačí k tomu přeskádat pořadí sčítanců a vyjádřit skaláry u jednotlivých vektorů báze.

Ve skutečnosti teď děláme totéž, co v předchozím odstavci pro speciální případ identického zobrazení  $\text{id}_V$  na vektorovém prostoru  $V$ . Matice tohoto identického zobrazení je  $T$  a tedy nutně musí naznačený příčný výpočet dát  $\bar{x} = T \cdot x$ . Situace se zobrazuje na diagramu:

$$\begin{array}{ccc} V & \xrightarrow{\text{id}_V} & V \\ \downarrow \simeq & & \downarrow \simeq \\ \mathbb{K}^n & \xrightarrow{T=(\text{id}_V)_{\underline{u},\underline{v}}} & \mathbb{K}^n \end{array}$$

Výslednou matici  $T$  nazýváme *matice přechodu* od báze  $\underline{u}$  vektorového prostoru  $V$  k bázi  $\underline{v}$  téhož prostoru.

Přímo z definice vyplývá:

#### VÝPOČET MATICE PŘECHODU

**Tvrzení.** Matici  $T$  přechodu od báze  $\underline{u}$  k bázi  $\underline{v}$  získáme tak, že souřadnice vektorů báze  $\underline{u}$  v bázi  $\underline{v}$  napíšeme do sloupců matice  $T$ .

Funkce matice přechodu je taková, že známe-li souřadnice  $x$  vektoru v bázi  $\underline{u}$ , pak jeho souřadnice v bázi  $\underline{v}$  se obdrží vynásobením sloupce  $x$  maticí přechodu (zleva). Protože inverzní zobrazení k identickému je opět totéž identické zobrazení, je matice přechodu vždy invertibilní a její inverze je právě matice přechodu opačným směrem, tj. od báze  $\underline{v}$  k bázi  $\underline{u}$ .

**2.38. Více souřadnic.** Nyní si ukážeme, jak se skládají souřadná vyjádření lineárních zobrazení. Uvažme ještě další vektorový prostor  $Z$  nad  $\mathbb{K}$  dimenze  $k$  s bází  $\underline{w}$ , lineární zobrazení  $g : W \rightarrow Z$  a označme příslušnou matici  $g_{\underline{v},\underline{w}}$ .



$$\begin{array}{ccccc} V & \xrightarrow{f} & W & \xrightarrow{g} & Z \\ \downarrow \simeq & & \downarrow \simeq & & \downarrow \simeq \\ \mathbb{K}^n & \xrightarrow{f_{\underline{u},\underline{v}}} & \mathbb{K}^m & \xrightarrow{g_{\underline{v},\underline{w}}} & \mathbb{K}^k \end{array}$$



Složení  $g \circ f$  na horním řádku odpovídá matici zobrazení  $\mathbb{K}^n \rightarrow \mathbb{K}^k$  dole a přímo spočteme (píšeme  $A$  pro matici  $f$  a  $B$  pro matici  $g$  ve zvolených bazích):

$$\begin{aligned} g_{v,w} \circ f_{u,v}(x) &= \underline{w} \circ g \circ \underline{v}^{-1} \circ \underline{v} \circ f \circ \underline{u}^{-1} \\ &= B \cdot (A \cdot x) = (B \cdot A) \cdot x = (g \circ f)_{u,w}(x) \end{aligned}$$

pro všechny  $x \in \mathbb{K}^n$ . Skládání obrazů tedy odpovídá násobení příslušných matic. Všimněte si také, že isomorfismy odpovídají právě invertibilním maticím.

Stejný postup nám dává odpověď na otázku, jak se změní matice zobrazení, změníme-li báze na definičním oboru i oboru hodnot:

$$\begin{array}{ccccccc} V & \xrightarrow{\text{id}_V} & V & \xrightarrow{f} & W & \xrightarrow{\text{id}_W} & W \\ \underline{u}' \downarrow \simeq & & \underline{u} \downarrow \simeq & & \simeq \downarrow \underline{v} & & \simeq \downarrow \underline{v}' \\ \mathbb{K}^n & \xrightarrow{T} & \mathbb{K}^n & \xrightarrow{f_{u,v}} & \mathbb{K}^m & \xrightarrow{S^{-1}} & \mathbb{K}^m \end{array}$$

kde  $T$  je matice přechodu od  $\underline{u}'$  k  $\underline{u}$  a  $S$  je matice přechodu od  $\underline{v}'$  k  $\underline{v}$ . Je-li tedy  $A$  původní matice zobrazení, bude nová dána jako  $A' = S^{-1}AT$ .

Ve speciálním případě lineárního zobrazení  $f : V \rightarrow V$ , tj. zobrazení má stejný prostor  $V$  jako definiční obor i obor hodnot, vyjadřujeme zpravidla  $f$  pomocí jediné báze  $\underline{u}$  prostoru  $V$ . Pak tedy přechod k nové bázi  $\underline{u}'$  s maticí přechodu  $T$  od  $\underline{u}'$  k  $\underline{u}$  bude znamenat změnu matice zobrazení na  $A' = T^{-1}AT$ .

2.27

**2.39. Lineární formy.** Obzvláště jednoduchým a zároveň důležitým případem lineárních zobrazení jsou tzv. *lineární formy*. Jde o lineární zobrazení z vektorového prostoru  $V$  nad polem skalárů  $\mathbb{K}$  do skalárů  $\mathbb{K}$ . Jsou-li dány souřadnice na  $V$ , je přiřazení jednotlivé  $i$ -té souřadnice vektorům právě takovou lineární formou. Přesněji řečeno, pro každou volbu báze  $\underline{v} = (v_1, \dots, v_n)$  máme k dispozici lineární formy  $v_i^* : V \rightarrow \mathbb{K}$  takové, že  $v_i^*(v_j) = \delta_{ij}$ , tj. nula pro různé indexy  $i$  a  $j$  a jednička pro stejné.

Vektorový prostor všech lineárních forem na  $V$  značíme  $V^*$  a říkáme mu *duální prostor* vektorovému prostoru  $V$ . Předpokládejme nyní, že prostor  $V$  má konečnou dimenzi  $n$ . Bázi  $V^*$  sestavenou z přiřazování jednotlivých souřadnic jako výše nazýváme *duální báze*. Skutečně se jedná o bázi prostoru  $V^*$ , protože jsou tyto formy zjevně lineárně nezávislé (prověřte si!) a je-li  $\alpha$  libovolná forma, pak platí pro každý vektor  $u = x_1v_1 + \dots + x_nv_n$

$$\begin{aligned} \alpha(u) &= x_1\alpha(v_1) + \dots + x_n\alpha(v_n) \\ &= \alpha(v_1)v_1^*(u) + \dots + \alpha(v_n)v_n^*(u) \end{aligned}$$

a je tedy  $\alpha$  lineární kombinací forem  $v_i^*$ .

Při pevně zvolené bázi  $\{1\}$  na jednorozměrném prostoru skalárů  $\mathbb{K}$  jsou s každou volbou báze  $\underline{v}$  na  $V$  lineární formy  $\alpha$  ztotožněny s maticemi typu  $1/n$ , tj. s řádky  $y$ . Právě komponenty těchto řádků jsou souřadnicemi obecných lineárních forem v duální bázi  $\underline{v}^*$ . Vyčíslení takové formy na vektoru je

V bázi  $u_1, u_2, u_3$  (všimněte si, že  $u_3$  musí být lineárně nezávislý na zbylých dvou díky předchozí větě a  $u_1, u_2$  vyšly jako dvě nezávislá řešení) má  $f$  diagonální matici

$$A = \begin{pmatrix} 1 & 0 & 0 \\ 0 & 1 & 0 \\ 0 & 0 & -1 \end{pmatrix}.$$

Celý prostor  $\mathbb{R}^3$  je přímým součtem vlastních podprostorů,  $\mathbb{R}^3 = V_1 \oplus V_2$ ,  $\dim V_1 = 2$ ,  $\dim V_2 = 1$ . Tento rozklad je dán jednoznačně a vypovídá mnoho o geometrických vlastnostech zobrazení  $f$ . Vlastní podprostor  $V_1$  je navíc přímým součtem jednorozměrných vlastních podprostorů, které lze však zvolit mnoha různými způsoby (takový další rozklad nemá tedy již žádný geometrický význam).

(2) Uvažme lineární zobrazení  $f : \mathbb{R}_2[x] \rightarrow \mathbb{R}_2[x]$  definované derivováním polynomů, tj.  $f(1) = 0$ ,  $f(x) = 1$ ,  $f(x^2) = 2x$ . Zobrazení  $f$  má tedy v obvyklé bázi  $(1, x, x^2)$  matici

$$A = \begin{pmatrix} 0 & 1 & 0 \\ 0 & 0 & 2 \\ 0 & 0 & 0 \end{pmatrix}.$$

Charakteristický polynom je  $|A - \lambda \cdot E| = -\lambda^3$ , existuje tedy pouze jediná vlastní hodnota,  $\lambda = 0$ . Spočteme vlastní vektory:

$$\begin{pmatrix} 0 & 1 & 0 \\ 0 & 0 & 2 \\ 0 & 0 & 0 \end{pmatrix} \sim \begin{pmatrix} 0 & 1 & 0 \\ 0 & 0 & 1 \\ 0 & 0 & 0 \end{pmatrix}.$$

Prostor vlastních vektorů je tedy jednorozměrný, generovaný konstantním polynomem 1.

**2.73. Příklad i se změnou báze.** Určete vlastní čísla a vlastní vektory matice

$$A = \begin{pmatrix} 1 & 1 & 0 \\ 1 & 2 & 1 \\ 1 & 2 & 1 \end{pmatrix}.$$

Popište toto zobrazení a napište jeho matici v bázi:

$$\begin{aligned} e_1 &= [1, -1, 1] \\ e_2 &= [1, 2, 0] \\ e_3 &= [0, 1, 1] \end{aligned}$$

**Řešení.** Charakteristický polynom dané matice je

$$\begin{vmatrix} 1 - \lambda & 1 & 0 \\ 1 & 2 - \lambda & 1 \\ 1 & 2 & 1 - \lambda \end{vmatrix} = -\lambda^3 + 4\lambda^2 - 2\lambda = -\lambda(\lambda^2 - 4\lambda + 2).$$

Kořeny tohoto polynomu, vlastní čísla, udávají, kdy nebude mít matice

$$\begin{pmatrix} 1 - \lambda & 1 & 0 \\ 1 & 2 - \lambda & 1 \\ 1 & 2 & 1 - \lambda \end{pmatrix}$$

plnou hodnot, tedy soustava rovnic

$$\begin{pmatrix} 1 - \lambda & 1 & 0 \\ 1 & 2 - \lambda & 1 \\ 1 & 2 & 1 - \lambda \end{pmatrix} \begin{pmatrix} x_1 \\ x_2 \\ x_3 \end{pmatrix}$$

bude mít i jiné řešení než řešení  $\mathbf{x} = (0, 0, 0)$ . Vlastní čísla tedy jsou  $0, 2 + \sqrt{2}, 2 - \sqrt{2}$ . Spočítejme vlastní vektory příslušné jednotlivým vlastním hodnotám:

- 0: Řešíme tedy soustavu

$$\begin{pmatrix} 1 & 1 & 0 \\ 1 & 2 & 1 \\ 1 & 2 & 1 \end{pmatrix} \begin{pmatrix} x_1 \\ x_2 \\ x_3 \end{pmatrix} = 0$$

Její řešení je jednodimenzionální vektorový prostor vlastních vektorů  $\langle (1, -1, 1) \rangle$ .

- $2 + \sqrt{2}$ : Řešíme soustavu

$$\begin{pmatrix} -(1 + \sqrt{2}) & 1 & 0 \\ 1 & -\sqrt{2} & 1 \\ 1 & 2 & -(1 + \sqrt{2}) \end{pmatrix} \begin{pmatrix} x_1 \\ x_2 \\ x_3 \end{pmatrix} = 0.$$

Řešením je jednodimenzionální prostor  $\langle (1, 1 + \sqrt{2}, 1 + \sqrt{2}) \rangle$ .

- $2 - \sqrt{2}$ : Řešíme soustavu

$$\begin{pmatrix} (\sqrt{2} - 1) & 1 & 0 \\ 1 & \sqrt{2} & 1 \\ 1 & 2 & (\sqrt{2} - 1) \end{pmatrix} \begin{pmatrix} x_1 \\ x_2 \\ x_3 \end{pmatrix} = 0.$$

Řešením je prostor vlastních vektorů  $\langle (1, 1 - \sqrt{2}, 1 - \sqrt{2}) \rangle$ .

Daná matice má vlastní čísla  $0, 2 + \sqrt{2}$  a  $2 - \sqrt{2}$ , kterým přísluší po řadě jednorozměrné prostory vlastních vektorů  $\langle (1, -1, 1) \rangle$ ,  $\langle (1, 1 + \sqrt{2}, 1 + \sqrt{2}) \rangle$  a  $\langle (1, 1 - \sqrt{2}, 1 - \sqrt{2}) \rangle$ .

Zobrazení tedy můžeme interpretovat jako projekci podél vektoru  $(1, -1, 1)$  do roviny dané vektory  $(1, 1 + \sqrt{2}, 1 + \sqrt{2})$  a  $(1, 1 - \sqrt{2}, 1 - \sqrt{2})$  složenou s lineárním zobrazením daným „natažením“ daným vlastními čísly ve směru uvedených vlastních vektorů.

Nyní jej vyjádříme v uvedené bázi. K tomu budeme potřebovat matici přechodu  $T$  od standardní báze k dané nové bázi. Tu získáme tak, že souřadnice vektorů staré báze v bázi nové napíšeme do sloupců matice  $T$ . My však snadněji zapíšeme matici přechodu od dané báze k bázi standardní, tedy matici  $T^{-1}$ . Souřadnice vektorů nové báze pouze zapíšeme do sloupců:

$$T^{-1} = \begin{pmatrix} 1 & 1 & 0 \\ -1 & 2 & 1 \\ 1 & 0 & 1 \end{pmatrix}.$$

Potom

$$T = T^{-1^{-1}} = \begin{pmatrix} 0 & 0 & 1 \\ 1 & 0 & -1 \\ -2 & 1 & 3 \end{pmatrix},$$

pak dáno vynásobením příslušného řádkového vektoru  $y$  se sloupcem souřadnic  $x$  vektoru  $u \in V$  v bázi  $\underline{v}$ :

$$\alpha(u) = y \cdot x = y_1 x_1 + \dots + y_n x_n.$$

Zejména tedy vidíme, že pro každý konečněrozměrný prostor  $V$  je  $V^*$  izomorfní prostoru  $V$ . Realizace takového izomorfismu je dána např. naší volbou duální báze ke zvolené bázi na prostoru  $V$ .

V tomto kontextu tedy znovu potkáváme skalární součin řádku  $n$  skalárů se sloupcem  $n$  skalárů, jak jsme s ním pracovali již v odstavci 2.3 na straně 74.

U nekonečně rozměrného prostoru se věci mají jinak.



Např. už nejjednodušší příklad prostoru všech polynomů  $\mathbb{K}[x]$  v jedné proměnné je vektorovým prostorem se spočetnou bází s prvky  $v_i = x^i$  a stejně jako výše můžeme definovat lineárně nezávislé formy  $v_i^*$ . Jakýkoliv formální nekonečný součet  $\sum_{i=0}^{\infty} a_i v_i^*$  je nyní dobře definovanou lineární formou na  $\mathbb{K}[x]$ , protože bude vyčíslován vždy pouze na konečné lineární kombinaci bázevých polynomů  $x^i, i = 0, 1, 2, \dots$ .

Spočetná množina všech  $v_i^*$  tedy není bází. Ve skutečnosti lze ukázat, že tento duální prostor ani spočetnou bází mít nemůže.

#### 2.40. Velikost vektorů a skalární součin.



V úvahách o geometrii roviny  $\mathbb{R}^2$  jsme již v první kapitole v odstavci 1.29 pracovali nejen s bázemi a lineárními zobrazeními, ale také s velikostí vektorů a jejich úhly. Pro zavedení těchto pojmů jsme také použili skalárního součinu dvou vektorů  $v = (x, y)$  a  $v' = (x', y')$  ve tvaru  $u \cdot v = xx' + yy'$ . Skutečně, souřadné vyjádření pro velikost  $v = (x, y)$  je dáno

$$\|v\| = \sqrt{x^2 + y^2} = \sqrt{v \cdot v},$$

zatímco (orientovaný) úhel  $\varphi$  dvou vektorů  $v = (x, y)$  a  $v' = (x', y')$  je v rovinné geometrii dán vztahem

$$\cos \varphi = \frac{xx' + yy'}{\|v\| \|v'\|}.$$

Povšimněme si, že tento skalární součin je lineární v každém ze svých argumentů, značíme jej  $u \cdot v$  nebo  $\langle v, v' \rangle$ . Takto definovaný skalární součin je také symetrický ve svých argumentech a samozřejmě platí, že  $\|v\| = 0$ , právě když  $v = 0$ . Z našich úvah je také vidět, že v Euklidovské rovině jsou dva vektory kolmé, právě když je jejich skalární součin nulový.

V případě reálného vektorového prostoru jakékoliv dimenze budeme hledat obdobný postup, protože koncept úhlu dvou vektorů je samozřejmě vždy dvourozměrný (jistě chceme, aby úhel byl stejný v dvourozměrném podprostoru obsahujícím  $u$  a  $v$  jako úhel v celém prostoru). Budeme v několika dalších odstavcích uvažovat pouze konečněrozměrné vektorové prostory nad reálnými skaláry  $\mathbb{R}$ .

SKALÁRNÍ SOUČIN A KOLMOST

Skalární součin na vektorovém prostoru  $V$  nad reálnými čísly je zobrazení  $\langle \cdot, \cdot \rangle : V \times V \rightarrow \mathbb{R}$ , které je symetrické ve svých argumentech, lineární v každém z nich a takové, že  $\langle v, v \rangle \geq 0$  a  $\|v\|^2 = \langle v, v \rangle = 0$  pouze při  $v = 0$ .

Číslu  $\|v\| = \sqrt{\langle v, v \rangle}$  říkáme velikost vektoru  $v$ .

Vektory  $v$  a  $w \in V$  se nazývají *ortogonální* nebo *kolmé*, jestliže  $\langle v, w \rangle = 0$ . Píšeme také  $v \perp w$ . Vektor  $v$  se nazývá *normovaný*, jestliže  $\|v\| = 1$ .

Báze prostoru  $V$  složená z ortogonálních vektorů se nazývá *ortogonální báze*. Jsou-li bázevé vektory navíc i normované, je to *ortonormální báze*.

Skalární součin se také často zapisuje pomocí obvyklé tečky, tj.  $\langle u, v \rangle = u \cdot v$ . Z kontextu je pak třeba poznat, zda jde o součin dvou vektorů (tedy výsledkem je skalár) nebo něco jiného (stejně jsme značili součin matic a také někdy součin skalárů).

Protože je skalární součin lineární v každém ze svých argumentů, bude jistě úplně určen již svými hodnotami na dvojicích bázevých vektorů. Skutečně, zvolme si bázi  $\underline{u} = (u_1, \dots, u_n)$  prostoru  $V$  a označme

$$s_{ij} = \langle u_i, u_j \rangle.$$

Pak ze symetričnosti skalárního součinu plyne  $s_{ij} = s_{ji}$  a z linearity součinu v každém z argumentů dostáváme:

$$\left\langle \sum_i x_i u_i, \sum_j y_j u_j \right\rangle = \sum_{i,j} x_i y_j \langle u_i, u_j \rangle = \sum_{i,j} s_{ij} x_i y_j.$$

Pokud je báze ortonormální, je matice  $S$  jednotkovou maticí. Tím jsme dokázali následující užitečné tvrzení:

SKALÁRNÍ SOUČIN A ORTONORMÁLNÍ BÁZE

**Tvrzení.** Skalární součin je v každé ortonormální bázi dán v souřadnicích výrazem

$$\langle x, y \rangle = x^T \cdot y.$$

Pro každou obecnou bázi prostoru  $V$  existuje symetrická matice  $S$  taková, že souřadně vyjádření skalárního součinu je

$$\langle x, y \rangle = x^T \cdot S \cdot y.$$

2.33b

**2.41. Ortogonální doplňky a projekce.** Pro každý pevně zvolený podprostor  $W \subset V$  v prostoru se skalárním součinem definujeme jeho *ortogonální doplněk* takto

$$W^\perp = \{u \in V; u \perp v \text{ pro všechny } v \in W\}.$$

Přímo z definice je zjevné, že  $W^\perp$  je vektorový podprostor. Jestliže  $W \subset V$  má bázi  $(u_1, \dots, u_k)$ , je podmínka pro  $W^\perp$  dána jako  $k$  homogenních rovnic pro  $n$  proměnných. Bude tedy mít  $W^\perp$  dimenzi alespoň  $n-k$ . Zároveň ale  $u \in W \cap W^\perp$

a pro matici  $B$  zobrazení v nové bázi pak máme (viz 2.38)

$$B = TAT^{-1} = \begin{pmatrix} 0 & 5 & 2 \\ 0 & -2 & -1 \\ 0 & 14 & 6 \end{pmatrix}.$$

□

**2.74.** Nalezte vlastní čísla a jim příslušné vektorové prostory vlastních vektorů matice:

$$\begin{pmatrix} -1 & -\frac{5}{6} & \frac{5}{3} \\ 0 & -\frac{2}{3} & -\frac{2}{3} \\ 0 & \frac{1}{6} & -\frac{4}{3} \end{pmatrix}.$$

**2.75.** Určete charakteristický polynom  $|A - \lambda E|$ , vlastní čísla a vlastní vektory matice

$$\begin{pmatrix} 4 & -1 & 6 \\ 2 & 1 & 6 \\ 2 & -1 & 8 \end{pmatrix}.$$

**2.76.** Stanovte vlastní hodnoty matice

$$\begin{pmatrix} -13 & 5 & 4 & 2 \\ 0 & -1 & 0 & 0 \\ -30 & 12 & 9 & 5 \\ -12 & 6 & 4 & 1 \end{pmatrix}.$$

**2.77.** Udejte příklad čtyřrozměrné matice s vlastními čísly  $\lambda_1 = 6$  a  $\lambda_2 = 7$  takové, aby násobnost  $\lambda_2$  jako kořene charakteristického polynomu byla 3 a aby

- (a) dimenze podprostoru vlastních vektorů  $\lambda_2$  byla 3;
- (b) dimenze podprostoru vlastních vektorů  $\lambda_2$  byla 2;
- (c) dimenze podprostoru vlastních vektorů  $\lambda_2$  byla 1.

**2.78.** Víte-li, že čísla 1, -1 jsou vlastní hodnoty matice

$$A = \begin{pmatrix} -11 & 5 & 4 & 1 \\ -3 & 0 & 1 & 0 \\ -21 & 11 & 8 & 2 \\ -9 & 5 & 3 & 1 \end{pmatrix},$$

uvedte v echna ře ení charakteristické rovnice  $|A - \lambda E| = 0$ . Ná-pověda: Označíme-li kořeny polynomu  $|A - \lambda E|$  jako  $\lambda_1, \lambda_2, \lambda_3, \lambda_4$ , je

$$|A| = \lambda_1 \cdot \lambda_2 \cdot \lambda_3 \cdot \lambda_4, \quad \text{tr } A = \lambda_1 + \lambda_2 + \lambda_3 + \lambda_4.$$

**2.79.** Pro libovolnou  $n \times n$  matici  $A$  je její charakteristický poly-nom  $|A - \lambda E|$  stupně  $n$ , je tedy tvaru

$$|A - \lambda E| = c_n \lambda^n + c_{n-1} \lambda^{n-1} + \dots + c_1 \lambda + c_0, \quad c_n \neq 0,$$

přičem platí

$$c_n = (-1)^n, \quad c_{n-1} = (-1)^{n-1} \text{tr } A, \quad c_0 = |A|.$$

Jestliže je matice  $A$  trojrozměrná, obdržíme

$$|A - \lambda E| = -\lambda^3 + (\text{tr } A) \lambda^2 + c_1 \lambda + |A|.$$

Volbou  $\lambda = 1$  dostáváme

$$|A - E| = -1 + \operatorname{tr} A + c_1 + |A|.$$

Odsud získáváme vyjádření

$$|A - \lambda E| = -\lambda^3 + (\operatorname{tr} A)\lambda^2 + (|A - E| + 1 - \operatorname{tr} A - |A|)\lambda + |A|.$$

Využijte toto vyjádření k určení charakteristického polynomu a vlastních hodnot matice

$$A = \begin{pmatrix} 32 & -67 & 47 \\ 7 & -14 & 13 \\ -7 & 15 & -6 \end{pmatrix}.$$

2.80. Vypočítejte  $A^5$  a  $A^{-3}$ , je-li

$$A = \begin{pmatrix} 2 & -1 & 1 \\ -1 & 2 & -1 \\ 0 & 0 & 1 \end{pmatrix}.$$

2.81. Bez počítání napište spektrum lineárního zobrazení  $f : \mathbb{R}^3 \rightarrow \mathbb{R}^3$  zadaného přiřazením  $(x_1, x_2, x_3) \mapsto (x_1 + x_3, x_2, x_1 + x_3)$ .

**2.82. Pauliho matice.** Ve fyzice se stav částice se spinem  $\frac{1}{2}$  popisuje Pauliho maticemi. Jsou to následující matice  $2 \times 2$  nad komplexními čísly

$$\sigma_1 = \begin{pmatrix} 0 & 1 \\ 1 & 0 \end{pmatrix}, \sigma_2 = \begin{pmatrix} 0 & -i \\ i & 0 \end{pmatrix}, \sigma_3 = \begin{pmatrix} 1 & 0 \\ 0 & -1 \end{pmatrix} \quad \boxed{2.33a}$$

Ukažte, že pro komutátor matic (značený hranatými závorkami) platí  $[\sigma_1, \sigma_2] := \sigma_1\sigma_2 - \sigma_2\sigma_1 = 2i\sigma_3$  a podobně  $[\sigma_1, \sigma_3] = 2i\sigma_2$  a  $[\sigma_2, \sigma_3] = 2i\sigma_1$ . Dále ukažte, že  $\sigma_1^2 = \sigma_2^2 = \sigma_3^2 = 1$  a vlastní hodnoty matic jsou  $\pm 1$ .

Ukažte, že pro matice popisující stav částice se spinem 1

$$\frac{1}{\sqrt{2}} \begin{pmatrix} 0 & 1 & 0 \\ 1 & 0 & 1 \\ 0 & 1 & 0 \end{pmatrix}, \frac{1}{\sqrt{2}} \begin{pmatrix} 0 & -i & 0 \\ i & 0 & -i \\ 0 & i & 0 \end{pmatrix}, \begin{pmatrix} 1 & 0 & 0 \\ 0 & 0 & 0 \\ 0 & 0 & -1 \end{pmatrix}$$

platí stejné komutační relace jako v případě Pauliho matic.

**Řešení.** Označme  $I := \begin{pmatrix} 1 & 0 \\ 0 & 1 \end{pmatrix}$ ,  $J := i\sigma_3$ ,  $K := i\sigma_2$ ,  $L := i\sigma_1$ .

Ukažte, že  $I, J, K$  tvoří algebru kvaternionů, tj.  $I^2 = J^2 = K^2 = -1$  a  $IJ = -JI = K$ ,  $JK = -KJ = I$  a  $KI = -IK = J$ .  $\square$

2.83. Uveďte dimenze vlastních podprostorů jednotlivých vlastních hodnot  $\lambda_i$  matice

$$\begin{pmatrix} 4 & 0 & 0 & 0 \\ 1 & 4 & 0 & 0 \\ 5 & 2 & 3 & 0 \\ 0 & 4 & 0 & 3 \end{pmatrix}.$$

2.84. Lze vyjádřit matici

$$B = \begin{pmatrix} 5 & 6 \\ 6 & 5 \end{pmatrix}$$

znamená  $\langle u, u \rangle = 0$  a tedy  $u = 0$  podle definice skalárního součinu. Zřejmě je tedy vždy celý prostor  $V$  přímým součtem

$$V = W \oplus W^\perp.$$

Lineární zobrazení  $f : V \rightarrow V$  na libovolném vektorovém prostoru se nazývá *projekce*, jestliže platí

$$f \circ f = f.$$

V takovém případě je pro každý vektor  $v \in V$

$$v = f(v) + (v - f(v)) \in \operatorname{Im}(f) + \operatorname{Ker}(f) = V$$

a je-li  $v \in \operatorname{Im}(f)$  a  $f(v) = 0$ , pak je i  $v = 0$ . Je tedy přechází součet podprostorů přímý. Říkáme, že  $f$  je projekce na podprostor  $W = \operatorname{Im}(f)$  podél podprostoru  $U = \operatorname{Ker}(f)$ . Slovy se dá projekce popsat přirozeně takto: rozložíme daný vektor na komponentu ve  $W$  a v  $U$  a tu druhou zapomeneme.

Je-li na  $V$  navíc skalární součin, říkáme že jde o kolmou projekci, když je jádro kolmé na obraz. Každý podprostor  $W \neq V$  tedy definuje *kolmou projekci* na  $W$ . Je to projekce na  $W$  podél  $W^\perp$ , která je dána pomocí jednoznačného rozkladu každého vektoru  $u$  na komponenty  $u_W \in W$  a  $u_{W^\perp} \in W^\perp$ , tj. lineární zobrazení, které  $u_W + u_{W^\perp}$  zobrazí na  $u_W$ .

**2.42. Existence ortonormální báze.** Povšimněme si, že na každém konečněrozměrném reálném vektorovém prostoru jistě existují skalární součiny. Prostě si stačí vybrat libovolnou bázi, prohlásit ji za ortonormální a hned jeden dobře definovaný skalární součin máme. V této bázi pak skalární součiny počítáme podle vzorce v Tvzení 2.40.

Umíme to ale i naopak. Máme-li zadán skalární součin na vektorovém prostoru  $V$ , můžeme vcelku jednoduše početně využít vhodných kolmých projekcí a jakoukoliv zvolenou bázi upravit na ortonormální. Jde o tzv. *Grammův-Schmidtův ortogonalizační proces*. Cílem této procedury bude z dané posloupnosti nenulových generátorů  $v_1, \dots, v_k$  konečněrozměrného prostoru  $V$  vytvořit ortogonální množinu nenulových generátorů pro  $V$ .

#### GRAMMOVA-SCHMIDTOVA ORTOGONALIZACE

**Tvrzení.** *Nechť  $(u_1, \dots, u_k)$  je lineárně nezávislá  $k$ -tice vektorů prostoru  $V$  se skalárním součinem. Pak existuje ortogonální systém vektorů  $(v_1, \dots, v_k)$  takový, že  $v_i \in \langle u_1, \dots, u_i \rangle$ ,  $i = 1, \dots, k$ . Získáme je následující procedurou:*

- *Nezávislost vektorů  $u_i$  zaručuje, že  $u_1 \neq 0$ ; zvolíme  $v_1 = u_1$ .*
- *Máme-li již vektory  $v_1, \dots, v_\ell$  potřebných vlastností, zvolíme  $v_{\ell+1} = u_{\ell+1} + a_1 v_1 + \dots + a_\ell v_\ell$ , kde  $a_i = -\frac{\langle u_{\ell+1}, v_i \rangle}{\|v_i\|^2}$ .*

**DŮKAZ.** Začneme prvním (nenulovým) vektorem  $v_1$  a spočteme kolmou projekci  $v_2$  do

$$\langle v_1 \rangle^\perp \subset \langle \{v_1, v_2\} \rangle.$$

Výsledek bude nenulový právě, když je  $v_2$  nezávislé na  $v_1$ . Ve všech dalších krocích budeme postupovat obdobně.

V  $\ell$ -tém kroku tedy chceme, aby pro  $v_{\ell+1} = u_{\ell+1} + a_1 v_1 + \dots + a_\ell v_\ell$  platilo  $\langle v_{\ell+1}, v_i \rangle = 0$ , pro všechny  $i = 1, \dots, \ell$ . Odtud plyne

$0 = \langle u_{\ell+1} + a_1 v_1 + \dots + a_\ell v_\ell, v_i \rangle = \langle u_{\ell+1}, v_i \rangle + a_i \langle v_i, v_i \rangle$  a je vidět, že vektory s požadovanými vlastnostmi jsou určeny jednoznačně až na násobek.  $\square$

Kdykoliv máme ortogonální bázi vektorového prostoru  $V$ , stačí vektory vynormovat a získáme bázi ortonormální. Dokázali jsme proto:

**Důsledek.** Na každém konečněrozměrném reálném vektorovém prostoru se skalárním součinem existuje ortonormální báze.  $\square$

V ortonormální bázi se obzvlášť snadno spočtou souřadnice a kolmé projekce. Skutečně, mějme ortonormální bázi  $(e_1, \dots, e_n)$  prostoru  $V$ . Pak každý vektor  $v = x_1 e_1 + \dots + x_n e_n$  splňuje

$$\langle e_i, v \rangle = \langle e_i, x_1 e_1 + \dots + x_n e_n \rangle = x_i$$

a platí tedy vždy

$$\boxed{e2.2} \quad (2.3) \quad v = \langle e_1, v \rangle e_1 + \dots + \langle e_n, v \rangle e_n.$$

Pokud máme zadán podprostor  $W \subset V$  a jeho ortonormální bázi  $(e_1, \dots, e_k)$ , jde ji jistě doplnit na ortonormální bázi  $(e_1, \dots, e_n)$  celého  $V$ . Kolmá projekce obecného vektoru  $v \in V$  do  $W$  pak bude dána vztahem

$$v \mapsto \langle e_1, v \rangle e_1 + \dots + \langle e_n, v \rangle e_k.$$

Pro kolmou projekci nám tedy stačí znát jen ortonormální bázi podprostoru  $W$ , na nějž promítáme.

Povšimněme si také, že obecně jsou projekce  $f$  na podprostor  $W$  podél  $U$  a projekce  $g$  na  $U$  podél  $W$  svázaný vztahem  $g = \text{id}_V - f$ . Je tedy u kolmých projekcí na daný podprostor  $W$  vždy výhodnější počítat ortonormální bázi toho z dvojice  $W, W^\perp$ , který má menší dimenzi.

Uvědomme si také, že existence ortonormální báze nám zaručuje, že pro každý reálný prostor  $V$  dimenze  $n$  se skalárním součinem existuje lineární zobrazení, které je izomorfismem mezi  $V$  a prostorem  $\mathbb{R}^n$  se standardním skalárním součinem. Podrobně to bylo ukázáno již ve Tvzení 2.40, kde jsme ukázali, že hledaným izomorfismem je právě přiřazení souřadnic. Řečeno volnými slovy – v ortonormální bázi se skalární součin pomocí souřadnic počítá stejnou formulí jako standardní skalární součin v  $\mathbb{R}^n$ .

K otázkám velikosti vektorů a projekcím se vrátíme ještě v příští kapitole v obecnějších souvislostech.

ve tvaru součinu  $B = P^{-1} \cdot D \cdot P$  pro nějakou diagonální matici  $D$  a invertibilní matici  $P$ ? Pokud je to možné, udejte příklad takové dvojice matic  $D, P$  a zjistěte, kolik takových dvojic existuje.

**2.85.** Určete, jaké lineární zobrazení  $\mathbb{R}^3 \rightarrow \mathbb{R}^3$  zadává matice

$$\begin{pmatrix} -\frac{2}{3} & -\frac{1}{3} & -\frac{2}{3} \\ \frac{4}{3} & -\frac{7}{3} & -\frac{8}{3} \\ -1 & 1 & 1 \end{pmatrix}$$

**Řešení.** Dvojnásobná vlastní hodnota  $-1$ , příslušné vlastní vektory  $(2, 0, 1)$ ,  $(1, 1, 0)$ , jednonásobná vlastní hodnota  $0$ , vlastní vektor  $(1, 4, -3)$ . Osová souměrnost podle přímky dané posledním vektorem složená s projekcí na rovinu kolmou k poslednímu vektoru, tedy danou obecnou rovnicí  $x + 4y - 3z = 0$ .

## I. Báze a skalární součiny

**2.86.** Pomocí Gramova-Schmidtova ortogonalizačního procesu získajte ortogonální bázi podprostoru

$$U = \{(x_1, x_2, x_3, x_4)^T \in \mathbb{R}^4; x_1 + x_2 + x_3 + x_4 = 0\}$$

prostoru  $\mathbb{R}^4$ .

**Řešení.** Množina řešení uvedené homogenní lineární rovnice je zřejmě vektorovým prostorem s bázi

$$u_1 = \begin{pmatrix} -1 \\ 1 \\ 0 \\ 0 \end{pmatrix}, \quad u_2 = \begin{pmatrix} -1 \\ 0 \\ 1 \\ 0 \end{pmatrix}, \quad u_3 = \begin{pmatrix} -1 \\ 0 \\ 0 \\ 1 \end{pmatrix}.$$

Vektory ortogonální báze získané užitím Gramova-Schmidtova ortogonalizačního procesu budeme značit  $v_1, v_2, v_3$ . Nejprve položme  $v_1 = u_1$ . Dále

$$v_2 = u_2 - \frac{u_2^T \cdot v_1}{\|v_1\|^2} v_1 = u_2 - \frac{1}{2} v_1 = \left(-\frac{1}{2}, -\frac{1}{2}, 1, 0\right)^T,$$

resp. zvolme násobek  $v_2 = (-1, -1, 2, 0)^T$ . Následně je

$$\begin{aligned} v_3 &= u_3 - \frac{u_3^T \cdot v_1}{\|v_1\|^2} v_1 - \frac{u_3^T \cdot v_2}{\|v_2\|^2} v_2 = u_3 - \frac{1}{2} v_1 - \frac{1}{6} v_2 = \\ &= \left(-\frac{1}{3}, -\frac{1}{3}, -\frac{1}{3}, 1\right)^T. \end{aligned}$$

Máme tedy celkem

$$v_1 = \begin{pmatrix} -1 \\ 1 \\ 0 \\ 0 \end{pmatrix}, \quad v_2 = \begin{pmatrix} -1 \\ -1 \\ 2 \\ 0 \end{pmatrix}, \quad v_3 = \begin{pmatrix} -1 \\ -1 \\ -1 \\ 3 \end{pmatrix}.$$

Dodejme, že pro jednoduchost příkladu lze bezprostředně uvést ortonormální bázi z vektorů

$$(1, -1, 0, 0)^T, \quad (0, 0, 1, -1)^T, \quad (1, 1, -1, -1)^T$$

nebo

$$(-1, 1, 1, -1)^T, \quad (1, -1, 1, -1)^T, \quad (-1, -1, 1, 1)^T.$$

□

**2.87.** Ve vektorovém prostoru  $\mathbb{R}^4$  jsou dány trojrozměrné podprostory

$$U = \langle u_1, u_2, u_3 \rangle, \quad V = \langle v_1, v_2, v_3 \rangle,$$

přičemž

$$u_1 = \begin{pmatrix} 1 \\ 1 \\ 1 \\ 0 \end{pmatrix}, \quad u_2 = \begin{pmatrix} 1 \\ 1 \\ 0 \\ 1 \end{pmatrix}, \quad u_3 = \begin{pmatrix} 1 \\ 0 \\ 1 \\ 1 \end{pmatrix}, \quad v_1 = \begin{pmatrix} 1 \\ 1 \\ -1 \\ -1 \end{pmatrix}, \quad v_2 = \begin{pmatrix} 1 \\ -1 \\ 1 \\ -1 \end{pmatrix},$$

$v_3 = (1, -1, -1, 1)^T$ . Určete dimenzi a libovolnou bázi podprostoru  $U \cap V$ .

**Řešení.** Do podprostoru  $U \cap V$  náleží právě ty vektory, které je možné obdržet jako lineární kombinaci vektorů  $u_i$  a také jako lineární kombinaci vektorů  $v_i$ . Hledáme tedy čísla  $x_1, x_2, x_3, y_1, y_2, y_3 \in \mathbb{R}$  taková, aby platilo

$$x_1 \begin{pmatrix} 1 \\ 1 \\ 1 \\ 0 \end{pmatrix} + x_2 \begin{pmatrix} 1 \\ 1 \\ 0 \\ 1 \end{pmatrix} + x_3 \begin{pmatrix} 1 \\ 0 \\ 1 \\ 1 \end{pmatrix} = y_1 \begin{pmatrix} 1 \\ 1 \\ -1 \\ -1 \end{pmatrix} + y_2 \begin{pmatrix} 1 \\ -1 \\ 1 \\ -1 \end{pmatrix} + y_3 \begin{pmatrix} 1 \\ -1 \\ -1 \\ 1 \end{pmatrix},$$

tj. hledáme řešení soustavy

$$\begin{aligned} x_1 + x_2 + x_3 &= y_1 + y_2 + y_3, \\ x_1 + x_2 &= y_1 - y_2 - y_3, \\ x_1 + x_3 &= -y_1 + y_2 - y_3, \\ x_2 + x_3 &= -y_1 - y_2 + y_3. \end{aligned}$$

Při maticovém zápisu této homogenní soustavy (a při zachování pořadí proměnných) je

$$\begin{aligned} \begin{pmatrix} 1 & 1 & 1 & -1 & -1 & -1 \\ 1 & 1 & 0 & -1 & 1 & 1 \\ 1 & 0 & 1 & 1 & -1 & 1 \\ 0 & 1 & 1 & 1 & 1 & -1 \end{pmatrix} &\sim \begin{pmatrix} 1 & 1 & 1 & -1 & -1 & -1 \\ 0 & 0 & -1 & 0 & 2 & 2 \\ 0 & -1 & 0 & 2 & 0 & 2 \\ 0 & 1 & 1 & 1 & 1 & -1 \end{pmatrix} \\ &\sim \begin{pmatrix} 1 & 1 & 1 & -1 & -1 & -1 \\ 0 & 1 & 1 & 1 & 1 & -1 \\ 0 & 0 & -1 & 0 & 2 & 2 \\ 0 & 0 & 1 & 3 & 1 & 1 \end{pmatrix} \sim \begin{pmatrix} 1 & 1 & 1 & -1 & -1 & -1 \\ 0 & 1 & 1 & 1 & 1 & -1 \\ 0 & 0 & 1 & 0 & -2 & -2 \\ 0 & 0 & 0 & 1 & 1 & 1 \end{pmatrix} \\ &\sim \begin{pmatrix} 1 & 1 & 1 & 0 & 0 & 0 \\ 0 & 1 & 1 & 0 & 0 & -2 \\ 0 & 0 & 1 & 0 & -2 & -2 \\ 0 & 0 & 0 & 1 & 1 & 1 \end{pmatrix} \sim \begin{pmatrix} 1 & 0 & 0 & 0 & 0 & 2 \\ 0 & 1 & 0 & 0 & 2 & 0 \\ 0 & 0 & 1 & 0 & -2 & -2 \\ 0 & 0 & 0 & 1 & 1 & 1 \end{pmatrix}. \end{aligned}$$

**2.43. Úhel dvou vektorů.** Jak jsme již zmínili, úhel dvou lineárně nezávislých vektorů musí být stejný, když je budeme uvažovat v dvourozměrném podprostoru, který generují, nebo v okolním prostoru větším. Ve své podstatě je proto pojem úhlu dvou vektorů nezávislý na dimenzi okolního prostoru a pokud si zvolíme ortonormální bázi, jejíž první dva vektory budou generovat tentýž podprostor jako dané vektory  $u$  a  $v$ , můžeme doslova převzít definici z rovinné geometrie. I bez volby báze tedy musí platit:

ÚHEL DVOU VEKTORŮ

Úhel  $\varphi$  dvou vektorů  $v$  a  $w$  ve vektorovém prostoru se skalárním součinem je dán vztahem

$$\cos \varphi = \frac{\langle v, w \rangle}{\|v\| \|w\|}.$$

Takto definovaný úhel nezávisí na uvažovaném pořadí vektorů  $v, w$  a je v intervalu  $0 \leq \varphi \leq \pi$ .

K problematice skalárních součinů a úhlů vektorů se vrátíme v dalších kapitolách.

**2.44. Multilineární formy.** Skalární součin byl dán jako zobrazení ze součinu dvou kopií vektorového prostoru  $V$  do prostoru skalárů, které bylo lineární v každém ze svých argumentů. Podobně budeme pracovat i se zobrazeními ze součinu  $k$  kopií vektorového prostoru  $V$  do skalárů, která jsou lineární v každém ze svých  $k$  argumentů. Hovoříme o  $k$ -lineárních formách.

Nejčastěji se budeme setkávat s *bilineárními formami*, tj. případem  $\alpha : V \times V \rightarrow \mathbb{K}$ , kde pro jakékoliv vektory  $u, v, w, z$  a skaláry  $a, b, c$  a  $d$  platí, stejně jako u skalárního součinu

$$\begin{aligned} \alpha(au + bv, cw + dz) &= ac \alpha(u, w) + ad \alpha(u, z) \\ &\quad + bc \alpha(v, w) + bd \alpha(v, z). \end{aligned}$$

Pokud navíc platí

$$\alpha(u, w) = \alpha(w, u),$$

hovoříme o *symetrické bilineární formě*. Jestliže záměna argumentů vede k obrácení znaménka výsledku, hovoříme o *antisymetrické bilineární formě*.

Již v rovinné geometrii jsme zavedli determinant jako bilineární antisymetrickou formu  $\alpha$ , tj.  $\alpha(u, w) = -\alpha(w, u)$ . Obecně víme z věty 2.17, že je determinant v dimenzi  $n$  možno nahlížet jako  $n$ -lineární antisymetrickou formu.

Jako u lineárních zobrazení je zřejmé, že každá  $k$ -lineární forma je úplně určena svými hodnotami na všech  $k$ -ticích bázevých prvků v pevné bázi. V analogii k lineárním zobrazením tyto hodnoty můžeme vnímat jako  $k$ -rozměrné analogie matic. Ukážeme si to v případě  $k = 2$ , kde půjde doopravdy o matice, jak jsme je zavedli.

## MATICE BILINEÁRNÍ FORMY

Jestliže zvolíme bázi  $u$  na  $V$  a definujeme pro danou bilineární formu  $\alpha$  skaláry  $a_{ij} = \alpha(u_i, u_j)$ , pak zjevně dostaneme pro vektory  $v, w$  se souřadnicemi  $x$  a  $y$  (jakožto sloupce souřadnic)

$$\alpha(v, w) = \sum_{i,j=1}^n a_{ij}x_i y_j = y^T \cdot A \cdot x,$$

kde  $A$  je matice  $A = (a_{ij})$ .

Přímo z definice matice bilineární formy je vidět, že forma je symetrická nebo antisymetrická, právě když má tuž vlastnost její matice.

Každá bilineární forma  $\alpha$  na vektorovém prostoru  $V$  definuje zobrazení  $V \rightarrow V^*$ ,  $v \mapsto \alpha(\cdot, v)$ , tj. dosazením pevného vektoru  $v$  za druhý argument dostáváme lineární formu, která je obrazem tohoto vektoru. Zvolíme-li pevně bázi na konečněrozměrném prostoru  $V$  a duální bázi na  $V^*$ , pak jde o zobrazení

$$y \mapsto (x \mapsto y^T \cdot A \cdot x).$$

## 4. Vlastnosti lineárních zobrazení

Podrobnějším rozбором vlastností různých typů lineárních zobrazení se nyní dostaneme k lepšímu pochopení nástrojů, které nám vektorové prostory pro lineární modelování procesů a systémů nabízejí.

2.29

**2.45.** Začneme čtyřmi příklady v nejnižší zajímavé dimenzi. Ve standardní bázi roviny  $\mathbb{R}^2$  se standardním skalárním součinem uvažujme následující matice zobrazení  $f: \mathbb{R}^2 \rightarrow \mathbb{R}^2$ :



$$A = \begin{pmatrix} 1 & 0 \\ 0 & 0 \end{pmatrix}, B = \begin{pmatrix} 0 & 1 \\ 0 & 0 \end{pmatrix}, C = \begin{pmatrix} a & 0 \\ 0 & b \end{pmatrix}, D = \begin{pmatrix} 0 & -1 \\ 1 & 0 \end{pmatrix}.$$

Matice  $A$  zadává kolmou projekci podél podprostoru

$$W \subset \{(0, a); a \in \mathbb{R}\} \subset \mathbb{R}^2$$

na podprostor

$$V \subset \{(a, 0); a \in \mathbb{R}\} \subset \mathbb{R}^2,$$

tj. projekce na osu  $x$  podél osy  $y$ . Evidentně pro toto zobrazení  $f: \mathbb{R}^2 \rightarrow \mathbb{R}^2$  platí  $f \circ f = f$  a tedy zúžení  $f|_V$  daného zobrazení na obor hodnot je identické zobrazení. Jádrem  $f$  je právě podprostor  $W$ .

Matice  $B$  má vlastnost  $B^2 = 0$ , platí tedy totéž o příslušném zobrazení  $f$ . Můžeme si jej představit jako matici derivování polynomů  $\mathbb{R}_1[x]$  stupně nejvýše jedna v bázi  $(1, x)$  (derivacemi se budeme podrobně zabývat v kapitole páté, viz ??).

Matice  $C$  zadává zobrazení  $f$ , které první vektor báze zvětší  $a$ -krát, druhý  $b$ -krát. Tady se nám tedy celá rovina

Dostáváme tak řešení

$$x_1 = -2t, x_2 = -2s, x_3 = 2s + 2t, y_1 = -s - t, y_2 = s, y_3 = t,$$

$t, s \in \mathbb{R}$ . Odtud dosazením získáváme obecný vektor průniku

$$\begin{pmatrix} x_1 + x_2 + x_3 \\ x_1 + x_2 \\ x_1 + x_3 \\ x_2 + x_3 \end{pmatrix} = \begin{pmatrix} 0 \\ -2t - 2s \\ 2s \\ 2t \end{pmatrix}.$$

Vidíme, že

$$\dim U \cap V = 2, \quad U \cap V = \left\langle \begin{pmatrix} 0 \\ -1 \\ 1 \\ 0 \end{pmatrix}, \begin{pmatrix} 0 \\ -1 \\ 0 \\ 1 \end{pmatrix} \right\rangle.$$

□

**2.88.** Uveďte nějakou bázi podprostoru

$$U = \left\langle \begin{pmatrix} 1 & 2 \\ 3 & 4 \\ 5 & 6 \end{pmatrix}, \begin{pmatrix} 0 & 1 \\ 2 & 3 \\ 4 & 5 \end{pmatrix}, \begin{pmatrix} -1 & 0 \\ 1 & 2 \\ 3 & 4 \end{pmatrix}, \begin{pmatrix} -2 & -1 \\ 0 & 1 \\ 2 & 3 \end{pmatrix} \right\rangle$$

vektorového prostoru reálných matic  $3 \times 2$ . Tuto bázi doplňte na bázi celého prostoru.

**Řešení.** Připomeňme, že bázi podprostoru tvoří množina lineárně nezávislých vektorů, které generují uvažovaný podprostor. Protože

$$-1 \cdot \begin{pmatrix} 1 & 2 \\ 3 & 4 \\ 5 & 6 \end{pmatrix} + 2 \cdot \begin{pmatrix} 0 & 1 \\ 2 & 3 \\ 4 & 5 \end{pmatrix} = \begin{pmatrix} -1 & 0 \\ 1 & 2 \\ 3 & 4 \end{pmatrix},$$

$$-2 \cdot \begin{pmatrix} 1 & 2 \\ 3 & 4 \\ 5 & 6 \end{pmatrix} + 3 \cdot \begin{pmatrix} 0 & 1 \\ 2 & 3 \\ 4 & 5 \end{pmatrix} = \begin{pmatrix} -2 & -1 \\ 0 & 1 \\ 2 & 3 \end{pmatrix},$$

celý podprostor  $U$  je generován pouze prvními dvěma maticemi. Ty jsou potom lineárně nezávislé (jedna není násobkem druhé), a tak zadávají bázi. Chceme-li ji doplnit na bázi celého prostoru reálných matic  $3 \times 2$ , musíme najít další čtyři matice (dimenze celého prostoru je zjevně 6) takové, aby výsledná šestice byla lineárně nezávislá. Můžeme využít toho, že známe např. standardní bázi

$$\begin{pmatrix} 1 & 0 \\ 0 & 0 \\ 0 & 0 \end{pmatrix}, \begin{pmatrix} 0 & 1 \\ 0 & 0 \\ 0 & 0 \end{pmatrix}, \begin{pmatrix} 0 & 0 \\ 1 & 0 \\ 0 & 0 \end{pmatrix}, \begin{pmatrix} 0 & 0 \\ 0 & 1 \\ 0 & 0 \end{pmatrix}, \begin{pmatrix} 0 & 0 \\ 0 & 0 \\ 1 & 0 \end{pmatrix}, \begin{pmatrix} 0 & 0 \\ 0 & 0 \\ 0 & 1 \end{pmatrix}$$

prostoru reálných matic  $3 \times 2$ , který lze přímo ztotožnit s  $\mathbb{R}^6$ . Sepíšeme-li dva vektory báze  $U$  a vektory standardní báze celého prostoru v tomto pořadí, výběrem prvních 6 lineárně nezávislých

vektorů dostaneme hledanou bázi. Pokud však uvážíme, že kupř.

$$\begin{pmatrix} 1 & 0 & 0 & 0 & 0 & 0 \\ 2 & 1 & 0 & 0 & 0 & 0 \\ 3 & 2 & 1 & 0 & 0 & 0 \\ 4 & 3 & 0 & 1 & 0 & 0 \\ 5 & 4 & 0 & 0 & 1 & 0 \\ 6 & 5 & 0 & 0 & 0 & 1 \end{pmatrix} = 1,$$

můžeme ihned bázového vektory

$$\begin{pmatrix} 1 & 2 \\ 3 & 4 \\ 5 & 6 \end{pmatrix}, \begin{pmatrix} 0 & 1 \\ 2 & 3 \\ 4 & 5 \end{pmatrix}$$

podprostoru  $U$  doplnit maticemi (vektory prostoru matic)

$$\begin{pmatrix} 0 & 0 \\ 1 & 0 \\ 0 & 0 \end{pmatrix}, \begin{pmatrix} 0 & 0 \\ 0 & 1 \\ 0 & 0 \end{pmatrix}, \begin{pmatrix} 0 & 0 \\ 0 & 0 \\ 1 & 0 \end{pmatrix}, \begin{pmatrix} 0 & 0 \\ 0 & 0 \\ 0 & 1 \end{pmatrix}$$

na bázi. Upozorněme, že výše uvedený determinant lze vyčíslit velmi snadno – je roven součinu prvků na diagonále, neboť matice je v dolním trojúhelníkovém tvaru (nad diagonálou jsou všechny prvky nulové).  $\square$

**2.89.** Napište nějakou bázi reálného vektorového prostoru matic  $3 \times 3$  nad  $\mathbb{R}$  s nulovou stopou (součet prvků na diagonále) a napište souřadnice matice

$$\begin{pmatrix} 1 & 2 & 0 \\ 0 & 2 & 0 \\ 1 & -2 & -3 \end{pmatrix}$$

v této bázi.

**2.90.** Zaveďte nějaký skalární součin na vektorovém prostoru matic z předchozího příkladu. Spočítejte normu matice z předchozího příkladu, která je indukovaná Vámi zavedeným součinem.

**2.91.** Určete nějakou bázi vektorového prostoru antisymetrických reálných čtvercových matic typu  $4 \times 4$ . Uvažte standardní skalární součin v této bázi a pomocí tohoto součinu vyjádřete velikost matice

$$\begin{pmatrix} 0 & 3 & 1 & 0 \\ -3 & 0 & 1 & 2 \\ -1 & -1 & 0 & 2 \\ 0 & -2 & -2 & 0 \end{pmatrix}$$

**2.92.** Najděte ortogonální doplněk  $U^\perp$  podprostoru

$$U = \{(x_1, x_2, x_3, x_4); x_1 = x_3, x_2 = x_3 + 6x_4\} \subset \mathbb{R}^4.$$

**Řešení.** Ortogonální doplněk  $U^\perp$  tvoří právě ty vektory, které jsou kolmé na každé řešení soustavy

$$\begin{aligned} x_1 - x_3 &= 0, \\ x_2 - x_3 - 6x_4 &= 0. \end{aligned}$$

rozpadá na dva podprostory, které jsou zobrazením  $f$  zachovány a ve kterých jde o pouhou *homotetii*, tj. roztažení skalárním násobkem (první příklad byl speciální případem  $s = 1, b = 0$ ). Např. volba  $a = 1, b = -1$  odpovídá osové symetrii (zrcadlení) podle osy  $x$ , což je totéž jako komplexní konjugace  $x + iy \mapsto x - iy$  na dvourozměrném reálném prostoru  $\mathbb{R}^2 \simeq \mathbb{C}$  v bázi  $(1, i)$ . Toto je lineární zobrazení dvourozměrného reálného vektorového prostoru  $\mathbb{C}$ , nikoliv však jednozměrného komplexního prostoru  $\mathbb{C}$ .

Matice  $D$  je maticí rotace o pravý úhel ve standardní bázi a na první pohled je vidět, že žádný jednorozměrný podprostor není zobrazením zachovávan.

Taková rotace je bijekcí roviny na sebe, proto jistě umíme najít (různé) báze na definičním oboru a oboru hodnot, ve kterých bude jeho maticí jednotková matice  $E$  (prostě vezmeme jakoukoliv bázi na definičním oboru a její obraz na oboru hodnot). Neumíme ale v tomto případě totéž s jednou bázi na definičním oboru i oboru hodnot.

Zkusme však uvažovat matici  $D$  jako matici zobrazení  $g : \mathbb{C}^2 \rightarrow \mathbb{C}^2$  ve standardní bázi komplexního vektorového prostoru  $\mathbb{C}^2$ . Pak umíme najít vektory  $u = (i, 1), v = (-i, 1)$ , pro které bude platit



$$g(u) = \begin{pmatrix} 0 & -1 \\ 1 & 0 \end{pmatrix} \cdot \begin{pmatrix} i \\ 1 \end{pmatrix} = \begin{pmatrix} -1 \\ i \end{pmatrix} = i \cdot u,$$

$$g(v) = \begin{pmatrix} 0 & -1 \\ 1 & 0 \end{pmatrix} \cdot \begin{pmatrix} 1 \\ i \end{pmatrix} = \begin{pmatrix} -1 \\ -i \end{pmatrix} = -i \cdot v.$$

To ale znamená, že v bázi  $(u, v)$  na  $\mathbb{C}^2$  má zobrazení  $g$  matici

$$K = \begin{pmatrix} i & 0 \\ 0 & -i \end{pmatrix}$$

a povšimněme si, že tato komplexní analogie k případu matice  $C$  má na diagonále prvky  $a = \cos(\frac{1}{2}\pi) + i \sin(\frac{1}{2}\pi)$  a komplexně sdružené  $\bar{a}$ . Jinými slovy, argument v goniometrickém tvaru tohoto komplexního čísla udává úhel otočení.

Tomu lze snadno porozumět, když si označíme reálnou a imaginární část vektoru  $u$  takto

$$u = x_u + iy_u = \operatorname{Re} u + i \operatorname{Im} u = \begin{pmatrix} 0 \\ 1 \end{pmatrix} + i \cdot \begin{pmatrix} 1 \\ 0 \end{pmatrix}.$$

Vektor  $v$  je komplexně sdružený k  $u$ . Zajímá nás zúžení zobrazení  $g$  na reálný vektorový podprostor  $V = \mathbb{R}^2 \cap \langle u, v \rangle \subset \mathbb{C}^2$ . Evidentně je

$$V = \langle u + \bar{u}, i(u - \bar{u}) \rangle = \langle x_u, -y_u \rangle$$

celá reálná rovina  $\mathbb{R}^2$ . Zúžení zobrazení  $g$  na tuto rovinu je právě původní zobrazení dané maticí  $A$  a z definice násobení komplexní jednotkou jde o otočení o úhel  $\frac{1}{2}\pi$  v kladném smyslu ve vztahu ke zvolené bázi  $x_u, -y_u$  (ověřte si přímým výpočtem a uvědomte si také, proč případné prohození pořadí vektorů  $u$  a  $v$  povede k témuž výsledku, byť v jiné reálné bázi!).



2.30

**2.46. Vlastní čísla a vlastní vektory zobrazení.** Klíčem k popisu zobrazení v předchozích příkladech byly odpovědi na otázku „jaké jsou vektory splňující rovnici  $f(u) = a \cdot u$  pro nějaké vhodné skaláry  $a$ “.

Zvolme tedy pevně lineární zobrazení  $f : V \rightarrow V$  na vektorovém prostoru dimenze  $n$  nad skaláry  $\mathbb{K}$ . Jestliže si představíme takovou rovnost zapsanou v souřadnicích, tj. s využitím matice zobrazení  $A$  v nějakých bázích, jde o výraz

$$A \cdot x - a \cdot x = (A - a \cdot E) \cdot x = 0.$$

Z předchozího víme, že taková soustava rovnic má jediné řešení  $x = 0$ , pokud je matice  $A - aE$  invertibilní. My tedy chceme najít takové hodnoty  $a \in \mathbb{K}$ , pro které naopak  $A - aE$  invertibilní není, a nutnou a dostatečnou podmínkou je (viz Věta 2.23)

e2.1 (2.4)  $\det(A - a \cdot E) = 0.$

Jestliže považujeme  $\lambda = a$  za proměnnou v předchozí skalární rovnici, hledáme ve skutečnosti kořeny polynomu stupně  $n$ . Jak jsme viděli v případě matice  $D$  výše, kořeny mohou, ale nemusí existovat podle volby pole skalárů  $\mathbb{K}$ .

VLASTNÍ ČÍSLA A VLASTNÍ VEKTORY

Skaláry  $\lambda$  vyhovující rovnici  $f(u) = \lambda \cdot u$  pro nenulový vektor  $u \in V$  nazýváme *vlastní čísla zobrazení  $f$* , příslušné nenulové vektory  $u$  pak *vlastní vektory zobrazení  $f$* .

Jsou-li  $u, v$  vlastní vektory příslušné k témuž vlastnímu číslu  $\lambda$ , pak i pro jejich jakoukoliv lineární kombinaci platí

$$f(au + bv) = af(u) + bf(v) = \lambda(au + bv).$$

Proto tvoří vlastní vektory příslušné k vlastnímu číslu  $\lambda$ , společně s nulovým vektorem, netriviální vektorový podprostor  $V_\lambda$ , tzv. vlastní podprostor příslušný  $\lambda$ . Např., je-li  $\lambda = 0$  vlastním číslem, je jádro  $\text{Ker } f$  vlastním podprostorem  $V_0$ .

Z definice vlastních čísel je zřejmé, že jejich výpočet nemůže záviset na volbě báze a tedy matice zobrazení  $f$ . Skutečně, jako přímý důsledek transformačních vlastností z odstavce 2.38 a Cauchyovy věty 2.19 pro výpočet determinantu součinu dostáváme jinou volbou souřadnic matici  $A' = P^{-1}AP$  s invertibilní maticí  $P$  a

$$\begin{aligned} |P^{-1}AP - \lambda E| &= |P^{-1}AP - P^{-1}\lambda EP| \\ &= |P^{-1}(A - \lambda E)P| = |P^{-1}| |(A - \lambda E)| |P| \\ &= |A - \lambda E|, \end{aligned}$$

protože násobení skalárů je komutativní a  $|P^{-1}| = |P|^{-1}$ .

Z těchto důvodů používáme pro matice a zobrazení společnou terminologii:

CHARAKTERISTICKÝ POLYNOM MATICE A OBRAZENÍ

Pro matici  $A$  dimenze  $n$  nad  $\mathbb{K}$  nazýváme polynom  $|A - \lambda E| \in \mathbb{K}_n[\lambda]$  *charakteristický polynom matice  $A$* .

Vektor je ovšem řešením této soustavy tehdy a jenom tehdy, když je kolmý na oba vektory  $(1, 0, -1, 0)$ ,  $(0, 1, -1, -6)$ . Je tedy

$$U^\perp = \{a \cdot (1, 0, -1, 0) + b \cdot (0, 1, -1, -6); a, b \in \mathbb{R}\}.$$

□

**2.93.** Určete, zda jsou podprostory  $U = \langle (2, 1, 2, 2) \rangle$  a  $V = \langle (-1, 0, -1, 2), (-1, 0, 1, 0), (0, 0, 1, -1) \rangle$  prostoru  $\mathbb{R}^4$  na sebe kolmé. Pokud ano, je  $\mathbb{R}^4 = U \oplus V$ , tj. je  $U^\perp = V$ ?

**Řešení.** Vektor, který zadává podprostor  $U$ , je kolmý na každý ze tří vektorů, které generují  $V$ . Podprostory jsou tak na sebe kolmé. Avšak není pravda, že  $\mathbb{R}^4 = U \oplus V$ . Podprostor  $V$  je totiž pouze dvojdimenzionální, protože

$$(-1, 0, -1, 2) = (-1, 0, 1, 0) - 2(0, 0, 1, -1).$$

□

**2.94.** V závislosti na parametru  $t \in \mathbb{R}$  stanovte dimenzi podprostoru  $U$  vektorového prostoru  $\mathbb{R}^3$ , je-li  $U$  generován vektory

$$\begin{aligned} \text{(a)} \quad &u_1 = (1, 1, 1), \quad u_2 = (1, t, 1), \quad u_3 = (2, 2, t); \\ \text{(b)} \quad &u_1 = (t, t, t), \quad u_2 = (-4t, -4t, 4t), \quad u_3 = (-2, -2, -2). \end{aligned}$$

**Řešení.** V prvním případě je  $\dim U = 2$  pro  $t \in \{1, 2\}$ , jinak je  $\dim U = 3$ . Ve druhém případě je  $\dim U = 2$  pro  $t \neq 0$  a  $\dim U = 1$  pro  $t = 0$ .

□

**2.95.** Sestrojte ortogonální bázi podprostoru

$$\langle (1, 1, 1, 1), (1, 1, 1, -1), (-1, 1, 1, 1) \rangle$$

prostoru  $\mathbb{R}^4$ .

**Řešení.** Gramovým-Schmidtovým ortogonalizačním procesem lze udržet výsledek

$$((1, 1, 1, 1), (1, 1, 1, -3), (-2, 1, 1, 0)).$$

□

**2.96.** V prostoru  $\mathbb{R}^4$  nalezněte nějakou ortogonální bázi podprostoru všech lineárních kombinací vektorů  $(1, 0, 1, 0)$ ,  $(0, 1, 0, -7)$ ,  $(4, -2, 4, 14)$  a podprostoru generovaného vektory  $(1, 2, 2, -1)$ ,  $(1, 1, -5, 3)$ ,  $(3, 2, 8, -7)$ .

**Řešení.** Při zachování pořadí podprostorů ze zadání jsou ortogonálními bázemi např.

$$((1, 0, 1, 0), (0, 1, 0, -7))$$

a

$$((1, 2, 2, -1), (2, 3, -3, 2), (2, -1, -1, -2)).$$

**2.97.** Pro jaké hodnoty parametrů  $a, b \in \mathbb{R}$  jsou vektory

$$(1, 1, 2, 0, 0), \quad (1, -1, 0, 1, a), \quad (1, b, 2, 3, -2)$$

v prostoru  $\mathbb{R}^5$  po dvou ortogonální?

**Řešení.** Výsledek je  $a = 9/2, b = -5$ , neboť musí mj. platit

$$1 + b + 4 + 0 + 0 = 0, \quad 1 - b + 0 + 3 - 2a = 0.$$

**2.98.** V prostoru  $\mathbb{R}^5$  uvažujte podprostor generovaný vektory

$$(1, 1, -1, -1, 0), \quad (1, -1, -1, 0, -1), \quad (1, 1, 0, 1, 1), \\ (-1, 0, -1, 1, 1).$$

Najděte nějakou bázi jeho ortogonálního doplňku.

**Řešení.** Hledaná báze obsahuje jediný vektor. Je jím nějaký nenulový skalární násobek vektoru

$$(3, -7, 1, -5, 9).$$

**2.99.** Popište ortogonální doplněk podprostoru  $V$  prostoru  $\mathbb{R}^4$ , je-li  $V$  generován vektory  $(-1, 2, 0, 1), (3, 1, -2, 4), (-4, 1, 2, -4), (2, 3, -2, 5)$ .

**Řešení.** Ortogonální doplněk (komplement)  $V^\perp$  je množina všech skalárních násobků vektoru  $(4, 2, 7, 0)$ .

**2.100.** V prostoru  $\mathbb{R}^5$  určete ortogonální doplněk  $W^\perp$  podprostoru  $W$ , jestliže

(a)  $W = \{(r + s + t, -r + t, r + s, -t, s + t); r, s, t \in \mathbb{R}\}$ ; 2.30a

(b)  $W$  je množina řešení soustavy rovnic  $x_1 - x_3 = 0, x_1 - x_2 + x_3 - x_4 + x_5 = 0$ .

**Řešení.**

(a)  $W^\perp = \langle (1, 0, -1, 1, 0), (1, 3, 2, 1, -3) \rangle$ ;

(b)  $W^\perp = \langle (1, 0, -1, 0, 0), (1, -1, 1, -1, 1) \rangle$ .

**2.101.** Necht' jsou v prostoru  $\mathbb{R}^4$  dány vektory

$$(1, -2, 2, 1), \quad (1, 3, 2, 1).$$

Doplňte tyto dva vektory libovolným způsobem na ortogonální bázi celého  $\mathbb{R}^4$ . (Můžete k tomu využít Gramův-Schmidtův ortogonalizační proces.)

**Řešení.** Hledaných doplnění je pochopitelně nekonečně mnoho. Jediným (skutečně jednoduchým) je např.

$$(1, -2, 2, 1), \quad (1, 3, 2, 1), \quad (1, 0, 0, -1), \quad (1, 0, -1, 1).$$

□ Kořeny tohoto polynomu jsou *vlastní čísla matice A*. Je-li  $A$  matice zobrazení  $f : V \rightarrow V$  v jisté bázi, pak  $|A - \lambda E|$  nazýváme také *charakteristický polynom zobrazení f*.

Protože je charakteristický polynom lineárního zobrazení  $f : V \rightarrow V$  nezávislý na volbě báze  $V$ , jsou i jeho koeficienty u jednotlivých mocnin proměnné  $\lambda$  skaláry vyjadřující vlastnosti zobrazení  $f$ , tj. nemohou záviset na naší volbě báze. Zejména jako jednoduché cvičení na počítání determinantů vyjádříme koeficienty u nejvyšších a nejnižších mocnin (předpokládáme  $\dim V = n$  a matici zobrazení  $A = (a_{ij})$  v nějaké bázi):

$$|A - \lambda \cdot E| = (-1)^n \lambda^n + (-1)^{n-1} (a_{11} + \dots + a_{nn}) \cdot \lambda^{n-1} \\ + \dots + |A| \cdot \lambda^0.$$

Koeficient u nejvyšší mocniny říká jen, zda je dimenze prostoru  $V$  sudá nebo lichá. O determinantu matice zobrazení jsme už zmiňovali, že vyjadřuje, kolikrát dané lineární zobrazení zvětšuje objemy.

Zajímavé je, že i součet diagonálních členů matice zobrazení nezávisí na volbě báze. Nazýváme jej *stopa matice* a značíme  $\text{Tr}A$ . *Stopa zobrazení* je definována jako stopa jeho matice v libovolné bázi. Ve skutečnosti to natolik překvapivé není, protože v kapitole osmé si jako příklad na metody diferenciálního počtu ukážeme, že stopa je ve skutečnosti lineárním přiblížením determinantu v okolí jednotkové matice, viz ??.

V dalším si uvedeme několik podstatných vlastností vlastních podprostorů.

**2.47. Věta.** *Vlastní vektory lineárního zobrazení  $f : V \rightarrow V$  příslušné různým vlastním hodnotám jsou lineárně nezávislé.*

**DŮKAZ.** Necht'  $a_1, \dots, a_k$  jsou různé vlastní hodnoty zobrazení  $f$  a  $u_1, \dots, u_k$  vlastní vektory s těmito vlastními hodnotami. Důkaz provedeme indukcí přes počet lineárně nezávislých vektorů mezi zvolenými. Předpokládejme, že  $u_1, \dots, u_\ell$  jsou lineárně nezávislé a  $u_{\ell+1} = \sum_i c_i u_i$  je jejich lineární kombinací. Alespoň  $\ell = 1$  lze zvolit, protože vlastní vektory jsou nenulové. Pak ovšem  $f(u_{\ell+1}) = a_{\ell+1} \cdot u_{\ell+1} = \sum_{i=1}^{\ell} a_{\ell+1} \cdot c_i \cdot u_i$ , tj.

$$f(u_{\ell+1}) = \sum_{i=1}^{\ell} a_{\ell+1} \cdot c_i \cdot u_i = \sum_{i=1}^{\ell} c_i \cdot f(u_i) = \sum_{i=1}^{\ell} c_i \cdot a_i \cdot u_i.$$

Odečtením druhého a čtvrtého výrazu v rovnostech dostáváme  $0 = \sum_{i=1}^{\ell} (a_{\ell+1} - a_i) \cdot c_i \cdot u_i$ . Všechny rozdíly vlastních hodnot jsou však nenulové a alespoň jeden koeficient  $c_i$  je nenulový. To je spor s předpokládanou nezávislostí  $u_1, \dots, u_\ell$ , takže i vektor  $u_{\ell+1}$  musí být lineárně nezávislý na předchozích. □

Na právě dokázané tvrzení se můžeme podívat jako na rozklad lineárního zobrazení  $f$  na součet jednoduchých zobrazení. Pro vesměs různé vlastní hodnoty  $\lambda_i$  charakteristického polynomu budeme dostávat jednorozměrné vlastní podprostory  $V_{\lambda_i}$ . Každý z nich pak zadává projekci na tento invariantní jednorozměrný podprostor, na němž je zobrazení dáno jako násobení vlastním číslem  $\lambda_i$ . Celý prostor  $V$  je tak rozložen na přímý součet jednotlivých vlastních podprostorů. Navíc lze tento rozklad na vlastní podprostory snadno spočítat:

BÁZE Z VLASTNÍCH VEKTORŮ

**Důsledek.** *Jestliže existuje  $n$  navzájem různých kořenů  $\lambda_i$  charakteristického polynomu zobrazení  $f : V \rightarrow V$ , na  $n$ -rozměrném prostoru  $V$ , pak existuje rozklad  $V$  na přímý součet vlastních podprostorů dimenze 1. To znamená, že existuje báze  $V$  složená výhradně z vlastních vektorů a v této bázi má  $f$  diagonální matici. Tato báze je určena jednoznačně až na pořadí prvků.*

*Příslušnou bázi (vyjádřenou v souřadnicích vzhledem k libovolně zvolené bázi  $V$ ) obdržíme řešením  $n$  systémů homogenních lineárních rovnic o  $n$  neznámých s maticemi  $(A - \lambda_i \cdot E)$ , kde  $A$  je matice  $f$  ve zvolené bázi.*

2.44

**2.48. Invariantní podprostory.** Viděli jsme, že každý vlastní vektor  $v$  zobrazení  $f : V \rightarrow V$  generuje podprostor  $\langle v \rangle \subset V$ , který je zobrazením  $f$  zachováván.



Obecněji říkáme, že vektorový podprostor  $W \subset V$  je *invariantní podprostor* pro lineární zobrazení  $f$ , jestliže platí  $f(W) \subset W$ .

Jestliže je  $V$  konečněrozměrný vektorový prostor a vybereme nějakou bázi  $(u_1, \dots, u_k)$  podprostoru  $W$ , můžeme ji vždy doplnit na bázi  $(u_1, \dots, u_k, u_{k+1}, \dots, u_n)$  celého  $V$  a v každé takové bázi má naše zobrazení matici  $A$  tvaru

e2.3a

$$(2.5) \quad A = \begin{pmatrix} B & C \\ 0 & D \end{pmatrix}$$

kde  $B$  je čtvercová matice dimenze  $k$ ,  $D$  je čtvercová matice dimenze  $n - k$  a  $C$  je matice typu  $n/(n - k)$ . Naopak, jestliže je v nějaké bázi  $(u_1, \dots, u_n)$  matice zobrazení  $f$  tvaru (2.5), je  $W = \langle u_1, \dots, u_k \rangle$  invariantní podprostor zobrazení  $f$ .

Pochopitelně bude v naší matici zobrazení (2.5) submatice  $C$  nulová právě tehdy, když bude i podprostor  $\langle u_{k+1}, \dots, u_n \rangle$  generovaný doplněnými vektory báze invariantní.

Z tohoto pohledu jsou vlastní podprostory lineárního zobrazení extrémní případy invariantních podprostorů a zejména v případě existence  $n = \dim V$  různých vlastních čísel zobrazení  $f$  dostáváme rozklad  $V$  na přímý součet  $n$  vlastních podprostorů. V příslušné bázi z vlastních vektorů má pak naše zobrazení diagonální tvar s vlastními čísly na diagonále.

2.102. Nalezněte nějakou ortonormální bázi podprostoru  $V \subset \mathbb{R}^4$ , kde  $V = \{(x_1, x_2, x_3, x_4) \in \mathbb{R}^4 \mid x_1 + 2x_2 + x_3 = 0\}$ .

**Řešení.** Vidíme, že čtvrtá souřadnice se v omezení na podprostor nevysskytuje, bude tedy vhodné volit jeden z vektorů hledané ortonormální báze vektor  $(0, 0, 0, 1)$  a redukovat problém do prostoru  $\mathbb{R}^3$ . I dále se zkusíme vyhnout počítání: vidíme, že položíme-li druhou souřadnici rovnu nule, tak ve vyšetřovaném prostoru leží vektory s opačnou první a třetí souřadnicí, zejména jednotkový vektor  $(\frac{1}{\sqrt{2}}, 0, -\frac{1}{\sqrt{2}}, 0)$ . Na tento vektor je kolmý libovolný vektor, který má stejnou první a třetí souřadnici. Abychom se dostali do uvažovaného podprostoru, volíme druhou souřadnici rovnu záporné hodnotě součtu první a třetí souřadnice a normujeme, tedy volíme vektor  $(\frac{1}{\sqrt{6}}, -\frac{2}{\sqrt{6}}, \frac{1}{\sqrt{6}}, 0)$  a jsme hotovi. □

**2.103.** Věta (2.50) nám dává do ruky nástroje, jak poznat matici rotace v  $\mathbb{R}^3$ : má tři různá vlastní čísla s absolutní hodnotou 1, jedno z nich je přímo číslo 1 (jemu příslušný vlastní vektor je osa rotace). Argument zbylých dvou, tedy nutně komplexně sdružených, vlastních čísel potom udává úhel rotace v kladném smyslu v rovině určené bází  $u_\lambda + \overline{u_\lambda}, i[u_\lambda - \overline{u_\lambda}]$ .

**2.104.** Určete, jaké lineární zobrazení zadává matice  $\begin{pmatrix} \frac{-1}{5} & \frac{3}{5} & \frac{-1}{5} \\ \frac{-1}{5} & \frac{3}{5} & \frac{-1}{5} \\ \frac{1}{5} & \frac{4}{5} & \frac{1}{5} \end{pmatrix}$ .

**Řešení.** Již známým postupem zjistíme, že matice má následující vlastní čísla a jim příslušné vlastní vektory:  $1, (1, 2, 0); \frac{3}{5} + \frac{4}{5}i, 1, (1, 1 + i, -1 - i); \frac{3}{5} - \frac{4}{5}i, (1, 1 - i, -1 + i)$ . Jde tedy o matici rotace (všechna vlastní čísla mají absolutní hodnotu 1 a jedna z vlastních hodnot je přímo 1), navíc víme, že se jedná o rotaci o  $\arccos(\frac{3}{5}) \doteq 0, 295\pi$  a to v kladném smyslu. □

2.36

**2.49. Ortogonální zobrazení.** Podívejme se teď na speciální případ zobrazení  $f : V \rightarrow W$  mezi prostory se skalárními součiny, která zachovávají velikosti pro všechny vektory  $u \in V$ .



## DEFINICE ORTOGONÁLNÍCH ZOBRAZENÍ

Lineární zobrazení  $f : V \rightarrow W$  mezi prostory se skalárním součinem se nazývá *ortogonální zobrazení*, jestliže pro všechny  $u \in V$

$$\langle f(u), f(u) \rangle = \langle u, u \rangle.$$

Z linearit  $f$  a ze symetrie skalárního součinu vyplývá pro všechny dvojice vektorů rovnost

$$\begin{aligned} \langle f(u+v), f(u+v) \rangle &= \langle f(u), f(u) \rangle + \langle f(v), f(v) \rangle \\ &\quad + 2\langle f(u), f(v) \rangle. \end{aligned}$$

Proto všechny ortogonální zobrazení splňují i zdánlivě silnější požadavek, aby platilo pro všechny vektory  $u, v \in V$

$$\langle f(u), f(v) \rangle = \langle u, v \rangle.$$

V úvodní diskusi o geometrii v rovině jsme ve Větě 1.33 dokázali, že lineární zobrazení  $\mathbb{R}^2 \rightarrow \mathbb{R}^2$  zachovává velikosti vektorů, právě když jeho matice ve standardní bázi (a ta je ortonormální vzhledem ke standardnímu skalárnímu součinu) splňuje  $A^T \cdot A = E$ , tj.  $A^{-1} = A^T$ .

Obecně, ortogonální zobrazení  $f : V \rightarrow W$  musí být vždy injektivní, protože podmínka  $\langle f(u), f(u) \rangle = 0$  znamená i  $\langle u, u \rangle = 0$  a tedy  $u = 0$ . Je tedy vždy v takovém případě dimenze oboru hodnot alespoň taková, jako je dimenze definičního oboru  $f$ . Pak ovšem je dimenze obrazu rovna dimenzi oboru hodnot a víme, že  $f : V \rightarrow \text{Im } f$  je bijekce. Pokud  $\text{Im } f \neq W$ , doplníme ortonormální bázi na obrazu  $f$  na ortonormální bázi cílového prostoru a matice zobrazení bude obsahovat čtvercovou regulární matici  $A$  doplněnou nulovými řádky na potřebnou velikost. Bez újmy na obecnosti tedy předpokládejme  $W = V$ .

Naše podmínka pro matici ortogonálního zobrazení v ortonormální bázi pak říká pro všechny vektory  $x$  a  $y$  v prostoru  $\mathbb{K}^n$  toto:

$$(A \cdot x)^T \cdot (A \cdot y) = x^T \cdot (A^T \cdot A) \cdot y = x^T \cdot y.$$

Speciálními volbami vektorů standardní báze za  $x$  a  $y$  dostaneme přímo, že  $A^T \cdot A = E$ , tedy tentýž výsledek jako v dimenzi dvě. Dokázali jsme tak následující tvrzení:

## MATICE ORTOGONÁLNÍCH ZOBRAZENÍ

**Věta.** Necht'  $V$  je reálný vektorový prostor se skalárním součinem a  $f : V \rightarrow V$  je lineární zobrazení. Pak  $f$  je ortogonální, právě když v některé ortonormální bázi (a pak už ve všech) má matici  $A$  splňující  $A^T = A^{-1}$ .

**DŮKAZ.** Skutečně, jestliže zachovává  $f$  velikosti, musí mít uvedenou vlastnost v každé ortonormální bázi. Naopak, předchozí výpočet ukazuje, že vlastnost matice v jedné bázi už zaručuje zachovávání velikostí.  $\square$

Čtvercovým maticím, které splňují rovnost  $A^T = A^{-1}$  říkáme *ortogonální matice*.



Důsledkem předchozí věty je také popis všech matic přechodu  $S$  mezi ortonormálními bázemi. Každá totiž musí zadávat zobrazení  $\mathbb{K}^n \rightarrow \mathbb{K}^n$  zachovávající velikosti a splňují tady také právě podmínku  $S^{-1} = S^T$ . Při přechodu od jedné ortonormální báze ke druhé se tedy matice (libovolných) lineárních zobrazení mění podle vztahu

$$A' = S^T A S.$$

2.45

**2.50. Rozklad ortogonálního zobrazení.** Podívejme se



nyní podrobněji na vlastní vektory a vlastní čísla ortogonálních zobrazení na reálném vektorovém prostoru  $V$  se skalárním součinem.

Uvažujme pevně zvolené ortogonální zobrazení  $f : V \rightarrow V$  s maticí  $A$  v nějaké ortonormální bázi a zkusme postupovat obdobně jako s maticí rotace  $D$  v příkladu 2.58.

Nejprve se ale podívejme obecně na invariantní podprostory ortogonálních zobrazení a jejich ortogonální doplňky. Jestliže pro libovolný podprostor  $W \subset V$  a ortogonální zobrazení  $f : V \rightarrow V$  platí  $f(W) \subset W$ , pak také platí pro všechny  $v \in W^\perp$ ,  $w \in W$

$$\langle f(v), w \rangle = \langle f(v), f \circ f^{-1}(w) \rangle = \langle v, f^{-1}(w) \rangle = 0$$

protože i  $f^{-1}(w) \in W$ . To ale znamená, že také  $f(W^\perp) \subset W^\perp$ . Dokázali jsme tedy jednoduché, ale velice důležité tvrzení:

**Tvrzení.** *Ortogonální doplněk k invariantnímu podprostoru je také invariantní.*

Kdyby byla vlastní čísla ortogonálního zobrazení reálná, zaručovalo by už toto tvrzení, že bude vždy existovat báze  $V$  z vlastních vektorů. Skutečně, zúžení  $f$  na ortogonální doplněk invariantního podprostoru je opět ortogonální zobrazení, takže můžeme do báze přibírat jeden vlastní vektor za druhým, až dostaneme celý rozklad  $V$ . Nicméně většinou nejsou vlastní čísla ortogonálních zobrazení reálná. Musíme si proto pomoci opět výletem do komplexních vektorových prostorů. Zformulujeme rovnou výsledek:

#### ROZKLAD ORTOGONÁLNÍCH ZOBRAZENÍ

**Věta.** *Nechť  $f : V \rightarrow V$  je ortogonální zobrazení na prostoru se skalárním součinem. Pak všechny kořeny charakteristického polynomu  $f$  mají velikost jedna a existuje rozklad  $V$  na jednorozměrné vlastní podprostory odpovídající vlastním číslům  $\lambda = \pm 1$  a dvourozměrné podprostory  $P_{\lambda, \bar{\lambda}}$ , na kterých působí  $f$  rotací o úhel rovný argumentu komplexního čísla  $\lambda$  v kladném směru. Všechny tyto různé podprostory jsou po dvou ortogonální.*



**DŮKAZ.** Bez újmy na obecnosti můžeme pracovat s prostorem  $V = \mathbb{R}^m$  se standardním skalárním součinem. Zobrazení tedy bude dáno ortogonální maticí  $A$ , kterou můžeme stejně považovat za matici lineárního zobrazení na komplexním prostoru  $\mathbb{C}^m$  (která je jen shodou okolností reálná). Zaručeně bude existovat právě  $m$  (komplexních) kořenů charakteristického polynomu, včetně jejich algebraické násobnosti (viz tzv. základní věta algebry, ??). Navíc, protože charakteristický polynom zobrazení bude mít výhradně reálné koeficienty, budou tyto kořeny buď reálné, nebo půjde o dvojice komplexně sdružených kořenů  $\lambda$  a  $\bar{\lambda}$ . Příslušné vlastní vektory v  $\mathbb{C}^m$  k takové dvojici komplexně sdružených vlastních čísel budou řešením dvou komplexně sdružených systémů homogenních lineárních rovnic, neboť příslušné matice systémů rovnic jsou celé reálné, až na samotná dosazená vlastní čísla. Evidentně proto budou také řešení těchto systémů komplexně sdružené vektory.

Nyní využijeme skutečnost, že ke každému invariantnímu podprostoru je i jeho ortogonální doplněk invariantní. Nejprve si najdeme všechny vlastní podprostory  $V_{\pm 1}$  příslušné k reálným vlastním hodnotám a zúžíme naše zobrazení na ortogonální doplněk k jejich součtu. Bez újmy na obecnosti tedy můžeme předpokládat, že naše ortogonální zobrazení nemá žádná reálná vlastní čísla a že je  $\dim V = 2n > 0$ .

Zvolme nyní nějaké vlastní číslo  $\lambda$  a označme  $u_\lambda$  vlastní vektor příslušný k vlastnímu číslu  $\lambda = \alpha + i\beta$ ,  $\beta \neq 0$ . Zcela stejně jako v případě rotace v rovině zadané v odstavci 2.58 maticí  $D$  nás zajímá reálná část součtu dvou jednorozměrných podprostorů  $\langle u_\lambda \rangle \oplus \langle \bar{u}_\lambda \rangle$ , kde  $\bar{u}_\lambda$  je vlastní vektor příslušný k vlastnímu číslu  $\bar{\lambda}$ .

Jde o průnik uvedeného součtu komplexních podprostorů s  $\mathbb{R}^{2n}$ , který je generovaný vektory  $u_\lambda + \bar{u}_\lambda$  a  $i(u_\lambda - \bar{u}_\lambda)$ , tj. reálný vektorový podprostor  $P_\lambda \subset \mathbb{R}^{2n}$  generovaný bazí danou reálnou a imaginární částí  $u_\lambda$

$$x_\lambda = \operatorname{re} u_\lambda, \quad -y_\lambda = -\operatorname{im} u_\lambda.$$

Protože  $A \cdot (u_\lambda + \bar{u}_\lambda) = \lambda u_\lambda + \bar{\lambda} \bar{u}_\lambda$  a podobně s druhým bázovým vektorem, jde zjevně o invariantní podprostor vůči násobení maticí  $A$  a dostáváme

$$A \cdot x_\lambda = \alpha x_\lambda + \beta y_\lambda, \quad A \cdot y_\lambda = -\alpha y_\lambda + \beta x_\lambda.$$

Protože naše zobrazení zachovává velikosti, musí být navíc velikost vlastní hodnoty  $\lambda$  rovna jedné. To ale neznamená nic jiného, než že zúžení našeho zobrazení na  $P_\lambda$  je rotací o argument vlastní hodnoty  $\lambda$ . Všimněme si, že volba vlastního čísla  $\bar{\lambda}$  místo  $\lambda$  vede na stejný podprostor se stejnou rotací, pouze ji dostaneme vyjádřenou v bázi  $x_\lambda, y_\lambda$ , tj. musíme v souřadnicích rotovat o úhel s opačným znaménkem.

Důkaz celé věty tím dokončen, protože zúžením našeho zobrazení na ortogonální doplněk a opakováním předchozí úvahy dostaneme celý rozklad po  $n$  krocích.  $\square$

K myšlenkám tohoto důkazu se ještě vrátíme v kapitole třetí, když budeme studovat komplexní rozšíření euklidovských vektorových prostorů, viz 3.23.

**Poznámka.** Speciálně v dimenzi tři musí být alespoň jedno vlastní číslo  $\pm 1$ , protože je trojka liché číslo. Pak ovšem příslušný vlastní podprostor je osou rotace trojrozměrného prostoru o úhel daný argumentem dalších vlastních čísel. Zkuste si pomyslet, jak poznat, kterým směrem jde rotace a také, že vlastní číslo  $-1$  znamená ještě dodatečné zrcadlení podle roviny kolmé na osu rotace.



K diskusi vlastností matic a lineárních zobrazení se budeme vracet. Před pokračováním obecné teorie si napřed ukážeme v následující kapitole několik aplikací, ještě ale uzavřeme naši diskusi obecnou definicí:

#### SPEKTRUM LINEÁRNÍHO ZOBRAZENÍ

2.32

**2.51. Definice.** *Spektrum lineárního zobrazení  $f : V \rightarrow V$  (resp. matice) je posloupnost kořenů charakteristického polynomu zobrazení  $f$ , včetně násobností. Algebraickou násobností vlastní hodnoty rozumíme její násobnost jakožto kořenu charakteristického polynomu, geometrická násobnost vlastní hodnoty je dimenze příslušného podprostoru vlastních vektorů.*

Spektrálním poloměrem lineárního zobrazení (matice) je největší z absolutní hodnot vlastních čísel.

V této terminologii můžeme naše výsledky o ortogonálních zobrazeních zformulovat tak, že jejich spektra jsou vždy celá podmnožinou jednotkové kružnice v komplexní rovině. To znamená, že v reálné části spektra mohou být pouze hodnoty  $\pm 1$ , jejichž algebraické a geometrické násobnosti jsou stejné. Komplexní hodnoty spektra pak odpovídají rotacím ve vhodných dvourozměrných podprostorech, které jsou na sebe po dvou kolmé.

## J. Doplnující příklady k celé kapitole

2.105. Řešte soustavu

$$\begin{aligned} x_1 + x_2 + x_3 + x_4 - 2x_5 &= 3, \\ 2x_2 + 2x_3 + 2x_4 - 4x_5 &= 5, \\ -x_1 - x_2 - x_3 + x_4 + 2x_5 &= 0, \\ -2x_1 + 3x_2 + 3x_3 - 6x_5 &= 2. \end{aligned}$$

Řešení. Rozšířená matice soustavy je

$$\left( \begin{array}{ccccc|c} 1 & 1 & 1 & 1 & -2 & 3 \\ 0 & 2 & 2 & 2 & -4 & 5 \\ -1 & -1 & -1 & 1 & 2 & 0 \\ -2 & 3 & 3 & 0 & -6 & 2 \end{array} \right).$$

Přičtením prvního řádku ke třetímu a jeho dvojnásobku ke čtvrtému a poté přičtením  $(-5/2)$ násobku druhého řádku ke čtvrtému obdržíme

$$\left( \begin{array}{ccccc|c} 1 & 1 & 1 & 1 & -2 & 3 \\ 0 & 2 & 2 & 2 & -4 & 5 \\ 0 & 0 & 0 & 2 & 0 & 3 \\ 0 & 5 & 5 & 2 & -10 & 8 \end{array} \right) \sim \left( \begin{array}{ccccc|c} 1 & 1 & 1 & 1 & -2 & 3 \\ 0 & 2 & 2 & 2 & -4 & 5 \\ 0 & 0 & 0 & 2 & 0 & 3 \\ 0 & 0 & 0 & -3 & 0 & -9/2 \end{array} \right).$$

Poslední řádek je zřejmě násobkem předposledního, a tak jej můžeme vynechat. Pivoti se nacházejí v 1., 2. a 4. sloupci, proto jsou volné proměnné  $x_3$  a  $x_5$ , které nahradíme reálnými parametry  $t$ ,  $s$ .

Uvažujeme tak soustavu

$$\begin{aligned} x_1 + x_2 + t + x_4 - 2s &= 3, \\ 2x_2 + 2t + 2x_4 - 4s &= 5, \\ 2x_4 &= 3. \end{aligned}$$

Víme tedy, že  $x_4 = 3/2$ . Druhá rovnice dává

$$2x_2 + 2t + 3 - 4s = 5, \quad \text{tj.} \quad x_2 = 1 - t + 2s.$$

Z první potom plyne

$$x_1 + 1 - t + 2s + t + 3/2 - 2s = 3, \quad \text{tj.} \quad x_1 = 1/2.$$

Celkem máme

ves0016

(2.5)

$$(x_1, x_2, x_3, x_4, x_5) = (1/2, 1 - t + 2s, t, 3/2, s), \quad t, s \in \mathbb{R}.$$

Také v tomto příkladu znovu uvažujeme rozšířenou matici a převedme ji pomocí řádkových úprav do schodovitého tvaru, kde první nenulové číslo v každém řádku je 1 a kde ve sloupci, ve kterém tato 1 je, jsou ostatní čísla 0. Ještě připomeňme, že čtvrtou rovnici, jež je kombinací prvních třech rovnic, budeme vynechávat. Po řadě vynásobením druhého a třetího řádku číslem  $1/2$ , odečtením třetího řádku od druhého a od prvního a odečtením druhého řádku od prvního získáme

$$\begin{aligned} \left( \begin{array}{ccccc|c} 1 & 1 & 1 & 1 & -2 & 3 \\ 0 & 2 & 2 & 2 & -4 & 5 \\ 0 & 0 & 0 & 2 & 0 & 3 \end{array} \right) &\sim \left( \begin{array}{ccccc|c} 1 & 1 & 1 & 1 & -2 & 3 \\ 0 & 1 & 1 & 1 & -2 & 5/2 \\ 0 & 0 & 0 & 1 & 0 & 3/2 \end{array} \right) \sim \\ \left( \begin{array}{ccccc|c} 1 & 1 & 1 & 0 & -2 & 3/2 \\ 0 & 1 & 1 & 0 & -2 & 1 \\ 0 & 0 & 0 & 1 & 0 & 3/2 \end{array} \right) &\sim \left( \begin{array}{ccccc|c} 1 & 0 & 0 & 0 & 0 & 1/2 \\ 0 & 1 & 1 & 0 & -2 & 1 \\ 0 & 0 & 0 & 1 & 0 & 3/2 \end{array} \right). \end{aligned}$$



Pokud opět zvolíme  $x_3 = t$ ,  $x_5 = s$  ( $t, s \in \mathbb{R}$ ), dostaneme odsud obecné řešení (2.5) ve stejném tvaru, a to bezprostředně. Uvažte příslušné rovnice

$$\begin{array}{rcl} x_1 & & = 1/2, \\ x_2 + t & - 2s & = 1, \\ & x_4 & = 3/2. \end{array}$$

□

**2.106.** Najděte řešení soustavy lineárních rovnic zadané rozšířenou maticí

$$\left( \begin{array}{cccc|c} 3 & 3 & 2 & 1 & 3 \\ 2 & 1 & 1 & 0 & 4 \\ 0 & 5 & -4 & 3 & 1 \\ 5 & 3 & 3 & -3 & 5 \end{array} \right).$$

**Řešení.** Uvedenou rozšířenou matici upravíme na schodovitý tvar. Nejprve první a třetí řádek opíšeme a do druhého řádku napíšeme součet  $(-2)$ násobku prvního a  $3$ násobku druhého řádku a do čtvrtého řádku součet  $5$ násobku prvního a  $(-3)$ násobku posledního řádku. Takto získáme

$$\left( \begin{array}{cccc|c} 3 & 3 & 2 & 1 & 3 \\ 2 & 1 & 1 & 0 & 4 \\ 0 & 5 & -4 & 3 & 1 \\ 5 & 3 & 3 & -3 & 5 \end{array} \right) \sim \left( \begin{array}{cccc|c} 3 & 3 & 2 & 1 & 3 \\ 0 & -3 & -1 & -2 & 6 \\ 0 & 5 & -4 & 3 & 1 \\ 0 & 6 & 1 & 14 & 0 \end{array} \right).$$

Opsání prvních dvou řádků a přičtení  $5$ násobku druhého řádku k  $3$ násobku třetího a jeho  $2$ násobku ke čtvrtému řádku dává

$$\left( \begin{array}{cccc|c} 3 & 3 & 2 & 1 & 3 \\ 0 & -3 & -1 & -2 & 6 \\ 0 & 5 & -4 & 3 & 1 \\ 0 & 6 & 1 & 14 & 0 \end{array} \right) \sim \left( \begin{array}{cccc|c} 3 & 3 & 2 & 1 & 3 \\ 0 & -3 & -1 & -2 & 6 \\ 0 & 0 & -17 & -1 & 33 \\ 0 & 0 & -1 & 10 & 12 \end{array} \right).$$

Pokud první, druhý a čtvrtý řádek opíšeme a ke třetímu přičteme čtvrtý, dostaneme

$$\left( \begin{array}{cccc|c} 3 & 3 & 2 & 1 & 3 \\ 0 & -3 & -1 & -2 & 6 \\ 0 & 0 & -17 & -1 & 33 \\ 0 & 0 & -1 & 10 & 12 \end{array} \right) \sim \left( \begin{array}{cccc|c} 3 & 3 & 2 & 1 & 3 \\ 0 & -3 & -1 & -2 & 6 \\ 0 & 0 & -18 & 9 & 45 \\ 0 & 0 & -1 & 10 & 12 \end{array} \right).$$

Dále je (řádkové úpravy jsou již „obvyklé“)

$$\left( \begin{array}{cccc|c} 3 & 3 & 2 & 1 & 3 \\ 0 & -3 & -1 & -2 & 6 \\ 0 & 0 & -18 & 9 & 45 \\ 0 & 0 & -1 & 10 & 12 \end{array} \right) \sim \left( \begin{array}{cccc|c} 3 & 3 & 2 & 1 & 3 \\ 0 & -3 & -1 & -2 & 6 \\ 0 & 0 & 2 & -1 & -5 \\ 0 & 0 & 1 & -10 & -12 \end{array} \right) \sim$$

$$\left( \begin{array}{cccc|c} 3 & 3 & 2 & 1 & 3 \\ 0 & -3 & -1 & -2 & 6 \\ 0 & 0 & 1 & -10 & -12 \\ 0 & 0 & 2 & -1 & -5 \end{array} \right) \sim \left( \begin{array}{cccc|c} 3 & 3 & 2 & 1 & 3 \\ 0 & -3 & -1 & -2 & 6 \\ 0 & 0 & 1 & -10 & -12 \\ 0 & 0 & 0 & 19 & 19 \end{array} \right).$$

Vidíme, že soustava má právě 1 řešení. Určeme ho zpětnou eliminací

$$\left( \begin{array}{cccc|c} 3 & 3 & 2 & 1 & 3 \\ 0 & -3 & -1 & -2 & 6 \\ 0 & 0 & 1 & -10 & -12 \\ 0 & 0 & 0 & 1 & 1 \end{array} \right) \sim \left( \begin{array}{cccc|c} 3 & 3 & 2 & 0 & 2 \\ 0 & -3 & -1 & 0 & 8 \\ 0 & 0 & 1 & 0 & -2 \\ 0 & 0 & 0 & 1 & 1 \end{array} \right) \sim$$

$$\begin{pmatrix} 3 & 3 & 0 & 0 & | & 6 \\ 0 & -3 & 0 & 0 & | & 6 \\ 0 & 0 & 1 & 0 & | & -2 \\ 0 & 0 & 0 & 1 & | & 1 \end{pmatrix} \sim \begin{pmatrix} 1 & 1 & 0 & 0 & | & 2 \\ 0 & 1 & 0 & 0 & | & -2 \\ 0 & 0 & 1 & 0 & | & -2 \\ 0 & 0 & 0 & 1 & | & 1 \end{pmatrix} \\ \sim \begin{pmatrix} 1 & 0 & 0 & 0 & | & 4 \\ 0 & 1 & 0 & 0 & | & -2 \\ 0 & 0 & 1 & 0 & | & -2 \\ 0 & 0 & 0 & 1 & | & 1 \end{pmatrix}.$$

Výsledek je tak

$$x_1 = 4, \quad x_2 = -2, \quad x_3 = -2, \quad x_4 = 1.$$

□

**2.107.** Uvedte všechna řešení homogenního systému

$$x + y = 2z + v, \quad z + 4u + v = 0, \quad -3u = 0, \quad z = -v$$

4 lineárních rovnic 5 proměnných  $x, y, z, u, v$ .

**Řešení.** Systém přepíšeme do matice tak, že v prvním sloupci budou koeficienty u  $x$ , ve druhém sloupci koeficienty u  $y$ , až v pátém sloupci koeficienty u  $v$ , přičemž všechny členy v každé rovnici převedeme na levou stranu. Tímto způsobem přísluší systému matice

$$\begin{pmatrix} 1 & 1 & -2 & 0 & -1 \\ 0 & 0 & 1 & 4 & 1 \\ 0 & 0 & 0 & -3 & 0 \\ 0 & 0 & 1 & 0 & 1 \end{pmatrix}.$$

Přičteme-li  $(4/3)$ násobek třetího řádku ke druhému a odečteme-li poté druhý řádek od čtvrtého, obdržíme

$$\begin{pmatrix} 1 & 1 & -2 & 0 & -1 \\ 0 & 0 & 1 & 4 & 1 \\ 0 & 0 & 0 & -3 & 0 \\ 0 & 0 & 1 & 0 & 1 \end{pmatrix} \sim \begin{pmatrix} 1 & 1 & -2 & 0 & -1 \\ 0 & 0 & 1 & 0 & 1 \\ 0 & 0 & 0 & -3 & 0 \\ 0 & 0 & 0 & 0 & 0 \end{pmatrix}.$$

Dále vynásobíme třetí řádek číslem  $-1/3$  a přičteme  $2$ násobek druhého řádku k prvnímu, což dává

$$\begin{pmatrix} 1 & 1 & -2 & 0 & -1 \\ 0 & 0 & 1 & 0 & 1 \\ 0 & 0 & 0 & -3 & 0 \\ 0 & 0 & 0 & 0 & 0 \end{pmatrix} \sim \begin{pmatrix} 1 & 1 & 0 & 0 & 1 \\ 0 & 0 & 1 & 0 & 1 \\ 0 & 0 & 0 & 1 & 0 \\ 0 & 0 & 0 & 0 & 0 \end{pmatrix}.$$

Z poslední matice můžeme přímo vypsát všechna řešení

$$\begin{pmatrix} x \\ y \\ z \\ u \\ v \end{pmatrix} = t \begin{pmatrix} -1 \\ 1 \\ 0 \\ 0 \\ 0 \end{pmatrix} + s \begin{pmatrix} -1 \\ 0 \\ -1 \\ 0 \\ 1 \end{pmatrix}, \quad t, s \in \mathbb{R},$$

neboť máme matici ve schodovitém tvaru, přičemž první nenulové číslo v každém řádku je 1 a ve sloupci, kde se taková 1 nachází, jsou na ostatních pozicích 0. Výše uvedené řešení ve tvaru lineární kombinace dvou vektorů je určeno právě sloupci bez prvního nenulového čísla nějakého řádku, tj. druhým a pátým sloupcem, kdy volíme 1 jako druhou složku pro druhý sloupec a jako pátou složku pro pátý sloupec a kdy čísla v příslušném sloupci bereme s opačným znaménkem a umísťujeme je na

pozici danou sloupcem, ve kterém je první 1 v jejich řádku. Dodejme, že výsledek je ihned možné přepsat do tvaru

$$(x, y, z, u, v) = (-t - s, t, -s, 0, s), \quad t, s \in \mathbb{R}.$$

□

## Řešení cvičení

2.8. Taková matice  $X$  existuje právě jedna, a to

$$\begin{pmatrix} 18 & -32 \\ 5 & -8 \end{pmatrix}.$$

$$2.13. A^{-1} = \begin{pmatrix} 1 & 10 & -4 \\ 1 & 12 & -5 \\ 0 & 5 & -2 \end{pmatrix}.$$

$$2.14. \begin{pmatrix} 2 & -3 & 0 & 0 & 0 \\ -5 & 8 & 0 & 0 & 0 \\ 0 & 0 & -1 & 0 & 0 \\ 0 & 0 & 0 & -5 & 2 \\ 0 & 0 & 0 & 3 & -1 \end{pmatrix}.$$

$$2.15. C^{-1} = \frac{1}{2} \begin{pmatrix} 0 & 1 & 1 & 0 \\ 0 & 1 & 0 & -1 \\ 1 & -1 & 0 & 0 \\ 1 & -1 & -1 & 1 \end{pmatrix}.$$

2.16. V prvním případě dostáváme

$$A^{-1} = \frac{1}{2} \cdot \begin{pmatrix} 3 & -i \\ i & 1 \end{pmatrix};$$

ve druhém potom

$$A^{-1} = \begin{pmatrix} 14 & 8 & 5 \\ 2 & 1 & 1 \\ 1 & 1 & 0 \end{pmatrix}.$$

2.17. Platí

$$A^{-1} = \frac{1}{n-1} \begin{pmatrix} 0 & 1 & 1 & \cdots & 1 \\ 1 & 0 & 1 & \cdots & 1 \\ 1 & 1 & 0 & \ddots & \vdots \\ \vdots & \vdots & \ddots & \ddots & 1 \\ 1 & 1 & \cdots & 1 & 0 \end{pmatrix}.$$

2.18. -3,17,-1

2.21. Odečtením prvního řádku od všech ostatních řádků a následným rozvojem podle prvního sloupce obdržíme

$$V_n(x_1, x_2, \dots, x_n) = \begin{vmatrix} 1 & x_1 & x_1^2 & \cdots & x_1^{n-1} \\ 0 & x_2 - x_1 & x_2^2 - x_1^2 & \cdots & x_2^{n-1} - x_1^{n-1} \\ \vdots & \vdots & \vdots & \ddots & \vdots \\ 0 & x_n - x_1 & x_n^2 - x_1^2 & \cdots & x_n^{n-1} - x_1^{n-1} \\ x_2 - x_1 & x_2^2 - x_1^2 & \cdots & x_2^{n-1} - x_1^{n-1} \\ \vdots & \vdots & \ddots & \vdots \\ x_n - x_1 & x_n^2 - x_1^2 & \cdots & x_n^{n-1} - x_1^{n-1} \end{vmatrix}.$$

Vytkneme-li z  $i$ -tého řádku  $x_{i+1} - x_1$  pro  $i \in \{1, 2, \dots, n-1\}$ , dostaneme

$$V_n(x_1, x_2, \dots, x_n) = (x_2 - x_1) \cdots (x_n - x_1) \begin{vmatrix} 1 & x_2 + x_1 & \cdots & \sum_{j=0}^{n-2} x_2^{n-j-2} x_1^j \\ \vdots & \vdots & \ddots & \vdots \\ 1 & x_n + x_1 & \cdots & \sum_{j=0}^{n-2} x_n^{n-j-2} x_1^j \end{vmatrix}.$$

Odečtením od každého sloupce (počínaje posledním a konče druhým)  $x_1$ -násobku předcházejícího lze docílit úpravy

$$\begin{vmatrix} 1 & x_2 + x_1 & \dots & \sum_{j=0}^{n-2} x_2^{n-j-2} x_1^j \\ \vdots & \vdots & \ddots & \vdots \\ 1 & x_n + x_1 & \dots & \sum_{j=0}^{n-2} x_n^{n-j-2} x_1^j \end{vmatrix} = \begin{vmatrix} 1 & x_2 & \dots & x_2^{n-2} \\ \vdots & \vdots & \ddots & \vdots \\ 1 & x_n & \dots & x_n^{n-2} \end{vmatrix}.$$

Proto

$$V_n(x_1, x_2, \dots, x_n) = (x_2 - x_1) \cdots (x_n - x_1) V_{n-1}(x_2, \dots, x_n).$$

Neboť je zřejmé

$$V_2(x_{n-1}, x_n) = x_n - x_{n-1},$$

platí (uvažme matematickou indukci)

$$V_n(x_1, x_2, \dots, x_n) = \prod_{1 \leq i < j \leq n} (x_j - x_i).$$

Všimněme si, že tento determinant je nenulový, právě když jsou čísla  $x_1, \dots, x_n$  navzájem různá.

2.24. Ze znalosti inverzní matice  $F^{-1}$  dostáváme

$$F^* = (\alpha\delta - \beta\gamma) F^{-1} = \begin{pmatrix} \delta & -\beta & 0 \\ -\gamma & \alpha & 0 \\ 0 & 0 & \alpha\delta - \beta\gamma \end{pmatrix},$$

pro libovolná  $\alpha, \beta, \gamma, \delta \in \mathbb{R}$ .

2.25. Hledanými maticemi jsou

$$(a) \begin{pmatrix} 1 & 1 & -2 & -4 \\ 0 & 1 & 0 & -1 \\ -1 & -1 & 3 & 6 \\ 2 & 1 & -6 & -10 \end{pmatrix}, \quad (b) \begin{pmatrix} 6 & -2i \\ -3 + 2i & 1 + i \end{pmatrix}.$$

2.27.

$$\begin{pmatrix} 1 & 1 & 1 & 1 \\ 1 & 1 & -1 & -1 \\ 1 & -1 & 1 & -1 \\ 1 & -1 & -1 & 1 \end{pmatrix}^{-1} = \frac{1}{4} \begin{pmatrix} 1 & 1 & 1 & 1 \\ 1 & 1 & -1 & -1 \\ 1 & -1 & 1 & -1 \\ 1 & -1 & -1 & 1 \end{pmatrix}.$$

Následně lze snadno získat

$$x_1 = \frac{13}{4}, \quad x_2 = -\frac{3}{4}, \quad x_3 = -\frac{3}{4}, \quad x_4 = \frac{1}{4}.$$

2.32. Řešeními jsou právě všechny skalární násobky vektoru

$$(1 + \sqrt{3}, -\sqrt{3}, 0, 1, 0).$$

2.33.  $x_1 = 1 + t, \quad x_2 = \frac{3}{2}, \quad x_3 = t, \quad x_4 = -\frac{1}{2}, \quad t \in \mathbb{R}$ .

2.34. Soustava nemá řešení.

2.35. Soustava má řešení, protože je

$$3 \cdot \begin{pmatrix} 3 \\ 2 \\ 2 \\ 3 \end{pmatrix} - \begin{pmatrix} 3 \\ 3 \\ -3 \\ -2 \end{pmatrix} - 5 \cdot \begin{pmatrix} 1 \\ -1 \\ 1 \\ 1 \end{pmatrix} = \begin{pmatrix} 1 \\ 8 \\ 4 \\ 6 \end{pmatrix}.$$

2.36. Systém lineárních rovnic

$$\begin{array}{rcl} 3x_1 & + & 2x_3 = 1, \\ x_1 & + & x_3 = 2, \\ 7x_1 & + & 4x_3 = 3, \\ 5x_1 & + & 3x_3 = 4, \\ & x_2 & = 5 \end{array}$$

nemá řešení, zatímco systém

$$\begin{array}{rcl} 3x_1 & + & 2x_3 = 1, \\ x_1 & + & x_3 = 1, \\ 7x_1 & + & 4x_3 = 1, \\ 5x_1 & + & 3x_3 = 1, \\ & x_2 & = 1 \end{array}$$

má právě jedno řešení  $x_1 = -1, x_2 = 1, x_3 = 2$ .

2.37. Správné odpovědi zní:

- (a)  $b_1 = b_2 + b_3$ ;
- (b) nelze;
- (c)  $b_1 \neq b_2 + b_3$ ;
- (d) nelze.

2.38. Množina všech řešení je

$$\{(-10t, (a+4)t, (3a-8)t) ; t \in \mathbb{R}\}.$$

2.39. Pro  $a = 0$  nemá uvažovaný systém řešení; pro  $a \neq 0$  má nekonečně mnoho řešení.

2.40. Při zachování pořadí jsou správné odpovědi „ano“, „ne“, „ne“ a „ano“.

2.41. i) Pro  $b \neq -7$  je  $x = z = (2+a)/(b+7), y = (3a-b-1)/(b+7)$  (1b). ii) Pro  $b = -7$  (1b) a  $a \neq -2$  (1b) nemá řešení (1b), pro  $a = -2$  je řešením  $x = z, 3z - 1$  (2b).

2.44. Lehce se ověří, že se jedná o vektorový prostor. První souřadnice neovlivňuje výpočty součtů vektorů ani hodnoty skalárních násobků vektorů: jedná se o přeznačený prostor  $(\mathbb{R}, +, \cdot)$ .

2.48. Výsledek je

$$(1, 1, 1) = \frac{1}{2} \cdot (1, 2, 1) - \frac{1}{2} \cdot (-1, 1, 0) + \frac{1}{2} \cdot (0, 1, 1).$$

2.49. Úloha má jediné řešení

$$p = 2, \quad q = -2, \quad r = 3.$$

2.50. Vektory jsou závislé, je-li splněna alespoň jedna z podmínek

$$a = b = 1, \quad a = c = 1, \quad b = c = 1.$$

2.51. Vektory jsou lineárně nezávislé.

2.52. Stačí připojit např. polynom  $x$ .

2.54.  $(-2 + \frac{1}{\sqrt{3}}, -2 - \frac{1}{\sqrt{3}})$ .

2.55.  $(2 + \frac{1}{\sqrt{3}}, 2 - \frac{1}{\sqrt{3}})$ .

2.70.

$$\begin{pmatrix} 5/6 & -1/6 & 1/3 \\ -1/6 & 5/6 & 1/3 \\ 1/3 & 1/3 & 1/3 \end{pmatrix}.$$

2.71.

$$\begin{pmatrix} 5/9 & 2/9 & -4/9 \\ 2/9 & 8/9 & 2/9 \\ -4/9 & 2/9 & 5/9 \end{pmatrix}$$

2.74. Trojnásobná vlastní hodnota  $-1$ , příslušný vektorový prostor je  $\langle(1, 0, 0), (0, 2, 1)\rangle$ .

2.75. Charakteristický polynom je  $-(\lambda - 2)^2(\lambda - 9)$ , tj. vlastní čísla jsou 2 a 9 s příslušnými (po řadě) vlastními vektory

$$(1, 2, 0), (-3, 0, 1) \quad \text{a} \quad (1, 1, 1).$$

2.76. Daná matice má pouze jedno vlastní číslo, a to  $-1$ .

2.77. Kupř.

$$(a) \begin{pmatrix} 6 & 0 & 0 & 0 \\ 0 & 7 & 0 & 0 \\ 0 & 0 & 7 & 0 \\ 0 & 0 & 0 & 7 \end{pmatrix}; \quad (b) \begin{pmatrix} 6 & 0 & 0 & 0 \\ 0 & 7 & 1 & 0 \\ 0 & 0 & 7 & 0 \\ 0 & 0 & 0 & 7 \end{pmatrix};$$

$$(c) \begin{pmatrix} 6 & 0 & 0 & 0 \\ 0 & 7 & 1 & 0 \\ 0 & 0 & 7 & 1 \\ 0 & 0 & 0 & 7 \end{pmatrix}.$$

2.78. Kořen  $-1$  polynomu  $|A - \lambda E|$  je trojnásobný.

2.79. Je  $|A - \lambda E| = -\lambda^3 + 12\lambda^2 - 47\lambda + 60$ , tj.  $\lambda_1 = 3, \lambda_2 = 4, \lambda_3 = 5$ .

2.80.

$$A^5 = \begin{pmatrix} 122 & -121 & 121 \\ -121 & 122 & -121 \\ 0 & 0 & 1 \end{pmatrix}, \quad A^{-3} = \frac{1}{27} \begin{pmatrix} 14 & 13 & -13 \\ 13 & 14 & 13 \\ 0 & 0 & 27 \end{pmatrix}.$$

2.81. Výsledkem je posloupnost 0, 1, 2.

2.83. Dimenze je 1 pro  $\lambda_1 = 4$  a 2 pro  $\lambda_2 = 3$ .

2.84. Matice  $B$  má dvě různá vlastní čísla, a proto takové vyjádření existuje. Např. platí

$$\begin{pmatrix} 5 & 6 \\ 6 & 5 \end{pmatrix} = \frac{1}{2} \begin{pmatrix} \sqrt{2} & -\sqrt{2} \\ \sqrt{2} & \sqrt{2} \end{pmatrix} \cdot \begin{pmatrix} 11 & 0 \\ 0 & -1 \end{pmatrix} \cdot \frac{1}{2} \begin{pmatrix} \sqrt{2} & \sqrt{2} \\ -\sqrt{2} & \sqrt{2} \end{pmatrix}.$$

Existují právě dvě diagonální matice  $D$ , a to

$$\begin{pmatrix} 11 & 0 \\ 0 & -1 \end{pmatrix}, \quad \begin{pmatrix} -1 & 0 \\ 0 & 11 \end{pmatrix},$$

ovšem sloupce matice  $P^{-1}$  můžeme nahradit za jejich libovolné nenulové skalární násobky, tedy uvažovaných dvojic  $D, P$  je nekonečně mnoho.





## Linární modely a maticový počet

*kde jsou matice užitečné?  
– nakonec skoro všude...*

Máme už vybudován docela slušný balíček nástrojů a tak je na čase, abychom si maticový počet zkusili použít. Na docela jednoduchých úlohách uvidíme, že teorie nám umožňuje kvalitativní i kvantitativní analýzy a někdy i překvapivě snadno vede k výsledkům.

Jakkoliv se může zdát, že předpoklad linearity vztahů mezi veličinami je příliš omezující, v reálných úlohách naopak často právě lineární závislosti buď vystupují přímo nebo je skutečný proces výsledkem iterace mnoha lineárních kroků,

V této kapitole proto neprve zrekapitulujeme nejjednodušší případ, kdy celý proces je popsán jediným lineárním zobrazením. O co méně tady bude nové teorie, tím více snad bude zajímavé, jak takové modely vznikají v různých oblastech využití matematických nástrojů. Poté se vrátíme k tzv. lineárním diferenčním rovnicím, které lze chápat buď jako rekurentně definované funkce nebo také jako specifický případ lineárního iterovaného procesu. Právě těm bude věnována část třetí, kde si ukážeme, k jakým kouzlům vede pochopení vlastností vlastních hodnot matic.

Na matice (resp. lineární zobrazení) se také někdy rádi díváme jako na objekty, se kterými bychom rádi pracovali tak, jak to umíme se skaláry. To hodně souvisí i s tak zvanými rozklady matic, které jsou potřebné pro numerické zvládnutí maticového počtu co nejrobustnějším způsobem.

### 1. Lineární procesy

2.37

**3.1. Struktura řešení systému lineárních rovnic.** Jednoduché lineární procesy jsou dány lineárními zobrazeními  $\varphi : V \rightarrow W$  na vektorových prostorech. Jak si jistě umíme představit, vektor  $v \in V$  může představovat stav nějakého námi sledovaného systému, zatímco  $\varphi(v)$  pak dá výsledek po uskutečněním procesu. Pokud chceme dosáhnout předem daného výsledku  $b \in W$  takového jednorázového procesu, řešíme problém

$$\varphi(x) = b$$

pro neznámý vektor  $x$  a známý vektor  $b$ .

fib

### A. Rekurentní rovnice

Různé lineární závislosti mohou být dobrým nástrojem pro popsání rozličných modelů růstu. Začneme s velmi populárním populačním modelem, který využívá lineární diferenční rovnici druhého řádu:

**3.1. Fibonacciho posloupnost.** Na začátku jara přinesl čáp na louku dva čerstvě narozené zajíčky, samečka a samičku. Samička je schopná od dvou měsíců stáří povít každý měsíc dva malé zajíčky (samečka a samičku). Nově narození zajíci plodí potomky po jednom měsíci a pak každý další měsíc. Každá samička je březí jeden měsíc a pak opět porodí samečka a samičku. Kolik párů zajíců bude na louce po devíti měsících (pokud žádný neuhyne a žádný se tam „nepřistěhuje“)?

**Řešení.** Po uplynutí prvního měsíce je na louce pořád jeden pár, nicméně samička zabřezne. Po dvou měsících se narodí první potomci, takže na louce budou dva páry. Po uplynutí každého dalšího měsíce se narodí (tedy přibude) tolik zajíců, kolik zabřezlo zaječic před měsícem, což je přesně tolik, kolik bylo před měsícem párů schopných mít potomka, což je přesně tolik, kolik bylo párů před dvěma měsíci. Celkový počet  $p_n$  zajíců po uplynutí  $n$ -tého měsíce tak je tak součtem počtů párů v předchozích dvou měsících. Pro počet párů zajíců na louce tedy dostáváme *homogenní lineární rekurentní formuli*

$$(3.1) \quad p_{n+2} = p_{n+1} + p_n, \quad n = 1, \dots,$$

která spolu s počátečními podmínkami  $p_1 = 1$  a  $p_2 = 1$  jednoznačně určuje počty párů zajíců na louce v jednotlivých měsících. Linearita

formule znamená, že všechny členy posloupnosti  $(p_n)$  jsou ve vztahu v první mocnině, rekurence je snad jasná a homogenita značí, že v předpisu chybí absolutní člen (viz dále pro nehomogenní formule). Pro hodnotu  $n$ -tého členu můžeme odvodit explicitní formuli. V hledání formule nám pomůže pozorování, že pro jistá  $r$  je funkce  $r^n$  řešením diferenční rovnice bez počátečních podmínek. Tato  $r$  získáme tak, že dosadíme do rekurentního vztahu:

$$\begin{aligned} r^{n+2} &= r^{n+1} + r^n \quad \text{a po vydělení } r^n \text{ dostaneme} \\ r^2 &= r + 1, \end{aligned}$$

což je tzv. *charakteristická rovnice* daného rekurentního vztahu. Naše rovnice má kořeny  $\frac{1-\sqrt{5}}{2}$  a  $\frac{1+\sqrt{5}}{2}$  a tedy posloupnosti  $a_n = (\frac{1-\sqrt{5}}{2})^n$  a  $b_n = (\frac{1+\sqrt{5}}{2})^n$ ,  $n \geq 1$ , vyhovují danému vztahu. Vztah také splňuje jejich libovolná tzv. lineární kombinace, tedy posloupnost  $c_n = sa_n + tb_n$ ,  $s, t \in \mathbb{R}$ . Čísla  $s$  a  $t$  můžeme zvolit tak, aby výsledná kombinace splňovala dané počáteční podmínky, v našem případě  $c_1 = 1$ ,  $c_2 = 1$ . Pro jednoduchost je vhodné navíc ještě dodefinovat nultý člen posloupnosti jako  $c_0 = 0$  a spočítat  $s$  a  $t$  z rovnic pro  $c_0$  a  $c_1$ . Zjistíme, že  $s = -\frac{1}{\sqrt{5}}$ ,  $t = \frac{1}{\sqrt{5}}$  a tedy

Binet

$$(3.2) \quad p_n = \frac{(1 + \sqrt{5})^n - (1 - \sqrt{5})^n}{2^n(\sqrt{5})}.$$

Takto zadaná posloupnost splňuje danou rekurentní formuli a navíc počáteční podmínky  $c_0 = 0$ ,  $c_1 = 1$ , jedná se tedy o tu jedinou posloupnost, která je těmito požadavky zadána. Všimněte si, že hodnota vzorce (3.2) je celočíselná pro libolné přirozené  $n$  (zadává totiž celočíselnou Fibonacciho posloupnost), i když to tak na první pohled nevypadá.  $\square$

### 3.2. Zjednodušený model chování hrubého národního produktu.

Uvažujme diferenční rovnici

$$(3.3) \quad y_{k+2} - a(1+b)y_{k+1} + aby_k = 1,$$

kde  $y_k$  je národní produkt v roce  $k$ . Konstanta  $a$  je takzvaný *mezní sklon ke spotřebě*, což je makroekonomický ukazatel, který udává jaký zlomek peněz, které mají obyvatelé k dispozici, utratí, a konstanta  $b$  popisuje, jak závisí míra investic soukromého sektoru na mezním sklonu ke spotřebě.

Předpokládáme dále, že velikost národního produktu je normována tak, aby na pravé straně rovnice vyšlo číslo 1.

Spočítejte konkrétní hodnoty pro  $a = \frac{3}{4}$ ,  $b = \frac{1}{3}$ ,  $y_0 = 1$ ,  $y_1 = 1$ .

**Řešení.** Nejprve budeme hledat řešení homogenní rovnice (pravá strana nulová) ve tvaru  $r^k$ . Číslo  $r$  musí být řešením charakteristické

V pevně zvolených souřadnicích pak máme matici  $A$  zobrazení  $\varphi$  a souřadné vyjádření vektoru  $b$ . Jak jsme si povšimli už v úvodu druhé kapitoly, množina všech řešení tzv. *homogenní úlohy*

$$A \cdot x = 0$$

je vektorovým podprostorem.

Pokud je dimenze  $V$  konečná, řekněme  $n$ , a dimenze obrazu zobrazení  $\varphi$  je  $k$ , pak řešením této soustavy pomocí převodu na řádkově schodovitý tvar (viz 2.7) zjistíme, že dimenze podprostoru všech řešení je právě  $n - k$ . Skutečně, protože sloupce matice zobrazení jsou právě obrazy bázevých vektorů, je v matici systému právě  $k$  lineárně nezávislých sloupců a tedy i stejný počet lineárně nezávislých řádků. Proto nám zůstane při převodu na řádkově schodovitý tvar právě  $n - k$  nulových řádků. Při řešení systému rovnic nám tak zůstane právě  $n - k$  volných parametrů a dosazením vždy jednoho z nich s hodnotou jedna a vynulováním ostatních získáme právě  $n - k$  lineárně nezávislých řešení. Všechna řešení jsou pak dána právě všemi lineárními kombinacemi těchto  $n - k$  řešení. Každé takové  $(n - k)$ -tici řešení říkáme *fundamentální systém řešení* daného homogenního systému rovnic. Dokázali jsme:

**Věta.** Množina všech řešení homogenního systému rovnic

$$A \cdot x = 0$$

pro  $n$  proměnných s maticí  $A$  hodnosti  $k$  je vektorovým podprostorem v  $\mathbb{K}^n$  dimenze  $n - k$ . Každá báze tohoto podprostoru tvoří fundamentální systém řešení daného homogenního systému.

**3.2. Nehomogenní systémy rovnic.** Uvažme nyní obecný systém rovnic

$$A \cdot x = b.$$

Znovu si uvědomme, že sloupce matice  $A$  jsou ve skutečnosti obrazy vektorů standardní báze v  $\mathbb{K}^n$  v lineárním zobrazení  $\varphi$  odpovídajícím matici  $A$ . Pokud má existovat řešení, musí být  $b$  v obrazu  $\varphi$  a tedy musí být lineární kombinací sloupců v  $A$ .

Jestliže tedy rozšíříme matici  $A$  o sloupec  $b$ , můžeme, ale nemusíme, také zvětšit počet lineárně nezávislých sloupců a tedy i řádků. Pokud se tento počet zvětší, pak  $b$  v obrazu není a tedy systém rovnic nemůže mít řešení. Jestliže ale naopak máme stejný počet nezávislých řádků i po přidání sloupce  $b$  k matici  $A$ , znamená to, že sloupec  $b$  musí být lineární kombinací sloupců matice  $A$ . Koefficienty takové kombinace jsou právě řešení našeho systému rovnic.

Uvažme nyní dvě pevně zvolená řešení  $x$  a  $y$  našeho systému a nějaké řešení  $z$  systému homogenního se stejnou maticí. Pak zjevně

$$A \cdot (x - y) = b - b = 0$$

$$A \cdot (x + z) = 0 + b = b.$$

Můžeme proto shrnout:

**3.3. Věta.** Řešení nehomogenního systému lineárních rovnic  $A \cdot x = b$  existuje právě, když přidáním sloupce  $b$  k matici  $A$  nezvýšíme počet lineárně nezávislých řádků. V takovém případě je prostor všech řešení dán všemi součty jednoho pevně zvoleného partikulárního řešení systému  $a$  všech řešení systému homogenního se stejnou maticí.

3.2a

**3.4. ???** ... následuje výklad několika modelů založených na systémech rovnic / lineární procesy, může být 4-5 stran

3.2b

**3.5. ???** ...

## 2. Diferenční rovnice

Diferenčními rovnicemi jsme se stručně zabývali již v první kapitole, byť pouze těmi prvního řádu. Nyní si ukážeme obecnou teorii pro lineární rovnice s konstantními koeficienty, která poskytuje nejen velmi praktické nástroje, ale je také pěknou ilustrací pro koncepty vektorových podprostorů a lineárních zobrazení.

### HOMOGENNÍ LINEÁRNÍ DIFERENČNÍ ROVNICE ŘÁDU $k$

3.10

**3.6. Definice.** Homogenní lineární diferenční rovnice řádu  $k$  je dána výrazem

$$a_0 x_n + a_1 x_{n-1} + \dots + a_k x_{n-k} = 0, \quad a_0 \neq 0 \quad a_k \neq 0,$$

kde koeficienty  $a_i$  jsou skaláry, které mohou případně i záviset na  $n$ .

Říkáme také, že taková rovnost zadává homogenní lineární rekurenci řádu  $k$  a často zapisujeme hledanou posloupnost jako funkci

$$x_n = f(n) = -\frac{a_1}{a_0} f(n-1) - \dots - \frac{a_k}{a_0} f(n-k).$$

Řešením této rovnice nazýváme posloupnost skalárů  $x_i$ , pro všechna  $i \in \mathbb{N}$ , případně  $i \in \mathbb{Z}$ , které vyhovují rovnici s libovolným pevným  $n$ .

Libovolným zadáním  $k$  po sobě jdoucích hodnot  $x_i$  jsou určeny i všechny ostatní hodnoty jednoznačně. Skutečně, pracujeme nad polem skalárů, takže hodnoty  $a_0$  i  $a_k$  jsou invertibilní a proto z definičního vztahu lze vždy spočítat hodnotu  $x_n$  ze známých ostatních hodnot a stejně tak pro  $x_{n-k}$ . Indukcí tedy okamžitě dokážeme, že lze jednoznačně dopočítat všechny hodnoty jak pro kladná tak pro záporná celá  $n$ .

Prostor všech nekonečných posloupností  $x_i$  je vektorový prostor, kde sčítání i násobení skaláry je dáno po složkách. Přímou z definice je zřejmé, že součet dvou řešení homogenní lineární rovnice nebo skalární násobek řešení je opět řešení. Stejně jako u homogenních systémů lineárních tedy vidíme, že množina všech řešení je vektorový podprostor.

Počáteční podmínka na hodnoty řešení je dána jako  $k$ -rozměrný vektor v  $\mathbb{K}^k$ . Součtu počátečních podmínek odpovídá součet příslušných řešení a obdobně se skalárními násobky. Dále si všimněme, že dosazením nul a jedniček do

rovnice

$$x^2 - a(1+b)x + ab = 0, \quad \text{tj. } x^2 - x + \frac{1}{4} = 0,$$

kteřá má dvojnásobný kořen  $\frac{1}{2}$ . Všechna řešení homogenní rovnice jsou potom tvaru  $a(\frac{1}{2})^n + bn(\frac{1}{2})^n$ .

Dále si všimněme, že najdeme-li nějaké řešení nehomogenní rovnice (tzv. partikulární řešení), tak pokud k němu přičteme libovolné řešení homogenní rovnice, obdržíme jiné řešení nehomogenní rovnice. Lze ukázat, že takto získáme všechna řešení nehomogenní rovnice.

V našem případě (tj. pokud jsou všechny koeficienty i nehomogenní člen konstantami) je partikulárním řešením konstanta  $y_n = c$ . Dosazením do rovnice máme  $c - c + \frac{1}{4}c = 1$ , tedy  $c = 4$ . Všechna řešení diferenční rovnice

$$y_{k+2} - y_{k+1} + \frac{1}{4} \cdot y_k = 1$$

jsou tedy tvaru  $4 + a(\frac{1}{2})^n + bn(\frac{1}{2})^n$ . Požadujeme  $y_0 = y_1 = 1$  a tyto dvě rovnice dávají  $a = b = -3$ , tedy řešení naší nehomogenní rovnice je

$$y_n = 4 - 3 \left(\frac{1}{2}\right)^n - 3n \left(\frac{1}{2}\right)^n.$$

Opět, protože víme, že posloupnost zadaná touto formulí splňuje danou diferenční rovnici a zároveň dané počáteční podmínky, jedná se vskutku o tu jedinou posloupnost, která je těmito vlastnostmi charakterizována.  $\square$

V předchozím příkladu jsme použili tzv. *metodu neurčitých koeficientů*. Ta spočívá v tom, že na základě nehomogenního členu dané diferenční rovnice „uhodneme“ tvar partikulárního řešení. Tvary partikulárních řešení jsou známy pro celou řadu nehomogenních členů. Např. rovnice

$$(3.4) \quad y_{n+k} + a_1 y_{n+k-1} + \dots + a_k y_n = P_m(n),$$

kde  $P(m)$  je polynom stupně  $n$  a příslušná charakteristická rovnice má reálné kořeny má (skoro vždy) partikulární řešení tvaru  $Q_m(n)$ ,  $Q_m(n)$  je polynom stupně  $m$ .

Další možnou způsobem řešení je tzv. *metoda variace konstant*, kdy nejprve najdeme řešení

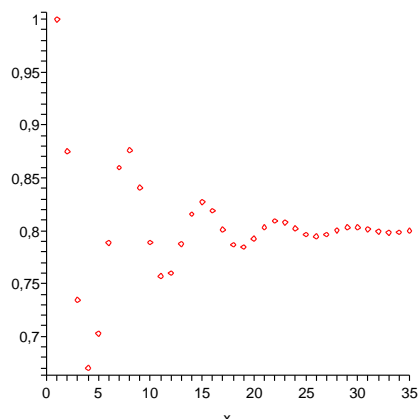
$$y(n) = \sum_{i=1}^k c_i f_i(n)$$

zhomogenizované rovnice a poté uvažujeme konstanty  $c_i$  jako funkce  $c_i(n)$  proměnné  $n$  a hledáme partikulární řešení dané rovnice ve tvaru

$$y(n) = \sum_{i=1}^k c_i(n) f_i(n).$$

Ukažme si na obrázku hodnoty  $f_i$  pro  $i \leq 35$  a rovnici

$$f(n) = \frac{9}{8}f(n-1) - \frac{3}{4}f(n-2) + \frac{1}{2}, \quad f(0) = f(1) = 1.$$



3.11

Dále si procvičme, jak řešit lineární diferenční rovnice druhého řádu s konstantními koeficienty. Posloupnost vyhovující dané rekurentní rovnici druhého řádu je dána jednoznačně, pokud zadáme navíc nějaké dva její sousední členy. Znovu si povšimněme dalšího využití komplexních čísel: pro určení explicitního vzorce pro  $n$ -tý člen posloupnosti reálných čísel můžeme potřebovat výpočty s čísly komplexními (to nastává tehdy, pokud má charakteristický polynom  $\lambda^2 - 2\lambda + 2$  diferenční rovnice komplexní kořeny).

**3.3.** Nalezněte explicitní vzorec pro posloupnost vyhovující následující lineární diferenční rovnici s počátečními podmínkami:

$$x_{n+2} = 2x_n + n, \quad x_1 = 2, \quad x_2 = 2.$$

**Řešení.** Zhomogenizovaná rovnice je

$$x_{n+2} = 2x_n.$$

Její charakteristický polynom je  $x^2 - 2$ , jeho kořeny jsou  $\pm\sqrt{2}$ . Řešení zhomogenizované rovnice je tedy tvaru

$$a(\sqrt{2})^n + b(-\sqrt{2})^n, \quad \text{pro libovolné } a, b \in \mathbb{R}.$$

Partikulární řešení budeme hledat metodou neurčitých koeficientů. Nehomogenní část dané rovnice je lineární polynom  $n$ , partikulární řešení proto budeme nejprve hledat ve tvaru lineárního polynomu v proměnné  $n$ , tedy  $kn + l$ , kde  $k, l \in \mathbb{R}$ . Dosazením do původní rovnice dostáváme

$$k(n+2) + l = 2(kn + l) + n.$$

Porovnáním koeficientů u proměnné  $n$  na obou stranách rovnice dostáváme vztah  $k = 2k + 1$ , tedy  $k = -1$ , porovnáním absolutních členů pak vztah  $2k + l = 2l$ , tedy  $l = -2$ . Celkem je tedy partikulárním řešením je posloupnost  $-n - 2$ .

zadávaných počátečních  $k$  hodnot snadno získáme  $k$  lineárně nezávislých řešení naší rovnice. Jakkoliv jsou tedy zkoumané vektory nekonečné posloupnosti skalárů, samotný prostor všech řešení je konečněrozměrný, předem víme, že jeho dimenze bude rovna řádu rovnice  $k$ , a umíme snadno určit bázi všech těchto řešení. Opět hovoříme o *fundamentálním systému řešení* a všechna ostatní řešení jsou právě jejich lineární kombinace.

**3.7. Řešení homogenních rekurencí s konstantními koeficienty.** Těžko bychom hledali univerzální postup, jak hledat řešení obecných homogenních lineárních diferenčních rovnic, tj. přímo spočítatelný výraz pro obecné řešení  $x_n$ .

V praktických modelech ale velice často vystupují rovnice, kde jsou koeficienty konstantní. V tomto případě se daří uhodnout vhodnou formu řešení a skutečně se nám podaří najít  $k$  lineárně nezávislých možností. Tím budeme mít problém vyřešený, protože všechny ostatní budou jejich lineární kombinací.

Pro jednoduchost začneme rovnicemi druhého řádu. Takové potkáváme obzvlášť často v praktických problémech, kde se vyskytují vztahy závislé na dvou předchozích hodnotách. Lineární diferenční rovnici druhého řádu s konstantními koeficienty tedy rozumíme předpis

$$(3.1) \quad f(n+2) = a \cdot f(n+1) + b \cdot f(n) + c,$$

kde  $a, b, c$  jsou známé skalární koeficienty.

Např. v populačních modelech můžeme zohlednit, že jedinci v populaci dospívají a pořádně se rozmnožují až o dvě období později (tj. přispívají k hodnotě  $f(n+2)$  násobkem  $b \cdot f(n)$  s kladným  $b > 1$ ), zatímco nedospělí jedinci vysílí a zničí část dospělé populace (tj. koeficient  $a$  může být i záporný). Navíc si je třeba někdo pěstuje a průběžně si ujídá konstantní počet  $c < 0$ .

Speciálním takovým příkladem s  $c = 0$  je např. Fibonacciho posloupnost čísel  $y_0, y_1, \dots$ , kde  $y_{n+2} = y_{n+1} + y_n$ .

Jestliže při řešení matematického problému nemáme žádný nový nápad, vždy můžeme zkusit, do jaké míry funguje známé řešení podobných úloh. Zkusme proto dosadit do rovnice (3.1) s koeficientem  $c = 0$  podobné řešení jako u rovnic lineárních, tj.  $f(n) = \lambda^n$  pro nějaké skalární  $\lambda$ . Dosazením dostáváme

$$\lambda^{n+2} - a\lambda^{n+1} - b\lambda^n = \lambda^n(\lambda^2 - a\lambda - b) = 0.$$

Tento vztah bude platit buď pro  $\lambda = 0$  nebo při volbě hodnot

$$\lambda_1 = \frac{1}{2}(a + \sqrt{a^2 + 4b}), \quad \lambda_2 = \frac{1}{2}(a - \sqrt{a^2 + 4b}).$$

Zjistili jsme tedy, že skutečně opět taková řešení fungují, jen musíme vhodně zvolit skalár  $\lambda$ . To nám ale nestačí, protože my chceme najít řešení pro jakékoliv počáteční hodnoty  $f(0)$  a  $f(1)$ , a zatím jsme našli jen dvě konkrétní posloupnosti splňující danou rovnici (a nebo dokonce jen jednu, pokud je  $\lambda_2 = \lambda_1$ ).

Jak jsem již dovodili i u zcela obecných lineárních rekurencí, součet dvou řešení  $f_1(n)$  a  $f_2(n)$  naší rovnice  $f(n+2) - a \cdot f(n+1) - b \cdot f(n) = 0$  je zjevně opět řešením téže rovnice a totéž platí pro konstantní násobky řešení. Naše dvě konkrétní řešení proto poskytují daleko obecnější řešení

$$f(n) = C_1 \lambda_1^n + C_2 \lambda_2^n$$

pro libovolné skaláry  $C_1$  a  $C_2$  a pro jednoznačné vyřešení konkrétní úlohy se zadanými počátečními hodnotami  $f(0)$  a  $f(1)$  nám zbývá jen najít příslušné konstanty  $C_1$  a  $C_2$ . (A také si musíme ujasnit, zda to pro všechny počáteční hodnoty půjde).

**3.8. Volba skalárů.** Ukažme si, jak to může fungovat alespoň na jednom příkladě. Soustředíme se přitom na problém, že kořeny charakteristického polynomu nevychází obecně ve stejném oboru skalárů, jako jsou koeficienty v rovnici.

e1.9

$$(3.2) \quad \begin{aligned} y_{n+2} &= y_{n+1} + \frac{1}{2}y_n \\ y_0 &= 2, y_1 = 0. \end{aligned}$$

V našem případě je tedy  $\lambda_{1,2} = \frac{1}{2}(1 \pm \sqrt{3})$  a zjevně

$$\begin{aligned} y_0 &= C_1 + C_2 = 2 \\ y_1 &= \frac{1}{2}C_1(1 + \sqrt{3}) + \frac{1}{2}C_2(1 - \sqrt{3}) \end{aligned}$$

je splněno pro právě jednu volbu těchto konstant. Přímým výpočtem  $C_1 = 1 - \frac{1}{3}\sqrt{3}$ ,  $C_2 = 1 + \frac{1}{3}\sqrt{3}$  a naše úloha má jediné řešení

$$f(n) = (1 - \frac{1}{3}\sqrt{3})\frac{1}{2^n}(1 + \sqrt{3})^n + (1 + \frac{1}{3}\sqrt{3})\frac{1}{2^n}(1 - \sqrt{3})^n$$

Všimněme si, že i když nalezená řešení pro rovnice s celočíselnými koeficienty vypadají složitě a jsou vyjádřena pomocí iracionálních (případně komplexních) čísel, o samotném řešení dopředu víme, že je celočíselné též. Bez tohoto „úroku“ do většího oboru skalárů bychom ovšem obecné řešení napsat neuměli.

S podobnými jevy se budeme potkávat velice často. Obecné řešení nám také umožňuje bez přímého vyčíslování konstant diskutovat kvalitativní chování posloupnosti čísel  $f(n)$ , tj. zda se budou s rostoucím  $n$  blížit k nějaké pevné hodnotě nebo budou oscilovat v nějakém rozsahu nebo utečou do neomezených kladných nebo záporných hodnot.

3.11a

**3.9. Obecný případ homogenních rekurencí s konstantními koeficienty.** Zkusme nyní stejně jako v případě druhého řádu dosadit volbu  $x_n = \lambda^n$  pro nějaký (zatím neznámý) skalár  $\lambda$  do obecné homogenní rovnice z definice 3.6. Dostáváme pro každé  $n$  podmínku

$$\lambda^{n-k}(a_0 \lambda^k + a_1 \lambda^{k-1} \dots + a_k) = 0$$

což znamená, že buď  $\lambda = 0$  nebo je  $\lambda$  kořenem tzv. *charakteristického polynomu* v závorce. Charakteristický polynom ale už není závislý na  $n$ .

Řešení dané nehomogenní diferencí rovnice druhého řádu bez počátečních podmínek jsou tedy tvaru  $a(\sqrt{2})^n + b(-\sqrt{2})^n - n - 2$ ,  $a, b \in \mathbb{R}$ .

Nyní dosazením do počátečních podmínek určíme neznámé  $a, b \in \mathbb{R}$ . Pro početní jednoduchost použijeme malého triku: z počátečních podmínek a daného rekurentního vztahu vypočteme člen  $x_0$ :  $x_0 = \frac{1}{2}(x_2 - 0) = 1$ . Daný rekurentní vztah spolu s podmínkami  $x_0 = 1$  a  $x_1 = 1$  pak zřejmě splňuje tatáž posloupnost, která splňuje původní počáteční podmínky. Máme tedy následující vztahy pro  $a, b$ :

$$\begin{aligned} x_0: \quad a(\sqrt{2})^0 + b(-\sqrt{2})^0 - 2 &= 1, \quad \text{tedy } a + b = 3, \\ x_1: \quad \sqrt{2}a - \sqrt{2}b &= 5, \end{aligned}$$

jejichž řešením dostáváme  $a = \frac{6+5\sqrt{2}}{4}$ ,  $b = \frac{6-5\sqrt{2}}{4}$ . Řešením je posloupnost

$$x_n = \frac{6 + 5\sqrt{2}}{4}(\sqrt{2})^n + \frac{6 - 5\sqrt{2}}{4}(-\sqrt{2})^n - n - 2.$$

□

**3.4.** Určete reálnou bázi prostoru řešení homogenní diferencí rovnice

$$x_{n+4} = x_{n+3} + x_{n+1} - x_n,$$

**Řešení.** Charakteristický polynom dané rovnice je  $x^4 - x^3 - x + 1$ . Hledáme-li jeho kořeny, řešíme reciprokou rovnici

$$x^4 - x^3 - x + 1 = 0$$

Standardním postupem nejprve vydělíme rovnici výrazem  $x^2$  a poté zavedeme substituci  $t = x + \frac{1}{x}$ , tedy  $t^2 = x^2 + \frac{1}{x^2} + 2$ . Obdržíme rovnici

$$t^2 - t - 2 = 0,$$

s kořeny  $t_1 = -1$ ,  $t_2 = 2$ . Pro obě tyto hodnoty neznámé  $t$  pak řešíme zvlášť rovnici danou substitučním vztahem:

$$x + \frac{1}{x} = -1.$$

Ta má dva komplexní kořeny  $x_1 = -\frac{1}{2} + i\frac{\sqrt{3}}{2} = \cos(2\pi/3) + i \sin(2\pi/3)$  a  $x_2 = -\frac{1}{2} - i\frac{\sqrt{3}}{2} = \cos(2\pi/3) - i \sin(2\pi/3)$ .

Pro druhou hodnotu neznámé  $t$  dostáváme rovnici

$$x + \frac{1}{x} = 2$$

s dvojnásobným kořenem 1. Celkem je tedy bazí hledaného vektorového prostoru posloupností, které jsou řešením dané diferencí rovnice, následující čtveřice posloupností:  $\{-\frac{1}{2} + i\sqrt{3}\}_{n=1}^{\infty}$ ,  $\{-\frac{1}{2} -$

$i\sqrt{3}\}_{n=1}^{\infty}, \{1\}_{n=1}^{\infty}$  (konstantní posloupnost) a  $\{n\}_{n=1}^{\infty}$ . Hledáme-li však reálnou bázi, musíme nahradit dva generátory (posloupnosti) z této báze s komplexními hodnotami generátory reálnými. Protože tyto generátory jsou geometrické řady, jejichž libovolné členy jsou komplexně sdružená čísla, můžeme vzít jako vhodné generátory posloupnosti dané polovinou součtu, resp. polovinou  $i$ -násobku rozdílu, daných komplexních generátorů. Takto dostaneme následující reálnou bázi řešení:  $\{1\}_{n=1}^{\infty}$  (konstantní posloupnost),  $\{n\}_{n=1}^{\infty}$ ,  $\{\cos(n \cdot 2\pi/3)\}_{n=1}^{\infty}$ ,  $\{\sin(n \cdot 2\pi/3)\}_{n=1}^{\infty}$ .  $\square$

**3.5.** Najděte posloupnost, která vyhovuje nehomogenní diferencní rovnici s počátečními podmínkami:

$$x_{n+2} = x_{n+1} + 2x_n + 1, \quad x_1 = 2, \quad x_2 = 2.$$

**Řešení.** Obecné řešení zhomogenizované rovnice je tvaru  $a(-1)^n + b2^n$ . Partikulárním řešením je konstanta  $-1/2$ . Obecné řešení dané nehomogenní rovnice bez počátečních podmínek je tedy

$$a(-1)^n + b2^n - \frac{1}{2}.$$

Dosazením do počátečních podmínek zjistíme konstanty  $a = -5/6$ ,  $b = 5/6$ . Dané rovnici s počátečními podmínkami tedy vyhovuje posloupnost

$$-\frac{5}{6}(-1)^n + \frac{5}{3}2^{n-1} - \frac{1}{2}.$$

$\square$

**3.6.** Určete posloupnost reálných čísel, která vyhovuje následující nehomogenní diferencní rovnici s počátečními podmínkami:

$$2x_{n+2} = -x_{n+1} + x_n + 2, \quad x_1 = 2, \quad x_2 = 3.$$

**Řešení.** Obecné řešení zhomogenizované rovnice je tvaru  $a(-1)^n + b(1/2)^n$ . Partikulárním řešením je konstanta 1. Obecné řešení dané nehomogenní rovnice bez počátečních podmínek je tedy

$$a(-1)^n + b\left(\frac{1}{2}\right)^n + 1.$$

Dosazením do počátečních podmínek zjistíme konstanty  $a = 1$ ,  $b = 4$ . Dané rovnici s počátečními podmínkami tedy vyhovuje posloupnost

$$(-1)^n + 4\left(\frac{1}{2}\right)^n + 1.$$

$\square$

Předpokládejme, že má charakteristický polynom  $k$  různých kořenů  $\lambda_1, \dots, \lambda_k$ . Můžeme za tímto účelem i rozšířit uvažované pole skalárů, např.  $\mathbb{Q}$  na  $\mathbb{R}$  nebo  $\mathbb{R}$  na  $\mathbb{C}$ , protože výsledkem výpočtu pak stejně budou řešení, která opět zůstanou v původním poli díky samotné rovnici. Každý z kořenů nám dává jedno možné řešení

$$x_n = (\lambda_i)^n.$$

Abychom byli uspokojeni, potřebujeme  $k$  lineárně nezávislých řešení.

K tomu nám postačí ověřit nezávislost dosazením  $k$  hodnot pro  $n = 0, \dots, k-1$  pro  $k$  možností  $\lambda_i$ . Dostaneme tzv. Vandermondovu matici a je pěkným (ale ne úplně snadným) cvičením spočítat, že pro všechna  $k$  a jakékoliv  $k$ -tice různých  $\lambda_i$  je determinant takovéto matice nenulový, viz příklad 2.21 na straně 83. To ale znamená, že zvolená řešení jsou lineárně nezávislá.

Nalezli jsme tedy fundamentální systém řešení homogení diferencní rovnice v případě, že všechny kořeny jejího charakteristického polynomu jsou po dvou různé.

Uvažme nyní násobný kořen  $\lambda$  a dosaďte do definiční rovnice předpokládané řešení  $x_n = n\lambda^n$ . Dostáváme podmínku

$$a_0n\lambda^n + \dots + a_k(n-k)\lambda^{n-k} = 0.$$

Tuto podmínku je možné přepsat pomocí tzv. derivace polynomu, kterou značíme apostrofem:

$$\lambda(a_0\lambda^n + \dots + a_k\lambda^{n-k})' = 0$$

a hned na začátku kapitoly páté uvidíme, že kořen polynomu  $f$  je vícenásobný právě, když je kořenem i jeho derivace  $f'$ . Naše podmínka je tedy splněna.

Při vyšší násobnosti  $\ell$  kořenu charakteristického polynomu můžeme postupovat obdobně a využijeme skutečnosti, že  $\ell$ -násobný kořen je kořenem všech derivací polynomu až do  $\ell-1$  včetně. Derivace přitom postupně vypadají takto:

$$\begin{aligned} f(\lambda) &= a_0\lambda^n + \dots + a_k\lambda^{n-k} \\ f'(\lambda) &= a_0n\lambda^{n-1} + \dots + a_k(n-k)\lambda^{n-k-1} \\ f''(\lambda) &= a_0n(n-1)\lambda^{n-2} + \dots + a_k(n-k)(n-k-1)\lambda^{n-k-2} \\ &\vdots \\ f^{(\ell+1)} &= a_0n \dots (n-\ell)\lambda^{n-\ell-1} + \dots \\ &\quad + a_k(n-k) \dots (n-k-\ell)\lambda^{n-k-\ell-1} \end{aligned}$$

Podívejme se na případ trojnásobného kořenu  $\lambda$  a hledejme řešení ve tvaru  $n^2\lambda^n$ . Dosazením do definiční podmínky dostaneme rovnost

$$a_0n^2\lambda^n + \dots + a_k(n-k)^2\lambda^{n-k} = 0.$$

Zjevně je levá strana rovna výrazu  $\lambda^2 f''(\lambda) + \lambda f'(\lambda)$  a protože je  $\lambda$  kořenem obou derivací, je podmínka splněna.

Indukcí snadno dokážeme, že i obecnou podmínku pro hledané řešení ve tvaru  $x_n = n^\ell \lambda^n$ ,

$$a_0n^\ell \lambda^n + \dots + a_k(n-k)^\ell \lambda^{n-k} = 0,$$

dostaneme jako vhodnou lineární kombinaci derivací charakteristického polynomu začínající  $\lambda^{\ell+1} f^{(\ell+1)} + \frac{1}{2}\lambda^\ell \ell(\ell + 1)f^{(\ell)} + \dots$  a dostali jsme se tedy blízko k úplnému důkazu následující:

**Věta.** Každá homogenní lineární diferenciální rovnice řádu  $k$  nad libovolným číselným oborem  $\mathbb{K}$  obsaženým v komplexních číslech  $\mathbb{K}$  má za množinu všech řešení  $k$ -rozměrný vektorový prostor generovaný posloupnostmi  $x_n = n^\ell \lambda^n$ , kde  $\lambda$  jsou (komplexní) kořeny charakteristického polynomu a mocniny  $\ell$  probíhají všechna přirozená čísla od nuly až do násobnosti příslušného kořenu  $\lambda$ .

DŮKAZ. Výše použité vztahy násobnosti kořenů a derivací uvidíme později, a nebudeme tu dokazovat tvrzení, že každý komplexní polynom má právě tolik kořenů, včetně násobnosti, jaký má stupeň. Zbývá tedy ještě dokázat, že nalezená  $k$ -tice řešení je lineárně nezávislá. I v tomto případě lze induktivně dokázat nenulovost příslušného determinantu, jako jsme zmiňovali u toho Vandermondova výše.  $\square$

3.12

**3.10. Reálné báze řešení reálných diferenčních rovnic.** Pro rovnice s reálnými koeficienty povedou reálné počáteční podmínky vždy na reálná řešení. Přesto ale budou příslušná fundamentální řešení z právě odvozené věty často existovat pouze v oboru komplexním.

Zkusme proto najít jiné generátory, se kterými se nám bude pracovat lépe. Potože jsou koeficienty charakteristického polynomu reálné, každý jeho kořen bude buď také reálný nebo musí kořeny vystupovat po dvou komplexně združených.

Jestliže si řešení popíšeme v goniometrickém tvaru jako

$$\begin{aligned}\lambda^n &= |\lambda|^n (\cos n\phi + i \sin n\phi) \\ \bar{\lambda}^n &= |\lambda|^n (\cos n\phi - i \sin n\phi),\end{aligned}$$

okamžitě je vidět, že jejich součtem a rozdílem dostáváme jiná dvě lineárně nezávislá řešení

$$x_n = |\lambda|^n \cos n\phi, \quad y_n = |\lambda|^n \sin n\phi.$$

Diferenční rovnice se velmi často vyskytují jako model dynamiky nějakého systému. Pěkným tématem na přemýšlení je proto souvislost absolutních hodnot jednotlivých kořenů a stabilizace řešení, buď všech nebo v závislosti na počátečních podmínkách. Nepůjdeme zde do podrobností, protože teprve v páté kapitole budeme probírat pojem konvergence hodnot k nějaké hodnotě limitní apod., jistě je tu ale prostor pro zajímavé numerické experimenty např. s oscilacemi vhodných populačních nebo ekonomických modelů.

3.13

**3.11. Nehomogenní lineární diferenciální rovnice.** Stejně jako u systémů lineárních rovnic můžeme dostat všechna řešení *nehomogenních lineárních diferenciálních rovnic*

$$a_0(n)x_n + a_1(n)x_{n-1} + \dots + a_k(n)x_{n-k} = b(n),$$

kde koeficienty  $a_i$  a  $b$  jsou skaláry, které mohou záviset na  $n$ , a  $a_0(n) \neq 0$ ,  $a_k(n) \neq 0$ .

**3.7.** Řešte následující diferenciální rovnici:

$$x_{n+4} = x_{n+3} - x_{n+2} + x_{n+1} - x_n.$$

**Řešení.** Z teorie víme, že prostor řešení této diferenciální rovnice bude čtyřdimenzionální vektorový prostor, jehož generátory zjistíme z kořenů charakteristického polynomu dané rovnice. Charakteristická rovnice je

$$x^4 - x^3 + x^2 - x + 1 = 0.$$

Jedná se o reciprokou rovnici (to znamená, že koeficienty u  $(n-k)$ -té a  $k$ -té mocniny  $x$ ,  $k = 1, \dots, n$ , jsou shodné). Zavedeme tedy substituci  $u = x + \frac{1}{x}$ . Po vydělení rovnice  $x^2$  (nula nemůže být kořenem) a substituci (všimněte si, že  $x^2 + \frac{1}{x^2} = u^2 - 2$ ) dostáváme

$$x^2 - x + 1 - \frac{1}{x} + \frac{1}{x^2} = u^2 - u - 1 = 0.$$

Dostáváme tedy neznámé  $u_{1,2} = \frac{1 \pm \sqrt{5}}{2}$ . Odtud pak z rovnice  $x^2 - ux + 1 = 0$  určíme čtyři kořeny

$$x_{1,2,3,4} = \frac{1 \pm \sqrt{5} \pm \sqrt{-10 \pm 2\sqrt{5}}}{4}.$$

Nyní si všimněme, že kořeny charakteristické rovnice jsme mohli „uhodnout“ rovnou. Je totiž

$$x^5 + 1 = (x + 1)(x^4 - x^3 + x^2 - x + 1),$$

a tedy jsou kořeny polynomu  $x^4 - x^3 + x^2 - x + 1$  i kořeny polynomu  $x^5 + 1$ , což jsou páté odmocniny  $z - 1$ . Takto dostáváme, že řešením charakteristického polynomu jsou čísla  $x_{1,2} = \cos(\frac{\pi}{5}) \pm i \sin(\frac{\pi}{5})$  a  $x_{3,4} = \cos(\frac{3\pi}{5}) \pm i \sin(\frac{3\pi}{5})$ . Tedy reálnou bází prostoru řešení dané diferenciální rovnice je například báze posloupností  $\cos(\frac{n\pi}{5})$ ,  $\sin(\frac{n\pi}{5})$ ,  $\cos(\frac{3n\pi}{5})$  a  $\sin(\frac{3n\pi}{5})$ , což jsou siny a kosiny argumentů příslušných mocnin kořenů charakteristického polynomu.

Všimněme si, že jsme mimochodem odvodili algebraické výrazy pro  $\cos(\frac{\pi}{5}) = \frac{1+\sqrt{5}}{4}$ ,  $\sin(\frac{\pi}{5}) = \frac{\sqrt{10-2\sqrt{5}}}{4}$ ,  $\cos(\frac{3\pi}{5}) = \frac{\sqrt{5}-1}{4}$  a  $\sin(\frac{3\pi}{5}) = \frac{\sqrt{10+2\sqrt{5}}}{4}$  (vzhledem k tomu, že všechny kořeny rovnice mají absolutní hodnotu 1, tak jsou to reálné, resp. imaginární, části příslušných kořenů).  $\square$

**3.8.** Určete explicitní vyjádření posloupnosti vyhovující diferenciální rovnici  $x_{n+2} = 2x_{n+1} - 2x_n$  se členy  $x_1 = 2$ ,  $x_2 = 2$ .

**Řešení.** Kořeny charakteristického polynomu  $x^2 - 2x + 2$  jsou  $1 + i$  a  $1 - i$ . Báze (komplexního) vektorového prostoru řešení je tedy tvořena posloupnostmi  $y_n = (1 + i)^n$  a  $z_n = (1 - i)^n$ . Hledanou posloupnost můžeme vyjádřit jako lineární kombinaci těchto posloupností (s komplexními koeficienty). Je tedy  $x_n = a \cdot y_n + b \cdot z_n$ , kde  $a = a_1 + ia_2$ ,

$b = b_1 + ib_2$ . Z rekurentního vztahu dopočteme  $x_0 = \frac{1}{2}(2x_1 - x_2) = 0$  a dosazením  $n = 0$  a  $n = 1$  do uvažovaného vyjádření  $x_n$  dostáváme

$$\begin{aligned} 1 = x_0 &= a_1 + ia_2 + b_1 + ib_2 \\ 2 = x_1 &= (a_1 + ia_2)(1 + i) + (b_1 + ib_2)(1 - i), \end{aligned}$$

a porovnáním reálné a komplexní složky obou rovnic dostáváme lineární soustavu čtyř rovnic o čtyřech neznámých

$$\begin{aligned} a_1 + b_1 &= 1 \\ a_2 + b_2 &= 0 \\ a_1 - a_2 + b_1 + b_2 &= 2 \\ a_1 + a_2 - b_1 + b_2 &= 0 \end{aligned}$$

s řešením  $a_1 = b_1 = b_2 = \frac{1}{2}$  a  $a_2 = -1/2$ . Celkem můžeme hledanou posloupnost vyjádřit jako

$$x_n = \left(\frac{1}{2} - \frac{1}{2}i\right)(1 + i)^n + \left(\frac{1}{2} + \frac{1}{2}i\right)(1 - i)^n.$$

Posloupnost můžeme však vyjádřit i pomocí reálné báze (komplexního) vektorového prostoru řešení, totiž posloupností  $u_n = \frac{1}{2}(y_n + z_n) = (\sqrt{2})^n \cos(\frac{n\pi}{4})$  a  $v_n = \frac{1}{2}i(z_n - y_n) = (\sqrt{2})^n \sin(\frac{n\pi}{4})$ . Matice přechodu od komplexní báze k reálné je

$$T := \begin{pmatrix} \frac{1}{2} & -\frac{1}{2}i \\ \frac{1}{2} & \frac{1}{2}i \end{pmatrix}, \quad \boxed{3.14}$$

inverzní matice je  $T^{-1} = \begin{pmatrix} 1 & 1 \\ i & -i \end{pmatrix}$ , pro vyjádření posloupnosti  $x_n$  pomocí reálné báze, tj. souřadnice  $(c, d)$  posloupnosti  $x_n$  v bázi  $\{u_n, v_n\}$ , pak máme

$$\begin{pmatrix} c \\ d \end{pmatrix} = T^{-1} \begin{pmatrix} a \\ b \end{pmatrix} = \begin{pmatrix} 1 \\ 1 \end{pmatrix},$$

máme tedy alternativní vyjádření posloupnosti  $x_n$ , ve kterém se nevykytují komplexní čísla (ale zase jsou v něm odmocniny):

$$x_n = (\sqrt{2})^n \cos\left(\frac{n\pi}{4}\right) + (\sqrt{2})^n \sin\left(\frac{n\pi}{4}\right),$$

které jsme samozřejmě mohli získat též řešením dvou lineárních rovnic o dvou neznámých  $c, d$ , totiž  $1 = x_0 = c \cdot u_0 + d \cdot v_0 = c$  a  $2 = x_1 = c \cdot u_1 + d \cdot v_1 = c + d$ .  $\square$

**3.9.** Určete explicitní vyjádření posloupnosti vyhovující diferenční rovnici  $x_{n+2} = 3x_{n+1} + 3x_n$  se členy  $x_1 = 1$  a  $x_2 = 3$ .

**3.10.** Určete explicitní vzorec pro  $n$ -tý člen jediné posloupnosti  $\{x_n\}_{n=1}^{\infty}$  vyhovující následujícím podmínkám:

$$x_{n+2} = x_{n+1} - x_n, \quad x_1 = 1, \quad x_2 = 5.$$

Postupujeme tak, že najdeme jedno řešení a přičteme celý vektorový prostor dimenze  $k$  řešení odpovídajících systémů homogenních. Skutečně takto dostáváme řešení a protože je rozdíl dvou řešení nehomogenní rovnice zjevně řešením homogenní, dostáváme takto řešení všechna.

U systémů lineárních rovnic se mohlo stát, že nemusel vůbec mít řešení. To u našich diferenčních rovnic možné není. Zato ale bývá nesnadné nalézt to jedno potřebné partikulární řešení nehomogenního systému, pokud je chování skalárních koeficientů v rovnici složité.

Omezíme se tu na jediný případ, kdy příslušný homogenní systém má koeficienty konstantní a  $b(n)$  je polynom stupně  $s$ . Řešení pak lze hledat ve tvaru polynomu

$$x_n = \alpha_0 + \alpha_1 n + \dots + \alpha_s n^s$$

s neznámými koeficienty  $\alpha_i, i = 1, \dots, s$ . Dosazením do diferenční rovnice a porovnáním koeficientů u jednotlivých mocnin  $n$  dostaneme systém  $s + 1$  rovnic pro  $s + 1$  proměnných  $\alpha_i$ . Pokud má tento systém řešení, našli jsme řešení našeho původního problému. Pokud řešení nemá, může stačit zvětšit stupeň  $s$  hledaného polynomu.

Např. rovnice  $x_n - x_{n-2} = 2$  nemůže mít konstantní řešení, ale dosazením  $x_n = \alpha_0 + \alpha_1 n$  dostáváme řešení  $\alpha_1 = 1$  (a koeficient  $\alpha_0$  může být libovolný) a proto je obecné řešení naší rovnice

$$x_n = C_1 + C_2(-1)^n + n.$$

Všimněme si, že skutečně matice příslušného systému rovnic pro polynom nižšího stupně nula je nulová a rovnice  $0 \cdot \alpha_0 = 2$  nemá řešení.

doplnit pořádněji  
diskusi řešitelnosti  
pomocí variace  
konstant ...

**3.12. Lineární filtry.** Uvažujme nyní nekonečné posloupnosti

$$x = (\dots, x_{-n}, x_{-n+1}, \dots, x_{-1}, x_0, x_1, \dots, x_n, \dots)$$

a budeme, podobně jako u systémů lineárních rovnic, pracovat s operací  $T$ , která zobrazí celou posloupnost  $x$  na posloupnost  $z = Tx$  se členy

$$z_n = a_0 x_n + a_1 x_{n-1} + \dots + a_k x_{n-k}.$$

S posloupnostmi  $x$  můžeme opět pracovat jako s vektory vzhledem ke sčítání i násobení skaláry po složkách. Pouze bude tento velký vektorový prostor nekonečněrozměrný. Naše zobrazení  $T$  je zjevně lineárním zobrazením na takovém vektorovém prostoru.

Posloupnosti si představme jako diskrétní hodnoty nějakého signálu, odečítané zpravidla ve velmi krátkých časových jednotkách, operace  $T$  pak může být filtrem, který signál zpracovává. Bude nás zajímat, jak odhadnout vlastnosti, které takový „filtr“ bude mít.

Signály jsou velice často ze své podstaty dány součtem několika částí, které jsou samy o sobě víceméně periodické. Z naší definice je ale zřejmé, že periodické posloupnosti  $x_n$ , tj. posloupnosti splňující pro nějaké pevné přirozené číslo  $p$

$$x_{n+p} = x_n$$



budou mít i periodické obrazy  $z = Tx$

$$\begin{aligned} z_{n+p} &= a_0x_{n+p} + a_1x_{n-1+p} + \dots + a_kx_{n-k+p} \\ &= a_0x_n + a_1x_{n-1} + \dots + a_kx_{n-k} = z_n \end{aligned}$$

se stejnou periodou  $p$ .

Pro pevně zvolenou operaci  $T$  nás bude zajímat, které vstupní periodické posloupnosti zůstanou přibližně stejné (případně až na násobek) a které budou utlumeny na nulové hodnoty.

V druhém případě tedy hledáme jádro našeho lineárního zobrazení  $T$ . To je ale dáno právě homogenní diferencní rovnicí

$$a_0x_n + a_1x_{n-1} + \dots + a_kx_{n-k} = 0, \quad a_0 \neq 0 \quad a_k \neq 0,$$

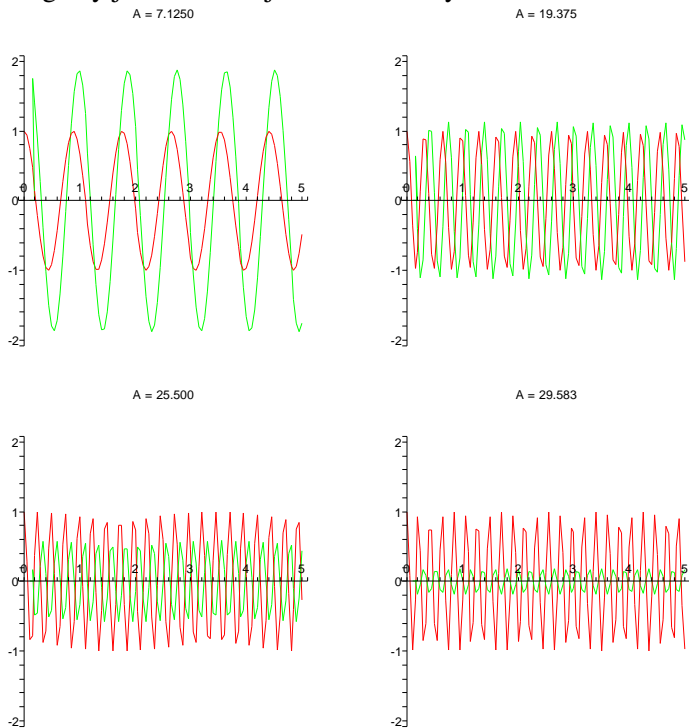
kteřou jsme se naučili řešit.

3.15

**3.13. Špatný equalizer.** Jako příklad uvažujme velmi jednoduchý lineární filtr zadaný rovnicí

$$z_n = (Tx)_n = x_{n+2} + x_n.$$

Výsledky takového zpracování signálu jsou naznačeny na následujících čtyřech obrázcích pro postupně se zvyšující frekvenci periodického signálu  $x_n = \cos(\varphi n)$ . Červený je původní signál, zelený je výsledek po zpracování filtrem. Nerovnoměrnosti křivek jsou důsledkem nepřesného kreslení, oba signály jsou samozřejmě rovnoměrnými sinusovkami.



Všimněme si, že v oblastech, kde je výsledný signál přibližně stejně silný jako původní, dochází k dramatickému posuvu fáze signálu. Levné equalizery skutečně podobně špatně fungují.

doplnit podrobný výpočet pomocí uvedených nástrojů

3.11. Určete explicitní vzorec pro  $n$ -tý člen jediné posloupnosti  $\{x_n\}_{n=1}^{\infty}$  vyhovující následujícím podmínkám:

$$-x_{n+3} = 2x_{n+2} + 2x_{n+1} + x_n, \quad x_1 = 1, \quad x_2 = 1, \quad x_3 = 1.$$

3.12. Určete explicitní vzorec pro  $n$ -tý člen jediné posloupnosti  $\{x_n\}_{n=1}^{\infty}$  vyhovující následujícím podmínkám:

$$-x_{n+3} = 3x_{n+2} + 3x_{n+1} + x_n, \quad x_1 = 1, \quad x_2 = 1, \quad x_3 = 1.$$

## B. Populační modely

Populační modely, kterými se budeme zabývat, budou rekurentní vztahy ve vektorových prostorech. Neznámou veličinou tedy nebude posloupnost čísel nýbrž posloupnost vektorů. Roli koeficientů pak budou hrát matice. Začneme s jednoduchým (dvourozměrným) příkladem.

**3.13. Spoření.** S kamarádem spoříme na společnou dovolenou následujícím způsobem. Na začátku dám 10 EUR a on 20 EUR. Každý další měsíc pak dá každý z nás tolik, co minulý měsíc plus polovinu toho, co dal ten druhý z nás předchozí měsíc. Kolik budeme mít za rok dohromady naspořeno? Kolik peněz budu platit dvanáctý měsíc?

**Řešení.** Obnos peněz, který budu platit  $n$ -tý měsíc já označím  $x_n$  a to, co bude platit kamarád označím  $y_n$ . První měsíc tedy dáme  $x_1 = 10, y_1 = 20$ . Pro další platby můžeme psát rekurentní rovnice:

$$\begin{aligned} x_{n+1} &= x_n + \frac{1}{2}y_n \\ y_{n+1} &= y_n + \frac{1}{2}x_n \end{aligned}$$

Pokud označíme společný vklad  $z_n = x_n + y_n$ , pak sečtením uvedených rovnic dostaneme vztah  $z_{n+1} = z_n + \frac{1}{2}z_n = \frac{3}{2}z_n$ . To je geometrická řada a dostáváme tedy  $z_n = 3 \cdot (\frac{3}{2})^{n-1}$ . Za rok budeme mít celkem naspořeno  $z_1 + z_2 + \dots + z_{12}$ . Tento částečný součet umíme lehce spočítat

$$3\left(1 + \frac{3}{2} + \dots + \left(\frac{3}{2}\right)^{11}\right) = 3 \frac{\left(\frac{3}{2}\right)^{12} - 1}{\frac{3}{2} - 1} \doteq 772,5.$$

Za rok tedy dohromady naspoříme přes 772 euro.

Rekurentní soustavu rovnic popisující systém spoření můžeme napsat pomocí matice následovně

$$\begin{pmatrix} x_{n+1} \\ y_{n+1} \end{pmatrix} = \begin{pmatrix} 1 & \frac{1}{2} \\ \frac{1}{2} & 1 \end{pmatrix} \begin{pmatrix} x_n \\ y_n \end{pmatrix}$$

Jde tedy opět o geometrickou řadu. Jejími prvky jsou teď ovšem vektory a kvocient není skalár, ale matice. Řešení lze nicméně najít obdobně

$$\begin{pmatrix} x_n \\ y_n \end{pmatrix} = \begin{pmatrix} 1 & \frac{1}{2} \\ \frac{1}{2} & 1 \end{pmatrix}^{n-1} \begin{pmatrix} x_1 \\ y_1 \end{pmatrix}$$

Mocninu matice působící na vektor  $(x_1, y_1)$  můžeme nalézt, když vyjádříme tento vektor v bázi vlastních vektorů. Charakteristický polynom matice je  $(1 - \lambda)^2 - \frac{1}{4} = 0$  a vlastní čísla jsou tedy  $\lambda_{1,2} = \frac{3}{2}, \frac{1}{2}$ . Příslušné vlastní vektory jsou po řadě  $(1, 1)$  a  $(1, -1)$ . Pro počáteční vektor  $(x_1, y_1) = (1, 2)$  spočítáme

$$\begin{pmatrix} 1 \\ 2 \end{pmatrix} = \frac{3}{2} \begin{pmatrix} 1 \\ 1 \end{pmatrix} - \frac{1}{2} \begin{pmatrix} 1 \\ -1 \end{pmatrix}$$

a proto

$$\begin{pmatrix} x_n \\ y_n \end{pmatrix} = \frac{3}{2} \left(\frac{3}{2}\right)^{n-1} \begin{pmatrix} 1 \\ 1 \end{pmatrix} - \frac{1}{2} \left(\frac{1}{2}\right)^{n-1} \begin{pmatrix} 1 \\ -1 \end{pmatrix}$$

To znamená, že já zaplatím 12. měsíc

$$x_{12} = \left(\frac{3}{2}\right)^{12} - \left(\frac{1}{2}\right)^{12} \doteq 130$$

eur a můj kamarád v podstatě stejně.  $\square$

**Poznámka.** Předchozí příklad lze řešit i bez matice následujícím přepsáním rekurenční rovnice:  $x_n = x_n + \frac{1}{2}y_n = \frac{1}{2}x_n + \frac{1}{2}z_n$ .

Předcházející příklad byl vlastně modelem růstu (v daném případě růstu množství naspořených peněz). Nyní přejdeme k modelům růstu popisujícím primárně růst nějaké populace. Leslieho model růstu, který jsme detailně rozebrali v teorii, velmi dobře popisuje nejen populace ovcí (podle kterých byl sestaven), ale uplatňuje se například i při modelování následujících populací:

**3.14. Zajáci podruhé.** Ukažme si, jak můžeme Leslieho modelem popsat populaci zajíců na louce, kterou jsme se zaobírali v příkladu (3.1). Uvažujme, že zajáci umírají po dovršení devátého měsíce věku (v původním modelu byl věk zajíců neomezen). Označme počty zajíců (resp. zaječíc) podle stáří v měsících v čase  $t$  (měsíců) jako  $x_1(t), x_2(t), \dots, x_9(t)$ , tak počty zajíců v jednotlivých věkových skupinách budou po jednom měsíci  $x_1(t+1) = x_2(t) + x_3(t) + \dots + x_9(t)$ ,  $x_i(t+1) = x_{i-1}(t)$ , pro  $i = 2, 3, \dots, 10$ , neboli

$$\begin{pmatrix} x_1(t+1) \\ x_2(t+1) \\ x_3(t+1) \\ x_4(t+1) \\ x_5(t+1) \\ x_6(t+1) \\ x_7(t+1) \\ x_8(t+1) \\ x_9(t+1) \end{pmatrix} = \begin{pmatrix} 0 & 1 & 1 & 1 & 1 & 1 & 1 & 1 & 1 \\ 1 & 0 & 0 & 0 & 0 & 0 & 0 & 0 & 0 \\ 0 & 1 & 0 & 0 & 0 & 0 & 0 & 0 & 0 \\ 0 & 0 & 1 & 0 & 0 & 0 & 0 & 0 & 0 \\ 0 & 0 & 0 & 1 & 0 & 0 & 0 & 0 & 0 \\ 0 & 0 & 0 & 0 & 1 & 0 & 0 & 0 & 0 \\ 0 & 0 & 0 & 0 & 0 & 1 & 0 & 0 & 0 \\ 0 & 0 & 0 & 0 & 0 & 0 & 1 & 0 & 0 \\ 0 & 0 & 0 & 0 & 0 & 0 & 0 & 1 & 0 \end{pmatrix} \begin{pmatrix} x_1(t) \\ x_2(t) \\ x_3(t) \\ x_4(t) \\ x_5(t) \\ x_6(t) \\ x_7(t) \\ x_8(t) \\ x_9(t) \end{pmatrix}.$$

Charakteristický polynom uvedené matice je  $\lambda^9 - \lambda^7 - \lambda^6 - \lambda^5 - \lambda^4 - \lambda^3 - \lambda^2 - \lambda - 1$ . Kořeny této rovnice nejsme schopni explicitně vyjádřit, jeden z nich však velmi dobře odhadnout,  $\lambda_1 \doteq 1, 608$  (proč musí být menší než  $(\sqrt{5} + 1)/2$ ?). Populace bude tedy podle tohoto modelu růst přibližně s geometrickou řadou  $1, 608^t$ .

### 3. Iterované lineární procesy

**3.14. Iterované procesy.** V praktických modelech se často setkáváme se situací, kdy je vývoj systému v jednom časovém období dán lineárním procesem, zajímáme se ale o chování systému po mnoha iteracích. Často přitom samotný lineární proces zůstává pořád stejný, z pohledu našeho matematického modelu tedy nejde o nic jiného než opakované násobení stavového vektoru stále stejnou maticí.

Zatímco pro řešení systémů lineárních rovnic jsme potřebovali jen minimum znalostí o vlastnostech lineárních zobrazení, k pochopení chování iterovaného systému budeme účelně používat znalosti vlastních čísel, vlastností vlastních vektorů a další strukturní výsledky.

V jistém smyslu se pohybujeme v podobném prostředí jako u lineárních rekurencí a skutečně můžeme náš popis filtrů v minulých odstavcích takto také popsat. Představme si, že pracujeme se zvukem a uchováváme si stavový vektor

$$Y_n = (x_n, \dots, x_{n-k+1})$$

všech hodnot od aktuální až po poslední, kterou ještě v našem lineárním filtru zpracováváme. V jednom (ve vzorkovací frekvenci audio signálu mimořádně krátkém) časovém intervalu pak přejdeme ke stavovému vektoru

$$Y_{n+1} = (x_{n+1}, x_n, \dots, x_{n-k+2}),$$

kde první hodnota  $x_{n+1} = a_1x_n + \dots + a_kx_{n-k+1}$  je spočtena jako u homogenních diferenčních rovnic, ostatní si jen posunujeme o jednu pozici a poslední zapomeneme. Příslušná čtvercová matice řádu  $k$ , splňující  $Y_{n+1} = A \cdot Y_n$ , bude vypadat takto:

$$A = \begin{pmatrix} a_1 & a_2 & \dots & a_{k-1} & a_k \\ 1 & 0 & \dots & 0 & 0 \\ 0 & 1 & \dots & 0 & 0 \\ \vdots & \vdots & & \ddots & \vdots \\ 0 & 0 & \dots & 1 & 0 \end{pmatrix}$$

Pro takovou jednoduchou matici jsme si odvodili explicitní postup pro úplné řešení otázky, jak vypadá formule pro řešení. Obecně to tak snadno nepůjde ani pro velice podobné systémy. Jedním z typických případů je studium dynamiky populací v různých biologických systémech.

Všimněme si také, že vcelku pochopitelně má matice  $A$  za charakteristický polynom právě  $p(\lambda) = \lambda^k - a_1\lambda^{k-1} - \dots - a_k$  (snadno dovodíme pomocí rozvoje podle posledního sloupce a rekurencí). To je snadno vysvětlitelné přímo, protože řešení  $x_n = \lambda^n$ ,  $\lambda \neq 0$  vlastně nyní znamená, že matice  $A$  vynásobením převede vlastní vektor  $(\lambda^k, \dots, \lambda)^T$  na jeho  $\lambda$ -násobek. Musí být tedy  $\lambda$  vlastním číslem matice  $A$ .

**3.15. Model růstu populací.** Představme si, že zkoumáme nějaký systém jednotlivců (pěstovaná zvířata, hmyz, buněčné kultury apod.) rozdělený do  $m$  skupin (třeba podle stáří, fází

vývoje hmyzu apod.). Stav  $X_n$  je tedy dán vektorem

$$X_n = (u_1, \dots, u_m)^T$$

závislejícím na okamžiku  $t_n$ , ve kterém systém pozorujeme. Lineární model vývoje takového systému je dán maticí  $A$  dimenze  $n$ , která zadává změnu vektoru  $X_n$  na

$$X_{n+1} = A \cdot X_n$$

při přírůstku času z  $t_k$  na  $t_{k+1}$ .

Uvažujme jako příklad tzv. *Leslieho model růstu*, ve kterém vystupuje matice

$$A = \begin{pmatrix} f_1 & f_2 & f_3 & \dots & f_{m-1} & f_m \\ \tau_1 & 0 & 0 & \dots & 0 & 0 \\ 0 & \tau_2 & 0 & \dots & 0 & 0 \\ 0 & 0 & \tau_3 & \ddots & 0 & 0 \\ \vdots & & & \ddots & \ddots & \vdots \\ 0 & 0 & 0 & \dots & \tau_{m-1} & 0 \end{pmatrix},$$

jejíž parametry jsou svázány s vývojem populace rozdělené do  $m$  věkových skupin tak, že  $f_i$  označuje relativní plodnost příslušné věkové skupiny (ve sledovaném časovém skoku vznikne z  $N$  jedinců v  $i$ -té skupině  $f_i N$  jedinců nových, tj. ve skupině první), zatímco  $\tau_i$  je relativní úmrtnost  $i$ -té skupiny během jednoho období. Pochopitelně lze použít takový model s libovolným počtem věkových skupin.

Všechny koeficienty jsou tedy nezáporná reálná čísla a čísla  $\tau$  jsou mezi nulou a jedničkou (a pokud jsou všechna rovna jedné, jde vlastně o lineární rekurenci s konstantními koeficienty). Než se pustíme do obecnější teorie, trochu si pohrajeme s tímto konkrétním modelem.

Přímým výpočtem pomocí Laplaceova rozvoje podle posledního sloupce spočteme charakteristický polynom  $p_m(\lambda)$  matice  $A$  pro model s  $m$  skupinami:

$$p_m(\lambda) = \det(A - \lambda E) = -\lambda p_{m-1}(\lambda) + (-1)^{m-1} f_m \tau_1 \dots \tau_{m-1}.$$

Vcelku snadno dovedíme indukci, že tento charakteristický polynom má tvar

$$p_m(\lambda) = (-1)^m (\lambda^m - a_1 \lambda^{m-1} - \dots - a_{m-1} \lambda - a_m)$$

s vesměs nezápornými koeficienty  $a_1, \dots, a_m$ , pokud jsou všechny parametry  $\tau_i$  a  $f_i$  kladné. Např. je vždy  $a_m = f_m \tau_1 \dots \tau_{m-1}$ .

Zkusme kvalitativně odhadnout rozložení kořenů polynomu  $p_m$ , detaily budeme umět přesně vysvětlit a ověřit až po absolvování příslušných partií tzv. matematické analýzy v kapitole páté a později. Vyjádříme si

$$p_m(\lambda) = \pm \lambda^m (1 - q(\lambda))$$

kde  $q(\lambda) = a_1 \lambda^{-1} + \dots + a_m \lambda^{-m}$  je ostře klesající a nezáporná funkce pro  $\lambda > 0$ . Evidentně bude proto existovat právě jedno kladné  $\lambda$ , pro které bude  $q(\lambda) = 1$  a tedy také  $p_m(\lambda) = 0$ . Jinými slovy, pro každou Leslieho matici existuje právě jedno kladné reálné vlastní číslo.

Pro skutečné Leslieho modely populací bývají všechny koeficienty  $\tau_i$  i  $f_j$  mezi nulou a jedničkou a typicky nastává

**3.15. Jezírko.** Mějme jednoduchý model jezírka, ve kterém žije populace bílé ryby (plotice, ouklej, podoustev, ostroretka atd.). Předpokládáme, že druhého roku se dožije 20 % rybího plůdku a od tohoto stáří už jsou ryby schopny se reprodukovat. Z mladých ryb přežije z druhého do třetího roku přibližně 60 % a v dalších letech je už úmrtnost zanedbatelná. Dále předpokládáme, že roční přírůstek nových plůdků je třikrát větší než počet ryb (schopných reprodukce).

Tato populace by evidentně jezírko brzy přeplnila. Rovnováhu chceme dosáhnout nasazením dravé ryby, např. štiky. Předpokládejme, že jedna štika sní ročně asi 500 dospělých bílých ryb. Kolik štik pak musíme do jezírka nasadit, aby populace stagnovala?

**Řešení.** Pokud označíme  $p$  počet plůdku,  $m$  počet mladých ryb a  $r$  počet dospělých ryb, pak je stav populace v dalším roce popsán následovně:

$$\begin{pmatrix} p \\ m \\ r \end{pmatrix} \mapsto \begin{pmatrix} 3m + 3r \\ 0, 2p \\ 0, 6m + \tau r \end{pmatrix},$$

kde  $1 - \tau$  je relativní úmrtnost dospělé ryby způsobená štikou. Příslušná matice popisující tento model je tedy

$$\begin{pmatrix} 0 & 3 & 3 \\ 0, 2 & 0 & 0 \\ 0 & 0, 6 & \tau \end{pmatrix}$$

Pokud má populace stagnovat, pak musí mít tato matice vlastní hodnotu 1. Jinými slovy, jednička musí být kořenem charakteristického polynomu této matice. Ten je tvaru  $\lambda^2(\tau - \lambda) + 0, 36 - 0, 6(\tau - \lambda) = 0$ .

To znamená, že  $\tau$  musí splňovat

$$\begin{aligned} \tau - 1 + 0, 36 - 0, 6(\tau - 1) &= 0 \\ 0, 4\tau - 0, 04 &= 0 \end{aligned}$$

Do dalšího roku tedy může přežít jen 10 % z dospělých ryb a zbytek by měla sníst štika. Označíme-li hledaný počet štik  $x$ , pak dohromady sní  $500x$  ryb, což by mělo odpovídat podle předchozího výpočtu  $0, 9r$ . Poměr počtu bílé ryby ku počtu štik by tedy měl být  $\frac{r}{x} = \frac{500}{0,9}$ . To je přibližně jedna štika na 556 kusů bílé ryby.  $\square$

Obecněji můžeme zpracovat předcházející model takto:

**3.16.** Nechť je v populačním modelu dravec-kořist určen vztah mezi počtem dravců  $D_k$  a kořisti  $K_k$  v daném a následujícím měsíci ( $k \in \mathbb{N} \cup \{0\}$ ) lineárním systémem

(a)

$$\begin{aligned} D_{k+1} &= 0, 6 D_k + 0, 5 K_k, \\ K_{k+1} &= -0, 16 D_k + 1, 2 K_k; \end{aligned}$$

(b)

$$\begin{aligned} D_{k+1} &= 0, 6 D_k + 0, 5 K_k, \\ K_{k+1} &= -0, 175 D_k + 1, 2 K_k; \end{aligned}$$

(c)

$$\begin{aligned} D_{k+1} &= 0,6 D_k + 0,5 K_k, \\ K_{k+1} &= -0,135 D_k + 1,2 K_k. \end{aligned}$$

Analyzujte chování tohoto modelu po velmi dlouhé době.

**Řešení.** Všimněme si, že jednotlivé varianty se od sebe navzájem liší pouze v hodnotě koeficientu u  $D_k$  ve druhé rovnici. Můžeme proto všechny tři případy vyjádřit jako

$$\begin{pmatrix} D_k \\ K_k \end{pmatrix} = \begin{pmatrix} 0,6 & 0,5 \\ -a & 1,2 \end{pmatrix} \cdot \begin{pmatrix} D_{k-1} \\ K_{k-1} \end{pmatrix}, \quad k \in \mathbb{N},$$

kde budeme postupně klást  $a = 0,16$ ,  $a = 0,175$ ,  $a = 0,135$ . Hodnota koeficientu  $a$  zde reprezentuje průměrný počet kusů kořisti zahušených jedním (očividně „nenáročným“) dravcem za měsíc. Při označení

$$T = \begin{pmatrix} 0,6 & 0,5 \\ -a & 1,2 \end{pmatrix}$$

bezprostředně dostáváme

$$\begin{pmatrix} D_k \\ K_k \end{pmatrix} = T^k \cdot \begin{pmatrix} D_0 \\ K_0 \end{pmatrix}, \quad k \in \mathbb{N}.$$

Pomocí mocnin matice  $T$  tak můžeme určit vývoj populací dravce a kořisti po velmi dlouhé době.

Snadno stanovíme vlastní čísla

- (a)  $\lambda_1 = 1, \quad \lambda_2 = 0,8$ ;  
 (b)  $\lambda_1 = 0,95, \quad \lambda_2 = 0,85$ ;  
 (c)  $\lambda_1 = 1,05, \quad \lambda_2 = 0,75$

matice  $T$  a jim (při zachování pořadí) příslušné vlastní vektory

- (a)  $(5, 4)^T, \quad (5, 2)^T$ ;  
 (b)  $(10, 7)^T, \quad (2, 1)^T$ ;  
 (c)  $(10, 9)^T, \quad (10, 3)^T$ .

Pro  $k \in \mathbb{N}$  tudíž platí

(a)

$$T^k = \begin{pmatrix} 5 & 5 \\ 4 & 2 \end{pmatrix} \cdot \begin{pmatrix} 1 & 0 \\ 0 & 0,8 \end{pmatrix}^k \cdot \begin{pmatrix} 5 & 5 \\ 4 & 2 \end{pmatrix}^{-1};$$

(b)

$$T^k = \begin{pmatrix} 10 & 2 \\ 7 & 1 \end{pmatrix} \cdot \begin{pmatrix} 0,95 & 0 \\ 0 & 0,85 \end{pmatrix}^k \cdot \begin{pmatrix} 10 & 2 \\ 7 & 1 \end{pmatrix}^{-1};$$

(c)

$$T^k = \begin{pmatrix} 10 & 10 \\ 9 & 3 \end{pmatrix} \cdot \begin{pmatrix} 1,05 & 0 \\ 0 & 0,75 \end{pmatrix}^k \cdot \begin{pmatrix} 10 & 10 \\ 9 & 3 \end{pmatrix}^{-1}.$$

Odtud dále pro velká  $k \in \mathbb{N}$  plyne

situace, kdy jediné reálné vlastní číslo  $\lambda_1$  je větší nebo rovno jedné, zatímco absolutní hodnoty ostatních vlastních čísel jsou ostře menší než jedna.

Jestliže začneme s libovolným stavovým vektorem  $X$ , který bude dán jako součet vlastních vektorů

$$X = X_1 + \dots + X_m$$

s vlastními hodnotami  $\lambda_i$ , pak při iteracích dostáváme

$$A^k \cdot X = \lambda_1^k X_1 + \dots + \lambda_m^k X_m,$$

takže za předpokladu, že  $|\lambda_i| < 1$  pro všechna  $i \geq 2$ , budou všechny komponenty ve vlastních podprostorech velmi rychle mizet, kromě komponenty  $\lambda_1 X_1^k$ . Rozložení populace do věkových skupin se tak budou rychle blížit poměrům komponent vlastního vektoru k dominantnímu vlastnímu číslu  $\lambda_1$ .

Například pro matici (uvědomme si význam jednotlivých koeficientů, jsou převzaty z modelu pro chov ovcí, tj. hodnoty  $\tau$  zahrnují jak přirozený úhyn tak případné aktivity chovatelů na jatkách)

$$A = \begin{pmatrix} 0 & 0,2 & 0,8 & 0,6 & 0 \\ 0,95 & 0 & 0 & 0 & 0 \\ 0 & 0,8 & 0 & 0 & 0 \\ 0 & 0 & 0,7 & 0 & 0 \\ 0 & 0 & 0 & 0,6 & 0 \end{pmatrix}$$

vyjdou vlastní hodnoty přibližně

$$1,03, 0, -0,5, -0,27 + 0,74i, -0,27 - 0,74i$$

s velikostmi 1,03, 0, 0,5, 0,78, 0,78 a vlastní vektor příslušný dominantnímu vlastnímu číslu je přibližně

$$x = (30 \ 27 \ 21 \ 14 \ 8).$$

Zvolili jsme rovnou jediný vlastní vektor se součtem souřadnic rovným stu, zadává nám proto přímo výsledné procentní rozložení populace.

Pokud bychom chtěli místo tříprocentního celkového růstu populace setrvalý stav a předsevzali si ujídat více ovce třeba z druhé věkové skupiny, řešili bychom úlohu, o kolik máme zmenšit  $\tau_2$ , aby bylo dominantní vlastní číslo rovno jedné.

3.18

**3.16. Matice s nezápornými prvky.** Reálné matice, které nemají žádné záporné prvky mají velmi speciální vlastnosti. Zároveň jsou skutečně časté v praktických modelech. Naznačíme proto teď proto tzv. *Perronovu-Frobeniovu teorii*, která se právě takovým maticím věnuje.

Začneme definicí několika pojmů, abychom mohli naše úvahy vůbec formulovat.

#### KLADNÉ A PRIMITIVNÍ MATICE

**Definice.** Za *kladnou matici* budeme považovat takovou čtvercovou matici  $A$ , jejíž všechny prvky  $a_{ij}$  jsou reálné a ostře kladné. *Primitivní matice* je pak taková čtvercová matice  $A$ , jejíž nějaká mocnina  $A^k$  je kladná.

tady by se hodilo trochu historie, vlastně jen naznačíme část výsledků Perrona, k Frobeniově obecnější situaci se vůbec nedopracujeme.

Připomněme, že *spektrálním poloměrem matice*  $A$  nazýváme maximum absolutních hodnot všech jejích (komplexních) vlastních čísel. Spektrálním poloměrem lineárního zobrazení na (konečněrozměrném) vektorovém prostoru rozumíme spektrální poloměr jeho matice v některé bázi. *Normou* matice  $A \in \mathbb{R}^{n^2}$  nebo vektoru  $x \in \mathbb{R}^n$  rozumíme součet absolutních hodnot všech jejích prvků. U vektorů  $x$  píšeme pro jejich normu  $|x|$ .

Následující výsledek je mimořádně užitečný a snad i dobře srozumitelný. Jeho důkaz se svou náročností dosti vymyká této učebnici, uvádíme ale alespoň jeho stručný nástin. Pokud by čtenář měl problém s plynulým čtením následujícího důkazu, doporučujeme jej přeskočit.

**Věta (Perronova).** *Jestliže je  $A$  primitivní matice se spektrálním poloměrem  $\lambda \in \mathbb{R}$ , pak je  $\lambda$  jednoduchým kořenem charakteristického polynomu matice  $A$ , který je ostře větší než absolutní hodnota kteréhokoliv jiného vlastního čísla matice  $A$ . K vlastnímu číslu  $\lambda$  navíc existuje vlastní vektor  $x$  s výhradně kladnými prvky  $x_i$ .*

**NÁZNAK DŮKAZU.** V důkazu se budeme opírat o intuici elementární geometrie. Částečně budeme použít koncepty upřesňovat už v analytické geometrii ve čtvrté kapitole, některé analytické aspekty budeme studovat podrobněji v kapitolách páté a později, přesné důkazy některých analytických kroků v této učebnici nepodáme vůbec. Snad budou následující úvahy nejen osvětlovat dokazovaný teorém, ale budou také samy o sobě motivací pro naše další studium geometrie i matematické analýzy. Začneme docela srozumitelně znějícím pomocným lemmatem:

**Lemma.** *Uvažme libovolný mnohostěn  $P$  obsahující počátek  $0 \in \mathbb{R}^n$ . Jestliže nějaká iterace lineárního zobrazení  $\psi : \mathbb{R}^n \rightarrow \mathbb{R}^n$  zobrazuje  $P$  do jeho vnitřku, pak je spektrální poloměr zobrazení  $\psi$  ostře menší než jedna.*

Uvažme matici  $A$  zobrazení  $\psi$  ve standardní bázi. Protože vlastní čísla  $A^k$  jsou  $k$ -té mocniny vlastních čísel matice  $A$ , můžeme rovnou bez újmy na obecnosti předpokládat, že samotné zobrazení  $\psi$  již zobrazuje  $P$  do vnitřku  $P$ . Zjevně tedy nemůže mít  $\psi$  žádnou vlastní hodnotu s absolutní hodnotou větší než jedna.

Důkaz dále povedeme sporem. Předpokládejme, že existuje vlastní hodnota  $\lambda$  s  $|\lambda| = 1$ . Máme tedy dvě možnosti. Buď je  $\lambda^k = 1$  pro vhodné  $k$  nebo takové  $k$  neexistuje.

Obrazem  $P$  je uzavřená množina (to znamená, že pokud se body v obrazu budou hromadit k nějakému bodu  $y$  v  $\mathbb{R}^n$ , bude  $y$  opět v obrazu) a hranici  $P$  tento obraz vůbec neprotíná. Nemůže tedy mít  $\psi$  pevný bod na hranici  $P$  ani nemůže existovat žádný bod na hranici, ke kterému by se mohly libovolně blížit body v obrazu. První argument vylučuje, že by nějaká mocnina  $\lambda$  byla jedničkou, protože to by takový pevný bod na hranici  $P$  jistě existoval. Ve zbývajícím případě jistě existuje dvourozměrný podprostor  $W \subset \mathbb{R}^n$ , na němž se zužuje coby rotace o iracionální argument a jistě existuje bod

$$(a) \quad T^k \approx \begin{pmatrix} 5 & 5 \\ 4 & 2 \end{pmatrix} \cdot \begin{pmatrix} 1 & 0 \\ 0 & 0 \end{pmatrix} \cdot \begin{pmatrix} 5 & 5 \\ 4 & 2 \end{pmatrix}^{-1} \\ = \frac{1}{10} \begin{pmatrix} -10 & 25 \\ -8 & 20 \end{pmatrix};$$

$$(b) \quad T^k \approx \begin{pmatrix} 10 & 2 \\ 7 & 1 \end{pmatrix} \cdot \begin{pmatrix} 0 & 0 \\ 0 & 0 \end{pmatrix} \cdot \begin{pmatrix} 10 & 2 \\ 7 & 1 \end{pmatrix}^{-1} \\ = \begin{pmatrix} 0 & 0 \\ 0 & 0 \end{pmatrix};$$

$$(c) \quad T^k \approx \begin{pmatrix} 10 & 10 \\ 9 & 3 \end{pmatrix} \cdot \begin{pmatrix} 1,05^k & 0 \\ 0 & 0 \end{pmatrix} \cdot \begin{pmatrix} 10 & 10 \\ 9 & 3 \end{pmatrix}^{-1} \\ = \frac{1,05^k}{60} \begin{pmatrix} -30 & 100 \\ -27 & 90 \end{pmatrix},$$

neboť právě pro velká  $k \in \mathbb{N}$  můžeme položit

$$(a) \quad \begin{pmatrix} 1 & 0 \\ 0 & 0,8 \end{pmatrix}^k \approx \begin{pmatrix} 1 & 0 \\ 0 & 0 \end{pmatrix};$$

$$(b) \quad \begin{pmatrix} 0,95 & 0 \\ 0 & 0,85 \end{pmatrix}^k \approx \begin{pmatrix} 0 & 0 \\ 0 & 0 \end{pmatrix};$$

$$(c) \quad \begin{pmatrix} 1,05 & 0 \\ 0 & 0,75 \end{pmatrix}^k \approx \begin{pmatrix} 1,05^k & 0 \\ 0 & 0 \end{pmatrix}.$$

Podotkněme, že ve variantě (b), tj. pro  $a = 0,175$ , nebylo nutné vlastní vektory počítat.

Obdrželi jsme tak

$$(a) \quad \begin{pmatrix} D_k \\ K_k \end{pmatrix} \approx \frac{1}{10} \begin{pmatrix} -10 & 25 \\ -8 & 20 \end{pmatrix} \cdot \begin{pmatrix} D_0 \\ K_0 \end{pmatrix} \\ = \frac{1}{10} \begin{pmatrix} 5(-2D_0 + 5K_0) \\ 4(-2D_0 + 5K_0) \end{pmatrix};$$

$$(b) \quad \begin{pmatrix} D_k \\ K_k \end{pmatrix} \approx \begin{pmatrix} 0 & 0 \\ 0 & 0 \end{pmatrix} \cdot \begin{pmatrix} D_0 \\ K_0 \end{pmatrix} = \begin{pmatrix} 0 \\ 0 \end{pmatrix};$$

$$(c) \quad \begin{pmatrix} D_k \\ K_k \end{pmatrix} \approx \frac{1,05^k}{60} \begin{pmatrix} -30 & 100 \\ -27 & 90 \end{pmatrix} \cdot \begin{pmatrix} D_0 \\ K_0 \end{pmatrix} \\ = \frac{1,05^k}{60} \begin{pmatrix} 10(-3D_0 + 10K_0) \\ 9(-3D_0 + 10K_0) \end{pmatrix}.$$

Tyto výsledky lze interpretovat následovně:

- (a) Pokud  $2D_0 < 5K_0$ , velikosti obou populací se ustálí na nenulových hodnotách (říkáme, že jsou stabilní); jestliže  $2D_0 \geq 5K_0$ , obě populace vymřou.

- (b) Obě populace vymřou.  
 (c) Pro  $3D_0 < 10K_0$  nastává populační exploze obou druhů; pro  $3D_0 \geq 10K_0$  obě populace vymřou.

To, že extrémně malá změna velikosti  $a$  může vést ke zcela odlišnému výsledku, je zapříčiněno neměnností hodnoty  $a$  v závislosti na velikosti obou populací. Poznamenejme, že toto omezení, kdy  $a$  v našich modelech považujeme za konstantní, nemá oporu ve skutečnosti. Přesto získáváme odhad velikosti  $a$  pro stabilní populace.  $\square$

**3.17. Poznámka.** Jiný model soužití populací dravce a kořisti poskytuje model pánů Lotky a Volterra, který popisuje vztah mezi populacemi soustavou dvou obyčejných diferenciálních rovnic. Podle tohoto modelu obě populace oscilují, což je i v souladu s pozorováními.

Nyní uvedme poněkud obsáhlejší model.

**3.18. Model šíření jednoletých bylin.** Budeme uvažovat rostliny, které na začátku léta vykvetou, na jeho vrcholu vyprodukují semena a samy uhynou. Některá ze semen vyklíčí ještě na konci podzimu (ozimé rostliny), jiná přečkají zimu v zemi a vyklíčí na začátku jara (jarní rostliny). Ozimé rostlinky (sazenice), které přes zimu nezmrznou, jsou na jaře větší než jarní a většinou z nich vyrostou větší rostliny než z jarních sazenic. Větší rostlina vyprodukuje více semen. Pak se celý vegetační cyklus opakuje.

Rok je tedy rozdělen na čtyři vegetační období a v každém z těchto období můžeme rozlišit několik „forem“ rostliny:

Období	stadia rostliny
začátek jara	malé a velké sazenice
začátek léta	malé, střední a velké kvetoucí rostliny
vrcholné léto	semena
podzim	sazenice a přezimující semena

Označme  $x_1(t)$ , resp.  $x_2(t)$ , počet malých, resp. velkých, sazenic na začátku jara roku  $t$  a  $y_1(t)$ , resp.  $y_2(t)$ , resp.  $y_3(t)$ , počet malých, resp. středních, resp. velkých rostlin v létě téhož roku. Z malých sazenic mohou vyrůst malé nebo střední rostliny, z velkých sazenic mohou vyrůst střední nebo velké rostliny. Kterákoliv ze sazenic samozřejmě může uhynout (uschnout, být spasena krávou a podobně) a nevyroste z ní nic. Označme  $b_{ij}$  pravděpodobnost, že ze sazenice  $j$ -té velikosti,  $j = 1, 2$ , vyroste rostlina  $i$ -té velikosti,  $i = 1, 2, 3$ . Pak je

$$0 < b_{11} < 1, \quad b_{12} = 0, \quad 0 < b_{21} < 1, \quad 0 < b_{22} < 0, \quad b_{31} = 0, \\ 0 < b_{32} < 1, \quad b_{11} + b_{21} < 1, \quad b_{22} + b_{32} < 1$$

(promyslete si, co každá z těchto nerovností vyjadřuje). Pokud pravděpodobnost považujeme za klasickou, můžeme  $b_{11}$  vypočítat jako podíl

$y$  v průniku  $W$  s hranicí  $P$ . Pak by ale byl bod  $y$  libovolně přesně přiblížen body  $z$  množiny  $\psi^n(y)$  při průchodu přes všechny iterace a tedy by musel sám být také v obrazu. Došli jsme tedy ke sporu a lemma je ověřeno.

Nyní se dáme do důkazu Perronovy věty. Naším prvním krokem bude ověření existence vlastního vektoru, který má všechny prvky kladné. Uvažme za tím účelem tzv. standardní simplex

$$S = \{x = (x_1, \dots, x_n)^T, |x| = 1, x_i \geq 0, i = 1, \dots, n\}.$$

Protože všechny prvky v matici  $A$  jsou nezáporné, obraz  $A \cdot x$  bude mít samé nezáporné souřadnice stejně jako  $x$  a alespoň jedna z nich bude vždy nenulová. Zobrazení  $x \mapsto |A \cdot x|^{-1}(A \cdot x)$  proto zobrazuje  $S$  do sebe, Toto zobrazení  $S \rightarrow S$  splňuje všechny předpoklady tzv. Browerovy věty o pevném bodě a proto existuje vektor  $y \in S$  takový, že je tímto zobrazením zobrazen sám na sebe. To ale znamená, že

$$A \cdot y = \lambda y, \quad \lambda = |A \cdot y|$$

a našli jsme vlastní vektor, který leží v  $S$ . Protože ale má nějaká mocnina  $A^k$  podle našeho předpokladu samé kladné prvky a samozřejmě je také  $A^k \cdot y = \lambda^k y$ , všechny souřadnice vektoru  $y$  jsou ostře kladné (tj. leží ve vnitřku  $S$ ) a  $\lambda > 0$ .

Abychom dokázali zbytek věty, budeme uvažovat zobrazení zadané maticí  $A$  ve výhodnější bázi a navíc ho vynásobíme konstantou  $\lambda^{-1}$ :

$$B = \lambda^{-1}(Y^{-1} \cdot A \cdot Y),$$

kde  $Y$  je diagonální matice se souřadnicemi  $y_i$  vektoru  $y$  na diagonále. Evidentně je  $B$  také primitivní matice a navíc je vektor  $z = (1, \dots, 1)^T$  jejím vlastním vektorem.

Jestliže nyní dokážeme, že  $\mu = 1$  je jednoduchým kořenem charakteristického polynomu matice  $B$  a všechny ostatní kořeny mají absolutní hodnotu ostře menší než jedna, bude Perronova věta dokázána.

K tomu se nám teď bude hodit dříve dokázané pomocné lemma. Uvažujme matici  $B$  jako matici lineárního zobrazení, které zobrazuje řádkové vektory

$$u = (u_1, \dots, u_n) \mapsto u \cdot B = v,$$

tj. pomocí násobení zprava. Díky tomu, že je  $z = (1, \dots, 1)^T$  vlastním vektorem matice  $B$ , je součet souřadnic řádkového vektoru  $v$

$$\sum_{i,j=1}^n u_i b_{ij} = \sum_{i=1}^n u_i = 1,$$

kdykoliv je  $u \in S$ . Proto toto zobrazení zobrazuje simplex  $S$  na sebe a má také jistě v  $S$  vlastní (řádkový) vektor  $w$  s vlastní hodnotou jedna (pevný bod, opět dle Browerovy věty). Protože nějaká mocnina  $B^k$  obsahuje samé ostře pozitivní prvky, je nutně obraz simplexu  $S$  v  $k$ -té iteraci zobrazení daného  $B$  uvnitř  $S$ . To už jsme blízko použití našeho lematu, které jsme si pro důkaz připravili.

Budeme i nadále pracovat s řádkovými vektory a označme si  $P$  posunutí simplexu  $S$  do počátku pomocí vlastního

vektoru  $w$ , který jsme právě našli, tj.  $P = -w + S$ . Evidentně je  $P$  mnohostěn obsahující počátek a vektorový podprostor  $V \subset \mathbb{R}^n$  generovaný  $P$  je invariantní vůči násobení maticí  $B$  násobením řádkových vektorů zprava. Zúžení našeho zobrazení na  $P$  tedy splňuje předpoklady pomocného lemmatu a proto nutně musí být všechny jeho vlastní hodnoty v absolutní hodnotě menší než jedna. Ještě se musíme vypořádat se skutečností, že právě uvažované zobrazení je dáno násobením řádkových vektorů zprava maticí  $B$  (zatímco nás původně zajímalo chování zobrazení, daného  $B$  pomocí násobení sloupcových vektorů zleva). To je ale ekvivalentní násobení transponovaných sloupcových vektorů transponovanou maticí  $B$  obvyklým způsobem zleva. Dokázali jsem tedy vlastně potřebné tvrzení o vlastních číslech pro matici transponovanou k naší matici  $B$ . Transponování ale vlastní čísla nemění.

Dimenze prostoru  $V$  je přitom  $n - 1$ , takže důkaz věty je ukončen.  $\square$

3.19

**3.17. Jednoduché důsledky.** Následující velice užitečné tvrzení má při znalosti Perronovy věty až překvapivě jednoduchý důkaz a ukazuje, jak silná je vlastnost primitivnosti matice zobrazení.

**Důsledek.** *Jestliže  $A = (a_{ij})$  je primitivní matice a  $x \in \mathbb{R}^n$  její vlastní vektor se samými nezápornými souřadnicemi a vlastní hodnotou  $\lambda$ , pak  $\lambda > 0$  je spektrální poloměr  $A$ . Navíc platí*

$$\min_j \sum_{i=1}^n a_{ij} \leq \lambda \leq \max_j \sum_{i=1}^n a_{ij}.$$

**DŮKAZ.** Uvažme vlastní vektor  $x$  z dokazovaného tvrzení. Protože je  $A$  primitivní, můžeme zvolit pevně  $k$  tak, aby  $A^k$  už měla samé pozitivní prvky a pak je samozřejmě i  $A^k \cdot x = \lambda^k x$  vektor se samými ostře kladnými souřadnicemi. Nutně proto je  $\lambda > 0$ .

Z Perronovy věty víme, že spektrální poloměr  $\mu$  je vlastním číslem a zvolme takový vlastní vektor  $y$  k  $\mu$ , že rozdíl  $x - y$  má samé kladné souřadnice. Potom nutně pro všechny mocniny  $n$

$$0 < A^n \cdot (x - y) = \lambda^n x - \mu^n y,$$

ale zároveň platí  $\lambda \leq \mu$ . Odtud již vyplývá  $\lambda = \mu$ .

Zbývá odhad spektrálního poloměru pomocí minima a maxima součtů jednotlivých sloupců matice. Označme je  $b_{\min}$  a  $b_{\max}$ , zvolme za  $x$  vektor se součtem souřadnic jedna a počítejme:

$$\begin{aligned} \sum_{i,j=1}^n a_{ij} x_j &= \sum_{i=1}^n \lambda x_i = \lambda \\ \lambda &= \sum_{j=1}^n \left( \sum_{i=1}^n a_{ij} \right) x_j \leq \sum_{j=1}^n b_{\max} x_j = b_{\max} \end{aligned}$$

příznivých výsledků (z malé vyrostla malá rostlina) a všech možných výsledků (počet malých sazenic), tj.  $b_{11} = y_1(t)/x_1(t)$ . Odtud

$$y_1(t) = b_{11} x_1(t).$$

Analogicky dostaneme rovnost

$$y_3(t) = b_{32} x_2(t).$$

Označíme-li na chvíli  $y_{2,1}(t)$ , resp.  $y_{2,2}(t)$  počet středních rostlin vyrostlých z malých, resp. velkých sazenic, je  $y_2(t) = y_{2,1}(t) + y_{2,2}(t)$  a  $b_{21} = y_{2,1}(t)/x_1(t)$ ,  $b_{22} = y_{2,2}(t)/x_2(t)$  a tedy

$$y_2(t) = b_{21} x_1(t) + b_{22} x_2(t).$$

Označíme

$$B = \begin{pmatrix} b_{11} & 0 \\ b_{21} & b_{22} \\ 0 & b_{32} \end{pmatrix}, \quad x(t) = \begin{pmatrix} x_1(t) \\ x_2(t) \end{pmatrix}, \quad y(t) = \begin{pmatrix} y_1(t) \\ y_2(t) \\ y_3(t) \end{pmatrix}$$

a předchozí rovnosti zapíšeme v maticovém tvaru

$$y(t) = Bx(t).$$

Označíme-li po řadě  $c_{11}$ ,  $c_{12}$  a  $c_{13}$  počty semen, které vyprodukuje jedna malá, střední a velká rostlina, a  $z(t)$  celkový počet vyprodukovaných semen v létě roku  $t$ , platí

$$z(t) = c_{11} y_1(t) + c_{12} y_2(t) + c_{13} y_3(t),$$

nebo v maticovém tvaru

$$z(t) = Cy(t)$$

při označení

$$C = (c_{11} \quad c_{12} \quad c_{13}).$$

Aby matice  $C$  popisovala modelovanou realitu, budeme předpokládat, že platí nerovnosti

$$0 < c_{11} < c_{12} < c_{13}.$$

Označme nakonec  $w_1(t)$  a  $w_2(t)$  počet semen, které vyklíčí ještě na podzim a počet semen, která přezimují, v tomto pořadí, a  $d_{11}$ , resp.  $d_{21}$  pravděpodobnost, že semeno vyklíčí na podzim, resp. nevyklíčí (přezimuje), a  $f_{11}$ , resp.  $f_{22}$  pravděpodobnost, že ozimá sazenice, resp. že přezimující semeno během zimy nezmrzne. Pravděpodobnosti vyklíčení  $d_{11}$ ,  $d_{21}$  zřejmě musí splňovat nerovnosti

$$0 < d_{11}, \quad 0 < d_{21}, \quad d_{11} + d_{21} = 1,$$

a poněvadž rostlinka snáze zmrzne, než semeno ukryté v zemi, budeme o pravděpodobnostech  $f_{11}$ ,  $f_{22}$  přežití zimy předpokládat

$$0 < f_{11} < f_{22} < 1.$$

Při označení

$$D = \begin{pmatrix} d_{11} \\ d_{21} \end{pmatrix}, \quad F = \begin{pmatrix} f_{11} & 0 \\ 0 & f_{22} \end{pmatrix}, \quad w(t) = \begin{pmatrix} w_1(t) \\ w_2(t) \end{pmatrix}$$

dostaneme podobnými úvahami jako výše rovnosti

$$w(t) = Dz(t), \quad x(t+1) = Fw(t).$$

Poněvadž násobení matic je asociativní, můžeme pro počty jednotlivých stadií rostlin v následujícím roce z předchozích rovností sestavit rekurentní formule:

$$\begin{aligned} x(t+1) &= Fw(t) = F(Dz(t)) = (FD)z(t) = (FD)(Cy(t)) = \\ &= (FDC)y(t) = (FDC)(Bx(t)) = (FDCB)x(t), \end{aligned}$$

$$\begin{aligned} y(t+1) &= Bx(t+1) = B(Fw(t)) = (BF)w(t) = (BF)(Dz(t)) \stackrel{3.20}{=} \\ &= (BFD)z(t) = (BFD)(Cy(t)) = (BFDC)y(t), \end{aligned}$$

$$\begin{aligned} z(t+1) &= Cy(t+1) = C(Bx(t+1)) = (CB)x(t+1) = (CB)(Fw(t)) \\ &= (CBF)w(t) = (CBF)(Dz(t)) = (CBFD)z(t), \end{aligned}$$

$$\begin{aligned} w(t+1) &= Dz(t+1) = D(Cy(t+1)) = (DC)y(t+1) = \\ &= (DC)(Bx(t+1)) = (DCB)x(t+1) = (DCB)(Fw(t)) = \\ &= (DCBF)w(t). \end{aligned}$$

Při označení

$$A_x = FDCB, \quad A_y = BFDC, \quad A_z = Cbfd, \quad A_w = DCBF,$$

je zjednodušíme na formule

$$x(t+1) = A_x x(t), \quad y(t+1) = A_y y(t), \quad z(t+1) = A_z z(t), \quad w(t+1) = A_w w(t).$$

Z těchto formulí již můžeme vypočítat složení populace rostlin v libovolném období libovolného roku, pokud známe složení populace v nějakém období počátečního (nultého) roku.

Nechť je například známo složení populace v létě, tj. počet  $z(0)$  vyšetřých semen. Pak složení populace na začátku jara  $t$ -tého roku je

$$\begin{aligned} x(t) &= A_x x(t-1) = A_x^2 x(t-2) = \dots = A_x^{t-1} x(1) = A_x^{t-1} Fw(0) = \\ &= A_x^{t-1} FDz(0). \end{aligned}$$

Povšimněme si, že matice  $A_z = Cbfd$  je typu  $1 \times 1$ ; není to tedy matice, ale skalár. Můžeme tedy označit  $\lambda = A_z$ , vypočítat

(3.5)

$$\begin{aligned} \lambda &= Cbfd = (c_{11} \ c_{12} \ c_{13}) \begin{pmatrix} b_{11} & 0 \\ b_{21} & b_{22} \\ 0 & b_{32} \end{pmatrix} \begin{pmatrix} f_{11} & 0 \\ 0 & f_{22} \end{pmatrix} \begin{pmatrix} d_{11} \\ d_{21} \end{pmatrix} = \\ &= (c_{11}b_{11} + c_{12}b_{21} \quad c_{12}b_{22} + c_{13}b_{32}) \begin{pmatrix} f_{11}d_{11} \\ f_{22}d_{21} \end{pmatrix} = \\ &= b_{11}c_{11}d_{11}f_{11} + b_{21}c_{12}d_{11}f_{11} + b_{22}c_{12}d_{21}f_{22} + b_{32}c_{13}d_{21}f_{22} \end{aligned}$$

$$\lambda = \sum_{j=1}^n \left( \sum_{i=1}^n a_{ij} \right) x_j \geq \sum_{j=1}^n b_{\min} x_j = b_{\min}$$

□

Všimněme si, že např. všechny Leslieho matice z 3.15, kde jsou všechny uvažované koeficienty  $f_i$  a  $\tau_j$  ostře kladné, jsou primitivní a tedy na ně můžeme plně použít právě odvozené výsledky.

Perronova-Frobeniova věta je zobecněním Perronovy věty na obecnější matice, které tu nebudeme uvádět. Další informace lze najít např. v ??.

**3.18. Markovovy řetězce.** Velice častý a zajímavý případ lineárních procesů se samými nezápornými prvky v matici je matematický model systému, který se může nacházet v  $m$  různých stavech s různou pravděpodobností. V jistém okamžiku je systém ve stavu  $i$  s pravděpodobností  $x_i$  a k přechodu z možného stavu  $i$  do stavu  $j$  dojde s pravděpodobností  $t_{ij}$ .

Můžeme tedy proces zapsat takto: V čase  $n$  je systém popsán pravděpodobnostním vektorem

$$x_n = (u_1(n), \dots, u_m(n))^T.$$

To znamená, že všechny komponenty vektoru  $x$  jsou reálná nezáporná čísla a jejich součet je roven jedné. Komponenty udávají rozdělení pravděpodobnosti jednotlivých možností stavů systému. Rozdělení pravděpodobností pro čas  $n+1$  bude dáno vynásobením pravděpodobnostní maticí přechodu  $T = (t_{ij})$ , tj.

$$x_{n+1} = T \cdot x_n.$$

Protože předpokládáme, že vektor  $x$  zachycuje všechny možné stavy a proto s celkovou pravděpodobností jedna přejde opět do některého z nich, budou všechny sloupce matice  $T$  tvořeny také pravděpodobnostními vektory. Takovému procesu říkáme (diskrétní) *Markovův proces*.

Všimněme si, že každý pravděpodobnostní vektor  $x$  je skutečně Markovovým procesem zobrazen na vektor se součtem souřadnic jedna:

$$\sum_{i,j} t_{ij} x_j = \sum_j \left( \sum_i t_{ij} \right) x_j = \sum_j x_j = 1.$$

Nyní můžeme v plné síle použít Perronovu-Frobeniovu teorii. Protože je součet řádků matice  $T$  vždy roven vektoru  $(1, \dots, 1)$ , je zcela elementárně vidět, že matice  $T - E$  je singularní a jednička proto bude zaručeně vlastním číslem matice  $T$ .

Pokud je navíc  $T$  primitivní matice (tj. např. když jsou všechny prvky nenulové), z Důsledku 3.17 víme, že je jednička jednoduchým kořenem charakteristického polynomu a všechny ostatní mají absolutní hodnotu ostře menší než jedna.

**Věta.** *Markovovy procesy s maticí, která nemá žádné nulové prvky nebo jejíž některá mocnina má tuto vlastnost, splňují:*



- existuje jediný vlastní vektor  $x_\infty$  pro vlastní číslo 1, který je pravděpodobnostní
- iterace  $T^k x_0$  se blíží k vektoru  $x_\infty$  pro jakýkoliv počáteční pravděpodobnostní vektor  $x_0$ .

**DŮKAZ.** První tvrzení vyplývá přímo z kladnosti souřadnic vlastního vektoru dovozené v Perronově větě.

Pokud jsou algebraické a geometrické násobnosti vlastních čísel matice  $T$  stejné, pak druhé tvrzení okamžitě vyplývá z toho, že absolutní hodnoty všech ostatních vlastních čísel musí být ostře menší než jedna. Skutečně, za uvedeného předpoladu na vlastní čísla lze každý počáteční vektor  $x_0$  napsat jako součet vlastních vektorů matice  $T$  a při iterovaném působení matice  $T$  na počátečním vektoru  $x_0$  všechny komponenty rychle vymizí, kromě té jediné s vlastním číslem 1.

Ve skutečnosti ale i při různé algebraické a geometrické násobnosti vlastních čísel dojdeme ke stejnému závěru pomocí podrobnějšího studia tzv. kořenových podprostorů pro maticí  $T$ , ke kterým se dostaneme v souvislosti s tzv. Jordánovým rozkladem ještě v této kapitole, viz poznámka ??.

3.21

**3.19. Iterace stochastických matic.** Matice Markovových procesů, tj. matice jejichž všechny sloupce mají součet svých komponent roven jedné se nazývají *stochastické matice*. Standardní úlohy spojené s Markovovými procesy zahrnují odpovědi na otázky po očekávané střední době přechodu mezi předem určenými stavy systému apod. Momentálně nejsme na řešení těchto úloh připraveni, vrátíme se ale k této tématice později.

Přeformulujeme předchozí větu do jednoduchého, ale asi docela překvapivého důsledku. Konvergencí k limitní matici v následujícím tvrzení myslíme skutečnost, že když si předem určíme možnou chybu  $\epsilon > 0$ , tak najdeme hranici na počet iterací  $k$  po níž už všechny komponenty uvedené matice se od té limitní budou lišit o méně než  $\epsilon$ .

**Důsledek.** *Nechť  $T$  je primitivní stochastická matice z Markovova procesu a  $x_\infty$  je stochastický vlastní vektor k dominantnímu číslu 1 jako ve větě výše. Pak iterace  $T^k$  konvergují k limitní matici  $T_\infty$ , jejíž všechny sloupce jsou rovny  $x_\infty$ .*

Nyní se ještě na rozlučku s Markovovými procesy zamyslíme se nad problémem, zda existují pro daný systém stavy, do kterých se má systém tendenci dostat a setrvat v nich. O stavu systému řekneme, že je *přechodový*, jestliže v něm systém setrvává s pravděpodobností ostře menší než jedna. Za *absorbční* označíme stav, ve kterém systém setrvává s pravděpodobností 1, a do kterého se lze dostat s nenulovou pravděpodobností z kteréhokoliv z přechodových stavů. Konečně, Markovův řetězec  $X_n$  je *absorbční*, jestliže jsou jeho všechny jeho stavy buď absorbční nebo přechodové.

Je-li v absorbčním Markovově řetězci prvních  $r$  stavů systému absorbčních, pro stochastickou matici  $T$  systému to znamená, že se rozpadá na „blokově“ horní trojúhelníkový

a předchozí výpočet uspořádat do výhodného tvaru

$$\begin{aligned} x(t) &= (FDCB)^{t-1} FDz(0) = FD(CBFD)^{t-2} CBF D z(0) = \\ &= FD(CBFD)^{t-1} z(0) = FDA_z^{t-1} z(0) = \lambda^{t-1} FDz(0); \end{aligned}$$

tímto způsobem zůstanou pouze dvě násobení matic.

Uvedeme konkrétní hodnoty matic  $B, C, D, F$ ; jedná se o parametry hypotetické rostliny, které ale byly inspirovanou skutečnou trávou *Vulpia ciliata*:

$$B = \begin{pmatrix} 0,3 & 0 \\ 0,1 & 0,6 \\ 0 & 0,2 \end{pmatrix}, \quad C = (1 \quad 10 \quad 100), \quad D = \begin{pmatrix} 0,5 \\ 0,5 \end{pmatrix}, \quad F = \begin{pmatrix} 0,05 & 0 \\ 0 & 0,1 \end{pmatrix}.$$

Nyní můžeme vypočítat jednotlivé matice, které zobrazují vektor popisující složení populace v nějakém vegetačním období na vektor složení populace v témže období následujícího roku:

$$A_x = \begin{pmatrix} 0,0325 & 0,6500 \\ 0,0650 & 1,3000 \end{pmatrix} \quad A_y = \begin{pmatrix} 0,0075 & 0,0750 & 0,7500 \\ 0,0325 & 0,3250 & 3,2500 \\ 0,0100 & 0,1000 & 1,0000 \end{pmatrix},$$

$$A_z = 1,3325, \quad A_w = \begin{pmatrix} 0,0325 & 1,3000 \\ 0,0325 & 1,3000 \end{pmatrix}.$$

Hodnota  $\lambda = A_z = 1,3325$  vyjadřuje meziroční relativní přírůstek populace. Přesvědčete se, že každá z matic  $A_x, A_y, A_w$  má jedinou nenulovou vlastní hodnotu  $\lambda = 1,3325$ ; ostatní vlastní hodnoty jsou rovny 0.

Ukážeme ještě jedno využití uvedeného modelu. Může nás zajímat, jak „pružně“ reaguje meziroční relativní přírůstek  $\lambda$  na změnu jednotlivých „demografických parametrů“, jak např. změna pravděpodobnosti přežití semene přes zimu ovlivní meziroční přírůstek. Tuto otázku poněkud upřesníme. Za *pružnost reakce charakteristiky  $\lambda$  na parametr  $s$* , označenou  $e(\lambda, s)$  prohlásíme relativní změnu hodnoty  $\lambda$  vztaženou k relativní změně parametru  $s$ . Ještě přesněji: označíme  $\lambda(s)$  meziroční přírůstek závislý na parametru  $s$ . Potom  $\Delta\lambda(s) = \lambda(s + \Delta s) - \lambda(s)$  vyjadřuje absolutní změnu relativního přírůstku  $\lambda$  při absolutní změně parametru  $s$  o  $\Delta s$ . Relativní změna  $\lambda$  tedy je  $\Delta\lambda(s)/\lambda(s)$ . Relativní změna přírůstku parametru  $s$  je  $\Delta s/s$ . Hledaná pružnost je tedy podíl těchto relativních změn, tj.

$$e(\lambda, s) = \frac{\Delta\lambda(s)/\lambda(s)}{\Delta s/s} = \frac{s}{\lambda(s)} \frac{\lambda(s + \Delta s) - \lambda(s)}{\Delta s}.$$

Konkrétně, meziroční relativní přírůstek populace závislý na přežití semen přes zimu je podle (3.5)

$$\lambda(f_{22}) = d_{21}(b_{22}c_{12} + b_{32}c_{13})f_{22} + d_{11}(b_{11}c_{11}f_{11} + b_{21}c_{12}f_{11})$$

a pro konkrétní zvolené hodnoty ostatních parametrů

$$\lambda(f_{22}) = 13f_{22} + 0,0325.$$

vymazat příslib,  
pokud to nenastane,  
a nahradit odkazem  
do literatury

Poněvadž  $f_{22} = 0,1$ , můžeme počítat

$$\lambda(0,1) = 1,3325, \quad \lambda(0,1+\Delta s) = 1,3325+13\Delta s, \quad \Delta\lambda(0,1) = 13\Delta s,$$

takže

$$e(\lambda, 0,1) = \frac{0,1}{1,3325} \frac{13\Delta s}{\Delta s} \doteq 0,976.$$

Analogicky můžeme spočítat pružnost reakce relativního přírůstku  $\lambda$  populace na ostatních „demografických parametrech“. Výsledky jsou shrnuty v tabulce

parametr	pružnost reakce	parametr	pružnost reakce
$b_{11}$	0,006	$c_{11}$	0,006
$b_{21}$	0,019	$c_{12}$	0,244
$b_{22}$	0,225	$c_{13}$	0,751
$b_{23}$	0,750	$f_{11}$	0,024
$d_{11}$	0,024	$f_{22}$	0,976
$d_{21}$	0,976		

Z ní můžeme vidět, že přírůstek  $\lambda$  je nejvíce ovlivňován množstvím přezimujících semen (parametr  $d_{21}$ ) a jejich přežíváním (parametr  $f_{22}$ ). Toto zjištění není nijak překvapivé, zemědělcům je tento fakt dobře známý již od neolitu. Výsledek však ukazuje, že matematický model skutečně nějak adekvátně realitu popisuje.

Další zajímavé a detailně popsané modely růstu nalezne čtenář v souboru příkladů za touto kapitolou.

3.30

**3.19.** Uvažujte následující Leslieho model: farmář chová ovce. Produktivita ovcí je dána pouze věkem a je průměrně 2 ovce na jednu ovci mezi jedním a dvěma lety věku, pět ovcí na ovci mezi dvěma a třemi lety věku a dvě ovce na ovci mezi třemi a čtyřmi roky věku. Ovce do jednoho roku nerodí. Z roku na rok umře vždy polovina ovcí a to rovnoměrně ve všech věkových skupinách. Po čtyřech letech posílá farmář ovce na jatka. Farmář by rád ještě prodával (živá) jehňátka do jednoho roku na kožešinu. Jakou část jehňátek může každý rok prodat, aby mu velikost stáda zůstávala z roku na rok stejná? V jakém poměru budou potom rozděleny počty ovcí v jednotlivých věkových skupinách?

**Řešení.** Matice daného modelu (bez zásahu farmáře) je

$$L = \begin{pmatrix} 0 & 2 & 5 & 2 \\ \frac{1}{2} & 0 & 0 & 0 \\ 0 & \frac{1}{2} & 0 & 0 \\ 0 & 0 & \frac{1}{2} & 0 \end{pmatrix}$$

Farmář může ovlivnit kolik ovcí do jednoho roku mu ve stádu zůstane do dalšího roku, může tedy ovlivnit prvek  $l_{12}$  matice  $L$ . Zkoumáme tedy model

$$L = \begin{pmatrix} 0 & 2 & 5 & 2 \\ a & 0 & 0 & 0 \\ 0 & \frac{1}{2} & 0 & 0 \\ 0 & 0 & \frac{1}{2} & 0 \end{pmatrix},$$

tvar

$$T = \begin{pmatrix} E & R \\ 0 & Q \end{pmatrix}$$

kde  $E$  je jednotková matice, jejíž rozměr je dán počtem absorpčních stavů, zatímco  $R$  je kladná matice a  $Q$  nezáporná. V každém případě iteracemi této matice budeme pořád dostávat stejný blok nulových hodnot v levém dolním bloku a tedy zcela jistě nebude primitivní, např.

$$T^2 = \begin{pmatrix} E & R + R \cdot Q \\ 0 & Q^2 \end{pmatrix}.$$

I o takových maticích lze získat hodně informací pomocí plné Perronovy–Frobeniovy teorie a se znalostí pravděpodobnosti a statistiky také odhadovat střední doby, po kterých se systém dostane do jedhodo z absorpčních stavů apod.

#### 4. Více maticového počtu

Na vcelku praktických příkladech jsme viděli, že porozumění vnitřní struktuře matic a jejím vlastnostem je silným nástrojem pro konkrétní výpočty nebo analýzy. Ještě více to platí pro efektivitu numerického počítání s maticemi. Proto se budeme zase chvíli věnovat abstraktní teorii.

Budeme přitom zkoumat další speciální typy lineárních zobrazení na vektorových prostorech ale také obecný případ, kdy je struktura zobrazení popsána tzv. Jordanovou větou.

**3.20. Unitární prostory a zobrazení.** Už jsme si zvykli, že je užitečné pracovat rovnou v číselném oboru komplexních čísel a to i v případě, kdy nás zajímají jen reálné objekty. Navíc v mnohých oblastech jsou komplexní vektorové prostory nutnou součástí úvah. Jasným příkladem je například tzv. kvantové počítání, které se stalo velmi akční oblastí teoretické informatiky, přestože kvantové počítače zatím zkonstruovány ve funkční podobě nebyly.

Proto navážeme na ortogonální zobrazení a matice z konce druhé kapitoly následující definicí:

#### UNITÁRNÍ PROSTORY

**Definice.** *Unitární prostor* je komplexní vektorový prostor  $V$  spolu se zobrazením  $V \times V \rightarrow \mathbb{C}$ ,  $(u, v) \mapsto u \cdot v$ , které splňuje pro všechny vektory  $u, v, w \in V$  a skaláry  $a \in \mathbb{C}$

- (1)  $u \cdot v = \overline{v \cdot u}$  (zde pruh značí komplexní konjugaci)
- (2)  $(au) \cdot v = a(u \cdot v)$
- (3)  $(u + v) \cdot w = u \cdot w + v \cdot w$
- (4) je-li  $u \neq 0$ , pak  $u \cdot u > 0$  (zejména je výraz reálný).

Toto zobrazení nazýváme *skalární součin* na  $V$ .

Reálné číslo  $\sqrt{v \cdot v}$  nazýváme *velikostí vektoru*  $v$  a vektor je *normovaný*, jestliže má velikost jedna. Vektory  $u$  a  $v$  nazýváme *ortogonální*, jestliže je jejich skalární součin nulový, bázi sestavenou z po dvou ortogonálních a normovaných vektorů nazýváme *ortonormální báze*  $V$ .

Na první pohled jde o rozšíření definice euklidovských vektorových prostorů do komplexního oboru. Nadále budeme také používat alternativní značení  $\langle u, v \rangle$  pro skalární součin vektorů  $u$  a  $v$ . Zcela stejně jako v reálném oboru také okamžitě z definice vyplývají následující jednoduché vlastnosti skalárního součinu pro všechny vektory ve  $V$  a skaláry v  $\mathbb{C}$ :

$$\begin{aligned} u \cdot u &\in \mathbb{R} \\ u \cdot u &= 0 \quad \text{právě tehdy, když } u = 0 \\ u \cdot (av) &= \bar{a}(u \cdot v) \\ u \cdot (v + w) &= u \cdot v + u \cdot w \\ u \cdot 0 &= 0 \cdot u = 0 \\ \left(\sum_i a_i u_i\right) \cdot \left(\sum_j b_j v_j\right) &= \sum_{i,j} a_i \bar{b}_j (u_i \cdot v_j), \end{aligned}$$

kde poslední rovnost platí pro všechny konečné lineární kombinace. Podrobné ověření je skutečně jednoduchým cvičením, např. první vztah plyne okamžitě z definiční vlastnosti (1).

Standardním příkladem skalárního součinu na komplexním prostoru  $\mathbb{C}^n$  je

$$(x_1, \dots, x_n)^T \cdot (y_1, \dots, y_n)^T = x_1 \bar{y}_1 + \dots + x_n \bar{y}_n.$$

Díky konjugování souřadnic druhého argumentu toto zobrazení splňuje všechny požadované vlastnosti. Prostor  $\mathbb{C}^n$  s tímto skalárním součinem budeme nazývat *standardní unitární prostor* v dimenzi  $n$ . Maticově můžeme tento skalární součin psát jako  $x \cdot y = \bar{y}^T \cdot x$ .

Zcela obdobně jako u euklidovských prostorů a ortogonálních zobrazení budou důležitá lineární zobrazení, která respektují skalární součiny.

#### UNITÁRNÍ ZOBRAZENÍ

Lineární zobrazení  $\varphi : V \rightarrow W$  mezi unitárními prostory se nazývá *unitární zobrazení*, jestliže pro všechny vektory  $u, v \in V$  platí

$$u \cdot v = \varphi(u) \cdot \varphi(v).$$

*Unitární isomorfismus* je bijektivní unitární zobrazení.

3.31

**3.21. Vlastnosti prostorů se skalárním součinem.** Ve stručné diskusi euklidovských prostorů v předchozí kapitole jsme už některé jednoduché vlastnosti prostorů se skalárním součinem odvodili, důkazy v komplexním oboru jsou velmi podobné. V dalším budeme pracovat s reálnými i komplexními prostory zároveň a budeme psát  $\mathbb{K}$  pro  $\mathbb{R}$  nebo  $\mathbb{C}$ , v reálném případě je konjugace prostě identické zobrazení (tak jak skutečně zúžení konjugace na reálnou přímku v komplexní rovině je). Stejně jako u reálných prostorů definujeme obecně pro libovolný vektorový podprostor  $U \subset V$  v prostoru se skalárním součinem jeho *ortogonální doplněk*

$$U^\perp = \{v \in V; u \cdot v = 0 \text{ pro všechny } u \in U\},$$

a hledáme  $a$  tak, aby daná matice měla vlastní hodnotu 1 (víme, že má pouze jednu reálnou kladnou). Charakteristický polynom této matice je

$$\lambda^4 - 2a\lambda^2 - \frac{5}{2}\lambda - \frac{1}{2},$$

požadujeme-li, aby měl kořen 1, musí být  $a = \frac{1}{5}$  (dosadíme za  $\lambda$  číslo 1 a položíme rovno nule). Farmář tedy může prodat  $\frac{1}{2} - \frac{1}{5} = \frac{3}{10}$  ovcí, které se mu v daný rok narodí. Odpovídající vlastní vektor k vlastnímu číslu 1 dané matice je  $(20, 4, 2, 1)$  a v těchto poměrech se taky ustálí populace ovcí.  $\square$

**3.20.** Uvažujme Leslieho model růstu pro populaci krys, které máme rozděleny do tří věkových skupin: do jednoho roku, od jednoho do dvou let a od dvou let do tří. Předpokládáme, že se žádná krysa nedožívá více než tří let. Průměrná porodnost v jednotlivých věkových skupinách připadajících na jednu krysu je následující: v 1. skupině je to nula a ve druhé i třetí 2 krysy. Krysy, které se dožijí jednoho roku umírají až po druhém roce života (úmrtnost ve druhé skupině je nulová). Určete úmrtnost v první skupině víte-li, že daná populace krys stagnuje (počet jedinců v ní se nemění).

### C. Markovovy procesy

**3.21. Mlsný hazardér.** Hazardní hráč sází na to, která strana mince padne. Na začátku hry má tři kremrole. Na každý hod vsadí jednu kremroli a když jeho tip vyjde, tak k ní získá jednu navíc, pokud ne, tak kremroli prohrává. Hra končí, pokud všechny kremrole prohraje, nebo jich získá pět. Jaká je pravděpodobnost, že hra neskončí po čtyřech sázkách?

**Řešení.** Před  $j$ -tým kolem (sázkou) můžeme popsat stav, ve kterém se hráč nachází náhodným vektorem  $X_j = (p_0(j), p_1(j), p_2(j), p_3(j), p_4(j), p_5(j))$ , kde  $p_i$  je pravděpodobnost, že hráč má  $i$  kremrolí. Pokud má hráč před  $j$ -tou sázkou  $i$  kremrolí ( $i=2,3,4$ ), tak po sázce má s poloviční pravděpodobností  $(i - 1)$  kremrolí a s poloviční pravděpodobností  $(i + 1)$  kremrolí. Pokud dosáhne pěti kremrolí nebo všechny prohraje už se počet kremrolí nemění. Vektor  $X_{j+1}$  tak získáme podle podmínek v příklání z  $X_j$  vynásobením maticí

$$A := \begin{pmatrix} 1 & 0,5 & 0 & 0 & 0 & 0 \\ 0 & 0 & 0,5 & 0 & 0 & 0 \\ 0 & 0,5 & 0 & 0,5 & 0 & 0 \\ 0 & 0 & 0,5 & 0 & 0,5 & 0 \\ 0 & 0 & 0 & 0,5 & 0 & 0 \\ 0 & 0 & 0 & 0 & 0,5 & 1 \end{pmatrix}.$$

Na začátku máme

$$X_1 = \begin{pmatrix} 0 \\ 0 \\ 0 \\ 1 \\ 0 \\ 0 \end{pmatrix},$$

po čtyřech sázkách bude situaci popisovat náhodný vektor

$$X_5 = A^4 X_1 = \begin{pmatrix} \frac{1}{32} \\ \frac{3}{16} \\ 0 \\ \frac{5}{16} \\ 0 \\ \frac{3}{8} \end{pmatrix},$$

tedy pravděpodobnost, že hra skončí do čtvrté sázky (včetně) je polovina.

Všimněme si ještě, že matice  $A$  popisující vývoj pravděpodobnostního vektoru  $X$  je pravděpodobnostní, tedy má součet prvků v každém sloupci 1. Nemá ale vlastnost vyžadovanou v Perronově–Frobeniově větě a snadným výpočtem zjistíte (nebo přímo uvidíte bez počítání), že existují dva lineárně nezávislé vlastní vektory příslušné k vlastnímu číslu 1 – případ, kdy hráči nezůstane žádná krémrole, tj.  $x = (1, 0, 0, 0, 0, 0)^T$ , nebo případ kdy získá 5 krémrolí a hra tím pádem končí a všechny mu už zůstávají, tj.  $x = (0, 0, 0, 0, 0, 1)^T$ . Všechna ostatní vlastní čísla (přibližně 0, 8, 0, 3, -0, 8, -0, 3) jsou v absolutní hodnotě ostře menší než jedna. Proto komponenty v příslušných vlastních podprostorech při iteraci procesu s libovolnou počáteční hodnotou vymizí a proces se blíží k limitní hodnotě pravděpodobnostního vektoru tvaru  $(a, 0, 0, 0, 0, 1-a)$ , kde hodnota  $a$  závisí na počtu krémrolí, se kterými hráč začíná. V našem případě je to  $a = 0, 4$ , kdyby začal se 4 krémrolemi, bylo by to  $a = 0, 2$  atd.  $\square$

**3.22. Půjčovna aut.** Firma půjčující každý týden auta má dvě pobočky - jednu v Brně a jednu v Praze. Auto zapůjčené v Brně lze vrátit i v Praze a naopak. Po čase se zjistilo, že na konci týdne je vždy v Praze vráceno zhruba 80 % z aut vypůjčených v Praze a 90 % z aut vypůjčených v Brně.

Jak je potřeba rozdělit auta mezi pobočky, aby na obou byl na začátku týdne vždy stejný počet aut jako předchozí týden?

Jak bude vypadat situace po jisté dlouhé době, pokud jsou auta mezi pobočky na začátku náhodně rozdělena?

**Řešení.** Hledaný počáteční počet aut v Brně označme  $x_B$  a v Praze  $x_P$ . Stav rozmístění aut mezi pobočkami je tedy popsán vektorem  $x = \begin{pmatrix} x_B \\ x_P \end{pmatrix}$ . Uvážíme-li takový násobek vektoru  $x$ , že součet jeho složek je 1, pak dávají jeho složky procentuální rozmístění aut.

což je zjevně také vektorový podprostor v  $V$ .

Budeme v dalším pracovat prakticky pouze s konečně-rozměrnými unitárními nebo euklidovskými prostory. Řada našich výsledků ale má přirozené rozšíření pro tzv. Hilbertovy prostory, což jsou jisté nekonečně-rozměrné prostory se skalárním součinem, ke kterým se aspoň stručně vrátíme později.

**Tvrzení.** Pro každý konečně-rozměrný prostor  $V$  dimenze  $n$  se skalárním součinem platí:

- (1) Ve  $V$  existuje ortonormální báze.
- (2) Každý systém nenulových ortogonálních vektorů ve  $V$  je lineárně nezávislý a lze jej doplnit do ortogonální báze.
- (3) Pro každý systém lineárně nezávislých vektorů  $(u_1, \dots, u_k)$  existuje ortonormální báze  $(v_1, \dots, v_n)$  taková, že její vektory postupně generují stejné podprostory jako vektory  $u_j$ , tzn.  $\langle v_1, \dots, v_i \rangle = \langle u_1, \dots, u_i \rangle$ ,  $1 \leq i \leq k$ .
- (4) Je-li  $(u_1, \dots, u_n)$  ortonormální báze  $V$ , pak souřadnice každého vektoru  $u \in V$  jsou vyjádřeny vztahem

$$u = (u \cdot u_1)u_1 + \dots + (u \cdot u_n)u_n.$$

- (5) V libovolné ortonormální bázi má skalární součin souřadný tvar

$$u \cdot v = x \cdot y = x_1 \bar{y}_1 + \dots + x_n \bar{y}_n$$

kde  $x$  a  $y$  jsou sloupce souřadnic vektorů  $u$  a  $v$  ve zvolené bázi. Zejména je tedy každý  $n$ -rozměrný prostor se skalárním součinem izomorfní standardnímu euklidovskému  $\mathbb{R}^n$  nebo unitárnímu  $\mathbb{C}^n$ .

- (6) Ortogonální součet unitárních podprostorů  $V_1 + \dots + V_k$  ve  $V$  je vždy přímý součet.
- (7) Je-li  $A \subset V$  libovolná podmnožina, pak  $A^\perp \subset V$  je vektorový (tedy i unitární) podprostor a  $(A^\perp)^\perp \subset V$  je právě podprostor generovaný  $A$ . Navíc platí  $V = \langle A \rangle \oplus A^\perp$ .
- (8)  $V$  je ortogonálním součtem  $n$  jednorozměrných unitárních podprostorů.

**DŮKAZ.** (1),(2),(3): Daný systém vektorů nejprve doplníme do libovolné báze  $(u_1, \dots, u_n)$  vektorového prostoru  $V$  a spustíme na ni Grammovu–Schmidtovu ortogonalizaci z 2.42. Tak získáme ortogonální bázi s vlastnostmi požadovanými v (3). Přitom ale z algoritmu Grammovy–Schmidtovy ortogonalizace vyplývá, že pokud již původních  $k$  vektorů tvořilo ortogonální systém vektorů, pak v průběhu ortogonalizace zůstanou nezměněny. Dokázali jsme tedy zároveň i (2) a (1).

- (4): Je-li  $u = a_1 u_1 + \dots + a_n u_n$ , pak

$$u \cdot u_i = a_1 (u_1 \cdot u_i) + \dots + a_n (u_n \cdot u_i) = a_i \|u_i\|^2 = a_i$$

- (5): Podobně spočteme pro  $u = x_1 u_1 + \dots + x_n u_n$ ,  $v = y_1 u_1 + \dots + y_n u_n$

$$u \cdot v = (x_1 u_1 + \dots + x_n u_n) \cdot (y_1 u_1 + \dots + y_n u_n) = x_1 \bar{y}_1 + \dots + x_n \bar{y}_n.$$

(6): Potřebujeme ukázat, že pro libovolnou dvojici  $V_i, V_j$  ze zadaných podprostorů je jejich průnik triviální. Je-li však  $u \in V_i$  a zároveň  $u \in V_j$ , pak je  $u \perp u$ , tj.  $u \cdot u = 0$ . To je ale možné pouze pro nulový vektor  $u \in V$ .

(7): Nechť  $u, v \in A^\perp$ . Pak  $(au + bv) \cdot w = 0$  pro všechny  $w \in A$ ,  $a, b \in \mathbb{K}$  (z distributivity skalárního součinu). Tím jsme ověřili, že  $A^\perp$  je unitární podprostor ve  $V$ . Nechť  $(v_1, \dots, v_k)$  je nějaká báze  $\langle A \rangle$ , vybraná z prvků  $A$ ,  $(u_1, \dots, u_k)$  ortonormální báze vzniklá z Grammovy-Schmidtovy ortogonalizace vektorů  $(v_1, \dots, v_k)$ . Doplňme ji na ortonormální bázi celého  $V$  (obojí existuje podle již dokázaných částí věty). Protože se jedná o ortogonální bázi, je nutně  $\langle u_{k+1}, \dots, u_n \rangle = \langle u_1, \dots, u_k \rangle^\perp = A^\perp$  a  $A \subset \langle u_{k+1}, \dots, u_n \rangle^\perp$  (jak plyne z vyjádření souřadnic v ortonormální bázi). Je-li  $u \perp \langle u_{k+1}, \dots, u_n \rangle$ , pak  $u$  je nutně lineární kombinací vektorů  $u_1, \dots, u_k$ , to je ale právě tehdy, když je lineární kombinací vektorů  $v_1, \dots, v_k$ , což je ekvivalentní příslušnosti  $u$  do  $\langle A \rangle$ .

(8): Je pouze ekvivalentní formulací existence ortonormální báze.  $\square$

3.32

**3.22. Důležité vlastnosti velikosti.** Nyní máme vše připraveno pro základní vlastnosti spojené s naší definicí velikosti vektorů. Hovoříme také o *normě* definované skalárním součinem. Všimněme si také, že všechna tvrzení se týkají vždy konečných množin vektorů a jejich platnost proto nezávisí na dimenzi prostoru  $V$ , ve kterém se vše odehrává.

**Věta.** Pro libovolné vektory  $u, v$  v prostoru  $V$  se skalárním součinem platí

- (1)  $\|u+v\| \leq \|u\| + \|v\|$  Přitom rovnost nastane právě, když jsou  $u$  a  $v$  lineárně závislé.  
(trojúhelníková nerovnost)
- (2)  $|u \cdot v| \leq \|u\| \|v\|$  Přitom rovnost nastane právě, když jsou  $u$  a  $v$  lineárně závislé.  
(Cauchyova nerovnost)
- (3) pro každý ortonormální systém vektorů  $(e_1, \dots, e_k)$  platí  $\|u\|^2 \geq |u \cdot e_1|^2 + \dots + |u \cdot e_k|^2$   
(Besselova nerovnost).
- (4) Pro ortonormální systém vektorů  $(e_1, \dots, e_k)$  je vektor  $u$  v podprostoru  $\langle e_1, \dots, e_k \rangle$  právě když

$$\|u\|^2 = |u \cdot e_1|^2 + \dots + |u \cdot e_k|^2.$$

(Parsevalova rovnost)

- (5) Pro ortonormální systém vektorů  $(e_1, \dots, e_k)$  a  $u \in V$  je vektor

$$w = (u \cdot e_1)e_1 + \dots + (u \cdot e_k)e_k$$

jediným vektorem, který minimalizuje velikost  $\|u - v\|$  pro všechny  $v \in \langle e_1, \dots, e_k \rangle$ .

**DŮKAZ.** Všechny důkazy spočívají v podstatě v přímých výpočtech:

Na konci týdne bude podle zadání stav popsán vektorem  $\begin{pmatrix} 0, 1 & 0, 2 \\ 0, 9 & 0, 8 \end{pmatrix} \begin{pmatrix} x_B \\ x_P \end{pmatrix}$ . Matice  $A = \begin{pmatrix} 0, 1 & 0, 2 \\ 0, 9 & 0, 8 \end{pmatrix}$  tedy popisuje náš (lineární) systém půjčování aut. Pokud má být na konci týdne v pobočkách stejně aut jako na začátku, pak hledáme takový vektor  $x$ , pro který platí  $Ax = x$ . To znamená, že hledáme vlastní vektor matice  $A$  příslušný vlastnímu číslu 1.

Charakteristický polynom matice  $A$  je  $(0, 1-\lambda)(0, 8-\lambda) - 0, 9 \cdot 0, 2 = (\lambda-1)(\lambda+0, 1)$  a 1 je tedy opravdu vlastní hodnota matice  $A$ . Příslušný vlastní vektor  $x = \begin{pmatrix} x_B \\ x_P \end{pmatrix}$  splňuje rovnici  $\begin{pmatrix} -0, 9 & 0, 2 \\ 0, 9 & -0, 2 \end{pmatrix} \begin{pmatrix} x_B \\ x_P \end{pmatrix} = 0$ .

Je to tedy násobek vektoru  $\begin{pmatrix} 0, 2 \\ 0, 9 \end{pmatrix}$ . Pro zjištění procentuálního rozložení hledáme takový násobek, aby  $x_B + x_P = 1$ . To splňuje vektor  $\frac{1}{1,1} \begin{pmatrix} 0, 2 \\ 0, 9 \end{pmatrix} = \begin{pmatrix} 0, 18 \\ 0, 82 \end{pmatrix}$ . Správné rozložení aut mezi Brnem a Prahou je takové, že 18% aut bude v Brně a 82% aut v Praze.

Pokud zvolíme libovolný počáteční stav  $x = \begin{pmatrix} x_B \\ x_P \end{pmatrix}$ , pak bude stav za  $n$  týdnů popsán vektorem  $x_n = A^n x$ . Nyní je výhodné vyjádřit počáteční vektor  $x$  v bázi vlastních vektorů matice  $A$ . Vlastní vektor k vlastnímu číslu 1 už jsme našli a podobně se nalezne vlastní vektor k vlastnímu číslu  $-0, 1$ . Tím je například vektor  $\begin{pmatrix} -1 \\ 1 \end{pmatrix}$ .

Počáteční vektor tedy můžeme vyjádřit jako lineární kombinaci  $x = a \begin{pmatrix} 0, 2 \\ 0, 9 \end{pmatrix} + b \begin{pmatrix} -1 \\ 1 \end{pmatrix}$ . Stav po  $n$  týdnech je pak

$$x_n = A^n \left( a \begin{pmatrix} 0, 2 \\ 0, 9 \end{pmatrix} + b \begin{pmatrix} -1 \\ 1 \end{pmatrix} \right) = a \begin{pmatrix} 0, 18 \\ 0, 82 \end{pmatrix} + b(-0, 1)^n \begin{pmatrix} -1 \\ 1 \end{pmatrix}$$

Druhý sčítanec se pro  $n \rightarrow \infty$  blíží nule a proto se stav ustálí na  $a \begin{pmatrix} 0, 18 \\ 0, 82 \end{pmatrix}$ , tedy složce počátečního vektoru ve směru prvního vlastního vektoru. Koeficient  $a$  lze jednoduše vyjádřit pomocí počátečních počtů aut:  $a = \frac{x_B + x_P}{1,1}$ .  $\square$

**3.23. Sledovanost televizí.** V jisté zemi vysílají jisté dvě televizní stanice. Z veřejného výzkumu vyplynulo, že po jednom roce přejde 1/6 diváků první stanice ke druhé stanici, 1/5 diváků druhé stanice přejde k první stanici. Popište časový vývoj počtu diváků sledujících dané stanice jako Markovův proces, napište jeho matici, naleznete její vlastní čísla a vlastní vektory.

**3.24. Studenti na přednášce.** Studenty můžeme rozdělit řekněme do tří skupin - na ty, co jsou přítomni na přednášce a vnímají, na ty, co jsou rovněž přítomni, ale nevnímají a na ty, co sedí místo přednášky v hospodě. Nyní budeme hodinu po hodině sledovat, jak se mění počty studentů v těchto skupinách. Základem je vypočítat, jaké jsou jednotlivé pravděpodobnosti změny stavu studenta. Dejme tomu, že by to mohlo být následovně:

Student, který vnímá: s pravděpodobností 50% zůstane vnímat, 40% přestane vnímat a 10% odejde do hospody. Student, který je na přednášce a nevnímá: začne vnímat s pravděpodobností 10%, zůstane ve stejném stavu 50%, odejde do hospody 40%. Student, který sedí v hospodě má nulovou pravděpodobnost, že se vrátí na přednášku.

Jak se bude tento model vyvíjet v čase? Jak se situace změní, pokud budeme předpokládat aspoň desetiprocentní pravděpodobnost toho, že se student vrátí z hospody na přednášku (tu ovšem samozřejmě nevnímá)?

**Řešení.** Ze zadání se jedná o Markovův proces s maticí  $\begin{pmatrix} 0,5 & 0,1 & 0 \\ 0,4 & 0,5 & 0 \\ 0,1 & 0,4 & 1 \end{pmatrix}$ . Její charakteristický polynom je  $(0,5 - \lambda)^2(1 - \lambda) - 0,4(1 - \lambda) = 0$ . Evidentně je tedy 1 vlastní číslo této matice (další kořeny jsou pak 0,3 a 0,7). Postupem času se tedy studenti rozdělí do skupin tak, že stav bude popsán příslušným vlastním vektorem. Ten je řešením rovnice  $\begin{pmatrix} -0,5 & 0,1 & 0 \\ 0,4 & -0,5 & 0 \\ 0,1 & 0,4 & 0 \end{pmatrix} \begin{pmatrix} x \\ y \\ z \end{pmatrix} = 0$ , což jsou právě násobky vektoru (0,0,1). Jinými slovy, všichni studenti po čase skončí v hospodě.

Tento výsledek je zřejmý i bez počítání - tím, že je nulová pravděpodobnost odchodu studenta do školy, se budou studenti postupně hromadit v hospodě. Přidáním desetiprocentní možnosti odchodu studenta do školy se toto změní. Příslušná matice bude  $\begin{pmatrix} 0,5 & 0,1 & 0 \\ 0,4 & 0,5 & 0,1 \\ 0,1 & 0,4 & 0,9 \end{pmatrix}$ . Opět platí, že se stav usálí na vlastním vektoru příslušnému vlastnímu číslu 1. Ten je v tomto případě řešením rovnice

$$\begin{pmatrix} -0,5 & 0,1 & 0 \\ 0,4 & -0,5 & 0,1 \\ 0,1 & 0,4 & -0,1 \end{pmatrix} \begin{pmatrix} x \\ y \\ z \end{pmatrix} = 0.$$

Řešením je například vektor (1, 5, 21). Poměrné rozložení studentů v jednotlivých skupinách pak dá násobek tohoto vektoru, který má součet složek roven 1, tj. vektor  $(\frac{1}{27}, \frac{5}{27}, \frac{21}{27})$ . Opět tedy většina studentů skončí v hospodě, někteří ale ve škole budou.  $\square$

Ruleta

**3.25. Ruleta.** Hráč rulety má následující strategii: přišel hrát se 100 Kč. Vždy všechno, co aktuálně má. Sází vždy na černou (v ruletě je 37 čísel, z toho je 18 černých, 18 červených a nula). Hráč skončí, pokud nic nemá, nebo pokud získá 800 Uvažte tuto úlohu jako Markovův proces a napište jeho matici.

**Řešení.** V průběhu a na konci hry může mít hráč pouze následující peněžní obnosy (v Kč): 0, 100, 200, 400, 800. Budeme-li na danou situaci nahlížet jako na Markovův proces, toto budou jeho stavy a snadno také

(2): Definujme vektor  $w := u - \frac{u \cdot v}{v \cdot v} v$ , tzn.  $w \perp v$  a počítejme

$$0 \leq \|w\|^2 = \|u\|^2 - \frac{(u \cdot v)^2}{\|v\|^2} - \frac{u \cdot v}{\|v\|^2} (v \cdot u) + \frac{(u \cdot v)(\overline{u \cdot v})}{\|v\|^4} \|v\|^2$$

$$0 \leq \|w\|^2 \|v\|^2 = \|u\|^2 \|v\|^2 - 2(u \cdot v)(\overline{u \cdot v}) + (u \cdot v)(\overline{u \cdot v})$$

Odtud již přímo plyne, že  $\|u\|^2 \|v\|^2 \geq |u \cdot v|^2$  a rovnost nastane právě tehdy, když  $w = 0$ , tj. když jsou  $u$  a  $v$  lineárně závislé.

(1): Opět stačí počítat

$$\begin{aligned} \|u + v\|^2 &= \|u\|^2 + \|v\|^2 + u \cdot v + v \cdot u \\ &= \|u\|^2 + \|v\|^2 + 2 \operatorname{Re}(u \cdot v) \\ &\leq \|u\|^2 + \|v\|^2 + 2|u \cdot v| \leq \|u\|^2 + \|v\|^2 + 2\|u\| \|v\| \\ &= (\|u\| + \|v\|)^2 \end{aligned}$$

Protože se přitom jedná o kladná reálná čísla, je opravdu  $\|u + v\| \leq \|u\| + \|v\|$ . Navíc, při rovnosti musí nastat rovnost ve všech předchozích nerovnostech, to však je ekvivalentní podmínce, že  $u$  a  $v$  jsou lineárně závislé (podle předchozí části důkazu).

(3), (4): Nechť  $(e_1, \dots, e_k)$  je ortonormální systém vektorů. Doplňme jej do ortonormální báze  $(e_1, \dots, e_n)$  (to vždy jde podle předchozí věty). Pak, opět podle předchozí věty, je pro každý vektor  $u \in V$

$$\|u\|^2 = \sum_{i=1}^n (u \cdot e_i)(\overline{u \cdot e_i}) = \sum_{i=1}^n |u \cdot e_i|^2 \geq \sum_{i=1}^k |u \cdot e_i|^2$$

To je ale právě dokazovaná Besselova nerovnost. Přitom rovnost může nastat právě tehdy, když  $u \cdot e_i = 0$  pro všechny  $i > k$ , a to dokazuje Parsevalovu rovnost.

(5): Zvolme libovolný  $v \in \langle e_1, \dots, e_k \rangle$  a doplňme daný ortonormální systém na ortonormální bázi  $(e_1, \dots, e_n)$ . Nechť  $(u_1, \dots, u_n)$  a  $(x_1, \dots, x_k, 0, \dots, 0)$  jsou souřadnice  $u$  a  $v$  v této bázi. Pak

$$\|u - v\|^2 = |u_1 - x_1|^2 + \dots + |u_k - x_k|^2 + |u_{k+1}|^2 + \dots + |u_n|^2$$

a tento výraz je zjevně minimalizován při volbě jednotlivých vektorů  $x_1 = u_1, \dots, x_k = u_k$ .  $\square$

**3.23. Vlastnosti unitárních zobrazení.** Vlastnosti ortogonálních zobrazení mají přímočarou obdobu v komplexním oboru. Můžeme je snadno zformulovat a dokázat společně:

**Tvrzení.** Uvažme lineární zobrazení (endomorfismus)  $\varphi : V \rightarrow V$  na prostoru se skalárním součinem. Pak jsou následující podmínky ekvivalentní:

- (1)  $\varphi$  je unitární nebo ortogonální transformace
- (2)  $\varphi$  je lineární isomorfismus a pro každé  $u, v \in V$  platí  $\varphi(u) \cdot v = u \cdot \varphi^{-1}(v)$
- (3) matice  $A$  zobrazení  $\varphi$  v libovolné ortonormální bázi splňuje  $A^{-1} = \bar{A}^T$  (pro euklidovské prostory to znamená  $A^{-1} = A^T$ )
- (4) matice  $A$  zobrazení  $\varphi$  v některé ortonormální bázi splňuje  $A^{-1} = \bar{A}^T$

- (5) řádky matice  $A$  zobrazení  $\varphi$  v ortonormální bázi tvoří ortonormální bázi prostoru  $\mathbb{K}^n$  se standardním skalárním součinem
- (6) sloupce matice  $A$  zobrazení  $\varphi$  v ortonormální bázi tvoří ortonormální bázi prostoru  $\mathbb{K}^n$  se standardním skalárním součinem

DŮKAZ. (1)  $\Rightarrow$  (2): Zobrazení  $\varphi$  je prosté, proto musí být i na. Platí přitom  $\varphi(u) \cdot v = \varphi(u) \cdot \varphi(\varphi^{-1}(v)) = u \cdot \varphi^{-1}(v)$ .

(2)  $\Rightarrow$  (3): Standardní skalární součin je v  $\mathbb{K}^n$  vždy dán pro sloupce  $x, y$  skalárů výrazem  $x \cdot y = x^T E \bar{y}$ , kde  $E$  je jednotková matice. Vlastnost (2) tedy znamená, že matice  $A$  zobrazení  $\varphi$  je invertibilní a platí  $(Ax)^T \bar{y} = x^T \overline{A^{-1}y}$ . To znamená  $\bar{x}^T (\overline{A^T y} - \overline{A^{-1}y}) = 0$  pro všechny  $x \in \mathbb{K}^n$ . Zejména dosažením výrazu v závorce za  $x$  zjistíme, že to je možné pouze při  $\overline{A^T} = \overline{A^{-1}}$ .

(3)  $\Leftrightarrow$  (4): Je-li  $\overline{A^T} = \overline{A^{-1}}$  v některé ortonormální bázi, pak to zaručuje platnost podmínky (2) ( $\varphi(u) \cdot v = (Ax)^T E \bar{y} = x^T E \overline{A^{-1}y} = u \cdot \varphi^{-1}(v)$ ) a tedy i (3).

(4)  $\Rightarrow$  (5) Dokazované tvrzení je vyjádřeno prostřednictvím matice  $A$  zobrazení  $\varphi$  vztahem  $A \overline{A^T} = E$ , to je ale zaručeno podmínkou (4).

(5)  $\Rightarrow$  (6): Protože pro determinant platí  $|\overline{A^T} A| = |E| = |\overline{A A^T}| = |A| |\overline{A}| = 1$ , existuje inverzní matice  $A^{-1}$ . Přitom je  $A \overline{A^T} A = A$ , proto i  $\overline{A^T} A = E$  což vyjadřuje právě (6).

(6)  $\Rightarrow$  (1): Ve vybrané ortonormální bázi je

$$\varphi(u) \cdot \varphi(v) = (Ax)^T \overline{(Ay)} = x^T \overline{A \bar{y}} = x^T \overline{E \bar{y}} = x^T \bar{y}$$

kde  $x$  a  $y$  jsou sloupce souřadnic vektorů  $u$  a  $v$ . Tím je zaručeno zachování skalárního součinu.  $\square$

Charakterizace z předchozí věty si zaslouží několik poznámek. Matice  $A \in \text{Mat}_n(\mathbb{K})$  s vlastností  $A^{-1} = \overline{A^T}$  se nazývají *unitární matice* pro komplexní skaláry (a v případě  $\mathbb{R}$  jsme jim již říkali *ortogonální matice*). Z definiční vlastnosti plyne, že součin unitárních (resp. ortogonálních) matic je unitární (resp. ortogonální), stejně pro inverze. Unitární matice tedy tvoří podgrupu  $U(n) \subset \text{Mat}_n(\mathbb{C})$ , ortogonální matice tvoří podgrupu  $O(n) \subset \text{Mat}_n(\mathbb{R})$ . Hovoříme o *unitární grupě* a o *ortogonální grupě*.

Jednoduchý výpočet

$$1 = \det E = \det(A \overline{A^T}) = \det A \overline{\det A} = |\det A|^2$$

ukazuje, že determinant unitární matice má vždy velikost rovnu jedné, v případě reálných skalárů pak determinant musí být  $\pm 1$ . Dále, je-li  $Ax = \lambda x$  pro unitární či ortogonální matici, pak  $(Ax) \cdot (Ax) = x \cdot x = |\lambda|^2 (x \cdot x)$ . Proto jsou vlastní hodnoty ortogonálních matic v reálném oboru rovny  $\pm 1$ , vlastní hodnoty unitárních matic jsou vždy komplexní jednotky v komplexní rovině.

Stejně jako u ortogonálních zobrazení také docela snadno ověříme, že ortogonální doplňky k invariantním podprostorům vzhledem k unitárnímu  $\varphi : V \rightarrow V$  jsou vždy také invariantní. Skutečně, je-li  $\varphi(U) \subset U$ ,  $u \in U$  a  $v \in U^\perp$

sestavíme jeho matici:

$$A = \begin{pmatrix} 1 & a & a & a & 0 \\ 0 & 0 & 0 & 0 & 0 \\ 0 & b & 0 & 0 & 0 \\ 0 & 0 & b & 0 & 0 \\ 0 & 0 & 0 & b & 1 \end{pmatrix},$$

kde  $a = \frac{19}{37}$  a  $b = \frac{18}{37}$ . Všimněme si, že matice je pravděpodobnostní a singularní. Vlastní hodnota 1 je dvojnásobná. Hra nebude konvergovat k jedinému vektoru  $x_\infty$ , nýbrž skončí na jednom z vlastních vektorů příslušných vlastní hodnotě 1, totiž  $(1, 0, 0, 0, 0)$  (hráč prohraje vše), nebo  $(0, 0, 0, 0, 1)$  (hráč vyhraje 800 Kč). Navíc snadno nahlédneme, že hra skončí po třech sázkách, tedy posloupnost  $\{A^n\}_{n=1}^\infty$  je konstantní pro  $n \geq 3$ :

$$A^\infty := A^3 = A^n = \begin{pmatrix} 1 & a + ab + ab^2 & a + ab & a & 0 \\ 0 & 0 & 0 & 0 & 0 \\ 0 & 0 & 0 & 0 & 0 \\ 0 & 0 & 0 & 0 & 0 \\ 0 & b^3 & b^2 & b & 1 \end{pmatrix}$$

a snadno zjistíme, že hra skončí s pravděpodobností  $a + ab + ab^2 \doteq 0,885$  prohrou a s pravděpodobností cca 0,115 výhrou 800 Kč. (Maticí  $A^\infty$  vynásobíme počáteční vektor  $(0, 1, 0, 0, 0)$  a dostáváme vektor  $(a + ab + ab^2, 0, 0, 0, b^3)$ .)  $\square$

3.26. Uvažujme situaci z předchozího případu a předpokládejme, že pravděpodobnost výhry i prohry je  $1/2$ . Označme matici procesu  $A$ . Bez použití výpočetního software určete  $A^{100}$ .

**3.27. Roztržitý profesor.** Uvažujme následující situaci: Roztržitý profesor s sebou nosí deštník, ale s pravděpodobností  $1/2$  jej zapomene tam, odkud odchází. Ráno odchází do práce. V práci chodí na oběd do restaurace a zpět. Po skončení práce odchází domů. Uvažujme pro jednoduchost, že nikam jinam po dostatečně dlouhou dobu profesor nechodí a že v restauraci zůstává deštník na profesorově oblíbeném místě, odkud si ho může následující den vzít (pokud nezapomene). Uvažte tuto situaci jako Markovův proces a napište jeho matici. Jaká je pravděpodobnost, že se po mnoha dnech po ránu deštník bude nalézat v restauraci? (Je vhodné za časovou jednotku vzít jeden den – od rána do rána.)

**Řešení.**

$$A = \begin{pmatrix} 11/16 & 3/8 & 1/4 \\ 3/16 & 3/8 & 1/4 \\ 1/8 & 1/4 & 1/2 \end{pmatrix}$$

Spočítejme třeba prvek  $a_1^1$ , tedy pravděpodobnost, že deštník začne den doma a skončí doma (bude tam i druhý den ráno): deštník může putovat třemi disjunktními cestami:

D Profesor ho hned ráno zapomene doma:  $p_1 = \frac{1}{2}$ .

DPD Profesor si ho vezme do práce, pak ho zapomene vzít na oběd a poté ho večer odnese domů:  $p_2 = \frac{1}{2} \cdot \frac{1}{2} \cdot \frac{1}{2} = \frac{1}{8}$ .

DPRPD Profesor bere deštník všude a nikde ho nezapomene:  $p_3 = \frac{1}{2} \cdot \frac{1}{2} \cdot \frac{1}{2} \cdot \frac{1}{2} = \frac{1}{16}$ .

Celkem  $a_1^1 = p_1 + p_2 + p_3 = \frac{11}{16}$ .

Vlastní vektor této matice příslušný dominantní vlastní hodnotě 1 je  $(2, 1, 1)$ , je tedy hledaná pravděpodobnost  $1/(2 + 1 + 1) = 4$ .  $\square$

**3.28. Algoritmus na určování důležitosti stránek.** Internetové vyhledávací umí na internetu vyhledat (skoro) všechny stránky obsahující dané slovo či frázi. Jak ale setřídít vyhledané stránky tak, aby uživatel dostal pokud možno seznam seřazený podle relevance daných stránek? Jednou z možností je následující algoritmus: soubor všech nalezených stránek považujeme za systém a každou z nalezených stránek za jeden z jeho možných stavů. Popíšeme náhodné procházení těchto stránek jako Markovův proces. Pravděpodobnosti přechodu mezi jednotlivými stránkami jsou dány odkazy: každý odkaz, řekněme ze stránky A na stránku B určuje pravděpodobnost  $(1/(\text{celkový počet odkazů ze stránky A}))$ , se kterou se dostaneme ze stránky A na stránku B. Pokud z některé stránky nevedou žádné odkazy, tak ji uvažujeme jako stránku, ze které vedou odkazy na všechny ostatní. Tímto dostaneme pravděpodobnostní matici M (prvek  $m_{ij}$  odpovídá pravděpodobnosti, se kterou se dostaneme z  $i$ -té stránky na  $j$ -tou). Bude-li tedy člověk náhodně klikat na odkazy v nalezených stránkách (pokud se dostane na stránku, ze které nevede odkaz, vybere si náhodně další), tak pravděpodobnost toho, že se v daný okamžik (dostatečně vzdálený od počátku klikání) bude nalézat na  $i$ -té stránce odpovídá  $i$ -té složce jednotkového vlastního vektoru matice M, odpovídajícího vlastnímu číslu 1. Podle velikosti těchto pravděpodobností pak určíme důležitost jednotlivých stránek.

Tento algoritmus lze modifikovat tím, že budeme předpokládat, že uživatel po nějaké době přestane klikat z odkazu na odkaz a opět začne náhodně na nějaké nové stránce. Řekněme, že s pravděpodobností  $d$  vybere náhodně novou stránku a s pravděpodobností  $(1-d)$  v takovéto situaci je nyní pravděpodobnost přechodu mezi libovolnými dvěma stránkami  $S_i$  a  $S_j$  nenulová, je to totiž  $d/n + (1-d)/(\text{celkový počet odkazů ze stránky } S_i)$ , pokud ze stránky  $S_i$  vede odkaz na  $S_j$ , pokud ne, tak je tato pravděpodobnost  $d/n$  ( $1/n$ , pokud z  $S_i$  nevedou žádné odkazy). podle Frobeniovy-Perronovy věty je vlastní hodnota 1 jednonásobná a dominantní, takže jí odpovídající vlastní vektor je jediný (pokud bychom volili pravděpodobnosti přechodu pouze způsobem z předchozího odstavce, tak by tomu tak nemuselo být).

libovolné, pak

$$\varphi(v) \cdot \varphi(\varphi^{-1}(u)) = v \cdot \varphi^{-1}(u).$$

Protože je zúžení  $\varphi|_U$  také unitární, musí to tedy být bijekce, zejména je  $\varphi^{-1}(u) \in U$ . Pak ovšem  $\varphi(v) \cdot u = 0$ , protože  $v \in U^\perp$ . To znamená, že i  $\varphi(v) \in U^\perp$ .

Odtud ovšem v komplexním oboru okamžitě dotáváme užitečný

**Důsledek.** *Nechť  $\varphi : V \rightarrow V$  je unitární zobrazení komplexních vektorových prostorů. Pak je  $V$  ortogonálním součtem jednorozměrných vlastních podprostorů.*

**DŮKAZ.** Jistě existuje alespoň jeden vlastní vektor  $v \in V$ . Pak je zúžení  $\varphi$  na invariantní podprostor  $\langle v \rangle^\perp$  opět unitární a jistě má opět nějaký vlastní vektor. Po  $n$  takovýchto krocích obdržíme hledanou ortogonální bázi z vlastních vektorů. Po vynormování vektorů získáme ortonormální bázi.  $\square$

Nyní už je možné snadno pochopit detaily důkazu spektrálního rozkladu ortogonálního zobrazení z 2.50 na konci druhé kapitoly — reálnou matici ortogonálního zobrazení interpretujeme jako matici unitárního zobrazení na komplexním rozšíření euklidovského prostoru a pečlivě sledujeme důsledky struktury kořenů reálného charakteristického polynomu nad komplexním oborem. Automaticky přitom dostáváme invariantní dvourozměrné podprostory zadané dvojicemi komplexně sdružených vlastních čísel a tedy příslušné rotace pro zúžené původní reálné zobrazení.

**3.24. Duální a adjungovaná zobrazení.** Při diskusi vektorových prostorů a lineárních zobrazení jsme již ve druhé kapitole letmo zmínili duální vektorový prostor  $V^*$  všech lineárních forem na vektorovém prostoru  $V$ , viz 2.39.

Pro každé lineární zobrazení mezi vektorovými prostory  $\psi : V \rightarrow W$  můžeme přirozeně definovat zobrazení  $\psi^* : W^* \rightarrow V^*$  vztahem

$$\langle v, \psi^*(\alpha) \rangle = \langle \psi(v), \alpha \rangle,$$

kde  $\langle \cdot, \cdot \rangle$  značí vyčíslení formy (druhý argument) na vektoru (první argument),  $v \in V$  a  $\alpha \in W^*$  jsou libovolné. Zvolme si báze  $\underline{v}$  na  $V$ ,  $\underline{w}$  na  $W$  a matici  $A$  pro zobrazení  $\psi$  v těchto bazích. Pak snadno spočteme v duálních bazích matici zobrazení  $\psi^*$  v příslušných duálních bazích na duálních prostorech. Skutečně, definiční vztah říká, že pokud bychom reprezentovali vektory z  $W^*$  v souřadnicích jako řádky skalárů, pak je zobrazení  $\psi^*$  je dáno toutéž maticí jako  $\psi$ , pokud jí násobíme řádkové vektory zprava:

$$\langle \psi(v), \alpha \rangle = (\alpha_1, \dots, \alpha_n) \cdot A \cdot \begin{pmatrix} v_1 \\ \vdots \\ v_n \end{pmatrix} = \langle v, \psi^*(\alpha) \rangle.$$

To znamená, že maticí duálního zobrazení  $\psi^*$  je transponovaná matice  $A^T$ , protože  $\alpha \cdot A = (A^T \cdot \alpha^T)^T$ .



Předpokládejme nadále, že se pohybujeme ve vektorovém prostoru se skalárním součinem. Jestliže tedy zvolíme pevně jeden vektor  $v \in V$ , dosazování vektorů za druhý argument ve skalárním součinu nám dává zobrazení  $V \rightarrow V^* = \text{Hom}(V, \mathbb{K})$

$$V \ni v \mapsto (w \mapsto \langle v, w \rangle \in \mathbb{K}).$$

Podmínka nedegenerovanosti skalárního součinu nám zaručuje, že toto zobrazení je bijekcí. Zároveň víme, že jde skutečně o lineární zobrazení nad komplexními nebo reálnými skaláry, protože jsme pevně zvolili druhý argument. Na první pohled je vidět, že vektory ortonormální báze jsou takto zobrazeny na formy tvořící bázi duální, a každý vektor můžeme prostřednictvím skalárního součinu chápat také jako lineární formu.

V případě vektorových prostorů se skalárním součinem proto převádí naše ztotožnění vektorového prostoru se svým duálem také duální zobrazení  $\psi^*$  na zobrazení  $\psi^* : W \rightarrow V$  zadané formulí

$$\langle \psi(u), v \rangle = \langle u, \psi^*(v) \rangle,$$

kde stejným značením závorek nyní myslíme skalární součin. Tomuto zobrazení se říká *adjungované zobrazení* k  $\psi$ . Ekvivalentně lze brát poslední vztah za definici zobrazení  $\psi^*$ , např. dosazením všech dvojic vektorů ortonormální báze za vektory  $u$  a  $v$  dostáváme přímo všechny hodnoty matice zobrazení  $\psi^*$ .

Předchozí výpočet pro duální zobrazení v souřadnicích nyní můžeme zopakovat, pouze musíme mít na paměti, že v ortonormálních bazích na unitárních prostorech vystupují souřadnice druhého argumentu konjugované:

$$\begin{aligned} \langle \psi(v), w \rangle &= \overline{(w_1, \dots, w_n)} \cdot A \cdot \begin{pmatrix} v_1 \\ \vdots \\ v_n \end{pmatrix} \\ &= \overline{\left( \bar{A}^T \cdot \begin{pmatrix} w_1 \\ \vdots \\ w_n \end{pmatrix} \right)^T} \cdot \begin{pmatrix} v_1 \\ \vdots \\ v_n \end{pmatrix} = \langle v, \psi^*(w) \rangle \end{aligned}$$

Vidíme proto, že je-li  $A$  matice zobrazení  $\psi$  v ortonormální bázi, pak matice adjungovaného zobrazení  $\psi^*$  je matice transponovaná a konjugovaná, kterou značíme  $A^* = \bar{A}^T$ .

Zvláštním případem lineárních zobrazení jsou tedy ty, které jsou rovny svému adjungovanému zobrazení:  $\psi^* = \psi$ . Takovým zobrazením říkáme *samoadjungovaná*. Ekvivalentně můžeme říci, že jsou to ta zobrazení, jejichž matice  $A$  v jedné a tedy ve všech ortonormálních bazích splňují  $A = A^*$ .

V případě euklidovských prostorů jsou samoadjungovaná zobrazení tedy ta, která mají v některé ortonormální bázi (a pak už všech) symetrickou matici. Často se jim proto říká symetrické matice a symetrická zobrazení. V komplexním oboru se maticím splňujícím  $A = A^*$  říká *hermiteovské matice*. Všimněme si, že hermiteovské matice tvoří reálný

Pro názornost uvažme stránky A, B, C a D. Odkazy vedou z A na B a na C, z B na C a z C na A, z D pak nikam. Uvažujme, že pravděpodobnost toho, že uživatel náhodně zvolí novou stránku je 1/5. Potom by matice M vypadala následovně:

$$M = \begin{pmatrix} 1/20 & 1/20 & 17/20 & 1/4 \\ 9/20 & 1/20 & 1/20 & 1/4 \\ 9/20 & 17/20 & 1/20 & 1/4 \\ 1/20 & 1/20 & 1/20 & 1/4 \end{pmatrix}$$

Vlastní vektor příslušný vlastní hodnotě 1 je  $(305/53, 175/53, 315/53, 1)$ , důležitost stránek tedy bude stanovena v pořadí podle velikosti jeho odpovídajících složek, tedy  $C > A > B > D$ .

**3.29.** Na základě teploty ve 14.00 se rozdělují dny na teplé, průměrné a chladné. Dle celoročních statistik následuje po teplém dni teplý v polovině případů a průměrný ve 30 % případů, po průměrném dnu průměrný ve 40 % případů a chladný ve 30 % případů, po chladném dnu chladný v polovině případů a ve 30 % případů průměrný. Bez dalších informací zjistěte, kolik lze během roku očekávat teplých, průměrných a chladných dnů.

**Řešení.** Pro každý den musí nastat právě jeden ze stavů „teplý den“, „průměrný den“, „chladný den“. Pokud vektor  $x_n$  má za složky pravděpodobnosti toho, že jistý (označený jako  $n$ -tý) den bude teplý, průměrný, chladný (při zachování pořadí), potom složky vektoru

$$x_{n+1} = \begin{pmatrix} 0,5 & 0,3 & 0,2 \\ 0,3 & 0,4 & 0,3 \\ 0,2 & 0,3 & 0,5 \end{pmatrix} \cdot x_n$$

udávají postupně pravděpodobnosti, že následující den bude teplý, průměrný, chladný. Pro ověření stačí dosadit

$$x_n = \begin{pmatrix} 1 \\ 0 \\ 0 \end{pmatrix}, \quad x_n = \begin{pmatrix} 0 \\ 1 \\ 0 \end{pmatrix}, \quad x_n = \begin{pmatrix} 0 \\ 0 \\ 1 \end{pmatrix},$$

přičemž např. pro třetí volbu musíme dostat pravděpodobnosti, že po chladném dnu bude následovat teplý, průměrný, chladný (v tomto pořadí). Vidíme tak, že úloha je Markovovým řetězcem s pravděpodobnostní maticí přechodu

$$T = \begin{pmatrix} 0,5 & 0,3 & 0,2 \\ 0,3 & 0,4 & 0,3 \\ 0,2 & 0,3 & 0,5 \end{pmatrix}.$$

Neboť jsou všechny prvky této matice kladné, existuje pravděpodobnostní vektor

$$x_\infty = (x_\infty^1, x_\infty^2, x_\infty^3)^T,$$

k němuž se blíží vektor  $x_n$  pro zvětšující se  $n$  nezávisle na tom, jaký byl vektor  $x_n$  pro mnohem menší  $n$ . Navíc podle důsledku Perronovy-Frobeniovy věty je  $x_\infty$  vlastním vektorem matice  $T$  pro vlastní číslo 1.

Má tedy platit

$$\begin{aligned} x_{\infty}^1 &= 0,5 x_{\infty}^1 + 0,3 x_{\infty}^2 + 0,2 x_{\infty}^3, \\ x_{\infty}^2 &= 0,3 x_{\infty}^1 + 0,4 x_{\infty}^2 + 0,3 x_{\infty}^3, \\ x_{\infty}^3 &= 0,2 x_{\infty}^1 + 0,3 x_{\infty}^2 + 0,5 x_{\infty}^3, \\ 1 &= x_{\infty}^1 + x_{\infty}^2 + x_{\infty}^3, \end{aligned}$$

kde poslední podmínka znamená, že vektor  $x_{\infty}$  je pravděpodobnostní. Snadno se vypočítá, že tato soustava má jediné řešení

$$x_{\infty}^1 = x_{\infty}^2 = x_{\infty}^3 = \frac{1}{3}.$$

Lze tedy očekávat přibližně stejný počet teplých, průměrných a chladných dnů.

Zdůrazněme, že součet všech čísel z libovolného sloupce matice  $T$  musel být roven 1 (jinak by se nejednalo o Markovův proces). Protože  $T^T = T$  (matice je symetrická), je součet všech čísel z libovolného řádku matice také roven 1. O matici s nezápornými prvky a s vlastností, že součet čísel v každém řádku a rovněž součet čísel v každém sloupci je 1, mluvíme jako o dvojnásobně (dvojitě, dvojně) stochastické. Důležitou vlastností každé dvojnásobně stochastické regulární matice (pro jakýkoli rozměr – počet stavů) je, že jí příslušný vektor  $x_{\infty}$  má všechny složky stejné, tj. po dostatečně dlouhé době vyhodnocování se všechny stavy v odpovídajícím Markovově procesu jeví jako stejně časté.  $\square$

**3.30.** Jirka má ve zvyku si každý večer zaběhat. Má tři trasy – krátkou, střední a dlouhou. Pokud si někdy zvolí krátkou trasu, následující den si to vyčítá a rozhodne se libovolně (tj. se stejnou pravděpodobností) pro dlouhou, nebo střední. Jestliže si v některý den zvolí dlouhou trasu, v následujícím dnu volí zcela libovolně jednu z tras. Pokud běžel středně dlouhou trasu, cítí se dobře a druhý den si se stejnou pravděpodobností vybere buď střední, nebo dlouhou. Předpokládejte, že takto běhá každý večer už velmi dlouhou dobu. Jak často volí krátkou a jak často dlouhou trasu? Jaká je pravděpodobnost, že si zvolí dlouhou trasu, když si ji zvolil přesně před týdnem?

**Řešení.** Zřejmě se jedná o Markovův proces se třemi možnými stavy, a to volbami krátké, střední a dlouhé trasy. Toto pořadí stavů dává pravděpodobnostní matici přechodu

$$T = \begin{pmatrix} 0 & 0 & 1/3 \\ 1/2 & 1/2 & 1/3 \\ 1/2 & 1/2 & 1/3 \end{pmatrix}.$$

Stačí si uvědomit, že např. druhý sloupec odpovídá volbě střední trasy v minulém dnu, která znamená, že s pravděpodobností  $1/2$  bude opět

vektorový podprostor v prostoru všech komplexních matic, není však podprostorem v komplexním oboru.

**Poznámka.** Obzvlášť zajímavý je v této souvislosti následující postřeh. Jestliže hermiteovskou matici  $A$  vynásobíme imaginární jednotkou, dostáváme matici  $B = iA$ , která má vlastnost  $B^* = \bar{i} A^T = -B$ . Takovým maticím říkáme antihermiteovské. Tak jako je tedy každá reálná matice součtem své symetrické a antisymetrické části

$$A = \frac{1}{2}(A + A^T) + \frac{1}{2}(A - A^T),$$

je v komplexním oboru obdobně

$$A = \frac{1}{2}(A + A^*) + \frac{1}{2}(A - A^*),$$

tj. můžeme vyjádřit každou komplexní matici právě jedním způsobem jako součet

$$A = B + iC$$

s hermiteovskými maticemi  $B$  a  $C$ . Jde o obdobu rozkladu komplexního čísla na reálnou a ryze imaginární komponentu.

V řeši lineárních zobrazení to tedy znamená, že každý komplexní lineární automorfismus můžeme takto jednoznačně vyjádřit pomocí dvou samoadjungovaných zobrazení.

### 3.25. Spektrální rozklad samoadjungovaných zobrazení.

Uvažujme samoadjungované zobrazení  $\psi : V \rightarrow V$  s maticí  $A$  v nějaké ortonormální bázi a zkusme postupovat obdobně jako v 2.50. Opět se nejprve obecně podíváme na invariantní podprostory samoadjungovaných zobrazení a jejich ortogonální doplňky. Jestliže pro libovolný podprostor  $W \subset V$  a samoadjungované zobrazení  $\psi : V \rightarrow V$  platí  $\psi(W) \subset W$ , pak také platí pro všechny  $v \in W^{\perp}$ ,  $w \in W$

$$\langle \psi(v), w \rangle = \langle v, \psi(w) \rangle = 0.$$

To ale znamená, že také  $\psi(W^{\perp}) \subset W^{\perp}$ .

Uvažme nyní matici  $A$  samoadjungovaného zobrazení v nějaké ortonormální bázi a  $A \cdot x = \lambda x$  pro nějaký vlastní vektor  $x \in \mathbb{C}^n$ . Dostáváme

$$\lambda \langle x, x \rangle = \langle Ax, x \rangle = \langle x, Ax \rangle = \bar{\lambda} \langle x, x \rangle.$$

Kladným reálným číslem  $\langle x, x \rangle$  můžeme krátit a proto musí být  $\bar{\lambda} = \lambda$ , tj. vlastní čísla jsou vždy reálná.

Komplexních kořenů má charakteristický polynom  $\det(A - \lambda E)$  tolik, kolik je dimenze čtvercové matice  $A$ , a všechny jsou ve skutečnosti reálné. Dokázali jsme tak důležitý obecný výsledek:

**Tvrzení.** *Ortogonalní doplněk k invariantnímu podprostoru pro samoadjungované zobrazení je také invariantní. Navíc jsou všechna vlastní čísla samoadjungované matice  $A$  vždy reálná.*

Ze samotné definice je zřejmé, že zúžení samoadjungovaného zobrazení na invariantní podprostor je opět samoadjungované. Předchozí tvrzení nám tedy zaručuje, že bude vždy existovat báze  $V$  z vlastních vektorů. Skutečně, zúžení

$\psi$  na ortogonální doplněk invariantního podprostoru je opět ortogonální zobrazení, takže můžeme do báze přibírat jeden vlastní vektor za druhým, až dostaneme celý rozklad  $V$ . Vlastní vektory příslušející různým vlastním číslům jsou navíc kolmé, protože z rovností  $\psi(u) = \lambda u$ ,  $\psi(v) = \mu v$  vyplývá

$$\lambda \langle u, v \rangle = \langle \psi(u), v \rangle = \langle u, \psi(v) \rangle = \mu \langle u, v \rangle.$$

Obvykle bývá náš výsledek formulován pomocí projekcí na vlastní podprostory. O projektoru  $P : V \rightarrow V$  říkáme, že je *kolmý*, je-li  $\text{Im } P \perp \text{Ker } P$ . Dva kolmé projektory  $P, Q$  jsou *vzájemně kolmé*, je-li  $\text{Im } P \perp \text{Im } Q$ .

**Věta** (O spektrálním rozkladu). *Pro každé samoadjungované zobrazení  $\psi : V \rightarrow V$  na vektorovém prostoru se skalárním součinem existuje ortonormální báze z vlastních vektorů. Jsou-li  $\lambda_1, \dots, \lambda_k$  všechna různá vlastní čísla  $f$  a  $P_1, \dots, P_k$  příslušné kolmé a navzájem kolmé projektory na vlastní podprostory, pak*

$$f = \lambda_1 P_1 + \dots + \lambda_k P_k.$$

Dimenze obrazů těchto projektorů je přitom vždy rovna algebraické násobnosti vlastních čísel  $\lambda_i$ .

3.36

**3.26. Ortogonální diagonalizace.** Zamysleme se, jak vypadají zobrazení, pro která lze najít ortonormální bázi jako v předchozí větě o spektrálním rozkladu se nazývají *normální*. Pro euklidovský případ je to snadné: diagonální matice jsou zejména symetrické, jedná se tedy právě o samoadjungovaná zobrazení. Jako důsledek získáváme tvrzení, že ortogonální zobrazení euklidovského prostoru do sebe je ortogonálně diagonalizovatelné právě, když je zároveň samoadjungované (jsou to právě ta samoadjungovaná zobrazení s vlastními hodnotami  $\pm 1$ ).

U komplexních unitárních prostorů je situace složitější. Uvažme libovolné lineární zobrazení  $\varphi : V \rightarrow V$  unitárního prostoru a nechť  $\varphi = \psi + i\eta$  je (jednoznačně daný) rozklad  $\varphi$  na hermiteovskou a antihermiteovskou část. Má-li  $\varphi$  ve vhodné ortonormální bázi diagonální matici  $D$ , pak  $D = \text{re}D + i\text{im}D$ , kde reálná a imaginární část jsou právě matice  $\psi$  a  $\eta$  (plyne z jednoznačnosti rozkladu). Zejména tedy platí  $\psi \circ \eta = \eta \circ \psi$  a  $\varphi \circ \varphi^* = \varphi^* \circ \varphi$ . Zobrazení  $\varphi : V \rightarrow V$  s poslední uvedenou vlastností se nazývají *normální*.

Vzájemné souvislosti ukazuje následující věta (pokračujeme ve značení tohoto odstavce):

**Tvrzení.** *Následující podmínky jsou ekvivalentní:*

- (1)  $\varphi$  je ortogonálně diagonalizovatelné
- (2)  $\varphi^* \circ \varphi = \varphi \circ \varphi^*$  (tj.  $\varphi$  je normální zobrazení)
- (3)  $\psi \circ \eta = \eta \circ \psi$
- (4) Pro matici  $A = (a_{ij})$  zobrazení  $\varphi$  v nějaké ortonormální bázi a jejích  $m = \dim V$  vlastních čísel  $\lambda_i$  platí  $\sum_{i,j} |a_{ij}|^2 = \sum_{i=1}^m |\lambda_i|^2$ .

**STRUČNÝ DŮKAZ.** Implikaci (1)  $\Rightarrow$  (2) jsme již diskutovali.

zvolena střední trasa (druhý řádek) a s pravděpodobností 1/2 bude zvolena dlouhá trasa (třetí řádek). Neboť je

$$T^2 = \begin{pmatrix} 1/6 & 1/6 & 1/9 \\ 5/12 & 5/12 & 4/9 \\ 5/12 & 5/12 & 4/9 \end{pmatrix},$$

můžeme využít důsledků Perronovy-Frobeniovy věty pro Markovovy procesy. Není obtížné vypočítat, že vlastním vektorem, který přísluší vlastnímu číslu 1 a který je pravděpodobnostní, je právě

$$\left( \frac{1}{7}, \frac{3}{7}, \frac{3}{7} \right)^T.$$

Hodnoty 1/7, 3/7, 3/7 pak udávají po řadě pravděpodobnosti, že v náhodně určeném dnu volí trasu krátkou, střední, dlouhou.

Nechť si Jirka v jistý den (v čase  $n \in \mathbb{N}$ ) vybere dlouhou trasu. Tomuto rozhodnutí odpovídá pravděpodobnostní vektor

$$x_n = (0, 0, 1)^T.$$

Pro následující den tedy platí

$$x_{n+1} = \begin{pmatrix} 0 & 0 & 1/3 \\ 1/2 & 1/2 & 1/3 \\ 1/2 & 1/2 & 1/3 \end{pmatrix} \cdot \begin{pmatrix} 0 \\ 0 \\ 1 \end{pmatrix} = \begin{pmatrix} 1/3 \\ 1/3 \\ 1/3 \end{pmatrix},$$

až po sedmi dnech je

$$x_{n+7} = T^7 \cdot \begin{pmatrix} 0 \\ 0 \\ 1 \end{pmatrix} = T^6 \cdot \begin{pmatrix} 1/3 \\ 1/3 \\ 1/3 \end{pmatrix}.$$

Vyčíslením dostáváme jako složky  $x_{n+7}$  hodnoty

$$0, 142\,861\,225 \dots; \quad 0, 428\,569\,387 \dots; \quad 0, 428\,569\,387 \dots$$

Tedy pravděpodobnost, že zvolí dlouhou trasu za podmínky, že si ji zvolil před sedmi dny, činí přibližně  $0, 428\,569 \approx 3/7 \doteq 0, 428\,571$ .

□

**3.31.** Výrobní linka nefunguje spolehlivě: jednotlivé výrobky se od sebe co do kvality nezanedbatelně liší. Navíc jistý pracovník ve snaze zvýšit kvalitu neustále zasahuje do výrobního procesu. Při rozdělení výrobků do tříd I, II, III podle kvality se zjistilo, že po výrobku třídy I následuje výrobek stejné kvality v 80 % případů a třídy II v 10 % případů, po výrobku třídy II se nezmění kvalita v 60 % případů a změní se na třídu I ve 20 % případů a že po výrobku třídy III následuje výrobek stejné kvality v polovině případů a se stejnou četností pak výrobky tříd I, II. Spočítejte pravděpodobnost, že 18. výrobek je třídy I, pokud 16. výrobek v pořadí náležel do třídy III.

**Řešení.** Nejprve úlohu vyřešme bez uvážení Markovova řetězce. sledovanému jevu vyhovují případy (16. výrobek je třídy III)

- 17. výrobek byl zařazen do třídy I a 18. do třídy I;
- 17. výrobek byl zařazen do třídy II a 18. do třídy I;

- 17. výrobek byl zařazen do třídy III a 18. do třídy I

po řadě s pravděpodobnostmi

- $0,25 \cdot 0,8 = 0,2$ ;
- $0,25 \cdot 0,2 = 0,05$ ;
- $0,5 \cdot 0,25 = 0,125$ .

Lehce tak získáváme výsledek

$$0,375 = 0,2 + 0,05 + 0,125.$$

Nyní na úlohu nahlížejme jako na Markovův proces. Ze zadání plyne, že pořadí možných stavů „výrobek je třídy I“, „výrobek je třídy II“, „výrobek je třídy III“ odpovídá pravděpodobnostní matici přechodu

$$\begin{pmatrix} 0,8 & 0,2 & 0,25 \\ 0,1 & 0,6 & 0,25 \\ 0,1 & 0,2 & 0,5 \end{pmatrix}.$$

Situaci, kdy výrobek patří do třídy III, zadává pravděpodobnostní vektor  $(0, 0, 1)^T$ . Pro následující výrobek dostáváme pravděpodobnostní vektor

$$\begin{pmatrix} 0,25 \\ 0,25 \\ 0,5 \end{pmatrix} = \begin{pmatrix} 0,8 & 0,2 & 0,25 \\ 0,1 & 0,6 & 0,25 \\ 0,1 & 0,2 & 0,5 \end{pmatrix} \cdot \begin{pmatrix} 0 \\ 0 \\ 1 \end{pmatrix}$$

a pro další výrobek v pořadí potom vektor

$$\begin{pmatrix} 0,375 \\ 0,3 \\ 0,325 \end{pmatrix} = \begin{pmatrix} 0,8 & 0,2 & 0,25 \\ 0,1 & 0,6 & 0,25 \\ 0,1 & 0,2 & 0,5 \end{pmatrix} \cdot \begin{pmatrix} 0,25 \\ 0,25 \\ 0,5 \end{pmatrix},$$

jehož první složka je hledanou pravděpodobností.

Doplňme, že první metoda řešení (bez zavedení Markovova procesu) vedla k výsledku zřejmě rychleji. Uvědomme si, jak výrazně by se však první metoda znehodnotila, kdybychom např. místo 18. výrobku uvažovali 20., 22. nebo až 30. výrobek v pořadí. Ve druhé metodě se lze omezit na do jisté míry „bezmyšlenkovité“ násobení (umocňování) matic. Při zavedení Markovova procesu jsme také současně vyšetřovali situace, kdy 18. výrobek náleží do tříd II a III.  $\square$

**3.32.** Opakovaně házíme hrací kostkou. Napište pravděpodobnostní matici přechodu  $T$  pro Markovův řetězec „maximální počet ok dosažených do  $n$ -tého hodu včetně“ pro pořadí stavů  $1, \dots, 6$ . Poté určete  $T^n$  pro každé  $n \in \mathbb{N}$ .

**Řešení.** Ihned můžeme uvést

$$T = \begin{pmatrix} 1/6 & 0 & 0 & 0 & 0 & 0 \\ 1/6 & 2/6 & 0 & 0 & 0 & 0 \\ 1/6 & 1/6 & 3/6 & 0 & 0 & 0 \\ 1/6 & 1/6 & 1/6 & 4/6 & 0 & 0 \\ 1/6 & 1/6 & 1/6 & 1/6 & 5/6 & 0 \\ 1/6 & 1/6 & 1/6 & 1/6 & 1/6 & 1 \end{pmatrix},$$

(2)  $\Leftrightarrow$  (3): Stačí provést přímý výpočet

$$\varphi\varphi^* = (\psi + i\eta)(\psi - i\eta) = \psi^2 + \eta^2 + i(\eta\psi - \psi\eta)$$

$$\varphi^*\varphi = (\psi - i\eta)(\psi + i\eta) = \psi^2 + \eta^2 + i(\psi\eta - \eta\psi)$$

Odečtením dostaneme  $2i(\eta\psi - \psi\eta)$ .

(2)  $\Rightarrow$  (1): Nechť  $u \in V$  je vlastní vektor normálního zobrazení  $\varphi$ . Pak

$$\varphi(u) \cdot \varphi(u) = \langle \varphi^*\varphi(u), u \rangle = \langle \varphi\varphi^*(u), u \rangle = \varphi^*(u) \cdot \varphi^*(u)$$

zejména tedy  $|\varphi(u)| = |\varphi^*(u)|$ . Je-li  $\varphi$  normální, je  $(\varphi - \lambda \text{id } V)^* = (\varphi^* - \bar{\lambda} \text{id } V)$  a je proto i  $(\varphi - \lambda \text{id } V)$  normální zobrazení. Z předešlé rovnosti tedy plyne, že je-li  $\varphi(u) = \lambda u$ , pak  $\varphi^*(u) = \bar{\lambda}u$ . Tzn., že  $\varphi$  a  $\varphi^*$  mají stejné vlastní vektory a konjugované vlastní hodnoty.

Stejně jako u samoadjungovaných teď snadno dokážeme ortogonální diagonalizovatelnost. K tomu je nutné a stačí, aby ortogonální doplněk každého vlastního podprostoru pro normální  $\varphi$  byl invariantní (je totiž zúžení normálního zobrazení na invariantní podprostor opět normální). Uvažme vlastní vektor  $u \in V$  s vlastní hodnotou  $\lambda$ ,  $v \in \langle u \rangle^\perp$ . Platí

$$\varphi(v) \cdot u = v \cdot \varphi^*(u) = \langle v, \bar{\lambda}u \rangle = \lambda u \cdot v = 0$$

a tedy opět  $\varphi(v) \in \langle u \rangle^\perp$ .

(1)  $\Leftrightarrow$  (4): Výraz  $\sum_{i,j} |a_{ij}|^2$  je právě stopa matice  $AA^*$ , to je matice zobrazení  $\varphi \circ \varphi^*$ . Proto nezávisí na volbě ortonormální báze. Je-li tedy  $\varphi$  diagonalizovatelné, je tento výraz roven právě  $\sum_i |\lambda_i|^2$ .

Opačná implikace je přímým důsledkem Schurovy věty o unitární triangulovatelnosti libovolného lineárního zobrazení  $V \rightarrow V$ , kterou dokážeme později v 3.32. Podle ní totiž existuje pro každé lineární zobrazení  $\varphi : V \rightarrow V$  ortonormální báze, ve které má  $\varphi$  horní trojúhelníkovou matici. Na její diagonále pak musí být právě všechny vlastní hodnoty  $\varphi$ . Jak jsme již ukázali, výraz  $\sum_{i,j} |a_{ij}|^2$  nezávisí na volbě ortonormální báze, proto z předpokládané rovnosti vyplývá, že všechny prvky mimo diagonálu musí být v této matici nulové.  $\square$

V termínech matic zobrazení dostáváme: zobrazení je normální právě, když jeho matice v některé ortonormální bázi (a ekvivalentně v každé) splňuje  $AA^* = A^*A$ . Takové matice nazýváme *normální matice*.

**Poznámka.** Všimněme si, že pro počet s lineárními zobrazeními na komplexním unitárním prostoru lze poslední větu chápat také jako zobecnění běžných počtů s komplexními čísly v goniometrickém tvaru (roli reálných čísel zde hrají samoadjungovaná zobrazení). Roli komplexních jednotek pak hrají unitární zobrazení. Zejména si všimněme analogie k jejich tvaru  $\cos t + i \sin t$  s vlastností  $\cos^2 t + \sin^2 t = 1$ :

**Důsledek.** Unitární zobrazení na unitárním prostoru  $V$  jsou právě ta normální zobrazení, pro která výše užívaný jednoznačný rozklad  $\varphi = \psi + i\eta$  splňuje  $\psi^2 + \eta^2 = \text{id } V$

DŮKAZ. Pro unitární je  $\varphi\varphi^* = \text{id } V = \varphi^*\varphi$  a tedy  $\varphi\varphi^* = (\psi + i\eta)(\psi - i\eta) = \psi^2 + 0 + \eta^2 = \text{id } V$ . Naopak, pro normální poslední výpočet ukazuje, že opačná implikace platí také.  $\square$

2.48

**3.27. Nezáporná zobrazení a odmocniny.** Nezáporná reálná čísla jsou právě ta, která umíme psát jako druhé mocniny. Zobecnění takového chování pro matice a zobrazení lze vidět u součinů  $B = A^* \cdot A$  (tj. složení zobrazení  $\psi^* \circ \psi$ ):

$$\langle B \cdot x, x \rangle = \langle A^* \cdot A \cdot x, x \rangle = \langle A \cdot x, A \cdot x \rangle \geq 0$$

pro všechny vektory  $x$ . Navíc zjevně

$$B^* = (A^* \cdot A)^* = A^* \cdot A = B.$$

Hermiteovských maticím  $B$  s takovou vlastností říkáme *pozitivně semidefinitní* a pokud nastane nulová hodnota pouze pro  $x = 0$ , pak jim říkáme *pozitivně definitní*. Obdobně hovoříme o *pozitivně definitních* a *pozitivně semidefinitních* zobrazeních  $\psi : V \rightarrow V$ .

Pro každé pozitivně semidefinitní zobrazení  $\psi : V \rightarrow V$  umíme najít jeho odmocninu, tj. zobrazení  $\eta$  takové, že  $\eta \circ \eta = \psi$ . Nejjednodušeji to uvidíme v ortonormální bázi, ve které bude mít  $\psi$  diagonální matici. Taková podle našich předchozích úvah vždy existuje a matice  $A$  zobrazení  $\psi$  v ní bude mít na diagonále nezáporná reálná vlastní čísla zobrazení  $\psi$ . Kdyby totiž bylo některé z nich záporné, nebyla by splněna podmínka nezápornosti již pro některý z bazových vektorů. Pak ovšem stačí definovat zobrazení  $\eta$  pomocí matice  $B$  s odmocninami příslušných vlastních čísel na diagonále.

2.32

**3.28. Spektra a nilpotentní zobrazení.** Na závěr této části se vrátíme k otázce, jak se mohou chovat lineární zobrazení v úplné obecnosti. Budeme i nadále pracovat s reálnými nebo komplexními vektorovými prostory.

Připomeňme, že *spektrum lineárního zobrazení*  $f : V \rightarrow V$  je posloupnost kořenů charakteristického polynomu zobrazení  $f$ , včetně násobností. *Algebraickou násobností* vlastní hodnoty rozumíme její násobnost jako kořenu charakteristického polynomu, *geometrická násobnost* vlastní hodnoty je dimenze příslušného podprostoru vlastních vektorů.

Lineární zobrazení  $f : V \rightarrow V$  se nazývá *nilpotentní*, jestliže existuje celé číslo  $k \geq 1$  takové, že iterované zobrazení  $f^k$  je identicky nulové. Nejmenší číslo  $k$  s touto vlastností se nazývá *stupněm nilpotentnosti* zobrazení  $f$ . Zobrazení  $f : V \rightarrow V$  se nazývá *cyklické*, jestliže existuje báze  $(u_1, \dots, u_n)$  prostoru  $V$  taková, že  $f(u_1) = 0$  a  $f(u_i) = u_{i-1}$  pro všechna  $i = 2, \dots, n$ . Jinými slovy, matice  $f$  v této bázi je tvaru

$$A = \begin{pmatrix} 0 & 1 & 0 & \dots \\ 0 & 0 & 1 & \dots \\ \vdots & \vdots & & \ddots \end{pmatrix}.$$

kde první sloupec je určen stavem 1 a pravděpodobností  $1/6$  pro jeho zachování (v dalším hoďu padne 1) a pravděpodobností  $1/6$  jeho přechodu do libovolného ze stavů  $2, \dots, 6$  (po řadě padne  $2, \dots, 6$ ), druhý sloupec je zadán stavem 2 a pravděpodobností  $2/6$  pro jeho zachování (v dalším hoďu padne 1 nebo 2) a pravděpodobností  $1/6$  pro přechod do jakéhokoli ze stavů  $3, \dots, 6$  (padne  $3, \dots, 6$ ), až poslední sloupce získáme ze skutečnosti, že stav 6 je trvalý (pokud již padla šestka, nemůže padnout vyšší počet ok).

Rovněž pro  $n \in \mathbb{N}$  lze přímo určit

$$T^n = \begin{pmatrix} \left(\frac{1}{6}\right)^n & 0 & 0 & 0 & 0 & 0 \\ \left(\frac{2}{6}\right)^n - \left(\frac{1}{6}\right)^n & \left(\frac{2}{6}\right)^n & 0 & 0 & 0 & 0 \\ \left(\frac{3}{6}\right)^n - \left(\frac{2}{6}\right)^n & \left(\frac{3}{6}\right)^n - \left(\frac{2}{6}\right)^n & \left(\frac{3}{6}\right)^n & 0 & 0 & 0 \\ \left(\frac{4}{6}\right)^n - \left(\frac{3}{6}\right)^n & \left(\frac{4}{6}\right)^n - \left(\frac{3}{6}\right)^n & \left(\frac{4}{6}\right)^n - \left(\frac{3}{6}\right)^n & \left(\frac{4}{6}\right)^n & 0 & 0 \\ \left(\frac{5}{6}\right)^n - \left(\frac{4}{6}\right)^n & \left(\frac{5}{6}\right)^n - \left(\frac{4}{6}\right)^n & \left(\frac{5}{6}\right)^n - \left(\frac{4}{6}\right)^n & \left(\frac{5}{6}\right)^n - \left(\frac{4}{6}\right)^n & \left(\frac{5}{6}\right)^n & 0 \\ 1 - \left(\frac{5}{6}\right)^n & 1 - \left(\frac{5}{6}\right)^n & 1 - \left(\frac{5}{6}\right)^n & 1 - \left(\frac{5}{6}\right)^n & 1 - \left(\frac{5}{6}\right)^n & 1 \end{pmatrix}.$$

Hodnoty v prvním sloupci totiž odpovídají postupně pravděpodobnostem, že  $n$ -krát po sobě padne 1,  $n$ -krát po sobě padne 1 nebo 2 a alespoň jednou 2 (odečítáme proto pravděpodobnost uvedenou v prvním řádku),  $n$ -krát po sobě padne 1, 2 nebo 3 a alespoň jednou padne 3, až v posledním řádku je pravděpodobnost, že aspoň jednou během  $n$  hodů padne 6 (tu lze snadno určit z pravděpodobnosti opačného jevu). Podobně např. ve čtvrtém sloupci jsou postupně nenulové pravděpodobnosti jevů „ $n$ -krát po sobě padne 1, 2, 3 nebo 4“, „ $n$ -krát po sobě padne 1, 2, 3, 4 nebo 5 a alespoň jednou 5“ a „alespoň jednou během  $n$  hodů padne 6“. Interpretace matice  $T$  jako matice přechodu jistého Markovova procesu tak umožňuje rychlé vyjádření mocnin  $T^n$ ,  $n \in \mathbb{N}$ .  $\square$

**3.33.** Sledujte určitou vlastnost daného živočišného druhu, která je podmíněna nezávisle na pohlaví jistým genem – dvojicí alel. Každý jedinec získává po jedné alele od obou rodičů zcela náhodně a nezávisle na sobě. Existují formy genu dané různými alelami  $a, A$ . Ty určují tři možné stavy  $aa, aA = Aa, AA$  vyšetřované vlastnosti.

- Předpokládejte, že každý jedinec jisté populace se bude rozmnožovat výhradně s jedincem jiné populace, ve které se vyskytuje pouze vlastnost podmíněná dvojicí  $aA$ . Právě jeden jejich (náhodně zvolený) potomek bude ponechán na stanovišti a také on se bude rozmnožovat výhradně s jedincem té jiné populace atd. Stanovte výskyt kombinací  $aa, aA, AA$  v uvažované populaci po dostatečně dlouhé době.
- Řešte úlohu uvedenou ve variantě (a), pokud je jiná populace tvořena pouze jedinci s dvojicí alel  $AA$ .

- (c) Náhodně zvolené dva jedince opačného pohlaví zkřížíte. Z jejich potomstva opět náhodně vyberete dva jedince opačného pohlaví, které zkřížíte. Pokud takto budete pokračovat velmi dlouho dobu, vypočtete pravděpodobnost, že oba křížení jedinci budou mít dvojici alel  $AA$ , příp.  $aa$  (proces křížení skončí).
- (d) Řešte úlohu uvedenou ve variantě (c) bez kladení podmínky, že křížení jedinci mají stejné rodiče. Pouze tedy křížíte jedince jisté velké populace mezi sebou, potom křížíte potomky mezi sebou atd.

**Řešení.** Případ (a). Jedná se o Markovův proces zadaný maticí

$$T = \begin{pmatrix} 1/2 & 1/4 & 0 \\ 1/2 & 1/2 & 1/2 \\ 0 & 1/4 & 1/2 \end{pmatrix},$$

přičemž pořadí stavů odpovídá pořadí dvojic alel  $aa$ ,  $aA$ ,  $AA$ . Hodnoty v prvním sloupci plynou z toho, že potomek jedince s dvojicí alel  $aa$  a jedince s dvojicí alel  $aA$  má s pravděpodobností  $1/2$  dvojici  $aa$  a s pravděpodobností  $1/2$  dvojici  $aA$ . Analogicky postupujeme pro třetí sloupec. Hodnoty ve druhém sloupci potom vyplývají z toho, že každý ze čtyř případů dvojic alel  $aa$ ,  $aA$ ,  $Aa$ ,  $AA$  je stejně pravděpodobný u jedince, jehož oba rodiče mají dvojici alel  $aA$ . Uvědomme si, že na rozdíl od počítání pravděpodobností, kdy musíme rozlišovat dvojici  $aA$  od  $Aa$  (která z alel pochází od kterého z rodičů), vlastnosti podmíněné dvojicemi  $aA$  a  $Aa$  jsou samozřejmě stejné. Pro určení výsledného stavu stačí nalézt pravděpodobnostní vektor, který přísluší vlastnímu číslu 1 matice  $T$ , protože matice

$$T^2 = \begin{pmatrix} 3/8 & 1/4 & 1/8 \\ 1/2 & 1/2 & 1/2 \\ 1/8 & 1/4 & 3/8 \end{pmatrix}$$

splňuje podmínku Perronovy-Frobeniovy věty (všechny její prvky jsou kladné). Hledaný pravděpodobnostní vektor je

$$\left(\frac{1}{4}, \frac{1}{2}, \frac{1}{4}\right)^T,$$

což již dává pravděpodobnosti  $1/4$ ,  $1/2$ ,  $1/4$  výskytu po řadě kombinací  $aa$ ,  $aA$ ,  $AA$  po velmi dlouhé (teoreticky nekonečné) době.

Případ (b). Pro pořadí dvojic alel  $AA$ ,  $aA$ ,  $aa$  nyní dostáváme pravděpodobnostní matici přechodu

$$T = \begin{pmatrix} 1 & 1/2 & 0 \\ 0 & 1/2 & 1 \\ 0 & 0 & 0 \end{pmatrix}.$$

Ihned vidíme všechna vlastní čísla 1,  $1/2$  a 0 (odečteme-li je od diagonály, hodnota obdržené matice nebude 3, tj. touto maticí zadaná homogenní soustava bude mít netriviální řešení). Těmto vlastním číslům

Je-li  $f(v) = a \cdot v$ , pak pro každé přirozené  $k$  je  $f^k(v) = a^k \cdot v$ . Zejména tedy může spektrum nilpotentního zobrazení obsahovat pouze nulový skalár (a ten tam vždy je).

Přímo z definice plyne, že každé cyklické zobrazení je nilpotentní, navíc je jeho stupeň nilpotentnosti roven dimenzi prostoru  $V$ . Operátor derivování na polynomech,  $D(x^k) = kx^{k-1}$ , je příkladem cyklického zobrazení na  $\mathbb{K}_n[x]$  pro libovolné  $n$ .

Kupodivu to platí i naopak a každé nilpotentní zobrazení je přímým součtem cyklických. Důkaz tohoto tvrzení nám dá hodně práce, proto napřed zformulujeme další výsledky a pak se teprve dáme do technické práce. Ve výsledné větě o *Jordanově rozkladu* vystupují vektorové (pod)prostory a lineární zobrazení na nich s jediným vlastním číslem  $\lambda$  a maticí

$$J = \begin{pmatrix} \lambda & 1 & 0 & \dots & 0 \\ 0 & \lambda & 1 & \dots & 0 \\ \vdots & \vdots & \ddots & \ddots & \vdots \\ 0 & 0 & 0 & \dots & \lambda \end{pmatrix}.$$

Takovýmto maticím (a odpovídajícím invariantním podprostorem) se říká *Jordanův blok*.

**Věta** (Jordanova věta o kanonickém tvaru). *Nechť  $V$  je vektorový prostor dimenze  $n$  a  $f : V \rightarrow V$  je lineární zobrazení s  $n$  vlastními čísly včetně algebraických násobností. Pak existuje jednoznačný rozklad prostoru  $V$  na přímý součet podprostorů*

$$V = V_1 \oplus \dots \oplus V_k$$

*takových, že  $f(V_i) \subset V_i$ , zúžení  $f$  na každé  $V_i$  má jediné vlastní číslo  $\lambda_i$  a zúžení  $f - \lambda_i \cdot \text{id}$  na  $V_i$  je buď cyklické nebo nulové zobrazení.*

Věta tedy říká, že ve vhodné bázi má každé lineární zobrazení blokově diagonální tvar s Jordanovými bloky podél diagonály. Celkový počet jedniček nad diagonálou v takovém tvaru je roven rozdílu mezi celkovou algebraickou a geometrickou násobností vlastních čísel.

Všimněme si, že jsme tuto větu plně dokázali v případech, kdy jsou všechna vlastní čísla různá nebo když jsou geometrické a algebraické násobnosti vlastních čísel stejné. Také jsme ji plně dokázali pro unitární a samoadjungovaná zobrazení.

Také si všimněme, že v situaci, kdy jsou vlastní hodnoty v absolutní hodnotě menší než jedna, opakované působení lineárního zobrazení na jakémkoliv vektoru  $v$  z jednoho z podprostorů  $V_i$  ve větě vede k rychlému zmenšování všech jeho souřadnic nad všechny meze. Skutečně, předpokládejme pro jednoduchost, že na celém  $V_i$  je naše zobrazení cyklické, příslušná vlastní hodnota je  $\lambda$  a  $v_1, \dots, v_\ell$  nechť je příslušná báze. Pak podmínka z věty říká, že  $f(v_2) = \lambda v_2 + v_1$ ,  $f^2(v_j) = \lambda^2 v_2 + \lambda v_1 + \lambda v_1$ , a podobně pro ostatní  $v_i$  a vyšší mocniny. V každém případě při iterování dostáváme stále vyšší a vyšší mocniny  $\lambda$  u všech nenulových komponent.

Zbytek této části je věnován důkazu Jordanovy věty a několika k tomu potřebným pojmům. Je výrazně obtížnější než dosavadní text a čtenář jej může případně přeskočit až do začátku 5. části této kapitoly.

3.37

**3.29. Kořenové prostory.** Na příkladech jsme viděli, že vlastní podprostory popisují dostatečně geometrické vlastnosti jen některých lineárních zobrazení. Zavedeme nyní jemnější nástroj, tzv. kořenové podprostory.

**Definice.** Nenulový vektor  $u \in V$  se nazývá *kořenovým vektorem* lineárního zobrazení  $\varphi : V \rightarrow V$ , jestliže existuje  $a \in \mathbb{K}$  a celé číslo  $k > 0$  takové, že  $(\varphi - a \cdot \text{id}_V)^k(u) = 0$ , tj.  $k$ -tá iterace uvedeného zobrazení zobrazuje  $u$  na nulu. Množinu všech kořenových vektorů příslušných k pevnému skaláru  $\lambda$  doplněnou o nulový vektor nazýváme *kořenovým prostorem* příslušným ke skaláru  $\lambda \in \mathbb{K}$ , značíme  $\mathcal{R}_\lambda$ .

Je-li  $u$  kořenový vektor a  $k$  z definice je vybráno nejmenší možné, pak  $(\varphi - a \cdot \text{id}_V)^{k-1}(u)$  je vlastní vektor s vlastní hodnotou  $a$ . Je tedy  $\mathcal{R}_\lambda = \{0\}$  pro všechny skaláry  $\lambda$ , které neleží ve spektru zobrazení  $\varphi$ .

**Tvrzení.** Pro lineární zobrazení  $\varphi : V \rightarrow V$  platí

- (1) Pro každé  $\lambda \in \mathbb{K}$  je  $\mathcal{R}_\lambda \subset V$  vektorový podprostor.
- (2) Pro každé  $\lambda, \mu \in \mathbb{K}$  je  $\mathcal{R}_\lambda$  invariantní vzhledem k lineárnímu zobrazení  $(\varphi - \mu \cdot \text{id}_V)$ , zejména tedy je  $\mathcal{R}_\lambda$  invariantní vzhledem k  $\varphi$ .
- (3) Je-li  $\mu \neq \lambda$ , pak  $(\varphi - \mu \cdot \text{id}_V)|_{\mathcal{R}_\lambda}$  je invertibilní.
- (4) Zobrazení  $(\varphi - \lambda \cdot \text{id}_V)|_{\mathcal{R}_\lambda}$  je nilpotentní.

**DŮKAZ.** (1) Ověření vlastností vektorového podprostoru je jednoduché a ponecháváme jej čtenáři.

(2) Předpokládejme, že  $(\varphi - \lambda \cdot \text{id}_V)^k(u) = 0$  a uvažme  $v = (\varphi - \mu \cdot \text{id}_V)(u)$ . Pak

$$\begin{aligned} (\varphi - \lambda \cdot \text{id}_V)^k(v) &= \\ &= (\varphi - \lambda \cdot \text{id}_V)^k((\varphi - \lambda \cdot \text{id}_V) + (\lambda - \mu) \cdot \text{id}_V)(u) \\ &= (\varphi - \lambda \cdot \text{id}_V)^{k+1}(u) + (\lambda - \mu) \cdot (\varphi - \lambda \cdot \text{id}_V)^k(u) \\ &= 0 \end{aligned}$$

(3) Je-li  $u \in \text{Ker}(\varphi - \mu \cdot \text{id}_V)|_{\mathcal{R}_\lambda}$ , pak

$$\begin{aligned} (\varphi - \lambda \cdot \text{id}_V)(u) &= (\varphi - \mu \cdot \text{id}_V)(u) + (\mu - \lambda) \cdot u = (\mu - \lambda) \cdot u \\ \text{Odtud } 0 &= (\varphi - \lambda \cdot \text{id}_V)^k(u) = (\mu - \lambda)^k \cdot u \text{ a je tedy nutně } \\ u &= 0 \text{ pro } \lambda \neq \mu. \end{aligned}$$

(4) Zvolme bázi  $e_1, \dots, e_p$  podprostoru  $\mathcal{R}_\lambda$ . Protože podle definice existují čísla  $k_i$  taková, že  $(\varphi - \lambda \cdot \text{id}_V)^{k_i}(e_i) = 0$ , je nutně celé zobrazení  $(\varphi - \lambda \cdot \text{id}_V)|_{\mathcal{R}_\lambda}$  nilpotentní.  $\square$

3.37a

**3.30. Faktorové prostory.** Naším dalším cílem je ukázat, že dimenze kořenových prostorů je vždy rovna algebraické násobnosti příslušných vlastních čísel. Nejprve však zavedeme šikovné technické nástroje.

**Definice.** Nechť  $U \subset V$  je vektorový podprostor. Na množině všech vektorů ve  $V$  definujeme ekvivalenci takto:  $v_1 \sim v_2$  právě tehdy, když  $v_1 - v_2 \in U$ . Axiomy ekvivalence

přísluší po řadě vlastní vektory

$$\begin{pmatrix} 1 \\ 0 \\ 0 \end{pmatrix}, \begin{pmatrix} -1 \\ 1 \\ 0 \end{pmatrix}, \begin{pmatrix} 1 \\ -2 \\ 1 \end{pmatrix}.$$

Proto je

$$\begin{aligned} T &= \begin{pmatrix} 1 & -1 & 1 \\ 0 & 1 & -2 \\ 0 & 0 & 1 \end{pmatrix} \cdot \begin{pmatrix} 1 & 0 & 0 \\ 0 & 1/2 & 0 \\ 0 & 0 & 0 \end{pmatrix} \cdot \begin{pmatrix} 1 & -1 & 1 \\ 0 & 1 & -2 \\ 0 & 0 & 1 \end{pmatrix}^{-1} \\ &= \begin{pmatrix} 1 & -1 & 1 \\ 0 & 1 & -2 \\ 0 & 0 & 1 \end{pmatrix} \cdot \begin{pmatrix} 1 & 0 & 0 \\ 0 & 1/2 & 0 \\ 0 & 0 & 0 \end{pmatrix} \cdot \begin{pmatrix} 1 & 1 & 1 \\ 0 & 1 & 2 \\ 0 & 0 & 1 \end{pmatrix}. \end{aligned}$$

Odsud pro libovolné  $n \in \mathbb{N}$  plyne

$$\begin{aligned} T^n &= \begin{pmatrix} 1 & -1 & 1 \\ 0 & 1 & -2 \\ 0 & 0 & 1 \end{pmatrix} \cdot \begin{pmatrix} 1 & 0 & 0 \\ 0 & 1/2 & 0 \\ 0 & 0 & 0 \end{pmatrix}^n \cdot \begin{pmatrix} 1 & 1 & 1 \\ 0 & 1 & 2 \\ 0 & 0 & 1 \end{pmatrix} \\ &= \begin{pmatrix} 1 & -1 & 1 \\ 0 & 1 & -2 \\ 0 & 0 & 1 \end{pmatrix} \cdot \begin{pmatrix} 1 & 0 & 0 \\ 0 & 2^{-n} & 0 \\ 0 & 0 & 0 \end{pmatrix} \cdot \begin{pmatrix} 1 & 1 & 1 \\ 0 & 1 & 2 \\ 0 & 0 & 1 \end{pmatrix}. \end{aligned}$$

Zřejmě pro velká  $n \in \mathbb{N}$  můžeme nahradit  $2^{-n}$  za 0, což implikuje

$$T^n \approx \begin{pmatrix} 1 & -1 & 1 \\ 0 & 1 & -2 \\ 0 & 0 & 1 \end{pmatrix} \cdot \begin{pmatrix} 1 & 0 & 0 \\ 0 & 0 & 0 \\ 0 & 0 & 0 \end{pmatrix} \cdot \begin{pmatrix} 1 & 1 & 1 \\ 0 & 1 & 2 \\ 0 & 0 & 1 \end{pmatrix} = \begin{pmatrix} 1 & 1 & 1 \\ 0 & 0 & 0 \\ 0 & 0 & 0 \end{pmatrix}.$$

Pokud tedy plodí potomky jedinci původní populace výhradně s členy populace, ve které se vyskytuje pouze dvojice alel  $AA$ , nutně po dostatečně velkém počtu křížení dojde k tomu, že dvojice  $aA$  a  $aa$  zcela vymizí (bez ohledu na jejich původní četnost).

Případ (c). Tentokrát budeme mít 6 možných stavů (v tomto pořadí)

$$AA, AA; \quad aA, AA; \quad aa, AA;$$

$$aA, aA; \quad aa, aA; \quad aa, aa,$$

přičemž tyto stavy jsou dány různými případy genotypů rodičů. Matice odpovídajícího Markovova řetězce je

$$T = \begin{pmatrix} 1 & 1/4 & 0 & 1/16 & 0 & 0 \\ 0 & 1/2 & 0 & 1/4 & 0 & 0 \\ 0 & 0 & 0 & 1/8 & 0 & 0 \\ 0 & 1/4 & 1 & 1/4 & 1/4 & 0 \\ 0 & 0 & 0 & 1/4 & 1/2 & 0 \\ 0 & 0 & 0 & 1/16 & 1/4 & 1 \end{pmatrix}.$$

Pokud budeme např. uvažovat situaci (druhý sloupec), kdy jeden z rodičů má dvojici alel  $AA$  a druhý  $aA$ , pak zjevně může nastat každý ze čtyř případů (jde-li o dvojice alel jejich dvou náhodně zvolených potomků)

$$AA, AA; \quad AA, aA; \quad aA, AA; \quad aA, aA$$

se stejnou pravděpodobností. Pravděpodobnost setrvání ve druhém stavu je proto  $1/2$  a pravděpodobnost přechodu ze druhého stavu do prvního je  $1/4$  a do čtvrtého také  $1/4$ .

Nyní bychom měli opět určit mocniny  $T^n$  pro velká  $n \in \mathbb{N}$ . Uvážení podoby prvního a posledního sloupce ihned zjistíme, že 1 je vlastním číslem matice  $T$ . Velmi lehce lze najít vlastní vektory

$$(1, 0, 0, 0, 0, 0)^T, \quad (0, 0, 0, 0, 0, 1)^T$$

příslušné vlastnímu číslu 1. Přechodem ke čtyřrozměrné podmatici matice  $T$  (vynecháním právě prvního a šestého řádku a sloupce) nalezneme poté zbylá vlastní čísla

$$\frac{1}{2}, \quad \frac{1}{4}, \quad \frac{1 - \sqrt{5}}{4}, \quad \frac{1 + \sqrt{5}}{4}.$$

Vzpomeneme-li si na řešení příkladu nazvaného Mlsný hazardér, nemusíme  $T^n$  počítat. V tomto příkladu jsme dostali stejné vlastní vektory příslušné číslu 1 a ostatní vlastní čísla měla rovněž absolutní hodnotu ostře menší 1 (jejich přesné hodnoty jsme nevyužívali). Dostáváme tak totožný závěr, že proces se blíží k pravděpodobnostnímu vektoru

$$(a, 0, 0, 0, 0, 1 - a)^T,$$

kde  $a \in [0, 1]$  je dáno výchozím stavem. Protože pouze na první a šesté pozici výsledného vektoru mohou být nenulová čísla, stavy

$$aA, AA; \quad aa, AA; \quad aA, aA; \quad aa, aA$$

3.37b

po mnohonásobném křížení vymizí. Uvědomme si dále (plyne z předešlého a z příkladu Mlsný hazardér), že pravděpodobnost toho, aby proces končil  $AA, AA$ , se rovná relativní četnosti výskytu  $A$  v počátečním stavu.

Případ (d). Nechť hodnoty  $a, b, c \in [0, 1]$  udávají (při zachování pořadí) relativní četnosti výskytu dvojic alel  $AA, aA, aa$  v dané populaci. Chceme získat vyjádření relativních četností dvojic  $AA, aA, aa$  v potomstvu populace. Probíhá-li výběr dvojic pro páření náhodně, lze při velkém počtu jedinců očekávat, že relativní četnost páření jedinců s dvojicemi alel  $AA$  (u obou) je  $a^2$ , relativní četnost páření jedinců, z nichž jeden má dvojici alel  $AA$  a druhý  $aA$ , je  $2ab$ , relativní četnost páření jedinců s dvojicemi alel  $aA$  (u obou) je  $b^2$  atd. Potomek rodičů s dvojicemi  $AA, AA$  musí dvojici alel  $AA$  zdědit. Pravděpodobnost, že potomek rodičů s dvojicemi  $AA, aA$  bude mít  $AA$ , je zřejmě  $1/2$  a pravděpodobnost, že potomek rodičů s dvojicemi  $aA, aA$  bude mít  $AA$ , je pak  $1/4$ . Jiné případy pro potomka s dvojicí alel  $AA$  uvažovat nemusíme (pokud má jeden rodič dvojici alel  $aa$ , potomek nemůže mít dvojici  $AA$ ). Relativní četnost výskytu dvojice alel  $AA$  v potomstvu

jdou ověřit snadno. Množina  $V/U$  tříd této ekvivalence, spolu s operacemi definovanými pomocí reprezentantů, tj.  $[v] + [w] = [v + w]$ ,  $a \cdot [u] = [a \cdot u]$ , tvoří vektorový prostor, který nazýváme *faktorový vektorový prostor* prostoru  $V$  podle podprostoru  $U$ . Ověřte si korektnost definice operací a platnost všech axiomů vektorového prostoru!

Třídy (vektory) ve faktorovém prostoru  $V/U$  budeme často označovat jako formální součet jednoho reprezentanta se všemi vektory podprostoru  $U$ , např.  $u + U \in V/U$ ,  $u \in V$ . Nulový vektor ve  $V/U$  je právě třída  $0 + U$ , tj. vektor  $u \in V$  reprezentuje nulový vektor ve  $V/U$  právě, když je  $u \in U$ .

Jako jednoduché příklady si rozmyslete  $V/\{0\} \cong V$ ,  $V/V \cong \{0\}$  a faktorový prostor roviny  $\mathbb{R}^2$  podle libovolného jednorozměrného podprostoru, kde každý jednorozměrný podprostor  $U \subset \mathbb{R}^2$  je přímka procházející počátkem, třídy ekvivalence jsou rovnoběžky s touto přímkou.

**Tvrzení.** *Nechť  $U \subset V$  je vektorový podprostor a  $u_1, \dots, u_n$  je taková báze  $V$ , že  $u_1, \dots, u_k$  je báze  $U$ . Pak  $\dim V/U = n - k$  a  $u_{k+1} + U, \dots, u_n + U$  je báze  $V/U$ .*

**DŮKAZ.** Protože  $V = \langle u_1, \dots, u_n \rangle$ , je  $V/U = \langle u_1 + U, \dots, u_n + U \rangle$ . Přitom ale je prvních  $k$  generátorů nulových, takže je  $V/U = \langle u_{k+1} + U, \dots, u_n + U \rangle$ . Předpokládejme, že  $a_{k+1} \cdot (u_{k+1} + U) + \dots + a_n \cdot (u_n + U) = (a_{k+1} \cdot u_{k+1} + \dots + a_n \cdot u_n) + U = 0 \in V/U$ . To je ale ekvivalentní příslušnosti lineární kombinace vektorů  $u_{k+1}, \dots, u_n$  do podprostoru  $U$ . Protože  $U$  je generováno zbylými vektory, je nutně tato kombinace nulová, tj. všechny koeficienty  $a_i$  jsou nulové.  $\square$

### 3.31. Indukovaná zobrazení na faktorových prostorech.

Předpokládejme, že  $U \subset V$  je invariantní podprostor vzhledem k lineárnímu zobrazení  $\varphi : V \rightarrow V$  a zvolme bázi  $u_1, \dots, u_n$  prostoru  $V$ , že prvních  $k$  vektorů této báze je báze  $U$ . V této bázi má  $\varphi$  polorozpadlou matici  $A = \begin{pmatrix} B & C \\ 0 & D \end{pmatrix}$ . Pak budeme umět dokázat následující tvrzení:

**Lemma.** (1) *Zobrazení  $\varphi$  indukuje lineární zobrazení  $\varphi_{V/U} : V/U \rightarrow V/U$ ,  $\varphi_{V/U}(v + U) = \varphi(v) + U$  s maticí  $D$  v indukované bázi  $u_{k+1} + U, \dots, u_n + U$  na  $V/U$ .*  
(2) *Charakteristický polynom  $\varphi_{V/U}$  dělí charakteristický polynom  $\varphi$ .*

**DŮKAZ.** Pro  $v, w \in V$ ,  $u \in U$ ,  $a \in \mathbb{K}$  máme  $\varphi(v + u) \in \varphi(v) + U$  (protože  $U$  je invariantní),  $(\varphi(v) + U) + (\varphi(w) + U) = \varphi(v + w) + U$  a  $a \cdot (\varphi(v) + U) = a \cdot \varphi(v) + U = \varphi(a \cdot v) + U$  (protože  $\varphi$  je lineární), je tedy zobrazení  $\varphi_{V/U}$  dobře definované a lineární. Navíc je přímo z definice matice zobrazení patrné, že matice  $\varphi_{V/U}$  v indukované bázi na  $V/U$  je právě matice  $D$  (při počítání obrazů bazových prvků nám koeficienty z matice  $C$  přispívají pouze do třídy  $U$ ). Charakteristický polynom indukovaného zobrazení  $\varphi_{V/U}$  je tedy  $|D - \lambda \cdot E|$ , zatímco charakteristický polynom původního zobrazení  $\varphi$  je  $|A - \lambda \cdot E| = |B - \lambda \cdot E| |D - \lambda \cdot E|$ .  $\square$



**Důsledek.** *Nechť  $V$  je vektorový prostor nad  $\mathbb{K}$  dimenze  $n$  a nechť  $\varphi : V \rightarrow V$  je lineární zobrazení, jehož spektrum obsahuje  $n$  prvků (tj. všechny kořeny charakteristického polynomu leží v  $\mathbb{K}$  a počítáme je včetně násobnosti). Pak existuje posloupnost invariantních podprostorů  $\{0\} = V_0 \subset V_1 \subset \dots \subset V_n = V$  s dimenzemi  $\dim V_i = i$ . V bázi  $u_1, \dots, u_n$  prostoru  $V$  takové, že  $V_i = \langle u_1, \dots, u_i \rangle$ , má  $\varphi$  horní trojúhelníkovou matici:*

$$\begin{pmatrix} \lambda_1 & \dots & * \\ \vdots & \ddots & \vdots \\ 0 & \dots & \lambda_n \end{pmatrix},$$

kde  $\lambda_1, \dots, \lambda_n$  je posloupnost prvků spektra.

**DŮKAZ.** Konstrukci podprostorů  $V_i$  provedeme induktivně. Nechť  $\lambda_1, \dots, \lambda_n$  jsou prvky ve spektru zobrazení  $\varphi$ , tzn. charakteristický polynom zobrazení  $\varphi$  je tvaru  $(\lambda - \lambda_1) \cdot \dots \cdot (\lambda - \lambda_n)$ . Zvolme  $V_0 = \{0\}$ ,  $V_1 = \langle u_1 \rangle$ , kde  $u_1$  je libovolný vlastní vektor s vlastní hodnotou  $\lambda_1$ . Podle předešlé věty je charakteristický polynom zobrazení  $\varphi_{V/V_1}$  tvaru  $(\lambda - \lambda_2) \cdot \dots \cdot (\lambda - \lambda_n)$ . Předpokládejme, že jsme již sestrojili lineárně nezávislé vektory  $u_1, \dots, u_k$  a invariantní podprostory  $V_i = \langle u_1, \dots, u_i \rangle$ ,  $i = 1, \dots, k < n$ , takové, že charakteristický polynom  $\varphi_{V/V_k}$  je tvaru  $(\lambda - \lambda_{k+1}) \cdot \dots \cdot (\lambda - \lambda_n)$  a  $\varphi(u_i) \in (\lambda_i \cdot u_i + V_{i-1})$  pro všechna  $i = 1, \dots, k$ .

Zejména tedy existuje vlastní vektor  $u_{k+1} + V_k \in V/V_k$  zobrazení  $\varphi_{V/V_k}$  s vlastní hodnotou  $\lambda_{k+1}$ . Uvažme nyní prostor  $V_{k+1} = \langle u_1, \dots, u_{k+1} \rangle$ . Kdyby byl vektor  $u_{k+1}$  lineární kombinací vektorů  $u_1, \dots, u_k$ , znamenalo by to, že  $u_{k+1} + V_k$  je nulová třída v  $V/V_k$ , to ale není možné. Je proto  $\dim V_{k+1} = k + 1$ . Zbývá studovat indukované zobrazení  $\varphi_{V/V_{k+1}}$ . Charakteristický polynom tohoto zobrazení je stupně  $n - k - 1$  a dělí charakteristický polynom zobrazení  $\varphi$ . Přitom doplněním vektorů  $u_1, \dots, u_{k+1}$  do báze  $V$  dostaneme polorozpadlou matici zobrazení  $\varphi$  s horní trojúhelníkovou submaticí  $B$  v horním levém rohu, jejíž diagonální prvky jsou právě skaláry  $\lambda_1, \dots, \lambda_{k+1}$ . Proto mají kořeny charakteristického polynomu indukovaného zobrazení požadované vlastnosti.  $\square$

3.37c

**3.32. Poznámky.** Pokud existuje rozklad celého prostoru  $V$  na přímý součet vlastních podprostorů, existuje báze z vlastních podprostorů a předchozí věta vlastně neříká vůbec nic zajímavého. Její síla ovšem spočívá v tom, že jediným jejím předpokladem je existence  $\dim V$  kořenů charakteristického polynomu (včetně násobnosti). To je ovšem zaručeno, je-li pole  $\mathbb{K}$  algebraicky uzavřené, např. pro komplexní čísla  $\mathbb{C}$ . Přímým důsledkem pak jsou zajímavá tvrzení o determinantu a stopě zobrazení: jsou vždy součinem, resp. součtem prvků ve spektru. Tuto skutečnost můžeme použít i pro všechny reálné matice. Můžeme je totiž vždy považovat za komplexní, spočítat potřebné, a protože determinant i stopa jsou algebraické výrazy v prvcích matice, výsledkem budou právě hledané reálné hodnoty.

je tedy

$$a^2 \cdot 1 + 2ab \cdot \frac{1}{2} + b^2 \cdot \frac{1}{4} = a^2 + ab + \frac{b^2}{4}.$$

Analogicky stanovíme postupně relativní četnosti dvojic  $aA$  a  $aa$  v poměru ve tvarech

$$ab + bc + 2ac + \frac{b^2}{2}$$

a

$$c^2 + bc + \frac{b^2}{4}.$$

Na tento proces můžeme nahlížet jako na zobrazení  $T$ , které transformuje vektor  $(a, b, c)^T$ . Platí

$$T : \begin{pmatrix} a \\ b \\ c \end{pmatrix} \mapsto \begin{pmatrix} a^2 + ab + b^2/4 \\ ab + bc + 2ac + b^2/2 \\ c^2 + bc + b^2/4 \end{pmatrix}.$$

Podotkněme, že za definiční obor (a pochopitelně i obor hodnot)  $T$  vlastně bereme pouze vektory

$$\begin{pmatrix} a \\ b \\ c \end{pmatrix}, \quad \text{kde } a, b, c \in [0, 1], a + b + c = 1.$$

Chtěli bychom zadat operaci  $T$  pomocí násobení vektoru  $(a, b, c)^T$  jistou konstantní maticí. To však očividně není možné (zobrazení  $T$  není lineární). Nejedná se tedy o Markovův proces a nelze zjednodušit určování, co se stane po velmi dlouhé době, jako v předešlých případech. Můžeme ale vypočítat, co se stane, když aplikujeme zobrazení  $T$  dvakrát po sobě. Ve druhém kroku dostáváme

$$T : \begin{pmatrix} a^2 + ab + b^2/4 \\ ab + bc + 2ac + b^2/2 \\ c^2 + bc + b^2/4 \end{pmatrix} \mapsto \begin{pmatrix} t_1^1 \\ t_2^2 \\ t_3^3 \end{pmatrix}, \quad \text{kde}$$

$$t_2^1 = \left(a^2 + ab + \frac{b^2}{4}\right)^2 + \left(a^2 + ab + \frac{b^2}{4}\right) \left(ab + bc + 2ac + \frac{b^2}{2}\right) + \frac{1}{4} \left(ab + bc + 2ac + \frac{b^2}{2}\right)^2,$$

$$t_2^2 = \left(a^2 + ab + \frac{b^2}{4}\right) \left(ab + bc + 2ac + \frac{b^2}{2}\right) + \left(ab + bc + 2ac + \frac{b^2}{2}\right) \left(c^2 + bc + \frac{b^2}{4}\right) + 2 \left(a^2 + ab + \frac{b^2}{4}\right) \left(c^2 + bc + \frac{b^2}{4}\right) + \frac{1}{2} \left(ab + bc + 2ac + \frac{b^2}{2}\right)^2,$$

$$t_2^3 = \left(c^2 + bc + \frac{b^2}{4}\right)^2 + \left(ab + bc + 2ac + \frac{b^2}{2}\right) \left(c^2 + bc + \frac{b^2}{4}\right) + \frac{1}{4} \left(ab + bc + 2ac + \frac{b^2}{2}\right)^2.$$

Lze ukázat (využitím  $a + b + c = 1$ ), že

$$t_2^1 = a^2 + ab + \frac{b^2}{4}, \quad t_2^2 = ab + bc + 2ac + \frac{b^2}{2}, \quad t_2^3 = c^2 + bc + \frac{b^2}{4},$$

tj.

$$T : \begin{pmatrix} a^2 + ab + b^2/4 \\ ab + bc + 2ac + b^2/2 \\ c^2 + bc + b^2/4 \end{pmatrix} \mapsto \begin{pmatrix} a^2 + ab + b^2/4 \\ ab + bc + 2ac + b^2/2 \\ c^2 + bc + b^2/4 \end{pmatrix}.$$

Získali jsme tak překvapivý výsledek, že dalším aplikováním transformace  $T$  se vektor obdrženy v prvním kroku nezmění. To znamená, že výskyt uvažovaných dvojic alel je po libovolně dlouhé době totožný jako v první generaci potomstva. Pro velkou populaci jsme tak dokázali, že evoluční vývoj by se realizoval během jediné generace, kdyby nedocházelo k mutacím nebo k selekci.  $\square$

**3.34.** Necht' jsou dány dvě urny, které obsahují dohromady  $n$  bílých a  $n$  černých koulí. V pravidelných časových intervalech je z obou urn vylosována jedna koule a přemístěna do druhé urny, přičemž počet koulí v obou urnách je na začátku (a tedy po celou dobu) právě  $n$ . Zadejte tento Markovův proces pravděpodobnostní maticí přechodu  $T$ .

**Řešení.** Tento příklad se používá ve fyzice jako model prolínání dvou nestlačitelných kapalin (již v roce 1769 ho zavedl D. Bernoulli) nebo analogicky jako model difúze plynů. Stavů  $0, 1, \dots, n$  budou odpovídat kupř. počtu bílých koulí v jedné pevně zvolené urně. Tento údaj totiž současně zadává, kolik černých koulí je ve zvolené urně (všechny ostatní koule jsou pak ve druhé z urn). Pokud v jistém kroku dojde ke změně stavu  $j \in \{1, \dots, n\}$  na  $j - 1$ , znamená to, že ze zvolené urny byla vytažena bílá koule a z druhé černá. To se stane s pravděpodobností

$$\frac{j}{n} \cdot \frac{j}{n} = \frac{j^2}{n^2}.$$

Přechodu ze stavu  $j \in \{0, \dots, n-1\}$  do  $j+1$  odpovídá vytažení černé koule ze zvolené urny a bílé z té druhé s pravděpodobností

$$\frac{n-j}{n} \cdot \frac{n-j}{n} = \frac{(n-j)^2}{n^2}.$$

Soustava zůstane ve stavu  $j \in \{1, \dots, n-1\}$ , jestliže z obou urn byly vytaženy koule stejné barvy, což má pravděpodobnost

$$\frac{j}{n} \cdot \frac{n-j}{n} + \frac{n-j}{n} \cdot \frac{j}{n} = \frac{2j(n-j)}{n^2}.$$

Dodejme, že ze stavu 0 se nutně (s pravděpodobností 1) přechází do stavu 1 a že ze stavu  $n$  se s jistotou přechází do stavu  $n-1$ . Uvážením

Když je na vektorovém prostoru  $V$  zadán skalární součin, můžeme v každém induktivním kroku důkazu předchozího tvrzení využít skutečnosti, že vždy  $V/V_k \simeq V_k^\perp$  a  $V_k^\perp \ni u \mapsto (u + V_k) \in V/V_k$ . To znamená, že v každé třídě rozkladu  $V/V_k$  existuje právě jeden vektor z  $V_k^\perp$ . Skutečně, tuto vlastnost má faktorový prostor podle libovolného podprostoru v unitárním prostoru – pokud  $u, v \in V_k^\perp$  jsou v jedné třídě, pak jejich rozdíl patří do  $V_k \cap V_k^\perp$ , tedy jsou stejné. Můžeme tedy jako reprezentanta  $u_{k+1}$  nalezené třídy, tedy vlastního vektoru  $\varphi_{V/V_k}$ , zvolit právě vektor z  $V_k^\perp$ . Touto modifikací dojdeme k ortogonální bázi s vlastnostmi požadovanými v tvrzení o triangulovatelnosti. Proto existuje i taková ortonormální báze:

**Důsledek** (Schurova věta o ortogonální triangulovatelnosti). *Necht'  $\varphi : V \rightarrow V$  je libovolné lineární zobrazení (reálného nebo komplexního) unitárního prostoru s  $m = \dim V$  vlastními hodnotami (včetně násobnosti). Pak existuje ortonormální báze prostoru  $V$  taková, že  $\varphi$  v ní má horní trojúhelníkovou matici s vlastními čísly  $\lambda_1, \dots, \lambda_m$  na diagonále.*

**3.33. Věta.** *Necht'  $\varphi : V \rightarrow V$  je lineární zobrazení. Součet kořenových prostorů*

$$\mathcal{R}_{\lambda_1}, \dots, \mathcal{R}_{\lambda_k}$$

*příslušných různým vlastním hodnotám  $\lambda_1, \dots, \lambda_k$  je přímý. Navíc je pro každou vlastní hodnotu  $\lambda$  dimenze podprostoru  $\mathcal{R}_\lambda$  rovna její algebraické násobnosti.*

**DŮKAZ.** Důkaz provedeme indukcí přes počet  $k$  kořenových prostorů. Předpokládejme, že tvrzení vždy platí pro méně než  $k$  prostorů a že pro vektory  $u_1 \in \mathcal{R}_{\lambda_1}, \dots, u_k \in \mathcal{R}_{\lambda_k}$  platí  $u_1 + \dots + u_k = 0$ . Pro vhodné  $j$  pak  $(\varphi - \lambda_k \cdot \text{id}_V)^j(u_k) = 0$  a zároveň jsou  $y_i = (\varphi - \lambda_k \cdot \text{id}_V)^j(u_i)$  nenulové vektory v  $\mathcal{R}_{\lambda_i}, i = 1, \dots, k-1$ , pokud  $u_i$  jsou nenulové, viz. předchozí věta. Přitom ale

$$y_1 + \dots + y_{k-1} = \sum_{i=1}^k (\varphi - \lambda_k \cdot \text{id}_V)^j(u_i) = 0$$

a tedy podle indukčního předpokladu jsou všechny  $y_i$  nulové. Pak ovšem i  $u_k = 0$  a lineární nezávislost je dokázána.

Zbývá ukázat, že dimenze každého kořenového prostoru  $\mathcal{R}_\lambda$  je rovna algebraické násobnosti kořenu  $\lambda$  charakteristického polynomu. Necht' tedy je  $\lambda$  vlastní hodnota  $\varphi$ , označme  $\bar{\varphi}$  zúžení  $\varphi|_{\mathcal{R}_\lambda}$  a  $\psi : V/\mathcal{R}_\lambda \rightarrow V/\mathcal{R}_\lambda$  necht' je zobrazení indukované  $\varphi$  na faktorovém prostoru. Předpokládejme, že dimenze  $\mathcal{R}_\lambda$  je menší než násobnost kořenu  $\lambda$  charakteristického polynomu. Podle věty ?? to znamená, že  $\lambda$  je i vlastní hodnotou zobrazení  $\psi$ . Necht'  $(v + \mathcal{R}_\lambda) \in V/\mathcal{R}_\lambda$  je příslušný vlastní vektor, tj.  $\psi(v + \mathcal{R}_\lambda) = \lambda \cdot (v + \mathcal{R}_\lambda)$  což podle definice značí  $v \notin \mathcal{R}_\lambda$  a  $\varphi(v) = \lambda \cdot v + w$  pro vhodné  $w \in \mathcal{R}_\lambda$ . Máme tedy  $w = (\varphi - \lambda \cdot \text{id}_V)(v)$  a  $(\varphi - \lambda \cdot \text{id}_V)^j(w) = 0$  pro vhodné  $j$ . Celkem tedy  $(\varphi - \lambda \cdot \text{id}_V)^{j+1}(v) = 0$  což je ve sporu s volbou  $v \notin \mathcal{R}_\lambda$ . Tím jsme dokázali, že dimenze  $\mathcal{R}_\lambda$  je rovna násobnosti kořenu  $\lambda$  charakteristického polynomu  $\varphi$ .  $\square$

**Důsledek.** Pro každé lineární zobrazení  $\varphi : V \rightarrow V$ , jehož celé spektrum je v  $\mathbb{K}$ , je  $V = \mathcal{R}_{\lambda_1} \oplus \dots \oplus \mathcal{R}_{\lambda_n}$  přímým součtem kořenových podprostorů. Zvolíme-li vhodně báze těchto podprostorů, pak  $\varphi$  má v této bázi blokově diagonální tvar s horními trojúhelníkovými maticemi v blocích a vlastními hodnotami  $\lambda_i$  na diagonále.

3.38

**3.34. Nilpotentní a cyklická zobrazení.** Nyní již máme skoro vše připraveno pro diskusi kanonických tvarů matic. Zbývá jen vyjasnit vztah mezi cyklickými a nilpotentními zobrazeními a poskládat dohromady již připravené výsledky.

**Věta.** Necht'  $\varphi : V \rightarrow V$  je nilpotentní lineární zobrazení. Pak existuje rozklad  $V$  na přímý součet podprostorů  $V = V_1 \oplus \dots \oplus V_k$  takových, že zúžení  $\varphi$  na kterýkoliv z nich je cyklické.

**DŮKAZ.** Ověření je docela jednoduché a spočívá v konstrukci takové báze prostoru  $V$ , že akce zobrazení  $\varphi$  na bázevých vektorech přímo ukazuje rozklad na cyklická zobrazení. Postup bude ale poněkud zdlouhavý.

Nechť  $k$  je stupeň nilpotentnosti zobrazení  $\varphi$  a označme  $P_i = \text{im}(\varphi^i)$ ,  $i = 0, \dots, k$ , tzn.

$$\{0\} = P_k \subset P_{k-1} \subset \dots \subset P_1 \subset P_0 = V.$$

Vyberme libovolnou bázi  $e_1^{k-1}, \dots, e_{p_{k-1}}^{k-1}$  prostoru  $P_{k-1}$ , kde  $p_{k-1} > 0$  je dimenze  $P_{k-1}$ . Z definice plyne, že  $P_{k-1} \subset \text{Ker } \varphi$ , tj. vždy  $\varphi(e_j^{k-1}) = 0$ .

Předpokládejme, že  $P_{k-1} \neq V$ . Protože  $P_{k-1} = \varphi(P_{k-2})$ , nutně existují v  $P_{k-2}$  vektory  $e_j^{k-2}$ ,  $j = 1, \dots, p_{k-1}$ , takové, že  $\varphi(e_j^{k-2}) = e_j^{k-1}$ . Předpokládejme

$$a_1 e_1^{k-1} + \dots + a_{p_{k-1}} e_{p_{k-1}}^{k-1} + b_1 e_1^{k-2} + \dots + b_{p_{k-1}} e_{p_{k-1}}^{k-2} = 0.$$

Aplikací zobrazení  $\varphi$  na tuto lineární kombinaci získáme  $b_1 e_1^{k-1} + \dots + b_{p_{k-1}} e_{p_{k-1}}^{k-1} = 0$ , proto jsou všechny  $b_j = 0$ . Pak ale  $a_j = 0$ , protože se jedná o kombinaci bázevých vektorů. Celkem jsme tedy ověřili lineární nezávislost všech  $2p_{k-1}$  zvolených vektorů. Doplňme je do báze

$$e_1^{k-1}, \dots, e_{p_{k-1}}^{k-1}, e_1^{k-2}, \dots, e_{p_{k-1}}^{k-2}, e_{p_{k-1}+1}^{k-2}, \dots, e_{p_{k-2}}^{k-2}$$

prostoru  $P_{k-2}$ . Navíc jsou obrazy přidávaných bázevých prvků v  $P_{k-1}$ , nutně tedy musejí být lineárními kombinacemi bázevých prvků  $e_1^{k-1}, \dots, e_{p_{k-1}}^{k-1}$ . Můžeme proto zaměnit zvolené vektory  $e_{p_{k-1}+1}^{k-2}, \dots, e_{p_{k-2}}^{k-2}$  vektory  $e_j^{k-2} - \varphi(e_j^{k-2})$ . Tím docílíme, že doplněné vektory do báze  $P_{k-2}$  patří do jádra zobrazení  $\varphi$ . Předpokládejme to přímo o zvolené bázi (1).

výše uvedeného dostáváme hledanou matici

$$T = \frac{1}{n^2} \begin{pmatrix} 0 & 1 & 0 & \dots & 0 & 0 & 0 \\ n^2 & 2 \cdot 1(n-1) & 2^2 & \ddots & 0 & 0 & 0 \\ 0 & (n-1)^2 & 2 \cdot 2(n-2) & \ddots & 0 & 0 & 0 \\ \vdots & \ddots & \ddots & \ddots & \ddots & \ddots & \vdots \\ 0 & 0 & 0 & \ddots & 2 \cdot (n-2)2 & (n-1)^2 & 0 \\ 0 & 0 & 0 & \ddots & 2^2 & 2 \cdot (n-1)1 & n^2 \\ 0 & 0 & 0 & \dots & 0 & 1 & 0 \end{pmatrix}$$

pro pořadí stavů  $0, 1, \dots, n$ .

Při užití tohoto modelu ve fyzice nás samozřejmě zajímá složení uren po uplynutí určité doby (po daném počtu výměn v závislosti na předešlém složení uren). Bude-li počáteční stav např. 0, můžeme pomocí mocnin matice  $T$  sledovat, s jakou pravděpodobností přibývají ve zvolené urně bílé koule. Také lze potvrdit očekávaný výsledek, že počáteční rozdělení koulí bude ovlivňovat jejich rozdělení po delší době zanedbatelným způsobem.

Kdybychom jednotlivé koule očíslovali, místo výběru po jedné kouli z uren vylosovali nějaké z čísel  $1, 2, \dots, 2n$  a kouli, jejíž číslo bylo vytaženo, přemístili do druhé urny, obdrželi bychom Markovův proces se stavy  $0, 1, \dots, 2n$  (počet koulí ve zvolené urně), kdy se tak už nerozlišuje barva koulí. Tento Markovův řetězec je rovněž ve fyzice důležitý. (P. a T. Ehrenfestovi jej zavedli v roce 1907.) Používá se jako model výměny tepla mezi dvěma izolovanými tělesy (teplota je reprezentována počtem koulí, tělesa urnami).  $\square$

**3.35. Které z matic**

$$A = \begin{pmatrix} 0 & 1/7 \\ 1 & 6/7 \end{pmatrix}, \quad B = \begin{pmatrix} 1/2 & 0 & 1/3 \\ 0 & 1 & 1/2 \\ 1/2 & 0 & 1/6 \end{pmatrix}, \quad C = \begin{pmatrix} 0 & 1 & 0 \\ 1/4 & 0 & 1/2 \\ 3/4 & 0 & 1/2 \end{pmatrix},$$

$$D = \begin{pmatrix} 1/3 & 1/2 & 0 & 0 \\ 1/2 & 1/3 & 0 & 0 \\ 0 & 1/6 & 1/6 & 1/3 \\ 1/6 & 0 & 5/6 & 2/3 \end{pmatrix}, \quad E = \begin{pmatrix} 0 & 1 & 0 & 0 \\ 0 & 0 & 0 & 1 \\ 1 & 0 & 0 & 0 \\ 0 & 0 & 1 & 0 \end{pmatrix}$$

jsou regulární?

**Řešení.** Neboť

$$A^2 = \begin{pmatrix} 1/7 & 6/49 \\ 6/7 & 43/49 \end{pmatrix}, \quad C^3 = \begin{pmatrix} 3/8 & 1/4 & 1/4 \\ 1/4 & 3/8 & 1/4 \\ 3/8 & 3/8 & 1/2 \end{pmatrix},$$

matice  $A$  a  $C$  jsou regulární; a neboť

$$\begin{pmatrix} 1/2 & 0 & 1/3 \\ 0 & 1 & 1/2 \\ 1/2 & 0 & 1/6 \end{pmatrix} \cdot \begin{pmatrix} 0 \\ 1 \\ 0 \end{pmatrix} = \begin{pmatrix} 0 \\ 1 \\ 0 \end{pmatrix},$$

bude prostřední sloupec matice  $B^n$  vždy (pro  $n \in \mathbb{N}$ ) vektorem  $(0, 1, 0)^T$ , tj. matice  $B$  nemůže být regulární. Součin

$$\begin{pmatrix} 1/3 & 1/2 & 0 & 0 \\ 1/2 & 1/3 & 0 & 0 \\ 0 & 1/6 & 1/6 & 1/3 \\ 1/6 & 0 & 5/6 & 2/3 \end{pmatrix} \cdot \begin{pmatrix} 0 \\ 0 \\ a \\ b \end{pmatrix} = \begin{pmatrix} 0 \\ 0 \\ a/6 + b/3 \\ 5a/6 + 2b/3 \end{pmatrix}, \quad a, b \in \mathbb{R}$$

implikuje, že matice  $D^2$  bude mít v pravém horním rohu nulovou dvou-  
rozměrnou (čtvercovou) submatici. Opakováním této implikace dostá-  
váme, že stejnou vlastnost mají matice  $D^3 = D \cdot D^2$ ,  $D^4 = D \cdot D^3$ ,  
 $\dots$ ,  $D^n = D \cdot D^{n-1}$ ,  $\dots$ , tudíž matice  $D$  není regulární. Matice  $E$   
je permutační (v každém řádku a sloupci má právě jeden nenulový pr-  
vek, a to 1). Není obtížné si uvědomit, že mocniny permutační matice  
jsou opět permutační matice. Matice  $E$  proto také není regulární. To  
lze rovněž ověřit výpočtem mocnin  $E^2$ ,  $E^3$ ,  $E^4$ . Matice  $E^4$  je totiž  
jednotková.  $\square$

**3.36.** Dva hráči  $A$ ,  $B$  hrají o peníze opakovaně jistou hru, která může  
skončit pouze vítězstvím jednoho z hráčů. Pravděpodobnost výhry  
hráče  $A$  je v každé jednotlivé hře  $p \in [0, 1/2)$  a oba sází vždy (v li-  
bovolné hře) jen 1 Kč, tj. po každé hře s pravděpodobností  $p$  dá 1 Kč  
hráč  $B$  hráči  $A$  a s pravděpodobností  $1 - p$  naopak 1 Kč dá hráč  $A$  hrá-  
či  $B$ . Hrají ovšem tak dlouho, dokud jeden z nich nepřijde o všechny  
peníze. Jestliže má hráč  $A$  na začátku  $x$  Kč a hráč  $B$  má  $y$  Kč, určete  
pravděpodobnost, že hráč  $A$  vše prohraje.

**Řešení.** Tato úloha se nazývá Ruinování hráče. Jedná se o speciální  
Markovův řetězec (viz také příklad Mlsný hazardér) s mnoha důleži-  
tými aplikacemi. Hledaná pravděpodobnost činí

$$(3.6) \quad \frac{1 - \left(\frac{p}{1-p}\right)^y}{1 - \left(\frac{p}{1-p}\right)^{x+y}}.$$

Povšimněme si, jaká je tato hodnota pro konkrétní volby  $p$ ,  $x$ ,  $y$ . Kdyby  
hráč  $B$  chtěl mít téměř jistotu a požadoval, aby pravděpodobnost, že  
hráč  $A$  s ním prohraje 1 000 000 Kč, byla alespoň 0,999, potom stačí,  
aby měl 346 Kč, je-li  $p = 0,495$  (či 1 727 Kč, je-li  $p = 0,499$ ). Proto  
je ve velkých kasinech možné, aby „vášniví“ hráči mohli hrát téměř  
spravedlivé hry.  $\square$

3.37. V rámci jisté společnosti fungují dvě navzájem si konkurující  
oddělení. Vedení společnosti se rozhodlo, že každý týden bude po-  
měřovat relativní (vzhledem k počtu zaměstnanců) zisky dosažené tě-  
mito dvěma odděleními. Do oddělení, které bude úspěšnější, pak bu-  
dou přeřazeni dva pracovníci z druhého oddělení. Tento proces má  
probíhat tak dlouho, až jedno z oddělení zanikne. Získali jste zaměst-  
nání v této společnosti a můžete si vybrat jedno z těchto dvou oddělení,

Předpokládejme dále, že již máme sestrojenu bázi pod-  
prostoru  $P_{k-\ell}$  takovou, že ji můžeme poskládat do schématu

$$\begin{array}{l} e_1^{k-1}, \dots, e_{p_{k-1}}^{k-1} \\ e_1^{k-2}, \dots, e_{p_{k-1}}^{k-2}, e_{p_{k-1}+1}^{k-2}, \dots, e_{p_{k-2}}^{k-2} \\ e_1^{k-3}, \dots, e_{p_{k-1}}^{k-3}, e_{p_{k-1}+1}^{k-3}, \dots, e_{p_{k-2}}^{k-3}, e_{p_{k-2}+1}^{k-3}, \dots, e_{p_{k-3}}^{k-3} \\ \vdots \\ e_1^{k-\ell}, \dots, e_{p_{k-1}}^{k-\ell}, e_{p_{k-1}+1}^{k-\ell}, \dots, e_{p_{k-2}}^{k-\ell}, e_{p_{k-2}+1}^{k-\ell}, \dots, e_{p_{k-3}}^{k-\ell}, \dots, e_{p_{k-\ell}}^{k-\ell} \end{array}$$

kde hodnota zobrazení  $\varphi$  na libovolném bázevém vektoru se  
nachází nad ním, nebo je nulová, pokud nad zvoleným vekt-  
torem báze již nic není. Pokud je  $P_{k-\ell} \neq V$ , opět musí  
existovat vektory  $e_1^{k-\ell-1}, \dots, e_{p_{k-\ell}}^{k-\ell-1}$ , které se zobrazují na  
 $e_1^{k-\ell}, \dots, e_{p_{k-\ell}}^{k-\ell}$  a můžeme je doplnit do báze  $P_{k-\ell-1}$ , řekněme  
vektory

$$e_{p_{k-\ell}+1}^{k-\ell-1}, \dots, e_{p_{k-\ell-1}}^{k-\ell-1}.$$

Přitom postupným odečítáním hodnot iterací zobrazení  $\varphi$  na  
těchto vektorech dosáhneme opět toho, že doplněné vektory  
do báze  $P_{k-\ell-1}$  budou ležet v jádru  $\varphi$  a analogicky jako výše  
ověříme, že skutečně dostaneme bázi  $P_{k-\ell-1}$ .

Po  $k$  krocích získáme bázi celého  $V$ , která má vlastnosti  
uvedené pro bázi (2) prostoru  $P_{k-\ell}$ . Jednotlivé sloupce vý-  
sledného schématu pak generují hledané podprostory  $V_i$  a  
navíc jsme přímo našli báze těchto podprostorů ukazující, že  
příslušná zúžení  $\varphi$  jsou cyklická zobrazení.  $\square$

**3.35. Důkaz Jordanovy věty.** Necht  $\lambda_1, \dots, \lambda_k$  jsou  
všechny různé vlastní hodnoty zobrazení  $\varphi$ . Z předpokladů  
Jordanovy věty plyne, že  $V = \mathcal{R}_{\lambda_1} \oplus \dots \oplus \mathcal{R}_{\lambda_k}$ . Zobrazení  
 $\varphi_i = (\varphi|_{\mathcal{R}_{\lambda_i}} - \lambda_i \cdot \text{id}_{\mathcal{R}_{\lambda_i}})$  jsou nilpotentní a proto je každý z  
kořenových prostorů přímým součtem

$$\mathcal{R}_{\lambda_i} = P_{1,\lambda_i} \oplus \dots \oplus P_{j_i,\lambda_i}$$

prostorů na nichž je zúžení zobrazení  $\varphi - \lambda_i \cdot \text{id}_V$  cyklické.  
Matice těchto zúžených zobrazení na  $P_{r,s}$  jsou Jordanovy  
bloky příslušné k nulové vlastní hodnotě, zúžené zobrazení  
 $\varphi|_{P_{r,s}}$  má proto za matici Jordanův blok s vlastní hodnotou  
 $\lambda_i$ .

Pro důkaz Jordanovy věty zbývá dokázat tvrzení o jed-  
noznačnosti. Protože diagonální hodnoty  $\lambda_i$  jsou dány jako  
kořeny charakteristického polynomu, je jejich jednoznačnost  
zřejmá. Vyjádříme rozměry jednotlivých Jordanových bloků  
prostřednictvím hodnot  $r_k(\lambda_i)$  zobrazení  $(\varphi - \lambda_i \cdot \text{id}_V)^k$ .  
Tím bude jasné, že až na pořadí jsou bloky jednoznačně  
určeny. Naopak, přehození bloků odpovídá přecíslování vekt-  
torů báze, lze je tedy získat v libovolném pořadí.

Je-li  $\psi$  cyklický operátor na  $n$ -rozměrném prostoru, pak  
defekt iterovaného zobrazení  $\psi^k$  je  $k$  pro  $0 \leq k \leq n$  a je  $n$  pro  
všechna  $k \geq n$ . Odtud plyne, že pokud matice  $J$  zobrazení  $\varphi$   
obsahuje  $d_k(\lambda)$  Jordanových bloků řádu  $k$  s vlastní hodnotou  
 $\lambda$ , pak defekt matice  $(J - \lambda \cdot E)^\ell$  je

$$d_1(\lambda) + 2d_2(\lambda) + \dots + \ell d_\ell(\lambda) + \ell d_{\ell+1}(\lambda) + \dots$$

Odtud spočítáme

$$n - r_\ell(\lambda) = d_1(\lambda) + 2d_2(\lambda) + \dots + \ell d_\ell(\lambda) + \ell d_{\ell+1}(\lambda) + \dots$$

$$d_k(\lambda) = r_{k-1}(\lambda) - 2r_k(\lambda) + r_{k+1}(\lambda)$$

(kde poslední řádek vznikne kombinací předchozího pro hodnoty  $\ell = k - 1, k, k + 1$ ).

**3.36. Poznámka.** Důkaz věty o existenci Jordanova kanonického tvaru byl sice konstruktivní, nedává nám ale dokonale efektivní algoritmický postup pro jejich hledání. Nyní shrneme již odvozený postup explicitního výpočtu báze, v níž má dané zobrazení  $\varphi: V \rightarrow V$  matici v kanonickém Jordanově tvaru.

- (1) Najdeme kořeny charakteristického polynomu.
- (2) Jestliže jich je méně než  $n = \dim V$ , včetně násobností, kanonický tvar neexistuje.
- (3) Je-li  $n$  lineárně nezávislých vlastních vektorů, získáme bázi  $V$  z vlastních vektorů a v ní má  $\varphi$  diagonální matici.
- (4) Nechť  $\lambda$  je vlastní hodnota s geometrickou násobností menší než algebraickou a  $v_1, \dots, v_k$  nechť jsou příslušné vlastní vektory. To by měly být vektory na horním okraji schématu z důkazu věty 3.34, je ovšem nutné najít vhodnou bázi aplikacemi iterací  $\varphi - \lambda \cdot \text{id}_V$ . Zároveň přitom zjistíme ve kterém řádku se vektory nacházejí a najdeme lineárně nezávislá řešení  $w_i$  rovnic  $(\varphi - \lambda \text{id})(x) = v_i$  z řádků pod nimi. Postup opakujeme iterativně (tj. pro  $w_i$  atd.). Najdeme tak „řetízky“ bazových vektorů zadávajících podprostory, kde  $\varphi - \lambda \text{id}$  je cyklické.

Postup je praktický pro matice, kde násobnosti vlastních hodnot jsou malé, nebo aspoň diskutované stupně nilpotentnosti jsou malé. Např. pro matici

$$A = \begin{pmatrix} 2 & 0 & 1 \\ 0 & 2 & 1 \\ 0 & 0 & 2 \end{pmatrix}$$

dostaneme dvourozměrný podprostor vlastních vektorů

$$\langle (1, 0, 0), (0, 1, 0) \rangle.$$

Potřebujeme proto najít řešení rovnic  $(A - 2E)x = (a, b, 0)^T$  pro vhodné konstanty  $a, b$ . Tento systém je ovšem řešitelný pouze pro  $a = b$  a jedno z možných řešení je  $v = (0, 0, 1)$ ,  $a = b = 1$ . Celá hledaná báze pak je  $(1, 1, 0)$ ,  $(0, 0, 1)$ ,  $(1, 0, 0)$ . Všimněme si, že jsme měli spoustu voleb a bazí s požadovanými vlastnostmi je tedy mnoho.

### 5. Rozklady matic a pseudoinverze

V minulé části jsme s soustředili na geometrický popis struktury zobrazení. Teď naše výsledky přeložíme do jazyku tzv. rozkladů matic, což je obzvlášť důležité téma pro numerické postupy a maticový počet obecně.

I při počítání s reálnými čísly užíváme pro zjednodušení rozklady na součiny. Nejjednodušším je vyjádření každého reálného čísla jednoznačně ve tvaru

$$a = \text{sgn}(a) \cdot |a|,$$

kde budete pracovat. Chcete si zvolit to, které nebude v důsledku vnitropodnikové konkurence zrušeno. Jaká bude Vaše volba, když jedno oddělení má nyní 40 zaměstnanců, druhé 10 a když odhadujete, že to v současnosti menší z nich bude mít větší relativní zisky v 54 % případech?

Další využití Markovových řetězců viz příloha za kapitolou.

### D. Rozklady matic

**3.38.** Vyvráťte nebo dokažte:

- Nechť  $A$  je čtvercová matice  $n \times n$ . Pak je matice  $A^T A$  je symetrická.
- Nechť čtvercová matice  $A$  má pouze kladné reálné vlastní hodnoty. Pak je  $A$  symetrická.

**3.39.** Nalezněte LU-rozklad následující matice:

$$\begin{pmatrix} -2 & 1 & 0 \\ -4 & 4 & 2 \\ -6 & 1 & -1 \end{pmatrix}$$

**Řešení.**

$$\begin{pmatrix} 1 & 0 & 0 \\ 2 & 1 & 0 \\ 3 & -1 & 1 \end{pmatrix} \begin{pmatrix} -2 & 1 & 0 \\ 0 & 2 & 2 \\ 0 & 0 & 1 \end{pmatrix}$$

Nejprve vynásobíme matice odpovídající Gaussově eliminaci, dostáváme tak pro původní matici  $A$ ,  $XA = U$ , kde  $X$  je dolní trojúhelníková daná zmíněným součinem,  $U$  horní trojúhelníková. Z této rovnosti máme  $A = X^{-1}U$ , což je hledaný rozklad (musíme tedy spočítat inverzi k  $X$ ). □

**3.40.** Nalezněte LU-rozklad matice  $\begin{pmatrix} 1 & 1 & 0 \\ 1 & -1 & 2 \\ - & 1 & -1 \end{pmatrix}$ .

**3.41. Ray-tracing.** V počítačové 3D-grafice se obraz zobrazuje pomocí algoritmu Ray-tracing. Základem tohoto algoritmu je aproximace světelných vln paprskem (přímka) a aproximace zobrazovaných objektů mnohostěny. Ty jsou tedy ohraničeny rovinami a je potřeba spočítat, kam se na těchto rovinách odráží světelné paprsky. Z fyziky přitom víme, jak se paprsky odráží - úhel odrazu je roven úhlu dopadu.

Paprsek světla ve směru  $v = (1, 2, 3)$  dopadá na rovinu určenou rovnicí  $x + y + z = 1$ . V jakém směru se paprsek odrazí?

**Řešení.** Jednotkový normálový vektor k rovině je  $n = \frac{1}{\sqrt{3}}(1, 1, 1)$ . Vektor určující směr odraženého paprsku  $v_R$  bude ležet v rovině určené vektory  $v, n$ . Můžeme jej tedy vyjádřit jako lineární kombinaci těchto vektorů. Zároveň nám pravidlo úhel odrazu je roven úhlu dopadu jinými slovy říká, že  $\langle v, n \rangle = -\langle v_R, n \rangle$ . Odtud dostaneme kvadratickou rovnici pro koeficienty lineární kombinace.

Příklad můžeme vyřešit i jednodušším, geometrickým způsobem. Z obrázku můžeme přímo odvodit, že

$$v_R = v - 2\langle v, n \rangle n$$

a v našem případě dostáváme  $v_R = (-3, -2, -1)$ .  $\square$

**3.42.** Najděte Jordanův tvar matice  $A$  a napište příslušný rozklad. Jaká je geometrická interpretace rozkladu této matice? 3.40

$$\begin{aligned} \text{i) } A &= \begin{pmatrix} -1 & 1 \\ -6 & 4 \end{pmatrix} \\ \text{ii) } A &= \begin{pmatrix} -1 & 1 \\ -4 & 3 \end{pmatrix} \end{aligned}$$

**Řešení.** i) Nejprve spočítáme charakteristický polynom matice  $A$

$$|A - \lambda E| = \begin{vmatrix} -1 - \lambda & 1 \\ -6 & 4 - \lambda \end{vmatrix} = \lambda^2 - 3\lambda + 2$$

Vlastní čísla matice  $A$  jsou kořeny tohoto polynomu, to znamená  $\lambda_{1,2} = 1, 2$ . Prtotože matice je řádu dva a máme dvě různé vlastní hodnoty, je Jordanův tvar diagonální matice  $J = \begin{pmatrix} 1 & 0 \\ 0 & 2 \end{pmatrix}$ . Vlastní vektor  $(x, y)$  příslušný vlastní hodnotě 1 splňuje  $0 = (A - E)x = \begin{pmatrix} -2 & 1 \\ -6 & 3 \end{pmatrix} \begin{pmatrix} x \\ y \end{pmatrix}$ , tj.  $-2x + y = 0$ . To jsou právě násobky vektoru  $(1, 2)$ . Podobně zjistíme, že vlastním vektorem k vlastní hodnotě 2 je  $(1, 3)$ . Matici  $P$  pak dostaneme napsáním těchto vlastních vektorů do sloupců, tj.  $P = \begin{pmatrix} 1 & 1 \\ 2 & 3 \end{pmatrix}$ . Pro matici  $A$  pak máme  $A = P \cdot J \cdot P^{-1}$ . Inverzní matice k  $P$  má tvar  $P^{-1} = \begin{pmatrix} 3 & -1 \\ -2 & 1 \end{pmatrix}$  a dohromady pak dostáváme

$$\begin{pmatrix} -1 & 1 \\ -6 & 4 \end{pmatrix} = \begin{pmatrix} 1 & 1 \\ 2 & 3 \end{pmatrix} \begin{pmatrix} 1 & 0 \\ 0 & 2 \end{pmatrix} \begin{pmatrix} 3 & -1 \\ -2 & 1 \end{pmatrix} \quad \text{3.41}$$

Tento rozklad nám říká, že matice  $A$  určuje takové lineární zobrazení, které má v bázi vlastních vektorů  $(1, 2)$ ,  $(1, 3)$  výše uvedený diagonální tvar. To znamená, že ve směru  $(1, 2)$  se nic neděje a ve směru  $(1, 3)$  se každý vektor protáhne na svůj dvojnásobek.

ii) Charakteristický polynom matice  $A$  je v tomto případě

$$|A - \lambda E| = \begin{vmatrix} -1 - \lambda & 1 \\ -4 & 3 - \lambda \end{vmatrix} = \lambda^2 - 2\lambda + 1 = 0$$

Dostáváme tedy dvojnásobný kořen  $\lambda = 1$  a příslušný vlastní vektor  $(x, y)$  splňuje

$$0 = (A - E)x = \begin{pmatrix} -2 & 1 \\ -4 & 2 \end{pmatrix} \begin{pmatrix} x \\ y \end{pmatrix}$$

To jsou, opět jako v minulém příkladu, násobky vektoru  $(1, 2)$ . To, že řešením této rovnice nejsou dva lineárně nezávislé vektory, říká, že Jordanův tvar v tomto případě nebude diagonální, ale bude to matice  $\begin{pmatrix} 1 & 1 \\ 0 & 1 \end{pmatrix}$ . Bázi, ve které má matice  $A$  tento tvar, tvoří vlastní vektor

tj. jako součin znaménka a absolutní hodnoty. V dalším textu si uvedeme stručně přehled několika takových rozkladů pro různé typy matic, které bývají nesmírně užitečné při numerických výpočtech s maticemi. Například jsme vhodný rozklad pro pozitivně semidefinitní symetrické matice využili v odstavci 3.27 pro konstrukci odmocniny z matice.

**3.37. LU-rozklad.** Začneme přeformulováním několika výsledků, které jsme už dávno odvodili. V odstavcích 2.7 a 2.8 jsme upravovali matice nad skaláry z libovolného pole na řádkový schodovitý tvar. K tomu jsme používali elementární úpravy, které spočívaly v postupném násobení naší matice invertibilními dolními trojúhelníkovými maticemi  $P_i$ , které postihovaly přičítání násobků řádků pod právě zpravovaným. Předpokládejme pro jednoduchost, že naše matice  $A$  je čtvercová a že při Gausově eliminaci nejsme nuceni přehazovat řádky a proto všechny naše matice  $P_i$  mohou být dolní trojúhelníkové s jedničkami na diagonálách. Konečně, stačí si povšimnout, že inverzní matice k takovýmto  $P_i$  jsou opět dolní trojúhelníkové s jedničkami na diagonálách a dostáváme

$$U = P \cdot A = P_k \cdots P_1 \cdot A$$

kde  $U$  je horní trojúhelníková matice a tedy

$$A = L \cdot U$$

kde  $L$  je dolní trojúhelníková matice s jedničkami na diagonále a  $U$  je horní trojúhelníková. Tomuto rozkladu se říká *LU-rozklad* matice  $A$ .

V případě obecné matice můžeme při Gausově eliminaci na řádkově schodovitý tvar potřebovat navíc permutace řádků, někdy i sloupců matice. Pak dostáváme obecněji  $A = P \cdot L \cdot U \cdot Q$ , kde  $P$  a  $Q$  jsou nějaké permutační matice.

**3.38. Poznámky.** Přímým důsledkem Gausovy eliminace bylo také zjištění, že až na volbu vhodných bází na definičním oboru a oboru hodnot je každé zobrazení  $f : V \rightarrow W$  zadáno maticí v blokově diagonálním tvaru s jednotkovou maticí, s rozměrem daným dimenzí obrazu  $f$ , a s nulovými bloky všude kolem. To lze přeformulovat takto: Každou matici  $A$  typu  $m/n$  nad polem skalárů  $\mathbb{K}$  lze rozložit na součin

$$A = P \cdot \begin{pmatrix} E & 0 \\ 0 & 0 \end{pmatrix} \cdot Q,$$

kde  $P$  a  $Q$  jsou vhodné invertibilní matice.

Pro čtvercové matice jsme v 3.28 ukázali při diskusi vlastností lineárních zobrazení  $f : V \rightarrow V$  na komplexních vektorových prostorech, že každou čtvercovou matici  $A$  dimenze  $m$  umíme rozložit na součin

$$A = P \cdot B \cdot P^{-1}$$

kde  $B$  je blokově diagonální s Jordanovými bloky příslušnými k vlastním číslům na diagonále. Skutečně jde o pouhé přepsání Jordanovy věty, protože násobení maticí  $P$  a její inverzí z opačných stran odpovídá v tomto případě právě změně

báze na vektorovém prostoru  $V$  a citovaná věta říká, že ve vhodné bázi má každé zobrazení Jordanův kanonický tvar.

Obdobně jsme tedy při diskusi samoadjungovaných zobrazení dokázali, že pro reálné symetrické nebo komplexní Hermiteovské matice existuje vždy rozklad na součin

$$A = P \cdot B \cdot P^*,$$

kde  $B$  je diagonální matice se všemi (vždy reálnými) vlastními čísly na diagonále, včetně násobností. Skutečně, jde opět o součin s maticemi vystihující změnu báze, nicméně připouštíme nyní pouze změny mezi ortonormálními bazemi a proto i matice přechodu  $P$  musí být ortogonální. Odtud  $P^{-1} = P^*$ .

Pro reálná ortogonální zobrazení jsme odvodili obdobně vyjádření jako u symetrických, pouze naše  $B$  bude blokově diagonální s bloky rozměru dva nebo jedna vyjadřujícími buď rotaci nebo zrcadlení nebo identitu vzhledem k příslušným podprostorům.

3.42

**3.39. Věta o singulárním rozkladu.** Nyní se vrátíme k obecným lineárním zobrazením mezi (obecně různými) vektorovými prostory. Jestliže na nich je definován skalární součin a omezíme se přitom na ortonormální báze, musíme postupovat o hodně rafinovaněji, než v případě bazí libovolných :

**Věta.** *Nechť  $A$  je libovolná matice typu  $m/n$  nad reálnými nebo komplexními skaláry. Pak existují čtvercové unitární matice  $U$  a  $V$  dimenzí  $m$  a  $n$ , a reálná diagonální matice s nezápornými prvky  $D$  dimenze  $r$ ,  $r \leq \min\{m, n\}$ , takové, že*

$$A = USV^*, \quad S = \begin{pmatrix} D & 0 \\ 0 & 0 \end{pmatrix}$$

a  $r$  je hodnota matice  $AA^*$ . Přitom je  $S$  určena jednoznačně až na pořadí prvků a prvky diagonální matice  $D$  jsou druhé odmocniny vlastních čísel  $d_i$  matice  $AA^*$ . Pokud je  $A$  reálná matice, pak i matice  $U$  a  $V$  jsou ortogonální.

**DŮKAZ.** Předpokládejme nejprve  $m \leq n$  a označme  $\varphi : \mathbb{K}^n \rightarrow \mathbb{K}^m$  zobrazení mezi reálnými nebo komplexními prostory se standardními skalárními součiny, zadané maticí  $A$  ve standardních bazích.

Tvrzení věty můžeme přeformulovat tak, že existují ortonormální báze na  $\mathbb{K}^n$  a  $\mathbb{K}^m$  ve kterých bude mít  $\varphi$  matici  $S$  z tvrzení věty.

Jak jsme viděli dříve, matice  $A^*A$  je pozitivně semidefinitní. Proto má samá reálná nezáporná vlastní čísla a existuje ortonormální báze  $\underline{w}$  v  $\mathbb{K}^n$ , ve které má příslušné zobrazení  $\varphi^* \circ \varphi$  diagonální matici s vlastními čísly na diagonále. Jinými slovy, existuje unitární matice  $V$  taková, že  $A^*A = VB^*V$  pro reálnou diagonální matici s nezápornými vlastními čísly  $(d_1, d_2, \dots, d_r, 0, \dots, 0)$  na diagonále,  $d_i \neq 0$  pro všechny  $i = 1, \dots, r$ . Odtud

$$B = V^*A^*AV = (AV)^*(AV).$$

$(1, 2)$  a vektor, který se na tento vektor zobrazí zobrazením  $A - E$ . Je tedy řešením soustavy rovnic

$$\left( \begin{array}{cc|c} -2 & 1 & 1 \\ -4 & 2 & 2 \end{array} \right) \sim \left( \begin{array}{cc|c} -2 & 1 & 1 \\ 0 & 0 & 0 \end{array} \right)$$

To jsou násobky vektoru  $(1, 3)$ . Dostáváme tedy stejnou bázi jako v minulém příkladu a můžeme psát

$$\begin{pmatrix} -1 & 1 \\ -4 & 3 \end{pmatrix} = \begin{pmatrix} 1 & 1 \\ 2 & 3 \end{pmatrix} \begin{pmatrix} 1 & 1 \\ 0 & 1 \end{pmatrix} \begin{pmatrix} 3 & -1 \\ -2 & 1 \end{pmatrix}$$

Zobrazení teď působí na vektor tak, že složka ve směru  $(1, 3)$  zůstává stejná a ke složka ve směru  $(1, 2)$  se bude násobit součtem koeficientů, které určují složky ve směrech  $(1, 3)$  a  $(1, 2)$ .  $\square$

**3.43.** Najděte Jordanův tvar matice  $A$  a napište příslušný rozklad. Jaká je geometrická interpretace rozkladu této matice?  $A_1 = \frac{1}{3} \begin{pmatrix} 5 & -1 \\ -2 & 4 \end{pmatrix}$  a  $A_2 = \frac{1}{3} \begin{pmatrix} 5 & -1 \\ 4 & 1 \end{pmatrix}$  a nakreslete (narýsujte), jak se vektory  $v = (3, 0)$ ,  $A_1v$  a  $A_2v$  rozkládají vzhledem k bázi vlastních vektorů matice  $A_{1,2}$ .

**Řešení.** Matice mají stejné Jordanovy tvary jako matice v minulém příkladu a obě je mají v bázi tvořenou vektory  $(1, 2)$  a  $(1, -1)$ , tj.

$$\frac{1}{3} \begin{pmatrix} 5 & -1 \\ -2 & 4 \end{pmatrix} = \begin{pmatrix} 1 & 1 \\ 2 & -1 \end{pmatrix} \begin{pmatrix} 1 & 0 \\ 0 & 2 \end{pmatrix} \begin{pmatrix} 1 & 1 \\ 2 & -1 \end{pmatrix}^{-1}$$

a

$$\frac{1}{3} \begin{pmatrix} 5 & -1 \\ 4 & 1 \end{pmatrix} = \begin{pmatrix} 1 & 1 \\ 2 & -1 \end{pmatrix} \begin{pmatrix} 1 & 1 \\ 0 & 1 \end{pmatrix} \begin{pmatrix} 1 & 1 \\ 2 & -1 \end{pmatrix}^{-1}$$

Pro vektor  $v = (3, 0)$  dostáváme  $v = (1, 2) + 2(1, -1)$  a pro jeho obrazy  $A_1v = (5, -2) = (1, 2) + 2 \cdot 2 \cdot (1, -1)$  a  $A_2v = (5, 4) = (2 + 1) \cdot (1, 2) + 2 \cdot (1, -1)$ .  $\square$

**3.44. Singulární rozklad, polární rozklad, pseudoinverze.** Spočítejte singulární rozklad matice  $A = \begin{pmatrix} 0 & 0 & -\frac{1}{2} \\ -1 & 0 & 0 \\ 0 & 0 & 0 \end{pmatrix}$ . Následně spočítejte její polární rozklad a najděte její pseudoinverzi.

**Řešení.** Nejprve spočítáme  $A^T A$ :

$$A^T A = \begin{pmatrix} 0 & -1 & 0 \\ 0 & 0 & 0 \\ -\frac{1}{2} & 0 & 0 \end{pmatrix} \begin{pmatrix} 0 & 0 & -\frac{1}{2} \\ -1 & 0 & 0 \\ 0 & 0 & 0 \end{pmatrix} = \begin{pmatrix} 1 & 0 & 0 \\ 0 & 0 & 0 \\ 0 & 0 & \frac{1}{4} \end{pmatrix}$$

a dostáváme diagonální matici. Potřebujeme ale najít takovou ortonormální bázi, ve které je matice diagonální a nulový řádek je až poslední. Toho zjevně docílíme otočením o pravý úhel kolem osy  $x$  (souřadnice  $y$  přejde na  $z$  a  $z$  přejde na  $-y$ ). Toto otočení je ortogonální transformace daná maticí  $V = \begin{pmatrix} 1 & 0 & 0 \\ 0 & 0 & 1 \\ 0 & -1 & 0 \end{pmatrix}$ . Tím jsme bez počítání našli rozklad

$A^T A = V B V^T$ , kde  $B$  je diagonální s vlastními čísly  $(1, \frac{1}{4}, 0)$  na diagonále. Protože teď máme  $B = (AV)^T (AV)$ , tvoří sloupce matice

$$AV = \begin{pmatrix} 0 & 0 & -\frac{1}{2} \\ -1 & 0 & 0 \\ 0 & 0 & 0 \end{pmatrix} \begin{pmatrix} 1 & 0 & 0 \\ 0 & 0 & 1 \\ 0 & -1 & 0 \end{pmatrix} = \begin{pmatrix} 0 & \frac{1}{2} & 0 \\ -1 & 0 & 0 \\ 0 & 0 & 0 \end{pmatrix}$$

ortogonální systém vektorů, který znormalizujeme a doplníme do báze. Ta má pak tvar  $(0, -1, 0)$ ,  $(1, 0, 0)$ ,  $(0, 0, 1)$ . Matice přechodu od této báze ke standardní je pak  $U = \begin{pmatrix} 0 & 1 & 0 \\ -1 & 0 & 0 \\ 0 & 0 & 1 \end{pmatrix}$ . Dohromady tak dostáváme rozklad  $A = U \sqrt{B} V^T$

$$\begin{pmatrix} 0 & 0 & -\frac{1}{2} \\ -1 & 0 & 0 \\ 0 & 0 & 0 \end{pmatrix} = \begin{pmatrix} 0 & 1 & 0 \\ -1 & 0 & 0 \\ 0 & 0 & 1 \end{pmatrix} \begin{pmatrix} 1 & 0 & 0 \\ 0 & \frac{1}{2} & 0 \\ 0 & 0 & 0 \end{pmatrix} \begin{pmatrix} 1 & 0 & 0 \\ 0 & 0 & -1 \\ 0 & 1 & 0 \end{pmatrix}$$

Geometricky lze rozklad zobrazení interpretovat tak, že nejprve se vše otočí o pravý úhel kolem osy  $x$ , pak následuje projekce do roviny  $xy$  taková, že jednotková koule se zobrazí do elipsy s hlavními poloosami  $1$  a  $\frac{1}{2}$  a výsledek se otočí o pravý úhel kolem osy  $z$ .

Polární rozklad  $A = P \cdot W$  dostaneme ze singulárního jednočlenu

$P := U \sqrt{B} U^T$  a  $W := UV^T$ , tj.

$$P = \begin{pmatrix} 0 & 1 & 0 \\ -1 & 0 & 0 \\ 0 & 0 & 1 \end{pmatrix} \begin{pmatrix} 1 & 0 & 0 \\ 0 & \frac{1}{2} & 0 \\ 0 & 0 & 0 \end{pmatrix} \begin{pmatrix} 0 & -1 & 0 \\ 1 & 0 & 0 \\ 0 & 0 & 1 \end{pmatrix} = \begin{pmatrix} \frac{1}{2} & 0 & 0 \\ 0 & 1 & 0 \\ 0 & 0 & 0 \end{pmatrix}$$

a

$$W = \begin{pmatrix} 0 & 1 & 0 \\ -1 & 0 & 0 \\ 0 & 0 & 1 \end{pmatrix} \begin{pmatrix} 1 & 0 & 0 \\ 0 & 0 & -1 \\ 0 & 1 & 0 \end{pmatrix} = \begin{pmatrix} 0 & 0 & -1 \\ -1 & 0 & 0 \\ 0 & 1 & 0 \end{pmatrix}$$

a z toho plyne

$$\begin{pmatrix} 0 & 0 & -\frac{1}{2} \\ -1 & 0 & 0 \\ 0 & 0 & 0 \end{pmatrix} = \begin{pmatrix} \frac{1}{2} & 0 & 0 \\ 0 & 1 & 0 \\ 0 & 0 & 0 \end{pmatrix} \begin{pmatrix} 0 & 0 & -1 \\ -1 & 0 & 0 \\ 0 & 1 & 0 \end{pmatrix}$$

Pseudoinverzní matice je dána výrazem  $A^{(-1)} := V S^* U^T$ , kde  $S^* =$

$$\begin{pmatrix} 1 & 0 & 0 \\ 0 & 2 & 0 \\ 0 & 0 & 0 \end{pmatrix}. \text{ Máme tedy}$$

$$A^{(-1)} = \begin{pmatrix} 1 & 0 & 0 \\ 0 & 0 & 1 \\ 0 & -1 & 0 \end{pmatrix} \begin{pmatrix} 1 & 0 & 0 \\ 0 & 2 & 0 \\ 0 & 0 & 0 \end{pmatrix} \begin{pmatrix} 0 & -1 & 0 \\ 1 & 0 & 0 \\ 0 & 0 & 1 \end{pmatrix} = \begin{pmatrix} 0 & -1 & 0 \\ 0 & 0 & \frac{3}{4} \\ 2 & 0 & 0 \end{pmatrix} \quad \square$$

**3.45. QR rozklad.** QR rozklad matice  $A$  se dobře hodí v případě, když je dán systém lineárních rovnic  $Ax = b$ , který sice nemá řešení, ale my potřebujeme najít jeho co nejlepší přiblížení. Chceme tedy minimalizovat  $\|Ax - b\|$ . Podle Pythagorovy věty máme  $\|Ax - b\|^2 = \|Ax - b_{\parallel}\|^2 + \|b_{\perp}\|^2$ , kde  $b$  jsme rozložili na  $b_{\parallel}$ , které patří do obrazu matice  $A$  a na  $b_{\perp}$ , které je k tomuto obrazu kolmé. Projekci

To je ale je ekvivalentní tvrzení, že prvních  $r$  sloupců matice  $AV$  je ortogonálních a zbývající jsou nulové, protože mají nulovou velikost.

Označme nyní prvních  $r$  sloupců  $v_1, \dots, v_r \in \mathbb{R}^m$ . Platí tedy  $\langle v_i, v_i \rangle = d_i$ ,  $i = 1, \dots, r$  a normované vektory  $u_i = \frac{1}{\sqrt{d_i}} v_i$  tvoří ortonormální systém nenulových vektorů. Doplníme je na ortonormální bázi  $\underline{u} = u_1, \dots, u_n$  celého  $\mathbb{K}^m$ . Vyjádříme-li naše původní zobrazení zobrazení  $\varphi$  v bazích  $\underline{w}$  na  $\mathbb{K}^n$  a  $\underline{u}$  na  $\mathbb{K}^m$ , dostáváme matici  $\sqrt{B}$ . Přechody od standardních bází k nově vybraným odpovídají násobení zleva ortogonálními maticemi  $U$  a zprava  $V^{-1} = V^*$ .

Pokud je  $m > n$ , můžeme aplikovat předchozí část důkazu na matici  $A^*$ . Odtud pak přímo plyne požadované tvrzení.

Pokud pracujeme nad reálnými skaláry, jsou všechny naše kroky v důkazu výše také realizovány v reálném oboru.  $\square$

Tento důkaz věty o singulárním rozkladu je konstruktivní a můžeme jej opravdu použít pro výpočet unitárních, resp. ortogonálních, matic  $U$ ,  $V$  a diagonálních nenulových prvků matice  $S$ .

### 3.40. Geometrická interpretace singulárního rozkladu.

Diagonálním hodnotám matice  $D$  z předchozí věty se říká *singulární hodnoty matice  $A$* . Přeformulujme si tuto větu v reálném případě geometričtěji.

Pro příslušné lineární zobrazení  $\varphi : \mathbb{R}^n \rightarrow \mathbb{R}^m$  mají singulární hodnoty skutečně jednoduchý geometrický význam: Necht  $K \subset \mathbb{R}^n$  je jednotková sféra pro standardní skalární součin. Obrazem  $\varphi(K)$  pak vždy bude (případně degenerovaný)  $m$ -rozměrný elipsoid. Singulární čísla matice  $A$  jsou přitom velikosti hlavních poloos a věta navíc říká, že původní sféra vždy připouští ortogonální sdružené průměry, jejichž obrazy budou právě všechny poloosy tohoto elipsoidu.

Pro čtvercové matice je vidět, že  $A$  je invertibilní právě, když všechna singulární čísla jsou nenulová. Poměr největšího a nejmenšího singulárního čísla je důležitým parametrem pro robustnost řady numerických výpočtů s maticemi, např. pro výpočet inverzní matice. Poznamejme také, že existují rychlé metody výpočtů, resp. odhadů, vlastních čísel, proto je se singulárním rozkladem velmi efektivně pracovat.

**3.41. Věta o polárním rozkladu.** Věta o singulárním rozkladu je východiskem pro mnoho mimořádně užitečných nástrojů. Uvažujme nyní nad několika přírodními důsledky (které samy o sobě jsou dosti netriviální). Tvrzení věty říká pro libovolnou matici  $A$ , ať už reálnou nebo komplexní,  $A = U S W^*$  s diagonální  $S$  s nezápornými reálnými čísly na diagonále a unitárními  $U$ ,  $W$ . Pak ovšem také  $A = U S U^* U W^*$  a pojmeunujme si matice  $P = U S U^*$ ,  $V = U W^*$ . První z nich,  $P$  je hermiteovská (v reálném případě symetrická) a pozitivně semidefinitní, protože jde jen o zápis zobrazení s reálnou diagonální maticí  $S$  v jiné ortonormální bázi, zatímco  $V$  je coby



součin dvou unitárních opět unitární (v reálném případě ortogonální). Navíc  $A^* = WSU^*$  a tedy  $AA^* = USSU^* = P^2$  a naše matice  $P$  je vlastně odmocninou ze snadno spočitatelné hermiteovské matice  $AA^*$ .

Předpokládejme, že  $A = PV = QU$  jsou dva takové rozklady matice  $A$  na součin pozitivně semidefinitní hermiteovské a unitární matice a předpokládejme, že  $A$  je invertibilní. Pak ovšem je  $AA^* = PVV^*P = P^2 = QUU^*Q = Q^2$  pozitivně definitní a proto jsou matice  $Q = P = \sqrt{AA^*}$  jednoznačně určené a invertibilní. Pak ovšem také  $U = V = P^{-1}A$ .

Beze zbytku jsme tedy odvodili velice užitečnou analogii rozkladu reálného čísla na znaménko (ortogonální matice v případě dimenze jedna jsou právě  $\pm 1$ ) a absolutní hodnotu (matice  $P$ , ke které umíme odmocninu).

**Věta** (Věta o polárním rozkladu). *Každou čtvercovou komplexní matici  $A$  dimenze  $n$  lze vždy vyjádřit ve tvaru  $A = P \cdot V$ , kde  $P$  je hermiteovská a pozitivně definitní čtvercová matice téže dimenze a  $V$  je unitární. Přitom  $P = \sqrt{AA^*}$ . Je-li  $A$  invertibilní, je rozklad jednoznačný a  $V = (\sqrt{AA^*})^{-1}A$ .*

*Pokud pracujeme nad reálnými skaláry, je  $P$  symetrická a  $V$  ortogonální.*

Když budeme tutéž větu aplikovat na  $A^*$  místo  $A$ , dostaneme tentýž výsledek, ovšem s obráceným pořadím hermiteovských a unitárních matic. Matice v příslušných pravých a levých rozkladech budou samozřejmě obecně různé.

V komplexním případě je analogie s rozkladem čísel ještě zábavnější — pozitivně semidefinitní  $P$  hraje opět roli absolutní hodnoty komplexního čísla, unitární matice  $V$  pak má jednoznačné vyjádření jako součet  $V = V_r + i V_i$  s hermiteovskými  $V_r$  a  $V_i$  s vlastností  $V_r^2 + V_i^2 = E$ , tj. dostáváme plnou analogii goniometrického tvaru komplexních čísel (viz závěrečná poznámka v 3.26). Všimněme si ale, že ve vícerozměrném případě je podstané, v jakém pořadí tento „goniometrický tvar“ matice píšeme. Jde to oběma způsoby, výsledky jsou ale obecně různé.

Pro řadu praktických aplikací bývá rychlejší použití tzv. *QR rozkladu* matic, který je obdobou Schurovy věty o ortogonální triangulaci:

3.45

**3.42. Věta.** *Pro každou komplexní matici  $A$  typu  $m/n$  existuje unitární matice  $Q$  a horní trojúhelníková matice  $R$  takové, že  $A = Q^T R$ .*

*Pokud pracujeme nad reálnými skaláry, jsou  $Q$  i  $R$  reálné.*

**DŮKAZ.** V geometrické formulaci potřebujeme dokázat, že pro každé zobrazení  $\varphi : \mathbb{K}^n \rightarrow \mathbb{K}^m$  s maticí  $A$  ve standardních bazích můžeme zvolit novou ortonormální bázi na  $\mathbb{K}^m$  tak, aby potom  $\varphi$  mělo horní trojúhelníkovou matici.

na obraz matice  $A$  můžeme psát ve tvaru  $QQ^T$  pro vhodnou ortonormální matici  $Q$ . Konkrétně tuto matici získáme Gram-Schmidtovou ortonormalizací sloupců matice  $A$ . Potom máme  $b_{\parallel} = QQ^T b$  a proto  $Ax - b_{\parallel} = Q(Q^T Ax - Q^T b)$ . Soustava v závorce už má řešení, pro které potom dostáváme  $\|Ax - b_{\parallel}\| = \|b_{\perp}\|$ , což je minimální hodnota. Navíc matice  $R := Q^T A$  je horní trojúhelníková a proto požadované přibližné řešení najdeme velmi lehce.

Najděte přibližné řešení soustavy rovnic

$$\begin{aligned} x + 2y &= 1 \\ 2x + 4y &= 4 \end{aligned}$$

**Řešení.** Máme tedy soustavu  $Ax = b$  s  $A = \begin{pmatrix} 1 & 2 \\ 2 & 4 \end{pmatrix}$  a  $b = \begin{pmatrix} 1 \\ 4 \end{pmatrix}$  (která evidentně nemá řešení). Uděláme tedy ortonormalizaci sloupců matice  $A$ . Vezmeme první z nich a vydělíme ho jeho velikostí. Tím dostaneme první vektor ortonormální báze  $\frac{1}{\sqrt{5}} \begin{pmatrix} 1 \\ 2 \end{pmatrix}$ . Druhý dostaneme tak, že od druhého sloupce odečteme jeho komponentu ve směru už nalezeného prvního vektoru ortonormální báze. Druhý vektor je ovšem dvojnásobek prvního a proto v ortonormalizaci nulový. Máme proto  $Q = \frac{1}{\sqrt{5}} \begin{pmatrix} 1 \\ 2 \end{pmatrix}$ . Projektor na obraz matice  $A$  je pak  $QQ^T = \frac{1}{5} \begin{pmatrix} 1 & 2 \\ 2 & 4 \end{pmatrix}$ , dále spočítáme

$$Q^T b = \frac{1}{\sqrt{5}} \begin{pmatrix} 1 & 2 \end{pmatrix} \begin{pmatrix} 1 \\ 4 \end{pmatrix} = \frac{9}{\sqrt{5}}$$

a

$$R = \frac{1}{\sqrt{5}} \begin{pmatrix} 1 & 2 \end{pmatrix} \begin{pmatrix} 1 & 2 \\ 2 & 4 \end{pmatrix} = \frac{1}{\sqrt{5}} \begin{pmatrix} 5 & 9 \end{pmatrix}$$

Přibližné řešení pak splňuje  $Rx = Q^T b$  a to v našem případě znamená  $5x + 9y = 9$  (přibližné řešení tedy není jednoznačné). QR rozklad matice  $A$  je

$$\begin{pmatrix} 1 & 2 \\ 2 & 4 \end{pmatrix} = \frac{1}{\sqrt{5}} \begin{pmatrix} 1 \\ 2 \end{pmatrix} \frac{1}{\sqrt{5}} \begin{pmatrix} 5 & 9 \end{pmatrix}$$

□

**3.46.** Minimalizujte  $\|Ax - b\|$  pro  $A = \begin{pmatrix} 2 & -1 & -1 \\ -1 & 2 & -1 \\ -1 & -1 & 2 \end{pmatrix}$  a  $b =$

$$\begin{pmatrix} 1 \\ 0 \\ 0 \end{pmatrix}$$

a napište QR rozklad matice  $A$ .

**Řešení.** Normalizovaný první sloupec matice  $A$  je  $e_1 = \frac{1}{\sqrt{6}} \begin{pmatrix} 2 \\ -1 \\ -1 \end{pmatrix}$ . Z druhého sloupce odečteme jeho složku ve směru  $e_1$ . Máme

$$\left\langle \begin{pmatrix} -1 \\ 2 \\ -1 \end{pmatrix}, \frac{1}{\sqrt{6}} \begin{pmatrix} 2 \\ -1 \\ -1 \end{pmatrix} \right\rangle = -\frac{3}{\sqrt{6}}$$

a proto dostaneme

$$\begin{pmatrix} -1 \\ 2 \\ -1 \end{pmatrix} - \left\langle \begin{pmatrix} -1 \\ 2 \\ -1 \end{pmatrix}, \frac{1}{\sqrt{6}} \begin{pmatrix} 2 \\ -1 \\ -1 \end{pmatrix} \right\rangle \frac{1}{\sqrt{6}} \begin{pmatrix} 2 \\ -1 \\ -1 \end{pmatrix} = \frac{1}{2} \begin{pmatrix} 0 \\ 3 \\ 3 \end{pmatrix}$$

Tím jsme vyrobili ortogonální vektor, který normujeme a dostaneme

$e_2 = \frac{1}{\sqrt{2}} \begin{pmatrix} 0 \\ 1 \\ -1 \end{pmatrix}$ . Třetí sloupec matice  $A$  je už lineárně závislý (můžeme ověřit spočítáním determinantu). Hledaná sloupcově-ortogonální matice je tedy

$$Q = \frac{1}{\sqrt{6}} \begin{pmatrix} 2 & 0 \\ -1 & \sqrt{3} \\ -1 & -\sqrt{3} \end{pmatrix}$$

Dále spočítáme

$$\begin{aligned} R = Q^T A &= \frac{1}{\sqrt{6}} \begin{pmatrix} 2 & -1 & -1 \\ 0 & \sqrt{3} & -\sqrt{3} \end{pmatrix} \begin{pmatrix} 2 & -1 & -1 \\ -1 & 2 & -1 \\ -1 & -1 & 2 \end{pmatrix} \\ &= \frac{1}{\sqrt{6}} \begin{pmatrix} 6 & -3 & -3 \\ 0 & 3\sqrt{3} & -3\sqrt{3} \end{pmatrix} \end{aligned} \quad \boxed{3.46}$$

a

$$Q^T b = \frac{1}{\sqrt{6}} \begin{pmatrix} 2 & -1 & -1 \\ 0 & \sqrt{3} & -\sqrt{3} \end{pmatrix} \begin{pmatrix} 1 \\ 0 \\ 0 \end{pmatrix} = \frac{1}{\sqrt{6}} \begin{pmatrix} 2 \\ 0 \end{pmatrix}$$

Řešením rovnice  $Rx = Q^T b$  je  $x = y = z$ . Násobky vektoru  $(1, 1, 1)$  tedy minimalizují  $\|Ax - b\|$ .

Zobrazení určené maticí  $A$  je projekce na rovinu s normálovým vektorem  $(1, 1, 1)$ .

$\boxed{3.47}$

□

Uvažme obrazy  $\varphi(e_1), \dots, \varphi(e_n) \in \mathbb{K}^m$  vektorů standardní ortonormální báze, vyberme z nich maximální lineárně nezávislý systém  $v_1, \dots, v_k$  takovým způsobem, že vypouštěné závislé vektory jsou vždy lineární kombinací předchozích vektorů, a doplňme je do báze  $v_1, \dots, v_m$ . Nechť  $u_1, \dots, u_m$  je ortonormální báze  $\mathbb{K}^m$  vzniklá Gram-Schmidtovou ortogonalizací tohoto systému vektorů.

Nyní pro každé  $e_i$  je  $\varphi(e_i)$  buď jedno z  $v_j$ ,  $j \leq i$ , nebo je lineární kombinací  $v_1, \dots, v_{i-1}$ , proto ve vyjádření  $\varphi(e_i)$  v bázi  $\underline{u}$  vystupují pouze vektory  $u_1, \dots, u_i$ . Zobrazení  $\varphi$  má proto ve standardní bázi na  $\mathbb{K}^n$  a ortonormální bázi  $\underline{u}$  na  $\mathbb{K}^m$  horní trojúhelníkovou matici  $R$ . Přejít k bázi  $\underline{u}$  na  $\mathbb{K}^m$  odpovídá násobení ortogonální maticí  $Q$  zleva, tj.  $R = QA$ , ekvivalentně  $A = Q^*R$ . □

Závěrem této části textu si všimněme mimořádně užitečné a důležité aplikace našich výsledků pro přibližné numerické výpočty.

**3.43. Definice.** Nechť  $A$  je reálná matice typu  $m/n$  a nechť

$$A = USV^*, \quad S = \begin{pmatrix} D & 0 \\ 0 & 0 \end{pmatrix}$$

je její singulární rozklad (zejména  $D$  je invertibilní). Matici

$$A^{(-1)} := VS^*U^*, \quad S^* = \begin{pmatrix} D^{-1} & 0 \\ 0 & 0 \end{pmatrix}$$

nazýváme *pseudoinverzní matice* k matici  $A$ .

Jak ukazuje následující věta, je pseudoinverze důležitě zobecnění pojmu inverzní matice.

**3.44. Věta.** Nechť  $A$  je reálná nebo komplexní matice typu  $m/n$ . Pak pro její pseudoinverzní matici platí:

(1) Je-li  $A$  invertibilní (zejména tedy čtvercová), pak

$$A^{(-1)} = A^{-1}.$$

(2) pro pseudoinverzi  $A^{(-1)}$  platí, že  $A^{(-1)}A$  i  $AA^{(-1)}$  jsou hermiteovské (v reálném případě) symetrické a

$$AA^{(-1)}A = A, \quad A^{(-1)}AA^{(-1)} = A^{(-1)}.$$

(3) Je-li  $A$  matice systému lineárních rovnic  $Ax = b$ , s pravou stranou  $b \in \mathbb{K}^m$ , pak vektor  $y = A^{(-1)}b \in \mathbb{K}^n$  minimalizuje velikost  $\|Ax - b\|$  pro všechny vektory  $x \in \mathbb{K}^n$ .

DŮKAZ. (1): Je-li  $A$  invertibilní, pak je matice  $S = U^*AV$  také invertibilní a přímo z definice je  $S^* = S^{-1}$ . Odtud vyplývá  $A^{(-1)}A = AA^{(-1)} = E$ .

(2): Přímým výpočtem dostáváme  $SS^*S = S$  a  $S^*S^*S^* = S^*$ , proto

$$AA^{(-1)}A = USV^*VS^*U^*USV^* = USS^*SV^* = USV^* = A$$

a analogicky pro druhou rovnost. Dále

$$\begin{aligned} (AA^{(-1)})^* &= (USS^*U^*)^* = U(S^*)^*S^*U^* \\ &= U(SS^*)^*U^* = USS^*U^* = AA^{(-1)} \end{aligned}$$

a podobně se ukáže  $(A^{(-1)}A)^* = A^{(-1)}A$ .

(3): Uvažme zobrazení  $\varphi : \mathbb{K}^n \rightarrow \mathbb{K}^m, x \mapsto Ax$ , a přímé součty  $\mathbb{K}^n = (\text{Ker } \varphi)^\perp \oplus \text{Ker } \varphi, \mathbb{K}^m = \text{Im } \varphi \oplus (\text{Im } \varphi)^\perp$ . Zúžené zobrazení  $\tilde{\varphi} := \varphi|_{(\text{Ker } \varphi)^\perp} : (\text{Ker } \varphi)^\perp \rightarrow \text{Im } \varphi$  je lineární isomorfismus. Zvolíme-li vhodně ortonormální báze na  $(\text{Ker } \varphi)^\perp$  a  $\text{Im } \varphi$  a doplníme je na ortonormální báze na celých prostorech, bude mít  $\varphi$  matici  $S$  a  $\tilde{\varphi}$  matici  $D$  z věty o singulárním rozkladu. Pro dané  $b \in \mathbb{K}^m$  je bod  $z \in \text{Im } \varphi$  minimalizující vzdálenost  $\|b - z\|$  (tj. realizující vzdálenost od podprostoru  $\rho(b, \text{Im } \varphi)$ ) právě komponenta  $z = b_1$  rozkladu  $b = b_1 + b_2, b_1 \in \text{Im } \varphi, b_2 \in (\text{Im } \varphi)^\perp$ . Přitom ale ve zvolené bázi je zobrazení  $\varphi^{(-1)}$ , původně zadané ve standardních bázích pseudoinverzí  $A^{(-1)}$ , dáno maticí  $S'$  z věty o singulárním rozkladu, zejména je  $\varphi^{(-1)}(\text{Im } \varphi) = (\text{Ker } \varphi)^\perp$  a  $D^{-1}$  maticí zúžení  $\varphi|_{\text{Im } \varphi}^{(-1)}$  a  $\varphi|_{(\text{Im } \varphi)^\perp}^{(-1)}$  je nulové. Je tedy skutečně

$$\varphi \circ \varphi^{(-1)}(b) = \varphi(\varphi^{(-1)}(z)) = z$$

a důkaz je ukončen.  $\square$

Lze také ukázat, že matice  $A^{(-1)}$  minimalizuje výraz

$$\|AA^{(-1)} - E\|^2$$

tj. součet kvadrátů všech prvků uvedené matice.

3.48

**3.45. Lineární regrese.** Aproximační vlastnost (3) předchozí věty je velice užitečná v případech, kdy máme najít co nejlepší přiblížení (neexistujícího) řešení přeuročného systému  $Ax = b$ , kde  $A$  je reálná matice typu  $m/n$  a  $m$  je větší než  $n$ .

Např. máme experimentem dáno mnoho naměřených reálných hodnot  $b_j$  a chceme najít lineární kombinaci několika funkcí  $f_i$ , která bude co nejlépe aproximovat hodnoty  $b_j$ . Skutečné hodnoty zvolených funkcí v bodech  $y_j \in \mathbb{R}$  zadají matici  $a_{ij} = f_j(y_i)$ , jejíž sloupce jsou dány hodnotami jednotlivých funkcí  $f_j$  v uvažovaných bodech, a naším úkolem je tedy určit koeficienty  $x_j \in \mathbb{R}$  tak, aby součet kvadrátů odchylek od skutečných hodnot

$$\sum_{i=1}^m (b_i - (\sum_{j=1}^n x_j f_j(y_i)))^2 = \sum_{i=1}^m (b_i - (\sum_{j=1}^n a_{ij} x_j))^2$$

byla minimální. Jinými slovy, hledáme lineární kombinaci funkcí  $f_i$  takovou, abychom „dobře“ proložili zadané hodnoty  $b_i$ . Díky předchozí větě jsou hledané optimální koeficienty  $A^{(-1)}b$ .

Abychom měli konkrétnější představu, uvažujme pouze dvě funkce  $f_1(x) = x, f_2(x) = x^2$  a předpokládejme, že „naměřené hodnoty“ jejich neznámé kombinace  $g(x) = y_1x + y_2x^2$  v celočíselných hodnotách pro  $x$  mezi 1 a 10 jsou  $b^T = (1.44 \ 10.64 \ 4.48 \ 14.56 \ 31.12 \ 39.20 \ 54.88 \ 71.28 \ 85.92 \ 104.16)$ .

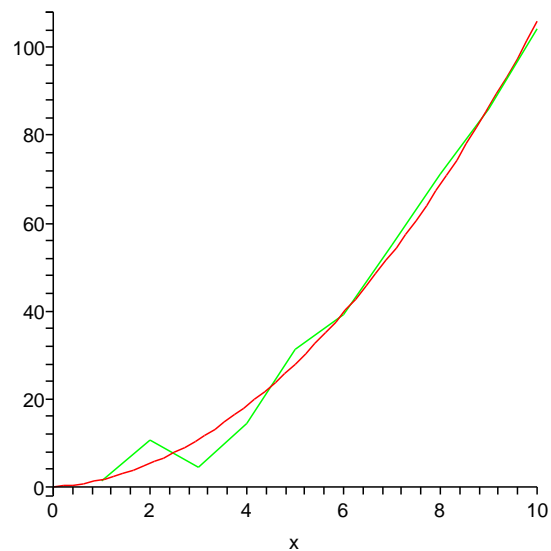
Tento vektor vzniknul výpočtem hodnot  $x + x^2$  v daných bodech posunutých o náhodné hodnoty v rozmezí  $\pm 8$ . Matice  $A = (b_{ij})$  je tedy v našem případě rovna

$$A^T = \begin{pmatrix} 1 & 2 & 3 & 4 & 5 & 6 & 7 & 8 & 9 & 10 \\ 1 & 4 & 9 & 16 & 25 & 36 & 49 & 64 & 81 & 100 \end{pmatrix}$$

a hledané koeficienty v kombinaci jsou

$$y = A^{(-1)} \cdot b = \begin{pmatrix} 0.61 \\ 0.99 \end{pmatrix}.$$

Výsledné proložení je možné dobře vidět na obrázku, kde zeleně jsou proloženy zadané hodnoty  $b$  lomenou čarou, zatímco červený je graf příslušné kombinace  $g$ . Výpočty byly provedeny v systému Maple pomocí příkazu `leastsqrs(B,b)`. Pokud jste s Maplem (nebo jiným podobným softwarem) spřáteleni, zkuste si zaexperimentovat s podobnými úlohami.







## E. Doplnující příklady k celé kapitole

**3.47. Model vývoje populace velryb.** Pro vývoj populace jsou podstatné samice a u nich není důležitý věk, ale plodnost. Z tohoto hlediska můžeme samice rozdělit na novorozené neboli juvenilní, tj. dosud neplodné samice, mladé plodné samice, dospělé samice s největší plodností a samice postmenopauzní, které již plodné nejsou, ale mají velký význam při ochraně mláďat nebo vyhledávání zdrojů potravy.

Budeme modelovat vývoj takové populace v čase. Za časovou jednotku zvolíme dobu dosažení dospělosti. Novorozená samice, která tuto dobu přežije, dospěje k plodnosti. Vývoj mladé samice do plné plodnosti a vývoj dospělé samice k menopauze závisí na podmínkách prostředí. Přejít do další plodnostní kategorie je tedy náhodný jev. Stejně je náhodným jevem i úmrtí samice. Mladá plodná samice má za jednotku času průměrně méně mláďat, než samice plodná. Tyto poznatky vyjádříme formalizovaně.

Označme  $x_1(t)$ , resp.  $x_2(t)$ , resp.  $x_3(t)$ , resp.  $x_4(t)$ , množství juvenilních, resp. mladých, resp. plně plodných, resp. postmenopauzních, samic v čase  $t$ . Množství může vyjadřovat počet jedinců, ale také počet jedinců vztahených na jednotkový areál (tzv. populační hustotu), případně také celkovou biomasu a podobně. Dále označme  $p_1$  pravděpodobnost, že juvenilní samice přežije jednotkový časový interval a tedy během něho dospěje, a  $p_2$ , resp.  $p_3$ , pravděpodobnost, že během jednotkové doby mladá, resp. plně plodná, samice, která neuhyne, dospěje do následující kategorie, tj. mladá do plné plodnosti a plně plodná k menopauze. Dalším náhodným jevem je umírání (pozitivně řečeno: přežívání) samic, které nedospějí do další kategorie; označme pravděpodobnosti přežití po řadě  $q_2$ ,  $q_3$  a  $q_4$  pro mladé, plně plodné a postmenopauzní samice. Každé z čísel  $p_1$ ,  $p_2$ ,  $p_3$ ,  $q_2$ ,  $q_3$ ,  $q_4$  jakožto pravděpodobnost je z intervalu  $[0, 1]$ . Mladá samice může přežít, dospět do plné plodnosti nebo uhybnout; tyto jevy jsou neslučitelné, společně tvoří jev jistý a možnost úmrtí nelze vyloučit. Platí tedy  $p_2 + q_2 < 1$ . Z podobných důvodů platí  $p_3 + q_3 < 1$ . Nakonec ještě označíme  $f_2$ , resp.  $f_3$  průměrný počet dcer mladé, resp. plně plodné, samice. Tyto parametry splňují nerovnost  $0 < f_2 < f_3$ .

Očekávaný počet novorozených samic v následujícím časovém období je součtem dcer mladých a plně plodných samic, tj.

$$x_1(t+1) = f_2 x_2(t) + f_3 x_3(t).$$

Označme na okamžik  $x_{2,1}(t+1)$  množství mladých samic v čase  $t+1$ , které byly v předchozím období, tj. v čase  $t$  juvenilními, a  $x_{2,2}(t+1)$  množství mladých samic, které již v čase  $t$  byly plodné, jednotkový časový interval přežily, ale nedosáhly plné plodnosti. Pravděpodobnost  $p_1$ , že juvenilní samice přežije jednotkový časový interval, můžeme vyjádřit jako klasickou, tj. jako poměr  $x_{2,1}(t+1)/x_1(t)$ , a podobně můžeme vyjádřit pravděpodobnost  $q_2$  jako poměr  $x_{2,2}(t+1)/x_2(t)$ . Poněvadž mladé samice v čase  $t+1$  jsou právě ty, které dospěly z juvenilního stádia, a ty, které již plodné byly, přežily a nedospěly k plné plodnosti, platí

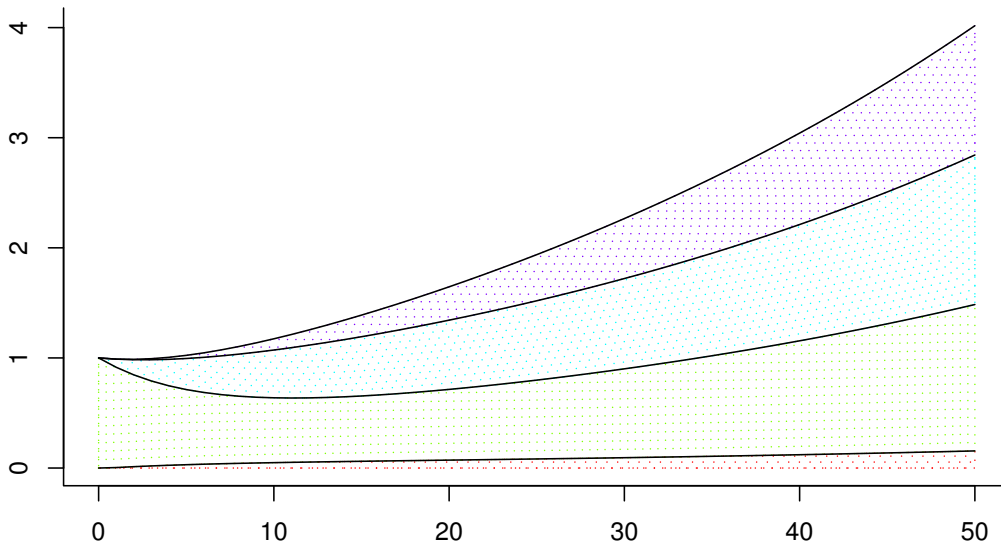
$$x_2(t+1) = x_{2,1}(t+1) + x_{2,2}(t+1) = p_1 x_1(t) + q_2 x_2(t).$$

Analogicky odvodíme očekávaný počet plně plodných samic jako

$$x_3(t+1) = p_2 x_2(t) + q_3 x_3(t)$$

a očekávaný počet postmenopauzních samic

$$x_4(t+1) = p_3 x_3(t) + q_4 x_4(t).$$



OBRÁZEK 1. Vývoj populace kosatky dravé. Na vodorovné ose je čas v letech, na svislé velikost populace. Jednotlivé plochy zobrazují množství juvenilních, mladých, plně plodných a postmenopauzálních samic v tomto pořadí zdola.

ObrKosatky

Nyní můžeme označit

$$A = \begin{pmatrix} 0 & f_2 & f_3 & 0 \\ p_1 & q_2 & 0 & 0 \\ 0 & p_2 & q_3 & 0 \\ 0 & 0 & p_3 & q_4 \end{pmatrix}, \quad x(t) = \begin{pmatrix} x_1(t) \\ x_2(t) \\ x_3(t) \\ x_4(t) \end{pmatrix}$$

a předchozí rekurentní formule přepsat v maticovém tvaru

$$x(t+1) = Ax(t).$$

Pomocí této maticové diferenční rovnice snadno spočítáme očekávané množství velrybích samic v jednotlivých plodnostních kategoriích, pokud známe složení populace v nějakém počátečním čase.

Konkrétně, pro populaci kosatek dravých byly odpozorovány populační parametry

$$\begin{aligned} p_1 &= 0,9775, & q_2 &= 0,9111, & f_2 &= 0,0043, \\ p_2 &= 0,0736, & q_3 &= 0,9534, & f_3 &= 0,1132, \\ p_3 &= 0,0452, & q_4 &= 0,9804; \end{aligned}$$

časovou jednotkou je v tomto případě jeden rok.

Začneme-li v čase  $t = 0$  s jednotkovým množstvím mladých samic v nějakém neobsazeném areálu, tj. s vektorem  $x(0) = (0, 1, 0, 0)^T$ , můžeme počítat

$$x(1) = \begin{pmatrix} 0 & 0,0043 & 0,1132 & 0 \\ 0,9775 & 0,9111 & 0 & 0 \\ 0 & 0,0736 & 0,9534 & 0 \\ 0 & 0 & 0,0452 & 0,9804 \end{pmatrix} \begin{pmatrix} 0 \\ 1 \\ 0 \\ 0 \end{pmatrix} = \begin{pmatrix} 0,0043 \\ 0,9111 \\ 0,0736 \\ 0 \end{pmatrix},$$

$$x(2) = \begin{pmatrix} 0 & 0,0043 & 0,1132 & 0 \\ 0,9775 & 0,9111 & 0 & 0 \\ 0 & 0,0736 & 0,9534 & 0 \\ 0 & 0 & 0,0452 & 0,9804 \end{pmatrix} \begin{pmatrix} 0,0043 \\ 0,9111 \\ 0,0736 \\ 0 \end{pmatrix} = \begin{pmatrix} 0,01224925 \\ 0,83430646 \\ 0,13722720 \\ 0,00332672 \end{pmatrix}$$

a tak můžeme pokračovat dále. Výsledky výpočtu můžeme také znázornit graficky; to je provedeno na obrázku 1. Vyzkoušejte si výpočet a grafické znázornění jeho výsledků i pro jiné počáteční složení



populace. Výsledkem by mělo být pozorování, že celková velikost populace roste jako exponenciální funkce, poměry velikostí jednotlivých plodnostních tříd se postupně ustálí na konstantních hodnotách.

Matice  $A$  má vlastní hodnoty

$$\lambda_1 = 1,025441326, \lambda_2 = 0,980400000, \lambda_3 = 0,834222976, \lambda_4 = 0,004835698,$$

vlastní vektor příslušný k největší vlastní hodnotě  $\lambda_1$  je

$$w = (0,03697187, 0,31607121, 0,32290968, 0,32404724);$$

tento vektor je normován tak, aby součet jednotlivých složek byl roven 1.

Porovnejte vývoj velikosti populace s exponenciální funkcí  $F(t) = \lambda_1^t x_0$ , kde  $x_0$  je celková velikost počáteční populace. Vypočítejte také relativní zastoupení jednotlivých plodnostních kategorií v populaci po jisté době vývoje a porovnejte ho se složkami vlastního vektoru  $w$ . Shoda je způsobena pouze tím, že matice  $A$  má jednu vlastní hodnotu, která má absolutní hodnotu největší z absolutních hodnot všech vlastních hodnot matice  $A$ , a tím, že vektorový podprostor generovaný vlastními vektory příslušnými k vlastním hodnotám  $\lambda_2, \lambda_3, \lambda_4$  má s nezáporným orthantem jednoprvkový průnik (pouze nulový vektor). Struktura matice  $A$  však sama nezaručuje takto jednoduše předvídatelný vývoj, je totiž tzv. reducibilní (viz ??).

**3.48. Model růstu populace bodláků *Dipsacus sylvestris*.** Tuto rostlinu můžeme vidět ve čtyřech podobách. Buď jako kvetoucí rostlinu nebo jako růžici listů, přičemž u růžic můžeme rozlišit trojí velikost – malé, střední a velké. Životní cyklus této jednodomé víceleté byliny můžeme popsat následovně.

Kvetoucí rostlina vyprodukuje v pozdním létě větší množství semen a uhne. Ze semen některá vyklíčí ještě v témže roce a vyroste z nich růžice listů, nejčastěji střední velikosti. Jiná semena zůstanou v zemi a přezimují. Některá z přezimujících semen na jaře vyklíčí a vyroste z nich růžice listů; poněvadž jsou ale přezimováním oslabena, bude tato růžice s nejvyšší pravděpodobností malá. Většina z přezimujících semen zůstane v zemi, a ta z nich, která přežijí, na jaře vyklíčí a vyrostou z nich malé růžice. Po třech nebo více zimách „spící“ (odborně řečeno dormantní) semena hynou, ztrácí schopnost vyklíčit. Podle podmínek prostředí, kde rostlina roste, může malá nebo střední růžice listů do dalšího roku vyrůst, kterákoliv z růžic může zůstat ve své velikostní kategorii nebo uhynout – uschnout, být sežrána nějakým hmyzem a podobně. Střední nebo velká růžice může v následujícím roce vykvést. Kvetoucí rostlina produkuje semena a celý cyklus se opakuje.

Abychom mohli předpovídat, jak rychle se bude populace uvažovaných bodláků v krajině šířit, potřebujeme popsané procesy nějak kvantifikovat. Botanici zjistili, že kvetoucí rostlina vyprodukuje průměrně 431 semen. Pravděpodobnosti klíčení různých semen, růstu růžic listů a vykvetení jsou shrnuty v tabulce:

jev	pravděpodobnost
semeno vyprodukované rostlinou uhynie	0,172
ze semene vyroste malá růžice v témže roce	0,008
ze semene vyroste střední růžice v témže roce	0,070
ze semene vyroste velká růžice v témže roce	0,002
ze semene přezimujícího rok vyroste malá růžice	0,013
ze semene přezimujícího rok vyroste střední růžice	0,007
ze semene přezimujícího rok vyroste velká růžice	0,001
ze semene přezimujícího dva roky vyroste malá růžice	0,001
semeno po prvním přezimování uhynie	0,013
malá růžice přežije a nevyroste	0,125
střední růžice přežije a nevyroste	0,238
velká růžice přežije a nevyroste	0,167
z malé růžice vyroste střední	0,125
z malé růžice vyroste velká	0,036
ze střední růžice vyroste velká	0,245
střední růžice vykvete	0,023
velká růžice vykvete	0,750

Povšimněme si, že všechny relevantní jevy v životním cyklu rostliny mají pravděpodobnost přiřazenu a že se jedná o jevy neslučitelné.

Budeme si představovat, že populaci pozorujeme vždycky na začátku vegetačního roku, řekněme v březnu, a že ke všem uvažovaným jevům dochází ve zbytku času, dejme tomu od dubna do února. V populaci se vyskytují kvetoucí rostliny, růžice tří velikostí, vyprodukovaná semena a semena dormantní jeden nebo dva roky. Toto pozorování by mohlo svádět k tomu, že populaci rozdělíme do sedmi tříd – semena čerstvá, dormantní první rok a dormantní druhý rok, růžice malé střední a velké, kvetoucí rostliny. Avšak z vyprodukovaných semen se v témže roce vyvinou buď růžice nebo semena přezimují. Čerstvá semena tedy netvoří samostatnou třídu, jejíž velikost bychom na začátku roku mohli určit. Označme tedy:

$x_1(t)$  — počet semen dormantních první rok na jaře roku  $t$

$x_2(t)$  — počet semen dormantních druhý rok na jaře roku  $t$

$x_3(t)$  — počet malých růžic na jaře roku  $t$

$x_4(t)$  — počet středních růžic na jaře roku  $t$

$x_5(t)$  — počet velkých růžic na jaře roku  $t$

$x_6(t)$  — počet kvetoucích rostlin na jaře roku  $t$

Počet vyprodukovaných semen v roce  $t$  je  $431x_6(t)$ . Pravděpodobnost, že semeno zůstane jako dormantní první rok, je rovna pravděpodobnosti, že ze semena nevyroste žádná růžice a že neuhynie, tedy  $1 - (0,008 + 0,070 + 0,002 + 0,172) = 0,748$ . Očekávaný počet semen dormantních jednu zimu v následujícím roce tedy je

$$x_1(t+1) = 0,748 \cdot 431x_6(t) = 322,388x_6(t).$$

Pravděpodobnost, že semeno, které již jeden rok bylo dormantní, zůstane dormantním i druhý rok je rovna pravděpodobnosti, že ze semena dormantního jeden rok nevyroste žádná růžice a že neuhynie, tedy  $1 - 0,013 - 0,007 - 0,001 - 0,013 = 0,966$ . Očekávaný počet semen dormantních dvě zimy v následujícím roce tedy bude

$$x_2(t+1) = 0,966x_1(t).$$

Malá růžice může vyrůst ze semena bezprostředně, ze semena dormantního jeden rok nebo dormantního dva roky. Očekávaný počet malých růžic vyrostlých bezprostředně v roce  $t$  je roven

$0,008 \cdot 431x_6(t) = 3,448x_6(t)$ . Očekávaný počet malých růžic vyrostlých ze semen dormantních jeden a dva roky je  $0,013x_1(t)$  a  $0,010x_2(t)$ . S těmito nově vyrostlými malými růžicemi jsou v populaci rostlin také malé růžice starší, které nevyrostly; těch je  $0,125x_3(t)$ . Celkový očekávaný počet malých růžic tedy je

$$x_3(t+1) = 0,013x_1(t) + 0,010x_2(t) + 0,125x_3(t) + 3,448x_6(t).$$

Analogicky určíme očekávaný počet středních a velkých růžic

$$\begin{aligned} x_4(t+1) &= 0,007x_1(t) + 0,125x_3(t) + 0,238x_4(t) + 0,070 \cdot 431x_6(t) = \\ &= 0,007x_1(t) + 0,125x_3(t) + 0,238x_4(t) + 30,170x_6, \end{aligned}$$

$$\begin{aligned} x_5(t+1) &= 0,245x_4(t) + 0,167x_5(t) + 0,002 \cdot 431x_6(t) = \\ &= 0,245x_4(t) + 0,167x_5(t) + 0,862x_6(t). \end{aligned}$$

Kvetoucí rostlina může vyrůst ze střední nebo velké růžice. Očekávaný počet kvetoucích rostlin tedy bude

$$x_6(t+1) = 0,023x_4(t) + 0,750x_5(t).$$

Dospěli jsme tedy k šesti rekurentním formulím pro jednotlivé složky populace studované rostliny. Označíme nyní

$$A = \begin{pmatrix} 0 & 0 & 0 & 0 & 0 & 322,388 \\ 0,966 & 0 & 0 & 0 & 0 & 0 \\ 0,013 & 0,010 & 0,125 & 0 & 0 & 3,448 \\ 0,007 & 0 & 0,125 & 0,238 & 0 & 30,170 \\ 0,008 & 0 & 0,038 & 0,245 & 0,167 & 0,862 \\ 0 & 0 & 0 & 0,023 & 0,750 & 0 \end{pmatrix}, \quad x(t) = \begin{pmatrix} x_1(t) \\ x_2(t) \\ x_3(t) \\ x_4(t) \\ x_5(t) \\ x_6(t) \end{pmatrix}$$

a předchozí rovnosti zapíšeme v maticovém tvaru vhodném pro výpočet

$$x(t+1) = Ax(t).$$

Pokud známe počty jednotlivých složek populace v nějakém počátečním roce  $t = 0$ , můžeme vypočítat očekávané počty rostlin a semen v letech následujících. Můžeme také počítat celkový počet jedinců  $n(t)$  v čase  $t$ ,  $n(t) = \sum_{i=1}^6 x_i(t)$ , relativní zastoupení jednotlivých složek  $x_i(t)/n(t)$ ,  $i = 1, 2, 3, 4, 5, 6$  a meziroční relativní změnu populace  $n(t+1)/n(t)$ . Výsledky takového výpočtu pro patnáct let a případ, že na nějakou lokalitu jsme přesadili jednu kvetoucí rostlinu, jsou uvedeny v tabulce 1. Na rozdíl od populace velryb by nyní obrázek nebyl příliš přehledný, počty rostlin jsou oproti počtům semen zanedbatelné, v obrázku by splynuly.

Matice  $A$  má vlastní hodnoty

$$\begin{aligned} \lambda_1 &= 2,3339 & \lambda_4 &= 0,1187 + 0,1953i \\ \lambda_2 &= -0,9569 + 1,4942i & \lambda_5 &= 0,1187 - 0,1953i \\ \lambda_3 &= -0,9569 - 1,4942i & \lambda_6 &= -0,1274 \end{aligned}$$

Vlastní vektor příslušný k vlastní hodnotě  $\lambda_1$  je

$$w = (0,6377, 0,2640, 0,0122, 0,0693, 0,0122, 0,0046);$$

tento vektor je normován tak, aby součet jeho složek byl roven jedné. Vidíme, že s rostoucím časem  $t$  se relativní změna velikosti populace přibližuje vlastní hodnotě  $\lambda_1$ , relativní zastoupení jednotlivých složek populace se přibližují složkám normovaného vlastního vektoru příslušného k vlastní hodnotě

$t$	$x_1$	$x_2$	$x_3$	$x_4$	$x_5$	$x_6$	$n(t)$
0	0,00	0,00	0,00	0,00	0,00	1,00	1,00
1	322,39	0,00	3,45	30,17	0,86	0,00	356,87
2	0,00	311,43	4,62	9,87	10,25	1,34	337,50
3	432,13	0,00	8,31	43,37	5,46	7,91	497,18
4	2 550,50	417,44	33,93	253,07	22,13	5,09	3 282,16
5	1 641,69	2 463,78	59,13	235,96	91,78	22,42	4 514,76
6	7 227,10	1 585,88	130,67	751,37	107,84	74,26	9 877,12
7	23 941,29	6 981,37	382,20	2 486,25	328,89	98,16	34 218,17
8	31 646,56	23 127,29	767,29	3 768,67	954,73	303,85	60 568,39
9	97 958,56	30 570,58	1 786,27	10 381,63	1 627,01	802,72	143 126,78
10	258 788,42	94 627,97	4 570,24	27 597,99	4 358,70	1 459,04	391 402,36
11	470 376,19	249 989,61	9 912,57	52 970,28	10 991,08	3 903,78	798 143,52
12	1 258 532,41	454 383,40	23 314,10	134 915,73	22 317,98	9 461,62	1 902 925,24
13	3 050 314,29	1 215 742,31	56 442,70	329 291,15	55 891,57	19 841,54	4 727 523,56
14	6 396 675,73	2 946 603,60	127 280,49	705 398,22	133 660,97	49 492,37	10 359 111,38
15	15 955 747,76	6 179 188,75	299 182,59	1 721 756,52	293 816,44	116 469,89	24 566 161,94

$t$	$\frac{x_1(t)}{n(t)}$	$\frac{x_2(t)}{n(t)}$	$\frac{x_3(t)}{n(t)}$	$\frac{x_4(t)}{n(t)}$	$\frac{x_5(t)}{n(t)}$	$\frac{x_6(t)}{n(t)}$	$\frac{n(t+1)}{n(t)}$
0	0,000	0,000	0,000	0,000	0,000	1,000	356,868
1	0,903	0,000	0,010	0,085	0,002	0,000	0,946
2	0,000	0,923	0,014	0,029	0,030	0,004	1,473
3	0,869	0,000	0,017	0,087	0,011	0,016	6,602
4	0,777	0,127	0,010	0,077	0,007	0,002	1,376
5	0,364	0,546	0,013	0,052	0,020	0,005	2,188
6	0,732	0,161	0,013	0,076	0,011	0,008	3,464
7	0,700	0,204	0,011	0,073	0,010	0,003	1,770
8	0,522	0,382	0,013	0,062	0,016	0,005	2,363
9	0,684	0,214	0,012	0,073	0,011	0,006	2,735
10	0,661	0,242	0,012	0,071	0,011	0,004	2,039
11	0,589	0,313	0,012	0,066	0,014	0,005	2,384
12	0,661	0,239	0,012	0,071	0,012	0,005	2,484
13	0,645	0,257	0,012	0,070	0,012	0,004	2,191
14	0,617	0,284	0,012	0,068	0,013	0,005	2,371
15	0,650	0,252	0,012	0,070	0,012	0,005	

TABULKA 1. Modelovaný vývoj populace bodláku *Dipsacus sylvestris*. Velikosti jednotlivých složek populace, celková velikost populace, relativní zastoupení jednotlivých složek a relativní přírůstky velikosti.

TabBodlak

$\lambda_1$ . Každá nezáporná matice, která má nenulové prvky na stejných pozicích jako matice  $A$  je primitivní. Vývoj populace tedy zákonitě spěje ke stabilizované struktuře.

**3.49. Nelineární model populace.** Prozkoumejte podrobně vývoj populace pro nelineární model z učebnice (1.12) a hodnoty  $K = 1$  a

- i) míru růstu  $r = 1$  a počáteční stav  $p(1) = 0, 2$
- ii) míru růstu  $r = 1$  a počáteční stav  $p(1) = 2$
- iii) míru růstu  $r = 1$  a počáteční stav  $p(1) = 3$
- iv) míru růstu  $r = 2, 2$  a počáteční stav  $p(1) = 0, 2$
- v) míru růstu  $r = 3$  a počáteční stav  $p(1) = 0, 2$

Spočítejte několik prvních členů a odhadněte, jak bude populace dále růst.

**Řešení.**

- i) Prvních deset členů posloupnosti  $p(n)$  je v následující tabulce. Odtud je vidět, že velikost populace konverguje k hodnotě 1.

n	p(n)
1	0,2
2	0,36
3	0,5904
4	0,83222784
5	0,971852502
6	0,999207718
7	0,999999372

Graf vývoje populace pro  $r = 1$  a  $p(1) = 0, 2$ :

- ii) Pro počáteční hodnotu  $p(1) = 2$  dostaneme  $p(2) = 0$  a dál už se populace měnit nebude.  
 iii) Pro  $p(1) = 3$  dostáváme

n	p(n)
1	3
2	-15
3	-255
4	-65535

a odtud je vidět, že populace bude klesat pode všechny meze.

- iv) Pro míru růstu  $r = 2, 2$  a počáteční stav  $p(1) = 0, 2$  dostáváme

n	p(n)
1	0,2
2	0,552
3	1,0960512
4	0,864441727
5	1,122242628
6	0,820433675
7	1,144542647
8	0,780585155
9	1,157383491
10	0,756646772
11	1,161738128
12	0,748363958
!3	1,162657716
14	0,74660417

Vidíme, že místo konvergence dostáváme v tomto případě oscilaci—po nějaké době bude populace přeskakovat mezi hodnotami 1,16 a 0,74. Graf vývoje populace pro  $r = 2, 2$  a  $p(1) = 0, 2$  pak vypadá následovně:

- v) Pro míru růstu  $r = 3$  a počáteční stav  $p(1) = 0, 2$  dostáváme

n	p(n)
1	0,2
2	0,68
3	1,3328
4	0,00213248
5	0,008516278
6	0,033847529
7	0,131953152
8	0,475577705
9	1,223788359
10	0,402179593
11	1,123473097
12	0,707316989
13	1,328375987
14	0,019755658
15	0,077851775
16	0,293224403
17	0,91495596
18	1,148390614
19	0,63715945
20	1,330721306
21	0,010427642
22	0,041384361
23	0,160399447

V tomto případě je už situace složitější—populace začne oscilovat mezi více hodnotami. Abychom lépe viděli mezi kterými, bylo by potřeba spočítat ještě víc členů. Pro členy z tabulky máme následující graf

□

**3.50.** V laboratoři je prováděn pokus se stejnou pravděpodobností úspěchu i neúspěchu. Pokud se pokus podaří, bude pravděpodobnost úspěchu druhého pokusu 0, 7. Jestliže skončí první pokus neúspěchem, bude pravděpodobnost úspěchu druhého pokusu pouze 0, 6. Dále se bude pokračovat v provádění pokusů, kdy úspěšnost předešlého znamená, že pravděpodobnost úspěchu následujícího bude 0, 7, a jeho neúspěšnost způsobí, že pravděpodobnost úspěchu následujícího bude 0, 6. Pro libovolné  $n \in \mathbb{N}$  stanovte pravděpodobnost, že  $n$ -tý pokus se podaří.

**Řešení.** Zavedme pravděpodobnostní vektor

$$x_n = (x_n^1, x_n^2)^T, \quad n \in \mathbb{N},$$

kde  $x_n^1$  je pravděpodobnost úspěchu  $n$ -tého pokusu a  $x_n^2 = 1 - x_n^1$  je pravděpodobnost jeho neúspěchu. Podle zadání je

$$x_1 = \begin{pmatrix} 1/2 \\ 1/2 \end{pmatrix}$$

a zřejmě také

$$x_2 = \begin{pmatrix} 0,7 & 0,6 \\ 0,3 & 0,4 \end{pmatrix} \cdot \begin{pmatrix} 1/2 \\ 1/2 \end{pmatrix} = \begin{pmatrix} 13/20 \\ 7/20 \end{pmatrix}.$$

Při označení

$$T = \begin{pmatrix} 7/10 & 3/5 \\ 3/10 & 2/5 \end{pmatrix}$$

platí

$$\boxed{\text{ves013666}} \quad (3.7) \quad x_{n+1} = T \cdot x_n, \quad n \in \mathbb{N},$$

neboť pravděpodobnostní vektor  $x_{n+1}$  závisí pouze na  $x_n$  a tato závislost je totožná jako pro  $x_2$  a  $x_1$ . Ze vztahu (3.7) bezprostředně plyne

$$\boxed{\text{ves013665}} \quad (3.8) \quad x_{n+1} = T \cdot T \cdot x_{n-1} = \dots = T^n \cdot x_1, \quad n \geq 2, n \in \mathbb{N}.$$

Proto vyjádříme  $T^n$ ,  $n \in \mathbb{N}$ . Jedná se o Markovův proces, a tudíž je 1 vlastní číslo matice  $T$ . Druhé vlastní číslo 0, 1 vyplývá kupř. z toho, že stopa (součet prvků na diagonále) je rovna součtu všech vlastních čísel (každé vlastní číslo bereme tolikrát, jaká je jeho algebraická násobnost). Těmto vlastním číslům pak přísluší vlastní vektory

$$\begin{pmatrix} 2 \\ 1 \end{pmatrix}, \quad \begin{pmatrix} 1 \\ -1 \end{pmatrix}.$$

Dostáváme tak

$$T = \begin{pmatrix} 2 & 1 \\ 1 & -1 \end{pmatrix} \cdot \begin{pmatrix} 1 & 0 \\ 0 & 1/10 \end{pmatrix} \cdot \begin{pmatrix} 2 & 1 \\ 1 & -1 \end{pmatrix}^{-1},$$

tj. pro  $n \in \mathbb{N}$  je

$$\begin{aligned} T^n &= \begin{pmatrix} 2 & 1 \\ 1 & -1 \end{pmatrix} \cdot \begin{pmatrix} 1 & 0 \\ 0 & 1/10 \end{pmatrix}^n \cdot \begin{pmatrix} 2 & 1 \\ 1 & -1 \end{pmatrix}^{-1} = \\ &= \begin{pmatrix} 2 & 1 \\ 1 & -1 \end{pmatrix} \cdot \begin{pmatrix} 1^n & 0 \\ 0 & 10^{-n} \end{pmatrix} \cdot \begin{pmatrix} 2 & 1 \\ 1 & -1 \end{pmatrix}^{-1}. \end{aligned}$$

Dosazení

$$\begin{pmatrix} 2 & 1 \\ 1 & -1 \end{pmatrix}^{-1} = \frac{1}{3} \begin{pmatrix} 1 & 1 \\ 1 & -2 \end{pmatrix}$$

a roznásobením dává

$$T^n = \frac{1}{3} \begin{pmatrix} 2 + 10^{-n} & 2 - 2 \cdot 10^{-n} \\ 1 - 10^{-n} & 1 + 2 \cdot 10^{-n} \end{pmatrix}, \quad n \in \mathbb{N}.$$

Odtud, z (3.7) a (3.8) plyne

$$x_{n+1} = \left( \frac{2}{3} - \frac{1}{6 \cdot 10^n}, \frac{1}{3} + \frac{1}{6 \cdot 10^n} \right)^T, \quad n \in \mathbb{N}.$$

Zvláště vidíme, že pro velká  $n$  je pravděpodobnost úspěchu  $n$ -tého pokusu blízká  $2/3$ . □

3.51. Student na koleji je značně společensky unaven (v důsledku toho není schopen plně vnímat smyslové podněty a koordinovat své pohyby). V tomto stavu se přesto rozhodne, že na právě probíhající večírek pozve známou, která má pokoj na jednom konci chodby. Na opačném konci chodby však bydlí někdo, koho pozvat rozhodně nehodlá. Je ovšem natolik „unaven“, že rozhodnutí udělat krok zvoleným směrem se mu podaří realizovat pouze v 53 ze 100 pokusů (ve zbylých 47 jde přesně na opačnou stranu). Za předpokladů, že vyjde v polovině chodby a že vzdálenost k oběma dveřím na koncích chodby odpovídá jeho 20 krokům, stanovte pravděpodobnost, že nejdříve dorazí ke správným dveřím.

**3.52.** Nechť  $n \in \mathbb{N}$  osob hraje tzv. tichou poštu. Pro jednoduchost předpokládejte, že první osoba zašeptá druhé právě jedno (libovolně zvolené) ze slov „ano“, „ne“. Druhá osoba pak potichu řekne třetí osobě to ze slov „ano“, „ne“, o kterém si myslí, že ho řekla první osoba. Takto to pokračuje až k  $n$ -té osobě. Jestliže pravděpodobnost toho, že při libovolném předání se zamění (nechtě, úmyslně) šířené slovo na to druhé, je  $p \in (0, 1)$ , stanovte pro velká  $n \in \mathbb{N}$  pravděpodobnost, že  $n$ -tá osoba určí správně slovo zvolené první osobou.

**Řešení.** Na tuto úlohu lze nahlížet jako na Markovův řetězec se dvěma stavy nazvanými Ano a Ne, kdy řekneme, že proces je ve stavu Ano v čase  $m \in \mathbb{N}$ , pokud si  $m$ -tá osoba bude myslet, že předávané slovo je „ano“. Pro pořadí stavů Ano, Ne je pravděpodobnostní matice přechodu

$$T = \begin{pmatrix} 1-p & p \\ p & 1-p \end{pmatrix}.$$

Součin matice  $T^{m-1}$  a pravděpodobnostního vektoru počáteční volby první osoby potom udává pravděpodobnosti toho, co si bude myslet  $m$ -tá osoba. Mocniny této matice ovšem počítat nemusíme, neboť všechny prvky matice  $T$  jsou kladná čísla. Navíc tato matice je dvojnásobně stochastická. Víme tudíž, že pro velká  $n \in \mathbb{N}$  bude pravděpodobnostní vektor blízký vektoru  $(1/2, 1/2)^T$ . Pravděpodobnost, že  $n$ -tá osoba řekne „ano“, je proto přibližně stejná jako pravděpodobnost, že řekne „ne“, a to nezávisle na tom, pro které slovo se rozhodla první osoba. Pro velký počet zúčastněných tak platí, že zhruba polovina z nich uslyší „ano“ (zopakujme, že nezávisle na tom, které slovo bylo na začátku vybráno).

Pro úplnost zjistíme, jak by úloha dopadla, kdybychom předpokládali, že pravděpodobnost záměny „ano“ na „ne“ je u libovolné osoby  $p \in (0, 1)$  a pravděpodobnost záměny „ne“ na „ano“ je obecně odlišné  $q \in (0, 1)$ . V tomto případě pro stejné pořadí stavů dostáváme pravděpodobnostní matici přechodu

$$T = \begin{pmatrix} 1-p & q \\ p & 1-q \end{pmatrix},$$

která vede (pro velká  $n \in \mathbb{N}$ ) k pravděpodobnostnímu vektoru blízkému vektoru

$$\left( \frac{q}{p+q}, \frac{p}{p+q} \right)^T,$$

což kupř. plyne z vyjádření matice

$$T^n = \frac{1}{p+q} \left[ \begin{pmatrix} q & q \\ p & p \end{pmatrix} + (1-p-q)^n \begin{pmatrix} p & -q \\ -p & q \end{pmatrix} \right].$$

Rovněž tentokrát při dostatečném počtu lidí nezáleželo na volbě slova, kterou učinila první osoba. Stručně řečeno, v tomto modelu platí, že nezáleží na původním rozhodnutí, protože o tom, jakou informaci si lidé předávají, rozhodují oni sami; přesněji řečeno, lidé sami rozhodují o četnosti výskytu „ano“ a „ne“, pokud je jich dostatečný počet (a chybí-li jakékoli ověřování).

Doplňme ještě, že výše uvedený závěr byl experimentálně ověřen. V psychologických pokusech byl mj. jedinec opakovaně vystaven vjemu, který šlo vnímat dvěma různými způsoby, a to v časových intervalech zaručujících, aby si subjekt pamatoval předešlý vjem. Viz např. „T. Havránek a kol.: *Matematika pro biologické a lékařské vědy*, Praha, Academia 1981“, kde je uveden experiment, v němž je zábleskem osvětlován v pevných časových odstupech nejednoznačný obraz (třeba náčrt krychle vnímatelný jako nadhled i podhled). Takový proces je totiž Markovovým řetězcem s maticí přechodu

$$\begin{pmatrix} 1-p & q \\ p & 1-q \end{pmatrix},$$

kde  $p, q \in (0, 1)$ . □



**3.53.** V jisté hře si můžete vybrat jednoho ze dvou soupeřů. Pravděpodobnost, že porazíte lepšího, je  $1/4$ , zatímco horšího ze soupeřů porazíte s pravděpodobností  $1/2$ . Soupeři ale nejsou rozlišeni, a tak nevíte, který z nich je ten lepší. Čeká Vás velké množství her (pro každou můžete zvolit jiného soupeře) a samozřejmě chcete dosáhnout celkově co největšího podílu vítězných her. Uvažte tyto dvě strategie:

1. Pro první hru si vyberete soupeře náhodně. Pokud nějakou hru vyhrajete, pokračujete se stejným soupeřem; jestliže ji prohrajete, změníte pro další hru soupeře.
2. Pro první dvě hry si vyberete (jednoho) soupeře náhodně. Dále se řídíte výsledkem předchozích dvou her, kdy na další dvě hry změníte soupeře, právě když obě předchozí prohrajete.

Kterou ze strategií (moudře) zvolíte?

**Řešení.** Obě strategie jsou vlastně Markovovým řetězcem. Pro jednoduchost horšího ze soupeřů označme jako osobu  $A$  a lepšího ze soupeřů jako osobu  $B$ . V prvním případě pro stavy „hra s osobou  $A$ “, „hra s osobou  $B$ “ (a toto jejich pořadí) dostáváme pravděpodobnostní matici přechodu

$$\begin{pmatrix} 1/2 & 3/4 \\ 1/2 & 1/4 \end{pmatrix}.$$

Tato matice má všechny prvky kladné, a proto stačí najít pravděpodobnostní vektor  $x_\infty$ , který přísluší vlastnímu číslu 1. Platí

$$x_\infty = \left( \frac{3}{5}, \frac{2}{5} \right)^T.$$

Jeho složky odpovídají pravděpodobnostem, že po dlouhé řadě her bude soupeřem osoba  $A$ , resp.  $B$ . Lze tedy očekávat, že 60 % her bude hráno proti horšímu ze soupeřů. Neboť

$$\frac{2}{5} = \frac{3}{5} \cdot \frac{1}{2} + \frac{2}{5} \cdot \frac{1}{4},$$

vítězných her bude kolem 40 %.

Pro druhou strategii zavedme stavy „dvě hry po sobě s osobou  $A$ “ a „dvě hry po sobě s osobou  $B$ “, které vedou na pravděpodobnostní matici přechodu

$$\begin{pmatrix} 3/4 & 9/16 \\ 1/4 & 7/16 \end{pmatrix}.$$

Snadno určíme, že nyní je

$$x_\infty = \left( \frac{9}{13}, \frac{4}{13} \right)^T.$$

Proti horšímu ze soupeřů by se tak hrálo  $(9/4)$ krát častěji než proti lepšímu z nich. Připomeňme, že pro první strategii to bylo  $(3/2)$ krát častěji. Druhá strategie je proto výhodnější. Ještě poznamenejme, že při druhé strategii bude přibližně 42,3 % her vítězných. Stačí totiž vyčíslit

$$0,423 \doteq \frac{11}{26} = \frac{9}{13} \cdot \frac{1}{2} + \frac{4}{13} \cdot \frac{1}{4}.$$

□

**3.54.** Petr se pravidelně setkává se svým kamarádem. Je ovšem „proslulý“ svou nedochvilností. Snaží se ale změnit, a proto platí, že v polovině případů přijde včas a v jedné desetině případů dokonce ještě dříve, pokud na minulé setkání přišel pozdě. Jestliže minule přišel včas nebo dříve, než měl přijít, vrátí se ke své „bezstarostnosti“ a s pravděpodobností 0,8 dorazí pozdě a pouze s pravděpodobností 0,2 včas. Jaké je pravděpodobnost, že na dvacáté setkání přijde pozdě, když na jedenácté přišel včas?

**Řešení.** Zřejmě se jedná o Markovův proces se stavy „Petr přijde pozdě“, „Petr přijde včas“, „Petr přijde dříve“ a s pravděpodobnostní maticí přechodu (pro uvedené pořadí stavů)

$$T = \begin{pmatrix} 0,4 & 0,8 & 0,8 \\ 0,5 & 0,2 & 0,2 \\ 0,1 & 0 & 0 \end{pmatrix}.$$

Jedenácté setkání je určeno pravděpodobnostním vektorem  $(0, 1, 0)^T$  (s jistotou víme, že Petr přišel včas). Dvacátému setkání pak odpovídá pravděpodobnostní vektor

$$T^9 \cdot \begin{pmatrix} 0 \\ 1 \\ 0 \end{pmatrix} = \begin{pmatrix} 0,571578368 \\ 0,371316224 \\ 0,057105408 \end{pmatrix}.$$

Hledaná pravděpodobnost je tudíž 0,571578368 (přesně). Dodejme, že je

$$T^9 = \begin{pmatrix} 0,571316224 & 0,571578368 & 0,571578368 \\ 0,371512832 & 0,371316224 & 0,371316224 \\ 0,057170944 & 0,057105408 & 0,057105408 \end{pmatrix}.$$

Odtud vidíme, jak málo záleží na tom, zda přišel na jedenácté setkání pozdě (první sloupec), včas nebo dříve (druhý a současně třetí sloupec).  $\square$

**3.55.** Dva studenti  $A$  a  $B$  tráví každé pondělní odpoledne hraním jisté počítačové hry o to, kdo z nich večer zaplatí společnou útratu v restauraci. Hra může rovněž skončit remízou, kdy večer oba platí právě polovinu útraty. Výsledek předešlé hry částečně ovlivňuje hru následující. Pokud tedy před týdnem vyhrál student  $A$ , potom s pravděpodobností  $3/4$  vyhraje opět a s pravděpodobností  $1/4$  skončí hra remízou. Remíza se opakuje s pravděpodobností  $2/3$  a s pravděpodobností  $1/3$  vyhraje ve hře následující po remíze student  $B$ . Pokud před týdnem vyhrál student  $B$ , pak s pravděpodobností  $1/2$  své vítězství zopakuje a s pravděpodobností  $1/4$  vyhraje student  $A$ . Nalezněte pravděpodobnost, že dnes bude každý platit polovinu útraty, jestliže první hru před velmi dlouhou dobou vyhrál student  $A$ .

**Řešení.** Vlastně je zadán Markovův proces se stavy „vyhraje student  $A$ “, „hra skončí remízou“, „vyhraje student  $B$ “ (v tomto pořadí) pravděpodobnostní maticí přechodu

$$T = \begin{pmatrix} 3/4 & 0 & 1/4 \\ 1/4 & 2/3 & 1/4 \\ 0 & 1/3 & 1/2 \end{pmatrix}.$$

Chceme najít pravděpodobnost přechodu z prvního stavu do druhého po velkém počtu  $n \in \mathbb{N}$  kroků (týdnů). Matice  $T$  je regulární, protože

$$T^2 = \begin{pmatrix} 9/16 & 1/12 & 5/16 \\ 17/48 & 19/36 & 17/48 \\ 1/12 & 7/18 & 1/3 \end{pmatrix}.$$

Stačí tak najít vlastní pravděpodobnostní vektor  $x_\infty$  matice  $T$  příslušný vlastnímu číslu 1. Snadno lze spočítat, že

$$x_\infty = \left( \frac{2}{7}, \frac{3}{7}, \frac{2}{7} \right)^T.$$

Víme, že vektor  $x_\infty$  se jen velmi málo liší od pravděpodobnostního vektoru pro velká  $n$  a téměř nezávisí na počátečním stavu, tj. pro velká  $n \in \mathbb{N}$  můžeme klást

$$T^n \approx \begin{pmatrix} 2/7 & 2/7 & 2/7 \\ 3/7 & 3/7 & 3/7 \\ 2/7 & 2/7 & 2/7 \end{pmatrix}.$$

Hledaná pravděpodobnost je prvkem této matice na druhé pozici v prvním sloupci (je druhou složkou vektoru  $x_\infty$ ). Poměrně rychle jsme našli výsledek  $3/7$ . □

## Řešení cvičení

3.9.

$$x_n = \frac{1}{\sqrt{21}} \left( \frac{3 + \sqrt{21}}{2} \right)^n - \frac{1}{\sqrt{21}} \left( \frac{3 - \sqrt{21}}{2} \right)^n.$$

3.10.  $x_n = 2\sqrt{3} \sin(n \cdot (\pi/6)) - 4 \cos(n \cdot (\pi/6)).$

3.11.  $x_n = -3(-1)^n - 2 \cos(n \cdot (2\pi/3)) - 2\sqrt{3} \sin(n \cdot ((2\pi/3))).$

3.12.  $x_n = (-1)^n(-2n^2 + 8n - 7).$

3.20. Leslieho matice daného modelu je (úmrtnost v první skupině označíme  $a$ )

$$\begin{pmatrix} 0 & 2 & 2 \\ a & 0 & 0 \\ 0 & 1 & 0 \end{pmatrix}.$$

Podmínka stagnace populace odpovídá tomu, že matice má vlastní hodnotu 1, neboli polynom  $\lambda^3 - 2a\lambda - 2a$  má mít kořen 1, t.j.  $a = 1/4$ .

3.23.

$$\begin{pmatrix} \frac{5}{6} & \frac{1}{5} \\ \frac{1}{6} & \frac{4}{5} \end{pmatrix}.$$

Matice má dominantní vlastní hodnotu 1, příslušný vlastní vektor je  $(\frac{6}{5}, 1)$ . Protože je vlastní hodnota dominantní, tak se poměr diváků se ustálí na poměru 6 : 5.

3.26. Stejně jako v (3.25) skončí hra po třech sázkách. Jsou tedy opět všechny mocniny  $A$ , počínaje  $A^3$  shodné.

$$A^{100} = A^3 = \begin{pmatrix} 1 & 7/8 & 3/4 & 1/2 & 0 \\ 0 & 0 & 0 & 0 & 0 \\ 0 & 0 & 0 & 0 & 0 \\ 0 & 0 & 0 & 0 & 0 \\ 0 & 1/8 & 1/4 & 1/2 & 1 \end{pmatrix}$$

3.37. Můžeme využít výsledku úlohy označované jako Ruinování hráče. Pravděpodobnost, že zanikne to oddělení, které má nyní 40 zaměstnanců, je podle tohoto příkladu rovna

$$\frac{1 - \left( \frac{0,46}{1-0,46} \right)^5}{1 - \left( \frac{0,46}{1-0,46} \right)^{25}} \doteq 0,56.$$

Stačilo dosadit  $p = 1 - 0,54$ ,  $y = 10/2$  a  $x = 40/2$  do (3.6). Prozíravější je tedy zvolit v tuto chvíli menší oddělení.

3.38.

- Tvrzení je pravdivé. ( $B := A^T A$ ,  $b_{ij} = (i\text{-tý řádek } A^T) \cdot (j\text{-tý sloupec } A) = b_{ji} = (j\text{-tý řádek } A^T) \cdot (i\text{-tý sloupec } A) = (j\text{-tý sloupec } A) \cdot (i\text{-tý řádek } A^T)$ )
- Tvrzení zřejmě neplatí. Uvažte např.  $A = \begin{pmatrix} 1 & 1 \\ 0 & 1 \end{pmatrix}$

3.40.

$$\begin{pmatrix} 1 & 0 & 0 & 0 \\ 1 & -2 & 0 & 0 \\ 0 & 1 & 1 & 0 \end{pmatrix} \begin{pmatrix} 1 & 1 & 0 \\ 0 & 1 & -1 \\ 0 & 0 & 0 \end{pmatrix}$$

3.51. Znovu se jedná o speciální případ Ruinování hráče. Stačí zadání vhodně přeformulovat. Pro  $p = 0,47$ ,  $y = 20$  a  $x = 20$  z (3.6) plyne výsledek

$$0,917 \doteq \frac{1 - \left( \frac{0,47}{1-0,47} \right)^{20}}{1 - \left( \frac{0,47}{1-0,47} \right)^{40}}.$$

## Analytická geometrie

*poloha, incidence, projekce?  
– a zase skončíme u matic...*

Vrátíme se teď k úlohám elementární geometrie z podobného pohledu, jako když jsme zkoumali polohy bodů v rovině v 5. části první kapitoly, viz 1.23. Budeme se nejprve zajímat o vlastnosti objektů vymezených pomocí bodů, přímk, rovin apod. Podstatné přitom bude vyjasnění, které vlastnosti závisí či nezávisí na pojmu velikosti vektorů.

V další části pak použijeme lineární algebru pro studium objektů, které už lineárně definované nejsou. Opět přitom budeme potřebovat trochu více maticového počtu. Výsledky budou naprosto zásadní později při diskusi technik pro optimalizace, tj. hledání extrémů funkčních hodnot.

Projektivní rozšíření afinních prostorů nám v závěru kapitoly ukáže, jak lze překvapivě dosáhnout zjednodušení i stability algoritmických postupů typických pro práci s počítačovou grafikou.

## 1. Afinní a eukleideovská geometrie

Když jsme si ujasňovali dopady obecné teorie na systémy rovnic v první části předchozí kapitoly, zjistili jsme v odstavci 3.1, že všechna řešení nehomogenních systémů rovnic sice tvoří vektorové podprostory, vždy ale vznikají tak, že k jednomu jedinému řešení přičteme celý vektorový prostor řešení příslušné homogenní soustavy. Naopak, rozdíl dvou řešení nehomogenní soustavy je vždy řešením homogenní. Obdobně se chovají lineární diferenciální rovnice, jak jsme viděli již v odstavci 3.11.

Návod na teoretické uchopení takové situace dává již diskuse geometrie roviny, viz odstavce 1.25 a dále. Tam jsme totiž popisovali přímky a body jako množiny řešení systémů lineárních rovnic. Přímka pro nás pak byla „jednorozměrným“ prostorem, přestože její body byly popisovány dvěma souřadnicemi. Parametricky jsme ji zadávali tak, že k jednomu bodu (tj. dvojici souřadnic) jsme přičítali násobky pevně zvoleného směrového vektoru. Stejně budeme postupovat i teď v libovolné dimenzi.

## STANDARDNÍ AFINNÍ PROSTOR

4.1

**4.1. Afinní prostory.** Standardní afinní prostor  $\mathcal{A}_n$  je množina všech bodů v  $\mathbb{R}^n = \mathcal{A}_n$  spolu s operací, kterou k bodu  $A = (a_1, \dots, a_n) \in \mathcal{A}_n$  a vektoru  $v = (v_1, \dots, v_n) \in \mathbb{R}^n = V$  přiřadíme bod

$$A + v = (a_1 + v_1, \dots, a_n + v_n) \in \mathbb{R}^n = \mathcal{A}_n.$$

## A. Afinní geometrie

**4.1.** Napište parametrické vyjádření přímky určené rovnicemi

$$\begin{aligned} x - 2y + z &= 2, \\ 2x + y - z &= 5 \end{aligned}$$

v  $\mathbb{R}^3$ .

**Řešení.** Zřejmě postačuje vyřešit uvedenou soustavu rovnic. Můžeme ale postupovat také odlišně. Potřebujeme totiž najít nenulový (směrový) vektor, který bude kolmý na (normálové) vektory  $(1, -2, 1)$ ,  $(2, 1, -1)$ . Vektorový součin

$$(1, -2, 1) \times (2, 1, -1) = (1, 3, 5)$$

ovšem takový vektor dává. Všimneme-li si, že např. uspořádaná trojice

$$(x, y, z) = (2, -1, -2)$$

vyhovuje dané soustavě, dostaneme výsledek

$$[2, -1, -2] + t(1, 3, 5), \quad t \in \mathbb{R}.$$

□

**4.2.** Rovinu

$$\varrho : [0, 3, 2, 5] + t(1, 0, 1, 0) + s(2, -1, -2, 2), \quad t, s \in \mathbb{R}$$

ve čtyřrozměrném eukleidovském prostoru zadejte implicitně.

**4.3.** Parametricky vyjádřete průnik následujících rovin v  $\mathbb{R}^3$ :

$$\sigma : 2x + 3y - z + 1 = 0 \quad \text{a} \quad \rho : x - 2y + 5 = 0.$$

**Řešení.** Úkolem je najít soustavu lineárních rovnic čtyř proměnných  $x, y, z, u$  (čtyři proměnné jsou dány dimenzí prostoru), jíž budou vyhovovat právě souřadnice bodů uvedené roviny. Poznamenejme, že hledaná soustava bude obsahovat  $2 = 4 - 2$  lineárně nezávislé rovnice. Příklad vyřešíme tzv. eliminací parametrů. Body  $[x, y, z, u] \in \rho$  splňují

$$\begin{aligned} x &= t + 2s, \\ y &= 3 - s, \\ z &= 2 + t - 2s, \\ u &= 5 + 2s, \end{aligned}$$

přičemž  $t, s \in \mathbb{R}$ . Odtud můžeme ihned přejít k maticovému zápisu

$$\left( \begin{array}{cc|cccc|c} 1 & 2 & -1 & 0 & 0 & 0 & 0 \\ 0 & -1 & 0 & -1 & 0 & 0 & 3 \\ 1 & -2 & 0 & 0 & -1 & 0 & 2 \\ 0 & 2 & 0 & 0 & 0 & -1 & 5 \end{array} \right),$$

kde první dva sloupce jsou směrové vektory roviny, za svislou čarou následuje záporně vzatá jednotková matice a za druhou svislou čarou jsou souřadnice bodu  $[0, 3, 2, 5]$ . Tento přepis vzniká tak, že na výše uvedenou soustavu rovnic nahlížíme jako na soustavu rovnic pro neznámé  $t, s, x, y, z, u$  a všechny členy přitom převádíme na jednu stranu rovnic. Získanou matici převedeme pomocí elementárních řádkových transformací do tvaru, kdy před první svislou čarou bude maximální možný počet nulových řádků. Přičtením  $(-1)$ násobku prvního a současně  $(-4)$ násobku druhého řádku ke třetímu řádku a dvojnásobku druhého ke čtvrtému řádku dostáváme

$$\begin{aligned} & \left( \begin{array}{cc|cccc|c} 1 & 2 & -1 & 0 & 0 & 0 & 0 \\ 0 & -1 & 0 & -1 & 0 & 0 & 3 \\ 1 & -2 & 0 & 0 & -1 & 0 & 2 \\ 0 & 2 & 0 & 0 & 0 & -1 & 5 \end{array} \right) \sim \\ & \sim \left( \begin{array}{cc|cccc|c} 1 & 2 & -1 & 0 & 0 & 0 & 0 \\ 0 & -1 & 0 & -1 & 0 & 0 & 3 \\ 0 & 0 & 1 & 4 & -1 & 0 & -10 \\ 0 & 0 & 0 & -2 & 0 & -1 & 11 \end{array} \right). \end{aligned}$$

Odkud plyne výsledek

$$\begin{aligned} x + 4y - z - 10 &= 0, \\ -2y - u + 11 &= 0. \end{aligned}$$

Koeficienty za první svislou čarou v řádcích, které jsou před touto svislou čarou nulové, určují totiž koeficienty obecných rovnic roviny.

Tyto operace splňují následující tři vlastnosti:

- (1)  $A + 0 = A$  pro všechny body  $A \in \mathcal{A}_n$  a nulový vektor  $0 \in V$
- (2)  $A + (v+w) = (A+v) + w$  pro všechny vektory  $v, w \in V$ ,  $A \in \mathcal{A}_n$
- (3) pro každé dva body  $A, B \in \mathcal{A}_n$  existuje právě jeden vektor  $v \in V$  takový, že  $A + v = B$ . Značíme jej  $B - A$ , někdy také  $\vec{AB}$ .

Vektorový prostor  $\mathbb{R}^n$  nazýváme *zaměření afinního prostoru*  $\mathcal{A}_n$ .

Všimněme si několika formálních nebezpečí. Používáme stejný symbol „+“ pro dvě různé operace: přičtení vektoru ze zaměření k bodu v afinním prostoru, ale také sčítání vektorů v zaměření  $V = \mathbb{R}^n$ . Také nezavádíme zvláštní písmena pro samotnou množinu bodů afinního prostoru, tj.  $\mathcal{A}_n$  pro nás představuje jak samotnou množinu bodů, tak i celou strukturu definující afinní prostor.

Proč vlastně chceme rozlišovat množinu bodů prostoru  $\mathcal{A}_n$  od jeho zaměření  $V$ , když se jedná jakoby o stejné  $\mathbb{R}^n$ ? Jde o velice podstatný formální krok k pochopení geometrie v  $\mathbb{R}^n$ :

Geometrické objekty jako přímky, body, roviny apod. nejsou totiž přímo závislé na vektorové struktuře na množině  $\mathbb{R}^n$  a už vůbec ne na tom, že pracujeme s  $n$ -ticemi skalárů. Potřebujeme jen umět říci, co to znamená pohybovat se „rovně v daném směru“. K tomu právě potřebujeme na jedné straně vnímat třeba rovinu jako neohrazenou desku bez zvolených souřadnic, ale s možností posunout se o zadaný vektor. Když přejdeme navíc k takovému abstraktnímu pohledu, budeme umět diskutovat „rovinnou geometrii“ pro dvourozměrné podprostory, tj. roviny ve vícerozměrných prostorech, „prostorovou“ pro třírozměrné atd., aniž bychom museli přímo manipulovat  $k$ -ticemi souřadnic.

Tento pohled je zachycen v následující definici:

**4.2. Definice.** Afinním prostorem  $\mathcal{A}$  se zaměřením  $V$  rozumíme množinu bodů  $\mathcal{P}$ , spolu se zobrazením

$$\mathcal{P} \times V \rightarrow \mathcal{P}, \quad (A, v) \mapsto A + v,$$

splňujícím vlastnosti (1)–(3) výše.

Pro libovolný pevně zvolený vektor  $v \in V$  je tak definováno *posunutí*  $\tau_v : \mathcal{A} \rightarrow \mathcal{A}$  jako zúžené zobrazení

$$\tau_v : \mathcal{P} \simeq \mathcal{P} \times \{v\} \rightarrow \mathcal{P}, \quad A \mapsto A + v.$$

*Dimenzí* afinního prostoru  $\mathcal{A}$  rozumíme dimenzi jeho zaměření.

Nadále nebudeme rozlišovat  $\mathcal{A}$  a  $\mathcal{P}$  v označení.

Z axiomů okamžitě plyne pro libovolné body  $A, B, C$  v afinním prostoru  $\mathcal{A}$

- (4)  $A - A = 0 \in V$
- (5)  $B - A = -(A - B)$
- (6)  $(C - B) + (B - A) = (C - A)$ .

Skutečně, (4) vyplývá z toho, že  $A + 0 = 0$  a takový vektor musí být jednoznačný (první a třetí definiční vlastnost). Postupným přičtením  $B - A$  a  $A - B$  k  $A$  (v uvedeném pořadí), zjevně dostaneme podle druhé definiční vlastnosti opět  $A$ , tedy jsme přičetli nulový vektor a to dokazuje (5). Obdobně z platnosti (2) a jednoznačnosti vyplývá (6).

Všimněme si, že volba jednoho pevného bodu  $A_0 \in \mathcal{A}$  nám určuje bijekci mezi  $V$  a  $\mathcal{A}$ . Při volbě pevné báze  $\underline{u}$  ve  $V$  tak dostáváme pro každý bod  $A \in \mathcal{A}$  jednoznačné vyjádření

$$A = A_0 + x_1 u_1 + \cdots + x_n u_n.$$

Hovoříme o *afinní soustavě souřadnic*  $(A_0; u_1, \dots, u_n)$  zadané počátkem *afinní souřadné soustavy*  $A_0$  a bází zaměření  $\underline{u}$ . Hovoříme také o *afinním repéru*  $(A_0, \underline{u})$ .

Slovy můžeme shrnout situaci takto: Afinní souřadnice bodu  $A$  v soustavě  $(A_0, \underline{u})$  jsou souřadnicemi vektoru  $A - A_0$  v bázi  $\underline{u}$  zaměření  $V$ .

Volba afinního souřadného systému ztotožňuje  $n$ -rozměrný afinní prostor  $\mathcal{A}$  se standardním afinním prostorem  $\mathcal{A}_n$ .

2.59

**4.3. Afinní podprostory.** Jestliže si vybereme v  $\mathcal{A}$  jen body, které budou mít některé předem vybrané souřadnice nulové (třeba poslední jednu). Dostaneme opět množinu, která se bude chovat jako afinní prostor. Takto budeme skutečně parametricky popisovat tzv. afinní podprostory ve smyslu následující definice.

**Definice.** Neprázdňá podmnožina  $\mathcal{Q} \subset \mathcal{A}$  afinního prostoru  $\mathcal{A}$  se zaměřením  $V$  se nazývá *afinní podprostor* v  $\mathcal{A}$ , je-li podmnožina  $W = \{B - A; A, B \in \mathcal{Q}\} \subset V$  vektorovým podprostorem a pro libovolné  $A \in \mathcal{Q}$ ,  $v \in W$  je  $A + v \in \mathcal{Q}$ .

Je podstatné mít obě podmínky zahrnuté v definici, protože je snadné najít příklady podmnožin, které budou splňovat první, ale nikoliv druhou. Přemýšlejte např. o přímce v rovině s vyjmutým jedním bodem.

Pro libovolnou množinu bodů  $M \subset \mathcal{A}$  v afinním prostoru se zaměřením  $V$  definujeme vektorový podprostor

$$Z(M) = \langle \{B - A; B, A \in M\} \rangle \subset V$$

všech vektorů generovaných rozdíly bodů z  $M$ .

Zejména je  $V = Z(\mathcal{A})$  a každý afinní podprostor  $\mathcal{Q} \subset \mathcal{A}$  splňuje sám axiomy afinního prostoru se zaměřením  $Z(\mathcal{Q})$ .

Přímo z definic je také zřejmé, že průnik libovolné množiny afinních podprostorů je buď opět afinní podprostor nebo prázdná množina.

Afinní podprostor  $\langle M \rangle$  v  $\mathcal{A}$  generovaný neprázdňou podmnožinou  $M \subset \mathcal{A}$  je průnikem všech afinních podprostorů, které obsahují všechny body podmnožiny  $M$ .

Afinní podprostory si můžeme pěkně popsat pomocí jejich zaměření, jakmile si zvolíme jeden jejich bod  $A_0 \in M$  v generující množině bodů  $M$ . Skutečně, dostáváme  $\langle M \rangle = \{A_0 + v; v \in Z(M) \subset Z(\mathcal{A})\}$ , tj. pro generování afinního podprostoru vezmeme vektorový podprostor  $Z(M)$  v

Upozorníme, že kdybychom např. přepsali soustavu rovnic do matice

$$\left( \begin{array}{cccc|cc|c} 1 & 0 & 0 & 0 & 1 & 2 & 0 \\ 0 & 1 & 0 & 0 & 0 & -1 & 3 \\ 0 & 0 & 1 & 0 & 1 & -2 & 2 \\ 0 & 0 & 0 & 1 & 0 & 2 & 5 \end{array} \right),$$

kteřá odpovídá situaci, kdy proměnné  $x, y, z, u$  zůstávají na levé straně rovnic, totožná úprava

$$\left( \begin{array}{cccc|cc|c} 1 & 0 & 0 & 0 & 1 & 2 & 0 \\ 0 & 1 & 0 & 0 & 0 & -1 & 3 \\ 0 & 0 & 1 & 0 & 1 & -2 & 2 \\ 0 & 0 & 0 & 1 & 0 & 2 & 5 \end{array} \right) \sim \left( \begin{array}{cccc|cc|c} 1 & 0 & 0 & 0 & 1 & 2 & 0 \\ 0 & 1 & 0 & 0 & 0 & -1 & 3 \\ -1 & -4 & 1 & 0 & 0 & 0 & -10 \\ 0 & 2 & 0 & 1 & 0 & 0 & 11 \end{array} \right)$$

dává výsledek ve tvaru

$$\begin{array}{rcl} -x & - & 4y & + & z & & = & -10, \\ & & & & & & & & 2y & & + & u & = & 11. \end{array}$$

Jinak řečeno, při přepisování soustavy do matice je nutné zohledňovat, zda svislá čára odděluje levou stranu rovnic od pravé (či nikoliv). Nabízí se, že metoda eliminace parametrů může být zdlohouvá a že se při jejím použití lze snadno dopustit chyb(y). V tomto příkladu jsme přitom hledali pouze dva lineárně nezávislé normálové vektory, tj. vektory kolmé na vektory  $(1, 0, 1, 0)$ ,  $(2, -1, -2, 2)$ . Pokud bychom si uvědomili, že takovými vektory jsou např.  $(0, 2, 0, 1)$ ,  $(-1, 0, 1, 2)$ , dosazením  $x = 0$ ,  $y = 3$ ,  $z = 2$ ,  $u = 5$  do rovnic

$$\begin{array}{rcl} & & 2y & + & u & = & a, \\ -x & & & + & z & + & 2u & = & b \end{array}$$

bychom obdrželi  $a = 11$ ,  $b = 12$ , následně hledané implicitní vyjádření

$$\begin{array}{rcl} & & 2y & + & u & = & 11, \\ -x & & & + & z & + & 2u & = & 12. \end{array}$$

□

**4.4.** Nalezněte parametrické vyjádření roviny procházející body

$$A = [2, 1, 1], \quad B = [3, 4, 5], \quad C = [4, -2, 3].$$

Poté parametricky vyjádřete otevřenou polorovinu obsahující bod  $C$  a vymezenou přímkou zadanou body  $A, B$ .

**Řešení.** K parametrickému vyjádření roviny potřebujeme jeden bod ležící v této rovině a dva směrové (lineárně nezávislé) vektory. Stačí zvolit bod  $A$  a vektory  $B - A = (1, 3, 4)$  a  $C - A = (2, -3, 2)$ , které jsou očividně lineárně nezávislé. Bod  $[x, y, z]$  náleží do dané roviny právě tehdy, když existují čísla  $t, s \in \mathbb{R}$ , pro která je

$$x = 2 + 1 \cdot t + 2 \cdot s, \quad y = 1 + 3 \cdot t - 3 \cdot s, \quad z = 1 + 4 \cdot t + 2 \cdot s;$$

tj. hledané parametrické vyjádření roviny je

$$[2, 1, 1] + t(1, 3, 4) + s(2, -3, 2), \quad t, s \in \mathbb{R}.$$

Volba  $s = 0$  zjevně dává přímkou, která prochází body  $A, B$ . Pro  $t = 0, s \geq 0$  dostáváme polopřímku začínající v bodě  $A$  a procházející bodem  $C$ . Libovolně pevně zvolené  $t \in \mathbb{R}$  a měnné  $s \geq 0$  pak zadávají polopřímku s počátkem na hraniční přímce a s body v polorovině, ve které se nachází bod  $C$ . To znamená, že hledanou otevřenou polorovinu můžeme vyjádřit parametricky takto

$$[2, 1, 1] + t(1, 3, 4) + s(2, -3, 2), \quad t \in \mathbb{R}, s > 0.$$

□

**4.5.** Určete vzájemnou polohu přímek

$$p : [1, 0, 3] + t(2, -1, -3), \quad t \in \mathbb{R},$$

$$q : [1, 1, 3] + s(1, -1, -2), \quad s \in \mathbb{R}.$$

**Řešení.** Hledejme společné body zadaných přímek (průnik podprostorů). Dostáváme soustavu

$$\begin{aligned} 1 + 2t &= 1 + s, \\ 0 - t &= 1 - s, \\ 3 - 3t &= 3 - 2s. \end{aligned}$$

Z prvních dvou rovnic vyplývá, že  $t = 1, s = 2$ . To ovšem nevyhovuje třetí rovnici. Soustava tak nemá řešení. Neboť směrový vektor  $(2, -1, -3)$  přímky  $p$  není násobkem směrového vektoru  $(1, -1, -2)$  přímky  $q$ , přímky nejsou rovnoběžné. Jedná se proto o mimoběžky. □

2.61

**4.6.** Pro jaká čísla  $a \in \mathbb{R}$  jsou přímky

$$p : [4, -4, 8] + t(2, 1, -4), \quad t \in \mathbb{R},$$

$$q : [a, 6, -5] + s(1, -3, 3), \quad s \in \mathbb{R}$$

různoběžné?

**Řešení.** Přímky jsou různoběžné tehdy a jenom tehdy, když má soustava

$$\begin{aligned} 4 + 2t &= a + s, \\ -4 + t &= 6 - 3s, \\ 8 - 4t &= -5 + 3s \end{aligned}$$

právě 1 řešení. V maticovém zápisu řešíme (první sloupec odpovídá proměnné  $t$ , druhý pak  $s$ )

$$\begin{aligned} \left( \begin{array}{cc|c} 2 & -1 & a-4 \\ 1 & 3 & 10 \\ -4 & -3 & -13 \end{array} \right) &\sim \left( \begin{array}{cc|c} 1 & 3 & 10 \\ 2 & -1 & a-4 \\ -4 & -3 & -13 \end{array} \right) \\ &\sim \left( \begin{array}{cc|c} 1 & 3 & 10 \\ 0 & -7 & a-24 \\ 0 & 1 & 3 \end{array} \right). \end{aligned}$$

Vidíme, že soustava má právě 1 řešení tehdy a jenom tehdy, když je druhý řádek násobkem třetího. To je splněno pouze pro  $a = 3$ . Dodejme, že průsečíkem je v tomto případě bod  $[6, -3, 4]$ . □

zaměření generovaný všemi rozdíly bodů z  $M$  a ten pak přičteme k libovolnému z nich. Hovoříme také o *afinním obalu* množiny bodů  $M$  v  $\mathcal{A}$ .

Naopak, kdykoliv zvolíme podprostor  $U$  v zaměření  $Z(\mathcal{A})$  a jeden pevný bod  $A \in \mathcal{A}$ , pak podmnožina  $A + U$  vzniklá všemi možnými součty jediného bodu  $A$  se všemi vektory v  $U$  je afinní podprostor. Takový postup vede k pojmu parametrizace podprostorů:

Nechť  $\mathcal{Q} = A + Z(\mathcal{Q})$  je afinní podprostor v  $\mathcal{A}_n$  a  $(u_1, \dots, u_k)$  je báze  $Z(\mathcal{Q}) \subset \mathbb{R}^n$ . Pak vyjádření podprostoru

$$\mathcal{Q} = \{A + t_1 u_1 + \dots + t_k u_k; t_1, \dots, t_k \in \mathbb{R}\}$$

nazýváme *parametrický popis* podprostoru  $\mathcal{Q}$ .

Již jsme viděli jinou možnost zadávání afinních podprostorů: Jestliže máme zvoleny afinní souřadnice, pak lze zaměření podprostoru popsat pomocí homogenního systému lineárních rovnic v těchto souřadnicích. Dosazením souřadnic jednoho bodu našeho podprostoru  $\mathcal{Q}$  do získaného systému rovnic dostaneme pravou stranu nehomogenního systému se stejnou maticí a celý podprostor  $\mathcal{Q}$  je pak právě množinou řešení tohoto systému. Zadání podprostoru  $\mathcal{Q}$  systémem rovnic v daných souřadnicích nazýváme *implicitní popis* podprostoru  $\mathcal{Q}$ .

Následující obecná věta říká, že takto umíme ve skutečnosti zadat všechny afinní podprostory a tím také ukazuje geometrickou podstatu vlastností množiny všech řešení systémů lineárních rovnic.

**4.4. Věta.** *Nechť  $(A_0; \underline{u})$  je afinní souřadný systém v  $n$ -rozměrném afinním prostoru  $\mathcal{A}$ . Afinní podprostory dimenze  $k$  v  $\mathcal{A}$ , vyjádřené v daných souřadnicích, jsou právě množiny řešení řešitelných systémů  $n - k$  lineárně nezávislých lineárních rovnic v  $n$  proměnných.*

**DŮKAZ.** Uvažujme libovolný řešitelný systém  $n - k$  lineárně nezávislých rovnic  $\alpha_i(x) = b_i, b_i \in \mathbb{R}, i = 1, \dots, n - k$ . Je-li  $A = (a_1, \dots, a_n)^T \in \mathbb{R}^n$  libovolně pevně zvolené řešení tohoto (nehomogenního) systému rovnic a je-li  $U \subset \mathbb{R}^n$  vektorový podprostor všech řešení zhomogenizovaného systému  $\alpha_i(x) = 0$ , pak dimenze  $U$  je  $k$  a podmnožina všech řešení daného systému je tvaru  $\{B; B = A + (y_1, \dots, y_n)^T, y = (y_1, \dots, y_n)^T \in U\} \subset \mathbb{R}^n$ , viz. 3.1. Příslušný afinní podprostor je tím popsán parametricky ve výchozích souřadnicích  $(A_0; \underline{u})$ .

Naopak, uvažme libovolný afinní podprostor  $\mathcal{Q} \subset \mathcal{A}_n$  a zvolme nějaký jeho bod  $B$  za počátek afinního souřadného systému  $(B, \underline{v})$  pro afinní prostor  $\mathcal{A}$ . Protože  $\mathcal{Q} = B + Z(\mathcal{Q})$ , potřebujeme popsat zaměření podprostoru  $\mathcal{Q}$  jako podprostor řešení homogenního systému rovnic. Zvolme tedy bázi  $\underline{v}$  na  $Z(\mathcal{A})$  tak, aby prvních  $k$  vektorů tvořilo bázi  $Z(\mathcal{Q})$ . Pak v těchto souřadnicích jsou vektory  $v \in Z(\mathcal{Q})$  dány rovnostmi

$$\alpha_j(v) = 0, \quad j = k + 1, \dots, n,$$

kde  $\alpha_i$  jsou lineární formy z tzv. duální báze  $k$  v  $\underline{v}$ , tj. funkce přiřazení jednotlivých souřadnic v naší bázi  $\underline{v}$ .



Náš vektorový podprostor  $Z(Q)$  dimenze  $k$  v  $n$ -rozměrném  $\mathbb{R}^n$  je tedy skutečně dán jako řešení homogenního systému  $n - k$  nezávislých rovnic. Popis zvoleného afinního podprostoru ve vybraném souřadném systému  $(A_0; \underline{u})$  je proto dán systémem homogenních lineárních rovnic.

Zbývá nám se vypořádat důsledky přechodu z původního zadaného souřadného systému  $(A; \underline{u})$  do našeho přízpusobeného  $(B; \underline{v})$ . Z obecné úvahy o transformacích souřadnic v následujícím odstavci vyplyne, že výsledný popis podprostoru bude opět pomocí systému rovnic, tentokrát ale už obecně nehomogenních.  $\square$

4.5

**4.5. Transformace souřadnic.** Dvě libovolně zvolené afinní soustavy souřadnic  $(A_0, \underline{u})$ ,  $(B_0, \underline{v})$  se obecně liší posunutím počátku o vektor  $(B_0 - A_0)$  a jinou bází zaměření. Transformační rovnice tedy vyčteme ze vztahu pro obecný bod  $X \in \mathcal{A}$

$$X = B_0 + x'_1 v_1 + \dots + x'_n v_n = B_0 + (A_0 - B_0) + x_1 u_1 + \dots + x_n u_n.$$

Označme  $y = (y_1, \dots, y_n)^T$  sloupec souřadnic vektoru  $(A_0 - B_0)$  v bází  $\underline{v}$  a  $M = (a_{ij})$  buď matice vyjadřující bází  $\underline{u}$  prostřednictvím báze  $\underline{v}$ . Potom

$$x'_1 = y_1 + a_{11}x_1 + \dots + a_{1n}x_n$$

$$\vdots$$

$$x'_n = y_n + a_{n1}x_1 + \dots + a_{nn}x_n$$

tj. maticově

$$x' = y + M \cdot x.$$

Jako příklad si můžeme spočítat dopad takové změny báze na vyjádření řešení systémů rovnic. Nechť v souřadnicích  $(A_0; \underline{u})$  má systém rovnic tvar

$$S \cdot x = b$$

s maticí systému  $S$ . Pak  $S \cdot x = S \cdot M^{-1} \cdot (y + M \cdot x) = S \cdot M^{-1} \cdot y = b$ . Proto v nových výše uvažovaných souřadnicích  $(B_0; \underline{v})$  bude mít náš systém rovnic tvar

$$(S \cdot M^{-1}) \cdot x' = b' = b + (S \cdot M^{-1}) \cdot y.$$

To plně dokončuje důkaz předchozí věty.

4.3

**4.6. Příklady afinních podprostorů.** (1) Jednorozměrný (standardní) afinní prostor je množina všech bodů reálné přímky  $\mathcal{A}_1$ . Její zaměření je jednorozměrný vektorový prostor  $\mathbb{R}$  (a nosná množina také  $\mathbb{R}$ ). Afinní souřadnice dostaneme volbou počátku a měřítka (tj. báze ve vektorovém prostoru  $\mathbb{R}$ ). Všechny vlastní afinní podprostory jsou 0-rozměrné, jsou to právě všechny body reálné přímky  $\mathbb{R}$ .

(2) Dvourozměrný (standardní) afinní prostor je množina všech bodů prostoru  $\mathcal{A}_2$  se zaměřením  $\mathbb{R}^2$ . (Nosnou množinou je  $\mathbb{R}^2$ .) Afinní souřadnice dostaneme volbou počátku a dvou nezávislých vektorů (směrů a měřítek). Vlastní afinní podprostory jsou pak všechny body a přímky v rovině (0-rozměrné a 1-rozměrné). Přímky přitom jednoznačně

**4.7.** V  $\mathbb{R}^3$  stanovte vzájemnou polohu přímky  $p$  zadané implicitně rovnicemi

$$\begin{aligned} x + y - z &= 4, \\ x - 2y + z &= -3 \end{aligned}$$

a roviny  $\varrho : y = 2x - 1$ .

**Řešení.** Normálový vektor  $\varrho$  je  $(2, -1, 0)$  (uvažte zápis  $\varrho : 2x - y + 0z = 1$ ). Lze postřehnout, že platí

$$(1, 1, -1) + (1, -2, 1) = (2, -1, 0),$$

tj. že normálový vektor roviny  $\varrho$  je lineární kombinací normálových vektorů  $p$ . Zaměření přímky (zadané nenulovým směrovým vektorem kolmým na uvedené dva normálové vektory) je proto podprostorem zaměření roviny  $\varrho$  (směrový vektor přímky je nutně kolmý na vektor  $(2, -1, 0)$ ). Lehce jsme zjistili, že přímka  $p$  je rovnoběžná s rovinou  $\varrho$ .

Zajímá nás, zda se protínají (zda  $p$  leží v  $\varrho$ ). Soustava rovnic

$$\begin{aligned} x + y - z &= 4, \\ x - 2y + z &= -3, \\ 2x - y &= 1 \end{aligned}$$

má nekonečně mnoho řešení, neboť sečtením prvních dvou rovnic dostaneme právě třetí z rovnic. Přímka  $p$  tak musí ležet v rovině  $\varrho$ .  $\square$

**4.8.** Naleznete průnik podprostorů  $Q_1$  a  $Q_2$ , je-li

$$Q_1 : [4, -5, 1, -2] + t_1(3, 5, 4, 2) + t_2(2, 4, 5, 1) + t_3(0, 3, 1, 2),$$

$$Q_2 : [4, 4, 4, 4] + s_1(0, -6, -2, -4) + s_2(-1, -5, -3, -3),$$

kde  $t_1, t_2, t_3, s_1, s_2 \in \mathbb{R}$ .

**Řešení.** Bod  $X = [x_1, x_2, x_3, x_4] \in \mathbb{R}^4$  náleží do  $Q_1 \cap Q_2$  právě tehdy, když je

$$\begin{bmatrix} x_1 \\ x_2 \\ x_3 \\ x_4 \end{bmatrix} = \begin{bmatrix} 4 \\ -5 \\ 1 \\ -2 \end{bmatrix} + t_1 \begin{bmatrix} 3 \\ 5 \\ 4 \\ 2 \end{bmatrix} + t_2 \begin{bmatrix} 2 \\ 4 \\ 5 \\ 1 \end{bmatrix} + t_3 \begin{bmatrix} 0 \\ 3 \\ 1 \\ 2 \end{bmatrix}$$

pro nějaká čísla  $t_1, t_2, t_3 \in \mathbb{R}$  a současně když je

$$\begin{bmatrix} x_1 \\ x_2 \\ x_3 \\ x_4 \end{bmatrix} = \begin{bmatrix} 4 \\ 4 \\ 4 \\ 4 \end{bmatrix} + s_1 \begin{bmatrix} 0 \\ -6 \\ -2 \\ -4 \end{bmatrix} + s_2 \begin{bmatrix} -1 \\ -5 \\ -3 \\ -3 \end{bmatrix}$$

pro nějaká  $s_1, s_2 \in \mathbb{R}$ . Porovnáním získáváme

$$t_1 \begin{bmatrix} 3 \\ 5 \\ 4 \\ 2 \end{bmatrix} + t_2 \begin{bmatrix} 2 \\ 4 \\ 5 \\ 1 \end{bmatrix} + t_3 \begin{bmatrix} 0 \\ 3 \\ 1 \\ 2 \end{bmatrix} = \begin{bmatrix} 4 - 4 \\ 4 + 5 \\ 4 - 1 \\ 4 + 2 \end{bmatrix} + s_1 \begin{bmatrix} 0 \\ -6 \\ -2 \\ -4 \end{bmatrix} + s_2 \begin{bmatrix} -1 \\ -5 \\ -3 \\ -3 \end{bmatrix}.$$

Při maticovém zápisu (pro pořadí proměnných  $t_1, t_2, t_3, s_1, s_2$  a po převodu vektorů u  $s_1$  a  $s_2$  na levou stranu) řešíme pomocí řádkových operací

$$\left( \begin{array}{ccccc|c} 3 & 2 & 0 & 0 & 1 & 0 \\ 5 & 4 & 3 & 6 & 5 & 9 \\ 4 & 5 & 1 & 2 & 3 & 3 \\ 2 & 1 & 2 & 4 & 3 & 6 \end{array} \right) \sim \left( \begin{array}{ccccc|c} 3 & 2 & 0 & 0 & 1 & 0 \\ 0 & 2 & 9 & 18 & 10 & 27 \\ 0 & 7 & 3 & 6 & 5 & 9 \\ 0 & -1 & 6 & 12 & 7 & 18 \end{array} \right) \sim \dots \sim \left( \begin{array}{ccccc|c} 3 & 0 & 0 & 0 & 0 & 0 \\ 0 & 2 & 0 & 0 & 0 & 0 \\ 0 & 0 & 1 & 2 & 0 & 3 \\ 0 & 0 & 0 & 0 & 1 & 0 \end{array} \right). \quad 4.6$$

Odtud vidíme, že  $t_1 = t_2 = s_2 = 0$  a pro  $s_1 = t \in \mathbb{R}$  je  $t_3 = 3 - 2t$ .

Podotkněme, že k určení  $Q_1 \cap Q_2$  stačilo znát buď  $t_1, t_2, t_3$  nebo  $s_1, s_2$ .

Vraťme se nyní k vyjádření

$$\begin{bmatrix} x_1 \\ x_2 \\ x_3 \\ x_4 \end{bmatrix} = \begin{bmatrix} 4 \\ 4 \\ 4 \\ 4 \end{bmatrix} + s_1 \begin{pmatrix} 0 \\ -6 \\ -2 \\ -4 \end{pmatrix} + s_2 \begin{pmatrix} -1 \\ -5 \\ -3 \\ -3 \end{pmatrix} = \begin{bmatrix} 4 \\ 4 \\ 4 \\ 4 \end{bmatrix} + t \begin{pmatrix} 0 \\ -6 \\ -2 \\ -4 \end{pmatrix}.$$

Průnikem zadaných podprostorů je tedy přímka ( $s = -2t$ )

$$[4, 4, 4, 4] + s(0, 3, 1, 2), \quad s \in \mathbb{R}.$$

Pro kontrolu rovněž dosadíme

$$\begin{aligned} \begin{bmatrix} x_1 \\ x_2 \\ x_3 \\ x_4 \end{bmatrix} &= \begin{bmatrix} 4 \\ -5 \\ 1 \\ -2 \end{bmatrix} + t_1 \begin{pmatrix} 3 \\ 5 \\ 4 \\ 2 \end{pmatrix} + t_2 \begin{pmatrix} 2 \\ 4 \\ 5 \\ 1 \end{pmatrix} + t_3 \begin{pmatrix} 0 \\ 3 \\ 1 \\ 2 \end{pmatrix} \\ &= \begin{bmatrix} 4 \\ -5 \\ 1 \\ -2 \end{bmatrix} + (3 - 2t) \begin{pmatrix} 0 \\ 3 \\ 1 \\ 2 \end{pmatrix} = \begin{bmatrix} 4 \\ 4 \\ 4 \\ 4 \end{bmatrix} + t \begin{pmatrix} 0 \\ -6 \\ -2 \\ -4 \end{pmatrix}. \end{aligned}$$

□

**4.9.** Zjistěte, zda leží body  $[0, 2, 1]$ ,  $[-1, 2, 0]$ ,  $[-2, 5, 2]$  a  $[0, 5, 4]$  z  $\mathbb{R}^3$  v jedné rovině.

4.6a

**Řešení.** Libovolná dvojice zadaných bodů z afinního prostoru  $\mathbb{R}^3$  určuje vektor (viz definice afinního prostoru; jeho souřadnice jsou dány po složkách rozdíly souřadnic daných dvou bodů). To, že dané čtyři body leží v rovině je ekvivalentní tomu, že jsou tři vektory dané jedním vybraným bodem a vždy jedním ze tří zbylých lineárně závislé. Vybereme např. bod  $[0, 2, 1]$  (na výběru nezáleží), pak uvažujeme vektory  $[0, 2, 1] - [-1, 2, 0] = (1, 0, 1)$ ,  $[0, 2, 1] - [-2, 5, 2] = (2, -3, -1)$  a  $[0, 2, 1] - [0, 5, 4] = (0, -3, -3)$ . Vidíme, že součet dvojnásobku prvního vektoru a třetího vektoru je roven druhému vektoru, vektory jsou tedy lineárně závislé (jinak má taky matice, jejíž

zadáme jejich jedním bodem a jedním generátorem zaměření (tzv. parametrický popis přímky).

(3) Trojrozměrný (standardní) afinní prostor je množina všech bodů prostoru  $\mathcal{A}_3$  se zaměřením  $\mathbb{R}^3$ . Afinní souřadnice dostaneme volbou počátku a tří nezávislých vektorů (směrů a měřítek). Vlastní afinní podprostory jsou pak všechny body, přímky a roviny (0-rozměrné, 1-rozměrné a 2-rozměrné).

(4) Podprostor všech řešení jedné lineární rovnice  $a \cdot x = b$  pro neznámý bod  $[x_1, \dots, x_n] \in \mathcal{A}_n$ , známý nenulový vektor koeficientů  $(a_1, \dots, a_n)$  a skalár  $b \in \mathbb{R}$  je afinní podprostor dimenze  $n - 1$  (říkáme také, že je kodimenze 1), tj. tzv. *nadrovina* v  $\mathcal{A}_n$ .

**4.7. Afinní kombinace bodů.** Nechť  $A_0, \dots, A_k$  jsou body v afinním prostoru  $\mathcal{A}$ . Jejich afinní obal  $\langle \{A_0, \dots, A_k\} \rangle$  můžeme zapsat jako

$$\{A_0 + t_1(A_1 - A_0) + \dots + t_k(A_k - A_0); t_1, \dots, t_k \in \mathbb{R}\}$$

a v libovolných afinních souřadnicích (tj.  $A_i$  je vyjádřen sloupcem skalárů) můžeme tutéž množinu zapsat jako

$$\langle A_0, \dots, A_k \rangle = \{t_0 A_0 + t_1 A_1 + \dots + t_k A_k; t_i \in \mathbb{R}, \sum_{i=0}^k t_i = 1\}.$$

Obecně výrazy  $t_0 A_0 + t_1 A_1 + \dots + t_k A_k$  s koeficienty splňujícími  $\sum_{i=0}^k t_i = 1$  rozumíme body  $A_0 + \sum_{i=1}^k t_i (A_i - A_0)$  a nazýváme je *afinní kombinace bodů*.

Body  $A_0, \dots, A_k$  jsou v *obecné poloze*, jestliže generují  $k$ -rozměrný podprostor. Z našich definic je vidět, že to nastane právě, když pro kterýkoliv z nich platí, že vektory vzniklé pomocí rozdílu tohoto pevného s ostatními jsou lineárně nezávislé. Všimněme si také, že zadání posloupnosti  $\dim \mathcal{A}$  bodů v obecné poloze je ekvivalentní zadání afinního repéru se středem v prvním z nich.

Afinní kombinace je obdobná konstrukce pro body afinního prostoru jako byla lineární kombinace pro vektorové prostory. Skutečně, afinní podprostor generovaný body  $A_0, \dots, A_k$  je roven množině všech afinních kombinací svých generátorů. Můžeme však nyní dobře zobecnit i pojem „mezi dvěma body na přímce“. V dvojrozměrném případě tomu odpovídá vnitřek trojúhelníku. Obecně budeme postupovat takto:

**4.8. Simplex.** Nechť  $A_0, \dots, A_k$  je  $k + 1$  bodů afinního prostoru  $\mathcal{A}$  v obecné poloze.  $k$ -rozměrný *simplex*  $\Delta = \Delta(A_0, \dots, A_k)$  generovaný těmito body je definován jako množina všech afinních kombinací bodů  $A_i$  s pouze nezápornými koeficienty, tzn.

$$\Delta = \{t_0 A_0 + t_1 A_1 + \dots + t_k A_k; t_i \in [0, 1] \subset \mathbb{R}, \sum_{i=0}^k t_i = 1\}.$$

Jednorozměrný simplex je *úsečka*, dvourozměrný *trojúhelník*, nula-rozměrný bod.

Všimněme si, že každý  $k$ -rozměrný simplex má právě  $k + 1$  *stěn*, které jsou postupně zadány rovnicemi  $t_i = 0$ ,

$i = 0, \dots, k$ . Přímo z definice je vidět, že jde opět o  $(k - 1)$ -rozměrné simplexy. Hovoříme o *hranici simplexu*. Např. trojúhelník má za svou hranici tři hrany, každá z nich pak dva body.

Zadání podprostoru jako množiny afinních kombinací bodů v obecné poloze je ekvivalentní parametrickému popisu. Obdobně pracujeme s parametrickými popisy simplexů.

4.7

**4.9. Konvexní množiny.** Podmnožina  $M$  afinního prostoru se nazývá *konvexní*, jestliže s každými svými dvěma body  $A, B$  obsahuje i celou úsečku  $\Delta(A, B)$ . Přímo z definice je vidět, že každá konvexní množina obsahuje s každými  $k + 1$  body v obecné poloze i celý jimi definovaný simplex (dokažte si formálně podrobně!). Konvexními množinami jsou např.

- (1) prázdná podmnožina
- (2) afinní podprostory
- (3) úsečky, polopřímky  $p = \{P + t \cdot v; t \geq 0\}$ ,
- (4) obecněji  $k$ -rozměrné *poloprostory*  $\alpha = \{P + t_1 \cdot v_1 + \dots + t_k \cdot v_k; t_1, \dots, t_k \in \mathbb{R}, t_k \geq 0\}$ ,
- (5) *úhly* v dvojrozměrných podprostorech  $\beta = \{P + t_1 \cdot v_1 + t_2 \cdot v_2; t_1 \geq 0, t_2 \geq 0\}$ , atd.

Přímo z definice také plyne, že průnik libovolného systému konvexních množin je opět konvexní. Průnik všech konvexních množin obsahujících danou množinu  $M$  nazýváme *konvexní obal*  $\mathcal{K}(M)$  množiny  $M$ .

**Věta.** *Konvexní obal libovolné podmnožiny  $M \subset A$  je*

$$\mathcal{K}(M) = \{t_1 A_1 + \dots + t_s A_s; \sum_{i=1}^s t_i = 1, t_i \geq 0, A_i \in M\}$$

**DŮKAZ.** Označme  $S$  množinu všech afinních kombinací na pravé straně dokazované rovnosti. Nejprve ověříme, že je  $S$  konvexní. Zvolme tedy dvě sady parametrů  $t_i, i = 1, \dots, s_1, t'_j, j = 1, \dots, s_2$  s požadovanými vlastnosti. Bez újmy na obecnosti můžeme předpokládat, že  $s_1 = s_2$  a že v obou kombinacích vystupují stejné body z  $M$  (jinak prostě přidáme sčítance s nulovými koeficienty). Uvažme libovolný bod úsečky zadané takto získanými body:

$$\epsilon(t_1 A_1 + \dots + t_s A_s) + (1 - \epsilon)(t'_1 A_1 + \dots + t'_s A_s), \quad 0 \leq \epsilon \leq 1.$$

Zřejmě jsou opět všechny v  $S$ .

Zbývá ukázat, že konvexní obal bodů  $A_1, \dots, A_s$  nemůže být menší než  $S$ . Samotné body  $A_i$  odpovídají volbě parametrů  $t_j = 0$  pro všechny  $j \neq i$  a  $t_i = 1$ . Předpokládejme, že tvrzení platí pro všechny množiny s nejvýše  $s - 1$  body. To znamená, že konvexní obal bodů  $A_1, \dots, A_{s-1}$  je (podle předpokladu) tvořen právě těmi kombinacemi z pravé strany dokazované rovnosti, kde  $t_s = 0$ . Uvažme nyní libovolný bod  $A = t_1 A_1 + \dots + t_s A_s \in S, t_s \neq 1$ , a afinní kombinace

$$\epsilon(t_1 A_1 + \dots + t_{s-1} A_{s-1}) + (1 - \epsilon(1 - t_s))A_s, \quad 0 \leq \epsilon \leq \frac{1}{1 - t_s}.$$

řádky jsou tvořeny souřadnicemi daných vektorů, hodnost nižší než tři; v tomto případě se tedy jedná o matici

$$\begin{pmatrix} 1 & 0 & 1 \\ 2 & -3 & -1 \\ 0 & -3 & -3 \end{pmatrix},$$

kteřá má hodnost dva). Dané body tedy leží v rovině.  $\square$

**4.10.** Na kolik částí mohou dělit prostor  $(\mathbb{R}^3)$  tři roviny? Pro každou možnost popište odpovídající případ.

**4.11.** Rozhodněte, zda leží bod  $[2, 1, 0]$  uvnitř konvexního obalu bodů  $[0, 2, 1], [1, 0, 1], [3, -2, -1], [-1, 0, 1]$ .

**Řešení.** Sestavíme nehomogenní lineární soustavu, pro koeficienty  $t_1, t_2, t_3, t_4$ , afinní kombinace daných bodů, která dává první bod (jsou určeny jednoznačně, pokud dané body neleží v rovině).

$$\begin{pmatrix} 0 & 1 & 3 & -1 \\ 2 & 0 & -2 & 0 \\ 1 & 1 & -1 & 1 \\ 1 & 1 & 1 & 1 \end{pmatrix} \begin{pmatrix} t_1 \\ t_2 \\ t_3 \\ t_4 \end{pmatrix} = \begin{pmatrix} 2 \\ 1 \\ 0 \\ 1 \end{pmatrix}.$$

Poslední rovnice udává, že jde o afinní kombinaci. Jejím řešením dostáváme  $(t_1, t_2, t_3, t_4) = (1, 0, 1/2, -1/2)$ , nejedná se tedy o konvexní kombinaci. (nelze odvodit pomocí projekcí na jednotlivé osy).  $\square$

**4.12.** Nalezněte předpis afinního zobrazení  $f$  daného ve standardní bázi v  $\mathbb{R}^2$  jako

$$f(x_1, x_2) = \begin{pmatrix} 2 & 1 \\ 0 & 1 \end{pmatrix} \begin{pmatrix} x_1 \\ x_2 \end{pmatrix} + \begin{pmatrix} 1 \\ 1 \end{pmatrix}$$

v souřadné soustavě dané bází  $\underline{u} = \{(1, 1), (-1, 1)\}$  a počátkem  $[2, 0]$ .

**Řešení.** Matice přechodu od dané báze  $\underline{u}$  ke standardní bázi  $\underline{k}$  je

$$\begin{pmatrix} 1 & -1 \\ 1 & 1 \end{pmatrix}.$$

Matice zobrazení v bázi  $([2, 0], \underline{u})$  získáme tak, že nejprve transformujeme souřadnice v bázi  $([2, 0], \underline{u})$  na souřadnice ve standardní bázi, tedy v bázi  $([0, 0], (1, 0), (0, 1))$ , poté aplikujeme matici zobrazení  $f$  ve standardní bázi a na závěr výsledek transformujeme zpět do souřadnic v bázi  $([2, 0], \underline{u})$ . Transformační rovnice přechodu od souřadnic  $y_1, y_2$  v bázi  $([2, 0], \underline{u})$  k souřadnicím  $x_1, x_2$  v standardní bázi jsou

$$\begin{pmatrix} x_1 \\ x_2 \end{pmatrix} = \begin{pmatrix} 1 & -1 \\ 1 & 1 \end{pmatrix} \begin{pmatrix} y_1 \\ y_2 \end{pmatrix} + \begin{pmatrix} 2 \\ 0 \end{pmatrix}.$$

Odtud máme, že

$$\begin{pmatrix} y_1 \\ y_2 \end{pmatrix} = \begin{pmatrix} 1 & -1 \\ 1 & 1 \end{pmatrix}^{-1} \left( \begin{pmatrix} x_1 \\ x_2 \end{pmatrix} - \begin{pmatrix} 2 \\ 0 \end{pmatrix} \right) = \begin{pmatrix} \frac{1}{2} & \frac{1}{2} \\ -\frac{1}{2} & \frac{1}{2} \end{pmatrix} \begin{pmatrix} x_1 \\ x_2 \end{pmatrix} + \begin{pmatrix} -1 \\ 1 \end{pmatrix}.$$

Pro předpis zobrazení pak dostáváme

$$\begin{aligned} f(y_1, y_2) &= \\ &= \begin{pmatrix} \frac{1}{2} & \frac{1}{2} \\ -\frac{1}{2} & \frac{1}{2} \end{pmatrix} \left[ \begin{pmatrix} 2 & 1 \\ 0 & 1 \end{pmatrix} \left( \begin{pmatrix} 1 & -1 \\ 1 & 1 \end{pmatrix} \begin{pmatrix} y_1 \\ y_2 \end{pmatrix} + \begin{pmatrix} 2 \\ 0 \end{pmatrix} \right) + \begin{pmatrix} 1 \\ 1 \end{pmatrix} \right] + \begin{pmatrix} -1 \\ 1 \end{pmatrix} \\ &= \begin{pmatrix} 2 & 0 \\ -1 & 1 \end{pmatrix} \begin{pmatrix} y_1 \\ y_2 \end{pmatrix} + \begin{pmatrix} 2 \\ -1 \end{pmatrix} \end{aligned}$$

□

**4.13.** Mějme dánu standardní souřadnou soustavu v prostoru  $\mathbb{R}^3$ . Agent K sídlí v bodě  $S$  o souřadnicích  $[0, 1, 2]$  a ústředí mu přidělilo pro používání souřadnou soustavu s počátkem  $S$  a bází  $\{(1, 1, 0), (-1, 0, 1), (0, 1, 2)\}$ . Agent Sokol bydlí domě  $D$  na kótě  $[1, 1, 1]$  a používá souřadnou soustavu s bází  $\{(0, 0, 1), (-1, 1, 2), (1, 0, 1)\}$ . Agent K žádá Sokola o schůzku v cihelně, která leží podle jeho souřadné soustavy v bodě  $[1, 1, 0]$ . Kam má přijít Sokol (podle jeho souřadnic)?

**Řešení.** Matice přechodu od báze agenta K k Sokolově bázi (při stejných počátcích) je

$$T = \begin{pmatrix} -4 & 2 & -1 \\ 1 & 0 & 1 \\ 2 & -1 & 1 \end{pmatrix} \quad \boxed{4.8}$$

Vektor  $(0, 1, 2)$  má tedy souřadnice  $T \cdot (0, 1, 2)^T = (0, 2, 1)^T$ , posunutím počátku (přičteme vektor  $(-1, 0, 1)$ ) dostáváme výsledek  $(-1, 2, 2)$ . □

**4.14.** Najděte příčku přímek (úsečku, jejíž jeden koncový bod leží na jedné z přímek, druhý pak na druhé z nich)

$$p : [1, 1, 1] + t(2, 1, 0), \quad q : [2, 2, 0] + t(1, 1, 1),$$

takovou, že příčka jí určená prochází bodem  $[1, 0, 0]$ .

**Řešení.**

Nalezneme průsečík hledané příčky s přímkou  $q$  (nazveme jej  $Q$ ). Hledaná příčka obsahuje nějaký bod na přímce  $p$  a bod  $[1, 0, 0]$ , nutně tedy leží v rovině  $\rho$  určené tímto bodem a přímkou  $p$ , tedy v rovině

$$[1, 1, 1] + t(2, 1, 0) + s(0, 1, 1).$$

Bod  $Q$  je pak průnikem této roviny s přímkou  $q$ . Ten nalezneme vyřešením soustavy

$$\begin{aligned} 1 + 2t &= 2 + u \\ 1 + t + s &= 2 + u \\ 1 + s &= u \end{aligned}$$

Levé strany rovnic reprezentují postupně všechny tři souřadnice libovolného bodu roviny  $\rho$ , pravé pak souřadnice libovolného bodu na  $q$

Jde o úsečku s krajními body určenými parametry  $\epsilon = 0$  (bod  $A_s$ ) a  $\epsilon = 1/(1 - t_s)$  (bod v konvexním obalu bodů  $A_1, \dots, A_{s-1}$ ). Bod  $A$  je vnitřním bodem této úsečky s parametrem  $\epsilon = 1$ . □

Konvexní obaly konečných množin bodů se nazývají *konvexní mnohostěny*. Jsou-li definující body  $A_0, \dots, A_k$  konvexního mnohostěnu v obecné poloze, dostáváme právě  $k$ -rozměrný *simplex*. V případě simplexu je vyjádření jeho bodů ve tvaru afinní kombinace definujících vrcholů jednoznačné.

Zvláštním příkladem jsou konvexní mnohostěny generované jedním bodem a konečně mnoha vektory: Necht  $u_1, \dots, u_k$  jsou libovolné vektory v zaměření  $\mathbb{R}^n$ ,  $A \in \mathcal{A}_n$  je libovolný bod. *Rovnoběžnostěn*  $\mathcal{P}_k(A; u_1, \dots, u_k) \subset \mathcal{A}_n$  je množina

$$\mathcal{P}_k(A; u_1, \dots, u_k) = \{A + c_1 u_1 + \dots + c_k u_k; 0 \leq c_i \leq 1\}.$$

Jsou-li vektory  $u_1, \dots, u_k$  nezávislé, hovoříme o  $k$ -rozměrném rovnoběžnostěnu  $\mathcal{P}_k(A; u_1, \dots, u_k) \subset \mathcal{A}_n$ . Z definice je zřejmé, že rovnoběžnostěny jsou konvexní. Ve skutečnosti jde o konvexní obaly jejich vrcholů.

**4.10. Příklady standardních afinních úloh.** (1) *K podprostoru zadanému implicitně nalézt parametrický popis a naopak:*

Nalezením partikulárního řešení nehomogenního systému a fundamentálního řešení zhomogenizovaného systému rovnic získáme (v souřadnicích, ve kterých byly rovnice zadány) právě hledaný parametrický popis. Naopak, zapíšeme-li parametrický popis v souřadnicích, můžeme volné parametry  $t_1, \dots, t_k$  vyeliminovat a získáme právě rovnice zadávající daný podprostor implicitně.

(2) *Nalézt podprostor generovaný několika podprostory  $\mathcal{Q}_1, \dots, \mathcal{Q}_s$  (obecně různých dimenzí, např. v  $R_3$  nalézt rovinu danou bodem a přímkou, třemi body apod.) a zadan jej implicitně či parametricky:*

Výsledný podprostor  $\mathcal{Q}$  je vždy určen jedním pevně zvoleným bodem  $A_i$  v každém z nich a součtem všech zaměření. Např.

$$\mathcal{Q} = A_1 + (Z(\{A_1, \dots, A_k\}) + Z(\mathcal{Q}_1) + \dots + Z(\mathcal{Q}_s)).$$

Pokud jsou podprostory zadané implicitně, je možné je nejdříve převést na parametrický tvar. V konkrétních situacích bývají funkční i jiné postupy. Všimněme si, že obecně je skutečně nutné využít jednoho bodu z každého podprostoru. Např. dvě paralelní příčky v rovině vygenerují celou rovinu, ale sdílí totéž jednorozměrné zaměření.

(3) *Nalézt průnik podprostorů  $\mathcal{Q}_1, \dots, \mathcal{Q}_s$ :*

Pokud jsou zadané v implicitním tvaru, stačí sjednotit všechny rovnice do jednoho systému (a případně vynechat lineárně závislé). Pokud je vzniklý systém neřešitelný, je průnik prázdný. V opačném případě získáme implicitní popis afinního podprostoru, který je hledaným průnikem.

Pokud máme dány parametrické tvary, můžeme také hledat přímo společné body jako řešení vhodných rovnic, podobně jako při hledání průniků vektorových podprostorů. Získáme tak přímo opět parametrický popis. Pokud je podprostorů více než dva, musíme průnik hledat postupně.

Máme-li jeden prostor zadaný parametricky a ostatní implicitně, stačí dosadit parametrizované souřadnice a řešit výsledný systém rovnic.

(4) *Nalezení přímky mimoběžek  $p, q$  v  $A_3$  procházející daným bodem nebo mající předem daný směr (tj. zaměření):*

Příčkou rozumíme přímku, která má neprázdný průnik s oběma mimoběžkami. Výsledná příčka  $r$  tedy bude jednorozměrným afinním podprostorem. Pokud máme zadán jeho bod  $A \in r$ , pak afinní podprostor generovaný  $p$  a  $A$  je buď přímka ( $A \in p$ ) nebo rovina ( $A \notin p$ ). V prvním případě máme nekonečně mnoho řešení, jedno pro každý bod  $z$   $q$ , v druhém stačí najít průnik  $B$  roviny  $\langle p \cup A \rangle$  s  $q$  a  $r = \langle \{A, B\} \rangle$ . Pokud je průnik prázdný, úloha nemá řešení, v případě že  $q \subset \langle p \cup A \rangle$ , máme opět nekonečně mnoho řešení, a pokud je průnik jednoprvkový, dostáváme právě jedno řešení.

Máme-li místo bodu dán směr  $u \in \mathbb{R}^n$ , tj. zaměření  $r$ , pak uvažujeme opět podprostor  $\mathcal{Q}$  generovaný  $p$  a zaměřením  $Z(p) + \langle u \rangle \subset \mathbb{R}^n$ . Opět, pokud  $q \subset \mathcal{Q}$ , máme nekonečně mnoho řešení, jinak uvažíme průnik  $\mathcal{Q}$  s  $q$  a úlohu dokončíme stejně jako v předchozím případě.

Řešení mnoha dalších standardních geometrických úloh spočívá v používání výše uvedených kroků.

4.9

**4.11. Afinní zobrazení.** Zobrazení  $f : \mathcal{A} \rightarrow \mathcal{B}$  mezi afinními prostory nazýváme *afinní zobrazení*, jestliže mezi jejich zaměřeními existuje lineární zobrazení  $\varphi : Z(\mathcal{A}) \rightarrow Z(\mathcal{B})$  takové, že pro všechny  $A \in \mathcal{A}$ ,  $v \in Z(\mathcal{A})$  platí

$$f(A + v) = f(A) + \varphi(v).$$

Zobrazení  $f$  a  $\varphi$  jsou jednoznačně zadána touto vlastností a libovolně zvolenými obrazy ( $\dim \mathcal{A} + 1$ ) bodů v obecné poloze.

Pro libovolnou afinní kombinaci bodů  $t_0 A_0 + \dots + t_s A_s \in \mathcal{A}$  pak dostaneme

$$\begin{aligned} f(t_0 A_0 + \dots + t_s A_s) &= \\ &= f(A_0 + t_1(A_1 - A_0) + \dots + t_s(A_s - A_0)) \\ &= f(A_0) + t_1 \varphi(A_1 - A_0) + \dots + t_s \varphi(A_s - A_0) \\ &= t_0 f(A_0) + t_1 f(A_1) + \dots + t_s f(A_s). \end{aligned}$$

Naopak, pokud pro nějaké zobrazení platí, že zachovává afinní kombinace, můžeme použít speciální případ kombinace dvou vektorů s koeficienty  $t_0 = 0$  a  $t_1 = 1$  pro definici zobrazení  $\varphi$  mezi zaměřeními. Pak lze číst předchozí výpočet v opačném pořadí a ověřit korektnost i linearitu  $\varphi$  a zjistíme, že se jedná o afinní zobrazení. Platí proto:

**Věta.** *Afinní zobrazení jsou právě ta zobrazení, která zachovávají afinní kombinace bodů.*

(volný parametr ve vyjádření přímky jsme nazvali  $u$ , abychom zamezili duplicitě proměnných). Vyřešením této soustavy získáme  $s = 2$ ,  $t = 2$ ,  $u = 3$  a dosazením například  $u = 3$  do rovnice přímky  $q$  dostaneme  $Q = [5, 5, 3]$  (stejný bod dostaneme i pokud dosadíme  $s = 2$ ,  $t = 2$ , do parametrického vyjádření roviny  $\rho$ ). Hledaná příčka je tedy dána bodem  $Q$  a bodem  $[1, 0, 0]$ . Snadno již dopočteme její průnik s přímkou  $p$ , bod  $P = [7/3, 5/3, 1]$ .  $\square$

**4.15.** Určete osu mimoběžek

$$\begin{aligned} p : & [3, 0, 3] + (0, 1, 2)t, \quad t \in \mathbb{R} \\ q : & [0, -1, -2] + (1, 2, 3)s \quad s \in \mathbb{R} \end{aligned}$$

**Řešení.** Jde o problém najít příčku se směrem kolmým jak na směrový vektor přímky  $p$ , tak na směrový vektor přímky  $q$ . Tento směr můžeme najít například vektorovým součinem těchto dvou vektorů, je to směr  $(1, -2, 1)$ . Nyní sestavíme soustavu lineárních rovnic reflektující požadavek, aby vektor určený nějakými dvěma body, jeden na přímce  $p$ , druhý na  $q$ , byl rovnoběžný se směrem  $(1, -2, 1)$ . Symbolicky tedy dostáváme soustavu  $P - Q = k(1, -2, 1)$ , neboli  $[3, 0, 3] + (0, 1, 2)t_p - [0, -1, -2] + (1, 2, 3)s_q = k(1, -2, 1)$ . Rozepsáním této rovnosti po souřadnicích, dostaneme

$$\begin{aligned} 3 - s &= k \\ 1 + t - 2s &= -2k \\ 5 + 2t - 3s &= k \end{aligned}$$

s řešeními  $t = 1$ ,  $s = 2$ ,  $k = 1$ . Dosazením  $t = 1$  do parametrického vyjádření přímky  $p$  dostáváme jeden bod osy, bod  $[3, 1, 5]$ , dosazením parametru  $s = 2$  do vyjádření přímky  $q$  pak bod  $[3, 1, 5]$ . Těmito dvěma body je určena hledaná osa.  $\square$

**4.16.** Nalezněte osu mimoběžek

$$p : [1, 1, 1] + t(2, 1, 0), \quad q : [2, 2, 0] + t(1, 1, 1).$$

## B. Eukleidovská geometrie

**4.17.** Určete vzdálenost přímek v  $\mathbb{R}^3$ .

$$p : [1, -1, 0] + t(-1, 2, 3), \quad a \quad q : [2, 5, -1] + t(-1, -2, 1).$$

**Řešení.** Vzdálenost je dána jako velikost kolmého průmětu libovolné příčky (spojnice) daných přímek do ortogonálního doplňku vektorového podprostoru generovaného jejich zaměřeními. Tento ortogonální doplněk zjistíme například pomocí vektorového součinu:

$$\begin{aligned} \langle (-1, 2, 3), (-1, -2, 1) \rangle^\perp &= \langle (-1, 2, 3) \times (-1, -2, 1) \rangle \\ &= \langle (8, -2, 4) \rangle = \langle (4, -1, 2) \rangle. \end{aligned}$$

Spojnicí daných přímek je například úsečka  $[1, -1, 0][2, 5, -1]$ , promítneme tedy vektor  $[1, -1, 0] - [2, 5, -1] = (-1, -6, 1)$ . Pro vzdálenost přímek pak dostáváme:

$$\rho(p, q) = \frac{|(-1, -6, 1) \cdot (4, -1, 2)|}{\|(4, -1, 2)\|} = \frac{4}{\sqrt{21}}.$$

□

**4.18.** Nalezněte bod  $A$  přímky

$$p : x + 2y + z - 1 = 0, \quad 3x - y + 4z - 29 = 0,$$

který má stejnou vzdálenost od bodů  $B = [3, 11, 4]$ ,  $C = [-5, -13, -2]$ .

**Řešení.** Nejprve vyjádříme přímku  $p$  parametricky tak, že vyřešíme soustavu rovnic

$$\begin{aligned} x + 2y + z &= 1, \\ 3x - y + 4z &= 29. \end{aligned}$$

Soustavu zapíšeme rozšířenou maticí a upravíme

$$\begin{aligned} \left( \begin{array}{ccc|c} 1 & 2 & 1 & 1 \\ 3 & -1 & 4 & 29 \end{array} \right) &\sim \left( \begin{array}{ccc|c} 1 & 2 & 1 & 1 \\ 0 & -7 & 1 & 26 \end{array} \right) \sim \boxed{4.10} \\ &\sim \left( \begin{array}{ccc|c} 1 & 0 & 9/7 & 59/7 \\ 0 & 1 & -1/7 & -26/7 \end{array} \right). \end{aligned}$$

Tím dostáváme vyjádření

$$p : \left[ \frac{59}{7}, -\frac{26}{7}, 0 \right] + t \left( -\frac{9}{7}, \frac{1}{7}, 1 \right), \quad t \in \mathbb{R}.$$

Odkud substitucí  $t = 7s + 26$  plyne

$$p : [-25, 0, 26] + s(-9, 1, 7), \quad s \in \mathbb{R}.$$

Bod  $A$  obdržíme volbou jistého  $s \in \mathbb{R}$ . Přitom vektory

$$A - B = (-28 - 9s, -11 + s, 22 + 7s),$$

$$A - C = (-20 - 9s, 13 + s, 28 + 7s)$$

mají mít stejnou délku, tj. má platit

$$\begin{aligned} \sqrt{(-28 - 9s)^2 + (-11 + s)^2 + (22 + 7s)^2} \\ = \sqrt{(-20 - 9s)^2 + (13 + s)^2 + (28 + 7s)^2}, \end{aligned}$$

resp.

$$\begin{aligned} (-28 - 9s)^2 + (-11 + s)^2 + (22 + 7s)^2 \\ = (-20 - 9s)^2 + (13 + s)^2 + (28 + 7s)^2. \end{aligned}$$

Úpravou poslední rovnice získáme  $s = -3$ . Je tak

$$A = [-25, 0, 26] - 3(-9, 1, 7) = [2, -3, 5].$$

Volbou afinních souřadnic  $(A_0, \underline{u})$  na  $\mathcal{A}$  a  $(B_0, \underline{v})$  na  $\mathcal{B}$  dostáváme souřadné vyjádření afinního zobrazení  $f : \mathcal{A} \rightarrow \mathcal{B}$ . Přímou z definice je zřejmé, že stačí vyjádřit obraz  $f(A_0)$  počátku souřadnic v  $\mathcal{A}$  v souřadnicích na  $\mathcal{B}$ , tj. vyjádřit vektor  $f(A_0) - B_0$  v bázi  $\underline{v}$  jako sloupec souřadnic  $y_0$  a vše ostatní je pak určeno násobením maticí zobrazení  $\varphi$  ve zvolených bazích a přičtením výsledku. Každé afinní zobrazení tedy v souřadnicích vypadá takto:

$$x \mapsto y_0 + Y \cdot x,$$

kde  $y_0$  je jako výše a  $Y$  je matice zobrazení  $\varphi$ .

Transformace afinních souřadnic odpovídá, obdobně jako u lineárních zobrazení, vyjádření identického zobrazení v zvolených afinních repérech. Změna souřadného vyjádření afinního zobrazení v důsledku změny bazí se snadno spočte pomocí násobení a sčítání. Skutečně, při změně báze na definičním oboru daném posunutím  $w$  a maticí  $M$  (od staré k nové), a na oboru hodnot posunutím  $w$  a maticí  $N$  (od nové ke staré) dostáváme

$$\begin{aligned} y' &= z + N \cdot y = z + N \cdot (y_0 + Y \cdot x) \\ &= (z + N \cdot y_0 + N \cdot Y \cdot w) + (N \cdot Y \cdot M) \cdot x'. \end{aligned}$$

**4.12. Euklidovské bodové prostory.** Zatím jsme pro naše elementární geometrické úvahy nepotřebovali pojem vzdálenosti nebo velikosti. V mnoha praktických úlohách ale velikost vektorů a odchylka vektorů, tak jak jsme je zavedli na samém konci třetí části druhé kapitoly (viz 2.40 a dále), hrají podstatnou roli. Ve skutečnosti se ale dodatečné informace týkají opravdu jen vektorů v zaměření, takže nám nezbyvá mnoho práce:

**Definice.** Standardní bodový euklidovský prostor  $\mathcal{E}_n$  je afinní prostor  $\mathcal{A}_n$ , jehož zaměřením je standardní euklidovský prostor  $\mathbb{R}^n$  se skalárním součinem

$$\langle x, y \rangle = y^T \cdot x.$$

*Kartézská souřadná soustava* je afinní souřadná soustava  $(A_0; \underline{u})$  s ortonormální bází  $\underline{u}$ .

*Vzdálenost bodů*  $A, B \in \mathcal{E}_n$  definujeme jako velikost vektoru  $\|B - A\|$ , budeme ji značit  $\rho(A, B)$ .

*Euklidovské podprostory* v  $\mathcal{E}_n$  jsou afinní podprostory jejichž zaměření uvažujeme spolu se zúženými skalárními součiny.

*Bodovým euklidovským prostorem*  $\mathcal{E}$  dimenze  $n$  pak obecně rozumíme afinní prostor, jehož zaměření je reálný  $n$ -rozměrný euklidovský vektorový prostor. Pojem kartézské souřadné soustavy má opět jasný smysl. Každá volba takové souřadné soustavy ovšem zadává ztotožnění  $\mathcal{E}$  se standardním prostorem  $\mathcal{E}_n$ . Proto se budeme v dalším, bez újmy na obecnosti, zabývat hlavně standardními euklidovskými prostory a jejich podprostory.

Z geometrického pohledu mají jednoduché vlastnosti skalárního součinu, jako jsou trojúhelníková nerovnost, Cauchyova nerovnost, Besselova nerovnost apod., odvozené ve

□

čtvrté části předchozí kapitoly, viz 3.22, velmi užitečné přímé důsledky:

4.13

**4.13. Věta.** Pro body  $A, B, C \in \mathcal{E}_n$  platí

- (1)  $\rho(A, B) = \rho(B, A)$
- (2)  $\rho(A, B) = 0$  právě, když  $A = B$
- (3)  $\rho(A, B) + \rho(B, C) \geq \rho(A, C)$
- (4) V každé kartézské souřadné soustavě  $(A_0; \underline{e})$  mají body

$$A = A_0 + a_1 e_1 + \dots + a_n e_n, \quad B = A_0 + b_1 e_1 + \dots + b_n e_n$$

$$\text{vzdálenost } \sqrt{\sum_{i=1}^n (a_i - b_i)^2}.$$

- (5) Je-li dán bod  $A$  a podprostor  $\mathcal{Q}$  v  $\mathcal{E}_n$ , pak existuje bod  $P \in \mathcal{Q}$  minimalizující vzdálenosti bodů  $\mathcal{Q}$  od  $A$ . Vzdálenost bodů  $A$  a  $P$  je rovna velikosti kolmého průmětu vektoru  $A - B$  do  $Z(\mathcal{Q})^\perp$  pro libovolný  $B \in \mathcal{Q}$ .
- (6) Obecněji, pro podprostory  $\mathcal{R}$  a  $\mathcal{Q}$  v  $\mathcal{E}_n$  existují bod  $P \in \mathcal{Q}$  a  $Q \in \mathcal{R}$  minimalizující vzdálenosti bodů  $B \in \mathcal{Q}$  a  $A \in \mathcal{R}$ . Vzdálenost bodů  $Q$  a  $P$  je rovna velikosti kolmého průmětu vektoru  $A - B$  do  $Z(\mathcal{Q})^\perp$  pro libovolné body  $B \in \mathcal{Q}$  a  $A \in \mathcal{R}$ .

**DŮKAZ.** První tři vlastnosti vyplývají přímo z vlastností velikosti vektorů v prostorech se skalárním součinem, čtvrtá plyne přímo z vyjádření skalárního součinu v libovolné ortonormální bázi.

Podívejme se na vztah pro minimalizaci vzdáleností  $\rho(A, B)$  pro  $B \in \mathcal{Q}$ . Vektor  $A - B$  se jednoznačně rozkládá na  $A - B = u_1 + u_2$ ,  $u_1 \in Z(\mathcal{Q})$ ,  $u_2 \in Z(\mathcal{Q})^\perp$ . Přitom  $u_2$  nezávisí na volbě  $B \in \mathcal{Q}$ , protože případná změna bodu  $B$  se projeví přičtením vektoru ze  $Z(\mathcal{Q})$ .

Nyní zvolme  $P = A + (-u_2) = B + u_1 \in \mathcal{Q}$ . Dostáváme

$$\|A - B\|^2 = \|u_1\|^2 + \|u_2\|^2 \geq \|u_2\|^2 = \|A - P\|.$$

Odtud již vyplývá, že nejmenší možné vzdálenosti je skutečně dosaženo, a to právě pro náš bod  $P$ . Vypočtená vzdálenost je skutečně  $\|u_2\|$ .

Obdobně ukážeme obecný výsledek. Pro volbu libovolných bodů  $A \in \mathcal{R}$  a  $B \in \mathcal{Q}$  je jejich rozdíl dán jako součet vektorů  $u_1 \in Z(\mathcal{R}) + Z(\mathcal{Q})$  a  $u_2 \in (Z(\mathcal{R}) + Z(\mathcal{Q}))^\perp$ , přičemž komponenta  $u_2$  nezávisí na volbě bodů. Přičtením vhodných vektorů ze zaměření  $\mathcal{R}$  a  $\mathcal{Q}$  zjevně obdržíme body  $A'$  a  $B'$ , jejichž vzdálenost je právě  $\|u_2\|$ .  $\square$

Rozšíříme nyní náš stručný přehled elementárních úloh v analytické geometrii.

**4.14. Příklady standardních úloh.** (1) Najděte vzdálenost bodu  $A \in \mathcal{E}_n$  od podprostoru  $\mathcal{Q} \subset \mathcal{E}_n$ :

Postup při řešení je dán ve větě 4.13.

(2) V  $\mathcal{E}_2$  vedte bodem  $A$  přímkou  $q$  svírající s danou přímkou  $p$  daný úhel:

Připomeňme, že na úrovni rovinné geometrie jsme s odchylkami vektorů již pracovali (viz např. 2.43). Najdeme vektor  $u \in \mathbb{R}^2$  ležící v zaměření přímky  $q$  a zvolíme vektor  $v$

**4.19.** V eukleidovském prostoru  $\mathbb{R}^4$  stanovte vzdálenost bodu  $A = [2, -5, 1, 4]$  od podprostoru

$$U : 4x_1 - 2x_2 - 3x_3 - 2x_4 + 12 = 0, \quad 2x_1 - x_2 - 2x_3 - 2x_4 + 9 = 0.$$

**Řešení.** Nejdříve nalezneme libovolný bod podprostoru  $U$  (řešení soustavy). Např. je

$$B = [0, 3, 0, 3] \in U.$$

Víme, že vzdálenost  $A$  od  $U$  se rovná velikosti kolmého průmětu vektoru  $A - B$  do ortogonálního doplňku zaměření podprostoru  $U$ . Ortogonální doplněk zaměření  $U$  ovšem známe (zadáva tento podprostor) – jako množinu (lineárních kombinací normálových vektorů)

$$V := \{t(4, -2, -3, -2) + s(2, -1, -2, -2); t, s \in \mathbb{R}\}.$$

Potřebujeme najít kolmý průmět  $P_{A-B}$  vektoru  $A - B$  do  $V$ , který náleží do  $V$ , a proto je

$$P_{A-B} = a(4, -2, -3, -2) + b(2, -1, -2, -2)$$

pro jisté hodnoty  $a, b \in \mathbb{R}$ . Zjevně musí platit  $(A - B - P_{A-B}) \perp V$ , tedy

$$((A - B) - P_{A-B}) \perp (4, -2, -3, -2),$$

$$((A - B) - P_{A-B}) \perp (2, -1, -2, -2).$$

Dosažením za  $A - B$  a  $P_{A-B}$  odsud vyplývá

$$\begin{aligned} ((2, -8, 1, 1) - a(4, -2, -3, -2) - b(2, -1, -2, -2)) \\ \cdot (4, -2, -3, -2) = 0, \end{aligned}$$

$$\begin{aligned} ((2, -8, 1, 1) - a(4, -2, -3, -2) - b(2, -1, -2, -2)) \\ \cdot (2, -1, -2, -2) = 0; \end{aligned}$$

tj.

$$\begin{aligned} (2, -8, 1, 1) \cdot (4, -2, -3, -2) \\ - a(4, -2, -3, -2) \cdot (4, -2, -3, -2) \\ - b(2, -1, -2, -2) \cdot (4, -2, -3, -2) = 0, \end{aligned}$$

$$\begin{aligned} ((2, -8, 1, 1) \cdot (2, -1, -2, -2)) \\ - a(4, -2, -3, -2) \cdot (2, -1, -2, -2) \\ - b(2, -1, -2, -2) \cdot (2, -1, -2, -2) = 0. \end{aligned}$$

Vyčíslíme-li tyto skalární součiny, obdržíme soustavu

$$\begin{aligned} 19 - 33a - 20b &= 0, \\ 8 - 20a - 13b &= 0, \end{aligned}$$

která má jediné řešení  $a = 3, b = -4$ . Je tudíž

$$P_{A-B} = 3(4, -2, -3, -2) - 4(2, -1, -2, -2) = (4, -2, -1, 2),$$

příčměž

$$\|P_{A-B}\| = \sqrt{4^2 + (-2)^2 + (-1)^2 + 2^2} = 5.$$

Připomeňme, že vzdálenost  $A$  od  $U$  je rovna  $\|P_{A-B}\| = 5$ .  $\square$

**4.20.** Ve vektorovém prostoru  $\mathbb{R}^4$  spočítejte vzdálenost  $v$  bodu  $[0, 0, 6, 0]$  od vektorového podprostoru

$$U : [0, 0, 0, 0] + t_1(1, 0, 1, 1) + t_2(2, 1, 1, 0) + t_3(1, -1, 2, 3),$$

$$t_1, t_2, t_3 \in \mathbb{R}$$

**Řešení.** Úlohu budeme řešit postupem založeným na tzv. problému nejmenších čtverců. Vektory generující  $U$  napíšeme do sloupců matice

$$A = \begin{pmatrix} 1 & 2 & 1 \\ 0 & 1 & -1 \\ 1 & 1 & 2 \\ 1 & 0 & 3 \end{pmatrix} \quad 4.15$$

a bod  $[0, 0, 6, 0]$  nahradíme jemu odpovídajícím vektorem  $b = (0, 0, 6, 0)^T$ . Budeme řešit soustavu  $A \cdot x = b$ , tj. soustavu lineárních rovnic

$$\begin{aligned} x_1 + 2x_2 + x_3 &= 0, \\ x_2 - x_3 &= 0, \\ x_1 + x_2 + 2x_3 &= 6, \\ x_1 + 3x_3 &= 0, \end{aligned}$$

právě metodou nejmenších čtverců. (Upozorníme, že tato soustava nemá řešení – jinak by vzdálenost byla rovna 0.) Systém  $A \cdot x = b$  vynásobíme zleva maticí  $A^T$ . Rozšířená matice soustavy  $A^T \cdot A \cdot x = A^T \cdot b$  pak je

$$\left( \begin{array}{ccc|c} 3 & 3 & 6 & 6 \\ 3 & 6 & 3 & 6 \\ 6 & 3 & 15 & 12 \end{array} \right).$$

Pomocí elementárních řádkových transformací ji postupně převedeme na schodovitý tvar

$$\left( \begin{array}{ccc|c} 3 & 3 & 6 & 6 \\ 3 & 6 & 3 & 6 \\ 6 & 3 & 15 & 12 \end{array} \right) \sim \left( \begin{array}{ccc|c} 3 & 3 & 6 & 6 \\ 0 & 3 & -3 & 0 \\ 0 & -3 & 3 & 0 \end{array} \right) \sim \left( \begin{array}{ccc|c} 1 & 1 & 2 & 2 \\ 0 & 1 & -1 & 0 \\ 0 & 0 & 0 & 0 \end{array} \right).$$

Provedeme-li ještě zpětnou eliminaci

$$\left( \begin{array}{ccc|c} 1 & 1 & 2 & 2 \\ 0 & 1 & -1 & 0 \\ 0 & 0 & 0 & 0 \end{array} \right) \sim \left( \begin{array}{ccc|c} 1 & 0 & 3 & 2 \\ 0 & 1 & -1 & 0 \\ 0 & 0 & 0 & 0 \end{array} \right),$$

můžeme ihned napsat řešení

$$x = (2 - 3t, t, t)^T, \quad t \in \mathbb{R}.$$

mající od  $u$  zadanou odchylku. Hledaná přímka je dána bodem  $A$  a zaměřením  $\langle v \rangle$ . Úloha má dvě nebo jedno řešení.

(3) *Spočítejte patu kolmice vedené bodem na danou přímku:*

Postup je uveden v důkazu předposledního bodu věty 4.13.

(4) *V  $\mathcal{E}_3$  určete vzdálenost dvou přímek  $p, q$ :*

Zvolíme libovolně jeden bod  $z$  každé přímky,  $A \in p, B \in q$ . Komponenta vektoru  $A - B$  v ortogonálním doplňku  $(Z(p) + Z(q))^\perp$  má velikost rovnu vzdálenosti  $p$  a  $q$ .

(5) *V  $\mathcal{E}_3$  najděte osu dvou mimoběžek  $p$  a  $q$ :*

Osou zde rozumíme přímku, která realizuje nejmenší možnou vzdálenost daných mimoběžek pomocí bodů průniku. Opět lze postup dovodit z důkazu věty 4.13 (poslední bod). Nechť  $\eta$  je podprostor generovaný jedním bodem  $A \in p$  a součtem  $Z(p) + (Z(p) + Z(q))^\perp$ . Pokud nejsou přímky  $p$  a  $q$  rovnoběžné, půjde o rovinu. Pak průnik  $\eta \cap q$  spolu se zaměřením  $(Z(p) + Z(q))^\perp$  dávají parametrický popis hledané osy. Pokud jsou přímky rovnoběžné, bude mít úloha nekonečně mnoho řešení.

**4.15. Odchylky.** Stejně jako vzdálenost, i řada dalších geometrických pojmů jako odchylky, orientace, objem apod. je v bodových prostorech  $\mathcal{E}_n$  zaváděna prostřednictvím vhodných pojmů ve vektorových euklidovských prostorech. Připomeňme, že odchylku dvou vektorů jsme definovali na konci třetí části druhé kapitoly, viz 2.43.

Skutečně, z Cauchyovy nerovnosti plyne  $0 \leq \frac{|u \cdot v|}{\|u\| \|v\|} \leq 1$ , měla tedy smysl definice *odchylky*  $\varphi(u, v)$  vektorů  $u, v \in V$  v reálném vektorovém prostoru se skalárním součinem vztahem

$$\cos \varphi(u, v) = \frac{u \cdot v}{\|u\| \|v\|}, \quad 0 \leq \varphi(u, v) \leq 2\pi.$$

To je zcela v souladu s praxí v dvourozměrném euklidovském prostoru  $\mathbb{R}^2$  a naší filozofií, že pojem týkající se dvou vektorů je ve své podstatě záležitostí dvourozměrné geometrie. Ve vícerozměrných prostorech je proto odchylka dvou vektorů vždy měřena v rovině, kterou tyto vektory generují (nebo je nula) a náš definiční vztah odpovídá zvyklostem ve všech dimenzích.

V libovolném reálném vektorovém prostoru se skalárním součinem přímo z definic plyne

$$\begin{aligned} \|u - v\|^2 &= \|u\|^2 + \|v\|^2 - 2(u \cdot v) \\ &= \|u\|^2 + \|v\|^2 - 2\|u\| \|v\| \cos \varphi(u, v). \end{aligned}$$

To je patrně dobře známá *kosinová věta* z rovinné geometrie.

Dále platí pro každou ortonormální bázi  $e$  zaměřením  $V$  a nenulový vektor  $u \in V$  vztah  $\|u\|^2 = \sum_i |u \cdot e_i|^2$ . Podělením této rovnice číslem  $\|u\|^2$  dostáváme

$$1 = \sum_i (\cos \varphi(u, e_i))^2,$$

což je obvyklé tvrzení o směrových kosinech  $\varphi(u, e_i)$  vektoru  $u$ .



Z definice odchylek vektorů nyní můžeme dovodit rozumné definice pro odchylky obecných podprostorů v libovolném euklidovském vektorovém prostoru. Je přitom třeba rozhodnutí, jak se stavět k případům, kdy podprostory mají netriviální průnik. Např. za odchylku dvou přímků budeme chtít patrně brát menší ze dvou možných úhlů, u dvou rovnoběžných rovin v  $\mathbb{R}^3$  nebudeme chtít slyšet, že mají odchylku nula, protože mají společný alespoň jeden směr:

4.16

**4.16. Definice.** Necht'  $U_1, U_2$  jsou konečněrozměrné podprostory v euklidovském vektorovém prostoru  $V$  libovolné dimenze. *Odchylka podprostorů*  $U_1, U_2$  je reálné číslo  $\alpha = \varphi(U_1, U_2) \in [0, \frac{\pi}{2}]$  splňující:

(1) Je-li  $\dim U_1 = \dim U_2 = 1, U_1 = \langle u \rangle, U_2 = \langle v \rangle$ , pak

$$\cos \alpha = \frac{|u \cdot v|}{\|u\| \|v\|}.$$

(2) Jsou-li dimenze  $U_1, U_2$  kladné a  $U_1 \cap U_2 = \{0\}$ , pak je odchylka minimem všech odchylek jednorozměrných podprostorů

$$\alpha = \min\{\varphi(\langle u \rangle, \langle v \rangle); 0 \neq u \in U_1, 0 \neq v \in U_2\}.$$

Ukážeme v zápětí, že takové minimum skutečně vždy existuje.

(3) Je-li  $U_1 \subset U_2$  nebo  $U_2 \subset U_1$  (zejména je-li jeden z nich nulový), je  $\alpha = 0$ .

(4) Je-li  $U_1 \cap U_2 \neq \{0\}$  a  $U_1 \neq U_1 \cap U_2 \neq U_2$ , pak

$$\alpha = \varphi(U_1 \cap (U_1 \cap U_2)^\perp, U_2 \cap (U_1 \cap U_2)^\perp).$$

*Odchylka podprostorů*  $\mathcal{Q}_1, \mathcal{Q}_2$  v bodovém euklidovském prostoru  $\mathcal{E}_n$  se definuje jako odchylka jejich zaměření  $Z(\mathcal{Q}_1), Z(\mathcal{Q}_2)$ .

Všimněme si, že odchylka je vždy dobře definována, zejména v posledním případě je

$$(U_1 \cap (U_1 \cap U_2)^\perp) \cap (U_2 \cap (U_1 \cap U_2)^\perp) = \{0\}$$

můžeme tedy opravdu odchylku určit podle bodu (2). Všimněme si také, že v případě  $U_1 \cap U_2 = \{0\}$ , jsou  $U_1$  a  $U_2$  kolmé podle našich dřívějších definic právě, když jejich odchylka je  $\pi/2$ . Pokud však mají netriviální průnik, nemohou být kolmé v dřívějším smyslu.

Ke korektnosti definice zbývá ukázat, že ve skutečnosti vždy existují vektory  $u \in U_1, v \in U_2$ , pro které nabývá výraz pro odchylku požadovaného minima. Nejdříve speciální případ:

4.14

**4.17. Lemma.** Necht'  $v$  je vektor v euklidovském prostoru  $V$  a  $U \subset V$  libovolný podprostor. Označme  $v_1 \in U, v_2 \in U^\perp$  (jednoznačně určené) komponenty vektoru  $v$ , tj.  $v = v_1 + v_2$ . Pak pro odchylku  $\varphi$  podprostoru generovaného  $v$  od  $U$  platí

$$\cos \varphi(\langle v \rangle, U) = \cos \varphi(\langle v \rangle, \langle v_1 \rangle) = \frac{\|v_1\|}{\|v\|}.$$

Dodejme, že existence nekonečně mnoha řešení je zapříčiněna nadbytečností třetího ze zadávajících vektorů podprostoru  $U$ , neboť je

$$3(1, 0, 1, 1) - (2, 1, 1, 0) = (1, -1, 2, 3).$$

Libovolná ( $t \in \mathbb{R}$ ) lineární kombinace

$$(2 - 3t)(1, 0, 1, 1) + t(2, 1, 1, 0) + t(1, -1, 2, 3) = (2, 0, 2, 2)$$

však odpovídá bodu  $[2, 0, 2, 2]$  podprostoru  $U$ , který je nejbližší bodu  $[0, 0, 6, 0]$ . Pro hledanou vzdálenost proto platí

$$v = \|[2, 0, 2, 2] - [0, 0, 6, 0]\| = \sqrt{2^2 + 0 + (-4)^2 + 2^2} = 2\sqrt{6}.$$

□

**4.21.** Spočítejte objem rovnoběžnostěnu v  $\mathbb{R}^3$  s podstavou v rovině  $z = 0$  a s hranami zadanými dvojicemi vrcholů  $[0, 0, 0], [-2, 3, 0]; [0, 0, 0], [4, 1, 0]$  a  $[0, 0, 0], [5, 7, 3]$ .

**Řešení.** Rovnoběžnostěn je zadán vektory  $(4, 1, 0), (-2, 3, 0), (5, 7, 3)$ . Víme, že jeho objem je roven determinantu

$$\begin{vmatrix} 4 & -2 & 5 \\ 1 & 3 & 7 \\ 0 & 0 & 3 \end{vmatrix} = 3 \begin{vmatrix} 4 & -2 \\ 1 & 3 \end{vmatrix} = 3 \cdot 14 = 42.$$

Doplňme, že při změnách pořadí vektorů bychom obdrželi výsledek  $\pm 42$ , neboť determinant udává *orientovaný* objem rovnoběžnostěnu. Ještě poznamenejme, že objem rovnoběžnostěnu by se dle výpočtu determinantu nezměnil, pokud by třetí vektor byl  $[a, b, 3]$  pro libovolná čísla  $a, b \in \mathbb{R}$ . Jeho objem pochopitelně závisí pouze na kolmé vzdálenosti rovin dolní a horní podstavy a jejich obsahu

$$\begin{vmatrix} 4 & -2 \\ 1 & 3 \end{vmatrix} = 14.$$

□

**4.22.** Je dán rovnoběžník  $[0, 0, 1], [2, 1, 1], [3, 3, 1], [1, 2, 1]$ . Určete bod  $X$  na přímce  $p : [0, 0, 1] + (1, 1, 1)t$  tak, aby rovnoběžnostěn určený daným rovnoběžníkem a bodem  $X$  měl objem 1.

**Řešení.** Sestavíme determinant udávající objem rovnoběžnostěnu při pohyblivém bodu  $X$ :

$$\begin{vmatrix} t & t & t \\ 2 & 1 & 0 \\ 1 & 2 & 0 \end{vmatrix}.$$

Podmínka, že má být roven jedné dává  $t = 1/3$ .

□

**4.23.** Nechť je dána krychle  $ABCDEFGH$  (při obvyklém významu zápisu, tedy vektory  $E-A$ ,  $F-B$ ,  $G-C$ ,  $H-D$  jsou kolmé na rovinu určenou vrcholy  $A, B, C, D$ ) v eukleidovském prostoru  $\mathbb{R}^3$ . Vypočtěte odchylku  $\varphi$  vektorů  $F-A$  a  $H-A$ .

**Řešení.** Tento příklad jsme již jednou řešili pomocí vzorce z definice odchylky. Nyní se zkusme zamyslet. Uvažované body  $A, F, H$  jsou vrcholy trojúhelníku, jehož všechny strany jsou úhlopříčkami stěn krychle. Jedná se tudíž o rovnostranný trojúhelník. Odtud plyne, že  $\varphi = \pi/3$ .  $\square$

**4.24.** Označme  $S$  střed hrany  $AB$  krychle  $ABCDEFGH$  (v obvyklém označení). Určete kosinus odchylky přímk  $ES$  a  $BG$ .

4.14a

**Řešení.** Vzhledem k tomu, že homotetie (stejnolehlost) je podobným zobrazením, tj. zachovává úhly, můžeme předpokládat, že krychle má hranu velikosti 1. Umístíme-li navíc bod  $A$  do počátku souřadné soustavy a body  $B$ , resp.  $E$  do bodů o souřadnicích  $[1, 0, 0]$ , resp.  $[0, 0, 1]$ , pak mají zbylé uvažované body následující souřadnice:  $S = [1/2, 0, 0]$ ,  $G = [1, 1, 1]$ , tedy vektor  $ES = (1/2, 0, -1)$  a  $BG = (0, 1, 1)$ . Pro hledaný kosinus odchylky  $\varphi$  tedy máme

$$\cos(\varphi) = \left| \frac{(1/2, 0, -1) \cdot (0, 1, 1)}{\|(1/2, 0, -1)\| \|(0, 1, 1)\|} \right| = \frac{\sqrt{2}}{\sqrt{5}}$$

 $\square$ 

**4.25.** Určete odchylku přímky  $p$  zadané implicitně rovnicemi

$$\begin{aligned} x + 3y + z &= 0, \\ -x - y + z &= 0 \end{aligned}$$

od roviny  $\varrho : x + y + 2z + 1 = 0$ .

**Řešení.** Vidíme, že normálový vektor roviny  $\varrho$  je  $(1, 1, 2)$ . Sečtení rovnic zadávajících přímku  $p$  při opsání první z nich dává

$$\begin{aligned} x + 3y + z &= 0, \\ 2y + 2z &= 0. \end{aligned}$$

Odsud plyne, že  $y = -z$  a  $x = 2z$ . Vektor  $(2, -1, 1)$  je proto směrovým vektorem přímky  $p$ ; jinak řečeno, můžeme zapsat ( $p$  očividně prochází počátkem)

$$p : [0, 0, 0] + t(2, -1, 1), \quad t \in \mathbb{R}.$$

Pro úhel  $\varphi$  vektorů  $(1, 1, 2)$ ,  $(2, -1, 1)$  platí

$$\cos \varphi = \frac{2 - 1 + 2}{\sqrt{6} \cdot \sqrt{6}} = \frac{1}{2}.$$

Je tedy  $\varphi = 60^\circ$ . To je ovšem velikost úhlu, který svírá směrový vektor  $p$  s normálovým vektorem  $\varrho$ . Hledaný úhel je doplňkem tohoto úhlu, a tak je výsledek  $30^\circ = 90^\circ - 60^\circ$ .  $\square$

**DŮKAZ.** Pro všechny vektory  $u \in U$  platí díky Cauchyově nerovnosti

$$\begin{aligned} \frac{|u \cdot v|}{\|u\| \|v\|} &= \frac{|u \cdot (v_1 + v_2)|}{\|u\| \|v\|} = \frac{|u \cdot v_1|}{\|u\| \|v\|} \\ &\leq \frac{\|u\| \|v_1\|}{\|u\| \|v\|} = \frac{\|v_1\|}{\|v\|} = \frac{\|v_1\|^2}{\|v\| \|v_1\|} = \frac{|v_1 \cdot v|}{\|v\| \|v_1\|}. \end{aligned}$$

Odtud plyne

$$\cos \varphi(\langle v \rangle, \langle u \rangle) \leq \cos \varphi(\langle v \rangle, \langle v_1 \rangle) = \frac{\|v_1\|}{\|v\|}$$

a námi nalezený vektor  $v_1$  tedy představuje největší možnou hodnotu pro kosinus úhlu mezi všemi volbami vektorů z  $U$ . Protože je funkce  $\cos$  na intervalu  $[0, \frac{\pi}{2}]$  klesající, dostáváme tak nejmenší možný úhel a tvrzení je dokázané.  $\square$

**4.18. Výpočet odchylek.** Postupu v předchozím lemmatu můžeme rozumět tak, že jednorozměrný podprostor generovaný vektorem  $v$  kolmo promítneme do podprostoru  $U$  a podíváme se, jak moc se obrazy zmenšují. Podle toho pak poznáme odchylku. Podobný postup použijeme ve vyšších dimenzích také. Potíž je přitom ale s rozpoznáním, které směry nám svými průměty odchylku skutečně prozradí. V našem předchozím případě to můžeme dobře vidět, pokud nešikovně budeme promítat větší prostor  $U$  do jednorozměrného  $\langle v \rangle$  a pak kolmo zpět do  $U$ . Zjistíme, že odchylku poznáme podle směru vlastního vektoru takového zobrazení, jeho vlastní číslo bude kvadrátem příslušného kosinu úhlu.

Uvažujme tedy dva obecné podprostory  $U_1, U_2$  v eukleidovském vektorovém prostoru  $V$ , předpokládejme  $U_1 \cap U_2 = \{0\}$ , a zvolme pevně ortonormální báze  $e, e'$  celého prostoru  $V$  tak, aby  $U_1 = \langle e_1, \dots, e_k \rangle$ ,  $U_2 = \langle e'_1, \dots, e'_l \rangle$ .

Uvažujme kolmý průmět  $\varphi$  prostoru  $V$  na  $U_2$ , jeho zúžení na  $U_1$  budeme opět značit  $\varphi : U_1 \rightarrow U_2$ . Zobrazení  $\psi : U_2 \rightarrow U_1$  nechť vznikne podobně z kolmého průmětu na  $U_1$ . Tato zobrazení mají v bazích  $(e_1, \dots, e_k)$  a  $(e'_1, \dots, e'_l)$  matice

$$A = \begin{pmatrix} e_1 \cdot e'_1 & \dots & e_k \cdot e'_1 \\ \vdots & & \vdots \\ e_1 \cdot e'_l & \dots & e_k \cdot e'_l \end{pmatrix}, \quad B = \begin{pmatrix} e'_1 \cdot e_1 & \dots & e'_l \cdot e_1 \\ \vdots & & \vdots \\ e'_1 \cdot e_k & \dots & e'_l \cdot e_k \end{pmatrix}$$

Protože jde o skalární součiny na reálném vektorovém prostoru, platí  $e_i \cdot e'_j = e'_j \cdot e_i$  pro všechny indexy  $i, j$  a proto zejména platí  $B = A^T$ .

Složené zobrazení  $\psi \circ \varphi : U_1 \rightarrow U_1$  má tedy symetrickou pozitivně semidefinitní matici  $A^T A$  a  $\psi$  je zobrazení adjungované k  $\varphi$ . Viděli jsme, že každé takové zobrazení má pouze nezáporná reálná vlastní čísla a že má ve vhodné ortonormální bázi diagonální matici s těmito vlastními čísly na diagonále, viz 3.25 a 3.27.

Nyní můžeme odvodit obecný postup pro výpočet odchylky  $\alpha = \varphi(U_1, U_2)$ .

**Věta.** V předchozím označení nechť  $\lambda$  je největší vlastní hodnota matice  $A^T A$ . Pak  $\cos^2 \alpha = \lambda$

**DŮKAZ.** Nechť  $u \in U_1$  je vlastní vektor zobrazení  $\psi \circ \varphi$  příslušný největší vlastní hodnotě  $\lambda$ . Uvažme všechna vlastní čísla  $\lambda_1, \dots, \lambda_k$  (včetně násobnosti) a nechť  $\underline{u} = (u_1, \dots, u_n)$  je příslušná ortonormální báze  $U_1$  z vlastních vektorů. Můžeme přímo předpokládat, že  $\lambda = \lambda_1, u = u_1$ . Potřebujeme ukázat, že odchylka libovolného  $v \in U_1$  od  $U_2$  je nejméně tak velká jako odchylka  $u$  od  $U_2$ . Tzn. že kosinus příslušného úhlu nesmí být větší. Podle předchozího lemmatu stačí diskutovat odchylku  $u$  a  $\varphi(u) \in U_2$  a přitom víme, že  $\|u\| = 1$ . Zvolme tedy  $v \in U_1, v = a_1u_1 + \dots + a_ku_k, \sum_{i=1}^k a_i^2 = \|v\|^2 = 1$ . Pak

$$\begin{aligned} \|\varphi(v)\|^2 &= \varphi(v) \cdot \varphi(v) = (\psi \circ \varphi(v)) \cdot v \\ &\leq \|\psi \circ \varphi(v)\| \|v\| = \|\psi \circ \varphi(v)\|. \end{aligned}$$

Předchozí lemma navíc dává i vzorec pro odchylku  $\alpha$  vektoru  $v$  od podprostoru  $U_2$

$$\cos \alpha = \frac{\|\varphi(v)\|}{\|v\|} = \|\varphi(v)\|.$$

Protože jsme zvolili za  $\lambda_1$  největší z vlastních hodnot a součet kvadrátů souřadnic  $a_i^2$  je jedna, dostáváme

$$\begin{aligned} (\cos \alpha)^2 &= \|\varphi(v)\|^2 \leq \|\psi \circ \varphi(v)\|^2 = \sum_{i=1}^k (\lambda_i a_i)^2 = \\ &= \sqrt{\lambda_1^2 + \sum_{i=1}^k a_i^2 (\lambda_i^2 - \lambda_1^2)} \leq \sqrt{\lambda_1^2}. \end{aligned}$$

Při  $v = u$  dostáváme ovšem přesně  $\|\varphi(v)\|^2 = \lambda_1^2 \|v\|^2 = \lambda_1^2$  a tedy odchylka dosahuje pro tento vektor minimální možné hodnoty. Tím je věta dokázána.  $\square$

4.21

**4.19. Počítání objemu.** S náznakem počítání objemu jsme se již setkali v rovinné geometrii v konci páté části první kapitoly (viz 1.34). Zjistili jsme přitom, že podstatným pojmem je přitom tzv. orientace, kterou jsme si mohli představit jako rozhodnutí, zda se na naši rovinu  $\mathbb{R}^2$  díváme zhora či zezdola. Rozdíl je přitom v pořadí standardních bázových vektorů  $e_1$  a  $e_2$  na jednotkové kružnici.

Stejně postupujeme obecně. Říkáme, že dvě báze  $\underline{u}$  a  $\underline{v}$  reálného vektorového prostoru  $V$  určují stejnou orientaci, jestliže má matice přechodu mezi nimi kladný determinant. Formálněji vzato, orientací reálného vektorového prostoru  $V$  tedy rozumíme třídu ekvivalence bází  $\underline{u}$  vzhledem k ekvivalenci, kterou jsme pomocí znaménka determinantu právě zavedli. Ekvivalentním bázím v tomto smyslu také říkáme souhlasné se zvolenou orientací.

Přímo z definice pak vyplývá, že na každém vektorovém prostoru jsou právě dvě orientace. Z každé souhlasné báze získáme snadno nesouhlasnou pomocí libovolné matice přechodu se záporným determinantem.

Vektorový prostor se zvolenou orientací nazýváme *orientovaný vektorový prostor*.

**4.26.** V reálné rovině nalezněte přímku, která prochází bodem  $[-3, 0]$  a s přímkou

$$p : \sqrt{3}x + 3y + 5 = 0$$

svírá úhel  $60^\circ$ .

**Řešení.** Nejprve si uvědomme, že podmínkám úlohy musí vyhovovat právě dvě přímky. Obecná rovnice přímky v rovině má tvar

$$ax + by + c = 0, \quad \text{přičemž lze volit } a^2 + b^2 = 1.$$

Nalezněme tedy taková čísla  $a, b, c \in \mathbb{R}$ , aby byly splněny uvedené podmínky. Dosadíme-li  $x = -3, y = 0$  do této rovnice (přímka má procházet bodem  $[-3, 0]$ ), dostaneme  $c = 3a$ . Podmínka, že přímka má svírat úhel  $60^\circ$  s přímkou  $p$ , potom dává

$$\frac{1}{2} = \cos 60^\circ = \frac{|\sqrt{3}a + 3b|}{\sqrt{12}}, \quad \text{tj. } \sqrt{3} = |\sqrt{3}a + 3b|.$$

Další úpravou obdržíme

$$\pm 1 = a + \sqrt{3}b \quad \text{a umocněním } 1 = a^2 + 3b^2 + 2\sqrt{3}ab.$$

Využijeme-li  $a^2 + b^2 = 1$ , získáme

$$0 = 2b^2 + 2\sqrt{3}ab, \quad \text{tj. } 0 = b(b + \sqrt{3}a).$$

Celkem tak máme možnosti (připomeňme, že  $c = 3a$  a  $a^2 + b^2 = 1$ )

$$a = \pm 1, \quad b = 0, \quad c = \pm 3; \quad a = \pm \frac{1}{2}, \quad b = \mp \frac{\sqrt{3}}{2}, \quad c = \pm \frac{3}{2}.$$

Snadno se ověří, že těmito koeficienty určené přímky

$$x + 3 = 0, \quad \frac{1}{2}x - \frac{\sqrt{3}}{2}y + \frac{3}{2} = 0$$

zadání skutečně vyhovují.  $\square$

**4.27.** Určete obecnou rovnici všech rovin, které svírají odchylku  $60^\circ$  s rovinou  $x + y + z - 1 = 0$  a obsahují přímku  $p : [1, 0, 0] + t(1, 1, 0)$ .

**4.28.** Určete odchylku rovin

$$\sigma : [1, 0, 2] + (1, -1, 1)t + (0, 1, -2)s$$

$$\rho : [3, 3, 3] + (1, -2, 0)t + (0, 1, 1)s$$

**Řešení.** Průsečnice má směrový vektor  $(1, -1, 1)$ , kolmá rovina na ni má pak s danými rovinami průniky generované vektory  $(1, 0, -1)$  a  $(0, 1, 1)$ . Tyto jednorozměrné podprostory svírají úhel  $60^\circ$ .  $\square$

**4.29.** Je dána krychle  $ABCD A' B' C' D'$  (ve standardním označení, tj.  $ABCD$  a  $A' B' C' D'$  jsou stěny,  $AA'$  pak hrana). Určete odchylku vektorů  $AB'$  a  $AD'$ .

**Řešení.** Uvažujme krychli o hraně 1 a umístěme ji v  $\mathbb{R}^3$  tak, že bod  $A$  bude mít ve standardní bázi souřadnice  $[0, 0, 0]$ , bod  $B$  pak souřadnice  $[1, 0, 0]$  a bod  $C$  souřadnice  $[1, 1, 0]$ . Potom má bod  $B'$  souřadnice  $[1, 0, 1]$  a bod  $D'$  souřadnice  $[0, 1, 1]$ . Pro vyšetřované vektory tedy můžeme psát  $AB' = B' - A = [1, 0, 1] - [0, 0, 0] = (1, 0, 1)$ ,  $AD' = D' - A = [0, 1, 1] - [0, 0, 0] = (0, 1, 1)$ . Podle definice odchylky  $\varphi$  těchto vektorů je pak

$$\cos(\varphi) = \frac{(1, 0, 1) \cdot (0, 1, 1)}{\|(1, 0, 1)\| \|(0, 1, 1)\|} = \frac{1}{2},$$

tedy  $\varphi = 60^\circ$ . □

**4.30.** Nyní ukážeme jednoduché využití Cauchyovy nerovnosti. Dokažte, že pro každé  $n \in \mathbb{N}$  a pro libovolná kladná čísla  $x_1, x_2, \dots, x_n \in \mathbb{R}$  platí

$$n^2 \leq \left( \frac{1}{x_1} + \frac{1}{x_2} + \dots + \frac{1}{x_n} \right) \cdot (x_1 + x_2 + \dots + x_n).$$

Poté uveďte, kdy nastává rovnost.

**Řešení.** Postačuje uvážit Cauchyovu nerovnost

$$|u \cdot v| \leq \|u\| \|v\|$$

v eukleidovském prostoru  $\mathbb{R}^n$  pro vektory

$$u = \left( \frac{1}{\sqrt{x_1}}, \frac{1}{\sqrt{x_2}}, \dots, \frac{1}{\sqrt{x_n}} \right), \quad v = (\sqrt{x_1}, \sqrt{x_2}, \dots, \sqrt{x_n}).$$

Takto dostaneme

$$(4.1) \quad n \leq \sqrt{\frac{1}{x_1} + \frac{1}{x_2} + \dots + \frac{1}{x_n}} \cdot \sqrt{x_1 + x_2 + \dots + x_n}.$$

Dokazovanou nerovnost potom obdržíme umocněním (4.1). Dále víme, že Cauchyova nerovnost přejde v rovnost, právě když bude vektor  $u$  násobkem vektoru  $v$ , což již implikuje  $x_1 = x_2 = \dots = x_n$ . □

**4.31.** Jsou dány vektory  $\underline{u} = (u_1, u_2, u_3)$  a  $\underline{v} = (v_1, v_2, v_3)$ . Doplňte je třetím jednotkovým vektorem tak, aby rovnoběžnostěn daný těmito třemi vektory měl co největší objem.

**Řešení.** Označme hledaný jednotkový vektor jako  $\underline{t} = (t_1, t_2, t_3)$ . Podle Tvzení ?? je objem rovnoběžnostěnu  $\mathcal{P}_3(0; \underline{u}, \underline{v}, \underline{t})$  dán jako absolutní hodnota determinantu

$$\begin{vmatrix} u_1 & v_1 & t_1 \\ u_2 & v_2 & t_2 \\ u_3 & v_3 & t_3 \end{vmatrix} = \begin{vmatrix} t_1 & t_2 & t_3 \\ u_1 & u_2 & u_3 \\ v_1 & v_2 & v_3 \end{vmatrix} = \underline{t} \cdot (\underline{u} \times \underline{v}) \leq \|\underline{t}\| \|\underline{u} \times \underline{v}\| = \|\underline{u} \times \underline{v}\|.$$

*Orientovaný (bodový) euklidovský prostor* je euklidovský bodový prostor, jehož zaměření je orientované. V dalším budeme uvažovat standardní  $\mathcal{E}_n$  spolu s orientací zadanou standardní bází  $\mathcal{R}^n$ .

Nechť  $u_1, \dots, u_k$  jsou libovolné vektory v zaměření  $\mathbb{R}^n$ ,  $A \in \mathcal{E}_n$  je libovolný bod. Rovnoběžnostěn  $\mathcal{P}_k(A; u_1, \dots, u_k) \subset \mathcal{E}_n$  jsme definovali jako příklad konvexní množiny

$$\mathcal{P}_k(A; u_1, \dots, u_k) = \{A + c_1 u_1 + \dots + c_k u_k; 0 \leq c_i \leq 1\}.$$

Jsou-li vektory  $u_1, \dots, u_k$  nezávislé, hovoříme o  $k$ -rozměrném rovnoběžnostěnu  $\mathcal{P}_k(A; u_1, \dots, u_k) \subset \mathcal{E}_n$ . Pro dané vektory  $u_1, \dots, u_k$  máme k dispozici také rovnoběžnostěny menších dimenzí

$$\mathcal{P}_1(A; u_1), \dots, \mathcal{P}_k(A; u_1, \dots, u_k)$$

v euklidovských podprostorech  $A + \langle u_1 \rangle, \dots, A + \langle u_1, \dots, u_k \rangle$ .

Jsou-li  $u_1, \dots, u_k$  lineárně závislé definujeme objem

$$\text{Vol } \mathcal{P}_k = 0.$$

Jinak uvažujeme jako při Grammově–Schmidtově ortogonalizaci

$$\langle u_1, \dots, u_k \rangle = \langle u_1, \dots, u_{k-1} \rangle \oplus \langle u_1, \dots, u_{k-1} \rangle^\perp \cap \langle u_1, \dots, u_k \rangle.$$

V tomto rozkladu se  $u_k$  jednoznačně vyjádří jako

$$u_k = u'_k + e_k$$

kde  $e_k \perp \langle u_1, \dots, u_{k-1} \rangle$ . Absolutní hodnotu objemu rovnoběžnostěnu definujeme induktivně tak, abychom naplnili představu, že jde o součin objemu „základny“ a „výšky“:

$$|\text{Vol } \mathcal{P}_1(A; u_1)| = \|u_1\|$$

$$|\text{Vol } \mathcal{P}_k(A; u_1, \dots, u_k)| = \|e_k\| |\text{Vol } \mathcal{P}_{k-1}(A; u_1, \dots, u_{k-1})|.$$

Je-li  $u_1, \dots, u_n$  báze souhlasná s orientací  $V$ , definujeme (orientovaný) objem rovnoběžnostěnu

$$\text{Vol } \mathcal{P}_k(A; u_1, \dots, u_n) = |\text{Vol } \mathcal{P}_k(A; u_1, \dots, u_n)|,$$

v případě neousuhlasné báze klademe

$$\text{Vol } \mathcal{P}_k(A; u_1, \dots, u_n) = -|\text{Vol } \mathcal{P}_k(A; u_1, \dots, u_n)|.$$

Následující tvrzení objasňuje naše dřívější poznámky, že determinant je v jistém smyslu nástroj vyjadřující objem. První tvrzení totiž říká právě, že na  $k$ -rozměrném prostoru dostaneme objem rovnoběžnostěnu nataženého na  $k$  vektorů tak, že jejich souřadnice (v ortonormální bázi) napíšeme do sloupců matice a spočteme determinant.

Výrazu ve druhém tvrzení se říká *Grammův determinant*. Jeho výhoda je, že je zcela nezávislý na volbě báze a zejména se s ním proto lépe pracuje v případě  $k$  menšího než je dimenze celého prostoru.

**Věta.** *Nechť  $\mathcal{Q} \subset \mathcal{E}_n$  je euklidovský podprostor a nechť  $(e_1, \dots, e_k)$  je jeho ortonormální báze. Pak pro libovolné vektory  $u_1, \dots, u_k \in Z(\mathcal{Q})$  a  $A \in \mathcal{Q}$  platí*

$$(1) \text{Vol } \mathcal{P}_k(A; u_1, \dots, u_k) = \det \begin{pmatrix} u_1 \cdot e_1 & \dots & u_k \cdot e_1 \\ \vdots & & \vdots \\ u_1 \cdot e_k & \dots & u_k \cdot e_k \end{pmatrix}$$

$$(2) (\text{Vol } \mathcal{P}_k(A; u_1, \dots, u_k))^2 = \det \begin{pmatrix} u_1 \cdot u_1 & \dots & u_k \cdot u_1 \\ \vdots & & \vdots \\ u_1 \cdot u_k & \dots & u_k \cdot u_k \end{pmatrix}$$

DŮKAZ. Matice

$$A = \begin{pmatrix} u_1 \cdot e_1 & \dots & u_k \cdot e_1 \\ \vdots & & \vdots \\ u_1 \cdot e_k & \dots & u_k \cdot e_k \end{pmatrix}$$

má ve sloupcích souřadnice vektorů  $u_1, \dots, u_k$  ve zvolené ortonormální bázi. Platí

$$|A|^2 = |A||A| = |A^T||A| = |A^T A|$$

$$= \det \begin{pmatrix} u_1 \cdot u_1 & \dots & u_k \cdot u_1 \\ \vdots & & \vdots \\ u_1 \cdot u_k & \dots & u_k \cdot u_k \end{pmatrix}.$$

Vidíme tedy, že pokud platí (1), platí i (2).

Přímo z definice je neorientovaný objem roven součinu

$$|\text{Vol } \mathcal{P}_k(A; u_1, \dots, u_k)| = \|v_1\| \|v_2\| \dots \|v_k\|,$$

kde  $v_1 = u_1$ ,  $v_2 = u_2 + a_1^2 v_1, \dots, v_k = u_k + a_1^k v_1 + \dots + a_{k-1}^k v_{k-1}$  je výsledek Gramova-Schmidtova ortogonalizačního procesu. Je tedy

$$(\text{Vol } \mathcal{P}_k(A; u_1, \dots, u_k))^2 = \det \begin{pmatrix} v_1 \cdot v_1 & 0 & \dots & 0 \\ \vdots & \ddots & & \\ 0 & 0 & \dots & v_k \cdot v_k \end{pmatrix}$$

$$= \det \begin{pmatrix} v_1 \cdot v_1 & \dots & v_k \cdot v_1 \\ \vdots & & \vdots \\ v_1 \cdot v_k & \dots & v_k \cdot v_k \end{pmatrix}.$$

Označme  $B$  matici jejíž sloupce jsou souřadnice vektorů  $v_1, \dots, v_k$  v ortonormální bázi  $\underline{e}$ . Protože  $v_1, \dots, v_k$  vznikly z  $u_1, \dots, u_k$  jako obrazy v lineární transformaci s horní trojúhelníkovou maticí  $C$  s jedničkami na diagonále, je  $B = CA$  a  $|B| = |C||A| = |A|$ . Pak ovšem  $|A|^2 = |B|^2 = |A||A|$ , proto  $\text{Vol } \mathcal{P}_k(A; u_1, \dots, u_k) = \pm|A|$ . Přitom pokud jsou vektory  $u_1, \dots, u_k$  závislé vyjde objem nulový, pokud jsou nezávislé, pak znaménko determinantu je kladné právě když je báze  $u_1, \dots, u_k$  kompatibilní s orientací danou bází  $\underline{e}$ .  $\square$

V geometrické formulaci dostáváme jako velice důležitý důsledek následující tvrzení:

**4.20. Důsledek.** Pro každé lineární zobrazení  $\varphi : V \rightarrow V$  euklidovského vektorového prostoru  $V$  je  $\det \varphi$  roven (orientovanému) objemu obrazu rovnoběžnostěnu určeného vektory ortonormální báze. Obecněji, obraz rovnoběžnostěnu  $\mathcal{P}$  určeného libovolnými  $\dim V$  vektory má objem roven  $\det \varphi$  násobku původního objemu.

Použité znaménko nerovnosti vyplývá z Cauchyovy nerovnosti, přičemž víme, že rovnost nastává právě pro  $\underline{t} = c(\underline{u} \times \underline{v})$ ,  $c \in \mathbb{R}$ . Velikost objemu hledaného rovnoběžnostěnu tedy může být maximálně rovna velikosti obsahu rovnoběžníka daného vektory  $\underline{u}$ ,  $\underline{v}$  (tj. velikosti vektoru  $(\underline{u} \times \underline{v})$ ). Rovnost nastane právě když

$$\underline{t} = \pm \frac{(\underline{u} \times \underline{v})}{\|(\underline{u} \times \underline{v})\|}.$$

$\square$

**4.32.** Určete patu kolmice spuštěné z bodu  $[0, 0, 7]$  na rovinu

$$\rho : [0, 5, 3] + (1, 2, 1)t + (-2, 1, 1)s.$$

**4.33.** V eukleidovském prostoru  $\mathbb{R}^5$  stanovte vzdálenost rovin

$$\varrho_1 : [7, 2, 7, -1, 1] + t_1(1, 0, -1, 0, 0) + s_1(0, 1, 0, 0, -1),$$

$$\varrho_2 : [2, 4, 7, -4, 2] + t_2(1, 1, 1, 0, 1) + s_2(0, -2, 0, 0, 3),$$

kde  $t_1, s_1, t_2, s_2 \in \mathbb{R}$ , a poté vzdálenost rovin

$$\sigma_1 : [0, 1, 2, 0, 0] + p_1(2, 1, 0, 0, 1) + q_1(-2, 0, 1, 1, 0),$$

$$\sigma_2 : [3, -1, 7, 7, 3] + p_2(2, 2, 4, 0, 3) + q_2(2, 0, 0, -2, -1),$$

kde  $p_1, q_1, p_2, q_2 \in \mathbb{R}$ .

**Řešení.** Příklad  $\varrho_1, \varrho_2$ . Nejprve určíme ortogonální doplněk součtu zaměření zadaných dvou rovin tak, že směrové vektory rovin napíšeme do řádků matice a tuto matici pomocí elementárních řádkových transformací převedeme na schodovitý tvar. Tím dostaneme

$$\begin{pmatrix} 1 & 0 & -1 & 0 & 0 \\ 0 & 1 & 0 & 0 & -1 \\ 1 & 1 & 1 & 0 & 1 \\ 0 & -2 & 0 & 0 & 3 \end{pmatrix} \sim \dots \sim \begin{pmatrix} 1 & 0 & -1 & 0 & 0 \\ 0 & 1 & 0 & 0 & -1 \\ 0 & 0 & 1 & 0 & 1 \\ 0 & 0 & 0 & 0 & 1 \end{pmatrix}.$$

Hledaný ortogonální doplněk tak je  $\langle(0, 0, 0, 1, 0)\rangle$ . (Pochopitelně bylo očividné, že vektor  $(0, 0, 0, 1, 0)$  náleží do uvažovaného ortogonálního doplněku. Úpravou na schodovitý tvar jsme v ak zjistili, že ortogonální doplněk je jednodimenzionální.) Vzdálenost rovin je rovna velikosti kolmého průmětu vektoru  $A_1 - A_2$  do podprostoru  $\langle(0, 0, 0, 1, 0)\rangle$  pro libovolné body  $A_1 \in \varrho_1$ ,  $A_2 \in \varrho_2$ . Zvolme kupř.  $A_1 = [7, 2, 7, -1, 1]$ ,  $A_2 = [2, 4, 7, -4, 2]$ . Zřejmě je kolmý průmět  $A_1 - A_2 = (5, -2, 0, 3, -1)$  do  $\langle(0, 0, 0, 1, 0)\rangle$  roven  $(0, 0, 0, 3, 0)$ . Velikost vektoru  $(0, 0, 0, 3, 0)$  dává výslednou vzdálenost 3.

Příklad  $\sigma_1, \sigma_2$ . Součet zaměření rovin  $\sigma_1, \sigma_2$  je generován směrovými vektory. Označme je

$$u_1 = (2, 1, 0, 0, 1), \quad u_2 = (-2, 0, 1, 1, 0),$$

$$v_1 = (2, 2, 4, 0, 3), \quad v_2 = (2, 0, 0, -2, -1).$$

Nalezneme body  $X_1 \in \sigma_1$ ,  $X_2 \in \sigma_2$ , ve kterých se vzdálenost rovin  $\sigma_1$  a  $\sigma_2$  realizuje. Víme, že je

$$\begin{aligned} X_1 - X_2 &= [0, 1, 2, 0, 0] - [3, -1, 7, 7, 3] \\ &\quad + p_1 u_1 + q_1 u_2 - p_2 v_1 - q_2 v_2 \\ &= (-3, 2, -5, -7, -3) + p_1 u_1 + q_1 u_2 - p_2 v_1 - q_2 v_2 \end{aligned}$$

a že má platit

$$\begin{aligned} \langle X_1 - X_2, u_1 \rangle &= 0, & \langle X_1 - X_2, u_2 \rangle &= 0, \\ \langle X_1 - X_2, v_1 \rangle &= 0, & \langle X_1 - X_2, v_2 \rangle &= 0, \end{aligned}$$

tj.

$$\begin{aligned} \langle (-3, 2, -5, -7, -3), u_1 \rangle + p_1 \langle u_1, u_1 \rangle + q_1 \langle u_2, u_1 \rangle \\ - p_2 \langle v_1, u_1 \rangle - q_2 \langle v_2, u_1 \rangle = 0, \end{aligned}$$

$$\begin{aligned} \langle (-3, 2, -5, -7, -3), u_2 \rangle + p_1 \langle u_1, u_2 \rangle + q_1 \langle u_2, u_2 \rangle \\ - p_2 \langle v_1, u_2 \rangle - q_2 \langle v_2, u_2 \rangle = 0, \end{aligned}$$

$$\begin{aligned} \langle (-3, 2, -5, -7, -3), v_1 \rangle + p_1 \langle u_1, v_1 \rangle + q_1 \langle u_2, v_1 \rangle \\ - p_2 \langle v_1, v_1 \rangle - q_2 \langle v_2, v_1 \rangle = 0, \end{aligned}$$

$$\begin{aligned} \langle (-3, 2, -5, -7, -3), v_2 \rangle + p_1 \langle u_1, v_2 \rangle + q_1 \langle u_2, v_2 \rangle \\ - p_2 \langle v_1, v_2 \rangle - q_2 \langle v_2, v_2 \rangle = 0. \end{aligned}$$

Vyčíslením těchto skalárních součinů získáváme soustavu lineárních rovnic

$$\begin{aligned} 6p_1 - 4q_1 - 9p_2 - 3q_2 &= 7, \\ -4p_1 + 6q_1 + 6q_2 &= 6, \\ 9p_1 - 33p_2 - q_2 &= 31, \\ 3p_1 - 6q_1 - p_2 - 9q_2 &= -11, \end{aligned}$$

kterou vyřešíme pomocí řádkových transformací v maticovém zápisu

$$\left( \begin{array}{cccc|c} 6 & -4 & -9 & -3 & 7 \\ -4 & 6 & 0 & 6 & 6 \\ 9 & 0 & -33 & -1 & 31 \\ 3 & -6 & -1 & -9 & -11 \end{array} \right) \sim \dots \sim \left( \begin{array}{cccc|c} 1 & 0 & 0 & 0 & 0 \\ 0 & 1 & 0 & 0 & -1 \\ 0 & 0 & 1 & 0 & -1 \\ 0 & 0 & 0 & 1 & 2 \end{array} \right).$$

Řešením této soustavy je tedy čtveřice  $(p_1, q_1, p_2, q_2) = (0, -1, -1, 2)$ . Určili jsme

$$X_1 - X_2 = (-3, 2, -5, -7, -3) - u_2 + v_1 - 2v_2 = (-3, 4, -2, -4, 2).$$

Velikost vektoru  $(-3, 4, -2, -4, 2)$  a současně vzdálenost rovin  $\sigma_1$ ,  $\sigma_2$  činí

$$7 = \sqrt{(-3)^2 + 4^2 + (-2)^2 + (-4)^2 + 2^2}.$$

**4.21. Vnější a vektorový součin vektorů.** Předchozí úvahy úzce souvisí s tzv. vnějším tensorovým součinem vektorů. Nebudeme zacházet podrobně do této technicky poněkud nepřehledné oblasti, ale zmíníme alespoň případ vnějšího součinu  $n = \dim V$  vektorů  $u_1, \dots, u_n \in V$ .

Nechť  $(u_{1j}, \dots, u_{nj})^T$  jsou souřadná vyjádření vektorů  $u_j$  v nějaké pevně zvolené ortonormální bázi  $V$  a  $M$  nechť je matice s prvky  $(u_{ij})$ . Pak determinant  $|M|$  nezávisí na volbě báze a jeho hodnotu nazýváme *vnějším součinem vektorů*  $u_1, \dots, u_n$  a značíme  $[u_1, \dots, u_n]$ . Vnější součin je tedy právě orientovaný objem příslušného rovnoběžnostěnu, viz 4.19.

Přímo z definice nyní vyplývají užitečné vlastnosti vnějšího součinu

- (1) Zobrazení  $(u_1, \dots, u_n) \mapsto [u_1, \dots, u_n]$  je antisymetrické  $n$ -lineární zobrazení. Tzn., že je lineární ve všech argumentech a výměna dvou argumentů se vždy projeví změnou znaménka výsledku.
- (2) Vnější součin je nulový právě, když jsou vektory  $u_1, \dots, u_n$  lineárně závislé
- (3) Vektory  $u_1, \dots, u_n$  tvoří kladnou bázi právě, když je jejich vnější součin kladný.

V technických aplikacích ve  $\mathbb{R}_3$  se často používá velmi úzce související operace, tzv. vektorový součin, který dvojici vektorů přiřazuje vektor třetí.

Uvažme obecný euklidovský vektorový prostor  $V$  dimenze  $n \geq 2$  a vektory  $u_1, \dots, u_{n-1} \in V$ . Dosadíme-li těchto  $n - 1$  vektorů jako prvních  $n - 1$  argumentů  $n$ -lineárního zobrazení definovaného pomocí determinantu při výpočtu objemu výše, pak nám zůstane jeden volný argument, tj. lineární forma na  $V$ . Protože však máme k dispozici skalární součin, odpovídá každá lineární forma právě jednomu vektoru. Tento vektor  $v \in V$  nazveme *vektorový součin* vektorů  $u_1, \dots, u_{n-1}$ , tj. pro každý vektor  $w \in V$  platí

$$\langle v, w \rangle = [u_1, \dots, u_{n-1}, w].$$

Značíme  $v = u_1 \times \dots \times u_{n-1}$ .

Jsou-li v nějaké ortonormální bázi souřadnice našich vektorů  $v = (y_1, \dots, y_n)^T$ ,  $w = (x_1, \dots, x_n)^T$  a  $u_j = (u_{1j}, \dots, u_{nj})^T$ , naše definice má vyjádření

$$y_1 x_1 + \dots + y_n x_n = \begin{vmatrix} u_{11} & \dots & u_{1(n-1)} & x_1 \\ \vdots & & \vdots & \vdots \\ u_{n1} & \dots & u_{n(n-1)} & x_n \end{vmatrix}$$

Odtud je přímo vidět, že vektor  $v$  je zadán jednoznačně a jeho souřadnice spočteme formálním rozvojem tohoto determinantu podle posledního sloupce. Zároveň jsou přímo z definice očekávatelné následující vlastnosti vektorového součinu:

**Věta.** Pro vektorový součin  $v = u_1 \times \dots \times u_{n-1}$  platí

- (1)  $v \in \langle u_1, \dots, u_{n-1} \rangle^\perp$

- (2)  $v$  je nenulový vektor právě, když jsou vektory  $u_1, \dots, u_{n-1}$  lineárně nezávislé
- (3) velikost  $\|v\|$  vektorového součinu je rovna absolutní hodnotě objemu rovnoběžníku  $\mathcal{P}(0; u_1, \dots, u_{n-1})$
- (4)  $(u_1, \dots, u_{n-1}, v)$  je souhlasná báze orientovaného euklidovského prostoru  $V$ .

**DŮKAZ.** První tvrzení plyne přímo z definičního vztahu pro  $v$ , protože dosazením libovolného vektoru  $u_j$  za  $w$  máme nalevo skalární součin  $v \cdot u_j$  a napravo determinant s dvěma shodnými sloupci.

Hodnost matice s  $n - 1$  sloupci  $u_j$  je dána maximální velikostí nenulového minoru. Minory, které zadávají souřadnice vektorového součinu jsou stupně  $n - 1$  a tím je dokázáno tvrzení (2).

Jsou-li vektory  $u_1, \dots, u_{n-1}$  závislé, pak platí i (3). Nechť jsou tedy nezávislé,  $v$  je jejich vektorový součin a zvolme libovolnou ortonormální bázi  $(e_1, \dots, e_{n-1})$  prostoru  $\langle u_1, \dots, u_{n-1} \rangle$ . Z již dokázaného vyplývá, že existuje nějaký násobek  $(1/\alpha)v$ ,  $0 \neq \alpha \in \mathbb{R}$ , takový, že  $(e_1, \dots, e_k, (1/\alpha)v)$  je ortonormální báze celého  $V$ . Souřadnice našich vektorů v této bázi jsou

$$u_j = (u_{1j}, \dots, u_{(n-1)j}, 0)^T, \quad v = (0, \dots, 0, \alpha)^T.$$

Proto je vnější součin  $[u_1, \dots, u_{n-1}, v]$  roven (viz. definice vektorového součinu)

$$\begin{aligned} [u_1, \dots, u_{n-1}, v] &= \begin{vmatrix} u_{11} & \dots & u_{1(n-1)} & 0 \\ \vdots & & \vdots & \vdots \\ u_{(n-1)1} & \dots & u_{(n-1)(n-1)} & 0 \\ 0 & \dots & 0 & \alpha \end{vmatrix} \\ &= \langle v, v \rangle = \alpha^2. \end{aligned}$$

Rozvojem determinantu podle posledního sloupce zároveň obdržíme

$$\alpha^2 = \alpha \operatorname{Vol} \mathcal{P}(0; u_1, \dots, u_{n-1}).$$

Odtud už vyplývají obě zbylá tvrzení věty.  $\square$

## 2. Geometrie kvadratických forem

V analytické geometrii roviny jsou po přímkách jako další nejjednodušší křivky na řadě tzv. kuželosečky. Jsou v kartézských souřadnicích zadány kvadratickými rovnicemi a podle koeficientů poznáme, zda jde o kružnici, elipsu, parabolu nebo hyperbolu, případně ještě může jít o dvě přímky nebo bod (degenerované případy).

Uvidíme, že naše nástroje umožní vcelku účinnou klasifikaci takovýchto objektů v libovolných konečných dimenzích i práci s nimi.

**4.22. Kvadriky v  $\mathcal{E}_n$ .** V analogii k rovnicím kuželoseček v rovině začneme poznámkami o objektech v euklidovských bodových prostorech, které jsou v dané ortonormální bázi zadány kvadratickými rovnicemi, hovoříme o *kvadrikách*.

Vzdálenost  $\varrho_1$  od  $\varrho_2$  jsme určovali odlišným způsobem než vzdálenost  $\sigma_1$  od  $\sigma_2$ . Uvedené metody jsme samozřejmě mohli použít v obou případech. Zkusme znovu vypočítat vzdálenost rovin  $\sigma_1, \sigma_2$  postupem použitým k vyčíslení vzdálenosti rovin  $\varrho_1, \varrho_2$ . Hledejme tedy ortogonální doplněk vektorového podprostoru generovaného vektory

$$(2, 1, 0, 0, 1), \quad (-2, 0, 1, 1, 0), \quad (2, 2, 4, 0, 3), \quad (2, 0, 0, -2, -1).$$

Snadno získáme

$$\begin{pmatrix} 2 & 1 & 0 & 0 & 1 \\ -2 & 0 & 1 & 1 & 0 \\ 2 & 2 & 4 & 0 & 3 \\ 2 & 0 & 0 & -2 & -1 \end{pmatrix} \sim \dots \sim \begin{pmatrix} 1 & 0 & 0 & 0 & 3/2 \\ 0 & 1 & 0 & 0 & -2 \\ 0 & 0 & 1 & 0 & 1 \\ 0 & 0 & 0 & 1 & 2 \end{pmatrix},$$

odkud dostáváme ortogonální doplněk  $\langle (-3/2, 2, -1, -2, 1) \rangle$ , příp. jej raději zapišme jako  $\langle (3, -4, 2, 4, -2) \rangle$ . Připomeňme, že vzdálenost  $\sigma_1$  vůči  $\sigma_2$  se rovná velikosti kolmého průmětu vektoru (rozdílu libovolného bodu  $\sigma_1$  a libovolného bodu  $\sigma_2$ )

$$u = (3, -2, 5, 7, 3) = [3, -1, 7, 7, 3] - [0, 1, 2, 0, 0]$$

do tohoto ortogonálního doplněku. Označme zmíněný kolmý průmět  $u$  symbolem  $p_u$  a polo me  $v = (3, -4, 2, 4, -2)$ . Zřejmě je  $p_u = a \cdot v$  pro nějaké  $a \in \mathbb{R}$  a má platit

$$\langle u - p_u, v \rangle = 0, \quad \text{tj.} \quad \langle u, v \rangle - a \langle v, v \rangle = 0.$$

Vyčíslení dává  $49 - a \cdot 49 = 0$ . Je tudíž  $p_u = 1 \cdot v = v$  a vzdálenost rovin  $\sigma_1, \sigma_2$  je rovna

$$\|p_u\| = \sqrt{3^2 + (-4)^2 + 2^2 + 4^2 + (-2)^2} = 7.$$

Ukázalo se, že výpočet vzdálenosti pomocí ortogonálního doplněku součtu zaměření byl v předešlém příkladu „rychlejší cestou k výsledku“. Pro roviny  $\varrho_1$  a  $\varrho_2$  tomu bude nepochybně stejně. Druhá metoda ovšem dává body, ve kterých se vzdálenost realizuje (body, kde si jsou roviny nejbližší). Nalezneme proto s její pomocí takové body v případě rovin  $\varrho_1, \varrho_2$ . Označme

$$u_1 = (1, 0, -1, 0, 0), \quad u_2 = (0, 1, 0, 0, -1),$$

$$v_1 = (1, 1, 1, 0, 1), \quad v_2 = (0, -2, 0, 0, 3).$$

Body  $X_1 \in \varrho_1, X_2 \in \varrho_2$ , ve kterých se vzdálenost rovin realizuje, můžeme vyjádřit jako

$$X_1 = [7, 2, 7, -1, 1] + t_1 u_1 + s_1 u_2,$$

$$X_2 = [2, 4, 7, -4, 2] + t_2 v_1 + s_2 v_2,$$

a tedy

$$\begin{aligned} X_1 - X_2 &= [7, 2, 7, -1, 1] - [2, 4, 7, -4, 2] \\ &\quad + t_1 u_1 + s_1 u_2 - t_2 v_1 - s_2 v_2 \\ &= (5, -2, 0, 3, -1) + t_1 u_1 + s_1 u_2 - t_2 v_1 - s_2 v_2. \end{aligned}$$

Skalární součiny

$$\begin{aligned}\langle X_1 - X_2, u_1 \rangle &= 0, & \langle X_1 - X_2, u_2 \rangle &= 0, \\ \langle X_1 - X_2, v_1 \rangle &= 0, & \langle X_1 - X_2, v_2 \rangle &= 0\end{aligned}$$

pak vedou na soustavu lineárních rovnic

$$\begin{aligned}2t_1 &= -5, \\ 2s_1 &+ 5s_2 = 1, \\ -4t_2 &- s_2 = -2, \\ -5s_1 &- t_2 - 13s_2 = -1\end{aligned}$$

s jediným řešením  $t_1 = -5/2$ ,  $s_1 = 41/2$ ,  $t_2 = 5/2$ ,  $s_2 = -8$ . Získali jsem tak

$$\begin{aligned}X_1 &= [7, 2, 7, -1, 1] - \frac{5}{2}u_1 + \frac{41}{2}u_2 = \left[ \frac{9}{2}, \frac{45}{2}, \frac{19}{2}, -1, -\frac{39}{2} \right], \\ X_2 &= [2, 4, 7, -4, 2] + \frac{5}{2}v_1 - 8v_2 = \left[ \frac{9}{2}, \frac{45}{2}, \frac{19}{2}, -4, -\frac{39}{2} \right].\end{aligned}$$

Nyní ji snadno ověříme, že vzdálenost bodů  $X_1, X_2$  (a současně vzdálenost rovin  $\varrho_1, \varrho_2$ ) je  $\|X_1 - X_2\| = \|(0, 0, 0, 3, 0)\| = 3$ .  $\square$

**4.34.** Najděte průnik kolmé roviny spuštěné z bodu  $A = [1, 2, 3, 4] \in \mathbb{R}^4$  na rovinu

$$\varrho : [1, 0, 1, 0] + (1, 2, -1, -2)s + (1, 0, 0, 1)t, \quad s, t \in \mathbb{R}.$$

**Řešení.** Nalezneme nejprve kolmou rovinu k  $\varrho$ . Její zaměření bude kolmé na zaměření  $\varrho$ , pro vektory  $(a, b, c, d)$  patřící do jejího zaměření dostáváme tedy soustavu rovnic

$$\begin{aligned}(a, b, c, d) \cdot (1, 2, -1, -2) &= 0 \quad \equiv \quad a + 2b - c - 2d = 0 \\ (a, b, c, d) \cdot (1, 0, 0, 1) &= 0 \quad \equiv \quad a + d = 0.\end{aligned}$$

Její řešení je dvojdimenzionální vektorový prostor  $\langle (0, 1, 2, 0), (-1, 0, -3, 1) \rangle$ . Rovina  $\tau$  kolmá k rovině  $\varrho$  procházející bodem  $A$  má tedy parametrické vyjádření

$$\tau : [1, 2, 3, 4] + (0, 1, 2, 0)u + (-1, 0, -3, 1)v, \quad u, v \in \mathbb{R}.$$

Průnik rovin potom můžeme získat pomocí obou parametrických vyjádření. Pro parametry popisující průnik tedy dostáváme soustavu rovnic:

$$\begin{aligned}1 + s + t &= 1 - v \\ 2s &= 2 + u \\ 1 - s &= 3 + 2u - 3v \\ -2s + t &= 4 + v,\end{aligned}$$

kteřá má jediné řešení (musí tomu tak být, protože sloupce matice soustavy jsou dány lineárně nezávislými vektory zaměření obou rovin)  $s = -8/19$ ,  $t = 34/19$ ,  $u = -54/19$ ,  $v = -26/19$ . Dosazením hodnot parametrů  $s$  a  $t$  do parametrického vyjádření roviny  $\varrho$  pak dostaneme souřadnice průniku  $[45/19, -16/19, 11/19, 18/19]$  (stejný

Zvolme v  $\mathcal{E}_n$  pevně kartézskou souřadnou soustavu (tj. bod a ortonormální bázi zaměření) a uvažme obecnou kvadratickou rovnici pro souřadnice  $(x_1, \dots, x_n)^T$  bodů  $A \in \mathcal{E}_n$

$$\sum_{i,j=1}^n a_{ij}x_ix_j + \sum_{i=1}^n 2a_ix_i + a = 0,$$

kde bez újmy na obecnosti můžeme rovnou předpokládat symetrii  $a_{ij} = a_{ji}$ . Tuto rovnici můžeme zapsat jako  $f(u) + g(u) + a = 0$  pro kvadratickou formu  $f$  (tj. zúžení symetrické bilineární formy  $F$  na dvojice stejných argumentů), lineární formu  $g$  a skalár  $a \in \mathbb{R}$  a předpokládáme že alespoň jeden z koeficientů  $a_{ij}$  je nenulový (jinak by se jednalo o lineární rovnici popisující euklidovský podprostor).

Začněme s kvadratickou částí, tj. bilineární symetrickou formou  $f : \mathbb{R}^n \times \mathbb{R}^n \rightarrow \mathbb{R}$ . Stejně dobře můžeme přemýšlet o obecné symetrické bilineární formě na libovolném vektorovém prostoru.

Pro libovolnou bázi na tomto vektorovém prostoru bude hodnota  $f(x)$  na vektoru  $x = x_1e_1 + \dots + x_n e_n$  dána vztahem

$$f(x) = F(x, x) = \sum_{i,j} x_i x_j F(e_i, e_j) = x^T \cdot A \cdot x$$

kde  $A = (a_{ij})$  je symetrická matice s prvky  $a_{ij} = F(e_i, e_j)$ . Takovýmto zobrazením  $f$  říkáme *kvadratické formy* a výše uvedený vzorec pro hodnotu formy s použitím zvolených souřadnic se nazývá *analytický tvar* formy. Jestliže změníme bázi  $e_i$  na jinou bázi  $e'_1, \dots, e'_n$ , dostaneme pro stejný vektor jiné souřadnice  $x = S \cdot x'$  (zde  $S$  je příslušná matice přechodu) a tedy

$$f(x) = (S \cdot x')^T \cdot A \cdot (S \cdot x') = (x')^T \cdot (S^T \cdot A \cdot S) \cdot x'.$$

Předpokládejme opět, že je na našem vektorovém prostoru zadán skalární součin. Předchozí výpočet pak můžeme shrnout slovy, že matice bilineární formy  $F$  a tedy i kvadratické formy  $f$  se transformuje při změně souřadnic způsobem, který pro ortogonální změny souřadnic splývá s transformací matic zobrazení (skutečně, pak je  $S^{-1} = S^T$ ). Tento výsledek můžeme interpretovat také jako následující pozorování:

**Tvrzení.** *Nechť  $V$  je reálný vektorový prostor se skalárním součinem. Pak vztah*

$$\varphi \mapsto F, \quad F(u, u) = \langle \varphi(u), u \rangle$$

*zadává bijekci mezi symetrickými lineárními zobrazeními a kvadratickými formami na  $V$ .*

**DŮKAZ.** Skutečně, bilineární forma s pevně zadaným druhým argumentem je lineární formou  $\alpha_u = F(\cdot, u)$  a v přítomnosti skalárního součinu je nutně dána vztahem  $\alpha(u)(v) = v \cdot w$  pro vhodný vektor  $w$ . Klademe  $\varphi(u) = w$ . Přímo ze vztahu v souřadnicích výše pak vyplývá, že  $\varphi$  je lineární zobrazení s maticí  $A$ . Je tedy samoadjungované.  $\square$



Z tohoto tvrzení vyplývá okamžitý důsledek, že pro každou kvadratickou formu  $f$  existuje ortonormální báze zaměření, ve které má  $f$  diagonální matici (a diagonální hodnoty jsou jednoznačně určeny až na pořadí). Předpokládejme tedy přímo rovnici ve tvaru

$$\sum_{i=1}^n \lambda_i x_i^2 + \sum_{i=1}^n b_i x_i + b = 0.$$

V dalším kroku pro souřadnice  $x_i$  s  $\lambda_i \neq 0$  provedeme doplnění do čtverců, které „pohltní“ kvadráty i lineární členy týchž neznámých (tzv. Lagrangeův algoritmus, kterému se budeme obecněji věnovat níže). Tak nám zůstanou nejvýše ty neznámé, pro které byl jejich koeficient u kvadrátu nulový, a získáme tvar

$$\sum_{i=1}^n \lambda_i (x_i - p_i)^2 + \sum_{j \text{ splňující } \lambda_j = 0} b_j x_j + c = 0.$$

To odpovídá posunutí počátku souřadnic o vektor se souřadnicemi  $p_i$  a zároveň volbě báze zaměření tak, abychom dostali požadovaný diagonální tvar v kvadratické části. Ve výše odvozeném ztotožnění forem s symetrickými zobrazeními to znamená, že  $\varphi$  je diagonální na ortogonálním doplněku svého jádra. Pokud nám opravdu zůstaly nějaké lineární členy, můžeme upravit ortonormální bázi zaměření na jádru zobrazení  $\varphi$  tak, aby odpovídající lineární forma byla násobkem prvního prvku duální báze. Umíme tedy již dosáhnout výsledného tvaru

$$\sum_{i=1}^k \lambda_i y_i^2 + b y_{k+1} + c = 0,$$

kde  $k$  je hodnota matice kvadratické formy  $f$ . Pokud je  $b \neq 0$ , můžeme ještě další změnou počátku dosáhnout vynulování konstanty  $c$  v rovnici.

Celkem si tedy shrňme, že lineární člen se může (ale nemusí) objevit jen pokud je hodnota  $f$  menší než  $n$ ,  $c \in \mathbb{R}$  může být nenulové pouze když je  $b = 0$ . Výsledné rovnice nazýváme *kanonickými analytickými tvary* kvadrik.

**4.23. Příklad  $\mathcal{E}_2$ .** Pro ilustraci předchozího postupu projděme celou diskusi ještě jednou pro nejjednodušší případ netriviální dimenze. Původní rovnice má tvar

$$a_{11}x^2 + a_{22}y^2 + 2a_{12}xy + a_1x + a_2y + a = 0.$$

Volbou vhodné báze zaměření a následným doplněním čtverců dosáhneme tvaru (opět používáme stejného značení  $x, y$  pro nové souřadnice):

$$a_{11}x^2 + a_{22}y^2 + a_1x + a_2y + a = 0$$

kde  $a_i$  může být nenulové pouze v případě, že  $a_{ii}$  je nulové. Posledním krokem obecného postupu, tj. v dimenzi  $n = 2$  jen případnou volbou posunutí, dosáhneme právě jedné z rovnic:

výsledek pochopitelně obdržíme, dosadíme-li hodnoty parametrů  $u$  a  $v$  do parametrického vyjádření roviny  $\tau$ ).  $\square$

**4.35.** Bodem  $[1, 2] \in \mathbb{R}^2$  vedte přímku, která má odchylku  $30^\circ$  od přímky

$$p : [0, 1] + t(1, 1).$$

**Řešení.** Odchylka dvou přímek je dána úhlem, který svírají jejich směrové vektory. Stačí tedy najít směrový vektor  $\underline{v}$  hledané přímky. Ten získáme například rotací směrového vektoru přímky  $p$  o  $30^\circ$ . Matice rotace o  $30^\circ$  je

$$\begin{pmatrix} \cos 30^\circ & -\sin 30^\circ \\ \sin 30^\circ & \cos 30^\circ \end{pmatrix} = \begin{pmatrix} \frac{\sqrt{3}}{2} & -\frac{1}{2} \\ \frac{1}{2} & \frac{\sqrt{3}}{2} \end{pmatrix}.$$

Hledaný vektor  $\underline{v}$  je tedy

$$\underline{v} = \begin{pmatrix} \frac{\sqrt{3}}{2} & -\frac{1}{2} \\ \frac{1}{2} & \frac{\sqrt{3}}{2} \end{pmatrix} \begin{pmatrix} 1 \\ 1 \end{pmatrix} = \begin{pmatrix} \frac{\sqrt{3}}{2} - \frac{1}{2} \\ \frac{\sqrt{3}}{2} + \frac{1}{2} \end{pmatrix}.$$

Rotovat jsme mohli i v opačném smyslu. Hledaná přímka (jedna ze dvou možných) má tedy parametrické vyjádření

$$[1, 2] + \left( \frac{\sqrt{3}}{2} - \frac{1}{2}, \frac{\sqrt{3}}{2} + \frac{1}{2} \right) t.$$

$\square$

**4.36.** Určete  $\cos \alpha$ , kde  $\alpha$  je odchylka dvou sousedních stěn pravidelného osmistěnu (těleso, jehož stěny tvoří osm rovnostranných trojúhelníků).

**Řešení.** Odchylky libovolných dvou sousedních stěn jsou ze symetrie osmistěnu shodné. Rovněž tak nezáleží na jeho velikosti. Uvažujme osmistěn s délkou hrany 1, který je umístěn do standardní kartézské souřadné soustavy v  $\mathbb{R}^3$  tak, že jeho těžiště je v bodě  $[0, 0, 0]$ . Jeho vrcholy jsou pak v bodech  $A = [\frac{\sqrt{2}}{2}, 0, 0]$ ,  $B = [0, \frac{\sqrt{2}}{2}, 0]$ ,  $C = [-\frac{\sqrt{2}}{2}, 0, 0]$ ,  $D = [0, -\frac{\sqrt{2}}{2}, 0]$ ,  $E = [0, 0, -\frac{\sqrt{2}}{2}]$  a  $F = [0, 0, \frac{\sqrt{2}}{2}]$ .

Určeme odchylku stěn  $CDF$  a  $BCF$ . Ta je dána odchylkou vektorů kolmých na jejich průnik a ležících v daných stěnách, tedy vektorů kolmých na  $CF$ . Těmi jsou vektory dané výškami z bodů  $D$ , resp.  $F$  na stranu  $CF$  v trojúhelnících  $CDF$ , resp.  $BCF$ . Výšky v rovnostranném trojúhelníku splývají s těžnicemi, jedná se tedy o úsečky  $SD$  a  $SB$ , kde  $S$  je střed strany  $CF$ . Protože známe souřadnice bodů  $C$  a  $F$ , má bod  $S$  souřadnice  $[-\frac{\sqrt{2}}{4}, 0, \frac{\sqrt{2}}{4}]$  a pro vektory máme  $SD = (\frac{\sqrt{2}}{4}, -\frac{\sqrt{2}}{2}, -\frac{\sqrt{2}}{4})$  a  $SB = (\frac{\sqrt{2}}{4}, \frac{\sqrt{2}}{2}, -\frac{\sqrt{2}}{4})$ . Celkem

$$\cos \alpha = \frac{(\frac{\sqrt{2}}{4}, -\frac{\sqrt{2}}{2}, -\frac{\sqrt{2}}{4}) \cdot (\frac{\sqrt{2}}{4}, \frac{\sqrt{2}}{2}, -\frac{\sqrt{2}}{4})}{\|(\frac{\sqrt{2}}{4}, -\frac{\sqrt{2}}{2}, -\frac{\sqrt{2}}{4})\| \|(\frac{\sqrt{2}}{4}, \frac{\sqrt{2}}{2}, -\frac{\sqrt{2}}{4})\|} = -\frac{1}{3}.$$

Je tedy  $\alpha \doteq 132^\circ$ .  $\square$

**4.37.** V bodovém eukleidovském prostoru  $\mathbb{R}^5$  vypočítejte odchylku  $\varphi$  podprostorů  $U$ ,  $V$ , jestli e je

$$(a) \quad U : [3, 5, 1, 7, 2] + t(1, 0, 2, -2, 1), \quad t \in \mathbb{R}, \\ V : [0, 1, 0, 0, 0] + s(2, 0, -2, 1, -1), \quad s \in \mathbb{R};$$

$$(b) \quad U : [4, 1, 1, 0, 1] + t(2, 0, 0, 2, 1), \quad t \in \mathbb{R}, \\ V : x_1 + x_2 + x_3 + x_5 = 7;$$

$$(c) \quad U : 2x_1 - x_2 + 2x_3 + x_5 = 3, \\ V : x_1 + 2x_2 + 2x_3 + x_5 = -1;$$

$$(d) \quad U : [0, 1, 1, 0, 0] + t(0, 0, 0, 1, -1), \quad t \in \mathbb{R}, \\ V : [1, 0, 1, 1, 1] + r(1, -1, 2, 1, 0) + s(0, 1, 3, 2, 0) \\ + p(1, 0, 0, 1, 0) + q(1, 3, 1, 0, 0), \quad r, s, p, q \in \mathbb{R};$$

$$(e) \quad U : [0, 2, 5, 0, 0] + t(2, 1, 3, 5, 3) + s(0, 3, 1, 4, -2) \\ + r(1, 2, 4, 0, 3), \quad t, s, r \in \mathbb{R}, \\ V : [0, 0, 0, 0, 0] + p(-1, 1, 1, -5, 0) \\ + q(1, 5, 1, 13, -4), \quad p, q \in \mathbb{R};$$

$$(f) \quad U : [1, 1, 1, 1, 1] + t(1, 0, 1, 1, 1) + s(1, 0, 0, 1, 1), \quad t, s \in \mathbb{R}, \\ V : [1, 1, 1, 1, 1] + p(1, 1, 1, 1, 1) + q(1, 1, 0, 1, 1) \\ + r(1, 1, 0, 1, 0), \quad p, q, r \in \mathbb{R}.$$

**Řešení.** Nejdříve připomeňme, že odchylka afinních podprostorů je definována jako odchylka jejich zaměření, a proto při počítání  $\varphi$  nezohledňujeme posunutí vyjádřená přičtením bodu (příp. pravé strany soustav rovnic).

Varianta (a). Neboť oba podprostory  $U$  a  $V$  jsou jednodimenzionální, odchylka  $\varphi \in [0, \pi/2]$  je dána vzorcem

$$\cos \varphi = \frac{|(1,0,2,-2,1) \cdot (2,0,-2,1,-1)|}{\|(1,0,2,-2,1)\| \cdot \|(2,0,-2,1,-1)\|} = \frac{5}{\sqrt{10} \cdot \sqrt{10}}.$$

Je tedy  $\cos \varphi = 1/2$ , tj.  $\varphi = \pi/3$ .

Varianta (b). Známe směrový vektor  $(2, 0, 0, 2, 1)$  podprostoru  $U$  a normálový vektor  $(1, 1, 1, 0, 1)$  podprostoru  $V$ . Snadno můžeme stanovit úhel  $\psi = \pi/3$ , který svírají, a to ze vztahu

$$\cos \psi = \frac{(2,0,0,2,1) \cdot (1,1,1,0,1)}{\|(2,0,0,2,1)\| \cdot \|(1,1,1,0,1)\|} = \frac{3}{3 \cdot 2}.$$

Nyní si stačí uvědomit, e je  $\varphi = \pi/2 - \psi = \pi/6$  (odchylka  $\varphi$  je doplňkem úhlu  $\psi$ ).

Varianta (c). Nadroviny  $U$  a  $V$  jsou zadány pomocí normálových vektorů  $u = (2, -1, 2, 0, 1)$  a  $v = (1, 2, 2, 0, 1)$ . Zřejmě je odchylka  $\varphi$  rovna úhlu, který svírají přímky se směrovými vektory  $u$  a  $v$ . Platí tudíž (viz variantu (a))

$$\cos \varphi = \frac{|(2,-1,2,0,1) \cdot (1,2,2,0,1)|}{\|(2,-1,2,0,1)\| \cdot \|(1,2,2,0,1)\|} = \frac{1}{2}, \quad \text{tj.} \quad \varphi = \frac{\pi}{3}.$$

Varianta (d). Označme

$$\begin{array}{ll} 0 = x^2/a^2 + y^2/b^2 + 1 & \text{prázdná množina} \\ 0 = x^2/a^2 + y^2/b^2 - 1 & \text{elipsa} \\ 0 = x^2/a^2 - y^2/b^2 - 1 & \text{hyperbola} \\ 0 = x^2/a^2 - 2py & \text{parabola} \\ 0 = x^2/a^2 + y^2/b^2 & \text{bod} \\ 0 = x^2/a^2 - y^2/b^2 & \text{2 různoběžné přímky} \\ 0 = x^2 - a^2 & \text{2 rovnoběžné přímky} \\ 0 = x^2 & \text{2 splývající přímky} \\ 0 = x^2 + a^2 & \text{prázdná množina} \end{array}$$

Počátek kartézských souřadnic je *středem* zkoumané kuželosečky, nalezená ortonormální báze zaměření zadává směr *poloos*, výsledné koeficienty  $a, b$  pak dávají velikosti poloos v nedegenerovaných směrech.

**4.24. Afinní pohled.** V předchozích dvou odstavcích jsme hledali podstatné vlastnosti a standardizované analytické popisy objektů zadávaných v euklidovských prostorech kvadratickými rovnicemi. Hledali jsme přitom co nejjednodušší rovnice v mezích daných volností výběru kartézských souřadnic. Geometrická formulace našeho výsledku pak může být taková, že pro dva různé objekty – kvadriky, zadané v obecně různých kartézských souřadnicích, existuje *euklidovská transformace* na  $\mathcal{E}_n$  (tj. afinní bijektivní zobrazení zachovávající velikosti) tehdy a jen tehdy, pokud výše uvedený algoritmus vede na stejný analytický tvar, až na pořadí souřadnic. Navíc můžeme při našem postupu přímo získat kartézské souřadnice, kterých jsou naše objekty dány výslednými kanonickými tvary, a tím i explicitní vyjádření euklidovské transformace, která naše objekty na sebe převádí (jak víme bude vždy složena z operací posunutí, otočení a zrcadlení vůči nadrovině).

Pochopitelně se můžeme ptát, do jaké míry umíme podobnou věc v afinních prostorech s volností výběru jakékoliv afinní souřadné soustavy. Např. v rovině to bude znamenat, že neumíme rozlišit kružnici od elipsy, samozřejmě bychom ale měli odlišit hyperbolu a všechny ostatní typy kuželoseček. Hlavně ale splynou mezi sebou všechny hyperboly atd.

Ukážeme si hlavní rozdíl postupu na kvadratických formách a k záležitosti se pak ještě vrátíme ve třetí části této kapitoly.

Uvažme nějakou kvadratickou formu  $f$  na vektorovém prostoru  $V$  a její analytické vyjádření  $f(u) = x^T Ax$  vzhledem ke zvolené bázi na  $V$ . Pro vektor  $u = x_1 u_1 + \dots + x_n u_n$  pak také zapisujeme formu  $f$  ve tvaru

$$f(x_1, n) = \sum_{ij} a_{ij} x_i x_j,$$

V předchozích odstavcích jsme již s využitím skalárního součinu ukázali, že pro vhodnou bázi bude matice  $A$  diagonální, tj. že pro příslušnou symetrickou formu  $F$  bude platit  $F(u_i, u_j) = 0$  při  $i \neq j$ . Každou takovou bázi nazýváme *polární báze* kvadratické formy  $f$ . Samozřejmě si pro takový účel můžeme vždy skalární součin vybrat. Dokážeme

si ale toto tvrzení znovu bez využití skalárních součinů tak, že získáme daleko jednodušší algoritmus na to, jak takovou polární bázi najít mezi všemi bazemi. Tím se zároveň dovíme podstatné informace o afinních vlastnostech kvadratických forem. Následující věta bývá v literatuře uváděna pod názvem *Lagrangeův algoritmus*.

**Věta.** *Nechť  $V$  je reálný vektorový prostor dimenze  $n$ ,  $f: V \rightarrow \mathbb{R}$  kvadratická forma. Pak na  $V$  existuje polární báze pro  $f$ .*

**DŮKAZ.** (1) Nechť  $A$  je matice  $f$  v bázi  $\underline{u} = (u_1, \dots, u_n)$  na  $V$  a předpokládejme  $a_{11} \neq 0$ . Pak můžeme psát

$$f(x_1, \dots, x_n) = a_{11}x_1^2 + 2a_{12}x_1x_2 + \dots + a_{22}x_2^2 + \dots = a_{11}^{-1}(a_{11}x_1 + a_{12}x_2 + \dots + a_{1n}x_n)^2 + \text{členy neobsahující } x_1$$

Provedeme tedy transformaci souřadnic (tj. změnu báze) tak, aby v nových souřadnicích bylo

$$x'_1 = a_{11}x_1 + a_{12}x_2 + \dots + a_{1n}x_n, \quad x'_2 = x_2, \dots, x'_n = x_n.$$

To odpovídá nové bázi (spočtete si jako cvičení příslušnou matici přechodu!)

$$v_1 = a_{11}^{-1}u_1, \quad v_2 = u_2 - a_{11}^{-1}a_{12}u_1, \dots, v_n = u_n - a_{11}^{-1}a_{1n}u_1$$

a tak jak lze očekávat, v nové bázi bude příslušná symetrická bilinerární forma splňovat  $g(v_i, v_i) = 0$  pro všechny  $i > 0$  (přepočtete!). Má tedy  $f$  v nových souřadnicích analytický tvar  $a_{11}^{-1}x_1'^2 + h$ , kde  $h$  je kvadratická forma nezávislá na proměnné  $x_1$ .

Z technických důvodů bývá lepší zvolit v nové bázi  $v_1 = u_1$ , opět dostaneme výraz  $f = f_1 + h$ , kde  $f_1$  závisí pouze na  $x'_1$ , zatímco v  $h$  se  $x'_1$  nevyskytuje. Přitom pak  $g(v_1, v_1) = a_{11}$ .

(2) Předpokládejme, že po provedení kroku (1) dostaneme pro  $h$  matici (řádu o jedničku menšího) s koeficientem u  $x_2'^2$  různým od nuly. Pak můžeme zopakovat přesně stejný postup a získáme vyjádření  $f = f_1 + f_2 + h$ , kde v  $h$  vystupují pouze proměnné s indexem větším než dvě. Tak můžeme postupovat tak dlouho, až buď provedeme  $n-1$  kroků a získáme diagonální tvar, nebo v řekněme  $i$ -tém kroku bude prvek  $a_{ii}$  dosud získané matice nulový.

(3) Nastane-li poslední možnost, ale přitom existuje jiný prvek  $a_{jj} \neq 0$  s  $j > i$ , pak stačí přehodit  $i$ -tý prvek báze s  $j$ -tým a pokračovat podle předešlého postupu.

(4) Předpokládejme, že jsme narazili na situaci  $a_{jj} = 0$  pro všechny  $j \geq i$ . Pokud přitom neexistuje ani žádný jiný prvek  $a_{jk} \neq 0$  s  $j \geq i, k \geq i$ , pak jsme již úplně hotovi neboť jsme již dosáhli diagonální matici. Předpokládejme, že  $a_{jk} \neq 0$ . Použijeme pak transformaci  $v_j = u_j + u_k$ , ostatní vektory báze ponecháme (tj.  $x'_k = x_k - x_j$ , ostatní zůstávají). Pak  $h(v_j, v_j) = h(u_j, u_j) + h(u_k, u_k) + 2h(u_k, u_j) = 2a_{jk} \neq 0$  a můžeme pokračovat podle postupu v (1).  $\square$

$$u = (0, 0, 0, 1, -1), \quad v_1 = (1, -1, 2, 1, 0),$$

$$v_2 = (0, 1, 3, 2, 0), \quad v_3 = (1, 0, 0, 1, 0), \quad v_4 = (1, 3, 1, 0, 0)$$

a jako  $p_u$  označme ortogonální projekci (kolmý průmět) vektoru  $u$  do zaměření podprostoru  $V$  (do vektorového podprostoru generovaného vektory  $v_1, v_2, v_3, v_4$ ). Určíme-li  $p_u$ , ze vzorce

$$(4.2) \quad \cos \varphi = \frac{\|p_u\|}{\|u\|}$$

pak totiž obdržíme  $\varphi \in [0, \pi/2]$ . Víme, e

$$p_u = av_1 + bv_2 + cv_3 + dv_4 \quad \text{pro jisté hodnoty } a, b, c, d \in \mathbb{R}$$

a že má být

$$\begin{aligned} \langle p_u - u, v_1 \rangle &= 0, & \langle p_u - u, v_2 \rangle &= 0, \\ \langle p_u - u, v_3 \rangle &= 0, & \langle p_u - u, v_4 \rangle &= 0. \end{aligned}$$

Odtud (dosazením za  $p_u$ ) dostáváme systém lineárních rovnic

$$\begin{aligned} 7a + 7b + 2c &= 1, \\ 7a + 14b + 2c + 6d &= 2, \\ 2a + 2b + 2c + d &= 1, \\ 6b + c + 11d &= 0. \end{aligned}$$

Řešením této soustavy je  $(a, b, c, d) = (-8/19, 7/19, 13/19, -5/19)$ , a tak

$$\begin{aligned} p_u &= -\frac{8}{19}v_1 + \frac{7}{19}v_2 + \frac{13}{19}v_3 - \frac{5}{19}v_4 = (0, 0, 0, 1, 0), \\ \cos \varphi &= \frac{\|(0, 0, 0, 1, 0)\|}{\|(0, 0, 0, 1, -1)\|} = \frac{1}{\sqrt{2}} = \frac{\sqrt{2}}{2}. \end{aligned}$$

Je tedy  $\varphi = \pi/4$ .

Varianta (e). Stanovme průnik zaměření uvedených podprostorů. Vektor  $(x_1, x_2, x_3, x_4, x_5)$  nale í do zaměření  $U$ , právě kdy je

$$(x_1, x_2, x_3, x_4, x_5) =$$

$$t(2, 1, 3, 5, 3) + s(0, 3, 1, 4, -2) + r(1, 2, 4, 0, 3)$$

pro jistá  $t, s, r \in \mathbb{R}$ , a současně  $(x_1, x_2, x_3, x_4, x_5) \in V$  ( $V$  je svým zaměřením) tehdy a jenom tehdy, kdy je

$$(x_1, x_2, x_3, x_4, x_5) = p(-1, 1, 1, -5, 0) + q(1, 5, 1, 13, -4)$$

pro jistá  $p, q \in \mathbb{R}$ . Hledejme proto taková  $t, s, r, p, q \in \mathbb{R}$ , aby platilo

$$\begin{aligned} t(2, 1, 3, 5, 3) + s(0, 3, 1, 4, -2) + r(1, 2, 4, 0, 3) \\ = p(-1, 1, 1, -5, 0) + q(1, 5, 1, 13, -4). \end{aligned}$$

Jedná se o homogenní soustavu rovnic, kterou můžeme řešit v maticovém zápisu její levé strany (při pořadí proměnných  $t, s, r, p, q$ )

$$\begin{pmatrix} 2 & 0 & 1 & 1 & -1 \\ 1 & 3 & 2 & -1 & -5 \\ 3 & 1 & 4 & -1 & -1 \\ 5 & 4 & 0 & 5 & -13 \\ 3 & -2 & 3 & 0 & 4 \end{pmatrix} \sim \dots \sim \begin{pmatrix} 1 & 3 & 2 & -1 & -5 \\ 0 & 2 & 1 & -1 & -3 \\ 0 & 0 & 1 & -1 & 1 \\ 0 & 0 & 0 & 0 & 0 \\ 0 & 0 & 0 & 0 & 0 \end{pmatrix}.$$

Ukázalo se, e vektory zadávající podprostor  $V$  jsou lineární kombinací vektorů ze zaměření podprostoru  $U$ . To ovšem znamená, e  $V$  je podmnožinou zaměření  $U$ , a tudíž je  $\varphi = 0$ .

Varianta (f). Opět nalezneme průnik zaměření  $U$  a  $V$ . Analogicky jako v předešlé variantě hledíme čísla  $t, s, p, q, r \in \mathbb{R}$ , pro která je

$$t(1, 0, 1, 1, 1) + s(1, 0, 0, 1, 1) = \\ p(1, 1, 1, 1, 1) + q(1, 1, 0, 1, 1) + r(1, 1, 0, 1, 0).$$

Řešením této soustavy je  $(t, s, p, q, r) = (-a, a, -a, a, 0)$ ,  $a \in \mathbb{R}$ . Do průniku  $Z(U) \cap Z(V)$  zaměření  $U$  a  $V$  tak náleží právě vektory

$$(0, 0, -a, 0, 0) = -a(1, 0, 1, 1, 1) + a(1, 0, 0, 1, 1) \\ = -a(1, 1, 1, 1, 1) + a(1, 1, 0, 1, 1) + 0(1, 1, 0, 1, 0),$$

kde  $a \in \mathbb{R}$ , tj.  $Z(U) \cap Z(V)$  je podprostorem generovaným vektorem  $(0, 0, 1, 0, 0)$  a jeho ortogonální doplněk  $(Z(U) \cap Z(V))^\perp$  je zjevně generován vektory

$$(1, 0, 0, 0, 0), (0, 1, 0, 0, 0), (0, 0, 0, 1, 0), (0, 0, 0, 0, 1).$$

Zvláště dostáváme

$$Z(U) \cap Z(V) \neq \{0\}, \quad Z(U) \cap Z(V) \neq Z(U), \\ Z(U) \cap Z(V) \neq Z(V).$$

Odchylka  $\varphi$  je tedy definována jako odchylka podprostorů

$$Z(U) \cap (Z(U) \cap Z(V))^\perp \quad \text{a} \quad Z(V) \cap (Z(U) \cap Z(V))^\perp.$$

Dále je vidět, e je

$$Z(U) \cap (Z(U) \cap Z(V))^\perp = \langle (1, 0, 0, 1, 1) \rangle, \\ Z(V) \cap (Z(U) \cap Z(V))^\perp = \langle (1, 1, 0, 1, 1), (1, 1, 0, 1, 0) \rangle.$$

Postačuje totiž vyjádřit  $Z(U)$  jako lineární kombinaci vektorů

$$(0, 0, 1, 0, 0), (1, 0, 0, 1, 1)$$

a podprostor  $Z(V)$  pomocí vektorů

$$(0, 0, 1, 0, 0), (1, 1, 0, 1, 1), (1, 1, 0, 1, 0).$$

Protože dimenze prostoru  $Z(U) \cap (Z(U) \cap Z(V))^\perp$  je 1, můžeme použít vzorec (4.2), kde  $u = (1, 0, 0, 1, 1)$  a  $p_u$  je kolmá projekce  $u$  do  $Z(V) \cap (Z(U) \cap Z(V))^\perp$ . Má být

$$p_u = a(1, 1, 0, 1, 1) + b(1, 1, 0, 1, 0)$$

a má platit

$$\langle p_u - u, (1, 1, 0, 1, 1) \rangle = 0, \quad \langle p_u - u, (1, 1, 0, 1, 0) \rangle = 0,$$

což vede na soustavu rovnic

$$4a + 3b = 3, \\ 3a + 3b = 2$$

s jediným řešením  $a = 1$ ,  $b = -1/3$ . Tímto jsme určili

$$p_u = \left(\frac{2}{3}, \frac{2}{3}, 0, \frac{2}{3}, 1\right)$$

**4.25. Afinní klasifikace kvadratických forem.** Po výpočtu polární báze Lagrangeovým algoritmem můžeme ještě vylepšit bázové vektory pomocí násobení skalárem tak, aby v příslušném analytickém vyjádření naší formy vystupovaly v roli koeficientů u kvadrátů jednotlivých souřadnic pouze skaláry 1,  $-1$  a 0. Následující věta o setrvačnosti říká navíc, že počet jedniček a mínus jedniček nezávisí na našich volbách v průběhu algoritmu. Tyto počty nazýváme *signaturou kvadratické formy*. Opět tedy dostáváme úplný popis kvadratických forem ve smyslu, že dvě takové formy jsou převoditelná jedna na druhou pomocí afinní transformace tehdy a jen tehdy, když mají stejnou signaturu.

**Věta.** Pro každou nenulovou kvadratickou formu hodnosti  $r$  na reálném vektorovém prostoru  $V$  existuje celé číslo  $0 \leq p \leq r$  a  $r$  nezávislých lineárních forem  $\varphi_1, \dots, \varphi_r \in V^*$  takových, že

$f(u) = (\varphi_1(u))^2 + \dots + (\varphi_p(u))^2 - (\varphi_{p+1}(u))^2 - \dots - (\varphi_r(u))^2$ .  
Jinak řečeno, existuje polární báze, ve které má  $f$  analytické vyjádření

$$f(x_1, \dots, x_n) = x_1^2 + \dots + x_p^2 - x_{p+1}^2 - \dots - x_r^2.$$

Počet  $p$  kladných diagonálních koeficientů v matici dané kvadratické formy nezávisí na volbě polární báze.

Dvě symetrické matice  $A, B$  dimenze  $n$  jsou maticemi téže kvadratické formy v různých bazích právě, když mají stejnou hodnotu a když matice příslušných forem v polární bázi mají stejný počet kladných koeficientů.

**DŮKAZ.** Lagrangeovým algoritmem obdržíme  $f(x_1, \dots, x_n) = \lambda_1 x_1^2 + \dots + \lambda_r x_r^2$ ,  $\lambda_i \neq 0$ , v jisté bázi na  $V$ . Předpokládejme navíc, že právě prvních  $p$  koeficientů  $\lambda_i$  je kladných. Pak transformace  $y_1 = \sqrt{\lambda_1} x_1, \dots, y_p = \sqrt{\lambda_p} x_p, y_{p+1} = \sqrt{-\lambda_{p+1}} x_{p+1}, \dots, y_r = \sqrt{-\lambda_r} x_r, y_{r+1} = x_{r+1}, \dots, y_n = x_n$  již vede na požadovaný tvar. Formy  $\varphi_i$  pak jsou právě formy z duální báze ve  $V^*$  k získané polární bázi. Musíme ale ještě ukázat, že  $p$  nezávisí na našem postupu. Předpokládejme, že se nám podařilo najít vyjádření téže formy  $f$  v polárních bazích  $\underline{u}, \underline{v}$ , tj.

$$f(x_1, \dots, x_n) = x_1^2 + \dots + x_p^2 - x_{p+1}^2 - \dots - x_r^2 \\ f(y_1, \dots, y_n) = y_1^2 + \dots + y_q^2 - y_{q+1}^2 - \dots - y_r^2$$

a označme podprostor generovaný prvními  $p$  vektory první báze  $P = \langle u_1, \dots, u_p \rangle$ , a obdobně  $Q = \langle v_{q+1}, \dots, v_n \rangle$ . Pak pro každý  $u \in P$  je  $f(u) > 0$  zatímco pro  $v \in Q$  je  $f(v) \leq 0$ . Nutně tedy platí  $P \cap Q = \{0\}$  a proto  $\dim P + \dim Q \leq n$ . Odtud plyne  $p + (n - q) \leq n$ , tj.  $p \leq q$ . Opačnou volbou podprostorů však získáme i  $q \leq p$ .

Je tedy  $p$  nezávislé na volbě polární báze. Pak ovšem pro dvě matice se stejnou hodnotou a stejným počtem kladných koeficientů v diagonálním tvaru příslušné kvadratické formy získáme stejný analytický tvar.  $\square$

Při diskusi symetrických zobrazení jsme hovořili o definitních a semidefinitních zobrazeních. Tatáž diskuse má jasný

smysl i pro symetrické bilineární formy a kvadratické formy. Kvadratickou formu  $f$  forma na reálném vektorovém prostoru  $V$  nazýváme

- (1) *pozitivně definitní*, je-li  $f(u) > 0$  pro všechny  $u \neq 0$
- (2) *pozitivně semidefinitní*, je-li  $f(u) \geq 0$  pro všechny  $u \in V$
- (3) *negativně definitní*, je-li  $f(u) < 0$  pro všechny  $u \neq 0$
- (4) *negativně semidefinitní*, je-li  $f(u) \leq 0$  pro všechny  $u \in V$
- (5) *indefinitní*, je-li  $f(u) > 0$  a  $f(v) < 0$  pro vhodné  $u, v \in V$ .

Stejně názvy používáme i pro symetrické reálné matice, jsou-li maticemi patřičných kvadratických forem. Signaturou symetrické matice pak rozumíme signaturu příslušné kvadratické formy.

### 3. Projektivní geometrie

V mnoha elementárních textech o analytické geometrii autoři končí afinními a euklidovskými objekty popsanými výše. Na mnoho praktických úloh euklidovská nebo afinní geometrie stačí, na jiné bohužel ale nikoliv.

Tak třeba při zpracovávání obrazu z kamery nejsou zachovávány úhly a rovnoběžné přímky se mohou (ale nemusí) protínat. Dalším dobrým důvodem pro hledání širšího rámce geometrických úloh a úvah je požadovaná robustnost a jednoduchost numerických operací. Daleko jednodušší jsou totiž operace prováděné prostým násobením matic a velice těžko se totiž od sebe odlišují malinké úhly od nulových, proto je lepší mít nástroje, které takové odlišení nevyžadují.

Základní ideou projektivní geometrie je rozšíření afinních prostorů o body v nekonečnu způsobem, který bude dobře umožňovat manipulace s lineárními objekty typu bodů, přímek, rovin, projekcí, apod.

**4.26. Projektivní rozšíření afinní roviny.** Začneme tím nejjednodušším zajímavým případem, geometrií v rovině. Jestliže si body roviny  $\mathcal{A}_2$  představíme jako rovinu  $z = 1$  v  $\mathbb{R}^3$ , pak každý bod  $P$  naší afinní roviny představuje vektor  $u = (x, y, 1) \in \mathbb{R}^3$  a tím i jednorozměrný podprostor  $\langle u \rangle \subset \mathbb{R}^3$ . Naopak, skoro každý podprostor v  $\mathbb{R}^3$  protíná naši rovinu v právě jednom bodě  $P$  a jednotlivé vektory takového podprostoru jsou dány souřadnicemi  $(x, y, z)$  jednoznačně, až na společný skalární násobek. Žádný průnik s naší rovinou nebudou mít pouze podprostory s body o souřadnicích  $(x, y, 0)$ .

*Projektivní rovina*  $\mathcal{P}_2$  je množina všech jednorozměrných podprostorů v  $\mathbb{R}^3$ . *Homogenní souřadnice* bodu  $P = (x : y : z)$  v projektivní rovině jsou trojice reálných čísel určené až na společný skalární násobek a alespoň jedno z nich musí být nenulové. Přímka v projektivní rovině je definována jako množina jednorozměrných podprostorů (tj. bodů v  $\mathcal{P}_2$ )

a z (4.2) již plyne

$$\cos \varphi = \frac{\|(2/3, 2/3, 0, 2/3, 1)\|}{\|(1, 0, 0, 1, 1)\|} = \frac{\sqrt{7}}{3}, \quad \text{tj. } \varphi \doteq 0,49 \ (\approx 28^\circ).$$

□

### C. Geometrie kvadratických forem

**4.38.** Určete polární bázi formy  $f : \mathbb{R}^3 \rightarrow \mathbb{R}$ ,  $f(x_1, x_2, x_3) = 3x_1^2 + 2x_1x_2 + x_2^2 + 4x_2x_3 + 6x_3^2$ .

**Řešení.** Její matice je

$$A = \begin{pmatrix} 3 & 1 & 0 \\ 1 & 1 & 2 \\ 0 & 2 & 6 \end{pmatrix}.$$

Podle bodu (1) Lagrangeova algoritmu provedeme úpravy

$$\begin{aligned} f(x_1, x_2, x_3) &= \frac{1}{3}(3x_1 + x_2)^2 + \frac{2}{3}x_2^2 + 4x_2x_3 + 6x_3^2 \\ &= \frac{1}{3}y_1^2 + \frac{3}{2}\left(\frac{2}{3}y_2 + 2y_3\right)^2 \\ &= \frac{1}{3}z_1^2 + \frac{3}{2}z_2^2 \end{aligned}$$

a vidíme, že forma má hodnotu 2 a matice přechodu do příslušné polární báze  $\underline{w}$  se získá posbíráním provedených transformací:

$$z_3 = y_3 = x_3, \quad z_2 = \frac{2}{3}y_2 + 2y_3 = \frac{2}{3}x_2 + 2x_3, \quad z_1 = y_1 = 3x_1 + x_2$$

Pokud by ale např.  $f(x_1, x_2, x_3) = 2x_1x_3 + x_2^2$ , tj. matice je

$$A = \begin{pmatrix} 0 & 0 & 1 \\ 0 & 1 & 0 \\ 1 & 0 & 0 \end{pmatrix},$$

pak hned v prvním kroku můžeme přehodit proměnné:  $y_1 = x_2$ ,  $y_2 = x_1$ ,  $y_3 = x_3$ . Aplikace kroku (1) je pak triviální (nejsou tu žádné společné členy), pro další krok ale nastane situace z bodu (4). Zavedeme tedy transformaci  $z_1 = y_1$ ,  $z_2 = y_2$ ,  $z_3 = y_3 - y_2$ . Pak

$$f(x_1, x_2, x_3) = z_1^2 + 2z_2(z_3 + z_2) = z_1^2 + \frac{1}{2}(2z_2 + z_3)^2 - \frac{1}{2}z_3^2.$$

Matici přechodu do příslušné polární báze opět dostaneme posbíráním jednotlivých transformací (tj. vynásobením jednotlivých dílčích matic přechodu). □

**4.39.** Nalezněte polární bázi kvadratické formy  $f : \mathbb{R}^3 \rightarrow \mathbb{R}$ , která je ve standardní bázi dána předpisem

$$f(x_1, x_2, x_3) = x_1x_2 + x_1x_3.$$

**Řešení.** Aplikací uvedeného Lagrangeova algoritmu dostáváme:

$$f(x_1, x_2, x_3) = 2x_1x_2 + x_2x_3$$

provedeme substituci podle bodu (4) algoritmu  $y_2 = x_2 - x_1, y_1 = x_1, y_3 = x_3$

$$\begin{aligned} &= 2x_1(x_1 + y_2) + (x_1 + y_2)x_3 = 2x_1^2 + 2x_1y_2 + x_1x_3 + y_2x_3 = \\ &= \frac{1}{2}(2x_1 + y_2 + \frac{1}{2}x_3)^2 - \frac{1}{2}y_2^2 - \frac{1}{8}x_3^2 + y_2x_3 = \end{aligned}$$

substituce  $y_1 = 2x_1 + y_2 + \frac{1}{2}x_3$

$$= \frac{1}{2}y_1^2 - \frac{1}{2}y_2^2 - \frac{1}{8}x_3^2 + y_2x_3 = \frac{1}{2}y_1^2 - 2(\frac{1}{2}y_2 - \frac{1}{2}x_3)^2 + \frac{3}{8}x_3^2 =$$

substituce  $y_3 = \frac{1}{2}y_2 - \frac{1}{2}x_3$

$$= \frac{1}{2}y_1^2 - 2y_3^2 + \frac{3}{8}x_3^2.$$

V souřadnicích  $y_1, y_3, x_3$  má tedy daná kvadratická forma diagonální tvar, to znamená že báze příslušná těmto souřadnicím je polární bázi dané kvadratické formy. Pokud ji máme vyjádřit musíme získat matici přechodu od této polární báze ke standardní bázi. Z definice matice přechodu jsou pak její sloupce bazovými vektory polární bázi. Matici přechodu získáme tak, že buď vyjádříme staré proměnné  $(x_1, x_2, x_3)$  pomocí nových proměnných  $(y_1, y_3, x_3)$ , nebo ekvivalentně vyjádříme nové proměnné pomocí starých (což jde jednodušeji), pak ale musíme spočítat inverzní matici.

Máme  $y_1 = 2x_1 + y_2 + \frac{1}{2}x_3 = 2x_1 + (x_2 - x_1) + \frac{1}{2}x_3$  a  $y_3 = \frac{1}{2}y_2 - \frac{1}{2}x_3 = -\frac{1}{2}x_1 + \frac{1}{2}x_3 - \frac{1}{2}x_3$ . Matice přechodu od standardní báze ke zvolené polární je tedy

$$T = \begin{pmatrix} 2 & 1 & \frac{1}{2} \\ -\frac{1}{2} & \frac{1}{2} & -\frac{1}{2} \\ 0 & 0 & 1 \end{pmatrix}.$$

Pro inverzní matici pak máme

$$T^{-1} = \begin{pmatrix} \frac{1}{3} & -\frac{2}{3} & -\frac{1}{2} \\ \frac{1}{3} & \frac{4}{3} & \frac{1}{2} \\ 0 & 0 & 1 \end{pmatrix}.$$

Jedna z polárních bazí dané kvadratické formy je tedy například báze  $\{(1/3, 1/3, 0), (-2/3, 4/3, 0), (-1/2, 1/2, 1)\}$ .  $\square$

**4.40.** Určete typ kuželosečky dané rovnicí:

$$3x_1^2 - 3x_1x_2 + x_2 - 1 = 0.$$

**Řešení.** Pomocí algoritmu úpravy na čtverec postupně dostáváme:

$$\begin{aligned} 3x_1^2 - 3x_1x_2 + x_2 - 1 &= \frac{1}{3}(3x_1 - \frac{3}{2}x_2)^2 - \frac{3}{4}x_2^2 + x_2 - 1 = \\ &= \frac{1}{3}y_1^2 - \frac{4}{3}(\frac{3}{4}x_2 - \frac{1}{2})^2 + \frac{1}{3} - 1 = \\ &= \frac{1}{2}y_1^2 - \frac{4}{3}y_2^2 - \frac{2}{3}. \end{aligned}$$

Podle uvedeného seznamu kuželoseček se tedy jedná o hyperbolu.  $\square$

**Příklad.** V afinním prostoru  $\mathbb{R}^2$  uvažujme dvě přímky  $L_1 : y - x - 1 = 0$  a  $L_2 : y - x + 1 = 0$ .

Jestliže budeme body přímek  $L_1$  a  $L_2$  chápat jako konečné body v projektivním prostoru  $\mathcal{P}_2$ , budou zjevně jejich homogenní souřadnice  $(x : y : z)$  splňovat rovnice

$$L_1 : y - x - z = 0, \quad L_2 : y - x + z = 0.$$

Podívejme se, jak budou rovnice těchto přímek vypadat v souřadnicích v afinní rovině, která bude dána jako  $y = 1$ . Za tím účelem stačí dosadit  $y = 1$  do předchozích rovnic:

$$L'_1 : 1 - x - z = 0, \quad L'_2 : 1 - x + z = 0$$

Nyní jsou „nekonečné“ body naší původní afinní roviny dány vztahem  $z = 0$  a vidíme, že naše přímky  $L'_1$  a  $L'_2$  se protínají v bodě  $(1, 1, 0)$ . To odpovídá geometrické představě, že rovnoběžné přímky  $L_1, L_2$  v afinní rovině se protínají v nekonečnu (a to v bodě  $(1 : 1 : 0)$ ).

**4.27. Projektivní prostory a transformace.** Postup z roviny se přirozeným způsobem zobecňuje na každou konečnou dimenzi. Volbou libovolné afinní nadroviny  $\mathcal{A}_n$  ve vektorovém prostoru  $\mathbb{R}^{n+1}$ , která neprochází počátkem, můžeme ztotožnit body  $P \in \mathcal{A}_n$  s jednorozměrnými podprostory, které tyto generují. Zbylé jednorozměrné podprostory vyplní rovinu rovnoběžnou s  $\mathcal{A}_n$  a říkáme jim „nekonečné body“ v projektivním rozšíření  $\mathcal{P}_n$  afinní roviny  $\mathcal{A}_n$ . Zjevně je vždy množina nekonečných bodů v  $\mathcal{P}_n$  projektivním prostorem dimenze o jedničku nižší. Abstraktněji hovoříme o *projektivizaci vektorového prostoru*: pro libovolný vektorový prostor  $V$  dimenze  $n + 1$  definujeme

$$\mathcal{P}(V) = \{P \subset V; P \text{ je jednorozměrný vektorový podprostor}\}.$$

Volbou libovolné báze  $u$  ve  $V$  dostáváme tzv. *homogenní souřadnice* na  $\mathcal{P}(V)$  tak, že pro  $P \in \mathcal{P}(V)$  použijeme jeho libovolný nenulový vektor  $u \in V$  a souřadnice tohoto vektoru v bázi  $u$ . Afinní přímka má tedy ve svém projektivním rozšíření pouze jediný bod (oba konce se „potkají“ v nekonečnu a projektivní přímka vypadá jako kružnice), projektivní rovina má projektivní přímku nekonečných bodů atd.

Při zvolených homogenních souřadnicích je možné jednu z jejich hodnot zafixovat na jedničku (tj. vyloučíme všechny body projektivního prostoru s touto souřadnicí nulovou) a získáme tak vložení  $n$ -rozměrného afinního prostoru  $\mathcal{A}_n \subset \mathcal{P}(V)$ . To je přesně konstrukce, kterou jsme použili v opačném směru v příkladu projektivní roviny.

Každé prosté lineární zobrazení  $\tau : V_1 \rightarrow V_2$  mezi vektorovými prostory samozřejmě zobrazuje jednorozměrné podprostory na jednorozměrné podprostory. Tím vzniká zobrazení na projektivizacích  $T : \mathcal{P}(V_1) \rightarrow \mathcal{P}(V_2)$ . Takovým zobrazením říkáme *projektivní zobrazení*. Jinak řečeno, projektivní zobrazení je takové zobrazení mezi projektivními prostory, že v každé soustavě homogenních souřadnic na definičním oboru i obrazu je toto zobrazení zadáno násobením vhodnou maticí. Obecněji, pokud naše pomocné lineární zobrazení není prosté, definuje projektivní zobrazení pouze mimo

svoje jádro, tj. na bodech, jejichž homogenní souřadnice se nezobrazují na nulu.

**4.28. Perspektivní projekce.** Velmi dobře jsou výhody projektivní geometrie vidět na perspektivní projekci  $\mathbb{R}^3 \rightarrow \mathbb{R}^2$ . Bod  $(X, Y, Z)$  „reálného světa“ se promítá na bod  $(x, y)$  na průmětně takto:

$$x = -f \frac{X}{Z}, \quad y = -f \frac{Y}{Z}.$$

To je nejen nelineární formule, ale navíc při  $Z$  malém bude velice problematická přesnost výpočtů.

Při rozšíření této transformace na zobrazení  $\mathcal{P}_3 \rightarrow \mathcal{P}_2$  dostáváme zobrazení  $(X : Y : Z : W) \mapsto (x : y : z) = (-fX : -fY : Z)$ , tj. popsané prostou lineární formulí

$$\begin{pmatrix} x \\ y \\ z \end{pmatrix} = \begin{pmatrix} -f & 0 & 0 & 0 \\ 0 & -f & 0 & 0 \\ 0 & 0 & 1 & 0 \end{pmatrix} \cdot \begin{pmatrix} X \\ Y \\ Z \\ W \end{pmatrix}$$

Tento jednoduchý výraz zadává perspektivní projekci pro všechny konečné body v  $\mathbb{R}^3 \subset \mathcal{P}_3$ , které dosazujeme jako výrazy s  $W = 1$ . Navíc jsme odstranili problémy s body, jejichž obraz leží v nekonečnu. Skutečně, je-li  $Z$ -ová souřadnice skutečného bodu scény blízká nule, bude hodnota třetí homogenní souřadnice obrazu mít souřadnici blízkou nule, tj. bude představovat bod blízký nekonečnu.

**4.29. Afinní a projektivní transformace.** Invertibilní projektivní zobrazení projektivního prostoru  $\mathcal{P}_n$  na sebe odpovídají v homogenních souřadnicích invertibilním maticím dimenze  $n + 1$ . Dvě takové matice zadávají stejnou projektivní transformaci právě, když se liší o konstantní násobek.

Jestliže si zvolíme první souřadnici jako tu, jejíž nulovost určuje nekonečné body, budou transformace, které zachovávají konečné body, dány maticemi, jejichž první řádek musí být až na první člen nulový. Jestliže budeme chtít přejít do afinních souřadnic konečných bodů, tj. zafixujeme si hodnotu první souřadnice na jedničku, musí být první prvek na prvním řádku být také rovný jedné. Matice projektivních transformací zachovávajících konečné body tedy mají tvar:

$$\begin{pmatrix} 1 & 0 & \cdots & 0 \\ b_1 & a_{11} & \cdots & a_{1n} \\ \vdots & \vdots & \ddots & \vdots \\ b_n & a_{n1} & \cdots & a_{nn} \end{pmatrix}$$

kde  $b = (b_1, \dots, b_n)^T \in \mathbb{R}^n$  a  $A = (a_{ij})$  je invertibilní matice dimenze  $n$ . Působení takové matice na vektoru  $(1, x_1, \dots, x_n)$  je právě obecná afinní transformace.

**4.30. Projektivní klasifikace kvadrik.** Závěrem ještě poznámka o složitějších objektech studovaných v afinní geometrii nejlépe prostřednictvím projektivních rozšíření. Jestliže popíšeme kvadriku v afinních souřadnicích pomocí obecné

**4.41.** Určete rovnici kuželosečky (a poté její typ), která prochází body

$$[-2, -4], \quad [8, -4], \quad [0, -2], \quad [0, -6], \quad [6, -2].$$

**Řešení.** Do obecné rovnice kuželosečky

$$a_{11}x^2 + a_{22}y^2 + 2a_{12}xy + a_1x + a_2y + a = 0$$

postupně dosadíme souřadnice zadaných bodů. Takto obdržíme soustavu

$$\begin{aligned} 4a_{11} + 16a_{22} + 16a_{12} - 2a_1 - 4a_2 + a &= 0, \\ 64a_{11} + 16a_{22} - 64a_{12} + 8a_1 - 4a_2 + a &= 0, \\ &4a_{22} - 2a_2 + a = 0, \\ &36a_{22} - 6a_2 + a = 0, \\ 36a_{11} + 4a_{22} - 24a_{12} + 6a_1 - 2a_2 + a &= 0. \end{aligned}$$

V maticovém zápisu provedeme úpravy

$$\begin{aligned} &\begin{pmatrix} 4 & 16 & 16 & -2 & -4 & 1 \\ 64 & 16 & -64 & 8 & -4 & 1 \\ 0 & 4 & 0 & 0 & -2 & 1 \\ 0 & 36 & 0 & 0 & -6 & 1 \\ 36 & 4 & -24 & 6 & -2 & 1 \end{pmatrix} \sim \dots \\ &\sim \begin{pmatrix} 4 & 16 & 16 & -2 & -4 & 1 \\ 0 & 4 & 0 & 0 & -2 & 1 \\ 0 & 0 & 64 & -8 & 12 & -9 \\ 0 & 0 & 0 & 24 & -36 & 27 \\ 0 & 0 & 0 & 0 & 3 & -2 \end{pmatrix} \sim \dots \\ &\sim \begin{pmatrix} 48 & 0 & 0 & 0 & 0 & -1 \\ 0 & 12 & 0 & 0 & 0 & -1 \\ 0 & 0 & 64 & 0 & 0 & 0 \\ 0 & 0 & 0 & 24 & 0 & 3 \\ 0 & 0 & 0 & 0 & 3 & -2 \end{pmatrix}. \end{aligned}$$

Hodnotu  $a$  můžeme zvolit. Zvolíme-li  $a = 48$ , dostaneme

$$a_{11} = 1, \quad a_{22} = 4, \quad a_{12} = 0, \quad a_1 = -6, \quad a_2 = 32.$$

Kuželosečka má tudíž rovnici

$$x^2 + 4y^2 - 6x + 32y + 48 = 0.$$

V této rovnici doplníme výrazy  $x^2 - 6x$ ,  $4y^2 + 32y$  na druhé mocniny dvojčlenů, což dává

$$(x - 3)^2 + 4(y + 4)^2 - 25 = 0,$$

resp.

$$\frac{(x - 3)^2}{5^2} + \frac{(y + 4)^2}{\left(\frac{5}{2}\right)^2} - 1 = 0.$$

Vidíme, že se jedná o elipsu se středem v bodě  $[3, -4]$ .  $\square$

**4.42.** Pomocí doplnění na čtverce vyjádřete kvadriku

$$-x^2 + 3y^2 + z^2 + 6xy - 4z = 0$$

ve tvaru, ze kterého lze vyčíst její typ.

**Řešení.** Všechny členy obsahující  $x$  připojíme k  $-x^2$  a provedeme doplnění na čtverec. Tím získáme

$$-(x - 3y)^2 + 9y^2 + 3y^2 + z^2 - 4z = 0.$$

Žádné „nežádoucí“ členy obsahující  $y$  nemáme, a proto postup opakujeme pro proměnnou  $z$ , což dává

$$-(x - 3y)^2 + 12y^2 + (z - 2)^2 - 4 = 0.$$

Odtud plyne, že existuje transformace proměnných, při které obdržíme (rovnici můžeme nejdříve vydělit 4) rovnici

$$-\bar{x}^2 + \bar{y}^2 + \bar{z}^2 - 1 = 0.$$

kvadratické rovnice, viz výše, jejím přepsáním v homogenních souřadnicích dostaneme vždy výlučně homogenní výraz, jehož všechny členy jsou druhého řádu. Důvod je ten, že pouze takové homogenní výrazy budou mít pro homogenní souřadnice smysl nezávisle na zvoleném konstantním násobku souřadnic  $(x_0, x_1, \dots, x_n)$ . Hledáme tedy takový, jehož zúžením na afinní souřadnice, tj. dosazením  $x_0 = 1$ , získáme původní výraz. To je ale mimořádně jednoduché, prostě dopíšeme dostatek  $x_0$  ke všem výrazům – žádné ke kvadratickým členům, jedno k lineárním a  $x_0^2$  ke konstantnímu členu.

Získáme tak dobře definovanou kvadratickou formu na našem pomocném vektorovém prostoru  $\mathbb{R}^{n+1}$ , ale jsme už vůči libovolné volbě báze klasifikovali. Zkuste si samostatně převést tuto klasifikaci do projektivní i afinní podoby. (Hezké a náročné cvičení na závěr semestru!)

□







**Řešení cvičení**

4.3. Přímka  $(2t, t, 7t) + [-5, 0, -9]$ .

4.3.  $[3, 2, 1][8/3, 8/3, 2/3]$ .

4.10. 2, 3, 4, 6, 7, 8. Polohy rovin, které realizují dané počty si rozmyslete samostatně.

4.27. Pro normálový vektor  $(a, b, c)$  hledaných rovin máme rovnice  $a + b = 0$  (kolmost na  $p$ ) a volbou  $a = -b = 1$  (vektor  $(0, 0, 1)$  nevyhovuje podmínkám, takže vhodným pronásobením můžeme dosáhnout podmínky  $a = -b = 1$ ) pak dostáváme z podmínky pro odchylku  $\left| \frac{c}{\sqrt{3}\sqrt{2+c^2}} \right| = \frac{1}{2}$ , celkem pak hledané rovnice přímk jsou  $x - y \pm \sqrt{6} - 1 = 0$ .

4.32.  $(-1, 3, 2)$ .