

Vytváření představa světa, států, ...

Cvičení č.2

Mapové zdroje

Propaganda

- Užití kartografie pro navození šíření hrozby a strachu
 - http://en.wikipedia.org/wiki/Prelude_to_War



- Cíl: desinterpretovat
 - Měřítko, generalizace
 - Zobrazení
 - Tvorba legendy, užití barev
 - práce s daty, ...










Rozumí lidé mapám?



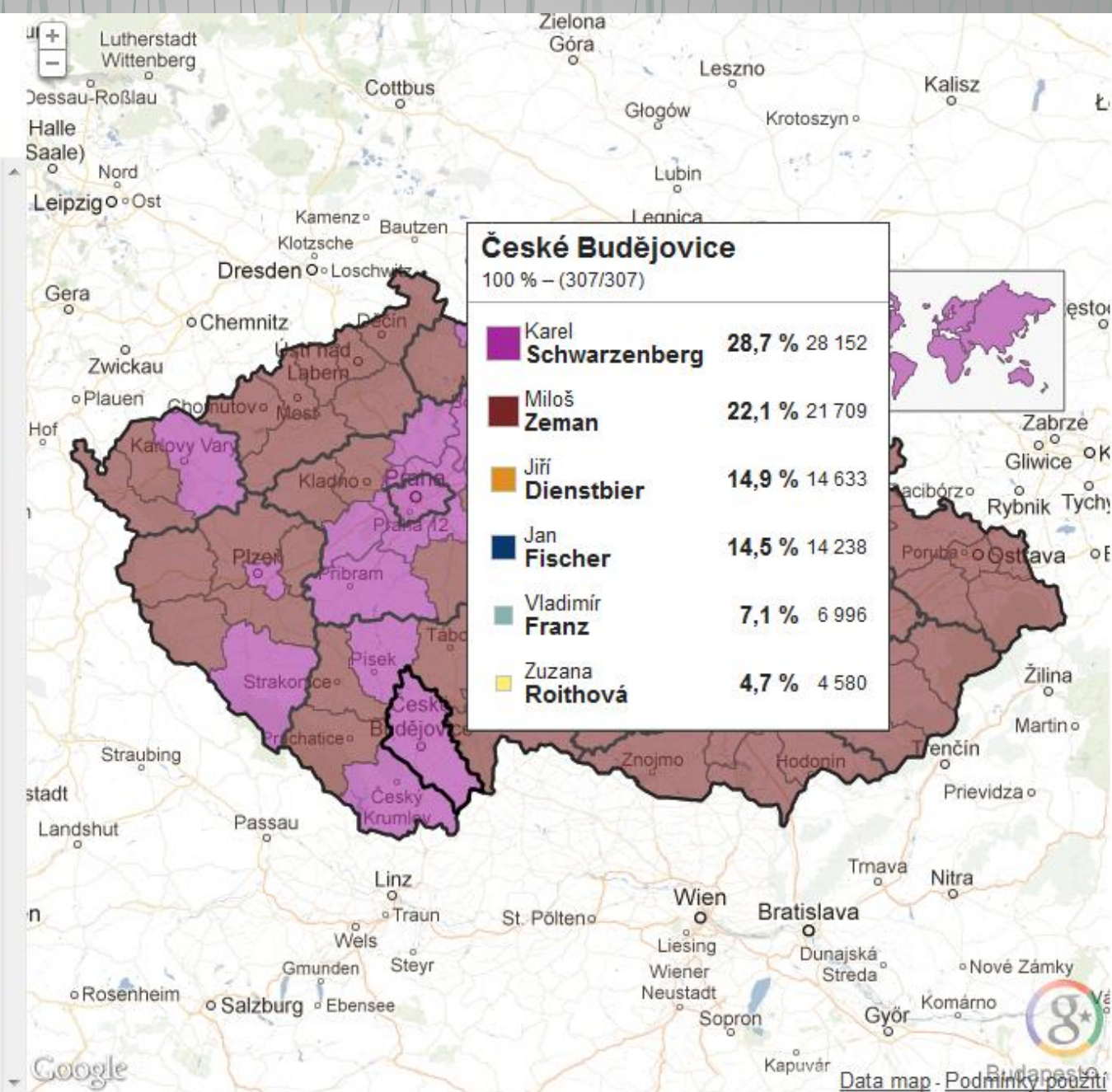
Česká republika

100 % – (14904/14904)

Tato stránka se automaticky aktualizuje

Všichni kandidáti		
	Zeman	24,2 % 1 245 848
	Schwarzenberg	23,4 % 1 204 195
	Fischer	16,4 % 841 437
	Dienstbier	16,1 % 829 297
	Franz	6,8 % 351 916
	Roithová	5,0 % 255 045
	Fischerová	3,2 % 166 211
	Sobotka	2,5 % 126 846
	Bobošíková	2,4 % 123 171

Zdrojová data ČSU (www.volby.cz)





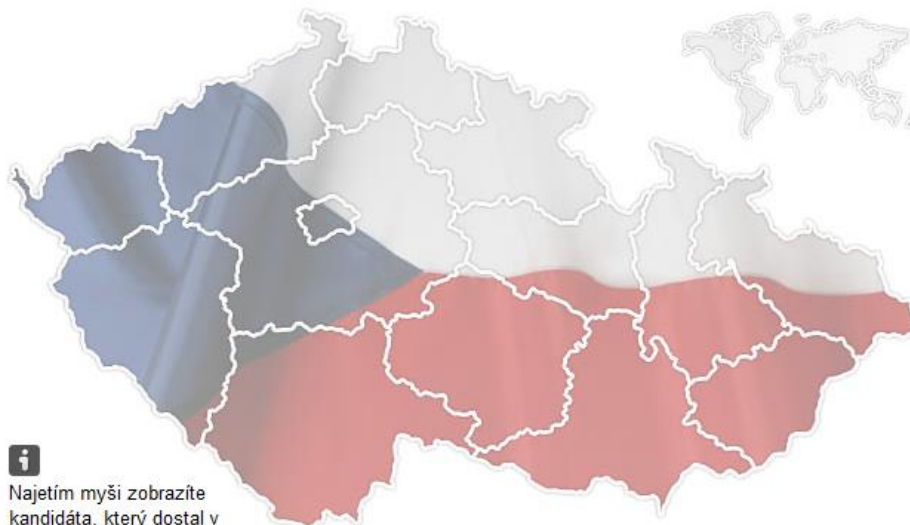
Mapa vítězů 1. kola, velikost bodů je dle **počtu obyvatel**. Zeman, Schwarzenberg, Fischer, Dienstbier

<http://blog.aktualne.centrum.cz/blogy/michal-skop.php?itemid=18734>

Klikněte na kandidáta. Zjistíte, kdo ho volil

Vyberte kraj ▾

Hledej obec



Najetím myši zobrazíte kandidáta, který dostal v daném kraji nejvíce hlasů

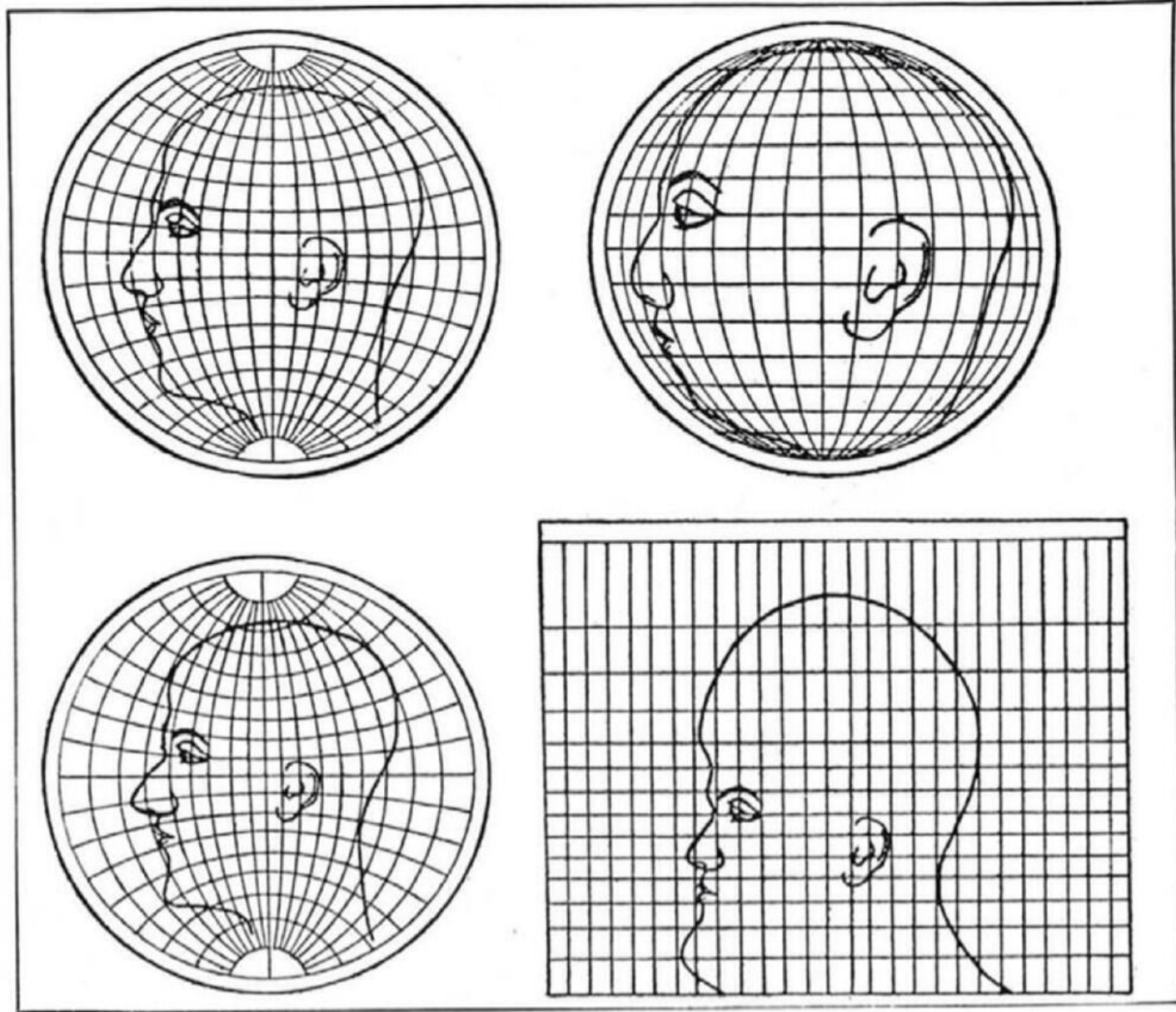
<http://volby.idnes.cz/prezidentske-volby-2013.aspx>

Mercator

- https://gmaps-samples.googlecode.com/svn/trunk/poly/puzzledrag.html?utm_source=welovemapsdevelopers
- <http://bramus.github.io/mercator-puzzle-redux/>

Mercatorhead

<http://bigthink.com/strange-maps/624-this-is-your-brain-on-maps>



*Upper left: Globular. Upper right: Orthographic. Lower left: Stereographic.
Lower right: Mercator*

What four commonly used projections do, as shown on a human head

- <http://www.youtube.com/watch?v=vVX-PrBRtTY>
- <http://www.youtube.com/watch?v=osQN7aSQV9w>

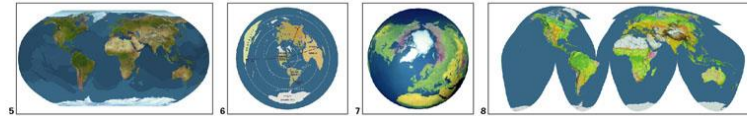





<http://www.hitxp.com/pics/peters-map.jpg>

<http://flourish.org/upsidedownmap/hobodyer-large.jpg>

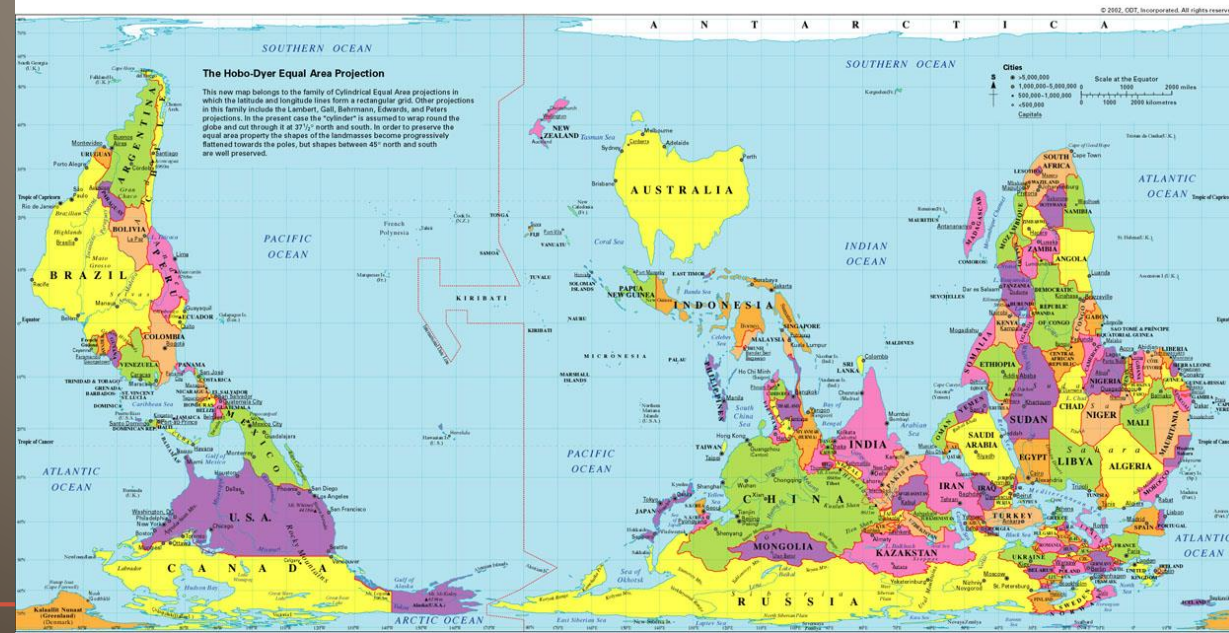
Take the quiz! Compare country size.
 Which of the images on both sides of this placemat are "area accurate?" How is the Hobo-Dyer projection below different from the one on the reverse side? Answers and details about all the images are at www.odt.org/hdp. To the right:
 (5) Van Sant's Geoplane,
 (6) Guelke's Toronto-centered projection,
 (7) the Oxford Globe, and
 (8) Goode's Homolosine

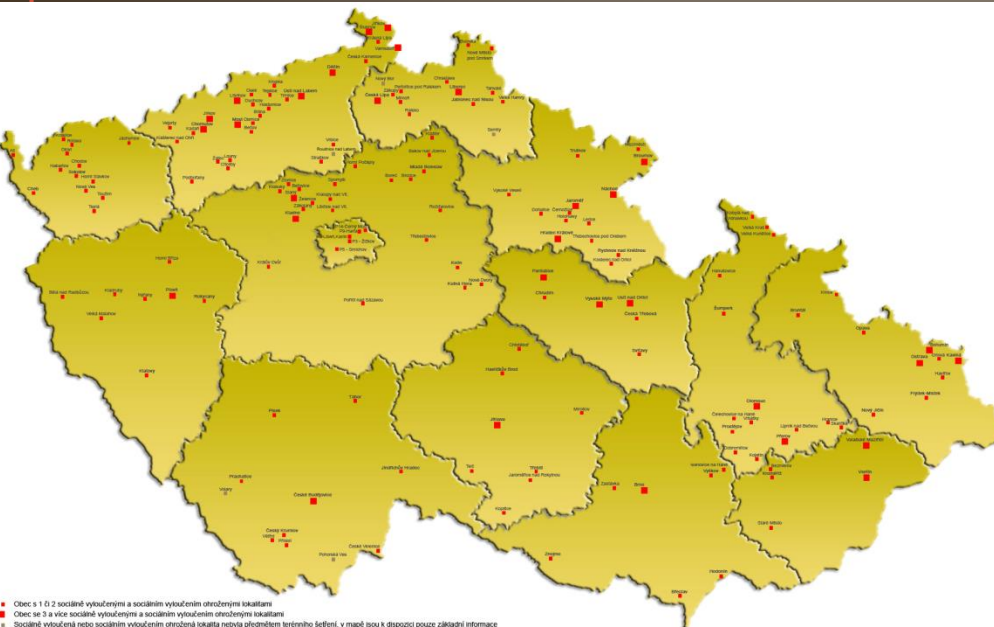


ISBN 1-931057-11-7
 To order: ODT, Inc. 1-800-736-1293
 In'l Calls: 1-413-549-1293
www.odt.org
 E-mail: odtstore@aol.com
 Fax: 1-413-549-3503
 Box 134, Amherst, MA 01004 USA



FB: Church of Geography





Česká republika



Co je nejjižnější část ČR?

Úkol

- Nalézt zajímavý, názorný příklad využití či zneužití mapy, vizualizace dat a dalších zdrojů...
- Do odevzdávárny vložit jen obrázek/odkaz + vědět nějaké info

Děkuji za pozornost!