

Zadání příkladů - cvičení č.1 - 15-9-23

Příklad č.1 (porovnání dvou typů modelů) (přednáška)

Model rozdělení pravděpodobnosti je modelem náhodné proměnné X , např. (1) model rozdělení pravděpodobnosti náhodné proměnné X šířka dolní čelisti, nebo (2) model rozdělení pravděpodobnosti náhodné proměnné X hrubost kožních řas u dospělých zdravých žen. *Statistický model* je modelem náhodné proměnné $Y|X$ (Y kauzálně závisí na X), např. (1) model závislosti náhodné proměnné Y šířka dolní čelisti na proměnné X pohlaví, nebo (2) model závislosti náhodné proměnné Y hrubost kožních řas u dospělých zdravých žen na proměnné X BMI. Všimněte si, že náhodné proměnné označujeme X anebo Y podle toho, jaký model je charakterizuje.

Příklad č.2 (jednoduchý náhodný výběr)

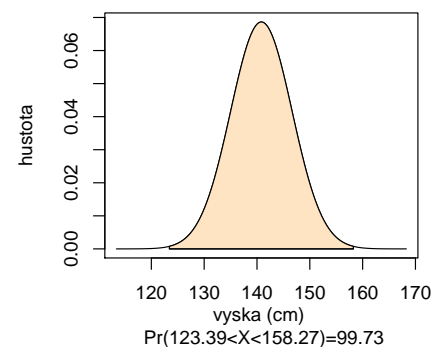
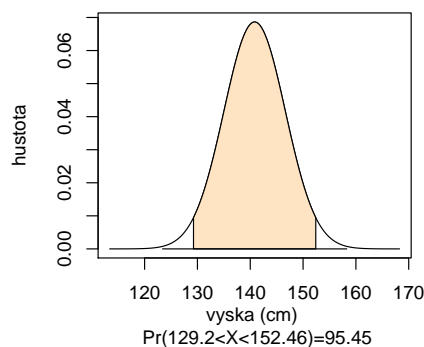
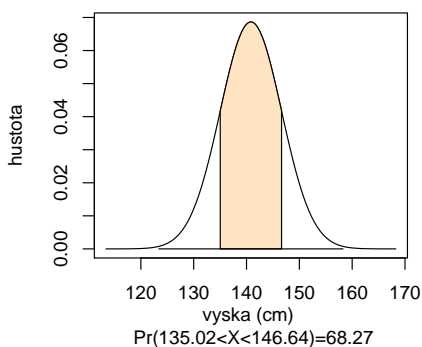
V jednoduchém náhodném výběru o rozsahu n z populace s konečným rozsahem N má každý prvek stejnou pravděpodobnost vybrání. Pokud vybíráme bez vracení (opakování), mluvíme o *jednoduchém náhodném výběru bez vracení* (Dalgaard, 2008). Pokud vybíráme s vracením, mluvíme o *jednoduchém náhodném výběru s vracením*. Mějme množinu \mathcal{M} s $N = 10$ prvky a chceme z ní vybrat $n = 3$ prvky (a) bez vracení, (b) s vracením. Kolik máme možností? Jak vypadá jedna takováto možnost, pokud $\mathcal{M} = \{1, 2, \dots, 10\}$? Zopakujte to samé pro $N = 100$, $n = 30$ a množinu $\mathcal{M} = \{1, 2, \dots, 100\}$.

Příklad č.3 (jednoduchý náhodný výběr)

Mějme skupinu lidí označených identifikačními čísly (ID) od 1 do 30. Vyberte (a) náhodně 5 lidí z 30-ti bez návratu, (b) náhodně 5 lidí ze 30-ti s návratem a nakonec (c) náhodně 5 lidí ze 30-ti bez návratu, přičemž lidé s ID od 28-mi do 30-ti mají pravděpodobnost vybrání $4 \times$ vyšší než lidé s ID od 1 do 27.

Příklad č.4 (normální rozdělení)

Mějme náhodnou proměnnou X (může to být např. výška postavy desetiletých dívek) a předpokládejme, že tato náhodná proměnná má normální rozdělení s parametry μ (střední hodnota) a σ^2 (rozptyl), což zapisujeme jako $X \sim N(\mu, \sigma^2)$, $\mu = 140.83$, $\sigma^2 = 33.79$. Normální rozdělení představuje model rozdělení pravděpodobnosti pro tuto náhodnou proměnnou. Vypočítejte pravděpodobnost $\Pr(a \leq X \leq b) = \Pr(X < b) - \Pr(X < a) = F_X(b) - F_X(a)$, kde $a = \mu - k\sigma$, $b = \mu + k\sigma$, $k = 1, 2, 3$. Nakreslete hustotu rozdělení pravděpodobnosti, vybarvěte oblast mezi body a a b a popište osy x a y tak, jako je uvedeno na obrázku 1.

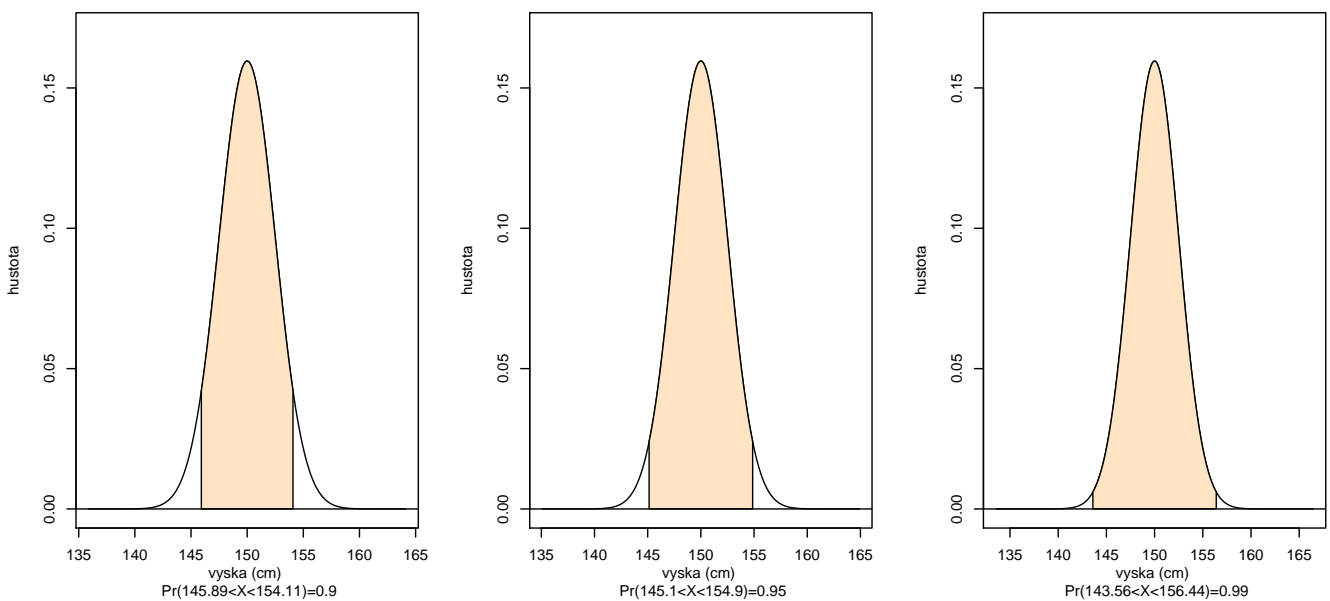


Obrázek 1: Míry normálního rozdělení; křivka hustoty s vybarveným obsahem pod touto křivkou mezi příslušnými kvantily na ose x ; obsah je rovný pravděpodobnosti výskytu subjektů s danou výškou v rozpětí těchto kvantilů.

Dostaneme pravidlo 68.27 – 95.45 – 99.73 (tzv. *míry normálního rozdělení*).

Příklad č.5 (normální rozdělení)

Mějme $X \sim N(\mu, \sigma^2)$, kde $\mu = 150$, $\sigma^2 = 6.25$. Vypočítejte $a = \mu - x_{1-\alpha/2}\sigma$ a $b = \mu + x_{1-\alpha/2}\sigma$ tak, aby $\Pr(a \leq X \leq b) = 1 - \alpha$, byla rovná 0.9, 0.95, 0.99. Číslo $x_{1-\alpha/2}$ je kvantil normovaného normálního rozdělení, t.j. $\Pr(Z = \frac{X-\mu}{\sigma} < x_{1-\alpha}, Z \sim N(0, 1))$. Nakreslete hustotu rozdělení pravděpodobnosti, vybarvěte oblast mezi body a a b a popište osy x a y tak, jako je uvedeno na obrázku 2.



Obrázek 2: Upravené míry normálního rozdělení; křivka hustoty s vybarveným obsahem pod touto křivkou mezi příslušnými kvantily na ose x ; obsah je rovný pravděpodobnosti výskytu subjektů s danou normovanou výškou v rozpětí těchto kvantilů.

Dostaneme pravidlo 90 – 95 – 99 (tzv. *upravené míry normálního rozdělení*). Použili jsme nerovnost $\Pr(u_{\alpha/2} < Z < u_{1-\alpha/2}) = \Phi(x_{1-\alpha/2}) - \Phi(x_{\alpha/2}) = 1 - \alpha$, kde Φ je distribuční funkce normálního normovaného rozdělení a všeobecně ($\alpha \in (0, 1/2)$); v příkladě $\alpha = 0.1, 0.05$ a 0.01 .

Příklad č.6 (normální rozdělení)

Předpokládejme model normálního rozdělení $N(132, 13^2)$ pro systolický krevní tlak. Jaká část populace (v %) bude mít hodnoty vyšší než 160 mm Hg?

Příklad č.7 (binomické rozdělení)

Předpokládejme, že počet lidí upřednostňujících léčbu A před léčbou B se řídí modelem binomického rozdělení s parametry N (rozsah náhodného výběru) a p (pravděpodobnost výskytu), ozn. $Bin(N, p)$, kde $N = 20$, $p = 0.5$, t.j. lidé preferují oba dva typy léčby stejnou měrou. (a) Jaká je pravděpodobnost, že 16 a více pacientů upřednostní léčbu A před léčbou B ? (b) Jaká je pravděpodobnost, že 16 a více

a zároveň 4 a méně pacientů upřednostní léčbu A před léčbou B ?

Příklad č.8 (binomické rozdělení)

Předpokládejme, že $\Pr(vir) = 0.533 = p_1$ je pravděpodobnost výskytu dermatoglyfického vzoru vír na palci pravé ruky mužů české populace a $\Pr(ostatni) = 0.467 = p_2$ je pravděpodobnost výskytu ostatních vzorů na palci pravé ruky mužů české populace, přičemž X je počet vírů a Y je počet ostatních vzorů, kde $X \sim Bin(N, p_1)$ a $Y \sim Bin(N, p_2)$. Vypočítejte (1) $\Pr(X \leq 120)$, když $N = 300$ a (2) $\Pr(Y \leq 120)$, když $N = 300$.

Příklad č.9 (parametry) (přednáška)

Příklady parametrů θ - střední hodnota μ , rozptyl σ^2 , korelační koeficient ρ , pravděpodobnost p výskytu nějaké události, rozdíl dvou středních hodnot $\mu_1 - \mu_2$, podíl dvou rozptylů σ_1^2/σ_2^2 , rozdíl dvou korelačních koeficientů $\rho_1 - \rho_2$, rozdíl dvou pravděpodobností $p_1 - p_2$ apod.

Příklad č.10 (binomické rozdělení) (přednáška)

Pokud $X \sim Bin(N, \theta)$, $\theta = p \in \langle 0; 1 \rangle$, potom \mathcal{Y}_θ je stejný pro všechny θ a koinciduje s výběrovým prostorem $\mathcal{Y} = \{0, 1, \dots, N\}$.

Příklad č.11 (počet členů v mnohorozměrném LRM) (z přednášky)

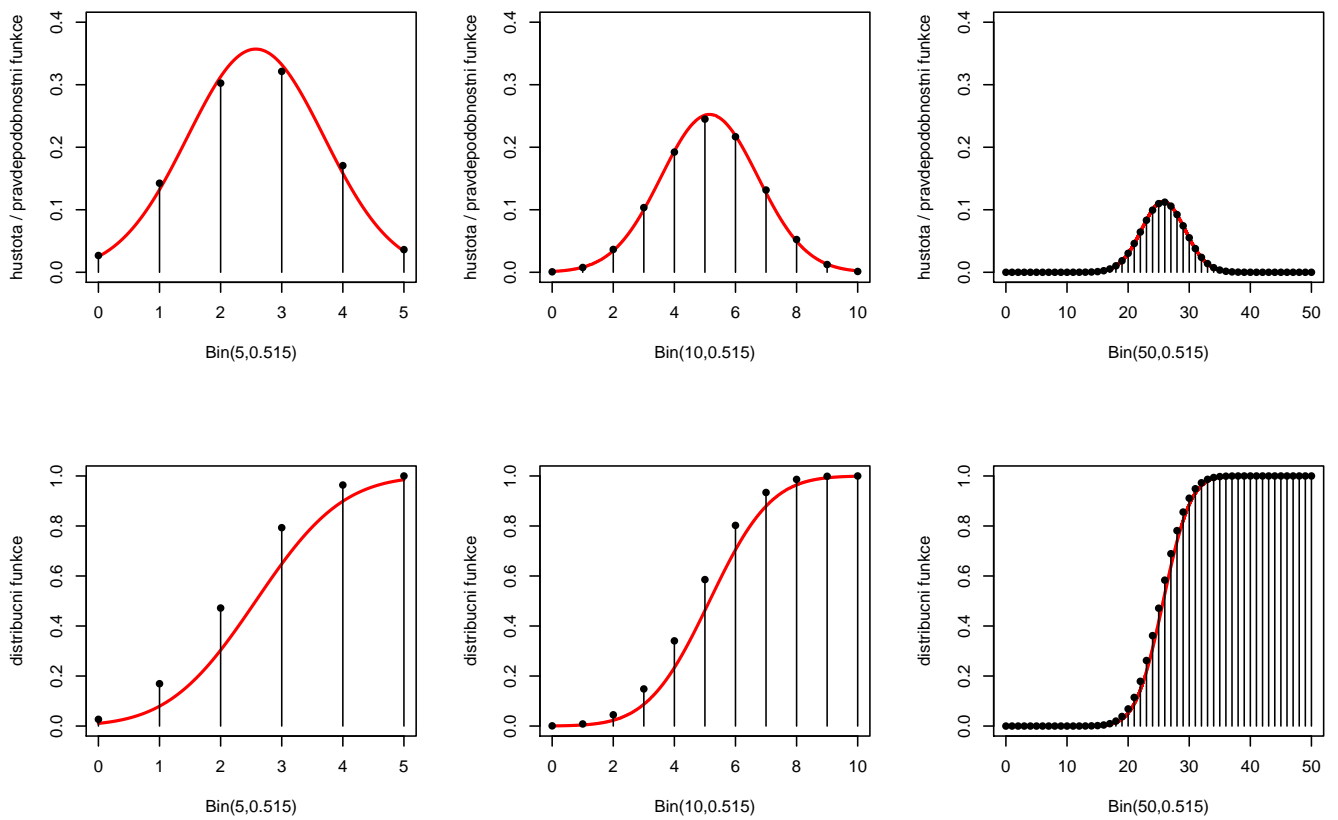
Mějme mnohorozměrný lineární regresní model \mathcal{L} o 20-ti proměnných, ve kterém jsou obsaženy všechny možné interakce těchto proměnných (dvojné, trojné, ...). Kolik členů (jednoduché regresory + všechny interakce) má takový model?

Příklad č.11 (aproximace binomického rozdělení normálním)

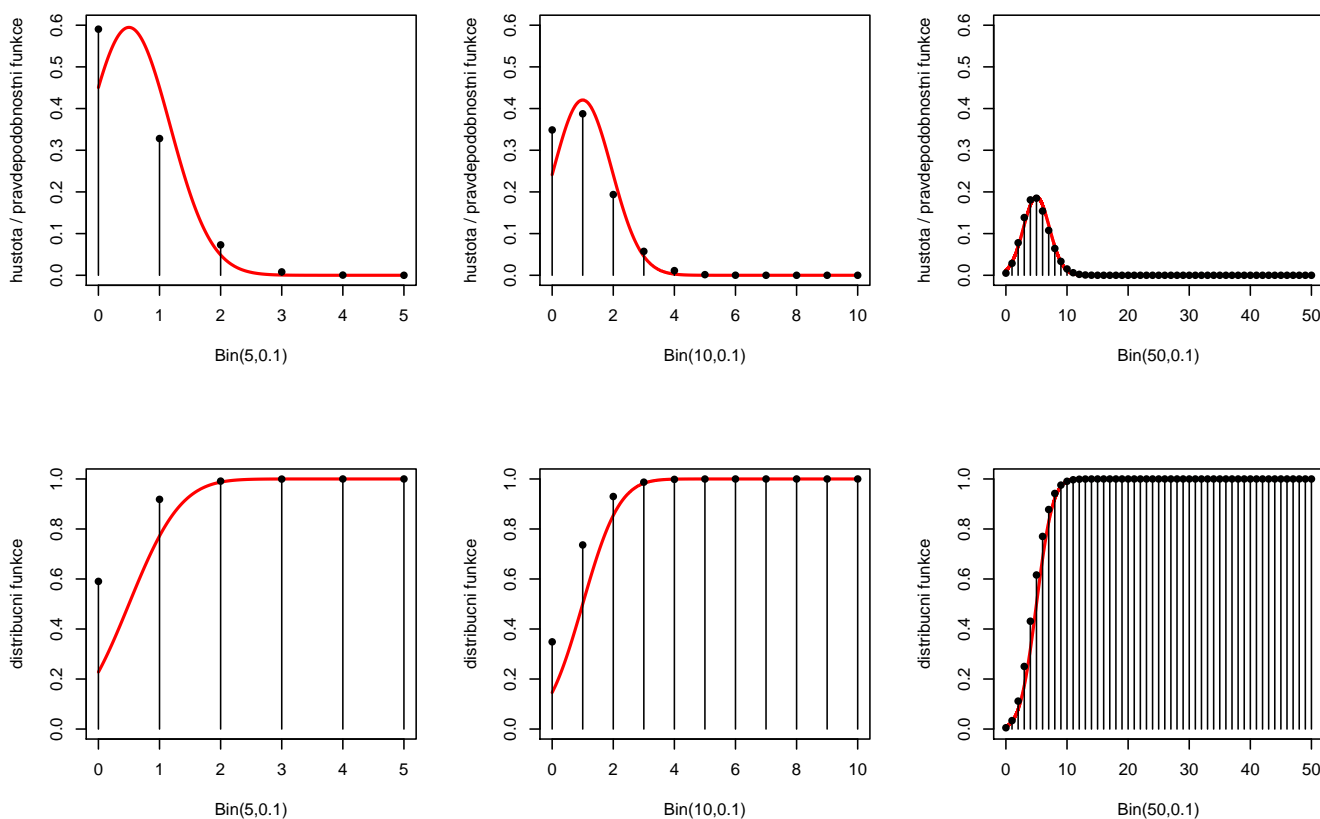
Nechť $\Pr(\text{muz}) = p = 0.515$ znamená pravděpodobnost výskytu mužů v populaci a $\Pr(\text{zena}) = q = 0.485$ pravděpodobnost výskytu žen. Nechť X je počet mužů a Y počet žen. Za předpokladu modelu $Bin(N, p)$ vypočítejte (a) $\Pr(X \leq 3)$ pokud $N = 5$, (b) $\Pr(X \leq 5)$, pokud $N = 10$ a (c) $\Pr(X \leq 25)$, pokud $N = 50$. Porovnejte vypočítané pravděpodobnosti s pravděpodobnostmi aproximovanými normálním rozdělením $N(Np, Npq)$.

Nakreslete hustotu rozdělení pravděpodobnosti normálního rozdělení a superponujte ji pravděpodobnostní funkcí binomického rozdělení tak, jak je uvedeno na obrázku 3. Nakreslete distribuční funkci normálního rozdělení a superponujte ji distribuční funkcí binomického rozdělení tak, jak je uvedeno na obrázku 3.

Nakonec zvolte parametr $p = 0.1$ a vygenerujte analogické grafy hustoty a distribuční funkce pro tento nový parametr. Z obrázků je vidět, že pro p blížící se k 1 nebo k 0 je potřebné mít větší početnosti než pro p blízké hodnotě 0.5. Viz obrázek 4.



Obrázek 3: Aproximace binomického rozdělení normálním pro $p = 0.515$ a $N = 5, 10$ a 50 ; spojnicový graf superponovaný hustotou (první řádek) a distribuční funkcí (druhý řádek).



Obrázek 4: Aproximace binomického rozdělení normálním pro $p = 0.515$ a $N = 5, 10$ a 50 ; spojnicový graf superponovaný hustotou (první řádek) a distribuční funkcí (druhý řádek).

Příklad č.12 (normální rozdělení)

Model pro náhodný výběr X_1, X_2, \dots, X_n je z $N(\mu, \sigma^2)$ a říkáme, že X_1, X_2, \dots, X_n pochází z normálního rozdělení, t.j. $X \sim N(\mu, \sigma^2)$. Parametr modelu $N(\mu, \sigma^2)$ je vektor $\theta = (\mu, \sigma^2)$. Hustota tohoto rozdělení má tvar

$$f(x) = \frac{1}{\sqrt{2\pi}\sigma} e^{-\frac{(x-\mu)^2}{2\sigma^2}}, x \in \mathbb{R}.$$

Příklad č.13 (standardizované normální rozdělení)

Model pro náhodný výběr X_1, X_2, \dots, X_n pochází ze standardizovaného normálního rozdělení, t.j. $X \sim N(\mu, \sigma^2)$, kde $\mu = 0, \sigma^2 = 1$. Parametr modelu $N(\mu, \sigma^2)$ je vektor $\theta = (0, 1)$. Hustota tohoto rozdělení má tvar

$$\phi(x) = \frac{1}{\sqrt{2\pi}} e^{-\frac{x^2}{2}}, x \in \mathbb{R}.$$

Příklad č.14 (dvojměrné normální rozdělení)

Náhodný vektor $(X, Y)^T$ má dvojměrné normální rozdělení

$$N_2(\boldsymbol{\mu}, \boldsymbol{\Sigma}), \text{ kde } \boldsymbol{\mu} = (\mu_1, \mu_2)^T \text{ a } \boldsymbol{\Sigma} = \begin{pmatrix} \sigma_1^2 & \rho\sigma_1\sigma_2 \\ \rho\sigma_1\sigma_2 & \sigma_2^2 \end{pmatrix},$$

s hustotou

$$f(x, y) = \frac{1}{2\pi\sqrt{\sigma_1^2\sigma_2^2(1-\rho^2)}} \exp\left\{-\frac{1}{2(1-\rho^2)} \left\{ \frac{(x-\mu_1)^2}{\sigma_1^2} - 2\rho\frac{(x-\mu_1)(y-\mu_2)}{\sigma_1\sigma_2} + \frac{(y-\mu_2)^2}{\sigma_2^2} \right\}\right\},$$

kde $(x, y)^T \in \mathbb{R}^2$, $\mu_j \in \mathbb{R}$, $\sigma_j^2 > 0$, $j = 1, 2$, $\rho \in \langle -1, 1 \rangle$ jsou parametry. Potom $\boldsymbol{\theta} = (\mu_1, \mu_2, \sigma_1^2, \sigma_2^2, \rho)$. Výraz v exponentu můžeme zapsat jako

$$-\frac{1}{2} \begin{pmatrix} x - \mu_1 \\ y - \mu_2 \end{pmatrix}^T \begin{pmatrix} \sigma_1^2 & \rho\sigma_1\sigma_2 \\ \rho\sigma_1\sigma_2 & \sigma_2^2 \end{pmatrix}^{-1} \begin{pmatrix} x - \mu_1 \\ y - \mu_2 \end{pmatrix}.$$

Marginální rozdělení¹ jsou $X \sim N(\mu_1, \sigma_1^2)$ a $Y \sim N(\mu_2, \sigma_2^2)$, ρ je koeficient korelace² (Viz obrázek 5)

Příklad č.15 (dvojrozměrné normální rozdělení)

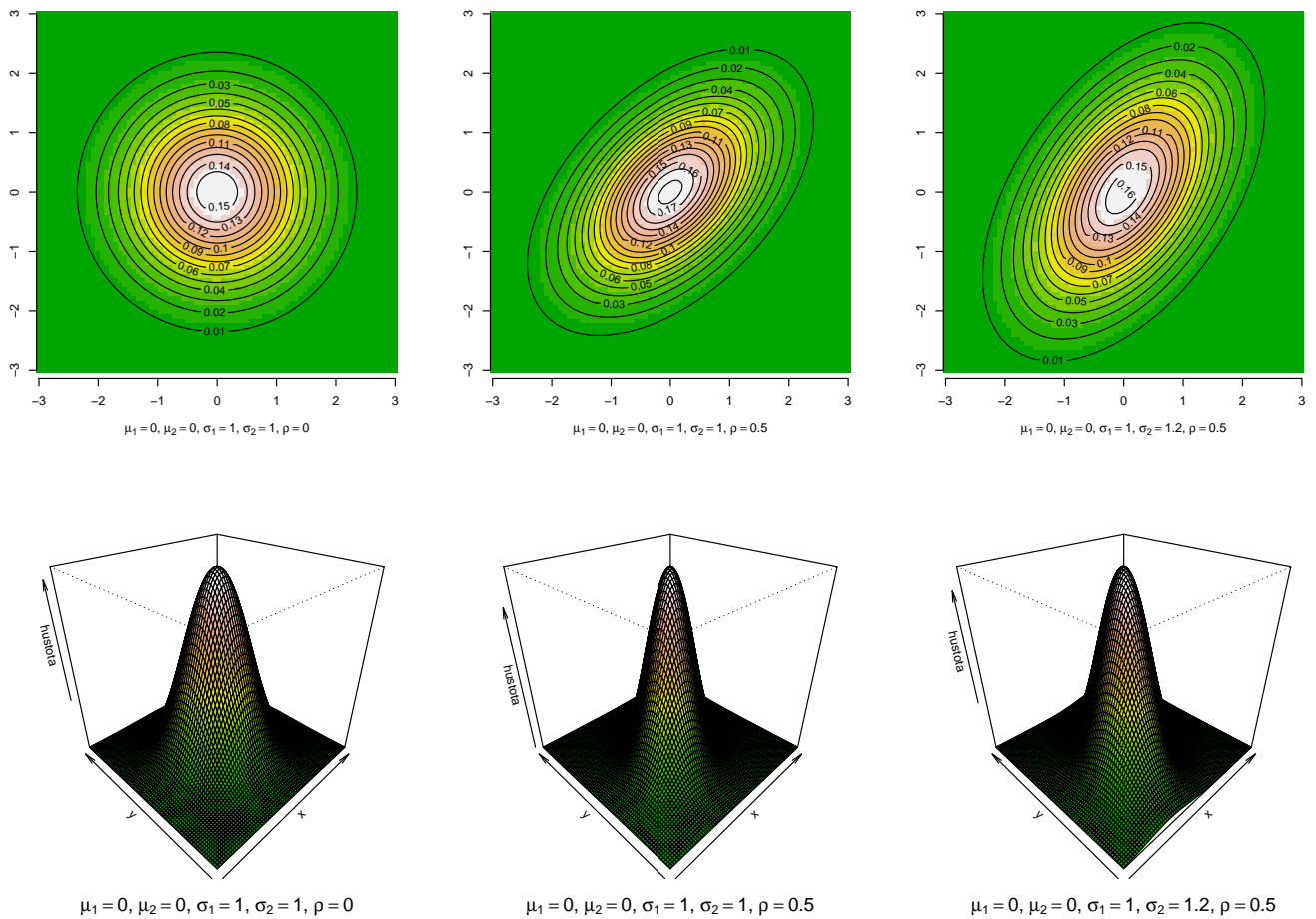
(1) Nakreslete hustotu dvojrozměrného normálního rozdělení $N_2(\boldsymbol{\mu}, \boldsymbol{\Sigma})$ pomocí funkce `image()` a superponujte ho s konturovým grafem hustoty toho stejného rozdělení pomocí funkce `contour()`. (2) Nakreslete hustotu dvojrozměrného normálního rozdělení $N_2(\boldsymbol{\mu}, \boldsymbol{\Sigma})$ pomocí funkce `persp()`. Hustotu rozsekejte na 12 intervalů, kde hodnoty v těchto intervalech budou odpovídat barvám `terrain.colors(12)`. Použijte následující parametry:

- $\mu_1 = 0, \mu_2 = 0, \sigma_1 = 1, \sigma_2 = 1, \rho = 0$;
- $\mu_1 = 0, \mu_2 = 0, \sigma_1 = 1, \sigma_2 = 1, \rho = 0.5$;
- $\mu_1 = 0, \mu_2 = 0, \sigma_1 = 1.2, \sigma_2 = 1, \rho = 0.5$.

Vzorové řešení je uvedeno na obrázku 5.

¹Marginální rozdělení je rozdělení náhodné proměnné, zde X nezávisle na Y a naopak Y nezávisle na X .

²Z tohoto příkladu je zřejmé, že na dostatečný popis dvojrozměrného normálního rozdělení potřebujeme pět parametrů, t.j. střední hodnotu a rozptyl pro marginální rozdělení náhodných proměnných X a Y a korelační koeficient $\rho = \rho(X, Y)$ popisující sílu lineárního vztahu X a Y .



Obrázek 5: Hustoty dvojrozměrného normálního rozdělení při různých parametrech (první řádek – konturový graf; druhý řádek - perspektivní trojrozměrný graf v podobě plochy); čím je ρ odlišnější od nuly, tím více se kontury liší od kruhů (mění se na elipsy); se zvyšujícím se rozdílem mezi σ_1 a σ_2 se zvětšuje rozdíl rozptýlení koncentrických kruhů ve směru jednotlivých os (říkáme, že rozdíl variability proměnných X a Y se zvětšuje.)

Příklad č.17 (standardizované normální rozdělení)

Náhodný vektor $(X, Y)^T$ má dvojrozměrné normální rozdělení

$$N_2(\mathbf{0}, \Sigma), \text{ kde } \mathbf{0} = (0, 0)^T \text{ a } \Sigma = \begin{pmatrix} 1 & \rho \\ \rho & 1 \end{pmatrix},$$

s hustotou

$$\phi(x, y) = f(x, y) = \frac{1}{2\pi\sqrt{1-\rho^2}} \exp\left\{-\frac{x^2 - 2\rho xy + y^2}{2(1-\rho^2)}\right\},$$

kde $(x, y)^T \in \mathbb{R}^2$, $\rho \in \langle -1, 1 \rangle$ jsou parametry, potom $\theta = (0, 0, 1, 1, \rho)$. Výraz v exponentu můžeme psát jako

$$-\frac{1}{2} \begin{pmatrix} x \\ y \end{pmatrix}^T \begin{pmatrix} 1 & \rho \\ \rho & 1 \end{pmatrix}^{-1} \begin{pmatrix} x \\ y \end{pmatrix},$$

marginální rozdělení jsou obě $N(0, 1)$ a ρ je koeficient korelace.

Příklad č.18 (standardizované normální rozdělení)

Nechť náhodnou proměnnou $X \sim N(\mu_1, \sigma_1^2)$ je největší výška mozkovny (**skull.pH**; v mm) a náhodnou proměnnou $Y \sim N(\mu_2, \sigma_2^2)$ je morfologická výška tváře (**face.H**; v mm). Nechť X a Y mají dvojrozměrné normální rozdělení s parametry $(\mu_1, \mu_2)^T$ a σ_1^2 , σ_2^2 a ρ jsou parametry kovarianční matice Σ . Když od náhodné proměnné X odpočítáme její střední hodnotu μ_1 a tento rozdíl podělíme odmocninou z rozptylu (σ_1), dostaneme náhodnou proměnnou Z_X , která má asymptoticky normální rozdělení se střední hodnotou $\mu_1 = 0$ a rozptylem $\sigma_1^2 = 1$, což zapisujeme jako $Z_X \sim N(0, 1)$. Pokud od náhodné proměnné Y odečteme její střední hodnotu μ_2 a tento rozdíl podělíme odmocninou z rozptylu (σ_2), dostaneme náhodnou proměnnou Z_Y , která má asymptoticky normální rozdělení se střední hodnotou $\mu_2 = 0$ a rozptylem $\sigma_2^2 = 1$, což zapisujeme jako $Z_Y \sim N(0, 1)$. Potom $(Z_X, Z_Y)^T$ má standardizované dvourozměrné normální rozdělení $N_2(\boldsymbol{\mu}, \Sigma)$ s parametry $\boldsymbol{\mu} = (0, 0)^T$ a $\sigma_1^2 = 1$, $\sigma_2^2 = 1$ a ρ jsou parametry kovarianční matice Σ .

Příklad č.19 (dvourozměrné normální rozdělení)

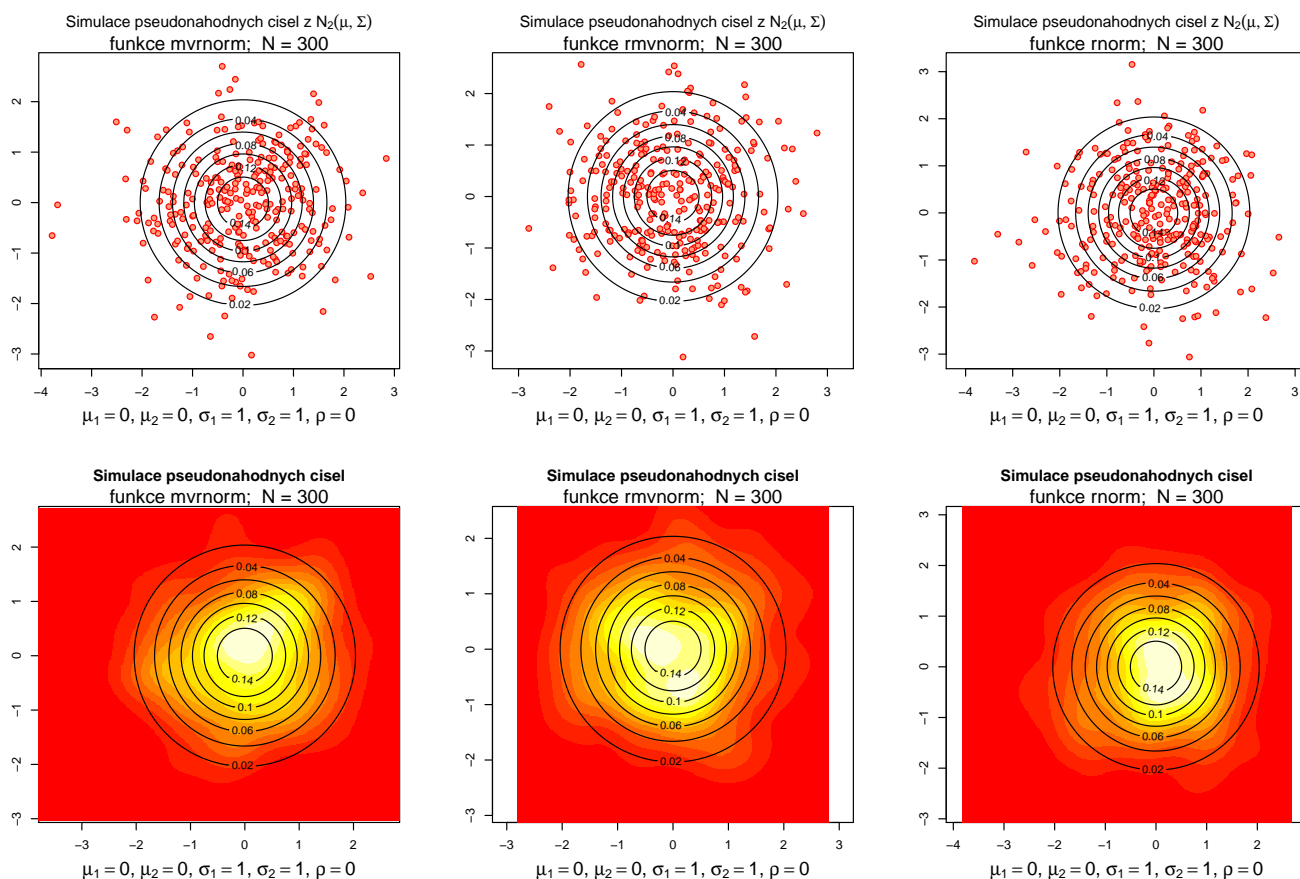
Simulaci pseudonáhodných čísel z $N_2(\boldsymbol{\mu}, \Sigma)$ můžeme v R vytvořit následujícími způsoby:

1. použitím funkce `mvrnorm()` z knihovny **MASS**;
2. použitím funkce `rmvnorm()` z knihovny **mvtnorm**
3. použitím funkce `rnorm()` a následujícího algoritmu:

Nechť $X_1 \sim N(0, 1)$ a $X_2 \sim N(0, 1)$; potom $(Y_1, Y_2)^T \sim N_2(\boldsymbol{\mu}, \Sigma)$, kde $\boldsymbol{\mu} = (\mu_1, \mu_2)^T$ je vektor středních hodnot a σ_1^2 a σ_2^2 a ρ jsou parametry kovarianční matice Σ , přičemž síla lineárního vztahu Y_1 a Y_2 je daná velikostí a znaménkem ρ ; $Y_1 = \sigma_1 X_1 + \mu_1$ a $Y_2 = \sigma_2(\rho X_1 + \sqrt{1 - \rho^2} X_2) + \mu_2$. Nasimulujte pseudonáhodná čísla Y_1 a Y_2 z $N_2(\boldsymbol{\mu}, \Sigma)$. Vypočítejte dvourozměrný jádrový odhad hustoty $(Y_1, Y_2)^T$ pomocí funkce `kde2d()`. Nakreslete jej také pomocí funkce `image()` a superponujte jej kontúrovým grafem hustoty dvourozměrného normálního rozdělení $N_2(\boldsymbol{\mu}, \Sigma)$ pomocí funkce `contour()`. Hustotu rozsekejte na 12 intervalů, kde hodnoty v těchto intervalech budou odpovídat barvám `terrain.colors(12)`. Při simulaci použijte následující parametry:

- (a) $\mu_1 = 0, \mu_2 = 0, \sigma_1 = 1, \sigma_2 = 1, \rho = 0$; (1) $n = 50$, (2) $n = 500$
- (b) $\mu_1 = 0, \mu_2 = 0, \sigma_1 = 1, \sigma_2 = 1, \rho = 0.5$; (1) $n = 50$, (2) $n = 500$
- (c) $\mu_1 = 0, \mu_2 = 0, \sigma_1 = 1, \sigma_2 = 1.2, \rho = 0.5$; (1) $n = 50$, (2) $n = 500$

Vzorové řešení viz obrázky 6.



Obrázek 6: Hustoty dvourozměrného normálního rozdělení

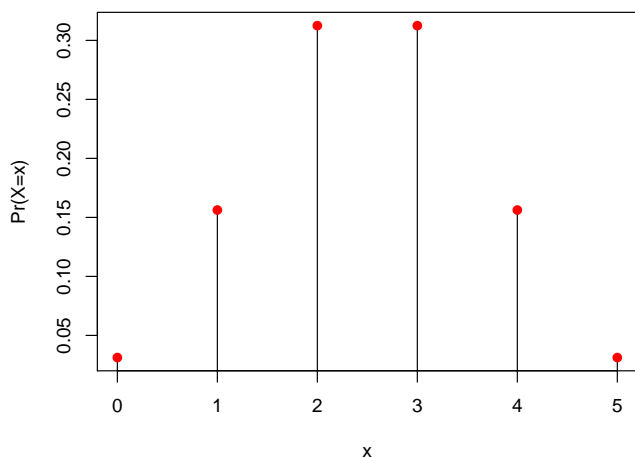
Příklad č.23 (binomické rozdělení, binomický experiment)

Experiment sestávající z fixního počtu Bernoulliho experimentů (ozn. N) se nazývá binomický experiment. Pravděpodobnost úspěchu označme p , pravděpodobnost neúspěchu $q = 1 - p$. Náhodná proměnná X je počet pozorovaných úspěchů po dobu experimentu. Pravděpodobnost $X = x$ za podmínky, že X pochází z binomického rozdělení $Bin(N, p)$, píšeme jako

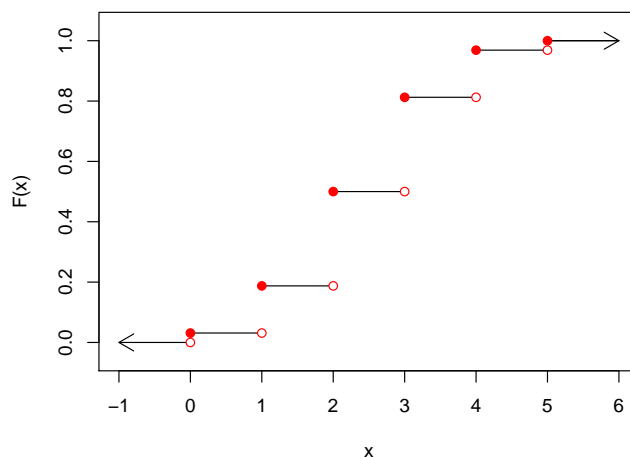
$$\Pr(X = x) = \binom{N}{x} p^x (1 - p)^{N-x}, x = 0, 1, \dots, N \quad (1)$$

(Ugarte a kol. 2008). Střední hodnota $E[X] = Np$ a rozptyl $Var[X] = Np(1 - p)$. Naprogramujte a zobrazte v R pravděpodobnostní funkci a (kumulativní) distribuční funkci pro $Bin(5, 0.5)$. Řešení viz obrázek 7.

Pravděpodobnosti funkce binomického rozdělení Bin(5,0.5)



Distribuční funkce binomického rozdělení Bin(5,0.5)



Obrázek 7: Pravděpodobnostní a distribuční funkce binomického rozdělení $Bin(5, 0.5)$

Příklad č.26 (Poissonovo rozdělení; počet havárií za týden)

Pokud každý z 50 milionů lidí řídí v Itálii řídí auto následující týden nezávisle, potom pravděpodobnost smrti při autonehodě bude 0.000002, kde počet úmrtí má binomické rozdělení $Bin(50mil, 0.000002)$ anebo limitní Poissonovo rozdělení s parametrem $\lambda = 50mil \times 0.000002 = 100$.

Příklad č.27 (Poissonovo rozdělení; pruské armádní jednotky)

Nechť početnosti úmrtí X jako následek kopnutí koněm v Pruských armádních jednotkách (Bortkiewicz, 1898) mají Poissonovo rozdělení s parametrem λ , tj. $X \sim Poiss(\lambda)$. Pravděpodobnost, že někdo bude smrtelně zraněný v daném dni, je extrémně malá. Mějme 10 vojenských jednotek za 20-letou periodu s rozsahem $M = 200$ ($200 = 10 \times 20$), kde, při početnostech úmrtí $n = 1, 2, 3, 4, 5+$ v dané jednotce a v daném roce, zaznamenáváme také početnosti vojenských jednotek m_n při daném n , kde $M = \sum m_n$ (viz tabulka). Vypočítejte očekávané početnosti, za předpokladu $X \sim Poiss(\lambda)$, kde

$$\lambda = \frac{\sum_n n m_n}{\sum_n m_n}. \tag{2}$$

n	0	1	2	3	4	5+
m_n	109	65	22	3	1	0

Příklad č.28 (podíl chlapců a dívek v rodinách)

Nechť X představuje početnost chlapců mezi dětmi v rodinách. Zde můžeme předpokládat, že $X \approx Bin(N, p)$, tj. rodina může mít vychýlený poměr pohlaví dětí ve směru k chlapcům nebo k dívkám. V realitě tedy můžeme mít velmi mnoho rodin jen s chlapci nebo jen s děvčaty a nemáme dostatek rodin s poměrem pohlaví blízkým 51 : 49 (poměr chlapců ku dívkám). Z toho nám vyplývá, že rozptyl početnosti chlapců bude ve skutečnosti větší než rozptyl předpokládaný binomickým rozdělením $Bin(n, P)$.

Příklad č.29 (overdispersion v binomickém modelu)

V klasické studii poměru pohlaví u lidí z roku 1889 na základě záznamů z nemocnic v Sasku (více informací viz Lindsey a Altham, (1998)) zaznamenal Geissler (1889) rozdělení počtu chlapců v rodinách. Mezi $M = 6115$ rodinami s $N = 12$ dětmi pozoroval následující početnosti chlapců (n jsou početnosti chlapců a m_n početnosti rodin s n chlapci).

n	0	1	2	3	4	5	6	7	8	9	10	11	12
m_n	3	24	104	286	670	1033	1343	1112	829	478	181	45	7

Vypočítejte m_n za předpokladu, že početnosti chlapců X v rodinách mají binomické rozdělení s parametry

$$\pi = \frac{\sum_{n=0}^N nm_n}{NM} = 0.5192 \quad (3)$$

a $N = 12$, ozn. $X \sim \text{Bin}(N, \pi)$.

Příklad č.30 (overdispersion v Poissonově modelu)

Mějme početnosti úrazů n mezi dělníky v továrně, kde početnosti dělníků m_n při daném n (viz tabulka) (Greenwood a Yule (1920)).

n	0	1	2	3	4	≥ 5
m_n	447	132	42	21	3	2

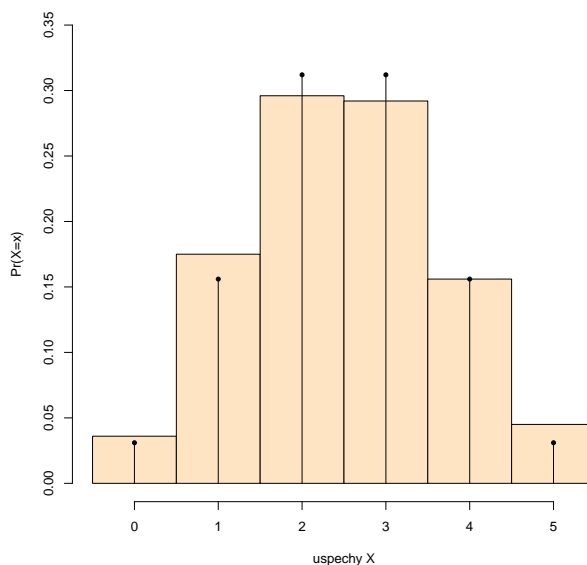
Vypočítejte očekávané početnosti dělníků za předpokladu, že početnosti úrazů na dělníka X mají Poissonovo rozdělení s parametrem

$$\lambda = \frac{\sum_n nm_n}{\sum_n m_n} = 0.47. \quad (4)$$

Ozn. $X \sim \text{Poiss}(\lambda)$.

Příklad č.31 (binomické rozdělení, simulační studie)

Vygenerujte pseudonáhodná čísla X (početnosti úspěchů) opakovaná M -krát ($M = 1000$) z $\text{Bin}(N, p)$, kde $N = 5$ a $p = 0.5$. Vytvořte tabulku vygenerovaných (simulovaných) i teoretických relativních početností (pro $n = 0, 1, \dots, 5$). Superponujte histogram vygenerovaných pseudonáhodných čísel s teoretickou pravděpodobnostní funkcí (viz obrázek 8).



Obrázek 8: Histogram vygenerovaných pseudonáhodných čísel superponovaný teoretickou pravděpodobnostní funkcí $\text{Bin}(N, p)$.

Příklad č.32 (binomické vs normální rozdělení)

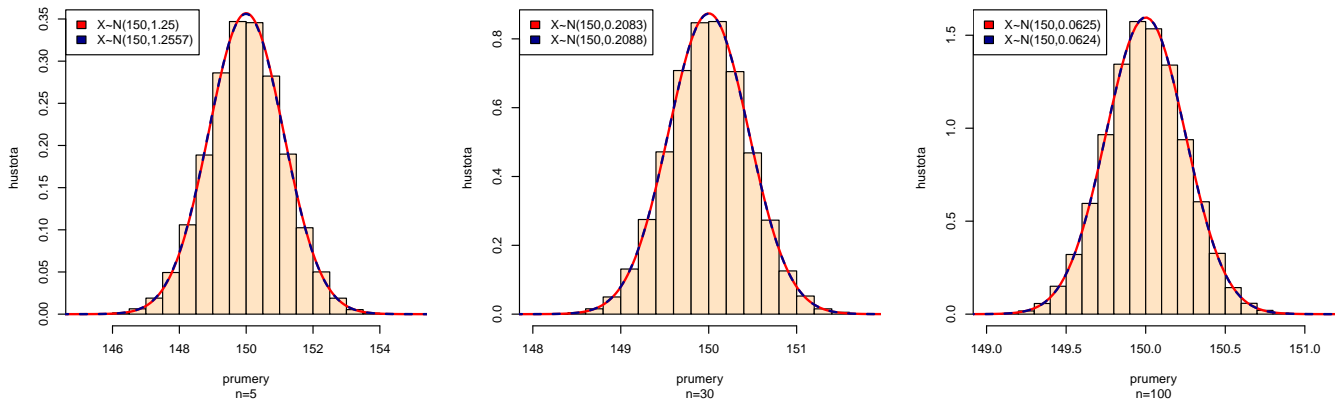
Nechť $X_N \sim \text{Bin}(N, p)$, potom můžeme aproximovat binomické rozdělení normálním následovně: $X_N \sim N(Np, Np(1-p))$, kde také platí

$$Z_N = \frac{X_N - Np}{\sqrt{Np(1-p)}} \sim N(0, 1).$$

Ukažte, že CLV platí pro $N = 100$ a $p = 0.5$ na tři desetinná místa.

Příklad č.33 (normální rozdělení, simulační studie)

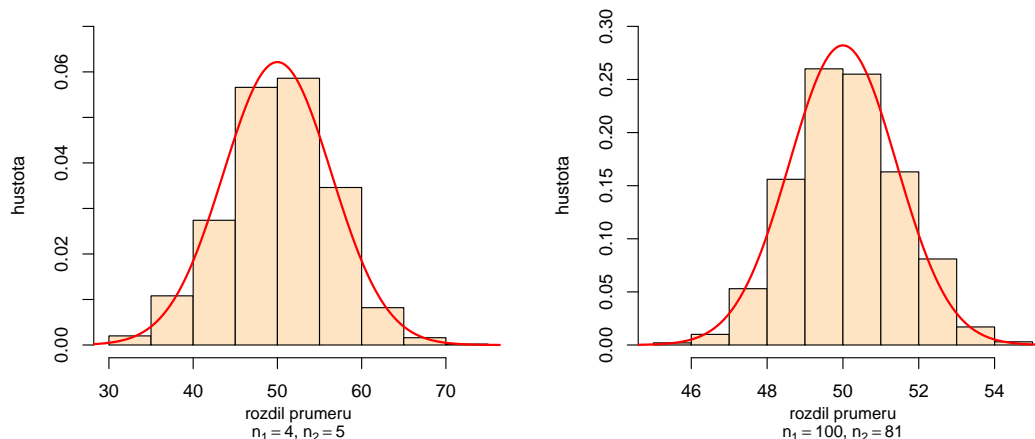
Na základě simulační studie proveďte, že pokud $X \sim N(150, 6.25)$, potom $[\bar{X}]_n \sim N(150, 6.25/n)$. Použijte $n = 30$. Pro každou simulaci X vypočítejte aritmetické průměry \bar{x}_m , $m = 1, 2, \dots, M$, kde $M = 500\,000$. Superponujte je histogramem v relativní škále s teoretickou křivkou hustoty pro \bar{X}_n . Vypočítejte $\Pr(\bar{X}_n > 151)$ ze simulovaných dat a porovnejte tento výsledek s teoretickou (očekávanou) pravděpodobností. Řešení viz obrázek 9.



Obrázek 9: Histogram vygenerovaných průměrů superponovaný teoretickou křivkou hustoty \bar{X}_n .

Příklad č.34 (normální rozdělení, simulační studie)

Nechť $X \sim N(\mu_1, \sigma_1^2)$ a $Y \sim N(\mu_2, \sigma_2^2)$. Potom $\bar{X}_{n_1} - \bar{Y}_{n_2} \sim N(\mu_1 - \mu_2, \frac{\sigma_1^2}{n_1} + \frac{\sigma_2^2}{n_2})$. Generujte pseudonáhodná čísla X a Y rozdělení $N(\mu_j, \sigma_j^2)$, $j = 1, 2$, kde $\mu_1 = 100$, $\sigma_1 = 10$, $\mu_2 = 50$, $\sigma_2 = 9$ při (a) $n_1 = 4$, $n_2 = 5$, (b) $n_1 = 100$, $n_2 = 81$. Pro každou simulaci X a Y vypočítejte rozdíl $\bar{x}_m - \bar{y}_m$, $m = 1, 2, \dots, M$, kde $M = 1000$. Superponujte histogram těchto rozdílů v relativní škále s teoretickou křivkou hustoty rozdílu $\bar{X}_{n_1} - \bar{Y}_{n_2}$. Pro případ (a) i (b) vypočítejte $\Pr(\bar{X}_{n_1} - \bar{Y}_{n_2} < 52)$ na základě empirického (vygenerovaného) a teoretického rozdělení $\bar{X}_{n_1} - \bar{Y}_{n_2}$.



Obrázek 10: Histogram vygenerovaných rozdílů průměrů superponovaný teoretickou křivkou hustoty rozdělení rozdílů výběrových aritmetických průměrů

Příklad č.35 (statistika)

Mějme náhodný výběr $(X_1, X_2, \dots, X_n)^T$, kde $X_i \in \mathbb{R}, i = 1, 2, \dots, n$, potom příklady statistik jsou:

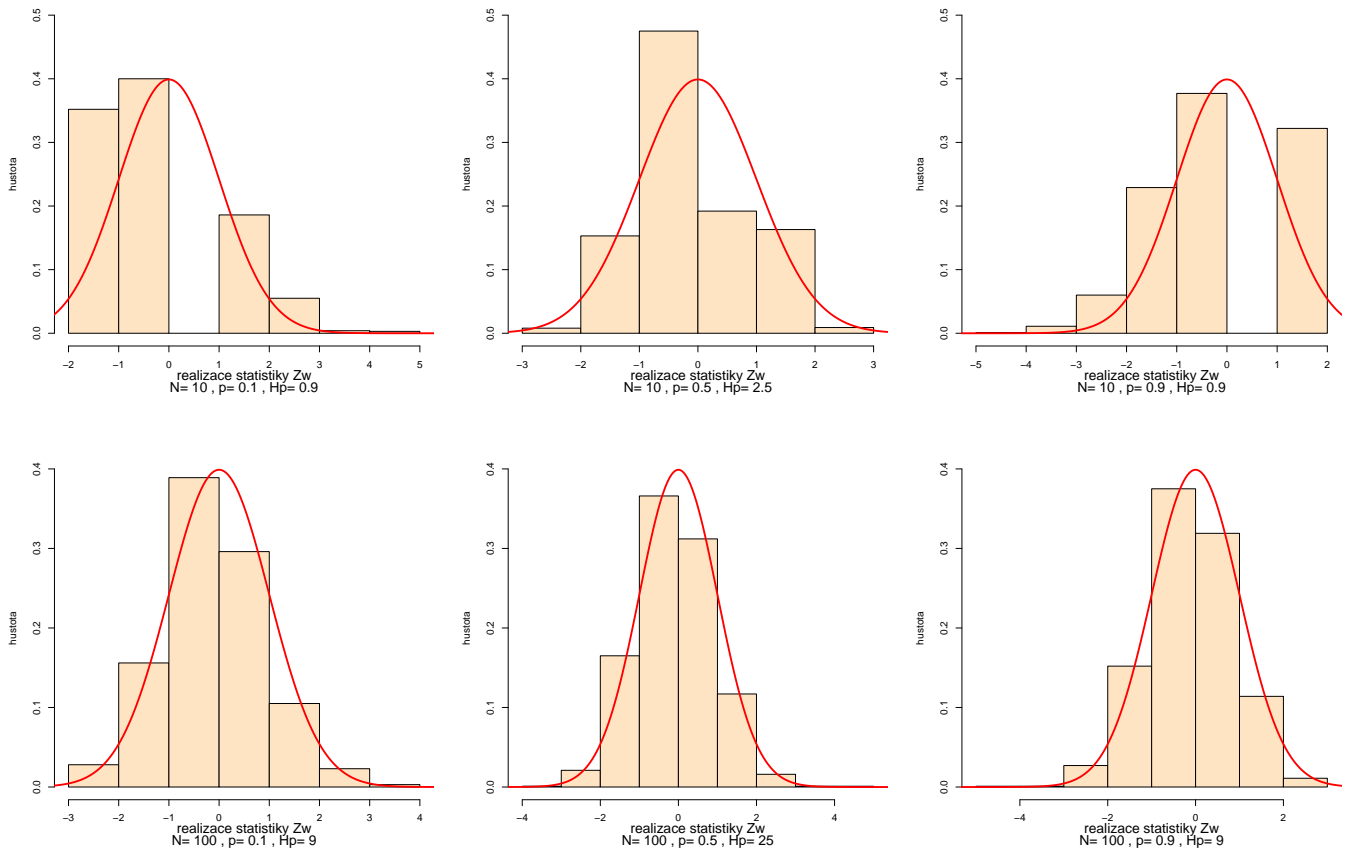
- $T_1 = \sum_{i=1}^n X_i \in \mathbb{R}$,
- $T_2 = \sum_{i=1}^n X_i^2 \in \mathbb{R}^+ \cup \{0\}$,
- $T_3 = (\sum_{i=1}^n X_i, \sum_{i=1}^n X_i^2) \in \mathbb{R}^2$.

Příklad č.36 (testovací statistika, simulační studie)

Na základě simulační studie proveďte, že pokud náhodná proměnná X má asymptoticky binomické rozdělení $Bin(N, p)$, potom testovací statistika

$$Z_W = \frac{X/N - p}{\sqrt{p(1-p)/N}}$$

má asymptoticky normální rozdělení $N(0, 1)$. Použijte $p = 0, 0.1, 0.5, 0.9$ a 1 , a $N = 5, 10, 30, 50$ a 100 . Okomentujte výsledky ve spojitosti s Haldovou podmínkou $Np(1-p) > 9$. Pro každou simulaci X vypočítejte $z_{W,m}$, $m = 1, 2, \dots, M$, kde $M = 1000$. Superponujte histogram vygenerovaných testovacích statistik v relativní škále s teoretickou křivkou hustoty Z_W .

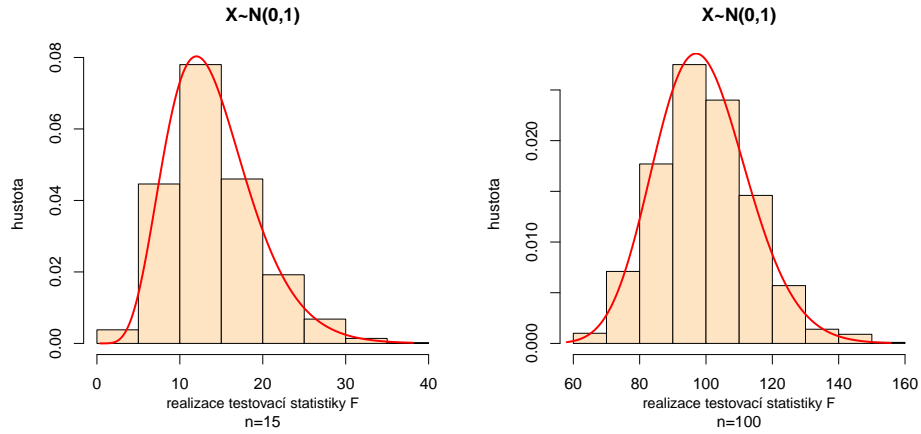


Obrázek 11: Histogram vygenerovaných testovacích statistik v relativní škále superponovaný s teoretickými křivkami hustoty.

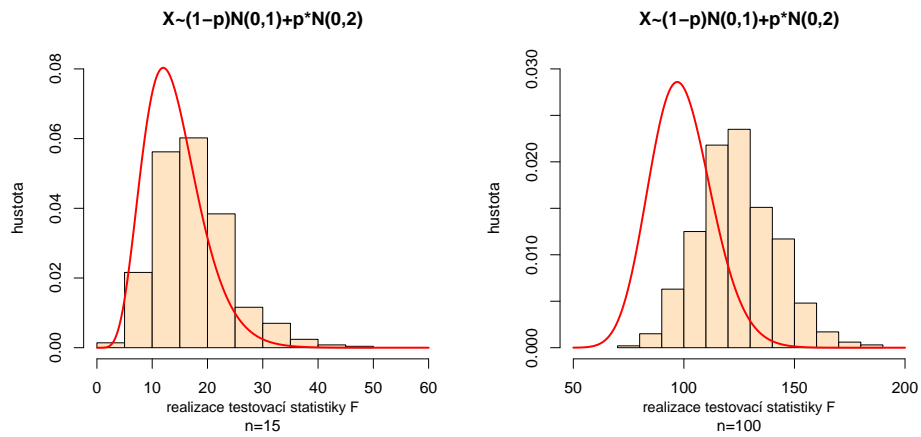
Příklad č.36 mluví o použití jednovýběrové testovací statistiky pro parametr binomického rozdělení (pravděpodobnost) pro různé pravděpodobnosti a různé počtynosti. Pokud není Haldova odmínka splněná, není možné testovací statistiku použít.

Příklad č.37 (testovací statistika, simulační studie)

Na základě simulační studie proveřte, že pokud (a) $X \sim N(\mu, \sigma^2)$, kde $\mu = 0$, $\sigma^2 = 1$ a (b) $X \sim Exp(\lambda)$, kde $\lambda = 1$, $E[X] = 1$ a $Var[X] = 1$, potom testovací statistika $F = \frac{(n-1)S^2}{\sigma^2}$ má asymptoticky χ_{n-1}^2 rozdělení o $n - 1$ stupních volnosti. Použijte rozsahy náhodných výběrů $n = 15$ a $n = 100$. Pro každou simulaci X vypočítejte $F_{poz,m}$, $m = 1, 2, \dots, M$, kde $M = 1000$. Superponujte histogram vygenerovaných testovacích statistik v relativní škále s teoretickou křivkou hustoty F .



Obrázek 12: Histogram vygenerovaných testovacích statistik v relativní škále superponovaný s teoretickými křivkami hustoty $N(0, 1)$.



Obrázek 13: Histogram vygenerovaných testovacích statistik v relativní škále superponovaný s teoretickými křivkami hustoty $(1 - p)N(0, 1) + pN(0, 2)$.