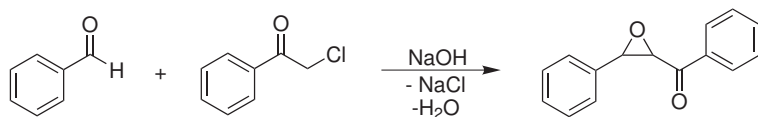
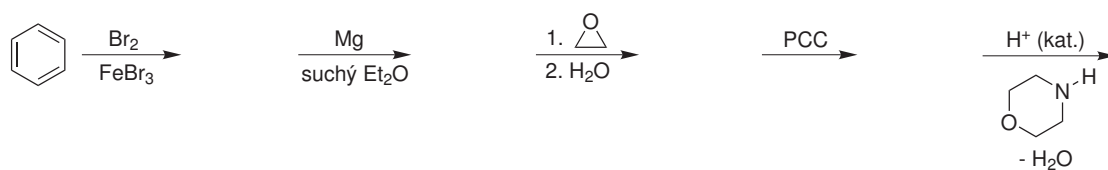


## Domácí úkol č. 3

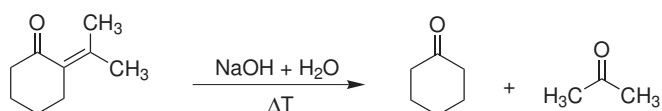
1. Navrhněte mechanismy, který vysvětlí průběh následující reakce a vznik uvedeného produktu.



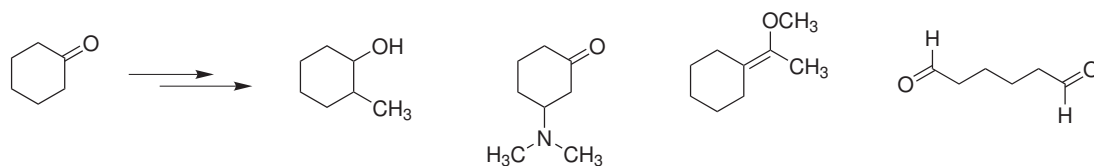
2. Doplněte meziprodukty a produkt následující sekvence reakcí.



3. Navrhněte mechanismus, který vysvětlí průběh následující reakce a vznik uvedených produktů.



4. Navrhněte, jak byste z cyklohexanonu připravili následující sloučeniny:



5. Navrhněte mechanismus, který vysvětlí průběh následující reakce a vznik uvedeného produktu.

