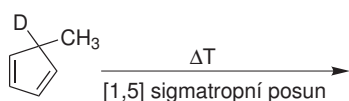
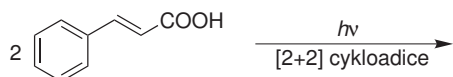
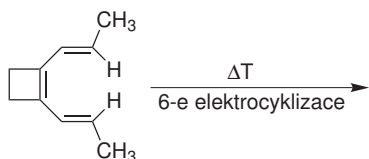
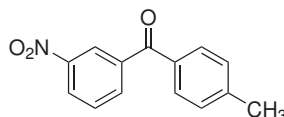
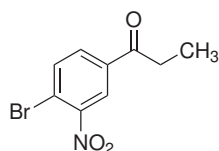


## Domácí úkol č. 5

1. Doplňte produkty následujících reakcí.



2. Navrhněte přípravu následujících látek z benzenu.



3. Následující schéma zachycuje přípravu látky užívané jako lokální anestetikum. Látka vzniká reakcí látek **A** a **B** a následnou redukcí (hydrogenací) produktu této vzájemné reakce. Doplňte všechny meziproducty i konečný produkt reakce.

