

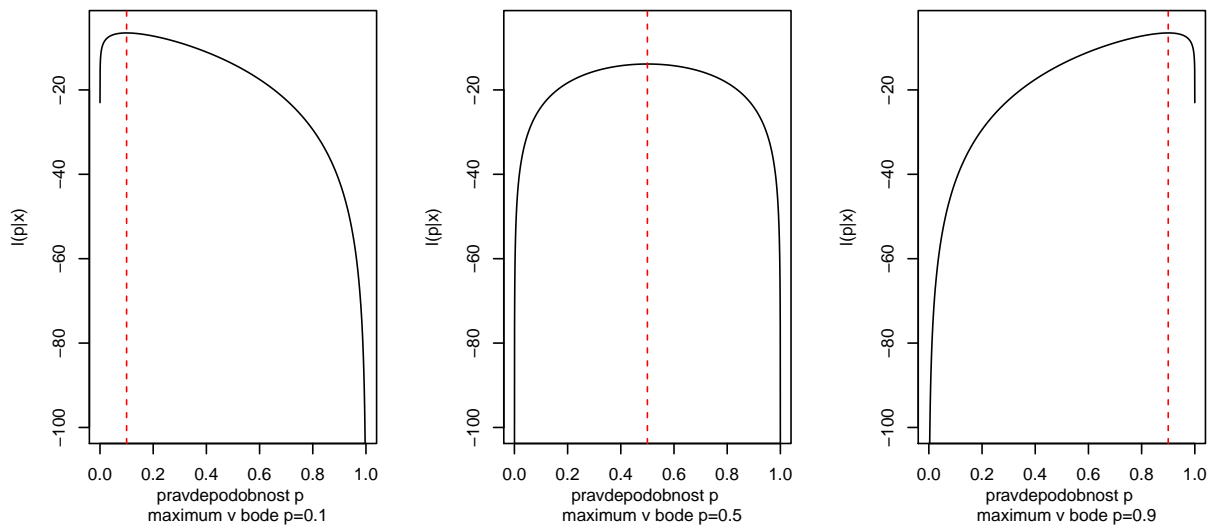
Binomické rozdělení

Příklad 1 (binomické rozdělení; maximálně věrohodný odhad p). Necht' $X \sim \text{Bin}(N, p)$ a realizace X jsou $x = n$. Předpokládejme, že jsme pozorovali (a) $x = 2$, (b) $x = 10$ a (c) $x = 18$ úspěchů v $N = 20$ pokusech.

- Pomocí R vypočítejte maximálně věrohodný odhad p . Výsledek zobrazte do grafu spolu s logaritmickou funkcí věrohodnosti.
- Naprogramujte Newton-Raphsonovu iterační metodu. Touto metodou nahraďte funkci `optimize()`, nalezněte maximálně věrohodný odhad parametru p , výsledek zanepte do grafu spolu s logaritmickou funkcí věrohodnosti (grafy budou stejné, jako grafy vygenerované v části (a)).
- Pomocí R vypočítejte maximálně věrohodný odhad p . Výsledek zobrazte do grafu spolu s funkcí věrohodnosti.

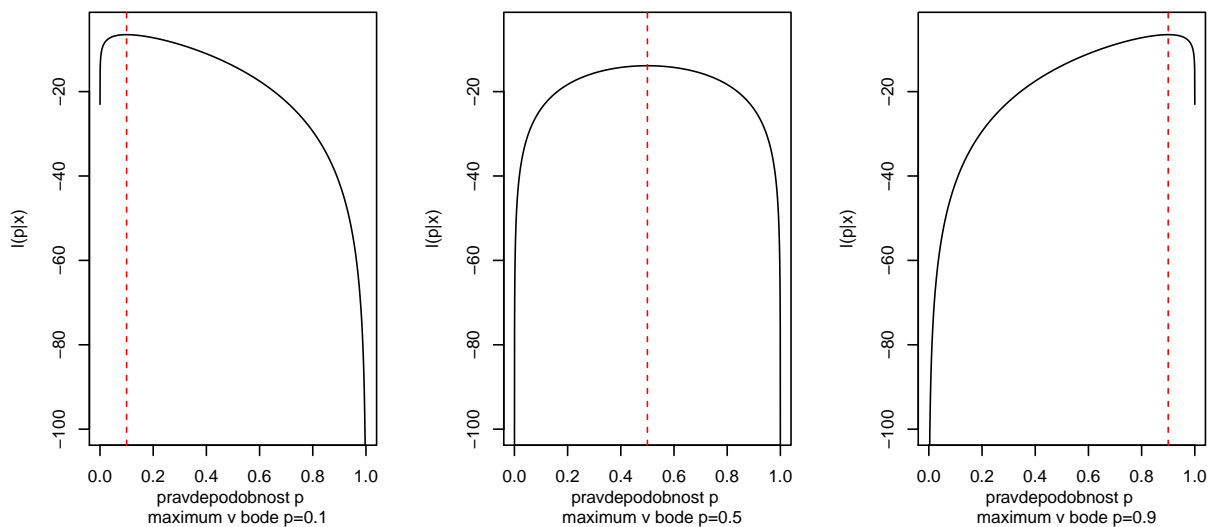
```
ad a) ## [1] 0.1000006  
## [1] 0.5  
## [1] 0.8999994
```

Logaritmus verohodnostni funkce + MLE parametru p – funkce optimize()



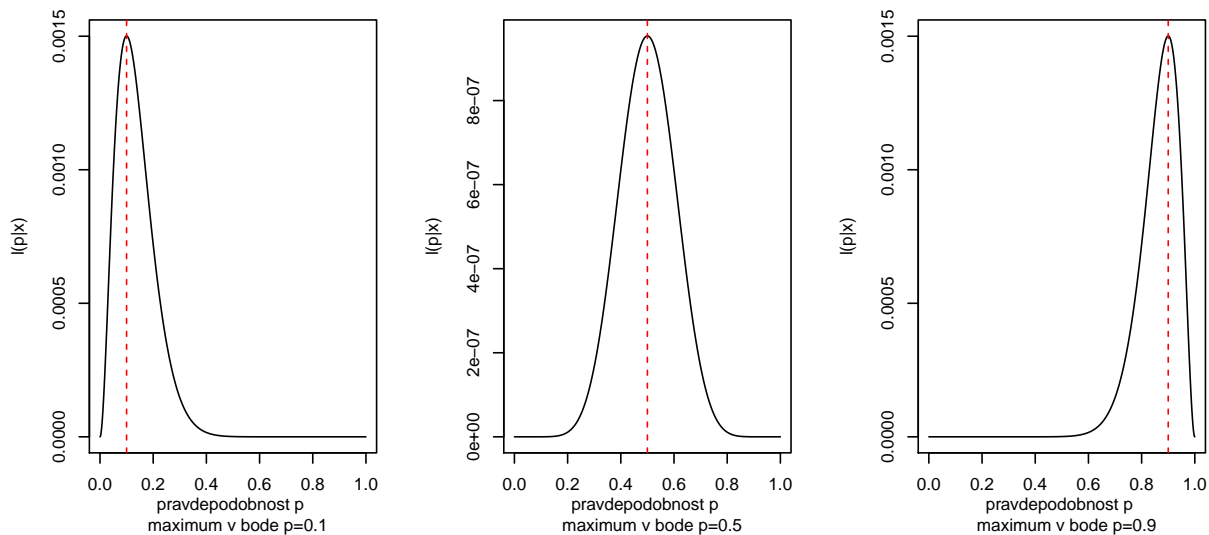
```
ad b) ## [1] 0.1  
## [1] 0.5  
## [1] 0.9
```

Logaritmus verohodnostni funkce + MLE parametru p – Newton Raphsonova metoda



ad c) ## [1] 0.09998216
[1] 0.5
[1] 0.9000178

Verohodnostni funkce + MLE parametru p – funkce optimize()



Příklad 2 ($\mathcal{I}(\hat{p})$ a rozptyl pro p ; $X \sim Bin(N, p)$). Z funkce věrohodnosti odvoďte pozorovanou Fisherovu míru informace $\mathcal{I}(\hat{p})$ a rozptyl $\widehat{Var}[\hat{p}]$.

Příklad 3 (maximálně věrohodné odhady; binomické rozdělení). Za předpokladu, že náhodná proměnná X má binomické rozdělení, vypočítejte maximálně věrohodný odhad \hat{p} pomocí logaritmu funkce věrohodnosti $l(p|\mathbf{x})$. Porovnejte tento odhad s výrazem $\sum_{i=1}^N x_i/N$. Realizacemi náhodné proměnné X jsou následující binární proměnné:

- (a) pohlaví (sex; data: one-sample-probability-sexratio.txt, kde označení pohlaví 'dívka' ('f') přeznačíme na 1 a označení pohlaví 'chlapec' ('m') přeznačíme na 0;
- (b) pohlaví (sex; data: two-samples-probabilities-sexratio.txt), kde označení pohlaví 'muž' ('m') přeznačíme na 1 a označení pohlaví 'žena' ('f') přeznačíme na 0.

V případě (a) počítáme pravděpodobnost výskytu děvčat a v případě (b) pravděpodobnost výskytu chlapců.

```
## [1] "a) Odhad parametru p= 0.4804"
## [1] "b) Odhad parametru p= 0.5274"
```

Příklad 4. 1. Nakreslete škálovaný logaritmus funkce věrohodnosti binomického rozdělení. Na x -ové ose bude p a na y -ové ose $\ln \mathcal{L}(p) = l(p|\mathbf{x}) - \max(l(p|\mathbf{x}))$. Porovnejte $\ln \mathcal{L}(p)$ s kvadratickou aproximací vypočítanou pomocí Taylorova rozvoje $\ln \mathcal{L}(p) = \ln \left(\frac{L(p|\mathbf{x})}{L(\hat{p}|\mathbf{x})} \right) \approx -\frac{1}{2} \mathcal{I}(\hat{p})(p - \hat{p})^2$.

- 2. Nechť skóre funkce $S(p) = \frac{\partial}{\partial p} \ln L(p|\mathbf{x})$. Vezmeme-li derivaci kvadratické aproximace uvedené výše, dostaneme $S(p) = -\mathcal{I}(\hat{p})(p - \hat{p})$ anebo $-\mathcal{I}^{-1/2}(\hat{p})S(p) \approx \mathcal{I}^{1/2}(\hat{p})(p - \hat{p})$. Potom zobrazením pravé strany na x -ové ose a levé strany na y -ové ose dostaneme asymptoticky lineární funkci s jednotkovým sklonem. Asymptoticky také platí $\mathcal{I}^{1/2}(\hat{p})(p - \hat{p}) \sim N(0, 1)$. Je postačující mít rozsah x -ové osy $(-2; 2)$, protože funkce je asymptoticky (lokálně) lineární na tomto intervalu. Rozumně škálujte y -vou osu. Zobrazte pro (a) $n = 8, N = 10$, (b) $n = 80, N = 100$ a (c) $n = 800, N = 1000$ ($p \in (0.5; 0.99)$). Okomentujte rozdíly mezi (a), (b) a (c).

