

RG Afrika, Austrálie a Oceánie – závěrečné opakování

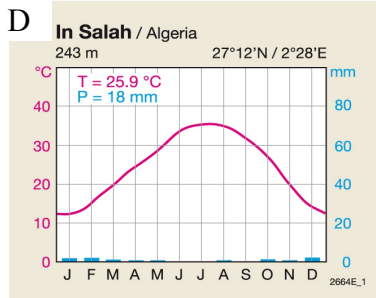
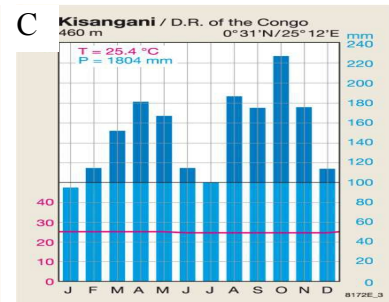
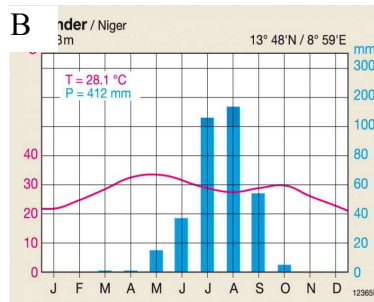
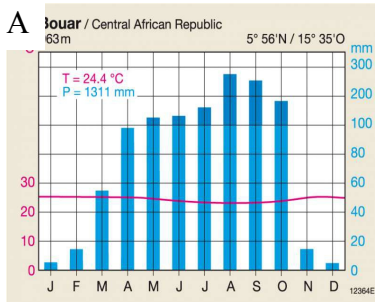
Řešení vybraných úloh

AFRIKA

2. Vypiš a zakroužkuj v mapě tři pohoří sopečného původu.

Např. Ahaggar, Tibesti, Kamerunská hora, Dárfúr, Kilimanžáro, Mt. Keňa, ...některé jsou vulkanické jen částečně

3. Přiřaď klimadiagram ke státu: Alžírsko, D. R. Kongo, Středoafriická republika, Niger



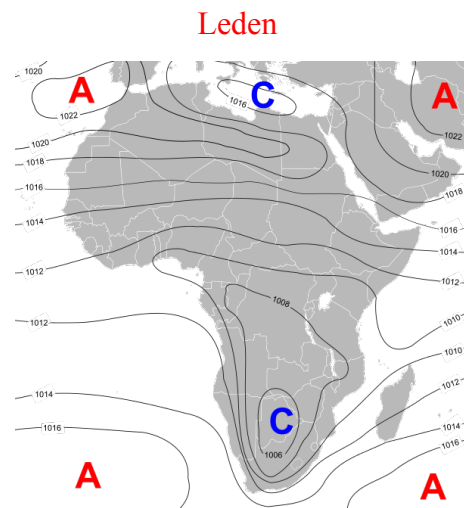
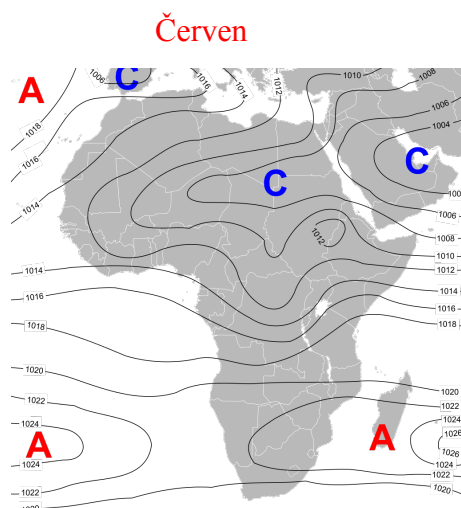
A) Středoafriická republika

B) Niger

C) D.R. Kongo

D) Alžírsko

4. Prohlédni si mapy tlakových útvarů a rozhodni, která mapa zobrazuje stav v lednu, a která stav v červnu.



6. Podle tabulky údajů poznaj a doplň řeku: Zambezi, Volta, Orange, Nil, Niger, Kongo

řeka	Kongo	Niger	Nil	Orange	Volta	Zambezi
délka	4 667 km	4 160 km	6 671 km	1 860 km	467 km	2 574 km
průměrný průtok	41 800 m ³ /s	8 630 m ³ /s	2 830 m ³ /s	350 m ³ /s	1 210 m ³ /s	7 000 m ³ /s
plocha povodí	3 680 000 km ²	2 092 000 km ²	3 400 000 km ²	1 036 000 km ²	388 000 km ²	1 570 000 km ²

7. Spoj hlavní město a stát.

Angola – Luanda, Botswana - Gaborone, Etiopie – Adid Abeba, Ghana - Accra, JAR - Pretoria, Maroko - Rabat, Nigérie - Abuja, Somálsko - Mogadišo, Tanzanie - Dodoma, Uganda - Kampala, Zambie- Lusaka

8. Vypiš tři státy, kde se těží:

např. <http://solarey.net/wp-content/uploads/2015/02/AFRICAS-NATURAL-RESOURCES.jpg>
ropa - uhlí - kobalt - diamanty - zlato

9. Jaký je úřední jazyk v těchto státech:

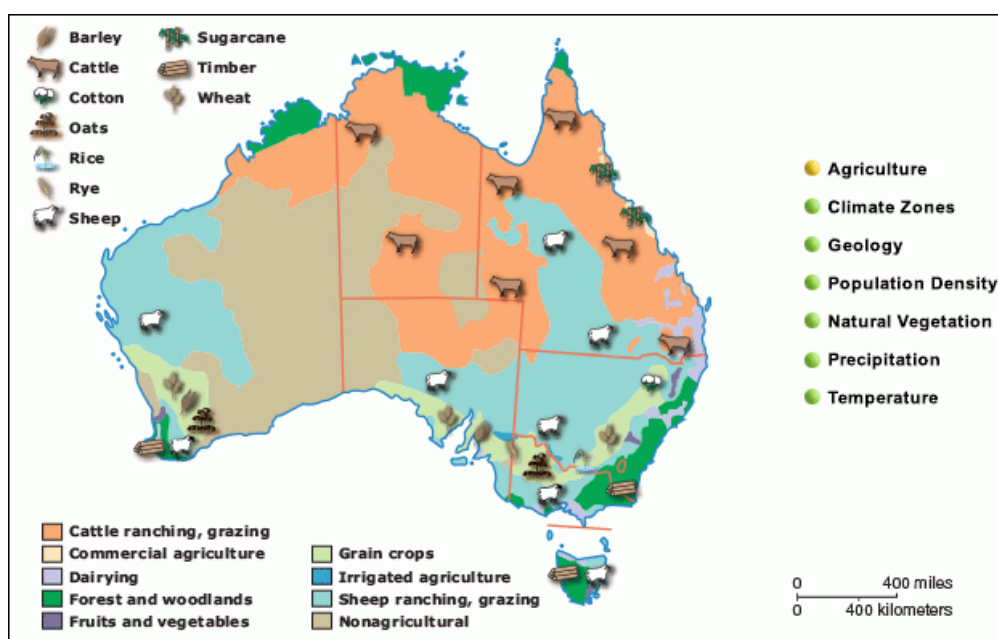
Alžírsko – arabština a berberština, Niger - francouzština, Nigérie - angličtina, Dem. rep. Kongo - francouzština, Angola - portugalština, Namíbie - angličtina, Etiopie - amharština, Ghana - angličtina, Pobřeží slonoviny - francouzština

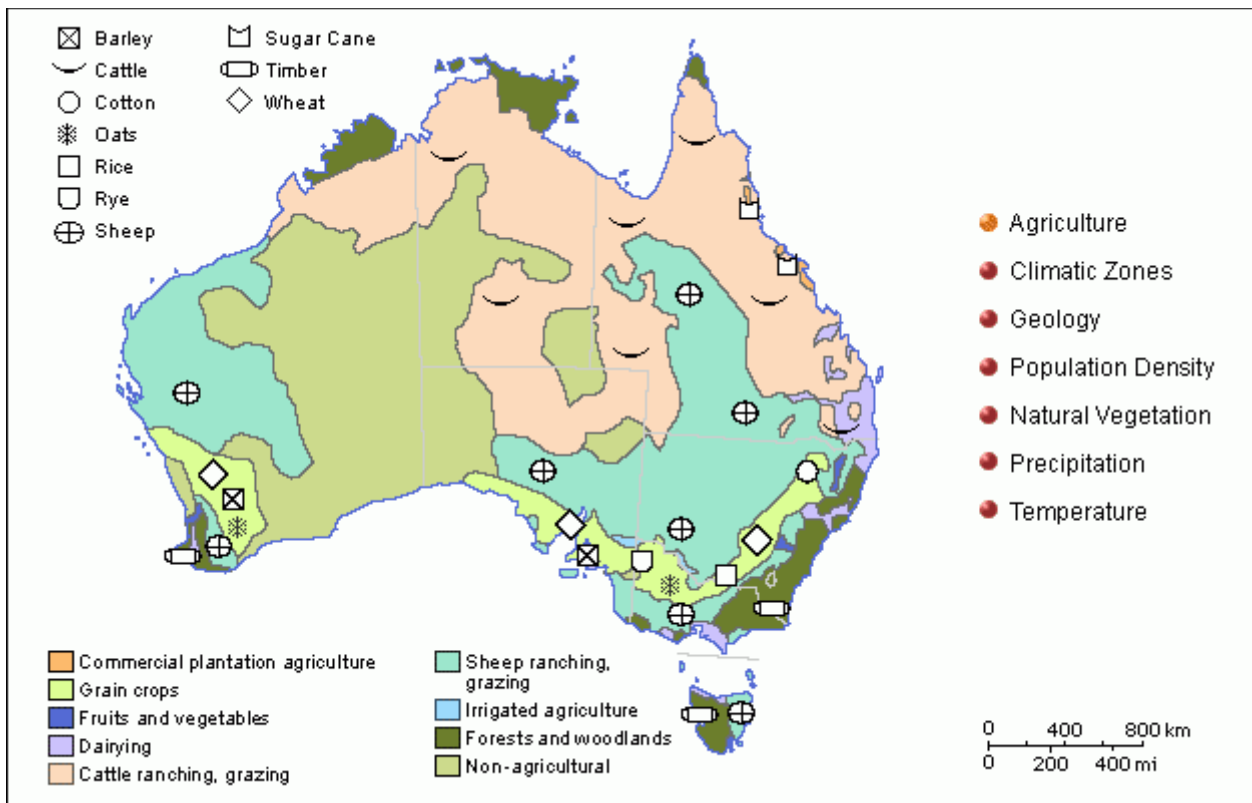
AUSTRÁLIE A OCEÁNIE

10. Vypiš pět významných přístavů v Austrálii a Oceánii.

Austrálie: Port Hedland, Dampier, Sydney, Adelaide, Brisbane, Port Kembla, Newcastle, Melbourne
Nový Zéland: Auckland, Wellington, Christchurch
Oceánie: Honolulu (Havaj), Suva (Fidži), Apia (Samoa), Nouméa (N. Kaledonie), Papeete (Fr. Polynésie), Agana (Guam)

11. Které zemědělské produkty (rostlinné i živočišné výroby) jsou typické pro tuto oblast?





12. Jaký název se v Austrálii používá pro vádí? Vysvětli, co to je.

Creek = vyschlé koryto řek v aridních oblastech, při občasných srážkách jím protéká voda

13. Nakresli rozložení tlakových útvarů v lednu a červnu:

