


Téma P01: Mikroskopie a kultivace v lékařské mikrobiologii. Testování citlivosti na antibiotika. Diagnostika stafylokoků

K nastudování: Gramovo barvení. Kultivace a půdy v klinické mikrobiologii. Testy citlivosti na antibiotika. Rod *Staphylococcus*. (z internetu, učebnic apod.)

Úkol 1: Mikroskopie infekčního materiálu

V mikroskopu sledujte preparát z hemokultury obarvený podle Grama. Popište a zakreslete sledované útvary. Hemokultura je vzorek krve, smíchaný s transportně-kultivačním médiem a zaslaný do laboratoře. Celá zaslaná lahvička se kultivuje v automatickém kultivátoru a v případě pozitivity se mimo jiné provádí mikroskopie; více o hemokulturách a hemokultivaci se dozvíte v praktiku P13.

Všimněte si přítomnosti bakterií (jejich tvaru, barvitelnosti a množství) dále také erytrocytů a dalších pozorovaných objektů. Nezapomeňte obrázek kreslit barevně a popsat vše, co vidíte. Pravidla z prvního jarního praktika stále platí!



Tabulka pro souhrn výsledků úkolů 2 až 7 (k postupnému vyplnění):

Kmen		K	L	M	N
Gramovo barvení – Úkol 2					
Úkol 3: Kultivace (krevní agar)	Velikost				
	Barva				
	Tvar				
	Profil				
	Hemolýza				
	Jiné				
Úkol 4: růst na KA + 10 % NaCl					
Úkol 5: kataláza (pište „+“ či „-“)					
DÍLČÍ ZÁVĚR					
Úkol 6a: Test clump. faktor (+/-)					
Úkol 6b: Plasma-koaguláz. test (+/-)					
Úkol 6c: Test hyaluronidázy (+/-)					
Úkol 7: STAPHYtest 16					
KONEČNÝ ZÁVĚR					

Pokud některý test u některého kmene neprovádíte, proškrtněte ho. Konečný závěr ale napište pro všechny.

Úkol 2a: Nativní preparát

Nativní preparát se v klinické mikrobiologii používá hlavně u pozorování hub, parazitů a pohyblivých bakterií. Může ale sloužit také k pozorování buněk lidského těla, které se vyskytují v klinických vzorcích. Nejčastěji jsou to epiteliální buňky sliznic (většinou dlaždicový epitel) a leukocyty, případně i erytrocyty. Zhotovte a prohlédněte nativní preparát z poševního výtěru, zaslaného v transportním médiu CAT. Použijte krycí sklíčko. Pozorujte při zvětšení 400 – 600×(použijte tedy objektiv zvětšující 40× nebo 60×). Posun

makrošroubem směrem dolů provádějte (nejen v tomto praktiku) za zrakové kontroly z boku, abyste nerozbili krycí sklíčko či dokonce objektiv!

Úkol 2b: Příprava fixovaného preparátu, prohlížení kmenů barvených Gramem

Úkol provádějte se všemi čtyřmi kmeny (K, L, M, N).

Přípravte fixované preparáty: Smíchejte trochu hmoty mikrobů z agarové misky s kapkou fyziologického roztoku na sklíčku. Rozetřete kapku po celém sklíčku, aby vám rychleji uschla. Nechte sklíčko uschnout, nebo sušení urychlete jeho umístěním poblíž plamene (ne přímo do plamene). Teprve až je preparát suchý, můžete ho fixovat: protáhněte ho několikrát plamenem. Nyní je preparát fixován.

Nyní proběhne vlastní Gramovo barvení: Vložte sklíčko do kyvety krystalovou violetí (GRAM I) a ponechte 30 s. Poté vyplavte violet Lugolovým roztokem, tu ponechte také asi 30 s. Odbarvujte alkoholem asi 15 s (dokud není odplavena většina violeti) a opláchněte vodovodní vodou. Pozadí obarvete safraninem 60 s a opět opláchněte vodovodní vodou.

Preparát osušte sušičkem z filtračního papíru a pozorujte imerzním objektivem zvětšujícím 100× (celkové zvětšení tedy zpravidla 1000×). Imerzní objektiv poznáte podle černé čáry (někdy dvojité) a nápisu „Oil“. Krycí sklíčko se nepoužívá.

- Na preparát kápněte malou kapku imerzního oleje. Dbejte, aby olejová kapka nepřetekla přes okraj sklíčka a zejména aby nezatekla do mechaniky mikroskopu. Za kontroly zrakem z boku snižujte makroposuvem objektiv, až se dotkne kapky oleje.
- Začněte pozorovat. Velmi (!) pomalu zvedejte makroposuvem objektiv.
- Až se v zorném poli mihne obraz preparátu, krátkými pohyby mikroposuvu jej doostřete.
- Nikdy nesnižujte mikroposuvem objektiv, ale zopakujte postup ostření od začátku.
- Po ukončení mikroskopování pečlivě otřete objektiv benzínem.

Výsledek mikroskopie zakreslete do protokolu.

Obarvete podle Grama čisté kultury předložených mikrobů. Výsledky pozorování zakreslete (↓) a zapište (↑).

Kmen K	Kmen L	Kmen M	Kmen N

Úkol 3a) Nejdůležitější půdy v klinické mikrobiologii a jejich charakteristika

Prohlédněte si vystavené půdy a poznamenejte si jejich typ a vlastnosti podle údajů na kartičkách nebo výkladu asistenta. Nezapomeňte si poznamenat, která půda je tekutá a která pevná a která je nalitá do zkumavky a která do Petriho misky.

Název půdy	Tekutá/pevná, miska/zkumavka	Barva	Typ půdy (selektivní, ...)	Bakterie, pro něž je půda určena*
1. bujon				
2. VL-bujon				
3. selenitový bujon				
4. Sabouraud				
5. Löwenstein-Jenssen				
6. KA				
7. Endo				
8. MH				
9. NaCl				
10. VLA				
pokračování tabulky na další stránce				

11. XLD				
12. ČA				
13. Levinthal				
14. Slanetz-Bartley				

*není nutno vyplňovat všude, vyplňte pouze u půd určených k diagnostice určitých bakterií

Úkol 3b: Růst stafylokoků na krevním agaru (z praktických důvodů je tento úkol označen pouze jako úkol 3)

Vyplňte tabulku na první straně v řádcích „Úkol č. 3“. Do „jiných“ napište to zajímavé, co se nevejde jinač.

Úkol 4: Růst bakterií na krevním agaru s 10 % NaCl

Zhodnoťte schopnost růstu předložených kmenů na krevním agaru s 10 % NaCl, který slouží jako selektivní půda pro stafylokoky. Zapište „+“ pokud kmen roste a „-“ pokud neroste.

Úkol 5: Katalázový test

Prokažte přítomnost enzymu katalasy. Setřete mikrobiologickou kličkou kolonie předložených kmenů a vnesete je do kapky 3% H₂O₂ na podložním skličku. Zaznamenejte reakci u všech kmenů. Do tabulky pište „+“ a „-“.

Pozitivitu charakterizují _____, zatímco _____ je negativní.

Nyní vyplňte v tabulce řádek „Dílčí závěr“. Napište STAF, pokud se kmen ukázal být stafylokokem, a JINÝ, pokud je to něco jiného.

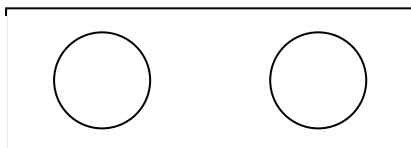
Úkol 6: Testy pro diferenciaci *S. aureus*

6a) Test na clumping faktor (test vázané plasmakoagulázy)

Na podložní skličku kápněte kapku ředěné králičí plazmy. Pomocí sterilní mikrobiologické kličky v ní suspendujte vyšetřovaný kmen stafylokoka. Přítomnost plasmakoagulázy se projeví aglutinací bakteriálních buněk. Výsledek vyšetření zakreslete a zapište sem i do tabulky.

Kmen _____
(písmeno)

pozitivní – negativní
(škrtněte co neplatí)




Kmen _____
(písmeno)

pozitivní – negativní
(škrtněte co neplatí)


6b) Plasmakoagulázový test (test volné plasmakoagulázy)

Do 0,5 ml 10× ředěné králičí plazmy bylo suspendováno několik kolonií vyšetřovaného kmene stafylokoka. Suspenzi inkubujeme v termostatu při 37 °C. Výsledek se odečítá po 1, 2 a 24 hodinách. Jako pozitivní reakce se hodnotí, pokud dojde ke koagulaci králičí plazmy ve zkumavce, tj. dojde k zrosolování celého obsahu zkumavky, příp. alespoň části. Zapište a zakreslete výsledek této reakce u vybraných kmenů po 24 hodinách inkubace. (Zkumavka je v nákrese záměrně nakloněná, aby bylo vidět, zda je uvnitř hladina tekutiny.)

Pozitivní výsledek

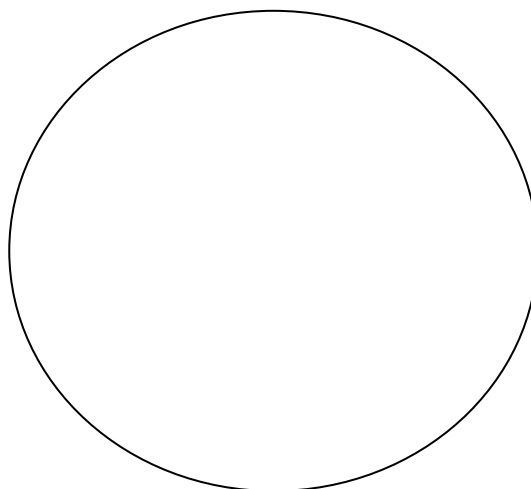


Negativní výsledek



6c) Detekce hyaluronidázy

Na krevní agar jsme naočkovali asi 2 cm široký pás *Streptococcus equii*, bakterie, která tvoří silné pouzdro s obsahem kyseliny hyaluronové. Kolmo k tomuto pásu byla naočkována čára vyšetřovaného kmene stafylokoka. Pokud je příslušným kmenem stafylokoka hyaluronidasa produkována, difunduje do okolí a do druhého dne způsobí lýzu pouzdra *Streptococcus equii*. To se projeví půlkruhovou zónou „ztráty slizovitosti“ v pásu naočkováného *Streptococcus equii*. Zakreslete výsledek reakce u dvou kmenů (včetně pozitivní a negativní kontroly) a popište. **Pozor! V tomto úkolu nejde o hemolýzu kmenů. Do obrázku ji sice – pokud ji pozorujete – můžete zakreslit, není to však pro tento úkol podstatné. Dbejte pokynů učitele a úkol provádějte až po jeho výkladu!**



Úkol 7: Blížeji určení stafylokoků pomocí biochemického mikrotestu (STAPHYtest 16)

Vzhledem k tomu, že biochemické identifikační testy dosud nebyly probrány, vynechávají studenti PĚF tento úkol. Studenti, kteří mají zájem úkol provést a mají patřičné znalosti, jej najdou na konci protokolu.

Úkol 8a: Citlivost stafylokoků k antibiotikům

K testování citlivosti na antibiotika se používají různé způsoby:

- difusní diskový test – kvalitativní
- E-test – kvantitativní (dnes se s ním nesetkáme)
- mikrodiluční test – kvantitativní (ani s ním se dnes nesetkáme)

Je také možnost místo určování citlivosti přímo hledat určitý fenotyp rezistence, vizte úkol 8b.

U **difusních diskových testů** porovnáváme nalezené zóny citlivosti s *referenčními zónami*, které nám poskytují výrobce a které jsou vesměs stanoveny v souladu s doporučeními organizací, jako je evropská EUCAST či americká CLSI.

Když je zóna větší nebo stejná jako referenční mez, říkáme, že kmen je na dané antibiotikum citlivý. Někdy jsou zóny tak velké, že ani není možné je změřit. Samozřejmě i v takových případech hodnotíme výsledek jako „citlivý“.

Když je zóna menší než referenční mez, nebo pokud vůbec žádnou zónu nenalzáme (bakterie rostou až těsně k disku), popisujeme takový výsledek jako „rezistentní“.

V některých případech jsou stanoveny dvě meze, přičemž leží-li změřená velikost zóny mezi nimi, považuje se kmen za „intermediárně citlivý“. Tato možnost interpretace existuje jen pro některá antibiotika a mikroby

<p>Zóna je větší než referenční mez. Takový výsledek lze vyhodnotit jako „C“ (kmen je na dané antibiotikum citlivý)</p>		<p>Zóna citlivosti je přítomna, avšak je menší než hraniční. V takovém případě se výsledek hodnotí jako „R“ (kmen je rezistentní na dané antibiotikum)</p>
<p>Zóna je tak velká, že ji ani nelze změřit, což ale nevadí, je evidentní, že kmen je citlivý („C“)</p>		<p>Zde není žádná viditelná zóna, proto kmen je rezistentní, „R“</p>

Používáme různé sestavy podle toho, jaké bakterie testujeme.

Zjistěte citlivost předložených kmenů stafylokoků k vybraným antibiotikům pomocí diskového difusního testu. Citlivost k předkládaným antibiotikům zhodnoťte na základě změření průměru inhibiční zóny a porovnání s tabulkou. Interpretujte kmene jako citlivé (C), intermediární (I) či rezistentní (R) k daným antibiotikům.

Kmen →							
Antibiotikum	Citlivý pokud je	Intermediární pokud	Rezistentní	Ø zóny (mm)	Interpretace	Ø zóny (mm)	Interpretace
Cefoxitin FOX*	≥ 22/25 mm**	18–20 mm	< 22/25 mm**				
Erythromycin E	≥ 21 mm	18–20 mm	< 18 mm				
Clindamycin DA	≥ 22 mm	19–21 mm	< 19 mm				
Ko-trimoxazol SXT	≥ 17 mm	15–16 mm	< 15 mm				
Tetracyklin*** TE	≥ 22 mm	19–21 mm	< 19 mm				
Chloramfenikol C	≥ 18 mm	18–20 mm	< 18 mm				

*interpretuje se jako oxacilin, případně i další betalaktamy

**22 mm platí pro *S. aureus*, 25 mm pro koagulázanegativní stafylokoky

***výsledek platí také pro doxycyklin

Důležitá poznámka: V některých testech může být uprostřed sedmý disk MUP (mupirocin). Jde o lokálně podávanou antimikrobiální látku (obsaženou např. v preparátu BACTROBAN) sloužící například k alespoň dočasnému odstranění kmenů MRSA (viz dále) z nosní dutiny. Test citlivosti na mupirocin se provádí zejména při nálezích zlatých stafylokoků z nosu. Protože mupirocin nemají ve svých testech všichni, v praxi ho nehodnotíme (jen pro informaci, kmen je citlivý při zóně ≥ 30 mm a rezistentní při zóně < 18 mm). – Důsledkem přítomnosti mupirocinu uprostřed je horší odečitatelnost ostatních zón. Pokud není možné změřit průměr, změřte poloměr (odhadněte střed disku) a vynásobte dvěma.


Úkol 8b: Demonstrace screeningové půdy na MRSA

Jedním z výrazných problémů antibiotické rezistence kmeny zlatého stafylokoka rezistentní k methicilinu a oxacilinu (MRSA) a vankomycin rezistentní enterokoky (VRE). Jeden ze způsobů jejich detekce je použití screeningových půd. Obvykle se používají chromogenní půdy* s antibiotiky.

V případě MRSA je důležité nejen odlišit methicilin-rezistentní a methicilin-citlivé kmeny, ale také rozlišit mezi kmeny *Staphylococcus aureus* a koaguláza negativními stafylokoky. Na pūdách můžete pozorovat několik kombinací druhů a jejich rezistencí.

Upozornění: Půdy jsou poměrně drahé, proto je máte nachystány pouze v jednom exempláři na bočním stole. Prohlédněte si kontrolu, která obsahuje všechny kombinace (vizte v tabulce). Dále u předložených kmenů ověřte, zda jde o MRSA. (Je možné, že půjde jen o jeden kmen, v tom případě nepotřebné řádky vynechte).

Kmen	Roste/neroste, barva kolonií
<i>Staphylococcus aureus</i> , methicilin rezistentní (= MRSA)	
<i>Staphylococcus aureus</i> , methicilin citlivý	
Koagulázanegativní stafylokok, methicilin rezistentní	
Koagulázanegativní stafylokok, methicilin citlivý	

Kmen	Kmen je	
	MRSA – MRSKN – MS stafylokok*	
	MRSA – MRSKN – MS stafylokok*	
	MRSA – MRSKN – MS stafylokok*	
*nehodící se škrtněte: MRSA = methicilin rezistentní <i>S. aureus</i> , MRSKN = methicilin rezistentní koagulázanegativní staf., MS = methicilin citlivý		

Doplňkový úkol 7 pouze pro studenty, kteří mají zkušenosti s biochemickými testy Erba Lachema a chtějí si to vyzkoušet: Bližší určení stafylokoků pomocí biochemického mikrotestu (STAPHYtest 16)

Pro identifikaci stafylokoků je určena sada biochemických testů. Podle tabulky v návodu k použití nebo podle barevné srovnávací šablony odečtete výsledky jednotlivých reakcí. Výsledky testů pro jednotlivé kmeny запиšte a na základě interpretačních tabulek zjistěte, o které druhy stafylokoků jde. Začátek výsledků pro první kmen máte předvyplněn. Nezapomeňte vyplnit též procento pravděpodobnosti a index typičnosti!

	Zkum.	První řádek vlastního testu s 8 jamkami								Druhý řádek vlastního testu s 8 jamkami								
	VPT	1H	1G	1F	1E	1D	1C	1B	1A	2H	2G	2F	2E	2D	2C	2B	2A	
K	+	+	+	–	–	–	+	+	–									
	1	2	4	1	2	4	1	2	4	1	2	4	1	2	4	1	2	
	7			0			3											
	Kód:						Identifikace <i>Staphylococcus</i>						% pravděpod.		T index			
	VPT	1H	1G	1F	1E	1D	1C	1B	1A	2H	2G	2F	2E	2D	2C	2B	2A	
L																		
	1	2	4	1	2	4	1	2	4	1	2	4	1	2	4	1	2	
	Kód:						Identifikace <i>Staphylococcus</i>						% pravděpod.		T index			