

Z3090c Humánní geografie - cvičení

Mgr. Jozef LOPUCH

Predchádzajúce cvičenia

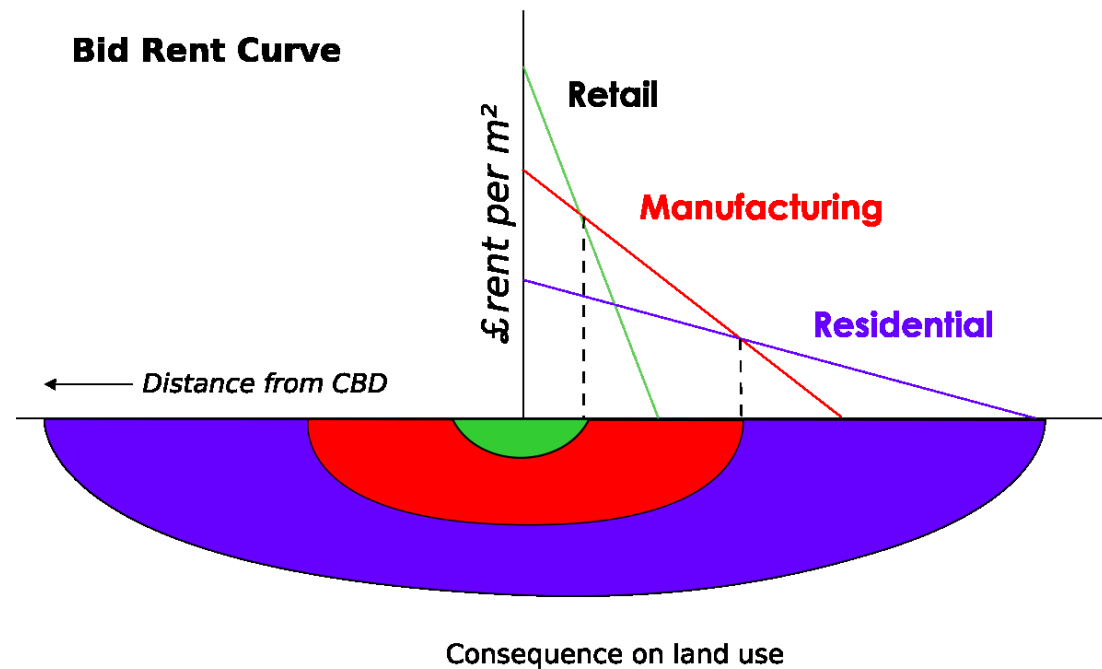
- ▶ Nejaké otázky k vypracovaniu predchádzajúcich cv. ?
- ▶ Oprava cv. 7

Vnútoraná štruktúra mesta

- ▶ Neoklasická ekonómia
- ▶ Vzdialenosť od centra (CBD) a polohová renta
- ▶ Bid-rent je maximálna cena ktorú je schopný nájomca zaplatiť a zároveň pri tom neprerobiť
- ▶ Trh s pozemkami
- ▶ Lokalizácia funkcií v meste podľa schopnosti platiť rentu

Bid-rent

- ▶ Atraktivita mestského priestoru
- ▶ Kritický pohľad

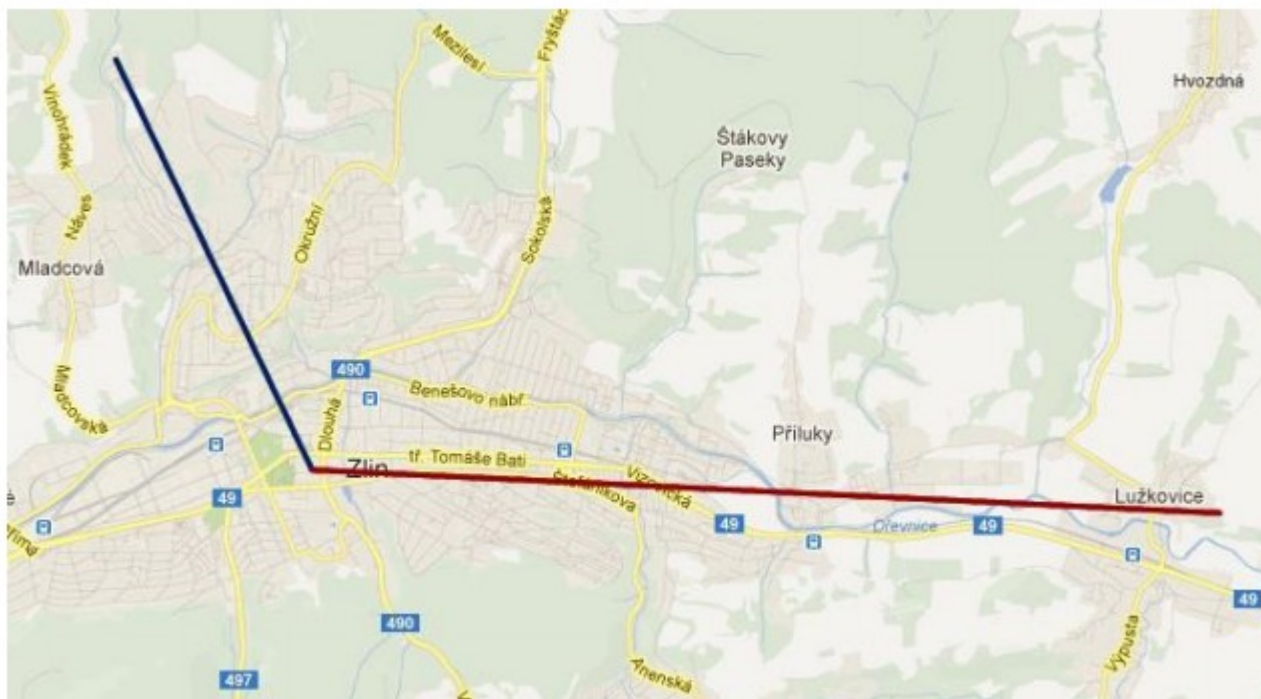


Zadanie cv. 9

- ▶ S využitím (fungujúcich) webových cenových máp na portále
- ▶ <http://www.cenovemapy.cz/>
- ▶ sledujte priebeh cien pozemkov pozdĺž línie vedenej ľubovoľným smerom zo zvoleného centra mesta. V grafe vyjádrite vývoj ceny v závislosti na vzdialenosti od centra. Významné špičky či prepady ceny pozdĺž sledovanej línie identifikujte.
- ▶
- ▶ Linie ved'te najméně dvě. Linií identifikujte počátečným a koncovým bodem
- ▶
- ▶ Pro odhadování vzdálenosti využijte nástroje měření vzdálenosti např. v GoogleMaps.
- ▶ Deadline: 17.12. do polnoci

Výstup

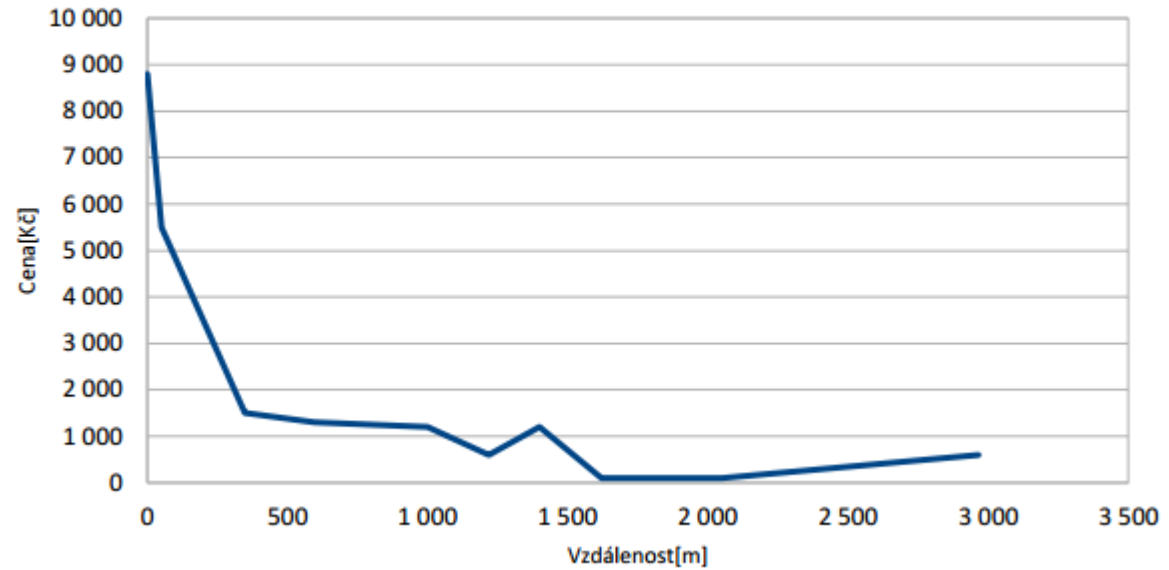
► Mapa



Výstup

- Grafy + Závěr (interpretácia)

Křivka ceny pozemků severním směrem



Křivka ceny pozemků východním směrem

