

AFRIKA – SKUPINA A

JMÉNO:

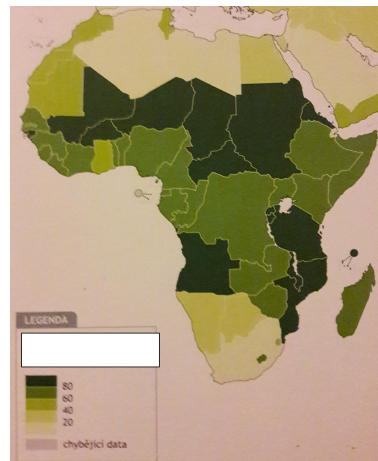
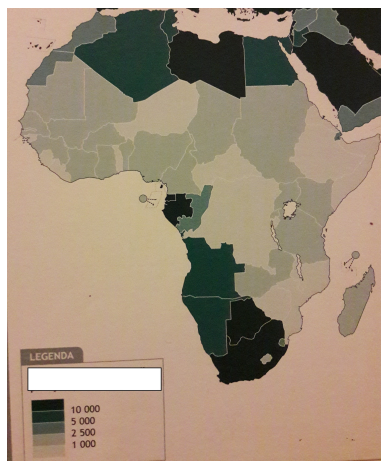
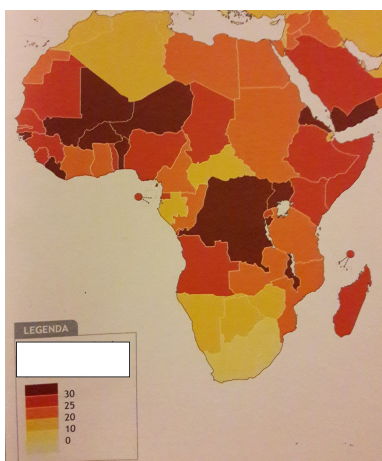
1. Vyber **správnou** odpověď. Krajní body afrického kontinentu tvoří:

- a) Bílý mys, Střelkový mys, Zelený mys, mys Hafun
- b) mys Dobré naděje, Palmový mys, mys Lopez, mys Saint André
- c) Bílý mys, mys Dobré naděje, Zelený mys, mys Hafun

2. Doplň: Na severu Afriky je rozšířený islám, v subsaharských státech převažuje
a náboženství.

3. Přiřaď mapu k tématu, které zobrazuje:

HDP na obyvatele - přirozený přírůstek obyvatelstva - zaměstnanost v zemědělství



4. Které úřední jazyky jsou nejrozšířenější? Uveď u každého příklad státu a jeho hlavní město.

5. Vyber **správnou** odpověď. Ve kterých státech se těží **ropa**?

- a) Nigérie, Gabon, Alžírsko, Libye, Egypt
- b) JAR, DR Kongo, Angola
- c) JAR, Libérie, Mauretánie, DR Kongo, Ghana, Guinea

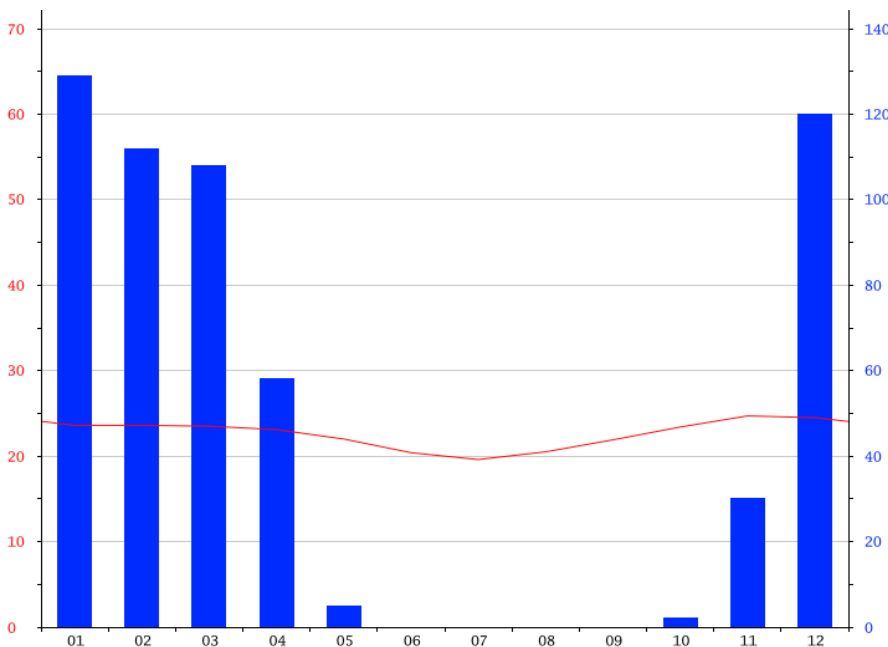
6. Vyber si jeden stát ze **jižní Afriky** a stručně jej charakterizuj (obyvatelstvo, ekonomika, případné problémy atd.).

7. Zaznač do mapy uvedené pojmy a správně pojmenuj, co se ukrývá pod čísly:



- 1 řeka
- 2.....vysočina
- 3.....poloostrov
- 4.....ostrovy
- 5 jezero.....
- 6 Velká Syrta
- 7 Dračí hory
- 8 Velká písečná poušť
- 9 ř. Niger
- 10 j. Tanganika

8. Podle klimadiagramu urči stát a stručně popiš tamní přírodní podmínky (klima, vodstvo, biota).



- a) JAR
- b) Tanzanie
- c) DR Kongo

AFRIKA – SKUPINA B

JMÉNO:

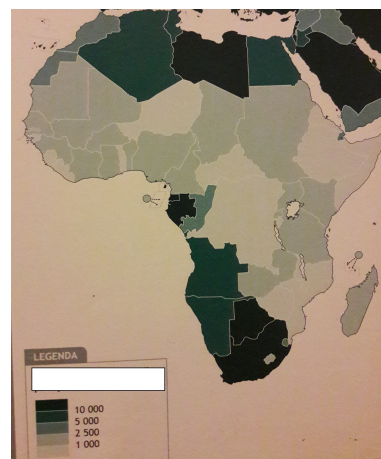
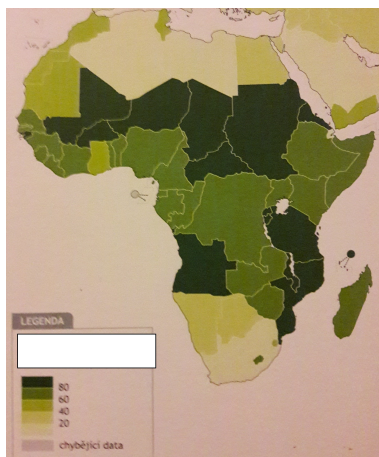
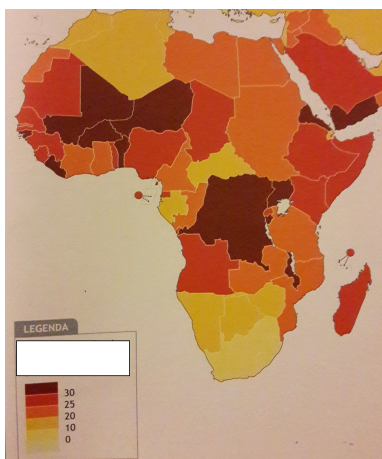
1. Vyber **správnou** odpověď. Krajní body afrického kontinentu tvoří:

- a) Bílý mys, Střelkový mys, Zelený mys, mys Hafun
- b) mys Dobré naděje, Palmový mys, mys Lopez, mys Saint André
- c) Bílý mys, mys Dobré naděje, Zelený mys, mys Hafun

2. Doplň: pohyby vznikl systém příkopových propadlin, lávové plošiny (Etiopská vysočina), Měsíční a Dračí hory a osamělé sopečné kužely. Stále se zvětšuje příkop, který je z větší části zalit jezery.

3. Přiřaď mapu k tématu, které zobrazuje:

HDP na obyvatele - přirozený přírůstek obyvatelstva - zaměstnanost v zemědělství



4. Které úřední jazyky jsou nejrozšířenější? Uveď u každého příklad státu a jeho hlavní město.

5. Vyber **správnou** odpověď. Ve kterých státech se těží **zlato a diamanty**?

- a) Nigérie, Gabon, Alžírsko, Libye, Egypt
- b) JAR, DR Kongo, Angola
- c) JAR, Libérie, Mauretánie, DR Kongo, Ghana, Guinea

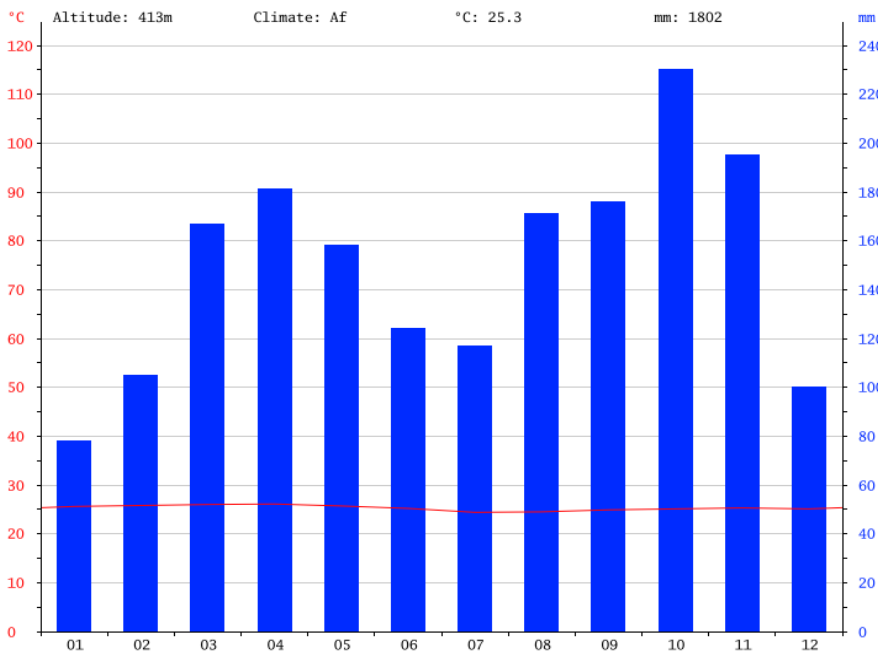
6. Vyber si jeden stát ze **západní Afriky** a stručně jej charakterizuj (obyvatelstvo, ekonomika, případné problémy atd.).

7. Zaznač do mapy uvedené pojmy a správně pojmenuj, co se ukrývá pod čísly:



- 1 řeka
- 2.....vysočina
- 3 ostrov.....
- 4.....průplav
- 5 jezero.....
- 6 Malá Syrta
- 7 Ahaggar
- 8 poušť Kalahari
- 9 Volta
- 10 Viktoriino j.

8. Podle klimadiagramu urči stát a stručně popiš tamní přírodní podmínky (klíma, vodstvo, biota).



- a) JAR
- b) Tanzanie
- c) DR Kongo

AFRIKA – SKUPINA C

JMÉNO:

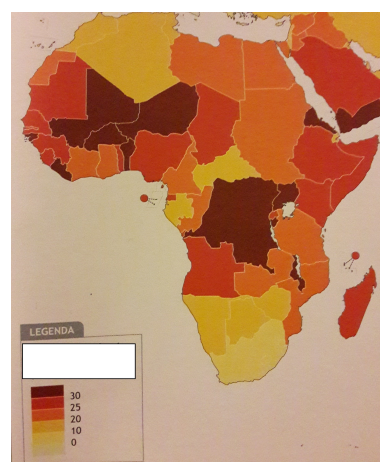
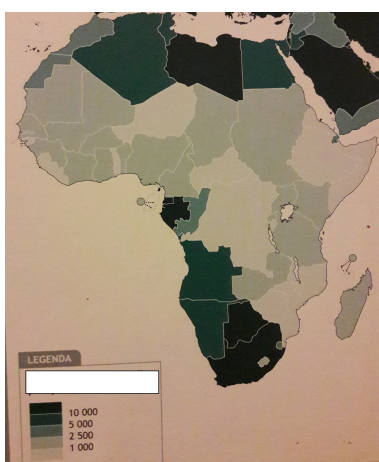
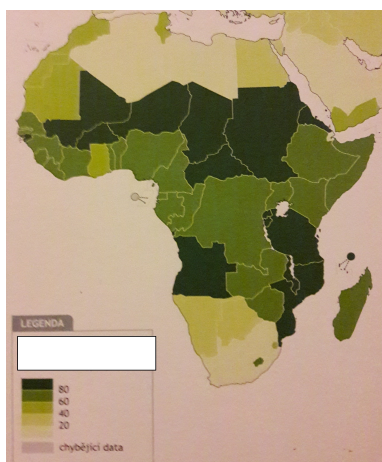
1. Vyber **správnou** odpověď. Krajní body afrického kontinentu tvoří:

- a) Bílý mys, Střelkový mys, Zelený mys, mys Hafun
- b) mys Dobré naděje, Palmový mys, mys Lopez, mys Saint André
- c) Bílý mys, mys Dobré naděje, Zelený mys, mys Hafun

2. Doplň: Až do poloviny století byla velká část Afriky rozdělena na kolonie. Rok 1960 je označován jako Rok Afriky, protože 14 kolonií vyhlásilo nezávislost. Nejdéle si své kolonie drželo a to až do 70. let.

3. Přiřaď mapu k tématu, které zobrazuje:

HDP na obyvatele - přirozený přírůstek obyvatelstva - zaměstnanost v zemědělství



4. Které úřední jazyky jsou nejrozšířenější? Uveď u každého příklad státu a jeho hlavní město.

5. Vyber **správnou** odpověď. Ve kterých státech se těží **železná ruda**?

- a) Nigérie, Gabon, Alžírsko, Libye, Egypt
- b) JAR, DR Kongo, Angola
- c) JAR, Libérie, Mauretánie, DR Kongo, Ghana, Guinea

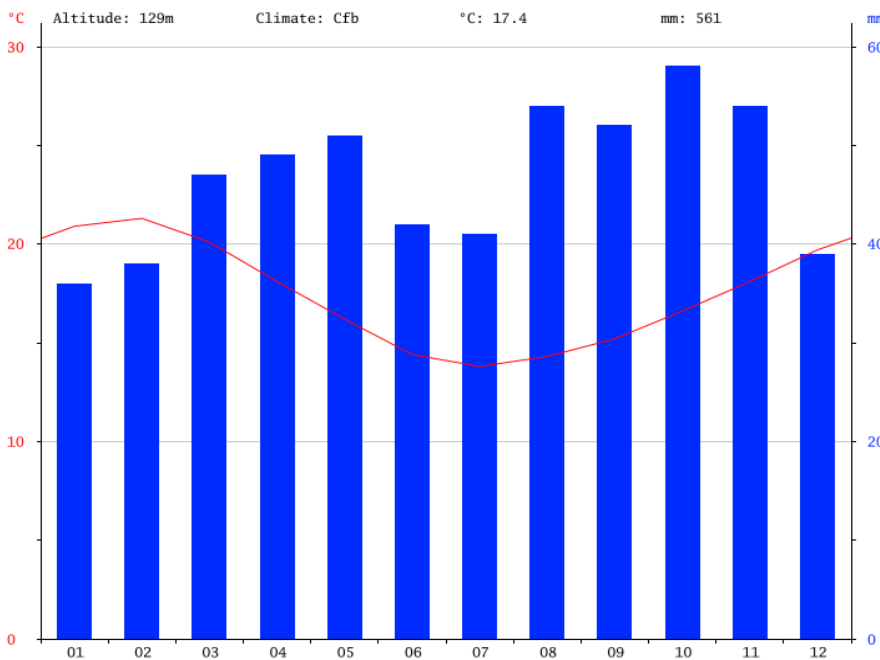
6. Vyber si jeden stát ze **severní Afriky** a stručně jej charakterizuj (obyvatelstvo, ekonomika, případné problémy atd.).

7. Zaznač do mapy uvedené pojmy a správně pojmenuj, co se ukrývá pod čísly:



- 1 řeka.....
- 2.....vysočina
- 3.....ostrovy
- 4 pánev.....
- 5 jezero.....
- 6 Guinejský záliv
- 7 Atlas
- 8 poušť Namib
- 9 Zambezi
- 10 j. Malawi

8. Podle klimadiagramu urči stát a stručně popiš tamní přírodní podmínky (klima, vodstvo, biota).



- a) JAR
- b) Tanzanie
- c) DR Kongo