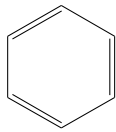
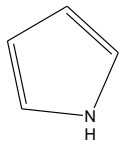
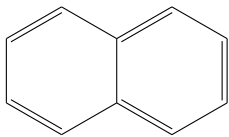


1. Z minulé sady úkolů převezmeme obsah následující tabulky:

Tabulka 1 s fingerprinty:

Tabulka 1				-OH	-Cl	-NO ₂	-CH ₃	-COOH
2,4,6-trinitrofenol								
2,3-dinitrofenol								
3-hydroxybenzaldehyd								
2,4,6-trimethylfenol								

a) Vypočítejte Tanimotův koeficient pro dvojice:

- 2,4,6-trinitrofenol a 2,3-dinitrofenol:
- 2,4,6-trinitrofenol a 3-hydroxybenzaldehyd:

b) Doplňte do tabulky hodnoty Tanimotova koeficientu:

Tabulka 2	2,4,6-trinitrofenol	2,3-dinitrofenol	3-hydroxybenzaldehyd	2,4,6-trimethylfenol
2,4,6-trinitrofenol				
2,3-dinitrofenol				
3-hydroxybenzaldehyd				
2,4,6-trimethylfenol				

c) Která(é) dvojice mají Tanimotův koeficient nejnižší a nejvyšší?

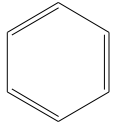
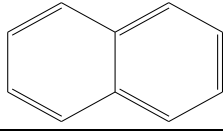
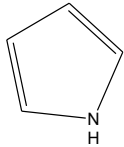
d) Vypočítejte Cosinův koeficient pro dvojice:

- 2,4,6-trimethylfenol a 2,3-dinitrofenol:
- 2,4,6-trimethylfenol a 3-hydroxybenzaldehyd:

e) Vypočítejte (binární) Euklidovskou vzdálenost pro dvojice:

- 2,4,6-trinitrofenol a 2,3-dinitrofenol:
- 2,4,6-trinitrofenol a 3-hydroxybenzaldehyd:

2. Pro fingerprinty z Tabulky 1 udělejte konsenzuální fingerprinty (použijte operaci OR):

Tabulka 1	 	 -NO ₂	-OH -COOH	-Cl -CH ₃
2,4,6-trinitrofenol				
2,3-dinitrofenol				
3-hydroxybenzaldehyd				
2,4,6-trimethylfenol				

3. Z minul  sady  kol  si vykop rujte do n sleduj c  tabulky n boje na atomech O a H:

Tabulka s n boji:

Tabulka 3	N�boj na O (z OH skupiny)	N�boj na H (z OH skupiny)
2,4,6-trinitrofenol		
2,3-dinitrofenol		
3-hydroxybenzaldehyd		
2,4,6-trimethylfenol		

a) Vytvo te si v excelu graf deskriptorov ho prostoru, konkr tn : Na osu x dejte n boj na O, na osu Y n boj na H. Zobrazte si graf, kter  ukazuje body X a Y.

Pozn mka: Pokud s Excelem neum te, postupujte takto: Zkop rujte si do Excelu v še uvedenou tabulku. Ozna te hodnoty n boj . Dejte "Vložit" (Insert) a vyberte "Grafy" (Charts) a vyberte graf X,Y.

b) Vypo t jte Euklidovskou vzd lenost pro:

- 2,4,6-trinitrofenol a 2,3-dinitrofenol:
- 2,4,6-trinitrofenol a 3-hydroxybenzaldehyd:

b) Kter ( ) dvojice maj  Euklidovskou vzd lenost nejvyšší?

c) Kter ( ) dvojice maj  Euklidovskou vzd lenost nejnižší?

d) Kter  Euklidovsk  vzd lenost v m "řekla v ce"? Bin rn  nebo s re ln mi  sly?