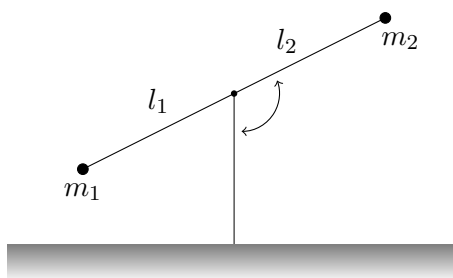


**Šikmý vrh** Mimoszemšťan o hmotě  $m$  skáče na povrchu Měsíce. Pomocí aparátu analytické mechaniky vypočtete co nejobecnější parametrickou křivku popisující jeho pohyb. (15. října 2020<sup>1</sup>)

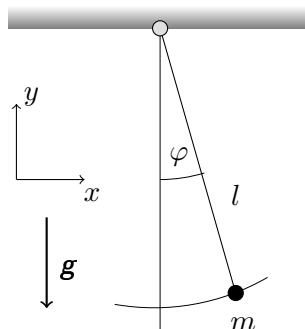
**Harmonický oscilátor** Odvoďte pohybové rovnice harmonického oscilátoru přímou variací akce, tj. bez použití Euler-Lagrange rovnic. (15. října 2020)

**Zahradní houpačka** Na obrázku vidíme zahradní houpačku. Vypočtete pohybové rovnice hmotných bodů na koncích a určete podmínku rovnováhy. (23. října 2020)



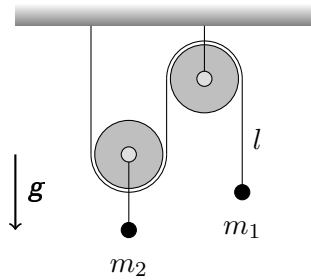
**Kyvadlo a Langrangeovy multiplikátory** Rovinné kyvadlo s hmotou  $m$  je zavěšeno na tenkém vlákně o délce  $l$ . Systém je umístěn v homogenním gravitačním poli. Vypočtete pohybové rovnice kyvadla dvěma metodami:

1. Zavedením zobecněných souřadnic.
2. Pomocí metody Langrangeových multiplikátorů. Ověřte, že obě metody řešení si navzájem odpovídají. Tento postup interpretujte v rámci Newtonovy mechaniky. (23. října 2020)

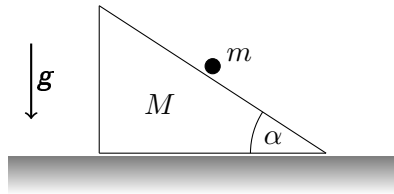


**Kladkostroj** Zařízení se skládá ze dvou kladek: první kladky, pevně uchytené ke stropu, a druhé volné kladky pohybující se vertikálně. Klady samotné jsou nehmotné. Pod volnou kladkou je umístěn hmotný bod  $m_2$ . Přes kladky je nataženo vlákno konstantní délky  $l$  na jehož konci je hmotný bod  $m_1$ . Vypočtete zrychlení obou hmotných bodů v homogenním gravitačním poli. Náповěda: změni-li se poloha  $m_1$  o  $\Delta y$ , pak poloha  $m_2$  bude změněna o  $\frac{1}{2}\Delta y$  jako důsledek dvou pohyblivých konců vlákna. (29. října 2020)

<sup>1</sup>Jde o datum zadání. Odevzdání je očekáváno následující týden

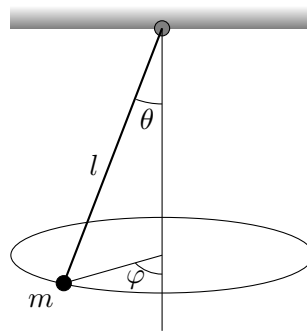


**Skuz po pohyblivé rampě** Tělísko o hmotnosti  $m$  se pohybuje bez tření po nakloněné rovině s neměnným vrcholovým úhlem  $\alpha$  o hmotnosti  $M$ , která se také může pohybovat bez tření po vodorovné podložce. Vyšetřete pohyb systému. (29. října 2020)



**Harmonický oscilátor** S uvážením zákonů zachování nalezněte funkci popisující časovou závislost polohy harmonického oscilátoru: Zjistěte které veličiny se zachovávají, vypočtete zobecněnou energii, převedte problém na diferenciální rovnici prvního řádu, a vyřešte ji. Interpretujte výsledek. Nepoužívejte Euler-Lagrangeovu rovnici. (5. listopadu 2020)

**Sférické kyvadlo** Vypočtete Euler-Lagrange rovnice pro sférické kyvadlo: Hmotný bod  $m$  na niti konstantní délky  $l$ , který se může bez odporu kývat vertikálně, a zároveň opisovat horizontální elipsu. Zjistěte, které fyzikální veličiny se zachovávají. (5. listopadu 2020)



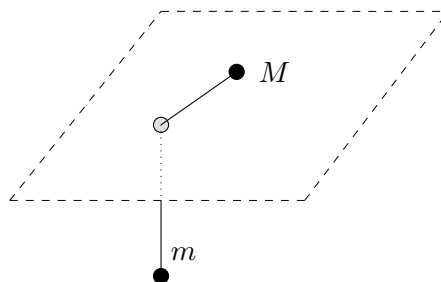
**Třetí Keplerův zákon** Ukažte, že třetí Keplerův zákon vyjádřený obecně

$$T = 2\pi \sqrt{\frac{\mu}{k}} a^{3/2},$$

lze pro Slunce a Zemi  $1/\mu = 1/M_{\odot} + 1/M_{\oplus}$ ,  $k = GM_{\odot}M_{\oplus}$  zapsat ve tvaru  $a^3 = T^2$ , kdy  $a$  vyjadřujeme v astronomických jednotkách a  $T$  v rocích. Dále spočtete vzdálenost středu Slunce od středu soustavy Slunce – Země v poloměrech Slunce  $R_{\odot}$ . (12. listopadu 2020)

**Na nití** Dvě tělesa jsou spojena nehmotnou nití o pevné délce  $l$ . Jedno z nich, o hmotě  $M$ , se může pohybovat bez tření po stole v němž je malý otvor. Tímto otvorem je protažena nit, na níž je zavěšeno druhé těleso o hmotě  $m$ . Předpokládejme, že se spodní těleso  $m$  může pohybovat pouze vertikálně. Systém je umístěn v gravitačním poli. Pokuste se popsat pohyb systému:

- i) Kolik stupňů volnosti má daná soustava?
- ii) Ve vhodných souřadnicích sestavte Lagrangián  $L$
- iii) Zjistěte cyklické souřadnice a jim příslušné fyzikální veličiny.
- iv) Vypočtete zobecněnou energii.
- v) Nakreslete graf efektivního potenciálu.
- vi) Pohybuje-li se horní těleso  $M$  po kružnici, vypočtete její poloměr. Energie odpovídající tomuto pohybu odpovídá energii v minimu efektivního potenciálu.
- vii) Zapište řešení pro  $r(t)$  ve tvaru diferenciální rovnice prvního řádu, ale neztrácejte čas jejím analytickým řešením. (12. listopadu 2020)



**Hamiltonián relativistické částice** Lagrangián částice o klidové hmotě  $m$ , a pohybující se rychlostí  $v \leq c$  srovnatelnou s rychlostí světla, jest

$$L = -mc^2 \sqrt{1 - \frac{v^2}{c^2}}.$$

Najděte zobecněnou hybnost a Hamiltonián takové částice. Vypočtete aproximaci hybnosti i Hamiltoniánu pro  $v \ll c$ . Jak moc překvapivý je výsledek? (19. listopadu 2020)

**Hamiltonián neznámého systému** Mějmež Lagrangián

$$L = \frac{1}{2}m\dot{q}^2 + \frac{1}{2}kq^2.$$

Spočtete Hamiltonián, vypočtete hamiltonovy rovnice. Tyto rovnice vyřešte. Pro jistotu, užíjte dva možné způsoby. Nakreslete fázový portrét. O jaký se jedná systém? (19. listopadu 2020)