
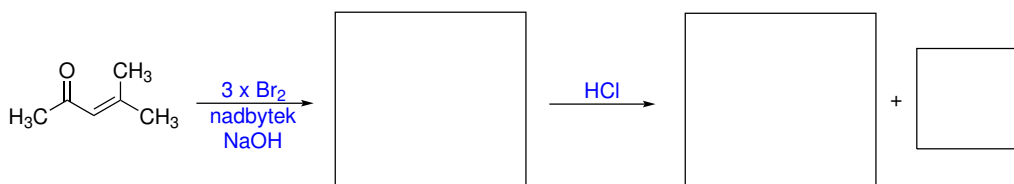
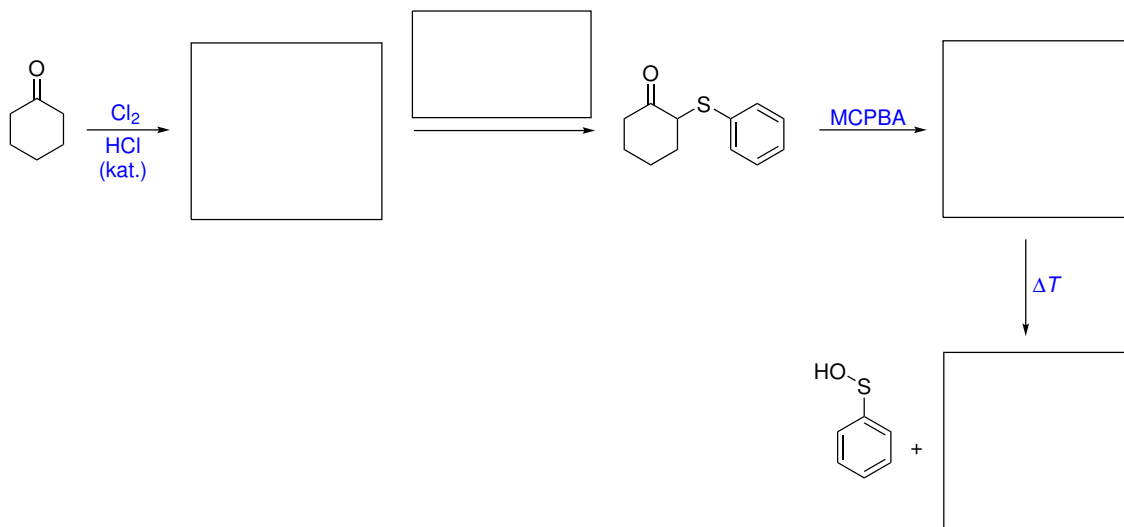
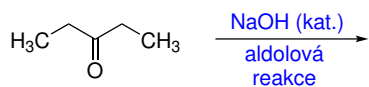


Domácí úkol č. 7

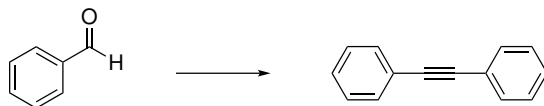
1. Do rámečků doplňte strukturní vzorce činidel, meziproductů a produktů následujících reakcí.



2. Napište strukturní vzorec produktu aldolové reakce pentan-3-onu.



3. Navrhněte činidla a podmínky, pomocí kterých by bylo možné uskutečnit ve více krocích následující transformaci.



4. Pokuste se napsat podrobný mechanismus, který vysvětlí průběh a produkty následující transformace.

