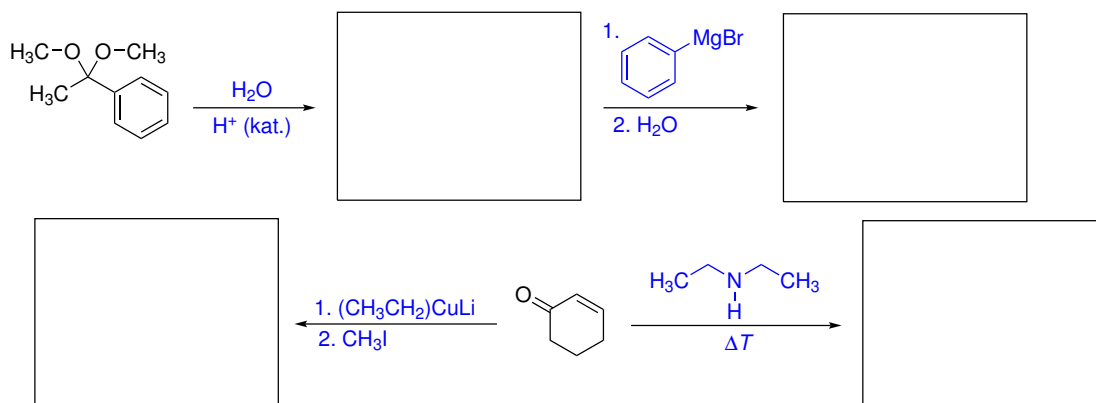
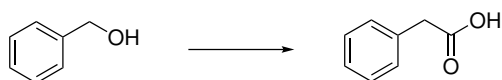
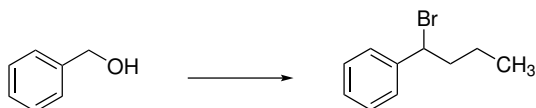


## Domácí úkol č. 5

1. Do rámečků doplňte strukturální vzorce meziproduktů a produktů následujících reakcí.



2. Navrhněte činidla a podmínky, pomocí kterých by bylo možné uskutečnit ve více krocích následující transformaci.



3. Pokuste se napsat podrobný mechanismus následující přeměny.

