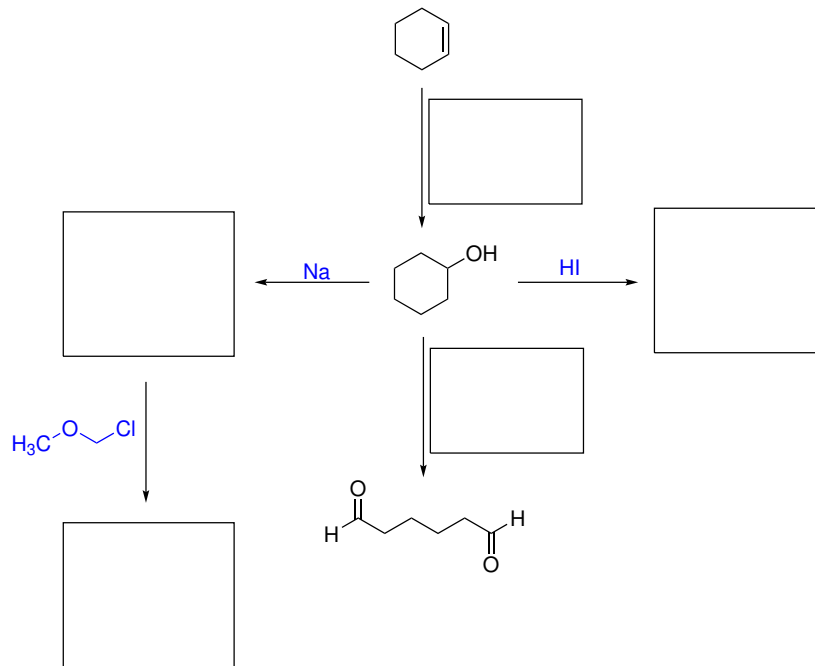
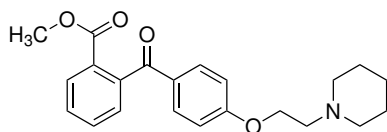
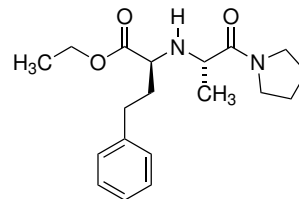
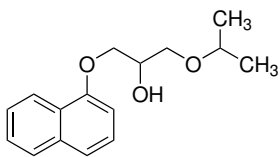


## Domácí úkol č. 1

1. Do rámečků doplňte příslušná činidla, meziproducty a produkty následujících reakcí.



2. V následujících molekulách označte a pojmenujte přítomné funkční skupiny.



3. V molekulách ethyl-acetátu a acetonu označte nejkyselější C–H vazbu. Dále rozhodněte, která z látek je silnější kyselinou a svou odpověď krátce zdůvodněte.

